

חשבון אינפיניטימלי 2



תוכן העניינים

1	האינטגרל המסוים, אינטגרביליות לפי רימן ולפי דארבו.
16	שימושי האינטגרל המסויים (נפח-שטח מעטפת).
21	מספרים מרוכבים
37	שימושי האינטגרל המסויים (שטח-אורך קשת).
59	קווים ותחומים במישור, משטחים וגופים במרחב.
86	פונקציות של מספר משתנים - מבוא, קווי גובה, משטחי רמה.
94	גבולות ורציפות של פונקציות של מספר משתנים
101	נגזרות חלקיות דיפרנציאביליות
112	כלל השרשרת בפונקציות של מספר משתנים.
116	נגזרת מכוונת וגרדיאנט
121	פונקציות סתומות - שימושים גיאומטריים.
135	נוסחת טיילור לפונקציה של שני משתנים והדיפרנציאל השלם.
138	קיצון ואוכף לפונקציה של שני משתנים
140	קיצון של פונקציה רבת משתנים (רמה מתקדמת) - הריבועים הפחותים
142	קיצון של פונקציה של שני משתנים תחת אילוץ (כופלי לגראנז')
145	קיצון של פונקציה של שלושה משתנים תחת אילוצים
147	קיצון מוחלט של פונקציה בשני משתנים בקבוצה סגורה וחסומה.
148	אינטגרלים לא אמיתיים
159	משוואות מסדר ראשון
181	משוואות ליניאריות מסדר שני

חשבון אינפיניטימלי 2

פרק 1 - האינטגרל המסוים, אינטגרביליות לפי רימן ולפי דארבו

תוכן העניינים

1. האינטגרל המסוים, הנוסחה היסודית של החדו"א..... 1
2. מונוטוניות האינטגרל, אי שוויונות אינטגרליים..... 7
3. האינטגרל המסוים לפי ההגדרה, אינטגרביליות..... 10
4. משפטי האינטגרביליות..... 13
5. אינטגרביליות לפי דארבו..... 14

האינטגרל המסוים, הנוסחה היסודית של החדו"א

שאלות

חשבו את האינטגרלים בשאלות 1-9:

$$\int_1^4 (x^2 - 4x + 1) dx \quad (1)$$

$$\int_1^2 \frac{4x+1}{2x^2+x+5} dx \quad (2)$$

$$\int_0^1 x e^{-x} dx \quad (3)$$

$$\int_1^e \frac{\ln^4 x}{x} dx \quad (4)$$

$$\int_1^4 \frac{1}{x^2 + 4x + 5} dx \quad (5)$$

$$\int_0^\pi \cos^2 10x dx \quad (6)$$

$$f(x) = \begin{cases} \sqrt{x} & 0 \leq x < 1 \\ \frac{1}{x^2} & x \geq 1 \end{cases} \text{ כאשר } \int_0^4 f(x) dx \quad (7)$$

$$\int_{-1}^4 \sqrt{4 + |x-1|} dx \quad (8)$$

$$\int_0^2 \max\{x, x^2\} dx \quad (9)$$

(10) הוכיחו כי :

$$\text{א. } \int_a^b f(x) dx = \int_a^b f(a+b-x) dx$$

$$\text{ב. } \int_0^1 x^m (1-x)^n dx = \int_0^1 x^n (1-x)^m dx$$

(11) הוכיחו שלכל פונקציה רציפה f :

$$\text{א. } \int_0^{\pi/2} f(\sin x) dx = \int_0^{\pi/2} f(\cos x) dx$$

$$\text{ב. } \int_0^{\pi} x f(\sin x) dx = \frac{\pi}{2} \int_0^{\pi} f(\sin x) dx$$

(12) תהי $f: [1, \infty) \rightarrow \mathbb{R}$ מוגדרת על ידי $f(x) = \int_1^x \frac{\ln t}{1+t} dt$.

$$\text{פתרו את המשוואה } f(x) + f\left(\frac{1}{x}\right) = 2$$

(13) ללא חישוב האינטגרלים, חשבו את הערך של $\int_1^x \frac{1}{1+t^2} dt + \int_1^{1/x} \frac{1}{1+t^2} dt$.

$$(14) \text{ חשבו: } \int_0^{\pi/2} \frac{\sqrt[4]{\sin x}}{\sqrt[4]{\sin x} + \sqrt[4]{\cos x}} dx$$

$$(15) \text{ חשבו: } \int_0^{\pi} \frac{x \sin x}{1 + \cos^2 x} dx$$

(16) נתונה פונקציה רציפה f . הוכיחו :

$$\text{א. אם } f \text{ זוגית, אזי } \int_{-a}^a f(x) dx = 2 \int_0^a f(x) dx$$

$$\text{ב. אם } f \text{ אי-זוגית, אזי } \int_{-a}^a f(x) dx = 0$$

חשבו את האינטגרלים בשאלות 17-18 :

$$\int_{-1}^1 (x^3 + x^5) \cos x dx \quad (17)$$

$$\int_{-4}^4 \frac{\sin x + 1}{x^2 + 1} dx \quad (18)$$

(19) נתון כי $f(x)$ פונקציה רציפה ואי-זוגית לכל x , ונתון כי $|f(x)| \leq \frac{1}{2}$.

$$\int_{-\frac{1}{2}}^{\frac{1}{2}} \ln \left(\frac{1-f(x)}{1+f(x)} \right) dx$$

חשבו את האינטגרל

(20) חשבו את ערך האינטגרלים הבאים :

$$\int_0^{\pi/2} \frac{f(\sin x)}{f(\sin x) + f(\cos x)} dx \quad \text{א.}$$

$$\int_0^{\pi/2} \frac{f(\cos x)}{f(\sin x) + f(\cos x)} dx \quad \text{ב.}$$

$$(n \in \mathbb{N}) \int_0^{\pi/2} \frac{1}{1 + \tan^n x} dx \quad \text{ג.}$$

(21) (אזהרה לגבי שיטת ההצבה)

$$\text{א. חשבו את האינטגרל } \int_{-1}^1 \frac{1}{1+x^2} dx \text{ , בעזרת ההצבה } t = \frac{1}{x}$$

$$\text{ב. חשבו את האינטגרל } \int_{-1}^1 \frac{1}{1+x^2} dx \text{ ישירות.}$$

ג. בסעיפים א' ו-ב' קיבלנו תשובות שונות. הסבירו את הסתירה.

$$(22) \text{ הוכיחו כי } \int_0^{\pi} \frac{1}{1 + \cos^2 x} dx = 2 \int_0^{\pi/2} \frac{1}{1 + \cos^2 x} dx$$

(23) ענו על הסעיפים הבאים :

$$\text{א. בעזרת ההצבה } t = \tan x \text{ חשבו את האינטגרל } \int \frac{1}{1 + \cos^2 x} dx$$

$$\text{ב. חשבו את ערך האינטגרל } \int_0^{\pi} \frac{1}{1 + \cos^2 x} dx$$

$$(24) \text{ חשבו את ערך האינטגרל } \int_0^{\pi} \frac{x}{1 + \cos^2 x} dx$$

(25) תהי $f(x)$ פונקציה גזירה פעמיים בקטע $[a, b]$.

נניח כי הישר המשיק לגרף הפונקציה בנקודה $x = a$ יוצר זווית $\frac{\pi}{3}$ עם הכיוון

החיובי של ציר x והישר המשיק לגרף הפונקציה בנקודה $x = b$ יוצר זווית $\frac{\pi}{4}$ עם הכיוון החיובי של ציר x .

$$\text{חשבו את ערך האינטגרל } \int_{e^a}^{e^b} \frac{f''(\ln x)}{x} dx$$

(26) הוכיחו:

אם f פונקציה רציפה ומחזורית על כל הישר ואם T המחזור של f

$$\text{אז לכל מספר ממשי } a \text{ מתקיים } \int_a^{a+T} f(x) dx = \int_0^T f(x) dx$$

(27) הוכיחו או הפריכו את הטענות הבאות:

א. אם f ו- g פונקציות רציפות ב- $[a, b]$, ואם $\int_a^b f(t) dt = 0$ וגם

$$\int_a^b g(t) dt = 0, \text{ אז } \int_a^b f(t) g(t) dt = 0$$

ב. אם f זוגית ואינטגרבילית בכל קטע,

$$\text{אז הפונקציה } g(x) = \int_0^x f(t) dt \text{ אי-זוגית.}$$

תשובות סופיות

(1) -6

(2) $\ln\left(\frac{15}{8}\right)$

(3) $-2e^{-1} + 1$

(4) $\frac{1}{5}$

(5) $\arctan 6 - \arctan 3$

(6) $\frac{\pi}{2}$

(7) $\frac{17}{12}$

(8) $\frac{2}{3}(-16 + 6^{1.5} + 7^{1.5})$

(9) $\frac{17}{6}$

(10) שאלת הוכחה.

(11) שאלת הוכחה.

(12) $x = e^2$

(13) 0

(14) $\frac{\pi}{4}$

(15) $\frac{\pi^2}{4}$

(16) שאלת הוכחה.

(17) 0

(18) $2 \arctan 4$

(19) 0

(20) א, ב, ג. $\frac{\pi}{4}$

(21) א. 0 ב. $\frac{\pi}{2}$ ג. ראו בסרטון.

(22) שאלת הוכחה.

(23) א. $\frac{1}{\sqrt{2}} \arctan\left(\frac{\tan x}{\sqrt{2}}\right) + c$ ב. $\frac{\pi}{\sqrt{2}}$

(24) $\frac{\pi^2}{2\sqrt{2}}$

(25) $1 - \sqrt{3}$

(26) שאלת הוכחה.

(27) שאלת הוכחה.

מונוטוניות האינטגרל, אי שוויונות אינטגרליים

שאלות

- (1) תהי $f : [a, b] \rightarrow \mathbb{R}$ פונקציה אינטגרבילית, ונניח כי $m \leq f(x) \leq M$ לכל x בקטע $[a, b]$. הוכיחו כי $m(b-a) \leq \int_a^b f(x) dx \leq M(b-a)$.

הוכיחו את אי-השוויונים בשאלות 10-2:

$$\frac{2}{41} \leq \int_{-1}^3 \frac{dx}{1+x^4} \leq 4 \quad (2)$$

$$6 \leq \int_{-4}^2 \sqrt{1+x^2} dx \leq 6\sqrt{17} \quad (3)$$

$$2 \leq \int_0^2 e^{x^2} dx \leq 2e^4 \quad (4)$$

$$\frac{1}{2} e^{-10} \leq \int_0^{10} \frac{e^{-x}}{x+10} dx \leq 1 \quad (5)$$

$$\frac{1}{\sqrt[3]{\ln 4}} \leq \int_3^4 \frac{dx}{\sqrt[3]{\ln x}} \leq \frac{1}{\sqrt[3]{\ln 3}} \quad (6)$$

$$\frac{\pi}{14} \leq \int_0^{\pi/2} \frac{dx}{3+4\sin^2 x} \leq \frac{\pi}{6} \quad (7)$$

$$\frac{2}{9} \leq \int_{-1}^1 \frac{dx}{8+x^3} \leq \frac{2}{7} \quad (8)$$

$$-\frac{1}{2} \leq \int_0^1 x \cdot \sin\left(\frac{\ln(x+1)}{x+1}\right) dx \leq \frac{1}{2} \quad (9)$$

$$\int_0^{\pi} x^2 \arctan\left(\frac{\sin x}{x+4}\right) dx \leq \frac{\pi^4}{6} \quad (10)$$

(11) תהי $f: [a, b] \rightarrow \mathbb{R}$ פונקציה אינטגרבילית. בהסתמך על המשפט, שטוען כי גם $|f|$ אינטגרבילית בקטע,

$$\left| \int_a^b f(x) dx \right| \leq \int_a^b |f(x)| dx$$

הוכיחו כי

(12) תהי $f: [0, 1] \rightarrow \mathbb{R}$ פונקציה רציפה המקיימת $|f(x)| \leq \int_0^x f(t) dt$ לכל $x \in [0, 1]$. הוכיחו כי $f(x) = 0$ לכל $x \in [0, 1]$.

(13) תהי $f: [0, a] \rightarrow \mathbb{R}$, כך ש- $f''(x) > 0$ לכל $x \in [0, a]$. הוכיחו כי $\int_0^a f(x) dx > af\left(\frac{a}{2}\right)$. תנו משמעות גיאומטרית לתוצאה שהתקבלה.

(14) תהי g פונקציה רציפה ב- $[a, b]$, המקיימת $\int_a^b |g(t)| dt = 0$. הוכיחו כי לכל x בקטע (a, b) , מתקיים $g(x) = 0$.

(15) תהי f פונקציה אינטגרבילית בקטע $[a, b]$, המקיימת $\int_a^b f(x) dx > 1$. הוכיחו שקיים x_0 בקטע $[a, b]$, עבורו $f(x_0) > \frac{1}{b-a}$.

(16) יהי n מספר טבעי, ותהי f פונקציה מונוטונית עולה ואינטגרבילית בקטע $[1, n]$.

הוכיחו כי $f(1) + f(2) + \dots + f(n-1) \leq \int_1^n f(x) dx \leq f(2) + f(3) + \dots + f(n)$

(17) חשבו את הגבול $\lim_{n \rightarrow \infty} \frac{1}{n} \sum_{k=1}^n \ln k$

(18) הוכיחו שאם הפונקציה f רציפה בקטע $[a, b]$, גזירה בקטע (a, b)

$$\text{וגם } f'(x) \leq M \text{ לכל } x \text{ בקטע זה, וכן } f(a) = 0, \text{ אז } \int_a^b f(x) dx \leq \frac{M(b-a)^2}{2}$$

(19) יהיו $f, g: [a, b] \rightarrow \mathbb{R}$ פונקציות אינטגרביליות.

נניח כי f עולה ו- g אי-שלילית.

$$\text{הוכיחו שקיים } c \in [a, b], \text{ כך ש-} \int_a^b f(x)g(x)dx = f(b)\int_a^c g(x)dx + f(a)\int_c^b g(x)dx$$

לתשובות מלאות בסרטוני וידאו היכנסו לאתר www.GooL.co.il

האינטגרל המסוים לפי ההגדרה, אינטגרביליות

חשבו את הגבולות בשאלות 1-7:

$$\lim_{n \rightarrow \infty} \frac{1^4 + 2^4 + \dots + n^4}{n^5} \quad (1)$$

$$\lim_{n \rightarrow \infty} \frac{\sin \frac{1}{n} + \sin \frac{2}{n} + \dots + \sin \frac{n}{n}}{n} \quad (2)$$

$$\lim_{n \rightarrow \infty} \left\{ \frac{1}{n+1} + \frac{1}{n+2} + \dots + \frac{1}{n+n} \right\} \quad (3)$$

$$\lim_{n \rightarrow \infty} \left\{ \frac{n}{n^2+1^2} + \frac{n}{n^2+2^2} + \dots + \frac{n}{n^2+n^2} \right\} \quad (4)$$

$$\lim_{n \rightarrow \infty} \left\{ \frac{1}{\sqrt{n^2+1^2}} + \frac{1}{\sqrt{n^2+2^2}} + \dots + \frac{1}{\sqrt{n^2+n^2}} \right\} \quad (5)$$

$$\lim_{n \rightarrow \infty} \left\{ \frac{\sqrt{n+1} + \sqrt{n+2} + \dots + \sqrt{2n}}{n^{3/2}} \right\} \quad (6)$$

$$\lim_{n \rightarrow \infty} \left[\frac{n}{(n+1)^2} + \frac{n}{(n+2)^2} + \dots + \frac{n}{(n+n)^2} \right] \quad (7)$$

$$\text{חשבו: } \lim_{n \rightarrow \infty} \ln \left(\frac{\sqrt[n]{n!}}{n} \right) \quad (8)$$

* תרגיל זה רלוונטי רק למי שלמד אינטגרלים לא-אמיתיים.

חשבו את האינטגרלים בשאלות 9-12 על פי ההגדרה (של רימן):

תוכלו להיעזר בזהויות הבאות:

$$\begin{aligned}
 1 + 2 + 3 + \dots + n &= 0.5n(n+1) \\
 1^2 + 2^2 + 3^2 + \dots + n^2 &= \frac{1}{6}n(n+1)(2n+1) \\
 1^3 + 2^3 + 3^3 + \dots + n^3 &= \frac{1}{4}n^2(n+1)^2 \\
 \sin \alpha + \sin 2\alpha + \dots + \sin n\alpha &= \frac{\sin \frac{n}{2}\alpha \sin \frac{n+1}{2}\alpha}{\sin \frac{\alpha}{2}}
 \end{aligned}$$

$$\int_0^{\pi} \sin x dx \quad (12)$$

$$\int_0^1 x^3 dx \quad (11)$$

$$\int_0^1 x^2 dx \quad (10)$$

$$\int_0^1 x dx \quad (9)$$

$$(13) \text{ חשבו לפי ההגדרה של רימן את } \int_1^4 x^2 dx.$$

$$(14) \text{ חשבו לפי ההגדרה של רימן את } \int_1^2 \frac{1}{x} dx.$$

$$P = \left\{ 1 = 2^{\frac{0}{n}}, 2^{\frac{1}{n}}, 2^{\frac{2}{n}}, 2^{\frac{3}{n}}, \dots, 2^{\frac{n}{n}} = 2 \right\} \text{ רמז: השתמשו בחלוקה הבאה של הקטע}$$

תשובות סופיות

$$\frac{1}{5} \quad (1)$$

$$1 - \cos 1 \quad (2)$$

$$\ln 2 \quad (3)$$

$$\frac{\pi}{4} \quad (4)$$

$$\ln(1 + \sqrt{2}) \quad (5)$$

$$\frac{2^{1.5}}{1.5} - \frac{2}{3} \quad (6)$$

$$\ln 2 \quad (7)$$

$$-1 \quad (8)$$

$$\frac{1}{2} \quad (9)$$

$$\frac{1}{3} \quad (10)$$

$$\frac{1}{4} \quad (11)$$

$$2 \quad (12)$$

$$21 \quad (13)$$

$$0.5 \quad (14)$$

משפטי האינטגרביליות

שאלות

1) בדקו עבור כל אחת מהפונקציות הבאות האם היא אינטגרבילית בקטע $[a, b]$:

$$[a, b] = [0, 2] \quad f(x) = \begin{cases} \frac{x}{x-1} & x \neq 1 \\ 1 & x = 1 \end{cases} \quad \text{א.}$$

$$[a, b] = [-4, 14] \quad f(x) = \frac{x^2 + x + 1}{x^2 + 1} \quad \text{ב.}$$

$$[a, b] = [0, 9] \quad f(x) = \begin{cases} 4x & x \neq 1 \\ -41 & x = 1 \end{cases} \quad \text{ג.}$$

2) ענו על הסעיפים הבאים:

- א. הוכיחו שפונקציית דיריכלה אינה אינטגרבילית בשום קטע $[a, b]$.
 ב. מצאו דוגמה לפונקציה חסומה בקטע מסוים שאינה אינטגרבילית בו.
 ג. מצאו דוגמה לפונקציה מונוטונית למקוטעין בקטע $[-1, 1]$, שאינה אינטגרבילית בקטע.

3) לגבי כל אחת מהטענות, קבעו אם היא נכונה או לא נכונה. נמקו.

- א. קיימת פונקציה אינטגרבילית f , בקטע $[a, b]$, שאין לה פונקציה קדומה בקטע זה.
 ב. קיימת פונקציה f , החסומה בקטע $[a, b]$ וגזירה בקטע (a, b) , שאינה אינטגרבילית ב- $[a, b]$.

$$f(x) = \begin{cases} 0 & x \in \mathbb{Q}, x \neq \frac{1}{2}, x \neq \frac{1}{4} \\ 1 & x \notin \mathbb{Q} \\ 2 & x = \frac{1}{2}, x = \frac{1}{4} \end{cases} \quad \text{4) נתונה הפונקציה}$$

האם הפונקציה אינטגרבילית בקטע $[0, 1]$?

לתשובות מלאות בסרטוני וידאו היכנסו לאתר www.GooL.co.il

אינטגרביליות לפי דארבו

שאלות

- (1) נתונה $f: [0,1] \rightarrow \mathbb{R}$, המוגדרת על ידי $f(x) = x$.
- א. מצאו את האינטגרל העליון והאינטגרל התחתון של הפונקציה בקטע.
- ב. הוכיחו שהפונקציה אינטגרבילית לפי ההגדרה של דארבו ומצאו את האינטגרל המסוים שלה בקטע.

- (2) נתונה $f: [0,2] \rightarrow \mathbb{R}$ המוגדרת על ידי $f(x) = x^2$.
- א. מצאו את האינטגרל העליון והתחתון של הפונקציה בקטע.
- ב. הוכיחו שהפונקציה אינטגרבילית לפי ההגדרה של דארבו בקטע ומצאו את האינטגרל המסוים שלה בקטע.

$$(3) \text{ נתונה הפונקציה הבאה } f(x) = \begin{cases} 0 & 0 \leq x < 0.5 \\ 2 & x = 0.5 \\ 1 & 0.5 < x \leq 1 \end{cases}$$

הוכיחו שהפונקציה אינטגרבילית לפי ההגדרה של דארבו.

- (4) נתונה הפונקציה $f(x) = \begin{cases} 1 & x \in \mathbb{Q} \\ -1 & x \notin \mathbb{Q} \end{cases}$ בקטע $[0,1]$.
- א. בדקו, לפי ההגדרה של דארבו, האם הפונקציה אינטגרבילית בקטע.
- ב. תנו דוגמה לפונקציה f , כך ש- $|f| - 1$ אינטגרביליות, אך f לא אינטגרבילית.

- (5) תהי $f: [a,b] \rightarrow \mathbb{R}$ פונקציה חסומה. נניח שקיימת חלוקה P של הקטע $[a,b]$, כך ש- $L(P, f) = U(P, f)$. הוכיחו ש- f פונקציה קבועה.

- (6) תהי $f: [a,b] \rightarrow \mathbb{R}$ פונקציה חסומה. נניח שקיימת חלוקה P_n של הקטע $[a,b]$, כך ש- $U(P_n, f) - L(P_n, f) \rightarrow 0$.
- א. הוכיחו ש- f אינטגרבילית בקטע.

ב. הוכיחו כי $\lim_{n \rightarrow \infty} U(P_n, f) = \lim_{n \rightarrow \infty} L(P_n, f) = \int_a^b f(x) dx$

(7) בכל אחד מהסעיפים הבאים הוכיחו שהפונקציה אינטגרבילית בעזרת קריטריון רימן. בנוסף, חשבו את האינטגרל המסוים של הפונקציה בקטע.

א. $f(x) = x$, בקטע $[0,1]$.

ב. $f(x) = x^2$, בקטע $[0,2]$.

(8) הוכיחו שהפונקציה $f(x) = \frac{1}{x}$ אינטגרבילית בקטע $[1,2]$ בעזרת קריטריון רימן.

תשובות סופיות

$$\int_0^1 f dx = \frac{1}{2} \quad \text{ב.} \quad \int_0^1 f = \int_0^1 f = \frac{1}{2} \quad \text{א.} \quad (1)$$

$$\int_0^2 f dx = \frac{8}{3} \quad \text{ב.} \quad \int_0^2 f = \int_0^2 f = \frac{8}{3} \quad \text{א.} \quad (2)$$

(3) שאלת הוכחה.

$$f(x) = \begin{cases} 1 & x \in \mathbb{Q} \\ -1 & x \notin \mathbb{Q} \end{cases} \quad \text{ב.} \quad \text{א. שאלת הוכחה.} \quad (4)$$

(5) שאלת הוכחה.

(6) שאלת הוכחה.

(7) שאלת הוכחה.

(8) שאלת הוכחה.

חשבון אינפיניטימלי 2

פרק 2 - שימושי האינטגרל המסויים (נפח-שטח מעטפת)

תוכן העניינים

- 1. חישוב נפח גוף-סיבוב..... 16
- 2. חישוב שטח מעטפת גוף-סיבוב..... 19
- 3. חישוב נפח גוף כללי..... 20

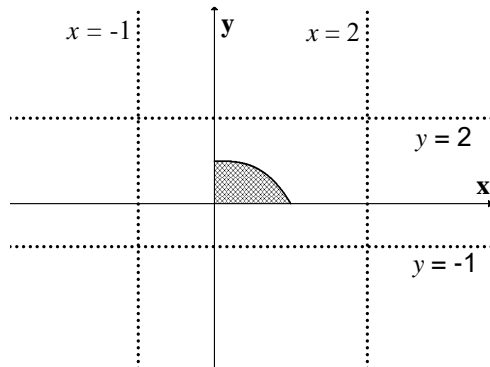
חישוב נפח גוף-סיבוב

שאלות

(1) השטח הכלוא בין גרף הפונקציות $y = x^2$ ו- $y = 2x - 1$ מסתובב סביב ציר ה- x .
חשבו את נפח הגוף המתקבל בשתי דרכים:
א. שיטת הדיסקות (cavalieri).
ב. שיטת הקליפות הגליליות.

(2) השטח הכלוא בין גרף הפונקציות $y = x^2$ ו- $y = 2x - 1$ מסתובב סביב ציר ה- y .
חשבו את נפח הגוף המתקבל בשתי דרכים:
א. שיטת הדיסקות (cavalieri).
ב. שיטת הקליפות הגליליות.

השטח הכלוא בין גרף הפונקציה $f(x) = 1 - x^3$ והצירים, מסתובב סביב ציר כלשהו.
מצאו את נפח הגוף המתקבל בכל מקרה בשאלות 3-8:



(3) ציר ה- x .

(4) הישר $y = -1$.

(5) הישר $y = 2$.

(6) ציר ה- y .

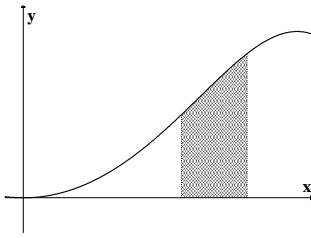
(7) הישר $x = -1$.

(8) הישר $x = 2$.

(9) נסחו והוכיחו את הנוסחה לחישוב נפח גליל.

(10) נסחו והוכיחו את הנוסחה לחישוב נפח חרוט.

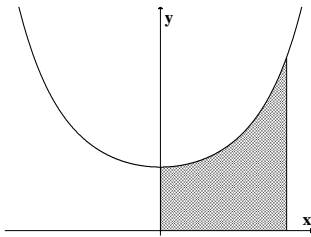
(11) נסחו והוכיחו את הנוסחה לחישוב נפח כדור.



(12) השטח הכלוא בין גרף הפונקציה $y = \sin(x^2)$

והישרים $x = \sqrt{\frac{\pi}{6}}$, $x = \sqrt{\frac{\pi}{3}}$, $y = 0$

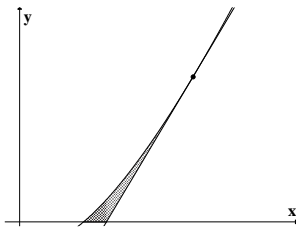
מסתובב סביב ציר ה- y .
מהו נפח הגוף המתקבל?



(13) השטח הכלוא בין גרף הפונקציה $y = e^{x^2}$

והישרים $y = 0$, $x = 0$, $x = 1$

מסתובב סביב ציר ה- y .
מהו נפח הגוף המתקבל?



(14) השטח הכלוא בין גרף הפונקציה $f(x) = x \ln x$

המשיק לגרף בנקודה (e, e) וציר ה- x ,

מסתובב סביב ציר ה- x .
מהו נפח הגוף המתקבל?

(15) השטח הכלוא בין הגרפים של $f(x) = x^2$, $f(x) = 2x + 8$, $x = 0$

מסתובב סביב הישר $x = 4$.

מצאו את נפח גוף הסיבוב שמתקבל.

תשובות סופיות

$$\frac{64}{15}\pi \text{ ב.} \quad \frac{64}{15}\pi \text{ א.} \quad (1)$$

$$\frac{8}{3}\pi \text{ ב.} \quad \frac{8}{3}\pi \text{ א.} \quad (2)$$

$$\frac{9\pi}{14} \quad (3)$$

$$\frac{15\pi}{7} \quad (4)$$

$$\frac{33\pi}{14} \quad (5)$$

$$\frac{3\pi}{5} \quad (6)$$

$$2.1\pi \quad (7)$$

$$\frac{12\pi}{5} \quad (8)$$

$$V = \pi R^2 \cdot H \quad (9)$$

$$V = \frac{\pi R^2 \cdot H}{3} \quad (10)$$

$$V = \frac{4}{3}\pi R^3 \quad (11)$$

$$\frac{\pi}{2}(\sqrt{3}-1) \quad (12)$$

$$\pi(e-1) \quad (13)$$

$$\frac{e^3-4}{54}\pi \quad (14)$$

$$128\pi \quad (15)$$

חישוב שטח מעטפת של גוף-סיבוב

שאלות

- (1) הפונקציה $y = \sqrt{4-x^2}$, עבור $-1 \leq x \leq 1$, מסתובבת סביב ציר ה- x . מהו שטח המעטפת של הגוף שנוצר?
- (2) נסחו והוכיחו את הנוסחה לחישוב שטח מעטפת של חרוט.
- (3) נסחו והוכיחו את הנוסחה לחישוב שטח מעטפת של כדור.
- (4) הפונקציה $x = \sqrt{9-y^2}$, עבור $-2 \leq y \leq 2$, מסתובבת סביב ציר ה- y . מהו שטח המעטפת של הגוף שנוצר?

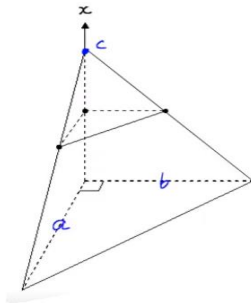
תשובות סופיות

- (1) 8π
- (2) $S = \pi R \sqrt{H^2 + R^2}$
- (3) $S = 4\pi R^2$
- (4) 24π

חישוב נפח גוף כללי

שאלות

(1) מצאו נוסחה לחישוב נפח פירמידה ישרה, אשר גובהה h ובסיסה הוא ריבוע שאורך צלעו a .



(2) חשבו את נפחה של פירמידה, שבסיסה הוא משולש ישר זווית (ראו איור).

תשובות סופיות

$$V = \frac{a^2 h}{3} \quad (1)$$

$$\frac{abc}{6} \quad (2)$$

חשבון אינפיניטימלי 2

פרק 3 - מספרים מרוכבים

תוכן העניינים

- 21 1. הגדרת המספר המרוכב
- 24 2. המספר הצמוד
- 27 3. חקירת משוואה ריבועית מרוכבת
- 28 4. מישור גאוס והצגה קוטבית של מספר מרוכב
- 32 5. נוסחת דה-מואבר למציאת שורשים של מספר מרוכב
- 34 6. שאלות בסדרות עם מספרים מרוכבים
- 35 7. שאלות שונות עם מספרים מרוכבים

הגדרת המספר המרוכב:

סיכום כללי:

הגדרות כלליות:

ע"י הסימון: $i = \sqrt{-1}$ מגדירים את המספר מהצורה: $z = a + bi$ כמספר מרוכב בעל חלק ממשי a וחלק מדומה b . המספרים a ו- b הם ממשיים.
 a נקרא הרכיב הממשי של z ומסומן גם $\text{Re}(z)$ (מלשון: Real).
 b נקרא הרכיב המדומה של z ומסומן גם $\text{Im}(z)$ (מלשון: Imaginary).

שאלות:

(1) רשום עם i :

א. $\sqrt{-1} =$	ב. $\sqrt{-4} =$	ג. $\sqrt{-25} =$
ד. $\sqrt{-3} =$	ה. $\sqrt{-5} =$	

(2) חשב:

א. $i =$	ב. $i^2 =$	ג. $i^3 =$
ד. $i^4 =$	ה. $i^5 =$	ו. $i^{17} =$

(3) רשום את ערכם של a ו- b בעבור המספרים המרוכבים הבאים:

א. $2 + 5i$	ב. $3 - i$	ג. $\frac{\sqrt{3}}{2} - \frac{1}{2}i$
ד. $7i$	ה. -4	ו. 0

(4) כתוב מספר מרוכב z לפי הדרישות הבאות:

א. $\text{Re}(z) = -3$, $\text{Im}(z) = 2$.

ב. $\text{Re}(z) = \text{Im}(z) = \frac{\sqrt{2}}{2}$.

5 מספר מרוכב מסוים z מקיים: $\operatorname{Re}(z) + \operatorname{Im}(z) = 4$ ו- $\operatorname{Re}(z) - \operatorname{Im}(z) = -1$. מצא את z .

6 פתור את המשוואות הבאות:

א. $x^2 = -1$ ב. $x^2 + 36 = 0$ ג. $x^2 - 2x + 5 = 0$

7 פתור את המשוואה הבאה: $x^2 + x + 1 = 0$.

8 פתור את המשוואה הבאה: $z^2 + iz + 6 = 0$.

9 נתון: $z_1 = 2 + 3i$, $z_2 = 5 - 2i$. חשב את ערכי הביטויים המרוכבים הבאים:

א. $z_1 + z_2 =$ ב. $z_1 - z_2 =$ ג. $z_1 \cdot z_2 =$

10 חשב את ערכי הביטויים הבאים:

א. $(-2 + 6i) + (1 - i)$ ב. $(4 + 4i) - \left(3 + \frac{1}{2}i\right)$
 ג. $\left(\frac{1}{2} - \frac{\sqrt{3}}{2}i\right) - \left(\frac{1}{2} + \frac{\sqrt{3}}{2}i\right)$ ד. $5 - (3 - 2i)$
 ה. $(i - 3) + 6i$ ו. $(i + 2) - (3i - 2) + (7 - 5i)$

11 חשב את ערכי הביטויים הבאים:

א. $(1 + 4i) \cdot (8 - 2i)$ ב. $\left(\frac{\sqrt{2}}{2} - \frac{\sqrt{2}}{2}i\right) \cdot \left(\frac{1}{2} + \frac{\sqrt{3}}{2}i\right)$
 ג. $(4i - 3) \cdot (4i + 3)$ ד. $i \cdot (i - 1)$
 ה. $(2i + 3) \cdot i$ ו. $(5i - 1)^2$

(12) נתונים שני מספרים מרוכבים $z_1 = a_1 + b_1i$ ו- $z_2 = a_2 + b_2i$.

ידוע כי $z_1 + z_2$ הוא ממשי וכי $z_1 - z_2$ הוא מדומה.

א. מצא קשר בין a_1 ל- a_2 וקשר בין b_1 ו- b_2 .

ב. הראה כי המכפלה $z_1 \cdot z_2$ היא ממשית.

תשובות סופיות:

- (1) א. i ב. $2i$ ג. $5i$ ד. $\sqrt{3}i$ ה. $\sqrt{5}i$
- (2) א. i ב. -1 ג. $-i$ ד. 1 ה. i ו. i
- (3) א. $a = 2, b = 5$ ב. $a = 3, b = -1$ ג. $a = \frac{\sqrt{3}}{2}, b = -\frac{1}{2}$ ד. $a = 0, b = 7$ ה. $a = -4, b = 0$ ו. $a = 0, b = 0$
- (4) א. $z = -3 + 2i$ ב. $z = \frac{\sqrt{2}}{2} + \frac{\sqrt{2}}{2}i$
- (5) $z = 1.5 + 2.5i$
- (6) א. $x = \pm i$ ב. $x = \pm 6i$ ג. $x = 1 + 2i, 1 - 2i$
- (7) $z = -\frac{1}{2} + \frac{\sqrt{3}}{2}i, -\frac{1}{2} - \frac{\sqrt{3}}{2}i$
- (8) $z = 2i, -3i$
- (9) א. $7 + i$ ב. $-3 + 5i$ ג. $16 + 11i$
- (10) א. $-1 + 5i$ ב. $1 + 3\frac{1}{2}i$ ג. $-\sqrt{3}i$ ד. $2 + 2i$ ה. $-3 + 7i$ ו. $11 - 7i$
- (11) א. $16 + 30i$ ב. $\frac{\sqrt{6} + \sqrt{2}}{4} + i\left(\frac{\sqrt{6} - \sqrt{2}}{4}\right)$ ג. -25 ד. $-1 - i$
- (12) א. $a_1 = a_2, b_1 = -b_2$ ב. הוכחה. ג. $-24 - 10i$ ה. $-2 + 3i$

המספר הצמוד:

סיכום כללי:

צמוד קומפלקסי (מרוכב):

לכל מספר מרוכב $z = a + bi$ קיים מספר צמוד המסומן ב- \bar{z} וערכו: $\bar{z} = a - bi$.

שאלות:

(13) רשום את המספר הצמוד של המספרים המרוכבים הבאים:

א. $2 + 5i$	ב. $3 - i$	ג. $\frac{\sqrt{3}}{2} - \frac{1}{2}i$
ד. $7i$	ה. -4	ו. 0

(14) חשב:

א. $\frac{11 + 2i}{2 - i}$	ב. $\frac{3 + 7i}{2 - 5i}$	ג. $\frac{19 - 9i}{2 - 3i}$
----------------------------	----------------------------	-----------------------------

(15) נתון מספר $z = 5 - 2i$. חשב את ערכי הביטויים הבאים:

א. $\frac{1}{z}$	ב. $\frac{z}{z + 3}$	ג. $\frac{z + i}{z - i}$
------------------	----------------------	--------------------------

(16) המספר $\frac{3 + 4i}{a - i}$ הוא ממשי טהור. מצא את a .

(17) נתונים שני מספרים מרוכבים $z_1 = a_1 + b_1i$ ו- $z_2 = a_2 + b_2i$.

הראה כי כדי שתוצאת החילוק $\frac{z_1}{z_2}$ תהיה ממשית טהורה, צריך להתקיים: $\frac{a_1}{a_2} = \frac{b_1}{b_2}$.

(18) פתור את המשוואה הבאה: $3z - 11 = iz - 7i$.

(19) פתור את המשוואה הבאה : $iz + 5 = 4i$.

(20) פתור את מערכת המשוואות הבאה (z ו- w משתנים מרוכבים) :

$$\begin{cases} 3z + iw = 5 - 4i \\ 5iz - 2w = 5 + 8i \end{cases}$$

(21) פתור את המשוואות הבאות שבהן a ו- b ממשיים :

ב. $3a - 8 + 5bi = 2b - ai - 3i$

א. $2a - 3i = 10 + bi$

(22) פתור את המשוואה הבאה : $2z + 7i = iz + \bar{z} - 3$.

(23) חשב את ערכי המספרים המרוכבים הבאים :

ב. $\sqrt{8 + 6i}$

א. $\sqrt{5 - 12i}$

(24) פתור את המשוואות הריבועיות הבאות :

א. $(1 - i)z^2 - 2z + i + 1 = 0$

ב. $(-2 + i)z^2 - (6 + 12i)z + 10 - 25i = 0$

(25) פתור את המשוואה הבאה : $iz^2 - 2(1 - i)z + 6 + 15i = 0$.

(26) פתור את המשוואה הבאה : $z^2 - i\bar{z} + 6 = 0$.

תשובות סופיות:

- א. $2-5i$ ב. $3+i$ ג. $\frac{\sqrt{3}}{2} + \frac{1}{2}i$ ד. $-7i$ ה. -4 ו. 0 (13)
- א. $4+3i$ ב. $-1+i$ ג. $.5+3i$ (14)
- א. $\frac{5}{29} + \frac{2}{29}i$ ב. $\frac{11}{17} - \frac{3}{34}i$ ג. $\frac{14}{17} + \frac{5}{17}i$ (15)
- (16) $a = -\frac{3}{4}$
- (17) שאלת הוכחה.
- (18) $z = 4 - i$
- (19) $z = 4 + 5i$
- (20) $z = 2 - 3i, w = 5 + i$
- א. $a = 5, b = -3$ ב. $a = 2, b = -1$ (21)
- (22) $z = -\frac{1}{2} - 2\frac{1}{2}i$
- א. $z = \pm(3-2i)$ ב. $z = \pm(3+i)$ (23)
- א. $z_{1,2} = i, 1$ ב. $z_{1,2} = -2-i, 2-5i$ (24)
- (25) $z_1 = -2-5i, z_2 = 3i$
- (26) $z_1 = -3i, z_2 = 2i$

חקירת משוואה ריבועית מרוכבת:

שאלות:

(27) נתונה המשוואה הבאה: $(mi-2)z^2 - 2(m+2i)z + 1 = 0$

מצא לאלו ערכים של הפרמטר המרוכב m למשוואה:

א. יש פתרון יחיד.

ב. אין פתרון.

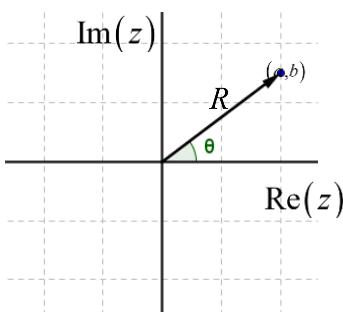
תשובות סופיות:

(27) א. $m = -i$ ב. $m = -2i$.

מישור גאוס והצגה קוטבית של מספר מרוכב:

סיכום כללי:

ניתן לאפיין מספר מרוכב z ע"י הצגתו במישור שבו ציר ה- x מייצג את a , גודל הערך הממשי של z , וציר ה- y מייצג את b , גודל הערך המדומה של z . מישור זה נקרא מישור גאוס ומופיע באיור הסמוך.



במישור גאוס ניתן לאפיין כל נקודה ע"י הזוג (a, b) או ע"י הערך המוחלט של המספר (מרחקו מ- $(0, 0)$) והזווית שלו בין הקרן החיובית של הציר הממשי לרדיוס. הצמד הנ"ל מוגדר כהצגה קוטבית של מספר מרוכב ויסומן: (R, θ) . מספר מרוכב בהצגה קוטבית:

$$z = R \cos \theta + i \cdot R \sin \theta = R(\cos \theta + i \sin \theta) = R \operatorname{cis} \theta$$

נוסחאות ומעברים:

- מעבר מהצגה קוטבית לקרטזית (אלגברית): $R = \sqrt{a^2 + b^2}$, $\tan \theta = \frac{b}{a}$.
- מעבר מהצגה קרטזית לקוטבית: $a = R \cos \theta$, $b = R \sin \theta$.
- גודל של מספר מרוכב z יסומן $|z|$ ויחושב: $|z| = R = \sqrt{a^2 + b^2}$.

פעולות חשבון בהצגה קוטבית:

- כפל מספרים מרוכבים: $z_1 \cdot z_2 = (R_1 \operatorname{cis} \theta_1) \cdot (R_2 \operatorname{cis} \theta_2) = R_1 R_2 \operatorname{cis}(\theta_1 + \theta_2)$.
- חילוק מספרים מרוכבים: $\frac{z_1}{z_2} = \frac{R_1 \operatorname{cis} \theta_1}{R_2 \operatorname{cis} \theta_2} = \frac{R_1}{R_2} \operatorname{cis}(\theta_1 - \theta_2)$.

שאלות:

(28) כתוב את המספרים המרוכבים הבאים בהצגה אלגברית:

א. $2\text{cis}60^\circ$	ב. $6\text{cis}135^\circ$	ג. $4\text{cis}330^\circ$
ד. $4\text{cis}(-30^\circ)$	ה. $4\text{cis}690^\circ$	ו. $8\text{cis}90^\circ$
ז. $3\text{cis}270^\circ$	ח. $\text{cis}180^\circ$	ט. $\text{cis}0^\circ$

(29) הפוך להצגה קוטבית:

א. $1+i$	ב. $\sqrt{3}-i$	ג. $-\frac{1}{2}-\frac{\sqrt{3}}{2}i$
ד. $3+4i$	ה. $6i$	ו. $-i$
ז. 4	ח. -1	ט. 1
י. 0		

(30) חשב את ערכי הביטויים הבאים:

א. $2\text{cis}120^\circ \cdot 3\text{cis}60^\circ$	ב. $\text{cis}210^\circ \cdot 5\text{cis}(-40^\circ)$
ג. $\frac{12\text{cis}315^\circ}{3\text{cis}90^\circ}$	ד. $\frac{1}{2\text{cis}40^\circ}$
ה. $6\text{cis}30^\circ + 2\text{cis}210^\circ$	

(31) נתון המספר המרוכב $z = R\text{cis}\theta$. הבע באמצעות R ו- θ את המספרים:

א. \bar{z}	ב. $1/z$	ג. $-z$
ד. $-\frac{1}{z}$	ה. iz	ו. $z \cdot \bar{z}$

(32) הראה כי המספרים הבאים הם ממשיים טהורים:

א. $z + \bar{z}$	ב. $z \cdot \bar{z}$	ג. $\frac{z}{\bar{z}} + \frac{\bar{z}}{z}$
------------------	----------------------	--

(33) הראה כי המספרים הבאים הם מדומים טהורים:

א. $z^2 - \bar{z}^2$	ב. $\frac{1}{\bar{z}} - \frac{1}{z}$
----------------------	--------------------------------------

(34) הוכח את הטענות הבאות:

א. $z - i\bar{z} = \overline{\bar{z} + iz}$ ב. $z \cdot \bar{z} = |z|^2$

(35) מצא את קדקודיו של ריבוע החסום במעגל קנוני שרדיוסו $\sqrt{2}$ במישור גאוס אם ידוע שצלעותיו מקבילות לצירים.

(36) ריבוע חסום במעגל קנוני במישור גאוס. אחד מקודקודי הריבוע הוא $1 + \sqrt{3}i$. מצא את קדקודיו האחרים.

(37) משולש שווה צלעות חסום במעגל קנוני במישור גאוס. אחד מקודקודי המשולש הוא $1 + \sqrt{3}i$. מצא את קדקודיו האחרים.

(38) משולש שווה שוקיים, שזווית הבסיס שלו היא 30° חסום במעגל קנוני במישור גאוס. קדקוד הראש של המשולש הוא $1 + \sqrt{3}i$. מצא את קדקודיו האחרים.

(39) z הוא מספר מרוכב במישור גאוס הנמצא מחוץ למעגל היחידה. קבע אם המספרים הבאים נמצאים בתוך מעגל היחידה, עליו או מחוץ לו:

א. \bar{z} ב. $\frac{1}{z}$ ג. $\frac{z}{\bar{z}}$ ד. $z \cdot \bar{z}$

תשובות סופיות:

- (28) א. $1 + \sqrt{3}i$ ב. $-3\sqrt{2} + 3\sqrt{2}i$ ג. $2\sqrt{3} - 2i$ ד. $2\sqrt{3} - 2i$
- ה. $2\sqrt{3} - 2i$ ו. $8i$ ז. $-3i$ ח. -1 ט. 1
- (29) א. $\sqrt{2}\text{cis}45^\circ$ ב. $2\text{cis}330^\circ$ ג. $\text{cis}240^\circ$ ד. $5\text{cis}53.13^\circ$
- ה. $6\text{cis}90^\circ$ ו. $\text{cis}270^\circ$ ז. $4\text{cis}0^\circ$ ח. $\text{cis}180^\circ$ ט. $\text{cis}0^\circ$
- (30) א. -6 ב. $5\text{cis}170^\circ$ ג. $4\text{cis}225^\circ$ ד. $\frac{1}{2}\text{cis}(-40^\circ)$
- ה. $4\text{cis}30^\circ$
- (31) א. $R\text{cis}(-\theta)$ ב. $\frac{1}{R}\text{cis}(-\theta)$ ג. $R\text{cis}(180^\circ + \theta)$
- ד. $\frac{1}{R}\text{cis}(180^\circ + \theta)$ ה. $R\text{cis}(90^\circ + \theta)$ ו. R^2
- (32) שאלת הוכחה.
- (33) שאלת הוכחה.
- (34) שאלת הוכחה.
- (35) $1+i, -1+i, -1-i, 1-i$
- (36) $-\sqrt{3}+i, -1-\sqrt{3}i, \sqrt{3}-i$
- (37) $1+\sqrt{3}i, 1-\sqrt{3}i, -2$
- (38) $1+\sqrt{3}i, -1+\sqrt{3}i, 2$
- (39) א. מחוץ למעגל. ב. בתוך המעגל ג. על המעגל ד. מחוץ למעגל.

נוסחת דה-מואבר למציאת שורשים של מספר מרוכב:

סיכום כללי:

משפט דה-מואבר:

כדי להעלות מספר מרוכב z בחזקת n נעזר בקשר: $(R\text{cis}\theta)^n = R^n\text{cis}(n\theta)$.

שורשים של מספר מרוכב:

כדי להוציא שורש n -י של מספר מרוכב z השווה למספר מרוכב אחר $z_0 = R_0\text{cis}\theta_0$

$$\cdot z^n = z_0 = R_0\text{cis}\theta_0 / \sqrt[n]{} \Rightarrow z_k = \sqrt[n]{R_0} \cdot \text{cis}\left(\frac{\theta_0}{n} + \frac{2\pi k}{n}\right) : 1 \leq k \leq n$$

שאלות:

40 חשב את ערכי הביטויים הבאים תוך שימוש בנוסחת דה-מואבר:

א. $(2\text{cis}30^\circ)^3$ ב. $(2\text{cis}14^\circ)^5$ ג. $(1+i)^4$

ד. $(\sqrt{3}-i)^3$ ה. $\left(-\frac{1}{2} + \frac{\sqrt{3}}{2}i\right)^{12}$

41 פתור את המשוואות הבאות:

א. $z^2 = 36\text{cis}120^\circ$ ב. $z^4 = (9\text{cis}80^\circ)^2$ ג. $z^5 = \frac{1}{2} + \frac{\sqrt{3}}{2}i$

42 מצא את סכום ומכפלת שורשי היחידה מסדר 4.

43 נתון המספר המרוכב $z = x+iy$.

מצא את המקום הגאומטרי במישור גאוס המתקבל בעבור המשוואה: $|z|=2$.

(44) נתון המספר המרוכב $z = x + iy$.

מצא את המקום הגאומטרי במישור גאוס המתקבל בעבור המשוואה: $|z - 3i| = 5$.

(45) נתון המספר המרוכב $z = x + iy$. מצא את המקום הגאומטרי במישור גאוס

המתקבל בעבור המשוואה: $|z + i| + |\bar{z} + i| = |1 + 3i|$.

תשובות סופיות:

(40) א. $8i$ ב. $32\text{cis}70^\circ$ ג. -4 ד. $-8i$ ה. 1 .

(41) א. $z_0 = 6\text{cis}60^\circ, z_1 = 6\text{cis}240^\circ$.

ב. $z_0 = 3\text{cis}40^\circ, z_1 = 3\text{cis}130^\circ, z_2 = 3\text{cis}220^\circ, z_3 = 3\text{cis}310^\circ$.

ג. $z_0 = \text{cis}12^\circ, z_1 = \text{cis}84^\circ, z_2 = \text{cis}156^\circ, z_3 = \text{cis}228^\circ, z_4 = \text{cis}300^\circ$.

(42) סכום: 0 , מכפלה: -1 .

(43) $x^2 + y^2 = 4$.

(44) $x^2 + (y - 3)^2 = 25$.

(45) $\frac{2x^2}{3} + \frac{2y^2}{5} = 1$.

שאלות בסדרות עם מספרים מרוכבים:

שאלות:

(46) בסדרה חשבונית האיבר השביעי הוא $a_7 = 13 + 3i$ והאיבר השלישי הוא $a_3 = 5 - 9i$. מצא את סכום עשרת האיברים הראשונים בסדרה.

(47) בסדרה הנדסית האיבר החמישי הוא $a_5 = 32 + 16i$ והאיבר השני הוא $a_2 = 2 - 4i$.
 א. מצא את האיבר הראשון בסדרה ואת מנת הסדרה, אם נתון שמנת הסדרה היא מספר מרוכב הנמצא על הציר המדומה במישור גאוס.
 ב. מצא את סכום חמשת האיברים הראשונים בסדרה.

(48) נתונים שלושה איברים סמוכים בסדרה הנדסית. האיבר הראשון ביניהם הוא 2. נתון כי אם מוסיפים לאיבר השלישי $4i$ מתקבלים שלושה איברים סמוכים בסדרה חשבונית. מצא את שלושת איברי הסדרה ההנדסית (שתי אפשרויות).

תשובות סופיות:

$$S_{10} = 100 - 15i \quad (46)$$

$$S_5 = 20 + 25i \quad \text{ב.} \quad a_1 = 2 + i, q = -2i \quad \text{א.} \quad (47)$$

$$2, 4 - 2i, 6 - 8i \quad \text{או} \quad 2, 2i, -2 \quad (48)$$

שאלות שונות עם מספרים מרוכבים:

שאלות:

(49) פתור את המשוואה: $z - \bar{z} + |z| = |2 - i|^2 - 4i + \text{Im}(z)$.

(50) פתור את המשוואה: $|2 - 3^{x^2 - x - 1}i| = \sqrt{13}$.

(51) פתור את המשוואה: $z^3 = \bar{z}$.

(52) הוכח: אם מקדמי משוואה ריבועית הם מספרים ממשיים ואין למשוואה פתרונות ממשיים אז פתרונות המשוואה הם שני מספרים צמודים.

(53) נתונים שני מספרים מרוכבים שאינם ממשיים טהורים. הוכח: אם סכום המספרים ממשי ומכפלתם ממשית אז המספרים צמודים.

(54) נתון מספר מרוכב z , שאינו ממשי טהור ואינו מדומה טהור.

הוכח כי אם $z - \frac{1}{\bar{z}}$ ממשי אז z על מעגל היחידה.

(55) הוכח את הנוסחה הבאה: $R_1 \text{cis} \theta_1 \cdot R_2 \text{cis} \theta_2 = R_1 R_2 \text{cis}(\theta_1 + \theta_2)$.

(56) z הוא מספר מרוכב על מעגל היחידה ברביע הראשון.

נתון: $|z^4 - z^3| = \sqrt{2 - \sqrt{3}}$. מצא את $\arg(z)$.

(57) z הוא מספר מרוכב על מעגל היחידה.

מצא את ערך הביטוי $z + iz$, אם ידוע שהוא ממשי.

(58) z_1 ו- z_2 הם פתרונות המשוואה הבאה: $z^2 - 2\cos\theta \cdot z + 1 = 0$.
 הבע באמצעות θ את גודל הזווית $\angle z_1 O z_2$ (O ראשית הצירים).

תשובות סופיות:

(49) $z_1 = 3 - 4i$, $z_2 = -3 - 4i$

(50) $x = 2$, -1

(51) $z_1 = 0$, $z_2 = i$, $z_3 = -i$, $z_4 = 1$, $z_5 = -1$

(52) שאלת הוכחה.

(53) שאלת הוכחה.

(54) שאלת הוכחה.

(55) שאלת הוכחה.

(56) $\arg(z) = 30^\circ$

(57) $z + iz = \sqrt{2}$, $-\sqrt{2}$

(58) 2θ

חשבון אינפיניטימלי 2

פרק 4 - שימושי האינטגרל המסויים (שטח-אורך קשת)

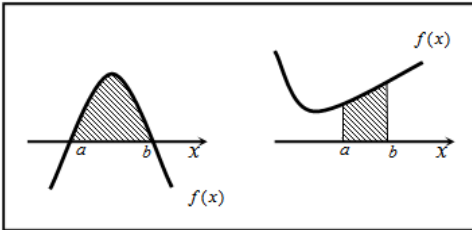
תוכן העניינים

1. חישוב שטחים 37
2. חישוב שטחים ביחס לציר ה-y 57
3. אורך קשת 58

חישוב שטחים

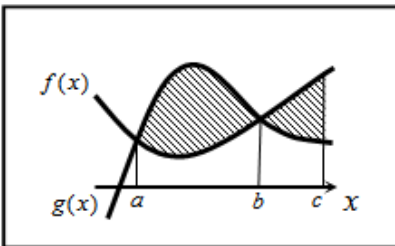
חישוב שטחים באמצעות אינטגרל (מקרים פרטיים)

1. שטח הכלוא בין גרף פונקציה וציר ה- x :



$$S = \int_a^b f(x) dx$$

2. שטח הכלוא בין שני גרפים, כך שגרף אחד כולו מעל השני :

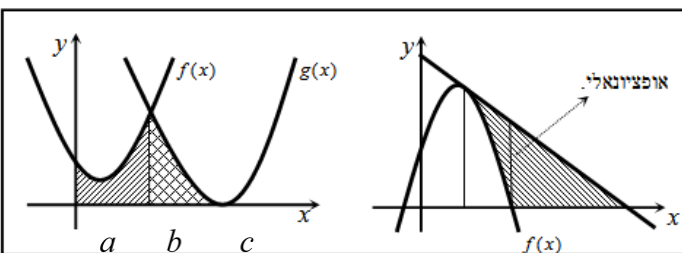


$$S_1 = \int_a^b (g(x) - f(x)) dx$$

$$S_2 = \int_b^c (f(x) - g(x)) dx$$

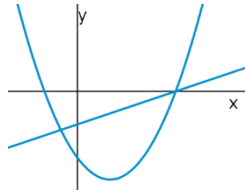
$$S = S_1 + S_2$$

3. שטח הכלוא בין שני גרפים וציר ה- x :

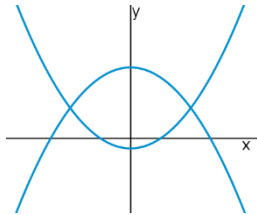


$$S = \int_a^b f(x) dx + \int_b^c g(x) dx$$

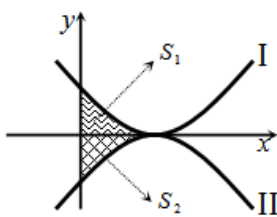
שאלות



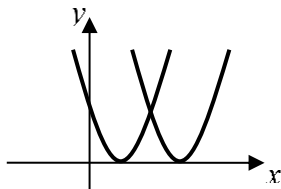
- (1) נתונות הפונקציות $f(x) = x^2 - 4x - 12$ ו- $g(x) = x - 6$.
חשבו את גודל השטח הכלוא בין הגרפים של f ו- g .



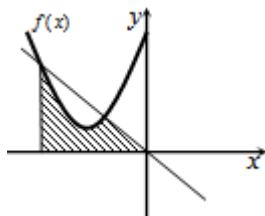
- (2) נתונות הפונקציות $f(x) = x^2 - 1$, $g(x) = 7 - x^2$.
חשבו את גודל השטח הכלוא בין הגרפים של f ו- g .



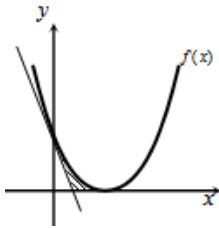
- (3) נתונות הפונקציות $f(x) = (x-2)^2$ ו- $g(x) = -(x-2)^2$,
כמתואר באיור.
א. התאימו בין הפונקציות לגרפים I ו-II.
ב. נסמן את השטחים שבין כל פונקציה והצירים
ב- S_1 ו- S_2 , כמתואר באיור.
הראו כי השטחים S_1 ו- S_2 שווים זה לזה.



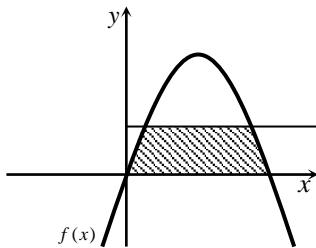
- (4) נתונות הפונקציות $f(x) = x^2 - 2x + 1$, $g(x) = x^2 - 6x + 9$.
חשבו את גודל השטח הכלוא בין הפונקציות ובין ציר ה- x .



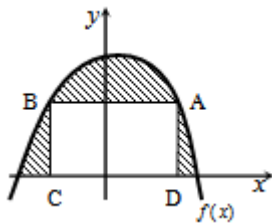
- (5) נתונה הפונקציה $f(x) = x^2 + 6x + 12$.
א. מצאו את משוואת הישר.
ב. מצאו את נקודת החיתוך השנייה של הישר והפונקציה.
ג. מצאו את השטח המוגבל בין הישר, גרף הפונקציה, ציר ה- x והישר $x = -4$.



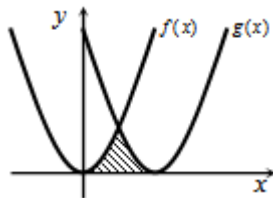
- (6) נתונה הפונקציה $f(x) = (x-2)^2$.
 בנקודת החיתוך שלה עם ציר ה- y נעביר משיק.
 א. מצאו את משוואת המשיק.
 ב. מצאו את נקודת החיתוך של המשיק עם ציר ה- x .
 ג. חשבו את השטח הכלוא בין המשיק, גרף הפונקציה וציר ה- x (השטח המסומן).



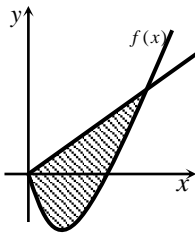
- (7) נתונה הפונקציה $f(x) = kx - x^2$.
 הישר $y = 9$ חותך את גרף הפונקציה בשתי נקודות.
 ידוע כי שיעור ה- x של אחת מנקודות אלה הוא $x = 9$.
 א. מצאו את ערך הפרמטר k .
 ב. מצאו את נקודת החיתוך השנייה בין שני הגרפים.
 ג. חשבו את השטח המוגבל בין גרף הפונקציה, הישר וציר ה- x (השטח המסומן).



- (8) הנגזרת של הפונקציה $f(x)$, המתוארת באיור שלהלן, היא $f'(x) = 3 - 2x$. ישר AB , שמשוואתו $y = 6$ חותך את גרף הפונקציה $f(x)$ בנקודות A ו- B . מנקודות אלו מורידים אנכים לציר ה- x , כך שנוצר מלבן $ABCD$. ידוע ששיעור ה- x של הנקודה A הוא $x = 4$.
 א. מצאו את הפונקציה $f(x)$.
 ב. חשבו את השטח הכלוא בין גרף הפונקציה, המלבן וציר ה- x (השטח המסומן).



- (9) באיור שלהלן חותך גרף הפונקציה $f(x) = x^2$ את גרף הפונקציה $g(x)$, בנקודה שבה $x = 2$. הנגזרת של הפונקציה $g(x)$ היא $g'(x) = 2x - 8$.
 א. מצאו את הפונקציה $g(x)$.
 ב. חשבו את השטח הכלוא בין שני הגרפים וציר ה- x (השטח המסומן).



10 באיור שלהלן מתוארים גרף הפונקציה $f(x)$ והישר $y = 2x$.

נגזרת הפונקציה $f(x)$ היא $f'(x) = 2x - 6$,

וידוע כי הישר חותך את הפונקציה

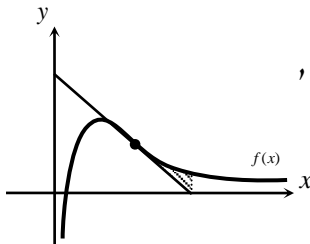
בנקודה שבה ערך ה- y הוא $y = 16$.

א. מצאו את הפונקציה $f(x)$.

ב. האם יש לגרף הפונקציה ולישר עוד נקודות חיתוך? אם כן, מצאו אותן.

ג. חשבו את השטח המוגבל בין גרף הפונקציה והישר.

11 ענו על הסעיפים הבאים:



א. מבין כל המשיקים לגרף הפונקציה $f(x) = \frac{2}{x^2} - \frac{1}{x^3}$,

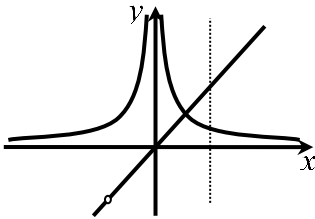
מצאו את משוואת המשיק ששיפועו מינימלי.

ב. באיור שלהלן מתוארים הגרפים של הפונקציה

והמשיק שמצאת בסעיף א'.

חשבו את השטח הכלוא בין גרף הפונקציה, המשיק, ואנך לציר ה- x ,

היוצא מנקודת החיתוך של המשיק עם ציר ה- x .

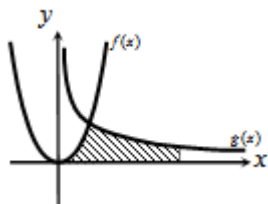


12 נתונות שתי פונקציות $f(x) = \frac{1}{x^2}$, $g(x) = \frac{x^2 + 2x}{x + 2}$.

חשבו את גודל השטח הכלוא בין הפונקציות,

הישר $x = 2$ וציר ה- x .

13 באיור שלהלן מתוארים הגרפים של הפונקציות



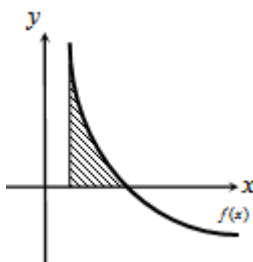
$f(x) = 2x^2$ ו- $g(x) = \frac{a}{x^2}$ (קבוע, $a > 0$), בתחום $x > 0$.

ידוע כי הגרפים נחתכים ברביע הראשון,

בנקודה הנמצאת על הישר $y = 4x$.

א. מצאו את נקודת החיתוך של הגרפים ואת a .

ב. חשבו את השטח המוגבל בין שני הגרפים, ציר ה- x והישר $x = 4$.



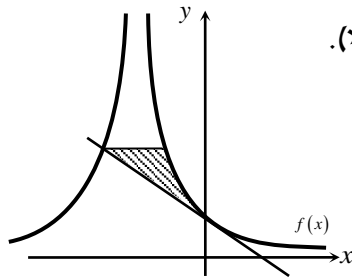
14 גרף הפונקציה $f(x) = \frac{a - x^2}{x^2}$ (קבוע a)

חותך את ציר ה- x בנקודה $(6, 0)$.

א. מצאו את a וכתבו את הפונקציה.

ב. חשבו את השטח המוגבל בין גרף הפונקציה,

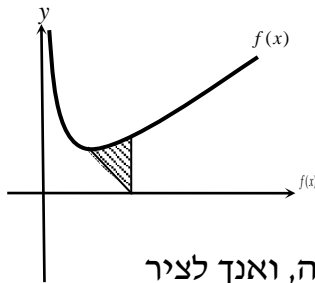
ציר ה- x והישר $x = 2$.



15 נתונה הפונקציה $f(x) = \frac{A}{(2x+A)^2}$ (פרמטר חיובי).

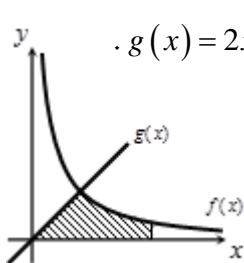
ידוע כי שיפוע הפונקציה בנקודת החיתוך שלה עם ציר ה- y , הוא $-\frac{1}{9}$.

- א. מצאו את ערך הפרמטר A .
- ב. כתבו את משוואת המשיק לגרף הפונקציה בנקודת החיתוך עם ציר ה- y .
- ג. הראו כי המשיק חותך את גרף הפונקציה בנקודה שבה $x = -4.5$.
- ד. העבירו ישר אופקי מנקודת החיתוך של המשיק וגרף הפונקציה מהסעיף הקודם, ומצאו את נקודת החיתוך הנוספת של ישר זה עם גרף הפונקציה.
- ה. חשבו את השטח כלוא בין המשיק, הישר וגרף הפונקציה (היעזרו באיור).



16 באיור שלהלן נתונה הפונקציה $f(x) = \frac{1}{\sqrt{2x}} + x$.

- א. מצאו את נקודת המינימום שלה.
- ב. מנקודת המינימום של הפונקציה נעביר ישר לנקודה $(2,0)$, שעל ציר ה- x .
- מצאו את השטח הכלוא בין ישר זה, גרף הפונקציה, ואנך לציר ה- x , היוצא מהנקודה $(2,0)$ עד לנקודת החיתוך עם גרף הפונקציה.

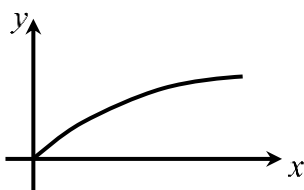


17 באיור הבא מתוארים גרפים של הפונקציות $f(x) = \frac{16}{\sqrt{x}}$ ו- $g(x) = 2x - 1$.

- א. מצאו את נקודת החיתוך של הגרפים.
- ב. חשבו את השטח המוגבל בין שני הגרפים, ציר ה- x והישר $x = 9$.

18 נתונה הפונקציה $f(x) = (x-6)\sqrt{x}$.

חשבו את גודל השטח הכלוא בין הפונקציה, המשיק לפונקציה בנקודת המינימום שלה וציר ה- y .



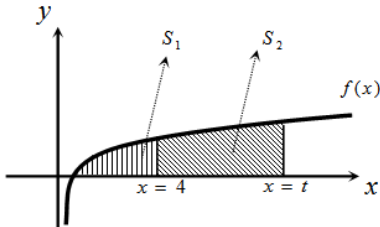
19 נתונה הפונקציה $f(x) = \frac{x}{\sqrt{x^2+1}}$ ברביע הראשון.

לפונקציה העבירו משיק העובר בראשית הצירים, חשבו את גודל השטח הכלוא בין הפונקציה, המשיק והישר $x = \sqrt{3}$.

(20) באיור שלהלן מתואר גרף הפונקציה $f(x) = 1 - \frac{1}{\sqrt{x}}$.

נעביר שני אנכים לציר ה- x , $x = 4$ ו- $x = t$ (כאשר $t > 4$).
 נסמן את השטח הכלוא בין גרף הפונקציה וציר ה- x ב- S_1 ,
 ואת השטח הכלוא בין גרף הפונקציה, ציר ה- x והאנכים ב- S_2 .

ידוע כי $8S_1 = S_2$.
 מצאו את t .



(21) נתונה הפונקציה $f(x) = \frac{x\sqrt{x} - 8}{\sqrt{x}}$.

א. ענו על הסעיפים הבאים:

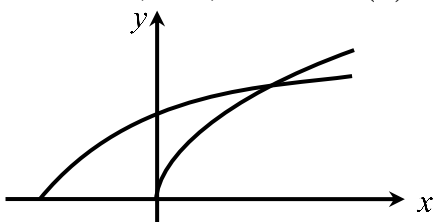
1. מצאו את תחום ההגדרה של הפונקציה.
2. מצאו את נקודת החיתוך של הפונקציה עם ציר ה- x .
3. הראו כי הפונקציה עולה בכל תחום הגדרתה.

ב. נעביר משיק לגרף הפונקציה ששיפועו הוא $m = \frac{17}{16}$.

מצאו את נקודת ההשקה.

- ג. חשבו את השטח הכלוא בין גרף הפונקציה, ציר ה- x ואנך לציר ה- x מנקודת ההשקה שמצאת בסעיף הקודם.

(22) נתונות שתי פונקציות $f(x) = \sqrt{x+b}$, $g(x) = \sqrt{2x}$, כאשר $(b > 0)$.



גודל השטח הכלוא בין הפונקציות

וציר ה- x הוא $2\frac{2}{3}$ יחידות שטח.

מצאו את ערכו של הפרמטר b .

(23) באיור שלהלן מתוארים גרפים של הפונקציות $f(x) = x^2$ ו- $g(x) = \frac{32}{\sqrt{x}}$.

ברביע הראשון.

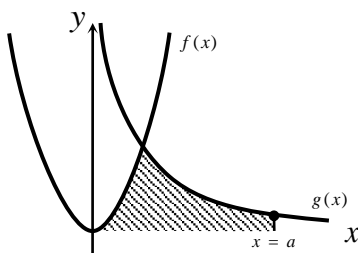
נעביר ישר $x = a$, החותך את גרף הפונקציה $g(x)$

ויוצר את השטח הכלוא בין שני הגרפים,

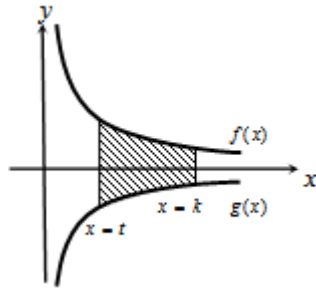
ציר ה- x והישר (השטח המסומן).

ידוע כי שטח זה שווה ל- $85\frac{1}{3}$.

מצאו את a .



24) באיור שלהלן מתוארים הגרפים של הפונקציות $f(x) = \frac{3}{\sqrt{x}}$ ו- $g(x) = -\frac{3}{\sqrt{x}}$.



נעביר שני ישרים $x=k$ ו- $x=t$, אשר חותכים את הגרפים של הפונקציות ויוצרים את הקטעים AB ו-CD.

ידוע כי $AB = 2CD$.

א. הראו כי $k = 4t$.

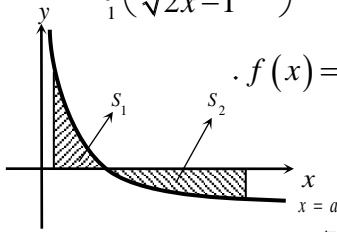
ב. השטח הכלוא בין הפונקציות

לבין הישרים $x=k$ ו- $x=t$, הוא $S = 12$.

מצאו את t .

25) ענו על הסעיפים הבאים:

א. מצאו עבור איזה ערך של a , $(a > 1)$ יתקיים $\int_1^a \left(\frac{3}{\sqrt{2x-1}} - 1 \right) dx = 0$.



ב. באיור שלהלן מתואר גרף הפונקציה $f(x) = \frac{3}{\sqrt{2x-1}} - 1$.

נעביר שני אנכים לציר ה- x , $x=1$ ו- $x=13$,

כך שנוצרים השטחים S_1 ו- S_2 .

מצאו את נקודת החיתוך של הפונקציה עם ציר ה- x .

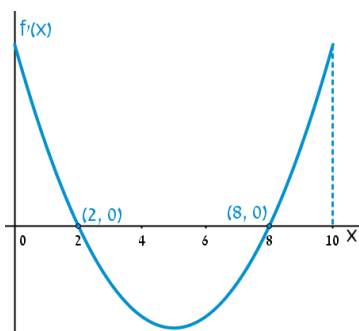
ג. ענו על תתי-הסעיפים הבאים:

1. חשבו את השטח הכלוא בין גרף הפונקציה,

ציר ה- x והאנך $x=1$, כלומר את S_1 .

2. היעזרו בתוצאה שהתקבלה ובסעיף א' וקבעו לכמה שווה השטח S_2 .

נמקו.



26) הפונקציה $f(x)$ מוגדרת בתחום $0 \leq x \leq 10$.

בציור מתואר גרף הנגזרת $f'(x)$.

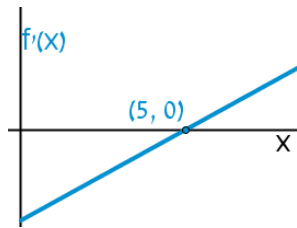
א. שרטטו סקיצה של גרף הפונקציה $f(x)$,

אם $f(2) = 6$, $f(0) = -4$, $f(5) = 0$,

וכן $f(10) > 0$.

ב. חשבו את השטח המוגבל ע"י גרף הנגזרת והצירים

ברביע הראשון, עד לנקודה שבה $x=2$.



(27) להלן גרף הפונקציה $f'(x)$, אשר חותך את

ציר ה- x בנקודה אחת בלבד, $(5, 0)$.

א. מצאו את התחומים שבהם $f'(x)$ חיובית,

ואת התחומים שבהם היא שלילית.

ב. קבעו מהם תחומי העלייה והירידה של הפונקציה $f(x)$.

ג. כתבו את נקודת הקיצון של הפונקציה $f(x)$, אם ידוע כי שיעור ה- y

שלה הוא $y = -2$.

ד. שרטטו סקיצה של גרף הפונקציה $f(x)$, אם ידוע כי גרף הפונקציה

חותך את ציר ה- y כאשר $y = 8$.

ה. חשבו את השטח הכלוא בין גרף הנגזרת $f'(x)$ והצירים.

(28) באיור שלהלן מתוארת הנגזרת $f'(x)$.

א. האם לפונקציה $f(x)$ יש נקודות קיצון? נמקו.

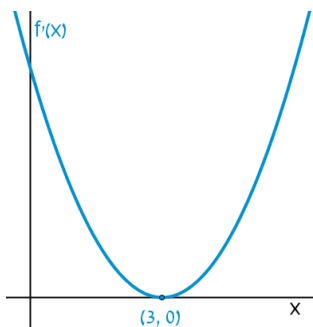
ב. שרטטו סקיצה של גרף הפונקציה $f(x)$,

אם ידוע כי $f(3) = 4$, וכי היא חותכת את

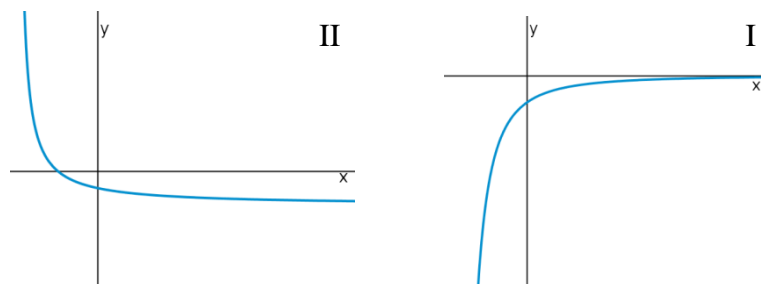
ציר ה- y בנקודה שבה $y = -5$.

ג. חשבו את השטח הכלוא בין גרף הנגזרת $f'(x)$

והצירים ברביע הראשון.



(29) באיורים שלהלן מתוארים גרפים של הפונקציות $f(x)$ ו- $f'(x)$:

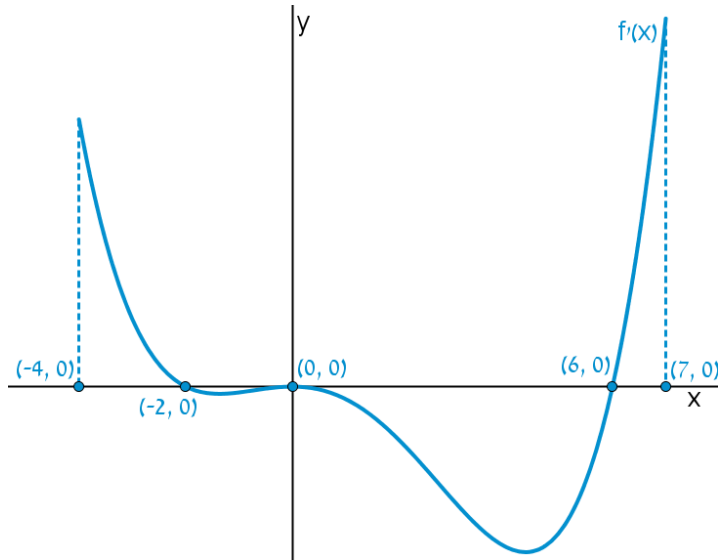


א. זהו איזה גרף שייך לאיזו פונקציה ונמקו.

ב. נתון $f(10) = -3$, וכי $f(x)$ חותכת את ציר ה- y בנקודה שבה $y = -2$.

מהו השטח המוגבל בין גרף הנגזרת $f'(x)$, הצירים והישר $x = 10$?

30 נתון גרף הנגזרת $f'(x)$:

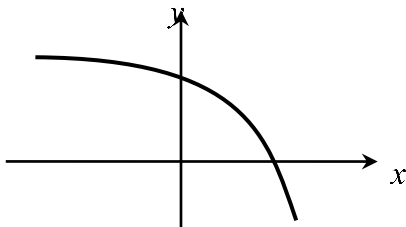


- א. שרטטו את גרף הפונקציה $f(x)$ בתחום $-4 \leq x \leq 7$,
 לפי הנתונים $f(0) = -2$, $f(-2) = 7.6$ ו- $f(6) = -606.8$.
- ב. חשבו את השטח המוגבל בין גרף הנגזרת וציר ה- x ברביע השלישי.
- ג. חשבו את השטח המוגבל בין גרף הנגזרת וציר ה- x ברביע הרביעי.

פונקציות מעריכיות

אינטגרלים מייזים של פונקציות מעריכיות

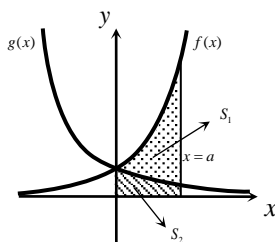
אינטגרלים יסודיים	אינטגרלים של פונקציות מורכבות
$\int a^x dx = \frac{a^x}{\ln a} + c$	$\int a^{mx+n} dx = \frac{a^{mx+n}}{m \cdot \ln a} + c$
$\int e^x dx = e^x + c$	$\int e^{mx+n} dx = \frac{e^{mx+n}}{m} + c$



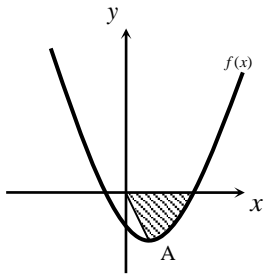
- (31)** נתונה הפונקציה $f(x) = 5 - e^x$.
 העבירו לפונקציה משיק ששיפועו $-e$.
 חשבו את גודל השטח הכלוא בין הפונקציה, המשיק וציר ה- x .
 ניתן להשאיר e ו- \ln בתשובה.

- (32)** נתונה הפונקציה $f(x) = e^{bx}$, כאשר $b > 0$.
 גודל השטח הכלוא בין הפונקציה, המשיק לפונקציה העובר בראשית הצירים וציר ה- y הוא $\frac{e-2}{4}$.
 מצאו את ערכו של הפרמטר b .

- (33)** נתונות הפונקציות $f(x) = e^{-x}$ ו- $g(x) = e^{\frac{1}{2}x}$.
 מנקודה הנמצאת על גרף הפונקציה $g(x)$ ברביע הראשון הורידו אנך לשני הצירים. המשך האנך לציר ה- y חותך את הפונקציה $f(x)$, ומנקודת החיתוך יורד אנך נוסף לציר ה- x , כך שנוצר מלבן. הוכיחו כי שטחו המקסימלי של מלבן כזה הוא $\frac{3}{e}$.

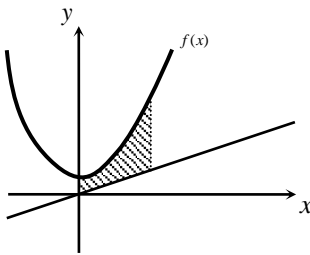


- (34)** באיור שלהלן מתוארים גרפים של הפונקציות $f(x) = e^{2x}$ ו- $g(x) = e^{-2x}$.
 נעביר אנך לציר ה- x את הישר $x = a$, כאשר $a > 0$, כמתואר באיור.
 אנך זה יוצר את השטחים S_1 ו- S_2 .
 ידוע כי השטח S_1 גדול פי 3 מהשטח S_2 .
 מצאו את a .



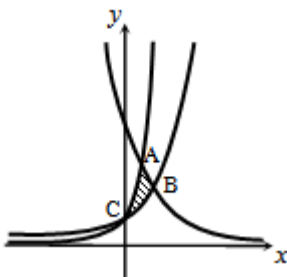
35 נתונה הפונקציה $f(x) = e^{2x-1} - 2ex - 2$.

- הנקודה A היא נקודת המינימום של הפונקציה.
 א. מצאו את שיעורי הנקודה A.
 מחברים את הנקודה A עם ראשית הצירים.
 ב. כתבו את משוואת הישר המחבר את הנקודה A עם הראשית.
 ג. חשבו את השטח הכלוא בין גרף הפונקציה, הישר וציר ה-x, אם ידוע כי גרף הפונקציה חותך את ציר ה-x בנקודה שבה $x = 1.7$.



36 נתונה הפונקציה $f(x) = \frac{e^x + e^{ax}}{4}$.

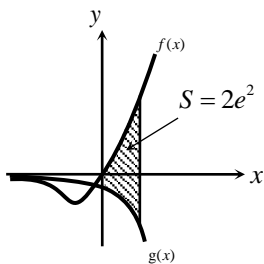
- ידוע כי הפונקציה עוברת דרך הנקודה $(1, \frac{e^3 + 1}{4e^2})$.
 א. מצאו את a וכתבו את הפונקציה.
 ב. באיור שלהלן מתואר גרף הפונקציה $f(x)$, והישר $y = 0.1x$.
 חשבו את השטח המוגבל בין גרף הפונקציה, הישר, ציר ה-y והאנך $x = 2$.



37 באיור שלהלן מתוארים גרפים של שלוש פונקציות:

$$1. f(x) = 2^x \quad 2. g(x) = 4^x \quad 3. h(x) = 2^{4-2x}$$

- א. קבעו איזה גרף מתאר כל פונקציה.
 ב. מצאו את שיעורי הנקודות A, B ו-C (נקודות החיתוך בין הגרפים).
 ג. חשבו את השטח המסומן באיור.



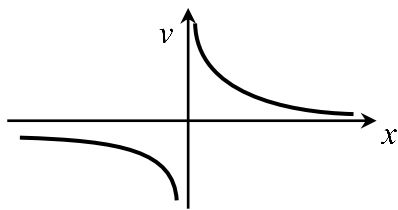
38 ענו על הסעיפים הבאים:

- א. גזרו את הפונקציה $y = e^x(x-1)$.
 ב. באיור שלהלן מתוארים גרפים של הפונקציות $f(x) = xe^x - 1$ ו- $g(x) = -e^x$.
 נעביר ישר $x = a$, כאשר $a > 0$, החותך את הגרפים של שתי הפונקציות ויוצר את השטח הכלוא בין הגרפים של שניהם, ציר ה-y והישר (מקווקו).
 ידוע כי שטח זה שווה ל- $2e^2$.
 מצאו את a.

פונקציות לוגריתמיות

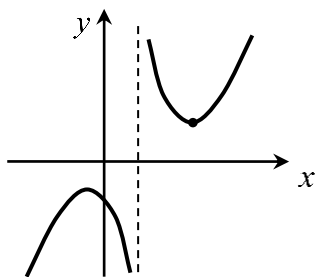
אינטגרלים מייזים של פונקציות לוגריתמיות

אינטגרל יסודי	אינטגרל של פונקציה מורכבת
$\int \frac{1}{x} dx = \ln x + c$	$\int \frac{1}{ax+b} dx = \frac{1}{a} \ln ax+b + c$



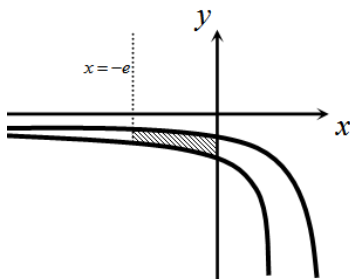
(39) נתונה הפונקציה $f(x) = \frac{1}{x}$.

חשבו את גודל השטח הכלוא בין הפונקציה, הישרים $x = -1$ ו- $x = -4$ וציר ה- x . ניתן להשאיר \ln בתשובה.



(40) נתונה הפונקציה $f(x) = \frac{x^2 + 3}{x - 1}$.

חשבו את גודל השטח הכלוא בין גרף הפונקציה, המשיק לפונקציה בנקודה שבה $x = 2$, ואנך לציר ה- x העובר בנקודת המינימום שלה. אפשר להשאיר ביטוי עם \ln בתשובה.

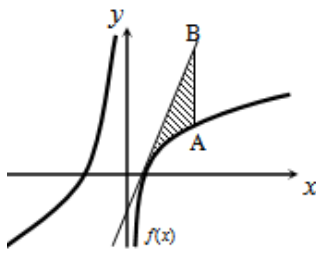


(41) באיור שלהלן נתונות הפונקציות $f(x) = \frac{a}{x-1}$

$$\text{ו-} g(x) = \frac{a-1}{x-2}, \text{ בתחום } x < 0.$$

ידוע כי הגרפים של הפונקציות נחתכים בנקודה שבה $x = 3$.

- מצאו את a וכתבו את שתי הפונקציות.
- חשבו את השטח המוגבל ע"י הגרפים של שתי הפונקציות, ציר ה- y והישר $x = -e$.

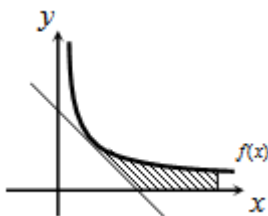


(42) נתונה הפונקציה $f(x) = 7 + ax + \frac{b}{x}$.

ידוע כי משוואת המשיק לגרף הפונקציה בנקודת החיתוך שלה עם ציר ה- x היא $y = 18x - 9$.
 א. מצאו את a ו- b וכתבו את הפונקציה.

נעביר ישר המקביל לציר ה- y , שחותך את גרף הפונקציה בנקודה A, ואת משוואת המשיק בנקודה B. אורך הקטע AB הוא 18.

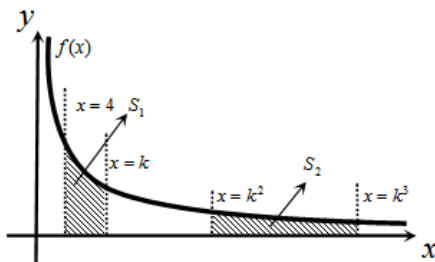
- ב. מצאו את משוואת הישר הנ"ל, אם ידוע כי הנקודה A נמצאת מימין לנקודת החיתוך של גרף הפונקציה עם ציר ה- x .
 ג. חשבו את השטח המוגבל בין גרף הפונקציה, המשיק והישר.



(43) נגזרת הפונקציה $f(x)$ היא $f'(x) = -\frac{4}{x^2}$.

משוואת המשיק לגרף הפונקציה בנקודה שבה $x = 2$ היא $y = 4 - x$.
 א. מצאו את $f(x)$.

- ב. באיור שלהלן מתוארים גרף הפונקציה $f(x)$ ומשיק, בתחום $x > 0$.
 חשבו את השטח המוגבל בין גרף הפונקציה, המשיק, ציר ה- x והישר $x = e^2$.



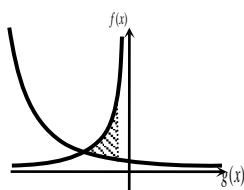
(44) באיור שלהלן נתונה הפונקציה

$$f(x) = \frac{2}{x}, \quad x > 0$$

נעביר את הישרים $x = k$, $x = k^2$, $x = k^3$ ו- $x = 4$ (כמתואר באיור $x > 4$).

א. הביעו באמצעות k את השטחים S_1 ו- S_2 .

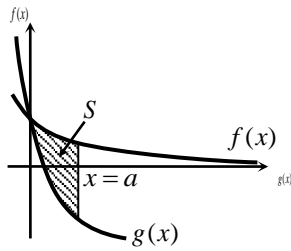
- ב. הראו כי ההפרש $S_2 - S_1$ אינו תלוי ב- k , וחשבו את ערכו.
 ג. נתון כי השטח S_2 גדול פי 3 מהשטח S_1 . מצאו את k .



(45) נתונות הפונקציות $f(x) = -\frac{4}{x}$ ו- $g(x) = \frac{k}{2x+5}$.

גרף $g(x)$ חותך את ציר ה- y בנקודה שבה $y = 0.4$.
 א. מצאו את הפונקציה $g(x)$.

- ב. מצאו את נקודת החיתוך של שני הגרפים.
 ג. חשבו את השטח המוגבל ע"י שני הגרפים והישר $x = -1$.



46 באיור שלהלן מתוארים גרפים של הפונקציות
 $f(x) = \ln(e^{-x} + 1)$ ו- $g(x) = \ln(e^{-2x} + e^{-3x})$
 בתחום $x \geq 0$.

א. הראו כי הגרפים נחתכים על ציר ה- y .

ב. נעביר ישר $x = a$ ($a > 1$), המאונך

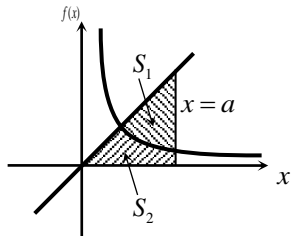
לציר ה- x , חותך את הגרפים של שתי

הפונקציות ויוצר את השטח S (ראה איור).

מצאו את ערכו של a , עבורו מתקיים $S = 4$.

47 באיור שלהלן מתוארים גרפים של הפונקציה $f(x) = \frac{2}{3x-1}$ והישר $y = x$.

א. מצאו את נקודת החיתוך של הפונקציה והישר, ברביע הראשון.



נעביר אנך לציר ה- x , $x = a$, הנמצאו מימין

לנקודת החיתוך שמצאת בסעיף הקודם.

האנך חותך את הגרפים ויוצר את השטחים

S_1 ו- S_2 , המתוארים באיור.

ב. מצאו את הערך של a , עבורו השטח S_2

$$\text{יהיה שווה ל-} \frac{1}{2} + \frac{2}{3} \ln 7.$$

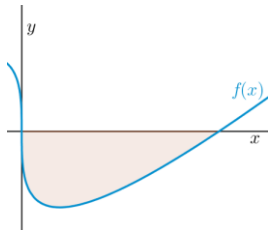
ג. עבור ערך ה- a שנמצא בסעיף הקודם, חשבו את יחס השטחים $\frac{S_1}{S_2}$.

פונקציית חזקה עם מעריך רציונאלי

אינטגרלים מייזים של פונקציית חזקה עם מעריך רציונאלי

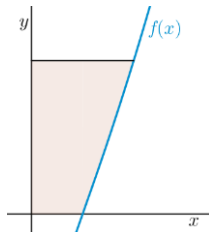
אינטגרל יסודי	אינטגרל של פונקציה מורכבת
$\int \sqrt[n]{x^m} dx = \int x^{\frac{m}{n}} dx = \frac{x^{\frac{m}{n}+1}}{\frac{m}{n}+1} + c$	$\int \sqrt[n]{(ax+b)^m} dx = \int (ax+b)^{\frac{m}{n}} dx = \frac{(ax+b)^{\frac{m}{n}+1}}{a \cdot \left(\frac{m}{n}+1\right)} + c$

תנאי לקיום האינטגרציה $\frac{m}{n} \neq -1$.



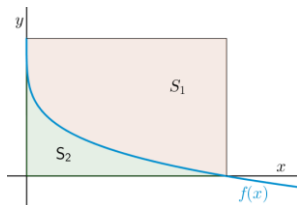
(48) באיור שלהלן מופיע גרף הפונקציה $f(x) = x - 4\sqrt[3]{x}$.

- א. מצאו את נקודות החיתוך של הפונקציה עם ציר ה- x .
 ב. חשבו את השטח הנוצר בין גרף הפונקציה והצירים.



(49) באיור שלהלן מופיע גרף הפונקציה $f(x) = \frac{x^2 - 4}{\sqrt{x}}$.

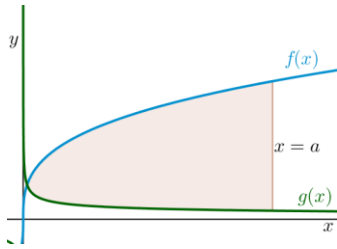
- א. מהו תחום ההגדרה של הפונקציה?
 ב. מצאו את נקודת החיתוך של הפונקציה עם ציר ה- x .
 ג. נעביר אנך לציר ה- y מהנקודה $(4, 6)$.
 חשבו את השטח הנוצר בין גרף הפונקציה, האנך והצירים, ברביע הראשון.



(50) באיור שלהלן מתואר גרף הפונקציה $f(x) = 2 - \sqrt[4]{x}$.

- נעביר אנכים לצירים מנקודות החיתוך של גרף הפונקציה עם הצירים, כך שנוצר מלבן, ונסמן את השטח שבין גרף הפונקציה והצירים ב- S_1 , ואת השטח שבין גרף הפונקציה והאנכים ב- S_2 .

מצאו את היחס $\frac{S_1}{S_2}$.



51 באיור שלהלן מתוארים גרפים של הפונקציות

$$f(x) = 4\sqrt[3]{x} \quad \text{ו-} \quad g(x) = \frac{1}{\sqrt[3]{x}}$$

א. מצאו את נקודת החיתוך של הגרפים

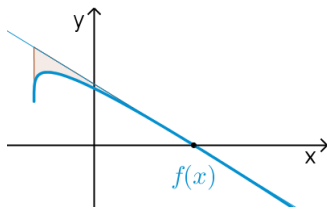
בתחום $x > 0$.

ב. נעביר אנך לציר ה- x , $x = a$ (פרמטר).

ידוע כי השטח שנוצר בין שני הגרפים, מנקודת החיתוך שלהם ועד לאנך,

הוא $\frac{3}{16} \cdot 42$ יח"ש.

מצאו את a .



52 נתונה הפונקציה $f(x) = \sqrt[4]{5x+6} - ax$, פרמטר a .

ידוע כי גרף הפונקציה חותך את ציר ה- x בנקודה

שבה $x = 2$.

א. מצאו את הפרמטר a וכתבו את הפונקציה.

ב. מהו תחום ההגדרה של הפונקציה?

ג. מצאו את נקודת קיצון בקצה של הפונקציה.

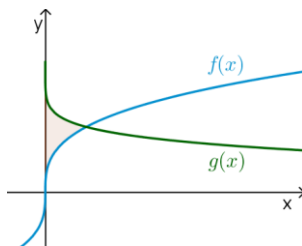
ד. מצאו את משוואת המשיק לגרף הפונקציה, העובר דרך נקודת החיתוך שלה עם ציר ה- x .

ה. באיור שלהלן מתואר גרף הפונקציה $f(x)$ והמשיק שמצאנו בסעיף

הקודם. נוריד אנך מהמשיק אל נקודת הקיצון בקצה של הפונקציה

שמצאנו בסעיף ג'.

חשבו את השטח הנוצר בין גרף הפונקציה $f(x)$ והמשיק.



53 באיור שלהלן נתונים גרפים של הפונקציות

$$f(x) = \sqrt[3]{x} - 1 \quad \text{ו-} \quad g(x) = 2 - \sqrt{x}$$

א. מצאו את נקודת החיתוך של הגרפים.

ב. חשבו את השטח הכלוא בין שני הגרפים

וציר ה- y .

54 הנגזרת של $f(x)$ היא $f'(x) = -\frac{1}{\sqrt[5]{(6-5x)^4}}$

ידוע כי הפונקציה חותכת את ציר ה- x

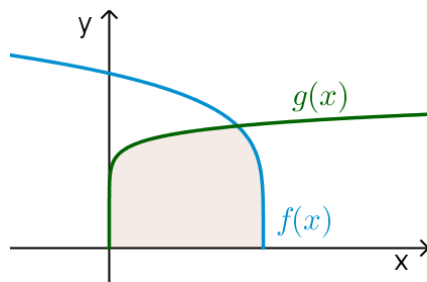
בנקודה שבה $x = 1.2$.

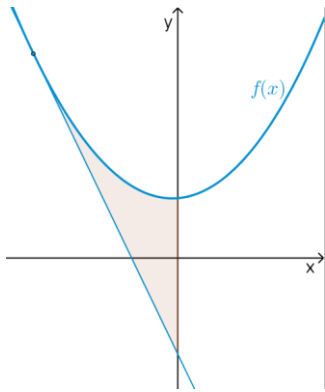
א. מצאו את $f(x)$.

ב. חשבו את השטח הכלוא בין גרף

הפונקציה $f(x)$, גרף הפונקציה

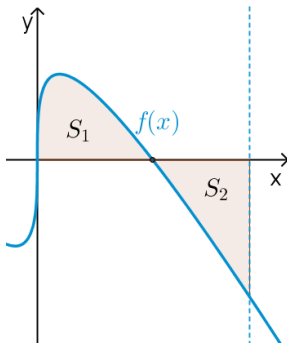
$g(x) = \sqrt[10]{x}$ וציר ה- x .





55) נתונה הפונקציה $f(x) = \frac{3}{\sqrt[3]{5-x}} + \frac{1}{2}x^2$.

- א. מצאו את משוואת המשיק לגרף הפונקציה בנקודה שבה $x = -3$.
- ב. חשבו את השטח הכלוא בין גרף הפונקציה $f(x)$, המשיק וציר ה- y .



56) נתונה הפונקציה $f(x) = \sqrt[3]{x} - 4x$.

- א. מהו תחום ההגדרה של הפונקציה?
- ב. מצאו את נקודות החיתוך של הפונקציה עם ציר ה- x .
- ג. באיור שלהלן מתואר גרף הפונקציה ברביע הראשון. השטח הכלוא בין גרף הפונקציה וציר ה- x יסומן ב- S_1 . נעביר ישר $x = k$, אשר יוצר את השטח S_2 , כמתואר באיור. מצאו את k , אם ידוע כי $S_1 = S_2$.

תשובות סופיות

- (1) $57\frac{1}{6}$ יח"ש.
- (2) $21\frac{1}{3}$ יח"ש.
- (3) א. $f(x) = I$, $g(x) = II$ ב. שאלת הוכחה.
- (4) $\frac{2}{3}$ יח"ש.
- (5) א. $y = -x$ ב. $(-3, 3)$ ג. $7\frac{5}{6}$ יח"ש.
- (6) א. $y = -4x + 4$ ב. $(1, 0)$ ג. $\frac{2}{3}$ יח"ש.
- (7) א. $k = 10$ ב. $(1, 9)$ ג. $81\frac{1}{3}$ יח"ש.
- (8) א. $f(x) = -x^2 + 3x + 10$ ב. $27\frac{1}{6}$ יח"ש.
- (9) א. $g(x) = (x-4)^2$ ב. $5\frac{1}{3}$ יח"ש.
- (10) א. $f(x) = x^2 - 6x$ ב. $(0, 0)$ ג. $85\frac{1}{3}$ יח"ש.
- (11) א. $y = -x + 2$ ב. $\frac{1}{8}$ יח"ש.
- (12) 1 יח"ש.
- (13) א. $a = 32$, $(2, 8)$ ב. $13\frac{1}{3}$ יח"ש.
- (14) א. $a = 36$, $f(x) = \frac{36-x^2}{x^2}$ ב. 8 יח"ש.
- (15) א. $A = 6$ ב. $y = -\frac{1}{9}x + \frac{1}{6}$ ג. הוכחה. ד. $(-1.5, \frac{2}{3})$ ה. $\frac{5}{8}$ יח"ש.
- (16) א. $\min(0.5, 1.5)$ ב. 1.75 יח"ש.
- (17) א. $(4, 8)$ ב. 48 יח"ש.
- (18) 2.26 יח"ש.
- (19) 0.5 יח"ש.
- (20) $t = 16$
- (21) א. i. $x > 0$ ii. $(4, 0)$ iii. $f'(x) = 1 + \frac{4}{x\sqrt{x}} > 0$ ב. $(16, 14)$ ג. 88 יח"ש.
- (22) $b = 2$
- (23) $a = 9$

- (24) א. שאלת הוכחה. ב. $t=1$.
- (25) א. $a=13$. ב. $(5,0)$. ג. i. $S_1=2$. ii. $S_2=|-S_1|=2$.
- (26) ב. 10 יח"ש.
- (27) א. חיובית: $x>5$, שלילית: $x<5$. ב. עולה: $x>5$, יורדת: $x<5$. ג. $\min(5,-2)$. ד. שאלת הוכחה. ה. 10 יח"ש.
- (28) א. לא. הנקודה $(3,0)$ היא פיתול, מכיוון שהפונקציה עולה לפנייה ואחריה. ב. שאלת הוכחה. ג. 9 יח"ש.
- (29) א. $f(x): \mathbb{R}, f'(x): \mathbb{I}$. ב. 1 יח"ש.
- (30) א. שאלת הוכחה. ב. 9.6 יח"ש. ג. 604.8 יח"ש.
- (31) $S=0.192$ יח"ש.
- (32) $b=2$.
- (33) שאלת הוכחה.
- (34) $a=\ln 2$.
- (35) א. $A(1,-e-2)$. ב. $y=-(e+2)x$. ג. $S=4.744$ יח"ש.
- (36) א. $f(x)=\frac{e^x+e^{-2x}}{4}, a=-2$. ב. 1.52.
- (37) א. $A(1,4), B\left(1\frac{1}{3}, 2.52\right), C(0,1)$. ב. $S=1.03$ יח"ש.
- (38) א. $y'=xe^x$. ב. $a=2$.
- (39) $S=\ln 4$ יח"ש.
- (40) $S=4\ln 2-2$ יח"ש.
- (41) א. $f(x)=\frac{2}{x-1}, g(x)=\frac{1}{x-2}, a=2$. ב. $S=1.76$ יח"ש.
- (42) א. $f(x)=7+2x-\frac{4}{x}, a=2, b=-4$. ב. $x=2$. ג. $S=6+\ln 256 \approx 11.54$ יח"ש.
- (43) א. $f(x)=\frac{4}{x}$. ב. $S=6-4\ln 2$ יח"ש.
- (44) א. $S_1=2\ln k - \ln 16, S_2=2\ln k$. ב. $S_2-S_1=\ln 16$. ג. $k=8$.
- (45) א. $g(x)=\frac{2}{2x+5}$. ב. $(-2,2)$. ג. $S=\ln 5\frac{1}{3} \approx 1.674$ יח"ש.
- (46) ב. $a=2$.
- (47) א. $(1,1)$. ב. $a=5$. ג. $\frac{S_1}{S_2}=5.955$.
- (48) א. $(0,0), (8,0)$. ב. $S=16$ יח"ש.
- (49) א. $x>0$. ב. $(2,0)$. ג. $S=18.149$ יח"ש.

$$\frac{S_1}{S_2} = 4 \quad (50)$$

$$a = 8 \quad \text{ב.} \quad \left(\frac{1}{8}, 2\right) \quad \text{א.} \quad (51)$$

$$(-1.2, 1.2) \quad \text{ג.} \quad x \geq -1.2 \quad \text{ב.} \quad f(x) = \sqrt[4]{5x+6} - x, \quad a = 1 \quad \text{א.} \quad (52)$$

$$S = 4.56 \quad \text{ה.} \quad \text{יח"ש.} \quad y = -\frac{27}{32}x + \frac{27}{16} \quad \text{ד.} \quad (53)$$

$$S = \frac{11}{28} \quad \text{ב.} \quad \text{יח"ש.} \quad (1, 1) \quad \text{א.} \quad (54)$$

$$S = 1\frac{5}{66} \quad \text{ב.} \quad \text{יח"ש.} \quad f(x) = (6-5x)^{\frac{1}{5}} \quad \text{א.} \quad (55)$$

$$S = 4.56 \quad \text{ב.} \quad \text{יח"ש.} \quad y = -2\frac{15}{16}x - \frac{45}{16} \quad \text{א.} \quad (56)$$

$$k = \left(\frac{3}{8}\right)^{1.5} = 0.2296\dots \quad \text{ג.} \quad (0, 0), \left(\frac{1}{8}, 0\right), \left(-\frac{1}{8}, 0\right) \quad \text{ב.} \quad \text{א.} \quad \text{כל } x \quad (57)$$

חישוב שטחים ביחס לציר ה-y

שאלות

(1) חשבו את השטח הכלוא בין הפרבולה $y^2 = -x$ והישר $y = x + 6$.

(2) חשבו את השטח הכלוא בין הפרבולה $x = y^2 + 2$ והישר $y = x - 8$.

תשובות סופיות

(1) $20\frac{5}{6}$

(2) $20\frac{5}{6}$

אורך קשת

שאלות

חשבו את אורך העקום הנתון:

$$(1 \leq x \leq 8), y = x^{2/3} \quad \text{(2)}$$

$$(1 \leq x \leq 2), y = \frac{x^4}{8} + \frac{1}{4x^2} \quad \text{(1)}$$

$$(0 \leq x \leq 3), y = \frac{2}{3}(1+x^2)^{3/2} \quad \text{(4)}$$

$$(1 \leq x \leq 2), y = \frac{x^5}{15} + \frac{1}{4x^3} \quad \text{(3)}$$

$$(1 \leq x \leq 8), x^{2/3} + y^{2/3} = 4 \quad \text{(6)}$$

$$(0 \leq x \leq 3), y = \frac{1}{3}\sqrt{x}(3-x) \quad \text{(5)}$$

$$(1 \leq x \leq 2), y = \ln x \quad \text{(8)}$$

$$(0 \leq y \leq 4), x = 3y^{3/2} - 1 \quad \text{(7)}$$

$$(1 \leq x \leq 2), y = x^2 \quad \text{(9)}$$

תשובות סופיות

$$\frac{33}{16} \quad \text{(1)}$$

$$\frac{1}{9} \left\{ \frac{40^{1.5}}{3} - \frac{13^{1.5}}{3} \right\} \quad \text{(2)}$$

$$\frac{1097}{480} \quad \text{(3)}$$

$$21 \quad \text{(4)}$$

$$\frac{1}{2} \left\{ 2\sqrt{3} + \frac{2}{3}3^{1.5} \right\} \quad \text{(5)}$$

$$9 \quad \text{(6)}$$

$$\frac{8}{243} \{82^{1.5} - 1\} \quad \text{(7)}$$

$$\left\{ \sqrt{5} + \frac{1}{2} \ln \left| \frac{\sqrt{5}-1}{\sqrt{5}+1} \right| \right\} - \left\{ \sqrt{2} + \frac{1}{2} \ln \left| \frac{\sqrt{2}-1}{\sqrt{2}+1} \right| \right\} \quad \text{(8)}$$

$$\sqrt{17} - \frac{\sqrt{5}}{2} + \frac{1}{4} \ln(\sqrt{17}+4) - \frac{1}{4} \ln(\sqrt{5}+2) \quad (\text{Decimal: } 3.16784) \quad \text{(9)}$$

חשבון אינפיניטימלי 2

פרק 5 - קווים ותחומים במישור, משטחים וגופים במרחב

תוכן העניינים

59	1. קווים ותחומים במישור
63	2. קווים ותחומים במישור בהצגה פרמטרית
69	3. קווים ותחומים במישור בהצגה קוטבית (פולרית)
74	4. משטחים במרחב
(ללא ספר)	5. משטחים במרחב בהצגה פרמטרית
76	6. גופים במרחב
79	7. קואורדינטות גליליות וכדוריות
83	8. נספח – משטחים ממעלה שנייה

קווים ותחומים במישור

שאלות

1) שרטטו במישור את התחומים הבאים :

א. $S = \{(x, y) \mid -1 \leq x \leq 1, -1 \leq y \leq 4\}$

ב. $S = \{(x, y) \mid -1 \leq x^2 \leq 1, -1 \leq y \leq 4\}$

ג. $S = \{(x, y) \mid x \leq y \leq 4\}$

2) שרטטו במישור את התחומים הבאים :

א. $S = \{(x, y) \mid x - 1 \leq y \leq 2x + 1\}$

ב. $S = \{(x, y) \mid |y - 2x| \leq 1\}$

ג. $S = \{(x, y) \mid |x| + y < 4\}$

ד. $S = \{(x, y) \mid (x + y)^2 \leq 4, x > 1\}$

3) מצאו את המרכז והרדיוס של המעגלים הבאים :

א. $x^2 + y^2 - 2x - 3 = 0$

ב. $x^2 + y^2 - 8y = -15$

ג. $x^2 + y^2 + 2x + 4y = 0$

4) בכל אחד מהסעיפים הבאים חלק ממעגל. שרטטו אותו.

א. $y = \sqrt{1 - x^2}$

ב. $y = -\sqrt{1 - x^2}$

ג. $x = \sqrt{1 - y^2}$

ד. $x = -\sqrt{1 - y^2}$

ה. $0 \leq x \leq 1, y = \sqrt{1 - x^2}$

ו. $-\frac{3}{5} \leq x \leq \frac{3}{5}, y = \sqrt{1 - x^2}$

5) בכל אחד מהסעיפים הבאים חלק ממעגל. שרטטו אותו.

א. $y = 2 + \sqrt{1 - (x-3)^2}$

ב. $y = 2 - \sqrt{-x^2 + 6x - 8}$

ג. $x \geq 3.5, \quad x = 4 - \sqrt{1 - y^2}$

6) שרטטו את התחומים הבאים במישור:

א. $S = \{(x, y) \mid x^2 + y^2 \leq 4\}$

ב. $S = \{(x, y) \mid x^2 + y^2 < 4\}$

ג. $S = \{(x, y) \mid x^2 + y^2 \geq 4\}$

ד. $S = \{(x, y) \mid x^2 + y^2 > 4\}$

ה. $S = \{(x, y) \mid -\sqrt{4-x^2} \leq y \leq \sqrt{4-x^2}\}$

ו. $S = \{(x, y) \mid -\sqrt{4-y^2} \leq x \leq \sqrt{4-y^2}\}$

ז. $S = \{(x, y) \mid 0 \leq y \leq \sqrt{4-x^2}\}$

ח. $S = \{(x, y) \mid -\sqrt{4-y^2} \leq x \leq 0\}$

7) שרטטו את התחומים הבאים במישור:

א. $S = \{(x, y) \mid 1 \leq x^2 + y^2 \leq 4\}$

ב. $S = \{(x, y) \mid 1 \leq x^2 + y^2 \leq 4, x \geq 0, y \geq 0\}$

ג. $S = \{(x, y) \mid 1 \leq x^2 + y^2 \leq 4, x \geq 0\}$

ד. $S = \{(x, y) \mid 1 \leq x^2 + y^2 \leq 4, y \geq 0\}$

8) שרטטו את התחומים הבאים במישור:

א. $S = \{(x, y) \mid x^2 + y^2 - 2x + 4y + 1 \leq 0\}$

ב. $S = \{(x, y) \mid 0 \leq y + 1 \leq \sqrt{1 - x^2}\}$

9 שרטטו את התחומים הבאים במישור :

א. $S = \{(x, y) \mid 1 \leq x^2 + y^2 \leq 4, x \leq y \leq 2x\}$

ב. $S = \{(x, y) \mid x^2 + y^2 \leq 4, y \geq x\}$

ג. $S = \{(x, y) \mid \frac{1}{7}x + \frac{25}{7} \leq y \leq \sqrt{25 - x^2}\}$

ד. $S = \{(x, y) \mid x^2 + y^2 \leq 4, y \geq x^2\}$

ה. $S = \{(x, y) \mid x^2 \leq y \leq \sqrt{4 - x^2}\}$

ו. $S = \{(x, y) \mid |x - 1| \leq y \leq \sqrt{1 - (x - 1)^2}\}$

10 נתונה המשוואה $25x^2 + 4y^2 - 50x + 16y = 59$.

- א. הוכיחו שהמשוואה מתארת אליפסה ושרטטו אותה.
 ב. רשמו את הפונקציות שמתארות את החצי העליון ואת החצי התחתון של האליפסה.
 ג. רשמו את הפונקציות שמתארות את החצי הימני ואת החצי השמאלי של האליפסה.
 ד. מהי קבוצת כל הנקודות במישור, החסומה בתוך האליפסה או עליה?
 ה. מהי קבוצת כל הנקודות במישור, החסומה בתוך האליפסה ומעל לציר המשני שלה?

11 שרטטו את התחומים הבאים במישור :

א. $S = \{(x, y) \mid 4x^2 + y^2 + 8x - 4y + 4 \geq 0\}$

ב. $S = \{(x, y) \mid 0 \leq y \leq \frac{2}{3}\sqrt{9 - x^2}\}$

ג. $S = \{(x, y) \mid \frac{1}{2}y + 1 \leq x \leq \frac{3}{2}\sqrt{4 - y^2}\}$

ד. $S = \{(x, y) \mid -\frac{2}{3}\sqrt{9 - x^2} \leq y \leq -x^2\}$

12) שרטטו את התחומים הבאים במישור:

א. $S = \{(x, y) \mid x^2 \leq y \leq 2 - x^2\}$

ב. $S = \{(x, y) \mid -2 \leq y \leq -x^2\}$

ג. $S = \{(x, y) \mid y^2 - 2 \leq x \leq -y^2\}$

ד. $S = \{(x, y) \mid y^2 \leq x \leq 1 - y\}$

13) שרטטו את התחומים הבאים במישור:

א. $\left\{ (x, y) \mid \frac{x^2}{4} - \frac{y^2}{9} \leq 1 \right\}$

ב. $\left\{ (x, y) \mid \frac{x^2}{4} - \frac{y^2}{9} \geq 1, x^2 + y^2 \leq 16 \right\}$

ג. $\left\{ (x, y) \mid \frac{x^2}{4} - \frac{y^2}{9} \geq 1, y \geq \frac{1}{4}x^2 \right\}$

ד. $\left\{ (x, y) \mid \frac{x^2}{4} - \frac{y^2}{9} \leq 1, x^2 + y^2 \geq 4 \right\}$

תשובות סופיות

לפתרונות מלאים ושרטוטים היכנסו לאתר GooL.co.il

קווים ותחומים במישור בהצגה פרמטרית

שאלות

1) עברו מן ההצגה הפרמטרית הנתונה, להצגה קרטזית:

א. $x = t^2 + 1, y = t^2, t \geq 0$

ב. $x = \sin t, y = \cos^2 t, 0 \leq t \leq \pi$

ג. $x = \cos t, y = 4 \sin t, \pi \leq t \leq 2\pi$

2) להלן תיאור פרמטרי של מסלולים במישור.

על ידי חילוץ של הפרמטר t , מצאו משוואה מתאימה שמבטאת כל מסלול באמצעות המשתנים x ו- y בלבד:

א. $x = t - 4, y = t^2$

ב. $x = -4 + \cos t, y = 1 + 2 \sin t$

ג. $x = 4 \cos^3 t, y = 4 \sin^3 t$

ד. $x = t(t+1)+1, y = t(0.5t+1)+1$

ה. $x = \frac{20t}{4+t^2}, y = \frac{20-5t^2}{4+t^2}$

ו. $x = ke^t + ke^{-t}, y = ke^t - ke^{-t}$ (קבוע k).

3) נתון המעגל $x^2 + y^2 = 8$.

א. שרטטו את המעגל ומצאו את משוואתו הפרמטרית.

ב. מצאו הצגה פרמטרית של חלק המעגל מהנקודה $A(2,2)$ לנקודה $B(-2,-2)$.

ג. מצאו הצגה פרמטרית של התחום D , המוגבל מעל הישר AB ומתחת למעגל.

ד. מצאו הצגה פרמטרית של התחום E , המוגבל בין המעגל הנתון למעגל $x^2 + y^2 = 16$.

$$(4) \quad \text{נתונים שני מעגלים } (x-8)^2 + (y-4)^2 = 25 \text{ ו- } x^2 + y^2 = 25.$$

- א. שרטטו את המעגלים, מצאו את משוואותיהם הפרמטריות ומצאו הצגה פרמטרית לתחום הכלוא בכל אחד מהמעגלים.
- ב. המעגלים נחתכים בשתי נקודות, A ו-B, ותהי הנקודה A בעלת ערך ה- y הגדול יותר.
- מצאו את ההצגה הפרמטרית של חלק המעגל בין A לבין B. הפרידו לשני מקרים.
- ג. מצאו הצגה אלגברית לתחום החסום בין שני המעגלים.

$$(5) \quad \text{נתונות משוואות של שתי אליפסות: } \begin{cases} \frac{x^2}{4} + \frac{y^2}{2} = 1 \\ \frac{x^2}{2} + \frac{y^2}{4} = 1 \end{cases}$$

- א. שרטטו את האליפסות ומצאו את הצגתן הפרמטרית.
- ב. האליפסות נחתכות ב-4 נקודות, מצאו אותן.
- ג. הקו המחבר את 4 הנקודות לעיל מורכב מ-4 מסילות.
- מצאו את ההצגה הפרמטרית של כל אחת מהמסילות.
- ד. מצאו הצגה פרמטרית של התחום, המוגבל בתוך שתי האליפסות.

$$(6) \quad \text{נתונה היפרבולה } 4x^2 - y^2 = 4.$$

- א. ההיפרבולה מורכבת משתי מסילות.
- מצאו את ההצגה האלגברית ואת ההצגה הפרמטרית של כל אחת מהמסילות.
- ב. הציגו באופן פרמטרי את התחום המוגבל בין ההיפרבולה לבין האסימפטוטות שלה.

$$(7) \quad \text{נתונה המשוואה } 3x^2 - y^2 = 3.$$

- א. איזה קו במישור מתארת המשוואה? שרטטו.
- ב. הקו מסעיף א' מורכב משתי מסילות.
- מצאו את ההצגה האלגברית ואת ההצגה הפרמטרית של כל אחת מהמסילות.
- ג. המסילה C היא חלק של הקו הנתון מהנקודה $A(-2, -3)$ לנקודה $B(-1, 0)$.
- כתבו את C בצורה פרמטרית.
- ד. מצאו את המרחק הקצר ביותר בין ציר ה- y למסילה C.

$$(8) \quad \text{חשבו את אורך העקום} \quad \begin{cases} x = t - \sin t \\ y = 1 - \cos t \end{cases} \quad . 0 \leq t \leq 2\pi$$

$$(9) \quad \text{חשבו את אורך העקום} \quad \begin{cases} x = 4 \sin t \\ y = 10t \\ z = 4 \cos t \end{cases} \quad . -\pi \leq t \leq 2\pi$$

תשובות סופיות

$$(1) \quad \text{א. } y = x - 1, x \geq 1 \quad \text{ב. } y = 1 - x^2, -1 \leq x \leq 1$$

$$\text{ג. } x^2 + \frac{y^2}{16} = 1, -1 \leq x \leq 1, y \leq 0$$

$$(2) \quad \text{א. } y = (x+4)^2 \quad \text{ב. } (x+4)^2 + \left(\frac{y-1}{2}\right)^2 = 1 \quad \text{ג. } x^{\frac{2}{3}} + y^{\frac{2}{3}} = 4^{\frac{2}{3}}$$

$$\text{ד. } x^2 - 4xy + 4y^2 = 2y - 1 \quad \text{ה. } x^2 + y^2 = 25 \quad \text{ו. } x^2 - y^2 = 4k^2$$

$$(3) \quad \begin{cases} x(t) = \sqrt{8} \cos t \\ y(t) = \sqrt{8} \sin t \end{cases} \quad \begin{matrix} \text{א. } 0 \leq t \leq 2\pi \\ \text{ב. } \frac{\pi}{4} \leq t \leq \frac{5\pi}{4} \end{matrix}$$

$$\text{ג. } \begin{cases} x(u, v) = \sqrt{8}u \cos v \\ y(u, v) = \sqrt{8}u \sin v \end{cases} \quad 0 \leq u \leq 1, \frac{\pi}{4} \leq v \leq \frac{5\pi}{4}$$

$$\text{ד. } \begin{cases} x(u, v) = u \cos v \\ y(u, v) = u \sin v \end{cases} \quad \sqrt{8} \leq u \leq 4, 0 \leq v \leq 2\pi$$

$$(4) \quad \text{א. המעגל } x^2 + y^2 = 25 \text{ : מרכז } (0, 0) \text{ . רדיוס : } 5.$$

$$\begin{cases} x(t) = 5 \cos t \\ y(t) = 5 \sin t \end{cases} \quad 0 \leq t \leq 2\pi \quad \text{הצגה פרמטרית של המעגל}$$

$$\begin{cases} x(u, v) = 5u \cos v \\ y(u, v) = 5u \sin v \end{cases} \quad 0 \leq u \leq 1, 0 \leq v \leq 2\pi \quad \text{הצגה פרמטרית של העיגול}$$

$$\text{המעגל } (x-8)^2 + (y-4)^2 = 25 \text{ : מרכז } (8, 4) \text{ . רדיוס : } 5.$$

$$\begin{cases} x(t) = 8 + 5 \cos t \\ y(t) = 4 + 5 \sin t \end{cases} \quad 0 \leq t \leq 2\pi \quad \text{הצגה פרמטרית של המעגל}$$

$$\begin{cases} x(u, v) = 8 + 5u \cos v \\ y(u, v) = 4 + 5u \sin v \end{cases} \quad 0 \leq u \leq 1, 0 \leq v \leq 2\pi \quad \text{הצגה פרמטרית של העיגול}$$

$$\text{ב. מקרה 1 : } \begin{cases} x(t) = 5 \cos t \\ y(t) = 5 \sin t \end{cases}, \quad 0 \leq t \leq \arctan\left(\frac{4}{3}\right)$$

$$\text{מקרה 2 - } \begin{cases} x = 8 + 5 \cos t \\ y = 4 + 5 \sin t \end{cases}, \quad \pi \leq t \leq \arctan\left(\frac{4}{3}\right) + \pi$$

$$\text{ג. } \{(x, y) \mid -\sqrt{25 - (y-4)^2} + 8 \leq x \leq \sqrt{25 - (y-4)^2}\}$$

$$(5) \quad \begin{cases} x(t) = 2 \cos t, y(t) = \sqrt{2} \sin t & 0 \leq t \leq 2\pi \\ x(t) = \sqrt{2} \cos t, y(t) = 2 \sin t & 0 \leq t \leq 2\pi \end{cases} \quad \text{א.}$$

$$\text{ב. } A\left(\frac{2}{\sqrt{3}}, \frac{2}{\sqrt{3}}\right), B\left(-\frac{2}{\sqrt{3}}, \frac{2}{\sqrt{3}}\right), C\left(-\frac{2}{\sqrt{3}}, -\frac{2}{\sqrt{3}}\right), D\left(\frac{2}{\sqrt{3}}, -\frac{2}{\sqrt{3}}\right)$$

$$\cdot \begin{cases} x(t) = \sqrt{2} \cos t \\ y(t) = 2 \sin t \end{cases} \quad \arctan\left(-\frac{1}{\sqrt{2}}\right) \leq t \leq \arctan\left(\frac{1}{\sqrt{2}}\right) \quad : DA \text{ המסילה}$$

$$\cdot \begin{cases} x(t) = \sqrt{2} \cos t \\ y(t) = 2 \sin t \end{cases} \quad \arctan\left(-\frac{1}{\sqrt{2}}\right) + \pi \leq t \leq \arctan\left(\frac{1}{\sqrt{2}}\right) + \pi \quad : BC \text{ המסילה}$$

$$\cdot \begin{cases} x(t) = 2 \cos t \\ y(t) = \sqrt{2} \sin t \end{cases} \quad \arctan(\sqrt{2}) \leq t \leq \arctan(-\sqrt{2}) + \pi \quad : AB \text{ המסילה}$$

$$\cdot \begin{cases} x(t) = 2 \cos t \\ y(t) = \sqrt{2} \sin t \end{cases} \quad \arctan(\sqrt{2}) + \pi \leq t \leq \arctan(-\sqrt{2}) + 2\pi \quad : CD \text{ המסילה}$$

$$D = D_1 \cup D_2 \cup D_3 \cup D_4$$

$$D_1: \begin{cases} x(u, v) = \sqrt{2}\mathbf{u} \cos v \\ y(u, v) = 2\mathbf{u} \sin v \end{cases}$$

$$0 \leq \mathbf{u} \leq 1, \arctan\left(-\frac{1}{\sqrt{2}}\right) \leq v \leq \arctan\left(\frac{1}{\sqrt{2}}\right)$$

$$D_3: \begin{cases} x(u, v) = \sqrt{2}\mathbf{u} \cos v \\ y(u, v) = 2\mathbf{u} \sin v \end{cases}$$

$$0 \leq \mathbf{u} \leq 1, \arctan\left(-\frac{1}{\sqrt{2}}\right) + \pi \leq v \leq \arctan\left(\frac{1}{\sqrt{2}}\right) + \pi$$

$$D_2: \begin{cases} x(u, v) = 2\mathbf{u} \cos v \\ y(u, v) = \sqrt{2}\mathbf{u} \sin v \end{cases}$$

$$0 \leq \mathbf{u} \leq 1, \arctan(\sqrt{2}) \leq v \leq \arctan(-\sqrt{2}) + \pi$$

$$D_4: \begin{cases} x(u, v) = 2\mathbf{u} \cos v \\ y(u, v) = \sqrt{2}\mathbf{u} \sin v \end{cases} \quad \cdot \uparrow$$

$$0 \leq \mathbf{u} \leq 1, \arctan(\sqrt{2}) + \pi \leq v \leq \arctan(-\sqrt{2}) + 2\pi$$

$$(6) \quad \text{א. אלגברית: ימנית } x = \sqrt{1 + \frac{y^2}{4}}, \text{ שמאלית } x = -\sqrt{1 + \frac{y^2}{4}}$$

$$\cdot \begin{cases} x = -\cosh t \\ y = 2 \sinh t \end{cases} t \in \mathbb{R} : \text{שמאלית}, \begin{cases} x = \cosh t \\ y = 2 \sinh t \end{cases} t \in \mathbb{R} : \text{ימנית}$$

$$D = D_1 \cup D_2$$

$$D_1 : \begin{cases} x(u, v) = u \cosh v \\ y(u, v) = 2u \sinh v \end{cases} \quad 0 \leq u \leq 1, v \in \mathbb{R} \quad \text{ב.}$$

$$D_2 : \begin{cases} x(u, v) = -u \cosh v \\ y(u, v) = 2u \sinh v \end{cases} \quad 0 \leq u \leq 1, v \in \mathbb{R}$$

$$(7) \quad \text{א. היפרבולה. ב. אלגברית: ימנית } x = \sqrt{1 + \frac{y^2}{3}}, \text{ שמאלית } x = -\sqrt{1 + \frac{y^2}{3}}$$

$$\cdot \begin{cases} x = -\cosh t \\ y = \sqrt{3} \sinh t \end{cases} t \in \mathbb{R} : \text{וענף שמאלי}, \begin{cases} x = \cosh t \\ y = \sqrt{3} \sinh t \end{cases} t \in \mathbb{R} : \text{ענף ימני}$$

$$1. \tau \quad C : \begin{cases} x = -\cosh t \\ y = \sqrt{3} \sinh t \end{cases} \quad \ln(2 - \sqrt{3}) \leq t \leq 0 \quad \text{ג.}$$

8 (8)

6π√29 (9)

קווים ותחומים במישור בהצגה קוטבית (פולרית)

שאלות

(1) ענו על הסעיפים הבאים:

א. המירו את הנקודה הקוטבית $\left(4, \frac{\pi}{3}\right)$ לנקודה קרטזית.

ב. המירו את הנקודה הקרטזית $(-1, -1)$ לנקודה קוטבית.

(2) ענו על הסעיפים הבאים:

א. המירו את הנקודה הקוטבית $\left(10, -\frac{\pi}{3}\right)$ לנקודה קרטזית.

ב. המירו את הנקודה הקרטזית $(0, -4)$ לנקודה קוטבית.

ג. המירו את הנקודה הקרטזית $(-2, 2)$ לנקודה קוטבית.

(3) ענו על הסעיפים הבאים:

א. המירו את המשוואה $4x - x^2 = 1 + xy$ לקואורדינטות קוטביות.

ב. המירו את המשוואה $r = -4\cos\theta$ לקואורדינטות קרטזיות.

(4) ענו על הסעיפים הבאים:

א. המירו את המשוואה $x^2 + y^2 = 4y$ לקואורדינטות פולריות.

ב. המירו את המשוואה $x = 10$ לקואורדינטות פולריות.

ג. המירו את המשוואה $y = 4$ לקואורדינטות פולריות.

(5) ענו על הסעיפים הבאים:

א. המירו את המשוואה $r = 4$ לקואורדינטות קרטזיות.

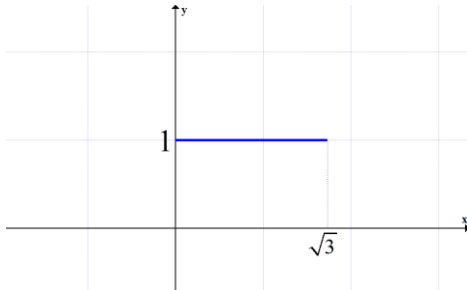
ב. המירו את המשוואה $\theta = \pi/4$ לקואורדינטות קרטזיות.

ג. המירו את המשוואה $r = 2\cos\theta + 4\sin\theta$ לקואורדינטות קרטזיות.

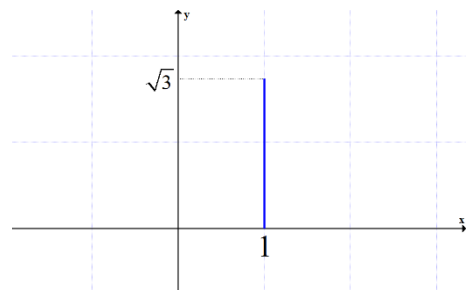
ד. המירו את המשוואה $6r^3 \sin\theta = 4 - \cos\theta$ לקואורדינטות קרטזיות.

6) להלן שני איורים, שבכל אחד מהם קו. כתבו כל אחד מהקווים בהצגה פולרית.

איור ב



איור א



7) בכל אחד מהסעיפים הבאים חלק ממעגל. כתבו אותו בהצגה פולרית.

א. $y = \sqrt{1-x^2}$

ב. $y = -\sqrt{1-x^2}$

ג. $x = \sqrt{1-y^2}$

ד. $x = -\sqrt{1-y^2}$

ה. $y = \sqrt{1-x^2}, 0 \leq x \leq 1$

ו. $y = \sqrt{1-x^2}, -\frac{3}{5} \leq x \leq \frac{3}{5}$

8) בסעיפים א-ג הוכיחו שכל אחד מהקווים מתאר חלק ממעגל. שרטטו את הקו והציגו אותו בצורה פולרית (קוטבית).

א. $y = \sqrt{4-(x-2)^2}$

ב. $x = -\sqrt{6y-y^2}$

ג. $y = -1 + \sqrt{1-x^2}$

ד. סגרו את הקו מסעיף ג' על ידי ישר מתאים. מהי הצגתו הפולרית של ישר זה?

9) שרטטו את התחומים הבאים במישור והציגו אותם בהצגה פולרית:

א. $S = \{(x, y) \mid x^2 + y^2 \leq 4\}$

ב. $S = \{(x, y) \mid 0 \leq y \leq \sqrt{4-x^2}\}$

ג. $S = \{(x, y) \mid -\sqrt{4-y^2} \leq x \leq 0\}$

10) שרטטו את התחומים הבאים במישור והציגו אותם בהצגה פולרית:

א. $S = \{(x, y) \mid 1 \leq x^2 + y^2 \leq 4\}$

ב. $S = \{(x, y) \mid 1 \leq x^2 + y^2 \leq 4, x \geq 0, y \geq 0\}$

ג. $S = \{(x, y) \mid 1 \leq x^2 + y^2 \leq 4, x \geq 0\}$

ד. $S = \{(x, y) \mid 1 \leq x^2 + y^2 \leq 4, y \geq 0\}$

11) שרטטו את התחומים הבאים במישור והציגו אותם בהצגה פולרית:

א. $S = \{(x, y) \mid 1 \leq x^2 + y^2 \leq 4, x \leq y \leq 2x\}$

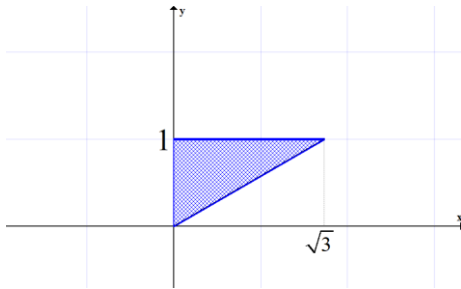
ב. $S = \{(x, y) \mid x^2 + y^2 \leq 4, y \geq x\}$

12) הציגו את התחום הבא בצורה פולרית: $S = \left\{ (x, y) \mid \frac{1}{7}x + \frac{25}{7} \leq y \leq \sqrt{25 - x^2} \right\}$

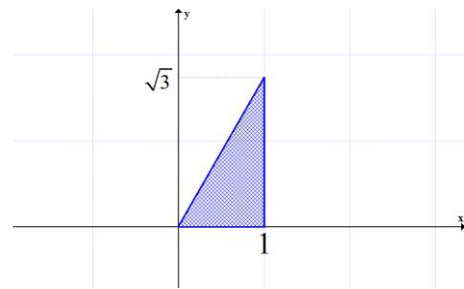
13) הציגו את התחום הבא בצורה פולרית: $S = \left\{ (x, y) \mid \frac{1}{\sqrt{3}}x \leq y \leq \sqrt{8x - x^2} \right\}$

14) להלן שני איורים, ובכל איור תחום. כתבו כל אחד מהתחומים בהצגה פולרית ותארו במילים כל אחד מהתחומים.

איור ב



איור א



תשובות סופיות

$$(r, \theta) = \left(\sqrt{2}, \frac{5\pi}{4} \right) \text{ ב. } (x, y) = (2, 2\sqrt{3}) \text{ א. (1)}$$

$$(r, \theta) = \left(\sqrt{8}, \frac{3\pi}{4} \right) \text{ ג. } (r, \theta) = \left(4, \frac{3\pi}{2} \right) \text{ ב. } (x, y) = (5, -5\sqrt{3}) \text{ א. (2)}$$

$$(x+2)^2 + y^2 = 2^2 \text{ ב. } 4r \cos \theta - r^2 \cos^2 \theta = 1 + r \cos \theta \cdot r \sin \theta \text{ א. (3)}$$

$$r \sin \theta = 4 \text{ ג. } r \cos \theta = 10 \text{ ב. } r = 4 \sin \theta \text{ א. (4)}$$

$$(x-1)^2 + (y-2)^2 = 5 \text{ ג. } y = x \text{ ב. } x^2 + y^2 = 4^2 \text{ א. (5)}$$

$$6(\sqrt{x^2 + y^2})^3 \cdot y = 4\sqrt{x^2 + y^2} - x \text{ ד.}$$

$$r = \frac{1}{\sin \theta} \quad \frac{\pi}{6} \leq \theta \leq \frac{\pi}{2} \text{ ב. } r = \frac{1}{\cos \theta} \quad 0 \leq \theta \leq \frac{\pi}{3} \text{ א. (6)}$$

$$\begin{cases} r=1 \\ -\frac{\pi}{2} \leq \theta \leq \frac{\pi}{2} \end{cases} \text{ ג. } \begin{cases} r=1 \\ \pi \leq \theta \leq 2\pi \end{cases} \text{ ב. } \begin{cases} r=1 \\ 0 \leq \theta \leq \pi \end{cases} \text{ א. (7)}$$

$$\begin{cases} r=1 \\ \arctan \frac{4}{3} \leq \theta \leq \arctan \left(-\frac{4}{3} \right) + \pi \end{cases} \text{ ו. } \begin{cases} r=1 \\ 0 \leq \theta \leq \frac{\pi}{2} \end{cases} \text{ ה. } \begin{cases} r=1 \\ \frac{\pi}{2} \leq \theta \leq \frac{3\pi}{2} \end{cases} \text{ ד.}$$

$$r = 6 \sin \theta, 0.5\pi \leq \theta \leq \pi \text{ ב. } r = 4 \cos \theta, 0 \leq \theta \leq 0.5\pi \text{ א. (8)}$$

$$r = -\frac{1}{\sin \theta}, 1.25\pi \leq \theta \leq 1.75\pi \text{ ד. } \begin{cases} r = -2 \sin \theta \\ \pi \leq \theta \leq 1.25\pi \text{ or } 1.75\pi \leq \theta \leq 2\pi \end{cases} \text{ ג.}$$

$$\begin{cases} 0 \leq r \leq 2 \\ 0.5\pi \leq \theta \leq 1.5\pi \end{cases} \text{ ג. } \begin{cases} 0 \leq r \leq 2 \\ 0 \leq \theta \leq \pi \end{cases} \text{ ב. } \begin{cases} 0 \leq r \leq 2 \\ 0 \leq \theta \leq 2\pi \end{cases} \text{ א. (9)}$$

$$\begin{cases} 1 \leq r \leq 2 \\ -0.5\pi \leq \theta \leq 0.5\pi \end{cases} \text{ ג. } \begin{cases} 1 \leq r \leq 2 \\ 0 \leq \theta \leq 0.5\pi \end{cases} \text{ ב. } \begin{cases} 1 \leq r \leq 2 \\ 0 \leq \theta \leq 2\pi \end{cases} \text{ א. (10)}$$

$$\begin{cases} 1 \leq r \leq 2 \\ 1.5\pi \leq \theta \leq 2.5\pi \end{cases}$$

$$\begin{cases} 1 \leq r \leq 2 \\ 0 \leq \theta \leq \pi \end{cases} \text{ ד.}$$

$$0 \leq r \leq 2, 0.25\pi \leq \theta \leq 1.25\pi \text{ ב. } 1 \leq r \leq 2 \text{ א. (11)}$$

$$0.25\pi \leq \theta \leq \arctan 2$$

$$\frac{25}{7 \sin \theta - \cos \theta} \leq r \leq 5 \text{ (12)}$$

$$\arctan \frac{4}{3} \leq \theta \leq \arctan \left(-\frac{3}{4} \right) + \pi$$

$$0 \leq r \leq 8 \cos \theta, \quad \frac{\pi}{6} \leq \theta \leq \frac{\pi}{2} \quad (13)$$

$$0 \leq r \leq \frac{1}{\sin \theta} \quad \frac{\pi}{6} \leq \theta \leq \frac{\pi}{2} \quad \text{ב.} \quad 0 \leq r \leq \frac{1}{\cos \theta} \quad 0 \leq \theta \leq \frac{\pi}{3} \quad \text{א.} \quad (14)$$

משטחים במרחב

שאלות

זהו ושרטטו את המשטחים בשאלות 1-3 :

$$\frac{x^2}{4} + \frac{y^2}{9} + \frac{z^2}{25} = 1 \quad (1)$$

$$z = 5x^2 + 1.25y^2 \quad (2)$$

$$20x^2 + 45y^2 = 180 + 36z^2 \quad (3)$$

זהו ושרטטו את המשטחים הבאים :

$$z = 4x^2 + y^2 + 1 \quad \text{א.}$$

$$z = 3 - x^2 - y^2 \quad \text{ב.}$$

זהו כל אחד מהמשטחים הבאים :

$$25x^2 + 100y^2 + 4z^2 = 100 \quad \text{א.}$$

$$25x^2 + 4y^2 - 50x - 16y - 100z + 41 = 0 \quad \text{ב.}$$

$$x^2 + 4y^2 - 4z^2 + 80z - 404 = 0 \quad \text{ג.}$$

מצאו את החיתוך בין המשטח $x^2 + y^2 + z^2 = 169$ לבין המשטח $z = 12$.
הסבירו את התוצאה מבחינה גרפית.

נתון המשטח $2x^2 + 2y^2 + 2z^2 - 16x - 4y + 40z + 206 = 0$:

א. זהו את המשטח.

ב. מצאו את נקודות החיתוך של המשטח עם הישר $\frac{x-5}{2} = \frac{y+1}{1} = \frac{z+14}{2}$.

מצאו את החיתוך בין המשטחים $x^2 + y^2 + (z-10)^2 = 24$ ו- $x^2 + y^2 + z^2 = 64$.
הסבירו את התוצאה מבחינה גרפית.

נתון המשטח $36z^2 + 4x^2 - 9y^2 = 36$:

א. זהו את המשטח ושרטט אותו.

ב. רשמו הצגה פרמטרית של שני ישרים שאינם נמצאים באותו מישור, ושנמצאים כולם על המשטח.

- 10 נתונים שני משטחים: $R: x^2 - y^2 + 2z^2 = 3$, $Q: 2x^2 - y^2 + z^2 = 3$.
- זהו את המשטחים ושרטטו אותם.
 - הראו כי החיתוך בין R ו- Q הוא שתי מסילות, כל אחת נמצאת במישור, וכתבו את משוואת המישורים הללו.
 - המסילה C היא חלק של החיתוך בין R ל- Q . נתון כי $A(-2, -3, 2)$ היא נקודת התחלה של C ו- $B(-1, 0, 1)$ היא נקודת סיום של C . כתבו את C בצורה פרמטרית.
 - מצאו את המרחק הקצר ביותר בין ציר ה- y למסילה C .

• בסוף קובץ זה תמצאו סיכום של כל המשטחים הנפוצים.

תשובות סופיות

- אליפסואיד.
- פרבולואיד אליפטי הנפתח כלפי מעלה.
- היפרבולואיד חד יריעתי.
- א. פרבולואיד אליפטי שמרכזו בנקודה $(0, 0, 1)$ ונפתח כלפי מעלה.
ב. פרבולואיד אליפטי שמרכזו בנקודה $(0, 0, 3)$ ונפתח כלפי מטה.
- א. אליפסואיד.
ב. פרבולואיד אליפטי שמרכזו בנקודה $(1, 2, 0)$ ונפתח כלפי מעלה.
ג. היפרבולואיד חד-יריעתי שמרכזו בנקודה $(0, 0, 10)$.
- החיתוך הוא מעגל $x^2 + y^2 = 25$, שמרכזו בנקודה $(0, 0, 12)$.
- א. ספירה שמרכזה $(4, 1, -10)$ ורדיוסה $\sqrt{14}$.
- נקודות החיתוך הן $A(7, 0, -12)$, $B\left(\frac{59}{9}, -\frac{2}{9}, -\frac{112}{9}\right)$.
- החיתוך הוא המעגל $x^2 + y^2 = 15$, שמרכזו בנקודה $(0, 0, 7)$.
- א. היפרבולואיד חד-יריעתי שמרכזו על ציר ה- y .
ב. $\ell_1: (x, y, z) = (3t, 2t, 1)$ $\ell_2: (x, y, z) = (3, 2t, t)$
- א. שני המשטחים הם היפרבולואיד חד-יריעתי. ב. $z = -x, z = x$.
ג. $\ln(2 - \sqrt{3}) \leq t \leq 0$ $C: x = -\cosh t, y = \sqrt{3} \sinh t, z = \cosh t$. ד. $\sqrt{2}$

גופים במרחב

שאלות

1 שרטטו את התחומים הבאים במרחב ותארו במילים את הגוף שהתקבל.

א. $V = \{(x, y, z) \mid x^2 + y^2 + z^2 \leq 4\}$

ב. $V = \{(x, y, z) \mid -\sqrt{4-x^2-y^2} \leq z \leq \sqrt{4-x^2-y^2}\}$

ג. $V = \{(x, y, z) \mid x^2 + y^2 + z^2 \leq 4, z \geq 0\}$

ד. $V = \{(x, y, z) \mid 0 \leq z \leq \sqrt{4-x^2-y^2}\}$

ה. $V = \{(x, y, z) \mid x^2 + y^2 + z^2 \leq 4, z \leq 0\}$

ו. $V = \{(x, y, z) \mid -\sqrt{4-x^2-y^2} \leq z \leq 0\}$

ז. $V = \{(x, y, z) \mid 0 \leq x \leq 2, 0 \leq y \leq 4, 0 \leq z \leq 3\}$

2 שרטטו את התחומים הבאים במרחב ותארו במילים את הגוף שהתקבל.

א. $V = \{(x, y, z) \mid x^2 + y^2 + z^2 \leq 1, x \geq 0, y \geq 0, z \geq 0\}$

ב. $V = \{(x, y, z) \mid 0 \leq z \leq \sqrt{1-x^2-y^2}, x \geq 0, y \geq 0\}$

ג. $D = \{(x, y, z) \mid 1 \leq x^2 + y^2 + z^2 \leq 4, x \geq 0, y \geq 0, z \geq 0\}$

ד. $D = \{(x, y, z) \mid 1 \leq x^2 + y^2 + z^2 \leq 4, x \geq 0, z \geq 0, 0 \leq y \leq x\}$

ה. $V = \{(x, y, z) \mid 1 \leq z \leq 1 + \sqrt{1-x^2-y^2}\}$

ו. $V = \{(x, y, z) \mid \sqrt{x^2+y^2} \leq z \leq \frac{1}{2} + \sqrt{\frac{1}{4}-x^2-y^2}\}$

3 שרטטו את התחומים הבאים במרחב ותארו במילים את הגוף שהתקבל.

א. $V = \{(x, y, z) \mid x^2 + y^2 + z^2 \leq 4, z \geq \sqrt{3(x^2+y^2)}\}$

ב. $V = \{(x, y, z) \mid \sqrt{3(x^2+y^2)} \leq z \leq \sqrt{4-x^2-y^2}\}$

ג. $V = \{(x, y, z) \mid 0 \leq z \leq \sqrt{4-x^2-y^2}, x^2+y^2 \leq 1\}$

ד. $V = \{(x, y, z) \mid 0 \leq y \leq 3, x \geq 0, z \geq 0, x^2+z^2 \leq 4\}$

ה. $V = \{(x, y, z) \mid x \geq 0, y \geq 0, z \geq 0, x^2 + y^2 + z^2 \leq 36, \frac{x^2}{9} + \frac{y^2}{16} \leq 1\}$

4) שרטטו את התחומים הבאים במרחב ותארו במילים את הגוף שהתקבל.

א. $V = \{(x, y, z) \mid \sqrt{x^2 + y^2} \leq z \leq 2 - x^2 - y^2\}$

ב. $V = \{(x, y, z) \mid x^2 + y^2 \leq z \leq \sqrt{4 - x^2 - y^2}\}$

ג. $V = \{(x, y, z) \mid x^2 + y^2 \leq z \leq 1 - x^2 - y^2\}$

ד. $V = \{(x, y, z) \mid 0 \leq z \leq 4 - x^2 - y^2, x^2 + y^2 - 2x \leq 0\}$

5) שרטטו את התחומים הבאים במרחב ותארו במילים את הגוף שהתקבל.

א. $\{(x, y, z) \mid x^2 + y^2 + z^2 \leq 4, x^2 + y^2 \leq 1\}$

ב. $\{(x, y, z) \mid x^2 + y^2 + z \leq 4, x \geq 0, y \geq 0, z \geq 0, x^2 + y^2 \leq 1\}$

ג. $V = \{(x, y, z) \mid 0 \leq z \leq 4 - x^2 - y^2, x \geq 0, y \geq 0, x^2 + y^2 \leq 1\}$

ד. $V = \{(x, y, z) \mid \sqrt{x^2 + y^2} \leq z \leq \sqrt{4 - x^2 - y^2}, x^2 + y^2 \leq 1\}$

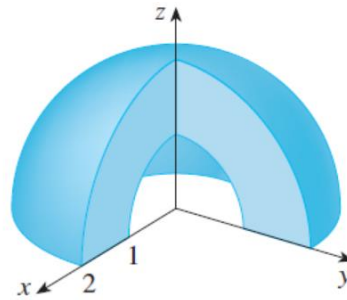
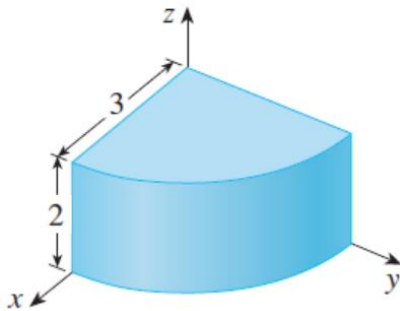
ה. $U = \{(x, y, z) \mid 0 \leq z \leq 10 - y, 1 \leq x^2 + y^2 \leq 4\}$

6) בכל אחד מהסעיפים הבאים איור של גוף V במרחב.

תארו במילים את הגוף וכתבו אותו לפי התבנית $V = \{(x, y, z) \mid \dots\}$.

א.

ב.



7) נתונים המשטחים $z = x^2 + y^2$ ו- $z = 2 - \sqrt{x^2 + y^2}$.

א. זהו כל אחד מהמשטחים בשם.

ב. שרטטו את התחום החסום בין המשטחים.

ג. מצאו את משוואת עקום החיתוך בין המשטחים.

$$(8) \text{ נתונים שני משטחים: } z = x^2 + y^2 + z^2 \text{ ו- } z = \sqrt{x^2 + y^2}.$$

א. זהו כל אחד מהמשטחים בשם.

ב. שרטטו את התחום החסום בין המשטחים וכתוב אותו בתבנית

$$. V = \{(x, y, z) \mid ? \leq z \leq ??\}$$

ג. מצאו את משוואת עקום החיתוך בין המשטחים.

$$(9) \text{ תחומים תלת-ממדיים } M \text{ ו- } N \text{ נתונים על ידי}$$

$$M : x^2 - y^2 + 2z^2 \leq 3$$

$$N : 2x^2 - y^2 + z^2 \leq 3$$

תחום תלת-ממדי W הוא החיתוך בין M ל- N .

שרטטו את D , החיתוך של W עם המישור $y=1$ (במערכת צירים (xz)),

וכתבו את D בהצגה פרמטרית.

לפתרונות מלאים ראו את הסרטונים באתר GooL.co.il

קואורדינטות גליליות וכדוריות

שאלות

- (1) בכל אחד מהסעיפים הבאים נתונה משוואה של משטח במערכת קרטזית. מצאו את המשוואה של המשטח במערכת גלילית ובמערכת כדורית. מהו שמו של המשטח? שרטטו את המשטח.

א. $z = 3$

ב. $z = 4x^2 + 4y^2$

ג. $x^2 + y^2 = 4$

- (2) בכל אחד מהסעיפים הבאים נתונה משוואה של משטח במערכת קרטזית. מצאו את המשוואה של המשטח במערכת גלילית ובמערכת כדורית. מהו שמו של המשטח? שרטטו את המשטח.

א. $x^2 + y^2 + z^2 = 9$

ב. $2x + 3y + 4z = 1$

ג. $x^2 = 16 - z^2$

ד. $z = \sqrt{x^2 + y^2}$

- (3) בכל אחד מהסעיפים הבאים נתונה משוואה של משטח במערכת גלילית. הציגו את המשוואה במערכת קרטזית. מהו שם המשטח? ציירו את המשטח.

א. $r = 3$

ב. $z = r^2$

ג. $z = r$

ד. $\theta = \frac{\pi}{4}$

ה. $r = 4 \sin \theta$

ו. $r^2 \cos 2\theta = z$

- 4) בכל אחד מהסעיפים הבאים נתונה משוואה של משטח במערכת כדורית. הציגו את המשוואה במערכת קרטזית. מהו שם המשטח?

א. $r = 3$

ב. $\theta = \frac{\pi}{3}$

ג. $\phi = \frac{\pi}{4}$

ד. $r = 2 \sec \phi$

ה. $r = 4 \cos \phi$

- 5) בכל אחד מהסעיפים הבאים נתונה משוואה של משטח במערכת כדורית. הציגו את המשוואה במערכת קרטזית. מהו שם המשטח? שרטטו את המשטח.

א. $r \sin \phi = 1$

ב. $r \sin \phi = 2 \cos \theta$

ג. $r - 2 \sin \phi \cos \theta = 0$

- 6) בכל אחד מהסעיפים הבאים גוף במרחב. תארו אותו במילים, שרטטו אותו, וכתבו אותו בקואורדינטות גליליות.

א. $V = \{(x, y, z) \mid \sqrt{x^2 + y^2} \leq z \leq 2 - x^2 - y^2\}$

ב. $V = \{(x, y, z) \mid x^2 + y^2 \leq z \leq \sqrt{6 - x^2 - y^2}\}$

- 7) בכל אחד מהסעיפים הבאים גוף במרחב. תארו אותו במילים, שרטטו אותו, וכתבו אותו בקואורדינטות גליליות.

א. $V = \{(x, y, z) \mid x^2 + y^2 \leq z \leq 1 - x^2 - y^2\}$

ב. $V = \{(x, y, z) \mid 0 \leq z \leq 4 - x^2 - y^2, x^2 + y^2 - 2x \leq 0\}$

- 8) בכל אחד מהסעיפים הבאים גוף במרחב. תארו אותו במילים, שרטטו אותו, וכתבו אותו בקואורדינטות גליליות.

א. $V = \{(x, y, z) \mid x^2 + y^2 + z^2 \leq 4, x^2 + y^2 \leq 1\}$

ב. $V = \{(x, y, z) \mid x^2 + y^2 + z \leq 4, x \geq 0, y \geq 0, z \geq 0, x^2 + y^2 \leq 1\}$

ג. $V = \{(x, y, z) \mid \sqrt{x^2 + y^2} \leq z \leq \sqrt{4 - x^2 - y^2}, x^2 + y^2 \leq 1\}$

ד. $U = \{(x, y, z) \mid 0 \leq z \leq 10 - y, 1 \leq x^2 + y^2 \leq 4\}$

תשובות סופיות

1 א. מערכת גלילית: $z = 3$. מערכת כדורית: $r = \frac{3}{\cos \phi}$. שם המשטח: מישור.

ב. מערכת גלילית: $z = 4r^2$. מערכת כדורית: $r = \frac{\cos \phi}{4 \sin^2 \phi}$.

שם המשטח: פרבולואיד.

ג. מערכת גלילית: $r = 2$. מערכת כדורית: $r = \frac{2}{\sin \phi}$. שם המשטח: גליל.

2 א. מערכת גלילית: $r^2 + z^2 = 9$. מערכת כדורית: $r = 3$. שם המשטח: ספירה.

ב. מערכת גלילית: $r(2 \cos \theta + 3 \sin \theta) + 4z = 1$.

מערכת כדורית: $r(2 \cos \theta \sin \phi + 3 \sin \theta \sin \phi + 4 \cos \phi) = 1$.

שם המשטח: מישור.

ג. מערכת גלילית: $r^2 \cos^2 \theta + z^2 = 16$. מערכת כדורית: $r^2(1 - \sin^2 \theta \sin^2 \phi) = 16$.

שם המשטח: גליל.

ד. מערכת גלילית: $z = r$. מערכת כדורית: $\phi = \frac{\pi}{4}$. שם המשטח: חרוט.

3 א. מערכת קרטזית: $x^2 + y^2 = 9$. שם המשטח: גליל.

ב. מערכת קרטזית: $z = x^2 + y^2$. שם המשטח: פרבולואיד.

ג. מערכת קרטזית: $z = \sqrt{x^2 + y^2}$. שם המשטח: חרוט.

ד. מערכת קרטזית: $y = x$. שם המשטח: מישור.

ה. מערכת קרטזית: $x^2 + (y - 2)^2 = 4$. שם המשטח: גליל.

ו. מערכת קרטזית: $z = x^2 - y^2$. שם המשטח: פרבולואיד היפרבולי.

4 א. מערכת קרטזית: $x^2 + y^2 + z^2 = 9$. שם המשטח: ספירה.

ב. מערכת קרטזית: $y = \sqrt{3}x$. שם המשטח: מישור.

ג. מערכת קרטזית: $z = \sqrt{x^2 + y^2}$. שם המשטח: חרוט.

ד. מערכת קרטזית: $z = 2$. שם המשטח: מישור.

ה. מערכת קרטזית: $x^2 + y^2 + (z - 2)^2 = 4$.

שם המשטח: ספירה שמרכזה בנקודה $(0, 0, 2)$ ורדיוסה 2.

5 א. מערכת קרטזית: $x^2 + y^2 = 1$. שם המשטח: גליל.

ב. מערכת קרטזית: $(x - 1)^2 + y^2 = 1$. שם המשטח: גליל.

ג. מערכת קרטזית: $(x - 1)^2 + y^2 + z^2 = 1$. שם המשטח: ספירה.

6 א. $V_{r\theta z} = \{(r, \theta, z) \mid 0 \leq r \leq 1, 0 \leq \theta \leq 2\pi, r \leq z \leq 2 - r^2\}$

ב. $V_{r\theta z} = \{(r, \theta, z) \mid 0 \leq r \leq \sqrt{2}, 0 \leq \theta \leq 2\pi, r^2 \leq z \leq \sqrt{6 - r^2}\}$

$$V_{r\theta z} = \{(r, \theta, z) \mid 0 \leq r \leq \sqrt{0.5}, 0 \leq \theta \leq 2\pi, r^2 \leq z \leq 1 - r^2\} \quad \text{א. (7)}$$

$$V_{r\theta z} = \{(r, \theta, z) \mid 0 \leq r \leq 2 \cos \theta, -0.5\pi \leq \theta \leq 0.5\pi, 0 \leq z \leq 4 - r^2\} \quad \text{ב.}$$

$$V_{r\theta z} = \{(r, \theta, z) \mid 0 \leq r \leq 1, 0 \leq \theta \leq 2\pi, -\sqrt{4 - r^2} \leq z \leq \sqrt{4 - r^2}\} \quad \text{א. (8)}$$

$$V_{r\theta z} = \{(r, \theta, z) \mid 0 \leq r \leq 1, 0 \leq \theta \leq \frac{\pi}{2}, 0 \leq z \leq \sqrt{4 - r^2}\} \quad \text{ב.}$$

$$V_{r\theta z} = \{(r, \theta, z) \mid 0 \leq r \leq 1, 0 \leq \theta \leq 2\pi, r \leq z \leq \sqrt{4 - r^2}\} \quad \text{ג.}$$

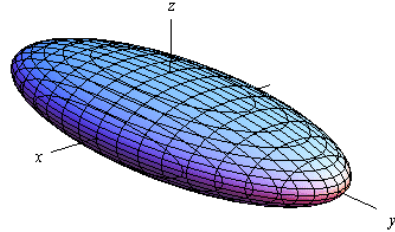
$$V_{r\theta z} = \{(r, \theta, z) \mid 1 \leq r \leq 2, 0 \leq \theta \leq 2\pi, 0 \leq z \leq 10 - r \sin \theta\} \quad \text{ד.}$$

נספח – משטחים ממעלה שנייה

אליפסואיד

$$\frac{x^2}{a^2} + \frac{y^2}{b^2} + \frac{z^2}{c^2} = 1 : \text{משוואה}$$

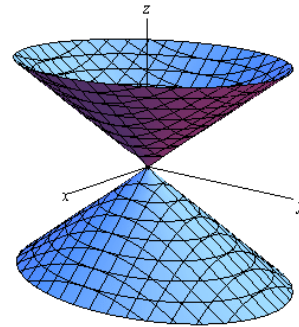
תיאור: החתכים במישורי הקואורדינטות הם אליפסות; כך הם גם החתכים במישורים מקבילים. אם $a=b=c$, נקבל כדור עם רדיוס a והחתכים הנ"ל הם מעגלים.



חרוט אליפטי

$$\frac{x^2}{a^2} + \frac{y^2}{b^2} = \frac{z^2}{c^2} : \text{משוואה}$$

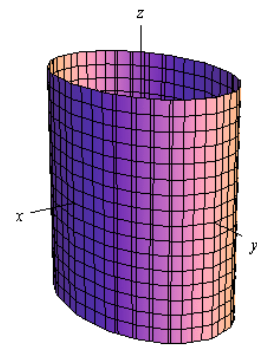
תיאור: החתך במישור xy הוא נקודה (הראשית); החתכים במישורים מקבילים למישור xy הם אליפסות. החתכים במישור xz ו- yz הם זוג ישרים הנחתכים בראשית; החתכים במישורים מקבילים למישורים אלו הם היפרבולות. * מרכז החרוט הוא על הציר המתאים למשתנה המופיע לבד באחד האגפים.



גליל אליפטי

$$\frac{x^2}{a^2} + \frac{y^2}{b^2} = 1 : \text{משוואה}$$

תיאור: החתך במישור xy הוא אליפסה; כך הם החתכים במישורים מקבילים למישור xy . החתכים במישור xz ו- yz הם זוג ישרים מקבילים וכך הם החתכים במישורים מקבילים למישורים אלו. במידה ומשוואת הגליל היא $x^2 + y^2 = r^2$, החתכים הנ"ל הם מעגלים. * מרכז הגליל הוא על הציר המתאים למשתנה שאינו מופיע במשוואת הגליל.

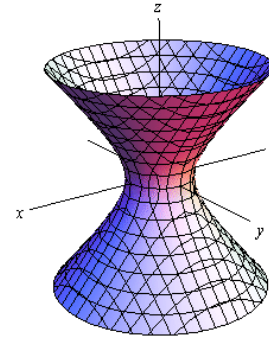


היפרבולואיד חד-יריעתי

$$\text{משוואה: } \frac{x^2}{a^2} + \frac{y^2}{b^2} - \frac{z^2}{c^2} = 1$$

תיאור: החתך במישור xy הוא אליפסה; כך הם החתכים במישורים מקבילים למישור xy . החתכים במישור xz ו- yz הם היפרבולות; כך הם גם החתכים במישורים מקבילים למישורים אלו.

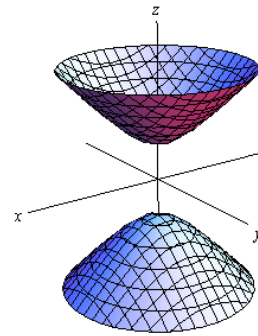
* מרכז היפרבולואיד חד-יריעתי הוא על הציר המתאים למשתנה שלפניו המינוס.

היפרבולואיד דו-יריעתי

$$\text{משוואה: } \frac{x^2}{a^2} + \frac{y^2}{b^2} - \frac{z^2}{c^2} = -1$$

תיאור: למשטח זה אין חתך במישור xy ; החתכים במישורים מקבילים למישור xy , החותכים את המשטח, הם אליפסות. החתכים במישור xz ו- yz הם היפרבולות; כך הם גם החתכים במישורים מקבילים למישורים אלו.

* מרכז היפרבולואיד דו-יריעתי הוא על הציר המתאים למשתנה שלפניו המינוס.

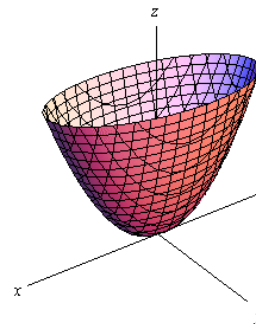
פרבולואיד אליפטי

$$\text{משוואה: } \frac{x^2}{a^2} + \frac{y^2}{b^2} = \frac{z}{c}$$

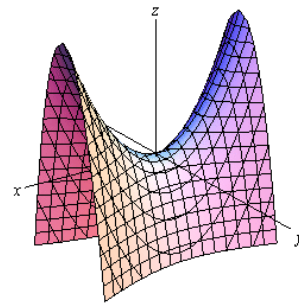
תיאור: החתך במישור xy הוא נקודה (הראשית); החתכים במישורים מקבילים למישור xy ונמצאים מעליו הם אליפסות. החתכים במישור xz ו- yz הם פרבולות; כך הם גם החתכים במישורים מקבילים למישורים אלו.

* מרכז הפרבולואיד האליפטי הוא על הציר המתאים למשתנה המופיע ללא ריבוע.

* אם $c > 0$ הפרבולואיד נפתח כלפי מעלה ואם $c < 0$ הפרבולואיד נפתח כלפי מטה.



פרבולואיד היפרבולי



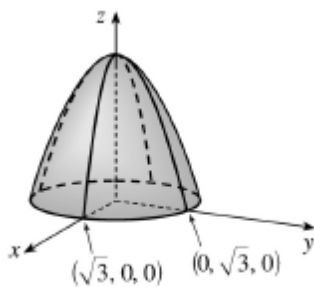
$$\text{משוואה: } \frac{x^2}{a^2} - \frac{y^2}{b^2} = \frac{z}{c}$$

תיאור: החתך במישור xy הוא זוג ישרים נחתכים בראשית; החתכים במישורים מקבילים למישור xy הם היפרבולות; אלו שמעל למישור xy נפתחות בכיוון ציר ה- x ואלו שמתחת למישור xy נפתחות בכיוון ציר ה- y . החתכים במישור xz ו- yz הם פרבולות; כך הם גם החתכים במישורים מקבילים למישורים אלו.

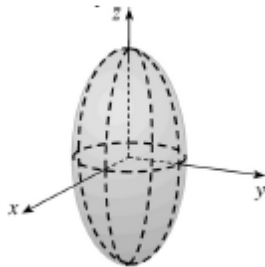
* מרכז הפרבולואיד האליפטי הוא על הציר המתאים למשתנה המופיע ללא ריבוע.

* אם $c > 0$ הפרבולואיד נפתח כלפי מעלה ואם $c < 0$ הפרבולואיד נפתח כלפי מטה.

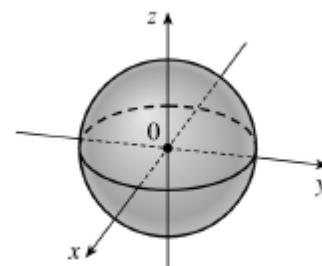
דוגמאות שונות



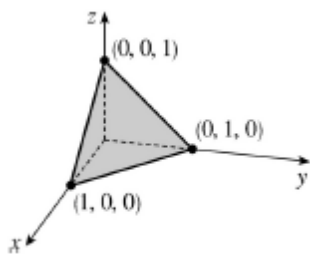
$$z = 3 - x^2 - y^2$$



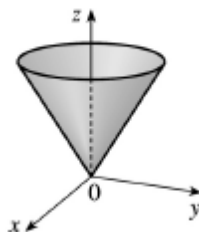
$$\frac{x^2}{4} + \frac{y^2}{4} + \frac{z^2}{16} = 1$$



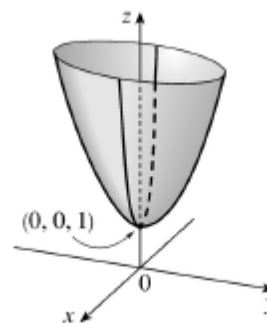
$$x^2 + y^2 + z^2 = 1$$



$$x + y + z = 1$$



$$z = \sqrt{x^2 + y^2}$$



$$z = 4x^2 + y^2 + 1$$

חשבון אינפיניטימלי 2

פרק 6 - פונקציות של מספר משתנים - מבוא, קווי גובה, משטחי רמה

תוכן העניינים

1. מבוא לפונקציה של שני משתנים 86
2. קווי גובה לפונקציה של שני משתנים 88
3. משטחי רמה לפונקציה של שלושה משתנים 90
4. נספח – משטחים ממעלה שנייה 91

מבוא לפונקציה של שני משתנים

עבור כל אחת מהפונקציות הבאות:

א. מצאו את תחום ההגדרה D של הפונקציה.

ב. שרטטו סקיזה של הקבוצה D .

$$f(x, y) = \sqrt{5 - x^2 - y^2} + \ln(4y - x^2) \quad (1)$$

$$f(x, y) = \sqrt{x^2 + y^2 - 4} + \frac{1}{\sqrt{x}} \quad (2)$$

$$f(x, y) = \sqrt{-x^2 + y^2 + 1} + \frac{x+y}{x-y} \quad (3)$$

$$g(x, y) = \sqrt{x+4y} + \sqrt{x-4y} \quad (4)$$

$$f(x, y) = \frac{1}{\sqrt{x+4y}} + \frac{1}{\sqrt{x-4y}} \quad (5)$$

$$h(x, y) = \sqrt{x - \sqrt{y+4}} \quad (6)$$

$$f(x, y) = e^{xy} \sqrt{\ln \frac{4}{x^2 + y^2}} + \sqrt{x^2 + y^2 - 4} \quad (7)$$

$$z(x, y) = \frac{4}{\sqrt{1 - |x| - |y|}} \quad (8)$$

$$z(x, y) = \ln \left(\frac{x-4y}{x+4y} \right) \quad (9)$$

$$f(x, y) = \ln[x \ln(y-4x)] \quad (10)$$

$$u(x, y, z) = \frac{1}{\sqrt{x+4}} + \frac{1}{\sqrt{y-1}} + \frac{1}{\sqrt{z}} \quad (11)$$

(ענו על סעיף א בלבד)

$$f(x, y) = \tan \frac{y}{x} \quad (12)$$

(רק לתלמידי מדעים מדויקים/הנדסה)

$$f(x, y) = \frac{\arcsin\left(\frac{1}{4}x^2 + \frac{1}{4}y^2\right)}{\ln(x^2 + y^2 - 1)} \quad (13)$$

(רק לתלמידי מדעים מדויקים/הנדסה)

תשובות סופיות

$$D = \left\{ (x, y) \mid \frac{1}{4}x^2 \leq y \leq \sqrt{5-x^2} \right\} \quad (1)$$

$$D = \left\{ (x, y) \mid x^2 + y^2 \geq 4, x > 0 \right\} \quad (2)$$

$$D = \left\{ (x, y) \mid x^2 - y^2 \leq 1, y \neq x \right\} \quad (3)$$

$$D = \left\{ (x, y) \mid -\frac{1}{4}x \leq y \leq \frac{1}{4}x \right\} \quad (4)$$

$$D = \left\{ (x, y) \mid -\frac{1}{4}x < y < \frac{1}{4}x \right\} \quad (5)$$

$$D = \left\{ (x, y) \mid -4 \leq y \leq x^2 - 4, x \geq 0 \right\} \quad (6)$$

$$D = \left\{ (x, y) \mid x^2 + y^2 = 4 \right\} \quad (7)$$

$$D = \left\{ (x, y) \mid |x| + |y| < 1 \right\} \quad (8)$$

$$D = \left\{ (x, y) \mid \frac{1}{4}x < y < -\frac{1}{4}x \text{ or } -\frac{1}{4}x < y < \frac{1}{4}x \right\} \quad (9)$$

$$D = \left\{ (x, y) \mid [x < 0 \text{ and } 4x < y < 4x + 1] \text{ or } [x > 0 \text{ and } y > 4x + 1] \right\} \quad (10)$$

$$D = \left\{ (x, y, z) \mid x > -4, y > 1, z > 0 \right\} \quad (11)$$

$$D = \left\{ (x, y) \in \mathbb{R}^2 \mid x \neq 0, y \neq \left(\frac{\pi}{2} + \pi k\right)x, k \in \mathbb{Z} \right\} \quad (12)$$

$$D = \left\{ (x, y) \mid 1 < x^2 + y^2 \neq 2 < 4 \right\} \quad (13)$$

קווי גובה לפונקציה של שני משתנים

עבור כל אחת מהפונקציות בשאלות 1-6, מצאו תחום הגדרה, שרטטו אותו, ושרטטו את מפת קווי הגובה/רמה של הפונקציה:

$$f(x, y) = \frac{y}{x} \quad (1)$$

$$f(x, y) = \ln x + \ln y \quad (2)$$

$$f(x, y) = x^2 + y^2 \quad (3)$$

$$f(x, y) = \sqrt{1 - x^2 - y^2} \quad (4)$$

$$f(x, y) = \ln(x^2 - y) \quad (5)$$

$$f(x, y) = x\sqrt{y} \quad (6)$$

עבור כל אחת מהפונקציות בשאלות 7-10 שרטטו מפת קווי גובה:

$$f(x, y) = (x-1)^2 + (y+3)^2 \quad (7)$$

$$f(x, y) = e^{x-y} \quad (8)$$

$$f(x, y) = 2 \ln x + \ln y \quad (9)$$

$$f(x, y) = \min\{3x, y\} \quad (10)$$

עבור כל אחת מהפונקציות בשאלות 11-13, שרטטו את קו הגובה k :

$$(k = 0, 4) \quad f(x, y) = (x - y)^2 \quad (11)$$

$$(k = 0, 2) \quad f(x, y) = \min\{y - x^2, x + y\} \quad (12)$$

$$(k = 1) \quad f(x, y) = \begin{cases} x^2 + 3x - y - 3 & x^2 \geq y \\ -x^2 + 3x + y - 3 & x^2 < y \end{cases} \quad (13)$$

$$(14) \text{ נתונה הפונקציה } f(x, y) = \begin{cases} x^2 - y & x \leq 1 \\ 2x + y & x > 1 \end{cases}$$

- א. שרטטו את קו הגובה $f(x, y) = 0$.
- ב. לאילו ערכי C קו הגובה $f(x, y) = C$ הוא קו רציף?
ציירו את קו הגובה במקרה זה.

הערות

- * בסוף קובץ זה תמצאו סיכום של כל המשטחים הנפוצים.
- ** קווי גובה = קווי רמה = עקומות אדישות = עקומות שוות ערך.

תשובות סופיות

- (1) $x \neq 0$, המישור ללא ציר ה- y .
- (2) $x > 0, y > 0$, הרביע הראשון ללא הצירים.
- (3) כל המישור.
- (4) $x^2 + y^2 \leq 1$, עיגול היחידה.
- (5) $y < x^2$
- (6) $y \geq 0$, חצי המישור העליון.

לפתרונות מלאים ושרטוטים של שאר השאלות, היכנסו לאתר: Gool.co.il

משטחי רמה לפונקציה של שלושה משתנים

שאלות

- (1) נתונה הפונקציה $f(x, y, z) = \sqrt{4 - x^2 - y^2} - z$. מצאו את משטח הרמה 2 של הפונקציה ושרטטו אותו.
- (2) נתונה הפונקציה $f(x, y, z) = z + x^2 + y^2$. מצאו את משטח הרמה 4 של הפונקציה ושרטטו אותו.
- (3) עבור כל אחת מהפונקציות הבאות מצאו את משטחי הרמה:
 א. $f(x, y, z) = 4^{x+y-z}$
 ב. $f(x, y, z) = z - x^2 - y^2$
- (4) נתונה הפונקציה $f(x, y, z) = \frac{x^2 + y^2}{x^2 + z^2}$. מצאו את משטחי הרמה של הפונקציה.
- (5) נתונה הפונקציה $f(x, y, z) = z^2 - y^2 - x^2$. מצאו את משטחי הרמה של הפונקציה.

תשובות סופיות

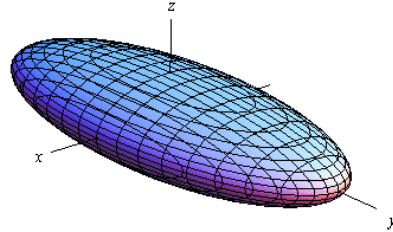
- (1) חצי ספירה עליונה שמרכזה בנקודה $(0, 0, -2)$ ורדיוסה 2.
- (2) פרבולואיד אליפטי שמרכזו בנקודה $(0, 0, 4)$ ונפתח כלפי מטה.
- (3) א. מישורים.
 ב. משטח רמה k הוא פרבולואיד אליפטי, שמרכזו בנקודה $(0, 0, k)$ ונפתח כלפי מעלה.
- (4) עבור $k < 0$ לא קיים משטח רמה k .
 עבור $k = 0$ נקודה $(0, 0, 0)$. עבור $k = 1$ מישורים.
 עבור $k > 1$ חרוט אליפטי שמרכזו על ציר ה- y .
 עבור $0 < k < 1$ חרוט אליפטי שמרכזו על ציר ה- z .
- (5) עבור $k < 0$ היפרבולואיד חד-יריעתי. עבור $k = 0$ חרוט אליפטי.
 עבור $k < 0$ היפרבולואיד דו-יריעתי.

נספח – משטחים ממעלה שנייה

אליפסואיד

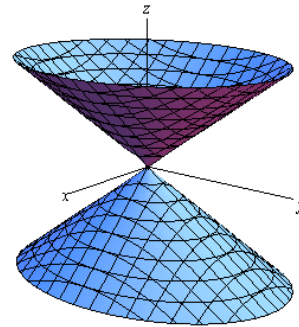
$$\frac{x^2}{a^2} + \frac{y^2}{b^2} + \frac{z^2}{c^2} = 1 : \text{משוואה}$$

תיאור: החתכים במישורי הקואורדינטות הם אליפסות; כך הם גם החתכים במישורים מקבילים. אם $a=b=c$, נקבל כדור עם רדיוס a והחתכים הנ"ל הם מעגלים.

חרוט אליפטי

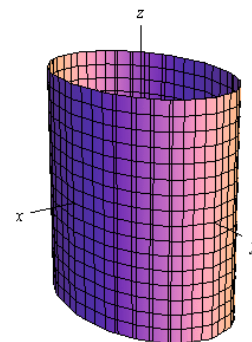
$$\frac{x^2}{a^2} + \frac{y^2}{b^2} = \frac{z^2}{c^2} : \text{משוואה}$$

תיאור: החתך במישור xy הוא נקודה (הראשית); החתכים במישורים מקבילים למישור xy הם אליפסות. החתכים במישור xz ו- yz הם זוג ישרים הנחתכים בראשית; החתכים במישורים מקבילים למישורים אלו הם היפרבולות. * מרכז החרוט הוא על הציר המתאים למשתנה המופיע לבד באחד האגפים.

גליל אליפטי

$$\frac{x^2}{a^2} + \frac{y^2}{b^2} = 1 : \text{משוואה}$$

תיאור: החתך במישור xy הוא אליפסה; כך הם החתכים במישורים מקבילים למישור xy . החתכים במישור xz ו- yz הם זוג ישרים מקבילים וכך הם החתכים במישורים מקבילים למישורים אלו. במידה ומשוואת הגליל היא $x^2 + y^2 = r^2$, החתכים הנ"ל הם מעגלים. * מרכז הגליל הוא על הציר המתאים למשתנה שאינו מופיע במשוואת הגליל.

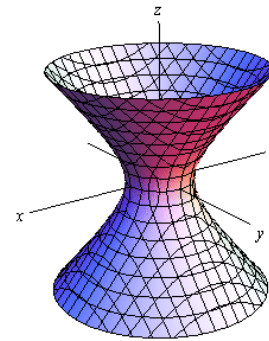


היפרבולואיד חד-יריעתי

$$\text{משוואה: } \frac{x^2}{a^2} + \frac{y^2}{b^2} - \frac{z^2}{c^2} = 1$$

תיאור: החתך במישור xy הוא אליפסה; כך הם החתכים במישורים מקבילים למישור xy . החתכים במישור xz ו- yz הם היפרבולות; כך הם גם החתכים במישורים מקבילים למישורים אלו.

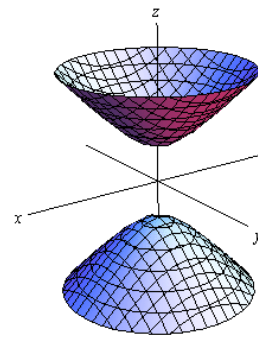
* מרכז היפרבולואיד חד-יריעתי הוא על הציר המתאים למשתנה שלפניו המינוס.

היפרבולואיד דו-יריעתי

$$\text{משוואה: } \frac{x^2}{a^2} + \frac{y^2}{b^2} - \frac{z^2}{c^2} = -1$$

תיאור: למשטח זה אין חתך במישור xy ; החתכים במישורים מקבילים למישור xy , החותכים את המשטח, הם אליפסות. החתכים במישור xz ו- yz הם היפרבולות; כך הם גם החתכים במישורים מקבילים למישורים אלו.

* מרכז היפרבולואיד דו-יריעתי הוא על הציר המתאים למשתנה שלפניו המינוס.

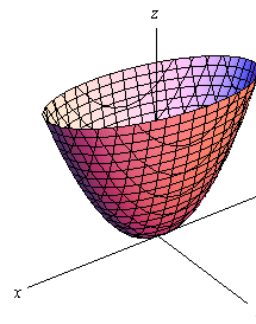
פרבולואיד אליפטי

$$\text{משוואה: } \frac{x^2}{a^2} + \frac{y^2}{b^2} = \frac{z}{c}$$

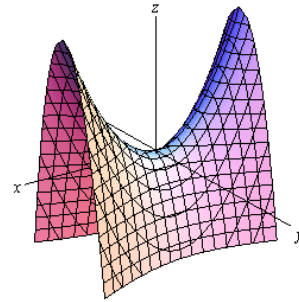
תיאור: החתך במישור xy הוא נקודה (הראשית); החתכים במישורים מקבילים למישור xy ונמצאים מעליו הם אליפסות. החתכים במישור xz ו- yz הם פרבולות; כך הם גם החתכים במישורים מקבילים למישורים אלו.

* מרכז הפרבולואיד האליפטי הוא על הציר המתאים למשתנה המופיע ללא ריבוע.

* אם $c > 0$ הפרבולואיד נפתח כלפי מעלה ואם $c < 0$ הפרבולואיד נפתח כלפי מטה.



פרבולואיד היפרבולי



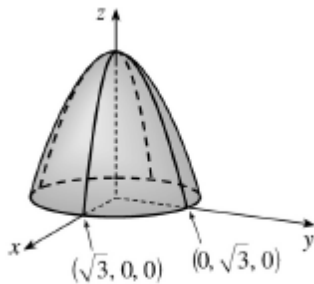
$$\text{משוואה: } \frac{x^2}{a^2} - \frac{y^2}{b^2} = \frac{z}{c}$$

תיאור: החתך במישור xy הוא זוג ישרים נחתכים בראשית; החתכים במישורים מקבילים למישור xy הם היפרבולות; אלו שמעל למישור xy נפתחות בכיוון ציר ה- x ואלו שמתחת למישור xy נפתחות בכיוון ציר ה- y . החתכים במישור xz ו- yz הם פרבולות; כך הם גם החתכים במישורים מקבילים למישורים אלו.

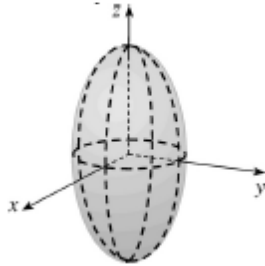
* מרכז הפרבולואיד האליפטי הוא על הציר המתאים למשתנה המופיע ללא ריבוע.

* אם $c > 0$ הפרבולואיד נפתח כלפי מעלה ואם $c < 0$ הפרבולואיד נפתח כלפי מטה.

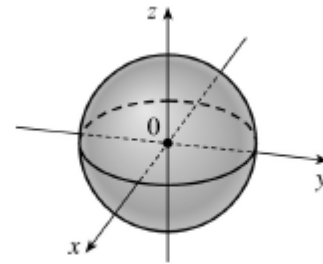
דוגמאות שונות



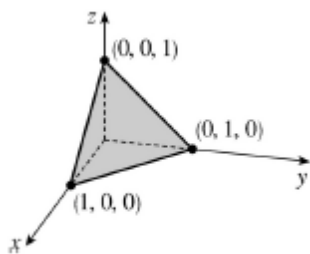
$$z = 3 - x^2 - y^2$$



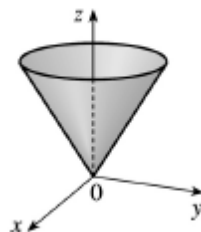
$$\frac{x^2}{4} + \frac{y^2}{4} + \frac{z^2}{16} = 1$$



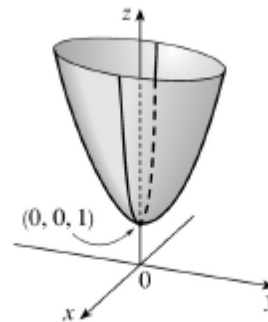
$$x^2 + y^2 + z^2 = 1$$



$$x + y + z = 1$$



$$z = \sqrt{x^2 + y^2}$$



$$z = 4x^2 + y^2 + 1$$

חשבון אינפיניטימלי 2

פרק 7 - גבולות ורציפות של פונקציות של מספר משתנים

תוכן העניינים

94	1. גבול של פונקציה של שני משתנים
97	2. רציפות של פונקציה של שני משתנים
100	3. נוסחאות – גבולות

גבול של פונקציה של שני משתנים

שאלות

חשבו את הגבולות בשאלות 1-9:

$$\lim_{(x,y) \rightarrow (0,0)} \frac{\sin(x^3 y)}{x^3 y} \quad (1)$$

$$\lim_{(x,y) \rightarrow (3,2)} \frac{\sin(xy - 6)}{x^2 y^2 - 36} \quad (2)$$

$$\lim_{(x,y) \rightarrow (1,2)} \frac{\arctan(x + y - 3)}{\ln(x + y - 2)} \quad (3)$$

$$\lim_{(x,y) \rightarrow (0,0^+)} (x^2 + y) \ln(x^2 + y) \quad (4)$$

$$\lim_{(x,y) \rightarrow (1^+, 1^+)} \frac{\sin(\sqrt{x + 2y - 3})}{x + 2y - 3} \quad (5)$$

$$\lim_{(x,y) \rightarrow (1,2)} \frac{\sqrt{2x + y - 3} - 1}{2x + y - 4} \quad (6)$$

$$\lim_{(x,y) \rightarrow (1,1)} \frac{xy - y^2}{\sqrt{x} - \sqrt{y}} \quad (7)$$

$$\lim_{(x,y,z) \rightarrow (0,1,2)} \frac{\sin(x(y^2 + z^2))}{xy^2} \quad (8)$$

$$\lim_{(x,y) \rightarrow (0,0)} \frac{\sin(\sqrt{x^2 + y^2})}{\sqrt[3]{x^2 + y^2}} \quad (9)$$

חשבו את הגבולות בשאלות 10-17 :

$$\lim_{\substack{x \rightarrow 0 \\ y \rightarrow 0}} |y|^x \quad (11)$$

$$\lim_{\substack{x \rightarrow 0 \\ y \rightarrow 0}} \frac{(x^2 + y^2)^2}{x^4 + y^2} \quad (10)$$

$$\lim_{\substack{x \rightarrow 0 \\ y \rightarrow 0}} \frac{x}{y} \quad (13)$$

$$\lim_{\substack{x \rightarrow 0 \\ y \rightarrow 0}} \frac{x^3 + y^2}{x^2 + y^2} \quad (12)$$

$$\lim_{\substack{x \rightarrow 0 \\ y \rightarrow 0}} \frac{x^3 y}{2x^6 + y^2} \quad (15)$$

$$\lim_{\substack{x \rightarrow 0 \\ y \rightarrow 0}} \frac{x^2 y}{x^4 + y^2} \quad (14)$$

$$\lim_{\substack{x \rightarrow 0 \\ y \rightarrow 0 \\ z \rightarrow 0}} \frac{xyz}{x^2 + y^4 + z^4} \quad (17)$$

$$\lim_{\substack{x \rightarrow 0 \\ y \rightarrow 0}} \frac{\sin(xy)}{x^2 + y^2} \quad (16)$$

חשבו את הגבולות בשאלות 18-25 :

$$\lim_{(x,y) \rightarrow (\infty, \infty)} \frac{x-y}{x^2 + yx + y^4} \quad (19)$$

$$\lim_{(x,y) \rightarrow (0,0)} \frac{x^3 y}{x^2 + y^2} \quad (18)$$

$$\lim_{(x,y) \rightarrow (0,0)} \frac{x^4 + y^4}{x^2 + y^2} \quad (21)$$

$$\lim_{(x,y) \rightarrow (0,0)} \frac{\sin(xy)}{\sqrt{x^2 + y^2}} \quad (20)$$

$$\lim_{(x,y) \rightarrow (0,0)} \frac{4x^2 y - 5y^4}{x^2 + 4y^2} \quad (23)$$

$$\lim_{(x,y) \rightarrow (0,0)} \frac{3x^2 - x^2 y^2 + 3y^2}{x^2 + y^2} \quad (22)$$

$$\lim_{(x,y,z) \rightarrow (0,0,0)} \frac{x^3 + y^3 + z^3}{x^2 + y^2 + z^2} \quad (25)$$

$$\lim_{(x,y) \rightarrow (0,0)} y \ln(x^2 + y^2) \quad (24)$$

* בשאלות 18, 20-23 ו-25 מומלץ לנסות לפתור בשתי דרכים שונות.

(26) ענו על הסעיפים הבאים :

א. חשבו את הגבול $\lim_{\substack{x \rightarrow 0 \\ y \rightarrow 0}} \frac{x^3 y}{x^3 + y^2}$.

ב. היעזרו בגבול הידוע $\lim_{t \rightarrow 0} \frac{\sin t}{t} = 1$, וחשבו את הגבול $\lim_{\substack{x \rightarrow 0 \\ y \rightarrow 0}} \frac{\sin(x^3 y)}{x^3 + y^2}$.

ג. היעזרו בגבול הידוע $\lim_{t \rightarrow 0} \frac{e^t - 1}{t} = 1$, וחשבו את הגבול $\lim_{\substack{x \rightarrow 0 \\ y \rightarrow 0}} \frac{e^{x^3 y} - 1}{x^3 + y^2}$.

ד. היעזרו בגבול הידוע $\lim_{t \rightarrow 0} \frac{\ln(t+1)}{t} = 1$, וחשבו את הגבול $\lim_{\substack{x \rightarrow 0 \\ y \rightarrow 0}} \frac{\ln(x^3 y + 1)}{x^3 + y^2}$.

* קחו בחשבון שייתכן שהגבול הידוע לא יינתן בגוף השאלה.

(27) הוכיחו לפי ההגדרה כי $\lim_{\substack{x \rightarrow 0 \\ y \rightarrow 0}} (\sin x + \cos y) = 1$.

(28) הוכיחו לפי ההגדרה כי $\lim_{\substack{x \rightarrow 2 \\ y \rightarrow 1}} x^2 y = 4$.

(29) הוכיחו לפי ההגדרה כי $\lim_{\substack{x \rightarrow 1 \\ y \rightarrow 4}} 2x^2 y = 8$.

תשובות סופיות

1 (1)

 $\frac{1}{12}$ (2)

1 (3)

0 (4)

אינסוף. (5)

 $\frac{1}{2}$ (6)

2 (7)

5 (8)

0 (9)

(10) – (17) אין לפונקציה גבול.

0 (18)

0 (19)

0 (20)

0 (21)

3 (22)

0 (23)

0 (24)

0 (25)

0 א-ד. (26)

(27) שאלת הוכחה.

(28) שאלת הוכחה.

(29) שאלת הוכחה.

רציפות של פונקציה של שני משתנים

שאלות

בשאלות 1-3 בדקו את רציפות הפונקציות בנקודה $(0,0)$. במידה והפונקציה אינה רציפה בנקודה, האם ניתן להגדיר אותה כך שתהיה רציפה בנקודה?

$$f(x, y) = \begin{cases} \frac{\sin(x^2 + y^2)}{x^2 + y^2} & (x, y) \neq (0, 0) \\ 2 & (x, y) = (0, 0) \end{cases} \quad (1)$$

$$f(x, y) = \begin{cases} \frac{x^3 + y^3}{x^2 + y^2} & (x, y) \neq (0, 0) \\ 0 & (x, y) = (0, 0) \end{cases} \quad (2)$$

$$f(x, y) = \begin{cases} \frac{x^2 y}{x^3 + y} & (x, y) \neq (0, 0) \\ 0 & (x, y) = (0, 0) \end{cases} \quad (3)$$

בשאלות 4-5 בדקו את רציפות הפונקציות בנקודה $(1,4)$.

$$f(x, y) = \begin{cases} \frac{(x-1)(y-4)^2}{(x-1)^2 + \sin^2(y-4)} & (x, y) \neq (1, 4) \\ 0 & (x, y) = (1, 4) \end{cases} \quad (4)$$

$$f(x, y) = \begin{cases} \frac{(x-1)(y-4)}{(x-1)^2 + \sin^2(y-4)} & (x, y) \neq (1, 4) \\ 0 & (x, y) = (1, 4) \end{cases} \quad (5)$$

$$f(x, y) = \begin{cases} \frac{x^m \sin y}{x^2 + 5y^2} & (x, y) \neq (0, 0) \\ 0 & (x, y) = (0, 0) \end{cases} \quad (6) \quad \text{נתון}$$

כאשר m קבוע.

עבור אילו ערכים של m הפונקציה רציפה בראשית?

7 נתונה פונקציה ממשית רציפה $f = f(x)$, שאינה פונקציה קבועה,

$$g(x, y) = \begin{cases} f\left(\frac{x^2 - 4y^2}{x^2 + 5y^2}\right) & (x, y) \neq (0, 0) \\ 0 & (x, y) = (0, 0) \end{cases}$$

האם הפונקציה g רציפה בנקודה $(0, 0)$?

8 הוכיחו או הפריכו את הטענה הבאה:

אם $\lim_{x \rightarrow 0} f(x, y) = f(0, y)$ לכל y ,

וגם $\lim_{y \rightarrow 0} f(x, y) = f(x, 0)$ לכל x ,

אז $\lim_{\substack{x \rightarrow 0 \\ y \rightarrow 0}} f(x, y) = f(0, 0)$.

9 פונקציה $f(x, y)$ מקיימת $|f(x, y)| \leq \sin^2(x^4 + y^4)$, לכל (x, y) .

הוכיחו שהפונקציה רציפה בנקודה $(0, 0)$.

10 מה צריך להיות הערך של הקבוע k (אם בכלל), על מנת שהפונקציה

$$f(x, y, z) = \begin{cases} \frac{xyz}{x^2 + y^2 + z^2} & (x, y, z) \neq (0, 0, 0) \\ k & (x, y, z) = (0, 0, 0) \end{cases}$$

תהיה רציפה בכל המרחב?

11 נתון כי:

לכל x מתקיים $|f(x, y_2) - f(x, y_1)| \leq |y_2 - y_1|$ (תנאי ליפשיץ לפי המשתנה y).

לכל y מתקיים $|f(x_2, y) - f(x_1, y)| \leq |x_2 - x_1|$ (תנאי ליפשיץ לפי המשתנה x).

הוכיחו כי $f(x, y)$ רציפה בכל המישור.

12 הוכיחו או הפריכו:

נתון כי $f(x, y)$ רציפה בכל המישור.

$$z(x, y) = \frac{f(x, y)}{\sqrt{(x-y)^2 - 100}}$$

ידוע כי $z(1, 14) < 0$, $z(14, 1) > 0$.

אז בתחום ההגדרה של z קיימת נקודה (c_1, c_2) , כך ש- $z(c_1, c_2) = 0$.

תשובות סופיות

- (1) הפונקציה לא רציפה. אם נגדיר $f(0,0) = 1$, הפונקציה תהיה רציפה.
- (2) הפונקציה רציפה.
- (3) הפונקציה אינה רציפה. אין לה בכלל גבול.
- (4) הפונקציה רציפה.
- (5) הפונקציה לא רציפה. אין לה בכלל גבול.
- (6) עבור $m > 1$ הפונקציה רציפה, ועבור $m \leq 1$ הפונקציה לא רציפה.
- (7) הפונקציה לא רציפה.
- (8) שאלת הוכחה.
- (9) שאלת הוכחה.
- (10) $k = 0$
- (11) שאלת הוכחה.
- (12) שאלת הוכחה.

נוסחאות – גבולות

	$x \rightarrow -\infty$	$x \rightarrow 0$	$x \rightarrow \infty$
$y = \frac{1}{x}$	$\frac{1}{-\infty} = 0$	$\frac{1}{0^+} = \infty, \frac{1}{0^-} = -\infty$	$\frac{1}{\infty} = 0$
$y = e^x$	$e^{-\infty} = 0$	$e^0 = 1$	$e^\infty = \infty$
$y = \ln x$	---	$\ln(0^+) = -\infty$	$\ln(\infty) = \infty$
$y = \arctan x$	$\text{atan}(-\infty) = -\frac{\pi}{2}$	$\text{atan}(0) = 0$	$\text{atan}(\infty) = \frac{\pi}{2}$
$y = a^x, a > 1$	$a^{-\infty} = 0$	$a^0 = 1$	$a^\infty = \infty$
$y = a^x, 0 < a < 1$	$a^{-\infty} = \infty$	$a^0 = 1$	$a^\infty = 0$
$y = \sin x$	---	$\sin 0 = 0$	---
$y = \cos x$	---	$\cos 0 = 1$	---
$y = \frac{\sin x}{x}$	0	1	0
$y = \frac{\tan x}{x}$	---	1	---
$y = \left(1 + \frac{1}{x}\right)^x$	e	(from right) 1	e
$y = (1+x)^{\frac{1}{x}}$	---	e	1
$y = \sqrt{x}$	---	$\sqrt{0^+} = 0$	$\sqrt{\infty} = \infty$
$y = \sqrt[3]{x}$	$-\infty$	$\sqrt[3]{0} = 0$	$\sqrt[3]{\infty} = \infty$

Defined Limits:

$$\infty \cdot \infty = \infty, \quad \infty(-\infty) = -\infty, \quad \infty + \infty = \infty, \quad \infty \pm a = \infty, \quad \infty \cdot (\pm a) = \pm \infty, \quad \infty / (\pm a) = \pm \infty$$

Undefined Limits :

$$\frac{0}{0}, \frac{\infty}{\infty}, \infty - \infty, 0 \cdot \infty, 1^\infty, 0^0, \infty^0$$

חשבון אינפיניטימלי 2

פרק 8 - נגזרות חלקיות דיפרנציאביליות

תוכן העניינים

101	1. נגזרות חלקיות מסדר ראשון
103	2. נגזרות חלקיות מסדר שני
107	3. נגזרות חלקיות לפי הגדרה
109	4. דיפרנציאביליות

נגזרות חלקיות מסדר ראשון

שאלות

בשאלות 1-10 חשבו את הנגזרות החלקיות מסדר ראשון של הפונקציה הנתונה.

$$f(x, y) = x^5 \ln y \quad (2) \qquad f(x, y) = 4x^3 - 3x^2y^2 + 2x + 3y \quad (1)$$

$$f(x, y) = (x^2 + y^3) \cdot (2x + 3y) \quad (4) \qquad f(x, y) = \frac{x^2 y^4 (\sqrt{y} + 5 \ln y)}{y^2 + 5y + y^y} \quad (3) \text{ (רק } f_x \text{)}$$

$$f(x, y) = \sin(xy) \quad (6) \qquad f(x, y) = \frac{x^2 - 3y}{x + y^2} \quad (5)$$

$$f(r, \theta) = r \cos \theta \quad (8) \qquad f(x, y) = \arctan(2x + 3y) \quad (7)$$

$$f(u, v, t) = e^{uv} \sin(ut) \quad (10) \qquad f(x, y, z) = xy^2z^3 \quad (9)$$

$$z(x, y) = \ln(\sqrt{x} + \sqrt{y}) \quad (11) \text{ נתון}$$

$$x \cdot \frac{\partial z}{\partial x} + y \cdot \frac{\partial z}{\partial y} = \frac{1}{2} \text{ הוכיחו כי}$$

$$f(x, y, z) = e^x \left(y^2 - \frac{1}{z} \right) \quad (12) \text{ נתון}$$

$$\text{חשבו } \frac{\partial f}{\partial x} \left(0, -1, \frac{1}{2} \right), \frac{\partial f}{\partial y} \left(0, -1, \frac{1}{2} \right), \frac{\partial f}{\partial z} \left(0, -1, \frac{1}{2} \right)$$

הערת סימון

$$f = f(x, y) \Rightarrow f_x = \frac{\partial f}{\partial x} = f_1 ; f_y = \frac{\partial f}{\partial y} = f_2$$

תשובות סופיות

$$f_y = -6x^2y + 3 \qquad f_x = 12x^2 - 6xy^2 + 2 \quad (1)$$

$$f_y = \frac{x^5}{y} \qquad f_x = 5x^4 \ln y \quad (2)$$

$$f_x = 2x \frac{y^4(\sqrt{y} + 5 \ln y)}{y^2 + 5y + y^y} \quad (3)$$

$$f_y = 6xy^2 + 12y^3 + 3x^2 \qquad f_x = 6x^2 + 6xy + 2y^3 \quad (4)$$

$$f_y = \frac{-3x + 3y^2 - 2x^2y}{(x + y^2)^2} \qquad f_x = \frac{x^2 + 2xy^2 + 3y}{(x + y^2)^2} \quad (5)$$

$$f_y = \cos(xy) \cdot x \qquad f_x = \cos(xy) \cdot y \quad (6)$$

$$f_y = \frac{3}{1 + (2x + 3y)^2} \qquad f_x = \frac{2}{1 + (2x + 3y)^2} \quad (7)$$

$$f_\theta = -r \sin \theta \qquad f_r = \cos \theta \quad (8)$$

$$f_z = 3xy^2z^2 \qquad f_y = 2xyz^3 \qquad f_x = y^2z^3 \quad (9)$$

$$f_t = u \cdot e^{uv} \cdot \cos ut \qquad f_v = u \cdot e^{uv} \cdot \sin ut \qquad f_u = e^{uv} [v \sin ut + t \cos ut] \quad (10)$$

שאלת הוכחה. (11)

$$\frac{\partial f}{\partial x} \left(0, -1, \frac{1}{2} \right) = -1, \quad \frac{\partial f}{\partial y} \left(0, -1, \frac{1}{2} \right) = -2, \quad \frac{\partial f}{\partial z} \left(0, -1, \frac{1}{2} \right) = 4 \quad (12)$$

הערת סימון

$$\begin{array}{l}
 f_x = \frac{\partial f}{\partial x} = f_1 \qquad f_y = \frac{\partial f}{\partial y} = f_2 \\
 f = f(x, y) \Rightarrow f_{xx} = \frac{\partial^2 f}{\partial x^2} = f_{11} \qquad f_{yy} = \frac{\partial^2 f}{\partial y^2} = f_{22} \\
 f_{xy} = \frac{\partial^2 f}{\partial y \partial x} = f_{12} \qquad f_{yx} = \frac{\partial^2 f}{\partial x \partial y} = f_{21}
 \end{array}$$

נגזרות חלקיות מסדר שני

שאלות

בשאלות 1-14 חשבו את כל הנגזרות החלקיות עד סדר שני של הפונקציה הנתונה:

$$f(x, y) = 4x^2 - x^2y^2 + 4x + 10y \quad (1)$$

$$f(x, y) = x^4 \ln y \quad (2)$$

$$f(x, y) = x^3 + y^3 - 6xy \quad (3)$$

$$f(x, y) = x^3 + y^3 + 3(1-y)(x+y) \quad (4)$$

$$f(x, y) = xy(x-y) \quad (5)$$

$$f(x, y) = (x-9)(2y-6)(4x-3y+12) \quad (6)$$

$$f(x, y) = e^{xy}(x+y) \quad (7)$$

$$f(x, y) = e^{x+y}(x^2 + y^2) \quad (8)$$

$$f(x, y) = (x^2 + 2y^2)e^{-(x^2+y^2)} \quad (9)$$

$$f(x, y) = \ln(1 + x^2 + y^2) \quad (10)$$

$$f(x, y) = \ln(x^2 + y^2) \quad (11)$$

$$f(x, y) = \ln(\sqrt[3]{x^2 + y^2}) \quad (12)$$

$$f(x, y) = \sin(10x + 4y) \quad (13)$$

$$f(x, y, z) = xyz \quad (14)$$

15) חשבו $f'_{xy}(1,1)$, עבור $f(x, y) = \ln(xy - x^2 - y^2)$.

16) חשבו $f'_{xy}(1,1)$, עבור $f(x, y) = \ln(x^2 + y^2)$.

17) חשבו $f'_{xy}(1,1)$, עבור $f(x, y) = \sqrt{x^2 + y^2}$.

18) נתון $f(x, y) = \frac{x^2}{\ln y + x}$

חשבו $\frac{\partial^2 f}{\partial x^2}(1, e)$, $\frac{\partial^2 f}{\partial y^2}(1, e)$, $\frac{\partial^2 f}{\partial x \partial y}(1, e)$.

הערת סימון

$f = f(x, y) \Rightarrow \begin{array}{ll} f_x = \frac{\partial f}{\partial x} = f_1 & f_y = \frac{\partial f}{\partial y} = f_2 \\ f_{xx} = \frac{\partial^2 f}{\partial x^2} = f_{11} & f_{yy} = \frac{\partial^2 f}{\partial y^2} = f_{22} \\ f_{xy} = \frac{\partial^2 f}{\partial y \partial x} = f_{12} & f_{yx} = \frac{\partial^2 f}{\partial x \partial y} = f_{21} \end{array}$

תשובות סופיות

$$\begin{array}{lll}
 f_y = -2x^2y + 10 & f_{xx} = 8 - 2y^2 & f_x = 8x - 2xy^2 + 4 \quad (1) \\
 f_{yx} = -4xy & f_{xy} = -4xy & f_{yy} = -2x^2 \\
 f_y = \frac{x^4}{y} & f_{xx} = 12x^2 \ln y & f_x = 4x^3 \ln y \quad (2) \\
 f_{yx} = \frac{4x^3}{y} & f_{xy} = \frac{4x^3}{y} & f_{yy} = -\frac{x^4}{y^2} \\
 f_y = 3y^2 - 6x & f_{xx} = 6x & f_x = 3x^2 - 6y \quad (3) \\
 f_{yx} = -6 & f_{xy} = 6 & f_{yy} = 6y \\
 f_y = 3y^2 + 3 - 3x - 6y & f_{xx} = 6x & f_x = 3x^2 + 3 - 3y \quad (4) \\
 & f_{xy} = -3 & f_{yy} = 6y - 6 \\
 f_y = x^2 - 2xy & f_{xx} = 2y & f_x = 2xy - y^2 \quad (5) \\
 & f_{xy} = f_{yx} = 2x - 2y & f_{yy} = -2x \\
 & f_x = 2[8xy - 3y^2 \cdot 1 - 24x - 0 + 57y \cdot 1 + 72 + 0 + 0] & (6) \\
 & f_y = 2[4x^2 \cdot 1 - 3x \cdot 2y - 0 - 54y + 57x \cdot 1 + 0 + 27 + 0] \\
 & f_{yy} = 2[0 - 6x \cdot 1 - 54 + 0 + 0] & f_{xx} = 2[8y - 0 - 24] \\
 & & f_{xy} = 2[8x \cdot 1 - 6y - 0 + 57 + 0] \\
 & f_y = e^{xy}(x^2 + xy + 1) & f_x = e^{xy}(xy + y^2 + 1) \quad (7) \\
 f_{yy} = e^{xy} \cdot x(x^2 + xy + 1) + (0 + x) \cdot e^{xy} & f_{xx} = e^{xy} \cdot y(xy + y^2 + 1) + (y + 0 + 0) \cdot e^{xy} \\
 & f_{xy} = e^{xy} \cdot x(xy + y^2 + 1) + (x + 2y) \cdot e^{xy} \\
 f_y = e^{x+y}(x^2 + y^2 + 2y) & f_x = e^{x+y}(x^2 + y^2 + 2x) & (8) \\
 & , f_{xx} = e^{x+y}(x^2 + y^2 + 2x) + (2x + 2)e^{x+y} \\
 & f_{yy} = e^{x+y}(x^2 + y^2 + 2y) + (2y + 2)e^{x+y} \\
 & f_{xy} = e^{x+y}(x^2 + y^2 + 2x) + 2y \cdot e^{x+y} \\
 f_y = e^{-x^2-y^2}(4y - 2x^2y - 4y^3) & f_x = e^{-x^2-y^2}(2x - 2x^3 - 4xy^2) & (9) \\
 & f_{xx} = e^{-x^2-y^2}(-2x)(2x - 2x^3 - 4xy^2) + (2 - 6x^2 - 4y^2)e^{-x^2-y^2} \\
 & f_{yy} = e^{-x^2-y^2}(-2y)(4y - 2x^2y - 4y^3) + (4 - 2x^2 - 12y^2)e^{-x^2-y^2} \\
 & f_{xy} = e^{-x^2-y^2}(-2y)(2x - 2x^3 - 4xy^2) + (-4x \cdot 2y)e^{-x^2-y^2}
 \end{array}$$

$$f_y = \frac{2y}{1+x^2+y^2} \qquad f_x = \frac{2x}{1+x^2+y^2} \quad (10)$$

$$f_{yy} = \frac{2 \cdot (1+x^2+y^2) - 2y \cdot 2y}{(1+x^2+y^2)^2} \qquad f_{xy} = \frac{2y \cdot 2x}{(1+x^2+y^2)^2}$$

$$f_{xx} = \frac{2(x^2+y^2) - 2x \cdot 2x}{(x^2+y^2)^2} \qquad f_y = \frac{2y}{x^2+y^2} \qquad f_x = \frac{2x}{x^2+y^2} \quad (11)$$

$$f_{xy} = \frac{0(x^2+y^2) - 2y \cdot 2x}{(x^2+y^2)^2} \qquad f_{yy} = \frac{2(x^2+y^2) - 2y \cdot 2y}{(x^2+y^2)^2}$$

$$f_{xx} = \frac{2(x^2+y^2) - 2x \cdot 2x}{(x^2+y^2)^2} \cdot \frac{1}{3} \qquad f_y = \frac{2y}{x^2+y^2} \cdot \frac{1}{3} \qquad f_x = \frac{2x}{x^2+y^2} \cdot \frac{1}{3} \quad (12)$$

$$f_{xy} = \frac{0(x^2+y^2) - 2y \cdot 2x}{(x^2+y^2)^2} \cdot \frac{1}{3} \qquad f_{yy} = \frac{2(x^2+y^2) - 2y \cdot 2y}{(x^2+y^2)^2} \cdot \frac{1}{3}$$

$$f_{xx} = -100 \sin(10x+4y) \qquad f_x = 10 \cos(10x+4y) \quad (13)$$

$$f_{yy} = -16 \sin(10x+4y) \qquad f_y = 4 \cos(10x+4y)$$

$$f_{yx} = -40 \sin(10x+4y) \qquad f_{xy} = -40 \sin(10x+4y)$$

$$f_{xz} = y \qquad f_{xy} = z \qquad f_{xx} = 0 \qquad f_x = yz \quad (14)$$

$$f_{yz} = x \qquad f_{yy} = 0 \qquad f_{yx} = z \qquad f_y = xz$$

$$f_{zz} = 0 \qquad f_{zy} = x \qquad f_{zx} = y \qquad f_z = xy$$

$$-2 \quad (15)$$

$$-1 \quad (16)$$

$$-\frac{1}{2\sqrt{2}} \quad (17)$$

$$\frac{4}{e^2} \left(1 + \frac{1}{e}\right) \quad (18)$$

16

נגזרות חלקיות לפי ההגדרה

שאלות

$$(1) \quad \text{נתונה הפונקציה} \quad f(x, y) = \begin{cases} \frac{xy}{x^2 + y^2} & (x, y) \neq (0, 0) \\ 0 & (x, y) = (0, 0) \end{cases}$$

- א. חשבו את הנגזרות החלקיות של הפונקציה הבאה בנקודה $(0, 0)$.
 ב. האם הפונקציה רציפה בנקודה $(0, 0)$?
 ג. האם פונקציה גזירה חלקית היא בהכרח רציפה?

$$(2) \quad \text{מצאו את הנגזרות החלקיות של} \quad f(x, y) = \begin{cases} \frac{x^3}{x^2 + y^2} & (x, y) \neq (0, 0) \\ 0 & (x, y) = (0, 0) \end{cases}$$

בנקודה $(0, 0)$.

$$(3) \quad \text{מצאו את הנגזרות החלקיות של} \quad f(x, y) = \begin{cases} \frac{(y + x^2)^2}{y^2 + x^4} & (x, y) \neq (0, 0) \\ 1 & (x, y) = (0, 0) \end{cases}$$

בנקודה $(0, 0)$.

$$(4) \quad \text{נתונה הפונקציה} \quad f(x, y) = \begin{cases} \frac{y \sin x}{x^2 + y^2} & (x, y) \neq (0, 0) \\ 0 & (x, y) = (0, 0) \end{cases}$$

- א. הוכיחו שהפונקציה לא רציפה בנקודה $(0, 0)$.
 ב. הוכיחו שלפונקציה קיימות נגזרות חלקיות בנקודה $(0, 0)$ וחשבו אותן.

$$(5) \quad \text{נתונה הפונקציה} \quad f(x, y) = \begin{cases} \frac{x^3 + y^4}{x^2 + y^2} & (x, y) \neq (0, 0) \\ 0 & (x, y) = (0, 0) \end{cases}$$

- א. חשבו את הנגזרות החלקיות של הפונקציה.
 ב. האם הנגזרות החלקיות של הפונקציה רציפות בנקודה $(0, 0)$?

$$6 \quad \text{נתונה הפונקציה} \quad f(x, y) = \begin{cases} xy \frac{x^2 - y^2}{x^2 + y^2} & (x, y) \neq (0, 0) \\ 0 & (x, y) = (0, 0) \end{cases}$$

א. בדקו האם $f_{xy}(0, 0) = f_{yx}(0, 0)$, על ידי חישוב ישיר.

ב. האם הנגזרות המעורבות רציפות בנקודה $(0, 0)$?

ג. האם $f_{xyxy}(1, 4) = f_{yxxy}(1, 4)$.

הערה

תרגילים נוספים בהמשך הפרק, תחת הכותרת דיפרנציאביליות – שאלות 6 ו-7 סעיף ב'.

תשובות סופיות

1 (א. $f_x(0, 0) = 0$, $f_y(0, 0) = 0$. ב. לא רציפה בנקודה $(0, 0)$.)

ג. פונקציה גזירה חלקית אינה בהכרח רציפה.

2 $f_x(0, 0) = 1$, $f_y(0, 0) = 0$

3 $f_x(0, 0) = 0$, $f_y(0, 0) = 0$

4 א. שאלת הוכחה. ב. $f_x(0, 0) = 0$, $f_y(0, 0) = 0$.

$$5 \quad \text{א.} \quad f_x(x, y) = \begin{cases} \frac{x^4 + 3x^2y^2 - 2xy^4}{(x^2 + y^2)^2} & (x, y) \neq (0, 0) \\ 1 & (x, y) = (0, 0) \end{cases}$$

ב. לא רציפות.

$$f_y(x, y) = \begin{cases} \frac{2y^5 + 4x^2y^3 - 2x^3y}{(x^2 + y^2)^2} & (x, y) \neq (0, 0) \\ 0 & (x, y) = (0, 0) \end{cases}$$

6 א. $f_{xy}(0, 0) = -1 \neq f_{yx}(0, 0) = 1$

ב. הנגזרות המעורבות לא רציפות בנקודה $(0, 0)$. ג. כן.

דיפרנציאביליות

שאלות

בשאלות 1-4 בדקו האם הפונקציה הנתונה דיפרנציאבילית בנקודה $(0,0)$.

$$f(x, y) = \begin{cases} \frac{x^3 + y^3}{2x^2 + y^2} & (x, y) \neq (0, 0) \\ 0 & (x, y) = (0, 0) \end{cases} \quad (1)$$

$$f(x, y) = \begin{cases} (x^2 + y^2) \sin \frac{1}{\sqrt{x^2 + y^2}} & (x, y) \neq (0, 0) \\ 0 & (x, y) = (0, 0) \end{cases} \quad (2)$$

$$f(x, y) = \begin{cases} \frac{\sin y}{\sqrt{x^2 + y^2}} & (x, y) \neq (0, 0) \\ 0 & (x, y) = (0, 0) \end{cases} \quad (3)$$

$$f(x, y) = \begin{cases} \frac{4x + y}{y + 4x} & (x, y) \neq (0, 0) \\ 0 & (x, y) = (0, 0) \end{cases} \quad (4)$$

$$f(x, y) = \begin{cases} e^{-\frac{1}{x^2 + y^2}} & (x, y) \neq (0, 0) \\ 0 & (x, y) = (0, 0) \end{cases} \quad (5) \text{ בדקו דיפרנציאביליות הפונקציה}$$

$$f(x, y) = \begin{cases} \frac{x^m \sin y}{x^2 + y^2} & (x, y) \neq (0, 0) \\ 0 & (x, y) = (0, 0) \end{cases} \quad (6) \text{ נתון } m, \text{ קבוע.}$$

- א. עבור אילו ערכים של m הפונקציה רציפה בראשית?
 ב. עבור אילו ערכים של m הפונקציה גזירה חלקית בראשית?
 ג. עבור אילו ערכים של m הפונקציה דיפרנציאבילית בראשית?

$$(7) \quad \text{נתון } f(x, y) = \begin{cases} \frac{xy}{(x^2 + y^2)^m} & (x, y) \neq (0, 0) \\ 0 & (x, y) = (0, 0) \end{cases} \quad m, \text{ קבוע.}$$

- א. עבור אילו ערכים של m הפונקציה רציפה בראשית?
 ב. עבור אילו ערכים של m הפונקציה גזירה חלקית בראשית?
 ג. עבור אילו ערכים של m הפונקציה דיפרנציאבילית בראשית?

(8) תהי f פונקציה דיפרנציאבילית בנקודה $(0, 0)$.

$$\phi(x, y) = \begin{cases} f(x, y) & xy \geq 0 \\ 0 & xy < 0 \end{cases} \quad \text{נגדיר פונקציה חדשה}$$

$$\text{נתון } f_x(0, 0) = f_y(0, 0) = f(0, 0) = 0$$

הוכיחו ש- ϕ דיפרנציאבילית בנקודה $(0, 0)$.

$$(9) \quad \text{בדקו דיפרנציאביליות } f(x, y, z) = \begin{cases} \frac{z \sin(xy)}{(x^2 + y^2 + z^2)^{\frac{1}{3}}} & (x, y, z) \neq (0, 0, 0) \\ 0 & (x, y, z) = (0, 0, 0) \end{cases}$$

בנקודה $(0, 0, 0)$.

$$(10) \quad \text{נתונה } f: R^n \rightarrow R, \text{ המוגדרת על ידי } f(x) = \begin{cases} \frac{\sqrt{1 + \|x\|^2} - 1}{\|x\|^2} & x \neq 0 \\ 0.5 & x = 0 \end{cases}$$

האם f דיפרנציאבילית בנקודה $x = 0$?

תשובות סופיות

- (1) לא דיפרנציאבילית.
- (2) דיפרנציאבילית.
- (3) לא דיפרנציאבילית.
- (4) לא דיפרנציאבילית.
- (5) דיפרנציאבילית בכל נקודה במישור.
- (6) א. $m > 1$ ב. $m > 0$ ג. $m > 2$
- (7) א. $m < 1$ ב. לכל m ג. $m < 0.5$
- (8) שאלת הוכחה.
- (9) דיפרנציאבילית.
- (10) כן.

חשבון אינפיניטימלי 2

פרק 9 - כלל השרשרת בפונקציות של מספר משתנים

תוכן העניינים

1. כלל השרשרת בפונקציות של מספר משתנים 112

כלל השרשרת בפונקציות של מספר משתנים

בתרגילים בפרק זה, הניחו שכל הנגזרות הרשומות קיימות.

שאלות

(1) נתון: $x = 2u - v$, $y = u^2 + v^2$, $z = \ln(x^2 - y^2)$
 חשבו: z_u , z_v .

(2) נתון: $v = 4t + k$, $u = t^2 + 4m$, $z = e^{u-v}$
 חשבו: z_t , z_m , z_k .

(3) נתון: $z = f(x^2 - y^2)$
 הוכיחו: $y \cdot z_x + x \cdot z_y = 0$.

(4) נתון: $z = f(xy)$
 הוכיחו: $x \cdot z_x - y \cdot z_y = 0$.

(5) נתון: $z = f\left(\frac{x}{y}\right)$
 הוכיחו: $x \cdot z_x + y \cdot z_y = 0$.

(6) נתון: $z = f(x - y, y - x)$
 הוכיחו: $z_x + z_y = 0$.

(7) נתון: $w = f(x - y, y - z, z - x)$
 הוכיחו: $w_x + w_y + w_z = 0$.

(8) נתון: $u = \sin x + f(\sin y - \sin x)$
 הוכיחו: $u_x \cos y + u_y \cos x = \cos x \cos y$.

$$(9) \text{ נתון: } z = y \cdot f(x^2 - y^2)$$

$$\text{הוכיחו: } \frac{1}{x} z_x + \frac{1}{y} z_y = \frac{z}{y^2}$$

$$(10) \text{ נתון: } z = xy + xf\left(\frac{y}{x}\right)$$

$$\text{הוכיחו: } x \cdot z_x + y \cdot z_y = xy + z$$

$$(11) \text{ נתון: } u(x, y, z) = x^2 \cdot f\left(\frac{y}{x}, \frac{z}{x}\right)$$

$$\text{הוכיחו: } xu_x + yu_y + zu_z = 2u$$

$$(12) \text{ נתון: } h(x, y) = f(y + ax) + g(y - ax)$$

$$\text{הוכיחו: } h_{xx} = a^2 \cdot h_{yy}$$

$$(13) \text{ נתון: } u(x, y) = f(e^x \sin y) - g(e^x \sin y)$$

הוכיחו:

$$א. u_{xx} + u_{yy} = \frac{u_{xx} - u_x}{\sin^2 y}$$

$$ב. u_{xy} = u_{yx}$$

$$ג. \text{ חשבו את } u_{xy}(1, \pi), \text{ אם ידוע ש-} g'(0) = 1, f'(0) = 2$$

$$(14) \text{ נתון: } u = f(x, y), x = r \cos \theta, y = r \sin \theta$$

$$א. \text{ הוכיחו: } (u_x)^2 + (u_y)^2 = (u_r)^2 + \frac{1}{r^2} (u_\theta)^2$$

$$ב. \text{ הוכיחו: } u_{rr} = f_{xx} \cos^2 \theta + 2f_{xy} \cos \theta \sin \theta + f_{yy} \sin^2 \theta$$

$$ג. \text{ הוכיחו: } f_{xx} + f_{yy} = u_{rr} + \frac{1}{r^2} u_{\theta\theta} + \frac{1}{r} u_r$$

15 נתון $z = h(u, v)$, ונתון כי $u = f(x, y)$, $v = g(x, y)$ מקיימות את משוואת קושי-רימן, כלומר מקיימות $u_x = v_y$, $u_y = -v_x$. הוכיחו כי:

א. u, v מקיימות את משוואת לפלס.

כלומר, $u_{xx} + u_{yy} = 0$ וכן $v_{xx} + v_{yy} = 0$.

ב. $h_{xx} + h_{yy} = \left((u_x)^2 + (v_x)^2 \right) (h_{uu} + h_{vv})$.

16 נתון: $y = r \sinh s$, $x = r \cosh s$, $u = f(x, y)$.

הוכיחו כי: $(u_x)^2 - (u_y)^2 = (u_r)^2 - \frac{1}{r^2} (u_s)^2$.

17 פונקציה $f(x, y)$ תיקרא הומוגנית מסדר n , אם $f(tx, ty) = t^n \cdot f(x, y)$. הוכיחו כי אם f הומוגנית, אז:

א. $x \cdot f_x + y \cdot f_y = n \cdot f(x, y)$.

ב. $x^2 f_{xx} + y^2 f_{yy} + 2xy f_{xy} = n(n-1) \cdot f(x, y)$.

18 נתונה הפונקציה $z = f(x, y) = \begin{cases} \frac{x^2 y}{x^2 + y^2} & (x, y) \neq (0, 0) \\ 0 & (x, y) = (0, 0) \end{cases}$

א. חשבו את הנגזרות החלקיות של הפונקציה בנקודה $(0, 0)$.

ב. נתון $x = 2t, y = t$.

חשבו את $z'(0)$ באופן ישיר.

ג. נתון $x = 2t, y = t$.

חשבו את $z'(0)$ לפי כלל השרשרת.

ד. בעזרת תוצאת סעיף ג' בלבד, קבעו האם הפונקציה דיפרנציאבילית.

תשובות סופיות

$$z_u = \frac{1}{x^2 - y^2} \cdot 2x \cdot 2 + \frac{1}{x^2 - y^2} (-2y) \cdot 2u \quad (1)$$

$$z_t = e^{u-v} (1) \cdot 2t + e^{u-v} (-1) \cdot 4, \quad z_m = e^{u-1} (1) \cdot 4, \quad z_k = e^{u-v} (-1) \cdot 1 \quad (2)$$

$$-e \quad \text{ג.} \quad (13)$$

$$f_x(0,0) = f_y(0,0) = 0 \quad \text{א.} \quad (18) \quad \text{ב.} \quad \frac{4}{5} \quad \text{ג.} \quad 0 \quad \text{ד.} \quad \text{לא דיפרנציאבילית.}$$

שאר השאלות הן שאלות הוכחה, לפתרונות מלאים היכנסו לאתר GooL.co.il

חשבון אינפיניטימלי 2

פרק 10 - נגזרת מכוונת וגרדיאנט

תוכן העניינים

1. נגזרת מכוונת וגרדיאנט 116

נגזרת מכוונת וגרדיאנט

שאלות

(1) תהי $f(x, y) = x^2 + y^2$.

א. חשבו את הגרדיאנט של f ואת אורכו בנקודה $(3, 4)$.
 מהי משמעות התוצאה?

ב. הראו שהגרדיאנט הוא נורמל לקו הגובה של f , העובר דרך $(3, 4)$.

(2) תהי $f(x, y) = 3x^2y$.

חשבו את הנגזרת המכוונת של f בנקודה $(1, 2)$, בכיוון הווקטור $\vec{u} = 3\mathbf{i} + 4\mathbf{j}$.

(3) תהי $f(x, y) = x - \sin(xy)$.

חשבו את הנגזרת המכוונת של f בנקודה $\left(1, \frac{\pi}{2}\right)$,

בכיוון הווקטור $\vec{u} = \frac{1}{2}\mathbf{i} + \frac{\sqrt{3}}{2}\mathbf{j}$.

(4) תהי $f(x, y) = 2x^2 - 3xy + 5y^2$.

חשבו את הנגזרת המכוונת של f בנקודה $(1, 2)$, בכיוון וקטור היחידה, היוצר זווית של 45° עם החלק החיובי של ציר ה- x .

(5) תהי $f(x, y) = xy^2$.

חשבו את הנגזרת המכוונת של f בנקודה $(1, 3)$ בכיוון לנקודה $(4, 5)$.

(6) תהי $f(x, y, z) = x^2y^2z$.

חשבו את הנגזרת המכוונת של f בנקודה $(2, 1, 4)$,

בכיוון הווקטור $\vec{u} = 1\cdot\mathbf{i} + 2\cdot\mathbf{j} + 2\cdot\mathbf{k}$.

(7) אם הפוטנציאל החשמלי V בנקודה (x, y) , נתון על ידי $V = \ln\sqrt{x^2 + y^2}$, מצאו את קצב השינוי של הפוטנציאל בנקודה $(3, 4)$ בכיוון לנקודה $(2, 6)$.

(8) מצאו את הכיוון בו הנגזרת המכוונת של $f(x, y) = e^x(\cos y + \sin y)$ בנקודה $(0, 0)$ היא מקסימלית, וחשבו את ערכה.

9 מצאו את הכיוון בו הנגזרת המכוונת של הפונקציה $f(x, y, z) = 2x^3y - 3y^2z$ בנקודה $(1, 2, -1)$ היא מקסימלית, וחשבו את ערכה.

10 אם הטמפרטורה נתונה על ידי $f(x, y, z) = 3x^2 - 5y^2 + 2z^2$, ואני נמצא בנקודה $\left(\frac{1}{3}, \frac{1}{5}, \frac{1}{2}\right)$ ורוצה להתקרר כמה שיותר מהר, באיזה כיוון עליי ללכת?

11 נתונה הפונקציה $f(x, y) = 4x^2y$.

- א. מצאו את הנגזרת המכוונת של הפונקציה בנקודה $(1, 2)$, בכיוון וקטור היוצר זווית של 30° עם הכיוון החיובי של ציר ה- x .
- ב. מצאו את הנגזרת המכוונת של הפונקציה בנקודה $(1, 2)$, בכיוון וקטור היוצר זווית של 30° עם הכיוון החיובי של ציר ה- y .
- ג. מצאו הצגה פרמטרית של הישר המשיק לגרף הפונקציה בנקודה $(1, 2)$, בכיוון הווקטור הנתון בסעיף ב'.

12 נתונה הפונקציה $f(x, y, z) = x^2yz^4$.

- מצאו את הנגזרת המכוונת של הפונקציה בנקודה $(1, 2, -1)$, בכיוון וקטור היוצר זווית של 60° עם הכיוון החיובי של ציר ה- x , ו- 60° עם הכיוון החיובי של ציר ה- z . הניחו שהזווית עם ציר ה- y חדה.

13 נתונה הפונקציה $f(x, y) = xy^2 - x^2y^{-3}$ ונתונה הנקודה $Q(1, 1)$.

- א. חשבו את הנגזרת הכיוונית של הפונקציה בנקודה Q , בכיוון וקטור שיוצר זווית 60° עם הכיוון החיובי של ציר ה- x .

ב. מצאו וקטור \vec{u} , כך ש- $\frac{\partial f}{\partial \vec{u}}(Q) = 0$.

ג. האם קיים וקטור \vec{u} , כך ש- $\frac{\partial f}{\partial \vec{u}}(Q) = 6$?

$$(14) \text{ נתונה הפונקציה } f(x, y) = \begin{cases} \frac{x^3 - xy^2}{x^2 + 4y^2} & (x, y) \neq (0, 0) \\ 0 & (x, y) = (0, 0) \end{cases}$$

- א. הוכיחו כי הפונקציה רציפה בנקודה $(0, 0)$.
- ב. חשבו את הנגזרות החלקיות של הפונקציה בנקודה $(0, 0)$.
- ג. חשבו את $\nabla f(0, 0)$.
- ד. בדקו דיפרנציאביליות הפונקציה בנקודה $(0, 0)$.
- ה. מצאו את הנגזרת המכוונת של הפונקציה f בנקודה $(0, 0)$, בכיוון הווקטור $\vec{u} = (1, -1)$.
- ו. הסבירו מדוע הפונקציה אינה דיפרנציאבילית, בדרך שונה מהדרך בסעיף ד'.

$$(15) \text{ הפונקציה } f(x, y, z) = 2x^2 + 4y^2 + z^2, \text{ מתארת טמפרטורה בנקודה } (x, y, z)$$

- א. מהי הטמפרטורה בנקודה $(2, 4, 1)$?
- ב. אוסף הנקודות (x, y, z) , בהן הטמפרטורה שווה 20° , מהווה משטח מפורסם. מהו?
- ג. נמלה שנמצאת בנקודה $(2, 4, 1)$ רוצה להגיע לטמפרטורה גבוהה יותר. באיזה כיוון עליה לנוע, על מנת שקצב שינוי הטמפרטורה יהיה מקסימלי?
- ד. הנמלה שלנו נמצאת כעת על שולחן בגובה 1 (מישור $z=1$), בנקודה $(2, 4, 1)$. כמו בסעיף ג, היא רוצה להגיע לטמפרטורה גבוהה יותר, אך הפעם אסור לה לעזוב את השולחן. באיזה כיוון עליה לנוע על מנת שקצב השינוי שלה יהיה מקסימלי?

$$(16) \text{ גֵּלָה מוחזקת בנקודה } (2, 1, 14), \text{ שעל המשטח } z = 20 - x^2 - 2y^2$$

- שחררו את הגֵּלָה והיא התחילה לנוע על המשטח כלפי מטה.
- א. מהו המשטח הנתון?
- ב. מצאו את הווקטור $\vec{u} = (a, b, c)$, המתאר את כיוון הנפילה של הגֵּלָה.

$$(17) \text{ תהי } f = f(x, y) \text{ פונקציה דיפרנציאבילית בכל המישור, המקיימת:}$$

$$1. f(x, x^2) = \frac{x^2}{2} + x^4 \text{ לכל } x$$

$$2. \text{ הנגזרת המכוונת של } f(x, y) \text{, בנקודה } (1, 1), \text{ בכיוון הווקטור } \left(\frac{4}{5}, \frac{3}{5}\right)$$

שווה 1.

חשבו את הגרדיאנט של f בנקודה $(1, 1)$.

18 נתונה $f = f(x, y, z)$ דיפרנציאבילית, המקיימת $f(x, y, x^2 + y^2) = 2x + y$.

נתון כי $\frac{\partial f}{\partial \vec{u}}(0, 2, 4) = -\frac{5}{3}$, כאשר $\vec{u} = (-2, 1, 2)$.
חשבו את $\nabla f(0, 2, 4)$.

19 נתונה הפונקציה $f(x, y) = 12x^{\frac{1}{3}}y^{\frac{2}{3}}$.

א. חשבו את $\frac{\partial f}{\partial \vec{u}}(8, 1)$, בכיוון הווקטור $\vec{u} = (3, 4)$.

ב. בדקו האם הפונקציה דיפרנציאבילית בנקודה $(0, 0)$.

ג. חשבו $\frac{\partial f}{\partial \vec{v}}(0, 0)$, בכיוון וקטור \vec{v} , היוצר זווית α

עם הכיוון החיובי של ציר ה- x .

ד. באיזה כיוון α , הנגזרת המכוונת $\frac{\partial f}{\partial \vec{v}}(0, 0)$ תהיה מקסימלית?

מהו הערך המקסימלי של הנגזרת?

20 נתונה הפונקציה $f(x, y) = \begin{cases} x^2 \sin \frac{1}{x^2} + 20x + 21y & x \neq 0 \\ 21y & x = 0 \end{cases}$

א. עבור אלו ערכים של m מתקיים $\frac{\partial f}{\partial \hat{u}}(0, 0) < m$, לכל וקטור יחידה \hat{u} ?

ב. מצאו וקטור יחידה \hat{u} , המקיים $\frac{\partial f}{\partial \hat{u}}(0, 0) = 0$.

הערות סימון

1 במישור \mathbb{R}^2 : $\mathbf{i} = (1, 0)$, $\mathbf{j} = (0, 1)$, ולכן ניתן לסמן וקטור במישור בשתי דרכים:

$$\vec{u} = x\mathbf{i} + y\mathbf{j} \text{ או } \vec{u} = (x, y)$$

$$\vec{u} = (3, 4) \Leftrightarrow \vec{u} = 3\mathbf{i} + 4\mathbf{j}$$

במרחב \mathbb{R}^3 : $\mathbf{i} = (1, 0, 0)$, $\mathbf{j} = (0, 1, 0)$, $\mathbf{k} = (0, 0, 1)$,

ולכן ניתן לסמן וקטור במרחב בשתי דרכים: $\vec{v} = x\mathbf{i} + y\mathbf{j} + z\mathbf{k}$ או $\vec{v} = (x, y, z)$.

$$\vec{u} = (3, 4, 5) \Leftrightarrow \vec{u} = 3 \cdot \mathbf{i} + 4 \cdot \mathbf{j} + 5 \cdot \mathbf{k}$$

2 יש המסמנים וקטור \vec{u} גם \underline{u} או \mathbf{u} .

3 וקטור יחידה יסומן \hat{u} .

תשובות סופיות

- (1) א. הגרדיאנט $(6, 8)$. ב. אורך הגרדיאנט 10.
- (2) $\frac{48}{5}$ (3) $\frac{1}{2}$ (4) $7.5\sqrt{2}$
- (5) $3\sqrt{13}$ (6) $\frac{88}{3}$ (7) $\frac{1}{5}\sqrt{5}$
- (8) הנגזרת המכוונת מקסימלית בכיוון הווקטור $(1, 1)$ ושווה ל- $\sqrt{2}$.
- (9) הנגזרת המכוונת מקסימלית בכיוון הווקטור $(12, 14, -12)$ ושווה ל-22.
- (10) בכיוון הווקטור $(-2, 2, -2)$.
- (11) א. $8\sqrt{3} + 2$. ב. $8 + 2\sqrt{3}$. ג. $\ell: (1, 2, 4) + t\left(\frac{1}{2}, \frac{\sqrt{3}}{2}, 8 + 2\sqrt{3}\right)$
- (12) $\frac{1}{\sqrt{2}} - 2$
- (13) א. $-\frac{1}{2} + \frac{5}{2}\sqrt{3}$. ב. $\vec{u} = (5, 1)$ (יש עוד). ג. לא.
- (14) א. הוכחה. ב. $f_x = 1, f_y = 0$. ג. $\nabla f(0, 0) = (1, 0)$
- (15) א. 73 מעלות. ב. אליפסואיד. ג. בכיוון הווקטור $(8, 32, 2)$. ד. בכיוון הווקטור $(8, 32)$.
- (16) א. פרבולואיד. ב. $\vec{u} = (4, 4, -32)$
- (17) $\nabla f(1, 1) = \begin{pmatrix} -1 \\ 3 \end{pmatrix}$
- (18) $\nabla f(0, 2, 4) = (2, -3, 1)$
- (19) א. $\frac{67}{5}$. ב. לא דיפרנציאבילית. ג. $12(\cos \alpha - \cos^3 \alpha)^{\frac{1}{3}}$
- ד. $\text{Max} \frac{\partial f}{\partial \vec{v}}(0, 0) = 12\left(2/\sqrt{27}\right)^{\frac{1}{3}}, \alpha = 54.73^\circ$
- (20) א. $m > 29$. ב. $\hat{u} = (21/29, -20, 29)$ (יש אחרים).

חשבון אינפיניטימלי 2

פרק 11 - פונקציות סתומות - שימושים גיאומטריים

תוכן העניינים

121	1. פונקציות סתומות - הפן הטכני
124	2. פונקציות סתומות - הפן התאורטי
131	3. שימושים גאומטריים

פונקציות סתומות – הפן הטכני

שאלות

- (1) מצאו את y' , כאשר $x^2 + y^5 = xy + 1$, וחשבו את $y'(0)$.
- (2) מצאו את $y'(1)$, כאשר $e^{xy} + x^2y^2 = 5x - 4$.
- (3) מצאו את $y'(e)$, $y''(e)$, כאשר $2\ln x + \ln y = 1$.
- (4) נתון $(z = z(x, y) \geq 0)$ $z^2 - e^{x^2+y^2} + (x+y)\sin z = 0$
 חשבו את $\frac{\partial z}{\partial x}(0,0)$, $\frac{\partial z}{\partial y}(0,0)$.
- (5) נתון $(y = y(x, z) \geq 0)$ $z^2 - e^{x^2+y^2} + (x+y)\sin z = -e^4$
 חשבו את $y_x(0,0)$, $y_z(0,0)$.
- (6) נתונה המשוואה $x - y = x \cdot y \cdot f\left(\frac{1}{x} - \frac{1}{z}\right)$
 הוכיחו כי $x^2 \cdot z_x + y^2 \cdot z_y = z^2$.
- (7) נתון $(z = z(x, y) \geq 0)$ $z^3 - 2xz + y = 0$
 מצאו $z_{xx}(1,1)$.
- (8) נתונה משוואה $z^3 - 3xyz = 4$ ונקודה $(2,1,-2)$. מצאו את:
 א. $z_{xx}(2,1)$
 ב. $z_{xy}(2,1)$
 ג. $z_{yy}(2,1)$

$$(9) \quad \begin{cases} u^2 - v = 3x + y \\ u - 2v^2 = x - 2y \end{cases} \quad \text{נתונה מערכת משוואות:}$$

א. חשבו את u_x, v_x, u_y, v_y .

ב. הראו כי $u_{xy} = u_{yx}$.

*הערה: בסעיף ב' אין להסתמך על משפט הנגזרות המעורבות.

$$(10) \quad \begin{cases} x = u + v \\ y = u^2 + v^2 \\ w = u^3 + v^3 \end{cases} \quad \text{נתונה מערכת משוואות:}$$

א. חשבו את w_x, w_y .

ב. חשבו y_x, y_w .

$$(11) \quad \begin{cases} xyz = 4 \\ x + y + z = 4 \end{cases} \quad \text{נתונה מערכת משוואות:}$$

הוכיחו כי $z''(x) + y''(x) = 0$.

$$(12) \quad \begin{cases} x \cos u + y \sin u + \ln z = f(u) \\ -x \sin u + y \cos u = f'(u) \end{cases} \quad \text{נתונה המערכת:}$$

הוכיחו כי:

$$א. \quad (z_x)^2 + (z_y)^2 = z^2$$

$$ב. \quad z_{xy} = z_{yx}$$

*הערה: בסעיף ב' אין להסתמך על משפט הנגזרות המעורבות.

תשובות סופיות

$$y'(0) = \frac{1}{5} \quad (1)$$

$$y'(1) = 5 \quad (2)$$

$$y'(e) = -\frac{2}{e^2}, \quad y''(e) = \frac{6}{e^3} \quad (3)$$

$$z_x(0,0) = z_y(0,0) = -\frac{\sin 1}{2} \quad (4)$$

$$y_x(0,0) = 0, \quad y_z(0,0) = \frac{1}{2e^4} \quad (5)$$

שאלת הוכחה. (6)

$$z_x(1,1) = -16 \quad (7)$$

$$z_{xx}(2,1) = z_{xy}(2,1) = 1, \quad z_{yy}(2,1) = 4 \quad (8)$$

$$u_x = \frac{12v-1}{8uv-1}, \quad u_y = \frac{4v+2}{8uv-1}, \quad v_x = \frac{3-2u}{8uv-1}, \quad v_y = \frac{4u+1}{8uv-1} \quad \left(uv \neq \frac{1}{8} \right) \quad (9)$$

ב. שאלת הוכחה.

$$\frac{\partial w}{\partial x} = -3uv, \quad \frac{\partial w}{\partial y} = \frac{3}{2}(v+u) \quad (u \neq v) \quad (10)$$

$$\frac{\partial y}{\partial x} = -\frac{2uv}{v+u}, \quad \frac{\partial y}{\partial w} = \frac{2}{3(v+u)} \quad (u \neq \pm v) \quad (11)$$

שאלת הוכחה. (11)

שאלת הוכחה. (12)

פונקציות סתומות – הפן התאורטי

שאלות

(1) נתונה המשוואה $y^5 + y^3 + y = x^2 - 1$.

- א. הוכיחו שקיימת סביבה של הנקודה $(2,1)$, שבה המשוואה מגדירה פונקציה $y = f(x)$.
- ב. חשבו את $f'(2)$.
- ג. בדקו האם מתקיימים תנאי מ.פ.ס בנקודה $(-2,1)$.
- ד. הוכיחו שהמשוואה מגדירה פונקציה $y = f(x)$ לכל x ממשי.

(2) נתונה המשוואה $x^2 + y + e^y = 17$.

- א. הוכיחו שקיימת סביבה של הנקודה $(4,0)$, שבה המשוואה מגדירה פונקציה $y = y(x)$.
- ב. בדקו האם העקום המתאר את המשוואה עולה או יורד בנקודה בה $x = 4$.
- ג. הוכיחו ש-מ.פ.ס מתקיים עבור כל נקודה שמקיימת את המשוואה.
- ד. הוכיחו שהמשוואה מגדירה פונקציה $y = f(x)$ לכל x ממשי.
- ה. השוו בין תוצאות סעיף ג' ותוצאות סעיף ד'.

(3) נתונה המשוואה $y^3 - x^3 - 3y^2 + 6x^2 + 3y - 12x + 7 = 0$.

- א. בדקו האם מתקיימים תנאי משפט הפונקציה הסתומה בנקודה $(2,1)$.
- ב. האם המשוואה מגדירה את y כפונקציה של x בסביבת הנקודה?
- ג. האם התשובה לסעיף ב' עומדת בסתירה לתשובה בסעיף א'?

(4) לגבי כל אחת מהמשוואות הבאות הגדירו פונקציה $F(x, y)$ מתאימה,

ובדקו האם קיימת נקודה (x_0, y_0) , כך שמתקיימים תנאי מ.פ.ס. בדקו בכל מקרה מה ניתן להסיק מהמשפט.

א. $x^2 + y^2 + 4 = 0$

ב. $xy - 40x = 100$

ג. $x^2 - y^2 = 3$

$$(5) \quad 2x^3 + y^3 - 6xy = 0 \quad \text{נתונה המשוואה}$$

- א. מצאו את כל הנקודות עבורן מתקיים משפט הפונקציה הסתומה.
 ב. חשבו את y' עבור נקודות אלה.
 ג. מה תוכלו לומר בשלב זה על הנקודות בהן לא מתקיים מ.פ.ס?
 ד. השתמשו בתוכנה גרפית לשרטוט המשוואה, וקבעו, על סמך השרטוט, האם בנקודות בהן מ.פ.ס לא מתקיים, קיימת סביבה המכילה את הנקודה ובה y הוא פונקציה של x .

$$(6) \quad \text{נתונה המשוואה הבאה: } x^3 + y^3 - 3axy = 0 \quad (a > 0)$$

- א. מצאו את כל הנקודות עבורן מתקיים משפט הפונקציה הסתומה.
 ב. חשבו את y'' עבור נקודות אלה.

$$(7) \quad \text{נתונה המשוואה } x^2 + y^2 = R^2$$

- א. מצאו את כל הנקודות עבורן מתקיים משפט הפונקציה הסתומה.
 ב. בנקודות בהן לא מתקיים משפט הפונקציות הסתומות, קבעו האם קיימת סביבה של הנקודה בה המשואה מתארת פונקציה $y = f(x)$.
 עשו זאת בשתי דרכים:
 1. על ידי תיאור גרפי של העקום.
 2. על ידי חישוב.

$$(8) \quad \text{נתונה המשוואה } ax^4 + y^4 - xy = 0, \text{ כאשר } a \text{ קבוע ממשי.}$$

ידוע שהנקודה $(x_0, 0.5)$ מקיימת את המשוואה, אך לא מקיימת את תנאי משפט הפונקציה הסתומה.

- א. מצאו את x_0 ואת הקבוע a .
 ב. האם קיימות נקודות נוספות, שמקיימות את המשוואה הנתונה אך לא מקיימות את מ.פ.ס? אם כן, מצאו אותן.
 ג. השתמשו בתוכנה גרפית לשרטוט המשוואה, וקבעו, על סמך השרטוט, האם בנקודות בהן מ.פ.ס לא מתקיים, קיימת סביבה המכילה את הנקודה ובה y הוא פונקציה של x .
 ד. הוכיחו, ללא שימוש בתוכנה גרפית, שעבור הנקודה החיובית שלא מקיימת את מ.פ.ס, לא קיימת סביבה שבה המשוואה מגדירה את y כפונקציה של x .

9 נתונה המשוואה $xy = \ln y - \ln x + 1$.

- מצאו את כל הנקודות עבורן מתקיים משפט הפונקציה הסתומה.
- חשבו את y' עבור נקודות אלה.
- מה תוכלו לומר בשלב זה על הנקודות בהן לא מתקיים מ.פ.ס?
- השתמשו בתוכנה גרפית לשרטוט המשוואה, וקבעו, על סמך השרטוט, האם בנקודות בהן מ.פ.ס לא מתקיים, קיימת סביבה המכילה את הנקודה ובה y הוא פונקציה של x .
- ללא שימוש בתוכנה גרפית, קבעו האם בנקודות בהן מ.פ.ס לא מתקיים, קיימת סביבה המכילה את הנקודה ובה המשוואה מתארת פונקציה.

10 נתונה המשוואה $(e-2)\ln x + \ln y = y-1$.

- בדקו האם מ.פ.ס מתקיים עבור הנקודה (e, e) .
- כמה נקודות על העקום הנתון מקיימות $x = e$?
- האם התשובה בסעיף ב' עומדת בסתירה לתשובה בסעיף א'?
- מצאו את כל הנקודות המקיימות את מ.פ.ס.
- חשבו את הנגזרת בנקודות הנ"ל.
- השתמשו בתוכנה גרפית על מנת לקבוע, האם בנקודות בהן לא מתקיים המשפט, ניתן למצוא סביבה שבה המשוואה מגדירה פונקציה $y = f(x)$.
- חזרו על סעיף ו', רק הפעם תנו הוכחה ללא איור.

11 נתונה המשוואה $y^3 + 6x \sin y = -8$, ונתונה נקודה $(0, -2)$.

- הוכיחו שהמשוואה מגדירה פונקציה $y = y(x)$ בסביבת הנקודה.
- פתחו את $y(x)$ לטור מקלורן מסדר 2.

12 ענו על הסעיפים הבאים:

- נסחו את משפט הפונקציות הסתומות עבור $x = g(y)$.
- נתונה המשוואה $x = \ln(x^2 + y^2)$.
- הוכיחו כי קיימת סביבה של הנקודה $(0, 1)$, שבה המשוואה מגדירה את x כפונקציה של y , $x = g(y)$.
- חשבו את $g'(1)$.

13 נתונה המשוואה $xy = \ln y - \ln x + 1$.

א. הראו כי קיימת סביבה של הנקודה $(1,1)$, שבה המשוואה מגדירה את x

כפונקציה של y , $x = g(y)$.

ב. הוכיחו שהנקודה $(1,1)$ היא נקודת מקסימום מקומי של $g(y)$.

14 בסעיפים א-ב, האם המשוואה $3x^2y - yz^2 - 4xz = 7$:

א. מגדירה פונקציה סתומה $z = z(x, y)$ בסביבת הנקודה $(-1, 1, 2)$?

ב. מגדירה פונקציה סתומה $y = y(x, z)$ בסביבת הנקודה $(-1, 1, 2)$?

ג. הוכיחו שהפונקציה $y = y(x, z)$ דיפרנציאבילית בנקודה $(-1, 2)$.

15 נתונה המשוואה $x^3 - y^3 - z^3 - 3x^2y + 3xy^2 + 3z^2 = 3z - 1$.

בסעיפים א-ב, על סמך מ.פ.ס, האם המשוואה:

א. מגדירה פונקציה סתומה $z = z(x, y)$ בסביבת הנקודה $(1, 2, 0)$?

ב. מגדירה פונקציה סתומה $z = z(x, y)$ בסביבת הנקודה $(4, 4, 1)$?

ג. הוכיחו, ללא שימוש במ.פ.ס, שהמשוואה מגדירה פונקציה סתומה

$z = z(x, y)$ בסביבת הנקודה $(4, 4, 1)$.

16 נתונה המשוואה $\sin(x+y) + \sin(y+z) = 1$.

מצאו נקודה שבסביבה שלה המשוואה מגדירה פונקציה $y = y(x, z)$,

ומצאו את הנגזרות החלקיות של הפונקציה המתאימה.

17 נתונה מערכת המשוואות:

$$1) x = u + v, \quad 2) y = u^2 + v^2, \quad 3) w = u^3 + v^3$$

א. בדקו האם מתקיימים תנאי משפט הפונקציה הסתומה עבור $w = w(x, y)$,

בנקודה $(x, y, u, v, w) = (1, 1, 0, 1, 1)$.

במידה שכן, חשבו בנקודה את w_x, w_y .

ב. חזרו על סעיף א', עבור הנקודה $(x, y, u, v, w) = (2, 2, 1, 1, 2)$.

ג. האם קיימת סביבה של הנקודה $(x, y, u, v, w) = (2, 2, 1, 1, 2)$, שבה מערכת

המשוואות מגדירה פונקציה $w = w(x, y)$?

במידה שכן, חשבו בנקודה את w_x, w_y .

ד. מצאו את כל הנקודות במישור, עבורן מתקיים משפט הפונקציה הסתומה

עבור $w = w(x, y)$.

18 נתונה מערכת המשוואות:

$$1) x = a \cos \phi \cos \theta, \quad 2) y = b \sin \phi \cos \theta, \quad 3) z = c \sin \theta \quad (a, b, c > 0)$$

א. בדקו האם מתקיימים תנאי משפט הפונקציה הסתומה עבור $\phi = \phi(x, y)$,

$$\text{בנקודה } P_0, \text{ המתאימה לערכים } \phi_0 = \theta_0 = \frac{\pi}{6}.$$

במידה שכן, חשבו בנקודה את ϕ_x, ϕ_y .

בדקו את התשובה על ידי חישוב ישיר.

ב. בדקו האם מתקיימים תנאי משפט הפונקציה הסתומה עבור $z = z(\phi, x)$,

$$\text{בנקודה } P_0, \text{ המתאימה לערכים } \phi_0 = \theta_0 = \frac{\pi}{6}.$$

במידה שכן, חשבו בנקודה את z_ϕ, z_x .

תשובות סופיות

- (1) א. הוכחה. ב. $\frac{4}{9}$. ג. כן. ד. הוכחה.
- (2) א. הוכחה. ב. העקום יורד. ג. הוכחה. ד. הוכחה. ה. תוצאת סעיף ד' טובה יותר.
- (3) א. לא מתקיימים. ב. כן. ג. לא.
- (4) א. לא קיימת. ב. הנקודה (1,140) למשל, מקיימת את תנאי מ.פ.ס. ג. הנקודה (2,1) למשל, מקיימת את תנאי מ.פ.ס.
- (5) א. כל נקודה (x, y) שעל המשוואה, ואשר שונה מהנקודות (0,0), (2,2).
 ב. $y' = -\frac{2x^2 - 2y}{y^2 - 2x}$. ג. כלום! ד. לא.
- (6) א. כל נקודה על העקום הנתון אשר שונה מהנקודות $(\sqrt[3]{4a}, \sqrt[3]{2a})$, (0,0).
 ב. $y'' = -\frac{\left[2x - a\left(-\frac{x^2 - ay}{y^2 - ax}\right)\right](y^2 - ax) - \left[2y\left(-\frac{x^2 - ay}{y^2 - ax}\right) - a\right](x^2 - ay)}{(y^2 - ax)^2}$
- (7) א. כל הנקודות על המעגל אשר שונות מהנקודות $(R, 0)$, $(-R, 0)$.
 ב. לא קיימת סביבה כנדרש.
- (8) א. $x_0 = \frac{1}{2}$, $a = 3$. ב. כן, $(0, 0)$, $(-0.5, -0.5)$. ג. לא. ד. שאלת הוכחה.
- (9) א. כל נקודה (x, y) שעל $xy = \ln y - \ln x + 1$, ואשר שונה מהנקודה (1,1).
 ב. $y' = -\frac{y + \frac{1}{x}}{x - \frac{1}{y}}$. ג. כלום! ד. לא קיימת.
- (10) א. כן. ב. שתי נקודות. ג. לא. ד. כל נקודה על העקום אשר שונה מהנקודה (1,1).
 ה. $y'(x) = \frac{(2-e)y}{x(1-y)}$ ($x > 0, y > 0, (x, y) \neq (1,1)$). ו. לא ניתן. ז. שאלת הוכחה.
- (11) א. שאלת הוכחה. ב. $p_2(x) = -2 + \frac{1}{2} \sin 2 \cdot x + \frac{1}{8} \sin 2(\sin 2 - 2 \cos 2)x^2$. ג. $g'(1) = -2$.
- (12) א. ראה סרטון. ב. שאלת הוכחה. ג. $g'(1) = -2$.
- (13) א. הוכחה. ב. שאלת הוכחה.
- (14) א. לא. ב. כן. ג. שאלת הוכחה.
- (15) א. כן. ב. לא ניתן לדעת. ג. שאלת הוכחה.
- (16) הנקודה היא $(0, 0, 0.5\pi)$ והנגזרות הן: $y_x(0, 0, 0.5\pi) = -1$, $y_z(0, 0, 0.5\pi) = 0$.

ב. לא מתקיימים.

$$(17) \quad \frac{\partial w}{\partial y}(1,1) = \frac{3}{2}, \quad \frac{\partial w}{\partial x}(1,1) = 0 \quad \text{א.}$$

$$D = \left\{ (x, y) \in \mathbb{R}^2 \mid y > \frac{1}{2}x^2 \right\} \quad \text{ד.}$$

$$w_x(2,2) = -3, \quad w_y(2,2) = 3 \quad \text{ג.}$$

$$\frac{\partial z}{\partial x} = -\frac{2c}{a}, \quad \frac{\partial z}{\partial \phi} = -c \frac{\sqrt{3}}{2} \quad \text{ב.}$$

$$(18) \quad \frac{\partial \phi}{\partial x} = -\frac{b}{a\sqrt{3}}, \quad \frac{\partial \phi}{\partial y} = \frac{1}{b} \quad \text{א.}$$

שימושים גאומטריים

שאלות

- (1) נתון משטח המוגדר ע"י הפונקציה $\frac{x^2}{4} + y^2 + \frac{z^2}{9} = 3$ ($z < 0$).
 מהי משוואת מישור משיק למשטח בנקודה P, בה $x = -2$, $y = 1$?
- (2) מצאו משוואה של מישור משיק למשטח $xyz = 8$ בנקודה $(-2, 2, -2)$,
 וכן משוואה של הישר הפרמטרי הניצב למשטח הנתון בנקודה זו.
- (3) מצאו מישור המשיק למשטח $x^2 + 8y^2 = 21 - 27z^2$,
 המקביל למישור $x + 8y + 18z = 0$.
- (4) למשטח $\sqrt{x} + \sqrt{y} + \sqrt{z} = \sqrt{a}$ העבירו מישור המשיק בנקודה כלשהי.
 מישור זה חותך את הצירים x, y, z בנקודות A, B, C, בהתאמה.
 נסמן: $O = (0, 0, 0)$.
 הוכיחו $OA + OB + OC = a$.
 (למעשה נוכיח שסכום הקטעים אינו תלוי בנקודת ההשקה)
- (5) נתון המשטח $x^2yz + 3y^2 = 2xz^2 - 8z$, ונתונה הנקודה $(1, 2, -1)$.
 הישר הנורמלי למשטח בנקודה הנתונה, חותך את המישור $x + 3y - 2z = 10$.
 בנקודה Q.
 מצאו את הנקודה Q.
- (6) הראו שהמשטח $x^2 - 2yz + y^3 = 4$ מאונך לכל אחד מחברי משפחת
 המשטחים $x^2 + 1 = (2 - 4a)y^2 + az^2$, בנקודת החיתוך $(1, -1, 2)$.
- (7) מצאו משוואת הישר המשיק לעקום $C: x = 6\sin t, y = 4\cos 3t, z = 2\sin 5t$
 בנקודה בה $t = \frac{1}{4}\pi$.

(8) ענו על הסעיפים הבאים:

א. נתון עקום $C: x = x(t), y = y(t), z = z(t)$,

ונתונה נקודה $P(x_0, y_0, z_0)$, המתקבלת מהצבת $t = t_0$ במשוואת העקום. הוכיחו כי משוואת המישור הנורמל לעקום היא

$$x'(t_0) \cdot (x - x_0) + y'(t_0) \cdot (y - y_0) + z'(t_0) \cdot (z - z_0) = 0$$

ב. מצאו את משוואת המישור הנורמל לעקום

$$C: x = 6 \sin t, y = 4 \cos 3t, z = 2 \sin 5t$$

בנקודה בה $t = 0.25\pi$.

(9) נתונות שתי עקומות
 $C_1: x = 2t + 1, y = t^2 - 1, z = t^2 + t$
 $C_2: x = s^2, y = -s, z = s - 1$

ונתון כי שתי העקומות נמצאות על משטח S , וכי שתיהן נחתכות בנקודה הנמצאת במישור xy .

א. מצאו את נקודת החיתוך בין שתי העקומות.

ב. מצאו את משוואת המישור המשיק לשתי העקומות בנקודת החיתוך שבין שתי העקומות.

(10) נתונות שלוש עקומות
 $C_1: x = 2t + 1, y = t^2 - 1, z = t^2 + t$
 $C_2: x = s^2, y = -s, z = s - 1$
 $C_3: x = u + 2, y = u, z = u^2 - 1$

ונתון כי שלוש העקומות נמצאות על משטח S , וכי שלושתן נחתכות בנקודה הנמצאת במישור xy .

א. מצאו את נקודת החיתוך בין שתי העקומות.

ב. האם בנקודה הנ"ל ניתן להעביר מישור משיק למשטח S ? נמקו!

(11) ענו על הסעיפים הבאים:

א. הוכיחו שמשוואת הישר המשיק לעקום:

$$\begin{cases} F(x, y, z) = 0 \\ G(x, y, z) = 0 \end{cases}$$

בנקודה P שעליו, היא $\ell: P + t \cdot \nabla F(P) \times \nabla G(P)$

ב. בנקודה $(1, -1, 1)$, מצאו את משוואת הישר המשיק לעקום:

$$\begin{cases} 2xz - x^2y = 3 \\ 3x^2y + y^2z = -2 \end{cases}$$

12) ענו על הסעיפים הבאים:

א. הוכיחו שמשוואת המישור הנורמלי לעקום

$$\begin{cases} F(x, y, z) = 0 \\ G(x, y, z) = 0 \end{cases}$$

בנקודה P שעליו, היא $a(x - x_0) + b(y - y_0) + c(z - z_0) = 0$

כאשר $(a, b, c) = \nabla F(P) \times \nabla G(P)$.

ב. בנקודה $(1, -1, 1)$, מצאו את משוואת המישור הנורמלי לעקום:

$$\begin{cases} 2xz - x^2y = 3 \\ 3x^2y + y^2z = -2 \end{cases}$$

13) נתונה הפונקציה $r: \mathbb{R}^2 \rightarrow \mathbb{R}^3$, על ידי $x = u \cos v$, $y = u \sin v$, $z = u^2 + v^2$.

מהן הנקודות שעבורן קיים מישור משיק?

מצאו את משוואת המישור המשיק, בנקודה $(u, v) = (1, 0)$.

14) מצאו ביטוי לוקטור היחידה, המאונך למשטח

$$x = \sin u \cos v, \quad y = \sin u \sin v, \quad z = \cos u$$

עבור $u \in [0, \pi]$, $v \in [0, 2\pi]$.

באיזה משטח מדובר?

תשובות סופיות

$$3x - 6y + 2z + 18 = 0 \quad (1)$$

$$x - y + z + 6 = 0, \quad (-2, 2, -2) + t(1, -1, 1) \quad (2)$$

$$x + 8y + 18z = 21, \quad x + 8y + 18z = -21 \quad (3)$$

שאלת הוכחה. (4)

$$Q(7, -9, -15) \quad (5)$$

שאלת הוכחה. (6)

$$\ell: (x, y, z) = (3\sqrt{2}, -2\sqrt{2}, -\sqrt{2}) + s(3\sqrt{2}, -6\sqrt{2}, -5\sqrt{2}) \quad (7)$$

$$3x - 6y - 5z = 26\sqrt{2} \quad \text{ב.} \quad \text{א. שאלת הוכחה.} \quad (8)$$

$$x - 2z = 1 \quad \text{ב.} \quad P(1, -1, 0) \quad \text{א.} \quad (9)$$

(10) א. נקבל שנקודת החיתוך היא $P(1, -1, 0)$. ב. לא.

$$(x, y, z) = (1, -1, 1) + t(3, 16, 2) \quad \text{ב.} \quad \text{א. שאלת הוכחה.} \quad (11)$$

$$3x + 16y + 2z = -11 \quad \text{ב.} \quad \text{א. שאלת הוכחה.} \quad (12)$$

$$-2x + z = -1 \quad \text{ב.} \quad (0, 0, 0) \quad \text{א. כל נקודה, למעט} \quad (13)$$

$$\hat{n} = \frac{\vec{n}}{|\vec{n}|} = \frac{(x, y, z)}{\sqrt{x^2 + y^2 + z^2}} \quad (14)$$

$$\text{שנוסחתו: } x^2 + y^2 + z^2 = 1$$

חשבון אינפיניטימלי 2

פרק 12 - נוסחת טיילור לפונקציה של שני משתנים והדיפרנציאל השלם

תוכן העניינים

1. נוסחת טיילור לפונקציה של שני משתנים 135
2. הדיפרנציאל השלם - נוסחת הקירוב הליניארי 137

נוסחת טיילור לפונקציה של שני משתנים

שאלות

פתחו את הפונקציות בשאלות 1-4 לטור טיילור עד סדר שני סביב הנקודה (a, b) :

$$(a, b) = (1, 2) \quad f(x, y) = x^2y + 3y - 2 \quad (1)$$

$$(a, b) = (0, 0) \quad f(x, y) = (1 + y)\ln(1 + x - y) \quad (2)$$

$$(a, b) = (0, 0) \quad f(x, y) = e^{4y - x^2 - y^2} \quad (3)$$

$$(a, b) = (2, 1) \quad f(x, y) = \sqrt[3]{\frac{x^2 - y}{x + y^2}} \quad (4)$$

(5) בעזרת התוצאה של שאלה 2, חשבו בקירוב את $\ln(1.5)$.

(6) בעזרת התוצאה של שאלה 3, חשבו בקירוב את e^3 .

(7) בעזרת התוצאה של שאלה 4, חשבו בקירוב את $\sqrt[3]{2}$.

תשובות סופיות

$$f(x, y) = 6 + 4(x-1) + 4(y-2) + 2(x-1)^2 + 2(x-1)(y-2) \quad (1)$$

$$f(x, y) = x - y - \frac{1}{2}x^2 + 2xy - \frac{3}{2}y^2 \quad (2)$$

$$f(x, y) = 1 + 4y - x^2 + 7y^2 \quad (3)$$

$$f(x, y) = 1 + \frac{1}{3}(x-2) - \frac{1}{3}(y-1) - \frac{7}{81}(x-2)^2 + \frac{1}{9}(x-2)(y-1) \quad (4)$$

$$\frac{3}{8} \quad (5)$$

$$19 \quad (6)$$

$$\frac{101}{81} \quad (7)$$

הדיפרנציאל השלם – נוסחת הקירוב הליניארי

שאלות

- (1) חשבו בקירוב: $\ln(0.01^2 + 0.99^2)$.
- (2) בעזרת הדיפרנציאל השלם, מצאו בקירוב את הערך של $\sqrt[4]{15.09 + (0.99)^2}$.
- (3) נחשב את הנפח של גליל על סמך תוצאות המדידה של רדיוסו וגובהו. ידוע שהשגיאה היחסית במדידת הרדיוס אינה עולה על 2%, ושהשגיאה היחסית במדידת הגובה אינה עולה על 4%. הערך את השגיאה היחסית המקסימלית האפשרית בנפח המחושב.
- (4) נתונות שתי צלעות במלבן $a = 10\text{ cm}$, $b = 24\text{ cm}$. חשבו את השינוי המדויק ואת השינוי המקורב (בעזרת דיפרנציאל) של אורך אלכסון המלבן אם את הצלע a יאריכו ב-4 mm ואת הצלע b יקצרו ב-1 mm.
- (5) נמדוד את האורך של תיבה, את רוחבה ואת גובהה. השגיאה היחסית בכל מדידה אינה עולה על 5%. העריכו את השגיאה היחסית המקסימלית האפשרית באורך של אלכסון התיבה, המחושב לפי תוצאות המדידה.

תשובות סופיות

- (1) $\cong -0.01$
- (2) $2\frac{7}{3200}$
- (3) 8%
- (4) שינוי מדויק: 0.06472, שינוי מקורב: 0.06153.
- (5) 5%

חשבון אינפיניטימלי 2

פרק 13 - קיצון ואוכף לפונקציה של שני משתנים

תוכן העניינים

1. קיצון ואוכף לפונקציה של שני משתנים 138

קיצון ואוכף לפונקציה של שני משתנים

שאלות

עבור כל אחת מהפונקציות בשאלות 1-8, מצאו נקודות קריטיות וסווגו אותן למקסימום, מינימום או אוכף:

$$f(x, y) = 8x^3 + 12xy + 3y^2 - 18x \quad (1)$$

$$f(x, y) = x^3 + y^3 - 3x - 12y + 20 \quad (2)$$

$$f(x, y) = x^3 + y^3 - 3xy + 4 \quad (3)$$

$$f(x, y) = 3x - x^3 - 2y^2 + y^4 \quad (4)$$

$$f(x, y) = e^{4y-x^2-y^2} \quad (5)$$

$$f(x, y) = y\sqrt{x} - y^2 - x + 6y \quad (6)$$

$$f(x, y) = \frac{x^2y^2 - 8x + y}{xy} \quad (7)$$

$$f(x, y) = e^x \cos y \quad (8)$$

(9) נתון משטח $z = x^3 + y^3 - 3xy + 4$. מצאו את משוואות המישורים המשיקים האופקיים למשטח.

(10) מבין כל התיבות הפתוחות שנפחן 32 סמ"ק, חשבו את ממדי התיבה ששטח הפנים שלה הוא מינימלי.

(11) מצאו את המרחק הקצר ביותר מהנקודה $(1, 2, 3)$ למישור $-2x - 2y + z = 0$, וכן את הנקודה על המישור הקרובה ביותר לנקודה הנ"ל.

- 12** יצרן מוכר מחשבונים, בארץ ובסין. עלות הייצור של מחשבון בארץ היא \$6 ועלות ייצור מחשבון בסין היא \$8. מנהל השיווק אומד את הביקוש Q_1 למחשבון בארץ, ואת הביקוש Q_2 למחשבון בסין, על ידי: $Q_1 = 116 - 30P_1 + 20P_2$, $Q_2 = 144 + 16P_1 - 24P_2$. כיצד צריכה החנות לקבוע את מחירי המחשבונים, P_1 ו- P_2 , על מנת למקסם את הרווח? מהו רווח זה?

- 13** נתונה הפונקציה $f(x, y) = x^2 + y^2 + axy$.
- א. הוכיחו שהנקודה $(0, 0)$ היא נקודה קריטית.
- ב. בעזרת מבחן הנגזרת השנייה, קבעו עבור אילו ערכים של a הנקודה מסעיף א' היא מקסימום, מינימום, אוכלף, או שלא ניתן לדעת.

14 מצאו שני מספרים, $b > a$, כך ש- $\int_a^b (24 - 2x - x^2)^{\frac{1}{5}} dx$ יהיה מקסימלי.

תשובות סופיות

- 1** $(-0.5, 1)$ אוכלף; $(1.5, -3)$ מינימום.
- 2** $(1, 2)$ מינימום; $(-1, -2)$ מקסימום; $(-1, 2)$, $(1, -2)$ אוכלף.
- 3** $(0, 0)$ אוכלף; $(1, 1)$ מינימום.
- 4** $(-1, -1)$, $(-1, 1)$ מינימום; $(1, 0)$ מקסימום; $(1, -1)$, $(1, 1)$, $(-1, 0)$ אוכלף.
- 5** $(0, 2)$ מקסימום.
- 6** $(4, 4)$ מקסימום.
- 7** $(-0.5, 4)$ מקסימום.
- 8** אין נקודות קריטיות.
- 9** $z = 4$, $z = 3$
- 10** רוחב 4 ס"מ, אורך 4 ס"מ, גובה 2 ס"מ.
- 11** מרחק מינימלי הוא 1 יחידות אורך. נקודה קרובה ביותר $(1/3, 4/3, 10/3)$.
- 12** $P_1 = 10\$$, $P_2 = 12\$$ רווח מקסימלי \$288.
- 13** א. שאלת הוכחה. ב. עבור $a = 2$, $a = -2$, לא ניתן לדעת; $a > 2$, $a < -2$ אוכלף; $-2 < a < 2$ מינימום.
- 14** $a = -6$, $b = 4$

חשבון אינפיניטימלי 2

פרק 14 - קיצון של פונקציה רבת משתנים (רמה מתקדמת) - הריבועים הפחותים

תוכן העניינים

1. קיצון של פונקציה רבת משתנים.....140

קיצון של פונקציה רבת משתנים (מתקדם) – ריבועים פחותים

שאלות

מצאו את נקודות הקיצון של הפונקציות בשאלות 1-5:

$$f(x, y) = 1 + 2xy - x^2 - y^2 \quad (1)$$

$$f(x, y) = 4 - \sqrt{x^2 + y^2} \quad (2)$$

$$(z = f(x, y)) \quad z^3 + z + xy - 2x - y + 2 = 0 \quad (3)$$

$$f(x, y) = x^3 - y^3 - 3x^2 + 6y^2 + 3x - 12y + 8 \quad (4)$$

$$(x, y, z > 0) \quad f(x, y, z) = x + \frac{y^2}{4x} + \frac{z^2}{y} + \frac{2}{z} \quad (5)$$

(6) מצאו מרחק מינימלי בין הפרבולה $y = x^2 + 1$, לפרבולה $y = -x^2 + 2x$.
* לפתרון תרגיל זה נדרש ידע בפתרון נומרי (מקורב) של משוואה, כגון שיטת ניוטון רפסון.

בשאלות 7-11 נתונות n נקודות, $(x_1, y_1), (x_2, y_2), \dots, (x_n, y_n)$, ויש למצוא קו עקום מהצורה $y = h(x)$, כך ששכום ריבועי המרחקים האנכיים בין העקום והנקודות יהיה מינימלי.

$$h(x) = ax + b, \text{ הדגימו עבור הנקודות } (2, 2.5), (1, 0.8), (3, 3.2), (4, 3.5) \quad (7)$$

$$h(x) = ax^2 + bx, \text{ הדגימו עבור הנקודות } (-1, 2), (2, 0), (0, -2) \quad (8)$$

$$h(x) = ax + \frac{b}{x}, \text{ הדגימו עבור הנקודות } (10, 20.2), (6, 12.9), (4, 8.5), (0.5, 4) \quad (9)$$

$$h(x) = ax^2 + \frac{b}{x^2}, \text{ הדגימו עבור הנקודות } (4, 33), (2, 8.5), (0.5, 2.3), (1, 4.5), (0.1, 90) \quad (10)$$

(11) $h(x) = ax^2 + bx + c$, הדגימו עבור $(1, 4.5), (0.5, 2.3), (0, 0.8), (-1, 0.1), (-0.5, 0.12)$.

(12) נתונות n נקודות: $(x_1, y_1), (x_2, y_2), \dots, (x_n, y_n)$.

מצאו ישר $y = ax + b$, כך שסכום ריבועי המרחקים האנכיים בין הישר והנקודות יהיה מינימלי.
יש להגיע לנוסחה מפורשת עבור a ו- b .

הערה: בשאלות 11 ו-12 ניתן להניח ש- a ו- b , המתקבלים מפתרון המשוואות $f_a = 0, f_b = 0$,

נותנים את המינימום המוחלט של פונקציית ריבועי המרחקים האנכיים $f(a, b) = \sum_{i=1}^n (h(x_i) - y_i)^2$.

תשובות סופיות

(1) (t, t) לכל t ממשי, מקסימום.

(2) $(0, 0)$ מקסימום.

(3) אין קיצון. $(1, 2)$ אוסף.

(4) אין קיצון. $(1, 2)$ אוסף.

(5) מינימום. $(0.5, 1, 1)$.

(6) 0.375

(7) $y = 0.88x + 0.3$

(8) $y = \frac{2}{3}x^2 - \frac{4}{3}x$

(9) $y = 2.032x + \frac{1.5039}{x}$

(10) $y = 2.06x^2 + \frac{0.9}{x^2}$

(11) $y = 1.48x^2 + 2.196x + 0.824$

$$a = \frac{n \sum_{i=1}^n y_i x_i - \sum_{i=1}^n y_i \sum_{i=1}^n x_i}{n \sum_{i=1}^n x_i^2 - \left(\sum_{i=1}^n x_i \right)^2}, \quad b = \frac{\sum_{i=1}^n y_i \sum_{i=1}^n x_i^2 - \sum_{i=1}^n y_i x_i \sum_{i=1}^n x_i}{n \sum_{i=1}^n x_i^2 - \left(\sum_{i=1}^n x_i \right)^2} \quad (12)$$

חשבון אינפיניטימלי 2

פרק 15 - קיצון של פונקציה של שני משתנים תחת אילוץ (כופלי לגראנז')

תוכן העניינים

1. קיצון של פונקציה של שני משתנים תחת אילוץ.....142

קיצון של פונקציה של שני משתנים תחת אילוץ (כופלי לגראנז')

שאלות

בשאלות 1-4 מצאו את המקסימום והמינימום של הפונקציות, בכפוף לאילוץ הנתון:

$$f(x, y) = x^2 + y^2; \quad 2x^2 + 3xy = 1 - 2y^2 \quad (1)$$

$$f(x, y) = x^2 - y^2; \quad x^2 + y^2 = 1 \quad (2)$$

$$f(x, y) = 4x + 6y; \quad x^2 + y^2 = 13 \quad (3)$$

$$f(x, y) = x^2 y; \quad x^2 + 2y^2 = 6 \quad (4)$$

$$\text{נתונה בעיית הקיצון } \max\{xy\} \text{ s.t. } x + 3y = 12 \text{ , כאשר } x, y > 0 \quad (5)$$

א. פתרו את הבעיה.

ב. הביאו פתרון גרפי לבעיה.

$$\text{נתונה בעיית הקיצון } \max\{2x + y\} \text{ s.t. } \sqrt{x} + \sqrt{y} = 9 \text{ , כאשר } x, y \geq 0 \quad (6)$$

א. פתרו את הבעיה.

ב. הביאו פתרון גרפי לבעיה.

$$\text{מבין כל הנקודות הנמצאות על הישר } x + 3y = 12 \quad (7)$$

מצאו את זו שמכפלת שיעוריה מקסימלי.

$$\text{מבין כל הנקודות שעל העקומה } 2x^2 + 3xy = 1 - 2y^2 \text{ , מצאו את הנקודות} \quad (8)$$

שמרחקן מראשית הצירים הוא מינימלי, ואת הנקודות שמרחקן מראשית הצירים הוא מקסימלי.

$$\text{מצאו את המרחק הקצר ביותר מהישר } 3x - 6y + 4 = 0 \quad (9)$$

$$\text{לפרבולה } x^2 + 2xy + y^2 + 4y = 0.$$

$$\text{רמז: מרחק הנקודה } (x_0, y_0) \text{ מהישר } ax + by + c = 0 \text{ , הוא } \frac{|ax_0 + by_0 + c|}{\sqrt{a^2 + b^2}}.$$

- 10** מוישליה קונה בשוק x ק"ג מלפפונים ו- y ק"ג עגבניות. התועלת מצריכת הסל, (x, y) , נתונה על ידי $u(x, y) = \ln x + \ln y$. מחיר ק"ג מלפפונים 1 ש"ח, ומחיר ק"ג עגבניות 2 ש"ח. מוישליה קובע לעצמו להשיג רמת תועלת $\ln 16$, והוא מעוניין להשיג זאת בעלות מינימאלית. נסחו ופתרו את בעיית מוישליה.
- 11** דני קונה בשוק x ק"ג מלפפונים ו- y ק"ג עגבניות. התועלת מצריכת הסל (x, y) נתונה על ידי $u(x, y) = xy$. מחיר ק"ג מלפפונים 1 ש"ח, ומחיר ק"ג עגבניות 3 ש"ח. לדני תקציב של 12 ש"ח. נסחו ופתרו את בעיית דני.
- 12** עקומת התמורה בין מנגו, (x) , ואננס, (y) , היא $x^2 + y^2 = 13$. לדני תועלת $f(x, y) = 4x + 6y$. דני מחפש את הסל (אננס, מנגו) (x, y) על עקומת התמורה, המביא למקסימום את התועלת שלו מצריכת מנגו ואננס. נסחו ופתרו את הבעיה.
- 13** ליצרן פונקציית ייצור $Q = \sqrt{k} + \sqrt{L}$. המחירים ליחידת K ו- L הם $P_K = 2, P_L = 1$. היצרן נמצאו ברמת תפוקה 100 והוא מחפש את הצירוף (K^*, L^*) , המביא למינימום את העלות. נסחו את בעיית היצרן (לא לפתור).
- 14** נתונה בעיית קיצון תחת אילוץ $\max\{u(x, y)\} \text{ s.t. } p_1x + p_2y = I$. תהי (x^*, y^*) נקודת הפתרון של הבעיה. ניתן להניח מצב קלאסי של השקה. הוכיחו כי כופל לגראנז' λ מקיים $\lambda = \frac{x \cdot u_x + y \cdot u_y}{I}$ בנקודת הפתרון של הבעיה.

תשובות סופיות

$$\max(\pm 1, \mp 1) \quad \min(\pm\sqrt{1/7}, \pm\sqrt{1/7}) \quad (1)$$

$$\min(0, \pm 1) \quad \max(\pm 1, 0) \quad (2)$$

$$\max(2, 3) \quad \min(-2, -3) \quad (3)$$

$$\max(\pm 2, 1) \quad \min(\pm 2, -1) \quad (4)$$

$$\max(6, 2) \quad (5)$$

$$\max(9, 36) \quad (6)$$

$$(6, 2) \quad (7)$$

$$\max(\pm 1, \mp 1) \quad \min(\pm\sqrt{1/7}, \pm\sqrt{1/7}) \quad (8)$$

$$7 / \sqrt{45} \quad (9)$$

$$\min(\sqrt{32}, \sqrt{8}) \quad (10)$$

$$\max(6, 2) \quad (11)$$

$$\max(2, 3) \quad (12)$$

$$\min\{2K + L\}; \quad \sqrt{K} + \sqrt{L} = 100 \quad (13)$$

$$\text{שאלת הוכחה.} \quad (14)$$

חשבון אינפיניטימלי 2

פרק 16 - קיצון של פונקציה של שלושה משתנים תחת אילוצים

תוכן העניינים

1. קיצון של פונקציה של שלושה משתנים תחת אילוצים 145

קיצון של פונקציה של שלושה משתנים תחת אילוצים

שאלות

- (1) מבין כל התיבות הפתוחות שנפחן 32 סמ"ק, חשבו את ממדי התיבה ששטח הפנים שלה הוא מינימלי.
- (2) מצאו על פני הכדור $x^2 + y^2 + z^2 = 36$ את הנקודות הקרובות ביותר לנקודה $(1, 2, 2)$ ואת הנקודות הרחוקות ביותר מהנקודה $(1, 2, 2)$.
- (3) ענו על הסעיפים הבאים:
 א. מצאו את המרחק הקצר ביותר מהנקודה $(1, 2, 3)$ למישור $-2x - 2y + z = 0$.
 ב. מצאו נקודה על המישור $-2x - 2y + z = 0$, שהיא הקרובה ביותר לנקודה $(1, 2, 3)$.
 ג. בדקו את התשובה על ידי חישוב המרחק בעזרת הנוסחה למרחק בין נקודה למישור.
- (4) מצאו את הנקודות על המשטח $z^2 = xy + 1$ הקרובות ביותר לראשית.
- (5) מצאו את המרחק הגדול ביותר והקטן ביותר מהאליפסואיד $\frac{x^2}{96} + y^2 + z^2 = 1$ למישור $3x + 4y + 12z = 288$. רמז: מרחק הנקודה (x_0, y_0, z_0) מהמישור $ax + by + cz + d = 0$ הוא $\frac{|ax_0 + by_0 + cz_0 + d|}{\sqrt{a^2 + b^2 + c^2}}$.
- (6) מצאו מרחק מינימלי ומקסימלי בין העקום המתקבל מחיתוך הגליל $x^2 + y^2 = 1$ והמישור $z = x + y$ לבין ראשית הצירים.
- (7) מצאו מרחק מינימלי ומקסימלי בין העקום המתקבל מחיתוך האליפסואיד $\frac{x^2}{4} + \frac{y^2}{5} + \frac{z^2}{25} = 1$ והמישור $z = x + y$ לבין ראשית הצירים.

הערה חשובה

בפתרון מרבית התרגילים בפרק זה, אנו מסיקים שנקודה קריטית היא נקודת קיצון משיקולים פסיקליים או גיאומטריים, היות ומדובר בבעיות מעשיות. ישנן דרכים מתמטיות מתקדמות להוכיח פורמלית, אך מאחר ולא נהוג ללמד אותן ברוב מוסדות הלימוד, הסתפקנו בכך.

תשובות סופיות

- (1) רוחב 4 ס"מ, אורך 4 ס"מ, גובה 2 ס"מ.
- (2) הנקודה הקרובה ביותר היא הנקודה $(2, 4, 4)$, והנקודה הרחוקה ביותר היא הנקודה $(-2, -4, -4)$.
- (3) א. מרחק מינימלי הוא 1 יחידות אורך.
ב. הנקודה הקרובה ביותר $(\frac{1}{3}, \frac{4}{3}, \frac{10}{3})$.
- (4) $(0, 0, 1)$, $(0, 0, -1)$
- (5) המרחק הקצר ביותר $\frac{256}{13}$. המרחק הארוך ביותר $\frac{320}{13}$.
- (6) מרחק מינימלי 1. מרחק מקסימלי $\sqrt{3}$.
- (7) מרחק מינימלי $\frac{75}{17}$. מרחק מקסימלי 10.

חשבון אינפיניטימלי 2

פרק 17 - קיצון מוחלט של פונקציה בשני משתנים בקבוצה סגורה וחסומה

תוכן העניינים

1. קיצון מוחלט של פונקציה בשני משתנים בקבוצה סגורה וחסומה 147

קיצון מוחלט של פונקציה בשני משתנים – בקבוצה סגורה וחסומה

שאלות

- (1) חשבו את המקסימום המוחלט ואת המינימום המוחלט של $f(x, y) = 3xy - 6x - 3y + 7$ בתחום R , כאשר R הוא התחום הסגור, בצורת משולש שקודקודיו הם $(0, 5), (3, 0), (0, 0)$.
- (2) חשבו את המקסימום המוחלט ואת המינימום המוחלט של $f(x, y) = x^2 - 3y^2 - 2x + 6y$ בתחום R , כאשר R הוא התחום הסגור, בצורת ריבוע שקודקודיו הם $(2, 0), (2, 2), (0, 2), (0, 0)$.
- (3) חשבו את המקסימום המוחלט ואת המינימום המוחלט של $f(x, y) = x^2 + 2y^2 - x$ בתחום R , כאשר R הוא העיגול $x^2 + y^2 \leq 4$.
- (4) חשבו את המקסימום המוחלט ואת המינימום המוחלט של $f(x, y) = x^2 + y^2 - xy + x + y$ בתחום R , כאשר R הוא התחום הסגור $R = \{(x, y) \mid x + y \geq -3, x \leq 0, y \leq 0\}$.
- (5) חשבו את המקסימום המוחלט ואת המינימום המוחלט של $f(x, y) = x^2 + y^2 - 12x + 16y$ בתחום R , כאשר R הוא התחום הסגור $R = \{(x, y) \mid x^2 + y^2 \leq 1, 3x \geq -y\}$.

תשובות סופיות

- (1) מקסימום מוחלט 7. מינימום מוחלט -11.
- (2) מקסימום מוחלט 3. מינימום מוחלט -1.
- (3) מקסימום מוחלט $\frac{33}{4}$. מינימום מוחלט $-\frac{1}{4}$.
- (4) מקסימום מוחלט 6. מינימום מוחלט -1.
- (5) מקסימום מוחלט $1 + 6\sqrt{10}$. מינימום מוחלט $1 - 6\sqrt{10}$.

חשבון אינפיניטימלי 2

פרק 18 - אינטגרלים לא אמיתיים

תוכן העניינים

148	1. אינטגרל לא אמיתי מסוג ראשון
150	2. אינטגרל לא אמיתי מסוג שני
151	3. אינטגרל לא אמיתי מסוג שלישי
152	4. שימושים של אינטגרלים לא אמיתיים
153	5. מבחני השוואה
155	6. התכנסות בהחלט
156	7. מבחן דיריכלה
157	8. התכנסות בתנאי

אינטגרל לא אמיתי מסוג ראשון

שאלות

חשבו את האינטגרלים בשאלות 1-5 :

$$\int_1^{\infty} \frac{xdx}{(1+x^2)^2} \quad (1)$$

$$\int_1^{\infty} \frac{dx}{(1+x)\sqrt{x}} \quad (2)$$

$$\int_1^{\infty} xe^{-x^2} dx \quad (3)$$

$$\int_1^{\infty} \frac{x}{x^2+5} dx \quad (4)$$

$$\int_1^{\infty} x^2 e^{-2x} dx \quad (5)$$

$$(6) \text{ הוכיחו כי } \int_0^{\pi} \frac{1}{1+\alpha \cos x} dx = \frac{\pi}{\sqrt{1-\alpha^2}} \text{ עבור } |\alpha| < 1.$$

$$(7) \text{ הוכיחו כי } \int_0^{\pi} \frac{1}{\alpha - \cos x} dx = \frac{\pi}{\sqrt{\alpha^2 - 1}} \text{ עבור } |\alpha| > 1.$$

תשובות סופיות

$$\frac{1}{4} \quad (1)$$

$$\frac{\pi}{2} \quad (2)$$

$$\frac{1}{2e} \quad (3)$$

(4) מתבדר : ∞ .

$$\frac{5}{4e^2} \quad (5)$$

(6) שאלת הוכחה.

(7) שאלת הוכחה.

אינטגרל לא אמיתי מסוג שני

שאלות

חשבו את האינטגרלים הבאים :

$$\int_0^1 \sin \frac{1}{x} \cdot \frac{dx}{x^2} \quad (1)$$

$$\int_0^1 \frac{dx}{x\sqrt{x^2+1}} \quad (2)$$

תשובות סופיות

(1) מתבדר : ∞ .

(2) מתבדר : ∞ .

אינטגרל לא אמיתי מסוג שלישי

שאלה

(1) חשבו את האינטגרל $\int_{-\infty}^{\infty} \frac{1}{x^2} dx$.

תשובה

(1) מתבדר: ∞ .

שימושים של אינטגרלים לא אמיתיים

שאלות

(1) חשבו את השטח בין גרף הפונקציה $y = e^{2x}$, הישר $x=1$ וציר ה- x , עבור $x \leq 1$.

(2) חשבו את השטח בין גרף הפונקציה $y = \frac{1}{\sqrt{x}}$, ציר ה- y , ציר ה- x והישר $x=5$.

(3) נתונה הפונקציה $f(x) = \frac{x^2}{e^{x^3}}$.

ידוע כי השטח הכלוא בין גרף הפונקציה לבין ציר ה- x , בתחום $0 \leq x \leq k$, שווה לשטח הכלוא בין גרף הפונקציה לבין ציר ה- x , בתחום $x \geq k$. מצאו את הקבוע k .

תשובות סופיות

$$\frac{1}{2}e^2 \quad (1)$$

$$2\sqrt{5} \quad (2)$$

$$k = \sqrt[3]{\ln 2} \quad (3)$$

מבחני השוואה

שאלות

בדקו את התכנסות או התבדרות האינטגרלים הבאים:

$$\int_1^{\infty} \frac{x^2 + 2x + 1}{x^3 + 4x^2 + 5} dx \quad (2)$$

$$\int_1^{\infty} \frac{x^2 + 2x + 1}{x^4 + 4x^2 + 5} dx \quad (1)$$

$$\int_3^{\infty} \frac{\sin x \cdot \ln x}{x^2 \sqrt{x^2 - 4}} dx \quad (4)$$

$$\int_1^{\infty} \frac{\arctan x}{1 + x^4} dx \quad (3)$$

$$\int_2^{\infty} \frac{\sqrt{x^3 + 1}}{x} dx \quad (6)$$

$$\int_1^{\infty} (\sqrt{x^2 + 1} - x) dx \quad (5)$$

$$\int_{-\infty}^2 \frac{e^{3x}}{1 + x^2} dx \quad (8)$$

$$\int_0^{\infty} \frac{1}{1 + x^4} dx \quad (7)$$

$$\int_0^{\infty} \frac{1 - \cos x}{x^2} dx \quad (10)$$

$$\int_1^{\infty} \frac{\ln x}{1 + x} dx \quad (9)$$

$$\int_0^{\infty} \frac{\ln(1+x)}{\sqrt{x}(\sqrt{1+x}-1)} dx \quad (12)$$

$$\int_0^{\infty} \frac{\sin x}{x} dx \quad (11)$$

$$\int_0^{\infty} \frac{1 - \cos x}{\sqrt{x}(\sqrt{1+x}-1)} dx \quad (14)$$

$$\int_0^{\infty} \frac{1 - \cos x}{\sqrt{x}(\sqrt{1+x^2}-1)} dx \quad (13)$$

$$\int_1^{\infty} \frac{\sqrt{x^2 + x - 2}}{\sqrt[4]{(x-1)^5} \sqrt{(1+x)^5}} dx \quad (16)$$

$$\int_0^{\infty} \frac{\ln(1+x^2)}{x^2(x+\sqrt{x})} dx \quad (15)$$

תשובות סופיות

- | | |
|-------------|-------------|
| (1) מתכנס. | (2) מתבדר. |
| (3) מתכנס. | (4) מתכנס. |
| (5) מתבדר. | (6) מתבדר. |
| (7) מתכנס. | (8) מתכנס. |
| (9) מתבדר. | (10) מתכנס. |
| (11) מתכנס. | (12) מתבדר. |
| (13) מתכנס. | (14) מתבדר. |
| (15) מתכנס. | (16) מתכנס. |

התכנסות בהחלט

שאלות

בשאלות 1-3 בדקו האם האינטגרלים מתכנסים:

$$\int_0^{\infty} \frac{\cos 2x}{x^2 + 1} dx \quad (1)$$

$$\int_0^{\infty} e^{-10x} \sin 4x dx \quad (2)$$

$$\int_0^1 \sin\left(\frac{1}{x}\right) dx \quad (3)$$

$$(4) \text{ הוכיחו: אם } \int_a^{\infty} |f(x)| dx \text{ מתכנס, אז } \int_a^{\infty} f(x) dx \text{ מתכנס.}$$

תשובות סופיות

- (1) מתכנס.
- (2) מתכנס.
- (3) מתכנס.
- (4) שאלת הוכחה.

מבחן דיריכלה

שאלות

הוכיחו כי האינטגרלים הבאים מתכנסים:

$$\int_1^{\infty} \frac{(\ln x)^p \cos x}{x} dx \quad (1)$$

$$\int_1^{\infty} \frac{\sin x}{x^p} dx \quad (p > 0) \quad (2) \quad \text{א.}$$

$$\int_1^{\infty} \sin(x^2) dx \quad (2) \quad \text{ב.}$$

$$\int_1^{\infty} \frac{e^{\sin x} \sin x \cos x}{x^p} dx \quad (p > 0) \quad (3)$$

לתשובות מלאות בסרטוני וידאו היכנסו לאתר www.GooL.co.il

התכנסות בתנאי

שאלות

קבעו האם האינטגרלים הבאים מתכנסים בהחלט, בתנאי או מתבדרים:

$$(1) \quad \text{א.} \quad \int_0^1 \frac{\sin x}{x^p} dx \quad (p > 1)$$

$$\text{ב.} \quad \int_1^\infty \frac{\sin x}{x^p} dx \quad (p > 1)$$

$$\text{ג.} \quad \int_0^\infty \frac{\sin x}{x^p} dx \quad (p > 1)$$

$$(2) \quad \text{א.} \quad \int_0^1 \frac{\sin x}{x^p} dx \quad (0 < p \leq 1)$$

$$\text{ב.} \quad \int_1^\infty \frac{\sin x}{x^p} dx \quad (0 < p \leq 1)$$

$$\text{ג.} \quad \int_0^\infty \frac{\sin x}{x^p} dx \quad (0 < p \leq 1)$$

$$(3) \quad \text{א.} \quad \int_0^\infty \frac{\sin x}{x^p} dx$$

$$\text{ב.} \quad \int_0^\infty \frac{\sin(x^4)}{x^p} dx$$

$$(4) \quad \int_2^\infty \frac{\sin 4x}{\sqrt{x}-1} dx$$

$$(5) \quad \int_0^{\pi/2} \frac{x \sin(\tan x)}{\cos x} dx$$

תשובות סופיות

- (1) א. מתכנס בהחלט עבור $1 < p < 2$ ומתבדר עבור $p \geq 2$.
 ב. מתכנס בהחלט.
 ג. מתכנס בהחלט עבור $1 < p < 2$ ומתבדר עבור $p \geq 2$.
- (2) א. מתכנס בהחלט. ב. מתכנס בתנאי. ג. מתכנס בתנאי.
- (3) א. מתכנס בתנאי עבור $0 < p \leq 1$, מתכנס בהחלט עבור $1 < p < 2$,
 מתבדר עבור $p \geq 2$.
 ב. מתכנס בתנאי עבור $-3 < p \leq 1$, מתכנס בהחלט עבור $1 < p < 5$,
 מתבדר עבור $p \geq 5$.
- (4) מתכנס בתנאי.
- (5) מתכנס בתנאי.

חשבון אינפיניטימלי 2

פרק 19 - משוואות מסדר ראשון

תוכן העניינים

159	1. מבוא
161	2. הפרדת משתנים
163	3. משוואה הומוגנית
164	4. משוואה מהצורה $(ax+by+c)dx+(dx+ey+f)dy=0$
166	5. משוואה מדויקת
169	6. גורם אינטגרציה
171	7. משוואה לינארית מסדר ראשון
172	8. משוואת ברנולי
173	9. משוואת ריקטי
174	10. הצבות שונות ומשונות
177	11. משפט הקיום והיחידות על שם פיאנו ופיקארד
179	12. פתרונות גרפיים ונומריים למשוואה מסדר ראשון
	13. משוואות מסדר ראשון וממעלה גבוהה

הפרדת משתנים

שאלות

פתרו את המשוואות הבאות :

$$(y \neq 0) \quad \frac{dy}{dx} = \frac{x^2}{y} \quad (1)$$

$$(1-x)y' = y^2 \quad (2)$$

$$yy'\sqrt{1+x^2} + x\sqrt{1+y^2} = 0 \quad (3)$$

$$y(2) = 1 ; (x-1)\frac{dy}{dx} = 4y \quad (4)$$

$$y(1) = -1 ; \frac{dy}{dx} = xy + 3y - 3x - 9 \quad (5)$$

$$(x^2y - 2 + 2x^2 - y)dx - (xy^2 - 4 - 4x + y^2)dy = 0 \quad (6)$$

$$dy = 2t(y^2 + 4)dt \quad (7)$$

$$\frac{dx}{dt} = x^2 - 2x + 2 \quad (8)$$

$$y(\pi) = 1 ; y' + y^2 \sin x = 0 \quad (9)$$

$$(\cos x \neq 0) \quad y(0) = 5 ; \frac{dy}{dx} = y \sec^2 x \quad (10)$$

$$y(0) = 1 ; \frac{dy}{dx} = \frac{xy^3}{\sqrt{1+x^2}} \quad (11)$$

תשובות סופיות

$$y = \pm \sqrt{\frac{2}{3}x^3 + k} \quad (1)$$

$$y = \frac{1}{\ln|1-x| - c}, \quad y = 0 \quad (2)$$

$$\sqrt{1+y^2} = -\sqrt{1+x^2} + c \quad (3)$$

$$\frac{1}{4} \ln|y| = \ln|x-1| \quad (4)$$

$$\ln|y-3| = \frac{x^2}{2} + 3x + \ln 4 - 3.5 \quad (5)$$

$$y = 2 \pm \sqrt{(x-1)^2 + k} \quad (6)$$

$$y = 2 \tan(2t^2 + k) \quad (7)$$

$$x = 1 + \tan(t + c) \quad (8)$$

$$y = -\frac{1}{\cos x} \quad (9)$$

$$\ln|y| = \tan x + \ln 5 \quad (10)$$

$$\frac{1}{-2y^2} = \sqrt{1+x^2} - 1.5 \quad (11)$$

משוואה הומוגנית

שאלות

פתרו את המשוואות בשאלות 8-1 :

$$(y^3 + x^3)dx + xy^2dy = 0 \quad (1)$$

$$y' = \frac{4y - 3x}{2x - y} \quad (2)$$

$$y^2 + x^2y' = xy' \quad (3)$$

$$(3xy + y^2)dx + (x^2 + xy)dy = 0 \quad (4)$$

$$\left(x - y \cos \frac{y}{x}\right)dx + x \cos \frac{y}{x} dy = 0 \quad (5)$$

$$y' = \frac{2xye^{(x/y)^2}}{y^2 + y^2e^{(x/y)^2} + 2x^2e^{(x/y)^2}} \quad (6)$$

$$y(1) = 0 ; \left(y + \sqrt{x^2 + y^2}\right)dx - xdy = 0 \quad (7)$$

$$(2x^2t - 2x^3)dt + (4x^3 - 6x^2t + 2xt^2)dx = 0 \quad (8)$$

$$(y^2 + x^2)dx + xy^n dy = 0 \quad (9)$$

א. מה צריך להיות הערך של הקבוע n , על מנת שהמשוואה תהיה הומוגנית?

ב. פתרו את המשוואה עבור הערך של n שנמצא בסעיף א.

תשובות סופיות

$$-\ln|x| = \frac{1}{6} \ln|2(y/x)^3 + 1| + c, \quad y = -\frac{x}{2^{1/3}} \quad (1)$$

$$\ln|x| = \frac{1}{4} \ln|(y/x) - 1| - \frac{5}{4} \ln|(y/x) + 3| + c, \quad y = x, \quad y = -3x \quad (2)$$

$$-\ln|x| = \ln|(y/x)| - (y/x) + c, \quad y = 0 \quad (3)$$

$$-\ln|x| = \frac{1}{4} \ln|2(y/x)^2 + 4| + c, \quad y = 0, \quad y = -2x \quad (4)$$

$$\ln|x| = -\sin(y/x) + c \quad (5)$$

$$\ln(1 + e^{(x/y)^2}) = \ln|y| + c, \quad y = 0 \quad (6)$$

$$\ln x = \sinh^{-1}\left(\frac{x}{y}\right) + c \quad (7)$$

$$\ln|t| = -\frac{1}{2} \ln|(x/t) - (x/t)^2| + c, \quad x(t) = 0, \quad x(t) = t \quad (8)$$

$$n = 1, \quad \ln|x| = -\frac{1}{4} \ln(1 + 2(y/x)^2) + c \quad (9)$$

משוואה מהצורה $(ax + by + c)dx + (dx + ey + f)dy = 0$

שאלות

פתרו את המשוואות הבאות:

$$\frac{dy}{dx} = \frac{x+y+1}{x+y+2} \quad (1)$$

$$(x+2y+3)dx + (2x+4y-1)dy = 0 \quad (2)$$

$$\frac{dy}{dx} = \frac{2y-x+5}{2x-y-4} \quad (3)$$

$$\frac{dx}{dy} = \frac{3+x+2y}{1+x+y} \quad (4)$$

$$(2x+y-3)dx + (x+y-1)dy = 0 \quad (5)$$

תשובות סופיות

$$x = \frac{1}{2}(x+y+1) + \frac{1}{4}\ln(2(x+y+1)+1) + \frac{1}{4} + c, \quad y = -x - 1.5 \quad (1)$$

$$\ln|x-1| = \frac{1}{2}\ln\left|\frac{y+2}{x-1} - 1\right| - \frac{3}{2}\ln\left|\frac{y+2}{x-1} + 1\right| + c, \quad y = x - 3, \quad y = -x - 1 \quad (2)$$

$$0 = 14y - (x+2y+3)^2 + k \quad (3)$$

$$\ln|x-1| = \frac{1}{4}\left[-(2+\sqrt{2})\ln\left|\sqrt{2}-2\frac{y+2}{x-1}\right| + (-2+\sqrt{2})\ln\left|\sqrt{2}+2\frac{y+2}{x-1}\right|\right] + c \quad (4)$$

$$y = \sqrt{0.5x-2} - \sqrt{0.5}, \quad y = -\sqrt{0.5x-2} + \sqrt{0.5}$$

$$\ln|x-2| = \frac{1}{2}\ln\left(2+2\frac{y+1}{x-2} + \left(\frac{y+1}{x-2}\right)^2\right) + c \quad (5)$$

משוואה מדויקת

שאלות

פתרו את המשוואות בשאלות 1-6:

$$(2x^3 + 3y)dx + (3x + y - 1)dy = 0 \quad (1)$$

$$(y^2 e^{xy^2} + 4x^3)dx + (2xye^{xy^2} - 3y^2)dy = 0 \quad (2)$$

$$(y \cos x + 2xe^y)dx + (\sin x + x^2 e^y - 1)dy = 0 \quad (3)$$

$$(1 + y^2 \sin 2x)dx - 2y \cos^2 x dy = 0 \quad (4)$$

$$\left(y^2 - \frac{y}{x(x+y)} + 2 \right) dx + \left(\frac{1}{x+y} + 2y(x+1) \right) dy = 0 \quad (5)$$

$$(2x^2 t - 2x^3)dt + (4x^3 - 6x^2 t + 2xt^2)dx = 0 \quad (6)$$

$$(7) \quad \text{נתונה המשוואה } (3x^2 + ye^{xy})dx + (2y^3 + kxe^{xy})dy = 0, \text{ כאשר } k \text{ קבוע.}$$

א. מה צריך להיות הערך של הקבוע k , על מנת שהמשוואה תהיה מדויקת?

ב. פתור את המשוואה עבור הערך של k שנמצא בסעיף א.

תשובות סופיות

$$0.5x^4 + 3yx + 0.5y^2 - y = c \quad (1)$$

$$e^{xy^2} + x^4 - y^3 = c \quad (2)$$

$$y \sin x + x^2 e^y - y = c \quad (3)$$

$$x - \frac{y^2 \cos 2x}{2} - \frac{y^2}{2} = c \quad (4)$$

$$\ln|x+y| + (x+1)y^2 + 2x - \ln|x| = c \quad (5)$$

$$x^2 t^2 - 2x^3 t + x^4 = c \quad (6)$$

$$k=1, \quad x^3 + e^{xy} + \frac{y^4}{2} = c \quad (7)$$

גורם אינטגרציה

שאלות

(1) הראו שהמשוואה $x^2y^3 + x(1+y^2)y' = 0$ אינה מדויקת, ופתרו אותה בעזרת גורם האינטגרציה $\frac{1}{xy^3}$.

(2) הראו שהמשוואה $\left(\frac{\sin y}{y} - 2e^{-x} \sin x\right) dx + \left(\frac{\cos y + 2e^{-x} \cos x}{y}\right) dy = 0$ אינה מדויקת, ופתרו אותה בעזרת גורם האינטגרציה ye^x .

(3) הראו שהמשוואה $(x+2)\sin y dx + x \cos y dy = 0$ אינה מדויקת, ופתרו אותה בעזרת גורם האינטגרציה xe^x .

פתרו את המשוואות בשאלות 4-9:

(4) $(x^2 + y^2 + x) dx + (xy) dy = 0$

(5) $(x - x^2 - y^2) dx + y dy = 0$

(6) $(2xy^3 + y^4) dx + (xy^3 - 2) dy = 0$

(7) $(y^2 - y) dx + x dy = 0$

(8) $(y - xy^2) dx + (x + x^2y^2) dy = 0$

(9) $y(1) = -1 ; \quad y' = \frac{3yx^2}{x^3 + 2y^4}$

(10) נתונה מד"ר לא מדויקת $M(x, y)dx + N(x, y)dy = 0$.

א. הוכיחו: אם $\frac{M_y - N_x}{N} = f(x)$, אז $e^{\int f(x)dx}$ הוא גורם אינטגרציה.

ב. הוכיחו: אם $\frac{M_y - N_x}{M} = g(y)$, אז $e^{-\int g(y)dy}$ הוא גורם אינטגרציה.

(11) נתונה המשוואה הדיפרנציאלית $(y^4 - 4xy)dx + (2xy^3 - 3x^2)dy = 0$.

מצאו את גורם האינטגרציה של המשוואה, בהנחה שהוא פונקציה של xy בלבד. כלומר, גורם האינטגרציה מהצורה $\mu(xy)$.

(12) נתונה המשוואה $(5x^2 + 3y^3 + 2xy)dx + (3x^2 + 3xy^2 + 6y^3)dy = 0$.

מצאו את גורם האינטגרציה, בהנחה שהוא מהצורה $\mu(x + y)$.

(13) נתונה המשוואה הדיפרנציאלית $M(x, y)dx + N(x, y)dy = 0$.

מצאו תנאי על המשוואה, על מנת שיהיה לה גורם אינטגרציה שהוא פונקציה של $\frac{x}{y}$ בלבד.

(14) נתונה המשוואה הדיפרנציאלית $(x^2 y^3)dx + (x + xy^2)dy = 0$.

מצאו את גורם האינטגרציה של המשוואה, בהנחה שהוא פונקציה של $x^\alpha y^\beta$. כלומר, גורם אינטגרציה מהצורה $\mu(x^\alpha y^\beta)$.

(15) נתונה המשוואה הדיפרנציאלית $M(x, y)dx + N(x, y)dy = 0$.

א. מצאו תנאי על המשוואה, על מנת שיהיה לה גורם אינטגרציה שהוא פונקציה של xy בלבד.

ב. היעזרו בסעיף א' על מנת למצוא את גורם האינטגרציה של המשוואה $(y - xy^2 \ln x)dx + xdy = 0$.

(16) נתונה המשוואה הדיפרנציאלית $M(x, y)dx + N(x, y)dy = 0$.

מצאו תנאי על המשוואה על מנת שיהיה לה גורם אינטגרציה שהוא פונקציה של $x + y$ בלבד.

תשובות סופיות

$$0.5x^2 + \frac{y^{-2}}{-2} + \ln|y| = c \quad (1)$$

$$e^x \sin y + 2y \cos x = c \quad (2)$$

$$\sin y \cdot e^x \cdot x^2 = c \quad (3)$$

$$0.25x^4 + 0.5x^2y^2 + \frac{x^3}{3} = c \quad (4)$$

$$\frac{1}{2} \ln(x^2 + y^2) - x = c \quad (5)$$

$$x^2 + xy + \frac{1}{y^2} = c \quad (6)$$

$$x - \frac{x}{y} = c \quad (7)$$

$$-\ln x - \frac{1}{xy} + y = c \quad (8)$$

$$-\frac{x^3}{y} + \frac{2y^3}{3} = \frac{1}{3} \quad (9)$$

שאלת הוכחה. (10)

$$\mu(xy) = (xy)^2 \quad (11)$$

$$\mu(x+y) = (x+y)^2 \quad (12)$$

$$\text{if: } \frac{y^2(M_y - N_x)}{yN + xM} = h\left(\frac{x}{y}\right) \quad \text{then: I.F.: } \mu = e^{\int \frac{y^2(M_y - N_x)}{yN + xM}} \quad (13)$$

$$\mu = \frac{1}{xy^3} \quad (14)$$

$$\mu = \frac{1}{x^2y^2} \quad \text{ב.} \quad \text{if: } \frac{M_y - N_x}{yN - xM} = h(xy) \quad \text{then: I.F.: } \mu = e^{\int \frac{M_y - N_x}{yN - xM}} \quad \text{א.} \quad (15)$$

$$\text{if: } \frac{M_y - N_x}{N - M} = h(x+y) \quad \text{then: I.F.: } \mu = e^{\int \frac{M_y - N_x}{N - M}} \quad (16)$$

משוואות ליניאריות מסדר ראשון

שאלות

פתרו את המשוואות הבאות :

$$\frac{dy}{dx} + 2xy = 4x \quad (1)$$

$$xy' = y + x^3 + 3x^2 - 2x \quad (2)$$

$$(x > 2) \quad (x-2)y' = y + 2(x-2)^3 \quad (3)$$

$$(x > 0) \quad x^3y' + (2-3x^2)y = x^3 \quad (4)$$

$$y(0) = 1 ; \quad \frac{dy}{dt} + y = 2 + 2t \quad (5)$$

$$(\sin x > 0) \quad \frac{dy}{dx} + y \cot x = 5e^{\cos x} \quad (6)$$

$$(\sin x > 0) \quad y' - 2y \cot x = 1 \quad (7)$$

$$z(\pi) = 0 ; \quad x^2z' + 2xz = \cos x \quad (8)$$

$$ydx = (2x + y^3)dy \quad (9)$$

תשובות סופיות

$$y = 2 + C \cdot e^{-x^2} \quad (1)$$

$$y = x \left[\frac{x^2}{2} + 3x - 2 \ln x + C \right] \quad (2)$$

$$y = (x-2) \left[x^2 - 4x + C \right] \quad (3)$$

$$y = \frac{1}{2} x^3 + C \cdot x^3 e^{\frac{1}{x^2}} \quad (4)$$

$$y = 2t + e^{-t} \quad (5)$$

$$y = \frac{1}{\sin x} \left[-5e^{\cos x} + C \right] \quad (6)$$

$$y = \sin^2 x \left[-\cot x + C \right] \quad (7)$$

$$z = \frac{\sin x}{x^2} \quad (8)$$

$$x(y) = y^2 (y + c) \quad (9)$$

משוואות ברנולי

שאלות

פתרו את המשוואות הבאות :

$$x^2 y' + 2xy - y^3 = 0 \quad (1)$$

$$(x^2 + 1)y' - 2xy - y^2 = 0 \quad (2)$$

$$x \frac{dy}{dx} - 2y = x^2 y^{1/2} \quad (3)$$

$$y(1) = 2.5 ; y' - \left(\frac{1}{x} + 5x^4 \right) y = -x^3 y^2 \quad (4)$$

$$(\sin x \neq 0) \quad z' - \cot x \cdot z = \frac{1}{\sin x} z^3 \quad (5)$$

תשובות סופיות

$$y = \pm \frac{1}{\sqrt{\frac{2}{5x} + c \cdot x^4}} \quad (1)$$

$$y = \frac{x^2 + 1}{-x + C} \quad (2)$$

$$y = x^2 \left(\frac{x}{2} + C \right)^2 \quad (3)$$

$$y = \frac{5xe^{x^5}}{e^{x^5} + e} \quad (4)$$

$$z = \pm \sqrt{\frac{\sin^2 x}{\cos x + C}} \quad (5)$$

משוואות ריקטי

שאלות

פתרו את המשוואות הבאות :

$$y' = e^{2x} + \left(1 + \frac{5}{2}e^x\right)y + y^2 \quad (1)$$

$$y' = 1 + (x - y)^2 \quad (2)$$

$$y' = 1 + x + 2x^2 \cos x - (1 + 4x \cos x)y + 2y^2 \cos x \quad (3)$$

תשובות סופיות

$$y(x) = -0.5e^x + \frac{e^x}{-\frac{2}{3} + Ce^{-1.5x}} \quad (1)$$

$$y(x) = x + \frac{1}{-x + C} \quad (2)$$

$$y(x) = x + \frac{1}{\cos x - \sin x + Ce^x} \quad (3)$$

הצבות שונות ומשוונות

שאלות

פתרו את המשוואות הבאות:

$$y' = \cos(y - x) \quad (1)$$

$$y' = \frac{2y}{x} + \cos\left(\frac{y}{x^2}\right); \quad y(1) = 0 \quad (2)$$

$$y' - x^2 y + y^2 = x - \frac{x^4}{4}, \quad y(0) = 1 \quad (3)$$

תשובות סופיות

$$-\frac{1}{\sin z} + c \quad (1)$$

$$\frac{1}{2} \ln\left(\frac{1 + \sin z}{1 - \sin z}\right) \quad (2)$$

$$y = \frac{x^2}{2} + \frac{1}{x+1} \quad (3)$$

משפט הקיום והיחידות על שם פיאנו ופיקארד

שאלות

$$(1) \text{ נתונה הבעיה } y(2) = -1, y' = -\frac{1}{2}x + \sqrt{\frac{1}{4}x^2 + y}$$

א. הוכיחו ש- $y_1(x) = -x + 1$, $y_2(x) = -\frac{1}{4}x^2$ הם פתרונות לבעיה.

קבעו באיזה תחום תקף כל אחד מהפתרונות.

ב. הסבירו מדוע קיום שני פתרונות לא סותר את משפט היחידות.

$$(2) \text{ נתונה הבעיה } y(0) = 0, y' = \sqrt[3]{y} + 4$$

א. הוכיחו שהבעיה מקיימת את תנאי משפט הקיום.

ב. הוכיחו שהבעיה אינה מקיימת את תנאי היחידות.

ג. הוכיחו שלבעיה קיים פתרון יחיד, ומצאו אותו.

$$(3) \text{ פתרו את הבעיה } y(4) = 0, y' = (x^2 + y^2) \cos\left(\frac{\pi}{2} - y\right) + x^2 \sin y$$

$$(4) \text{ נתונה הבעיה } y(0) = 4, y' = (y-1)(x^2 + y)^5$$

א. הראו שכל פתרון של הבעיה בהכרח חסום מלמטה.

ב. הראו שכל פתרון של הבעיה בהכרח עולה בתחום הגדרתו.

$$(5) \text{ נתונה המד"ר } ydx = (2x + y^3)dy$$

א. הראו שעבור $x = x(y)$ המד"ר ליניארית מסדר ראשון,

ופתרו אותה ככזאת.

ב. קבעו, על פי משפט הקיום והיחידות למד"ר ליניארית,

מהן נקודות ההתחלה (x_0, y_0) , כך שלמד"ר הנתונה קיים פתרון יחיד,

העובר דרך (x_0, y_0) .

צטטו את המשפט עבור המד"ר הליניארית שקיבלתם.

מהו הקטע הארוך ביותר שבו קיים פתרון יחיד העובר דרך (x_0, y_0) ?

$$(6) \quad \begin{cases} y' = 2xy \\ y(0) = 1 \end{cases} \quad \text{נתונה בעיית ההתחלה}$$

- א. מצאו 3 קירובי פיקארד לפתרון הבעיה.
 ב. מצאו צורה כללית לקירוב פיקארד מסדר n (הוכיחו באינדוקציה).
 ג. פתרו את המד"ר ישירות, והראו כי קירוב פיקארד מסדר n מתכנס לפתרון כאשר $n \rightarrow \infty$.

$$(7) \quad \begin{cases} y' = \frac{1}{x} |\sin y| \\ y(1) = \pi \end{cases} \quad \text{כמה פתרונות יש לבעיית ההתחלה} \quad ? (x > 0)$$

$$(8) \quad \begin{cases} y' = 5 + 5y^2 \\ y(0) = 0 \end{cases} \quad \text{נתונה בעיית ההתחלה}$$

- א. מצאו קטע כלשהו שבו לבעיה קיים פתרון יחיד.
 ב. מצאו את הקטע הגדול ביותר, שבו משפט הקיום והיחידות יודע להגיד שקיים פתרון יחיד.
 ג. הראו, על ידי חישוב ישיר, שקיים קטע גדול יותר מהקטע שנמצא בסעיף ב', בו קיים לבעיה פתרון יחיד.

$$(9) \quad \begin{cases} y' = -\frac{x}{y} \quad (y > 0) \\ y(0) = 1 \end{cases} \quad \text{נתונה בעיית ההתחלה}$$

- א. מצאו קטע כלשהו שבו לבעיה קיים פתרון יחיד.
 ב. מצאו את הקטע הגדול ביותר, שבו משפט הקיום והיחידות יודע להגיד שקיים פתרון יחיד.
 ג. הראו, על ידי חישוב ישיר, שקיים קטע גדול יותר מהקטע שנמצא בסעיף ב', בו קיים לבעיה פתרון יחיד.

$$(10) \quad \begin{cases} y' = x + \sin y \\ y(x_0) = y_0 \end{cases} \quad \text{הראו כי לבעיה יש פתרון יחיד על כל הישר הממשי.}$$

$$(11) \quad \begin{cases} y' = x \cdot \sin xy \\ y(x_0) = y_0 \end{cases} \quad \text{הראו כי לבעיה יש פתרון יחיד על כל הישר הממשי.}$$

$$(12) \quad \begin{cases} y' = xye^{-y^2} \\ y(x_0) = y_0 \end{cases} \quad \text{הראו כי לבעיה יש פתרון יחיד על כל הישר הממשי.}$$

תשובות סופיות

- (1) א. שאלת הוכחה. ב. שאלת הסבר. ג. שאלת הוכחה.
- (2) א. שאלת הוכחה. ב. שאלת הוכחה. ג. שאלת הוכחה.
- (3) $y(x) = 0$
- (4) א. שאלת הוכחה. ב. שאלת הוכחה.
- (5) א. ראו שאלה אחרונה בנושא 'מד"ר ליניארית מסדר ראשון'.
ב. כל נקודת התחלה (x_0, y_0) , שעבורה $y_0 \neq 0$.
הקטע הארוך ביותר: $(0, \infty)$ או $(-\infty, 0)$.
- (6) א. $y_0(x) = 1, y_1(x) = 1 + x^2, y_2(x) = 1 + \frac{x^2}{1!} + \frac{x^4}{2!}, y_3(x) = 1 + \frac{x^2}{1!} + \frac{x^4}{2!} + \frac{x^6}{3!}$
ב. $y_n(x) = 1 + x^2 + \frac{x^4}{2!} + \frac{x^6}{3!} + \dots + \frac{x^{2n}}{n!}$. ג. הוכחה.
- (7) אחד.
- (8) א. $[-0.08, 0.08]$ ב. $[-0.1, 0.1]$ ג. הוכחה.
- (9) א. $\left[-\frac{1}{4}, \frac{1}{4}\right]$ ב. $[-0.5, 0.5]$ ג. הוכחה.
- (10) הוכחה.
- (11) הוכחה.
- (12) הוכחה.

פתרונות גרפיים ונומריים למשוואה מסדר ראשון

שאלות

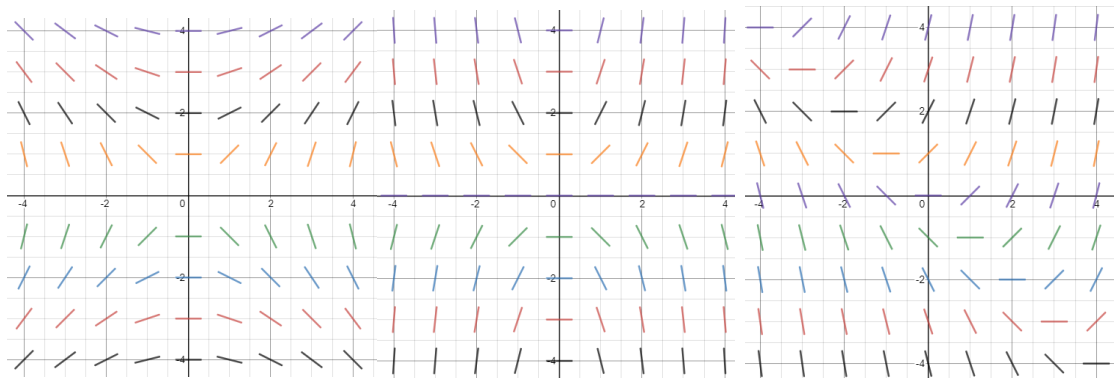
(1) שרטטו שדה כיוונים למשוואה הדיפרנציאלית $y' = 2y - x$.

(2) התאימו כל אחת מהמשוואות שבסעיפים א'-ג' לשדה הכיוונים שלה:

א. $y' = \frac{x}{y}$

ב. $y' = xy$

ג. $y' = x + y$



איור 3

איור 2

איור 1

(3) נתונה המד"ר $y' = y - x$, $y(0) = 2$.

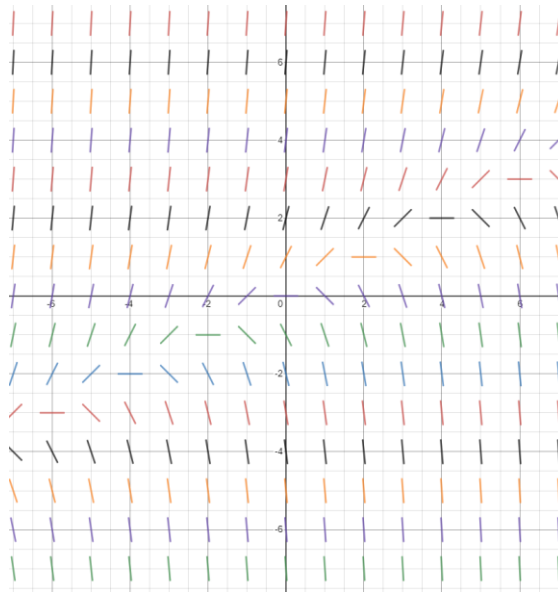
מצאו בקירוב את $y(1)$ בעזרת שיטת אוילר עם $h = 0.1$.

(4) נתונה המד"ר $y' = x + y$, $y(1) = 2$.

מצאו בקירוב את $y(2)$ בעזרת שיטת אוילר עם $h = 0.2$.

תשובות סופיות

(1)



(2) איור 1 – סעיף ג', איור 2 – סעיף ב', איור 3 – סעיף א'.

(3) $y(1) = 4.593$

(4) $y(2) = 6.95328$

משוואות מסדר ראשון וממעלה גבוהה

הערה: נושא זה לא נלמד בדרך כלל; בדקו עם המרצה אם הוא נדרש או לא.

הערת סימון: בתת-פרק זה נסמן $p = y' = \frac{dy}{dx}$.

שאלות

פתרו את המשוואות הבאות:

$$(p = y') \quad 4x^2 p^2 - 4x^2 p - 2xy - y^2 = 0 \quad (1)$$

$$(p = y') \quad x^2 p^2 + xyp - 6y^2 = 0 \quad (2)$$

$$(p = y') \quad xyp^2 + (x^2 + xy + y^2)p + x^2 + xy = 0 \quad (3)$$

$$(p = y') \quad y = 2px + p^4 x^2 \quad (4)$$

$$(p = y') \quad xp^2 - 2yp + 4x = 0 \quad (5)$$

$$(p = y') \quad (y > 0) \quad 6p^2 y^2 + 3px - y = 0 \quad (6)$$

תשובות סופיות

$$(y - 2x - \sqrt{x} \cdot c_1) \cdot \left(\ln|y| + \frac{1}{2} \ln|x| - c_2 \right) = 0 \quad (1)$$

$$(\ln|y| - 2\ln|x| - c_1) \cdot (\ln|y| + 3\ln|x| - c_2) = 0 \quad (2)$$

$$\left(y + 0.5x - \frac{c_1}{x} \right) \cdot \left(\frac{y^2}{2} + \frac{x^2}{2} - c_2 \right) = 0, \quad x > 0 \quad (3)$$

$$y = \pm 2\sqrt{cx} + c^2 \quad (4)$$

$$y = \frac{1}{2}cx^2 + \frac{2}{c} \quad (5)$$

$$6\left(\frac{c}{y^2}\right)^2 y^2 + 3\left(\frac{c}{y^2}\right)x - y = 0 \quad (6)$$

חשבון אינפיניטימלי 2

פרק 20 - משוואות ליניאריות מסדר שני

תוכן העניינים

181	1. משוואה חסרה - שיטת הורדת סדר המשוואה.
183	2. משוואה לינארית, הומוגנית, עם מקדמים קבועים.
185	3. השוואת מקדמים בשיטת "הניחוש המושכל".
187	4. השוואת מקדמים בשיטת "המרשם".
189	5. וריאציית פרמטרים.
(ללא ספר)	6. משוואה לינארית, עם מקדמים לא קבועים - משוואת אוילר.
190	7. משוואה לינארית כללית, שיטת הפתרון השני, שיטת אבל.
191	8. הוורונסקיאן ושימושו.
193	9. משפט הקיום והיחידות למדר לינארית מסדר שני.
194	10. השיטה האופרטורית.

משוואה חסרה – שיטת הורדת סדר המשוואה

שאלות

פתרו את המשוואות הבאות :

$$(x \neq 0) \quad x^2 y'' + xy' = \frac{1}{x} \quad (1)$$

$$(\cos x \neq 0) \quad y'' \tan x - 1 = y' \quad (2)$$

$$2xy' y'' - (y')^2 + 1 = 0 \quad (3)$$

$$y'' x \ln x = y' \quad (4)$$

$$xy'' = x^2 e^x + y' \quad (5)$$

$$yy'' + (y')^2 = 0 \quad (6)$$

$$2y'' y - (y')^2 = 1 \quad (7)$$

$$(\cos y \neq 0) \quad y'' \tan y = 2(y')^2 \quad (8)$$

תשובות סופיות

$$y = \frac{1}{x} + C_1 \cdot \ln x + C_2 \quad (1)$$

$$y = -x + C_1 \cdot \cos x + C_2 \quad (2)$$

$$y = \pm \frac{2}{3C_1} (C_1 x + 1)^{3/2} + C_2; y = \pm x + C_3 \quad (3)$$

$$y = C_1 (x \ln x - x) + C_2; y = C_3 \quad (4)$$

$$y = e^x (x - 1) + C_1 \frac{x^2}{2} + C_2 \quad (5)$$

$$\frac{y^2}{2} = cx + k; y = c \quad (6)$$

$$y = \frac{1}{c} \left[\frac{c^2 (x+k)^4}{4} + 1 \right] \quad (7)$$

$$\cot y = -(cx + k); y = c \quad (8)$$

משוואה לינארית הומוגנית, עם מקדמים קבועים

שאלות

פתרו את המשוואות בשאלות 1-11 :

$$y'' - 100y = 0 \quad (1)$$

$$y'' - 4y' = 0 \quad (2)$$

$$y'' - 8y' + 7y = 0 \quad (3)$$

$$z(0) = 1, \quad z'(0) = 1, \quad 4z'' + z' - 5z = 0 \quad (4)$$

$$y'' - 2y' + y = 0 \quad (5)$$

$$4 \frac{\partial^2 x}{\partial t^2} + 4 \frac{\partial x}{\partial t} + x(t) = 0 \quad (6)$$

$$y'' + 4y = 0 \quad (7)$$

$$y'' + 10y' + 125y = 0 \quad (8)$$

$$y(0) = 0, \quad y'(0) = 3; \quad y'' - 2y' + 10y = 0 \quad (9)$$

$$5y'' + 8y' + 4y = 0 \quad (10)$$

$$\begin{cases} y''(x) - \frac{1}{a^2} y(x) = 0 & (a > 0) \\ y(0) = 4 \\ y(\infty) = y(-\infty) = 0 \end{cases} \quad (11)$$

$$(12) \quad y y'' + (y')^2 = 0 \quad \text{נתונה המד"ר}$$

א. הראו כי $y_1 = 4$ ו- $y_2 = \sqrt{x}$ הם פתרונות של המד"ר.

ב. הראו כי הפתרון $z(x) = y_1(x) + y_2(x)$, אינו פתרון של המד"ר.

האם יש בכך סתירה לעקרון הסופרפוזיציה?

תשובות סופיות

$$(1) \quad y = c_1 e^{10x} + c_2 e^{-10x}$$

$$(2) \quad y = c_1 + c_2 e^{4x}$$

$$(3) \quad y = c_1 e^x + c_2 e^{7x}$$

$$(4) \quad z = e^x$$

$$(5) \quad y = c_1 e^x + c_2 x e^x$$

$$(6) \quad x(t) = c_1 e^{\frac{-t}{2}} + c_2 t e^{\frac{-t}{2}}$$

$$(7) \quad y = c_1 \cos 2x + c_2 \sin 2x$$

$$(8) \quad y = e^{-5x} [c_1 \cos 10x + c_2 \sin 10x]$$

$$(9) \quad y = e^2 \sin 3x$$

$$(10) \quad y = e^{\frac{-4x}{5}} \left[c_1 \cos \left(\frac{2}{5} x \right) + c_2 \sin \left(\frac{2}{5} x \right) \right]$$

$$(11) \quad y = 4e^{\frac{-|x|}{a}}$$

(12) שאלת הוכחה.

השוואת מקדמים בשיטת "הניחוש המושכל"

שאלות

פתרו את המשוואות הבאות :

$$y'' + 5y' + 6y = 22x + 6x^2 \quad (1)$$

$$y(0) = 2, \quad y'(0) = 7; \quad y'' - 2y' + y = e^{2x} \quad (2)$$

$$y'' - y' - 2y = 4 \sin 2x \quad (3)$$

$$y'' - 2y = xe^{-x} \quad (4)$$

$$y'' - y = 3e^{2x} \cos x \quad (5)$$

$$z'' + z = \sin x \quad (6)$$

$$y'' - 3y' + 2y = 2x^2 + e^x + 2xe^x + 4e^{3x} \quad (7)$$

$$y'' + 3y' = 9x \quad (8)$$

$$y'' - 3y' + 2y = e^x \quad (9)$$

$$y'' - 2y' = 6x^2 - 2x \quad (10)$$

$$x'' + 5x' + 6x = e^{-t} + e^{-2t} \quad (11)$$

$$y'' + 2y' + 5y = e^{-x} \sin 2x \quad (12)$$

תשובות סופיות

$$y = c_1 e^{-3x} + c_2 e^{-2x} + x^2 + 2x - 2 \quad (1)$$

$$y = e^x + 4xe^x + e^{2x} \quad (2)$$

$$y = c_1 e^{2x} + c_2 e^{-x} + \frac{1}{5} \sin 2x - \frac{3}{5} \cos 2x \quad (3)$$

$$y = c_1 e^{-\sqrt{2}x} + c_2 e^{\sqrt{2}x} + (2-x)e^{-x} \quad (4)$$

$$y = c_1 e^{-x} + c_2 e^x + \frac{3}{10} e^{2x} \cos x + \frac{3}{5} e^{2x} \sin x \quad (5)$$

$$z = c_1 \cos x + c_2 \sin x - \frac{1}{2} x \cos x \quad (6)$$

$$y = c_1 e^x + c_2 e^{2x} + x^2 + 3x + 3.5 - x^2 e^x - 3xe^x + 2e^{3x} \quad (7)$$

$$y = c_1 + c_2 e^{-3x} + \frac{3}{2} x^2 - x \quad (8)$$

$$y = c_1 e^x + c_2 e^{2x} - xe^x \quad (9)$$

$$y = c_1 e^{-3x} + c_2 e^{-2x} - x^2 - x - x^3 \quad (10)$$

$$x = c_1 e^{-2t} + c_2 e^{-3t} + \frac{1}{2} \cdot e^{-t} + te^{-2t} \quad (11)$$

$$y = e^{-x} \sin 2x \quad (12)$$

השוואת מקדמים בשיטת "המרשם"

שאלות

פתרו את המשוואות הבאות :

$$y'' + 5y' + 6y = 22x + 6x^2 \quad (1)$$

$$y(0) = 2, \quad y'(0) = 7; \quad y'' - 2y' + y = e^{2x} \quad (2)$$

$$y'' - y' - 2y = 4 \sin 2x \quad (3)$$

$$y'' - 2y = xe^{-x} \quad (4)$$

$$y'' - y = 3e^{2x} \cos x \quad (5)$$

$$z'' + z = \sin x \quad (6)$$

$$y'' + 3y' = 9x \quad (7)$$

$$y'' - 3y' + 2y = e^x \quad (8)$$

$$y'' - 2y' = 6x^2 - 2x \quad (9)$$

$$x'' + 5x' + 6x = e^{-t} + e^{-2t} \quad (10)$$

$$y'' - 3y' + 2y = 2x^2 + e^x + 2xe^x + 4e^{3x} \quad (11)$$

$$y'' + 2y' + 5y = e^{-x} \sin 2x \quad (12)$$

תשובות סופיות

$$y = c_1 e^{-3x} + c_2 e^{-2x} + x^2 + 2x - 2 \quad (1)$$

$$y = e^x + 4xe^x + e^{2x} \quad (2)$$

$$y = c_1 e^{2x} + c_2 e^{-x} + \frac{1}{5} \sin 2x - \frac{3}{5} \cos 2x \quad (3)$$

$$y = c_1 e^{-\sqrt{2}x} + c_2 e^{\sqrt{2}x} + (2-x)e^{-x} \quad (4)$$

$$y = c_1 e^{-x} + c_2 e^x + \frac{3}{10} e^{2x} \cos x + \frac{3}{5} e^{2x} \sin x \quad (5)$$

$$z = c_1 \cos x + c_2 \sin x - \frac{1}{2} x \cos x \quad (6)$$

$$y = c_1 + c_2 e^{-3x} + \frac{3}{2} x^2 - x \quad (7)$$

$$y = c_1 e^x + c_2 e^{2x} - x e^x \quad (8)$$

$$y = c_1 e^{-3x} + c_2 e^{-2x} - x^2 - x - x^3 \quad (9)$$

$$x = c_1 e^{-2t} + c_2 e^{-3t} + \frac{1}{2} \cdot e^{-t} + t e^{-2t} \quad (10)$$

$$y = c_1 e^x + c_2 e^{2x} + x^2 + 3x + 3.5 - x^2 e^x - 3x e^x + 2e^{3x} \quad (11)$$

$$y = e^{-x} \sin 2x \quad (12)$$

וריאציית פרמטרים

שאלות

פתרו את המשוואות הבאות :

$$y'' + y = \frac{1}{\sin x} \quad (1)$$

$$y'' + 4y' + 4y = e^{-2x} \ln x \quad (2)$$

$$y'' + 2y' + y = 3e^{-x} \sqrt{x+1} \quad (3)$$

$$y(1) = 0, y'(1) = 0 ; y'' - 2y' + y = \frac{e^x}{x} \quad (4)$$

$$y'' - 3y' + 2y = \frac{1}{1+e^{-x}} \quad (5)$$

$$y'' + 4y = \sec 2x \quad (6)$$

תשובות סופיות

$$y = c_1 \cos x + c_2 \sin x - \cos x \cdot x + \sin x \cdot \ln |\sin x| \quad (1)$$

$$y = c_1 e^{-2x} + c_2 x e^{-2x} - e^{-2x} \frac{x^2}{2} \left[\ln x - \frac{1}{2} \right] + x^2 e^{-2x} [\ln x - 1] \quad (2)$$

$$y = c_1 e^{-x} + c_2 x e^{-x} - e^{-x} \left[\frac{6(\sqrt{x+1})^5}{5} - \frac{6(\sqrt{x+1})^3}{3} \right] + x e^{-x} [2(x+1)^{3/2}] \quad (3)$$

$$y = e^x - x e^x + x e^x \ln x \quad (x > 0) \quad (4)$$

$$y = c_1 e^x + c_2 e^{2x} + e^x \ln(1+e^{-x}) + e^{2x} [\ln(1+e^{-x}) - (1+e^{-x})] \quad (5)$$

$$y = c_1 \cos 2x + c_2 \sin 2x + \frac{1}{4} \cos 2x \ln |\cos 2x| + \sin 2x \cdot x \quad (6)$$

משוואה ליניארית כללית, שיטת הפתרון השני, שיטת אבל

שאלות

(1) פתרו $y'' + \tan x \cdot y' - (2 \tan x + 4)y = 0$, כאשר ידוע $y_1(x) = e^{2x}$.

(2) פתרו $(1-x^2)y'' + 2xy' - 2y = 0$.

(3) הסבירו את שיטת "הפתרון השני" לפתרון מד"ר ליניארית, כללית, לא הומוגנית, מסדר שני. הדגימו על המד"ר:

$$(0 < x < 1), \quad (1-x)y'' + x \cdot y' - y = 2(1-x)^2 e^{-x}$$

כאשר ידוע ש- $y_1(x) = e^x$, פתרון של המד"ר ההומוגנית המתאימה.

תשובות סופיות

(1) $y = c_1 e^{2x} + c_2 e^{-2x} (\sin x - 4 \cos x)$

(2) $y = c_1 x + c_2 (x^2 + 1)$

(3) שאלת הדגמה.

הוורונסקיאן ושימושיו

שאלות

- (1) האם ייתכן כי $y_1(x) = e^x$, $y_2(x) = \sin x$ הם שני פתרונות של המשוואה $y'' + p(x)y' + q(x)y = 0$ עם מקדמים רציפים בקטע $[0, \pi]$?
- (2) הראו כי הפונקציות $y_1(x) = \sin x^2$, $y_2(x) = \cos x^2$ הן פתרונות בת"ל של המשוואה $xy'' - y' + 4x^3y = 0$ בקטע $(-4, \infty)$.
חשבו את הוורונסקיאן של הפונקציות והראו כי הוא מתאפס רק עבור $x = 0$.
דני טוען שיש בכך סתירה לטענה ידועה. מהי הטענה? והאם דני צודק?
- (3) בדיקה ישירה מראה שהפונקציות $y_1(x) = xe^x$, $y_2(x) = e^{-x}$ הן פתרונות של המשוואה $y'' - \frac{2}{1+2x}y' - \frac{2x+3}{1+2x}y = 0$ בקטע $(-\frac{1}{2}, \infty)$.
האם הפונקציות הללו בת"ל בקטע?
- (4) נתונות שתי פונקציות $y_1 = x^3$, $y_2 = |x^3|$ בקטע $[-4, 4]$.
א. חשבו את הוורונסקיאן של הפונקציות בקטע.
ב. בדקו האם הפונקציות תלויות לינארית בקטע.
ג. האם ייתכן כי הפונקציות הן פתרונות של אותה מד"ר הומוגנית מסדר שני בעלת מקדמים רציפים?
ד. הפונקציות הנתונות הן פתרונות של המד"ר $xy'' - 2y' = 0$.
האם יש בכך סתירה לתוצאה בסעיף ג'?
- (5) ענו על הסעיפים הבאים:
א. יהיו $y_1(x)$, $y_2(x)$ פונקציות גזירות פעמיים בקטע I , ונניח כי הוורונסקיאן שלהן שונה מאפס ב- I .
הוכיחו כי קיימת משוואה הומוגנית מסדר 2, בעלת מקדמים רציפים בקטע, ש- $y_1(x)$, $y_2(x)$ הם פתרונות שלה.
ב. רשמו משוואה הומוגנית מסדר שני עם מקדמים רציפים בקטע $x > 0$, שהפונקציות $y_1(x) = x^2$, $y_2(x) = x^4$ הן פתרונות שלה.

- 6 נתון כי $y_1(x), y_2(x)$ הם פתרונות של המד"ר $y''(x) + p(x)y' + q(x)y = 0$, בקטע I , כאשר p, q רציפות בקטע I .
 הראו כי אם קיימת נקודה c בקטע I , שעבורה $y_1(c) = y_2(c) = 0$, אז $\{y_1(x), y_2(x)\}$ אינה מערכת בסיסית של פתרונות המד"ר הנתונה.

תשובות סופיות

- 1 לא.
 2 $W = -2x$
 3 כן.
 4 א. $W = 0$ ב. שאלת בדיקה. ג. לא. ד. לא.
 5 א. שאלת הוכחה. ב. $y'' - \frac{5}{x}y' + \frac{8}{x^2}y = 0$
 6 שאלת הוכחה.

משפט הקיום והיחידות למדר לינארית מסדר שני

שאלות

(1) נתונה המשוואה $y'' - 4y = 12x$.

א. פתרו את המשוואה.

ב. מצאו פתרון המקיים:

$$\begin{cases} y(0) = 1 \\ y'(0) = 11 \end{cases}$$

ג. נסו למצוא פתרון המקיים:

$$\begin{cases} y(0) = 4 \\ y'(0) = 2 \\ y''(0) = 1 \end{cases}$$

האם כישלונך מפריך את משפט הקיום?

ד. תנו דוגמה מפורשת לשני פתרונות שונים, המקיימים $y(0) = 1$.

האם הדוגמה מפריכה את משפט היחידות?

(2) נתונה הבעיה:

$$\begin{cases} x^2 y'' - 2xy' + 2y = 0 \\ y(0) = 0 \\ y'(0) = 0 \end{cases}$$

הראו כי $y_1(x) = 0$ ו- $y_2(x) = x^2$, הם פתרונות של הבעיה.

האם אין בכך סתירה למשפט הקיום והיחידות?

(3) האם קיימת משוואה דיפרנציאלית לינארית מסדר שני, עם מקדמים רציפים בסביבת הנקודה $x = 0$, כך שהפונקציות $y = 4x$ ו- $y = \sin 4x$ הן פתרונותיה?

תשובות סופיות

(1) א. $y = c_1 e^{2x} + c_2 e^{-2x} - 3x$ ב. $y = 4e^{2x} - 3e^{-2x} - 3x$

ג. המשוואות הראשונה והשלישית סותרות זו את זו. לא.

ד. לפתרון המלא עם הסברים מפורטים היכנסו לאתר.

(2) לפתרון המלא עם הסברים מפורטים היכנסו לאתר.

(3) לפתרון המלא עם הסברים מפורטים היכנסו לאתר.

השיטה האופרטורית

הערה: נושא זה לא נלמד בדרך כלל; בדקו עם המרצה אם הוא נדרש או לא.

בשאלות אלו הסימון הוא: $(aD^2 + bD + c)y = Q(x) \Leftrightarrow ay'' + by' + cy = Q(x)$.

שאלות

פתור את המשוואות הבאות:

$$(D^2 - D - 2)y = 4e^{-2x} + 10e^x + 11 \quad (1)$$

$$(D^2 - 2D + 1)y = 10e^{4x} + e^x - 1 \quad (2)$$

$$(D^2 + D - 2)y = 4e^x + e^{10x} + 14 \quad (3)$$

$$(D^2 + 4)y = \sin 5x \quad (4)$$

$$(D^2 - 4)y = \sin x \cos x \cos 2x \quad (5)$$

$$(D^2 + D - 2)y = \cos x - 3\sin x \quad (6)$$

$$(D^2 + 2D - 3)y = 2\cos x \cos 2x \quad (7)$$

תשובות סופיות

$$y = c_1 e^{2x} + c_2 e^{-x} + e^{-2x} - 5e^x - 5.5 \quad (1)$$

$$y = c_1 e^x + c_2 x e^x + \frac{10}{9} e^{4x} + x^2 e^x - 1 \quad (2)$$

$$y = c_1 e^x + c_2 e^{2x} - 4x e^x + \frac{1}{72} e^{10x} + 7 \quad (3)$$

$$y = c_1 \cos 2x + c_2 \sin 2x - \frac{1}{21} \sin 5x \quad (4)$$

$$y = c_1 e^{2x} + c_2 e^{-2x} - \frac{1}{80} \sin 4x \quad (5)$$

$$y = c_1 e^x + c_2 e^{-2x} + \sin x \quad (6)$$

$$y = c_1 e^x + c_2 e^{-3x} + \frac{1}{10} \sin x - \frac{1}{5} \cos x + \frac{1}{30} \sin 3x - \frac{1}{15} \cos 3x \quad (7)$$