

הסתברות ב



תוכן העניינים

1. המשתנה המקרי הרציף- התפלגויות כלליות (שימוש באינטגרלים) 1
2. התפלגויות רציפות מיוחדות- התפלגות מעריכית 10
3. התפלגויות רציפות מיוחדות- התפלגות אחידה 13
4. התפלגויות רציפות מיוחדות - התפלגות נורמלית 16
5. משתנה דו-מימדי בדיד - פונקציית הסתברות משותפת 24
6. משתנה דו מימדי בדיד - מתאם בין משתנים 30
7. המשתנה המקרי הדו ממדי - קומבינציות לינאריות 37
8. המשתנה המקרי הדו ממדי הבדיד - שאלות מסכמות 40
9. קומבינציות לינאריות על התפלגות נורמלית 48
10. המשתנה המקרי הדו ממדי הרציף 51
11. התפלגות הדגימה ומשפט הגבול המרכזי 59
12. אי שוויונים בהסתברות 82

הסתברות ב

פרק 1 - המשתנה המקרי הרציף- התפלגויות כלליות (שימוש באינטגרלים)

תוכן העניינים

1. כללי 1

המשתנה המקרי הרציף – התפלגויות כלליות (שימוש באינטגרלים)

רקע:

בפרק זה נעסוק בהתפלגות של משתנים מקריים רציפים (גובה אדם אקראי, זמן תגובה וכו'). משתנים רציפים הם משתנים שבתחום מסוים מקבלים רצף אינסופי של ערכים אפשריים בניגוד למשתנים בדידים. נתאר את המשתנה המקרי הרציף על ידי פונקציה הנקראת פונקציית צפיפות. באופן כללי נסמן פונקציית צפיפות של משתנה רציף כלשהו ב- $f(x)$. השטח שמתחת לפונקציית הצפיפות נותן את ההסתברות. פונקציית צפיפות חייבת להיות לא-שלילית והשטח הכולל שמתחת לפונקציה יהיה תמיד 1.

הגדרות יסודיות:

יהא משתנה רציף X בעל פונקציית צפיפות $f(x)$.

פונקציית התפלגות מצטברת:

פונקציית ההתפלגות המצטברת מוגדרת באופן הבא: $F(t) = p(X \leq t) = \int_{-\infty}^t f(x) dx$.
כמו כן מתקיים: $p(a < X < b) = F(b) - F(a)$ ו- $p(X > t) = 1 - F(t)$.

תוחלת ושונות של משתנה רציף:

תוחלת של משתנה רציף תחושב באופן הבא: $E(X) = \int_{-\infty}^{\infty} X \cdot f(x) dx = \mu$.
שונות של משתנה רציף תחושב באופן הבא: $V(X) = \int_{-\infty}^{\infty} X^2 \cdot f(x) dx - \mu^2 = \sigma^2$.

תוחלת של פונקציה של X :

תוחלת של פונקציית משתנה רציף X , המסומנת: $g(x)$, תחושב באופן

$$\text{הבא: } E(g(x)) = \int_{-\infty}^{\infty} g(x) f(x) dx$$

אחוזונים:

האחוזון ה- p הוא ערך (נסמן אותו: x_p), שהסיכוי ליפול מתחתיו הוא p .

$$\text{כלומר: } p(X \leq x_p) = p$$

ריענון מתמטי:

נוסחאות לחישוב שטחים

$$S_{\text{triangle}} = \frac{h \cdot a}{2} : \text{שטח משולש: גובה } (h) \text{ כפול הבסיס } (a) \text{ חלקי } 2$$

$$S_{\text{rectangle}} = a \cdot b : \text{שטח מלבן: אורך } (a) \text{ כפול רוחב } (b)$$

משוואת קו ישר:

משוואת ישר מפורשת תסומן: $y = mx + n$, כאשר m הוא שיפוע הישר ו- n היא נקודת החיתוך של הישר עם ציר ה- y .

$$m = \frac{y_2 - y_1}{x_2 - x_1} : \text{שיפוע ישר העובר דרך שתי נקודות: } (x_1, y_1), (x_2, y_2) \text{ הוא}$$

משוואת ישר שעובר דרך נקודה ספציפית (x_1, y_1) ושיפועו הוא m , תחושב באופן

$$\text{הבא: } y - y_1 = m(x - x_1)$$

אינטגרלים מידיים:

$$\int adx = ax + c$$

$$\int x^n dx = \frac{x^{n+1}}{n+1} + c \quad n \neq -1$$

$$\int \frac{1}{x} dx = \ln |x| + c$$

$$\int e^x dx = e^x + c$$

$$\int k^x dx = \frac{k^x}{\ln k} + c$$

$$\int \cos x dx = \sin x + c$$

$$\int \sin x dx = -\cos x + c$$

$$\int \tan x dx = -\ln |\cos x| + c$$

$$\int \cot x dx = \ln |\sin x| + c$$

$$\int \frac{1}{\cos^2 x} dx = \tan x + c$$

$$\int \frac{1}{\sin^2 x} dx = -\cot x + c$$

$$\int (ax+b)^n dx = \frac{1}{a} \frac{(ax+b)^{n+1}}{n+1} + c \quad n \neq -1$$

$$\int \frac{1}{ax+b} dx = \frac{1}{a} \ln |ax+b| + c$$

$$\int e^{ax+b} dx = \frac{1}{a} e^{ax+b} + c$$

$$\int k^{ax+b} dx = \frac{1}{a} \frac{k^{ax+b}}{\ln k} + c$$

$$\int \cos(ax+b) dx = \frac{1}{a} \sin(ax+b) + c$$

$$\int \sin(ax+b) dx = -\frac{1}{a} \cos(ax+b) + c$$

$$\int \tan(ax+b) dx = -\frac{1}{a} \ln |\cos(ax+b)| + c$$

$$\int \cot(ax+b) dx = \frac{1}{a} \ln |\sin(ax+b)| + c$$

$$\int \frac{1}{\cos^2(ax+b)} dx = \frac{1}{a} \tan(ax+b) + c$$

$$\int \frac{1}{\sin^2(ax+b)} dx = -\frac{1}{a} \cot(ax+b) + c$$

$$\int \frac{1}{\cos x} dx = \ln \left| \frac{1}{\cos x} + \tan x \right| + c$$

$$\int \frac{1}{x^2+a^2} dx = \frac{1}{a} \arctan \left(\frac{x}{a} \right) + c$$

$$\int \frac{1}{\sqrt{a^2-x^2}} dx = \arcsin \left(\frac{x}{a} \right) + c$$

$$\int \frac{1}{\sin x} dx = \ln \left| \frac{1}{\sin x} - \cot x \right| + c$$

$$\int \frac{1}{x^2-a^2} dx = \frac{1}{2a} \ln \left| \frac{x-a}{x+a} \right| + c$$

$$\int \frac{1}{\sqrt{x^2 \pm a^2}} dx = \ln |x + \sqrt{x^2 \pm a^2}| + c$$

$$\int \frac{f'}{f} dx = \ln |f| + c$$

$$\int e^f \cdot f' dx = e^f + c$$

$$\int \sin f \cdot f' dx = -\cos(f) + c$$

$$\int \sqrt{f} \cdot f' dx = \frac{2}{3} f^{\frac{3}{2}} + c$$

$$\int f \cdot f' dx = \frac{1}{2} f^2 + c$$

$$\int \cos f \cdot f' dx = \sin(f) + c$$

$$\int \frac{f'}{\sqrt{f}} dx = 2\sqrt{f} + c$$

$$\int u \cdot v' dx = u \cdot v - \int u' \cdot v dx$$

שאלות:

(1) X הינו משתנה רציף עם פונקציית צפיפות כמוצג בשרטוטו:

א. מצאו את ערכו של c .

ב. בנו את פונקציית ההתפלגות המצטברת.

ג. חשבו את ההסתברויות הבאות:

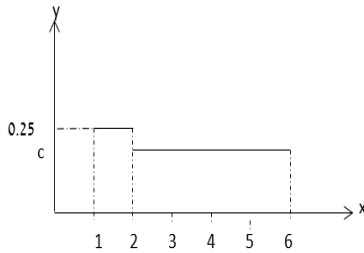
i. $P(x < 4)$

ii. $P(x > 1.5)$

iii. $P(1.5 < x < 5)$

iv. $P(5 < x < 10)$

v. מצאו את החציון של המשתנה.



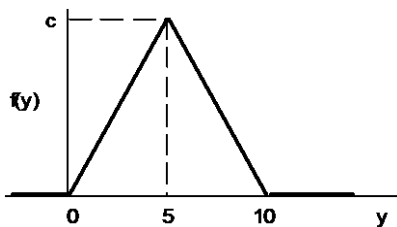
(2) נתון משתנה מקרי רציף A שפונקציית הצפיפות שלו היא: $f(x) = \begin{cases} cx & 0 \leq x \leq b \\ 0 & \text{else} \end{cases}$

וידוע ש- $P(0 < X < 1) = \frac{1}{4}$

א. מצאו במפורש את פונקציית הצפיפות של X .

ב. מצאו את החציון של X .

ג. מה הסיכוי ש- X קטן מ-0.5?



(3) נתונה פונקציית צפיפות של משתנה מקרי Y :

א. מצאו את c .

ב. מצאו את פונקציית ההתפלגות המצטברת של Y .

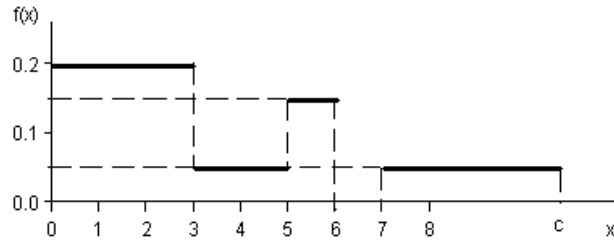
ג. חשבו את ההסתברויות הבאות:

$P(Y > 4)$, $P(7.5 \leq Y \leq 15.5)$, $P(Y \leq 3.0)$, $P(Y = 7.0)$

ד. מצאו את העשירון התחתון: $y_{0.1}$, הרבעון התחתון: $y_{0.25}$ והחציון של Y .

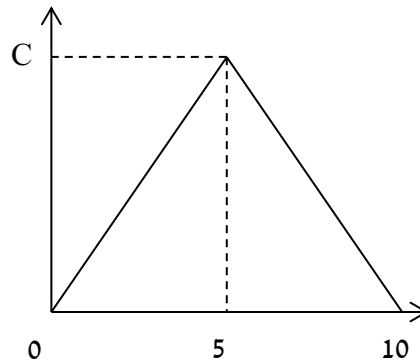
הסיקו מהו העשירון עליון: $y_{0.9}$.

(4) נתונה פונקציית צפיפות של משתנה מקרי X :



- א. מצאו ערך c שעבורו תתקבל פונקציית צפיפות.
 ב. מצאו את פונקציית ההתפלגות המצטברת.
 ג. חשבו את ההסתברויות הבאות:
 $P(1.0 < X \leq 5.0)$, $P(X \geq -2.0)$, $P(X \geq 4)$.

(5) נתונה פונקציית הצפיפות הבאה:



- א. מה ערכו של c ?
 ב. מצאו אינטרוול (תחום) סימטרי סביב הערך 5, שהסיכוי ליפול בו הינו 0.5.
 (6) נתונה פונקציית צפיפות: $f(X) = \frac{2}{x}$, המוגדרת מ-1 עד K .
 א. מצאו את ערכו של K .
 ב. בנו את פונקציית ההתפלגות המצטברת.
 ג. חשבו את הסיכוי ש- X לפחות 1.5.
 ד. מצאו את העשירון התחתון של ההתפלגות.
 ה. מה התוחלת של X ?

7) נתונה פונקציית צפיפות הבאה: $f(X) = AX^2(10 - X)$, $0 < X < 10$.

A הינו קבוע חיובי.

א. מצאו את A.

ב. חשב את: $P(x > 5 | x > 2)$.

ג. מה התוחלת ומהי השונות של X?

8) פונקציית הצפיפות של משתנה מקרי רציף X:

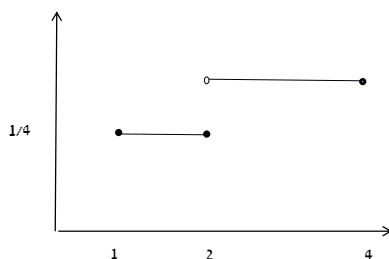
$$f(x) = 0.5 \cdot e^{2x}, \quad -\infty \leq X \leq \ln(c)$$

א. מצאו את ערכו של c.

ב. מצאו את פונקציית ההתפלגות המצטברת של ההתפלגות.

ג. חשב: $P(X > 0)$.

ד. מהו הרבעון העליון של ההתפלגות?



9) נתונה פונקציית הצפיפות הבאה של משתנה מקרי X:

א. רשמו את נוסחת פונקציית הצפיפות.

ב. בנו את פונקציית ההתפלגות המצטברת.

ג. מצאו את החציון של ההתפלגות.

ד. חשבו את התוחלת והשונות של המשתנה.

ה. חשבו את: $E(X^3)$.

10) במפעל מייצרים מוצר A. זמן תהליך הייצור של המוצר בשעות הוא בעל

$$f(x) = 6x(1-x), \quad 0 \leq x \leq 1$$

א. מה ההסתברות שזמן הייצור של מוצר A אקראי יהיה קטן מ-20 דקות?

ב. מה ההסתברות שזמן הייצור של מוצר A אקראי יהיה בדיוק חצי שעה?

ג. נבחרו חמישה מוצרים אקראיים מסוג A. מה תוחלת מספר המוצרים

שזמן הייצור שלהם יהיה גדול מ-20 דקות?

11) זמן ההמתנה בדקות של לקוח בתור למכולת השכונתית מתפלג עם פונקציית

$$F(t) = 1 - e^{-0.2t}$$

א. שרטטו את פונקציית ההתפלגות המצטברת.

ב. מה הסיכוי שזמן ההמתנה יהיה לפחות רבע שעה?

ג. אם חיכיתי בתור כבר 10 דקות מה ההסתברות שאאלץ לחכות בסך הכול

פחות מרבע שעה?

ד. מהו הזמן ש-90% מהלקוחות מחכים מתחתיו?

12) פונקציית הצפיפות של משתנה מקרי נתונה על ידי הנוסחה הבאה :

$$f(x) = \begin{cases} 0 & x < 4 \\ bx - 4b & 4 \leq x \leq 5 \\ b & 5 < x \leq 6 \\ 0 & x > 6 \end{cases}$$

- א. מצאו את b .
 ב. חשבו את התוחלת של X .
 ג. y הוא משתנה אינדיקטור המקבל את הערך 1 אם X קטן מ-5. מהי השונות של y ?

13) נתונה פונקציית הצפיפות הבאה :

$$f(x) = \begin{cases} \frac{x^2}{4} & 1 \leq x \leq 2 \\ kx & 2 < x \leq 3 \end{cases}$$

- א. מצאו את ערכו של k .
 ב. מצאו את פונקציית ההתפלגות המצטברת.
 ג. חשבו $P(x > 2.5)$.

14) להלן משתנה מקרי בעל פונקציית צפיפות הבאה : $f(x) = \frac{1}{b-a}$, $a \leq x \leq b$

- א. מצאו את פונקציית ההתפלגות המצטברת.
 ב. חשב את התוחלת והשונות של ההתפלגות.
 ג. מצאו את התוחלת של $\frac{1}{X}$.

תשובות סופיות:

$$F(t) = \begin{cases} 0 & t < 1 \\ (t-1)0.25 & 1 \leq t \leq 2 \\ 0.25 + (t-2) \cdot \frac{3}{16} & 2 < t \leq 6 \\ 1 & t > 6 \end{cases} \quad \text{ב.} \quad \text{א. } \frac{3}{16} \quad (1)$$

ג. i. $\frac{5}{8}$

א. ii. $\frac{7}{8}$ ב. iii. $\frac{11}{16}$ ג. iv. $\frac{3}{16}$ ד. $\frac{1}{3}$

א. $b=2, c=0.5$ ב. 1.41 ג. 0.0625 (2)

$$F(t) = \begin{cases} 0 & t < 0 \\ 0.02t^2 & 0 \leq t \leq 5 \\ 1 - 0.02(t-10)^2 & 5 < t \leq 10 \\ 1 & t > 10 \end{cases} \quad \text{ב.} \quad \text{א. } 0.2 \quad (3)$$

ג. 0, 0.18, 0.125, 0.32

ד. עשירון תחתון: 2.24, רבעון תחתון: 3.54, החציון: 5, עשירון עליון: 7.76

$$F(t) = \begin{cases} 0 & t < 0 \\ 0.2t & 0 < t \leq 3 \\ 0.6 + (t-3) \cdot 0.05 & 3 < t \leq 5 \\ 0.7 + (t-5) \cdot 0.15 & 5 < t \leq 6 \\ 0.85 & 6 < t \leq 7 \\ 0.85 + (t-7) \cdot 0.05 & 7 < t \leq 10 \\ 1 & t > 10 \end{cases} \quad \text{ב.} \quad \text{א. } 0.10 \quad (4)$$

ג. 0.5

א. $c=0.2$ ב. 0.5 ± 1.46 (5)

$$F(t) = \begin{cases} 0 & t < 1 \\ 2 \cdot \ln t & 1 \leq t \leq e^{\frac{1}{2}} \\ 1 & t > e^{\frac{1}{2}} \end{cases} \quad \text{ב.} \quad \text{א. } e^{\frac{1}{2}} \quad (6)$$

ג. 0.189

ד. 1.051 ה. 1.297

א. 0.0012 ב. 0.7067 ג. תוחלת: 6, שונות: 4 (7)

$$(8) \quad \text{א. 2.} \quad \text{ב.} \quad F(t) = \begin{cases} \frac{1}{4}e^{2t} & t \leq \ln(2) \\ 1 & t > \ln(2) \end{cases} \quad \text{ג. 0.75} \quad \text{ד. 0.549}$$

$$(9) \quad \text{א.} \quad F(x) = \begin{cases} \frac{1}{4} & 1 \leq x \leq 2 \\ \frac{3}{8} & 2 < x \leq 4 \\ 0 & \text{אחרת} \end{cases} \quad \text{ב.} \quad F(t) = \begin{cases} 0 & t < 1 \\ (t-1)0.25 & 1 \leq t \leq 2 \\ 0.25 + (t-2) \cdot \frac{3}{8} & 2 < t \leq 4 \\ 1 & t > 4 \end{cases}$$

$$\text{ג. } 2\frac{2}{3} \quad \text{ד. תוחלת: } 2.625, \text{ שונות: } 0.6927 \quad \text{ה. } 23.4375$$

$$(10) \quad \text{א.} \quad \frac{7}{27} \quad \text{ב. } 0 \quad \text{ג. } 3.704$$

$$(11) \quad \text{א. עיין סרטוט בוידאו} \quad \text{ב. } 0.0498 \quad \text{ג. } 0.6321 \quad \text{ד. } 11.51$$

$$(12) \quad \text{א.} \quad \frac{2}{3} \quad \text{ב. } 5.22 \quad \text{ג. } \frac{2}{9}$$

$$(13) \quad \text{א.} \quad \frac{1}{6} \quad \text{ב.} \quad F(t) = \begin{cases} 0 & t < 1 \\ \frac{t^3-1}{12} & 1 \leq t \leq 2 \\ \frac{7}{12} + \frac{t^2-4}{12} & 2 < t \leq 3 \\ 1 & t > 3 \end{cases} \quad \text{ג. } 0.229$$

$$(14) \quad \text{א.} \quad F(t) = \begin{cases} 0 & t < a \\ \frac{(t-b)}{b-a} & a \leq t \leq b \\ 1 & t > b \end{cases} \quad \text{ב. תוחלת: } E(X) = \frac{a+b}{2}, \text{ שונות: } V(x) = \frac{(b-a)^2}{12}$$

$$\text{ג.} \quad \frac{\ln\left(\frac{b}{a}\right)}{b-a}$$

הסתברות ב

פרק 2 - התפלגויות רציפות מיוחדות - התפלגות מעריכית

תוכן העניינים

1. כללי 10

התפלגויות רציפות מיוחדות – התפלגות מעריכית:

רקע:

התפלגות זו היא התפלגות רציפה המאפיינת את הזמן עד להתרחשות מאורע מסוים. λ - הוא ממוצע מספר האירועים המתרחשים ביחידת זמן (אותו פרמטר מההתפלגות הפואסונית): $X \sim \exp(\lambda)$ כאשר $\lambda > 0$.

התפלגות זו צריכה להיות נתונה בתרגיל או שיאמר שמספר האירועים ביחידת זמן מתפלג פואסונית ואז הזמן עד להתרחשות המאורע הבא מתפלג מעריכית.

פונקציית הצפיפות של ההתפלגות:

$$f(x) = \lambda e^{-\lambda x} \quad \text{לכל } x \geq 0.$$

פונקציית ההתפלגות המצטברת: $F(t) = p(x \leq t) = 1 - e^{-\lambda t}$.

$$\text{התוחלת: } E(x) = \frac{1}{\lambda}$$

$$\text{השונות: } V(x) = \frac{1}{\lambda^2}$$

להתפלגות זו יש תכונת חוסר הזיכרון: $P(X > a+b \mid X > a) = P(X > b)$.

דוגמה (פתרון בהקלטה):

אורך חיי סוללה מתפלג מעריכית עם תוחלת של 8 שעות.

א. מה ההסתברות שסוללה תחזיק מעמד פחות מ-9 שעות?

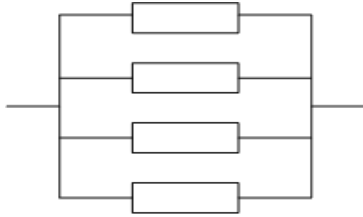
ב. מה סטיית התקן של אורך חיי הסוללה?

ג. אם סוללה כבר חייה מעל שעתיים, מה הסיכוי שהיא תחייה מעל 7 שעות בסך הכול?

שאלות:

- (1) הזמן שלוקח במערכת עד שתקלה מתרחשת מתפלג מעריכית עם תוחלת של 0.5 שעה.
- מה הסתברות שהתקלה הבאה תתרחש תוך יותר מ-0.5 שעה?
 - מה ההסתברות שהתקלה הבאה תתרחש תוך פחות משעה?
 - מצא את הזמן החציוני להתרחשות תקלה במערכת.
- (2) הזמן שעובר בכביש מסוים עד להתרחשות תאונה מתפלג מעריכית עם תוחלת של 24 שעות.
- מהי סטית התקן של הזמן עד להתרחשות תאונה?
 - מה ההסתברות שהתאונה הבאה תתרחש תוך פחות מיממה?
 - מהי ההסתברות שהתאונה הבאה תתרחש תוך לפחות יומיים?
- (3) משך הזמן X (בדקות) שסטודנטים עובדים רצוף על מחשב מתפלג מעריכית עם תוחלת של 30 דקות.
- מה הסיכוי שעבודת סטודנט על המחשב תארך פחות מרבע שעה?
 - מה הסיכוי שעבודת סטודנט על המחשב תארך בין רבע שעה לחצי שעה?
 - אם סטודנט עובד על המחשב כבר יותר מ-10 דקות, מה ההסתברות שמשך כל עבודתו יעלה על 30 דקות?
 - מהו הזמן שבסיכוי של 90% הסטודנט יעבוד פחות ממנו?
- (4) בממוצע מגיעים לחדר מיון 4 חולים בשעה בזרם פואסוני.
- שולה המזכירה הגיעה לחדר המיון. מה ההסתברות שזמן ההמתנה שלה לחולה הבא יהיה יותר מ-20 דקות?
 - אם שולה המתינה יותר מרבע שעה לחולה הבא. מה ההסתברות שתמתין בסך הכל יותר מחצי שעה?
 - מה ההסתברות שבין החולה הראשון לשני יש להמתין יותר מרבע שעה ובין החולה שני לשלישי יש להמתין פחות מרבע שעה?

5) מערכת חשמלית כוללת 4 רכיבים אלקטרוניים זהים הפועלים במקביל כמתואר בשרטוט:



על מנת שהמערכת תפעל בצורה תקינה נדרש שלפחות אחד מהמרכיבים יהיה תקין. אורך החיים של כל רכיב מתפלג מעריכית עם ממוצע של 100 שעות.

א. מה ההסתברות שהמערכת תפעל בצורה תקינה במשך 100 שעות לפחות?

ב. מעוניינים להוסיף במקביל עוד רכיב למערכת.

עלות הוספת רכיב היא K ₪.

כמו כן אם המערכת עבדה פחות מ-100 שעות

נגרם הפסד של A ₪.

מה התנאי שבו יהיה כדאי להוסיף את הרכיב למערכת?

תשובות סופיות:

- | | | | |
|-------------|------------------|----------|-----|
| א. 0.368 | ב. 0.865 | ג. 0.347 | (1) |
| א. 24 שעות. | ב. 0.632 | ג. 0.135 | (2) |
| א. 0.393 | ב. 0.239 | ג. 0.513 | (3) |
| א. 0.264 | ב. 0.368 | ג. 0.233 | (4) |
| א. 0.8403 | ב. $K < 0.0588A$ | ד. 69.08 | (5) |

הסתברות ב

פרק 3 - התפלגויות רציפות מיוחדות-התפלגות אחידה

תוכן העניינים

1. כללי 13

התפלגויות רציפות מיוחדות – התפלגות אחידה:

רקע:

זו התפלגות שפונקציית הצפיפות שלה קבועה בין a לבין b .

$$. X \sim U(a, b)$$

פונקציית הצפיפות:

$$. f(x) = \frac{1}{b-a}$$

$$a \leq x \leq b$$

פונקציית ההתפלגות המצטברת:

$$. F(t) = \frac{t-a}{b-a}$$

התוחלת :

$$. E(X) = \frac{a+b}{2}$$

השונות:

$$. V(x) = \frac{(b-a)^2}{12}$$

דוגמה (פתרון בהקלטה):

X - משתנה מקרי רציף המתפלג באופן אחיד בין 20 ל-40.

מה הסיכוי ש- X קטן מ-25?

מה התוחלת והשונות של X ?

$$a = 20, b = 40$$

$$X \sim U(20, 40)$$

$$\text{א. } P(x < 25) = f(25) = \frac{25-20}{40-20} = 0.25$$

$$E(x) = \frac{20+40}{2} = 30$$

$$\text{ב. } V(x) = \frac{(40-20)^2}{12} = 33\frac{1}{3}$$

שאלות:

- (1) משך (בדקות) הפסקה בשיעור, X , מתפלג: $U(13,16)$.
- מהי התוחלת ומהי סטיית התקן של משך ההפסקה?
 - מהי ההסתברות שהפסקה תמשך יותר מ-15 דקות?
 - מהי ההסתברות שמשך ההפסקה יסטה מהתוחלת בפחות מדקה?
- (2) רכבת מגיעה לתחנה בשעות היום כל עשר דקות. אדם הגיע לתחנה בזמן אקראי.
- הסבר כיצד מתפלג זמן ההמתנה לרכבת?
 - אם זמן ההמתנה לרכבת ארך יותר מ-5 דקות, מהי ההסתברות שבסך הכל האדם ימתין לרכבת פחות מ-8 דקות?
 - מה תוחלת מספר הימים שיעברו עד הפעם הראשונה שהאדם ימתין לרכבת יותר מ-9 דקות?
- (3) מכונה אוטומטית ממלאת גביעי גלידה. משקל הגלידה לגביע מתפלג אחיד בין 100-110 גרם (המשקל הוא של גלידה ללא הגביע).
- מה ההסתברות שמשקל הגלידה בגביע יהיה מעל 108 גרם?
 - נתון שהגלידה בגביע עם משקל נמוך מ-107 גרם. מה ההסתברות שמשקל הגלידה יהיה מעל 105 גרם?
 - מה העשירון העליון של משקל הגלידה בגביע?
 - עלות גביע גלידה היא 0.5 שקל. כל גרם של גלידה עולה 0.22 אגורות. מהי התוחלת ומהי סטיית התקן של עלות הגביע ביחד עם הגלידה?

תשובות סופיות:

- (1) א. תוחלת: 14.5, שונות: 0.866. ב. $\frac{1}{3}$. ג. $\frac{2}{3}$.
- (2) א. $X \sim U(0,10)$. ב. 0.6. ג. 10.
- (3) א. 0.2. ב. $\frac{2}{7}$. ג. 109. ד. תוחלת: 73.1 אגורות, סטיית תקן: 0.635 אגורות.

הסתברות ב

פרק 4 - התפלגויות רציפות מיוחדות - התפלגות נורמלית

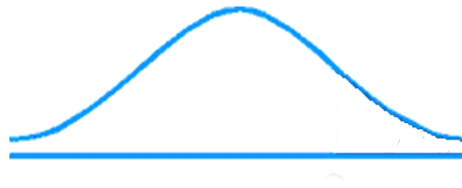
תוכן העניינים

1. כללי..... 16

התפלגויות רציפות מיוחדות – התפלגות נורמלית:

רקע:

התפלגות נורמלית הינה התפלגות של משתנה רציף. ישנם משתנים רציפים מסוימים שנהוג להתייחס אליהם כנורמליים כגון: זמן ייצור, משקל תינוק ביום היוולדו ועוד. פונקציית הצפיפות של ההתפלגות הנורמלית נראית כמו פעמון:



לעקומה זו קוראים גם עקומת גאוס ועקומה אחת נבדלת מהשנייה באמצעות הממוצע וסטיית התקן שלה.

אלה הם הפרמטרים שמאפיינים את ההתפלגות: $X \sim N(\mu, \sigma^2)$.

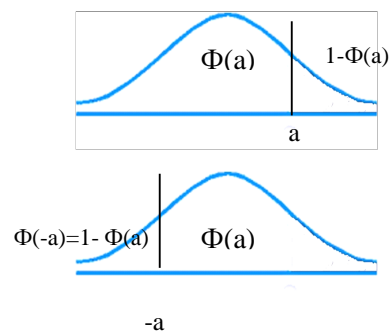
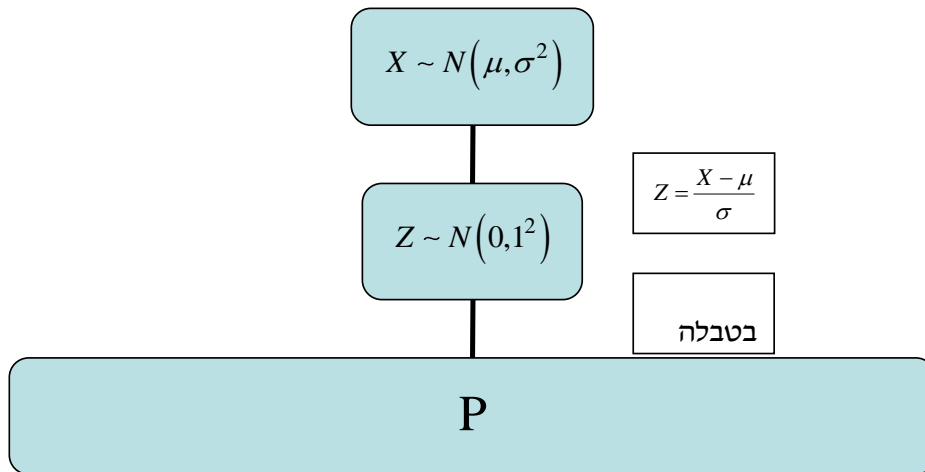
$$\text{נוסחת פונקציית הצפיפות: } f(x) = \frac{1}{\sqrt{2\pi\sigma^2}} e^{-\frac{(x-\mu)^2}{2\sigma^2}}$$

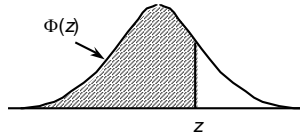
כדי לחשב הסתברויות בהתפלגות נורמלית יש לחשב את השטחים הרלוונטיים שמתחת לעקומה. כדי לחשב שטחים אלה נמיר כל התפלגות נורמלית להתפלגות נורמלית סטנדרטית על ידי תהליך הנקרא תקנון. התפלגות נורמלית סטנדרטית היא התפלגות נורמלית שהממוצע שלה הוא אפס וסטיית התקן היא אחת, והיא תסומן באות Z : $Z \sim N(0, 1^2)$.

$$\text{תהליך התקנון מבוצע על ידי הנוסחה הבאה: } Z = \frac{X - \mu}{\sigma}$$

אחרי תקנון מקבלים ערך הנקרא ציון תקן. ציון התקן משמעו בכמה סטיות תקן הערך סוטה מהממוצע.

לאחר חישוב ציון התקן של ערך מסוים נעזרים בטבלה של ההתפלגות הנורמלית הסטנדרטית לחישוב השטח הרצוי, ובאופן כללי נתאר את הסכמה הבאה:



טבלת ההתפלגות המצטברת הנורמלית סטנדרטית – ערכי $\Phi(z)$:


z	.00	.01	.02	.03	.04	.05	.06	.07	.08	.09
0.0	.5000	.5040	.5080	.5120	.5160	.5199	.5239	.5279	.5319	.5359
0.1	.5398	.5438	.5478	.5517	.5557	.5596	.5636	.5675	.5714	.5753
0.2	.5793	.5832	.5871	.5910	.5948	.5987	.6026	.6064	.6103	.6141
0.3	.6179	.6217	.6255	.6293	.6331	.6368	.6406	.6443	.6480	.6517
0.4	.6554	.6591	.6628	.6664	.6700	.6736	.6772	.6808	.6844	.6879
0.5	.6915	.6950	.6985	.7019	.7054	.7088	.7123	.7157	.7190	.7224
0.6	.7257	.7291	.7324	.7357	.7389	.7422	.7454	.7486	.7517	.7549
0.7	.7580	.7611	.7642	.7673	.7704	.7734	.7764	.7794	.7823	.7852
0.8	.7881	.7910	.7939	.7967	.7995	.8023	.8051	.8078	.8106	.8133
0.9	.8159	.8186	.8212	.8238	.8264	.8289	.8315	.8340	.8365	.8389
1.0	.8413	.8438	.8461	.8485	.8508	.8531	.8554	.8577	.8599	.8621
1.1	.8643	.8665	.8686	.8708	.8729	.8749	.8770	.8790	.8810	.8830
1.2	.8849	.8869	.8888	.8907	.8925	.8944	.8962	.8980	.8997	.9015
1.3	.9032	.9049	.9066	.9082	.9099	.9115	.9131	.9147	.9162	.9177
1.4	.9192	.9207	.9222	.9236	.9251	.9265	.9279	.9292	.9306	.9319
1.5	.9332	.9345	.9357	.9370	.9382	.9394	.9406	.9418	.9429	.9441
1.6	.9452	.9463	.9474	.9484	.9495	.9505	.9515	.9525	.9535	.9545
1.7	.9554	.9564	.9573	.9582	.9591	.9599	.9608	.9616	.9625	.9633
1.8	.9641	.9649	.9656	.9664	.9671	.9678	.9686	.9693	.9699	.9706
1.9	.9713	.9719	.9726	.9732	.9738	.9744	.9750	.9756	.9761	.9767
2.0	.9772	.9778	.9783	.9788	.9793	.9798	.9803	.9808	.9812	.9817
2.1	.9821	.9826	.9830	.9834	.9838	.9842	.9846	.9850	.9854	.9857
2.2	.9861	.9864	.9868	.9871	.9875	.9878	.9881	.9884	.9887	.9890
2.3	.9893	.9896	.9898	.9901	.9904	.9906	.9909	.9911	.9913	.9916
2.4	.9918	.9920	.9922	.9925	.9927	.9929	.9931	.9932	.9934	.9936
2.5	.9938	.9940	.9941	.9943	.9945	.9946	.9948	.9949	.9951	.9952
2.6	.9953	.9955	.9956	.9957	.9959	.9960	.9961	.9962	.9963	.9964
2.7	.9965	.9966	.9967	.9968	.9969	.9970	.9971	.9972	.9973	.9974
2.8	.9974	.9975	.9976	.9977	.9977	.9978	.9979	.9979	.9980	.9981
2.9	.9981	.9982	.9982	.9983	.9984	.9984	.9985	.9985	.9986	.9986
3.0	.9987	.9987	.9987	.9988	.9988	.9989	.9989	.9989	.9990	.9990
3.1	.9990	.9991	.9991	.9991	.9992	.9992	.9992	.9992	.9993	.9993
3.2	.9993	.9993	.9994	.9994	.9994	.9994	.9994	.9995	.9995	.9995
3.3	.9995	.9995	.9995	.9996	.9996	.9996	.9996	.9996	.9996	.9997
3.4	.9997	.9997	.9997	.9997	.9997	.9997	.9997	.9997	.9997	.9998

z	1.282	1.645	1.960	2.326	2.576	3.090	3.291	3.891	4.417
$\Phi(z)$	0.90	0.95	0.975	0.99	0.995	0.999	0.9995	0.99995	0.999995

דוגמה (הפתרון בהקלטה):

משקל חפיסות שוקולד המיוצרות בחברה מתפלג נורמלית עם ממוצע 100 גרם בסטיית תקן של 8 גרם.

- (1) מה אחוז חפיסות השוקולד ששוקלות מתחת ל-110 גרם?
- (2) מה אחוז חפיסות השוקולד ששוקלות מעל 110 גרם?
- (3) מה אחוז חפיסות השוקולד ששוקלות מתחת ל-92 גרם?
- (4) מהו המשקל ש-90% מהחפיסות בקו הייצור שוקלים פחות מהם?

שאלות:

- (1) הגובה של אנשים באוכלוסייה מסוימת מתפלג נורמלית עם ממוצע של 170 ס"מ וסטית תקן של 10 ס"מ.
- מה אחוז האנשים שגובהם מתחת ל-182.4 ס"מ?
 - מה אחוז האנשים שגובהם מעל 190 ס"מ?
 - מה אחוז האנשים שגובהם בדיוק 173.6 ס"מ?
 - מה אחוז האנשים שגובהם מתחת ל-170 ס"מ?
 - מה אחוז האנשים שגובהם לכל היותר 170 ס"מ?
- (2) נתון שהזמן שלוקח לתרופה מסוימת להשפיע מתפלג נורמלית עם ממוצע של 30 דקות ושונות של 9 דקות רבועות.
- מהי פרופורציית המקרים בהן התרופה תעזור אחרי יותר משעה?
 - מה אחוז מהמקרים שבהן התרופה תעזור בין 35 ל-37 דקות?
 - מה הסיכוי שהתרופה תעזור בדיוק תוך 36 דקות?
 - מה שיעור המקרים שבהן ההשפעה של התרופה תסטה מ-30 דקות בפחות מ-3 דקות?
- (3) המשקל של אנשים באוכלוסייה מסוימת מתפלג נורמלית עם ממוצע של 60 ק"ג וסטית תקן של 8 ק"ג.
- מה אחוז האנשים שמשקלם נמוך מ-55 ק"ג?
 - מהי פרופורציית האנשים באוכלוסייה שמשקלם לפחות 50 ק"ג?
 - מהי השכיחות היחסית של האנשים באוכלוסייה שמשקלם בין 60 ל-70 ק"ג?
 - לאיזה חלק מהאוכלוסייה משקל הסוטה מהמשקל הממוצע בלא יותר מ-4 ק"ג?
 - מה הסיכוי שאדם אקראי ישקול מתחת ל-140 ק"ג?
- (4) משקל תינוקות ביום היוולדם מתפלג נורמלית עם ממוצע של 3300 גרם וסטית תקן 400 גרם.
- מצאו את העשירון העליון.
 - מצאו את האחוזון ה-95.
 - מצאו את העשירון התחתון.

- (5) ציוני מבחן אינטליגנציה מתפלגים נורמלית עם ממוצע 100 ושונויות 225.
- מה העשירון העליון של הציונים במבחן האינטליגנציה?
 - מה העשירון התחתון של ההתפלגות?
 - מהו הציון ש-20% מהנבחנים מקבלים מעליו?
 - מהו האחוזון ה-20?
 - מהו הציון ש-5% מהנבחנים מקבלים מתחתיו?
- (6) נפח משקה בבקבוק מתפלג נורמלית עם סטיית תקן של 20 מ"ל, ונתון ש-33% מהבקבוקים בעלי נפח שעולה על 508.8 מ"ל.
- מה ממוצע נפח משקה בבקבוק?
 - 5% מהבקבוקים המיוצרים עם הנפח הגבוה ביותר נשלחים לבדיקה, החל מאיזה נפח שולחים בקבוק לבדיקה?
 - 1% מהבקבוקים עם הנפח הקטן ביותר נתרמים לצדקה, מהו הנפח המקסימלי לצדקה?
- (7) אורך חיים של מכשיר מתפלג נורמלית. ידוע שמחצית מהמכשירים חיים פחות מ-500 שעות, כמו כן ידוע ש-67% מהמכשירים חיים פחות מ-544 שעות.
- מהו ממוצע אורך חיי מכשיר?
 - מהי סטית בתקן של אורך חיי מכשיר?
 - מה הסיכוי שמכשיר אקראי יחיה פחות מ-460 שעות?
 - מהו המאיון העליון של אורח חיי מכשיר?
 - 1% מהמכשירים בעלי אורך החיים הקצר ביותר נשלח למעבדה לבדיקה מעמיקה. מהו אורך החיים המקסימלי לשליחת מכשיר למעבדה?
- (8) להלן שלוש התפלגויות נורמליות של שלוש קבוצות שונות ששורטטו באותה מערכת צירים. ההתפלגויות מוספרו כדי להבדיל ביניהן.
- לאיזו התפלגות הממוצע הגבוה ביותר?
 - במה מבין המדדים הבאים התפלגות 1 ו-2 זהות?
 - בעשירון העליון.
 - בממוצע.
 - בשונויות.
 - לאיזו התפלגות סטיית התקן הקטנה ביותר?
 - 1.
 - 2.
 - 3.
 - אין לדעת.



- 9) הזמן שלוקח לאדם להגיע לעבודתו מתפלג נורמלית עם ממוצע של 40 דקות וסטית תקן של 5 דקות.
- א. מה ההסתברות שמשך הנסיעה של האדם לעבודתו יהיה לפחות שלושת רבעי השעה?
- ב. אדם יצא לעבודתו בשעה 08:10 מביתו. הוא צריך להגיע לעבודתו בשעה 09:00. מה הסיכוי שיאחר לעבודתו?
- ג. אם ידוע שזמן נסיעתו לעבודה היה יותר משלושת רבעי השעה. מה ההסתברות שזמן הנסיעה הכולל יהיה פחות מ-50 דקות?
- ד. מה הסיכוי שבשבוע (חמישה ימי עבודה) בדיוק פעם אחת יהיה זמן הנסיעה לפחות שלושת רבעי השעה?
- 10) ההוצאה החודשית לבית אב בעיר "טרירה" מתפלגת נורמלית עם ממוצע של 2000 דולר וסטית תקן של 300 דולר. בחרו באקראי 5 בתי אב. ההסתברות שלפחות אחד מהם מוציא בחודש מעל ל- T דולר היא 0.98976.
- א. מה ערכו של T ?
- ב. מה הסיכוי שההוצאה החודשית של בית אב בעיר תהיה לפחות סטיית תקן אחת מעל T ?
- ג. מסתבר שנפלה טעות בנתונים, ויש להוסיף 100 דולר להוצאות החודשית של כל בתי האב בעיר. לאור זאת, מה ההסתברות שההוצאה החודשית של בית אב נמוכה מ-1800 דולר?
- 11) אורך שיר אקראי המשודר ברדיו מתפלג נורמלית עם תוחלת של 3.5 דקות וסטית תקן של שלושים שניות.
- א. מה ההסתברות שאורך של שיר אקראי המנוגן ברדיו יהיה בין 3 ל-2.5 דקות?
- ב. מהו הטווח הבין רבעוני של אורך שיר המשודר ברדיו?
- ג. ביום מסוים מנוגנים 200 שירים ברדיו. כמה שירים מתוכם תצפה שיהיו באורך הנמוך מ-3.5 דקות?
- ד. בשעה מסוימת שודרו 8 שירים. מה ההסתברות שרבע מהם בדיוק היו ארוכים מ-4 דקות והיתר לא?

תשובות סופיות:

ה. 50%	ד. 50%	ג. 0	ב. 2.28%	א. 89.25%	(1)
	ד. 68.26%	ג. 0%	ב. 3.76%	א. 0%	(2)
	ד. 0.383	ג. 39.44%	ב. 89.44%	א. 26.43%	(3)
				ה. 100%	
		ג. 2787.2	ב. 3958	א. 3812.8	(4)
	ד. 87.4	ג. 112.6	ב. 80.8	א. 119.2	(5)
		ג. 453.48	ב. 532.9	א. 500	(6)
	ד. 733	ג. 0.3446	ב. 100	א. 500	(7)
				ה. 267	
		ג. 1	ב. בממוצע.	א. 3	(8)
	ד. 0.3975	ג. 0.8563	ב. 0.0228	א. 0.1587	(9)
		ג. 0.1587	ב. 0.2266	א. 1925	(10)
	ד. 0.25	ג. 100	ב. 0.675	א. 0.1359	(11)

הסתברות ב

פרק 5 - משתנה דו-מימדי בדיד - פונקציית הסתברות משותפת

תוכן העניינים

1. כללי 24

משתנה דו מימדי בדיד – פונקציית הסתברות משותפת:

רקע:

התפלגות דו ממדית הינה התפלגות שדנה בשני משתנים. נרצה כעת לבנות פונקציית הסתברות דו ממדית, בה יש התפלגות של שני משתנים בו זמנית: X ו- Y .

דוגמה:

תלמיד ניגש בסמסטר לשני מבחנים: מבחן בכלכלה ומבחן בסטטיסטיקה. כמו כן, נתון שהסיכוי לעבור את המבחן בכלכלה הנו 0.8, הסיכוי לעבור את המבחן בסטטיסטיקה הנו 0.9 והסיכוי לעבור את שני המבחנים הנו 0.75. יהי X מספר הקורסים שהסטודנט עבר. ויהי Y משתנה אינדיקטור המקבל את הערך 1 אם הסטודנט עבר את הבחינה בכלכלה, ו-0 אחרת. בנו את פונקציית ההסתברות המשותפת של X ו- Y .

נחשב את כל ההסתברויות המשותפות:

$$p(x=0, y=0) = 0.05$$

$$p(x=0, y=1) = 0$$

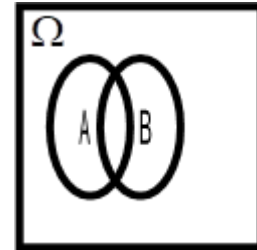
$$p(x=1, y=0) = 0.15$$

$$p(x=1, y=1) = 0.05$$

$$p(x=2, y=0) = 0$$

$$p(x=2, y=1) = 0.75$$

y/x	0	1	2
0	0.05	0.15	0
1	0	0.05	0.75



שימו לב שסכום כל ההסתברויות בפונקציית ההסתברות המשותפת הוא 1.

כעת נסכם את השורות ואת העמודות ונקבל את פונקציות הסתברות שוליות:

Y/X	0	1	2	P_Y
0	0.05	0.15	0	0.2
1	0	0.05	0.75	0.8
P_X	0.05	0.2	0.75	1

משתנים בלתי תלויים:

X ו- Y יהיו משתנים בלתי תלויים, אם עבור כל X ו- Y אפשריים התקיים הדבר

$$\text{הבא: } p(x=k, y=l) = p(x=k) \cdot p(y=l).$$

מספיק פעם אחת שהמשתנים אינם מקיימים תנאי זה אזי הם תלויים.

דוגמה:

$$p(x=2, y=1) = 0.75 \neq p(x=2) \cdot p(y=1) = 0.75 \cdot 0.8 = 0.6$$

ככלל, אם יש אפס בתוך פונקציית ההסתברות המשותפת ניתן להבין באופן מידי שהמשתנים תלויים, שאז הרי התנאי לא מתקיים. אך אם אין אפס בטבלה, אין זה אומר שהמשתנים בלתי תלויים ויש לבדוק זאת.

שאלות:

- (1) אדם נכנס לקזינו עם 75 דולר. הוא ישחק במכונת מזל בה יש סיכוי של 0.3 לנצח. במקרה של ניצחון במשחק הוא יקבל מהקזינו 25 דולר ובמקרה של הפסד הוא ישלם 25 דולר. אותו אדם החליט שיפסיק לשחק ברגע שיהיה לו 100 דולר, אך בכל מקרה לא ישחק יותר מ-3 משחקים. נגדיר את X להיות הכסף שברשות האדם בצאתו מהקזינו ואת Y כמספר המשחקים שהאדם שיחק.
- בנו את פונקציית ההסתברות המשותפת והשוליות.
 - מה תוחלת מספר המשחקים שישחק האדם?
 - אם האדם יצא מהקזינו שברשותו 100 דולר, מה התוחלת ומהי השונות של מספר המשחקים ששיחק?

- (2) להלן פונקציית ההסתברות המשותפת והשוליות של שני משתנים מקריים בדידים:

Y / X	0	1	2	$P(Y)$
2		0.08	0.12	0.4
3	0.1	0.05		
4				0.45
$P(X)$		0.4	0.2	

- השלימו את ההסתברויות החסרות בטבלה.
 - האם X ו- Y תלויים?
 - מצאו את הסתברות ש- $Y = 3$, אם ידוע ש- $X = 1$.
- (3) מפעל משווק מוצר הנארז בחבילות בגדלים שונים. ישנו מספר שווה של חבילות בנות שני מוצרים ושלושה מוצרים. ההסתברות שמוצר מסוים יהיה פגום היא $\frac{1}{10}$. מהנדס הייצור בוחר באקראי חבילת מוצרים לשם בקרת איכות. יהי X מספר המוצרים בחבילה, ו- Y מספר המוצרים הפגומים בחבילה.
- מה ההתפלגות של המשתנה Y בהינתן $x = 3$.
 - מה ההתפלגות של המשתנה Y בהינתן X הינו K כלשהו.
 - מהי תוחלת מספר המוצרים הפגומים בחבילות בנות 3 מוצרים? נמקו.
 - בנו את פונקציית ההסתברות המשותפת.

- (4) מתוך כד עם 3 כדורים ממוספרים במספרים 2, 4, 8 שולפים באקראי שניים ללא החזרה. יהי X המספר הקטן מבין השניים ו- Y הגדול מביניהם.
- א. חשבו את ההתפלגות של (X, Y) .
- ב. אם המספר המינימאלי שנבחר הוא 2, מה הסיכוי שהמקסימאלי הוא 8?
- ג. חשבו את ההתפלגות המותנית של X בהינתן $Y = 4$. מצאו: $E(X / Y = 4)$.
- (5) ביישוב שני סניפי בנק. סניף פועלים וסניף לאומי. להלן הנתונים לגבי האוכלוסייה הבוגרת המתגוררת ביישוב: ל-60% יש חשבון בסניף פועלים של היישוב, ל-50% יש חשבון בסניף לאומי של היישוב ול-95% יש חשבון בלפחות אחד מהסניפים. יהי X מספר הסניפים בישוב אשר לתושב בוגר יש בהם חשבון, ויהי Y משתנה אינדיקטור:
- 1 – אם יש לתושב חשבון בסניף פועלים.
 0 – אחרת.
- א. בנו את פונקציית ההסתברות המשותפת של X ו- Y .
- ב. הוסיפו את פונקציית ההסתברות השולית.
- ג. ידוע שלתושב בוגר חשבון בבנק פועלים, מה ההסתברות שיש לו חשבון בנק בסניף אחד בלבד?

תשובות סופיות:

1) א. להלן טבלה: ב. 2.4 ג. תוחלת: 1.348, שונות: 0.575.

$x \setminus y$	0	50	100	$P(y)$
1	0	0	0.3	0.3
3	0.343	0.294	0.063	0.7
$P(x)$	0.343	0.294	0.363	1

2) א. להלן טבלה: ב. תלויים. ג. 0.125.

$x \setminus y$	0	1	2	$P(y)$
2	0.2	0.08	0.12	0.4
3	0.1	0.05	0	0.15
4	0.1	0.27	0.08	0.45
$P(x)$	0.4	0.4	0.2	1

3) א. $y/x=3 \sim B\left(n=3, p=\frac{1}{10}\right)$ ב. $y/x=k \sim B\left(n=k, p=\frac{1}{10}\right)$

ג. 0.3 ד. להלן טבלה:

$x \setminus y$	2	3	$P(y)$
0	0.405	0.3645	
1	0.09	0.1215	
2	0.005	0.0135	
3	0	0.0005	
$P(x)$	0.5	0.5	1

4) א. להלן טבלה: ב. 0.5 ג. תוחלת: 2.

$x \setminus y$	2	4	$P(y)$
4	$\frac{1}{3}$	$\frac{2}{3}$	$\frac{1}{3}$
8	$\frac{1}{3}$	$\frac{1}{3}$	$\frac{2}{3}$
$P(x)$	$\frac{2}{3}$	$\frac{1}{3}$	1

5) א+ב. להלן טבלה: ג. 0.75.

$x \setminus y$	0	1	2	$P(y)$
0	0.05	0.35	0	0.4
1	0	0.45	0.15	0.6
$P(x)$	0.05	0.8	0.15	1

הסתברות ב

פרק 6 - משתנה דו מימדי בדיד - מתאם בין משתנים

תוכן העניינים

1. כללי 30

השפעת טרנספורמציה לינארית על מקדם המתאם:

$$\rho[(aX+b), (cY+d)] = \begin{cases} \rho(X,Y) & \text{if } a \cdot c > 0 \\ -\rho(X,Y) & \text{if } a \cdot c < 0 \end{cases}$$

כלומר, טרנספורמציה לינארית על שני משתנים לא משנה את עוצמת הקשר ביניהם היא עלולה לשנות רק את כיוון הקשר.

דוגמה (פתרון בהקלטה):

נחזור לדוגמה שהוצגה בפרק הקודם:

תלמיד ניגש בסמסטר לשני מבחנים מבחן בכלכלה ומבחן בסטטיסטיקה. כמו כן, נתון שהסיכוי לעבור את המבחן בכלכלה הנו 0.8, הסיכוי לעבור את המבחן בסטטיסטיקה הנו 0.9 והסיכוי לעבור את שני המבחנים הנו 0.75.

יהי X מספר הקורסים שהסטודנט עבר, ויהי Y משתנה אינדיקטור המקבל את הערך 1, אם הסטודנט עבר את הבחינה בכלכלה, ו-0 אחרת. נחשב את מקדם המתאם:

X/Y	0	1	2	P_Y
0	0.05	0.15	0	0.2
1	0	0.05	0.75	0.8
P_X	0.05	0.2	0.75	1

X	0	1	2
P_X	0.05	0.2	0.75

$$E(X) = \sum_i x_i P(x_i) = \mu = 0 \cdot 0.05 + 1 \cdot 0.2 + 2 \cdot 0.75 = 1.7$$

$$V(X) = \sum_i (x_i - \mu)^2 P(x_i) = \sum_i x_i^2 P(x_i) - \mu^2 = 0^2 \cdot 0.05 + 1^2 \cdot 0.2 + 2^2 \cdot 0.75 - 1.7^2 = 0.31 = \sigma^2$$

y	P_Y
0	0.2
1	0.8

$$\sigma_x = \sqrt{V(X)} = \sqrt{0.31} = 0.557$$

$$E(y) = \sum_i y_i P(y_i) = 0 + 0.8 = 0.8$$

$$V(y) = \sum_i (y_i - \mu_y)^2 P(y_i) = \sum_i y_i^2 P(y_i) - \mu_y^2 = 0 + 0.8 - 0.8^2 = 0.16 = \sigma_y^2$$

$$\sigma_y = \sqrt{0.16} = 0.4$$

$$E(xy) = 0 \cdot 0 \cdot 0.05 + 0 \cdot 1 \cdot 0 + 1 \cdot 0 \cdot 0.15 + 1 \cdot 1 \cdot 0.05 + 2 \cdot 0 \cdot 0 + 2 \cdot 1 \cdot 0.75 = 1.55$$

$$\text{cov}(x, y) = E(x \cdot y) - E(x) \cdot E(y) = 1.55 - 1.7 \cdot 0.8 = 0.19$$

$$\rho = \frac{\text{cov}(x, y)}{\sigma_x \cdot \sigma_y} = \frac{0.19}{0.557 \cdot 0.4} = 0.853$$

כל קורס שהסטודנט מסיים מזכה אותו ב-3 נקודות אקדמאיות.
מה יהיה מקדם המתאם בין נקודות הזכות שיצבור למשתנה Y ?

שאלות:

- (1) הסיכוי שסטודנט יעבור את המבחן במועד א' בסטטיסטיקה הוא 0.8. אם הוא נכשל במועד א' הוא ניגש למועד ב' שם הסיכוי לעבור את המבחן מוערך ב-0.9 (סטודנט שעובר את א' לא ניגש לב'). במידה והסטודנט נכשל במועד ב' הוא מגיש בקשה למועד ג' אותה מאשרים בסיכוי של 0.2, והסיכוי שלו לעבור את מועד ג' הוא 0.7.
- נגדיר את X להיות מספר המבחנים אליהם ניגש הסטודנט, ונגדיר את Y להיות מספר המבחנים שנכשל בהם.
- בנו את פונקציית ההסתברות המשותפת ואת פוני ההסתברות השולית.
 - האם המשתנים הינם בלתי תלויים?
 - ידוע שהסטודנט ניגש ליותר ממבחן אחד, מה ההסתברות שהוא נכשל בפחות משלושה מבחנים?
 - האם המתאם בין X ל- Y מלא או חלקי? חיובי או שלילי? הסבירו ללא חישוב.
 - חשבו את מקדם המתאם בין X לבין Y .
 - האם המשתנים הם בלתי מתאומים?
- (2) נטיל מטבע שלוש פעמים. נגדיר את X להיות מספר העצים המתקבלים בשתי ההטלות הראשונות, ואת Y להיות מספר העצים המתקבלים בשתי ההטלות האחרונות.
- בנו את פונקציית ההסתברות המשותפת של X ו- Y ואת פונקציות ההסתברות השוליות.
 - האם X ו- Y הם משתנים בלתי תלויים?
 - מהו מקדם המתאם בין X ל- Y . האם המשתנים מתאומים?
 - אם בשתי ההטלות הראשונות יצא בדיוק עץ אחד, מה ההסתברות שבשתי ההטלות האחרונות יצאו שני עצים?
 - אם בשתי ההטלות האחרונות יצא לפחות פעם אחת עץ, מה ההסתברות שבשתי ההטלות הראשונות יצא עץ אחד?
- (3) נפזר שלושה כדורים שונים בשלושה תאים. נגדיר את המשתנים הבאים:
- X - מספר הכדורים בתא הראשון.
 - Y - מספר הכדורים בתא השני.
- בנו את פונקציית ההסתברות המשותפת.
 - האם המשתנים בלתי מתאומים?

- (4) קובייה הוגנת הוטלה פעמיים. יהי X ההטלה הגדולה מבין שתי התוצאות, ויהי Y מס' ההטלות בהן יצאה תוצאה זוגית.
- מצאו את פונקציית ההסתברות המשותפת של X ו- Y .
 - חשבו את מקדם המתאם של X ו- Y .
 - מצאו את ההתפלגות של Y בהינתן ש- $X = 2$.
- (5) בבניין שלנו 5 דירות. דירות מספר אחת ושלוש הן דירות משופצות והשאר אינן. הוחלט לבחור שתי דירות באקראי מבין הדירות בבניין. נגדיר את המשתנים הבאים:
- X - מספר הדירות המשופצות שנבחרו.
 - Y - מספר הדירות האי זוגיות שנדגמו.
- בנו את פונקציית ההסתברות המשותפת ואת פונקציית ההסתברות השולית.
 - האם המשתנים מתואמים?
 - מה מקדם המתאם בין X לבין Y ?
 - מה יהיה מקדם המתאם:
- בין מספר הדירות המשופצות למספר הדירות הזוגיות שנדגמו.
 - בין מספר הדירות הזוגיות לדירות האי זוגיות שנדגמו.
- ה. כל דירה משופצת עולה 2 מיליון ₪ וכל דירה לא משופצת עולה 1.5 מיליון ₪. מה המתאם בין עלות הדירות שנדגמו למספר הדירות הזוגיות?

תשובות סופיות:

(1) א. להלן טבלה: ב. תלויים. ג. 0.994 ד. חלקי חיובי.

$x \setminus y$	1	2	3	$P(y)$
0	0.8	0	0	0.8
1	0	0.18	0	0.18
2	0	0.016	0.0028	0.0188
3	0	0	0.0012	0.0012
$P(x)$	0.8	0.196	0.004	1

ה. 0.963 ו. מתואמים.

(2) א. להלן טבלה: ב. תלויים. ג. מקדם המתאם: 0.5, מתואמים.

$x \setminus y$	0	1	2	$P(y)$
0	$\frac{1}{8}$	$\frac{1}{8}$	0	$\frac{2}{8}$
1	$\frac{1}{8}$	$\frac{2}{8}$	$\frac{1}{8}$	$\frac{4}{8}$
2	0	$\frac{1}{8}$	$\frac{1}{8}$	$\frac{2}{8}$
$P(x)$	$\frac{2}{8}$	$\frac{4}{8}$	$\frac{2}{8}$	1

ד. 0.25 ה. 0.5

(3) א. להלן טבלה: ב. מתואמים.

$x \setminus y$	0	1	2	3
0	$\frac{1}{27}$	$\frac{3}{27}$	$\frac{3}{27}$	$\frac{1}{27}$
1	$\frac{3}{27}$	$\frac{6}{27}$	$\frac{3}{27}$	0
2	$\frac{3}{27}$	$\frac{3}{27}$	0	0
3	$\frac{1}{27}$	$\frac{6}{27}$	0	0

(4) א. להלן טבלה: ב. 0.252.

$x \setminus y$	1	2	3	4	5	6
0	$\frac{1}{36}$	0	$\frac{3}{36}$	0	$\frac{5}{36}$	0
1	0	$\frac{2}{36}$	$\frac{2}{36}$	$\frac{4}{36}$	$\frac{4}{36}$	$\frac{6}{36}$
2	0	$\frac{1}{36}$	0	$\frac{3}{36}$	0	$\frac{5}{36}$

ג. $\frac{2}{3}$.

(5) א. להלן טבלה: ב. X ו- Y מתואמים.

$x \setminus y$	0	1	2	$P(y)$
0	0.1	0	0	0.1
1	0.2	0.4	0	0.6
2	0	0.2	0.1	0.3
$P(x)$	0.3	0.6	0.1	1

ה. $-\frac{2}{3}$.

ii. -1.

ד. i. $-\frac{2}{3}$.

הסתברות ב

פרק 7 - המשתנה המקרי הדו ממדי - קומבינציות ליניאריות

תוכן העניינים

1. כללי 37

המשתנה המקרי הדו ממדי – קומבינציות לינאריות:

רקע:

יהיו שני משתנים מקריים X ו- Y .
התוחלת והשונות של סכומם היא:

$$E(X+Y) = E(X) + E(Y)$$

$$V(X+Y) = V(X) + V(Y) + 2 \cdot \text{cov}(X, Y)$$

התוחלת והשונות של הפרשם היא:

$$E(X-Y) = E(X) - E(Y)$$

$$V(X-Y) = V(X) + V(Y) - 2 \cdot \text{cov}(X, Y)$$

קומבינציה ליניארית:

יוצרים משתנה חדש שהוא קומבינציה לינארית של שני משתנים אחרים:
 $W = (aX + b) + (cY + d)$. אזי:

$$\text{cov}[(aX + b), (cY + d)] = a \cdot c \cdot \text{cov}(X, Y)$$

$$E(W) = E((aX + b) + (cY + d)) = aE(X) + b + cE(Y) + d$$

$$V(W) = V((aX + b) + (cY + d)) = a^2V(X) + c^2V(Y) + 2 \cdot a \cdot c \cdot \text{cov}(X, Y)$$

דוגמה (פתרון בהקלטה):

- נתונים שני משתנים מקריים X ו- Y המקיימים:
 $\mu_X = 80$, $\sigma_X = 15$, $\mu_Y = 70$, $\sigma_Y = 20$, $\text{cov}(X, Y) = 200$
- מצאו את התוחלת והשונות של סכום המשתנים.
 - מצאו את התוחלת והשונות של X ו- Y .
 - מצאו את השונות ומה התוחלת של המשתנה $W = 2X + 3Y$.

שאלות:

(1) נתונה פונקציית ההסתברות המשותפת הבאה:

Y / X	1	2	3	$P(X)$
2		0.1	0.3	0.6
3	0.2		0.1	
$P(X)$				

- א. השלימו את ההסתברויות החסרות.
- ב. האם המשתנים תלויים?
- ג. האם המשתנים בלתי מתואמים?
- ד. חשבו את השונות המשותפת.
- ה. חשבו את התוחלת והשונות של סכום המשתנים.
- ו. חשבו את התוחלת והשונות של הפרש המשתנים.

(2) מבחן בנוי מחלק כמותי וחלק מילולי. תוחלת הציון בחלק הכמותי היא 100, עם סטיית תקן 20. תוחלת הציונים בחלק המילולי היא 90 עם סטיית תקן 15. מקדם המתאם בין הציון הכמותי לציון המילולי הוא 0.8.

- א. חשבו את השונות המשותפת בין הציון הכמותי לציון המילולי.
- ב. חשבו את התוחלת והשונות של סכום הציונים בחלק הכמותי ובחלק המילולי.
- ג. חשבו את התוחלת והשונות של הפרש הציונים בין החלק הכמותי לחלק המילולי.
- ד. עלות הבחינה 2000 שקלים. הוחלט לזכות שקל עבור כל נקודה שנצברה בחלק המילולי ושני שקלים עבור כל נקודה שנצברה בחלק הכמותי. מהי התוחלת ומהי השונות של עלות הבחינה נטו (העלות לאחר הזיכוי)?

(3) נתון: $\text{var}(X + 2Y) = 3$, $\text{var}(X - 2Y) = 2$.
חשבו: $\text{cov}(X, Y)$.

(4) מטילים קובייה n פעמים. נגדיר את המשתנים הבאים:
 $X =$ מספר הפעמים שהתקבלה התוצאה 6.
 $Y =$ מספר הפעמים שהתקבלה התוצאה 5.
 בטאו את השונות המשותפת באמצעות n .

תשובות סופיות:

(1) א. להלן טבלה: ב. תלויים. ג. מתואמים. ד. -0.1.

$x \setminus y$	1	2	3	$P(y)$
2	0.2	0.1	0.3	0.6
3	0.2	0.1	0.1	0.4
$P(x)$	0.4	0.2	0.4	1

- ה. תוחלת: 4.4, שונות: 0.84. ו. תוחלת: -0.4, שונות: 1.24.
- (2) א. 240. ב. תוחלת: 190, שונות: 1105.
- ג. תוחלת: 10, שונות: 145. ד. תוחלת: 1710, שונות: 2785.
- (3) -0.125.
- (4) $-\frac{n}{36}$.

הסתברות ב

פרק 8 - המשתנה המקרי הדו ממדי הבדיד - שאלות מסכמות

תוכן העניינים

1. שאלות מסכמות 40

המשתנה המקרי הדו ממדי הבדיד – שאלות מסכמות:

רקע:

משתנים בלתי תלויים:

יהיו משתנים X ו- Y . הם יהיו משתנים בלתי תלויים אם עבור כל X ו- Y אפשריים מתקיים: $p(x=k, y=l) = p(x=k) \cdot p(y=l)$.

מקדם המתאם:

$$\rho = \frac{\text{cov}(x, y)}{\sigma_x \cdot \sigma_y} : \text{מגדירים את מקדם המתאם}$$

שוונות משותפת:

מגדירים את השוונות המשותפת:

$$\text{cov}(x, y) = E[(x - \mu_x)(y - \mu_y)] = E(x \cdot y) - E(x) \cdot E(y)$$

תכונות של השוונות המשותפת:

$$. \text{cov}(X, Y) = \text{cov}(Y, X) \quad .1$$

$$. \text{cov}(X, X) = \text{var}(X) \quad .2$$

$$. \text{cov}[(aX + b), (cY + d)] = a \cdot c \cdot \text{cov}(X, Y) \quad .3$$

משתנים בלתי מתואמים:

משתנים בלתי מתואמים הם משתנים שמקדם המתאם שלהם אפס וכדי שדבר כזה יקרה השוונות המשותפת צריכה להתאפס.

השפעת טרנספורמציה לינארית על מקדם המתאם:

$$\rho[(aX+b), (cY+d)] = \begin{cases} \rho(X,Y) & \text{if } a \cdot c > 0 \\ -\rho(X,Y) & \text{if } a \cdot c < 0 \end{cases}$$

תוחלת ושונות של סכום משתנים:

$$E(X+Y) = E(X) + E(Y) \quad V(X+Y) = V(X) + V(Y) + 2 \cdot \text{cov}(X, Y)$$

קומבינציות לינאריות:

נגדיר קומבינציה ליניארית כללית באופן הבא: $W = (aX+b) + (cY+d)$
אזי מתקיים:

$$E(W) = E((aX+b) + (cY+d)) = aE(X) + b + cE(Y) + d$$

$$V(W) = V((aX+b) + (cY+d)) = a^2V(X) + c^2V(Y) + 2 \cdot a \cdot c \cdot \text{cov}(X, Y)$$

שאלות:

- (1) יש ליצור סיסמה בת 3 תווים. כל תו יכול להיבחר רק מתוך כלל התווים הבאים: $A, B, C, 1, 2$. יהי X מספר הפעמים שהספרה 1 מופיעה בסיסמה, ויהי Y מספר הפעמים שהספרה 1 מופיעה בקצה הסיסמה (שני הקצוות).
- זהו את ההתפלגויות השוליות של X ו- Y כהתפלגויות מיוחדות.
 - מצאו את ההתפלגות המשותפת של X ושל Y .
 - מצאו את מקדם המתאם בין X ל- Y .
 - מהו המתאם בין $2X$ ל- $3Y+5$?
- (2) במסיבת סוף שנה ישנו ארגז קרח ובתוכו 7 בקבוקי בירה: 4 "מכבי", 2 "גולדסטאר" ו-1 "טבורג". קרן לקחה 3 בקבוקי בירה באקראי מתוך ארגז הקרח. נסמן ב- X את מספר בקבוקי "מכבי" שנלקחו על ידי קרן, ונסמן ב- Y את מספר בקבוקי "טבורג" שנלקחו על ידי קרן.
- בנו את פונקציית ההסתברות המשותפת של X ושל Y .
 - חשבו את התוחלת והשונות של X ושל Y .
 - מצאו את השונות המשותפת של X ושל Y .
 - נגדיר את W כמספר בקבוקי ה"גולדסטאר" שנלקחו על ידי קרן. בטאו את W באמצעות X ו- Y , וחשבו את התוחלת והשונות של W על סמך התוצאות שהתקבלו בשני הסעיפים הקודמים בלבד.
 - מהו מקדם המתאם בין מספר בקבוקי "מכבי" שנלקחו על ידי קרן, למספר בקבוקים שאינם "מכבי" שנלקחו על ידי קרן?
- (3) במגירה 6 זוגות נעליים. יהודה הוציא מהמגירה 4 נעליים (לא בהכרח זוגות) באקראי. נסמן ב- W את מספר זוגות הנעליים שהוציא יהודה, ונסמן ב- R את מספר הנעליים השמאליות שהוציא יהודה.
- מצא את ההתפלגות המשותפת של המשתנים שהוצגו.
 - האם המשתנים שהוצגו בלתי תלויים?
 - מצא את התפלגות מספר הנעליים השמאליות שהוצאו אם בסך הכול הוצא זוג נעלים יחיד על ידי יהודה.
 - אם ידוע שהוצאו לפחות 3 נעליים שמאליות מה הסיכוי שהוצא לכל היותר זוג אחד?

- (4) בכד 5 כדורים כחולים, 4 כדורים לבנים ו-3 כדורים ירוקים. בוחרים באקראי וללא החזרה 3 כדורים. נגדיר את המשתנים הבאים:
- X - מקבל את הערך 1 אם נבחר לפחות כדור אחד כחול, ו-0 אחרת.
 Y - מספר הכדורים הלבנים שנבחרו.
- א. חשבו את $P(X=1)$.
- ב. בנו את פונקציית ההסתברות המשותפת של X ו- Y .
- ג. מה התוחלת של Y , אם ידוע שלא הוצאו כדורים כחולים?
- ד. מה השונות של X , אם ידוע שהוצא לכל היותר כדור לבן אחד?
- (5) ביום ההולדת הרביעי של טל הוא מחלק שלושה פרסים שונים באקראי ל-5 ילדים. בכל פעם שטל מחלק פרס הוא בוחר באקראי ילד מתוך ה-5 באופן אקראי ובלתי תלוי בבחירות הקודמות. נגדיר את המשתנים הבאים:
- X - מספר הפרסים שקיבלה יוליה.
 Y - מספר הילדים שלא קיבלו פרס.
- א. בנו את פונקציית ההסתברות המשותפת והשוליות של X ו- Y .
- ב. האם X ו- Y הם משתנים בלתי מתואמים?
- ג. מצאו את התוחלת של $X \cdot Y^2$.
- ד. מה מקדם המתאם בין מספר הפרסים שקיבלה יוליה, למספר הילדים שקיבלו פרס?
- (6) קבעו אילו מהטענות הבאות נכונות. נמקו.
- א. אם שני משתנים הם מתואמים, אזי הם תלויים.
 ב. אם שני משתנים הם תלויים, אזי הם מתואמים.
 ג. אם שני משתנים הם בלתי תלויים, אזי הם בלתי מתואמים.
 ד. אם שני משתנים הם בלתי מתואמים, אזי הם בלתי תלויים.
- (7) במקום עבודה 50 עובדים מתוכם 25 גברים ו-25 נשים. כל עובד נתבקש לבחור מתנה לחג. לכל עובד מוצגות 5 אופציות, מתוכן הוא צריך לבחור אחת. העובדים בוחרים מתנה באקראי ובאופן בלתי תלוי זה בזה.
- נסמן X_i - מספר הגברים שבחרו במתנה i .
 נסמן Y_i - מספר הנשים שבחרו במתנה i .
- א. האם X_1 ו- Y_1 הם משתנים בלתי תלויים? אין צורך לחשב רק להסביר.
 ב. האם X_1 ו- X_2 הם משתנים בלתי תלויים? אין צורך לחשב רק להסביר.
 ג. מהי ההתפלגות של $X_1 + X_2$?
 ד. האם המתאם בין X_1 ו- X_2 מלא או חלקי? חיובי או שלילי?
 אין צורך לחשב רק להסביר.

(8) הוכיחו את הזהות הבאה עבור שלושת המשתנים X, Y ו- Z :
 $\text{cov}(X+Y, Z) = \text{cov}(X, Z) + \text{cov}(Y, Z)$.

(9) מספר העלים שנושרים בסתיו מהעץ בגינה מתפלג פואסונית עם תוחלת של 50 עלים בדקה. נסמן ב- Y את מספר העלים שנושרים מהעץ בין 12:00 ל-12:10, ונסמן ב- Q את מספר העלים שנושרים בין 12:05 ל-12:30.
 א. חשבו את: $\text{cov}(4Y, Q+6)$.
 ב. מה המתאם בין Y ל- Q ?

(10) בסל יש 20 כדורים אדומים, 20 ירוקים ו-20 כחולים. מוציאים באקראי מהסל 20 כדורים. מצאו את מקדם המתאם בין מספר הכדורים האדומים שהוצאו למספר הכדורים הירוקים שהוצאו.

(11) נתון ש: $Y \sim B(1, p)$ כאשר $0 < p < 1$.
 הוכיחו שאם מתקיים: $P(X = x | Y = 0) = P(X = x | Y = 1)$ לכל X , אז X ו- Y הם משתנים בלתי תלויים.

(12) נתון ש- $X \sim B(n, p)$ וכן: $Y \sim B(m, p)$, שאינם תלויים זה בזה.
 הוכיחו שמתקיים: $X | X+Y = k \sim HG(n+m, n, k)$.

תשובות סופיות:

$$(1) \quad X \sim B\left(3, \frac{1}{5}\right), Y \sim B\left(2, \frac{1}{5}\right) \quad \text{א.}$$

ב. להלן טבלה: ג. 0.816 ג. ד. 0.816.

X/Y	0	1	2	3	P_Y
0	$\frac{64}{125}$	$\frac{16}{125}$	0	0	$\frac{80}{125}$
1	0	$\frac{32}{125}$	$\frac{8}{125}$	0	$\frac{40}{125}$
2	0	0	$\frac{4}{125}$	$\frac{1}{125}$	$\frac{5}{125}$
P_X	$\frac{64}{125}$	$\frac{48}{125}$	$\frac{12}{125}$	$\frac{1}{125}$	1

$$(2) \quad \text{א. להלן טבלה: ב. } E(X) = \frac{12}{7}, V(X) = \frac{24}{49}, E(Y) = \frac{3}{7}, V(Y) = \frac{12}{49}$$

X/Y	0	1	2	3	P_Y
0	0	$\frac{3}{35}$	$\frac{12}{35}$	$\frac{4}{35}$	$\frac{20}{35}$
1	$\frac{1}{35}$	$\frac{8}{35}$	$\frac{6}{35}$	0	$\frac{15}{35}$
P_X	$\frac{1}{35}$	$\frac{12}{35}$	$\frac{18}{35}$	$\frac{4}{35}$	1

$$\text{ג. } -\frac{8}{49} \quad \text{ד. } E(W) = \frac{6}{7}, V(W) = \frac{20}{49} \quad \text{ה. } -1$$

(3) א. להלן טבלה: ב. המשתנים תלויים.

R/W	0	1	2	P_R
0	$\frac{15}{495}$	0	0	$\frac{15}{495}$
1	$\frac{60}{495}$	$\frac{60}{495}$	0	$\frac{120}{495}$
2	$\frac{90}{495}$	$\frac{120}{495}$	$\frac{15}{495}$	$\frac{225}{495}$
3	$\frac{60}{495}$	$\frac{60}{495}$	0	$\frac{120}{495}$
4	$\frac{15}{495}$	0	0	$\frac{15}{495}$
P_W	$\frac{240}{495}$	$\frac{240}{495}$	$\frac{15}{495}$	1

ג. להלן טבלה: ד. 1.

$R/w = 1$	1	2	3
$P(R/w = 1)$	$\frac{1}{4}$	$\frac{2}{4}$	$\frac{1}{4}$

א. $\frac{185}{220}$ ב. להלן טבלה: ג. 1.714 ד. 0.071

X/Y	0	1	P_Y
0	$\frac{1}{220}$	$\frac{55}{220}$	$\frac{56}{220}$
1	$\frac{12}{220}$	$\frac{100}{220}$	$\frac{112}{220}$
2	$\frac{18}{220}$	$\frac{30}{220}$	$\frac{48}{220}$
3	$\frac{4}{220}$	0	$\frac{4}{220}$
P_X	$\frac{35}{220}$	$\frac{185}{220}$	1

א. להלן טבלה: ב. X ו- Y בלתי מתואמים. (5)

X/Y	0	1	2	3	P_Y
2	$\frac{24}{125}$	$\frac{36}{125}$	0	0	$\frac{60}{125}$
3	$\frac{36}{125}$	$\frac{12}{125}$	$\frac{12}{125}$	0	$\frac{60}{125}$
4	$\frac{4}{125}$	0	0	$\frac{1}{125}$	$\frac{5}{125}$
P_X	$\frac{64}{125}$	$\frac{48}{125}$	$\frac{12}{125}$	$\frac{1}{125}$	1

ג. 4.128 ד. 0.

א. נכון. ב. לא נכון. ג. נכון. ד. לא נכון. (6)

- 7) א. בלתי תלויים. ב. תלויים. ג. $x_1 + x_2 \sim B\left(n = 25, p = \frac{2}{5}\right)$.
- ד. חלקי ושלילי.
- 8) שאלת הוכחה.
- 9) א. 1000. ב. 0.316.
- 10) -0.5.
- 11) שאלת הוכחה.
- 12) שאלת הוכחה.

הסתברות ב

פרק 9 - קומבינציות לינאריות על התפלגות נורמלית

תוכן העניינים

1. כללי 48

קומבינציות לינאריות על התפלגות נורמלית:

רקע:

כל קומבינציה לינארית של משתנים המתפלגים נורמאלית – מתפלגת נורמאלית בעצמה.

דוגמה (פתרון בהקלטה):

הגובה של גברים במדינת ישראל מתפלג נורמלית עם תוחלת של 175 ס"מ וסטיית תקן של 10 ס"מ, וגובהן של הנשים במדינה מתפלג נורמלית עם תוחלת של 165 ס"מ וסטיית תקן של 8 ס"מ.
מה הסיכוי שגבר אקראי במדינה יהיה גבוה מאישה אקראית?

שאלות:

- (1) המשקל של גברים במדינת ישראל מתפלג נורמלית עם תוחלת של 75 ק"ג וסטיית תקן של 10 ק"ג, והמשקל של נשים במדינה מתפלג נורמלית עם תוחלת של 65 ק"ג וסטיית תקן של 8 ק"ג. מה הסיכוי שאישה אקראית תהיה בעלת משקל גבוה יותר מגבר אקראי?
- (2) ההוצאה השנתית על ביגוד לאדם מתפלגת נורמלית עם תוחלת של 3000 ₪ וסטיית תקן של 1000 ₪. ההוצאה השנתית על בילויים מתפלגת נורמלית עם תוחלת של 4000 ₪ וסטיית תקן של 1500 ₪. מקדם המתאם בין ההוצאה השנתית על ביגוד וההוצאה השנתית על בילויים הינו 0.6.
 א. מה התוחלת ומהי סטיית התקן של התפלגות ההוצאה השנתית הכוללת על ביגוד ובילוי?
 ב. מה הסיכוי שההוצאה השנתית הכוללת על ביגוד ובילוי תעלה על 8000 ₪?
 ג. מהו העשירון העליון של ההוצאה השנתית הכוללת על ביגוד ובילוי?
- (3) צריכת הירקות היומית במסעדה מתפלג נורמלית עם תוחלת של 50 ק"ג וסטיית תקן של 4 ק"ג. נתון שמחיר ק"ג ירק הוא 6 ₪ לקילו.
 א. מה התוחלת ומהי השונות של העלות היומית של ירקות למסעדה?
 ב. מה ההסתברות שהעלות היומית על ירקות תהיה נמוכה מ-290 ₪?
 ג. מהו האחוזון ה-40 של התפלגות העלות היומית של המסעדה על ירקות?
- (4) נפח יין בבקבוק מתפלג נורמלית עם תוחלת של 750 מ"ל וסטיית תקן של 20 מ"ל. אדם קנה מארז של 4 בקבוקי יין.
 א. מהי התוחלת ומהי סטיית התקן של נפח היין במארז.
 ב. את היין שבמארז האדם מזג לכלי שקיבולתו 3.1 ליטר. מה ההסתברות שהיין יגלוש מהכלי?
- (5) לדוד משה הייתה חווה. בחווה פרה ועיזה. תנובת החלב של הפרה מתפלג נורמלית עם ממוצע של 20 ליטר ביום וסטיית תקן של 5 ליטר ותנובת החלב של העזה מתפלג גם כן נורמלית עם ממוצע של 10 ליטר וסטיית תקן של 2 ליטר. כל ליטר חלב פרה נמכר ב-2 ₪ וליטר חלב עזה נמכר ב-3 ₪.
 א. מה הסיכוי שהפדיון היומי של דוד משה מחלב יהיה לפחות 62 ₪?
 ב. מה הסיכוי שמתוך 5 ימים יהיו לפחות 4 ימים בהם תנובת החלב מהפרה והעזה ביחד תהיה מתחת ל-30 ליטר?
 מה הסיכוי שביום מסוים תנובת הפרה תהיה נמוכה מתנובת העזה?

תשובות סופיות:

- (1) 0.2177
- (2) א. תוחלת: 7000, סטיית תקן: 2247 ב. 0.3264 ג. 0.9881
- (3) א. תוחלת: 300, שונות: 576 ב. 0.3372 ג. 0.294
- (4) א. תוחלת: 3000 מ"ל, סטיית תקן: 40 מ"ל. ב. 0.0062
- (5) א. 0.7549 ב. 0.1875 ג. 0.0314

הסתברות ב

פרק 10 - המשתנה המקרי הדו ממדי הרציף

תוכן העניינים

1. משתנה דו ממדי רציף..... 51

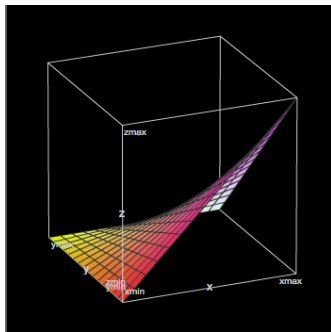
משתנה מקרי דו ממדי רציף:

רקע:

יהיו X ו- Y משתנים מקריים רציפים המוגדרים בתחום R מסוים. פונקציית הצפיפות המשותפת שלהם תסומן על ידי $f(x, y)$. פונקציית צפיפות משותפת צריכה לקיים את שני התנאים הבאים:

$$f(x, y) \geq 0 \quad \text{לכל } (x, y) \in R \quad (1)$$

$$\iint_R f(x, y) dx dy = 1 \quad (2)$$



דוגמה (פתרון בהקלטה):

$$f(x, y) = \begin{cases} 4x(1-y) & 0 \leq x, y \leq 1 \\ 0 & \text{else} \end{cases} : \text{נתונה הפונקציה}$$

הראו שפונקציה זו יכולה להיות פונקציית צפיפות משותפת.

פונקציית צפיפות שולית:

$$f(x) = \int_{-\infty}^{\infty} f(x, y) dy : \text{פונקציית הצפיפות השולית של } X \text{ תתקבל באופן הבא}$$

$$f(y) = \int_{-\infty}^{\infty} f(x, y) dx : \text{פונקציית הצפיפות השולית של } Y \text{ תתקבל באופן הבא}$$

דוגמה (פתרון בהקלטה):

$$f(x, y) = \begin{cases} 4x(1-y) & 0 \leq x, y \leq 1 \\ 0 & \text{else} \end{cases} : \text{מצאו לפונקציית הצפיפות}$$

את פונקציית הצפיפות השולית של X , וחשבו את $E(X)$ דרכה.

אי-תלות בין משתנים רציפים:

X ו- Y יהיו משתנים מקרים בלתי תלויים, אם עבור כל X ו- Y בתחום ההגדרה R מתקיים ש:

$$f(x, y) = f(x) \cdot f(y)$$

דוגמה (פתרון בהקלטה):

האם X ו- Y , המתפלגים לפי פונקציית הצפיפות המשותפת:

$$f(x, y) = \begin{cases} 4x(1-y) & 0 \leq x, y \leq 1 \\ 0 & \text{else} \end{cases}$$

הם משתנים בלתי תלויים?

חישוב הסתברויות עבור משתנה מקרי רציף דו ממדי:

הנפח הכלוא מתחת למשטח $f(x, y)$ בתחום מסוים ייתן את ההסתברות ש- X

$$Y \text{ יהיו בתחום הזה: } P[(x, y) \in A] = \iint_A f(x, y) dx dy$$

דוגמה (פתרון בהקלטה):

$$f(x, y) = \begin{cases} 4x(1-y) & 0 \leq x, y \leq 1 \\ 0 & \text{else} \end{cases} \text{ : משתנים מתפלגים לפי פונקציית הצפיפות:}$$

חשבו את הסיכוי: $P(X < 0.5 \cap Y < 0.5)$.

פונקציית התפלגות מצטברת משותפת:

פונקציית התפלגות מצטברת משותפת הינה פונקציה של שני משתנים רציפים המחזירה את הסיכוי שהמשתנים יהיו קטנים מערכים מסוימים:

$$F(s, t) = P(X \leq s \cap Y \leq t) = \int_{-\infty}^t \int_{-\infty}^s f(x, y) dx dy$$

דוגמה (פתרון בהקלטה):

$$f(x, y) = \begin{cases} 4x(1-y) & 0 \leq x, y \leq 1 \\ 0 & \text{else} \end{cases} \text{ : משתנים מתפלגים לפי פונקציית הצפיפות:}$$

מצאו את פונקציית ההתפלגות המצטברת המשותפת

ועל פיה חשבו את הסיכוי: $P(X < 0.5 \cap Y < 0.5)$.

פונקציית צפיפות מותנית:

אם ל- X ול- Y ישנה פונקציית צפיפות משותפת $f(x, y)$, אז מגדירים את פונקציית הצפיפות המותנית של X , בהינתן ש- $Y = y$ לכל ערכי y

$$. f(x|y) = \frac{f(x, y)}{f(y)} \quad : f(y) > 0 \text{ על ידי}$$

באופן דומה, פונקציית הצפיפות המותנית של Y בהינתן ש- $X = x$ לכל ערכי x

$$. f(y|x) = \frac{f(x, y)}{f(x)} \quad : f(x) > 0 \text{ על ידי}$$

דוגמה (פתרון בהקלטה):

$$. f(x, y) = \begin{cases} 4x(1-y) & 0 \leq x, y \leq 1 \\ 0 & \text{else} \end{cases} \quad : \text{משתנים מתפלגים לפי פונקציית הצפיפות}$$

. מצאו את: $f(x|y)$

תוחלת מותנית:

ל- X ול- Y ישנה פונקציית צפיפות משותפת $f(x, y)$.

$$. E(X|Y=y) = \int_{-\infty}^{\infty} x \cdot f(x|y) dx \quad : \text{התוחלת של } X \text{ בהינתן ש- } Y = y \text{ תהיה}$$

ובאופן דומה, התוחלת של Y בהינתן ש- $X = x$ תהיה:

$$. E(Y|X=x) = \int_{-\infty}^{\infty} y \cdot f(y|x) dy$$

דוגמה (פתרון בהקלטה):

$$. f(x, y) = \begin{cases} 4x(1-y) & 0 \leq x, y \leq 1 \\ 0 & \text{else} \end{cases} \quad : \text{משתנים מתפלגים לפי פונקציית הצפיפות}$$

. מצאו את: $E(X|Y)$

שאלות:

- (1) נתונה פונקציית הצפיפות הבאה: $f(x, y) = x + y$, המוגדרת בתחום שבו: $0 \leq x \leq 1$ וגם: $0 \leq y \leq 1$. הוכיחו שמדובר בפונקציית צפיפות.
- (2) נתונה פונקציית הצפיפות הבאה: $f(x, y) = Ax(x - y)$, המוגדרת בתחום שבו: $0 \leq x \leq 2$ וגם: $-x \leq y \leq x$. מצאו את ערכו של הפרמטר A .
- (3) נתונה פונקציית הצפיפות הבאה: $f(x, y) = \frac{(x \cdot y)^3 + x \cdot y}{C}$, המוגדרת בתחום שבו: $0 \leq x \leq 1$ וגם: $0 \leq y \leq 1$.
- א. מצאו את ערכו של C .
- ב. מצאו את $f(y)$.
- ג. האם X ו- Y הינם משתנים בלתי תלויים?
- (4) משתנה מקרי דו ממדי מתפלג לפי פונקציית הצפיפות הבאה: $f(x, y) = \frac{1}{800}$, המוגדרת בתחום שבו: $60 \leq x \leq y$ וגם: $60 \leq y \leq 100$.
- א. הראו שפונקציה זו מקיימת את התנאים של פונקציית צפיפות.
- ב. מצאו את פונקציית הצפיפות השולית של Y .
- ג. חשבו את $E(X)$, $V(X)$.
- ד. האם X ו- Y הם משתנים בלתי תלויים?
- ה. חשבו את מקדם המתאם בין X ל- Y .
- ו. חשבו את הסיכוי: $P(Y > X + 10)$.
- (5) משתנה מקרי דו ממדי מתפלג לפי פונקציית הצפיפות הבאה:
- $$f(x, y) = \lambda \mu \cdot e^{-(\lambda x + \mu y)}$$
- בתחום שבו: $x, y > 0$.
- א. מצאו את פונקציית הצפיפות של X ואת פונקציית הצפיפות של Y .
- ב. האם X ו- Y הם משתנים תלויים?
- ג. מהו מקדם המתאם בין X ל- Y ?
- ד. חשבו את הסיכוי: $P(Y > X)$.

(6) Y הינו משתנה מקרי אחיד רציף המתפלג בקטע: $[2, 4]$.

בנוסף, נתון ש- X הינו משתנה מקרי רציף המקיים: $0 \leq x \leq y$, $f(x|y) = \frac{2x}{y^2}$.
מצאו את השונות המשותפת של X ו- Y .

(7) נתונים שני משתנים מקרים רציפים X ו- Y . פונקציות הצפיפות

המשותפות שלהם היא: $f(x, y) = \begin{cases} x & 0 < y < 1 \\ 0 & \text{else} \end{cases}$ $1 - y \leq x \leq 1 + y$

א. מצאו את $f(x)$.

ב. מצאו את $f(y|x)$.

ג. מצאו את $E(Y|X)$.

(8) יהיו X ו- Y משתנים רציפים המתפלגים אחיד בתוך משולש

שקדקודיו: $(-1, 2)$, $(-1, 0)$, $(0, 1)$.

א. רשמו את פונקציית הצפיפות המשותפת.

ב. מצאו את פונקציית הצפיפות השולית של X ו- Y .

ג. חשבו את התוחלת של X ו- Y .

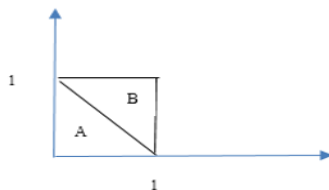
ד. האם X ו- Y משתנים בלתי מתואמים?

ה. האם X ו- Y משתנים בלתי תלויים?

(9) פונקציית צפיפות משותפת מקבלת ערך אחיד באופן הבא:

הצפיפות על פני משולש A הינה 1.5 והצפיפות על פני משולש B היא 0.5.

האם פונקציית הצפיפות המשותפת היא לגיטימית?



א. מצאו את $f(x)$.

ב. מצאו את $f(x|y)$.

(10) נתונה פונקציית הצפיפות המשותפת: $f(x, y) = cx$. פונקציה זו מוגדרת

בתחום שבו: $0 \leq x \leq 1$ וכן: $0 \leq y \leq x^2$.

א. מצאו את הקבוע C .

ב. חשבו את ההסתברות ש- $6Y < 1 - X$.

(11) נתונים X ו- Y שני משתנים מקריים רציפים כך ש: $Y \sim U(0,1)$

ו- $X|Y=y \sim U(0, \sqrt{y})$. חשבו את: $E(Y|X=0.5)$.

(12) נתונה פונקציית הצפיפות: $f(x, y) = 2e^{-x} \cdot e^{-2y}$ בתחום שבו: $x, y \geq 0$.

חשבו את הסיכוי: $P(X < Y)$.

(13) נתונה פונקציית הצפיפות המשותפת: $f(x, y) = \frac{e^{-y} \cdot e^{-\frac{x}{y}}}{y}$, המוגדרת לרביע

הראשון. חשבו את: $P(X > 1|Y = 2)$.

(14) יוסי וערן עובדים באותו המשרד. הם מגיעים לעבודה בכל יום בין 8:00 ל-9:00.

נניח שזמן ההגעה של כל אחד מתפלג אחיד ובאופן בלתי תלוי זה בזה.

מה הסיכוי שיוסי יצטרך לחכות לערן יותר מ-10 דקות?

(15) נתונים שני משתנים מקרים רציפים: $X \sim N(Y, 1)$ ו- $Y \sim U(0, 2)$.

א. מצאו את פונקציית הצפיפות המשותפת של X ו- Y .

ב. מצאו את $E(X^2|Y)$.

ג. מצאו את $E(X)$.

(16) פונקציית הצפיפות המשותפת של X ו- Y היא: $f(x, y) = 1$.

פונקציה זו מוגדרת בתחומי: $0 \leq x, y \leq 1$.

הוכיחו ש: $E(|X - Y|^n) = \frac{2}{(n+1)(n+2)}$.

(17) $X \sim \exp(1)$ וכן: $Y \sim \exp(1)$, הינם משתנים מקרים בלתי תלויים.

נגדיר את: $Z = \frac{X}{X+Y}$.

הוכיחו: $Z \sim U(0, 1)$.

תשובות סופיות:

(1) שאלת הוכחה.

(2) $A = \frac{1}{8}$.

(3) א. $\frac{5}{16}$ ב. $f(y) = 0.8y^3 + 1.6y$ ג. תלויים.

(4) א. שאלת הוכחה. ב. $f(y) = \frac{y-60}{800}$ ג. $E(X) = 73\frac{1}{3}$, $V(X) = 88\frac{8}{9}$.

ד. לא. ה. 0.5 ו. 0.5625

(5) א. $f(y) = \mu e^{-\mu y}$, $f(x) = \lambda e^{-\lambda x}$ ב. לא.

ג. 0. ד. $\frac{\lambda}{\lambda + \mu}$.

(6) $\frac{2}{9}$.

(7) א. $f(x) = \begin{cases} x^2 & 0 \leq x < 1 \\ 2x - x^2 & 1 \leq x \leq 2 \\ 0 & \text{else} \end{cases}$

$$E(y|x) = \begin{cases} 1 - \frac{x}{2} & 0 \leq x < 1 \\ \frac{x}{2} & 1 \leq x \leq 2 \\ 0 & \text{else} \end{cases} \quad \text{ג.}$$

$$f(y|x) = \begin{cases} \frac{1}{x} & 0 \leq x < 1 \quad 1 - x < y < 1 \\ \frac{1}{2-x} & 1 \leq x \leq 2 \quad x-1 < y < 1 \\ 0 & \text{else} \end{cases} \quad \text{ב.}$$

(8) א. $f(x, y) = \begin{cases} 1 & 1+x < y < 1-x-1 < x < 0 \\ 0 & \text{else} \end{cases}$

$$f(y) = \begin{cases} y & 0 \leq y < 1 \\ 2-y & 1 \leq y \leq 2 \\ 0 & \text{else} \end{cases}, \quad f(x) = \begin{cases} -2x & -1 < x < 0 \\ 0 & \text{else} \end{cases} \quad \text{ב.}$$

ג. $E(X) = -\frac{2}{3}$, $E(Y) = 1$ ד. כן.

ה. לא.

$$f(x) = \begin{cases} 1.5-x & 1 < x < 0 \\ 0 & \text{else} \end{cases} \quad \text{ב.} \quad \text{9 א. כן.}$$

$$f(x|y) = \begin{cases} \frac{1.5}{1.5-y} & 0 \leq x < 1-y \\ \frac{0.5}{1.5-y} & 1-y \leq x \leq 1 \\ 0 & \text{else} \end{cases} \quad \text{ג.}$$

$$\text{10 א. 4. ב. } 0.0947$$

$$\frac{7}{12} \quad \text{11}$$

$$\frac{1}{3} \quad \text{12}$$

$$e^{-\frac{1}{2}} \quad \text{13}$$

$$\frac{25}{72} \quad \text{14}$$

$$f(x, y) = \begin{cases} \frac{1}{2\sqrt{2\pi}} e^{-\frac{(x-y)^2}{2}} & 0 < y < 2 \\ 0 & \text{else} \end{cases} \quad \text{א. 15}$$

$$\text{ב. } y^2 + 1$$

$$\text{ג. 1.}$$

16 שאלת הוכחה.

17 שאלת הוכחה.

הסתברות ב

פרק 11 - התפלגות הדגימה ומשפט הגבול המרכזי

תוכן העניינים

1. התפלגות ממוצע המדגם ומשפט הגבול המרכזי 59
2. התפלגות סכום תצפיות בלתי תלויות ומשפט הגבול המרכזי 67
3. התפלגות מספר ההצלחות במדגם - קירוב נורמלי להתפלגות הבינומית 70
4. התפלגות פרופורציית ההצלחות במדגם 75
5. חוק המספרים הגדולים 79

התפלגות ממוצע המדגם ומשפט הגבול המרכזי:

רקע:

בפרק זה נדון בהתפלגות של ממוצע המדגם: $\bar{x} = \frac{\sum x_i}{n}$

מכיוון שממדגם למדגם אנו יכולים לקבל ממוצע מדגם שונה, אזי ממוצע המדגם הוא משתנה מקרי ויש לו התפלגות.

גדלים המתארים התפלגות כלשהי או אוכלוסייה כלשהי נקראים פרמטרים.

להלן רשימה של פרמטרים החשובים לפרק זה:

ממוצע האוכלוסייה נסמן ב- μ (נקרא גם תוחלת).

שונות אוכלוסייה נסמן ב- σ^2 .

סטיית תקן של אוכלוסייה: σ .

תכונות התפלגות:

ממוצע כל ממוצעי המדגם האפשריים שווה לממוצע האוכלוסייה: $E(\bar{x}) = \mu_x = \mu$.

שונות כל ממוצעי המדגם האפשריים שווה לשונות האוכלוסייה מחולק ב- n .

תכונה זו נכונה רק במדגם מקרי: $V(\bar{x}) = \sigma_x^2 = \frac{\sigma^2}{n}$.

יש יחס הפוך בין גודל המדגם לבין שונות ממוצעי המדגם.

אם נוציא שורש לשונות נקבל סטיית תקן של ממוצע המדגם שנקראת גם

טעות תקן: $\sigma(\bar{x}) = \sqrt{\frac{\sigma^2}{n}} = \frac{\sigma}{\sqrt{n}}$.

דוגמה (פתרון בהקלטה):

השכר הממוצע במשק הינו 9000 ₪ עם סטיית תקן של 4000. דגמו באקראי 25 עובדים.

א. מיהי אוכלוסיית המחקר? מהו המשתנה הנחקר?

ב. מהם הפרמטרים של האוכלוסייה?

ג. מה התוחלת ומהי סטיית התקן של ממוצע המדגם?

דגימה מהתפלגות נורמאלית:

אם נדגום מתוך אוכלוסייה שהמשתנה בה מתפלג נורמאלית עם ממוצע μ ושונות σ^2 .

$$\bar{x} \sim N\left(\mu, \frac{\sigma^2}{n}\right), \quad Z_{\bar{x}} = \frac{\bar{x} - \mu}{\frac{\sigma}{\sqrt{n}}}$$

ממוצע המדגם גם יתפלג נורמאלית:

דוגמה (פתרון בהקלטה):

משקל תינוק ביום היוולדו מתפלג נורמאלית עם ממוצע 3400 גרם וסטיית תקן של 400 גרם. מה ההסתברות שבמדגם של 4 תינוקות אקראיים בעת הולדתם המשקל הממוצע של התינוקות יהיה מתחת ל-3.5 ק"ג?

משפט הגבול המרכזי:

אם אוכלוסייה מתפלגת כלשהו עם ממוצע μ ושונות σ^2 אזי עבור מדגם מספיק

$$\bar{x} \rightsquigarrow N\left(\mu, \frac{\sigma^2}{n}\right) \quad (n \geq 30)$$

ממוצע המדגם מתפלג בקירוב נורמאלי:

דוגמה (פתרון בהקלטה):

משקל חפיסת שוקולד בקו ייצור מתפלג עם ממוצע 100 גרם וסטיית תקן של 4 גרם. דגמו מקו הייצור 36 חפיסות שוקולד אקראיות. מה ההסתברות שהמשקל הממוצע של חפיסות השוקולד שנדגמו יהיה מתחת ל-102 גרם?

שאלות:

- (1) מתוך כלל הסטודנטים במכללה שסיימו סטטיסטיקה א נדגמו שני סטודנטים. נתון שממוצע הציונים של כלל הסטודנטים היה 78 עם סטיית תקן של 15.
- מיהי האוכלוסייה?
 - מה המשתנה?
 - מהם הפרמטרים?
 - מהו גודל המדגם?
 - מהו תוחלת ממוצע המדגם?
 - מהי טעות התקן?

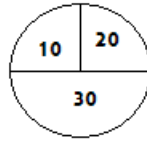
- (2) להלן התפלגות מספר מקלטי הטלויזיה למשפחה בישוב מסוים:

מספר משפחות	מספר מקלטים
500	0
2500	1
3500	2
3000	3
500	4
סך הכול $N = 10000$	

- בנו את פונקציית ההסתברות של X .
 - חשבו את התוחלת, השונות וסטיית התקן של X .
 - אם נדגום 4 משפחות מהישוב עם החזרה מה תהיה התוחלת, מהי השונות ומהי סטיית התקן של ממוצע המדגם?
- (3) אם נטיל קובייה פעמיים ונתבונן בממוצע התוצאות שיתקבלו, מה תהיה התוחלת ומה תהיה סטיית התקן של ממוצע זה?
- (4) משקל תינוק ביום היוולדו מתפלג נורמאלית עם ממוצע 3400 גרם וסטיית תקן של 400 גרם.
- מה ההסתברות שתינוק אקראי בעת הלידה ישקול פחות מ-3800 גרם? נתון כי ביום מסוים נולדו 4 תינוקות.
 - מה ההסתברות שהמשקל הממוצע שלהם יעלה על 4 ק"ג?
 - מה ההסתברות שהמשקל הממוצע של התינוקות יהיה מתחת ל-2.5 ק"ג?
 - מה ההסתברות שהמשקל הממוצע של התינוקות יהיה רחוק מהתוחלת בלא יותר מ-50 גרם?
 - הסבירו ללא חישוב כיצד התשובה לסעיף הקודם הייתה משתנה אם היה מדובר על יותר מ-4 תינוקות?

- (5) הגובה של המתגייסים לצה"ל מתפלג נורמאלית עם תוחלת של 175 ס"מ וסטיית תקן של 10 ס"מ. ביום מסוים התגייסו 16 חיילים.
- מה ההסתברות שהגובה הממוצע שלהם יהיה לפחות 190 ס"מ?
 - מה ההסתברות שהגובה הממוצע שלהם יהיה בדיוק 180 ס"מ?
 - מה ההסתברות שהגובה הממוצע שלהם יסטה מתוחלת הגבהים בפחות מ-5 ס"מ?
 - מהו הגובה שבהסתברות של 90% הגובה הממוצע של המדגם יהיה נמוך ממנו?
- (6) הזמן הממוצע שלוקח לאדם להגיע לעבודתו 30 דקות עם שונות של 16 דקות רבועות. האדם נוסע לעבודה במשך שבוע 5 פעמים.
- לצורך הפתרון הניחו שזמן הנסיעה לעבודה מתפלג נורמאלית.
- מה ההסתברות שבמשך שבוע משך הנסיעה הממוצע יהיה מעל 33 דקות?
 - מהו הזמן שבהסתברות של 90% ממוצע משך הנסיעה השבועי יהיה גבוה ממנו?
 - מה ההסתברות שממוצע משך הנסיעה השבועי יהיה מרוחק מ-30 דקות בלפחות 2 דקות?
 - כיצד התשובה לסעיף הקודם הייתה משתנה אם האדם היה נוסע לעבודה 6 פעמים בשבוע?
- (7) נפח היין בבקבוק מתפלג נורמאלית עם תוחלת של 750 סמ"ק וסטיית תקן של 10 סמ"ק.
- בארגו 4 בקבוקי יין. מה ההסתברות שהנפח הממוצע של הבקבוקים בארגו יהיה בדיוק 755 סמ"ק?
 - בארגו 4 בקבוקי יין. מה ההסתברות שהנפח הממוצע של הבקבוקים בארגו יהיה יותר מ-755 סמ"ק?
 - בארגו 4 בקבוקי יין. מה ההסתברות שהנפח הממוצע של הבקבוקים בארגו יהיה לפחות 755 סמ"ק?
 - בקבוקי היין שבארגו נמזגים לקערה עם קיבולת של שלושה ליטר. מה ההסתברות שהיין יגלוש מהקערה?
- (8) משתנה מתפלג נורמאלית עם תוחלת של 80 וסטיית תקן 4.
- מה ההסתברות שממוצע המדגם יסטה מתוחלתו בלא יותר מיחידה כאשר גודל המדגם הוא 9?
 - מה ההסתברות שממוצע המדגם יסטה מתוחלתו בלא יותר מיחידה שגודל המדגם הוא 16?
 - הסבר את ההבדל בתשובות של שני הסעיפים.

9) בקזינו ישנה רולטה. על הרולטה רשומים המס' הבאים כמוראה בשרטוט:



אדם מסובב את הרולטה וזוכה בסכום הרשום על הרולטה.

- א. בנו את פונקציית ההסתברות של סכום הזכייה במשחק בודד.
- ב. מה התוחלת ומה השונות של סכום הזכייה?
- ג. אם האדם ישחק את המשחק 5 פעמים מה התוחלת ומה השונות של ממוצע סכום הזכייה בחמשת המשחקים?
- ד. אם האדם משחק את המשחק 50 פעם מה ההסתברות שבסה"כ יזכה ב-1050 ₪ ומעלה?

10) לפי הערכות הלשכה המרכזית לסטטיסטיקה השכר הממוצע במשק הוא 8000 ₪ עם סטיית תקן של 3000 ₪. מה ההסתברות שבמדגם מקרי של 100 עובדים השכר הממוצע יהיה יותר מ-8500 ₪?

11) קובייה הוטלה 50 פעמים. מה ההסתברות שהממוצע של התוצאות יהיה לפחות 3.72?

- 12) אורך צינור שמפעל מייצר הינו עם ממוצע של 70 ס"מ וסטיית תקן של 10 ס"מ.
- א. נלקחו באקראי 100 מוטות, מה ההסתברות שממוצע אורך המוטות יהיה בין 68 ל 78 ס"מ?
 - ב. יש לחבר 2 בניינים באמצעות מוטות. המרחק בין שני הבניינים הינו 7200 ס"מ. מה ההסתברות ש-100 המוטות יספיקו למלאכה?
 - ג. מה צריך להיות גודל המדגם המינימאלי, כדי שבהסתברות של 5% ממוצע המדגם יהיה קטן מ-69 ס"מ. היעזרו במשפט הגבול המרכזי.

13) נתון משתנה מקרי בדיד בעל פונקציית ההסתברות הבאה:

2	4	6	8	X
$\frac{1}{4}$	$\frac{1}{4}$	$\frac{1}{4}$	$\frac{1}{4}$	$P(X)$

מתוך התפלגות זו נלקח מדגם מקרי בגודל 50. מה הסיכוי שממוצע המדגם יהיה קטן מ-5?

14 נתון ש- $X \sim N(\mu, \sigma^2)$. דגמו 5 תצפיות מאותה התפלגות והתבוננו במוצע

המדגם \bar{X} . לכן: $P(\bar{X} > \mu)$ יהיה (בחרו בתשובה הנכונה):

- א. 0.
- ב. 0.5.
- ג. 1.
- ד. לא ניתן לדעת.

15 נתון ש- X מתפלג כלשהו עם תוחלת: μ ושונות σ^2 . החליטו לבצע מדגם בגודל 200 מתוך ההפלגות הנתונה לפי משפט הגבול המרכזי מתקיים (בחרו בתשובה הנכונה):

- א. $X \sim N\left(\mu, \frac{\sigma^2}{200}\right)$.
- ב. $\mu \sim N\left(\mu, \frac{\sigma^2}{200}\right)$.
- ג. $\bar{X} \sim N(\mu, \sigma^2)$.
- ד. $\bar{X} \sim N\left(\mu, \frac{\sigma^2}{200}\right)$.

16 נתון ש- $X \sim N(\mu, \sigma^2)$. אם נדגום n תצפיות מתוך ההתפלגות ונגדיר: $\bar{X} = \frac{\sum_{i=1}^n X_i}{n}$,

אזי (בחרו בתשובה הנכונה):

- א. μ ו- \bar{X} יהיו משתנים מקריים.
- ב. μ יהיה משתנה מקרי ו- \bar{X} קבוע.
- ג. \bar{X} יהיה משתנה מקרי ו- μ קבוע.
- ד. μ ו- \bar{X} יהיו קבועים.

17 משקל חפיסת שוקולד בקו ייצור מתפלג עם ממוצע 100 גרם. החפיסות נארזות בקרטון המכיל 36 חפיסות שוקולד אקראיות. ההסתברות שהמשקל הממוצע של חפיסות השוקולד בקרטון יהיה מעל 99 גרם הוא 0.9932.

- א. מהי סטיית התקן של משקל חפיסת שוקולד בודדת?
- ב. מה הסיכוי שמתוך 4 קרטונים בדיוק קרטון אחד יהיה עם משקל ממוצע לחפיסה הנמוך מ-100 גרם?

18 משתנה מקרי כלשהו מתפלג עם סטיית תקן של 20. מה הסיכוי שאם נדגום 100 תצפיות בלתי תלויות מאותה התפלגות אזי ממוצע המדגם יסטה מתוחלתו בפחות מ-2?

19 מספר המכונות הנכנסות לחניון "בציר" במשך היום מתפלג פואסונית עם קצב של מכונית אחת לדקה. שומר מסר נתונים על מספר המכונות שנכנסות בכל שעה לגבי 40 שעות שאסף נתונים. מה ההסתברות שממוצע מספר המכונות שנכנסו לחניון לשעה בשעות אלה יהיה לפחות 63?

20 הוכיחו שאם משתנה מתפלג כלשהו עם תוחלת μ ושונות σ^2 , ומבצעים מדגם בגודל n של תצפיות בלתי תלויות מהמשתנה, אזי מתקיימות התכונות הבאות

$$E(\bar{x}) = \mu \text{ ו- } V(\bar{x}) = \frac{\sigma^2}{n}.$$

תשובות סופיות:

- (1) א. כלל הסטודנטים במכללה שסיימו סטטיסטיקה א. ב. ציון.
 ג. ממוצע: 78, סטיית תקן: 15.
 ד. 2.
 ה. 78.
 ו. 10.6.

(2) א. להלן טבלה:

4	3	2	1	0	X
0.05	0.3	0.35	0.25	0.05	$P(X)$

- ב. $\sigma = 0.973$, $\sigma^2 = 0.9475$, $\mu = 2.05$
 ג. $\sigma(\bar{X}) = 0.486$, $\sigma_{\bar{x}}^2 = 0.2369$, $\mu_{\bar{x}} = 2.05$

(3) $\sigma(\bar{X}) = 1.21$, $\mu_{\bar{x}} = 3.5$

- (4) א. 0.8413 ב. 0.0013
 (5) א. 0 ב. 0
 (6) א. 0.0465 ב. 27.71
 (7) א. 0 ב. 0.1587
 (8) א. 0.5468 ב. 0.6826
 (9) א. להלן טבלה:

30	20	10	X
0.5	0.25	0.25	$P(X)$

- ב. התוחלת: 22.5, השונות: 68.75.
 ג. התוחלת: 22.5, השונות: 13.75.
 ד. 0.8997
 (10) 0.0475
 (11) 0.1814
 (12) א. 0.9772 ב. 0.0228 ג. 271
 (13) 0.5
 (14) ב'
 (15) ד'
 (16) ג'
 (17) א. 2.429 ב. 0.25
 (18) 0.6826
 (19) 0.0071
 (20) שאלת הוכחה.

התפלגות סכום תצפיות בלתי תלויות ומשפט הגבול המרכזי:

רקע:

כעת נדון בסטטיסטי המבטא את סכום התצפיות במדגם: $T = \sum_{i=1}^n X_i$.
 כאשר כל התצפיות נדגמו באקראי מאותה אוכלוסייה, כלומר, היו: X_1, \dots, X_n -
 משתנים מקריים בלתי תלויים בעלי התפלגות זהה שתוחלתה μ ושוונתה σ^2 אזי:
 התוחלת והשוונות של סכום התצפיות: $E(T) = n\mu$, $V(T) = n\sigma^2$.

דגימה מתוך התפלגות נורמלית:

אם: $X \sim N(\mu, \sigma^2)$, אזי: $Z = \frac{T - n\mu}{\sqrt{n\sigma^2}}$, $T \sim N(n\mu, n\sigma^2)$

משפט הגבול המרכזי:

אם X מתפלג כלשהו וידוע כי: $E(X) = \mu$, $V(X) = \sigma^2$, אזי עבור מדגם מספיק גדול (לפחות 30): $T \rightsquigarrow N(n\mu, n\sigma^2)$

דוגמה (פתרון בהקלטה):

- בעיר מסוימת המשכורת הממוצעת של עובד הינה 8000 ₪. עם סטיית תקן של 2000 ₪. נדגמו 100 עובדים מהעיר שמפקידים את משכורתיהם לסניף בנק.
- מה התוחלת וסטיית התקן של סך המשכורות שיופקדו לסניף הבנק על ידי העובדים הללו?
 - מה ההסתברות שלסניף יופקד פחות מ-780 אלף ₪ ע"י אותם עובדים?

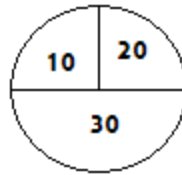
שאלות:

- (1) המשקל באוכלוסייה מסוימת מתפלג נורמאלית עם תוחלת של 60 ק"ג וסטיית תקן של 10 ק"ג.
- א. מה הסיכוי שאדם אקראי מהאוכלוסייה ישקול מתחת ל-65 ק"ג?
 ב. מה הסיכוי שהמשקל הממוצע של 4 אנשים אקראיים יהיה מתחת ל-65 ק"ג?
 ג. מה הסיכוי שהמשקל הכולל של 4 אנשים אקראיים יהיה מתחת ל-240 ק"ג?
- (2) נפח יין בבקבוק מתפלג נורמאלית עם תוחלת של 750 מ"ל וסטיית תקן של 20 מ"ל. אדם קנה מארז של 4 בקבוקי יין.
- א. מהי התוחלת ומהי סטיית התקן של נפח היין במארז?
 ב. את היין שבמארז האדם מזג לכלי שקיבולתו 3.1 ליטר.
 מה ההסתברות שהיין יגלוש מהכלי?
 ג. אם לא היה נתון שנפח היין מתפלג נורמאלית. האם התשובה לסעיף א' הייתה משתנה? האם התשובה לסעיף ב' הייתה משתנה?
- (3) בספר כלשהו 500 עמודים. קצב הקריאה הממוצע הוא עמוד אחד ב-4 דקות עם סטיית תקן של 1 דקות.
- א. מה ההסתברות לסיים את הפרק הראשון (40 עמודים) תוך שעתיים וחצי?
 ב. מהו האחוזון ה-95 לזמן סיום קריאת הספר?
- (4) במגדל נבנו 40 יחידות דיור. כמו כן נבנו 135 מקומות חנייה לבניין. להלן פונקציית ההסתברות של מספר המכוניות ליחידת דיור:

x	1	2	3	4	5
$P(X = x)$	0.1	0.2	0.3	0.25	0.15

- נניח שמספר המכוניות ליחידת דיור בלתי תליות זו בזו ועם אותה פונקציית ההסתברות לכל יחידת דיור (אין צורך בתיקון רציפות).
- א. מהי ההסתברות שיהיה מקום בחניון המגדל לכל מכוניות הבניין?
 ב. בהינתן ויש מקום במגדל לכל המכוניות, מה הסיכוי שבפועל מספר המכוניות נמוך מ-130?

5) בקזינו ישנה רולטה עליה מסומנים המספרים הבאים:



אדם מסובב את הרולטה וזוכה בסכום הרשום.

א. אם האדם משחק 50 פעמים, מה ההסתברות שבסך הכול יזכה בסכום של 1050 ₪ ומעלה?

ב. האדם מגיע בכל יום לקזינו ומשחק 50 פעם, עד אשר מגיע היום בו הוא יזכה ב-1050 ₪ ומעלה. מה התוחלת ומהי השונות של מספר הימים שיבלה בקזינו?

6) נתון ש- $X_i \sim \exp(\lambda=1)$, כאשר: $i = 1, 2, \dots, 100$.

$$\text{חשבו את הסיכוי: } P\left(\sum_i X_i \geq 115\right)$$

7) אורך חיי סוללה (בשעות) הוא בעל פונקציית הצפיפות הבאה: $0 < x < 1$, $f(x) = 2x$. ברגע שסוללה מתרוקנת מחליפים אותה במיידית בסוללה אחרת. כמה סוללות יש להחזיק במלאי אם רוצים שבסיכוי של 90% לפחות המלאי יספיק עבור 35 שעות לפחות?

תשובות סופיות:

1) א. 0.6915 ב. 0.8413 ג. 0.5

2) א. תוחלת: 3000 מ"ל, סטיית תקן: 40 מ"ל. ב. 0.0062.

ג. סעיף א' - לא משתנה, סעיף ב' - לא פתיר, התבסס על התפלגות נורמלית.

3) א. 0.0571 ב. 2036.8

4) א. 0.883 ב. 0.7949

5) א. 0.8997 ב. תוחלת 1.111, שונות 0.1239

6) 0.0668

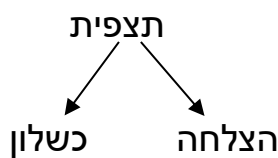
7) 56

התפלגות מספר ההצלחות במדגם – קירוב נורמלי להתפלגות הבינומית:

רקע:

תזכורת על התפלגות בינומית:

בפרק זה נדון בהתפלגות מספר ההצלחות במדגם אקראי (תצפיות בלתי תלויות זו בזו). את מספר ההצלחות במדגם נסמן ב- Y . מחלקים כל תצפית במדגם להצלחה או כישלון.



כעת מה שמשתנה מתצפית לתצפית הוא משתנה דיכוטומי (משתנה שיש לו שני ערכים). הסיכוי להצלחה יסומן עם הפרמטר p וכישלון יסומן ע"י הפרמטר: $q = 1 - p$. מבצעים מדגם אקראי בגודל n : $Y \sim B(n, p)$.

פונקציית ההסתברות של ההתפלגות הבינומית היא: $p(y = k) = \binom{n}{k} p^k q^{n-k}$,

תוחלת: $E(y) = np$.

שונות: $V(y) = npq$.

קירוב נורמלי עבור התפלגות בינומית:

אם לפנינו התפלגות בינומית: $Y \sim B(n, p)$, ומתקיים ש:

$$1. n \cdot p \geq 5$$

$$2. n \cdot (1 - p) \geq 5$$

$$y \rightsquigarrow N(np, npq)$$

$$\cdot Z_y = \frac{y - np}{\sqrt{npq}} \quad \text{אז}$$

תיקון רציפות:

כאשר משתמשים בקירוב הנורמלי להתפלגות הבינומית יש לבצע תיקון רציפות. הסיבה שעוברים כאן מהתפלגות בדידה להתפלגות נורמלית שהיא התפלגות רציפה. על פי הכללים הבאים:

$$1. \quad p(Y = a) \cong p\left(a - \frac{1}{2} \leq Y \leq a + \frac{1}{2}\right)$$

$$2. \quad P(Y \leq a) \cong P(Y \leq a + 0.5)$$

$$3. \quad P(Y \geq a) \cong P(Y \geq a - 0.5)$$

הערות:

- התנאים למעבר מבינומי לנורמלי הם נזילים, כלומר משתנים ממרצה אחד לשני. התנאי שהצגתי כאן הוא הפופולרי ביותר:

$$1. \quad n \cdot p \geq 5$$

$$2. \quad n \cdot (1 - p) \geq 5$$

- ישנם מרצים שנותנים את התנאי המחמיר הבא:

$$1. \quad n \cdot p \geq 10$$

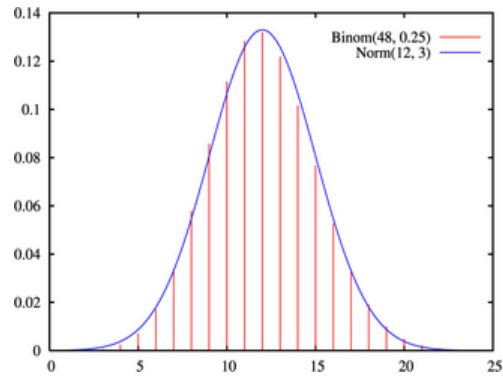
$$2. \quad n \cdot (1 - p) \geq 10$$

- וישנם מרצים שהתנאי שהם נותנים הוא: $(n \geq 30)$.
- תאלצו לבדוק מהו התנאי שנתנו לכם בכיתה כדי לעבור מהתפלגות בינומית לנורמלית.
- הערה נוספת היא לגבי תיקון רציפות. ישנם מרצים שלא מחייבים לבצע תיקון רציפות שהמדגמים גדולים (בדרך כלל מעל 100 תצפיות) בפתרונות שאציג תמיד אבצע תיקון רציפות במעבר מבינומי לנורמלי כיוון שכך הפתרון יהיה יותר מדויק (בכל מקרה שהמדגמים גדולים העניין זניח).

דוגמה (הפתרון בהקלטה):

נתון שבקרב אוכלוסיית הנוער 25% זקוקים למשקפיים. נדגמו באקראי 48 בני נוער.

1. מה הסיכוי שבדיוק 14 מתוכם יהיו זקוקים למשקפיים?
2. מה הסיכוי שלכל היותר 13 מתוכם זקוקים למשקפיים?



שאלות:

- (1) נתון ש-20% מאוכלוסייה מסוימת אקדמאית. נבחרו באקראי 10 אנשים באותה אוכלוסייה.
- א. מה ההסתברות ששלושה מהם אקדמאים?
 ב. מה ההסתברות שלכל היותר אחד מהם אקדמאי?
 ג. מה התוחלת ומהי סטיית התקן של מספר האקדמאים במדגם?
- (2) במפעל 10% מהמוצרים פגומים. נלקחו 100 מוצרים באקראי מקו הייצור.
- א. מה ההסתברות שנדגמו לפחות 6 מוצרים פגומים?
 ב. מה ההסתברות שמספר המוצרים הפגומים יהיה לכל היותר 11 במדגם?
- (3) ציוני פסיכומטרי בקרב הנרשמים למוסד מסוים מתפלגים נורמאלית עם ממוצע 500 וסטיית תקן 100. למוסד מסוים הוחלט לקבל אך ורק סטודנטים שקיבלו מעל 600 בפסיכומטרי. 100 סטודנטים אקראיים נרשמו למוסד. מה ההסתברות שלפחות 20 יתקבלו?
- (4) מטילים מטבע 50 פעמים.
- א. מה ההסתברות לקבל לכל היותר 30 עצים?
 ב. מה ההסתברות לקבל 28 עצים לפי התפלגות הבינומית ולפי הקירוב הנורמאלי?
- (5) במטוס מקום ל-400 נוסעים. נרשמו לטיסה 430 אנשים (overbooking). מנתונים סטטיסטיים ידוע שהסיכוי שאדם שנרשם לטיסה אך יגיע הוא 0.9.
- א. מה ההסתברות שלא יהיו מקומות ישיבה לכל האנשים שהגיעו לטיסה?
 ב. מה צריך להיות גודל המטוס כדי שבסיכוי שלפחות 95% המטוס יספיק לכמות הנרשמים?
- (6) מפעל לייצור ארטיקים טוען שהסיכוי שארטיק שהוא מייצר יהיה פגום הוא 0.01. מוכר הזמין 1000 ארטיקים מהמפעל. מה ההסתברות שהמוכר יקבל לפחות 980 ארטיקים תקינים אם טענת המפעל מוצדקת?
- (7) מהמר מטיל קובייה הוגנת 100 פעמים. בכל הטלה, אם מתקבל תוצאה זוגית בקובייה המהמר זוכה בשקל. אחרת, המהמר משלם שקל. המהמר הטיל את הקובייה 100 פעמים מה הסיכוי שהרווח של המהמר יהיה לכל היותר 10?

תשובות סופיות:

- | | | | |
|-----------------------------------------------|------------|------------|----|
| ג. התוחלת: 2, סטיית התקן: 1.2649. | ב. 0.3758. | א. 0.201. | (1 |
| | ב. 0.6915. | א. 0.9332. | (2 |
| | | 0.1611. | (3 |
| ב. בינומית - 0.0788, קירוב לנורמלית - 0.0778. | ב. 0.9406. | א. 0.9406. | (4 |
| | ב. 0.398. | א. 0.015. | (5 |
| | | 0.9996. | (6 |
| | | 0.8643. | (7 |

התפלגות פרופורציית ההצלחות במדגם:

רקע:

בפרק זה נדון בהתפלגות הדגימה של פרופורציית המדגם.
 Y - מספר ההצלחות במדגם (למשל, מספר המובטלים במדגם).

$$\hat{p} = \frac{Y}{n} \text{ - פרופורציית ההצלחות במדגם.}$$

למשל, שיעור המובטלים במדגם - $n = 200$:

מספר המובטלים : $Y = 20$.

$$\hat{p} = \frac{20}{200} = 0.1 \text{ : פרופורציית המובטלים במדגם}$$

נסמן ב- p את שיעור ההצלחה באוכלוסייה וב- q את שיעור הכישלונות באוכלוסייה.
 נבצע מדגם מקרי (הנחה שהתצפיות בלתי תלויות זו בזו) ונתבונן בהתפלגות של פרופורציית המדגם.

התוחלת, השונות וסטיית התקן של פרופורציית המדגם:

$$E(\hat{p}) = p, \quad V(\hat{p}) = \frac{pq}{n}$$

משפט הגבול המרכזי עבור הפרופורציה המדגמית:

$$\text{אם: } np \geq 5 \text{ \& } nq \geq 5, \text{ אזי: } \hat{p} \sim N\left(p, \frac{pq}{n}\right) \cdot Z_{\hat{p}} = \frac{\hat{p} - p}{\sqrt{\frac{pq}{n}}}$$

הערות:

- התנאים לקרוב הנורמאלי הם נזילים, כלומר משתנים ממרצה אחד לשני.
 התנאי שהצגתי כאן הוא הפופולרי ביותר:
 1. $n \cdot p \geq 5$
 2. $n \cdot (1 - p) \geq 5$
- ישנם מרצים שנותנים את התנאי המחמיר הבא:
 1. $n \cdot p \geq 10$
 2. $n \cdot (1 - p) \geq 10$
- וישנם מרצים המשתמשים בתנאי: $(n \geq 30)$.
- תאלצו לבדוק מהו התנאי שנתנו לכם בכיתה כדי לעבור לנורמלית.

- כיוון שפרופורציה אינה חייבת להיות מספר שלם בהכרח לא נהוג לבצע כאן תיקון רציפות.

דוגמה (פתרון בהקלטה):

לפי נתוני משרד החינוך בעיר ירושלים ל-60% מתלמידי התיכון זכאים לתעודת בגרות. נדגמו 200 תלמידי תיכון.

- א. מה ההסתברות שהשכיחות היחסית (\hat{p}) של הזכאים לבגרות במדגם תעלה על 60%?
- ב. מה ההסתברות שפרופורציית הזכאים לבגרות במדגם תעלה על 70%?

שאלות:

- (1) במדינה מסוימת 10% מכלל האוכלוסייה הינם מובטלים. נדגמו באקראי 140 אנשים מהמדינה.
- מה התוחלת ומהי השונות של פרופורציות המובטלים שנדגמו?
 - מה ההסתברות שבמדגם לפחות 10% יהיו מובטלים?
 - מה ההסתברות שלכל היותר 9% מהמדגם יהיו מובטלים?
- (2) נניח כי 30% מהאוכלוסייה תומכים בהצעת חוק מסוימת. אם נדגום מהאוכלוסייה 200 איש. חשבו את ההסתברויות הבאות:
- לפחות 35% יתמכו בהצעת החוק במדגם.
 - לכל היות 25% יתמכו בהצעת החוק במדגם.
 - יותר מ-27% יתמכו בהצעת החוק במדגם.
- (3) לפי נתוני משרד התקשורת 40% מהאוכלוסייה מחזיקים בטלפון נייד מסוג "סמארטפון". נדגמו 400 אנשים מהאוכלוסייה.
- מה ההסתברות שבמדגם לכל היותר ל-40% יש סמארטפון?
 - מה ההסתברות שבמדגם לרוב יש סמארטפון?
 - מה ההסתברות שפרופורציית בעלי הסמארטפון במדגם תסטה מהפרופורציה באוכלוסייה בלא יותר מ-4%?
 - כיצד התשובה לסעיף הקודם הייתה משתנה אם הינו מגדילים את גודל המדגם?
- (4) נתון כי 80% מבתי האב מחוברים לאינטרנט. נדגמו 400 בתי אב אקראיים.
- מה ההסתברות שלפחות 340 מהם מחוברים לאינטרנט?
 - מה ההסתברות שפרופורציית המחברים לאינטרנט במדגם תסטה מהפרופורציה האמיתית ביותר מ-4%?
 - כמה בתי אב יש לדגום כדי שהסטייה בין הפרופורציה המדגמית לפרופורציה האמיתית לא תעלה על 3% בהסתברות של 90%?
 - מהו העשירון התחתון של התפלגות פרופורציית המדגם?
- (5) נתון שציוני פסיכומטרי מתפלגים נורמלית עם תוחלת 500 וסטיית תקן 100. ב"מועדון ה-700" נכללים נבחנים שמקבלים ציון מעל 700 בפסיכומטרי. מה הסיכוי שבמועד בו נבחנו 2000 נבחנים אקראיים יהיו לפחות 3% המשתייכים למועדון?

6 נתון ש- $X \sim B(n, p)$, ונגדיר את המשתנה הבא: $\hat{P} = \frac{X}{n}$.

א. הוכיחו ש: $E(\hat{P}) = p$, $V(\hat{P}) = \frac{p(1-p)}{n}$.

ב. מה p המביא את $V(\hat{P})$ להיות במקסימום?

תשובות סופיות:

- 1 א. התוחלת: 0.1, השונות: 0.00064. ב. 0.5. ג. 0.3446.
- 2 א. 0.0618. ב. 0.0618. ג. 0.8238.
- 3 א. 0.5. ב. 0. ג. 0.8968. ד. גדלה.
- 4 א. 0.0062. ב. 0.0456. ג. 0.481. ד. 0.77436.
- 5 0.0154.
- 6 א. שאלת הוכחה. ב. 0.5.

חוק המספרים הגדולים:

רקע:

חוק המספרים הגדולים מתייחס להשפעת הגדלת גודל המדגם על הסיכוי של פרופורציית המדגם (או ממוצע המדגם) להיות קרובה מהפרופורציה האמיתית (או מהממוצע האימתי).

החוק לגבי פרופורציה:

נניח שמבצעים מדגם מקרי מתוך אוכלוסייה אינסופית בה פרופורציית ההצלחות היא p , ככל שהמדגם גדול יותר: כך הסיכוי שפרופורציית המדגם (\hat{p}) תהיה בקרבת הפרופורציה באוכלוסייה (P) גבוה יותר.

ולכן הסיכוי לקבל ערך חריג הרחוק מהפרופורציה של האוכלוסייה קטן יותר. בכתיבה מתמטית רושמים את חוק המספרים הגדולים לגבי הפרופורציה באופן

$$\text{הבא: } \lim_{n \rightarrow \infty} \hat{P}_n = P$$

בספרות המקצועית קוראים לחוק הזה החוק החזק של המספרים הגדולים.

את החוק החלש של המספרים הגדולים רושמים באופן הבא: $P(|\hat{P} - P| < \varepsilon) \xrightarrow{n \rightarrow \infty} 1$.

הערה: ככל שהמדגם גדל הסיכוי שפרופורציית המדגם תהיה בדיוק הפרופורציה האמיתית הולך וקטן.

החוק לגבי ממוצע: נניח שמבצעים מדגם מקרי מתוך התפלגות שבה התוחלת μ והשונות סופית. ככל שהמדגם גדול יותר, כך הסיכוי שממוצע המדגם (\bar{X}) יהיה בקרבת הממוצע באוכלוסייה (μ) גבוה יותר. לכן, הסיכוי לקבל ערך חריג הרחוק מהממוצע של האוכלוסייה קטן יותר. בכתיבה מתמטית רושמים את חוק המספרים הגדולים לגבי הממוצע באופן הבא:

$$\lim_{n \rightarrow \infty} \bar{X}_n = \mu$$

בספרות המקצועית קוראים לחוק הזה החוק החזק של המספרים הגדולים.

את החוק החלש של המספרים הגדולים רושמים באופן הבא: $P(|\bar{X} - \mu| < \varepsilon) \xrightarrow{n \rightarrow \infty} 1$.

דוגמה (פתרון בהקלטה):

באוכלוסייה מסוימת 20% מהאוכלוסייה מובטלת. איזה סיכוי יותר גבוה? במדגם בגודל 100 פרופורציית המובטלים תסטה מהפרופורציה האמיתית בלא יותר מ-4%. במדגם בגודל 200 פרופורציית המובטלים תסטה מהפרופורציה האמיתית בלא יותר מ-4%. הסבירו.

שאלות:

- (1) באוכלוסייה מסוימת 20% מהאוכלוסייה מובטלת. איזה סיכוי יותר גבוה?
 א. אחד מתוך מדגם של חמישה יהיה מובטל.
 ב. שניים מתוך עשרה יהיו מובטלים. הסבירו וחשבו.
- (2) באוכלוסייה מסוימת 20% מהאוכלוסייה מובטלת. איזה סיכוי יותר גבוה?
 א. לפחות 3 מתוך 10 יהיו מובטלים
 ב. לפחות 30 מתוך 100 יהיו מובטלים. הסבירו.
- (3) גובה של אוכלוסייה מסוימת מתפלג נורמלית עם ממוצע 170 ס"מ וסטיית תקן של 10 ס"מ. דוגמים 4 אנשים באקראי.
 א. מה ההסתברות שהגובה הממוצע שלהם יהיה מעל 176 ס"מ.
 ב. כיצד התשובה לסעיף הקודם הייתה משתנה אם הינו מגדילים את גודל המדגם? נמקו.
- (4) ידוע שבהצעת חוק מסוימת תומכים 60% מהציבור. נדגמו באקראי 10 אנשים.
 א. מה ההסתברות שבדיוק 60% מהמדגם תומכים בהצעת החוק?
 ב. כיצד התשובה הייתה משתנה אם היו דוגמים 20 אנשים?
- (5) שני חוקרים ביצעו מדגם מאותה אוכלוסייה. חוקר א דגם 20 תצפיות והשני דגם 40 תצפיות וכל אחד מהם חישב את ממוצע המדגם: \bar{X}_{20} ו- \bar{X}_{40} . ידוע שהתפלגות היא נורמלית ושהתוחלת באוכלוסייה הינה 500. בסעיפים הבאים נמקו אילו הסתברויות מהזוגות המוצגים גדולה יותר או שהן שוות ונמקו.
 א. $P(\bar{X}_{40} > 500)$ או $P(\bar{X}_{20} > 500)$
 ב. $P(480 < \bar{X}_{40} < 520)$ או $P(480 < \bar{X}_{20} < 520)$
 ג. $P(\bar{X}_{40} < 490)$ או $P(\bar{X}_{20} < 490)$
- (6) נתון ש: $X \sim G(P=0.1)$. מבצעים מדגם אקראי בגודל n מההתפלגות הזו ומחשבים את ממוצע המדגם: \bar{X}_n . הוכיחו: $\lim_{n \rightarrow \infty} \bar{X}_n = 10$.

תשובות סופיות:

- (1) אחד מתוך מדגם של חמישה יהיה מובטל.
- (2) לפחות 3 מתוך 10 יהיו מובטלים.
- (3) א. 0.1151. ב. קטנה.
- (4) א. 0.2508. ב. קטן.
- (5) א. $P(\bar{X}_{40} > 500) = P(\bar{X}_{20} > 500)$.
- ב. $P(480 < \bar{X}_{40} < 520) > P(480 < \bar{X}_{20} < 520)$.
- ג. $P(\bar{X}_{40} < 490) < P(\bar{X}_{20} < 490)$.
- (6) שאלת הוכחה.

הסתברות ב

פרק 12 - אי שוויונים בהסתברות

תוכן העניינים

82	1. אי שוויון מרקוב
86	2. אי שוויון צ'בישב

אי-שוויון מרקוב:

רקע:

אי-שוויון מרקוב רלבנטי לשימוש עבור כל משתנה מקרי אי-שלילי.

הפרמטר a הינו ממשי וחיובי ואז חייב להתקיים ש: $P(X \geq a) \leq \frac{E[X]}{a}$,

לכן מתקיים גם ש: $P(X < a) \geq 1 - \frac{E[X]}{a}$.

דוגמה:

אורך חיים של מכשיר מתפלג עם תוחלת של 500 שעות. חשבו לפי אי-שוויון מרקוב את ההסתברות שאורך חיים של מכשיר יהיה לפחות 1500 שעות.

X = אורך חיים של מכשיר (רציף).

$$X \geq 0, E[X] = 500$$

$$P(X \geq 1500) \leq \frac{E[X]}{a} = \frac{500}{1500} = \frac{1}{3}$$

לכן, $0 \leq P(X \geq 1500) \leq \frac{1}{3}$.

שאלות:

- (1) ידוע מניסיון העבר כי ציון במבחן הגמר של סטודנט הוא משתנה מקרי שתוחלתו 65. מצאו חסם עליון להסתברות שציון מבחן הגמר של סטודנט יהיה לפחות 75.
- (2) התפלגות מספר הילדים למשפחה במדינה מסוימת היא עם תוחלת של 2 ילדים. נלקחו 5 משפחות אקראיות. העריכו את הסיכוי שבסה"כ בחמשת המשפחות יש יותר מ-15 ילדים.
- (3) X משתנה מקרי רציף אי-שלילי, שתוחלתו 15. האם ייתכן ש: $P(X > 65) = 0.3$?
- (4) X משתנה מקרי בדיד, המקיים: $X > -2$, ותוחלתו 6. מצאו חסם תחתון ל- $P(X < 10)$.
- (5) X משתנה מקרי המקיים: $P(X \geq 0) = 1$ ו- $s > 0$ קבוע ממשי. הוכיחו כי: $P(X < sE(X)) \geq \frac{s-1}{s}$.
- (6) נתון ש- $X_i \sim P(\lambda)$, $i = 1, 2, \dots, n$ הם משתנים בלתי תלויים. מצאו חסמים להסתברות ש- $\sum_{i=1}^n X_i \geq 3n\lambda$.
- (7) הוכיחו את אי-שוויון מרקוב. רמז: היעזרו במשתנה אינדיקטור המקבל את הערך 1 כאשר $X \geq a$.

(8) בשכונה חדשה בונים n בתים חדשים הנבנים בחלקת אדמה עגולה. כל בית נצבע בלבן בסיכוי p ללא תלות בבתיים האחרים. בניין שלא נצבע בלבן נצבע באפור. בית לבן הוא בית בודד אם הוא נמצא בין שני בתים אפורים. נגדיר את X להיות מספר הבתים הלבנים הבודדים.

א. מצאו את התוחלת של X .

ב. כעת נניח ש- $p = \frac{1}{4}$. הראו שהסיכוי שמספר הבתים הלבנים הבודדים

$$\text{יהיה קטן מ-} \frac{n}{4} \text{ הוא לפחות } \frac{7}{16}.$$

(9) הוכיחו את אי-שוויון צ'בישב: אם X הוא משתנה מקרי שתוחלתו ושונותו הן

$$P\{|X - E(X)| \geq k\} \leq \frac{\text{Var}(X)}{k^2}.$$

רמז: היעזרו באי-שוויון מרקוב.

תשובות סופיות:

$$. P(X \geq 75) \leq \frac{65}{75} = \frac{13}{15} \quad (1)$$

$$. 0 \leq P\left(\sum_{i=1}^n X_i \geq 3n\lambda\right) \leq \frac{1}{3} \quad (2)$$

(3) לא יתכן.

$$. \frac{1}{3} \quad (4)$$

(5) שאלת הוכחה.

$$. 0 \leq P\left(\sum_{i=1}^n X_i \geq 3n\lambda\right) \leq \frac{1}{3} \quad (6)$$

(7) שאלת הוכחה.

(8) א. $n \cdot p(1-p)^2$. ב. שאלת הוכחה.

(9) שאלת הוכחה.

אי-שוויון צ'בישב:

רקע:

אם X הוא משתנה מקרי שתוחלתו ושונוותו הן סופיות, אז לכל ערך a חיובי

$$. P\{|X - E(X)| \geq a\} \leq \frac{\text{Var}(X)}{a^2} \quad \text{מתקיים:}$$

$$. P\{|X - E(X)| < a\} \geq 1 - \frac{\text{Var}(X)}{a^2} \quad \text{מכאן גם נובע שמתקיים:}$$

אי-שוויון צ'בישב נותן חסמים להסתברות סימטרית סביב התוחלת ללא צורך בדיעת ההתפלגות של המשתנה המקרי X .

דוגמה:

נתון משתנה מקרי עם סטיית תקן של 3. האם יתכן שההסתברות שהסטייה של המשתנה המקרי מתוחלתו תהיה קטנה מ-5 היא 0.6?

$$\sigma(X) = 3$$

$$: \text{נציב, } P\{|X - E(X)| < a\} \geq 1 - \frac{\text{Var}(X)}{a^2}$$

$$P\{|X - E(X)| < 5\} \geq 1 - \frac{3^2}{5^2} = 1 - \frac{9}{25} = \frac{16}{25} = 0.64$$

$P\{|X - E(X)| < 5\} \neq 0.6$, לכן לא יתכן.

שאלות:

- (1) מצאו חסמים להסתברויות הבאות עבור משתנה מקרי רציף בעל תוחלת 8 וסטית תקן 3:
- א. $p(2 < x < 14)$.
- ב. $p(|x - 8| \geq 9)$.
- (2) האם קיים משתנה מקרי X בעל תוחלת μ וסטית תקן σ שעבורו מתקיים $P(\mu - 3\sigma \leq X \leq \mu + 3\sigma) = 0.7$? הסבירו.
- (3) מספר המטוסים המגיעים לנמל תעופה ב-20 דקות מתפלג התפלגות פואסונית עם תוחלת של 100. היעזרו באי-שוויון צ'בישב כדי למצוא גבול תחתון להסתברות שמספר המטוסים המגיעים בתקופה בת 20 דקות נתונה תהיה בין 80 ל-120.
- (4) מטילים מטבע 120 פעמים. מה ניתן להגיד על הסיכוי שהתוצאה עץ תתקבל בין 50 ל-70 פעמים לפי אי-שוויון צ'בישב?
- (5) מתוך קו יצור של רכיבים שאורכם הממוצע הנו 10 ס"מ ושונוותם 3 סמ"ר יש לקחת מדגם. מהו גודל המדגם שיבטיח שבהסתברות של 0.9 לפחות ימצא ממוצע המדגם בין 9 ל-11 ס"מ?
- (6) אחוז התומכים במפלגה מסוימת הנו 40%. נלקח מדגם מקרי בגודל 200. תנו חסם תחתון לכך שאחוז התומכים במדגם יהיה בין 35% ל-45%.
- (7) בוחרים קוד n ספרתי באופן מקרי.
- א. עבור $n = 10$, העריכו את ההסתברות שממוצע הספרות במספר יסטה מתוחלתו בלפחות 1.
- ב. מה אורך הקוד המינימלי (n) שיבטיח שבהסתברות של לפחות 95%, ממוצע הספרות יסטה מתוחלתו בפחות מ-0.75?

(8) בעיר מסוימת ל-5% מהמשפחות אין מכונית, ל-20% יש מכונית אחת, ל-35% יש שתי מכוניות, ל-30% שלוש מכוניות וליתר ארבע מכוניות. נניח שמספר המשפחות בעיר גדול מאד. העריכו את ההסתברות שמספר המכוניות הכולל בעשר משפחות אקראיות יהיה לפחות 17 ולכל היותר ל-27.

(9) הם משתנים מקיים המתפלגים גיאומטרית עם פרמטר p באופן

$$P\left(\frac{\sum_{i=1}^n X_i}{n} \geq \frac{2}{p}\right) \leq \frac{1-p}{n} : 0 < p < 1. \text{ הוכיחו שמתקיים:}$$

(10) הם משתנים מקיים המתפלגים פואסונית עם פרמטר $\lambda_i = i$,

$$T = \sum_{i=1}^n X_i : \text{ באופן בלתי תלוי זה בזה. נסמן את:}$$

$$P(|2T - n(n+1)| < 2n) \geq \frac{n-1}{2n} : \text{ הוכיחו שמתקיים:}$$

תשובות סופיות:

- (1) א. בין $\frac{3}{4}$ ל-1. ב. בין 0 ל- $\frac{1}{9}$.
- (2) לא יתכן.
- (3) 0.75
- (4) לפחות 0.7
- (5) לפחות 30
- (6) 0.52
- (7) א. לכל היותר 0.825. ב. 294
- (8) 0.7056
- (9) שאלת הוכחה.
- (10) שאלת הוכחה.