

הכנה למבחן כניסה למכינה במתמטיקה



תוכן העניינים

1	מבוא לאלגברה
47	משוואות אלגבריות
(ללא ספר)	מבוא לפונקציות
(ללא ספר)	הפונקציה הקווית
(ללא ספר)	הפונקציה הריבועית
69	אי שוויונים אלגבריים
85	בעיות מילוליות בסיסיות
110	בעיות מילוליות מתקדמות
132	חוקי החזקות והשורשים
142	משוואות ואי-שוויונים מעריכיים
152	חוקי הלוגריתמים, משוואות ואי-שוויונים לוגריתמים
168	מבוא לגאומטריה של המישור
176	גיאומטריה אוקלידית - משולשים
197	גיאומטריה אוקלידית - מרובעים
221	גיאומטריה אוקלידית - שטחים והיקפים
235	גיאומטריה אוקלידית - המעגל
260	טריגונומטריה במשולש ישר זווית
265	זהויות טריגונומטריות
286	טריגונומטריה במישור
319	הסתברות קלאסית

הכנה למבחן כניסה למכינה במתמטיקה

פרק 1 - מבוא לאלגברה

תוכן העניינים

1	1. מספרים מכוונים
5	2. חזקות ושורשים עם מספרים מכוונים
7	3. סדר פעולות חשבון עם מספרים מכוונים
8	4. שברים פשוטים, עשרוניים ואחוזים
14	5. כפל וחילוק שברים
16	6. חיבור וחסור שברים
20	7. בעיות יסודיות באחוזים
22	8. חזרה על תבניות מספר
24	9. כינוס איברים
26	10. פישוט ביטויים על ידי פתיחת סוגריים
28	11. פישוט ביטויים באמצעות נוסחאות הכפל המקוצר
30	12. פירוק לגורמים של ביטויים אלגברים
33	13. פירוק הטרינום
35	14. שברים אלגברים
39	15. כפל וחילוק של שברים אלגברים
41	16. חיבור וחסור של שברים אלגברים
45	17. שברים כפולים

מספרים מכוונים:

סיכום כללי:

מספרים מכוונים הם מספרים שיכולים לקבל סימן חיובי או שלילי, כגון:

- בקניון גדול ישנן קומות 1, 2, 3, 4, וכן חניונים הממוקמים בקומות 1-, 2-, ו-3-.
- גובה פני הים מוגדר להיות 0 מטרים. העיר חיפה נמצאת כ-103 מטרים מעל פני הים בעוד שים המלח נמצא בגובה 426- מטרים.

כללים:

- כאשר מחברים שני מספרים בעלי סימנים זהים, מחברים את המספרים עצמם והסימן נשאר.
- כאשר מחברים שני מספרים בעלי סימנים מנוגדים, מחסירים את המספרים זה מזה (הקטן מהגדול) וסימן התוצאה כסימן המספר הגדול מביניהם.
- כפל וחילוק יתבצע בשני חלקים:
 - ביצוע הפעולה על המספרים עצמם.
 - קביעת הסימן של התוצאה באופן הבא:
 - כפל או חילוק של שני מספרים בעלי אותו סימן - התוצאה תהיה חיובית.
 - כפל או חילוק של שני מספרים שונים סימן - התוצאה תהיה שלילית.

הערה:

אם יש רצף של מכפלות (או חילוקים), סימן התוצאה תלוי במספר הפעמים שבהם מופיע סימן שלילי (-). אם הסימן מופיע מספר זוגי של פעמים התוצאה חיובית, ואם הוא מופיע מספר אי-זוגי של פעמים אזי התוצאה שלילית.

שאלות:

(1) סמנו את המספרים הבאים על ציר המספרים בהתאמה:

$$-3\frac{1}{2}, 4, 1\frac{1}{3}, -5, -\frac{1}{2}, 2, 0, \frac{1}{2}, -2$$



(2) חשבו את ערכי הביטויים הבאים:

ב. $-3-2$

א. $3+2$

ד. $-3+2$

ג. $3-2$

ו. $7+10$

ה. $-1-4$

ח. $-7+3$

ז. $-6+5$

(3) חשבו את ערכי הביטויים הבאים:

ב. $5-8-12+17$

א. $5+7-23+1$

ד. $-4-11+2+9$

ג. $3-14+2+6$

ו. $-7-13+5-3$

ה. $6-21+3-7$

(4) חשב את ערכי הביטויים הבאים:

ב. $4 \cdot (-7)$

א. $4 \cdot 9$

ד. $(-5) \cdot (-3)$

ג. $(-6) \cdot (-5)$

ו. $(-8) \cdot 5$

ה. $(-2) \cdot 8$

ח. $2 \cdot 3 \cdot 3$

ז. $(-2) \cdot (-3) \cdot (-3)$

י. $(-2) \cdot (-3) \cdot 3$

ט. $(-2) \cdot 3 \cdot (-3)$

יב. $(-2) \cdot (-3) \cdot (-3) \cdot (-2)$

יא. $2 \cdot 3 \cdot (-3)$

יד. $1 \cdot (-2) \cdot (-4) \cdot 2$

יג. $(-1) \cdot (-2) \cdot (-4) \cdot 2$

5) מהו הסימן של תוצאת המכפלה בכל מקרה :

א. $(-2) \cdot (-4) \cdot (-3) \cdot (-10) \cdot (-6) \cdot (-5)$

ב. $(-1) \cdot 2 \cdot 4 \cdot (-3) \cdot (-10) \cdot 6 \cdot (-5)$

ג. $(-1) \cdot 2 \cdot 4 \cdot (-3) \cdot (-10) \cdot (-6) \cdot (-5)$

ד. $(-1) \cdot 2 \cdot 4 \cdot (-3) \cdot (-10) \cdot 6 \cdot 5$

6) חשבו את ערכי הביטויים הבאים :

ב. $(-30) : 3$

א. $(-25) : (-5)$

ד. $(-32) : (-4)$

ג. $40 : (-10)$

ו. $4 : (-16)$

ה. $(-6) : 18$

7) חשבו את ערכי הביטויים הבאים :

ב. $\frac{42}{-6}$

א. $\frac{-60}{12}$

ד. $\frac{-12}{-3}$

ג. $\frac{32}{-4}$

8) מה התוצאה של כל אחת מהפעולות הבאות :

ב. $(-2) \cdot 0$

א. $0 : 5$

ד. $6 : 0$

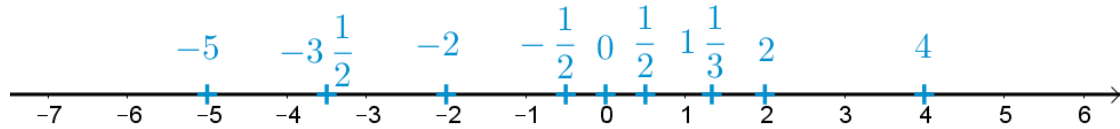
ג. $0 \cdot (-3) \cdot 4$

ו. $0 - 4$

ה. $0 + 4$

תשובות סופיות:

(1) להלן מערכת הצירים:



- (2) א. 5 ב. -5 ג. 1 ד. -1 ה. -5
- ו. 17 ז. -1 ח. -4
- (3) א. -10 ב. 2 ג. -3 ד. -4 ה. -19 ו. -18
- (4) א. 36 ב. -28 ג. 30 ד. 15 ה. -16
- ו. -40 ז. -18 ח. 18 ט. 18 י. 18
- יא. -18 יב. 36 יג. -16 יד. 16
- (5) א. + ב. + ג. - ד. -
- (6) א. 5 ב. -10 ג. -4 ד. 8 ה. $-\frac{1}{3}$ ו. $-\frac{1}{4}$
- (7) א. -5 ב. -7 ג. -8 ד. 4
- (8) א. 0 ב. 0 ג. 0 ד. לא מוגדר ה. 4 ו. -4

חזקות ושורשים עם מספרים מכוונים:

סיכום כללי:

הגדרה:

פעולת החזקה היא צורה מקוצרת שמייצגת פעולת כפל של אותו מספר בעצמו מספר פעמים. סימון החזקה הוא באופן הבא:

$$a^n = \underbrace{a \cdot a \cdot a \cdot \dots \cdot a}_n$$

כאשר a נקרא הבסיס ו- n נקראת החזקה.

הערות:

- כאשר הבסיס חיובי, התוצאה תמיד תהיה חיובית ללא קשר האם החזקה היא זוגית או אי-זוגית.
- כאשר הבסיס שלילי, התוצאה תהיה חיובית אם החזקה היא זוגית ושלילית אם החזקה היא אי-זוגית.

הגדרה:

פעולת השורש היא הפוכה לפעולת החזקה והיא מאפשרת למצוא את בסיס החזקה. סימון השורש הוא באופן הבא:

$$\sqrt[n]{a}$$

כאשר a נקרא הבסיס ו- n נקרא סדר השורש.

הערות:

- שורש למספר חיובי יכול להיות מסדר זוגי או אי-זוגי.
- שורש למספר שלילי יכול להיות מסדר אי-זוגי בלבד.

שאלות:

(1) חשב את ערכי הביטויים הבאים:

- | | |
|--------------|---------------|
| א. 3^2 | ב. 3^3 |
| ג. $(-3)^3$ | ד. $(-2)^3$ |
| ה. 4^3 | ו. 3^4 |
| ז. $(-5)^3$ | ח. 10^4 |
| ט. $-(-3)^4$ | י. -5^4 |
| יא. -4^3 | יב. $-(-2)^6$ |

(2) חשב את ערכי הביטויים הבאים:

- | | |
|--------------------|----------------------|
| א. $\sqrt[3]{-27}$ | ב. $\sqrt[4]{625}$ |
| ג. $\sqrt[4]{-16}$ | ד. $\sqrt[5]{-32}$ |
| ה. $-\sqrt[4]{81}$ | ו. $-\sqrt[3]{1000}$ |

תשובות סופיות:

- | | | | | | |
|---------|----------|-------------|---------|---------|---------|
| א. 9 | ב. 27 | ג. -27 | ד. -8 | ה. 64 | ו. 81 |
| ז. -125 | ח. 10000 | ט. -81 | י. -625 | יא. -64 | יב. -64 |
| א. -3 | ב. 5 | ג. לא מוגדר | ד. -2 | ה. -3 | ו. -10 |

סדר פעולות חשבון עם מספרים מכוונים:

סיכום כללי:

סדר פעולות חשבון:

- פעולות כפל וחילוק קודמות לפעולות חיבור וחסור.
- פעולות חזקה ושורש קודמות לפעולות כפל וחילוק.
- סוגריים קודמים לכל.

שאלות:

חשב את ערכי הביטויים הבאים:

$(-3)^2 : 9 - 2 \cdot (-4^2)$ (2)	$\sqrt{81} + 3 \cdot 2^3 - 40 : 8$ (1)
$3 + 4 \cdot [-3 + 4 \cdot (-2)] + \sqrt{10 + 6}$ (4)	$\sqrt{144} - 20 : 4 + 3 \cdot (-2)^2$ (3)
$-\sqrt{9} + 5^2 : (-4 - 1) - 24 : 12 \cdot 3$ (6)	$(-3)^4 : (-9) - 5 \cdot (-2)^3$ (5)
$\sqrt[3]{-27} + 4 \cdot 3^2 - 2 \cdot 3^3$ (8)	$-2^5 : (-8) + 4^2 - 3 \cdot 5$ (7)
$(8 - \sqrt[3]{64}) \cdot (2 \cdot (-4) - \sqrt[3]{243})$ (10)	$[6 \cdot (-1)^4 - 10 \cdot (-1)^3] \cdot (-1)^5$ (9)
	$\frac{3^2 \cdot (8 - 2 \cdot 3)^3}{(5^2 \cdot 3 - 72) \cdot (-4)} + 2 \cdot \{15 - 20 : (4 + 3 \cdot 2)\}$ (11)

תשובות סופיות:

-37 (4)	19 (3)	33 (2)	28 (1)
-21 (8)	5 (7)	-14 (6)	31 (5)
	20 (11)	-44 (10)	-16 (9)

שברים פשוטים, עשרוניים ואחוזים:

סיכום כללי:

הגדרה כללית:

השבר הוא חלק מתוך השלם. מקובל לסמן שבר באמצעות קו שבר המפריד בין המונה (החלק העליון) למכנה (החלק התחתון) באופן הבא:

$$\frac{\text{מונה}}{\text{מכנה}}$$

ישנם שלושה סוגים אפשריים של שברים:

- שבר פשוט – בו המונה קטן מהמכנה (ולכן תמיד יהיה קטן מ-1).
- שבר מדומה – בו המונה גדול מהמכנה (יהיה גדול בערכו מ-1).
- שבר מעורב – המכיל שילוב של מספר שלם ושבר כלשהו.

שבר עשרוני:

שבר שהמכנה שלו הוא מספר המהווה כפולות של 10 כגון: 10, 100, 1000 ... שבר עשרוני מיוצג ע"י נקודה עשרונית אשר מבדילה בין החלק שלם לחלק השברי באופן הבא:

$$\underbrace{XX}_{\text{שברים שלמים}}.\underbrace{YYY}$$

כדי להמיר שבר פשוט לשבר עשרוני המכנה צריך להיות בכפולות של 10.

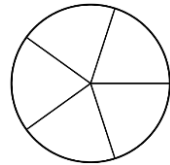
אחוזים - הגדרה:

השבר $\frac{1}{100}$ מוגדר להיות אחוז אחד ומסומן באופן הבא: 1%.

באופן זה השבר $\frac{45}{100}$ יכתב: 45%, והשבר $\frac{145}{100}$ יכתב: 145%.

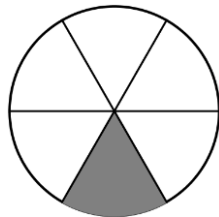
שאלות:

(1) צבע את החלקים המתאימים בכל עיגול:

ב. צבע $\frac{1}{6}$ מהעיגולא. צבע $\frac{1}{2}$ מהעיגולד. צבע $\frac{2}{5}$ מהעיגולג. צבע $\frac{3}{8}$ מהעיגול

(2) כתוב את השבר המתאים לחלקים הצבועים בכל אחד מהמקרים הבאים:

ב. שבר:



א. שבר:



ד. שבר:



ג. שבר:



(3) הרחב את השברים הבאים:

א. השבר $\frac{1}{2}$ לפי בסיס 4, לפי בסיס 18, לפי בסיס 40.ב. השבר $\frac{3}{5}$ לפי בסיס 10, לפי בסיס 25, לפי בסיס 60.ג. השבר $\frac{5}{8}$ לפי בסיס 16, לפי בסיס 32, לפי בסיס 88.

(4) צמצם את השברים הבאים ככל הניתן :

א. $\frac{25}{30}$	ב. $\frac{10}{30}$	ג. $\frac{6}{24}$	ד. $\frac{4}{20}$
ה. $\frac{35}{56}$	ו. $\frac{24}{42}$	ז. $\frac{36}{48}$	ח. $\frac{33}{121}$

(5) המר את השברים המדומים הבאים לשברים מעורבים :

א. $-\frac{20}{3}$	ב. $\frac{19}{4}$	ג. $\frac{12}{5}$	ד. $\frac{22}{5}$
ה. $-\frac{34}{6}$	ו. $-\frac{50}{7}$	ז. $\frac{47}{8}$	ח. $\frac{60}{9}$

(6) המר את השברים המעורבים הבאים לשברים מדומים :

א. $1\frac{2}{3}$	ב. $3\frac{5}{6}$	ג. $4\frac{1}{2}$	ד. $6\frac{1}{4}$
ה. $11\frac{3}{4}$	ו. $-2\frac{5}{8}$	ז. $-6\frac{2}{7}$	ח. $12\frac{7}{9}$

(7) קבע איזה שבר גדול יותר בכל אחד מהמקרים הבאים :

א. $\frac{4}{10}$ או $\frac{3}{10}$	ב. $\frac{7}{6}$ או $\frac{7}{8}$
ג. $\frac{5}{6}$ או $\frac{2}{3}$	ד. $\frac{7}{12}$ או $\frac{5}{18}$

(8) המר את השברים העשרוניים הבאים לשברים פשוטים מצומצמים או מעורבים :

א. 0.7	ב. 0.07	ג. 0.007	ד. 0.34
ה. 0.304	ו. 0.65	ז. 1.2	ח. 1.02
ט. 1.42	י. 3.5	יא. 6.03	יב. 5.125

9) המר את השברים הבאים לשברים עשרוניים:

א. $\frac{3}{10}$	ב. $\frac{3}{100}$	ג. $\frac{3}{1000}$	ד. $\frac{23}{1000}$
ה. $\frac{1}{2}$	ו. $\frac{3}{4}$	ז. $\frac{2}{5}$	ח. $\frac{4}{25}$
ט. $\frac{7}{50}$	י. $\frac{3}{20}$	יא. $\frac{7}{8}$	יב. $\frac{9}{16}$
יג. $9\frac{1}{10}$	יד. $3\frac{1}{5}$	טו. $4\frac{7}{8}$	טז. $-4\frac{1}{16}$

10) כתוב את השברים הבאים בצורתם העשרונית (היעזר במחשבון וכתוב עד 3 ספרות אחרי הנקודה העשרונית):

א. $\frac{2}{3}$	ב. $\frac{5}{6}$	ג. $\frac{3}{7}$	ד. $\frac{2}{11}$
------------------	------------------	------------------	-------------------

11) המר מאחוזים לשברים פשוטים:

א. 25%	ב. 32%	ג. 64%	ד. 80%
ה. 120%	ו. 5%	ז. 300%	ח. 150%

12) המר משברים פשוטים לאחוזים:

א. $\frac{3}{4}$	ב. $\frac{1}{8}$	ג. $\frac{4}{5}$	ד. $\frac{7}{20}$
ה. $\frac{11}{40}$	ו. $\frac{70}{125}$	ז. $\frac{5}{6}$	ח. $\frac{4}{9}$

תשובות סופיות:

- (1) תשובה מודגמת בסרטון.
- (2) א. $\frac{1}{5}$ ב. $\frac{1}{6}$ ג. $\frac{2}{3}$ ד. $\frac{3}{4}$
- (3) א. $\frac{4}{8}, \frac{18}{36}, \frac{40}{80}$ ב. $\frac{30}{50}, \frac{75}{125}, \frac{180}{300}$ ג. $\frac{80}{128}, \frac{160}{256}, \frac{440}{700}$
- (4) א. $\frac{5}{6}$ ב. $\frac{1}{3}$ ג. $\frac{1}{4}$ ד. $\frac{1}{5}$ ה. $\frac{5}{8}$ ו. $\frac{4}{7}$
- (5) א. $-6\frac{2}{3}$ ב. $4\frac{3}{4}$ ג. $2\frac{2}{5}$ ד. $4\frac{2}{5}$ ה. $-5\frac{4}{6}$ ו. $-7\frac{1}{7}$
- (6) א. $\frac{5}{3}$ ב. $\frac{23}{6}$ ג. $\frac{9}{2}$ ד. $\frac{25}{4}$ ה. $\frac{47}{4}$ ו. $-\frac{21}{8}$
- (7) א. $\frac{4}{10}$ ב. $\frac{7}{6}$ ג. $\frac{5}{6}$ ד. $\frac{7}{12}$
- (8) א. $\frac{7}{10}$ ב. $\frac{7}{100}$ ג. $\frac{7}{1000}$ ד. $\frac{17}{50}$ ה. $\frac{38}{125}$ ו. $\frac{13}{20}$
- (9) א. 0.3 ב. 0.03 ג. 0.003 ד. 0.023 ה. 0.5 ו. 0.75
- א. 0.4 ב. 0.16 ג. 0.14 ד. 0.15 ה. 0.875 ו. -4.0625
- א. $0.6\bar{6}$ ב. $0.8\bar{3}$ ג. 0.428 ד. $0.18\bar{8}$
- (11) א. $\frac{1}{4}$ ב. $\frac{8}{25}$ ג. $\frac{16}{25}$ ד. $\frac{4}{5}$ ה. $1\frac{1}{5}$ ו. $\frac{1}{20}$
- א. 3 ב. $1\frac{1}{2}$

12) א. 75% ב. 12.5% ג. 80% ד. 35% ה. 27.5% ו. 56%

ז. 83.333% ח. 44.444%

כפל וחילוק שברים:

סיכום כללי:

- כשכופלים שני שברים יש לכפול מונה במונה ומכנה במכנה.
 - במידה ומדובר במספר שלם הכופל שבר, יש לכפול אותו במונה.
 - במידה ומדובר בשברים מעורבים, יש להפוך אותם תחילה לשברים מדומים ורק אז לבצע את פעולת הכפל.
- כדי לחלק שברים, יש לכפול את השבר הראשון בהופכי של השבר השני.
 - הופכי של שבר מסוים מתקבל ע"י החלפת המונה במכנה.

שאלות:

(1) חשב את ערכי הביטויים הבאים:

$\frac{2}{9} \cdot \frac{8}{10}$ ג.	$\frac{2}{7} \cdot \frac{5}{6}$ ב.	$\frac{3}{5} \cdot \frac{3}{4}$ א.
$\frac{12}{25} \cdot 5$ ו.	$6 \cdot \frac{2}{3}$ ה.	$3 \cdot \frac{4}{5}$ ד.
$3\frac{3}{7} \cdot 2\frac{2}{5}$ ט.	$3\frac{1}{2} \cdot 4\frac{2}{5}$ ח.	$1\frac{3}{5} \cdot 2\frac{1}{4}$ ז.
$\frac{4^3}{5}$ יב.	$\frac{4}{5^3}$ יא.	$\left(\frac{4}{5}\right)^3$ י.

(2) חשב את ערכי הביטויים הבאים:

$\frac{3}{25} : \frac{7}{10}$ ג.	$\frac{3}{4} : \frac{1}{2}$ ב.	$\frac{2}{5} : \frac{4}{9}$ א.
$\frac{5}{6} : 3$ ו.	$10 : \frac{2}{3}$ ה.	$8 : \frac{2}{9}$ ד.
$2\frac{2}{5} : 1\frac{3}{15}$ ט.	$3\frac{3}{4} : 5\frac{5}{8}$ ח.	$\frac{2}{5} : 5$ ז.

תשובות סופיות:

ג. $\frac{8}{45}$	ד. $2\frac{2}{5}$	ה. 4	ו. $2\frac{2}{5}$	ז. $\frac{9}{20}$	ח. $\frac{5}{21}$	ט. $12\frac{4}{5}$	י. $\frac{64}{125}$	יא. $\frac{4}{125}$	יב. $12\frac{4}{5}$	(1)
ג. $\frac{6}{35}$	ד. 36	ה. 15	ו. $\frac{5}{18}$	ז. $\frac{9}{10}$	ח. $1\frac{1}{2}$	ט. 2	י. $\frac{2}{25}$	יא. $\frac{2}{3}$	יב. $\frac{2}{3}$	(2)

חיבור וחסור שברים:

סיכום כללי:

כפולה משותפת מינימלית:

בהינתן זוג מספרים a ו- b , המספר הקטן ביותר אשר תוצאת חלוקתו במספרים הנ"ל מניבה מספר שלם נקרא הכפולה המינימלית שלהם.

הערות:

- כפולה מינימלית יכולה להיות גם עבור יותר משני מספרים.
- הכפולה המינימלית תהיה המכנה המשותף בעת פעולות חיבור וחסור של שברים.

כללי החיבור והחסור של שברים:

- חיבור וחסור של שברים בעלי אותו המכנה מתבצע על המספרים שבמונה בלבד כאשר המכנה נשאר כפי שהוא.
דוגמא: $\frac{2}{7} - \frac{3}{7} = \frac{2-3}{7} = \frac{-1}{7}$, $\frac{2}{7} + \frac{3}{7} = \frac{2+3}{7} = \frac{5}{7}$
 - חיבור וחסור של שברים בעלי מכנים שונים מתבצע ע"י פעולת מכנה משותף.
דוגמא: $\frac{1}{4} - \frac{5}{6} = \frac{3}{12} - \frac{10}{12} = \frac{3-10}{12} = -\frac{7}{12}$, $\frac{2}{5} + \frac{1}{3} = \frac{6}{15} + \frac{5}{15} = \frac{6+5}{15} = \frac{11}{15}$
 - חיבור של שבר עם מספר שלם יתבצע באופן ישיר.
דוגמא: $3 + \frac{1}{4} = 3\frac{1}{4}$
חסור של שבר ממספר שלם יתבצע ע"י הוצאת שלמים מהשבר.
דוגמא: $3 - \frac{1}{4} = 2\frac{4}{4} - \frac{1}{4} = 2\frac{3}{4}$
- דרך נוספת היא ע"י העברת המספר השלם לשבר מדומה: $3 - \frac{1}{4} = \frac{12}{4} - \frac{1}{4} = \frac{11}{4} = 2\frac{3}{4}$

- חיבור וחסור של שברים מעורבים יתבצע ע"י העברתם לשברים מדומים תחילה.

$$\text{דוגמא: } 3\frac{2}{5} + 2\frac{1}{6} = \frac{17}{5} + \frac{13}{6} = \frac{17 \cdot 6}{30} + \frac{13 \cdot 5}{30} = \frac{102 + 65}{30} = \frac{167}{30} = 5\frac{17}{30}$$

ניתן גם לפצל ולבצע את פעולת החיבור (או החיסור) של המספרים השלמים תחילה, ולאחר מכן לבצע את הפעולה עבור השברים.

$$\text{דוגמא: } 2\frac{3}{4} - 5\frac{1}{3} = (2 - 5) + \left(\frac{3}{4} - \frac{1}{3}\right) = -3 + \left(\frac{9}{12} - \frac{4}{12}\right) = -3 + \frac{5}{12} = -2\frac{7}{12}$$

שאלות:

- (1) מצא את הכפולה המשותפת המינימלית של המספרים הבאים:

א. 2 ו-3	ב. 2 ו-4	ג. 3 ו-5	ד. 6 ו-10
ה. 4 ו-10	ו. 4 ו-6	ז. 3, 5 ו-10	ח. 2, 3 ו-8

- (2) חשב את ערכי הביטויים הבאים:

א. $\frac{1}{5} + \frac{3}{5}$	ב. $\frac{5}{9} + \frac{2}{9}$
ג. $\frac{4}{13} + \frac{9}{13}$	ד. $\frac{7}{8} + \frac{7}{8}$
ה. $\frac{7}{8} - \frac{3}{8}$	ו. $\frac{8}{9} - \frac{7}{9}$
ז. $\frac{2}{12} - \frac{5}{12}$	ח. $\frac{2}{5} - \frac{6}{5}$
ט. $\frac{2}{8} + \frac{5}{8} + \frac{6}{8}$	י. $\frac{7}{15} + \frac{8}{15} - \frac{6}{15}$

(3) חשב את ערכי הביטויים הבאים:

א. $\frac{1}{2} + \frac{4}{3}$

ב. $\frac{3}{5} + \frac{1}{10}$

ג. $\frac{4}{6} - \frac{1}{12}$

ד. $\frac{3}{6} - \frac{5}{8}$

ה. $\frac{5}{4} + \frac{7}{2} + \frac{2}{8}$

ו. $\frac{7}{3} + \frac{6}{5} + \frac{3}{10}$

ז. $\frac{4}{7} - \frac{1}{6} + \frac{1}{2}$

ח. $\frac{1}{4} + \frac{2}{8} - \frac{3}{5}$

(4) חשב את ערכי הביטויים הבאים:

א. $2 + \frac{5}{6}$

ב. $2 - \frac{5}{6}$

ג. $2\frac{1}{4} + \frac{5}{6}$

ד. $2\frac{1}{4} - \frac{5}{6}$

ה. $3\frac{2}{3} + 4\frac{1}{4}$

ו. $5\frac{7}{8} - 6\frac{1}{2}$

ז. $2 + \frac{5}{6} - \frac{1}{9}$

ח. $\frac{3}{4} - 1\frac{1}{5} + \frac{8}{20}$

(5) חשב את ערכי הביטויים הבאים:

א. $\frac{1}{2} \cdot \left(1 - \frac{3}{4}\right) + 2\frac{1}{3}$

ב. $\frac{3}{14} : \frac{2}{7} + \frac{1}{3} \cdot 2\frac{1}{4} - \frac{2}{5}$

ג. $\frac{5}{11} \cdot 2\frac{3}{4} - 6 : \frac{2}{5}$

ד. $2\frac{4}{5} : \frac{9}{10} \cdot \frac{6}{7} + \frac{1}{6}$

ה. $\frac{5}{6} : \frac{3}{4} + \frac{2}{3} \cdot 3\frac{1}{4}$

תשובות סופיות:

12 .ג	20 .ה	30 .ד	15 .ג	4 .ב	6 .א (1
				24 .ח	30 .ז
$\frac{1}{9}$.ג	$\frac{1}{2}$.ה	$1\frac{3}{4}$.ד	1 .ג	$\frac{7}{9}$.ב	$\frac{4}{5}$.א (2
		$\frac{3}{5}$.י	$1\frac{5}{8}$.ט	$-\frac{4}{5}$.ח	$-\frac{1}{4}$.ז
$3\frac{5}{6}$.ג	5 .ה	$-\frac{1}{8}$.ד	$\frac{7}{12}$.ג	$\frac{7}{10}$.ב	$1\frac{5}{6}$.א (3
				$-\frac{1}{10}$.ח	$\frac{19}{21}$.ז
$-\frac{5}{8}$.ג	$7\frac{11}{12}$.ה	$1\frac{5}{12}$.ד	$3\frac{1}{12}$.ג	$1\frac{1}{6}$.ב	$2\frac{5}{6}$.א (4
				$-\frac{1}{20}$.ח	$2\frac{13}{18}$.ז
	$3\frac{5}{18}$.ה	$2\frac{5}{6}$.ד	$-13\frac{3}{4}$.ג	$1\frac{1}{10}$.ב	$2\frac{11}{24}$.א (5

בעיות יסודיות באחוזים:

סיכום כללי:

נוסחה לביצוע חישובים עם אחוזים:

$$\text{תמורת האחוז} = \text{שלם} \cdot \frac{\text{אחוז}}{100}$$

למשל, בהינתן גודל שלם 120, אשר יש לחשב כמה הם 40 אחוזים ממנו, נקבל לפי הנוסחה: $48 = 120 \cdot \frac{40}{100}$, כלומר: **תמורת האחוז 40 מהגודל 120 היא 48.**

שאלות:

- (1) בכיתה 30 תלמידים. 60% מתוכם בנות.
 - א. כמה בנות בכיתה?
 - ב. כמה בנים בכיתה?
- (2) בכיתה 28 בנות המהוות 70% מכלל התלמידים בכיתה.
 - א. כמה תלמידים בכיתה?
 - ב. כמה בנים בכיתה?
- (3) מחיר בגד-ים הוא 300 ₪. בסוף העונה הוא נמכר ב-20% הנחה.
 - א. מהו מחירו בסוף העונה?
 - ב. מה גודל ההנחה?
- (4) מחיר ההשקה של בושם מסוים הוא 500 ₪. לאחר מכן מועלה מחירו ב-8%.
 - א. מה מחירו הסופי?
 - ב. מה גודל ההתייקרות?
- (5) מחיר ליטר דלק הוא 5 ₪ לליטר. בחנוכה מוזל מחירו ב-7%.
 - א. מה מחירו בסוף השנה?
 - ב. מה גודל התייקרות?
- (6) מוצר מסויים מתייקר בסוכות ב-12%. בפורים מוזל המוצר ב-12%.
 - א. מה מחירו בסוף השנה?
 - ב. מה גודל התייקרות?

7) ענה על השאלות הבאות:

- א. באולם קולנוע 200 צופים, מתוכם 176 בנים.
מה אחוז הבנים בקהל?
- ב. בכיתה 30 תלמידים, מתוכם 18 בנות.
מה אחוז הבנות בכיתה?
- ג. מחיר מוצר התייקר מ-80 ₪ ל-120 ₪.
בכמה אחוזים התייקר המוצר?
- ד. מחיר מוצר הוזל מ-120 ₪ ל-80 ₪.
בכמה אחוזים הוזל המוצר?
- ה. מחיר מוצר התייקר מ-150 ₪ ל-200 ₪.
בכמה אחוזים התייקר המוצר?
- ו. מחיר מוצר הוזל מ-200 ₪ ל-150 ₪.
בכמה אחוזים הוזל המוצר?

תשובות סופיות:

- 1) א. 18 בנות. ב. 12 בנים.
- 2) א. 40 תלמידים. ב. 12 בנים.
- 3) א. 240 ₪. ב. 60 ₪.
- 4) א. 540 ₪. ב. 40 ₪.
- 5) 4.9755 ₪
- 6) 400 ₪
- 7) א. 88% ב. 60% ג. 50% ד. 33.33% ה. 33.33% ו. 25%

חזרה על תבניות מספר:

סיכום כללי:

משתנה הוא סמל המתאר כמות או גודל כלשהם אשר אינם ידועים ועשויים להשתנות.

תבנית מספר היא ביטוי אלגברי אשר מכיל משתנה (או משתנים). ניתן להציב במשתנים ערכים מספריים שונים ולקבל תוצאות שונות עבור תבנית המספר עצמה.

במתמטיקה, תפקידה של תבנית המספר הוא להביע גודל מסוים אשר לערכו יש משמעויות שונות. דוגמא לכך היא: קנייה של x פריטים, אשר כל אחד עולה 3 שקלים, יניבו תבנית מספר של $3 \cdot x$ אשר מייצגת את הסכום הכולל של הפריטים.

שאלות:

(1) חשב את ערכי הביטויים האלגבריים הבאים עבור ה- x הנתון:

א. $2x+5$ כאשר $x=3$ ב. x^2+3x כאשר $x=2$

ג. $-x^2+2x+3$ כאשר $x=5$ ד. $-x^2-9x+5$ כאשר $x=5$

ה. x^3+1 כאשר $x=-2$ ו. $4-x^3$ כאשר $x=-1$

ז. $(x+1)(2-x)$ כאשר $x=4$ ח. $x^2(3x-4)$ כאשר $x=3$

(2) חשב את ערכי הביטויים האלגבריים הבאים עבור ה- x הנתון:

א. $27x^5-2x^3+x$ כאשר $x=\frac{1}{3}$

ב. $\frac{1}{3}x^2+\frac{1}{2}x+6$ כאשר $x=-\frac{2}{3}$

3) הצב את הערכים המספריים במקום הפרמטרים וחשב את ערך תבנית המספר:

- | | |
|----------------------------------|---|
| א. $a^2 + 2ab + b^2$ | עבור: $a = 3, b = -5$ |
| ב. $(x-3)^2 + 3x^2b$ | עבור: $x = 5, b = -1$ |
| ג. $-x^3 - 2xy + y^4$ | עבור: $x = -2, y = -1$ |
| ד. $\frac{(a-2c)^4}{a} - a^2$ | עבור: $a = 2, c = -2$ |
| ה. $\frac{4a^2 - 3b}{c}$ | עבור: $a = -1, b = 2, c = -4$ |
| ו. $\sqrt{c-3a}$ | עבור: $c = 13, a = -1$ ועבור: $c = 82, a = \frac{1}{3}$ |
| ז. $\frac{p^3 + 2\sqrt{q+1}}{m}$ | עבור: $p = -5, q = 48, m = 3$ |

תשובות סופיות:

- | | | | | | |
|-----------|--------------------|--------|--------|------------------|--------|
| 11 א. (1) | 10 ב. | ג. -12 | ד. -65 | ה. -7 | ו. 5 |
| ז. -10 | ח. 45 | | | | |
| 10 א. (2) | ב. $\frac{22}{27}$ | | | | |
| 4 א. (3) | ב. -71 | ג. 5 | ד. 644 | ה. $\frac{1}{2}$ | ז. -37 |
- ו. הצבה ראשונה: 4, הצבה שנייה: 9

כינוס איברים:

סיכום כללי:

תבניות אלגבריות יכולות להכיל איברים רבים ולכן נרצה לכנס אותם על מנת לפשט את התבנית. כדי לכנס איברים ניקח את כל קבוצת האיברים מאותו הסוג ונחבר את המקדמים שלהם. דוגמא: $3x + 6x - 5x = (3 + 6 - 5)x = 4x$.
 איברים שונים נבדלים זה מזה בערך התבנית האלגברית שלהם.
 כך: $3x$ שונה מ- $4y$ ושונה מ- $2xy$. באותו האופן, האיברים x ו- x^2 הם שונים.

שאלות:

כנס איברים דומים:

- | | |
|---|--|
| $9x^2 - 2x^2 - 3x^2 - 2x^2$ (2) | $5x + 7x - 4x$ (1) |
| $x^2y - 3yx^2 + x^2y$ (4) | $-10xy + 15xy + xy - 2yx$ (3) |
| $2x^2 - 3m^2 - x^2 + 3m^2$ (6) | $8a^2 + 10a - 5a^2 - 11a + a^2$ (5) |
| $mn^2 + 4m^2n + 6n^2m - 10nm^2 + mn^2$ (8) | $3xy + y - 30y + 6yx - 7y$ (7) |
| $y^2 + x^2 - 5x^2 + 5y^2 + 4x^2 - 6y^2$ (10) | $-6 + x^3 + 4 - 3x^3 + 17x^3 - 17$ (9) |
| $5xy + 2x - 3yx - x + 1$ (12) | $7x^2 - 3x - 4x + 2$ (11) |
| $x + xy + y - 6yx - 6y - 6x$ (14) | $3 - x - x^2 + 4x + 5x^2 - 12$ (13) |
| $ab^2 + 6ba^2 - 6b + 16a^2b + 3b - 6b^2a$ (16) | $mn + n - 5m + 5nm - 14n + 3m$ (15) |
| $4x^2z + 6xz^2 - 6 - xz^2 + 12 + 10zx^2$ (18) | $z^3 - 4z^2 + 7 - z^3 - 8 + 8z^2$ (17) |
| $x^3 - 3x - 4x^2 + 2x + x^3 + x^2 - 2x^3$ (20) | $2 - x^3 - 3 - 4x^2 + 2x + x^3 + x^2 - 2$ (19) |
| $12x^2y^3 + 13a^2 - 20x^2y^3 + 2a^2$ (22) | $2a^2b + 3x^2y + 5a^2b + 10x^2y$ (21) |
| $-2x^3y + 5x^2 - 4yx^3 - 6x^2$ (24) | $2y^2 - 4x^3y^2 - 10y^2 - x^3y^2$ (23) |
| $5a^2b - 8ab^2 + 20a^2b - 14ab^2$ (26) | $2a^2b + 2b + 3a^2 + 5b$ (25) |
| $-12x^2 + 2y^2 + 3x^2y + 14xy^2 - 5xy^2 - 6y^2 + 2xy + 11x^2 + x^2y - 9xy$ (27) | |
| $21x^3y^3 + x^2y^2 - 3xy^3 + x^3y - 15x^2y^2 - 7x^3y + 12x^3y^3 - 4xy^3 + 4xy^3 - 6x^3y$ (28) | |

תשובות סופיות:

- | | | |
|---------------------------|------------------------|---|
| $4xy$ (3) | $2x^2$ (2) | $8x$ (1) |
| x^2 (6) | $4a^2 - a$ (5) | $-x^2y$ (4) |
| $15x^3 - 19$ (9) | $8mn^2 - 6nm^2$ (8) | $9xy - 36y$ (7) |
| $2xy + x + 1$ (12) | $7x^2 - 7x + 2$ (11) | 0 (10) |
| $-13n - 2m + 6mn$ (15) | $-5x - 5y - 5xy$ (14) | $4x^2 + 3x - 9$ (13) |
| $14x^2z + 5xz^2 + 6$ (18) | $4z^2 - 1$ (17) | $-5ab^2 + 22a^2b - 3b$ (16) |
| $7a^2b + 13x^2y$ (21) | $-3x^2 - x$ (20) | $-3x^2 + 2x - 3$ (19) |
| $-6x^3y - x^2$ (24) | $-8y^2 - 5x^3y^2$ (23) | $-8x^2y^3 + 15a^2$ (22) |
| | $25a^2b - 22ab^2$ (26) | $2a^2b + 3a^2 + 7b$ (25) |
| | | $-x^2 - 4y^2 + 4x^2y + 9xy^2 - 7xy$ (27) |
| | | $33x^3y^3 - 14x^2y^2 - 3xy^3 - 12x^3y$ (28) |

פישוט ביטויים ע"י פתיחת סוגריים:

סיכום כללי:

בעת ביצוע כפל בין שני איברים יש לכפול את המקדמים בנפרד ואת האותיות (משתנים) בנפרד.

כלל הפילוג:

$$\bullet a(b+c) = ab+ac$$

$$\bullet (a+b)(c+d) = ac+ad+bc+bd$$

שאלות:

(1) פשט את הביטויים הבאים:

א. $2x \cdot 3x$	ב. $-4x \cdot (-7x)$	ג. $-2x \cdot (-4x) \cdot (-3)$
ד. $8m^2 \cdot 4m^3$	ה. $3a^3 \cdot (-2a^2)$	ו. $-b \cdot 4b^2 \cdot \frac{b^2}{2}$
ז. $a \cdot 3b$	ח. $4a^2 \cdot 7b^2$	ט. $ab \cdot (-2a^2b)$

(2) פשט את הביטויים הבאים ע"י פתיחת סוגריים:

א. $2(3x-4)$	ב. $2(-3x^2+5x-1)$
ג. $(7x-2)4$	ד. $(1-2x)(-2)$
ה. $a(3a-1)$	ו. $b(b^2-3b+4)$
ז. $2x(5x+3)$	ח. $5x(x^2+2x-3)$
ט. $3t^2(4t-t^2+6)$	י. $\frac{5}{2}(4d^4-3d)d$

(3) פשט את הביטויים הבאים:

א. $5x+(3x-2)+(-4-2x)$	ב. $7x+(-4x-5)+3x+(-1+7x)$
ג. $8-(2x-5)-(4x+2)$	ד. $-6x-(-3x-1)-(-7-4x)+1$

$$\text{ה. } (3-2x^2+4)2+3(x-x^2)-6(7-5x)+4x^2$$

$$\text{ו. } 3y^2-(y+1-2y^2)+6(5y-6)-(-y-4)3+5(y^2+1)-7$$

4 פשט את הביטויים הבאים :

$$\text{א. } (x-1)(x+2) \quad \text{ב. } (x+3)(x-7)$$

$$\text{ג. } (3-x)(x+4) \quad \text{ד. } (3x+4)(5x+1)$$

$$\text{ה. } 3(4x+1)(2x-3) \quad \text{ו. } -2(3x-1)(5-2x)$$

5 פשט את ערכי הביטויים הבאים :

$$\text{א. } (x-1)(x+3)+2(3-x)$$

$$\text{ב. } (a+4)(a-2)-(a+5)(a-3)$$

$$\text{ג. } (2m-3)(4m+3)+5(2m^2-6)$$

$$\text{ד. } -x^2y^2(x^3y+x^2)+2xy(2x^3y-x^4y^2)$$

תשובות סופיות:

$$\text{(1) א. } 6x^2 \quad \text{ב. } 28x^2 \quad \text{ג. } -24x^2 \quad \text{ד. } 32m^5 \quad \text{ה. } -6a^5 \quad \text{ו. } -2b^5$$

$$\text{ז. } 3ab \quad \text{ח. } 28a^2b^2 \quad \text{ט. } -2a^3b^2$$

$$\text{(2) א. } 6x-8 \quad \text{ב. } -6x^2+10x-2 \quad \text{ג. } 28x-8 \quad \text{ד. } -2+4x$$

$$\text{ה. } 3a^2-a \quad \text{ו. } b^3-3b^2+4b \quad \text{ז. } 10x^2+6x \quad \text{ח. } 5x^3+10x^2-15x$$

$$\text{ט. } 12t^3-3t^4+18t^2 \quad \text{י. } 10d^5-7.5d^2$$

$$\text{(3) א. } 6x-6 \quad \text{ב. } 13x-6 \quad \text{ג. } -6x+11 \quad \text{ד. } x+9 \quad \text{ה. } -3x^2+33x-28$$

$$\text{ו. } 10y^2+32y-27$$

$$\text{(4) א. } x^2+x-2 \quad \text{ב. } x^2-4x-21 \quad \text{ג. } -x^2-x+12$$

$$\text{ד. } 15x^2+23x+4 \quad \text{ה. } 24x^2-30x-9 \quad \text{ו. } 12x^2-34x+10$$

$$\text{(5) א. } x^2+3 \quad \text{ב. } 7 \quad \text{ג. } 18m^2-6m-39 \quad \text{ד. } -3x^5y^3+3x^4y^2$$

פישוט ביטויים באמצעות נוסחאות הכפל המקוצר:

סיכום כללי:

- נוסחת ריבוע של סכום/הפרש: $(a \pm b)^2 = a^2 \pm 2ab + b^2$.
- נוסחה להפרש ריבועים: $(a+b)(a-b) = a^2 - b^2$.

שאלות:

(1) פשט את הביטויים הבאים:

א. $(x+5)^2$	ב. $(x+2)^2$	ג. $(4x+5)^2$
ד. $(6x+2)^2$	ה. $(7x+y)^2$	ו. $(5x+2y)^2$
ז. $(x^2+7)^2$	ח. $(x^2+y^2)^2$	ט. $(x^3+2y^2x)^2$

(2) פשט את הביטויים הבאים:

א. $(x-6)^2$	ב. $(x-2)^2$	ג. $(5-x)^2$
ד. $(6x-1)^2$	ה. $\left(3x-\frac{1}{2}\right)^2$	ו. $\left(\frac{1}{3}x-5\right)^2$
ז. $(3m-2n)^2$	ח. $\left(x^2-\frac{3}{5}y\right)^2$	ט. $(x^2y^2-7)^2$

(3) פשט את הביטויים הבאים:

א. $(x-5)(x+5)$	ב. $(3+x)(x-3)$
ג. $(3x-1)(3x+1)$	ד. $(5-7x)(7x+5)$
ה. $\left(\frac{1}{2}x+6\right)\left(\frac{1}{2}x-6\right)$	ו. $\left(5y-\frac{1}{4}x\right)\left(\frac{1}{4}x+5y\right)$
ז. $(x^2+y)(x^2-y)$	ח. $(3a^2b^3-4)(3a^2b^3+4)$

(4) פשט את הביטויים הבאים:

א. $(x+1)(x+2)-3x$	ב. $(x-5)(5x-1)+2(4+x)$
ג. $x(2x-1)(2x+1)-4x^2(x+1)$	ד. $-(y+3x)(y-3x)+(y-3x)^2$
ה. $x(x+3)-(6+x)(6x+2)-(x+2)^2$	
ו. $-5(x+7)(x-7)+3(2x+5)(5-x)+(x+1)^2$	

תשובות סופיות:

א. $x^2+10x+25$	ב. x^2+4x+4	ג. $16x^2+40x+25$	(1)
ד. $36x^2+24x+4$	ה. $49x^2+14xy+y^2$	ו. $25x^2+20xy+4y^2$	
ז. $x^4+14x+49$	ח. $x^4+2x^2y^2+y^4$	ט. $x^6+4x^4y^2+4y^4x^2$	
א. $x^2-12x+36$	ב. x^2-4x+4	ג. $25-10x+x^2$	(2)
ד. $36x^2-12x+1$	ה. $9x^2-3x+\frac{1}{4}$	ו. $\frac{1}{9}x^2-3\frac{1}{3}x+25$	
ז. $9m^2-12mn+4n^2$	ח. $x^4-\frac{6}{5}x^2y+\frac{9}{25}y^2$	ט. $x^4y^4-14x^2y^2+49$	
א. x^2-25	ב. x^2-9	ג. $9x^2-1$	(3)
ה. $\frac{1}{4}x^2-36$	ו. $25y^2-\frac{1}{16}x^2$	ז. x^4-y^2	
א. x^2+2	ב. $5x^2-24x+13$	ג. $-4x^2-x$	(4)
ד. $18x^2-6xy$	ה. $-6x^2-39x-16$	ו. $-10x^2+17x+321$	

פירוק לגורמים של ביטויים אלגבריים:

סיכום כללי:

פירוק לגורמים הוא פעולה הפוכה לפתיחת סוגריים – נרצה להוציא את הגורמים המשותפים לאיברים מחוץ לסוגריים.

- פירוק לגורמים ע"י הוצאת איבר אחד משותף:

○ הוצאת מספר משותף: $2x - 8 = 2(x - 4)$

○ הוצאת אות משותפת: $x^2 - 12x = x(x - 12)$

○ הוצאת מספר ואות יחד: $3x^2 - 21x = 3x(x - 7)$

- פירוק לגורמים ע"י נוסחאות הכפל המקוצר:

○ נוסחת הבינום של ניוטון: $a^2 \pm 2ab + b^2 = (a \pm b)^2$

○ נוסחה להפרש ריבועים: $a^2 - b^2 = (a + b)(a - b)$

שאלות:

- (1) פשט את הביטויים הבאים ע"י הוצאת גורם משותף:

א. $3x - 12$ ב. $6y - 4$

ג. $20 - 8a$ ד. $4a^3 + 8b$

ה. $75m^2 + 25m + 15$ ו. $40a^2 - 8b^2 + 64c^2$

- (2) פשט את הביטויים הבאים ע"י הוצאת גורם משותף:

א. $y^2 + 5y$ ב. $3x - 11x^3$

ג. $6y^2 + 5y^3 + 4y$ ד. $\frac{1}{2}a^7 - \frac{1}{4}a^5 + a^3$

3 פשט את הביטויים הבאים ע"י הוצאת גורם משותף :

א. $2x^2 - 8x$	ב. $3t^2 + 12t$
ג. $5n^3 - 20n^2 + 50n$	ד. $8y^2 + 6y^3 - 2y^4$
ה. $4x^2y^2 + 16x^2y - 20xy^2$	ו. $27mn - 3n^2m + 9n^3m$

4 פשט את הביטויים הבאים ע"י שימוש בנוסחאות הכפל המקוצר :

א. $x^2 + 10x + 25$	ב. $x^2 + 12x + 36$
ג. $y^2 - 18y + 81$	ד. $y^2 - 22y + 121$
ה. $4x^2 + 4x + 1$	ו. $16y^2 - 8y + 1$
ז. $9x^2 - 24x + 16$	ח. $25x^2 + 70x + 49$

5 פשט את הביטויים הבאים ע"י שימוש בנוסחאות הכפל המקוצר :

א. $r^2 - 25$	ב. $x^2 - 81$
ג. $25y^2 - 49$	ד. $121x^2 - 1$
ה. $x^2y^2 - 4$	ו. $9y^4 - 169x^4$

6 פשט את הביטויים הבאים ע"י הוצאת גורם משותף ונוסחאות הכפל המקוצר :

א. $y - y^3$	ב. $x^3 - 10x^2 + 25x$
ג. $m^4 - 1$	ד. $196x^4 - 140x^3 + 25x^2$

תשובות סופיות:

- (1) א. $3(x-4)$ ב. $2(3y-2)$ ג. $4(5-2a)$
- ד. $4(a^3+2b)$ ה. $5(15m^2+5m+3)$ ו. $8(5a^2-b^2+8c^2)$
- (2) א. $y(y+5)$ ב. $x(3-11x^2)$ ג. $y(6y+5y^2+4)$
- ד. $a^3\left(\frac{1}{2}a^4-\frac{1}{4}a^2+1\right)$
- (3) א. $2x(x-4)$ ב. $3t(t+4)$ ג. $5n(n^2-4n+10)$
- ד. $2y^2(4+3y-y^2)$ ה. $4xy(xy+4x-5y)$ ו. $3mn(9-n-3n^2)$
- (4) א. $(x+5)^2$ ב. $(x+6)^2$ ג. $(y-9)^2$ ד. $(y-11)^2$
- ה. $(2x+1)^2$ ו. $(4y-1)^2$ ז. $(3x-4)^2$ ח. $(5x+7)^2$
- (5) א. $(r+5)(r-5)$ ב. $(x+9)(x-9)$ ג. $(5y+7)(5y-7)$
- ד. $(11x+1)(11x-1)$ ה. $(xy+2)(xy-2)$ ו. $(3y^2+13x^2)(3y^2-13x^2)$
- (6) א. $y(1+y)(1-y)$ ב. $x(x-5)^2$ ג. $(m^2+1)(m+1)(m-1)$
- ד. $x^2(14x-5)^2$

פירוק הטרינום:

סיכום כללי:

טרינום משמעו תלת איבר מהצורה: $ax^2 + bx + c$ כאשר a, b ו- c הם מספרים כלשהם.

שיטת הטרינום מאפשרת לפרק את תלת האיבר ל-4 איברים ע"י פיצול האיבר bx לשני איברים באופן כזה שמאפשר להוציא גורם משותף.

הכלל הוא למצוא שני מספרים, m_1 ו- m_2 , שמקיימים: $m_1 \cdot m_2 = ac$ ו- $m_1 + m_2 = b$.
 לאחר מכן ניתן לפרק את הטרינום: $ax^2 + bx + c = ax^2 + m_1x + m_2x + c$.
 השלב האחרון הוא הוצאת גורם משותף מכל זוג: $\underbrace{ax^2 + m_1x} + \underbrace{m_2x + c}$.

הערה:

במקרה שנוסחת השורשים ידועה, ניתן להיעזר בה כדי למצוא את המספרים m_1 ו- m_2 באופן

הבא: $m_1 = \frac{-b + \sqrt{b^2 - 4ac}}{2a}$, $m_2 = \frac{-b - \sqrt{b^2 - 4ac}}{2a}$ ולאחר מכן ניתן לכתוב את הטרינום

כמכפלה: $ax^2 + bx + c = a(x - m_1)(x - m_2)$. אם קיים פתרון (שורש) אחד $m_1 = m_2 = \frac{-b}{2a}$ אז

נכתוב: $ax^2 + bx + c = a(x - m_1)^2$ ואם לא קיימים פתרונות אז לא קיים פירוק כלל.

שאלות:

(1) פרק את הביטויים הבאים לפי פירוק טרינום:

- | | | |
|---------------------|---------------------|---------------------|
| א. $x^2 + 5x + 4$ | ב. $x^2 - 8x + 15$ | ג. $x^2 - 33x + 62$ |
| ד. $2x^2 + 7x - 15$ | ה. $3x^2 - 11x + 6$ | ו. $6x^2 + 5x + 1$ |
| ז. $2x^2 + x - 6$ | ח. $x^2 - 18x + 81$ | ט. $x^2 + 2x + 8$ |

(2) פרק את הביטויים הבאים ע"י שימוש בנוסחת השורשים.

הערה: במידה ולא למדת על נוסחת השורשים התעלם משאלה זו.

- | | |
|----------------------|--------------------|
| א. $6x^2 + 5x + 1$ | ב. $x^2 + 5x + 4$ |
| ג. $4x^2 + 20x + 25$ | ד. $3x^2 - x + 20$ |

תשובות סופיות:

$$(1) \quad \text{א. } (x+1)(x+4) \quad \text{ב. } (x-3)(x-5) \quad \text{ג. } (x-2)(x-31)$$

$$\text{ד. } (2x-3)(x+5) \quad \text{ה. } (3x-2)(x-3) \quad \text{ו. } (3x+1)(2x+1)$$

$$\text{ז. } (x+2)(2x-3) \quad \text{ח. } (x-9)^2 \quad \text{ט. אין פירוק.}$$

$$(2) \quad \text{א. } 6\left(x+\frac{1}{3}\right)\left(x+\frac{1}{2}\right) \quad \text{ב. } (x+1)(x+4) \quad \text{ג. } (2x+5)^2 \quad \text{ד. אין פירוק.}$$

שברים אלגברים:

סיכום כללי:

הגדרה:

שבר אלגברי מורכב משתי תבניות, אשר אחת מחלקת את השנייה.

$$\text{דוגמא לשברים אלגבריים: } \frac{x+1}{x+2}, \frac{3x}{x^2+1}, \frac{4}{x-x^3}$$

במקרה בו המכנה הוא מספר, לא מדובר בשבר אלגברי מכיוון שניתן לכתוב את

$$\text{הביטוי ללא צורך בחילוק בין ביטויים שונים כגון: } \frac{3x+5}{4} = \frac{3}{4}x + \frac{5}{4}$$

תחום הגדרה של שבר:

היות ושבר אלגברי הוא תבנית אשר יכולה לקבל ערכים שונים בעת הצבות שונות, חשוב להגביל את המספרים שניתן להציב באופן כזה שלא תתקבל חלוקה באפס.

$$\text{דוגמא: השבר } \frac{1}{x+4} \text{ לא מוגדר כאשר } x = -4 \text{ מכיוון שמתקבל: } \frac{1}{0}$$

במקרים אלו נדרוש **תנאי** על המשתנה אשר יכתב באופן הבא: $x \neq -4$ ומשמעו היא ש- x יכול לקבל על ערך מספרי אפשרי למעט -4, מכיוון שבמקרה זה השבר לא מוגדר.

כלל צמצום שברים אלגברים:

ניתן לצמצם שברים אלגברים ע"י הבאת המונה והמכנה למכפלה של ביטויים. במידה וקיימות פעולות החיבור והחיסור בין איברים שונים לא ניתן לבצע צמצום של איברים דומים בין המונה והמכנה. להלן מספר דוגמאות הנוגעות לצמצומים:

$$\bullet \text{ צמצום ע"י הוצאת גורם משותף: } \frac{2x+8}{x+4} = \frac{2(x+4)}{x+4} = \frac{2 \cdot 1}{1} = 2$$

$$\bullet \text{ צמצום ע"י נוסחת כפל מקוצר: } \frac{3x-15}{x^2-10x+25} = \frac{3(x-5)}{(x-5)^2} = \frac{3 \cdot 1}{x-5} = \frac{3}{x-5}$$

$$\bullet \text{ צמצום ע"י פירוק טרינום: } \frac{x^2-2x-3}{x^2-3x-4} = \frac{(x+1)(x-3)}{(x+1)(x-4)} = \frac{x-3}{x-4}$$

שאלות:

(1) מצא את תחום ההגדרה של השברים האלגבריים הבאים:

$\frac{5}{x-6}$.ב.	$\frac{x+4}{x+3}$.א.
$\frac{x^2+1}{x^2-4x}$.ד.	$\frac{x+7}{2x-8}$.ג.
$\frac{x^2}{x^2-4}$.ו.	$\frac{3}{x^2+2x+1}$.ה.
$\frac{8x-2}{3x^3-15x^2+12x}$.ח.	$\frac{6}{y^4-y^2}$.ז.

(2) צמצם את השברים הבאים (במידה ולא ניתן צמצם הסבר מדוע):

$\frac{a-x}{a}$.ב.	$\frac{ax}{a}$.א.
$\frac{x+1}{y+1}$.ד.	$\frac{a-ax}{a}$.ג.
$\frac{6x}{6y}$.ו.	$\frac{x}{x+y}$.ה.
$\frac{x^2+y^2}{x^2y^2}$.ח.	$\frac{x^2y}{xy^2}$.ז.
$\frac{3x^2}{x^2+3}$.י.	$\frac{4x^2y}{xy}$.ט.

(3) צמצם את השברים הבאים ע"י הוצאת גורם משותף וכתוב את תחום הגדרתם:

$\frac{m^2+4m}{4m+16}$.ב.	$\frac{3x+12}{x+4}$.א.
$\frac{x^2-5x}{15-3x}$.ד.	$\frac{2a-12}{a^2-6a}$.ג.
$\frac{4x^3-2x^2}{6x-3}$.ו.	$\frac{3-18y^2}{6y^2-1}$.ה.
$\frac{3z^3-12z^2+4z}{z^2+5z}$.ח.	$\frac{3y}{y^3-3y^2}$.ז.

4) צמצם את השברים הבאים ע"י פירוק לגורמים וכתוב את תחום הגדרתם:

$\frac{8n - n^2}{n^2 - 16n + 64} \quad \text{ב.}$	$\frac{x^2 + 10x + 25}{2x + 10} \quad \text{א.}$
$\frac{4m^2 + 20m + 25}{4m^2 + 10m} \quad \text{ד.}$	$\frac{z^3 - 4z^2}{2z^2 - 16z + 32} \quad \text{ג.}$
$\frac{a^3 + 4a^2b + 4ab^2}{3ab + 6b^2} \quad \text{ו.}$	$\frac{18y^2 - 24y + 8}{2y - 3y^2} \quad \text{ה.}$

5) צמצם את השברים הבאים ע"י טרינום ריבועי וכתוב את תחום הגדרתם:

$\frac{m^2 - 12m + 32}{m - 4} \quad \text{ב.}$	$\frac{x + 2}{x^2 - 3x - 10} \quad \text{א.}$
$\frac{3z^2 + 26z + 16}{3z + 2} \quad \text{ד.}$	$\frac{4y - 10}{2y^2 + y - 15} \quad \text{ג.}$
$\frac{9n^2 - 12n}{4 + 5n - 6n^2} \quad \text{ו.}$	$\frac{x^2 + 5x - 36}{x^3 + 9x^2} \quad \text{ה.}$
$\frac{x^2 - 14x + 49}{x^2 + x - 56} \quad \text{ח.}$	$\frac{x^2 + 4x + 4}{x^2 + 5x + 6} \quad \text{ז.}$
$\frac{m^3n - m^2n^2 - m^2 + mn}{2m^2n^3 + mn^2 - 3n} \quad \text{י.}$	$\frac{3a^2b - 10ab^2 + 3b^3}{-3a^3b + 11a^2b^2 - 6ab^3} \quad \text{ט.}$

תשובות סופיות:

$$(1) \quad \text{א. } x \neq -3 \quad \text{ב. } x \neq 6 \quad \text{ג. } x \neq 4 \quad \text{ד. } x \neq 0, x \neq 4$$

$$\text{ה. } x \neq -1 \quad \text{ו. } x \neq -2, x \neq 2 \quad \text{ז. } y \neq 0, y \neq -1, y \neq 1$$

$$\text{ח. } x \neq 0, x \neq 1, x \neq 4$$

$$(2) \quad \text{א. } x \quad \text{ב. לא ניתן לצמצם} \quad \text{ג. } 1-x$$

$$\text{ד. לא ניתן לצמצם} \quad \text{ה. לא ניתן לצמצם} \quad \text{ו. } \frac{x}{y} \quad \text{ז. } \frac{x}{y}$$

$$\text{ח. לא ניתן לצמצם} \quad \text{ט. } 4x \quad \text{י. לא ניתן לצמצם}$$

$$(3) \quad \text{א. } x \neq -4, 3 \quad \text{ב. } \frac{m}{4}, m \neq -4 \quad \text{ג. } \frac{2}{a}, a \neq 0, 6$$

$$\text{ד. } -\frac{x}{3}, x \neq 5 \quad \text{ה. } -3, y \neq \pm \frac{1}{\sqrt{6}} \quad \text{ו. } \frac{2x^2}{3}, x \neq \frac{1}{2}$$

$$\text{ז. } \frac{3}{y(y-3)}, y \neq 0, 3 \quad \text{ח. } \frac{3z^2 - 12z + 4}{z+5}, z \neq 0, -5$$

$$(4) \quad \text{א. } \frac{x+5}{2}, x \neq -5 \quad \text{ב. } \frac{n}{8-n}, n \neq 8 \quad \text{ג. } \frac{z^2}{2(z-4)}, z \neq 4$$

$$\text{ד. } \frac{2m+5}{2m}, m \neq 0, -\frac{5}{2} \quad \text{ה. } \frac{2(2-3y)}{y}, y \neq 0, \frac{2}{3} \quad \text{ו. } \frac{a(a+2b)}{3b}, b \neq 0, a \neq -2b$$

$$(5) \quad \text{א. } \frac{1}{x-5}, x \neq 5, -2 \quad \text{ב. } m-8, m \neq 4 \quad \text{ג. } \frac{2}{y+3}, x \neq -3, \frac{5}{2}$$

$$\text{ד. } z+8, z \neq -\frac{2}{3} \quad \text{ה. } \frac{x-4}{x^2}, x \neq 0, -9 \quad \text{ו. } \frac{-3n}{2n+1}, n \neq -\frac{1}{2}, \frac{4}{3}$$

$$\text{ז. } \frac{x+2}{x+3}, x \neq -2, -3 \quad \text{ח. } \frac{x-7}{x+8}, x \neq 7, -8$$

$$\text{ט. } \frac{3a-b}{a(2b-3a)}, a \neq 0, b \neq 0, a \neq 3b, 2b \neq 3a \quad \text{י. } \frac{m(m-n)}{n(2mn+3)}, mn \neq 1, -\frac{3}{2}, n \neq 0$$

כפל וחילוק של שברים אלגבריים:

סיכום כללי:

כפל שברים יתבצע ע"י הכפלת כל מונה בנפרד והכפלת כל מכנה בנפרד.
חילוק שברים יתבצע ע"י לקיחת ההופכי של שבר המחלק וביצוע פעולת כפל.

$$\bullet \text{ דוגמה לכפל שברים: } \frac{x+1}{x^2} \cdot \frac{x}{3x+3} = \frac{x+1}{x^2} \cdot \frac{x}{3(x+1)} = \frac{\cancel{x}(x+1)}{3x^{\cancel{2}}(x+1)} = \frac{1}{3x}$$

$$\bullet \text{ דוגמה לחילוק שברים: } \frac{4x}{y} : \frac{12}{y^2+y} = \frac{4x}{y} \cdot \frac{y^2+y}{12} = \frac{\cancel{4}x}{\cancel{12}} \cdot \frac{\cancel{y}(y+1)}{\cancel{12}_3} = \frac{x(y+1)}{3}$$

שאלות:

(1) פשט את הביטויים הבאים:

$$\text{א. } \frac{x}{3} \cdot \frac{x}{8} \quad \text{ב. } \frac{x}{3} \cdot \frac{9}{x^2}$$

$$\text{ג. } 7y \cdot \frac{5}{y^2} \quad \text{ד. } 6x^2 \cdot \frac{3}{40x}$$

$$\text{ה. } (x^2+3x) \cdot \frac{2}{3x+9} \quad \text{ו. } (a^2-25) \cdot \frac{20}{5a+25}$$

$$\text{ז. } \frac{w^2-9}{w} \cdot \frac{w^2}{2w+6} \quad \text{ח. } \frac{y+4}{y^2+16} \cdot \frac{y^2-16}{2y+8}$$

$$\text{ט. } \frac{z^2+30z+225}{6z+90} \cdot \frac{12}{2z-10} \quad \text{י. } \frac{5n^2}{n^2-121} \cdot \frac{2n^2+44n+242}{n+2} \cdot \frac{n^2+4n+4}{n}$$

(2) פשט את הביטויים הבאים:

א. $\frac{x}{8} : \frac{x}{6}$	ב. $\frac{y}{25} : \frac{5}{y}$
ג. $a^2 : \frac{1}{6a}$	ד. $\frac{5}{6a} : a^2$
ה. $(d^2 - 3d) : \frac{5d - 15}{5d}$	ו. $\frac{t}{t+4} : \frac{3t}{t+4}$
ז. $\frac{y^2 + 8y + 16}{8y^2} : \frac{y^2 - 16}{7y^2}$	ח. $\frac{a^2 - 64}{a^2 - 36} : \frac{a+8}{a+6}$

תשובות סופיות:

א. $\frac{x^2}{24}$	ב. $\frac{3}{x}$	ג. $\frac{35}{y}$	ד. $\frac{9x}{20}$	ה. $\frac{2x}{3}$	(1)
ו. $4(a-5)$	ז. $\frac{w(w-3)}{2}$	ח. $\frac{y^2 - 16}{2y^2 + 32}$	ט. $\frac{z+15}{z-5}$	י. $\frac{10n(n+11)(n+2)}{n-11}$	
א. $\frac{3}{4}$	ב. $\frac{y^2}{125}$	ג. $6a^3$	ד. $\frac{5}{6a^3}$	ה. d^2	ו. $\frac{1}{3}$
ז. $\frac{7(y+4)}{8(y-4)}$	ח. $\frac{a-8}{a-6}$				

חיבור וחיסור של שברים אלגבריים:

סיכום כללי:

ביצוע פעולת החיבור והחיסור תתבצע באופן זהה לשברים מספריים. נרצה להרחיב את השברים כך שהמכנה של שניהם יהיה זהה, ולאחר מכן נחבר את המונים. כדי להרחיב את השברים נעזר בפעולת מציאת מכנה משותף. לשם כך נעזר בפירוקים השונים כדי להביא את הביטויים שבכל מכנה לצורתם המופשטת. דוגמא לחיבור שברים בעלי אותו מכנה:

$$\frac{1}{x} + \frac{x+1}{x} = \frac{1+(x+1)}{x} = \frac{x+2}{x}$$

דוגמא לחיבור מספר לשבר אלגברי:

$$2 + \frac{3}{x+2} = \frac{2(x+2)}{x+2} + \frac{3}{x+2} = \frac{2(x+2)+3}{x+2} = \frac{2x+7}{x+2}$$

דוגמא לחיבור שברים עם מכנים שונים (ע"י פעולת מכנה משותף):

$$\frac{1}{x+1} + \frac{1}{x} = \frac{x}{x(x+1)} + \frac{x+1}{x(x+1)} = \frac{x+x+1}{x(x+1)} = \frac{2x+1}{x(x+1)}$$

דוגמא לחיבור שברים ע"י שימוש בפירוק לגורמים (כדי למצוא מכנה משותף מינימלי):

$$\frac{1}{x^2-3x} + \frac{3}{x-3} = \frac{1}{x^2-3x} + \frac{3x}{x^2-3x} = \frac{1+3x}{x^2-3x}$$

דוגמא לחיבור שברים ע"י נוסחאות הכפל המקוצר (כדי למצוא מכנה משותף מינימלי):

$$\frac{3}{x^2-6x+9} - \frac{2}{x^2-9} = \frac{3}{(x-3)^2} - \frac{2}{(x-3)(x+3)} = \frac{3(x+3)-2(x-3)}{(x-3)^2(x+3)} = \frac{x+15}{(x-3)^2(x+3)}$$

שאלות:

(1) פשט את הביטויים הבאים:

א. $\frac{a}{6} + \frac{a-5}{6}$

ג. $\frac{x-2}{x+1} + \frac{3+4x}{x+1}$

ב. $\frac{5}{x} + \frac{4x+3}{x}$

ד. $\frac{7z}{2z-3} - \frac{4z}{2z-3} - \frac{z+3}{2z-3}$

(2) פשט את הביטויים הבאים:

א. $\frac{1}{ab} - \frac{5}{bc}$

ג. $\frac{c}{ab} - \frac{ad}{bc} + \frac{2b}{cd}$

ב. $\frac{1}{xy} + \frac{5}{yz} + \frac{4}{xz}$

ד. $-\frac{5}{x} + \frac{x+1}{xy^2}$

ה. $\frac{1}{(y+1)^2} + \frac{3}{y+1}$

ו. $\frac{3}{z(z-3)} - \frac{2}{z(z-2)}$

(3) פשט את הביטויים הבאים:

א. $1 - \frac{2}{x}$

ג. $2 + \frac{2}{x+1}$

ב. $1 + \frac{3}{y^2}$

ד. $3 - \frac{1}{x} + \frac{1}{3x}$

ה. $\frac{a+1}{a^2} - \frac{3-a}{4a} - 3$

ו. $\frac{x}{9yz} + \frac{z}{3y^2x} + \frac{3-y}{12xz} - 3\frac{1}{2}$

(4) פשט את הביטויים הבאים:

א. $\frac{3}{x+1} + \frac{1}{x}$

ג. $\frac{a+1}{a+2} + \frac{3}{a}$

ב. $\frac{4}{y+2} - \frac{3}{y}$

ד. $\frac{1}{z+3} + \frac{2}{3z} - \frac{3}{z}$

5 פשט את הביטויים הבאים:

$$\frac{3}{x^2-16} + \frac{2}{(x+4)^2} \quad \text{ב.}$$

$$\frac{24}{a^2-9} + \frac{4}{a+3} \quad \text{א.}$$

$$\frac{3z}{z^2+4z+3} - \frac{z+0.5}{z^2+2z+1} \quad \text{ד.}$$

$$\frac{y}{(y-2)^2} + \frac{3y}{4-y^2} \quad \text{ג.}$$

$$\frac{2a+3}{2a^2+15a+7} + \frac{a+3}{a^2+14a+49} \quad \text{ו.}$$

$$\frac{x-1}{x^2+3x-40} + \frac{2}{-x^2+8x-15} \quad \text{ה.}$$

$$\frac{1}{a-b} + \frac{2}{a+2b} - \frac{3b}{a^2+ab-2b^2} \quad \text{ח.}$$

$$\frac{x}{x-3} + \frac{9-x}{x^2-8x+15} \quad \text{ז.}$$

6 פשט את הביטויים הבאים:

$$\left(\frac{2}{x}+1\right) \cdot \frac{x^2}{7x+14} \quad \text{ב.}$$

$$\frac{4}{x} \cdot \frac{x^2}{8} + \frac{9}{x+1} \cdot \frac{x+1}{18} \quad \text{א.}$$

$$\left(3x - \frac{2}{x^2} + \frac{1}{x}\right) : \frac{6x^3+2x-4}{x^2} \quad \text{ד.}$$

$$\frac{7}{y^2} : \frac{6}{y^3} - \frac{y-4}{63} \cdot \frac{3y-4}{y^2-8y+16} \quad \text{ג.}$$

$$\left(\frac{2x+1}{20x^2-28x-3} - \frac{3x+1}{30x^2-17x-2}\right) : \frac{18x+3}{6x^2-13x+6} \quad \text{ה.}$$

תשובות סופיות:

$$(1) \quad \begin{array}{lll} \text{א.} & \frac{2a-5}{6} & \text{ב.} & \frac{4x+8}{x} & \text{ג.} & \frac{5x+1}{x+1} & \text{ד.} & 1 \end{array}$$

$$(2) \quad \begin{array}{lll} \text{א.} & \frac{c-5a}{abc} & \text{ב.} & \frac{z+5x+4y}{xyz} & \text{ג.} & \frac{c^2d - a^2d^2 + 2ab^2}{abcd} \end{array}$$

$$\begin{array}{lll} \text{ד.} & \frac{-5y^2 + x + 1}{xy^2} & \text{ה.} & \frac{3y+4}{(y+1)^2} & \text{ו.} & \frac{1}{(z-2)(z-3)} \end{array}$$

$$(3) \quad \begin{array}{lll} \text{א.} & \frac{x-2}{x} & \text{ב.} & \frac{y^2+3}{y^2} & \text{ג.} & \frac{2x+4}{x+1} \end{array}$$

$$\begin{array}{lll} \text{ד.} & \frac{9x-2}{3x} & \text{ה.} & \frac{-11a^2 + a + 4}{4a^2} & \text{ו.} & \frac{4x^2y + 12z^2 + 9y^2 - 3y^3 - 126xy^2z}{36xy^2z} \end{array}$$

$$(4) \quad \begin{array}{lll} \text{א.} & \frac{4x+1}{x(x+1)} & \text{ב.} & \frac{y-6}{y(y+2)} & \text{ג.} & \frac{a^2 + 4a + 6}{a(a+2)} \end{array}$$

$$\text{ד.} \quad \frac{4z+21}{3z(z+3)}$$

$$(5) \quad \begin{array}{lll} \text{א.} & \frac{4}{a-3} & \text{ב.} & \frac{5x+4}{(x-4)(x+4)^2} & \text{ג.} & \frac{2y(4-y)}{(y-2)^2(y+2)} \end{array}$$

$$\begin{array}{lll} \text{ד.} & \frac{(4z+3)(z-1)}{2(z+1)^2(z+3)} & \text{ה.} & \frac{x^2 - 6x - 13}{(x+8)(x-5)(x-3)} & \text{ו.} & \frac{4(a^2 + 6a + 6)}{(a+7)^2(2a+1)} \end{array}$$

$$\begin{array}{ll} \text{ז.} & \frac{x-3}{x-5} \\ \text{ח.} & \frac{3}{a+2b} \end{array}$$

$$(6) \quad \begin{array}{lll} \text{א.} & \frac{x+1}{2} & \text{ב.} & \frac{x}{7} & \text{ג.} & \frac{147y^2 - 594y + 8}{126(y-4)} & \text{ד.} & \frac{1}{2} & \text{ה.} & \frac{1}{3(10x+1)} \end{array}$$

שברים כפולים:

סיכום כללי:

שבר כפול מורכב באופן הבא: $\frac{\frac{a}{b}}{\frac{c}{d}}$ כאשר מתקיים: $\frac{\frac{a}{b}}{\frac{c}{d}} = \frac{a}{b} \cdot \frac{d}{c} = \frac{ad}{bc}$

נובע מכאן כי ניתן לצמצם ביטויים בין שני המכנים או שני המונים בלבד.

שאלות:

פשט את הביטויים הבאים:

$\frac{y+1}{2y+2} \quad (2)$	$\frac{4x}{12} \quad (1)$
$\frac{5}{t^2-81}$	$\frac{x}{5}$
$\frac{9t^2}{6t+54} \quad (4)$	$\frac{t}{30t^2} \quad (3)$
$\frac{4x}{x+1} \quad (6)$	$\frac{3y^3-y^2}{25} \quad (5)$
$\frac{x^2+2x+1}{t^2-t-20}$	$\frac{y^2}{3-y}$
$\frac{16t+8}{25-t^2} \quad (8)$	$\frac{8c^2}{3c^3-9c^2-12c} \quad (7)$
$\frac{2t+1}{x^2+2x+1}$	$\frac{15c+15}{1-4+\frac{x}{x+1}} \quad (9)$
	$\frac{1-3x(x+1)}{5x+5}$

תשובות סופיות:

$$\frac{x^2}{3} \quad (1)$$

$$2.5 \quad (2)$$

$$\frac{1}{6t^3} \quad (3)$$

$$\frac{t-9}{54t^2} \quad (4)$$

$$\frac{(3y-1)(3-y)}{25} \quad (5)$$

$$\frac{x(x+1)}{2} \quad (6)$$

$$\frac{c}{c-4} \quad (7)$$

$$\frac{t+4}{-8(t+5)} \quad (8)$$

$$\frac{5}{x} \quad (9)$$

הכנה למבחן כניסה למכינה במתמטיקה

פרק 2 - משוואות אלגבריות

תוכן העניינים

47	1. משוואות ממעלה ראשונה
49	2. מערכת שתי משוואות בשני נעלמים ממעלה ראשונה
52	3. משוואות עם אינסוף פתרונות וללא פתרון
53	4. משוואה ממעלה שנייה
55	5. משוואות דו-ריבועיות
57	6. משוואות עם פרמטרים
59	7. משוואות עם שורשים
61	8. משוואות עם ערך מוחלט
62	9. מערכת משוואות ממעלה שנייה
64	10. משוואות מתקדמות מסכמות
67	11. פישוט ביטויים ומשוואות ממעלה שלישית

משוואה ממעלה ראשונה:

סיכום כללי:

משוואה ממעלה ראשונה היא מהצורה: $ax = b$ (כלומר, החזקה של הנעלם היא 1).

פתרון של משוואה ממעלה ראשונה הוא $x = \frac{b}{a}$ כאשר $a \neq 0$.

שלבי הפתרון הם:

1. ביצוע מכנה משותף (במידה וצריך).
2. פתיחת סוגריים אם ישנם.
3. העברת אגפים וכינוס אברים דומים (בידוד הנעלם באגף אחד והמספרים באגף שני).
4. בידוד הנעלם ומציאתו ע"י חילוק במקדם שלו.

שאלות:

(1) פתור את המשוואות הבאות (משוואות יסודיות ממעלה ראשונה):

ב. $7 - 2x = 7$

א. $6x + 2 = 8$

ד. $2x + 6 = 8 + x$

ג. $2x + x = 24$

ו. $6x - 3 + 5 - 7x = x - 5x - 7$

ה. $-7x + 5 + 2x = 4x - 13$

ח. $x - 2 + 5x = 4 - 3x - 5 + 7x + 7$

ז. $2 - 5x + 7 = -3x + 8$

(2) פתור את המשוואות הבאות (משוואות עם פתיחת סוגריים):

ב. $7x - 4(3 - 4x) = -x$

א. $3(x - 1) - 4 = 2$

ד. $5x - (3x - 7)4 = 21$

ג. $6(4 - x) - (6 - x) = 3x$

ו. $(7 - x)(1 - x) - (x - 3)^2 = 0$

ה. $x(x - 5) = x^2 - 7x + 8$

3 פתור את המשוואות הבאות (משוואות עם מכנה מספרי):

$$\begin{array}{ll}
 \text{א. } \frac{x}{3} - \frac{x}{9} = -4 & \text{ב. } \frac{4x}{15} - \frac{3x}{10} = 1 \\
 \text{ג. } \frac{2}{3}x + \frac{4}{5}x = x - \frac{7}{15} & \text{ד. } \frac{5x+1}{6} - \frac{6x-1}{5} = \frac{3x+1}{4} - 1 \\
 \text{ה. } \frac{2}{5}(x-3) - \frac{3}{15}(4-x) = x+2 & \text{ו. } 5\left(\frac{x}{3} - \frac{x}{7}\right) - x = 1
 \end{array}$$

4 פתור את המשוואות הבאות (משוואות עם נעלם במכנה):

$$\begin{array}{ll}
 \text{א. } \frac{1}{4} - \frac{2}{x} = 0 & \text{ב. } \frac{1}{2} - \frac{x}{x-1} = 0 \\
 \text{ג. } \frac{3}{x} = \frac{1}{x+2} & \text{ד. } \frac{5}{2x-1} = \frac{4}{3x+2} \\
 \text{ה. } \frac{x+5}{3x^2} - \frac{1}{6x} = \frac{1}{x} & \text{ו. } \frac{1}{4x} + \frac{3}{x} = \frac{13}{2}
 \end{array}$$

5 פתור את המשוואות הבאות (משוואות עם מכנה משותף ע"י פירוק לגורמים):

$$\begin{array}{ll}
 \text{א. } \frac{x^2+2}{3x^2+5x} = \frac{3x-1}{9x+15} & \text{ב. } \frac{7}{x^2-1} + \frac{2}{x+1} + \frac{3}{2-2x} = 0 \\
 \text{ג. } \frac{3}{(2-x)^2} + \frac{5}{12-3x^2} = 0 & \text{ד. } \frac{4x^2-24x+36}{x-3} = 12
 \end{array}$$

תשובות סופיות:

- (1) א. $x=1$ ב. $x=0$ ג. $x=8$ ד. $x=2$ ה. $x=2$ ו. $x=-3$
- ז. $x=\frac{1}{2}$ ח. $x=4$
- (2) א. $x=3$ ב. $x=\frac{1}{2}$ ג. $x=2\frac{1}{4}$ ד. $x=1$ ה. $x=4$ ו. $x=-1$
- (3) א. $x=-18$ ב. $x=-30$ ג. $x=-1$ ד. $x=1$ ה. $x=-10$ ו. $x=-21$
- (4) א. $x=8$ ב. $x=-1$ ג. $x=-3$ ד. $x=-2$ ה. $x=2$ ו. $x=\frac{1}{2}$
- (5) א. $x=-6$ ב. $x=-7$ ג. $x=-7$ ד. $x=6, x \neq 3$

מערכת שתי משוואות בשני נעלמים ממעלה ראשונה:

סיכום כללי:

הגדרה:

מערכת שתי משוואות בשני נעלמים ממעלה ראשונה (ליניאריות) היא מהצורה הבאה:

$$\begin{cases} a_1x + b_1y = c_1 \\ a_2x + b_2y = c_2 \end{cases}$$

כאשר a_1, b_1, c_1 ו- a_2, b_2, c_2 הם מקדמים מספריים.

$$\cdot \begin{cases} y = 3x - 1 \\ \frac{x + 3}{2} = y + 6 \end{cases}, \begin{cases} x + y = 3 \\ 2x - y = 1 \end{cases} : \text{דוגמאות למערכות של משוואות}$$

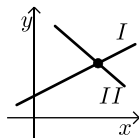
פתרון של מערכת משוואות:

פתרון של מערכת המשוואות הוא זוג סדור המקיים את כל המשוואות שבמערכת.

הצגה גרפית של מערכת משוואות:

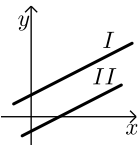
פתרון גרפי של מערכת משוואות הוא נקודת החיתוך של הישרים המייצגים כל משוואה.

יתכנו שלושה מצבים הדדיים בין שני ישרים:



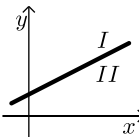
- הישרים נחתכים:

במקרה זה נקודת החיתוך תהיה פתרון המערכת.



- הישרים מקבילים:

במקרה זה לא יהיה פתרון למערכת.



- הישרים מתלכדים:

במקרה זה יהיו אינסוף פתרונות למערכת המשוואות.

פתרון אלגברי של מערכת משוואות:

- פתרון ע"י שיטת ההצבה :
 נבודד את אחד הנעלמים ממשוואה אחת ונציב אותו במשוואה השנייה.
 נבחר בשיטה זו במקרים בהם קל לבודד נעלם באחת המשוואות.
 - פתרון ע"י השוואת מקדמים :
1. כופלים (או מחלקים) משוואה אחת (או שתיהן) במספר השונה מאפס כך שתתקבלנה משוואות שקולות בעלות מקדמים נגדיים או זהים עבור אחד המשתנים.
 2. מחברים (או מחסרים) את המשוואות ומקבלים משוואה חדשה עם נעלם אחד.
 3. מוצאים את ערך הנעלם מהמשוואה החדשה ומציבים אותו באחת המשוואות המקוריות למציאת ערך הנעלם השני.

הערה:

נוח להשתמש בשיטת השוואת המקדמים ע"י כך שמעבירים את המערכת הנתונה למערכת שקולה שבה המשתנים באגף אחד והמספר החופשי באגף השני.

שאלות:

1) פתור את המשוואות הבאות :

$\begin{cases} -3x + 2y = -16 \\ x = 5y + 14 \end{cases} \text{ ג.}$	$\begin{cases} y = x - 3 \\ y = 2x + 4 \end{cases} \text{ ב.}$	$\begin{cases} 3x + y = 11 \\ y = 5 \end{cases} \text{ א.}$
$\begin{cases} 2x + 3y = 5 \\ 5x + 7y = 11 \end{cases} \text{ ו.}$	$\begin{cases} -5x + 7y = -26 \\ x + 3y = -8 \end{cases} \text{ ה.}$	$\begin{cases} 5x - 2y = -2 \\ x + 4y = 4 \end{cases} \text{ ד.}$

2) פתור את המשוואות הבאות :

$\begin{cases} 5x + 2y = 14 \\ 5x + 3y = 23 \end{cases} \text{ ב.}$	$\begin{cases} x + 3y = 5 \\ x - 3y = 3 \end{cases} \text{ א.}$
$\begin{cases} 4x = 3y - 29 \\ 5y = 9 - 13x \end{cases} \text{ ד.}$	$\begin{cases} 5y = 2x \\ 4x = 5y + 8 \end{cases} \text{ ג.}$

3) פתור את המשוואות הבאות :

$\begin{cases} 2(x - y) + 4y = 1 + x \\ 2 - 7y + x = 3(x - y) \end{cases} \text{ ב.}$	$\begin{cases} x + 2y = 1 \\ 4x + 8y = 5 \end{cases} \text{ א.}$
---	--

4 פתור את המשוואות הבאות :

$$\begin{cases} \frac{x-3}{8} - \frac{x+y}{16} = \frac{y-1}{4} & \text{ב.} \\ 3(2x-y) - 4x - 11 = 0 \end{cases}$$

$$\begin{cases} 3y - x + 2 = 4x + 2 - 3y & \text{א.} \\ 2x - 3 - y = 5y - 4x + 3 \end{cases}$$

$$\begin{cases} \frac{3x-1}{4} - \frac{2}{5}(x-y) = \frac{3}{10}(x+3) & \text{ג.} \\ \frac{x+1}{4} - \frac{y}{2} = 1 \end{cases}$$

5 פתור את המשוואות הבאות :

$$\begin{cases} 4x - \frac{7}{y} = -3 & \text{ג.} \\ 5x + \frac{2}{y} = 7 \end{cases}$$

$$\begin{cases} \frac{3}{x} + \frac{3}{y} = 2 & \text{ב.} \\ \frac{9}{x} - \frac{4}{y} = -7 \end{cases}$$

$$\begin{cases} \frac{3}{x} + \frac{1}{y} = 4 & \text{א.} \\ \frac{5}{x} - \frac{1}{y} = 4 \end{cases}$$

6 פתור את המשוואות הבאות :

$$\begin{cases} xy = 20 & \text{ב.} \\ y(3x-4) = 20 \end{cases}$$

$$\begin{cases} x(y+2) + y = xy - 5 & \text{א.} \\ x - y = 2 \end{cases}$$

$$\begin{cases} 5x - 4xy = 22 & \text{ג.} \\ 6x + xy = -20 \end{cases}$$

תשובות סופיות :

1 א. (2,5) ב. (-7,-10) ג. (4,-2) ד. (0,1) ה. (1,-3) ו. (-2,3)

2 א. $(4, \frac{1}{3})$ ב. $(-\frac{4}{5}, 9)$ ג. (4,1.6) ד. (-2,7)

3 א. אין פתרון. ב. אינסוף פתרונות.

4 א. (6,5) ב. (7,1) ג. (7,2)

5 א. (1,1) ב. (-3,1) ג. (1,1)

6 א. (-1,-3) ב. (2,10) ג. (-2,4)

משוואות עם אינסוף פתרונות וללא פתרון:

סיכום כללי:

משוואה ממעלה ראשונה:

למשוואה ממעלה ראשונה מהצורה: $ax = b$ יתכן פתרון יחיד אם ורק אם $a \neq 0$ מכיוון שניתן לחלק ולכתוב: $x = \frac{b}{a}$.

כאשר $a = 0$ מתקבלת המשוואה $0 \cdot x = b$ ויתכנו שני מצבים:

1. אם $b = 0$ את המשוואה היא $0x = 0$ ויש אינסוף פתרונות המקיימים אותה.
2. אם $b \neq 0$ את המשוואה היא $0x = b \neq 0$ ואין אף ערך של x המקיים אותה.

שאלות:

פתור את המשוואות הבאות:

$$x + 4 = 6 + x \quad (1) \qquad 3x + 6 - x = 4 + 2x + 2 \quad (2)$$

$$6(x - 2) = 2x + 5 + 4x \quad (3) \qquad 5x - 3 + x = 4x + 2x - 3 \quad (4)$$

$$(5) \quad \text{נתונה המשוואה: } 3 - 2(x + 2) = 5x + \square$$

- א. איזה מספר יש להציב ב- \square על מנת שפתרון המשוואה יהיה 1?
- ב. איזה מספר יש להציב ב- \square על מנת שפתרון המשוואה יהיה 0?
- ג. מצא ביטוי אלגברי שיש להציב ב- \square על מנת שלמשוואה יהיו אינסוף פתרונות.
- ד. מצא ביטוי אלגברי שיש להציב ב- \square על מנת שלמשוואה לא יהיה פתרון.

תשובות סופיות:

- (1) אף פתרון.
- (2) אינסוף פתרונות.
- (3) אין פתרון.
- (4) אינסוף פתרונות.
- (5) א. -8 ב. -1 ג. $-7x - 1$
 ד. $-7x + k$ כאשר k הוא מספר כלשהו השונה מ-1.

משוואה ממעלה שנייה:

סיכום כללי:

משוואה מהצורה: $ax^2 + bx + c = 0$ ($a \neq 0$), נקראת משוואה ריבועית. פתרונות המשוואה יסומנו ב- x_1 ו- x_2 ויחושבו לפי נוסחת השורשים:

$$x_{1,2} = \frac{-b \pm \sqrt{b^2 - 4ac}}{2a}$$

למשוואה ריבועית יתכנו שלושה סוגים של פתרונות:

- משוואה עם שני פתרונות ממשיים שונים.**
 אם מתקבל מספר חיובי בתוך השורש שבנוסחת השורשים אזי למשוואה יהיו שני פתרונות ממשיים שונים.
 דוגמא: $x^2 + 5x - 4 = 0$.
- משוואה עם פתרון ממשי אחד בלבד.**
 אם מתקבל אפס בתוך השורש שבנוסחת השורשים אזי למשוואה יהיה פתרון ממשי אחד בלבד.
 דוגמא: $x^2 + 4x + 4 = 0$.
- משוואה ללא פתרונות ממשיים כלל.**
 אם מתקבל מספר שלילי בתוך השורש שבנוסחת השורשים אזי למשוואה לא יהיו פתרונות ממשיים כלל.
 דוגמא: $x^2 + x + 4 = 0$.

שאלות:

(1) פתור את המשוואות הבאות:

ב. $-x^2 + 10x - 16 = 0$

ד. $2x^2 - 6x + 5 = 0$

א. $x^2 + 3x - 10 = 0$

ג. $25x^2 - 20x + 4 = 0$

(2) פתור את המשוואות הבאות:

ב. $-x(x-5) = (1-3x)(1-x) + 4$

ד. $(2x-1)^2 + x(2x+3) = (x-1)(x-7)$

א. $4x^2 - 5x + 7 = 4 - x^2 + 13$

ג. $2(x-5)^2 - (2x-3)^2 = 10x + 21$

(3) פתור את המשוואות הבאות (משוואה חסרת b):

$$\begin{array}{ll} \text{א.} & x^2 - 36 = 0 \\ \text{ב.} & 32x^2 - 18 = 0 \\ \text{ג.} & 4x - x(x+2) = 3(x-1) - x - 6 \\ \text{ד.} & (2x-1)^2 + (2x+1)^2 = 10 \end{array}$$

(4) פתור את המשוואות הבאות (משוואה חסרת c):

$$\begin{array}{ll} \text{א.} & -7x^2 - 14x = 0 \\ \text{ב.} & 5x^2 - x = 0 \\ \text{ג.} & 6x(x-2) - 1 = 4x - 3(x+1) + 2 \\ \text{ד.} & (5x-2)^2 = (x-2)(x+3) + 10 \end{array}$$

(5) פתור את המשוואות הבאות:

$$\begin{array}{ll} \text{א.} & \frac{4x+1}{3} - \frac{x+2}{2} = \frac{2}{x} \\ \text{ב.} & \frac{x^2-9}{x+3} + x = x^2 - 18 \\ \text{ג.} & \frac{3}{2x+2} - \frac{2x-5}{2(x-1)^2} - \frac{4}{1-x^2} = 0 \\ \text{ד.} & \frac{x}{2x^2-72} + \frac{2}{x^2+12x+36} = \frac{8x-15}{24-4x} + 2 \end{array}$$

תשובות סופיות:

$$\begin{array}{ll} \text{(1)} & \text{א. } x_1 = 2, x_2 = -5 \quad \text{ב. } x_1 = 2, x_2 = 8 \\ & \text{ג. } x = \frac{2}{5} \quad \text{ד. אין פתרון.} \\ \text{(2)} & \text{א. } x_1 = 2, x_2 = -1 \quad \text{ב. } x_1 = 1, x_2 = 1\frac{1}{4} \\ & \text{ג. } x_1 = 1, x_2 = -10 \quad \text{ד. } x_1 = 0.6, x_2 = -2 \\ \text{(3)} & \text{א. } x = \pm 6 \quad \text{ב. } x = \pm \frac{3}{4} \\ & \text{ג. } x = \pm 3 \quad \text{ד. } x = \pm 1 \\ \text{(4)} & \text{א. } x_1 = 0, x_2 = -2 \quad \text{ב. } x_1 = 0, x_2 = \frac{1}{5} \\ & \text{ג. } x_1 = 0, x_2 = 2\frac{1}{6} \quad \text{ד. } x_1 = 0, x_2 = \frac{7}{8} \\ \text{(5)} & \text{א. } x_1 = 2, x_2 = -1.2 \quad \text{ב. } x = 5, x \neq -3 \\ & \text{ג. } x_1 = 0, x_2 = -5 \quad \text{ד. } x_1 = -7.6, x_2 = -4\frac{2}{7} \end{array}$$

משוואות דו-ריבועיות:

סיכום כללי:

משוואה דו-ריבועית היא משוואה מהצורה: $ax^4 + bx^2 + c = 0$ כאשר הנעלם הוא x .
 פתרון המשוואה יבוצע ע"י מעבר לפרמטר: $x^2 = t \rightarrow at^2 + bt + c = 0$ ומציאתו.
 לאחר מכן יש להחזיר את ההצבה ולמצוא את ערכי x .

ניתן להביא משוואות לצורה זו ולהגדיר ביטוי המופיע בחזקות 2 ו-4 כגון:
 $t = x^2 - 1$: באמצעות פרמטר: $(x^2 - 1)^2 + 3(x^2 - 1) - 2 = 0$
 ובכך לפתור משוואה: $t^2 + 3t - 2 = 0$ ולהחזיר את ההצבה עבור מציאת x .
 דרך הפתרון תקפה לכל משוואה בה הנעלם מופיע בחזקות כפולות כגון 3 ו-6, או 4 ו-8.

שאלות:

פתור את המשוואות הבאות:

- | | |
|--|---|
| $x^4 - 3x^2 + 2 = 0$ (2) | $5x^4 + 3x^2 - 8 = 0$ (1) |
| $x^2(x^2 + 1) = 10(3x^2 - 10)$ (4) | $13x^2(3x^2 - 1) - 2 = 3(x^2 - 1)(x^2 + 1)$ (3) |
| $x^3 + 4 = \frac{32}{x^3}$ (6) | $x^6 + x^3 = 56$ (5) |
| $x^8 - 4x^4 - 50 = 31x^4 - 84$ (8) | $x - 9\sqrt{x} + 14 = 0$ (7) |
| $(2x^2 - x)^2 - 4(2x^2 - x) + 3 = 0$ (10) | $125x^6 - 1 = 124(x^6 + x^3 + 1)$ (9) |
| $\frac{21}{x^2 - 4x + 10} = 6 + x^2 - 4x$ (12) | $(x^2 + 2x)^2 + 7x^2 + 14x = -6$ (11) |
| $\frac{x^2 + 2x + 2}{x^2 + 2x + 3} = \frac{7}{6} - \frac{x^2 + 2x + 1}{x^2 + 2x + 2}$ (14) | $\frac{12}{x^2 + 2x - 8} = 1 + \frac{7.5}{x^2 + 2x - 3}$ (13) |
| $\frac{x^2 - 1}{4x^2 - 28} + 2 = \frac{9}{x^4 - 8x^2 + 7} + \frac{x^2}{2x^2 - 2}$ (16) | $\frac{3}{3x^2 - 15} + \frac{1}{x^2 + 5} = \frac{10}{x^4 - 25}$ (15) |
| $\frac{3x^4}{(x+2)^2} + \frac{3x^2}{x+2} = 6$ (18) | $\left(2x + \frac{3}{x}\right)^2 + 35 = 12\left(2x + \frac{3}{x}\right)$ (17) |
| $(x^2 - 5x + 6)(x^2 - 5x - 8) = -24$ (20) | $(2x - x^2 + 3)(2x - x^2 - 2) = 0$ (19) |

תשובות סופיות:

$$x = \pm 1 \quad (1)$$

$$x = \pm 1, \pm \sqrt{2} \quad (2)$$

$$x = \pm \frac{1}{2}, \pm \frac{1}{3} \quad (3)$$

$$x = \pm 2, \pm 5 \quad (4)$$

$$x_1 = \sqrt[3]{7}, x_2 = -2 \quad (5)$$

$$x = -2, \sqrt[3]{4} \quad (6)$$

$$x_1 = 4, x_2 = 49 \quad (7)$$

$$x_{1,2} = \pm \sqrt[4]{34}, x_{3,4} = \pm 1 \quad (8)$$

$$x = 5, -1 \quad (9)$$

$$x_1 = 1.5, x_2 = -1, x_3 = 1, x_4 = -\frac{1}{2} \quad (10)$$

$$x = -1 \quad (11)$$

$$x_{1,2} = 1, 3 \quad (12)$$

$$x_1 = 0, x_2 = -2, x_3 = 3.06, x_4 = -5.06 \quad (13)$$

$$x_1 = 0, x_2 = -2 \quad (14)$$

(15) אין פתרונות.

$$x = \pm \sqrt{\frac{3}{7}} \quad (16)$$

$$x = \frac{1}{2}, 1, \frac{3}{2}, 3 \quad (17)$$

$$x = -1, 2 \quad (18)$$

$$x = 3, -1 \quad (19)$$

$$x = \pm 1, 4, 6 \quad (20)$$

משוואות עם פרמטרים:

סיכום כללי:

משוואה עם פרמטר הינה משוואה שמכילה שני סוגים של גדלים – משתנים ופרמטרים. את המשתנים מקובל לסמן באותיות x , y , z ואת הפרמטרים מסמנים בשאר האותיות. פתרון המשוואה יתקבל ע"י בידוד המשתנה כך שיבוטא באמצעות הפרמטרים שבמשוואה.

למשל פתרון המשוואה: $mx=4$ (כאשר x הוא הנעלם ו- m הוא פרמטר) הוא $x = \frac{4}{m}$

אשר מבוטא באמצעות הפרמטר m .

בכתיבת פתרון של משוואה עם פרמטרים יש לציין את תחום ההגדרה של הפרמטר עבורו הפתרון הוא בעל משמעות. בדוגמא הנ"ל תחום ההגדרה הוא $m \neq 0$.

שאלות:

(1) פתור את המשוואות הבאות:

$$\text{א. } 3x - b = (b + 1)x - 6 \quad \text{ב. } \frac{1}{3}(a - 3x) = \frac{1}{a}(ax - 3)$$

$$\text{ג. } (x - 2a)(x - 2b) = x^2 - 2(a^2 + b^2) \quad \text{ד. } \frac{m+1}{x-1} = \frac{m-1}{x+1}$$

$$\text{ה. } \frac{x}{a^2 - a} - \frac{1}{2a} = \frac{ax + x}{2a^3 - 4a^2 + 2a} - \frac{2}{a^3 - 2a^2 + a}$$

(2) פתור את מערכות המשוואות הבאות:

$$\text{א. } \begin{cases} x + my = 1 \\ x + y = m \end{cases} \quad \text{ב. } \begin{cases} ax + y = 2 \\ x + ay = 4 \end{cases}$$

$$\text{ג. } \begin{cases} \frac{x}{m} + y = m \\ x - m^2 y = 1 \end{cases} \quad \text{ד. } \begin{cases} (m-1)x - (2m+3)y = 5 \\ (m+2)x - (2m-1)y = 10m \end{cases}$$

$$\text{ה. } \begin{cases} (2a+b)x - (2a-b)y = 8ab \\ (2a-b)x + (2a+b)y = 8a^2 - 2b^2 \end{cases}$$

(3) פתור את המשוואות הריבועיות הבאות:

$$\text{א. } x^2 - 2mx + m^2 - 1 = 0 \quad \text{ב. } x^2 - 2x + 4a = a^2 + 3$$

$$\text{ג. } x^2 + m(x+10) = 2m^2 - 5x \quad \text{ד. } \frac{1}{a-x} + \frac{1}{a} + \frac{1}{a+x} = 0$$

$$\text{ה. } (m^2 + 1)x^2 - m^2x - 1 = 0 \quad \text{ו. } \frac{a}{x} + \frac{1}{b} = \frac{x}{a} + b$$

$$\text{ז. } x + \frac{1}{x} = \frac{a-b}{a+b} + \frac{a+b}{a-b}$$

תשובות סופיות:

$$\text{(1) א. } x = \frac{b-6}{2-b}, b \neq 2 \quad \text{ב. } x = \frac{a^2+9}{6a}, a \neq 0 \quad \text{ג. } x = a+b \quad \text{ד. } x = -m \quad \text{ה. } x = a+1$$

$$\text{(2) א. } m \neq 1, (m+1, -1) \quad \text{ב. } a \neq \pm 1, \left(\frac{2a-4}{a^2-1}, \frac{4a-2}{a^2-1} \right)$$

$$\text{ג. } m \neq 0-1, \left(m^2 - m + 1, \frac{m-1}{m} \right) \quad \text{ד. } m \neq 1, -2, (2m+1, m-2)$$

$$\text{ה. } b \neq \pm 2a, (2a+b, 2a-b)$$

$$\text{(3) א. } x = m+1, m-1 \quad \text{ב. } x = a-1, 3-a \quad \text{ג. } x = m-5, -2m$$

$$\text{ד. } a \neq 0, x \neq \pm a, x = \pm a\sqrt{3} \quad \text{ה. } x = 1, -\frac{1}{m^2+1}$$

$$\text{ו. } a, b \neq 0, x = \frac{a}{b}, -ab \quad \text{ז. } a \neq \pm b, x = \frac{a+b}{a-b}, \frac{a-b}{a+b}$$

משוואות עם שורשים:

סיכום כללי:

פתרון משוואה מהצורה: $\sqrt{x} = a$ יתקבל ע"י העלאה בריבוע של שני אגפי המשוואה באופן הבא: $x = a^2 \rightarrow (\sqrt{x})^2 = (a)^2$.

הערות:

- (1) יש לזכור בעת העלאה בריבוע של שני אגפי המשוואה יש לבדוק את כל הפתרונות המתקבלים ע"י הצבתם במשוואה המקורית.
- (2) למשוואה מהצורה $\sqrt{x} = a$ שבה $a < 0$ אין פתרון.
- (3) יש לסדר תחילה משוואות שבהן הביטוי עם שורש אינו מבודד.
- (4) במשוואות שבהן יותר מביטוי אחד עם שורש יש לבודד תחילה את אחד הביטויים, להעלות בריבוע ולאחר מכן לחזור על התהליך ולבצע העלאה בריבוע פעם נוספת.

שאלות:

פתור את המשוואות הבאות:

- | | |
|--|---|
| $\sqrt{x+2} = x$ (2) | $\sqrt{2x+5} = 7$ (1) |
| $\sqrt{2x+7} + 4 = x$ (4) | $\sqrt{3x+1} + x = 13$ (3) |
| $\sqrt{10x+6} + 9 = x$ (6) | $\sqrt{x-1} + 3 = x$ (5) |
| $\sqrt{24-x} + 3 = 2x$ (8) | $\sqrt{x+6} - 2 = 2x$ (7) |
| $2x = 16 - 3\sqrt{x-1}$ (10) | $\sqrt{x+16} + 4 = 2x$ (9) |
| $\sqrt{x^2 - 5x + 12} = 2\sqrt{6-x}$ (12) | $\sqrt{3x+5} = \sqrt{x+17}$ (11) |
| $\sqrt{2x-1} + 3 = \sqrt{7x+1}$ (14) | $\sqrt{x-1} \cdot \sqrt{2x-5} = \sqrt{11-x^2}$ (13) |
| $\sqrt{2x-3} + \sqrt{3-x} = 2$ (16) | $\sqrt{9x-8} - 3\sqrt{x+4} = -2$ (15) |
| $\sqrt{2x-2} + \sqrt{5x-4} = \sqrt{3x-2}$ (18) | $\sqrt{x+3} + \sqrt{x-2} = \sqrt{4x+1}$ (17) |
| | $3\sqrt{x-1} + \sqrt{2x-3} = 2\sqrt{x+2}$ (19) |

תשובות סופיות:

- | | |
|---------------------------|---------------|
| $x = 2$ (2 | $x = 22$ (1 |
| $x = 9$ (4 | $x = 8$ (3 |
| $x = 25$ (6 | $x = 5$ (5 |
| $x = 3.75$ (8 | $x = 0.25$ (7 |
| $x = 5$ (10 | $x = 4.25$ (9 |
| $x = 4, -3$ (12 | $x = 6$ (11 |
| $x = 5$ (14 | $x = 3$ (13 |
| $x = 2, 2\frac{8}{9}$ (16 | $x = 12$ (15 |
| $x = 1$ (18 | $x = 6$ (17 |
| | $x = 2$ (19 |

משוואות עם ערך מוחלט:

סיכום כללי:

הגדרה:

ערך מוחלט הינו המרחק של מספר מ-0 ומוגדר באופן הבא: $|x| = \begin{cases} x & x \geq 0 \\ -x & x < 0 \end{cases}$.

משוואה עם ערך מוחלט:

משוואה עם ערך מוחלט היא מהצורה: $|x| = a$.

כדי לפתור משוואה עם ערכים מוחלטים יש למצוא את נקודות האפס של כל ערך מוחלט (קרי: הנקודות בהן הביטוי שבתוך הערך המוחלט מתאפס) ולפצל את המשוואה הנתונה לתחומים עבור כל תחום.

שאלות:

פתור את המשוואות הבאות:

$$|3x+14|=7 \quad (1) \qquad |3x-24|=x \quad (2)$$

$$|12-x|=3x \quad (3) \qquad 2x-|8-x|=10 \quad (4)$$

$$|4x-5|=|2x+13| \quad (5) \qquad |14-3x|=2|x+5| \quad (6)$$

$$|x|+7=|2x| \quad (7) \qquad |x+2|+6=|2x-4| \quad (8)$$

$$|x+2|+|2x-6|=|4x+8| \quad (9) \qquad |10-3x|-|x+4|=|2x-6| \quad (10)$$

תשובות סופיות:

$$\begin{array}{llll} x = -\frac{7}{3}, -7 & (1) & x = 6, 12 & (2) \\ x = 9, -1\frac{1}{3} & (5) & x = 24, \frac{4}{5} & (6) \\ x = 0, -12 & (9) & x = 0 & (10) \\ x = 6 & (4) & x = 3 & (3) \\ x = 12, -1\frac{1}{3} & (8) & x = \pm 7 & (7) \end{array}$$

מערכת משוואות ממעלה שנייה:

סיכום כללי:

מערכת משוואות ריבועיות מיוחסת למערכת של שתי משוואות (לפחות) שאחת מהן מכילה את אחד מהנעלמים בריבוע. למערכת משוואות ריבועיות יכולים להתקבל עד 4 פתרונות שונים. יש לפתור את המערכת לפי הטכניקות הרגילות של בידוד והצבה או השוואת מקדמים.

שאלות:

פתור את מערכות המשוואות הבאות:

$$\begin{cases} 2x^2 + y^2 = 36 \\ x^2 + 3y = 10 \end{cases} \quad (2) \qquad \begin{cases} x^2 + y^2 = 20 \\ x + y = 6 \end{cases} \quad (1)$$

$$\begin{cases} x^2 - 2y^2 = 17 \\ xy = -10 \end{cases} \quad (4) \qquad \begin{cases} 3x^2 + 4y^2 = 16 \\ 5x^2 - 3y^2 = 17 \end{cases} \quad (3)$$

$$\begin{cases} x^2 - 2xy + 8y^2 = 8 \\ 3xy - 2y^2 = 4 \end{cases} \quad (6) \qquad \begin{cases} x^2 - xy - 20y^2 = 0 \\ x + 6y = 1 \end{cases} \quad (5)$$

$$\begin{cases} 16x^2 - y^2 = 391 \\ 4x - y = 23 \end{cases} \quad (8) \qquad \begin{cases} x^2 - y^2 = 33 \\ x + y = 11 \end{cases} \quad (7)$$

$$\begin{cases} \frac{3}{x} + \frac{1}{y} = 5 \\ \frac{4}{y} - \frac{1}{x} = -19 \end{cases} \quad (10) \qquad \begin{cases} 4xy + x = -15 \\ \frac{3}{y} - 2x = 16 \end{cases} \quad (9)$$

$$\begin{cases} xy = 24 \\ (y-x)^2 - 7(y-x) + 10 = 0 \end{cases} \quad (12) \qquad \begin{cases} \frac{3}{x} + \frac{5}{y} = 21 \\ \frac{8}{x} - \frac{1}{y} = 13 \end{cases} \quad (11)$$

$$\begin{cases} \sqrt{\frac{x}{y}} + \sqrt{\frac{y}{x}} = \frac{10}{3} \\ x^2 + y^2 = 9xy + 25 \end{cases} \quad (14) \qquad \begin{cases} x^2y - xy^2 = 84 \\ x^2 - 2xy + y^2 + 5x - 5y = 24 \end{cases} \quad (13)$$

תשובות סופיות:

- | | |
|---|--|
| $(\pm 4, -2)$ (2) | $(2, 4), (4, 2)$ (1) |
| $(5, -2), (-5, 2)$ (4) | $(\pm 2, \pm 1)$ (3) |
| $\left(3, \frac{1}{2}\right), \left(-3, -\frac{1}{2}\right), (2, 1), (-2, -1)$ (6) | $\left(-2, \frac{1}{2}\right), \left(\frac{5}{11}, \frac{1}{11}\right)$ (5) |
| $(5, -3)$ (8) | $(7, 4)$ (7) |
| $\left(\frac{1}{3}, -\frac{1}{4}\right)$ (10) | $\left(-5, \frac{1}{2}\right), \left(-24, -\frac{3}{32}\right)$ (9) |
| $(4, 6), (-6, -4), (3, 8), (-8, -3)$ (12) | $\left(\frac{1}{2}, \frac{1}{3}\right)$ (11) |
| | $(-1.65, 6.35), (-6.35, 1.65), (7, 4), (-4, -7)$ (13) |
| | $(5, 45), (-5, -45), (45, 5), (-45, -5)$ (14) |

משוואות מסכמות מתקדמות:

סיכום כללי:

תזכורת מהירה:

- משוואה דו-ריבועית יכולה להופיע בכל תצורה (עם שורשים, עם ערכים מוחלטים וכו'). העיקרון הוא זיהוי תבנית של הנעלם אשר חוזרת על עצמה לאורך המשוואה. סימון התבנית במשתנה זמני ופתרון עבור משתנה זה תוביל למשוואה מוגדרת ופתירה. לאחר מכן יש להחזיר את ההצבה לתבנית של המשתנה המקורי ולמצוא את ערכיו.
- דרך הפתרון של משוואה עם שורשים היא ע"י בידוד השורש והעלאה בריבוע. במידה ויש יותר משורש אחד המופיעים בחיבור/חיסור יש לבצע את הפעולה פעמיים. חשוב לוודא נכונות של כל הפתרונות המתקבלים ע"י הצבה במשוואה המקורית לפני ההעלאות בריבוע.
- דרך הפתרון של משוואה עם ערכים מוחלטים היא ע"י פיצול המשוואה לתחומים לפי סימני הערך המוחלט. זאת יש לבצע ע"י איפוס הביטוי שבכל ערך מוחלט ומציאת ערכי הנעלם המקיימים זאת, חלוקת המשוואה לתחומים מתאימים ופתרונה בכל תחום. יש לזכור לבדוק האם הפתרון המתקבל נמצא בתחום הפתרון – במידה וכן הוא פתרון של המשוואה, אחרת הוא נפסל.
- משוואה עם פרמטרים נפתרת בצורה רגילה (התייחסות לפרמטרים כאל קבועים מספריים) כאשר יש לציין את תחומי ההגדרה שלהם. יש לבדוק פתרונות שמתקבלים המבוטאים באמצעות הפרמטרים במידה וקיימת הגבלת תחום הגדרה במשוואה.

שאלות:

פתור את המשוואות הבאות:

$$\begin{array}{ll}
 x^2 + 5x - \sqrt{x^2 + 5x} - 30 = 0 & \text{(2)} & x + \sqrt{x+6} - 6 = 0 & \text{(1)} \\
 2x^2 + 6x - \sqrt{x^2 + 3x + 5} = 5 & \text{(4)} & 4x^2 + 16x - 4\sqrt{x^2 + 4x} - 3 = 0 & \text{(3)} \\
 x^2 - \sqrt{6x^2 - 15} = 1 & \text{(6)} & x^2 - \sqrt{16x^2 + 48} + 7 = 0 & \text{(5)} \\
 \frac{\sqrt{x^2 + 4x - 12}}{\sqrt{x-1}} + \sqrt{x+5} = \frac{7}{\sqrt{x-1}} & \text{(8)} & \frac{x^2}{\sqrt{3x-2}} - \sqrt{3x-2} = 1-x & \text{(7)} \\
 \sqrt{x^2 - 3x + 2} + \sqrt{x+3} = \sqrt{x-2} + \sqrt{x^2 + 2x - 3} & \text{(9)} & & \\
 \sqrt{x + \sqrt{14x - 49}} + \sqrt{x - \sqrt{14x - 49}} = \sqrt{14} & \text{(10)} & & \\
 \sqrt{x+6+6\sqrt{x-3}} - \sqrt{x+6-6\sqrt{x-3}} = 2 & \text{(11)} & & \\
 \frac{4}{x + \sqrt{x^2 + x}} - \frac{1}{x - \sqrt{x^2 + x}} = \frac{3}{x} & \text{(12)} & &
 \end{array}$$

פתור את המשוואות הבאות עבור $a > 0$:

$$x^2 + ax - 2a\sqrt{3x^2 + 3ax - 9a^2} = 0 \quad \text{(14)} \qquad x^2 + ax - 2a\sqrt{x^2 + ax - a^2} = 0 \quad \text{(13)}$$

פתור את המשוואות הבאות:

$$\begin{array}{ll}
 |4 - |5 - x|| = |x + 3| & \text{(16)} & |3 - |2 - x| + |x|| = 1 & \text{(15)} \\
 \sqrt{25 + |16x^2 - 25|} = 4 + 4|x+1| & \text{(18)} & \left| \frac{x + |3 - x|}{x + 2} \right| = 18 & \text{(17)} \\
 & & \frac{x^3 - 5x}{\sqrt{2x^2 - 4x - 1} - |x| + 2} = 0 & \text{(19)}
 \end{array}$$

$$\frac{|x+2|}{|x|+2} = |2-x|+2 : \text{הראה כי אין פתרון למשוואה הבאה:} \quad \text{(20)}$$

תשובות סופיות:

(1) $x = 3$

(2) $x_1 = 4, x_2 = -9$

(3) $x_1 = 0.5, x_2 = -4.5$

(4) $x_1 = 1, x_2 = -4$

(5) $x_{1,2} = \pm 1$

(6) $x_{1,2} = \pm 2$

(7) $x = 1$

(8) $x = 3$

(9) $x = 2$

(10) $3.5 \leq x \leq 7$

(11) $x = 4$

(12) $x = 1, x = \frac{9}{16}$

(13) $x_1 = -2a, x_2 = a$

(14) $x_1 = -2a, x_2 = 3a$

(15) $x \leq 0$

(16) $x = -1$

(17) $x = -\frac{39}{18}, -\frac{33}{18}$

(18) $x \leq \frac{5}{4}, x = -\frac{1}{4}$

(19) $x = -\sqrt{5}$

(20) שאלת הוכחה.

ביטויים ומשוואות ממעלה שלישית:

סיכום כללי:

נוסחאות הכפל המקוצר ממעלה שלישית:

$$(a \pm b)^3 = a^3 \pm 3a^2b + 3ab^2 \pm b^3$$

$$a^3 \pm b^3 = (a \pm b)(a^2 \mp ab + b^2)$$

שאלות:

פישוט ביטויים:

פשט את הביטויים הבאים:

$$(2y+5)^3 \quad (2)$$

$$(x-3)^3 \quad (1)$$

$$8y^3 + 343 \quad (4)$$

$$8x^3 - 1 \quad (3)$$

$$x^3y^6z^9 - 1 \quad (6)$$

$$a^6 - 27 \quad (5)$$

$$64mn^4 - 8m^4n^7 \quad (8)$$

$$11 + 88x^{12} \quad (7)$$

$$\frac{x^3 + 64}{x^2 + 4x} \quad (10)$$

$$\frac{x^2 + 4x + 4}{x^3 + 6x^2 + 12x + 8} \quad (9)$$

משוואות בנעלם אחד עם נוסחאות הכפל המקוצר:

פתור את המשוואות הבאות:

$$125x^3 = 1 - 15x + 75x^2 \quad (12)$$

$$x^3 - 12x^2 + 48x - 64 = 0 \quad (11)$$

$$x^3 - 7x - 6 = 0 \quad (14)$$

$$x^3 + x - 30 = 0 \quad (13)$$

משוואות בנעלם אחד עם פירוקים שונים:

פתור את המשוואות הבאות:

$$2x^3 + 5x^2 - 2x - 5 = 0 \quad (16)$$

$$2x^3 - 7x^2 + 7x - 2 = 0 \quad (15)$$

מערכת משוואות:

$$\begin{cases} x^3 + y^3 = 243 \\ x + y = 9 \end{cases} \quad \text{(17) פתור את מערכת המשוואות הבאה:}$$

$$\begin{cases} x^3 - y^3 = 91 \\ x^2y - xy^2 = 30 \end{cases} \quad \text{(18) פתור את מערכת המשוואות הבאה:}$$

תשובות סופיות:

$$8y^3 + 60y^2 + 150y + 125 \quad \text{(10)}$$

$$(2y + 7)(4y^2 - 17y + 49) \quad \text{(11)}$$

$$(xy^2z^3 - 1)(x^2y^4z^6 + xy^2z^3 + 1) \quad \text{(12)}$$

$$8mn^4(2 - mn)(4 + 2mn + m^2n^2) \quad \text{(13)}$$

$$\frac{x^2 - 4x + 16}{x} \quad \text{(14)}$$

$$x = \frac{1}{2} \quad \text{(15)}$$

$$x_{1,2,3} = -2, -1, 3 \quad \text{(16)}$$

$$x_{1,2,3} = -2.5, -1, 1 \quad \text{(17)}$$

$$(-5, -6), (6, 5) \quad \text{(18)}$$

$$x^3 - 9x + 27x - 27 \quad \text{(1)}$$

$$(2x - 1)(4x^2 + 2x + 1) \quad \text{(2)}$$

$$(a^2 - 3)(a^4 + 3a^2 + 9) \quad \text{(3)}$$

$$8(1 + 2x^4)(1 - 2x^4 + 4x^8) \quad \text{(4)}$$

$$\frac{1}{x + 2} \quad \text{(5)}$$

$$x = 4 \quad \text{(6)}$$

$$x = 3 \quad \text{(7)}$$

$$x_{1,2,3} = \frac{1}{2}, 1, 2 \quad \text{(8)}$$

$$(3, 6), (6, 3) \quad \text{(9)}$$

הכנה למבחן כניסה למכינה במתמטיקה

פרק 3 - מבוא לפונקציות

תוכן העניינים

1. מהי פונקציה (ללא ספר)
2. מערכת הצירים (ללא ספר)
3. אורכי קטעים ושטחים יסודיים (ללא ספר)
4. השתנות של פונקציה (ללא ספר)
5. קצב השתנות של פונקציה (ללא ספר)

הכנה למבחן כניסה למכינה במתמטיקה

פרק 4 - הפונקציה הקווית

תוכן העניינים

1. ייצוג גרפי של פונקצית הקו הישר (ללא ספר)
2. שיפוע ישר (ללא ספר)
3. הקו הישר הכללי (ללא ספר)
4. שיפוע דרך שתי נקודות (ללא ספר)
5. משוואת ישר עם שיפוע ונקודה (ללא ספר)
6. משוואת ישר המקביל לישר נתון (ללא ספר)
7. משוואת ישר דרך שתי נקודות (ללא ספר)
8. ישרים המקבילים לצירים (ללא ספר)
9. חיתוך של ישר עם הצירים (ללא ספר)
10. חיוביות ושליליות של קו ישר (ללא ספר)
11. חישובי שטחים עם הפונקציה הקווית (ללא ספר)

הכנה למבחן כניסה למכינה במתמטיקה

פרק 5 - הפונקציה הריבועית

תוכן העניינים

1. הפונקציה הריבועית היסודית $y=x^2$ (ללא ספר)
2. משפחת הפרבולות מהצורה $y=x^2+c$ (ללא ספר)
3. משפחת הפרבולות מהצורה $y=(x-p)^2$ (ללא ספר)
4. משפחת הפרבולות מהצורה $y=(x-p)^2+k$ (ללא ספר)
5. משפחת הפרבולות עם מקדם a כללי (ללא ספר)
6. משפחת הפרבולות מהצורה $y=a(x-p)^2+k$ (ללא ספר)
7. הצגה סטנדרטית של הפונקציה הריבועית (ללא ספר)
8. סרטוט של גרף הפונקציה הריבועית הכללית (ללא ספר)
9. מציאת נקודות האפס של פונקציה ריבועית עם a כללי (ללא ספר)
10. ייצוגים שונים של פונקציה ריבועית (ללא ספר)
11. חיתוך בין ישר ופרבולה (ללא ספר)
12. חיתוך בין שתי פרבולות (ללא ספר)
13. שאלות מסכמות (ללא ספר)

הכנה למבחן כניסה למכינה במתמטיקה

פרק 6 - אי שוויונים אלגבריים

תוכן העניינים

69	1. אי שוויונים ממעלה ראשונה
71	2. אי שוויונים ממעלה שנייה
72	3. אי שוויונים ממעלה שלישית
73	4. אי שוויונים עם מנה
75	5. אי שוויונים כפולים מערכות וגם ואו
76	6. שאלות מסכמות
78	7. אי שוויונים עם שורשים
80	8. מציאת תחום הגדרה
82	9. אי שוויונים עם ערך מוחלט

אי-שוויונים ממעלה ראשונה:

סיכום כללי:

פעולות המותרות לביצוע בפתרון אי-שוויון:

- לחבר או לחסר כל מספר או ביטוי.
- לכפול או לחלק בכל מספר או ביטוי חיובי.
- לכפול או לחלק בכל מספר או ביטוי שלילי תוך הפיכת סימן אי-השוויון.
- להעלות בחזקה אי זוגית.
- להעלות בחזקה זוגית אם שני אגפי אי-השוויון אינם שליליים.

פעולות אסורות לביצוע בפתרון אי-שוויון:

- לכפול או לחלק בביטוי שלא יודעים את סימנו.
- להעלות בחזקה זוגית כשיש אגף שלילי.

שאלות:

פתור את אי-השוויונים הבאים:

$$6x > 2(3x-1) \quad (2) \qquad 45x - 26 > 109 \quad (1)$$

$$(x-2)^2 + 4 < (x+2)^2 + 20 \quad (4) \qquad 2(x-5) \geq \frac{1}{2}(4x+6) \quad (3)$$

$$4(6x-8) < 8(3x-4) \quad (6) \qquad \frac{8x-4}{2} < \frac{9(x+1)}{3} \quad (5)$$

$$\frac{7-x}{10} - \frac{3x-1}{5} + \frac{x+4}{3} < 7 \quad (8) \qquad \frac{x-6}{3} - \frac{x-4}{4} \geq 12-x \quad (7)$$

תשובות סופיות:

$$x > 3 \quad (1)$$

$$x \text{ כל} \quad (2)$$

$$x \text{ אף} \quad (3)$$

$$x > -2 \quad (4)$$

$$x < 5 \quad (5)$$

$$x \text{ אף} \quad (6)$$

$$x \geq 12 \quad (7)$$

$$x > -13 \quad (8)$$

אי-שוויונים ממעלה שנייה:

סיכום כללי:

אי שוויון ריבועי הוא מהצורה: $ax^2 + bx + c \begin{matrix} > \\ < \end{matrix} 0$ כאשר $a \neq 0$.

כדי לפתור אי שוויון ריבועי יש למצוא את נקודות האפס של הביטוי הריבועי ולאחר מכן למצוא את תחום ההצבה עבורו הביטוי מקיים את אי השוויון עצמו.

שאלות:

פתור את אי-השוויונים הבאים:

- | | |
|-------------------------------|--|
| $x^2 - 12x > -32$ (2) | $x^2 < 144$ (1) |
| $(x+2)(x+4) < 35$ (4) | $(x+2)(x+5) < 0$ (3) |
| $(x-3)(x-7) \geq 8x - 56$ (6) | $-x^2 + 13x + 30 < 0$ (5) |
| $(5x+6)^2 \leq 4(x-3)^2$ (8) | $(x-5)^2 + x(x+2) < 89$ (7) |
| $x^2 - 10x + 25 > 0$ (10) | $-3x^2 + 12x > 0$ (9) |
| $2x^2 + 2x + 24 \geq 0$ (12) | $(x-3)^2 > (x-1)(x+6) - x^2 - 3x$ (11) |

תשובות סופיות:

- | | |
|---------------------------|----------------------|
| $x < 4, x > 8$ (2) | $-12 < x < 12$ (1) |
| $-9 < x < 3$ (4) | $-5 < x < -2$ (3) |
| $x \leq 7, x \geq 11$ (6) | $x < -2, x > 15$ (5) |
| $-4 \leq x \leq 0$ (8) | $-4 < x < 8$ (7) |
| $x > 5, x < 5$ (10) | $0 < x < 4$ (9) |
| x כל (12) | $x < 3, x > 5$ (11) |

אי-שוויונים ממעלה שלישית:

סיכום כללי:

אי שוויונים ממעלה גבוהה מיוחסים לכאלה שניתן לכתוב אותם בצורה של פולינומים, כגון: $x^3 - 4x^2 + 4x + 1 > 0$, $x^4 + 2x^2 + 1 < 0$ וכיו'. בפועל נפתור אותם ע"י פירוק לגורמים ומציאת נקודות האפס של כל גורם. לאחר מכן נבדוק את כל אחד מתחומי המספרים המתקבלים עבור הנעלם ונראה באלו מהם מתקבל פסוק אמת.

שאלות:

פתור את אי-השוויונים הבאים:

- | | |
|--------------------------------------|------------------------------------|
| $x(x^2 + x + 1) > 0$ (2) | $(x-1)(x-2)(x-3) > 0$ (1) |
| $x^3 - 25x \geq 0$ (4) | $(-2x^2 - 3x + 2)(x+1) \leq 0$ (3) |
| $(x^2 + 8x + 20)(3x - 5) \leq 0$ (6) | $(x^2 + 3x + 5)(x - 2) > 0$ (5) |
| $x^3 - 6x^2 + 9x \leq 0$ (8) | $(x^2 - x - 6)(x - 1) < 0$ (7) |
| $(x-2)(x-4)(x-1) < 0$ (10) | $(x^2 + 6)(x+3) > 0$ (9) |

תשובות סופיות:

- | | |
|----------------------------------|---|
| $x > 0$ (2) | $1 < x < 2, x > 3$ (1) |
| $-5 \leq x \leq 0, x \geq 5$ (4) | $-2 \leq x \leq -1, x \geq \frac{1}{2}$ (3) |
| $x \leq 1\frac{2}{3}$ (6) | $x > 2$ (5) |
| $x \leq 0, x = 3$ (8) | $x < -2, 1 < x < 3$ (7) |
| $x < 1, 2 < x < 4$ (10) | $x > -3$ (9) |

אי-שוויונים עם מנה:

סיכום כללי:

אי שוויון מהצורה: $\frac{f(x)}{g(x)} > 0$ או $\frac{f(x)}{g(x)} < 0$ נקרא אי-שוויון עם מנה, בו $f(x)$

ו- $g(x)$ הם פולינומים כלשהם.

למשל: $\frac{2x+4}{x^2-3x+4} < 0$ בו: $f(x) = 2x+4$ ו- $g(x) = x^2-3x+4$.

כדי לפתור אי שוויון עם מנה נמצא את נקודות האפס של $f(x)$ ושל $g(x)$ ונציב מספרים בתחומים המתקבלים. אלו שיתנו פסוק אמת יהוו את פתרון אי השוויון.

הערות:

- ניתן לבצע כפל של המכנה בריבוע בכדי להעביר את אי השוויון לצורה של מכפלות.
- ניתן להעביר אי שוויון המכיל מספר מנות ומספרים שלמים לצורה הנ"ל ע"י פעולות אלגבריות מתאימות תחילה.

שאלות:

פתור את אי-השוויונים הבאים:

$\frac{x-1}{3x+2} \geq -3$ (2)	$\frac{x-1}{x^2-9} > 0$ (1)
$\frac{x-3}{2x^2-10x+12} > 0$ (4)	$\frac{1}{x^2-16} > 0$ (3)
$\frac{1}{-3(x-1)} < 0$ (6)	$\frac{2x-1}{x-5} \leq 0$ (5)
$\frac{1}{x^2-5x+6} < 0$ (8)	$\frac{x-1}{x+2} \leq 1$ (7)
$\frac{1}{x^2-8x+12} \geq 0$ (10)	$\frac{x^2-7x+6}{-x^2+3x-7} \geq 0$ (9)

תשובות סופיות:

$$x < -\frac{2}{3}, x \geq -\frac{1}{2} \quad (2)$$

$$2 < x < 3, x > 3 \quad (4)$$

$$x > 1 \quad (6)$$

$$2 < x < 3 \quad (8)$$

$$x < 2, x > 6 \quad (10)$$

$$-3 < x < 1, x > 3 \quad (1)$$

$$x < -4, x > 4 \quad (3)$$

$$\frac{1}{2} \leq x < 5 \quad (5)$$

$$x > -2 \quad (7)$$

$$1 \leq x \leq 6 \quad (9)$$

אי-שוויונים כפולים - מערכת וגם:

סיכום כללי:

אי-שוויון כפול הוא צורה מקוצרת להציג שני אי-שוויונים אשר יש לפתור יחד (קרי: כמערכת יוגם!). למשל במקום לכתוב: $a < b$ וגם $b < c$, ניתן לכתוב: $a < b < c$. מכאן כי כדי לפתור אי שוויון כפול יש לפצל אותו תחילה לשני אי-שוויונים ולפתור כל אחד בנפרד. לאחר מכן יש לקחת את חיתוך הפתרונות.

שאלות:

פתור את אי-השוויונים הבאים:

$$0 < \frac{1}{x+4} < 2 \quad (2)$$

$$3 < x+1 < 5 \quad (1)$$

$$0 < \frac{8-3x}{5-2x} < 4 \quad (4)$$

$$-1 < \frac{x-1}{x+1} < 1 \quad (3)$$

$$6 < \frac{2x+10}{3} \leq \frac{7x-20}{5} \quad (6)$$

$$6x-38 \leq x-3 \leq 5x+7 \quad (5)$$

$$\frac{4x+5}{15} > \frac{3x-8}{5} + \frac{9-x}{3} > 11 \quad (8)$$

$$-1 \leq \frac{2x-6}{4} < \frac{x+2}{3} \quad (7)$$

תשובות סופיות:

$$x > -3\frac{1}{2} \quad (2)$$

$$2 < x < 4 \quad (1)$$

$$x < 2\frac{2}{5}, x > 2\frac{2}{3} \quad (4)$$

$$x > 0 \quad (3)$$

$$x \geq 10 \quad (6)$$

$$-2.5 \leq x \leq 7 \quad (5)$$

$$\emptyset \quad (8)$$

$$1 \leq x < 13 \quad (7)$$

שאלות מסכמות – אי-שוויונים:

שאלות:

פתור את אי-השוויונים הבאים:

$$x \leq -\frac{3}{4} \cap \{-2 < x \leq 5 \cup 0 < x < 8\} \quad (1)$$

$$\frac{(x-3)(x+4)}{2-x} \leq 0 \quad (3) \quad x(x+5) - 3x + 15 \leq 2x - 1 - x(4-x) \quad (2)$$

$$\frac{(2x-3)(x-12)}{(x+1)(4-x)} \geq 0 \quad (5) \quad \frac{(x-5)(3x+1)}{(2-x)(x+7)} < 0 \quad (4)$$

$$\frac{(x-6)^2(x+1)}{x-2} > 0 \quad (7) \quad x(x+3)(2x-5) < 0 \quad (6)$$

$$\frac{x-3}{x^2+2} > 0 \quad (9) \quad \frac{5-2x}{(x-8)^2} \leq 0 \quad (8)$$

$$\frac{x^2-6x+9}{x^3-x} > 0 \quad (11) \quad \frac{x^2-4x}{x^2+2x-3} > 0 \quad (10)$$

$$\frac{x}{x^2-4} + \frac{1}{x+2} < \frac{1}{x-2} \quad (13) \quad \frac{x-7}{x^2+x+3} > 0 \quad (12)$$

$$6 < 5x - x^2 \cap x^2 > 3x + 10 \quad (15) \quad \frac{2x^2}{x^2-6x+8} \geq \frac{x}{x-4} - \frac{x}{x-2} \quad (14)$$

$$1 < \frac{x-1}{x-4} \leq 2 \quad (17) \quad \frac{3}{x-1} - \frac{2}{x} > 0 \cup \frac{1}{x-3} < \frac{1}{1-x} \quad (16)$$

(18) לאלו ערכי x נמצאת הפונקציה $f(x) = \frac{x}{x-3}$ מעל הפונקציה $g(x) = \frac{x+1}{x+3}$?

תשובות סופיות:

- | | |
|---|--------------------------------------|
| $x \leq -4$ (2) | $-2 < x \leq -\frac{3}{4}$ (1) |
| $x < -7, -\frac{1}{3} < x < 2, x > 5$ (4) | $-4 \leq x < 2, 3 \leq x$ (3) |
| $x < -3, 0 < x < 2.5$ (6) | $-1 < x \leq 1.5, 4 < x \leq 12$ (5) |
| $2.5 \leq x < 8, x > 8$ (8) | $x < -1, 2 < x < 6, x > 6$ (7) |
| $x < -3, 0 < x < 1, x > 4$ (10) | $x > 3$ (9) |
| $x > 7$ (12) | $-1 < x < 0, 1 < x < 3, x > 3$ (11) |
| $x \leq 0, 1 \leq x < 2, x > 4$ (14) | $x < -2, 2 < x < 4$ (13) |
| $x \neq 1$ (16) | $x \neq 7$ (15) |
| $-3 < x < -\frac{3}{5}, x > 3$ (18) | $x \geq 7$ (17) |

אי שוויונים עם שורשים:

סיכום כללי:

מקרים בפתרון אי-שוויונות עם שורשים:

מקרה	אי השוויון	פתרון
$a \geq 0$	$\sqrt{f(x)} < a$	$0 \leq f(x) < a^2$
$a < 0$	$\sqrt{f(x)} < a$	אין פתרון
	$\sqrt{f(x)} > a$	כל x בת.ה. של $f(x)$

שאלות:

פתור את אי השוויונים הבאים:

$$\sqrt{2x-5} \geq 1 \quad (2)$$

$$\sqrt{x+3} < 7 \quad (1)$$

$$\sqrt{x^2+x-6} < x-3 \quad (4)$$

$$\sqrt{2x^2+5x-6} > 2-x \quad (3)$$

$$\sqrt{x^2+5x+6} - \sqrt{x^2-x+1} < 1 \quad (6)$$

$$\sqrt{x^2+3x+2} - 1 < \sqrt{x^2-x+1} \quad (5)$$

$$\frac{4}{\sqrt{2-x}} - \sqrt{2-x} < 2 \quad (8)$$

$$\frac{1-\sqrt{1-4x^2}}{x} > \frac{3}{2} \quad (7)$$

$$\sqrt{2-\sqrt{3+x}} < \sqrt{4+x} \quad (10)$$

$$\sqrt{\frac{1}{x^2} - \frac{3}{4}} < \frac{1}{x} - \frac{1}{2} \quad (9)$$

$$\sqrt{1+\frac{9}{x}} + 5\sqrt{\frac{x}{x+9}} \geq 4 \quad (12)$$

$$\sqrt{x+6} > \sqrt{x+1} + \sqrt{2x-5} \quad (11)$$

תשובות סופיות:

(1) $-3 \leq x < 46$

(2) $x \geq 3$

(3) $x < -10, x > 1$

(4) \emptyset

(5) $x \leq -2, -1 \leq x < \frac{-1 + \sqrt{13}}{6}$

(6) $x \leq -3, -2 \leq x < \frac{-13 + \sqrt{73}}{16}$

(7) $\frac{12}{25} < x \leq \frac{1}{2}$

(8) $x < 2\sqrt{5} - 4$

(9) $1 < x \leq \frac{2}{\sqrt{3}}$

(10) $שזה: -2.618 < x \leq 1 - \frac{3 + \sqrt{5}}{2} < x \leq 1$

(11) $2.5 \leq x < 3$

(12) $x < -9, x > 0$

תחום הגדרה:

שאלות:

1 מצא את תחום ההגדרה של הפונקציות הבאות:

א. $f(x) = \sqrt{3x-4}$	ב. $f(x) = \sqrt{x^2 - 5x - 6}$
ג. $f(x) = \sqrt{12x - x^2 - x^3}$	ד. $f(x) = \sqrt{\frac{x+5}{x^2-4}}$
ה. $f(x) = \frac{1}{\sqrt{x+2}-x}$	ו. $f(x) = \frac{\sqrt{3x^2-2x-1}}{2x-3}$

2 מצא את תחום ההגדרה של הפונקציות הבאות:

א. $f(x) = \sqrt{\sqrt{x+2}-3}$	ב. $f(x) = \frac{1}{x+\sqrt{x+6}}$
ג. $f(x) = \sqrt{\frac{2x^2+x-3}{x^2+5x+9}}$	ד. $f(x) = \frac{\sqrt{x^2+5x+6}}{x-1}$

3 תחום ההגדרה של הפונקציה: $f(x) = \sqrt{ax - x^2 - 4}$ הוא $1 \leq x \leq 4$. מצא את ערכו של הפרמטר a .

4 תחום ההגדרה של הפונקציה: $f(x) = \sqrt{\frac{x+a}{x-a}}$ הוא $x \leq -2$, $x > 2$. מצא את ערכו של הפרמטר a .

5 נתונה הפונקציה: $f(x) = \sqrt{\sqrt{x+6}-a}$, (a פרמטר חיובי).

א. הבע באמצעות a את תחום הגדרתה.

ב. מגדירים פונקציה נוספת: $g(x) = \sqrt{\frac{2x}{x+5}}$.

ידוע כי תחום ההגדרה של שתי הפונקציות מכסה את כל ציר המספרים. מצא את תחום הערכים האפשרי של הפרמטר a .

תשובות סופיות:

- (1) א. $x \geq 1\frac{1}{3}$ ב. $x \leq -1, x \geq 6$ ג. $x \leq -4, 0 \leq x \leq 3$
- ד. $-5 \leq x < -2, x > 2$ ה. $-2 \leq x < 2, x > 2$ ו. $x \leq -\frac{1}{3}, 1 \leq x < \frac{3}{2}, x > \frac{3}{2}$
- (2) א. $x \geq 7$ ב. $-6 \leq x \neq -2$ ג. $x \leq -1\frac{1}{2}, x \geq 1$
- ד. $x \leq -3, -2 \leq x \neq 1$
- (3) $a = 5$
- (4) $a = 2$
- (5) א. $x \geq a^2 - 6$ ב. $0 < a \leq 1$

אי שוויונים עם ערך מוחלט:

סיכום כללי:

כללים לפתרון אי שוויון עם ערך מוחלט יחיד:

$ x > a$	$ x < a$	מקרה
$x < -a \cap x > a$	$-a < x < a$	פתרון

כללים לפתרון אי שוויון עם מספר ערכים מוחלטים:

- נמצא את הנקודות המאפסות כל ביטוי עם ערך מוחלט.
- מחלקים את אי השוויון לתחומים לפי נקודות האפס.
- פותרים את אי השוויון לכל תחום בנפרד.
- כותבים פתרון כללי (מערכת או) לכל התחומים יחדיו.

שאלות:

(1) פתור את אי-השוויונים הבאים:

א. $|x+2| < 3$ ב. $|2x+1| > 7$
 ג. $|6-2x| < x$ ד. $|2x+1|-3x > 4$

(2) פתור את אי-השוויונים הבאים:

א. $1 < |4-3x| < 7$ ב. $|2x+3| < 8 < |5-x|$

(3) פתור את אי-השוויונים הבאים:

א. $|x^2 + 6x - 4| < 12$ ב. $|x^2 + x - 10| > 3x - 2$
 ג. $|x^2 - 3x| < 4$ ד. $|6x^2 - 7x - 4| > 1$
 ה. $x^2 - 6|x| + 5 \leq 0$ ו. $x^2 - 6|x+1| - 1 > 0$

(4) פתור את אי-השוויונים הבאים:

א. $|x-3|+|2x+2|>7$

ב. $|x+8|<11-|1-3x|$

ג. $|3-2x|-11>4-|6+x|$

ד. $|2x-6|+|x+5|>14-|1-x|$

ה. $|5+4x|-|3-x|+\left|4-\frac{1}{2}x\right|\leq 22$

ו. $|x+3|+|x^2-5x+4|<19$

(5) פתור את אי-השוויונים הבאים:

א. $\left|\frac{3x-1}{x-2}\right|\geq 3$

ב. $1\leq\left|\frac{x+2}{x-2}\right|\leq 2$

ג. $\frac{|x-6|+8x}{x-12}\leq 12$

ד. $\left|\frac{x^2+3x+2}{x^2-3x+2}\right|>5$

(6) פתור את אי-השוויונים הבאים (ערך מוחלט ושורשים):

א. $\sqrt{x^2-|x-12|}<x$

ב. $2-\sqrt{1-x}\leq|x+2|-3$

ג. $\sqrt{|2x+1|-x-1}\leq 4-|3x|$

ד. $\frac{|x+2|-|x|}{\sqrt{4-x^3}}>0$

תשובות סופיות:

- (1) א. $-5 < x < 1$
 ג. $2 < x < 6$
- (2) א. $1\frac{2}{3} < x < 3\frac{2}{3}$ או $-1 < x < 1$
 ב. $-5\frac{1}{2} < x < -3$
- (3) א. $-2 < x < 2$ או $-8 < x < -4$
 ג. $-1 < x < 4$
- ה. $1 \leq x \leq 5$ או $-5 \leq x \leq -1$
- (4) א. $2 < x$ או $x < -2$
 ג. $4 < x$ או $x < -6$
 ה. $-7\frac{3}{7} \leq x \leq 4$
- (5) א. $\frac{7}{6} \leq x < 2$, $x > 2$
 ג. $x < 12$, $x \geq 46$
- (6) א. $x = -1$, $x \geq 3$, $x \neq 12$
 ג. $0 \leq x \leq 1$, $-1 \leq x \leq -\frac{2}{3}$
- ב. $3 < x$ או $x < -4$
 ד. $x < -1$
- ב. $-1 < x < 1$
 ד. $4 < x$ או $x < -1$
 ו. $-2 < x < 6$
- ב. $0 \leq x \leq \frac{2}{3}$, $x \geq 6$
- ד. $\frac{1}{2} < x < 1$, $1 < x < 2$, $2 < x \leq 4$
- ב. $x \leq \frac{-15 + \sqrt{33}}{2}$
 ד. $-1 < x < \sqrt[3]{4}$

הכנה למבחן כניסה למכינה במתמטיקה

פרק 7 - בעיות מילוליות בסיסיות

תוכן העניינים

85	1. בעיות תנועה ללא אחוזים
88	2. בעיות תנועה עם אחוזים
89	3. בעיות תנועה עם משפט פיתגורס
90	4. בעיות תנועה מהירות מושפעת מזרמים
91	5. בעיות תנועה מהירות ממוצעת
92	6. בעיות קנייה ומכירה בלי אחוזים עם נעלם אחד ושניים
93	7. בעיות קנייה ומכירה עם אחוזים בנעלם אחד ושניים
94	8. בעיות קנייה ומכירה שונות
100	9. בעיות יסודיות במרובעים
102	10. בעיות במשולשים כולל משפט פיתגורס
104	11. בעיות במעגל – ללא אחוזים ללא משפט פיתגורס
105	12. בעיה במעגל – ללא אחוזים וכולל משפט פיתגורס
106	13. בעיה במעגל – כולל אחוזים
107	14. בעיות בהנדסת המרחב

בעיות תנועה בלי אחוזים עם נעלם אחד ושניים:

שאלות:

- (1) מכונית נוסעת מ-A ל-B במהירות של 90 קמ"ש. בדרך חזרה נסעה המכונית במהירות של 60 קמ"ש. בסה"כ נמשכה הנסיעה הלוך וחזור 20 שעות.
 א. כמה שעות נסעה המכונית לכל כיוון?
 ב. מהי הדרך שעברה המכונית?
- (2) אוטובוס ומשאית יוצאים בו זמנית משני יישובים A ו-B בהתאמה. מהירות האוטובוס היא 60 קמ"ש ומהירות המשאית היא 80 קמ"ש. האוטובוס הגיע ליישוב B שעה ו-40 דקות מאוחר יותר מהזמן שלקח למשאית להגיע ליישוב A.
 א. כמה זמן נסע האוטובוס וכמה זמן נסעה המשאית?
 ב. מהו המרחק בין שתי הערים?
- (3) הולכת רגל יצאה לטיול במהירות מסוימת. לאחר שעה וחצי יצא בעקבותיה מאותו מקום הולך רגל נוסף במהירות הגדולה ממהירותה ב-4.5 קמ"ש. הולך הרגל השיג את הולכת הרגל שעה לאחר שיצא לדרכו.
 א. מהי מהירות ההליכה של הולכת הרגל?
 ב. מהו המרחק שעברו עד שנפגשו?
- (4) שני רוכבי אופניים יוצאים בו זמנית מעיר א' לעיר ב'. הרוכב הראשון נוסע במהירות קבועה ומגיע לעיר ב' לאחר 5 שעות. הרוכב השני נוסע במשך השעתיים הראשונות במהירות הקטנה ב-2 קמ"ש ממהירות הרוכב הראשון. לאחר מכן הוא מגביר את מהירותו ב-14 קמ"ש ומגיע לעיר ב' שעה ו-20 דקות לפני הרוכב הראשון.
 א. באיזו מהירות נסע הרוכב הראשון?
 ב. איזו דרך עבר הרוכב השני בכל חלק?

- (5) משאית נוסעת מרחק של 245 ק"מ בכל יום במהירות קבועה. יום אחד נסעה המשאית במשך שעתיים וחצי במהירות הרגילה, לאחר מכן עצרה לתדלוק במשך 24 דקות ואז המשיכה בנסיעה במהירות הגדולה ב-70 קמ"ש ממהירותה הקודמת. המשאית הגיעה ליעדה שעה לפני השעה שהיא מגיעה בכל יום.
- א. באיזו מהירות נוסעת המשאית בכל יום?
 ב. כמה זמן לוקח למשאית להגיע ליעדה בכל יום?
- (6) אוטובוס נוסע מעיר א' לעיר ב' הרחוקה ממנה ב-800 ק"מ. לאחר שעבר האוטובוס 135 ק"מ במהירות קבועה הוא עצר להתרעננות במשך חצי שעה. לאחר מכן המשיך האוטובוס את נסיעתו במהירות הגדולה ב-43 קמ"ש ממהירותו הקודמת עד לעיר ב'.
- סך כל הזמן שהיה האוטובוס בדרך הוא 7 שעות.
- א. מה הייתה המהירות ההתחלתית של האוטובוס?
 ב. מה היה המרחק שעבר האוטובוס אחרי ההתרעננות עד לעיר ב'?
- (7) רוכב אופניים יצא בשעה 06:00 לרכיבה במהירות 24 קמ"ש. בשעה 07:00 יצא מאותו מקום רוכב אופנוע באותו כיוון ובמהירות של 40 קמ"ש. באיזו שעה ובאיזה מרחק מנקודת היציאה ישיג רוכב האופנוע את רוכב האופניים?
- (8) המרחק בין ת"א לנצרת הוא 103 ק"מ. בשעה 08:00 יצאה מכונית מנצרת לת"א במהירות 90 קמ"ש. בשעה 08:20 יצאה משאית מת"א לנצרת במהירות 56 קמ"ש. באיזו שעה ייפגשו המכונית והמשאית?
- (9) משאית נסעה מדימונה לאילת, מרחק של 200 ק"מ. 50 דקות אחריה יצאה מכונית מדימונה לאילת במהירות הגבוהה ב-30 קמ"ש והגיעה לאילת 40 דקות לפני המשאית. מצא את מהירות המכונית.

תשובות סופיות:

- | | |
|--|-----|
| א. 8 שעות הלוך ו-12 שעות חזור. | (1) |
| ב. 1440 ק"מ. | |
| א. אוטובוס-6 שעות ו-40 דקות, משאית-5 שעות. | (2) |
| ב. 400 ק"מ. | |
| א. 3 קמ"ש. | (3) |
| ב. 7.5 קמ"ש. | |
| א. 12 קמ"ש. | (4) |
| ב. 20 ק"מ ו-40 ק"מ. | |
| א. 50 קמ"ש. | (5) |
| ב. 4 שעות ו-54 דקות. | |
| א. 90 קמ"ש. | (6) |
| ב. 665 ק"מ. | |
| 8:30, 60 קמ"ש. | (7) |
| 8:50. | (8) |
| 80 קמ"ש. | (9) |

בעיות תנועה עם אחוזים:

שאלות:

10 מכונית נוסעת מעיר א' לעיר ב' מרחק של 480 ק"מ במהירות קבועה. בדרכה חזרה נסעה המכונית במשך שעה במהירות הקבועה. לאחר מכן עצרה להתרעננות של 36 דקות ואז הגבירה את מהירותה ב-25% ממהירותה הקודמת והגיעה בחזרה לעיר א' 24 דקות פחות מהזמן שלקח לה להגיע לעיר ב'. באיזו מהירות נסעה המכונית מעיר א' לעיר ב'?

11 רכבת משא ורכבת נוסעים יוצאות מעיר א' לעיר ב' מרחק של 360 ק"מ. מהירות רכבת הנוסעים גדולה ב-20% ממהירות רכבת המשא. רכבת הנוסעים התעכבה 40 דקות בתחנה, ולכן יצאה באיחור מהתחנה של עיר א'. עם זאת היא הגיעה לעיר ב' 20 דקות לפני רכבת המשא.
 א. מה הן המהירויות של שתי הרכבות?
 ב. מה זמן נסעה רכבת הנוסעים מעיר א' לעיר ב'?

12 מכונית ומונית נוסעות מנקודה A לנקודה B. המכונית נוסעת במהירות קבועה ומגיעה לנקודה B כעבור 4 שעות. המונית נוסעת במשך 3 שעות המהירות הקטנה ב-10 קמ"ש ממהירות המכונית ולאחר מכן מגבירה את מהירותה ב-50% ומגיעה לנקודה B יחד עם המכונית.
 א. מהי מהירות המכונית?
 ב. מהו המרחק בין נקודה A לנקודה B?

תשובות סופיות:

10 80 קמ"ש.

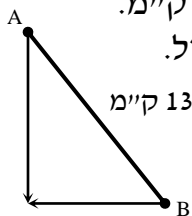
11 א. 60 קמ"ש ו-72 קמ"ש. ב. 5 שעות.

12 א. 90 קמ"ש. ב. 360 ק"מ.

בעיות תנועה עם משפט פיתגורס:

שאלות:

- 13) שתי מכוניות יצאו מהעיר, האחת לכיוון מזרח והשנייה לכיוון צפון. לאחר שלוש שעות המרחק בין שתי המכוניות היה 300 ק"מ. מהירות מכונית אחת גדולה ב-20 קמ"ש ממהירות המכונית השנייה.
- א. מהן המהירויות של שתי המכוניות?
 ב. מה היה המרחק של כל מכונית מהעיר לאחר שלוש שעות?



- 14) שני הולכי רגל יוצאים משני יישובים A ו-B המרוחקים זה מזה 13 ק"מ. היישוב A ממוקם בצפון מערב ביחס ליישוב B כמתואר באיור ממול. הולך הרגל מיישוב A הולך דרומה והולך הרגל מיישוב B הולך מערבה. הולך הרגל מיישוב A יוצא שתיים לפני הולך הרגל השני. לאחר שלוש שעות מיציאתו נפגשו שני הולכי הרגל. מהירות הולך הרגל מיישוב B גדולה ב-25% ממהירות הולך הרגל השני. באיזו מהירות הלך כל אחד משני הולכי הרגל?

- 15) רוכב אופנוע יצא מביתו מזרחה במהירות מסוימת ונסע במשך חצי שעה. לאחר מכן, פנה צפונה, הגדיל את מהירותו ב-20% ונסע כך שעה נוספת. לאחר שעה זו פנה חזרה לכיוון ביתו, העלה את מהירותו ל-65 קמ"ש ונסע (בקו ישר) עד שהגיע חזרה לביתו.
- א. מצא את מהירותו של הרוכב האופנוע ביציאה מביתו אם ידוע שעבר בסה"כ 150 ק"מ.
 ב. מה הייתה מהירותו הממוצעת של הרוכב האופנוע (בכל חלקי הדרך)?

תשובות סופיות:

- 13) א. 60 קמ"ש ו-80 קמ"ש. ב. 180 ק"מ ו-240 ק"מ.
- 14) א. 4 קמ"ש ו-5 קמ"ש. ב. 60 קמ"ש.
- 15) א. 50 קמ"ש. ב. 60 קמ"ש.

בעיות תנועה מהירות מושפעת מזרמים:

שאלות:

- 16) סירה שטה בנהר שבו מהירות הזרם היא 3 קמ"ש עם כיוון זרם המים. לאחר חצי שעה החליטו אנשי הסירה לשנות את כיוונם וחזרו במשך שעתיים לנקודת המוצא שלהם. מהירות הסירה במים עומדים קבועה במשך כל השייט.
- א. מצא את מהירות הסירה.
 ב. מהו המרחק הכולל ששטה הסירה?

תשובות סופיות:

- 16) א. 5 קמ"ש. ב. 8 קמ"ש.

בעיות תנועה מהירות ממוצעת:

שאלות:

- 17** מכונית נוסעת 3 שעות במהירות קבועה של 140 קמ"ש ולאחר מכן במשך שעתיים נוספות במהירות קבועה של 100 קמ"ש.
 א. מה סך הדרך שעברה המכונית?
 ב. מהי המהירות הממוצעת של המכונית?
- 18** מכונית נוסעת 4 שעות במהירות של 130 קמ"ש ולאחר מכן מספר שעות נוספות במהירות של 70 קמ"ש.
 ידוע כי מהירותה הממוצעת היא 110 קמ"ש.
 כמה שעות נסעה המכונית במהירות של 70 קמ"ש?
- 19** אופנוע עובר מרחק של 200 ק"מ במהירות מסוימת.
 לאחר מכן מאיץ האופנוע ומגדיל את מהירותו ב-40%.
 הוא נוסע במהירות זו ועובר מרחק של 280 ק"מ.
 המהירות הממוצעת של האופנוע היא 96 קמ"ש.
 א. כמה זמן נסע האופנוע?
 ב. באיזו מהירות התחיל האופנוע את נסיעתו?

תשובות סופיות:

- 17** א. 620 ק"מ. ב. 125 קמ"ש.
18 שעתיים.
19 א. 5 שעות. ב. 80 קמ"ש.

בעיות קנייה ומכירה בלי אחוזים עם נעלם אחד ושניים:

שאלות:

- (1) מחיר כניסה למוזיאון המדע למבוגר גדול ב-15 ₪ ממחיר הכניסה לילד. יוסי נסע עם אשתו ושבעת ילדיו ליום כיף במוזיאון המדע ושילם בעבור הכניסה סכום כולל של 210 שקלים. מה המחיר לילד ומה המחיר למבוגר?
- (2) המחיר של 3 ק"ג אגסים גדול ב-3 שקלים מהמחיר של 2 ק"ג תפוחים. שרון קנתה 4 ק"ג אגסים ו-5 ק"ג תפוחים ושילמה סכום כולל של 73 שקלים. מה המחיר של ק"ג מכל סוג?
- (3) דן קנה מחברות בסכום כולל של 224 שקלים. אם ירד המחיר למחברת ב-10 שקלים יוכל דן לקנות 40 מחברות יותר מאשר קנה בתחילה באותו הסכום. כמה מחברות קנה דן ומה המחיר של כל מחברת?
- (4) סוחר קנה 60 כיסאות זהים במחיר זהה לכיסא. 5 כיסאות נשברו לו ואת שאר הכיסאות הוא מכר במחיר הגדול ב-40 ₪ מהמחיר שקנה אותם. בסה"כ הרוויח הסוחר בעסקה 1950 ₪. באיזה מחיר קנה הסוחר כל כיסא?

תשובות סופיות:

- (1) 20 ₪ ו-35 ₪.
- (2) 7 ₪ ו-9 ₪.
- (3) 16 ב-14 ₪.
- (4) 50 ₪.

בעיות קנייה ומכירה עם אחוזים בנעלם אחד ושניים:

שאלות:

- (5) משכורתו של אלון גדולה ב-200 ₪ ממשכורתו של רן. אם אלון יקבל תוספת של 16% למשכורתו ורן יקבל תוספת של 30% למשכורתו אז המשכורת של רן תהיה גדולה משל אלון ב-300 ₪. מהי המשכורת של כל אחד מהם?
- (6) עקב ביקוש רב מחירו של מקרר "אמנה" עלה ב-5%. לאחר שנה ירד הביקוש למקרר "אמנה" ולכן הוזל מחירו ב-10%. מחיר המקרר הסופי הוא 1,323 ₪.
 א. מה היה מחיר המקרר ההתחלתי?
 ב. כמה אחוזים ממחיר המקרר המקורי מהווה מחיר המקרר הסופי?
- (7) המחיר של שמיכה וזוג כריות הוא 380 ₪. לאחר שנה מחיר השמיכה הוזל ב-20%, אך מחיר הכריות התייקר ב-20%. כעת המחיר של 5 כריות ו-2 שמיכות הוא 888 ₪.
 א. מה היה המחיר הראשוני של כרית?
 ב. כמה עולה שמיכה לאחר ההוזלה?
- (8) סוחר קנה שולחנות במחיר כולל של 18,000 ₪. 10 שולחנות הוא מכר ברווח של 60% לשולחן, 20 שולחנות הוא מכר ללא רווח ואת שאר השולחנות הוא מכר בהפסד של 15% לשולחן. סה"כ הרוויח הסוחר בעסקאות אלו 450 ₪.
 א. כמה שולחנות קנה הסוחר?
 ב. מה המחיר ששילם הסוחר עבור כל שולחן?

תשובות סופיות:

- (5) א. 1,400 ₪. ב. 94.5%.
- (6) א. 100 ₪. ב. 144 ₪.
- (7) א. 60 שולחנות. ב. 300 ₪.
- (8) א. 250 מרצפות. ב. 88 ₪. ג. 156,000.

בעיות קנייה ומכירה שונות:

שאלות:

- 9) קבלן רכש x מרצפות רצפה בסכום כולל של 22,000 ₪. 20 מרצפות נשברו בהובלה ולכן לא נמכרו. את שאר המרצפות מכר הקבלן ברווח של 50%. סה"כ הרוויח הקבלן בעסקה 8,360 ₪.
- א. כמה מרצפות קנה הקבלן?
ב. כמה כסף שילם הקבלן עבור כל מרצפה?
- 10) שמואל קנה מחשב ומדפסת במכרז ושילם עבורם סכום כולל של 3,600 ₪. לאחר חודש ימים, מכר שמואל את המדפסת בהפסד של 10% ואת המחשב ברווח של 40%.
- ידוע כי שמואל מכר את שני המוצרים במחיר כולל של 4,740 ₪.
- בכמה כסף קנה שמואל את המחשב ובכמה כסף קנה את המדפסת?
- 11) חוואי קנה 15 סוסי פוני במחיר זהה לסוס. לאחר שנה מכר החוואי 3 סוסים ברווח של 35%, שניים מתו ממחלה נדירה ואת שאר הסוסים הוא מכר ללא רווח. סה"כ הפסיד החוואי 1710 ₪.
- א. כמה שילם החוואי עבור כל סוס פוני?
ב. אם רק סוס אחד היה מת, האם היה החוואי מרוויח מהעסקה?
אם לא נמק, אם כן בכמה היה מרוויח?
- 12) מכונת כביסה עולה 4,000 ₪. לאחר שנה עלה מחיר מכונת הכביסה ב-20% ושנה לאחר מכן עלה מחירה בעוד 20%.
- א. מה מחיר מכונת הכביסה לאחר שנתיים?
ב. בכמה אחוזים מהמחיר המקורי התייקרה מכונת הכביסה?
ג. בחנות למוצרי חשמל מוכרים מכונות כביסה במחיר מסוים.
- רפי קנה 3 מכונות כביסה למכבסה שברשותו. ידוע כי לאחר שנה חלה התייקרות ב- p אחוזים וכך גם בשנה שאחריה. בתום השנתיים, החליט רפי לקנות 2 מכונות כביסה נוספות. מבדיקה שערך רפי, גילה כי המחיר הכולל ששילם בקנייה השנייה שווה למחיר ששילם בקנייה הראשונה.
- מהו p ?

- 13** המחיר של שמיכה וזוג כריות הוא 380 ₪. לאחר שנה מחיר השמיכה הוזל ב-20% אך מחיר הכריות התייקר ב-20%. כעת המחיר של 5 כריות ו-2 שמיכות הוא 888 ₪.
- מה היה המחיר הראשוני של כרית?
 - כמה עולה שמיכה לאחר ההוזלה?
 - אכסניית נוער מעוניינת לרכוש שמיכות וכריות עבור מיטות יחיד למספר חדרים (מספר זהה של שמיכות וכריות). האם כדאי להנהלת האכסניה לרכוש את השמיכות והכריות במחירים המקוריים או לאחר שנה? נמק.
- 14** המחיר של 6 שרפרפים גדול ב-20 שקלים מהמחיר של כיסא. לאחר שמחיר השרפרפים התייקר ב-35% ומחיר הכיסא הוזל ב-19%, המחיר של 3 שרפרפים היה זהה למחיר של כיסא אחד.
- מה המחיר של כיסא והמחיר של שרפרף לפני ההוזלה וההתייקרות?
 - בכמה אחוזים גדול המחיר של הכיסא לאחר ההוזלה מהמחיר של השרפרף לאחר ההתייקרות?
 - לרשות בית ספר תקציב מסוים המיועד לרכישת כיסאות ושרפרפים. ידוע כי בית הספר מעוניין לרכוש פי 4 יותר שרפרפים מאשר כיסאות. האם כדאי לבית הספר לבצע את הרכישה במחירים המקוריים או לאחר השינויים אם ברצונו לרכוש יותר פריטים?
- 15** סוחר קנה 60 כיסאות זהים במחיר זהה לכיסא. 5 כיסאות נשברו לו ואת שאר הכיסאות הוא מכר במחיר הגדול ב-40 ₪ מהמחיר שקנה אותם. בשה"כ הרוויח הסוחר בעסקה 1950 ₪.
- באיזה מחיר קנה הסוחר כל כיסא?
 - בעסקה אחרת, קנה הסוחר 60 כיסאות אחרים במחיר זהה לכיסא. ידוע כי המחיר של כיסא בודד גדול ב-30% מהמחיר של כיסא בודד שרכש הסוחר בעסקה הראשונה. במהלך ההובלה נגנבו 8 כיסאות. הסוחר רוצה להרוויח ממכירת הכיסאות הנותרים לפחות 2000 ₪ בעסקה זו. נסמן ב- p את אחוז ההתייקרות שבו צריך למכור הסוחר כיסא בודד. מצא את p המינימלי עבורו יעמוד הסוחר ביעדו.

16 סוכן של חברת רהיטים קנה מיטות במחיר כולל של 60,000 ₪. רבע מכמות המיטות שקנה הוא מכר ברווח של 4.80% מיטות הוא מכר ללא רווח כלל ואת שאר המיטות הוא מכר בהפסד של 10% למיטה. בסה"כ הרוויח הסוכן 9,500 ₪.

א. כמה מיטות קנה הסוכן?
 ב. כמה שילם הסוכן עבור כל מיטה?
 ג. בהנחה שהסוכן רוכש עבור החברה פעם נוספת כמות מיטות זהה ממקום אחר, ומוכר באותם התנאים, כמה עליו לשלם עבור מיטה בודדת כדי שהרווח שלו יהיה לפחות 10,000 ₪? (עגל את תשובתך לשקלים שלמים).

17 יצרנית מוצרי חשמל מוכרת מקררים במחיר של x ₪ ליחידה. עם השקת מקרר חדש הוחלט להעלות את מחירו ב-5% עקב הביקוש הרב. בשנה הראשונה להשקתו נקנו מספר מקררים. שנה לאחר מכן ירד הביקוש ולכן מחיר המקרר הוזל ב-10% (ביחס למחירו בשנה הראשונה). כעת נמכרו מספר כפול של יחידות ביחס לשנה הקודמת.

א. מצא את המחיר המקורי של מקרר אם ידוע כי סך כל הרווחים של יצרנית המקרר בשנתיים הנ"ל זהה לסכום שהייתה מרוויחה אם היו קונים את אותו מספר המקררים שנרכשו בשנה הראשונה במחיר של 4116 ₪ ליחידה.

ב. היצרנית הרוויחה בשנה השנייה 235,200 ₪ יותר מאשר בשנה הראשונה. מצא כמה מקררים נמכרו בשנה הראשונה.

18 בחנות מסוימת, מחיר כובע גדול ב-40% מהמחיר של זוג כפפות. לאחר חודש התייקר הכובע ב-50% והכפפות הוזלו ב- p אחוזים.

א. מצא את p עבורו קנייה של 16 כובעים ו-2 זוגות כפפות לפני השינויים תשתווה לקנייה של 4 כובעים ו-20 זוגות כפפות לאחר השינויים.

ב. מצא את p עבורו ההפרש בין קניית 5 כובעים ו-4 זוגות כפפות במחירים לאחר השינויים, לבין קניית 3 כובעים ו-2 זוגות כפפות במחירים המקוריים יהיה שווה למחיר של קניית 5 זוגות כפפות במחירם המקורי.

ג. מצא את p עבורו המחיר של כובע אחד ו-10 זוגות כפפות לאחר השינויים יהווה 80% מהמחיר של קניית אותם הפריטים במחירים המקוריים.

- 19** סוחר רוכש מנורות בסכום כולל של 4,000 ₪. 26 מהמנורות מכר הסוחר ברווח של 20 ₪ למנורה ואת השאר הוא מכר בהפסד של 5 ₪ למנורה. בסה"כ הרוויח הסוחר בעסקה 400 ₪.
- א. כמה מנורות קנה הסוחר ברכישה הראשונה ובאיזה מחיר למנורה?
 ב. בעסקה אחרת רכש הסוחר כמות מנורות מסוימת בהנחה של 20% ביחס למחיר ששילם בתחילה. הסוחר מכר אותם לבית עסק ברווח של 50% למנורה. ידוע כי הרוויח הסוחר בעסקה 3200 ₪. כמה מנורות רכש הסוחר בעסקה השנייה?
- 20** סוחר קנה 450 תיקים. הוא מכר 150 מהם ברווח של 15% ואת השאר בהפסד של 5 שקלים. בסה"כ הפסיד הסוחר בעסקה 600 ₪.
- א. בכמה כסף קנה הסוחר כל תיק?
 ב. אם הסוחר היה מוכר את שאר התיקים בהפסד של 2 שקלים במקום 5 שקלים, האם עדיין הוא היה מפסיד מהעסקה?
 ג. התיקים שמכר הסוחר ברווח של 15% נקנו ע"י חנות מרכזית. בחודש הראשון למכירת התיקים, מכרה החנות כל תיק ברווח של 50%. לאחר חודש העלתה החנות את המחיר של תיק ב-20% נוספים ופרסמה מבצע שבמסגרתו כל הקונה שני תיקים יקבל את השני בהנחה של 40%. חן הגיעה לחנות בחודש הראשון וקנתה שני תיקים ואחותה, שרית, הגיעה לחנות לאחר חודש וקנתה שני תיקים במסגרת המבצע. מי משתי האחיות שילמה מחיר נמוך יותר בממוצע על תיק?
- 21** בית קפה רכש 120 ק"ג מוצרי שוקולד. 10 ק"ג נהרסו מיד עם הגעתם למקום עקב תנאי תחזוקה רעועים, 40 ק"ג נמכרו ברווח של 3 ₪ לק"ג ואת שאר הכמות מכר בית הקפה בהפסד של 2 ₪ לק"ג. בסה"כ הפסיד בית הקפה בעסקה 60 ₪.
- א. מהו המחיר של ק"ג מוצרי שוקולד?
 ב. בהזמנה נוספת רכש בית הקפה כמות מסוימת של מוצרי שוקולד ושילם עבור ק"ג אחד את המחיר שמצאת שסעיף הקודם. ידוע כי 10% מהכמות מכר בית הקפה ברווח של 50% לק"ג ו-20% מהכמות מכר בית הקפה בהפסד של 25%. מצא באיזה מחיר צריך למכור בית הקפה את הכמות הנותרת על מנת שירוויח 70% מהסכום שהוציא.

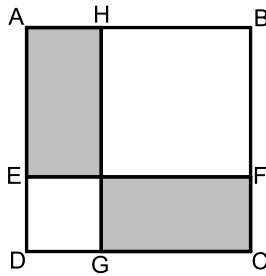
- (22)** בעל מזנון פלאפל קנה 12 ק"ג גרגירי חומוס להכנת כדורי פלאפל ו-8 ק"ג קמח לאפיית פיתות. ידוע כי המחיר של 2 ק"ג גרגירי חומוס גבוה ב-2 ש"ח מהמחיר של 1 ק"ג קמח. בעל המזנון קיבל הנחה של 25% על כל 1 ק"ג גרגירי חומוס והנחה של 20% על כל 1 ק"ג קמח. לאחר ההנחה שילם בעל המזנון 74.4 ש"ח בעבור קנייתו.
- א. מה הם המחירים של 1 ק"ג גרגירי חומוס ו-1 ק"ג קמח?
- ב. ידוע כי כל מנת פלאפל נמכרת במחיר זהה ולהכנתה דרושים 300 גרם גרגירי חומוס ו- x גרם קמח.
- בעל המזנון ניצל בצורה מלאה את כל הרכיבים שברשותו ולאחר מכירת כל המנות שהכין נשאר עם רווח של 245.6 ש"ח.
- מצא את x ואת המחיר של מנת פלאפל.
- (23)** בעל גלידריה קנה 30 ליטרים חלב ו-18 ק"ג אבקת שוקולד להכנת גלידות שוקולד. על כל 1 ליטר חלב קיבל 5% הנחה ועל כל 1 ק"ג אבקה קיבל 10% הנחה. ידוע כי המחיר ששילם על כל כמות החלב שרכש גדולה ב-77.7 ש"ח מהמחיר ששילם על כל האבקה שרכש.
- א. מצא את המחיר של 1 ליטר חלב ו-1 ק"ג אבקת שוקולד אם ידוע כי הוא שילם 207.3 ש"ח בעבור כל הקנייה.
- ב. כדי לייצר כדור שוקולד אחד דרושים 300 מ"ל חלב ו-180 גרם אבקת שוקולד. בעל הגלידריה ניצל את כל המוצרים שקנה ופרסם כי המחיר של כדור שוקולד אחד הוא 10 ש"ח וכי בקניית שני כדורי שוקולד תינתן הנחה של שקל. בעל הגלידריה מכר את כל הכדורים שברשותו והרוויח 762.7 ש"ח.
- מצא כמה לקוחות קנו כדור בודד וכמה קנו שני כדורים.
- (24)** סוכן כלי כתיבה רכש בקנייה מרוכזת 40 חבילות עטים ו-60 חבילות עפרונות. חבילת עטים מכילה 12 עטים וחבילת עפרונות מכילה 10 עפרונות. הסוכן קיבל הנחה של 10% לעט ו-15% הנחה לעפרון. בסה"כ שילם הסוכן 3102 ש"ח. ידוע כי אילו לא היה מקבל הסוכן את ההנחות, אז המחיר הכולל שהיה נדרש לשלם עבור כל העטים היה גדול פי 4.8 מהמחיר שהיה משלם עבור כל העפרונות.
- א. מצא מה המחירים המקוריים של עט בודד ושל עפרון בודד.
- ב. חנות "כותבים בכיף" קנתה כמות מסוימת של עטים ועפרונות מהסוכן והכינה מארזים לתחילת שנה שכל אחד מכיל 2 עטים ו-3 עפרונות. הסוכן מכר לחנות את העפרונות והעטים במחירים המקוריים שלהם ואילו החנות מכרה את המארזים במחיר הגדול ב-40% מעלות ההכנה שלהם.
- מצא כמה עפרונות וכמה עטים רכשה החנות מהסוכן אם ידוע כי הרוויחה מעסקה זו (לאחר שמכרה את כל המארזים שהכינה) סה"כ 72 ש"ח.

תשובות סופיות:

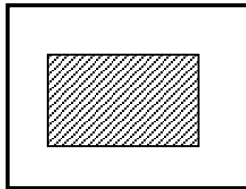
- (9) א. 250 מרצפות. ב. 88 ש. ג. 156,000.
- (10) מחשב-3000 ש, מדפסת-600 ש. ב. היה מרוויח 90 ש. ג. 22.4%.
- (11) א. 1800 ש. ב. 44%.
- (12) א. 5760 ש. ב. 144 ש. ג. 22.4%.
- (13) א. 100 ש. ב. 144 ש. ג. כדאי לקנות לאחר שנה, ללא תלות במספר החדרים.
- (14) א. 100 ו-20 ש. ב. ב-200% (פי 3). ג. במחירים המקוריים.
- (15) א. 50 ש. ב. 74.5%.
- (16) א. 12 מיטות. ב. 5,000 ש. ג. המחיר המדויק הוא: 5263.15 ש ולכן נעגל ונדרוש: 5264 ש למיטה.
- (17) א. 1400 ש $x =$. ב. 200 יחידות.
- (18) א. 20%. ב. 82.5%. ג. 29.8%.
- (19) א. 50 נורות ב-80 ש למנורה. ב. 100 מנורות.
- (20) א. 40 ש. ב. לא. ג. שרית (66.24 ש).
- (21) א. 4 ש. ב. 8 ש.
- (22) א. 1 ק"ג גרגירי חמוס-4 ש, 1 ק"ג קמח-6 ש. ב. 200 גרם $x =$, מנת פלאפל-8 ש.
- (23) א. 1 ליטר חלב-5 ש, 1 ק"ג אבקה-4 ש. ב. 30 קנו שני כדורים ו-40 קנו כדור בודד.
- (24) א. עט-6 ש, עפרון-1 ש. ב. 12 מארזים ולכן 24 עטים ו-36 עפרונות.

בעיות יסודיות במרובעים:

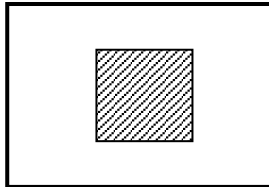
שאלות:



- (1) המרובע ABCD הוא ריבוע (ראה איור).
 הקטע EF מקביל לצלעות הריבוע ומחלק את הצלעות AD ו-BC באופן כזה כך ש-DE ו-CF מהוות 30% מצלע הריבוע. הקטע GH מקביל לצלעות AD ו-BC ומרחקו מהצלע AD הוא 2 ס"מ.
 ידוע שסכום השטחים של המלבנים המקווקים מהווה 50% מסכום שטחי המלבנים הלבנים.
 מצא את אורך צלע הריבוע.

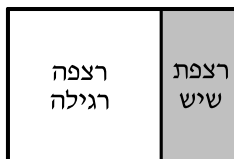


- (2) היקף חלקה מלבנית הוא 30 ק"מ. רוצים לבנות בניין מלבני (המקווקו באיור) במרכז החלקה ששטחו הכולל הוא 10 קמ"ר.
 ידוע ששטח הבניין מהווה 20% משטח החלקה.
 מצא את מידות החלקה.



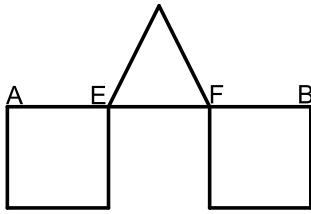
- (3) במרכז חלקה מלבנית שצלע אחת שלה גדולה ב-10 ק"מ מהצלע הסמוכה לה בונים בניין ריבועי (המקווקו באיור). ידוע כי אורך הצלע שלו היא שליש מאורך הצלע הקטנה של החלקה. מחיר קמ"ר אחד משטח הבניין הוא 1,000 ₪ ומחיר קמ"ר אחד משטח החלקה הוא 100 ₪.
 קבלן בניה שילם עבור כל השטח סכום כולל של 60,000 ₪.
 מצא את מידות החלקה.

- (4) לרפי מטבח מלבני שמידותיו הם: 12×18 מטרים. רפי מחלק את המטבח לשני מלבנים כך ששטח אחד גדול פי 2 מהשטח של השני. רפי רוצה לרצף את השטח הקטן ברצפת שיש יוקרתית (השטח הימני) לעומת השטח הגדול שאותו ירצף רפי ברצפה רגילה (השטח השמאלי).



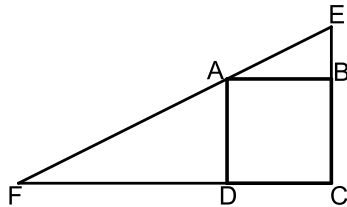
- ידוע שהמחיר של מ"ר אחד מהרצפה הרגילה הוא 60% מהמחיר של מ"ר אחד מרצפת השיש היוקרתית.
 רפי השקיע בריצוף המטבח סכום כולל של 3168 ₪.
 כמה עולה מ"ר מכל סוג?

בעיות במרובעים ובמשולשים ללא משפט פיתגורס:



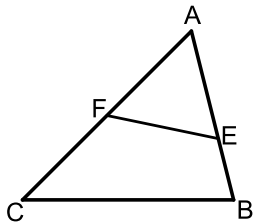
- (5) על הקטע AB מקצים את הנקודות E ו-F כך ששלושת הקטעים EF, AE ו-BF שווים. על הקטעים BF ו-AE בונים ריבועים ועל הקטע EF בונים משולש שווה שוקיים. ידוע כי הגובה במשולש שווה לאורך הבסיס EF וכי סכום שטחי שני המרובעים והמשולש הוא 90 סמ"ר. מצא את אורך צלע הריבוע.

- (6) נתון ריבוע ABCD. בונים משולש ישר זווית EFC כך ש-E ו-F הן נקודות על המשכי הצלעות BC ו-DC של הריבוע בהתאמה. הנקודה A נמצאת על יתר המשולש EF.



- הקטע BE מהווה 50% מצלע הריבוע והקטע DF גדול פי 2 מצלע הריבוע. ידוע כי שטח המשולש EFC הוא 81 סמ"ר. מצא את אורך צלע הריבוע.

- (7) הנקודות E ו-F נמצאות בהתאמה על הצלעות AB ו-AC של המשולש ABC. ידוע כי שטח המשולש AEF הוא 22 סמ"ר.



- שטח המרובע BCFE מהווה 60% משטח המשולש ABC.
- מצא את שטח המרובע BCFE.
 - מצא את שטח המשולש ABC.

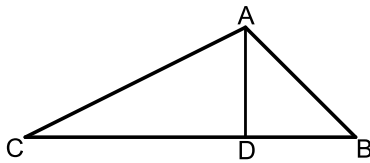
תשובות סופיות:

- 24 ס"מ.
- 10 ס"מ ו-5 ס"מ.
- 15 ק"מ ו-25 ק"מ.
- 20 נה ו-12 נה.
- 6 ס"מ.
- 6 ס"מ.
- א. $S = 33$ ב. $S = 55$

בעיות במשולשים כולל משפט פיתגורס:

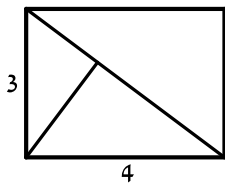
שאלות:

- 8 במשולש ABC מורידים גובה AD לצלע BC המחלק אותו לשני משולשים ADC ו-ABD כך שמתקיים: $S_{ADC} = 2S_{ABD}$.



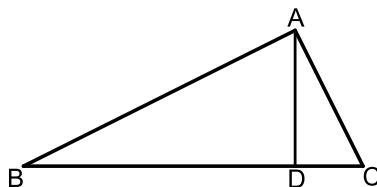
- א. נתון שאורך הקטע BD הוא 12 ס"מ. מצא את אורך הקטע CD.
 ב. נתון שאורך הצלע AC הוא 25 ס"מ. חשב את: S_{ABD} .

- 9 במלבן שצלעותיו הן 3 ו-4 ס"מ מעבירים אלכסון ומעלים לו גובה מהקדקוד התחתון לו.



- א. מצא את אורך האלכסון.
 ב. מצא את אורך הגובה.
 ג. מצא את אורכי שני הקטעים שהגובה מחלק את האלכסון.

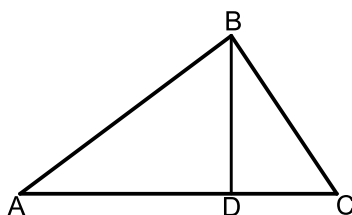
- 10 במשולש ABC מורידים גובה AD לצלע BC כך שהקטע BD גדול פי 4.5 מהקטע CD.



- אורך הצלע AB הוא 13 ס"מ ואורך הצלע AC הוא $5\frac{2}{3}$ ס"מ.

- א. מצא את האורכים BD ו-CD.
 ב. מצא את אורך הגובה AD.
 ג. חשב את שטח המשולש ABC.

- 11 BD הוא גובה ליתר במשולש ישר זווית ABC ($\angle B = 90^\circ$).



- היתר AC גדול ב-25% מהניצב AB. ידוע כי אורך הניצב BC הוא 18 ס"מ.
 א. מצא את אורכי הניצב AB והיתר AC.
 ב. מהם האורכים AD ו-DC?

תשובות סופיות:

(8) א. 24 ס"מ.

ב. $S_{ABD} = 42$.

(9) א. 5 ס"מ.

ב. 2.4 ס"מ. ג. 3.2 ס"מ ו-1.8 ס"מ.


(10) א. 12 ס"מ ו- $2\frac{2}{3}$ ס"מ.ב. 5 ס"מ. ג. $S = 36\frac{2}{3}$.

(11) א. 24 ס"מ ו-30 ס"מ.

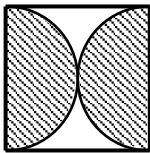
ב. 19.2 ס"מ ו-10.8 ס"מ.

בעיות במעגל – ללא אחוזים ללא משפט פיתגורס:

שאלות:



- 12** בבניין של רפי השכן יש חלון מרכזי המורכב ממלבן ומעליו חצי עיגול. ידוע כי בסיס החלון קטן פי 2 מגובה המלבן. שטח החלון הכולל הוא : $200 + 12.5\pi$.
- א. מצא את מידות המלבן.
ב. מצא את היקף החלון.



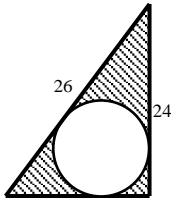
- 13** בריבוע שלפניך חסומים שני חצאי עיגולים הפוכים זה לזה. ידוע כי סכום ההיקפים של שני החצאים יחדיו הוא 10π .
- א. מצא את אורך צלע הריבוע.
ב. ענה על השאלות הבאות:
- i. מצא את סכום השטחים של שני חצאי העיגולים (השטח המקווקו).
ii. מצא את השטח הכלוא בין העיגולים והריבוע (השטח הלבן).

תשובות סופיות:

- 12** א. 10 ס"מ. ב. i. $S = 25\pi$. ג. ii. $S = 100 - 25\pi = 21.4$.
- 13** א. 10 ס"מ. ב. 5 ס"מ. ג. $S = 120 - 25\pi = 41.4$.

בעיה במעגל – ללא אחוזים וכולל משפט פיתגורס:

שאלות:



14) באיור שלפניך מתואר משולש ישר זווית שבתוכו כלוא עיגול. ידוע כי אורך היתר במשולש הוא 26 ס"מ וכי אורך הניצב האנכי הוא 24 ס"מ.

א. מצא את אורך הניצב השני.

ב. שטח המעגל הוא 25π . מצא את רדיוס המעגל.

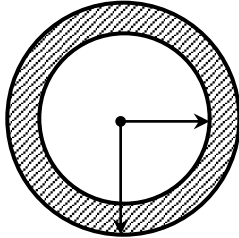
ג. מצא את השטח הכלוא בין המשולש למעגל (השטח המקווקו).

תשובות סופיות:

14) א. 10 ס"מ. ב. 5 ס"מ. ג. $S = 120 - 25\pi = 41.4$.

בעיה במעגל – כולל אחוזים:

שאלות:



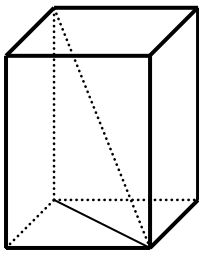
15) באיור שלפניך מתוארת טבעת המורכבת משני מעגלים בעלי אותו מרכז ששטחה הוא 63π . ידוע כי רדיוס המעגל הפנימי קטן ב-25% מרדיוס המעגל החיצוני. מצא את הרדיוסים של שני המעגלים.

תשובות סופיות:

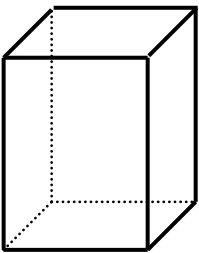
15) 12 ו-9.

בעיות בהנדסת המרחב:

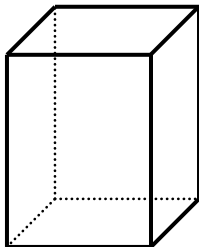
שאלות:



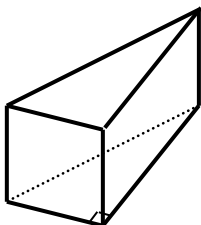
- (1) נתונה תיבה שבסיסה מלבן. ידוע כי אורך צלע אחת של בסיס התיבה קטנה ב-25% מהצלע הסמוכה לה וכי גובה התיבה גדול פי 3 מהצלע הגדולה. אורך אלכסון הבסיס הוא 10 ס"מ.
- מצא את מידות בסיס התיבה.
 - מצא את נפח התיבה.
 - חשב את אורך אלכסון התיבה.



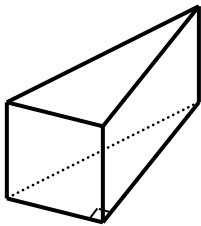
- (2) נתונה תיבה שבסיסה הוא מלבן וגובהה הוא 10 ס"מ. ידוע כי נפח התיבה הוא 280 סמ"ק וכי שטח הפנים שלה הוא 276 סמ"ר.
- מצא את מידות בסיס התיבה.
 - מה יהיה אורך אלכסון התיבה?



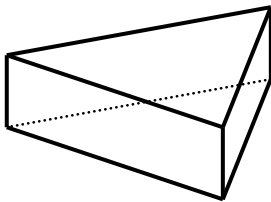
- (3) נתונה תיבה שבסיסה הוא מלבן. ידוע כי צלע אחת של המלבן גדולה ב-50% מהצלע הסמוכה לה. כמו כן גובה התיבה גדול ב-50% מצלע המלבן הגדולה. סכום ארבעת הגבהים של התיבה גדול ב-32 ס"מ מהיקף בסיס המלבן.
- מצא את מידות מלבן הבסיס של התיבה.
 - חשב את שטח המעטפת של התיבה.
 - חשב את נפח התיבה.



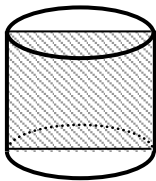
- (4) נתונה מנסרה שבסיסה הוא משולש ישר זווית. ידוע כי אורך היתר במשולש הבסיס הוא 17 ס"מ. גובה המנסרה שווה לאורך ניצב המשולש הקטן. הניצב השני של המשולש גדול ב-7 ס"מ מהניצב הקטן.
- חשב אורכי הניצבים ואת גובה המנסרה.
 - חשב את נפח המנסרה.



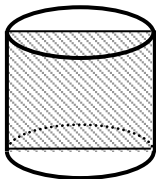
- (5) נתונה מנסרה שבסיסה הוא משולש ישר זווית. הניצב הגדול, גדול ב-4 ס"מ מהניצב קטן, וקטן ב-4 ס"מ מאורך היתר. נפח המנסרה הוא 2880 סמ"ק.
- מצא את מידות משולש הבסיס.
 - מצא את גובה המנסרה.
 - מצא את שטח המעטפת של המנסרה.



- (6) נתונה מנסרה שבסיסה הוא משולש שווה שוקיים. ידוע כי שטח הפאה הבנויה על מקצוע הבסיס של המשולש מהווה 80% משטח הפאה הסמוכה לה. כמו כן ידוע כי אורך השוק במשולש בסיס גדול ב-4 ס"מ מאורך הבסיס במשולש זה. אורך גובה המנסרה הוא 4 ס"מ.
- מצא את מידות משולש הבסיס.
 - מה יהיה שטח המעטפת של המנסרה?
 - מה יהיה סכום כל מקצועות המנסרה?



- (7) שטח החתך הצירי של גליל הוא 30 סמ"ר. רדיוס הגליל וגובהו מקיימים: $2h - 3r = 1$.
- מצא את רדיוס הגליל ואת גובהו.
 - חשב את שטח עיגול הבסיס של הגליל.
 - חשב את נפח הגליל.



- (8) נתון גליל שרדיוסו הוא 4 ס"מ. מעבירים חתך צירי בגליל. ידוע כי היקף המלבן של החתך הצירי גדול פי 4 מאורך גובה הגליל.
- ענה על השאלות הבאות:
 - מצא את גובה הגליל.
 - איזה מרובע הוא המלבן של החתך הצירי?
 - חשב את שטח הפנים של הגליל.
 - חשב את נפח הגליל.

תשובות סופיות:

- (1) א. 6 ס"מ ו-8 ס"מ. ב. $V = 1152$. ג. 26 ס"מ.
- (2) א. 4 ס"מ ו-7 ס"מ. ב. $\sqrt{165} = 12.84$ ס"מ. ג. $V = 1728$.
- (3) א. $8 \times 12 \times 18$ ס"מ. ב. $S = 720$. ג. $S = 1440$.
- (4) א. 8 ס"מ, 8 ס"מ ו-15 ס"מ. ב. $V = 480$. ג. 124 ס"מ.
- (5) א. 12 ס"מ, 16 ס"מ ו-20 ס"מ. ב. 30 ס"מ. ג. $V = 45\pi$.
- (6) א. 16 ס"מ ו-20 ס"מ. ב. $S = 224$. ג. $S = 96\pi$.
- (7) א. $r = 3, h = 5$. ב. $S = 9\pi$. ג. $S = 96\pi$.
- (8) א.i. 8 ס"מ. א.ii. ריבוע. ג. $V = 128\pi$.

הכנה למבחן כניסה למכינה במתמטיקה

פרק 8 - בעיות מילוליות מתקדמות

תוכן העניינים

110	1. הקדמה כללית
112	2. בעיות תנועה בלי אחוזים עם נעלם אחד ושניים
115	3. בעיות תנועה עם אחוזים
116	4. בעיות תנועה עם משפט פיתגורס
117	5. בעיות תנועה - מהירות מושפעת מזרמים
118	6. בעיות תנועה - מהירות ממוצעת
119	7. בעיות תנועה שונות
122	8. בעיות הספק
124	9. שאלות שונות

הקדמה כללית:

הגדרה:	אחוז אחד הוא מאית השלם.
בעיית תנועה:	זמן \times מהירות = דרך.
בעיית הספק:	הספק \times זמן = עבודה.

הערות:

- אם לא צוין אחרת, המהירויות בכל שאלה קבועות.
- אם לא צוין אחרת, ההספקים בכל שאלה קבועים.

שאלות:

- ענה על הסעיפים הבאים:

א. כמה הם 20% מ-300?

ב. כמה הם 120% מ-300?

ג. מהו המספר הגדול מ-300 ב-20%?
- ענה על הסעיפים הבאים:

א. חולצה עלתה 240 ש"ח והתייקרה ב-30%. מה מחירה כעת?

ב. נעליים עלו 450 ש"ח והוזלו ב-40%. מה מחירם כעת?
- מכונית נסעה במהירות 80 קמ"ש ואז הורידה את מהירותה ב-20%. מה מהירותה כעת?
- אופנוע נסע במהירות x והעלה את מהירותו ב-30%. בטא באמצעות x את מהירותו כעת.
- צינור מילא בריכה בקצב של x ליטר בשעה. לאחר מכן ירד הספק המילוי שלו ב-20% ולבסוף עלה הספק המילוי שלו ב-30%. בטא באמצעות x את הספק המילוי שלו כעת.

תשובות סופיות:

(1) א. 60 ב. 360 ג. 360

(2) א. 312 ₪ ב. 270 ₪

(3) 64 קמ"ש.

(4) $1.3x$ (5) $1.04x$

בעיות תנועה בלי אחוזים עם נעלם אחד ושניים:

שאלות:

- (1) מכונית נוסעת מ-A ל-B במהירות של 90 קמ"ש. בדרך חזרה נסעה המכונית במהירות של 60 קמ"ש. בסה"כ נמשכה הנסיעה הלוך וחזור 20 שעות.
 א. כמה שעות נסעה המכונית לכל כיוון?
 ב. מהי הדרך שעברה המכונית?
- (2) אוטובוס ומשאית יוצאים בו זמנית משני יישובים A ו-B בהתאמה. מהירות האוטובוס היא 60 קמ"ש ומהירות המשאית היא 80 קמ"ש. האוטובוס הגיע ליישוב B שעה ו-40 דקות מאוחר יותר מהזמן שלקח למשאית להגיע ליישוב A.
 א. כמה זמן נסע האוטובוס וכמה זמן נסעה המשאית?
 ב. מהו המרחק בין שתי הערים?
- (3) הולכת רגל יצאה לטיול במהירות מסוימת. לאחר שעה וחצי יצא בעקבותיה מאותו מקום הולך רגל נוסף במהירות הגדולה ממהירותה ב-4.5 קמ"ש. הולך הרגל השיג את הולכת הרגל שעה לאחר שיצא לדרכו.
 א. מהי מהירות ההליכה של הולכת הרגל?
 ב. מהו המרחק שעברו עד שנפגשו?
- (4) שני רוכבי אופניים יוצאים בו זמנית מעיר א' לעיר ב'. הרוכב הראשון נוסע במהירות קבועה ומגיע לעיר ב' לאחר 5 שעות. הרוכב השני נוסע במשך השעתיים הראשונות במהירות הקטנה ב-2 קמ"ש ממהירות הרוכב הראשון. לאחר מכן הוא מגביר את מהירותו ב-14 קמ"ש ומגיע לעיר ב' שעה ו-20 דקות לפני הרוכב הראשון.
 א. באיזו מהירות נסע הרוכב הראשון?
 ב. איזו דרך עבר הרוכב השני בכל חלק?
- (5) משאית נוסעת מרחק של 245 ק"מ בכל יום במהירות קבועה. יום אחד נסעה המשאית במשך שעתיים וחצי במהירות הרגילה, לאחר מכן עצרה לתדלוק במשך 24 דקות ואז המשיכה בנסיעה במהירות הגדולה ב-70 קמ"ש ממהירותה הקודמת. המשאית הגיעה ליעדה שעה לפני השעה שהיא מגיעה בכל יום.
 א. באיזו מהירות נוסעת המשאית בכל יום?
 ב. כמה זמן לוקח למשאית להגיע ליעדה בכל יום?

- (6) רוכב אופניים יצא בשעה 06:00 לרכיבה במהירות 24 קמ"ש. בשעה 07:00 יצא מאותו מקום רוכב אופנוע באותו כיוון ובמהירות של 40 קמ"ש. באיזו שעה ובאיזה מרחק מנקודת היציאה ישיג רוכב האופנוע את רוכב האופניים?
- (7) אוטובוס נוסע מעיר א' לעיר ב' הרחוקה ממנה ב-800 ק"מ. לאחר שעבר האוטובוס 135 ק"מ במהירות קבועה הוא עצר להתרעננות במשך חצי שעה. לאחר מכן המשיך האוטובוס את נסיעתו במהירות הגדולה ב-43 קמ"ש ממהירותו הקודמת עד לעיר ב'. סך כל הזמן שהיה האוטובוס בדרך הוא 7 שעות.
 א. מה הייתה המהירות ההתחלתית של האוטובוס?
 ב. מה היה המרחק שעבר האוטובוס אחרי ההתרעננות עד לעיר ב'?
- (8) המרחק בין ת"א לנצרת הוא 103 ק"מ. בשעה 08:00 יצאה מכונית מנצרת לת"א במהירות 90 קמ"ש. בשעה 08:20 יצאה משאית מת"א לנצרת במהירות 56 קמ"ש. באיזו שעה ייפגשו המכונית והמשאית?
- (9) משאית נסעה מדימונה לאילת, מרחק של 200 ק"מ. 50 דקות אחריה יצאה מכונית מדימונה לאילת במהירות הגבוהה ב-30 קמ"ש והגיעה לאילת 40 דקות לפני המשאית. מצא את מהירות המכונית.

תשובות סופיות:

- (1) א. 8 שעות הלוך ו-12 שעות חזור ב. 720 ק"מ.
- (2) א. אוטובוס – 6 שעות ו-40 דקות, משאית – 5 שעות. ב. 400 ק"מ.
- (3) א. 3 קמ"ש ב. 7.5 ק"מ.
- (4) א. 12 קמ"ש ב. 20 ק"מ ו-40 ק"מ.
- (5) א. 50 קמ"ש ב. 4 שעות ו-54 דקות.
- (6) א. 30, 8: 60 ק"מ.
- (7) א. 90 קמ"ש ב. 665 ק"מ.
- (8) א. 8: 50.
- (9) א. 80 קמ"ש.

בעיות תנועה עם אחוזים:

שאלות:

- 10** מכונית נסעה במהירות מסוימת במשך שעתיים. אחר כך העלתה את מהירותה ב-25% ונסעה עוד שעה וחצי. בסך הכול עברה המכונית 310 ק"מ. מה הייתה מהירותה ההתחלתית של המכונית?
- 11** מכונית נוסעת מעיר א' לעיר ב' מרחק של 480 ק"מ במהירות קבועה. בדרכה חזרה נסעה המכונית במשך שעה במהירות הקבועה. לאחר מכן עצרה להתרעננות של 36 דקות ואז הגבירה את מהירותה ב-25% ממהירותה הקודמת והגיעה בחזרה לעיר א' 24 דקות פחות מהזמן שלקח לה להגיע לעיר ב'. באיזו מהירות נסעה המכונית מעיר א' לעיר ב'?
- 12** רכבת משא ורכבת נוסעים יוצאות מעיר א' לעיר ב' מרחק של 360 ק"מ. מהירות רכבת הנוסעים גדולה ב-20% ממהירות רכבת המשא. רכבת הנוסעים התעכבה 40 דקות בתחנה, ולכן יצאה באיחור מהתחנה של עיר א'. עם זאת היא הגיעה לעיר ב' 20 דקות לפני רכבת המשא.
 א. מה הן המהירויות של שתי הרכבות?
 ב. כמה זמן נסעה רכבת הנוסעים מעיר א' לעיר ב'?
- 13** מכונית ומונית נוסעות מנקודה A לנקודה B. המכונית נוסעת במהירות קבועה ומגיעה לנקודה B כעבור 4 שעות. המונית נוסעת במשך 3 שעות המהירות הקטנה ב-10 קמ"ש ממהירות המכונית ולאחר מכן מגבירה את מהירותה ב-50% ומגיעה לנקודה B יחד עם המכונית.
 א. מהי מהירות המכונית?
 ב. מהו המרחק בין נקודה A לנקודה B?

תשובות סופיות:

10 80 קמ"ש.

11 80 קמ"ש.

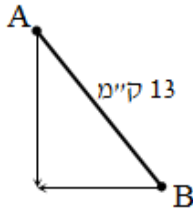
12 א. 60 קמ"ש, 72 קמ"ש. ב. 5 שעות.

13 א. 90 קמ"ש. ב. 360 ק"מ.

בעיות תנועה עם משפט פיתגורס:

שאלות:

- 14) שתי מכוניות יצאו מהעיר, האחת לכיוון מזרח והשנייה לכיוון צפון. לאחר שלוש שעות המרחק בין שתי המכוניות היה 300 ק"מ. מהירות מכונית אחת גדולה ב-20 קמ"ש ממהירות המכונית השנייה.
- א. מהן המהירויות של שתי המכוניות?
 ב. מה היה המרחק של כל מכונית מהעיר לאחר שלוש שעות?



- 15) שני הולכי רגל יוצאים משני יישובים A ו-B המרוחקים זה מזה 13 ק"מ. היישוב A ממוקם בצפון מערב ביחס ליישוב B כמתואר באיור ממול. הולך הרגל מיישוב A הולך דרומה והולך הרגל מיישוב B הולך מערבה. הולך הרגל מיישוב A יוצא שתיים לפני הולך הרגל השני. לאחר שלוש שעות מיציאתו נפגשו שני הולכי הרגל. מהירות הולך הרגל מיישוב B גדולה ב-25% ממהירות הולך הרגל השני. באיזו מהירות הלך כל אחד משני הולכי הרגל?
- 16) רוכב אופנוע יצא מביתו מזרחה במהירות מסוימת ונסע במשך חצי שעה. לאחר מכן, פנה צפונה, הגדיל את מהירותו ב-20% ונסע כך שעה נוספת. לאחר שעה זו פנה חזרה לכיוון ביתו, העלה את מהירותו ל-65 קמ"ש ונסע (בקו ישר) עד שהגיע חזרה לביתו.
- א. מצא את מהירותו של הרוכב האופנוע ביציאה מביתו אם ידוע שעבר בסך הכול 150 ק"מ.
 ב. מה הייתה מהירותו הממוצעת של הרוכב האופנוע (בכל חלקי הדרך)?

תשובות סופיות:

14) א. 60 קמ"ש ו-80 קמ"ש. ב. 180 ק"מ ו-240 ק"מ.

15) 4 קמ"ש ו-5 קמ"ש.

16) א. 50 קמ"ש. ב. 60 קמ"ש.

בעיות תנועה – מהירות מושפעת מזרמים:

שאלות:

- 17) סירה שטה בנהר שבו מהירות הזרם היא 3 קמ"ש עם כיוון זרם המים. לאחר חצי שעה החליטו אנשי הסירה לשנות את כיוונם וחזרו במשך שעתיים לנקודת המוצא שלהם. מהירות הסירה במים עומדים קבועה במשך כל השייט.
- א. מצא את מהירות הסירה.
 ב. מהו המרחק הכולל ששטה הסירה?

תשובות סופיות:

- 17) א. 5 קמ"ש ב. 8 ק"מ.

בעיות תנועה – מהירות ממוצעת:

שאלות:

18 מכונית נוסעת 3 שעות במהירות קבועה של 140 קמ"ש ולאחר מכן במשך שעתיים נוספות במהירות קבועה של 100 קמ"ש.

א. מה סך הדרך שעברה המכונית?

ב. מהי המהירות הממוצעת של המכונית?

19 מכונית נוסעת 4 שעות במהירות של 130 קמ"ש ולאחר מכן מספר שעות נוספות במהירות של 70 קמ"ש. ידוע כי מהירותה הממוצעת היא 110 קמ"ש. כמה שעות נסעה המכונית במהירות של 70 קמ"ש?

20 אופנוע עובר מרחק של 200 ק"מ במהירות מסוימת. לאחר מכן מאיץ האופנוע ומגדיל את מהירותו ב-40%. הוא נוסע במהירות זו ועובר מרחק של 280 ק"מ. המהירות הממוצעת של האופנוע היא 96 קמ"ש.

א. כמה זמן נסע האופנוע?

ב. באיזו מהירות התחיל האופנוע את נסיעתו?

תשובות סופיות:

18 א. 620 ק"מ. ב. 124 קמ"ש.

19 שעתיים.

20 א. 5 שעות. ב. 80 קמ"ש.

בעיות תנועה שונות:

שאלות:

- 21** המרחק בין ת"א לקריית שמונה הוא 180 ק"מ. שני רוכבי אופנוע יצאו בו זמנית, האחד מת"א לקריית שמונה והשני מקריית שמונה לת"א. כעבור 45 דקות הרוכבים עדיין לא נפגשו והמרחק ביניהם היה 52.5 ק"מ. רוכב האופנוע שיצא מת"א הגיע ליעדו 15 דקות לפני שהרוכב השני הגיע ליעדו. מצא את מהירויות רוכבי האופנוע.
- 22** רכבת נוסעת בקו ת"א – ב"ש במשך שעה ורבע. יום אחד, לאחר חצי שעת נסיעה, הייתה תקלה ברכבת והיא נאלצה לעצור ל-10 דקות עד שהתקלה תוקנה. כדי לנסות ולהגיע ליעדה בזמן העלתה את מהירותה ב-10 קמ"ש בהמשך הדרך והגיעה ליעדה באיחור קל של 5 דקות בלבד. מצא את מהירות הרכבת.
- 23** אדם הולך ברגל מביתו למקום העבודה שלו במהירות מסוימת. יום אחד יצא מביתו מאוחר מאוד ולכן נאלץ להגביר את מהירות ההליכה שלו ב-3 קמ"ש. הוא הגיע לעבודה בזמן והדרך ארכה מחצית מהזמן שבדרך כלל היא אורכת. מצא את מהירות ההליכה של האדם (בשגרה).
- 24** שני הולכי רגל הולכים זה לקראת זה, האחד מנקודה A לנקודה B והשני מנקודה B לנקודה A הם נפגשים כעבור חצי שעה וממשיכים ליעדם. הולך הרגל הראשון הגיע לנקודה B 25 דקות לפני שהולך הרגל השני הגיע לנקודה A. מצא את היחס בין מהירויות הולכי הרגל.
- 25** היישובים A ו-B נמצאים על גדת נהר בעל זרם קבוע. יום אחד, יצאה ספינה מיישוב A ליישוב B במהירות מסוימת. שעה לאחר מכן יצאה ספינה שנייה מיישוב B ליישוב A וכעבור שתיים פגשה את הספינה הראשונה. הספינות המשיכו ליעדן וחזרו חזרה ליישוב המוצא באותו יום. למחרת, שוב יצאה הספינה מיישוב A ליישוב B אך במהירות כפולה מביום הקודם. הספינה מיישוב B יצאה גם היא במהירות כפולה לכיוון היישוב A אך הפעם רק חצי שעה אחרי שיצאה הספינה הראשונה. כעבור שעה עוד לא פגשה את הספינה הראשונה אך הייתה במרחק של שני ק"מ ממנה. מצא את עוצמת הזרם אם ידוע שכיוונו מיישוב A ליישוב B.

- (26)** שלושה רוכבי אופנוע יצאו מירושלים לאילת ונסעו דרך עין גדי. המרחק בין עין גדי לאילת הוא 240 ק"מ. שלושת הרוכבים יצאו מירושלים בהפרשי זמן קבועים והגיעו לעין גדי באותו זמן. הרוכב שיצא ראשון הגיע לאילת שעה אחרי שהגיע לשם הרוכב שיצא שני. הרוכב שיצא שלישי הגיע לאילת ומיד פנה חזרה ופגש את הרוכב שיצא ראשון במרחק 80 ק"מ מאילת. מצא את מהירויות רוכבי האופנוע.
- (27)** מכונית ואופנוע יצאו באותו זמן מנקודה A לנקודה B. כשהאופנוע היה באמצע הדרך הייתה המכונית במרחק 16 ק"מ מנקודה B. כשהאופנוע היה במרחק 6 ק"מ מנקודה B המכונית הייתה במרחק 12 ק"מ מנקודה B.
- א. מצא את המרחק בין הנקודה A לנקודה B.
 ב. פי כמה גדולה מהירות האופנוע ממהירות המכונית?
- (28)** דן ורון עורכים מרוץ לאורך מסלול של 10 ק"מ. מהירותו של דן גדולה ב-5 קמ"ש ממהירותו של רן. שניהם יצאו למרוץ באותו זמן ודן הגיע לקו הסיום יותר מ-20 דקות לפני רן. מהו תחום המספרים בו נמצאת מהירותו של רן?
- (29)** רכבת נוסעת בקו ת"א – ב"ש במשך שעה ורבע. יום אחד, לאחר חצי שעת נסיעה, הייתה תקלה ברכבת והיא נאלצה לעצור ל-10 דקות עד שהתקלה תוקנה. כדי לנסות ולהגיע ליעדה בזמן העלתה את מהירותה ב-10 קמ"ש בהמשך הדרך והגיעה ליעדה באיחור קל שלא עלה על 5 דקות (שים לב – הרכבת הגיעה באיחור, אך איחור זה לא עלה על 5 דקות). מצא את תחום המספרים בו נמצאת מהירות הרכבת.
- (30)** שלושה חברים הלכו מבית הספר לספורטק בהליכה מהירה. מהירותו של הראשון הייתה גדולה ב-8 קמ"ש ממהירותו של השני וב- m קמ"ש ממהירותו של השלישי, לכן, הגיע הראשון m שעות לפני השני ושעתיים לפני השלישי.
- א. הבע באמצעות m את מהירותו וזמן הליכתו של החבר הראשון.
 ב. לאלו ערכים של m יש לבעיה פתרון?

תשובות סופיות:

(21) 90 קמ"ש, 80 קמ"ש.

(22) 80 קמ"ש.

(23) 3 קמ"ש.

(24) 1.5.

(25) 4 קמ"ש.

(26) 60 קמ"ש, 80 קמ"ש, 120 קמ"ש.

(27) א. 24 ק"מ ב. 1.5.

(28) 10 קמ"ש $< x < 0$ קמ"ש.(29) 80 קמ"ש $< x < 35$ קמ"ש.(30) א. $t = \frac{2m(8-m)}{m^2-16}$, $v = \frac{8m(m-2)}{m^2-16}$ ב. $4 < m < 8$.

בעיות הספק:

שאלות:

- (1) טבח הכין פנקייקים בקצב קבוע במשך שעתיים. אחר כך העלה את קצב עבודתו ב-25% והכין פנקייקים עוד שעה וחצי בקצב החדש. בסך הכול הכין הטבח 310 פנקייקים. כמה פנקייקים בשעה הכין הטבח בשעתיים הראשונות לעבודתו?
- (2) צינור ממלא בריכה בקצב קבוע. לאחר שעתיים נפתח צינור נוסף הממלא את הבריכה בקצב של 25% מהצינור הראשון. לאחר עוד שעה וחצי התמלאה הבריכה לאחר שנכנסו אליה בסה"כ 310 ליטר מים. כמה ליטרים לשעה מכניס הצינור הראשון לבריכה?
- (3) צינור א' ממלא בריכה בשלוש שעות. צינור ב' ממלא את אותה בריכה בשעתיים. שני הצינורות נפתחו יחדיו בשעה 10:00. באיזו שעה תהיה הבריכה מלאה?
- (4) קבוצת פועלים סללה כביש. את השליש הראשון של הכביש סללו בקצב של 10 מטר ביום. את השליש השני של הכביש סללו בקצב הגדול ב-15 מטר ביום מהקצב בו סללו את השליש השלישי של הכביש. זמן סלילת השליש הראשון היה שווה לזמן סלילת שאר הכביש. מצא את קצב סלילת השליש האחרון של הכביש.
- (5) למיכל שני ברזים, ברז א' ממלא אותו וברז ב' מרוקן אותו. יום אחד כאשר במיכל היו 20% מנפח הקיבול שלו, פתחו בטעות את שני הברזים בו זמנית והמיכל התרוקן תוך 6 דקות. מצא בכמה זמן ממלא ברז א' לבדו את המיכל כשהוא ריק אם ידוע שזמן זה ארוך ב-5 דקות מהזמן הדרוש לברז ב' לרוקן את המיכל כשהוא מלא.
- (6) שתי קבוצות של חקלאים אספו מלונים משדה. תחילה, עבדה רק הקבוצה המהירה יותר ואספה מלונים משליש מהשדה. אחר כך, עבדה רק הקבוצה האיטית יותר ואספה מלונים מעוד שישית מהשדה. לבסוף, הצטרפה הקבוצה המהירה לעבודה ויחד אספו מלונים במשך 9 ימים נוספים. מתחילת איסוף המלונים ועד סיומו עברו 29 ימים. מצא בכמה ימים יכולה הייתה הקבוצה המהירה לאסוף את המלונים מכל השדה לו עבדה לבדה.

- (7) מורה שברשותו היו מבחני המתמטיקה של כל השכבה, 224 במספר, תכנן לבדוק אותם תוך מספר ימים מסוים. הוא התחיל בעבודתו ואחרי 6 ימי עבודה, קיבל לידי עזר 7 מבחנים שנשכחו בבית הספר וקיבל הודעה כי עליו להחזיר את הבחינות 3 ימים לפני המועד שתכנן. הוא חישב וגילה שכדי לעמוד ביעד עליו לבדוק עוד 11 מבחנים בכל יום. בכמה ימים תכנן המורה לסיים את בדיקת המבחנים?
- (8) למיכל שנפחו 300 ליטר יש שני ברזים: ברז אחד למילוי והשני להרקה. מילוי המיכל (כשהוא ריק) אורך 8 דקות יותר מריקון המיכל (כשהוא מלא). יום אחד, כשהמיכל היה מלא, פתחו בטעות את שני הברזים והמיכל התרוקן בפחות מחצי שעה. באיזה תחום מספרי נמצאת כמות המים הנכנסת למיכל בדקה מברז המילוי?
- (9) שני פועלים תכננו לבצע עבודה מסוימת כך שהראשון יעבוד 8 ימים ואחריו השני יעבוד 6 ימים. אולם, 4 ימים אחרי תחילת העבודה חלה הפועל הראשון והפסיק לעבוד והפועל השני נאלץ לעבוד m ימים לבדו וגם אז הסתיימה רק 75% מהעבודה.
- א. הבע באמצעות m את הזמן שבו כל פועל היה מסיים את העבודה לו עבד לבדו.
- ב. לאלו ערכים של m יש לבעיה פתרון?

תשובות סופיות:

- (1) 80 פנקייקים.
- (2) 80 ליטרים בשעה.
- (3) 11:12
- (4) 15 מטרים ליום.
- (5) 15 דקות.
- (6) 24 ימים.
- (7) 14 ימים.
- (8) בין 15 ליטרים ל-37.5 ליטרים.
- (9) א. $4m-12$, $\frac{16(m-3)}{2m-9}$, ב. $m > 3$

שאלות שונות:

שאלות:

בעיות תנועה:

- (1) בשעה 8:00 בבוקר יצא הולך רגל מקיבוץ לכיוון חיפה. באותה שעה יצא רוכב קטנוע מחיפה לאותו הקיבוץ. שניהם נעו באותו כביש ומהירויותיהם לא השתנו בזמן התנועה. מהירות רוכב הקטנוע הייתה גדולה ב-12 קמ"ש מזו של הולך הרגל. 50 דקות לאחר השעה 8:00 הולך הרגל ורוכב הקטנוע טרם נפגשו וידוע כי המרחק ביניהם היה 16 ק"מ. 30 דקות לאחר פגישתם הגיע רוכב הקטנוע לקיבוץ. מצא את מהירות הולך הרגל ואת המרחק בין הקיבוץ לעיר חיפה.
- (2) סירת מנוע נעה בין שתי נקודות ציון. הסירה עוברת את המרחק שבין הנקודות הלוך ושוב במשך 14 שעות. המרחק בין שתי נקודות הציון הוא 48 ק"מ. ידוע כי באותו הזמן שעוברת הסירה מרחק של 4 ק"מ עם הזרם היא עוברת רק 3 ק"מ נגד הזרם. מהי מהירות זרם המים בנהר ומהי מהירות הסירה במים עומדים?
- (3) אוטובוס יוצר לדרך שאורכה 500 ק"מ, ומהירותו קבועה. אחרי נסיעה של שעתיים, הקטין נהג האוטובוס את המהירות, ולכן איחר בשעה אחת בדיוק. לו היה נוסע הנהג במהירות הנמוכה לאורך כל הדרך היה מאחר ליעדו בשעה וארבעים דקות. מצא את מהירות הרגילה של האוטובוס.
- (4) שני רוכבי אופניים יצאו בבת אחת זה לקראת זה ממקומות A ו-B, האחד מ-A ל-B והשני מ-B ל-A. הם נפגשו בדרך וכל אחד מהם המשיך לנוע ליעד בלי להתעכב. רוכב האופניים מ-A הגיע ל-B 4 שעות לאחר הפגישה, ואילו רוכב האופניים מ-B הגיע ל-A 9 שעות לאחר הפגישה. מהירויות רוכבי האופניים לא השתנו בשעות התנועה. בכמה שעות עבר כל אחד מרוכבי האופניים את המרחק בין המקומות A ו-B.
- (5) במגרש ספורט מדדו שני ספורטאים את אורכו של מסלול ריצה. כשהם יוצאים משני קצותיו, זה לקראת זה. לאחר שצעדו כל אחד 50 צעדים, נשאר ביניהם מרחק של 17 מטרים. כל צעד של הספורטאי הראשון היה קצר ב-10 ס"מ מצעדו של הספורטאי השני. את המסלול כולו עובר הספורטאי הראשון ב-24 צעדים יותר מאשר הספורטאי השני. הצעדים של כל אחד מהספורטאים לא השתנו באורכם במשך המדידה. מהו אורך מסלול הריצה?

- 6) המרחק מקיבוץ לחיפה הוא 40 ק"מ. בשעה 7 בבוקר יצא טנדר ובו דברי דואר מן הקיבוץ לחיפה. כעבור 20 דקות יצאה אחריו מכונית מן הקיבוץ במהירות של 45 קמ"ש כדי להוסיף את החבילה על דברי הדואר. היא הדביקה את הטנדר וחזרה מיד לקיבוץ. ברגע שעברה את מחצית הדרך ממקום הפגישה עם הטנדר לקיבוץ, הגיע הטנדר לחיפה. מהירות הטנדר ומהירות המכונית לא השתנו בזמן הנסיעה. מצא את מהירות הטנדר.
- 7) שני תיירים יצאו ביחד מ-A ל-B. התייר הראשון לא התעכב בדרכו והגיע ל-B לאחר $2\frac{1}{4}$ שעות. התייר השני, לאחר שעבר $\frac{1}{6}$ מהדרך, חזר ל-A שהה שם 15 דקות ואחר-כך הלך ל-B. שני התיירים הגיעו ל-B באותו זמן. התייר השני עבר כל קילומטר 4 דקות פחות מהתייר הראשון. מהירות ההליכה של שני התיירים לא השתנתה בעת ההליכה. מצא את מהירותו (בקמ"ש) של כל אחד מהתיירים.
- 8) על שפת הנהר נמצאות שלוש תחנות של ספינות דיג: A, B ו-C. התחנה B נמצאת בין A ל-C, במרחק 12 ק"מ מ-A. כיוון זרם המים בנהר הוא מ-A ל-C. ספינת דיג שלה מנוע קטן עוברת את הדרך מ-A ל-C ב-4 שעות ואת הדרך מ-C ל-A ב-6 שעות. ספינת הדיג שלה מנוע גדול, שמהירותה גדולה פי 3 ממהירות הספינה עם המנוע הקטן, עוברת את הדרך מ-B ל-C ב-45 דקות. מצא את מהירות זרם המים בנהר.
- 9) שלושה כלי רכב יצאו זה אחר זה בבוקר אחד מתל אביב לאילת. אופנוע יצא בשעה 7:00, מכונית משא ב-8:00 ומונית ב-8:24 (24 דקות אחרי השעה 8:00). מהירויותיהם היו קבועות והן היו סדרה חשבונית. המונית הדביקה את רוכב האופנוע חצי שעה לאחר שהדביקה את מכונית המשא, ומכונית המשא הדביקה את רוכב האופנוע במרחק 180 ק"מ מתל אביב. שלושת כלי הרכב נעו כולם באותו מסלול. מצא את מהירויות כלי הרכב.
- 10) משאית יצאה מתל אביב למחנה צבאי בדרום. אחריה יצא אוטובוס במהירות הגדולה ב-12 קמ"ש ממהירותה, והוא הגיע למחנה באותו הזמן שהיא הגיעה. שעתיים וחצי לפני שהגיעו למחנה, וכשהאוטובוס היה כבר בנסיעה, יצא לקראתם מן המחנה רוכב אופנוע שמהירותו גדולה פי 2 ממהירות המשאית. הוא פגש את המשאית 10 דקות לפני שפגש את האוטובוס. כל כלי הרכב נסעו באותו כביש, ומהירויותיהם לא השתנו בזמן הנסיעה. מצא את מהירותה של המשאית.

(11) המרחק בין עיר A לעיר B הוא 300 ק"מ. משאית יצאה מעיר A ונסעה במהירות קבועה של V קמ"ש לכיוון עיר B. בדרכה חזרה הגדילה המשאית את מהירותה ב- U קמ"ש, כלומר נסעה במהירות של $U+V$ קמ"ש. ידוע שהמהירות הממוצעת של המשאית בכל דרכה (הלך וחזור), הייתה 60 קמ"ש. אילו המשאית הייתה חוזרת מעיר B לעיר A במהירות $V-U$ קמ"ש, אזי המהירות הממוצעת בכל הדרך (הלך וחזור) הייתה רק $\frac{100}{3}$ קמ"ש. חשב את המהירויות V ו- U .

(12) המרחק בין הנקודות A ו-B הוא 64 ק"מ. רוכב אופניים יצא מנקודה A לכיוון נקודה B ונסע במהירות קבועה. 40 דקות לאחר שיצא לדרכו, יצא מנקודה A לכיוון נקודה B רוכב קטנוע שנסע במהירות קבועה של 36 קמ"ש. רוכב הקטנוע הדביק את רוכב האופניים בנקודה C ומיד הסתובב וחזר על עקבותיו באותה מהירות לנקודה A. רוכב האופניים שהמשיך בנסיעתו בלי עיכובים, הגיע לנקודה B ברגע שהקטנוע עבר את מחצית הדרך מ-C ל-A. מצא את מהירות רוכב האופניים.

(13) הזמן הדרוש לגוף ראשון לעבור 160 ק"מ ארוך ב-5 שעות מן הזמן הדרוש לגוף שני לעבור 90 ק"מ. מהירות הגוף הראשון גדולה ב- m קמ"ש ממהירות הגוף השני ($m > 0$).
 א. בטא באמצעות m את מהירות הגוף השני.
 ב. מצא לאלו ערכים של m יקבלו מהירויות הגופים ערכים חיוביים בלבד.

(14) שני כלי רכב יצאו מנקודה A בו זמנית בשעה 07:00 בבוקר ונסעו לנקודה B, לפגישה שתוכננה להתקיים בשעה 10:00 בבוקר. הרכב הראשון הגיע לפגישה בזמן והרכב השני שנסע במהירות הקטנה ב-16 קמ"ש ממהירות הרכב הראשון הגיע לפגישה 48 דקות מאוחר יותר. מצא את המרחק בין הנקודות A ו-B וחשב את המהירות של כל אחד מכלי הרכב.

(15) המרחק בין A ל-B הוא 360 ק"מ. נהג משאית תכנן לעבור את כל הדרך מ-A ל-B במהירות קבועה של x קמ"ש. לאחר שעבר $\frac{1}{4}$ מהדרך הגביר הנהג את מהירותו ל- $(x+15)$ קמ"ש, ולכן הגיע לנקודה B שעה וחצי לפני המועד המתוכנן. חשב את x .

16 המרחק בין הנקודות A ל-B בנהר הוא x ק"מ. הנהר זורם מ-A ל-B במהירות של 6 קמ"ש. אדם שט מ-A ל-B וחוזר חזרה מ-B ל-A. סך כל הזמן שארך השיט היה 8 שעות. אלו לא היה זרם בנהר, האדם היה שט את הדרך הלוך ושוב בזמן של 6 שעות. מה המרחק בין שתי הנקודות A ו-B ($x = ?$), ומה הייתה מהירותו בלי מהירות זרם הנהר?

17 המרחק בין שתי ערים הוא 450 ק"מ. משאית יצאה לדרכה מעיר אחת לשנייה. לאחר שנסעה במהירות קבועה במשך שעתיים, נאלצה להתעכב במשך 40 דקות בגלל תקלה. לאחר תיקון התקלה המשיכה המשאית מיד בדרכה, אך במהירות קבועה הגדולה ב-5 ק"מ לשעה ממהירותה הקודמת. המשאית הגיעה לעיר השנייה 25 דקות לאחר הזמן שתוכנן מראש. מה הייתה מהירות המשאית לפני התקלה?

18 רכבת משא נוסעת מידי יום במהירות קבועה מתחנה A לתחנה B. המרחק בין A ל-B הוא 180 ק"מ. יום אחד, אחרי שעברה $\frac{1}{3}$ מהדרך, עצרה הרכבת עצירה לא מתוכננת מראש למשך 30 דקות. כדי שהרכבת תספיק להגיע ל-B על פי לוח הזמנים הרגיל, היה צריך להגביר את מהירותה לאחר העצירה ב-20 קמ"ש. מצא את המהירות הרגילה של הרכבת.

19 בין הנקודות A ו-B מובילות שתי דרכים. הדרך הראשונה אורכה 60 ק"מ, והדרך השנייה ארוכה ממנה ב-20%. רוכב קטנוע נסע מ-A ל-B בדרך הקצרה במהירות קבועה, וחזר בדרך הארוכה במהירות קבועה, הגדולה ב-6 קמ"ש ממהירותו הראשונה. זמן הנסיעה בחזרה (מ-B ל-A) היה ארוך ב-5 דקות מזמן הנסיעה מ-A ל-B. מצא את המהירות שבה נסע רוכב הקטנוע בכל כיוון ואת זמן הנסיעה (הלוך ושוב).

20 רוכב אופניים עובר בדרך כלל את המרחק בין A ל-B במהירות קבועה במשך 5 שעות ו-20 דקות. באחד הימים יצא רוכב האופניים מ-A ועבר $\frac{3}{4}$ של הדרך במהירות הגדולה ב-10 קמ"ש ממהירותו הרגילה, ולכך התעייף ואת שאר הדרך עבר במהירות קטנה ב-15 קמ"ש ממהירותו הרגילה. ביום זה הוא הגיע ל-B לאחר 5 שעות ו-40 דקות לאחר שיצא מ-A.
 א. מהי מהירותו הרגילה של רוכב האופניים?
 ב. מהו המרחק בין A ל-B?

- (21)** המרחק בין שתי ערים א' ו-ב' הוא 126 ק"מ. שני רוכבי אופניים, שיצאו בו זמנית, האחד מעיר א' והשני מעיר ב', ונסעו זה לקראת זה במהירויות קבועות, נפגשו אחרי שלוש שעות. הרוכב שיצא מעיר א' עבר את כל הדרך עד לעיר ב' בשעה ו-45 דקות פחות מהרוכב שיצא מעיר ב' לעיר א'. מצא את המהירות של כל אחד מרוכבים האופניים.
- (22)** מ-A ל-C יש שתי דרכים. הדרך הראשונה היא הדרך המישורית AC, שאורכה 24 ק"מ. הדרך השנייה מתחילה בעלייה AB של 8 ק"מ, ואח"כ ירידה BC של 18 ק"מ. מהירותו של רוכב אופניים במישור היא x קמ"ש, בעלייה מהירותו $(x-4)$ קמ"ש, ובירידה מהירותו $(x+6)$ קמ"ש. ידוע שאם רוכב האופניים יבחר לנסוע מ-A ל-C בדרך הראשונה או בדרך השנייה, זמן הנסיעה יהיה זהה. חשב את x (כמה פתרונות לבעיה?).
- (23)** מונית נסעה מעיר א' לעיר ב' בכביש ראשי במהירות קבועה. בדרך חזרה נסעה המונית בדרך עפר הקצרה ב-40% מהכביש, אך מהירותה פחתה ב-20%.
 א. בכמה אחוזים התקצר או התארך זמן הנסיעה בדרך חזרה (לעומת הנסיעה בכיוון הראשון)?
 ב. מה הייתה מהירות המונית בכיוון השעון, אם ידוע שאורך הכביש היה 360 ק"מ, וזמן הנסיעה בחזרה התקצר בשעה?

בעיות הספק:

- (24)** כתב יד נמסר להדפסה לשתי כתבניות. הכתבנית השנייה ניגשה לעבודה שעתיים אחרי הראשונה. 6 שעות לאחר שהכתבנית הראשונה ניגשה לעבודה סיימו שתיהן יחד את ההדפסה של 60% מכתב היד. הן המשיכו בהדפסה וסיימו אותה יחד. לאחר סיום העבודה התברר שהכתבנית הראשונה ביצעה $\frac{3}{10}$ מן העבודה. קצב העבודה של הכתבניות לא השתנה במשך העבודה. בכמה שעות הייתה כל אחת מהכתבניות יכולה לבצע את העבודה לבדה?
- (25)** בבריכה שני פתחים: פתח אחד גדול ופתח שני קטן יותר. אם מכניסים לבריכה הריקה מים רק דרך הפתח הקטן במשך 6 שעות, ולאחר מכן במשך שעה ו-12 דקות מכניסים מים דרך שני הפתחים יחד, הבריכה מתמלאת כולה. כמו כן ידוע, שאם מכניסים לבריכה הריקה מים רק דרך הפתח הגדול במשך 3 שעות ולאחר מכן ממשיכים להכניס מים דרך פתח זה במשך 9 שעות, אך בו בזמן מוציאים מים דרך הפתח הקטן, הבריכה כולה מתמלאת במים. מצא בכמה שעות תתמלא הבריכה, אם יכניסו מים רק דרך הפתח הקטן.

(26) שני פועלים קיבלו על עצמם לבצע עבודה מסוימת. ביום הראשון התחיל הפועל הראשון לעבוד לבדו. הפועל הראשון עבד במשך 3 שעות, ואז הצטרף אליו הפועל השני. כעבור 6 שעות נוספות של עבודה משותפת של שני הפועלים, התברר שהם סיימו 55% מהעבודה. ביום השני עבדו הפועלים יחדיו עד שסיימו את כל העבודה. לאחר סיום העבודה, התברר שכל אחד מהפועלים ביצע בדיוק מחצית מהעבודה. בכמה שעות היו שני הפועלים מסיימים את על העבודה אלו עבדו כל הזמן ביחד?

(27) שני צינורות ממלאים מיכל כשהם פתוחים ביחד במשך 6 שעות. יום אחד, כשהמיכל היה ריק, פתחו רק את הצינור הראשון למשך הזמן שלוקח לצינור השני למלא מחצית מיכל. סגרו את הצינור הראשון ופתחו רק את הצינור השני למשך הזמן שלוקח לצינור הראשון למלא שליש מיכל. כתוצאה מכך התמלאו בסך הכול $\frac{5}{6}$ מיכל. מצא בכמה שעות יכול כל אחד מהצינורות למלא לבד מיכל ריק.

(28) על שתי קבוצות פועלים הוטל לסלול כביש בין הערים A ו-B. במשך 36 הימים הראשונים עבדו הקבוצות בנפרד. תחילה עבדה רק הקבוצה הראשונה וסללה $\frac{1}{4}$ מהכביש. לאחר מכן הפסיקה הקבוצה הראשונה את עבודתה, ורק הקבוצה השנייה עבדה. קבוצה זו סללה $\frac{1}{3}$, עד לגמר היום ה-36, מהכביש. ביום ה-37 החלו שתי הקבוצות לעבוד במשותף, וסיימו את סלילת הכביש תוך 12 ימים. הספק הקבוצות לא השתנה במשך כל ימי עבודתן. בכמה ימים הייתה יכולה כל קבוצה לסלול את הכביש לבדה? כמה פתרונות לבעיה?

(29) שתי קבוצות פועלים עבדו בסלילת כביש משני קצותיו. הקבוצה השנייה סללה בכל יום 5 מטר יותר מאשר הקבוצה הראשונה, ועבדה בסך הכול 2 ימים יותר מהקבוצה הראשונה. ידוע שהקבוצה הראשונה סללה $16a$ מטרים בעוד שהקבוצה השנייה סללה $36a$ מטרים (a פרמטר חיובי). קצב העבודה של שתי הקבוצות נשאר קבוע בכל זמן הסלילה. סמן ב- x את מספר המטרים שסללה הקבוצה הראשונה בכל יום, ומצא לאלו ערכים של הפרמטר a יקבל x ערכים חיוביים בלבד.

תשובות סופיות:

- (1) מהירות הולך הרגל היא 6 קמ"ש.
המרחק בין הקיבוץ לעיר חיפה הוא 36 ק"מ.
- (2) מהירות הזרם היא 1 קמ"ש. מהירות הסירה במים עומדים היא 7 קמ"ש.
- (3) 100 קמ"ש.
- (4) הרוכב הראשון ב-10 שעות והרוכב השני ב-15 שעות.
- (5) 72 מטרים.
- (6) 30 קמ"ש.
- (7) מהירות התייר הראשון: 5 קמ"ש, מהירות התייר השני: 7.5 קמ"ש.
- (8) 1 קמ"ש.
- (9) 45 קמ"ש, 60 קמ"ש, 75 קמ"ש.
- (10) 36 קמ"ש.
- (11) $U = 25$ קמ"ש, $U = 50$ קמ"ש.
- (12) 24 קמ"ש.
- (13) א. $\frac{14 - m \pm \sqrt{m^2 - 100m + 196}}{2}$
ב. $0 < m \leq 2$.
- (14) 228 ק"מ, 76 קמ"ש, 60 קמ"ש.
- (15) 45 קמ"ש.
- (16) 36 ק"מ, 12 קמ"ש.
- (17) 75 קמ"ש.
- (18) 1 קמ"ש.
- (19) הלוך 90 קמ"ש וחזור 96 קמ"ש. זמן כולל 85 דקות.
או: הלוך: 48 קמ"ש וחזור 54 קמ"ש. זמן כולל 155 דקות.
- (20) א. 30 קמ"ש.
ב. 160 ק"מ.
- (21) 24 קמ"ש, 18 קמ"ש.
- (22) 24 או 12 קמ"ש.

- (23) א. 25%.
ב. 90 קמ"ש.
- (24) הכתבנית הראשונה ב-30 שעות, הכתבנית השנייה ב-10 שעות.
- (25) 9 שעות.
- (26) $13\frac{1}{3}$ שעות.
- (27) הצינור הראשון ב-15 שעות והצינור השני ב-10 שעות
או הצינור הראשון ב-12 שעות והצינור השני ב-12 שעות.
- (28) הקבוצה הראשונה : 48 ימים והקבוצה השנייה : 72 ימים
או הקבוצה הראשונה : 86.4 והקבוצה השנייה : 43.2 ימים.
- (29) $a \geq 2.5$.

הכנה למבחן כניסה למכינה במתמטיקה

פרק 9 - חוקי החזקות והשורשים

תוכן העניינים

132	1. חוקי החזקות
137	2. חוקי השורשים
141	3. כתיבה מדעית של מספרים

חוקי החזקות:

סיכום כללי:

סיכום חוקי החזקות:

$$\begin{array}{lll}
 a^n \cdot a^m = a^{m+n} & .3 & a^1 = a & .2 & a^0 = 1 & .1 \\
 a^m \cdot b^m = (a \cdot b)^m & .6 & (a^n)^m = a^{n \cdot m} & .5 & \frac{a^n}{a^m} = a^{n-m} & .4 \\
 \left(\frac{a}{b}\right)^{-m} = \left(\frac{b}{a}\right)^m & .9 & a^{-m} = \frac{1}{a^m} & .8 & \frac{a^m}{b^m} = \left(\frac{a}{b}\right)^m & .7
 \end{array}$$

שאלות:

(1) פשט את הביטויים הבאים בעזרת החוקים: $a^n a^m = a^{n+m}$ ו- $\frac{a^n}{a^m} = a^{n-m}$

$$\begin{array}{lll}
 a^2 a^6 & .א & t^3 t^5 t^7 & .ב & b^2 b^5 b^{12} b^3 & .ג \\
 \frac{k^8}{k^3} & .ד & \frac{n^{14}}{n^9} & .ה & \frac{c^6}{c^2} & .ו \\
 \frac{a^3 a^{19}}{a^{15}} & .ז & \frac{x^{30}}{x^9 x^{18}} & .ח & \frac{y^3 y^{15}}{y^4 y^{14}} & .ט \\
 3^2 3^3 3^4 & .י & \frac{2^{16} 2^2}{2^{10}} & .יא & \frac{5^{20} 5^3 5^{16}}{5^4 5^{22} 5^8} & .יב
 \end{array}$$

(2) פשט את הביטויים הבאים בעזרת החוקים: $a^n a^m = a^{n+m}$ ו- $\frac{a^n}{a^m} = a^{n-m}$

$$\begin{array}{lll}
 \frac{3^4 2^7}{2^6 3^2} & .א & \frac{a^{10} b^{13} a^3}{b^4 b^6 b^2 a^{12}} & .ב & \frac{x^8 y^5 y^9 x^2}{y^4 x^4} & .ג
 \end{array}$$

(3) לפניך הביטוי הבא: $\frac{3^6 2^{17} 3^3 2^4}{3^4 2^3 2^2}$

מצא n כך שיתקיים שוויון בין הביטוי $243 \cdot 2^n$ לבין הביטוי הנתון.

(4) חשב ללא מחשבון את ערכי הביטויים הבאים:

$\frac{9^3 \cdot 27^2}{3^9 \cdot 81}$.ב.	$\frac{2^3 \cdot 2^7}{2^4 \cdot 2^5}$.א.	
$2^3 + 2^5$.ד.	$\frac{10^9 \cdot 25^5 \cdot 8^{-1}}{40^3 \cdot 125^5}$.ג.	

(5) פשט את הביטויים הבאים בעזרת החוק: $(a^n)^m = a^{n \cdot m}$.

$(x^3 x^{10})^2$.ג.	$(c^3)^{10}$.ב.	$(a^2)^4$.א.
$\frac{d^{20} (d^4)^2}{d^{12} (d^3)^2}$.ו.	$\frac{n^7 n^8}{(n^3)^4}$.ה.	$\frac{(b^2)^3}{b^2 b^3}$.ד.
$\frac{(8^3)^8 8^{11}}{(8^2 8)^3 8^8}$.ט.	$\frac{3^6 (3^3 3^2)^6}{3^{28} (3^2)^3}$.ח.	$\frac{2^5 (2^4)^2 2^3}{(2^3 2^2)^3}$.ז.
$\frac{(3^2)^7 5^{10} (5^3)^2}{3^9 5^{16}}$.יב.	$\frac{(3^2)^6 5^{31} 3^7}{(5^2)^{10} 5^{11} 3^{18}}$.יא.	$\frac{(2^4)^5 (3^6)^7 2^{20}}{3^{35} 2^{40}}$.י.

(6) לפניך הביטויים הבאים: $\left((3^2)^3\right)^4$ ו- $\left((3^6)^n\right)^2$.

מצא n כך שיתקיים שוויון בין שני הביטויים.

(7) חשב ללא מחשבון את הביטויים הבאים:

$\frac{7^{12} 2^2 2^6}{2^5 7^{10} 7}$.ג.	$\frac{5^{20} 3^{14} 3^8}{3^{20} 5^{12} 5^8}$.ב.	$\frac{2^3 3^5}{2^2 3^4}$.א.
---	---	-------------------------------

(8) פשט את הביטויים הבאים:

$125 \cdot 25 \cdot 5^5$.ג.	$64^2 2^3 8^2$.ב.	$3^2 9 \cdot 81^2$.א.
$\frac{\left((3^4)^4\right)^5}{81^3 27^4 3^5}$.ו.	$\frac{(4^2)^3 16}{64 \cdot 2^3}$.ה.	$\frac{2^4 \cdot 16^5}{8 \cdot 512}$.ד.

9 פשט את הביטויים הבאים :

$\frac{(k^2)^{m+2} \cdot k^{1-3m}}{(k^{2m})^3 \cdot \frac{1}{k^{7m-4}}}$	ב.	$\frac{(2a^2b)^3 \cdot (ab^{-3})^2}{4ab^{-2} \cdot \left(\frac{a^2}{b}\right)^4}$	א.
$\frac{1}{x^2} \cdot \frac{x^{n+3} + x^{n+5}}{x^{n+2}}$	ד.	$\frac{4^{b+3}}{4^{b+1} + 4^{b+2}}$	ג.

10 פשט את הביטויים הבאים בעזרת החוקים: $(ab)^n = a^n b^n$ ו- $\left(\frac{a}{b}\right)^n = \frac{a^n}{b^n}$

$(x^{12}y^3)^3$	ג.	$(m^4n^3)^5$	ב.	$(a^2b)^3$	א.
$\left(\frac{a^{14}b^4}{a^6ab^3}\right)^3$	ו.	$\left(\frac{i^4}{k^3}\right)^7$	ה.	$\left(\frac{a^3}{b^2}\right)^4$	ד.
$\left(\frac{(b^{12}c)^2 c^{14}}{c(c^3b^5)^4 b^3}\right)^2$	ט.	$\left(\frac{t^7 r^{20} t^3}{r^2 r^{12} t^8}\right)^2$	ח.	$\left(\frac{x^3 y^5 y^2 x^6}{y^4 x^7}\right)^6$	ז.

11 חשב ללא מחשבון את הביטויים הבאים :

$\left(\frac{7^3 \cdot 16 \cdot 128 \cdot 49}{(2^27)^5}\right)^3$	ג.	$\left(\frac{(5^4)^2 3^6}{3^5 5^7}\right)^2$	ב.	$\left(\frac{3^9 2^6 2^2}{3^6 2^5 3^2}\right)^2$	א.
---	----	--	----	--	----

12 בטא את הביטויים הבאים מחדש בעזרת שימוש בחזקה שלילית :

$\frac{1}{2^{10}}$	ג.	$\frac{1}{5^3}$	ב.	$\frac{1}{4^6}$	א.
$\frac{1}{125}$	ו.	$\frac{1}{81}$	ה.	$\frac{1}{8}$	ד.

13 בטא את הביטויים הבאים מחדש בעזרת שימוש בחזקה חיובית וחשב את ערכם :

$\frac{1}{5^{-3}}$	ג.	$\frac{1}{3^{-2}}$	ב.	$\frac{1}{4^{-3}}$	א.
--------------------	----	--------------------	----	--------------------	----

14) חשב את הביטויים הבאים :

ג. $5^6 \cdot 5^{-3} \cdot 5^{-2}$

ב. $2^{-8} \cdot 512 \cdot 2^2$

א. $3^2 \cdot 3^{-5} \cdot 3^7$

ו. $\frac{3^{-6} \cdot 7^7 \cdot 7^{-4}}{3^{-4} \cdot 3^{-3} \cdot 7^3}$

ה. $\frac{2^{-5} \cdot 5^3 \cdot 2^{14}}{5^2 \cdot 5^{-10} \cdot 5^8 \cdot 2^6}$

ד. $2^{14} \cdot 3^{-6} \cdot 2^{16} \cdot 3^4 \cdot 2^{-30}$

15) פשט את הביטויים הבאים לצורה ללא חזקות שליליות.

ג. $\frac{2^{-3}5^4}{5^4 \cdot 125 \cdot (5^22)^{-3} \cdot 2^{-4}}$

ב. $\frac{(4^4)^{-4} 3^{-11}}{(3^{-2}4^3)^{-6}}$

א. $\left(\frac{5^{-4}}{3^2}\right)^{-6}$

16) פשט את הביטויים הבאים :

ג. $\frac{(m^{n+2})^3 \cdot m^{-4n-2}}{\frac{1}{m^{6n+2}} \cdot (m^3)^{n-2}}$

ב. $\frac{(k^2)^{m+2} \cdot k^{1-3m}}{(k^{2m})^3 \cdot \frac{1}{k^{7m-4}}}$

א. $\frac{a^{n+2} \cdot a^{2-3n}}{(a^3)^{n+1}}$

תשובות סופיות:

- (1) א. a^8 ב. t^{15} ג. b^{22} ד. k^5 ה. n^5 ו. c^4
 ז. a^7 ח. x^3 ט. 1 י. 3^9 יא. 2^8 יב. 5^5
- (2) א. 18 ב. ab ג. $x^6 y^{10}$
- (3) $n=16$
- (4) א. 2 ב. $\frac{1}{3}$ ג. $\frac{5}{8}$ ד. 40
- (5) א. a^8 ב. c^{30} ג. x^{26} ד. b ה. n^3 ו. d^{10}
 ז. 2 ח. 9 ט. 8^{18} י. 3^7 יא. 3 יב. 3^5
- (6) $n=2$
- (7) א. 6 ב. 9 ג. 56
- (8) א. 3^{12} ב. 2^{21} ג. 5^{10} ד. 2^{12} ה. 2^7 ו. 3^{51}
- (9) א. $\frac{2b^3}{a}$ ב. k ג. $3\frac{1}{5}$ ד. $\frac{1}{x} + x$
- (10) א. $a^6 b^3$ ב. $m^{20} n^{15}$ ג. $x^{36} y^9$ ד. $\frac{a^{12}}{b^8}$ ה. $\frac{i^{28}}{k^{21}}$ ו. $a^{21} b^3$
- ז. $x^{12} y^{18}$ ח. $t^4 r^{12}$ ט. $b^2 c^6$ ג. 8 ב. 225
- (11) א. 576 ב. 225 ג. 8
- (12) א. 4^{-6} ב. 5^{-3} ג. 2^{-10} ד. 2^{-3} ה. 3^{-4} ו. 5^{-3}
- (13) א. 64 ב. 9 ג. 125
- (14) א. 81 ב. 8 ג. 5 ד. $\frac{1}{9}$ ה. 1000 ו. 3
- (15) א. $5^{24} \cdot 3^{12}$ ב. $\frac{4^2}{3^{23}}$ ג. $5^3 \cdot 2^4$
- (16) א. a^{1-5n} ב. k ג. m^{2n+12}

חוקי השורשים:

סיכום כללי:

סיכום חוקי השורשים:

$$\begin{array}{lll}
 \sqrt[n]{a^n} = a^{\frac{n}{n}} & .3 & \sqrt[n]{a} = a^{\frac{1}{n}} & .2 & \sqrt{a} = a^{\frac{1}{2}} & .1 \\
 \sqrt[n]{\sqrt[m]{a}} = \sqrt[m \cdot n]{a} & .6 & \frac{\sqrt[m]{a}}{\sqrt[m]{b}} = \sqrt[m]{\frac{a}{b}} & .5 & \sqrt[n]{a} \cdot \sqrt[n]{b} = \sqrt[n]{a \cdot b} & .4
 \end{array}$$

שאלות:

17) הבא את הביטויים הבאים לצורה: $\sqrt[n]{a^m}$.

$$\begin{array}{lll}
 \text{א. } 3^{\frac{1}{4}} & \text{ב. } 2^{\frac{3}{5}} & \text{ג. } 6^{\frac{5}{6}} \\
 \text{ד. } -12^{\frac{2}{7}} & \text{ה. } -(-4)^{\frac{1}{3}} & \text{ו. } -(-3)^{\frac{3}{4}} \\
 \text{ז. } 5^{-\frac{1}{4}} & \text{ח. } 27^{-\frac{1}{3}} & \text{ט. } 64^{-\frac{5}{6}}
 \end{array}$$

18) חשב ללא מחשבון את ערכם של הביטויים הבאים:

$$\begin{array}{lll}
 \text{א. } \sqrt{49} & \text{ב. } -\sqrt{25} & \text{ג. } \sqrt[3]{8} \\
 \text{ד. } -\sqrt[3]{128} & \text{ה. } \sqrt[3]{(-2)^6} & \text{ו. } (\sqrt[5]{1024})^2 \\
 \text{ז. } (\sqrt[5]{-243})^3 & \text{ח. } \sqrt[4]{-16} & \text{ט. } \sqrt[4]{-25^2} \\
 \text{י. } \sqrt[4]{(-25)^2} & &
 \end{array}$$

19) חשב ללא מחשבון את ערכם של הביטויים הבאים :

א. $8^{\frac{2}{3}}$	ב. $32^{\frac{3}{5}}$	ג. $128^{\frac{2}{7}}$
ד. $\left(\frac{1}{25}\right)^{-1.5}$	ה. $\left(2\frac{1}{4}\right)^{-2.5}$	ו. $\left(\frac{64}{343}\right)^{\frac{2}{3}}$
ז. $81^{\frac{3}{4}} \cdot 64^{\frac{1}{3}}$	ח. $343^{\frac{2}{3}} \cdot 100^{\frac{1}{2}}$	ט. $16^{\frac{1}{4}} \cdot 8^{\frac{1}{3}} \cdot 4^{\frac{1}{2}}$

20) חשב ללא מחשבון את ערך הביטוי הבא : $\frac{\sqrt[5]{2^2} \cdot \sqrt{8}}{\sqrt[3]{128}}$

21) פשט את הביטויים הבאים :

א. $\sqrt{2} \cdot \sqrt{8}$	ב. $\sqrt{3} \cdot \sqrt{27}$	ג. $\sqrt{4} \cdot \sqrt{5} \cdot \sqrt{20}$
ד. $\frac{\sqrt{72}}{\sqrt{2}}$	ה. $\frac{\sqrt[3]{81}}{\sqrt[3]{3}}$	ו. $\frac{\sqrt[5]{96}}{\sqrt[5]{3}}$
ז. $\frac{\sqrt[5]{2^2} \cdot \sqrt{8}}{\sqrt[5]{128}}$	ח. $\frac{\sqrt[3]{500} \cdot \sqrt{5}}{\sqrt[4]{25^2} \cdot \sqrt[3]{4}}$	ט. $\frac{\sqrt[3]{8^2} \sqrt[4]{25}}{\sqrt[4]{400} \sqrt{2}}$

22) הכנס לתוך שורש את המספרים החופשיים :

א. $3\sqrt{2}$	ב. $5\sqrt{3}$	ג. $\frac{\sqrt{36}}{2}$
ד. $2\sqrt[3]{3}$	ה. $x\sqrt{x}$	

23) הכנס את כל המקדמים בביטויים הבאים לתוך השורש :

א. $2\sqrt{5}$	ב. $4\sqrt[3]{2}$	ג. $2\sqrt[5]{3}$
ד. $\frac{\sqrt{24}}{2}$	ה. $\frac{\sqrt[3]{24}}{2}$	ו. $\frac{3\sqrt[4]{5000}}{10}$
ז. $-5\sqrt[3]{2}$	ח. $-5\sqrt[4]{2}$	ט. $-5\sqrt[5]{-2}$

24) הוצא מהשורש את הכופל הגדול ביותר :

- א. $\sqrt{12}$ ב. $\sqrt{48}$ ג. $\sqrt{63}$
- ד. $\sqrt[3]{54}$ ה. $\sqrt{x^5}$

25) חלץ מן הביטויים הבאים את המקדם הגבוה ביותר ככל הניתן :

- א. $\sqrt{40}$ ב. $\sqrt{50}$ ג. $\sqrt{320}$
- ד. $\sqrt[3]{108}$ ה. $\sqrt[3]{56}$ ו. $\sqrt[3]{160}$
- ז. $\sqrt[4]{162}$ ח. $\sqrt[5]{972}$ ט. $\sqrt[9]{192}$

26) פשט את הביטויים הבאים :

- א. $\sqrt{18} - \sqrt{8}$ ב. $\sqrt{7} + \sqrt{63}$ ג. $\sqrt[3]{16} + \sqrt[3]{128}$
- ד. $\sqrt[4]{405} - \sqrt[4]{80}$ ה. $\frac{20}{\sqrt{5}}$ ו. $\frac{\sqrt{8}}{2}$
- ז. $\frac{16}{\sqrt{2}}$ ח. $\frac{6}{\sqrt{3} + \sqrt{12}}$ ט. $\frac{10}{\sqrt[5]{160} - \sqrt[5]{5}}$

27) פשט את הביטויים הבאים :

- א. $3^{\frac{1}{4}} \cdot 9^{-2.5} \cdot 27^{\frac{3}{2}}$ ב. $2^{\frac{3}{4}} \cdot 16^{\frac{1}{2}} \cdot 64^{-3}$ ג. $125^{\frac{1}{6}} \cdot 5^2 \cdot 5^{-\frac{2}{3}}$
- ד. $\frac{27^{\frac{4}{3}} \cdot 3^{-\frac{2}{3}}}{9^{\frac{1}{6}}}$ ה. $\frac{49^{\frac{2}{5}} \cdot 7^{-\frac{6}{5}}}{343^{\frac{1}{5}}}$ ו. $\frac{512^{\frac{1}{4}} \cdot 64^{\frac{3}{4}}}{128^{\frac{1}{8}} \cdot 2^{-2}}$

תשובות סופיות:

- (17) א. $\sqrt[4]{3}$ ב. $\sqrt[5]{2^3}$ ג. $\sqrt[6]{6^5}$ ד. $-\sqrt[7]{12^2}$ ה. $-\sqrt[3]{-4}$ ו. ϕ
- ז. $\frac{1}{\sqrt[4]{5}}$ ח. $\frac{1}{\sqrt[3]{27}}$ או $\frac{1}{3}$ ט. $\frac{1}{\sqrt[6]{64^5}}$ או $\frac{1}{2^5}$
- (18) א. 7 ב. -5 ג. 2 ד. -2 ה. 4 ו. 16
- ז. -27 ח. ϕ ט. ϕ י. 5
- (19) א. 4 ב. $\frac{1}{8}$ ג. $\frac{1}{4}$ ד. 125 ה. $\frac{32}{243}$ ו. $\frac{49}{16}$
- ז. $\frac{27}{4}$ ח. $\frac{10}{49}$ ט. $\frac{1}{2}$
- (20) $\sqrt{2}$
- (21) א. 4 ב. 9 ג. 20 ד. 6 ה. 3 ו. 2
- ז. $\sqrt{2}$ ח. $\sqrt{5}$ ט. $\sqrt{2}$
- (22) א. $\sqrt{18}$ ב. $\sqrt{75}$ ג. $\sqrt{9}$ ד. $\sqrt[3]{24}$ ה. $\sqrt{x^3}$
- (23) א. $\sqrt{20}$ ב. $\sqrt[3]{128}$ ג. $\sqrt[5]{96}$ ד. $\sqrt{6}$ ה. $\sqrt[3]{3}$
- ו. $\sqrt[4]{40 \cdot \frac{1}{2}}$ ז. $\sqrt[3]{-250}$ ח. $-\sqrt[4]{1250}$ ט. $\sqrt[5]{5^5 \cdot 2}$
- (24) א. $2\sqrt{3}$ ב. $4\sqrt{3}$ ג. $3\sqrt{7}$ ד. $3\sqrt[3]{2}$ ה. $x^2\sqrt{x}$
- (25) א. $2\sqrt{10}$ ב. $5\sqrt{2}$ ג. $8\sqrt{5}$ ד. $3\sqrt[3]{4}$ ה. $2\sqrt[3]{7}$ ו. $2\sqrt[5]{5}$
- ז. $3\sqrt[4]{2}$ ח. $3\sqrt[5]{4}$ ט. $2\sqrt[6]{3}$
- (26) א. $\sqrt{2}$ ב. $4\sqrt{7}$ ג. $6\sqrt[3]{2}$ ד. $\sqrt[4]{5}$ ה. $4\sqrt{5}$ ו. $\sqrt{2}$
- ז. $8\sqrt{2}$ ח. $\frac{2}{\sqrt{3}}$ או $\frac{2\sqrt{3}}{3}$ ט. $\frac{10}{\sqrt[3]{5}}$ או $2\sqrt[5]{5^4}$
- (27) א. $\frac{1}{\sqrt[4]{3}}$ ב. $\frac{1}{\sqrt[4]{2^{61}}}$ ג. $\sqrt[6]{5^{11}}$ ד. 27 ה. $\frac{1}{7}$ ו. $\sqrt[8]{2^5}$

כתיבה מדעית של מספרים:

שאלות:

28) בטא את המספרים הבאים בכתיב מדעי:

א. 15,000,000	ב. 1,500,000
ג. 150,000,000,000	ד. 23,400,000
ה. 0.0003	ו. 0.00000042
ז. 0.000000042	ח. 0.00000000042

29) בטא את המספרים הבאים בכתיב מדעי:

א. $(3,000,000)^2$	ב. $(2,000,000)^2$
ג. $(5,000)^3$	ד. $(50,000)^3$
ה. $(0.0002)^4$	ו. $(0.00004)^3$
ז. $(0.000005)^3$	ח. $(0.000000007)^3$

תשובות סופיות:

28) א. $1.5 \cdot 10^7$	ב. $1.5 \cdot 10^6$	ג. $1.5 \cdot 10^{11}$	ד. $2.34 \cdot 10^7$	ה. $3 \cdot 10^{-4}$
ו. $4.2 \cdot 10^{-7}$	ז. $4.2 \cdot 10^{-8}$	ח. $4.2 \cdot 10^{-10}$		
29) א. $9 \cdot 10^{12}$	ב. $4 \cdot 10^{12}$	ג. $1.25 \cdot 10^{11}$	ד. $1.25 \cdot 10^{14}$	ה. $1.6 \cdot 10^{-15}$
ו. $6.4 \cdot 10^{-14}$	ז. $1.25 \cdot 10^{-16}$	ח. $3.43 \cdot 10^{-25}$		

הכנה למבחן כניסה למכינה במתמטיקה

פרק 10 - משוואות ואי-שוויונים מעריכיים

תוכן העניינים

142	1. משוואות מעריכיות יסודיות.....
144	2. משוואות עם חיבור וחסור איברים.....
146	3. משוואות בהן המשתנה גם בבסיס.....
147	4. משוואות מסכמות שונות.....
148	5. משוואות עם קבוע אוילר.....
149	6. מערכת משוואות מעריכיות.....
150	7. אי שוויונים מעריכיים.....
151	8. אי-שוויונים עם משתנה בבסיס ובמעריך.....

משוואות מעריכיות יסודיות:

סיכום כללי:

- פתרון כללי של משוואת מעריכית מהצורה: $a^x = a^y$ הוא: $x = y$.
- פתרון של משוואה מהצורה: $a^x = 1$ הוא: $x = 0$ שכן: $a^x = 1 = a^0$.
- פתרון של משוואה מהצורה: $a^x = b^x$ הוא: $x = 0$ שכן: $a^x = b^x = 1$ ללא תלות בבסיסים.

שאלות:

(1) פתור את המשוואות הבאות (שימוש בחוקי החזקות היסודיים):

א. $2^x = 16$ ב. $5^x \cdot 25^{x+2} = 125$

ג. $10^{x-2} = 10000^{x+1}$ ד. $9^x \cdot 3^{x^2} = 81^{3x-4}$

ה. $(2^x \cdot 32)^3 = 8$ ו. $(5^{x^2})^5 \cdot \frac{1}{5^5} = 625^{x-1}$

ז. $\frac{7^x}{343^3} = 1$ ח. $(25 \cdot 0.2^{2x})^2 = \left(\frac{1}{125}\right)^{1-x}$

(2) פתור את המשוואות הבאות (הבסיס הוא שבר):

א. $27 \cdot \left(\frac{3}{2}\right)^{5x+2} = 8$ ב. $\left(\frac{3}{4}\right)^{2-x} \cdot \left(\frac{4}{3}\right)^{3x} = \left(\frac{9}{16}\right)^{7+x}$

ג. $25 \left(\frac{7}{5}\right)^{x^2-2x} \cdot \left(\frac{5}{7}\right)^{4-x} = 49$

(3) פתור את המשוואות הבאות (שימוש בחוקי השורשים):

א. $\sqrt{27} \cdot \left(\frac{1}{3}\right)^{2x} = 9\sqrt{3}$ ב. $\sqrt{3^{x+7}} = 81$

ג. $(9\sqrt{27})^{3x} \cdot 3^{2-x} = \frac{1}{9}$ ד. $\sqrt[3]{16} \cdot \left(\frac{1}{2^x}\right)^3 = \frac{1}{16}$

ה. $2^{\sqrt{x}} \cdot \frac{1}{\sqrt{2^x}} = 8(\sqrt{8})^{-\sqrt{x}}$ ו. $5^x \cdot \frac{1}{25^5} = 125^{\sqrt{x}}$

4) פתור את המשוואות הבאות (מכפלת בסיסים שונים):

א. $2^x = 7^x$	ב. $3^x \cdot \frac{625}{\sqrt{25^x}} = 81$
ג. $2^{3x} \cdot 5^{3x} = 1000000$	ד. $2^{x+1} \cdot 3^{x-2} \cdot 7^x = 392$
ה. $243 \cdot 2^{x-1} \cdot 18^{x-9} = \frac{1}{3^{x-2}}$	ו. $108 \cdot \frac{1}{2^{1-2x}} = 72^x \cdot \sqrt{0.5}$
ז. $2^{2x+2} \cdot 5^{x+1} = (2\sqrt{5})^{4-x}$	

תשובות סופיות:

א. $x = 4$	ב. $x = -\frac{1}{3}$	ג. $x = -2$	ד. $x = 2, 8$	ה. $x = -4$
א. $x = 1, -\frac{1}{5}$	ב. $x = 9$	ה. $x = 1$		
א. $x = -1$	ב. $x = -2$	ג. $x = 3, -2$		
א. $x = -\frac{1}{2}$	ב. $x = 1$	ג. $x = -\frac{8}{19}$	ד. $x = 2, -\frac{2}{3}$	ה. $x = 4, 9$
א. $x = 0$	ב. $x = 4$	ג. $x = 2$	ד. $x = 2$	ה. $x = 5$
א. $x = 1.5$	ב. $x = \frac{2}{3}$			ג. $x = 25$

משוואות עם חיבור וחסור איברים:

סיכום כללי:

במשוואות הכוללות חיבור וחסור של איברים, נאתר את הבסיס עם המעריך הקטן ביותר ונסמן אותו ב- t , למשל במשוואה: $4^x - 3 \cdot 2^x = 4$ נסמן: $2^x = t$.
 נבטא את כל איברים המשוואה באמצעות t ונפתור אותה עבורו.
 לאחר מכן נחזיר את ההצבה למציאת ערכי ה- x המתאימים.

שאלות:

(1) פתור את המשוואות הבאות (משוואות יסודיות עם חיבור וחסור ממעלה ראשונה):

$$\text{ב. } 8^x + 3 \cdot 8^x = 256$$

$$\text{א. } 2^x + 6 \cdot 2^x = 56$$

$$\text{ד. } 2 \cdot 6^x + 6^{x+2} - 6^{x-1} = 227$$

$$\text{ג. } 5 \cdot 3^x - 3^{x+1} = 162$$

(2) פתור את המשוואות הבאות (משוואות כלליות עם חיבור וחסור ממעלה ראשונה):

$$\text{ב. } 5^{3x+2} + 4 \cdot 125^x = 29$$

$$\text{א. } 81^{x+1} + 18 \cdot 3^{4x-3} = 735$$

$$\text{ד. } \sqrt{10000^{x+1}} - \sqrt[4]{10^{8x+1}} = \sqrt[4]{1000} \cdot (\sqrt[4]{10^7} - 1)$$

$$\text{ג. } (2^{3x+1})^2 - 64^{x-\frac{1}{3}} = 15$$

$$\text{ו. } 5^{-x} + 25^{\frac{1-x}{2}} - 5^{-x-1} = 145$$

$$\text{ה. } 6^{-x} - 5 \cdot 36^{-\left(\frac{x+1}{2}\right)} = 186$$

$$\text{ח. } 4^{x+2} - 6 \cdot 4^x = 7 \cdot 12^{x+1} + 6 \cdot 12^x$$

$$\text{ז. } 2 \cdot 10^{x+1} + 10^{x+2} = 3 \cdot 5^{x+1}$$

(3) פתור את המשוואות הבאות (משוואות עם חיבור וחסור ממעלה שנייה):

$$\text{ב. } 16^{x+1} - 65 \cdot 4^x + 4 = 0$$

$$\text{א. } 9^x - 36 \cdot 3^x + 243 = 0$$

$$\text{ד. } 4^{-x} - 3 \cdot 4^x + 2 = 0$$

$$\text{ג. } 6^x - 4 \cdot 6^{-x} + 3 = 0$$

$$\text{ו. } \left(2^{\frac{1}{3}x+2}\right)^2 - 5 \cdot 2^{\frac{1}{3}x+1} + 1 = 0$$

$$\text{ה. } \left(\frac{4}{9}\right)^x - \frac{5}{2} \cdot \left(\frac{3}{2}\right)^{-x-1} = -\frac{2}{3}$$

(4) פתור את המשוואות הבאות (משוואות כלליות):

$$\text{ב. } \frac{7^x}{7^x - 4} + \frac{8}{7^x + 5} = 3$$

$$\text{א. } \frac{20}{9^x + 1} = 3 - \frac{8}{9^x - 1}$$

5) פתור את המשוואות הבאות (משוואות מסכמות):

א. $\frac{1}{25^{1-x}} - 6 \cdot 5^{x-1.5} + 1 = 0$	ב. $3^x - \sqrt{16 \cdot 3^{x+1}} = -9$
ג. $36^x - 6^{x+1} \cdot 3^x + 8 \cdot 9^x = 0$	ד. $4 \cdot 9^x - 10 \cdot 6^x + 6 \cdot 4^x = 0$
ה. $25 \cdot 5^{2x} + 16 \cdot 15^x = 9^{x+1}$	ו. $9^x + 4^x - 6^x = \frac{7}{6^{1-x}}$
ז. $\frac{8^{2x} - 8}{7} = 4^x - 2$	ח. $2^{3x} - 2^{2x+2} - 2^x + 4 = 0$

תשובות סופיות:

א. $x=3$	ב. $x=2$	ג. $x=4$	ד. $x=1$
א. $x=\frac{1}{2}$	ב. $x=0$	ג. $x=\frac{1}{3}$	ד. $x=\frac{1}{4}$
ה. $x=-3$	ו. $x=-2$	ז. $x=-3$	ח. $x=-2$
א. $x=2,3$	ב. $x=1,-2$	ג. $x=0$	ד. $x=0$
ה. $x=0,1$	ו. $x=-6,-9$		
א. $x=1, -\frac{1}{2}$	ב. $x=1$		
א. $x=\frac{1}{2}, 1\frac{1}{2}$	ב. $x=1,3$	ג. $x=1,2$	ד. $x=1,0$
ה. $x=-2$	ו. $x=1,-1$	ז. $x=0, \frac{1}{2}$	ח. $x=0,2$

משוואות בהן המשתנה גם בבסיס:

סיכום כללי:

במשוואות עם משתנה בבסיס יש לדרוש תנאי עבורו הבסיס חיובי. יש לקחת את חיתוך תחומי ההגדרה (במידה וקיימים ביטויים עם שורשים או שברים) יחד עם תוצאת השוואת המעריכים.

הערה:

יש לבדוק את ערכי ה- x עבורם הבסיס שווה ל-1 ולראות האם מתקבל פסוק אמת או פסוק שקר. בהתאם יש להוסיף או להוריד אותו מתחום המספרים המהווים את פתרון המשוואה.

שאלות:

פתור את המשוואות הבאות:

$$(\sqrt{3-x})^{\sqrt{x}} = (\sqrt[3]{3-x})^x \cdot \sqrt{\sqrt[3]{3-x}} \quad (1)$$

$$\left(1 + \frac{1}{x}\right)^{x^2+x} = 1 \quad (2)$$

$$\frac{|x-3|^{x^2-2}}{|x-3|^{x-1}} = |x-3|^{-1} \quad (3)$$

תשובות סופיות:

$$x = \frac{1}{4}, 1, 2 \quad (1)$$

$$\text{אין פתרון.} \quad (2)$$

$$x = 0, 1, 2, 4 \quad (3)$$

משוואות מסכמות שונות:

שאלות:

פתור את המשוואות הבאות:

$$.5(2^x - 2) + 2 = 4^x - 2^x \quad (1)$$

$$\cdot \frac{6}{4^{x-1} - 1} + \frac{2^{x+1}}{2^x + 2} = \frac{2^x + 4}{2^x - 2} \quad (2)$$

$$\cdot \frac{4^x}{4^x - 10} - \frac{4}{2^{2x-1} - 3} = \frac{32}{16^x - 4^{x+2} + 60} \quad (3)$$

$$\cdot 3^{2x^2+2} - 3^{x^2+3} + 9 = 3^{x^2+1} \quad (4)$$

$$\cdot \sqrt{x}{10} = 4 \cdot \sqrt[2]{x}{10} + 60 \quad (5)$$

$$\cdot \sqrt[x-1]{8 \cdot 2^{x+1}} = (\sqrt{x}{2})^2 \cdot \sqrt[x-1]{x}{32} \quad (6)$$

$$\cdot 10 \cdot 4^{x+2} - 16 \cdot 10^x - 90 \cdot 6^x + 36 \cdot 15^x = 0 \quad (7)$$

תשובות סופיות:

$$\cdot x = 1, 2 \quad (1)$$

$$\cdot x = 3 \quad (2)$$

$$\cdot x = 1.5 \quad (3)$$

$$\cdot x = 1, -1 \quad (4)$$

$$\cdot x = \frac{1}{2} \quad (5)$$

$$\cdot x = -3 \quad (6)$$

$$\cdot x = 1, -2 \quad (7)$$

משוואות עם קבוע אוילר:

סיכום כללי:

קבוע אוילר מסומן באות e וערכו שווה (בערך) ל-2.71828. למספר זה משמעויות רבות במתמטיקה ובמדעים ועל כן הוחלט לסמן אותו באות משלו ולשלב אותו במשוואות מתמטיות ועוד.

דרך הפתרון של משוואה שבה הבסיס הוא e זהה לחלוטין לשל משוואה מעריכית רגילה כפי שנלמד בפרק זה.

שאלות:

(1) פתור את המשוואות הבאות (משוואות יסודיות עם קבוע אוילר):

$$\text{א. } e^{3x} = e^{2x-1} \quad \text{ב. } e^{5x-1} = e \cdot e^{6x+1}$$

$$\text{ג. } e^{x-5} = (e^{1-x})^3 \quad \text{ד. } e^x \cdot \sqrt{e^{3x-1}} = \left(\frac{1}{e^x}\right)^{1-3x}$$

(2) פתור את המשוואות הבאות (משוואות עם חיבור וחסור):

$$\text{א. } e^2 \cdot e^x - e^{x+1} = e - 1 \quad \text{ב. } \sqrt[3]{e^{x+1}} \cdot e^2 = e^x \sqrt{e}$$

$$\text{ג. } e^{2x} + e^x - 2 = 0 \quad \text{ד. } e^{1+x} + e^{1-x} = e^2 + 1$$

(3) פתור את המשוואות הבאות (המשתנה גם בבסיס):

$$\text{א. } xe^x = \sqrt[4]{e} \cdot x \quad \text{ב. } e^{3x} = x \cdot e^{3x}$$

$$\text{ג. } xe^{x^2} = \frac{x}{\sqrt{e^x}} \quad \text{ד. } \sqrt[3]{e^{3x-1}} \cdot x = xe^x$$

תשובות סופיות:

$$(1) \quad \text{א. } x = -1 \quad \text{ב. } x = -3 \quad \text{ג. } x = 2 \quad \text{ד. } x = 1, \frac{1}{6}$$

$$(2) \quad \text{א. } x = -1 \quad \text{ב. } x = \frac{11}{4} \quad \text{ג. } x = 0 \quad \text{ד. } x = 1, -1$$

$$(3) \quad \text{א. } x = 0, \frac{1}{4} \quad \text{ב. } x = 1 \quad \text{ג. } x = 0, -\frac{1}{2} \quad \text{ד. } x = 0$$

מערכת משוואות מעריכיות:

שאלות:

$$(1) \quad \begin{cases} y = 3^x \\ y = 18 - 3^x \end{cases} \quad \text{פתור את מערכת המשוואות הבאה:}$$

$$(2) \quad \begin{cases} 5^{2x} - 5^y = 5^x - 25 \\ y - x = 2 \end{cases} \quad \text{פתור את מערכת המשוואות הבאה:}$$

$$(3) \quad \begin{cases} \frac{1}{3^y - 4} + \frac{3}{3^x - 2} - \frac{1}{3^x + 2} = 3 \\ 4^y = \sqrt{256^x} \end{cases} \quad \text{פתור את מערכת המשוואות הבאה:}$$

$$(4) \quad \begin{cases} 5^x + 2^y = 13 \\ 2 \cdot 5^x - 2^y = 2 \end{cases} \quad \text{פתור את מערכת המשוואות הבאה:}$$

$$(5) \quad \begin{cases} 2 \cdot 3^x - 3 \cdot 2^y = 42 \\ 3^{x+1} - 2^{y+1} = 73 \end{cases} \quad \text{פתור את מערכת המשוואות הבאה:}$$

$$(6) \quad \begin{cases} 5^{2x+1} + 8 \cdot 10^x - 2^{2y+4} = 0 \\ (\sqrt{3})^y = 27^{\frac{x-1}{6}} \end{cases} \quad \text{פתור את מערכת המשוואות הבאה:}$$

$$(7) \quad \begin{cases} 6 \cdot 4^x - 7 \cdot 6^{y-1} + 2 \cdot 3^{x+y} = 6^y \\ \sqrt[4]{5^x} \cdot \sqrt{(5\sqrt{5})^y} = \sqrt[4]{125} \cdot 5^x \end{cases} \quad \text{פתור את מערכת המשוואות הבאה:}$$

תשובות סופיות:

(1,3) (4)	(1,2) (3)	(0,2), (2,4) (2)	(2,9) (1)
(1,2), (-1,0) (7)	(-1,-2) (6)	(3,2) (5)	

אי שוויונים מעריכיים:

סיכום כללי:

פתרון אי-השוויון: $a^x > a^y$ הוא: $x > y$ עבור $a > 1$ ו- $x < y$ עבור $0 < a < 1$.

שאלות:

פתור את אי השוויונים הבאים:

$$\sqrt{2^x} \leq 4^{x^2-1\frac{1}{4}} \quad (2)$$

$$3^{2x+1} < 27^{1-\frac{1}{3}x} \quad (1)$$

$$\left(\frac{1}{7}\right)^{5x} \geq \left(\frac{1}{7}\right)^{1-3x} \quad (4)$$

$$e^{\sqrt{x+1}} > e^{2x} \quad (3)$$

$$e^{2x} - 2e^x + 1 \leq 0 \quad (6)$$

$$25^x + 5 < 6 \cdot 5^x \quad (5)$$

הערה:

השאלות הבאות דורשות הכרות עם מושג הלוגריתם הטבעי (\ln) וכן חוקי הלוגריתמים אשר ילמדו בהמשך.

$$e^{2x} - 5e^x + 4 > 0 \quad (8)$$

$$e^x > 3 \quad (7)$$

תשובות סופיות:

$$x \leq -1 \text{ או } x \geq 1\frac{1}{4} \quad (2)$$

$$x < \frac{2}{3} \quad (1)$$

$$x \leq \frac{1}{8} \quad (4)$$

$$0 \leq x < 1 \quad (3)$$

$$x = 0 \quad (6)$$

$$0 < x < 1 \quad (5)$$

$$x < 0 \text{ או } x > \ln 4 \quad (8)$$

$$x > \ln 3 \quad (7)$$

אי-שוויונים עם משתנה בבסיס ובמעריך:

סיכום כללי:

דרך הפתרון של אי שוויון עם משתנה בבסיס ובמעריך:

- יש לדרוש בסיס חיובי ולחבר אי-שוויון בהתאם.
- יש לפתור את אי השוויון לפי השוואת מעריכים.
- יש למצוא את חיתוך הפתרונות.

נתון: $f(x)^{g(x)} > f(x)^{h(x)}$ נדרוש: $f(x) > 0$.

דרך הפתרון: אם $f(x) > 1$ אז $g(x) > h(x)$.

אם $0 < f(x) < 1$ אז $g(x) < h(x)$.

לבסוף נמצא את חיתוך התחומים.

שאלות:

פתור את אי השוויונים הבאים:

$$(x-2)^{2x-5} < (x-2)^{x+1} \quad (2) \qquad x^{2x-1} > x^{x+2} \quad (1)$$

$$x^{2x^2+2} < x^{5x} \quad (4) \qquad x^{2x-6} < 1 \quad (3)$$

$$(x+1)^{|x|} < x^2 + 2x + 1 \quad (6) \qquad (x^2 - 6x + 13)^{x^2 - 2x} \geq (x^2 - 6x + 13)^3 \quad (5)$$

תשובות סופיות:

$$.0 < x < 1, x > 3 \quad (1)$$

$$.3 < x < 6 \quad (2)$$

$$.1 < x < 3 \quad (3)$$

$$.0 < x < 0.5, 1 < x < 2 \quad (4)$$

$$.x \leq -1, x \geq 3 \quad (5)$$

$$.0 < x < 2 \quad (6)$$

הכנה למבחן כניסה למכינה במתמטיקה

פרק 11 - חוקי הלוגריתמים, משוואות ואי-שוויונים לוגריתמים

תוכן העניינים

152	1. הגדרת הלוגריתם ומשוואות יסודיות
155	2. חוקי הלוגריתמים
159	3. חישובים עם חזקה לוגריתמית
160	4. מעבר בין בסיסים
162	5. הלוגריתם הטבעי
164	6. משוואות עם בסיסים שונים
165	7. מערכת משוואות לוגריתמיות
166	8. מערכת משוואות לוגריתמיות ומעריכיות
167	9. אי-שוויונים לוגריתמים
(ללא ספר)	10. אי-שוויונים לוגריתמים עם משתנה בבסיס

הגדרת הלוגריתם ומשוואות יסודיות:

סיכום כללי:

הגדרה:

הלוגריתם מוגדר באופן הבא: $\log_a b = x \Leftrightarrow a^x = b$ כאשר: $a, b > 0, a \neq 1$.

הסבר:

לוגריתם על בסיס a של b מוגדר בתור החזקה שיש להעלות את a על מנת שיהיה שווה ל- b .
 ערך חזקה זו הוא x . ערך לוגריתם יכול להיות חיובי, שלילי או אפס. נחשב ערכי לוגריתמים
 ונפתור משוואות לוגריתמיות ע"י מעבר לפי ההגדרה למשוואה מעריכית מתאימה.

כללים יסודיים בלוגריתמים:

מהגדרת הלוגריתם נובע כי: $\log_a a = 1$ וכן: $\log_a 1 = 0$ לכל $a > 0, a \neq 1$.

שאלות:

(1) חשב ללא מחשבון את ערכי הביטויים הלוגריתמים הבאים:

א. $\log_2 32$ ב. $\log 1000$ ג. $\log_{25} 5$

ד. $\log_8 4$ ה. $\log_4 \frac{1}{16}$ ו. $\log_a a^4$

ז. $\log_a \frac{1}{a\sqrt{a}}$

(2) פתור את המשוואות הלוגריתמיות הבאות (יסודי - שימוש בהגדרת הלוג):

א. $\log_{36} 6 = x$ ב. $\log_2 x = 16$

ג. $\log_{\frac{1}{9}} x = -1.5$ ד. $\log_x 64 = 3$

ה. $\log_x 25 = 2$ ו. $\log_x (3x+4) = 2$

(3) פתור את המשוואות הלוגריתמיות הבאות (כללי - שימוש בהגדרת הלוג):

$$\log_6(4x-2)=1 \quad \text{א.} \quad \log_4(4-x)=\frac{1}{2} \quad \text{ב.}$$

$$\log_8(x^4-73)=1 \quad \text{ג.} \quad \log_3 \frac{x+3}{3-3x}=-2 \quad \text{ד.}$$

$$\log_x(2x^2+x-12)=2 \quad \text{ה.} \quad \log_{\sqrt{x+1}}(2x^2-5)=2 \quad \text{ו.}$$

(4) פתור את המשוואות הלוגריתמיות הבאות (שימוש בהגדרת הלוג מספר פעמים):

$$\log_4(\log_3 x)=1 \quad \text{א.} \quad 3\log_{27}(\log_2(x+3))=1 \quad \text{ב.}$$

$$\log_{\frac{1}{16}}(\log_3(5x^2+1))=-\frac{1}{2} \quad \text{ג.} \quad \log_6(3+\log_2(6+\log_4(x^2+15)))=1 \quad \text{ד.}$$

(5) פתור את המשוואות הלוגריתמיות הבאות (מתקבלת משוואה מעריכית):

$$\log_2(3^x+37)=6 \quad \text{א.} \quad \log_3(3 \cdot 2^x-303)=4 \quad \text{ב.}$$

$$\log_5(126 \cdot 5^x-25)=2x+1 \quad \text{ג.} \quad 3\log_2\left(3 \cdot 4^{1+\frac{1}{3}x}-11 \cdot 2^{\frac{x}{3}}+3\right)=12+2x \quad \text{ד.}$$

(6) פתור את המשוואות הלוגריתמיות הבאות (הצבה):

$$(\log_2 x)^4=10000 \quad \text{א.} \quad 2(\log_3 x)^2+\log_3 x=10 \quad \text{ב.}$$

$$\frac{3 \cdot \log_{14} x+1}{(\log_{14} x)^2}=4 \quad \text{ג.} \quad \sqrt{\log_{\frac{1}{81}} x}+\sqrt{\log_{\frac{1}{81}} x+2}=2 \quad \text{ד.}$$

תשובות סופיות:

- (1) א. 5 ב. 3 ג. $\frac{1}{2}$ ד. $\frac{2}{3}$ ה. -2
- ו. -1.5 ז. 4
- (2) א. $x = \frac{1}{2}$ ב. $x = 65,536$ ג. $x = 27$ ד. $x = 4$
- ה. $x = 5$ ו. $x = 4$
- (3) א. $x = 2$ ב. $x = 2$ ג. $x = \pm 3$ ד. $x = -2$ ה. $x = 3$ ו. $x = 2$
- (4) א. $x = 81$ ב. $x = 5$ ג. $x = \pm 4$ ד. $x = \pm 1$
- (5) א. $x = 3$ ב. $x = 7$ ג. $x = -1, 2$ ד. $x = -6$
- (6) א. $x = 1024, \frac{1}{1024}$ ב. $x = 9, \frac{1}{9\sqrt{3}}$
- ג. $x = 14, \frac{1}{\sqrt[4]{14}}$ ד. $x = \frac{1}{3}$

חוקי הלוגריתמים:

סיכום כללי:

- להלן 3 חוקי הלוגריתמים עבור בסיס $a > 0 \neq 1$ וארגומנטים x ו- y חיוביים:
- מכפלה לסכום: $\log_a(x \cdot y) = \log_a x + \log_a y$.
 - מנה להפרש: $\log_a\left(\frac{x}{y}\right) = \log_a x - \log_a y$.
 - מקדם למעריך: $\log_a b^n = n \log_a b$ (כאשר $b > 0$ ו- n מספר ממשי כלשהו).

שאלות:

שאלות חישוב כלליות:

(1) חשב ללא מחשבון את ערכי הביטויים הבאים (שימוש בחוקי הלוגים):

- | | |
|--|---|
| א. $\log_3 12 + \log_3 2.25$ | ב. $\log_{\frac{1}{5}} 40 + \log_{\frac{1}{5}} 12.5 + \log_{\frac{1}{5}} \frac{1}{4}$ |
| ג. $\log_2 200 - \log_2 100$ | ד. $\log_3 60 - \log_3 540$ |
| ה. $\log_4 8 + \log_4 12 - \log_4 6$ | ו. $\log_7 1.5 - \log_7 147 + \log_7 2$ |
| ז. $3 \log_5 2 - \log_5 1.6$ | ח. $\log_{\sqrt{4}} 6.4 + 2 \log_{\sqrt{4}} \sqrt{10}$ |
| ט. $\frac{1}{2} \left(\log_7 \frac{7}{2} + \log_7 2 \right) + \log_7 14 - \frac{1}{3} \log_7 8$ | י. $\frac{1}{4} \log 81 - \log 1.5 - \frac{1}{2} \log 40$ |

(2) חשב ללא מחשבון את ערכי הביטויים הבאים (שימוש בחוקי הלוגים):

- | | |
|---|--|
| א. $\frac{\log_5 16}{\log_5 8}$ | ב. $\frac{\log_9 62.5 + \log_9 2}{\log_9 0.2}$ |
| ג. $\frac{\log_3 5 - \log_3 2 + \log_3 50}{\log_3 225 - 2}$ | ד. $\frac{2 - 2 \log_3 4 + \log_3 8 \frac{8}{9}}{4 - \log_3 0.01 - 2 \log_3 18}$ |

משוואות לוגריתמיות:

(3) פתור את המשוואות הבאות (שימוש ישיר בחוקי הלוגריתמים):

א. $\log_2 x + \log_2 (x-6) = 4$ ב. $\log_3 x + \log_3 (x+2) = 1$

ג. $\log_2 (x+30) - \log_2 x = 4$ ד. $\log_5 (x+146) - \log_5 (x+2) = 2$

ה. $2\log_3 (2x-1) - \log_3 (22x+9) = -1$

ו. $2\log_5 (x-2) = \log_5 (4x-15) + \log_5 x$

(4) פתור את המשוואות הבאות (פתרון בשיטת לוג שווה לוג):

א. $\log_5 (4x-3) = \log_5 7$

ב. $2\log_2 (2x-2) - \log_2 (16-x) = \log_2 (x-1) + 1$

(5) פתור את המשוואות הבאות (מתקבלת משוואה מעריכית):

א. $\log_3 (3 \cdot 5^x + 39) = 3 + \log_3 (5^x - 3)$

ב. $\log_2 (3 - 4^{x+1}) - \log_2 11 = x$

(6) פתור את המשוואות הבאות (שימוש הפוך בחוקי הלוגריתמים):

א. $\log_4 x \cdot \log_4 (16x) = 8$

ב. $\log_2 \left(\frac{x}{4}\right) \cdot \log_2 (1024x) = -11$

ג. $\log_2 x^2 \log_2 \left(\frac{x}{16}\right) = -\log_2 (64x)$

ד. $(\log_4 4x)^2 = \log_4 4x^2 + 1$

ה. $\log_3 (9x^2) \cdot \log_3 (9x^3) = \log_3 \left(\frac{81}{x}\right) + 2$

ו. $\frac{\log_2 \left(\frac{x^3}{32}\right)}{(\log_2 x)^2} + \frac{\log_2 (2x)}{\log_2 x} = 1\frac{7}{9}$

שאלות הבעה:

(7) נתון: $\log_3 2 = a$. הבע באמצעות a את ערכי הביטויים הבאים:

א. $\log_3 16$ ב. $\log_3 6$

ג. $\log_3 24$ ד. $\log_3 1.5$

(8) נתון: $\log_2 5 = b$, $\log_2 3 = a$. הבע באמצעות a ו- b את ערכי הביטויים הבאים:

א. $\log_2 45$ ב. $\log_2 60$ ג. $\log_2 \sqrt{7.5}$

(9) נתון: $\log_{18} 2 + \log_{18} 3 = a$.

הבע באמצעות a את $\log_{18} 27$ ואת $\log_{18} 16$.

שאלות נוספות:

בכל אחת מהמשוואות הבאות, חשב את ערך הביטוי שמשמאל וקבל את התוצאה מימין:

$$\log 4 \log 40 + \log 5 \log 16 = \log 64 \quad (10)$$

$$2 \log^2 2 + \log 25 \cdot \log 20 = 2 \quad (11)$$

$$\log_{12} 16 \cdot \log_{12} 4 + \log_{12} 9 \cdot \log_{12} 48 = 2 \quad (12)$$

$$\log_5 10 \cdot \log_5 75 - \log_5 3 \cdot \log_5 2 - \log_5 3 - \log_5 4 = 2 \quad (13)$$

תשובות סופיות:

- (1) א. 3 ב. -3 ג. 1 ד. -2 ה. 2 ו. -0.5
- (2) א. $\frac{4}{3}$ ב. -3 ג. 1.5 ד. 0.5
- (3) א. $x=8$ ב. $x=3, \frac{1}{27}$ ג. $x=2$ ד. $x=4$ ה. $x=3$ ו. $x=4$
- (4) א. $x=2.5$ ב. $x=6$
- (5) א. $x=1$ ב. $x=-2$
- (6) א. $x=16, \frac{1}{256}$ ב. $x=2, \frac{1}{512}$ ג. $x=4, 2\sqrt{2}$ ד. $x=4, \frac{1}{4}$ ה. $x=\frac{1}{9}, \sqrt[9]{3}$ ו. $x=8, \sqrt[7]{2^{15}}$
- (7) א. $4a$ ב. $a+1$ ג. $3a+1$ ד. $1-a$
- (8) א. $2a+b$ ב. $2+a+b$ ג. $\frac{1}{2}a + \frac{1}{2}b - \frac{1}{2}$
- (9) $4(2a-1), 3(1-a)$
- (10) הוכחה.
- (11) הוכחה.
- (12) הוכחה.
- (13) הוכחה.

חישובים עם חזקה לוגריתמית:

סיכום כללי:

מהגדרת הלוגריתם ניתן לנסח את הקשר הבא: $a^{\log_a x} = x$ כאשר $a > 0 \neq 1$.

שאלות:

(1) חשב ללא מחשבון את ערכי הביטויים הבאים (חזקה לוגריתמית):

א. $6^{\log_6 8}$ ב. $4^{\log_2 5}$

(2) נתונה התבנית: $3 \cdot 4^x$. חשב את ערכה עבור:

א. $x = \log_4 7$ ב. $x = \log_4 \sqrt{3}$

ג. $x = 2 \log_4 0.1$ ד. $x = \sqrt{\log_2 5}$

(3) נתונה התבנית: $\frac{1}{6} \cdot 9^x - 2 \cdot 3^x + 1$. חשב את ערכה עבור:

א. $x = -1$ ב. $x = \log_3 5$

ג. $x = \log_3 \sqrt{6}$

(4) חשב:

א. $\left(\frac{1}{6}\right)^{\log_{\sqrt{56}} 81}$ ב. $\sqrt[3]{2^{3 - \log_{\sqrt{8}} 5}}$

תשובות סופיות:

(1) א. 8 ב. 25

(2) א. 21 ב. $3\sqrt{3}$ ג. 0.03 ד. 15

(3) א. $\frac{19}{54}$ ב. $-4\frac{5}{6}$ ג. $2 - 2\sqrt{6}$

(4) א. $\frac{1}{81}$ ב. $\frac{2}{\sqrt[2]{25}}$

מעבר בין בסיסים:

סיכום כללי:

מעבר מבסיס a לבסיס m (כאשר: $a > 0 \neq 1$ ו- $m > 0 \neq 1$, וכן: $b > 0$)

$$\log_a b = \frac{\log_m b}{\log_m a}$$

יתבצע באופן הבא:

שאלות:

שאלות חישוב כלליות:

(1) חשב את ערכי הביטויים הבאים:

ב. $\log_{0.1} 3 \cdot \log_9 1000$

א. $\log_4 7 \cdot \log_7 4$

ד. $\log_4 169 \cdot \log_{25} 64 \cdot \log_{13} 625$

ג. $\log_{\sqrt{3}} 5 \cdot \log_{\sqrt{125}} 9$

(2) הוכח את השוויונים הבאים:

א. $\log_2 25 \cdot \log_5 3 \cdot \log_9 2 = 1$

ב. $\log_{16} 9 \cdot \log_5 4 \cdot \log_3 5 = 1$

משוואות לוגריתמיות:

(3) פתור את המשוואות הבאות:

ב. $\log_3 x \cdot \log_{27} x = 3$

א. $\log_2 x + \log_{32} x = 6$

ד. $\log_x 5 - 6 \log_{125} x = 1$

ג. $\log_2 4x \cdot \log_8 \frac{x}{16} = -\frac{5}{3}$

שאלות הבעה:

(4) נתון: $\log_4 6 = a$. הבע באמצעות a את ערכי הביטויים הבאים:

א. $\log_2 3$ ב. $\log_{32} 36$ ג. $\log_{216} 96$

(5) נתון: $\log_2 3 = a$, $\log_3 5 = b$. הבע באמצעות a ו- b את ערכי הביטויים הבאים:

א. $\log_3 50$ ב. $\log_2 \sqrt{30}$ ג. $\log_5 22.5$

6 נתון $\log_3 7 = a$, $\log 9 = 2b$. הבע באמצעות a ו- b את:

א. $\log 21$.

ב. $\log_3 \left(\frac{10}{7} \right)$.

ג. $\log_7 10$.

ד. $\log_{30} 63$.

שאלות נוספות:

בכל אחת מהמשוואות הבאות, חשב את ערך הביטוי שמשמאל וקבל את התוצאה מימין:

7 $\log_6 9 \cdot \log_{15} 30 + \log_6 5 \cdot \log_{15} 4 = 2$

8 $\log \sqrt{3} \cdot \log_6 50 + \log \sqrt{2} \cdot \log_6 300 = 1$

תשובות סופיות:

1 א. 1 ב. -1.5 ג. $2\frac{2}{3}$ ד. 12

2 א. שאלת הוכחה. ב. שאלת הוכחה.

3 א. $x = 32$ ב. $x = 27, \frac{1}{27}$ ג. $x = 8, \frac{1}{2}$ ד. $x = \frac{1}{5}, \sqrt{5}$

4 א. $2a - 1$ ב. $0.8a$ ג. $\frac{a+2}{3a}$

5 א. $2b + \frac{1}{a}$ ב. $\frac{a}{2} + \frac{ab}{2} + \frac{1}{2}$ ג. $\frac{2}{b} + 1 - \frac{1}{ab}$

6 א. $b + ab$ ב. $\frac{1}{b} - a$ ג. $\frac{1}{ab}$ ד. $\frac{ab+2b}{b+1}$

7 הוכחה.

8 הוכחה.

הלוגריתם הטבעי:

סיכום כללי:

לוגריתם על בסיס e (קבוע אוילר) מסומן: $\log_e \Rightarrow \ln$ והוא נקרא הלוגריתם הטבעי. למשל: $\ln 3 = \log_e 3$ או $\ln \frac{1}{4} = \log_e \frac{1}{4}$. לוג זה נקרא בשם לן. מהגדרת הלוגריתם מתקיים: $\ln a = b \rightarrow e^b = a$ כאשר $a > 0$ ו- b מספרים כלשהם.

שאלות:

(1) חשב ללא מחשבון את ערכי הביטויים הלוגריתמיים הטבעיים הבאים:

$$\text{א. } \ln e^2 \quad \text{ב. } \ln \frac{1}{e^4} \quad \text{ג. } \ln \frac{1}{e\sqrt{e}}$$

(2) פתור את המשוואות הלוגריתמיות הבאות (שימוש בהגדרת הלוג):

$$\text{א. } \ln x = 2 \quad \text{ב. } \ln x = -\frac{1}{2}$$

(3) פתור את המשוואות הבאות (הצבה וחוקי הלוגריתמים):

$$\begin{aligned} \text{א. } \ln\left(e^{2x} - \frac{1}{2}\right) + \ln 2 = x \\ \text{ב. } 3 \ln^2 x + \ln x = 2 \\ \text{ג. } \ln(e^2 x^3) \cdot \ln \frac{1}{x} = \ln(ex^2) \end{aligned}$$

(4) פתור את המשוואות הלוגריתמיות הבאות (הוצאת לוג משני אגפי המשוואה)

$$\text{א. } x^{\ln x} = e^6 x \quad \text{ב. } \left(\frac{1}{x}\right)^{2-3 \ln x} = \frac{1}{e} \cdot x^{1+\ln x}$$

(5) חשב ללא מחשבון את ערכי הביטויים הבאים (חזקה לוגריתמית):

$$\text{א. } e^{\ln 3} \quad \text{ב. } e^{2 \ln 3}$$

תשובות סופיות:

$$(1) \quad \text{א. } 2 \quad \text{ב. } -4 \quad \text{ג. } -1.5$$

$$(2) \quad \text{א. } x = e^2 \quad \text{ב. } x = \frac{1}{\sqrt{e}}$$

$$(3) \quad \text{א. } x = 0 \quad \text{ב. } x = \sqrt[3]{e^2}, \frac{1}{e} \quad \text{ג. } x = \frac{1}{\sqrt[3]{e}}, \frac{1}{e}$$

$$(4) \quad \text{א. } x = e^3, \frac{1}{e^2} \quad \text{ב. } x = \sqrt{e}, e$$

$$(5) \quad \text{א. } 3 \quad \text{ב. } 9$$

משוואות עם בסיסים שונים:

סיכום כללי:

לעיתים תתקבל משוואה מעריכית שבה לא ניתן למצוא חזקה שלמה, כגון: $3^x = 4$. במקרים אלו נעזר בהגדרת הלוג כדי לבטא את ערך המעריך: $x = \log_3 4$. את ערך הביטוי $\log_3 4$ ניתן לחשב ע"י מחשבון או ע"י מעבר לבסיס 10: $\log_3 4 = \frac{\log 4}{\log 3}$.

שאלות:

(1) פתור את המשוואות הבאות (בסיסים שונים):

א. $3^x = 6$ ב. $2^x - 9 = 0$

ג. $49^x - 8 \cdot 7^x + 15 = 0$ ד. $2 \cdot 3^{\frac{2x}{3}} + 5 \cdot 3^{\frac{x}{3}} + 2 = 0$

(2) פתור את המשוואות הבאות (משוואות עם בסיס ולוגריתם טבעי):

א. $e^{3x} = 3$ ב. $4 + 3e^x = 9$

ג. $3e^{2x} - 4e^x + 1 = 0$ ד. $e(e^x + 1) = 2\sqrt{e^{x+2}} + 9e$

(3) פתור את המשוואות הבאות (משוואות כלליות עם פתרונות לא שלמים):

א. $\log_2(7 - 5^x) = \log_2 \frac{10}{5^x}$ ב. $\log_2(4e^{2x} + 6) - 1 = \log_2(7e^x)$

תשובות סופיות:

(1) א. $x = \log_3 6 = 1.63$ ב. $x = \log_2 9 = 3.17$

ג. $x = \log_7 3 = 0.564$, $x = \log_7 5 = 0.827$ ד. אין פתרון.

(2) א. $x = \frac{1}{3} \ln 3 = 0.36$ ב. $x = \ln \frac{5}{3} = 0.51$ ג. $x = 0$, $x = -\ln 3 = -1.09$

ד. $x = \ln 16 = 2.7725$

(3) א. $x = 1$, $x = \log_5 2 = 0.43$ ב. $x_1 = \ln \frac{1}{2} = -0.693$, $x = \ln 3 = 1.098$

מערכת משוואות לוגריתמיות:

שאלות:

פתור את מערכות המשוואות הבאות:

$$\begin{cases} \log_6^2 x - \log_6(2y-2) = 2 \\ \frac{1}{2}x = y-1 \end{cases} \quad (2) \qquad \begin{cases} y = \log_2 x \\ y = 6 - \log_2 x \end{cases} \quad (1)$$

$$\begin{cases} \log_3(x+y) = \log_3(4x+y) - 2 \\ \log_5(5x+3y) = 2 \end{cases} \quad (3)$$

$$\begin{cases} \log_2(\log_3(x-y)) = 1 \\ \log_5(x+y-11) = \log_{25} x + \frac{1}{2}\log_5(y+2) \end{cases} \quad (4)$$

$$\begin{cases} \log_2 x^2 + \log_3 \frac{1}{y} = 9 \\ \log_2 \sqrt{x} + \log_{\sqrt[3]{3}} y = -1 \end{cases} \quad (6) \qquad \begin{cases} \log_5 x + 6\log_4 y = 11 \\ 10\log_5 x - 2\log_4 y = 17 \end{cases} \quad (5)$$

$$\begin{cases} xy = 27 \\ x^{\log_3 y} = 9 \end{cases} \quad (8) \qquad \begin{cases} \log_5 x + 2^{\log_2 y} = 6 \\ x^y = 5^8 \end{cases} \quad (7)$$

$$\begin{cases} 2^{\frac{\log_1(2x-y)}{2}} = 7^{\log_7 \frac{2x+y}{15}} \\ \log_3 x + \log_3 y = \frac{1}{\log_{28} 3} \end{cases} \quad (9)$$

תשובות סופיות:

$$\begin{array}{llll} (8, -5) \quad (3) & (36, 19), \left(\frac{1}{6}, 1\frac{1}{12}\right) \quad (2) & & (8, 3) \quad (1) \\ \left(16, \frac{1}{3}\right) \quad (6) & (25, 8) \quad (5) & & (16, 7) \quad (4) \\ (4, 7) \quad (9) & (3, 9), (9, 3) \quad (8) & & (25, 4), (625, 2) \quad (7) \end{array}$$

מערכת משוואות לוגריתמיות ומעריכיות:

שאלות:

פתור את מערכות המשוואות הבאות:

$$\begin{cases} 25^y = (5\sqrt{5})^{x+1} \\ \log_5 \sqrt{x} + \log_5 \sqrt{y} = \log_5 3 \end{cases} \quad (2) \quad \begin{cases} y = \log_2(4^x - 2) \\ y = 2x - 1 \end{cases} \quad (1)$$

$$\begin{cases} x \cdot \log_2 3 = \frac{y}{\log_9 2} \\ \log_3(9^x + 27) = 2y + \log_3 12 \end{cases} \quad (4) \quad \begin{cases} 3y + 5 \log_6 x = 1 \\ 216 \cdot x^{2-y} = 6^{1-4y} \end{cases} \quad (3)$$

$$\begin{cases} x = \log_4(5 - 9^y) \\ \log_2(2^x + 3) = \log_4(29 - (3^y - 3)^2) \end{cases} \quad (6) \quad \begin{cases} (2^x - 1)^2 - 4y + 3 = 0 \\ x = \log_2(y + 1) \end{cases} \quad (5)$$

תשובות סופיות:

$$(36, -3), \left(6, -1\frac{1}{3}\right) \quad (3) \quad (3, 3) \quad (2) \quad (1, 1) \quad (1)$$

$$(1, 0) \quad (6) \quad (1, 1), (2, 3) \quad (5) \quad \left(1, \frac{1}{2}\right), (2, 1) \quad (4)$$

אי-שוויונים לוגריתמים:

סיכום כללי:

פתרון אי-השוויון: $\log_a x > \log_a y$ הוא: עבור $x > y$: עבור $a > 1$ ו- עבור $x < y$: עבור $0 < a < 1$.

שאלות:

פתור את אי-השוויונים הבאים:

$\log_6(x^2 - 5x) < 1$ (2)	$\log_2 x < \log_2(5x - 20)$ (1)
$\log_{\frac{1}{2}}(1 - 3x) \geq \log_{\frac{1}{2}}(7 - x)$ (4)	$\log_3 x > \log_9(15 - 2x)$ (3)
$\ln x < 3$ (6)	$\ln x \geq \ln(x^2 - 12)$ (5)
$\frac{6}{\ln^2 x} \geq 2 - \frac{1}{\ln x}$ (8)	$\ln^2 x - 6 \ln x < 7$ (7)

תשובות סופיות:

$-1 < x < 0, 5 < x < 6$ (2)	$x > 5$ (1)
$-3 \leq x \leq \frac{1}{3}$ (4)	$3 < x < 7\frac{1}{2}$ (3)
$0 < x < e^3$ (6)	$2\sqrt{3} < x \leq 4$ (5)
$x \neq 1$ וגם $\frac{1}{\sqrt{e^3}} \leq x \leq e^2$ (8)	$\frac{1}{e} < x < e^7$ (7)

הכנה למבחן כניסה למכינה במתמטיקה

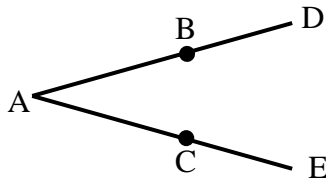
פרק 12 - מבוא לגאומטריה של המישור

תוכן העניינים

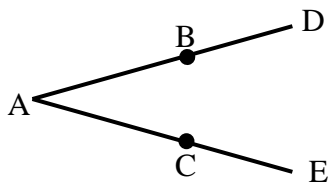
168	1. הגדרות כלליות	(ללא ספר)
169	2. חיבור וחסור קטעים	
171	3. חישובי זוויות וחיבור וחסור זוויות	
173	4. זוויות קדקודיות וזוויות צמודות	
	5. זוויות בין ישרים מקבילים	

חיבור וחיסור קטעים:

שאלות:



- (1) באיור שלפניך נתון: $AB = AC$, $BD = CE$.
 הוכח: $AD = AE$.



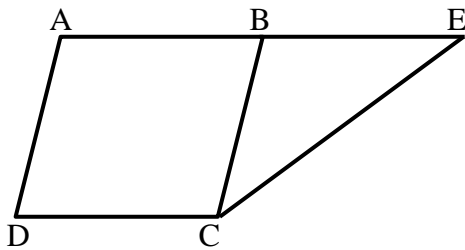
- (2) באיור שלפניך נתון: $AD = AE$, $AB = AC$.
 הוכח: $BD = CE$.

- (3) הנקודות A, M, N, K, B נמצאות על ישר אחד.



- נתון כי: $AM = KB$, $MN = NK$.
 הוכח: $AN = BN$.

- (4) בסרטוט שלפניך נתון כי: $BC = AB$, $BE + BC = 2AB$.
 הוכח: $AB = BE$.

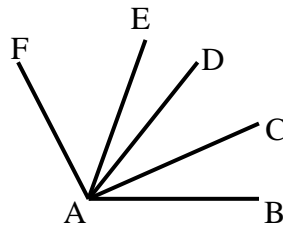


תשובות סופיות:

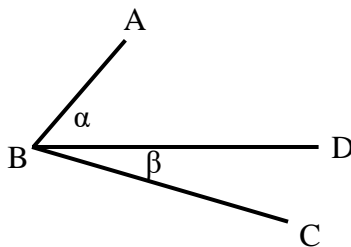
- (1) שאלת הוכחה.
 (2) שאלת הוכחה.
 (3) שאלת הוכחה.
 (4) שאלת הוכחה.

חישובי זוויות וחיבור וחסור זוויות:

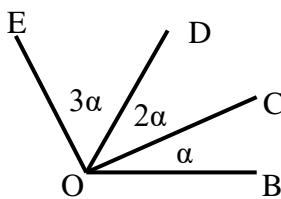
שאלות:



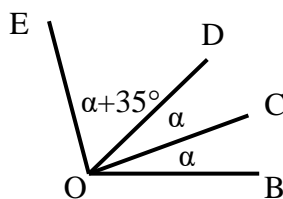
- (5) נתון: $\angle CAB = \angle DAC$, $\angle FAE = 2 \cdot \angle EAD$,
 וכן: $\angle EAB = 80^\circ$, $\angle FAD = 60^\circ$.
 חשב את הזוויות הבאות:
 $\angle FAB$, $\angle EAC$, $\angle CAB$



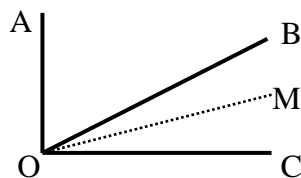
- (6) באיור שלפניך נתון: $\angle ABC = 69^\circ$.
 נתון כי: $\alpha = 2\beta$ (זוויות סמוכות).
 מצא את α ואת β .



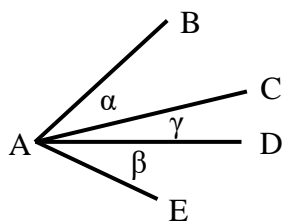
- (7) באיור שלפניך מספר קרניים היוצאים מהנקודה O.
 הנתונים הם: $\angle EOB = 138^\circ$.
 חשב את הזוויות הבאות:
 $\angle EOD$, $\angle DOC$, $\angle COB$



- (8) באיור שלפניך נתון: $\angle EOB = 110^\circ$.
 שאר הנתונים מופיעים בתרשים.
 חשב את הזוויות הבאות:
 $\angle EOC$, $\angle DOC$



- (9) נתון האיור הבא ובו: $\angle AOC = 90^\circ$.
 OM חוצה את זווית BOC.
 מתקיים: $\angle AOB = 3\angle MOC$.
 חשב את: $\angle AOM$, $\angle BOM$



- (10) בסרטוט שלפניך נתון: $\alpha = \beta$.
 הוכח כי: $\angle BAD = \angle EAC$.

תשובות סופיות:

$$\angle FAB = 120^\circ, \angle EAC = 50^\circ, \angle CAB = 30^\circ \quad (5)$$

$$\alpha = 46^\circ, \beta = 23^\circ \quad (6)$$

$$\angle BOC = 23^\circ, \angle COD = 46^\circ, \angle DOE = 69^\circ \quad (7)$$

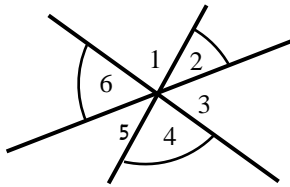
$$\angle EOC = 85^\circ, \angle DOC = 25^\circ \quad (8)$$

$$\angle AOM = 72^\circ, \angle BOM = 18^\circ \quad (9)$$

$$(10) \text{ שאלת הוכחה.}$$

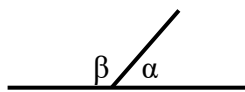
זוויות קדקודיות וזוויות צמודות:

שאלות:



11) חשב את סכום הזוויות הבאות (נמק):

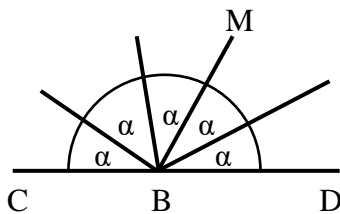
$$\sphericalangle 2 + \sphericalangle 4 + \sphericalangle 6$$



12) באיור שלפניך הזוויות α ו- β הן זוויות צמודות.

ידוע כי: $\alpha = 63^\circ$.

מצא את זווית β .

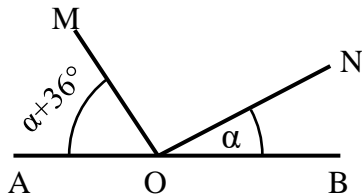


13) באיור שלפניך הזווית CBD היא שטוחה.

כל הזוויות שוות ל- α .

א. חשב את α .

ב. חשב את זווית CBM.

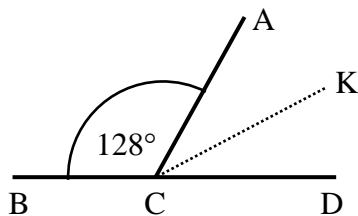


14) בסרטוט שלפניך ידוע:

הזווית AOB היא שטוחה.

נתון: $\alpha = 27^\circ$.

הוכח כי: $MO \perp NO$.



15) הזוויות $\sphericalangle ACD$ ו- $\sphericalangle ACB$ הן צמודות.

ידוע כי CK חוצה זווית ACD.

כמו כן: $\sphericalangle ACB = 128^\circ$.

חשב את זווית BCK.

תשובות סופיות:

(11) 180° .

(12) $\beta = 117^\circ$.

(13) א. $\alpha = 36^\circ$. ב. $\sphericalangle CBM = 108^\circ$.

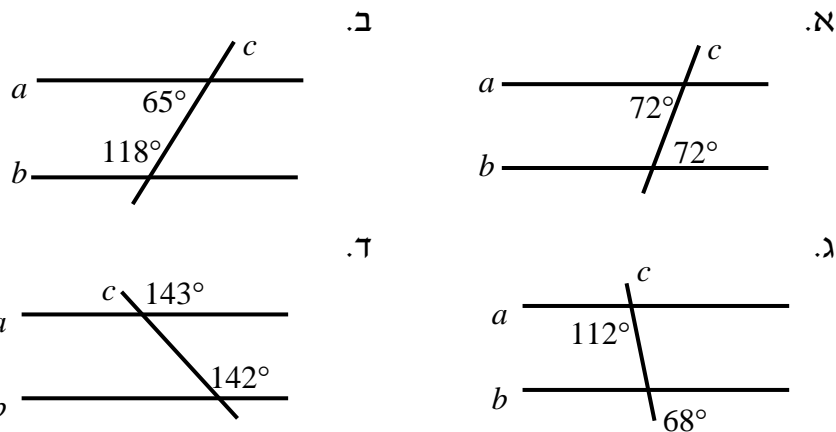
(14) שאלת הוכחה.

(15) $\sphericalangle BCK = 154^\circ$.

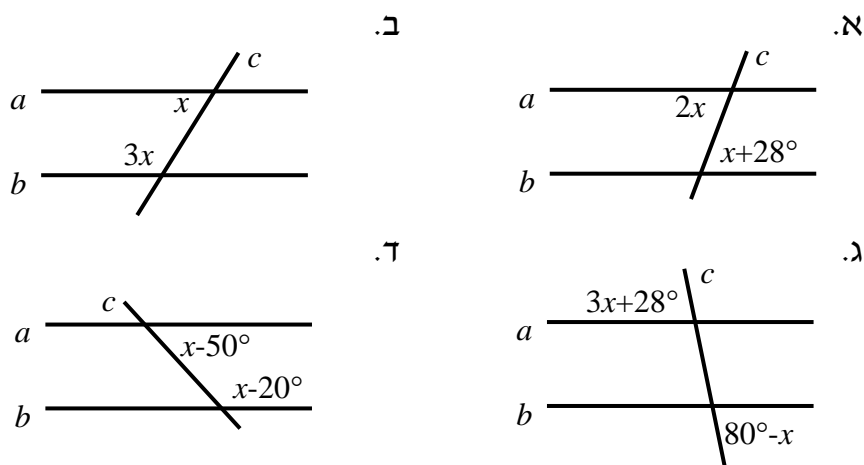
זוויות בין ישרים מקבילים:

שאלות:

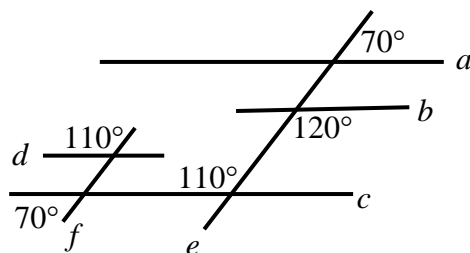
16) קבע בכל מקרה האם הישרים a ו- b מקבילים או שלא. נמק.

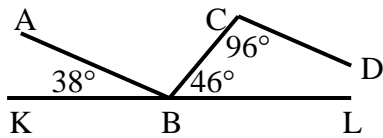


17) הישרים a ו- b מקבילים. מצא את x בכל אחד מהמקרים הבאים:

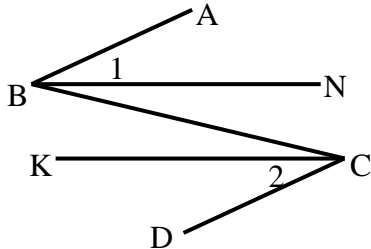


18) מצא את זוויות הישרים המקבילים בסרטוט הבא. נמק.

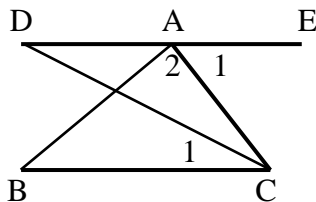




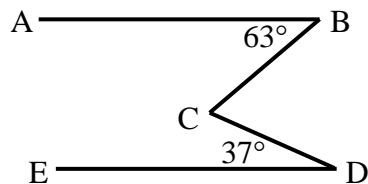
19 בסרטוט שלפניך נתון כי KL הוא קו ישר. שאר הזוויות מופיעות בתרשים. הוכח כי: $AB \parallel CD$.



20 באיור שלפניך נתון כי: $\angle B_1 = \angle C_2$, $\angle ABC = \angle BCD$. הוכח כי: $BN \parallel CK$.



21 באיור שלפניך מופיע קטע ישר DE . מהנקודה A מעבירים את הקטעים AB ו- AC . מחברים את BC וידוע כי $BC \parallel DE$. מעבירים את CD – חוצה זווית C . נתון: $\angle A_1 = 68^\circ$, $\angle A_2 = 85^\circ$.
א. חשב את הזווית $\angle C_1$.
ב. חשב את הזווית $\angle B$.



22 בסרטוט שלפניך נתון: $\angle D = 37^\circ$, $\angle B = 63^\circ$, $AB \parallel DE$. חשב את גודל הזווית BCD .

תשובות סופיות:

16) א. כן ב. לא ג. כן ד. לא.

17) א. 28° ב. 45° ג. 13° ד. 125° .

18) $a \parallel c \parallel d, e \parallel f$.

19) שאלת הוכחה.

20) שאלת הוכחה.

21) א. 34° ב. 27° .

22) $\sphericalangle BCD = 100^\circ$.

הכנה למבחן כניסה למכינה במתמטיקה

פרק 13 - גיאומטריה אוקלידית - משולשים

תוכן העניינים

176	1. הגדרות כלליות
178	2. זוויות במשולשים
181	3. משולש שווה שוקיים ושווה צלעות
183	4. חפיפת משולשים
189	5. זווית חיצונית במשולש
190	6. משולש ישר זווית
193	7. קטע אמצעים במשולש
195	8. מפגש תיכונים במשולש

הגדרות כלליות:

סוגי משולשים:

ניתן למיין את המשולשים לפי זוויות או לפי צלעות.
 לפי זוויות:

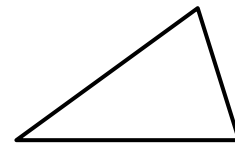
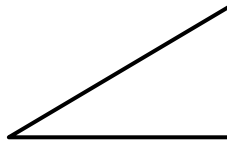
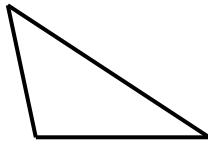
1. משולש חד זווית – משולש שכל זוויותיו חדות.
2. משולש ישר זווית – משולש בעל זווית ישרה.
3. משולש קהה זווית – משולש בעל זווית קהה.

לפי צלעות:

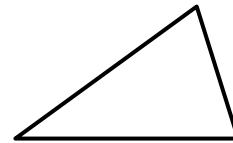
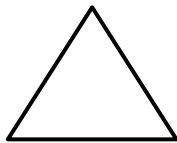
4. משולש שונה צלעות – משולש שבו כל הצלעות שונות באורכן.
5. משולש שווה שוקיים – משולש שבו שתי צלעות שוות.
6. משולש שווה צלעות – משולש שבו כל הצלעות שוות באורכן.

איורים לכל מקרה לפי המספרים:

1. משולש חד זווית: 2. משולש ישר זווית: 3. משולש קהה זווית:



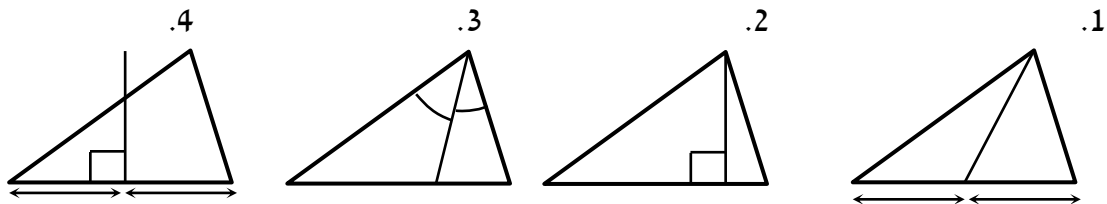
4. משולש שונה צלעות: 5. משולש שווה שוקיים: 6. משולש שווה צלעות:



קטעים מיוחדים במשולשים:

1. תיכון – קטע היוצא מקדקוד לצלע שממולו וחוצה אותה.
2. גובה – קטע היוצא מקדקוד לצלע שממולו ומאונך לה.
3. חוצה זווית – קטע היוצא מקדקוד וחוצה את הזווית שממנה הוא יוצא.
4. אנך אמצעי – קטע היוצא מאמצע צלע ומאונך לה.

איורים לכל מקרה לפי המספרים:



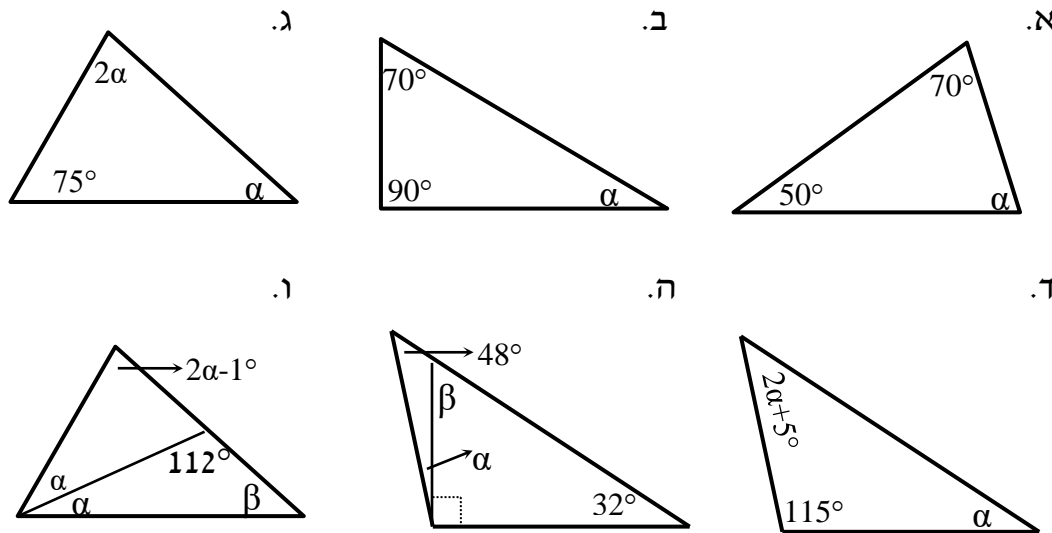
משפטים כלליים במשולשים:

- סכום הזוויות במשולש הוא 180° .
- סכום שתי צלעות במשולש גדול מהצלע השלישית.
- במשולש מול הזווית הגדולה נמצאת הצלע הגדולה ולהפך.
- במשולש מול הזווית הקטנה נמצאת הצלע הקטנה ולהפך.
- במשולש מול זוויות שוות נמצאות צלעות שוות ולהפך.

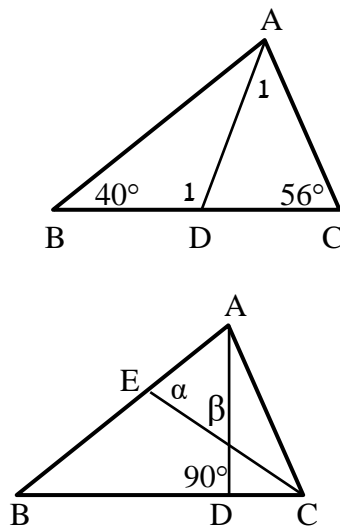
זוויות במשולשים:

שאלות:

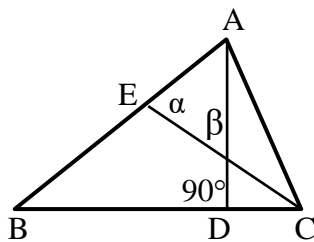
(1) חשב את הזוויות בכל אחד מהמשולשים שלפניך:



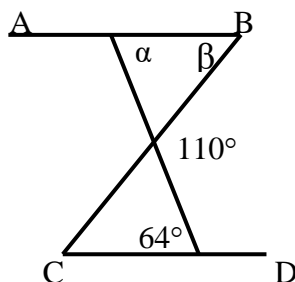
(2) במשולש שלפניך נתון AD חוצה זווית A.
 נתון: $\angle B = 40^\circ$, $\angle C = 56^\circ$.
 חשב את הזוויות $\angle A_1$, $\angle D_1$.



(3) נתון משולש ABC ובו AD גובה לצלע BC.
 $\angle D = 90^\circ$ הקטע CE חוצה זווית C.
 כמו כן: $\alpha = 75^\circ$, $\beta = 63^\circ$.
 חשב את זוויות המשולש ABC.

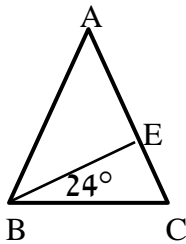
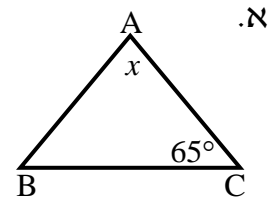
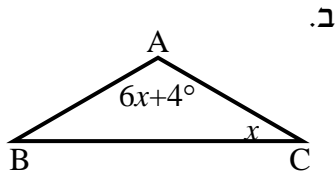


(4) בסרטוט שלפניך נתון: $AB \parallel CD$.
 מצא את הזוויות α ו- β .



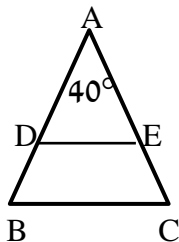
(5) שלוש זוויות המשולש מתייחסות זו לזו כמו: 1:2:6.
 חשב את זוויות המשולש.

- 6 בסרטטים שלפניך נתונים משולשים שווי שוקיים ($AB = AC$) שאחת מזוויותיהם נתונה. מצא את הגודל x בכל סרטוט.

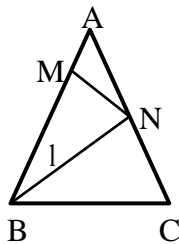


- 7 הגובה לשוק המשולש שווה השוקיים ABC , ($AB = AC$), יוצר זווית בת 24° עם הבסיס BC . מצא את זוויות המשולש ABC .

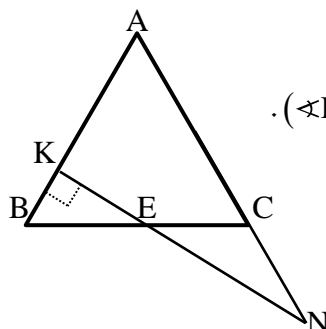
- 8 חשב את זוויות המשולשים בכל אחד מהמקרים הבאים:
- א. במשולש שווה שוקיים, זווית הבסיס גדולה פי ארבעה מזווית הראש. מצא את זוויות המשולש.
- ב. במשולש שווה שוקיים, זווית הבסיס גדולה ב- 12° מזווית הראש. מצא את זוויות המשולש.



- 9 באיור שלפניך נתון: $AD = AE$, $AB = AC$, $\angle A = 40^\circ$.
- א. חשב את הזוויות: $\angle B$, $\angle C$, $\angle D$, $\angle E$.
- ב. הוכח: $DE \parallel BC$.



- 10 באיור שלפניך נתון: $AB = AC$. מעבירים את הקטעים BN ו- MN כך שמתקיים: $BM = BN = BC$. נתון בנוסף: $\angle A = 32^\circ$. חשב את זוויות: $\angle B_1$, $\angle ANM$.



- 11 משולש ABC הוא שווה שוקיים ($AB = AC$). בנקודה K כלשהי על AB מעלים אנך ל- AB ($\angle K = 90^\circ$). אנך זה חותך את BC בנקודה E ואת המשך AC בנקודה N . מתקיים: $CE = CN$. חשב את זוויות המשולש ABC .

תשובות סופיות:

- (1) א. $\alpha = 60^\circ$ ב. $\alpha = 20^\circ$ ג. $\alpha = 35^\circ$ ד. $\alpha = 20^\circ$
 ה. $\alpha = 10^\circ, \beta = 58^\circ$ ו. $\alpha = 37\frac{2}{3}^\circ, \beta = 30\frac{1}{3}^\circ$
- (2) $\sphericalangle A_1 = 42^\circ, \sphericalangle D_1 = 98^\circ$
- (3) $\sphericalangle A = 78^\circ, \sphericalangle B = 48^\circ, \sphericalangle C = 54^\circ$
- (4) $\alpha = 64^\circ, \beta = 46^\circ$
- (5) $20^\circ, 40^\circ, 120^\circ$
- (6) א. $x = 50^\circ$ ב. $x = 22^\circ$
- (7) $\sphericalangle A = 48^\circ, \sphericalangle B = \sphericalangle C = 66^\circ$
- (8) א. $20^\circ, 80^\circ, 80^\circ$ ב. $52^\circ, 64^\circ, 64^\circ$
- (9) א. $\sphericalangle B = \sphericalangle C = \sphericalangle D = \sphericalangle E = 70^\circ$ ב. שאלת הוכחה
- (10) א. $\sphericalangle B_1 = 42^\circ, \sphericalangle ANM = 37^\circ$
- (11) $\sphericalangle A = \sphericalangle B = \sphericalangle C = 60^\circ$

משולש שווה שוקיים ושווה צלעות:

סיכום כללי:

משפטים במשולש שווה שוקיים:

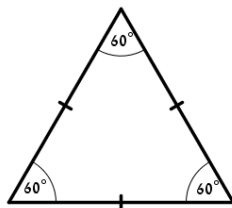
- במשולש שווה שוקיים זוויות הבסיס שוות זו לזו. (משפט הפוך) משולש שבו שתי זוויות שוות הוא משולש שווה שוקיים.
- במשולש שווה שוקיים חוצה זווית הראש, הגובה לבסיס והתיכון לבסיס מתלכדים. (משפט הפוך) משולש שבו חוצה זווית הוא גם גובה או חוצה זווית הוא גם תיכון או גובה הוא גם תיכון הוא משולש שווה שוקיים.

משפטים במשולש שווה צלעות:

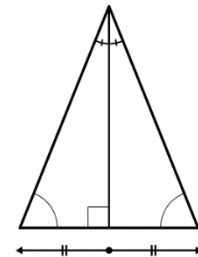
- במשולש שווה צלעות כל הזוויות שוות 60° . (משפט הפוך) משולש שבו כל הזוויות שוות הוא משולש שווה צלעות.

איורים:

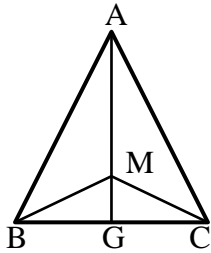
משפט במשולש שווה צלעות



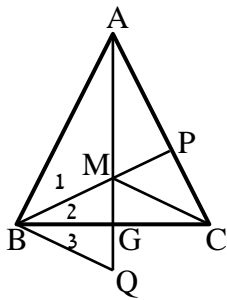
משפט במשולש שווה שוקיים



שאלות:



- 12** המשולש ABC שבציור הוא שווה שוקיים ($AB=AC$).
 AG חוצה את זווית $\sphericalangle A$.
 M היא נקודה כלשהי על AG.
 הוכח כי: $BM = CM$.



- 13** המשולש ABC שבציור הוא שווה שוקיים ($AB=AC$).
 AG ו-BP חוצים את הזוויות $\sphericalangle A$ ו- $\sphericalangle ABC$ בהתאמה.
 הנקודה Q נמצאת על המשך AG.
 נתון: $GM = GQ$.
 הוכח: $\sphericalangle B_1 = \sphericalangle B_3$.

תשובות סופיות:

- 12** שאלת הוכחה.
13 שאלת הוכחה.

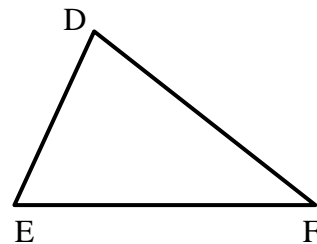
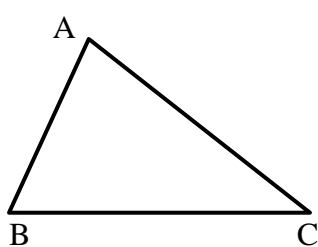
חפיפת משולשים:

סיכום כללי:

הגדרה:

משולשים חופפים הם משולשים ששווים זה לזה בכל צלעותיהם ובכל זוויותיהם בהתאמה.

$$\Delta ABC \cong \Delta DEF \Leftrightarrow \begin{cases} AB = DE, AC = DF, BC = EF \\ \sphericalangle A = \sphericalangle D, \sphericalangle B = \sphericalangle E, \sphericalangle C = \sphericalangle F \end{cases} \text{ סימון מתמטי:}$$

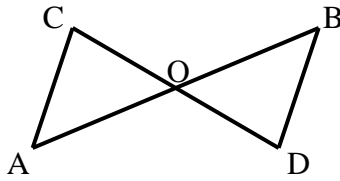


משפטי החפיפה:

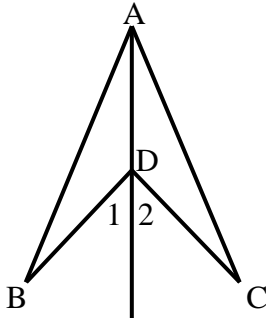
- משפט חפיפה צלע-זווית-צלע (צ.ז.צ.):
אם בין שני משולשים שוות שתי צלעות והזווית שביניהן בהתאמה אז המשולשים חופפים.
- משפט חפיפה זווית-צלע-זווית (ז.צ.ז.):
אם בין שני משולשים שוות שתי זוויות והצלע שביניהן בהתאמה אז המשולשים חופפים.
- משפט חפיפה צלע-צלע-צלע (צ.צ.צ.):
אם בין שני משולשים שוות שלוש צלעות בהתאמה אז המשולשים חופפים.
- משפט חפיפה צלע-צלע-והזווית הגדולה (צ.צ.ז):
אם בין שני משולשים שוות שתי צלעות והזווית שמול הצלע הגדולה מביניהן בהתאמה אז המשולשים חופפים.

שאלות:

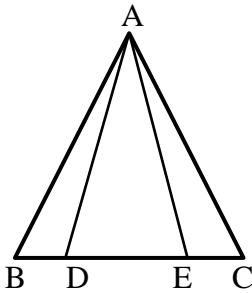
שאלות העוסקות במשפט חפיפה צלע-זווית-צלע:



- 14) באיור שלפניך הקטעים AB ו-CD חוצים זה את זה בנקודה O.
 הוכח: $\triangle ACO \cong \triangle BDO$.

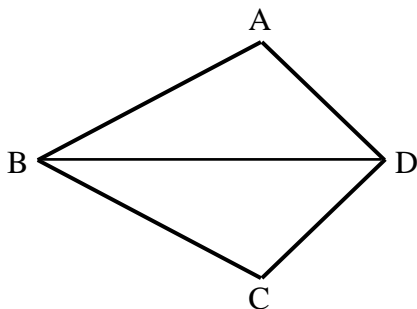


- 15) באיור שלפניך נתון: $BD = CD$.
 כמו כן: $\angle D_1 = \angle D_2$.
 הוכח: $\triangle ABD \cong \triangle ACD$.

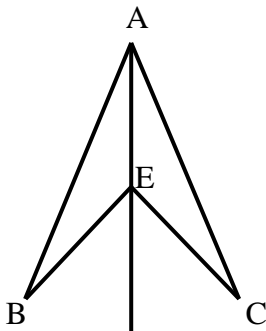


- 16) בסרטוט שלפניך נתון:
 $AB = AC$, $\angle B = \angle C$, $BE = CD$.
 הוכח: $\triangle ABD \cong \triangle ACE$.

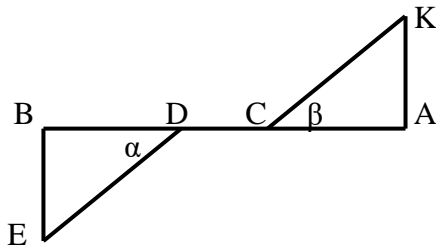
שאלות העוסקות במשפט חפיפה זווית-צלע-זווית:



- 17) במרובע ABCD נתון כי BD חוצה את זוויות B ו-D.
 הוכח: $\triangle ABD \cong \triangle CBD$.



- 18) בסרטוט שלפניך נתון:
 AE חוצה את הזוויות BEC ו-BAC.
 הוכח: $\triangle ABE \cong \triangle ACE$.



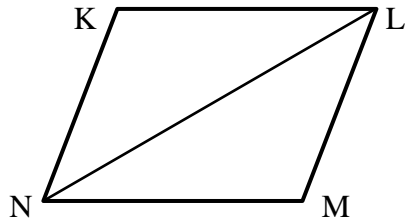
19) בציור שלפניך נתון:

$$AC = BD, \alpha = \beta$$

$$AB \perp BE, AB \perp AK$$

הוכח: $\triangle AKC \cong \triangle BED$

שאלות העוסקות במשפט חפיפה צלע-צלע-צלע:

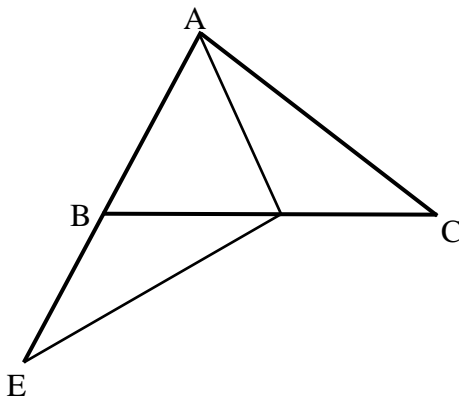


20) באיור שלפניך נתון:

$$KL = MN, KN = LM$$

הוכח: $\triangle KLN \cong \triangle MLN$

שאלות העוסקות במשפט חפיפה צלע-צלע-זווית שמול הצלע הגדולה:

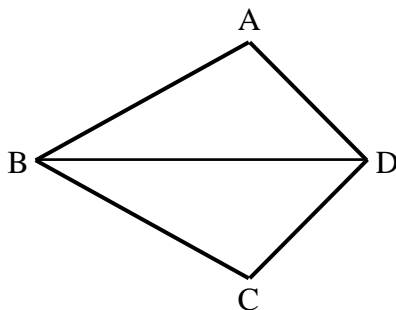


21) בציור שלפניך נתון:

$$AC = DE, AB = BE = AD$$

הוכח כי הנקודה D היא אמצע BC.

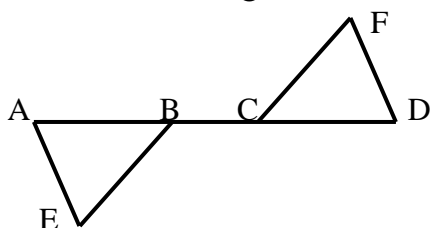
שאלות העוסקות בשלושת משפטי החפיפה יחדיו:



22) במרובע ABCD נתון:

$$AB = BC, AD = CD$$

הוכח: $\sphericalangle A = \sphericalangle C$

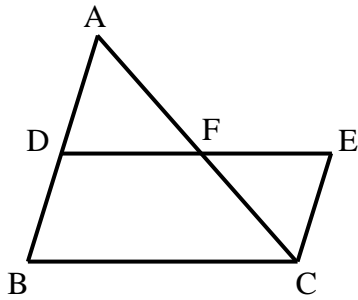


23) הקטע AD הוא קו ישר.

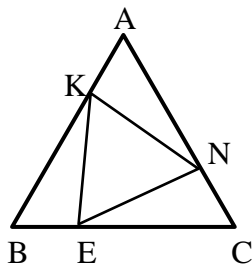
$$AE = DF, AC = BD$$

$$\sphericalangle A = \sphericalangle D$$

הוכח כי הקטעים BE ו-FC שווים.

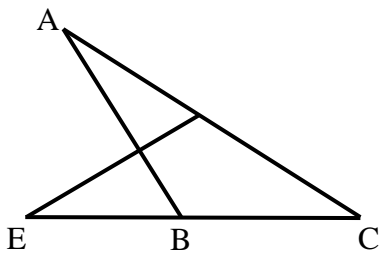


- (24)** באיור שלפניך נתון:
 הנקודה F היא אמצע הקטע AC.
 מתקיים: $\angle BAC = \angle ACE$.
 הקטעים BD ו-CE שווים.
 הוכח את הטענות הבאות:
 א. F היא אמצע הקטע DE.
 ב. D היא אמצע הקטע AB.

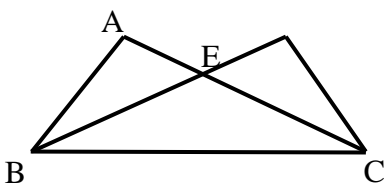


- (25)** המשולש ABC הוא שווה צלעות.
 נתון: $AK = BE = CN$.
 הוכח כי $\triangle KEN$ הוא גם משולש שווה צלעות.

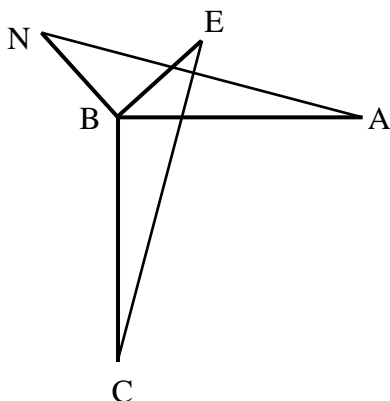
שאלות העוסקות במשולשים המכסים חלקית זה את זה:



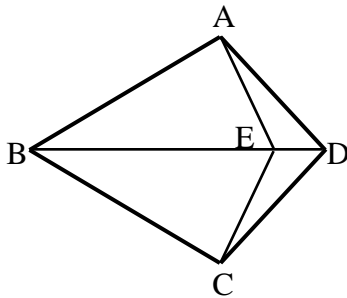
- (26)** באיור שלפניך נתון: $AC = CE$, $DC = BC$.
 הוכח:
 א. $\triangle CDE \cong \triangle CBA$.
 ב. $\angle ADE = \angle ABE$.



- (27)** באיור שלפניך נתון:
 $\angle DBC = \angle ACB$, $\angle ABC = \angle DCB$.
 הוכח: $AB = CD$.



- (28)** באיור שלפניך נתון:
 $AB = BC$, $BE = BN$
 $AB \perp BC$, $BE \perp BN$
 הוכח: $AN = CE$.

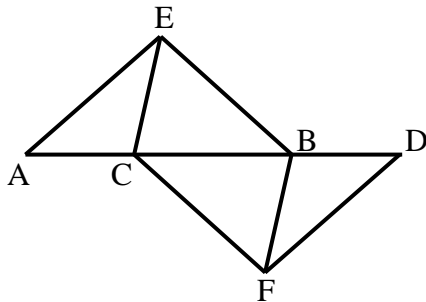
שאלות העוסקות בשתי חפיפות:


29) בסרטוט שלפניך נתון כי BD הוא קו ישר.

מתקיים: $AD = CD$, $AB = BC$.

הנקודה E נמצאת על BD.

הוכח כי: $AE = CE$.



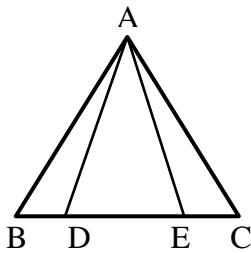
30) בציור שלפניך נתון כי AD הוא קו ישר. מתקיים:

$\angle AEC = \angle DFB$, $\angle A = \angle D$

וכן $AE = DF$. הוכח:

א. $CE = BF$

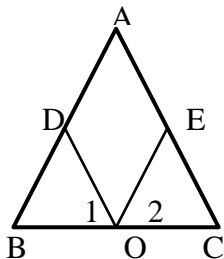
ב. $BE = CF$


שאלות העוסקות בחפיפות עם משולש שווה שוקיים:

31) נתון משולש שווה שוקיים $\triangle ABC$, $(AB = AC)$.

מתקיים: $BD = CE$.

הוכח: $AD = AE$.



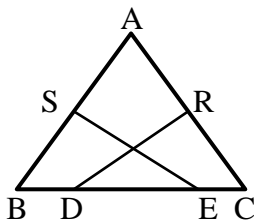
32) בסרטוט שלפניך נתון משולש

שווה שוקיים $\triangle ABC$, $(AB = AC)$.

הנקודה O היא אמצע BC.

מתקיים: $\angle O_1 = \angle O_2$.

הוכח: $AD = AE$.

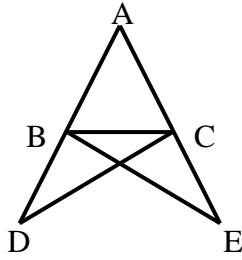


33) במשולש שווה שוקיים $\triangle ABC$, $(AB = AC)$

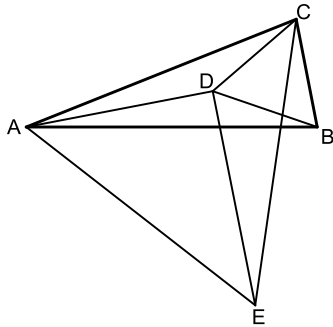
הנקודות S ו-R הן אמצעי השוקיים.

ידוע כי $BD = CE$.

הוכח כי: $SE = RD$.



34 נתון משולש ABC . הקטעים AD ו- AE ישרים ונתון בנוסף כי: $DC = BE$, $BD = CE$. הוכח: $AB = AC$.



35 המשולש ABC הוא שווה שוקיים ($AB = AC$). על השוק AC ועל הבסיס BC בונים משולשים שווים צלעות ACE ו- BCD . מחברים את הנקודה D עם הקדקודים A ו- E .
 א. הוכח: $\triangle ABD \cong \triangle ACD$.
 ב. ידוע גם כי: $DE \parallel BC$.
 הוכח: $\angle ADE = 90^\circ$.

תשובות סופיות:

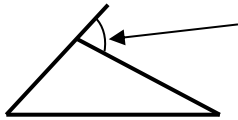
- 14 שאלת הוכחה.
- 15 שאלת הוכחה.
- 16 שאלת הוכחה.
- 17 שאלת הוכחה.
- 18 שאלת הוכחה.
- 19 שאלת הוכחה.
- 20 שאלת הוכחה.
- 21 שאלת הוכחה.
- 22 שאלת הוכחה.
- 23 שאלת הוכחה.
- 24 שאלת הוכחה.
- 25 שאלת הוכחה.
- 26 שאלת הוכחה.
- 27 שאלת הוכחה.
- 28 שאלת הוכחה.
- 29 שאלת הוכחה.
- 30 שאלת הוכחה.
- 31 שאלת הוכחה.
- 32 שאלת הוכחה.
- 33 שאלת הוכחה.
- 34 שאלת הוכחה.
- 35 שאלת הוכחה.

זווית חיצונית במשולש:

סיכום כללי:

הגדרה:

זווית חיצונית למשולש היא זווית הכלואה בין צלע במשולש להמשך צלע הסמוכה לה.



משפט:

זווית חיצונית למשולש שווה לסכום שתי הזוויות הפנימיות שאינן צמודות לה.

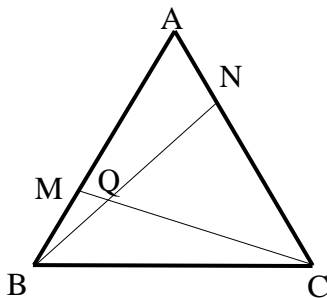
שאלות:

36 הוכח את המשפט: "זווית חיצונית למשולש שווה לסכום שתי הזוויות הפנימיות שאינן צמודות לה.

37 המשולש ABC שבציור הוא משולש שווה צלעות.

נתון: $AN = BM$.

הוכח: $\angle NQC = 60^\circ$.



תשובות סופיות:

36 שאלת הוכחה.

37 שאלת הוכחה.

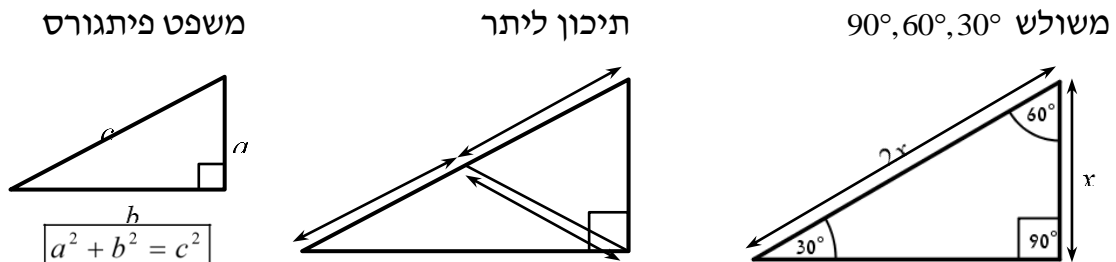
משולש ישר זווית:

סיכום כללי:

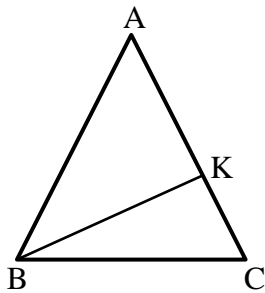
משפטים במשולש ישר זווית:

- סכום הזוויות החדות במשולש ישר זווית הוא 90° .
- במשולש שזוויותיו 90° , 60° , 30° , הניצב שמול הזווית של ה- 30° שווה למחצית היתר. (משפט הפוך ל-2) אם במשולש ישר זווית אחד הניצבים שווה למחצית היתר, אז הזווית שמול ניצב זה היא בת 30° .
- במשולש ישר זווית התיכון ליתר שווה למחצית היתר. (משפט הפוך ל-4) אם במשולש תיכון שווה למחצית הצלע אותה הוא חוצה, אז המשולש ישר זווית (כאשר הזווית ממנה יוצא התיכון היא הזווית הישרה).
- משפט פיתגורס: במשולש ישר זווית סכום ריבועי הניצבים שווה לריבוע היתר. כלומר: $(\text{יתר})^2 = (\text{ניצב})^2 + (\text{ניצב})^2$.
- (משפט הפוך למשפט פיתגורס) אם במשולש סכום ריבועי שתי צלעות שווה לריבוע הצלע השלישית, אז המשולש ישר זווית.

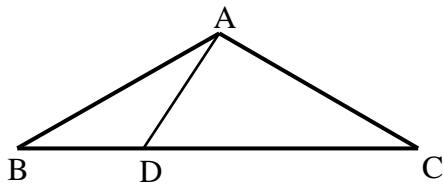
איורים:



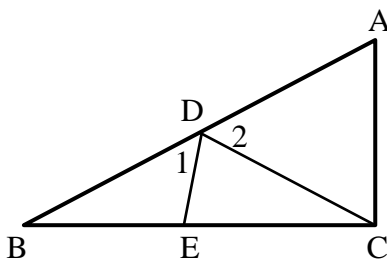
שאלות:



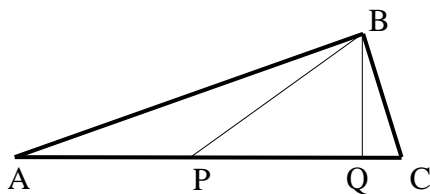
- 38** באיור שלפניך נתון משולש שווה שוקיים ABC ($AB = AC$).
 זווית הבסיס: $\angle C = 75^\circ$
 וכן: 16 ס"מ $AC =$. מעבירים גובה BK לשוק AC .
 מצא את אורך הגובה BK .



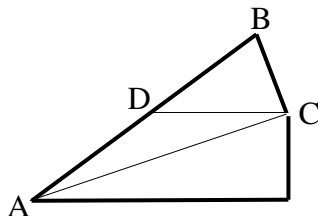
- 39** המשולש ABC שבציור הוא משולש שווה שוקיים ($AB = AC$).
 נתון: $\angle ABD = 30^\circ$, $\angle DAC = 90^\circ$,
 18 ס"מ $BC =$.
 חשב את אורכו של הקטע BD .



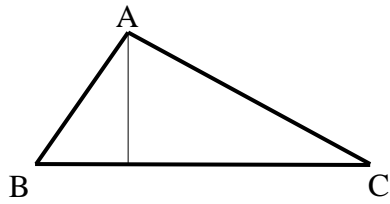
- 40** המשולש $\triangle ABC$ הוא ישר זווית ($\angle C = 90^\circ$).
 מעבירים תיכון CD ליתר AB במשולש.
 הנקודה E נמצאת על BC כך ש- $CD = CE$.
 ידוע כי: $\angle CED = 80^\circ$.
 מצא את הזוויות: $\angle D_1$, $\angle D_2$.



- 41** המשולש ABC שבציור הוא משולש ישר זווית ($\angle ABC = 90^\circ$).
 BQ הוא הגובה ליתר AC ו- BP הוא התיכון ליתר AC .
 נתון: $BQ = \frac{1}{2} BP$.
 חשב את גודלה של הזווית C .



- 42** המשולש BCD שבציור הוא משולש שווה שוקיים ($BD = DC$).
 AC חוצה את הזווית $\angle BAE$.
 נתון: $DC \parallel AE$.
 חשב את גודלה של הזווית $\angle ACB$.



- (43) AD הוא גובה במשולש ABC.
 נתון: $AB = 15$ ס"מ, $AC = 20$ ס"מ, $BC = 25$ ס"מ.
- א. מצא את אורכו של AD ואת שטח המשולש ABC.
- ב. האם המשולש ABC ישר זווית? נמק.

תשובות סופיות:

- (38) 8 ס"מ.
- (39) 6 ס"מ.
- (40) $\angle D_1 = 60^\circ$, $\angle D_2 = 40^\circ$
- (41) 75°
- (42) 90°
- (43) א. $AD = 12$ ס"מ, $S_{ABC} = 150$ סמ"ר. ב. כן.

קטע אמצעים במשולש:

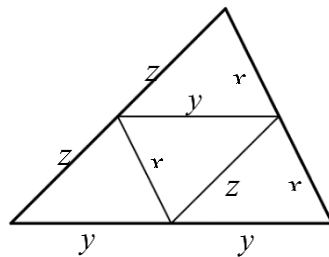
סיכום כללי:

הגדרה:

קטע המחבר אמצעי שתי צלעות במשולש נקרא קטע אמצעים במשולש.

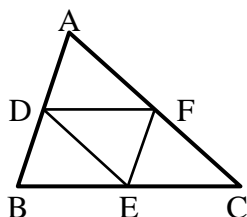
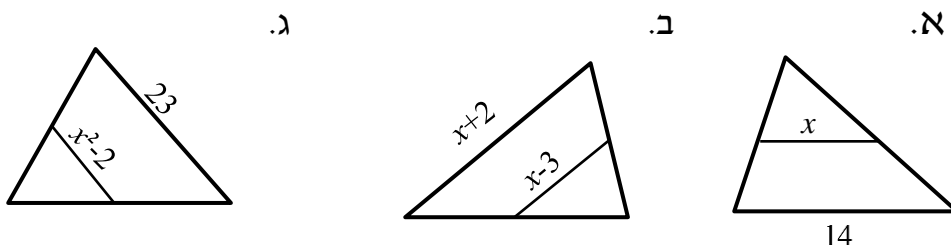
- קטע אמצעים במשולש מקביל לצלע השלישית ושווה למחציתה.
- (משפט הפוך 1): קטע היוצא מאמצע צלע במשולש ומקביל לצלע השלישית חוצה את הצלע השנייה (כלומר הוא קטע אמצעים במשולש).
- (משפט הפוך 2): קטע המחבר שתי צלעות במשולש, מקביל לצלע השלישית ושווה למחציתה הוא קטע אמצעים במשולש.

איור – קטע אמצעים במשולש:

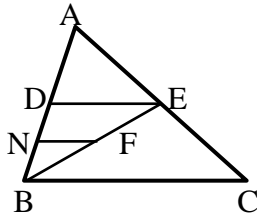


שאלות:

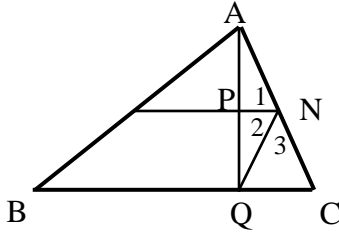
44) לפינת משולשים עם קטע אמצעים בתוכם. מצא את x בכל אחד מהמקרים:



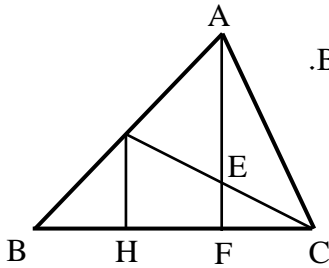
45) הנקודות D, E ו-F הם נקודות האמצע במשולש $\triangle ABC$. נתון: $DE = 9$ ס"מ, $EF = 12$ ס"מ, $DF = 10$ ס"מ. חשב את היקף המשולש $\triangle ABC$.



- 46) הקטע DE הוא קטע אמצעים במשולש $\triangle ABC$.
 הקטע FN הוא קטע אמצעים במשולש $\triangle BDE$.
 נתון: 3 ס"מ = NF. מצא את אורך הצלע BC.



- 47) הקטע MN הוא קטע אמצעים במשולש $\triangle ABC$.
 AQ הוא גובה לצלע BC.
 הוכח: $\sphericalangle N_1 = \sphericalangle N_2$.



- 48) AF הוא גובה לצלע BC ו-GC הוא תיכון לצלע AB במשולש $\triangle ABC$.
 א. הוכח: $HF = BH$.
 ב. נתון בנוסף כי הגובה AF חוצה את התיכון GC ושגודלו של AF הוא 12 ס"מ.
 חשב את אורך הקטע EF.

תשובות סופיות:

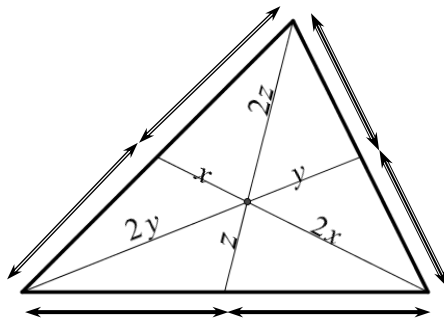
- 44) א. $x = 7$ ב. $x = 8$ ג. $x = \sqrt{13.5}$
- 45) 62 ס"מ.
- 46) 12 ס"מ.
- 47) שאלת הוכחה.
- 48) א. שאלת הוכחה. ב. 3 ס"מ.

מפגש תיכונים במשולש:

סיכום כללי:

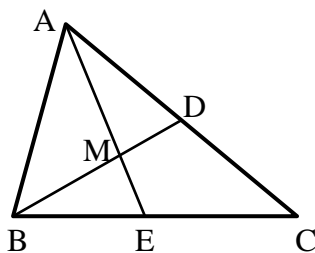
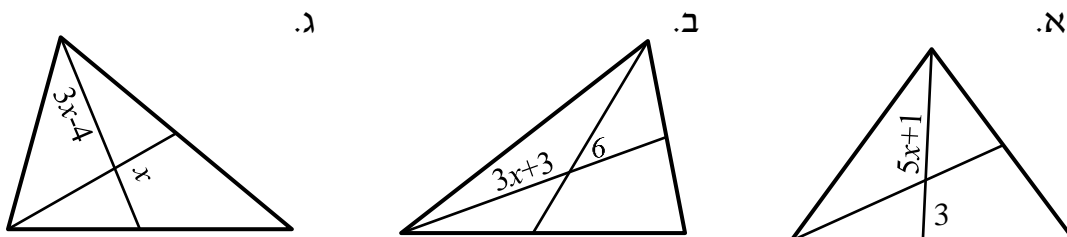
- שלושת התיכונים במשולש נפגשים בנקודה אחת המחלקת כל תיכון ביחס של 2:1 כך שהחלק הקצר קרוב לצלע.
- אם נקודה מחלקת תיכון (אחד) במשולש ביחס של 2:1 כך שהחלק הקצר קרוב לצלע, נקודה זו היא מפגש התיכונים במשולש.
- נקודת מפגש התיכונים במשולש נקראת גם מרכז הכובד של המשולש.

איור – מפגש תיכונים במשולש:



שאלות:

49) הקטעים שבמשולשים הם תיכונים. מצא את x בכל אחד מהמקרים הבאים:

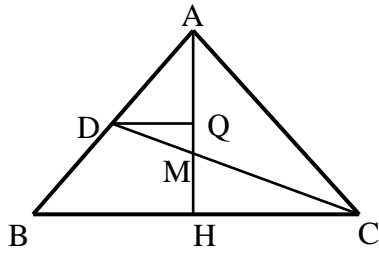


50) הקטעים AE ו-BD הם תיכונים במשולש $\triangle ABC$

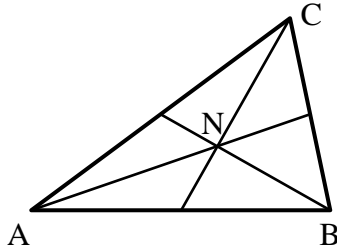
אשר נחתכים בנקודה M.

נתון: $AD = AM$ וכן: $AC = 30$ ס"מ.

חשב את AE.



- (51)** המשולש $\triangle ABC$ שבציור הוא מש"ש
 ($AB = AC$) שבו AH הוא הגובה לבסיס BC .
 CD , התיכון לשוק AB ,
 יוצר זווית של 30° עם הבסיס BC .
 נתון: $BC = 12\sqrt{3}$ ס"מ, $DQ \parallel BC$.
 חשב את אורך הקטע MQ .



- (52)** במשולש $\triangle ABC$ נחתכים התיכונים בנקודה N .
 נתון: $\angle CNB = 90^\circ$.
 הוכח: $BC = AN$.

תשובות סופיות:

- (49)** א. $x = 1$ ב. $x = 3$ ג. $x = 4$
(50) 22.5 ס"מ.
(51) 3 ס"מ.
(52) שאלת הוכחה.

הכנה למבחן כניסה למכינה במתמטיקה

פרק 14 - גיאומטריה אוקלידית - מרובעים

תוכן העניינים

197	1. מרובע כללי
199	2. המקבילית
204	3. המלבן
207	4. המעוין
210	5. הריבוע
212	6. הטרפז
218	7. הדלתון
220	8. סיכום משפחת המרובעים

מרובע כללי:

סיכום כללי:

הגדרה: מרובע הוא מצולע בעל 4 צלעות.

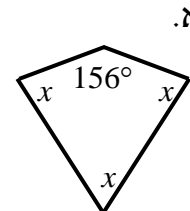
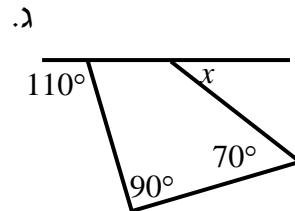
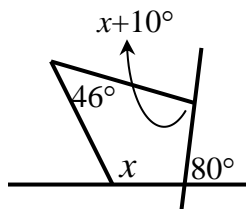
משפט: סכום זוויות במרובע הוא 360° .

שאלות:

1) בסרטוטים שלפניך מופיעים מרובעים שונים.

חלק מהזוויות מסומנות ב- x .

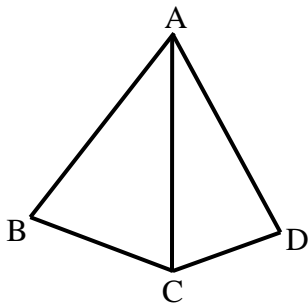
מצא את x ואת הזוויות של כל מרובע.



2) מצא את זוויות המרובע בכל אחד מהמקרים הבאים:

כל זווית במרובע (פרט לראשונה) גדולה ב- 10° מהזווית הקודמת לה.

זוויות המרובע מתייחסות זו לזו כמו: 1: 2: 3: 4.

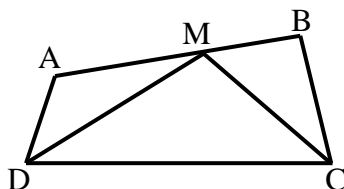


3) המשולשים ABC ו-ACD שבציור הם משולשים

שווי שוקיים ($AB = AC = AD$).

נתון: $\angle BAD = 80^\circ$.

חשב את גודלה של הזווית BCD.



4) בסרטוט שלפניך נתון מרובע ABCD.

CM חוצה את זווית C ו-DM חוצה את זווית D.

ידוע כי: $CM = DM$, $\angle A = 130^\circ$, $\angle DMC = 110^\circ$.

מצא את שאר זוויות המרובע ABCD.


תשובות סופיות:

- (1) א. $x = 68^\circ$ ב. $x = 50^\circ$ ג. $x = 102^\circ$
- (2) א. $75^\circ, 85^\circ, 95^\circ, 105^\circ$ ב. $36^\circ, 72^\circ, 108^\circ, 144^\circ$
- (3) 140°
- (4) $\sphericalangle B = 90^\circ, \sphericalangle C = \sphericalangle D = 70^\circ$

המקבילית:

סיכום כללי:

הגדרה: מקבילית היא מרובע שבו שני זוגות של צלעות נגדיות מקבילות.



- במקבילית כל שתי צלעות נגדיות שוות זו לזו.
- במקבילית כל שתי זוויות נגדיות שוות.
- במקבילית סכום כל שתי זוויות סמוכות הוא 180° .
- במקבילית האלכסונים חוצים זה את זה.
- היקף מקבילית = סכום הצלעות, שטח מקבילית = צלע · גובה לצלע.

כדי להוכיח כי מרובע הוא מקבילית נשתמש באחת הדרכים הבאות:

- מרובע שבו כל זוג צלעות נגדיות מקבילות הוא מקבילית.
- מרובע שבו כל זוג צלעות נגדיות שוות הוא מקבילית.
- מרובע שבו זוג צלעות שוות ומקבילות הוא מקבילית.
- מרובע שבו כל זוג זוויות נגדיות שוות הוא מקבילית.
- מרובע שאלכסוניו חוצים זה את זה הוא מקבילית.

שאלות:

5 נתונה מקבילית ABCD.

בכל אחד מהסעיפים הבאים הזוויות מיוצגות ע"י תבניות מספר שונות. מצא את זוויות המקבילית בכל מקרה.

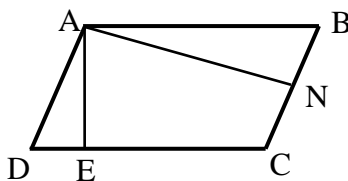


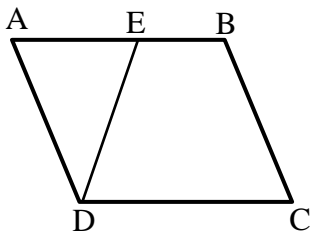
- א. $\angle A = x$, $\angle B = x - 70^\circ$
- ב. $\angle B = 3x - 130^\circ$, $\angle D = x + 10^\circ$
- ג. $\angle A = x + 20^\circ$, $\angle C = 100^\circ - x$

6 המרובע ABCD הוא מקבילית

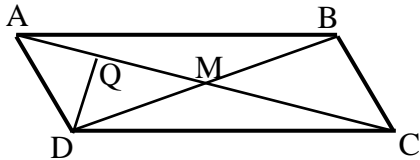
ובו: $AE \perp CD$, $AN \perp BC$

הוכח כי: $\angle DAE = \angle BAN$

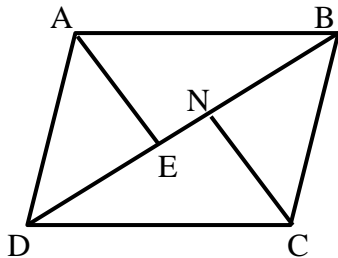




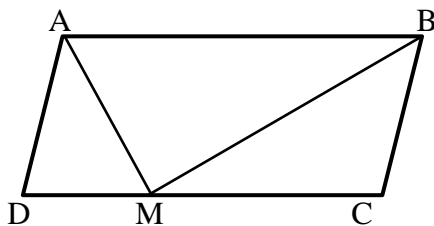
- 7) במקבילית ABCD הנקודה E נמצאת על הצלע AB כך שמתקיים: $DE = BC$. הוכח כי: $\angle EAD = \angle EDC$.



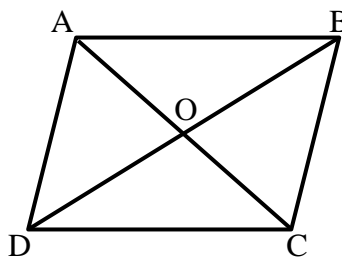
- 8) נתונה מקבילית ABCD שאלכסוניה נפגשים בנקודה M. נתון: $AC = 20$ ס"מ, $BC = \frac{1}{2}BD$ ו- $DQ \perp AC$. חשב את אורך הקטע AQ.



- 9) הוכח כי במקבילית הקדקודים הנגדיים נמצאים במרחקים שווים מאלכסון המקבילית שאינו עובר דרכם, כלומר הוכח: $AE = CN$.

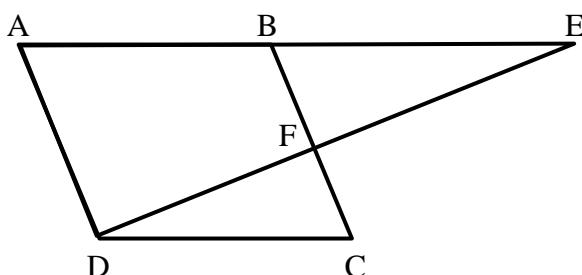


- 10) במקבילית ABCD הקטעים AM ו-BM הם חוצי הזוויות של A ו-B בהתאמה אשר נפגשים בנקודה M שעל הצלע DC. א. הוכח כי: $AB = 2BC$. ב. הוכח כי המשולש AMB הוא ישר זווית.



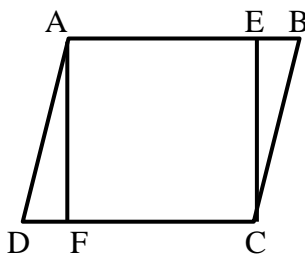
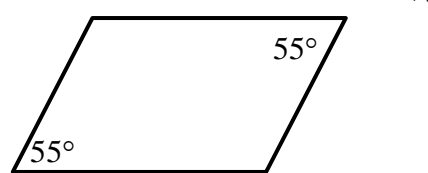
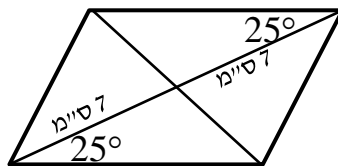
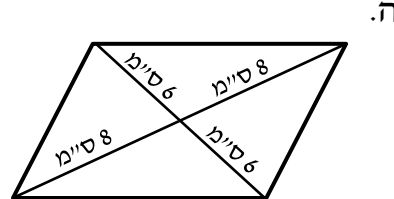
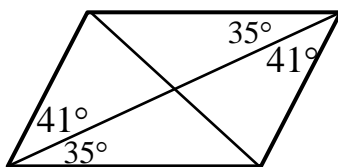
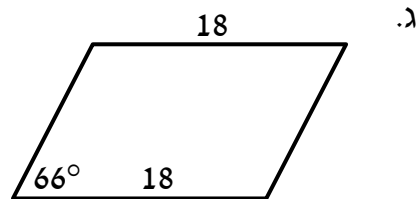
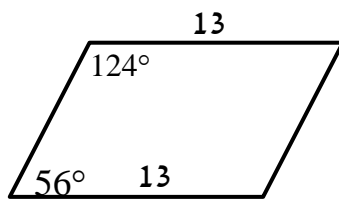
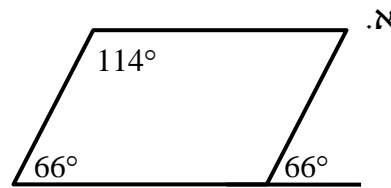
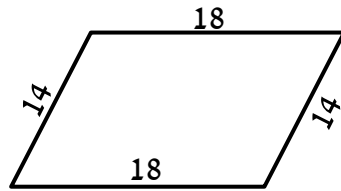
- 11) המרובע ABCD הוא מקבילית. O – פגישת האלכסונים. נתון: $AO = x + 1$, $BO = x + 8$, $DO = 3x - 10$. מצא את אורכי האלכסונים AC ו-BD.

- 12) נתונה מקבילית ABCD ובה: $\angle ADC = 120^\circ$, $\angle BEF = \frac{1}{2} \angle EAD$.

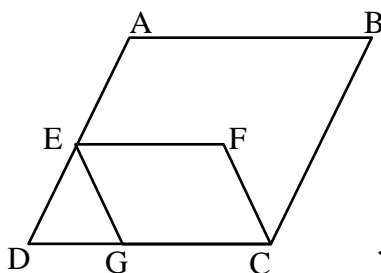


הוכח כי: $BC \perp ED$.

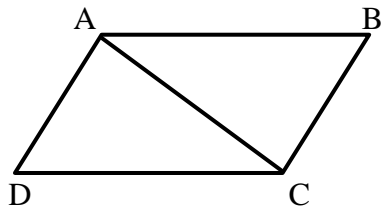
13) בסרטוטים שלפניך מופיעים מרובעים שונים. קבע אלו מהם הם מקביליות וציין מדוע.



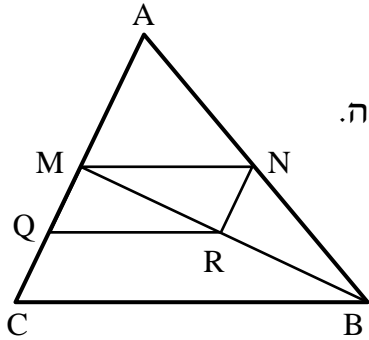
14) במקבילית ABCD הנקודות E ו-F נמצאות על הצלעות AB ו-CD בהתאמה. נתון: $\angle DAF = \angle BCE$. הוכח כי המרובע AECF הוא מקבילית.



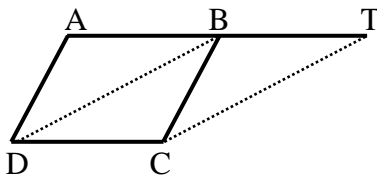
15) במקבילית ABCD הנקודות E ו-G נמצאות על הצלעות AD ו-BC בהתאמה כך שהמשולש DEG הוא שווה צלעות. הנקודה F נמצאת בתוך המקבילית כך שהקטע EF מקביל לצלע AB. א. הוכח: $\angle DAB = \angle EGC$. ב. נתון: $\angle GCF = \angle ABC$. הוכח כי EFCG מקבילית.



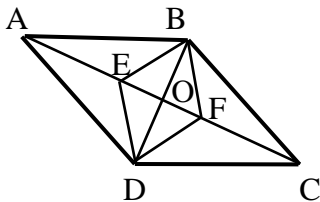
16) במרובע ABCD נתון כי הצלעות AB ו-DC שוות.
כמו כן: $AD \perp AC$, $BC \perp AC$.
הוכח כי המרובע ABCD הוא מקבילית.



17) נתון משולש ABC ובו הקטע MN הוא קטע אמצעים.
הנקודות Q ו-R הן אמצעי הקטעים MC ו-BM בהתאמה.
א. הוכח כי המרובע MNRQ הוא מקבילית.
ב. ידוע כי הקטע AN שווה לקטע QR.
איזה סוג משולש הוא AMB? נמק.



18) את הצלע AB במקבילית ABCD האריכו
כאורכה עד לנקודה T.
הוכח: BTCD מקבילית.
הערה: בסרטון השאלה מוצגת ללא הסרטוט הנתון.



19) הנקודה O היא מפגש אלכסוני המקבילית ABCD. E ו-F הן נקודות על האלכסון AC.
נתון: $AE = FC$.
הוכח כי EBFD הוא מקבילית.

תשובות סופיות:

- 5 א. $125^\circ, 55^\circ$ ב. $100^\circ, 80^\circ$ ג. $120^\circ, 60^\circ$.
 6 שאלת הוכחה.
 7 שאלת הוכחה.
 8 5 ס"מ.
 9 שאלת הוכחה.
 10 שאלת הוכחה.
 11 $BD = 34$ ס"מ, $AC = 20$ ס"מ.
 12 שאלת הוכחה.
 13 מקביליות: א', ב', ד', ה', ו', ח' אינן מקביליות: ג', ז'.
 14 שאלת הוכחה.
 15 שאלת הוכחה.
 16 שאלת הוכחה.
 17 שאלת הוכחה.
 18 שאלת הוכחה.
 19 שאלת הוכחה.

המלבן:

סיכום כללי:

הגדרה: מלבן הוא מרובע שכל זוויותיו ישרות.
 (מסקנה: מלבן הוא סוג של מקבילית).

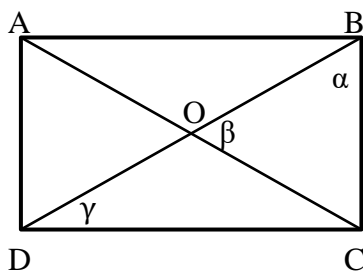
תכונות המלבן (בנוסף לתכונות המקבילית):

- ארבע זוויות המלבן שוות והן זוויות ישרות.
- האלכסונים במלבן שווים זה לזה
- היקף מלבן סכום הצלעות, שטח מלבן צלע גובה לצלע.

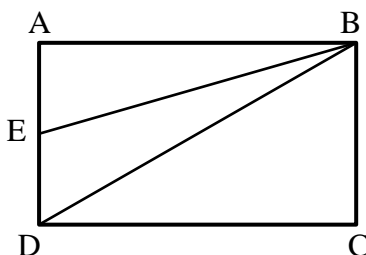
כדי להוכיח כי מרובע הוא מלבן נשתמש באחת הדרכים הבאות:

- מרובע שבו שלוש זוויות ישרות הוא מלבן.
- מקבילית שבה זווית ישרה היא מלבן.
- מקבילית שבה האלכסונים שווים היא מלבן.

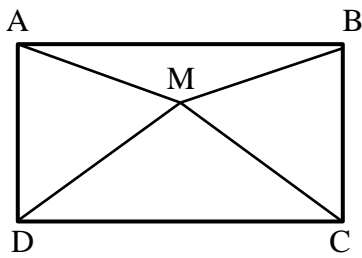
שאלות:



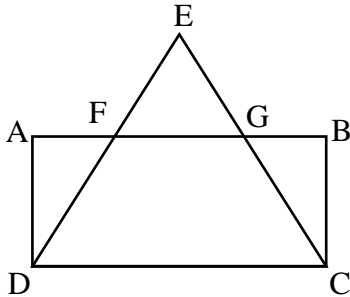
- 20** המרובע ABCD הוא מלבן.
 מעבירים את האלכסונים AC ו-BD.
 חשב את הזוויות α ו- β במקרים הבאים:
- א. β קטנה ב- 15° מ- α .
 - ב. $\alpha = 2\gamma$.
 - ג. $\gamma = 28^\circ$.



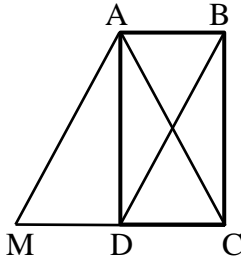
- 21** במלבן ABCD הנקודה E נמצאת על הצלע AD.
 נתון: $\angle AEB = 70^\circ$, $BD = 2BC$.
 חשב את גודלה של הזווית EBD.



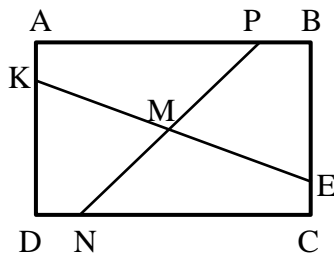
(22) נתון מלבן ABCD שבו $DM = MC$.
הוכח: $\angle MAB = \angle MBA$.



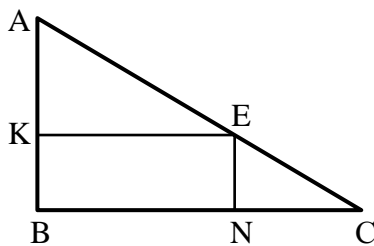
(23) המרובע ABCD הוא מלבן.
המשכי הקטעים DF ו-CG נפגשים
בנקודה E.
נתון: $EF = EG$.
הוכח: $FD = GC$.



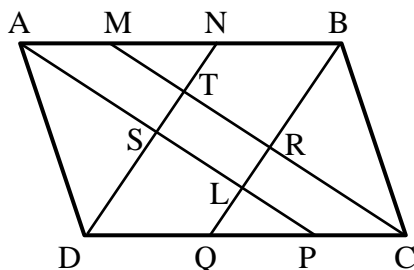
(24) המרובע ABCD הוא מלבן.
המרובע ABDM הוא מקבילית.
הוכח כי המשולש ACM הוא שווה שוקיים.



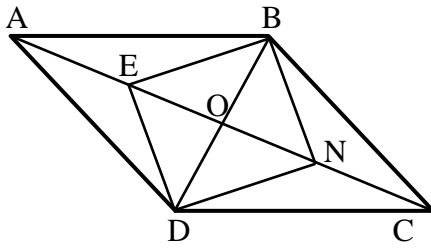
(25) מרובע ABCD הוא מלבן.
נתון: $AP = CN$, $AK = CE$.
הוכח: $KM = EM$, $PM = NM$.



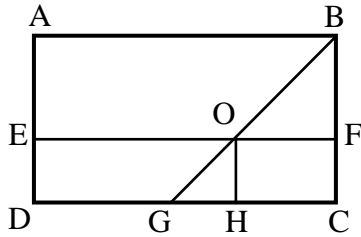
(26) $\triangle ABC$ הוא משולש ישר זווית ($\angle B = 90^\circ$).
המרובע KENB חסום במשולש זה.
נתון כי: $\angle AEK = \angle C$, $\angle NEC = \angle A$.
הוכח כי המרובע KENB הוא מלבן.



(27) נתונה מקבילית ABCD
ובה DN ו- CM , BQ , AP
הם חוצי הזוויות $\angle A$, $\angle B$, $\angle C$ ו- $\angle D$
בהתאמה.
הוכח: $TRLS$ מלבן.



- 28** מרובע ABCD הוא מקבילית.
 מעבירים את האלכסונים AC ו-BD
 אשר נחתכים בנקודה O.
 נתון: $2BD = AC$.
 E – אמצע AO. N – אמצע CO.
 הוכח כי המרובע BNDE הוא מלבן.



- 29** במלבן ABCD נתון:
 $OH \perp DC$, $\angle ABO = \angle BOF$
 הוכח: EOHD הוא מלבן.

תשובות סופיות:

ב. $\alpha = \beta = 60^\circ$, $\gamma = 30^\circ$

20 א. $\alpha = 55^\circ$, $\beta = 70^\circ$, $\gamma = 35^\circ$

ג. $\alpha = 62^\circ$, $\beta = 56^\circ$

21 10°

22 שאלת הוכחה.

23 שאלת הוכחה.

24 שאלת הוכחה.

25 שאלת הוכחה.

26 שאלת הוכחה.

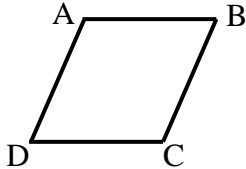
27 שאלת הוכחה.

28 שאלת הוכחה.

29 שאלת הוכחה.

המעוין:

סיכום כללי:



הגדרה: מעוין הוא מרובע שכל צלעותיו שוות.
 (מסקנה: מעוין הוא סוג של מקבילית).

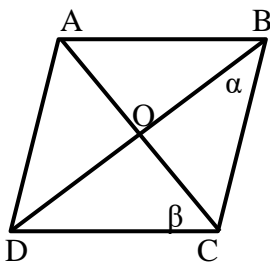
תכונות המעוין (בנוסף לתכונות המקבילית):

- במעוין כל הצלעות שוות.
- במעוין האלכסונים מאונכים זה לזה.
- במעוין האלכסונים הם חוצי זוויות.
- היקף מעוין = צלע $\cdot 4$, שטח מעוין = צלע \cdot גובה לצלע = $(\text{אלכסון} \cdot \text{אלכסון})/2$.

כדי להוכיח כי מרובע הוא מעוין נשתמש באחת הדרכים הבאות:

- מרובע שבו כל הצלעות שוות הוא מעוין.
- מקבילית שבה שתי צלעות סמוכות שוות היא מעוין.
- מקבילית שבה האלכסונים מאונכים זה לזה היא מעוין.
- מקבילית שבה אלכסון חוצה זווית היא מעוין (מספיק אחד).

שאלות:



30) המרובע ABCD הוא מעוין.

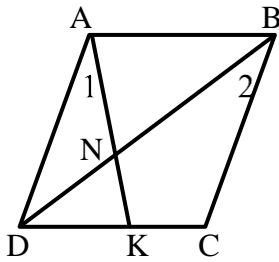
חשב בכל אחד מהמקרים הבאים את α ו- β .

א. $\angle A = 138^\circ$.

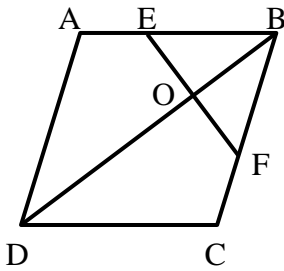
ב. $\beta = 3.5\alpha$.

ג. $\beta = \alpha + 20^\circ$.

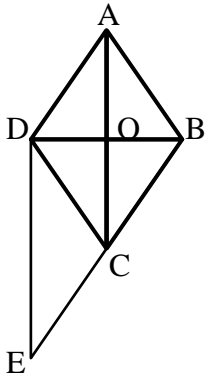
ד. $\angle B = \beta$.



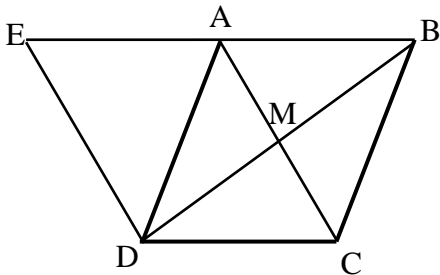
- 31** המרובע ABCD הוא מעוין.
מעבירים את האלכסון BD ואת הקטע AK
אשר נחתכים בנקודה N.
ידוע כי: $\angle A_1 = \angle B_2$.
א. הוכח כי המשולש ADN הוא שווה שוקיים.
ב. הוכח כי: $\angle AND = \angle C$.



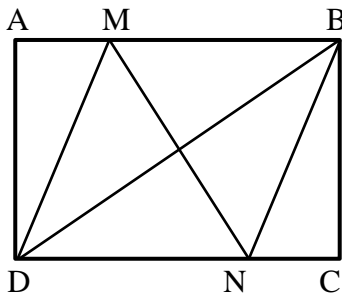
- 32** מעוין ABCD הנקודות E ו-F
נמצאות על הצלעות AB ו-BC בהתאמה.
נתון: $\angle DCB = 120^\circ$, $EF \perp BD$.
הוכח כי משולש EBF הוא שווה צלעות.



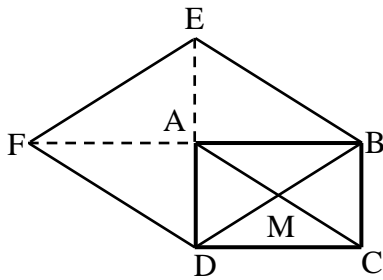
- 33** נתון מעוין ABCD.
הנקודה E נמצאת על המשך הצלע BC.
נתון: $\angle CDE = \angle BCA$.
הוכח כי המשולש BDE הוא ישר זווית.



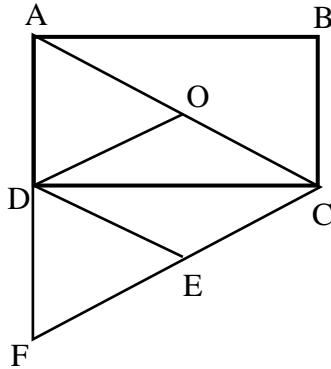
- 34** נתון מעוין ABCD שאלכסונו נפגשים בנקודה M.
האריכו את הצלע AB עד לנקודה E
כך שמתקיים: $DE \perp BD$.
הוכח: $AD = AE$.



- 35** במלבן ABCD מעבירים את האלכסון BD.
הנקודות M ו-N נמצאות על הצלעות AB
ו-DC בהתאמה.
נתון: $AM = CN$ ו- $DM = DN$.
הוכח כי הקטע MN חוצה את
הזוויות BMD ו-BND.



36 נתון מלבן ABCD שאלכסונו נפגשים בנקודה M. האריכו את הצלע AB כאורכה עד לנקודה F ואת הצלע AD כאורכה עד לנקודה E כמתואר בשרטוט. הוכח: המרובע EBDF הוא מעוין.



37 ABCD הוא מלבן שאלכסונו נחתכים בנקודה O. הנקודה F נמצאת על המשך הצלע AD כך שמתקיים: $AD = DF$. נתון: $FE = CE$. הוכח כי DOCE הוא מעוין.

תשובות סופיות:

ב. $\alpha = 20^\circ, \beta = 70^\circ$

ד. $\alpha = 30^\circ, \beta = 60^\circ$

30 א. $\alpha = 21^\circ, \beta = 69^\circ$

ג. $\alpha = 35^\circ, \beta = 55^\circ$

31 שאלת הוכחה.

32 שאלת הוכחה.

33 שאלת הוכחה.

34 שאלת הוכחה.

35 שאלת הוכחה.

36 שאלת הוכחה.

37 שאלת הוכחה.

הריבוע:

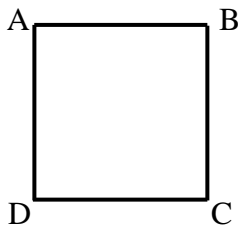
סיכום כללי:

הגדרה: ריבוע הוא מרובע שכל צלעותיו שוות וכל זוויותיו שוות.

(מסקנה: ריבוע הוא סוג של מקבילית, סוג של מלבן וסוג של מעוין).

מכאן, שבנוסף לתכונות שבהגדרת הריבוע מתקיים כי אלכסוני הריבוע חוצים זה את זה, שווים זה לזה, מאונכים זה לזה וחוצים את זוויות הריבוע.

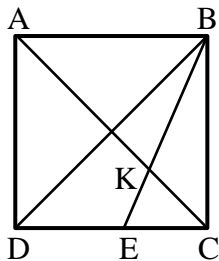
היקף ריבוע = צלע $\cdot 4$, שטח ריבוע = $(צלע)^2 = (אלכסון)^2 / 2$



כדי להוכיח כי מרובע הוא ריבוע נשתמש באחת הדרכים הבאות:

- מלבן שבו האלכסונים מאונכים הוא ריבוע.
- מלבן שבו אלכסון חוצה זווית הוא ריבוע.
- מלבן שבו שתי צלעות סמוכות שוות הוא ריבוע.
- מעוין שבו האלכסונים שווים הוא ריבוע.
- מעוין שבו זווית ישרה הוא ריבוע.

שאלות:

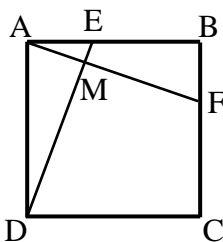


38 המרובע ABCD הוא ריבוע.

מעבירים את האלכסונים AC ו-BD.

BE חוצה זווית DBC וחותך את AC בנקודה K.

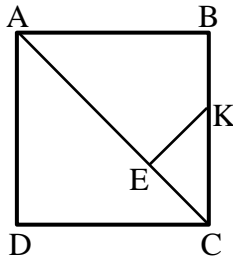
הוכח: $CE = CK$.



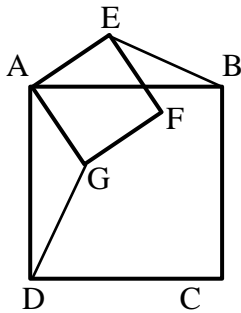
39 בריבוע ABCD מעבירים את הקטעים AF ו-DE.

נתון כי $AE = BF$.

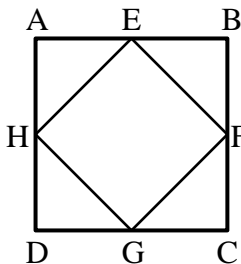
הוכח: $DE \perp AF$.



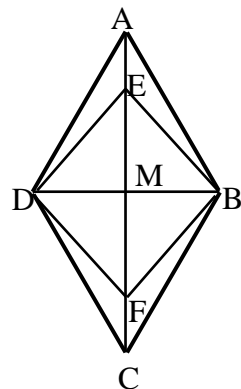
- 40** המרובע ABCD הוא ריבוע.
 מעבירים את האלכסון AC.
 מהנקודה E שעל האלכסון מעבירים את הקטע KE אשר מאונך לאלכסון.
 נתון: $AE = AB$.
 הוכח כי: $CE = KE = BK$.



- 41** המרובעים ABCD ו-AEFG הם ריבועים.
 הוכח: $BE = DG$.



- 42** הנקודות E, F, G, H הן אמצעי צלעות הריבוע ABCD.
 הוכח כי EFGH הוא ריבוע.



- 43** נתון מעוין ABCD שאלכסונו נפגשים בנקודה M.
 נתון: $\angle EBA = 15^\circ$, $MB = \frac{1}{2} AB$, $AE = FC$.
 הוכח: המרובע EBFM הוא ריבוע.

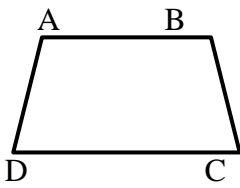
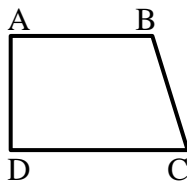
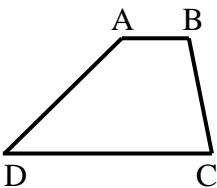
תשובות סופיות:

- 38** שאלת הוכחה.
39 שאלת הוכחה.
40 שאלת הוכחה.
41 שאלת הוכחה.
42 שאלת הוכחה.
43 שאלת הוכחה.

הטרפז:

סיכום כללי:

הגדרה: טרפז הוא מרובע שבו זוג אחד בלבד של צלעות נגדיות מקבילות.
 היקף טרפז = סכום הצלעות, שטח טרפז = $\frac{(\text{גובה} \cdot \text{סכום הבסיסים})}{2}$.

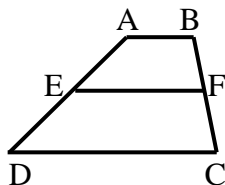
טרפז שווה שוקיים	טרפז ישר זווית	טרפז כללי	סוג הטרפז
			איור מתאים

משפטים הנוגעים לטרפז שווה שוקיים:

- בטרפז שווה שוקיים הזוויות שליד אותו בסיס שוות זו לזו.
- (משפט הפוך) טרפז שבו הזוויות שליד אותו בסיס שוות זו לזו הוא טרפז שווה שוקיים.
- בטרפז שווה שוקיים האלכסונים שווים זה לזה.
- (משפט הפוך) טרפז שבו האלכסונים שווים זה לזה הוא טרפז שווה שוקיים.

קטע אמצעים בטרפז:

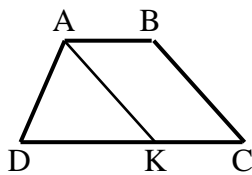
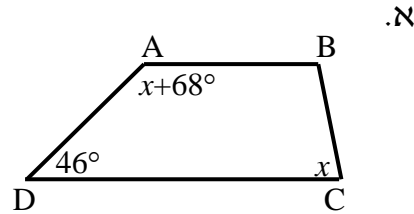
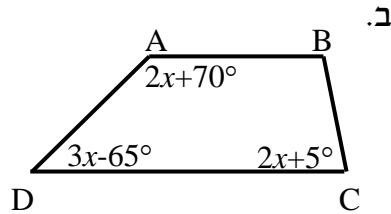
הגדרה: קטע אמצעים בטרפז הוא קטע המחבר את אמצעי השוקיים בטרפז.



- קטע אמצעים בטרפז מקביל לבסיסים ושווה למחצית סכומם.
- (משפט הפוך) קטע היוצא מאמצע שוק אחת בטרפז ומקביל לבסיסים, חוצה את השוק השנייה (כלומר הוא קטע אמצעים בטרפז).

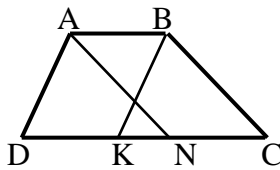
שאלות:

44) בסרטוטים שלפניך נתונים טרפזים כלליים $(AB \parallel CD)$. מצא את x ואת זוויות הטרפז בכל מקרה.



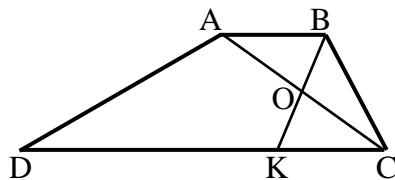
45) המרובע ABCD הוא טרפז $(AB \parallel CD)$.

מעבירים את הקטע AK.
 נתון: $AK = DK$, $AK \parallel BC$,
 $DC = 14$ ס"מ, $AB = 6$ ס"מ.
 חשב את אורך השוק BC.



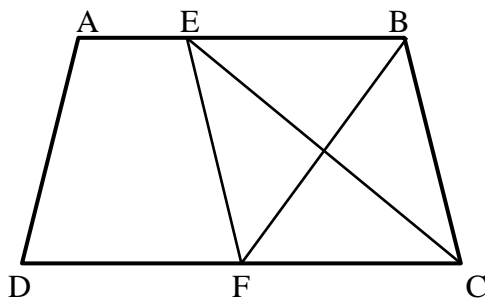
46) המרובע ABCD הוא טרפז $(AB \parallel CD)$.

נתון כי: $AN \parallel BC$, $AD \parallel BK$.
 הוכח כי: $DK = CN$.



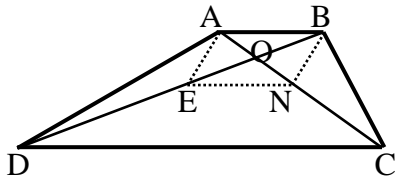
47) המרובע ABCD הוא טרפז $(AB \parallel CD)$.

מעבירים את האלכסון AC ואת הקטע BK אשר חוצים זה את זה בנקודה O.
 ידוע כי: $\angle C = 60^\circ$, $\angle D = 30^\circ$.
 א. חשב את אורך DC, הבסיס הגדול,
 אם ידוע כי: $AB = 7$ ס"מ, $BC = 9$ ס"מ.
 ב. הוכח כי אם $AB = BC$ אז: $DC = 3AB$.

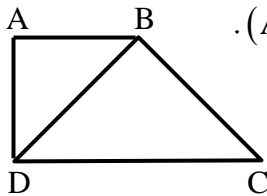


48) נתון טרפז ABCD $(AB \parallel CD)$ ובו

הקטעים CE ו-BF חוצים את זוויות הקדקודים C ו-B בהתאמה. הוכח:
 א. $BF \perp CE$.
 ב. המשולש EBC הוא שווה שוקיים.
 ג. המרובע EBCF הוא מעויך.

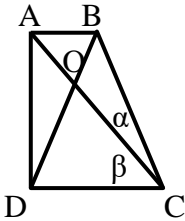


- (49) מרובע ABCD הוא טרפז $(AB \parallel CD)$.
 O - היא נקודת פגישת האלכסונים.
 נתון: $BO = EO, AO = NO$.
 הוכח כי המרובע ENCD הוא טרפז.

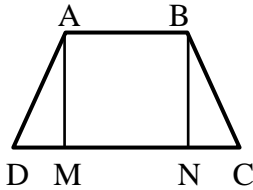


- (50) המרובע ABCD הוא טרפז ישר זווית $(AB \parallel CD, \angle D = 90^\circ)$.

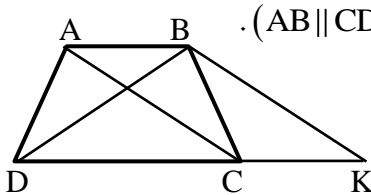
האלכסון BD חוצה את זווית D
 ונתון בנוסף כי: $BD = BC$ וכי: $AD = 15$ ס"מ.
 חשב את אורכי בסיסי הטרפז.



- (51) המרובע ABCD הוא טרפז ישר זווית
 $(AB \parallel CD, AD \perp DC)$.
 נתון כי: $\beta = 2\alpha$, $\angle DOC = 80^\circ$ ו- $BD = BC$.
 חשב את זוויות הטרפז.



- (52) מרובע ABCD הוא טרפז שווה
 $(AB \parallel CD, AD = BC)$ שוקיים.
 נתון כי: $AM \perp DC, BN \perp DC$.
 הוכח כי: $DM = CN$.



- (53) מרובע ABCD הוא טרפז שווה שוקיים $(AB \parallel CD, AD = BC)$.

דרך הנקודה B מעבירים מקביל ל-AC הפוגש את המשך הבסיס DC בנקודה K.
 הוכח כי משולש BDK הוא שווה שוקיים.

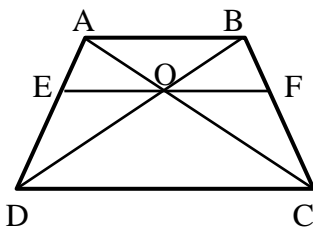
- (54) מרובע ABCD הוא טרפז שווה שוקיים $(AB \parallel CD, AD = BC)$.

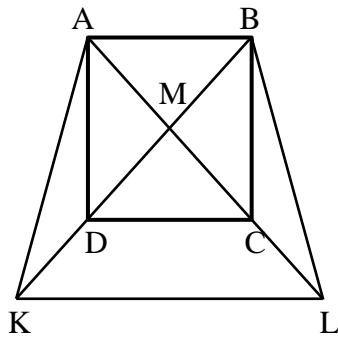
O היא פגישת האלכסונים.

נתון כי: $EF \parallel DC$ כאשר EF עובר דרך O.
 הוכח:

א. $\angle BOF = \angle COF$.

ב. $EO = FO$.





55 נתון ריבוע ABCD.

הנקודה M היא מפגש האלכסונים AC ו-BD. ממשיכים את האלכסונים ויוצרים את הטרפז השווה שוקיים ABLK.

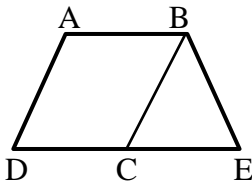
ידוע גם כי DC הוא קטע אמצעים משולש KML. א. קבע אלו מהטענות הבאות ניתן להוכיח:

- i. המשולש KML הוא ישר זווית ושווה שוקיים.
- ii. הקטעים BK ו-BL מאונכים זה לזה.
- iii. המרובע DCLK הוא טרפז שווה שוקיים.
- iv. הקטעים DK ו-AD שווים זה לזה.

ב. הוכח כי: $3DK = AL$.

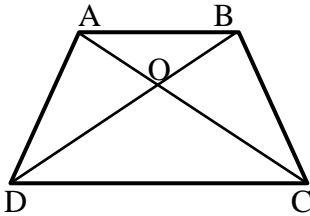
ג. נתון כי $AD = 8\sqrt{2}$ ס"מ.

חשב את היקף הטרפז ABLK.



56 המרובע ABCD הוא מקבילית.

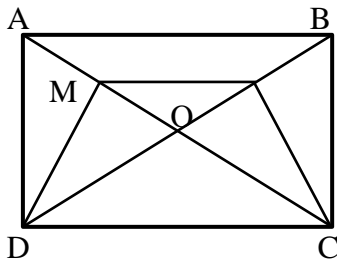
הקטע DE הוא קו ישר ונתון כי: $\angle A + \angle E = 180^\circ$. הוכח כי המרובע ABED הוא טרפז שווה שוקיים.



57 במרובע ABCD הנקודה O היא פגישת האלכסונים.

נתון כי: $CO = DO$, $AO = BO$.

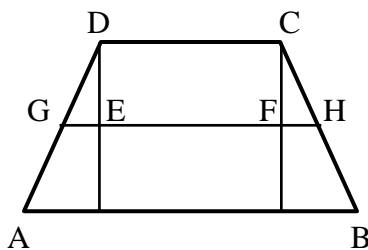
הוכח כי מרובע ABCD הוא טרפז שווה שוקיים.



58 נתון מלבן ABCD שאלכסונו נפגשים בנקודה O.

נתון: $MN \parallel DC$.

הוכח: טרפז DMNC שווה שוקיים.

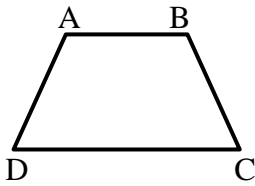


59 בטרפז ABCD ($AB \parallel CD$) הורדו מקצות הבסיס הקטן אנכים לבסיס הגדול.

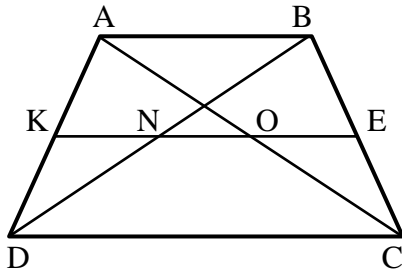
קטע האמצעים GH חותך גבהים אלה בנקודות E ו-F.

נתון: $GE = 3$ ס"מ, $EF = 12$ ס"מ, $FH = 2$ ס"מ.

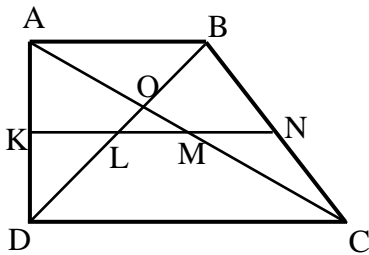
חשב את בסיסי הטרפז.



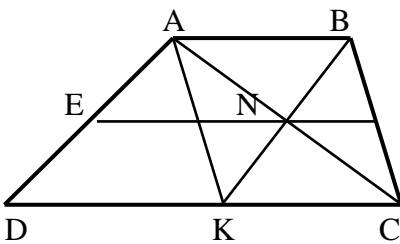
60 סכום כל אורכי הצלעות של טרפז שווה שוקיים הוא 54 ס"מ.
אורך קטע האמצעים הוא 13 ס"מ.
מצא את אורך שוק הטרפז.



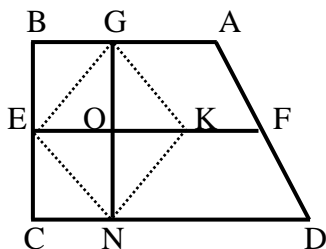
61 המרובע ABCD הוא טרפז ($AB \parallel CD$).
KE הוא קטע אמצעים בטרפז, החותך את אלכסוני הטרפז בנקודות O ו-N.
א. הוכח כי: $KN = EO$.
ב. בטרפז הנ"ל נתון:
 $AB = 14$ ס"מ, $DC = 26$ ס"מ.
חשב את אורכי הקטעים KN, NO ו-EO.
ג. בטרפז הנ"ל נתון: $KE = 13$ ס"מ,
 $NO = 3$ ס"מ. חשב את בסיסי הטרפז.



62 KN הוא קטע אמצעים בטרפז ישר זווית ABCD שאלכסוניו ($AB \parallel CD, AD \perp AB$) נפגשים בנקודה O.
נתון: $AD = 12$ ס"מ, $DC = 2AB$, $\angle ADB = 45^\circ$.
חשב את אורך הקטע LM והוכח כי: $KL = LM = MN$.



63 מרובע ABCD הוא טרפז ($AB \parallel CD$).
EF הוא קטע אמצעים. AC ו-BK נפגשים בנקודה N הנמצאת על EF.
א. הוכח כי מרובע ABCK הוא מקבילית.
ב. נתון: $EF = 13$ ס"מ, $EN = 9$ ס"מ.
חשב את בסיסי הטרפז AB ו-DC ואת הקטע DK.



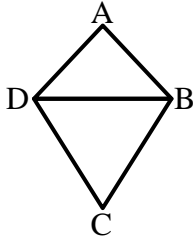
64 המרובע ABCD הוא טרפז ישר זווית ($AB \parallel CD, \angle B = 90^\circ$).
EF קטע אמצעים בטרפז.
G ו-N הן נקודות על AB ו-CD בהתאמה המקיימות: $GN \perp DC$.
בנוסף נתון: $\angle D < 90^\circ, KO = EO$.
הוכח כי מרובע GENK הוא מעוין.

תשובות סופיות:

- (44) א. $x = 66^\circ$; $46^\circ, 134^\circ, 66^\circ, 114^\circ$ ב. $x = 35^\circ$; $40^\circ, 140^\circ, 75^\circ, 105^\circ$
- (45) 8 ס"מ.
- (46) שאלת הוכחה.
- (47) א. 25 ס"מ. ב. שאלת הוכחה.
- (48) שאלת הוכחה.
- (49) שאלת הוכחה.
- (50) א. 15 ס"מ, 30 ס"מ. ב. שאלת הוכחה.
- (51) $90^\circ, 90^\circ, 60^\circ, 120^\circ$
- (52) שאלת הוכחה.
- (53) שאלת הוכחה.
- (54) שאלת הוכחה.
- (55) א. ניתן להוכיח את טענות: i, iii. ב. שאלת הוכחה.
- ג. $P_{ABLK} = 16\sqrt{5} + 24\sqrt{2} \approx 69.71$ ס"מ
- (56) שאלת הוכחה.
- (57) שאלת הוכחה.
- (58) שאלת הוכחה.
- (59) 22 ס"מ ו-12 ס"מ.
- (60) 14 ס"מ.
- (61) א. שאלת הוכחה. ב. $NO = 6$ ס"מ, $KN = EO = 7$ ס"מ
- ג. $DC = 16$ ס"מ, $AB = 10$ ס"מ
- (62) 6 ס"מ.
- (63) 8 ס"מ, $AB = 18$ ס"מ, $DC = 10$ ס"מ, $DK = 10$ ס"מ
- (64) שאלת הוכחה.

הדלתון:

סיכום כללי:



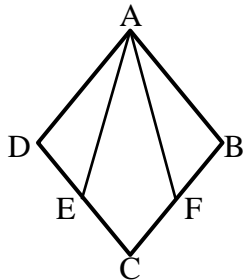
הגדרה:

דלתון הוא מרובע שבו שני זוגות של צלעות סמוכות שוות. (מסקנה: דלתון הוא מרובע שניתן לפרק לשני משולשים שווים שוקיים בעלי בסיס משותף).

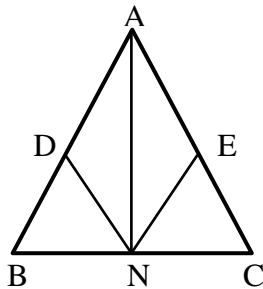
תכונות האלכסונים בדלתון:

- האלכסון הראשי בדלתון חוצה את זוויות הראש, חוצה את האלכסון המשני ומאונך לו.
- האלכסון הראשי אינו בהכרח גדול מהאלכסון המשני.
- היקף דלתון = סכום הצלעות, שטח דלתון = $(\text{אלכסון} \cdot \text{אלכסון}) / 2$.

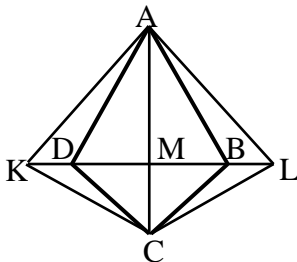
שאלות:



65 נתון מעוין ABCD. הנקודות E ו-F נמצאות על הצלעות DC ב-BC בהתאמה כך שהמרובע AFCE הוא דלתון. הוכח: $\angle DAE = \angle FAB$.



66 במשולש שווה שוקיים ABC ($AB = AC$) מקצים נקודות D ו-E על השוקיים. נתון כי: $AD = AE$. הנקודה N היא אמצע BC. הוכח כי ADNE הוא דלתון.



67 בדלתון ABCD האריכו את האלכסון המשני משני צדיו כמתואר בשרטוט כך שמתקיים: $KD = BL$. הוכח: המרובע ALCK הוא דלתון.

תשובות סופיות:

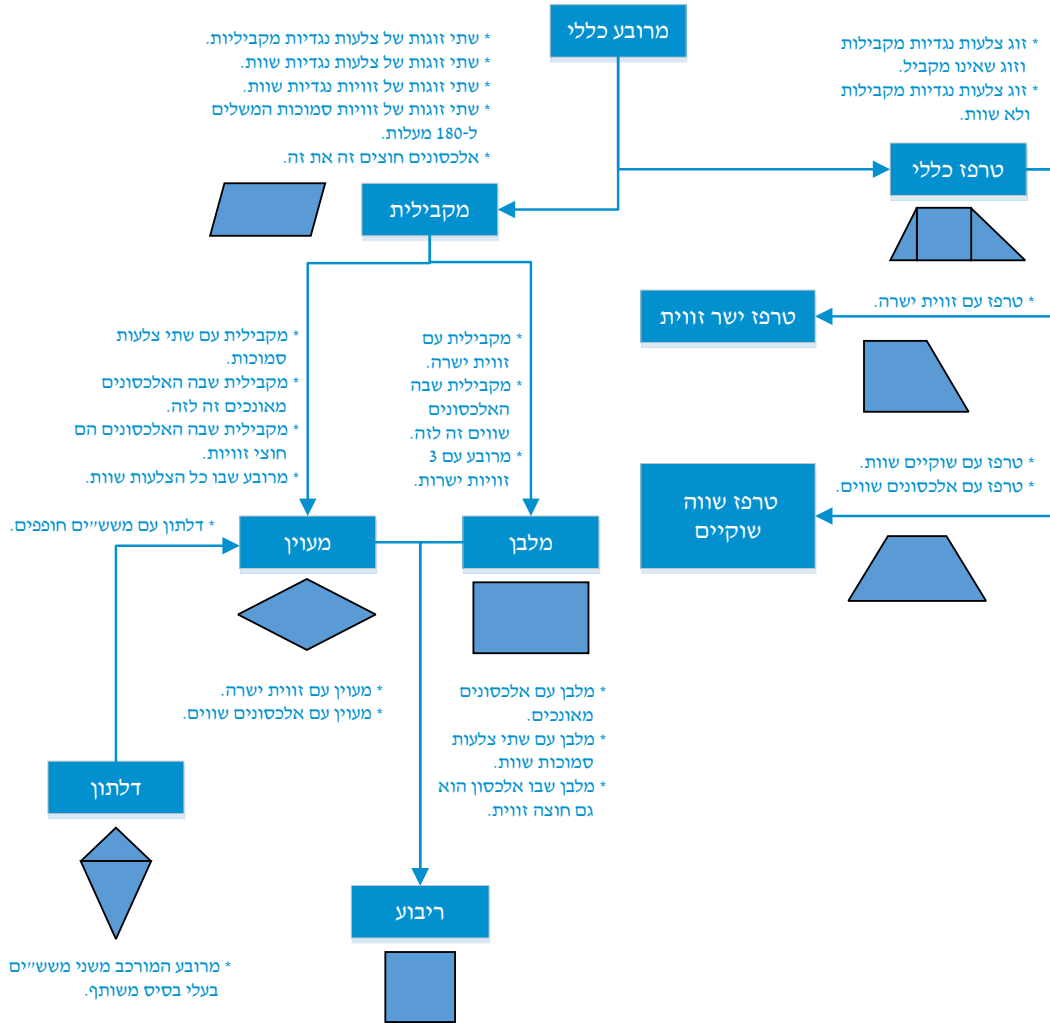
65) שאלת הוכחה.

66) שאלת הוכחה.

67) שאלת הוכחה.

סיכום משפחת המרובעים:

להלן דיאגרמה מסכמת של כל משפחת המרובעים ותכונותיהם:



הכנה למבחן כניסה למכינה במתמטיקה

פרק 15 - גיאומטריה אוקלידית - שטחים והיקפים

תוכן העניינים

221	1. שטחים והיקפים של משולשים
223	2. שטחים והיקפים של מרובעים
224	3. שאלות עם מקבילית
227	4. שאלות עם מלבן
228	5. שאלות עם מעוין
230	6. שאלות עם ריבוע
232	7. שאלות עם טרפז

שטחים והיקפים של משולשים:

סיכום כללי:

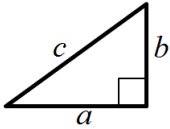
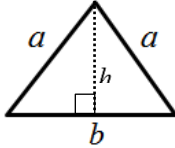
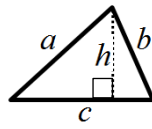
שטח – הגדרה:

גודל של תחום מישורי בהשוואה ליחידת מידה קבועה.
שטח נמדד ביחידות מידה של אורך בריבוע כגון:
מטר ריבועי (m^2), ס"מ ריבועי (סמ"ר cm^2).

היקף – הגדרה:

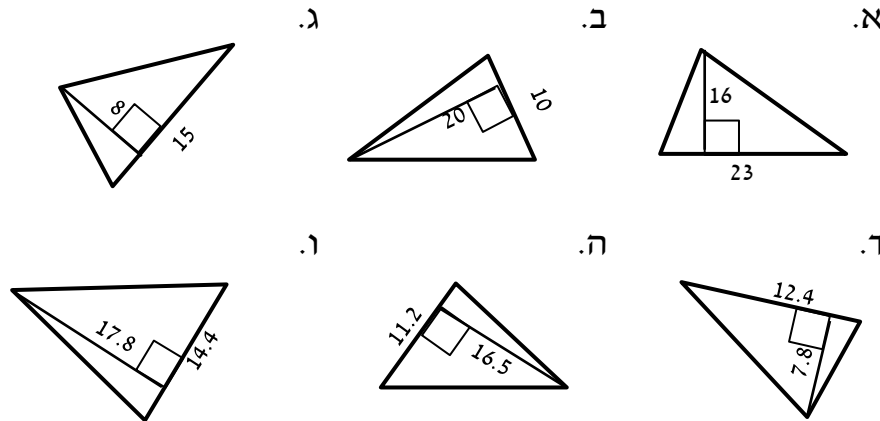
היקף מצולע הוא סכום כל צלעותיו.

משולשים:

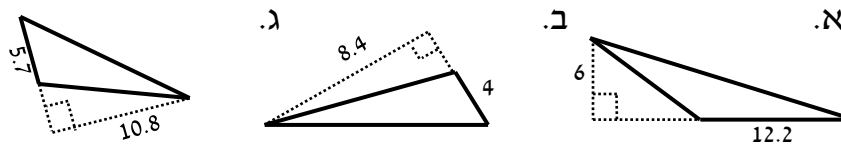
משולש ישר זווית	משולש שווה שוקיים	משולש כללי	סוג
			איור
$S = \frac{a \cdot b}{2}$	$S = \frac{b \cdot h}{2}$	$S = \frac{c \cdot h}{2}$	שטח
$P = a + b + c$	$P = 2a + b$	$P = a + b + c$	היקף

שאלות:

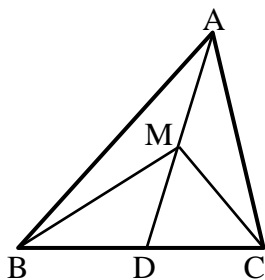
(1) מצא את שטחם של המשולשים הבאים (כל המידות נתונות בס"מ):



(2) מצא את שטחם של המשולשים קהי-הזווית הבאים (כל המידות בס"מ):



(3) הוכח כי אם במשולש ABC, הקטע AD המחבר את הקדקוד A עם הצלע BC יוצר שני משולשים שווים בשטחם אז הוא תיכון ל-BC.



(4) במשולש ABC הקטע AD הוא תיכון לצלע BC. M היא אמצע AD. הוכח כי:

א. הקטעים AD, MC ו-BM מחלקים את המשולש ABC ל-4 משולשים שווים שטח.

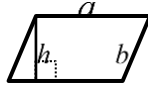
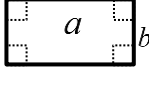


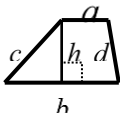
ב. $S_{MBC} = \frac{1}{2} S_{ABC}$.

תשובות סופיות:

- (1) א. 184 סמ"ר ב. 100 סמ"ר ג. 60 סמ"ר ד. 48.36 סמ"ר
 ה. 92.4 סמ"ר ו. 128.16 סמ"ר
- (2) א. 36.6 סמ"ר ב. 16.8 סמ"ר ג. 30.78 סמ"ר
- (3) שאלת הוכחה.
- (4) שאלת הוכחה.

שטחים והיקפים של מרובעים:

סיכום כללי:

סוג	מקבילית	מלבן	מעוין	ריבוע	טרפז
איור					
שטח	$S = a \cdot h$	$S = a \cdot b$	$S = a \cdot h$ $S = \frac{m_1 \cdot m_2}{2}$	$S = a^2$	$S = \frac{(a+b)h}{2}$
היקף	$P = 2(a+b)$	$P = 2(a+b)$	$P = 4a$	$P = 4a$	$P = a+b+c+d$

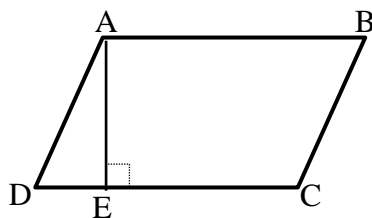
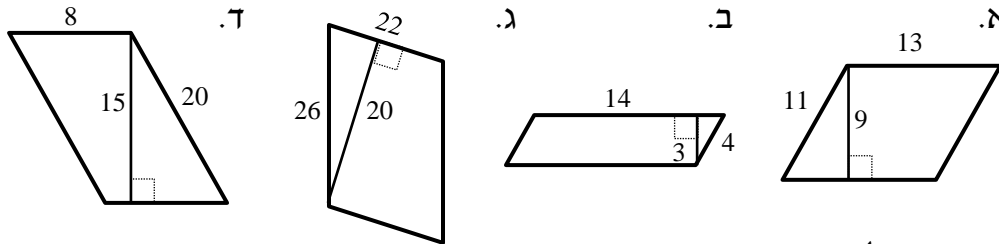
הערות כלליות:

- שטח מקבילית ניתן לחישוב ע"י מכפלת כל צלע בגובה המתאים לה. כך ניתן לקבל את הנוסחה: $S = a \cdot h_a = b \cdot h_b$ כאשר h_a ו- h_b הם הגבהים לצלעות a ו- b בהתאמה.
- ניתן לחשב שטח מעוין ע"י מחצית ממכפלת אלכסונים או ע"י מכפלת צלע בגובה שלה (שכן היא סוג של מקבילית).
- עבור טרפז ישר זווית, שבו $h=c$ נקבל: $S = \frac{(a+b)c}{2}$.
- ניתן לחשב שטח של טרפז ע"י הורדת גבהים, חלוקתו למלבן ושני משולשים, חישוב שטחם בנפרד ואיחודם.

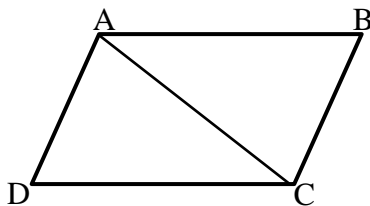
שאלות עם מקבילית:

שאלות:

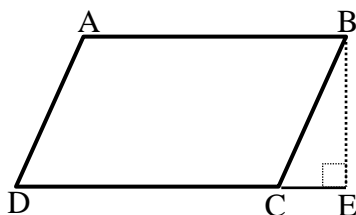
(5) חשב את השטחים וההיקפים של המקבילות הבאות (כל המידות בס"מ):



- (6) נתונה מקבילית ABCD. מעבירים גובה AE לצלע CD שאורכו הוא 6 ס"מ. ידוע כי שטח המקבילית הוא 60 סמ"ר.
א. מצא את אורך הצלע AB.
ב. ידוע כי היקף המקבילית הוא 36 ס"מ. מצא את אורך הצלע BC.

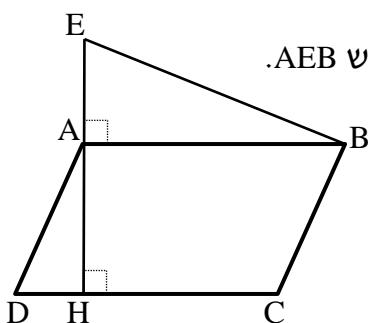


- (7) נתונה מקבילית ABCD. מעבירים את האלכסון AC שאורכו 25 ס"מ. ידוע כי היקף המשולש ACD הוא 66 ס"מ. חשב את היקף המקבילית.



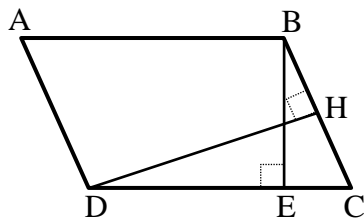
- (8) נתונה מקבילית ABCD. מורידים גובה מהקדקוד B לצלע CD כך שנוצר המשולש BCE. שטח המשולש BCE הוא 24 סמ"ר ושטח המקבילית ABCD הוא 112 סמ"ר. נתון: $CE = 6$ ס"מ.

- א. מצא את אורך הגובה BE.
ב. מצא את אורך הצלע AB של המקבילית.



- (9) נתונה מקבילית ABCD. מעלים אנך מהקדקוד A עד לנקודה E ויוצרים משולש AEB. מורידים גובה AH לצלע CD שאורכו 12 ס"מ. נתון: $AD = 13$ ס"מ, $AE = 8$ ס"מ. שטח כל הצורה AEBCD הוא 256 סמ"ר.
א. מצא את אורך הצלע AB.
ב. חשב את היקף המקבילית ABCD.

10) במקבילית ABCD מעבירים את הגבהים BE ו-DH לצלעות CD ו-BC בהתאמה.



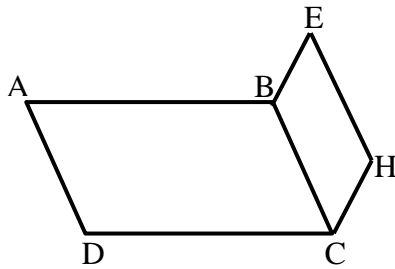
נתון: $BE = 12$ ס"מ, $BC = 14.4$ ס"מ, $DH = 15$ ס"מ.

א. חשב את שטח המקבילית ABCD.

ב. חשב את אורך הצלע AB.

ג. חשב את היקף המקבילית.

11) נתונה המקבילית ABCD.



על הצלע BC בונים מקבילית נוספת BCHE שהיקפה הוא 44 ס"מ.

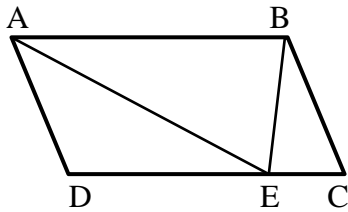
ידוע כי היקף הצורה ABEHCD הוא 94 ס"מ.

נתון: $BC = 15$ ס"מ.

א. חשב את אורך הצלע AB.

ב. חשב את היקף המקבילית ABCD.

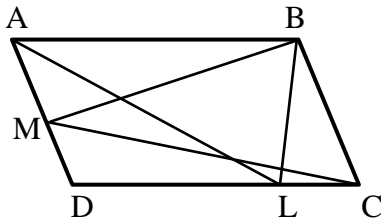
12) המרובע ABCD הוא מקבילית.



הנקודה E נמצאת על DC.

הוכח כי: $S_{AEB} = \frac{1}{2} S_{ABCD}$.

13) המרובע ABCD הוא מקבילית.



הנקודות M ו-L נמצאות על הצלעות

AD ו-DC בהתאמה.

הוכח כי: $S_{BMC} = S_{ALB}$.

תשובות סופיות:

- (5) א. 48 ס"מ P , 117 סמ"ר S ב. 36 ס"מ P , 42 סמ"ר S
- ג. 96 ס"מ P , 440 סמ"ר S ד. 56 ס"מ P , 120 סמ"ר S
- (6) א. 10 ס"מ AB ב. 8 ס"מ BC
- (7) 82 ס"מ P
- (8) א. 8 ס"מ BE ב. 14 ס"מ AB
- (9) א. 16 ס"מ AB ב. 58 ס"מ P
- (10) א. 216 סמ"ר S ב. 18 ס"מ AB ג. 64.8 ס"מ P
- (11) א. 25 ס"מ AB ב. 80 ס"מ P
- (12) שאלת הוכחה.
- (13) שאלת הוכחה.

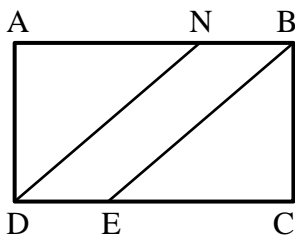
שאלות עם מלבן:

שאלות:

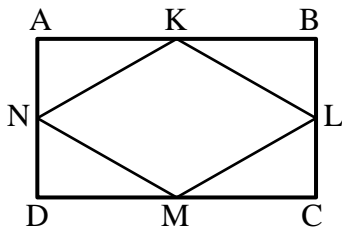
14) במלבן ABCD אורכי הצלעות הם: $AB = 12$ ס"מ, $BC = 8$ ס"מ. מצאו את ההיקף של המלבן.

15) במלבן ABCD אורך הצלע AB הוא 10 ס"מ. היקף המלבן הוא 32 ס"מ. מצאו את שטח המלבן.

16) במלבן ABCD נתון: $DC = 11$ ס"מ, $AD = 9$ ס"מ. מצאו את האורך של האלכסון AC.



17) המרובע ABCD הוא מלבן. הישרים DN ו-BE מקבילים. נתון: $AB = 32$ ס"מ, $DN = 30$ ס"מ ו- $BN = 8$ ס"מ. הוכח כי מרובע NBED הוא מקבילית וחשב את שטחה.



18) הנקודות K, L, M ו-N הן אמצעי הצלעות AB, BC, CD, AD בהתאמה במלבן ABCD. נתון כי היקף המלבן הוא 120 ס"מ וכי שטחו הוא 836 סמ"ר. חשב את שטחו של המרובע KLMN.

תשובות סופיות:

14) 40 ס"מ.

15) 60 סמ"ר.

16) 14.21 ס"מ $\approx \sqrt{202}$.

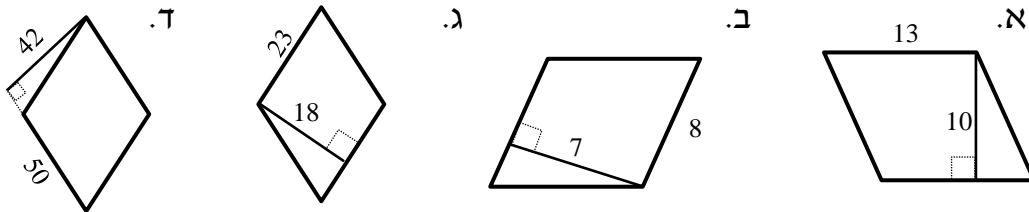
17) 144 סמ"ר.

18) 418 סמ"ר.

שאלות עם מעוין:

שאלות:

19) חשב את השטחים וההיקפים של המעוינים הבאים (כל המידות בס"מ):

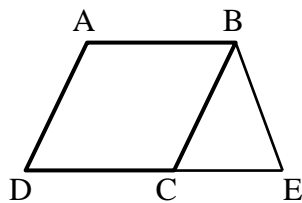


20) במעוין ABCD האלכסונים נפגשים בנקודה O. נתון: $AO = 3$ ס"מ, $BO = 4$ ס"מ. מצא את אורך צלע המעוין.

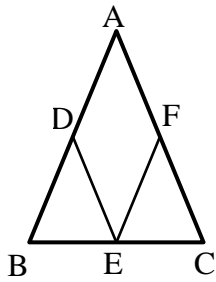
21) במעוין ABCD האלכסונים נפגשים בנקודה O. נתון: $AB = 12$ ס"מ, $BO = 8$ ס"מ. מצא את AO.

22) במעוין ABCD האלכסון AC שווה באורכו לצלע המעוין. נתון: $AB = 20$ ס"מ.
 א. חשב את אורך האלכסון BD.
 ב. חשב את שטח המעוין.

23) נתון מעוין ABCD. אורך האלכסון הקצר הוא 7 ס"מ ושטח המעוין הוא 35 סמ"ר. חשב את היקף המעוין.

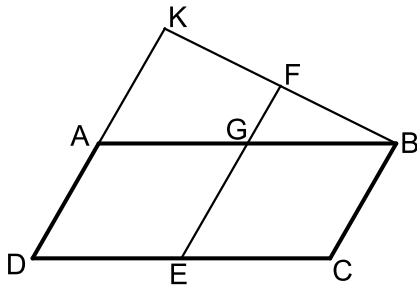


24) נתון מעוין ABCD בעל אורך צלע של 8 ס"מ. מעבירים את הקטע BE השווה באורכו לצלע המעוין כך שנוצר המשולש BCE. ידוע כי: $CE = 6$ ס"מ.
 א. איזה סוג משולש הוא המשולש BCE? נמק.
 ב. חשב את היקף הצורה ABCE.



- (25)** נתון משולש שווה שוקיים ABC , $(AB = AC)$. מסמנים את אמצעי צלעות המשולש ב-D, E ו-F ומעבירים את הקטעים DE ו-EF כך שהמרובע ADEF הוא מעוין. נתון: $BC = 12$ ס"מ, וכי היקף המשולש ABC הוא 48 ס"מ.
א. מצא את אורך צלע המעוין ADEF.
ב. חשב את היקף המעוין ADEF.

- (26)** המרובע ABCD הוא מקבילית שבה אורך הצלע AB גדולה פי 2 מהצלע AD. ממשיכים את הצלע AD עד לנקודה K ומחברים אותה לקדקוד B. מעבירים את הקטע FE כך ש-F היא אמצע הקטע BK. EF חותך את הצלע AB בנקודה G ומקביל לצלע AD.



- א. הוכח כי המרובע AGED הוא מעוין.
ב. שטח המעוין AGED הוא 20 סמ"ר.
חשב את שטח המרובע DCBK אם ידוע כי A היא אמצע הקטע DK.

תשובות סופיות:

- (19)** א. 52 ס"מ $P =$, 130 סמ"ר $S =$
ב. 32 ס"מ $P =$, 56 סמ"ר $S =$
ג. 92 ס"מ $P =$, 414 סמ"ר $S =$
(20) 5 ס"מ.
(21) 8.94 ס"מ $\approx \sqrt{80}$.
(22) א. $BD = 20\sqrt{3}$ ס"מ.
(23) 24.413 ס"מ.
(24) א. משולש שווה שוקיים, מכיוון ש- $BE=BC$. ב. 38 ס"מ $P =$.
(25) א. 9 ס"מ. ב. 36 ס"מ $P =$.
(26) א. 60 סמ"ר. ב. 60 סמ"ר.

שאלות עם ריבוע:

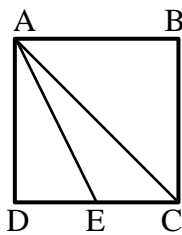
שאלות:

27) נתון ריבוע ABCD בעל אורך צלע של 6 ס"מ.

- חשב את שטח הריבוע.
- חשב את היקף הריבוע.
- חשב את אורך האלכסון בריבוע.

28) שטחו של ריבוע ABCD הוא 49 סמ"ר.

- מהו אורך צלע הריבוע?
- מהו אורך האלכסון בריבוע?
- מהו היקף הריבוע?



29) בריבוע ABCD מעבירים את הקטע AE כך ש-E היא אמצע

- הצלע DC ואת האלכסון AC. שטח הריבוע הוא 40 סמ"ר.
- מצא את אורך צלע הריבוע.
- מצא את אורך אלכסון הריבוע.
- מצא את אורך הקטע AE.

30) חשב את צלע הריבוע השווה בשטחו לשטח משולש שצלעו 25 ס"מ והגובה לצלע זו הוא 18 ס"מ.

31) נתונים מלבן וריבוע השווים בשטחם. אורכי צלעות המלבן הם 25 ס"מ ו-9 ס"מ. חשב את היקף הריבוע.

32) נתונים מלבן וריבוע השווים בהיקפם. שטח הריבוע הוא 36 ס"מ ואורך המלבן גדול ב-8 ס"מ מרוחבו. חשב את שטח המלבן.

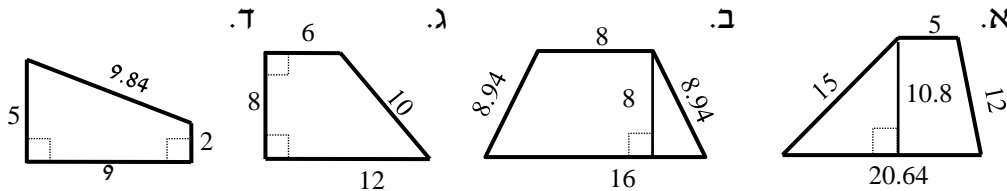
תשובות סופיות:

- | | | |
|--------------|-------------|------------------|
| ג. 8.48 ס"מ. | ב. 24 ס"מ | (27) א. 36 סמ"ר |
| ג. 28 ס"מ. | ב. 9.89 ס"מ | (28) א. 7 ס"מ |
| ג. 7.07 ס"מ. | ב. 8.94 ס"מ | (29) א. 6.32 ס"מ |
| | | (30) 15 ס"מ. |
| | | (31) 60 ס"מ. |
| | | (32) 20 סמ"ר. |

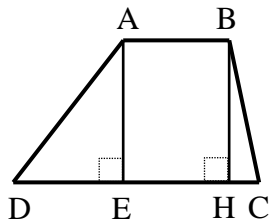
שאלות עם טרפז:

שאלות:

33) חשב את השטחים וההיקפים של הטרפזים הבאים (כל המידות בס"מ):

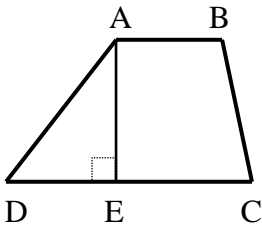


34) נתון טרפז ABCD, $(AB \parallel CD)$.



מורידים את הגבהים AE ו-BH שאורכם 8 ס"מ.
ידוע כי: $DE = 6$ ס"מ, $HC = 2$ ס"מ.
שטח הטרפז הוא 88 סמ"ר.
מצא את אורך בסיס הטרפז AB.

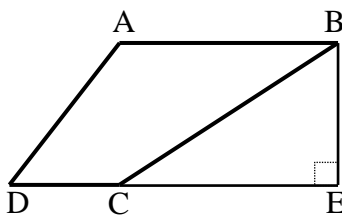
35) נתון טרפז ABCD, $(AB \parallel CD)$.



מורידים גובה AE מהקדקוד A.
היקף הטרפז הוא 68 ס"מ ונתון כי:
 $AD = 18$ ס"מ, $BC = 16$ ס"מ, $AB = 12$ ס"מ.

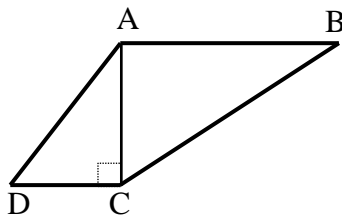
א. מצא את אורך הבסיס DC.
ב. מצא את הגובה AE אם ידוע כי שטח הטרפז הוא 255 סמ"ר.

36) נתון טרפז ABCD, $(AB \parallel CD)$.



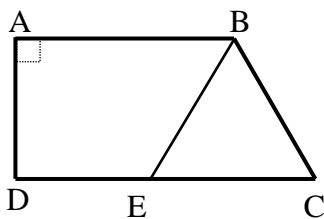
מהקדקוד B מורידים גובה חיצוני לטרפז BE
כאשר E נמצאת על המשך הבסיס DC.
ידוע כי: $AB = 20$ ס"מ, $DC = 8$ ס"מ.
וכי שטח הטרפז הוא 196 סמ"ר.

א. מצא את הגובה BE.
ב. נתון כי: $\angle D = 60^\circ$, $\angle BCD = 130^\circ$.
חשב את זווית A ואת זוויות המשולש BCE.



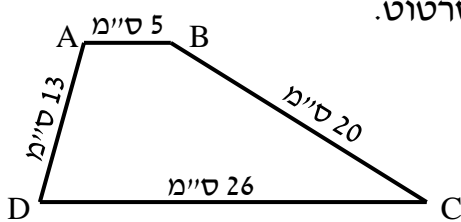
37 נתון טרפז $ABCD$, $(AB \parallel CD)$.

- האלכסון AC הוא גובה בטרפז ואורכו 12 ס"מ.
ידוע כי: $AD = AB = 13$ ס"מ, $BC = 17.7$ ס"מ.
היקף הטרפז הוא 48.7 ס"מ ו- $\angle B = 42.71^\circ$.
א. מצא את אורך הבסיס DC .
ב. חשב את שטח הטרפז.
ג. חשב את זווית C .

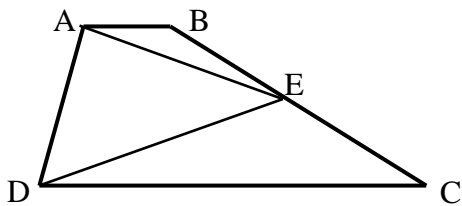


38 הטרפז $ABCD$, $(AB \parallel CD)$ הוא ישר זווית ($\angle A = 90^\circ$).

- מהנקודה E שעל הבסיס DC מעבירים את הקטע BE
כך שהמשולש BCE הוא שווה צלעות עם $BC = 14$ ס"מ.
היקף הטרפז $ABCD$ הוא 67 ס"מ ו- AD הוא 10 ס"מ.
א. מהו היקף הטרפז $ABED$?
ב. חשב את שטח הטרפז $ABED$.



39 נתון טרפז $ABCD$ שאורכי צלעותיו נתונים בסרטוט.
חשב את שטח הטרפז (פתור כתרגיל חישוב).

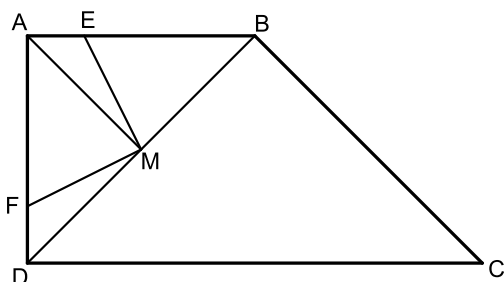


40 המרובע $ABCD$ הוא טרפז $(AB \parallel CD)$.
הנקודה E היא אמצע השוק BC .

$$\text{הוכח כי: } S_{ADE} = \frac{1}{2} S_{ABCD}$$

41 המרובע $ABCD$ הוא טרפז ישר זווית ($\angle A = 90^\circ$).

- הנקודה M נמצאת על אמצע האלכסון BD של הטרפז וממנה מעבירים את הקטעים ME ו- MF השווים זה לזה ומחברים אותה עם הקדקוד A .
נתון כי: $ME \perp MF$ וכי: $\angle DFM > 90^\circ$.



- א. הוכח: $\triangle AMF \cong \triangle BME$.
ב. נתון כי: $BC = \sqrt{32}$, $AE = FD = 1$.
כמו כן: $AM \parallel BC$.
i. מצא את אורך הקטע BE .
ii. חשב את שטח הטרפז $ABCD$.

תשובות סופיות:

- (33) א. $S = 52.64$ ס"מ, $P = 138.456$ סמ"ר. ב. $S = 41.88$ ס"מ, $P = 96$ סמ"ר.
- ג. $S = 36$ ס"מ, $P = 72$ סמ"ר. ד. $S = 25.48$ ס"מ, $P = 31.5$ סמ"ר.
- (34) $AB = 7$ ס"מ.
- (35) א. $DC = 22$ ס"מ. ב. $AE = 15$ ס"מ.
- (36) א. $BE = 14$ ס"מ. ב. $\angle A = 120^\circ$, $\angle CBE = 40^\circ$, $\angle BCE = 50^\circ$, $\angle E = 90^\circ$.
- (37) א. $DC = 5$ ס"מ. ב. $S = 108$ סמ"ר. ג. $\angle C = 137.29^\circ$.
- (38) א. $P = 53$ ס"מ. ב. $S = 145$ סמ"ר.
- (39) 186 סמ"ר.
- (40) שאלת הוכחה.
- (41) א. 3 ס"מ. ב. ii. 24 סמ"ר.

הכנה למבחן כניסה למכינה במתמטיקה

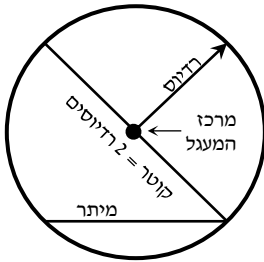
פרק 16 - גיאומטריה אוקלידית - המעגל

תוכן העניינים

235	1. הגדרות
236	2. קשתות ומיתרים במעגל
239	3. אנך אמצעי למיתר
241	4. זוויות מרכזיות והיקפיות במעגל
245	5. זווית היקפית הנשענת על קוטר
247	6. משיקים למעגל
250	7. משיק ומיתר
252	8. שני מעגלים
254	9. מעגל חוסם ומעגל חסום
257	10. שטחים והיקפים במעגל

הגדרות:

- מעגל – המקום הגאומטרי של כל הנקודות שמרחקן מנקודה קבועה קבוע.
- הנקודה הקבועה נקראת מרכז המעגל.
- רדיוס – קטע המחבר את מרכז המעגל עם נקודה על המעגל.
- מיתר – קטע המחבר שתי נקודות שעל המעגל.
- קוטר – מיתר העובר במרכז המעגל.
- היקף מעגל $= 2\pi R$.
- שטח מעגל $= \pi R^2$.
- קשת – חלק מהיקף המעגל.
- גזרה – חלק משטח המעגל.
- זווית מרכזית – זווית שקדקודה במרכז המעגל ושוקיה רדיוסים.
- זווית היקפית – זווית שקדקודה על היקף המעגל ושוקיה מיתרים.



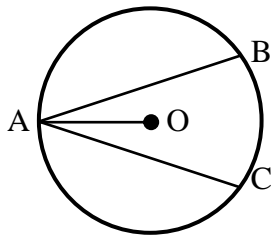
קשתות ומיתרים במעגל:

סיכום כללי:

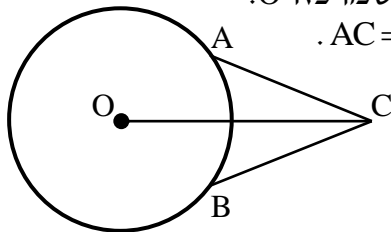
משפטים העוסקים במיתרים במעגל:

1. מיתרים שווים נשענים על קשתות שוות ולהפך.
2. על מיתרים שווים נשענות זוויות מרכזיות שוות ולהפך.
3. מיתרים שווים נמצאים במרחקים שווים ממרכז המעגל. (משפט הפוך) מיתרים הנמצאים במרחק שווה ממרכז המעגל שווים.

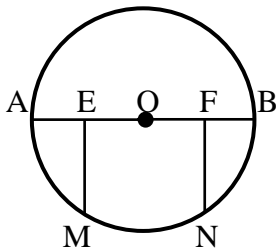
שאלות:



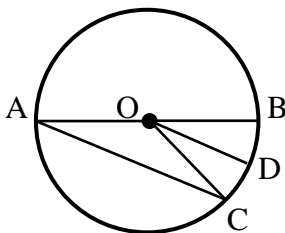
- (1) AB ו-AC הם שני מיתרים שווים במעגל שמרכזו O. הוכח כי AO חוצה את זווית BAC.




- (2) A ו-B הן שתי נקודות הנמצאות על היקף המעגל שמרכזו O. נקודה C הנמצאת מחוץ למעגל מקיימת כי: $AC = BC$. הוכח כי OC חוצה את זווית C.



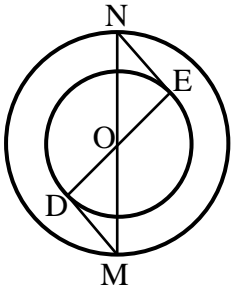
- (3) הקטע AB הוא קוטר במעגל שמרכזו O. נתון כי: $FN \perp AB$, $EM \perp AB$, $EO = FO$. הוכח כי $MN = EF$.



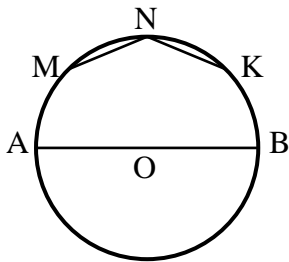
- (4) AB הוא קוטר במעגל שלפניך. AC הוא מיתר ו-O מרכז מעגל. הרדיוס OD חוצה את זווית BOC. הוכח כי DO מקביל ל-AC.



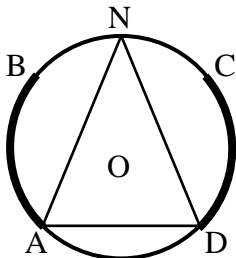
- (5) במעגל שלפניך AC ו-BD הם קטרים. הוכח כי המרובע ABCD הוא מלבן.




- (6) בשרטוט שלפניך שני מעגלים בעלי מרכז משותף O. הקטע MN הוא קוטר במעגל הגדול והקטע DE הוא קוטר במעגל הקטן. מעבירים את הקטעים MD ו-NE. הוכח כי MD שווה ל-NE.



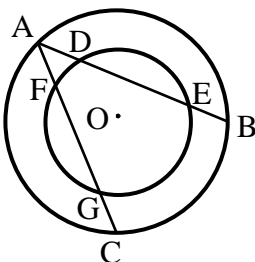
- (7) AB הוא קוטר במעגל שמרכזו O. את הקשת העליונה של AB מחלקים ל-4 קשתות שוות, כלומר: $\widehat{AM} = \widehat{MN} = \widehat{NK} = \widehat{KB}$. חשב את זווית KNM.



- (8) במעגל שלפניך נתון כי הקשתות המסומנות שוות ז"א: $\widehat{AB} = \widehat{CD}$. הנקודה N היא אמצע הקשת \widehat{BC} . הוכח כי המשולש AND הוא שווה שוקיים.



- (9) המיתרים MN ו-ML שווים זה לזה. המיתר MK חוצה את זווית NML. הוכח כי $\triangle KNM \cong \triangle KLM$. הוכח כי MK הוא קוטר במעגל.



- (10) נתונים שני מעגלים בעלי מרכז משותף O. מעבירים את המיתרים AB ו-AC במעגל הגדול. ידוע כי שני המיתרים שווים זה לזה. מסמנים את נקודות החיתוך של המיתרים עם המעגל הקטן ב-D ו-E עבור המיתר AB, ו-F ו-G עבור המיתר AC. הוכח: $DE = FG$.

תשובות סופיות:

- 1) שאלת הוכחה.
- 2) שאלת הוכחה.
- 3) שאלת הוכחה.
- 4) שאלת הוכחה.
- 5) שאלת הוכחה.
- 6) שאלת הוכחה.
- 7) 135° .
- 8) שאלת הוכחה.
- 9) שאלת הוכחה.
- 10) שאלת הוכחה.

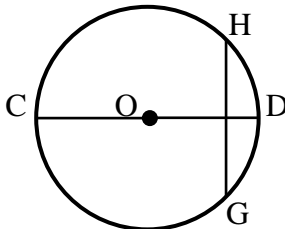
אנך אמצעי למיתר:

סיכום כללי:

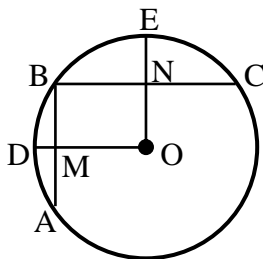
משפט אנך אמצעי למיתר:

1. אנך למיתר ממרכז המעגל חוצה את המיתר. (משפט הפוך ל-4 (1)) רדיוס החוצה מיתר מאונך לו. (משפט הפוך ל-4 (2)) קטע היוצא מאמצע מיתר ומאונך לו, עובר במרכז המעגל.

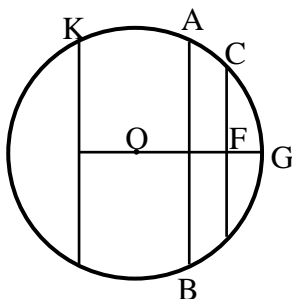
שאלות:



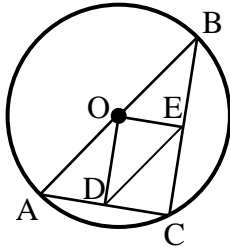
- 11** במעגל שמרכזו O המיתר GH מאונך לקוטר CD. הוכח כי $GC = HC$. נתון כי: $\widehat{HDG} = 80^\circ$. בת כמה מעלות הקשת \widehat{CG} ?



- 12** AB ו-BC הם מיתרים במעגל שמרכזו O. מעבירים את הרדיוסים OD ו-OE אשר חותכים את המיתרים AB ו-BC בנקודות M ו-N בהתאמה. ידוע כי מרובע ONBM הוא מלבן. נתונות המידות הבאות: $NE = 9$ ס"מ, $MD = 8$ ס"מ, $R = 29$ ס"מ. חשב את אורך כל אחד מהמיתרים AB ו-BC.



- 13** AB ו-CD הם מיתרים במעגל שמרכזו O, והם חותכים את הקטע MG, העובר במרכז המעגל, בנקודות E, F ו-M בהתאמה. נתון $KL \parallel CD$, $CF = DF$. הוכח: $KM = LM$. נתון בנוסף כי: $ML = BE$, $AB \perp MG$. הוכח: $MO = EO$.



14 ABC הוא משולש החסום במעגל O. המיתר AB הוא קוטר במעגל. הנקודות D ו-E נמצאות על הצלעות AC ו-BC בהתאמה. מעבירים את הקטעים OD ו-OE וידוע כי: $OD \perp AC$, $OE \perp BC$. הוכח כי DE שווה באורכו לרדיוס המעגל.

תשובות סופיות:

- 11) א. שאלת הוכחה. ב. 140° .
- 12) $AB = 40$ ס"מ, $BC = 42$ ס"מ.
- 13) שאלת הוכחה.
- 14) שאלת הוכחה.

זוויות מרכזיות והיקפיות במעגל:

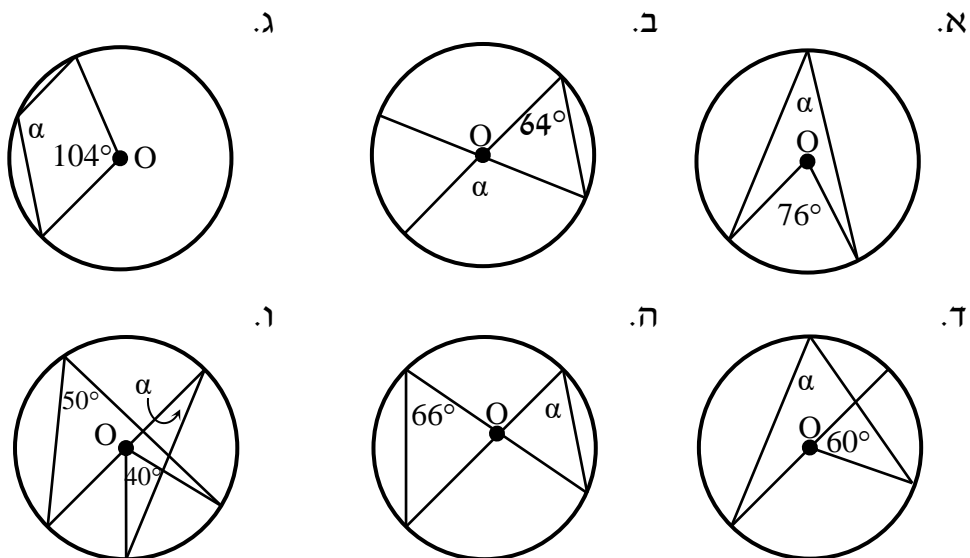
סיכום כללי:

משפטים העוסקים בזוויות במעגל:

- שתי זוויות היקפיות הנשענות על אותה קשת/קשתות שוות, שוות ביניהן. (משפט הפוך ל-5) זוויות היקפיות שוות נשענות על קשתות שוות.
- זווית היקפית שווה למחצית הזווית המרכזית הנשענת על אותה קשת.

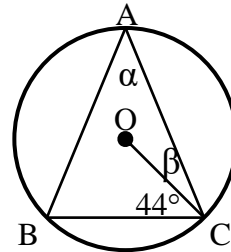
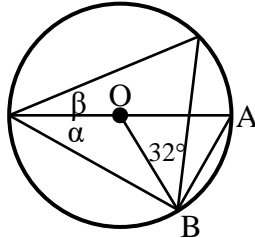
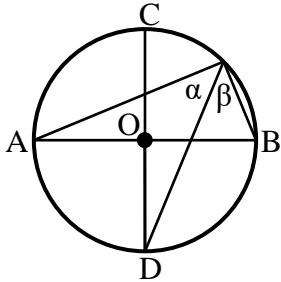
שאלות:

15 נתונים המעגלים הבאים שמרכזם הוא O. חשב את הזווית α בכל אחד מהמקרים.



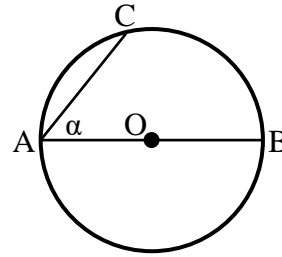
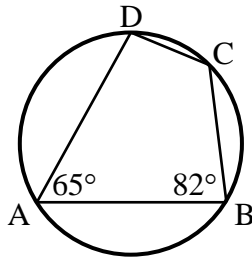
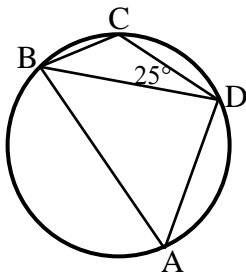
16 במעגלים הבאים שמרכזם O מופיעים הנתונים לידם.
חשב את הזוויות α ו- β בכל אחד מהמקרים:

- א. $AB = AC$.
ב. $\triangle AOB$ - שווה צלעות.
ג. AB, CD קטרים מאונכים זה לזה.

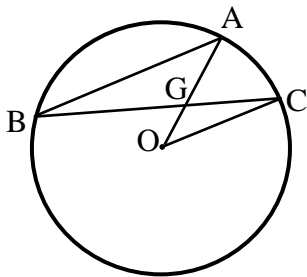


17 חשב את המבוקש בכל מקרה:

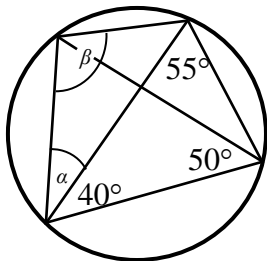
- א. AB קוטר, $\widehat{AC} = 84^\circ$.
ב. $\widehat{DC} = 52^\circ$.
ג. $\widehat{DC} = 60^\circ$.
חשב את α .
חשב $\angle BAD$.
חשב: $\widehat{AD}, \widehat{DC}, \widehat{AB}$.

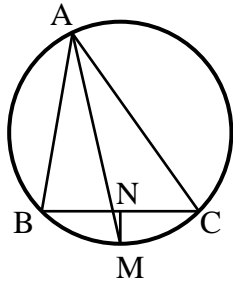


18 AB ו- BC הם מיתרים במעגל שמרכזו O.
נתון: $AB \parallel CO$, $\angle AGC = 60^\circ$.
חשב את גודלה של הזווית $\angle AOC$.

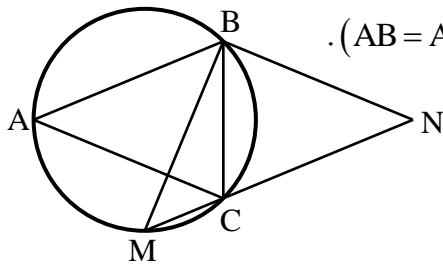


19 חשב את גודל הזוויות α ו- β במעגל הנתון.

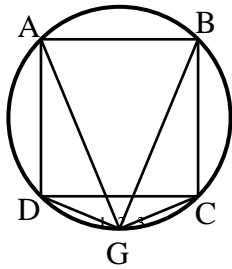




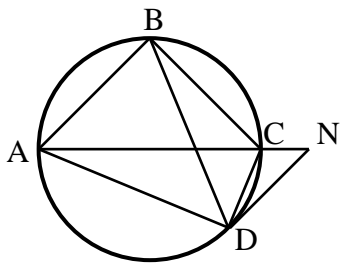
- (20)** המשולש ABC חסום במעגל.
 המיתר AM חוצה את זווית A.
 מעבירים אנך מהנקודה M לצלע BC
 החותך אותה בנקודה N.
 הוכח: $BN = CN$.



- (21)** בסרטוט שלפניך נתון כי המשולשים
 ABC ו-BMN הם שווים שוקיים ($AB = AC$, $BM = BN$).
 זווית הראש במשולש BMN היא 94° .
 חשב את זווית ACB.



- (22)** במעגל שלפניך חסום ריבוע ABCD.
 הנקודה G נמצאת על היקף המעגל.
 ממנה מעבירים מיתרים לכל קדקוד
 כך שנוצרות הזוויות $\sphericalangle G_1$, $\sphericalangle G_2$, $\sphericalangle G_3$.
 הוכח כי $\sphericalangle G_1 = \sphericalangle G_2 = \sphericalangle G_3$ ומצא אותן.



- (23)** המרובע ABCD חסום במעגל.
 ממשיכים את האלכסון AC עד לנקודה N
 ומחברים אותה עם הקדקוד D
 כך שמתקיים: $AB \parallel DN$.
 הוכח כי זוויות המשולשים $\triangle ADN$
 ו- $\triangle BDC$ שוות.

תשובות סופיות:

- (15) א. 38° ב. 128° ג. 128° ו. 30° ה. 66°
- (16) א. $\alpha = 46^\circ, \beta = 23^\circ$ ב. $\alpha = 30^\circ, \beta = 28^\circ$ ג. $\alpha = \beta = 45^\circ$
- (17) א. $\alpha = 48^\circ$ ב. $\widehat{AB} = 118^\circ, \widehat{BC} = 78^\circ, \widehat{AD} = 112^\circ$ ג. 55°
- (18) 40°
- (19) $\alpha = 35^\circ, \beta = 95^\circ$
- (20) שאלת הוכחה.
- (21) 68.5°
- (22) $\sphericalangle G_1 = \sphericalangle G_2 = \sphericalangle G_3 = 45^\circ$
- (23) שאלת הוכחה.

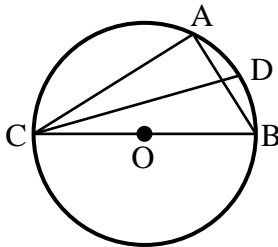
זווית היקפית הנשענת על קוטר:

סיכום כללי:

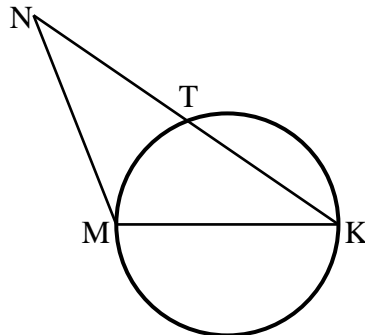
משפט:

1. זווית היקפית הנשענת על קוטר היא זווית ישרה.
(משפט הפוך) מיתר עליו נשענת זווית היקפית ישרה הוא קוטר.

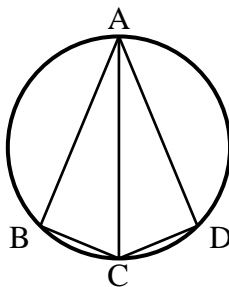
שאלות:



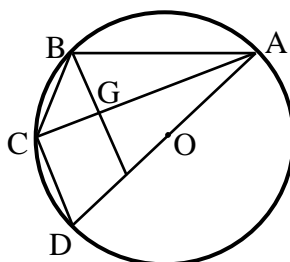
- (24)** המשולש ABC חסום במעגל שמרכזו O כך ש-BC הוא קוטר. מעבירים את המיתר CD המקיים: $\angle DCB = 20^\circ$. מצא את זווית CAD.



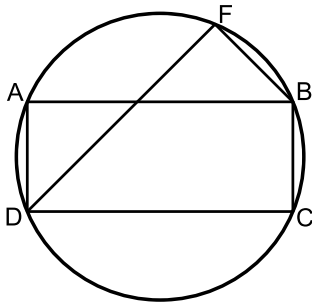
- (25)** MK הוא קוטר במעגל שלפניך. הקטע KN חותך את המעגל בנקודה T. מתקיים: $KT = NT$. הוכח כי: $MK = NM$.



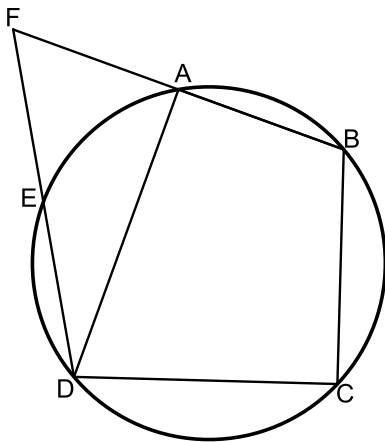
- (26)** מרובע ABCD חסום במעגל כאשר האלכסון AC הוא קוטר וחוצה את זווית BCD. הוכח כי ABCD הוא דלתון.



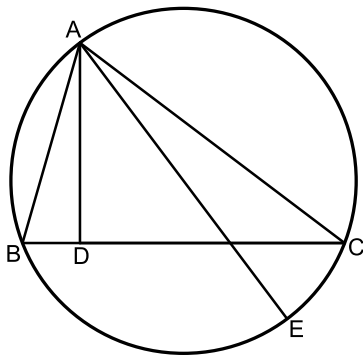
- (27)** AB, AC, AD, BC ו- CD הם מיתרים במעגל שמרכזו O (המיתר AD עובר ב-O). הקטע BE חותך את המיתר AC בנקודה G. נתון: $BE \parallel CD, BG = GE$. הוכח: $BC = CD$.



- (28)** המרובע ABCD הוא מלבן החסום במעגל.
 מהקדקוד D מעבירים את המיתר DF
 החותך את הצלע AB בנקודה E.
 ידוע כי: $\widehat{AF} = \widehat{CF}$.
 הצלע AD של המלבן תסומן ב- a .
 א. הוכח כי המשולש DAE הוא שווה שוקיים.
 ב. נתון גם כי: $BC = BF$.
 הבע באמצעות a את רדיוס המעגל.



- (29)** המרובע ABCD חסום במעגל.
 המשכי המיתרים AB ו-ED נפגשים בנקודה F.
 הקטע FD חותך את היקף המעגל בנקודה E
 כך שמתקיים: $\widehat{AB} = \widehat{AE}$.
 נתון כי הזווית BCD היא ישרה.
 א. הוכח כי הקטע DF שווה לקוטר המעגל.
 ב. נתון כי: $DF = BF$ וכי רדיוס המעגל
 הוא 12 ס"מ.
 הוכח כי המרובע AEDB הוא טרפז.
 ג. חשב את היקף הטרפז AEDB.



- (30)** משולש ABC חסום במעגל.
 AD גובה לצלע BC ו-AE קוטר במעגל.
 א. הוכח: $\angle BAD = \angle EAC$.
 נתון גם כי: $CE = \sqrt{21}, AD = 6, CD = 8$.
 ב. חשב את רדיוס המעגל.

תשובות סופיות:

- (24)** 110° .
(25) שאלת הוכחה.
(26) שאלת הוכחה.
(27) שאלת הוכחה.
(28) א. שאלת הוכחה. ב. $R = 1.3a$.
(29) א. שאלת הוכחה. ב. 5.5.
(30) א. $\alpha = 135^\circ$. ב. $\alpha = 45^\circ$. ג. $\alpha = 40^\circ$.

משיקים למעגל:

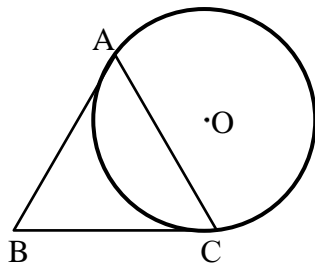
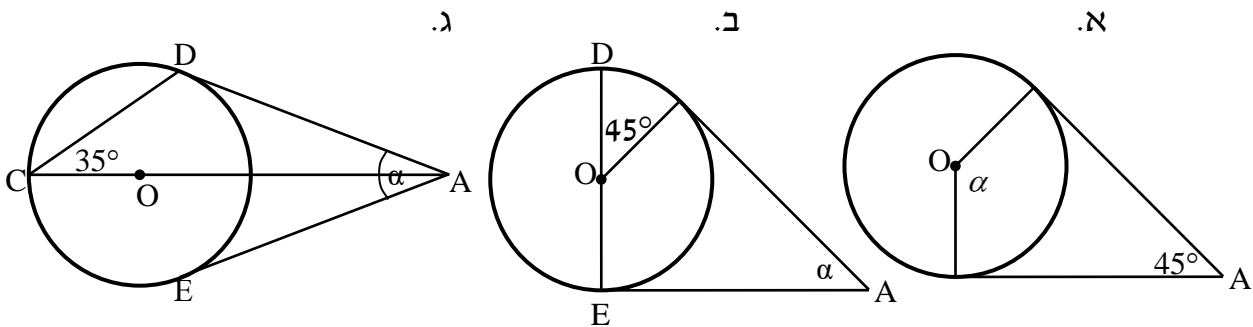
סיכום כללי:

משפטים העוסקים במשיק למעגל ושני משיקים למעגל:

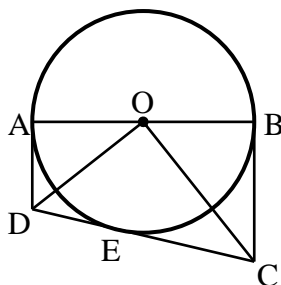
1. משיק מאונך לרדיוס בנקודת ההשקה. (משפט הפוך ל-8) קטע המאונך לרדיוס בקצהו משיק למעגל.
2. שני משיקים למעגל היוצאים מאותה נקודה שווים זה לזה.
3. קטע המחבר את מרכז המעגל עם נקודה שממנה יוצאים שני משיקים חוצה את הזווית בין המשיקים.

שאלות:

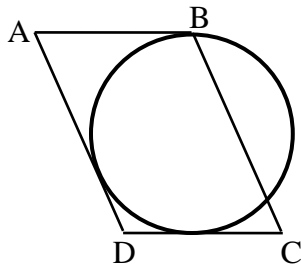
31 באיורים שלפניך נתונים שני משיקים למעגל היוצאים מנקודה A שמחוץ למעגל. מרכזי המעגלים מסומן ב-O. מצא את α בכל מקרה.



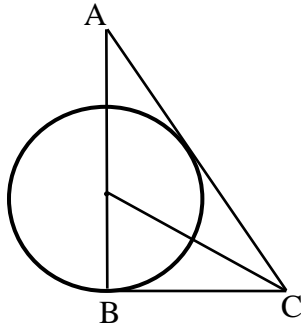
32 המשולש ABC הוא שווה שוקיים ($AB = AC$). המעגל O משיק לצלעות AB ו-BC בנקודות A ו-C. הוכח כי ABC הוא שווה צלעות.



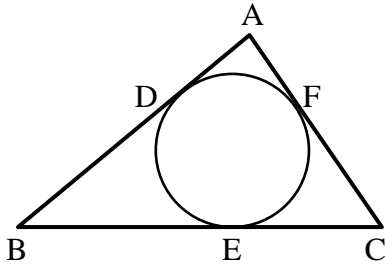
33 במעגל O מעבירים קוטר AB ושלושה משיקים AD, CD ו-BC. E היא נקודת ההשקה של CD עם המעגל. הוכח כי: $\angle COD = 90^\circ$.



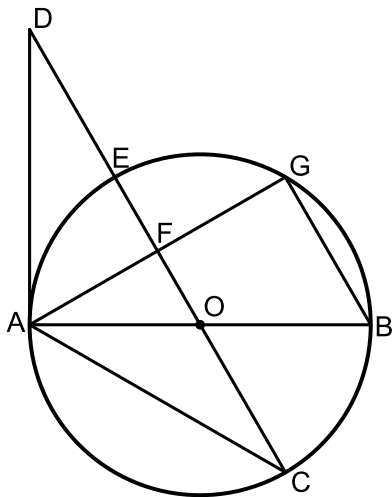
34 הצלעות AB , AD ו- DC של המקבילית $ABCD$ משיקות למעגל בנקודות B , L ו- K בהתאמה (ראה שרטוט). נתון: $BC = 14$ ס"מ, $CK = 6$ ס"מ. חשב את היקף המקבילית.



35 הצלעות AC ו- BC של המשולש ABC משיקות למעגל שמרכזו O , בנקודות K ו- B בהתאמה. הצלע AB עוברת בנקודה O . נתון: $AB = 15$ ס"מ, $AK = CK$.
א. חשב את גודלה של זווית A .
ב. חשב את אורכו של רדיוס המעגל.



36 משולש ABC חוסם מעגל אשר משיק לצלעותיו בנקודות D , E ו- F כמתואר באיור. נתון כי: $AC = 18$ ס"מ, $BD = 14$ ס"מ. מצא את היקף המשולש ABC .



37 AB הוא קוטר במעגל שמרכזו O . מהנקודה A מעבירים את המיתרים AC ו- AG . ואת המשיק AD כך שהמשולש ACD שווה שוקיים. הישר CD חותך את היקף המעגל בנקודה E , את המיתר AG בנקודה F ועובר דרך מרכז המעגל O . המיתר BG מקביל לישר החותך CD .
א. חשב את זוויות המשולש ACD .
ב. הוכח כי: $AF = FG$.
ג. רדיוס המעגל יסומן ב- R . הוכח כי: $DC = 3R$.

תשובות סופיות:

- (31) א. $\alpha = 135^\circ$
(32) שאלת הוכחה.
(33) שאלת הוכחה.
(34) 48 ס"מ.
(35) א. 30°
(36) 64 ס"מ.
(37) א. $30^\circ, 30^\circ, 120^\circ$. ב. שאלת הוכחה. ג. שאלת הוכחה.
- ב. $\alpha = 45^\circ$
ג. $\alpha = 40^\circ$
- ב. 5 ס"מ.

משיק ומיתר:

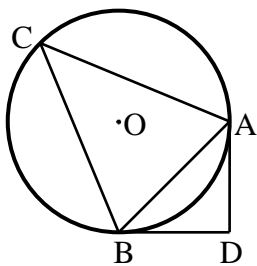
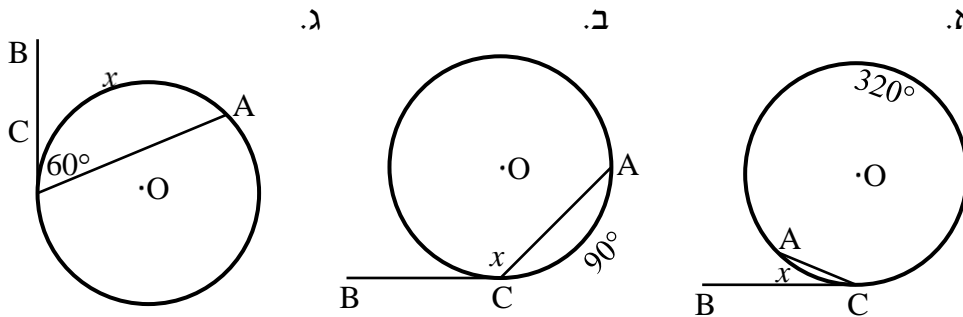
סיכום כללי:

משפט:

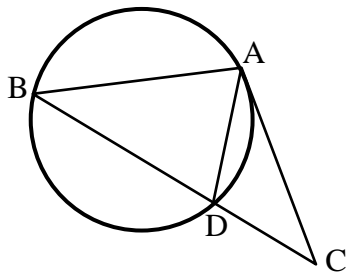
1. הזווית הכלואה בין משיק למיתר שווה לזווית ההיקפית הנשענת על המיתר מצדו השני.

שאלות:

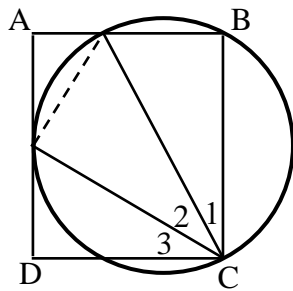
38) באיורים שלפניך נתון מעגל שמרכזו O, מיתר AC ומשיק BC בנקודה C. מצא את x.



39) ABC הוא משולש שווה שוקיים ($AC = BC$) החסום במעגל שמרכזו O. מהקדקודים A ו-B מעבירים משיקים אשר נחתכים בנקודה D. ידוע כי זווית הבסיס במשולש ABC היא 68° . חשב את זווית ADB.



40) AC הוא משיק למעגל בנקודה A. BC חותך את המעגל בנקודה D. נתון כי $AD = CD$, הוכח: $AB = AC$.



- 41** הקדקודים B ו-C של המלבן ABCD מונחים על מעגל. צלע AD משיקה למעגל בנקודה G והצלע AB חותכת את המעגל בנקודה H.
 הוכח: $\sphericalangle C_2 = \sphericalangle C_3$.
 (הדרכה: סמן $\sphericalangle AGH = \alpha$.)

תשובות סופיות:

- 38** א. $x = 20^\circ$ ב. $x = 135^\circ$ ג. $x = 120^\circ$
- 39** 92°
- 40** שאלת הוכחה.
- 41** שאלת הוכחה.

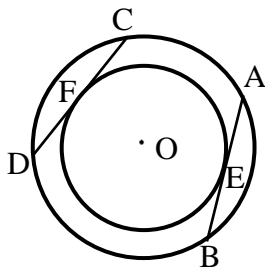
שני מעגלים:

סיכום כללי:

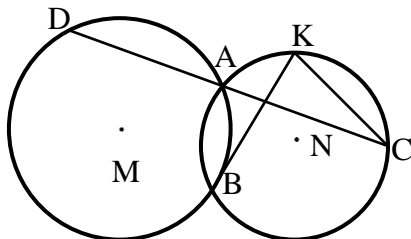
משפטים העוסקים בשני מעגלים:

1. קטע המרכזים של שני מעגלים נחתכים חוצה את המיתר המשותף ומאונך לו.
2. קטע המרכזים (או המשכו) של שני מעגלים משיקים עובר בנקודת ההשקה.

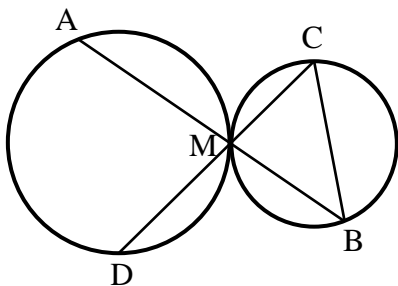
שאלות:



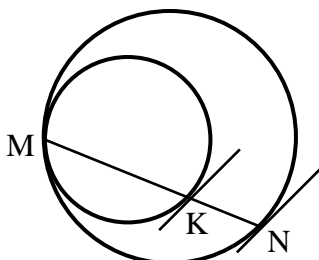
- 42** נתונים שני מעגלים בעלי מרכז משותף O. דרך שתי נקודות E ו-F שעל היקף המעגל הפנימי מעבירים משיקים אשר חותכים את המעגל החיצוני בנקודות A, B, C ו-D. הוכח כי המיתרים AB ו-CD הנוצרים באופן זה שווים.



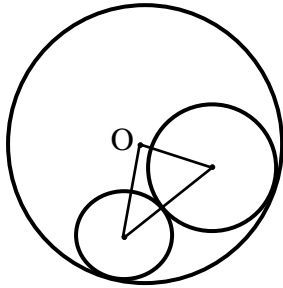
- 43** שני מעגלים M ו-N נחתכים בנקודות A ו-B. הישר CD עובר דרך הנקודה A. מעבירים משיק למעגל M בנקודה B החותך את המעגל N בנקודה K. הוכח כי: $CK \parallel BD$.



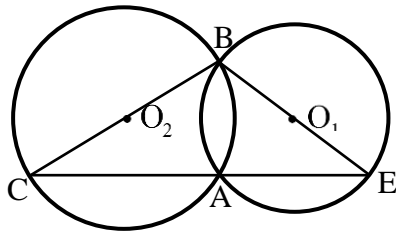
- 44** שני מעגלים משיקים זה לזה מבחוץ בנקודה M. דרך הנקודה M מעבירים שני ישרים חותכים האחד חותך את המעגל השמאלי בנקודה A ואת הימני בנקודה B והאחר חותך את המעגל השמאלי בנקודה D ואת הימני בנקודה C. הוכח כי $AD \parallel BC$.



- 45** שני מעגלים משיקים זה לזה מבפנים בנקודה M. מעבירים מיתר MN במעגל החיצוני אשר חותך את המעגל הפנימי בנקודה K. הוכח כי המשיקים לשני המעגלים בנקודות N ו-K מקבילים זה לזה.



- 46) המעגלים שמרכזיהם M ו-G משיקים מבחוץ זה לזה ומשיקים מבפנים למעגל שמרכזו O. נתון כי רדיוס המעגל שמרכזו O הוא 8 ס"מ. חשב את היקף המשולש OMG .



- 47) שני מעגלים שמרכזיהם O_1 ו- O_2 נחתכים בנקודות A ו-B.

מעבירים את הקטרים BC ו-BE.

א. הוכח כי הנקודות C, E ו-A

נמצאות על ישר אחד.

ב. הוכח כי O_1O_2 הוא קטע אמצעים

במשולש BCE.

תשובות סופיות:

42) שאלת הוכחה.

43) שאלת הוכחה.

44) שאלת הוכחה.

45) שאלת הוכחה.

46) 16 ס"מ.

47) שאלת הוכחה.

מעגל חוסם ומעגל חסום:

סיכום כללי:

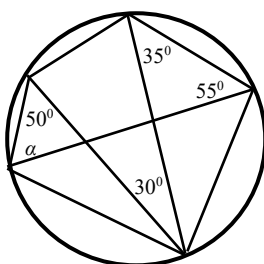
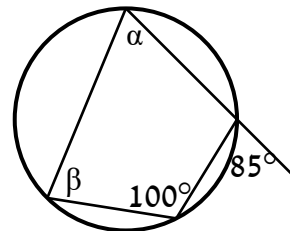
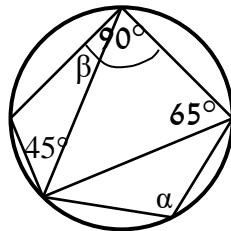
משפטים העוסקים במעגל חוסם ומעגל חסום:

1. מרכז מעגל החוסם משולש הוא מפגש האנכים האמצעיים במשולש.
2. מרכז מעגל החסום במשולש הוא מפגש חוצי הזווית במשולש.
3. במרובע החסום במעגל, סכום כל שתי זוויות נגדיות הוא 180° .
(משפט הפוך) אם במרובע סכום זוג זוויות נגדיות הוא 180° , המרובע בר חסימה במעגל.
4. במרובע החוסם מעגל סכום זוג צלעות נגדיות שווה לסכום הזוג השני.
(משפט הפוך) אם במרובע סכום זוג צלעות נגדיות שווה לסכום הזוג השני אז ניתן לחסום בתוכו מעגל.
5. כל מצולע משוכלל ניתן לחסום במעגל וניתן לחסום בתוכו מעגל.

שאלות:

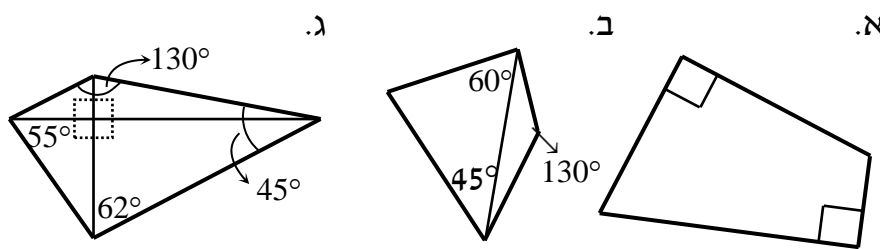
- 48** AD הוא התיכון לצלע BC במשולש ABC.
 א. הוכח: אם מרכז המעגל החסום במשולש ABC נמצא על AD אז המשולש ABC הוא שווה שוקיים.
 ב. בהמשך לסעיף א', האם מרכז המעגל החוסם את משולש ABC נמצא על AD?

- 49** מצא את הנעלמים בכל אחד מהסרטוטים שלפניך:
 א.
 ב.

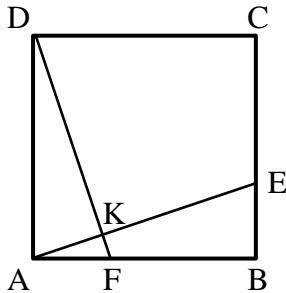


- 50** חשב את גודלה של הזווית α בסרטוט הבא:

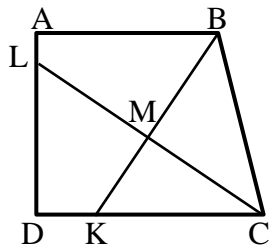
51) קבע אלו מהמרובעים הבאים ניתן לחסום במעגל:



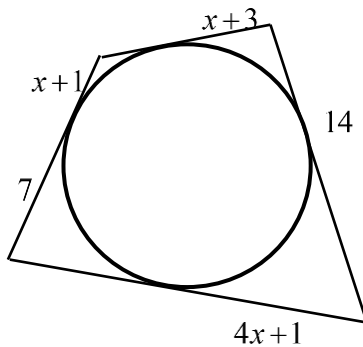
52) בריבוע ABCD נתון כי $AF = BE$. הנקודה K היא חיתוך של הקטעים AE ו-DF. הוכח כי את המרובע DKEC ניתן לחסום במעגל.



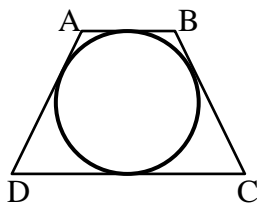
53) בטרפז ישר זווית ABCD שבו השוק AD מאונכת לבסיסים AB ו-DC הנקודות K ו-L נמצאות על הצלעות DC ו-AD בהתאמה, כך שהקטעים BK ו-CL הם חוצי הזוויות B ו-C בהתאמה. חוצי הזוויות נפגשים בנקודה M. הוכח: את המרובע DKML ניתן לחסום במעגל. הערה: בסרטון השאלה מוצגת ללא הסרטוט הנתון.



54) חשב את גודלו של x בשרטוט הבא:



55) בטרפז שווה שוקיים ABCD ($AB \parallel CD$) שהיקפו 60 ס"מ וזוויות הבסיס החדות שלו הן 60° חסום מעגל. מצא את אורכי צלעות הטרפז.



תשובות סופיות:

(48) שאלת הוכחה.

(49) א. $\alpha = 80^\circ$, $\beta = 85^\circ$ ב. $\alpha = 110^\circ$, $\beta = 20^\circ$.

(50) $\alpha = 70^\circ$.

(51) ניתן לחסום את מרובע אי בלבד.

(52) שאלת הוכחה.

(53) שאלת הוכחה.

(54) $x = 2$

(55) 15 ס"מ, 15 ס"מ, 7.5 ס"מ, 22.5 ס"מ.

שטחים והיקפים במעגל:

שאלות:

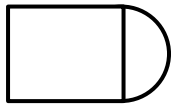
56) ענה על השאלות הבאות:

א. היקפו של עיגול הוא 44 ס"מ. חשב את שטחו.

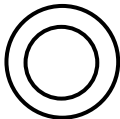


ב. הצורה שבאיור היא $\frac{3}{4}$ עיגול.

היקף הצורה שווה ל-45 ס"מ.
חשב את אורך הרדיוס של העיגול.

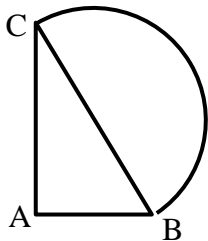


ג. שטח צורה המורכבת מריבוע וחצי עיגול הוא 30 סמ"ר.
חשב את רדיוס חצי העיגול.



ד. שטח טבעת הוא 55π סמ"ר.

הרדיוס הפנימי הוא 3 ס"מ.
חשב את הרדיוס החיצוני של הטבעת.



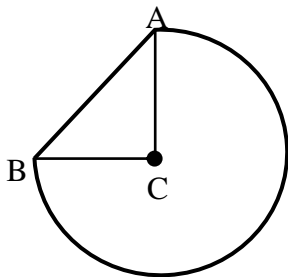
57) נתון משולש ישר זווית ABC, ($\angle A = 90^\circ$).

על היתר BC בונים חצי עיגול.

נתון: $AB = 10$ ס"מ, $AC = 24$ ס"מ, $BC = 26$ ס"מ.

א. חשב את היקף הצורה המורכבת.

ב. חשב את שטח הצורה המורכבת.



58) באיור שלפניך שלושה רבעי עיגול החסומים

ע"י הקטע AB ומשולש ישר זווית ABC (C מרכז העיגול).

ידוע כי רדיוס העיגול הוא 14 ס"מ

וכי אורך הקטע AB הוא 19.8 ס"מ.

א. חשב את היקף הצורה המורכבת.

ב. חשב את שטח הצורה המורכבת.

59) באיור שלפניך נתון טרפז שווה שוקיים ABCD, ($AB \parallel CD, AD = BC$).

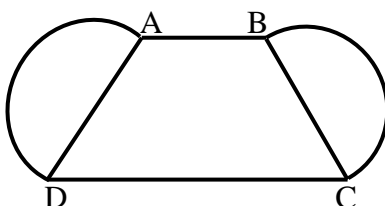
על שוקי הטרפז בונים חצאי עיגולים.

נתון: $AB = 10$ ס"מ, $CD = 16$ ס"מ, $BC = 12$ ס"מ.

אורך גובה הטרפז הוא 11.6 ס"מ.

א. חשב את היקף הצורה המורכבת.

ב. חשב את שטח הצורה המורכבת.



60 נתון טרפז $ABCD$, $(AB \parallel CD)$. מעבירים את האלכסון AC אשר מאונך

לבסיסים AB ו- DC של הטרפז. על השוק BC בונים חצי עיגול.

נתון: $AB = 24$ ס"מ, $AC = 18$ ס"מ.

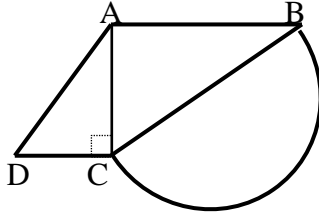
שטח הטרפז הוא 283.5 סמ"ר.

א. מצא את הבסיס DC .

ב. חשב את רדיוס העיגול.

ג. חשב את היקף הצורה המורכבת.

ד. חשב את שטח הצורה המורכבת.



61 המרובע $ABCD$ הוא מקבילית.

על הצלעות AD ו- BC בונים שני חצאי עיגול זהים בעלי רדיוס R .

מעבירים את האלכסון AC .

ידוע כי האלכסון AC מאונך לצלע BC .

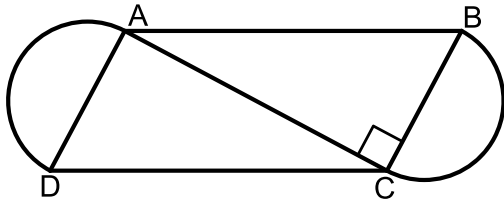
נתון: $AB = 4R + 1$, $AC = 4R - 1$.

א. מצא את רדיוס העיגולים, R .

ב. חשב את היקף המקבילית $ABCD$.

ג. חשב את השטח של הצורה המורכבת

מהמקבילית ושני חצאי העיגולים.



62 נתון מעגל שאורך רדיוסו הוא 16 ס"מ.

חשב את אורך הקשת ואת שטח הגזרה המתאימות לזווית מרכזית

בכל אחד מהמקרים הבאים:

א. 60°

ב. 45°

ג. 270°

ד. 17°

63 על הרדיוס OA של מעגל O בונים חצי מעגל אשר קוטרו הוא OA .

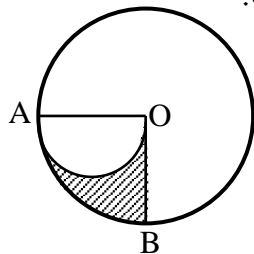
ידוע כי $\angle BOA = 90^\circ$.

א. חשב את השטח המקווקו OBA

אם ידוע כי $OA = 10$ ס"מ.

ב. הוכח באופן כללי כי שטח הגזרה OBA

שווה לשטח חצי מעגל אשר קוטרו הוא OA .

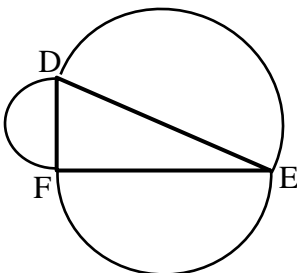


64 על הצלעות של משולש ישר זווית $\triangle DEF$ ($\angle F = 90^\circ$)

בונים חצאי מעגלים.

הוכח כי שטח חצי המעגל הבנוי על היתר שווה

לסכום שטחי חצאי המעגלים הבנויים על הניצבים.



תשובות סופיות:

- (56) א. $S = \frac{484}{\pi}$ סמ"ר
 ב. $R = 6.706$ ס"מ
 ג. $R = 2.32$ ס"מ
 ד. $R = 8$ ס"מ
- (57) א. $P = 74.84$ ס"מ
 ב. $S = 385.46$ סמ"ר
- (58) א. $P = 85.77$ ס"מ
 ב. $S = 559.814$ סמ"ר
- (59) א. $P = 63.7$ ס"מ
 ב. $S = 263.89$ סמ"ר
- (60) א. $DC = 7.5$ ס"מ
 ב. $R = 15$ ס"מ
 ג. $P = 98.12$ ס"מ
 ד. $S = 636.929$ סמ"ר
- (61) א. $R = 4$ ס"מ
 ב. $P_{ABCD} = 50$ ס"מ
 ג. $S = 120 + 16\pi \approx 170.26$ סמ"ר
- (62) א. $S = 42\frac{2}{3}\pi$ סמ"ר, $l = 5\frac{1}{3}\pi$ ס"מ
 ב. $S = 32\pi$ סמ"ר, $l = 4\pi$ ס"מ
- (63) א. 12.5π סמ"ר
 ב. שאלת הוכחה.
 ג. $S = 192\pi$ סמ"ר, $l = 24\pi$ ס"מ
 ד. $S = 12.08\pi$ סמ"ר, $l = 1.51\pi$ ס"מ
- (64) שאלת הוכחה.

הכנה למבחן כניסה למכינה במתמטיקה

פרק 17 - טריגונומטריה במשולש ישר זווית

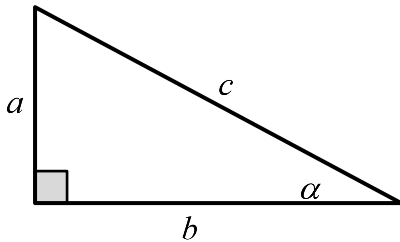
תוכן העניינים

1. משולש ישר זווית.....260

משולש ישר זווית:

סיכום כללי:

הגדרות הפונקציות הטריגונומטריות:



$$\sin \alpha = \frac{\text{הניצב שמול הזווית}}{\text{היתר}} = \frac{a}{c}$$

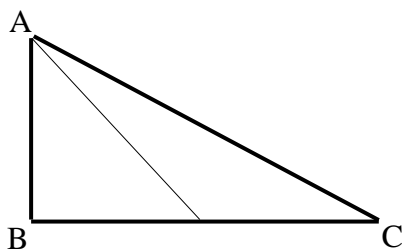
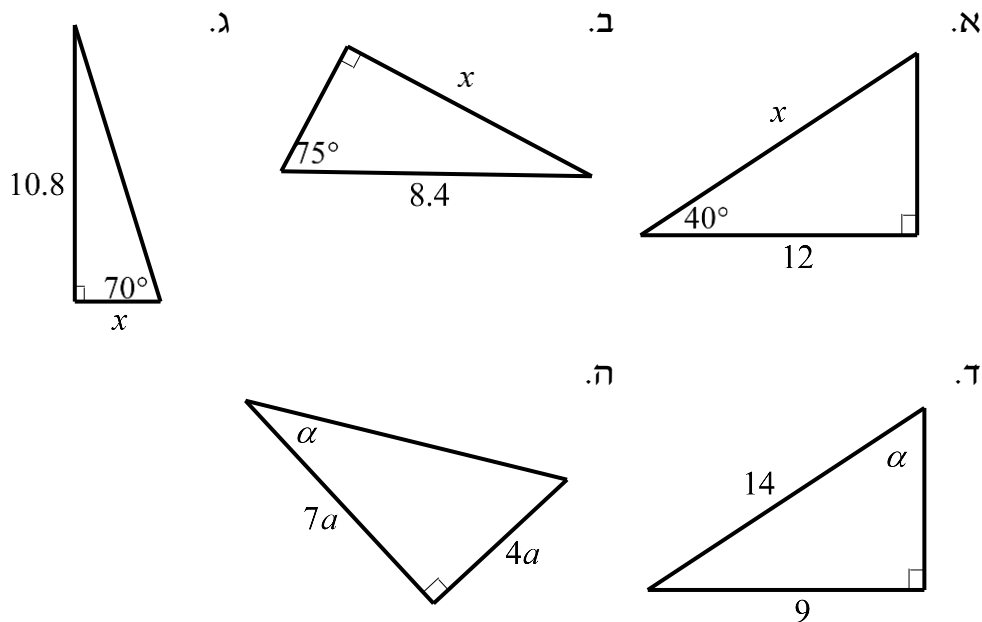
$$\cos \alpha = \frac{\text{הניצב שליד הזווית}}{\text{היתר}} = \frac{b}{c}$$

$$\tan \alpha = \frac{\text{הניצב שמול הזווית}}{\text{הניצב שליד הזווית}} = \frac{a}{b}$$

$$a^2 + b^2 = c^2: \text{משפט פיתגורס}$$

שאלות:

1) מצא את ערכו של α/x במשולשים ישרי הזווית הבאים:



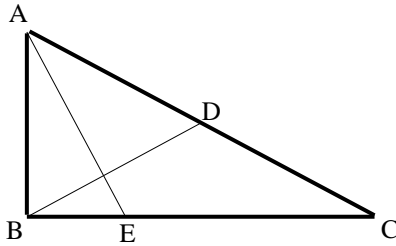
2) המשולש ABC שבציור הוא משולש

ישר זווית ($\sphericalangle B = 90^\circ$).

AD הוא התיכון לניצב BC.

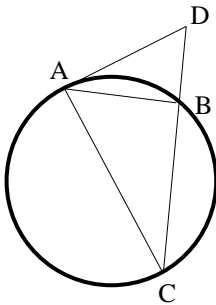
נתון: $\sphericalangle C = 28^\circ$, $AB = 6$ ס"מ.

מצא את AD ואת $\sphericalangle BAD$.



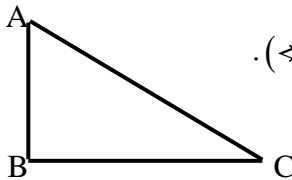
- (3) המשולש ABC שבציור הוא משולש ישר זווית ($\angle B = 90^\circ$). BD הוא התיכון ליתר ו-AE הוא חוצה הזווית $\angle A$. נתון: $BC = 8$ ס"מ, $BD = 5.6$ ס"מ. מצא את BE ואת $\angle BAE$.

- (4) מצא את זוויותיו של מעוין שאורכי אלכסונו 24 ס"מ ו-18 ס"מ.

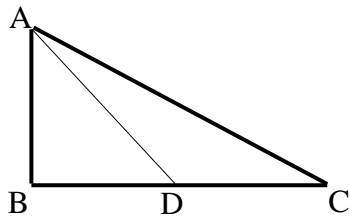


- (5) המשולש ABC חסום במעגל כך שהצלע AC היא קוטר המעגל. המשיק למעגל בנקודה A והמשך הצלע CB נפגשים בנקודה D. נתון: $\angle DAB = 32^\circ$, $BD = 4$ ס"מ. מצא את אורכו של רדיוס המעגל.

- (6) במשולש שווה שוקיים שבו השוק ארוכה ב-4 ס"מ מהבסיס נתון כי זווית הראש היא 34.92° . מצא את שטח המשולש.

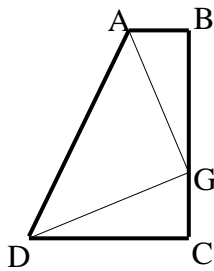


- (7) המשולש ABC שבציור הוא משולש ישר זווית ($\angle B = 90^\circ$). נתון: $AB = a$, $\angle A = \alpha$. הבע באמצעות α ו- a את היקף המשולש.

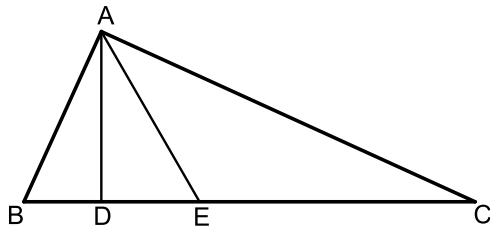


- (8) המשולש ABC שבציור הוא משולש ישר זווית ($\angle B = 90^\circ$). AD הוא התיכון לניצב BC. נתון: $AB = b$, $\angle C = \alpha$. הבע באמצעות α ו- b את אורכי הקטעים AD ו-BD.

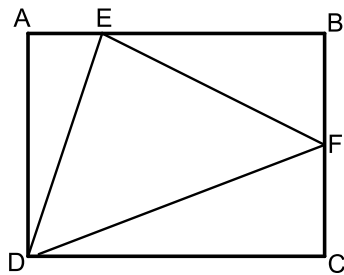
- (9) במשולש ישר זווית אחת הזוויות החדות היא α ואורך חוצה הזווית זו הוא k . הבע באמצעות α ו- k את שטח המשולש ואת אורך היתר.



- 10** טרפז ABCD הוא טרפז ישר זווית ($\angle B = \angle C = 90^\circ$). הנקודה G נמצאת על השוק BC כך ש- $AG \perp DG$. נתון: $\angle BAG = \beta$, $AG = DG = m$. הבע באמצעות β ו- m את שטח הטרפז.



- 11** המשולש ABC הוא ישר זווית ($\angle A = 90^\circ$). הקטעים AD ו- AE הם בהתאמה גובה ליתר וחוצה זווית. מסמנים: $\angle DAE = \alpha$, $DE = k$.
א. הבע באמצעות k ו- α את שטח המשולש ABC.
ב. חשב את שטח המשולש ABC אם ידוע כי: $\alpha = 30^\circ$ ו- $k = 2$.

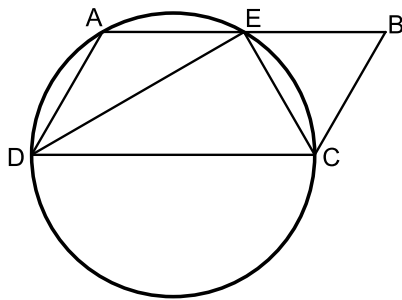


- 12** במלבן ABCD מסמנים את הנקודות E ו- F הנמצאות על הצלעות AB ו- BC בהתאמה כך ש- E מקיימת: $3AE = BE$ ו- F היא אמצע הצלע BC. אורך הצלע AD שווה לאורך הקטע BE. מעבירים את הקטעים EF, DF ו- DE כך שנוצר במשולש DEF.
א. סמן ב- t את אורך הקטע AE והבע באמצעות t את אורכי צלעות המשולש DEF.
ב. חשב את זוויות המשולש EDF.

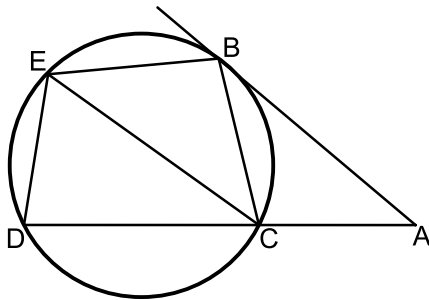
- 13** משולש שווה שוקיים שאורך שוקו k וזווית הבסיס שלו היא β חוסם מעגל. הבע באמצעות β ו- k את רדיוס המעגל.

- 14** בטרפז ישר זווית חסום מעגל. אורך השוק הארוכה בטרפז היא b והזווית שהיא יוצרת עם הבסיס הגדול היא α . הבע באמצעות α ו- b את אורכו של הבסיס הגדול בטרפז ואת שטחו.

הערה: השאלות הבאות משלבות ידע בגיאומטריה ובטריגונומטריה יחד:



- 15** דרך הקודקודים A, C ו- D של המקבילית $ABCD$ מעבירים מעגל. היקף המעגל חוצה את הצלע AB בנקודה E , $(AE = BE)$. נתון כי DC הוא קוטר במעגל וכי המיתר DE חוצה את זווית D .
- הוכח כי המיתר CE חוצה את זוויות C .
 - רדיוס המעגל יסומן ב- R .
 - הבע באמצעות R את היקף המקבילית.
 - מצא את רדיוס המעגל אם ידוע כי שטח המקבילית הוא $16\sqrt{3}$ סמ"ר.



- 16** מהנקודה A שמחוץ למעגל מעבירים משיק AB וישר חותך ACD . מעבירים את המיתרים BC ו- BE אשר זהים באורכם. כמו כן מעבירים את המיתר DE . אורך המיתר CE שונה מאורך המשיק AB .
- הוכח כי המרובע $ABEC$ הוא טרפז.
 - הוכח כי: $\angle BEC = 2 \cdot \angle EDC$.
 - נתונים: $\angle A = 40^\circ$, $AC = 6$ ס"מ, $AB = 9$ ס"מ, $CE = 8$ ס"מ. חשב את שטח המרובע $ABEC$.

תשובות סופיות:

$$(1) \quad \text{א. } x = 15.665 \quad \text{ב. } x = 8.114 \quad \text{ג. } x = 3.931 \quad \text{ד. } \alpha = 40.005^\circ \quad \text{ה. } \alpha = 29.745^\circ$$

$$(2) \quad AD = 8.236 \text{ ס"מ}, \quad \angle BAD = 43.24^\circ$$

$$(3) \quad BE = 3.294 \text{ ס"מ}, \quad \angle BAE = 22.792^\circ$$

$$(4) \quad 73.74^\circ, 73.74^\circ, 106.26^\circ, 106.26^\circ$$

$$(5) \quad R = 6.04 \text{ ס"מ}$$

$$(6) \quad S = 28.618 \text{ סמ"ר}$$

$$(7) \quad P = a \left(1 + \tan \alpha + \frac{1}{\cos \alpha} \right)$$

$$(8) \quad AD = \sqrt{b^2 + \frac{b^2}{4 \tan^2 \alpha}}, \quad BD = \frac{b}{2 \tan \alpha}$$

$$(9) \quad AC = \frac{k \cos \frac{\alpha}{2}}{\cos \alpha}, \quad S = \frac{k^2 \cos^2 \frac{\alpha}{2} \tan \alpha}{2}$$

$$(10) \quad \frac{(m \sin \beta + m \cos \beta)^2}{2}$$

$$(11) \quad \text{א. } S = \frac{k^2}{\cos 2\alpha \tan^2 \alpha} \quad \text{ב. } 24 \text{ סמ"ר}$$

$$(12) \quad \text{א. } DE = t\sqrt{10}, EF = t\sqrt{11.25}, DF = t\sqrt{18.25} \quad \text{ב. } 81.86^\circ, 51^\circ, 47.14^\circ$$

$$(13) \quad R = k \cos \beta \tan \frac{\beta}{2}$$

$$(14) \quad \frac{1}{2} b \sin \alpha + \frac{\frac{1}{2} b \sin \alpha}{\tan \frac{\alpha}{2}}, \quad S = \frac{1}{2} b^2 \sin \alpha (1 + \sin \alpha)$$

$$(15) \quad \text{א. שאלת הוכחה.} \quad \text{ב. } 6R \quad \text{ג. } 4 \text{ ס"מ}$$

$$(16) \quad \text{א. שאלת הוכחה.} \quad \text{ב. שאלת הוכחה.} \quad \text{ג. } 32.78 \text{ סמ"ר}$$

הכנה למבחן כניסה למכינה במתמטיקה

פרק 18 - זהויות טריגונומטריות

תוכן העניינים

265	1. זהויות יסוד
269	2. ערכי הפונקציות הטריגונומטריות עבור זוויות מיוחדות
271	3. מעגל היחידה
274	4. סכום והפרש זוויות
278	5. זווית כפולה
281	6. סכום והפרש פונקציות
284	7. מכפלת פונקציות

זהויות יסוד:

סיכום כללי:

$\sin^2 \alpha + \cos^2 \alpha = 1$ $\tan \alpha \cdot \cot \alpha = 1$	$\tan \alpha = \frac{\sin \alpha}{\cos \alpha}$, $\cot \alpha = \frac{\cos \alpha}{\sin \alpha}$	קשרים בין פונקציות
$\sin \alpha = \cos(90^\circ - \alpha)$	$\cos \alpha = \sin(90^\circ - \alpha)$	זוויות משלימות ל- 90°
$\tan \alpha = \cot(90^\circ - \alpha)$	$\cot \alpha = \tan(90^\circ - \alpha)$	
$\tan^2 \alpha + 1 = \frac{1}{\cos^2 \alpha}$	$\cot^2 \alpha + 1 = \frac{1}{\sin^2 \alpha}$	קשרים בין פונקציות

שאלות:

הוכחת זהויות יסודיות:

הוכח את הזהויות הבאות תוך שימוש בזהויות היסוד:

$$\frac{1 - \sin^2 \alpha}{\cos^2 \alpha} = 1 \quad (2)$$

$$\sin^2 \alpha + 2 \cos^2 \alpha = 1 + \cos^2 \alpha \quad (4)$$

$$(\sin \alpha + \cos \alpha)^2 + (\sin \alpha - \cos \alpha)^2 = 2 \quad (6)$$

$$\sin^2(\alpha + 45^\circ) + \sin^2(45^\circ - \alpha) = 1 \quad (8)$$

$$\frac{\sin \alpha (1 - \cos^2 \alpha)}{\cos^3 \alpha} = \tan^3 \alpha \quad (10)$$

$$\cos^2 \alpha (1 + \tan^2 \alpha) = 1 \quad (12)$$

$$\frac{\sin^3 \alpha}{\sin(90^\circ - \alpha) - \cos^3 \alpha} = \tan \alpha \quad (14)$$

$$\frac{1 - 2 \sin^2 \alpha \cos^2 \alpha}{\sin^2 \alpha \cdot \cos^2 \alpha} = \tan^2 \alpha + \cot^2 \alpha \quad (16)$$

$$\tan \alpha \cdot \cos \alpha = \sin \alpha \quad (1)$$

$$\frac{\sin \alpha}{\sqrt{1 - \sin^2 \alpha}} = \tan \alpha \quad (3)$$

$$\frac{\sin^2 \alpha}{1 + \cos \alpha} + \frac{\sin^2 \alpha}{1 - \cos \alpha} = 2 \quad (5)$$

$$\frac{\cos(90^\circ - \alpha)}{\cos \alpha} = \tan \alpha \quad (7)$$

$$\sqrt{1 + \tan^2 \alpha} \cdot \sqrt{1 - \cos^2 \alpha} = \tan \alpha \quad (9)$$

$$\frac{\sin(90^\circ - \alpha) - \cos^3 \alpha}{\sin^3 \alpha} = \cot \alpha \quad (11)$$

$$\frac{\sin \alpha \cdot \cos \alpha}{1 - \cos^2 \alpha} = \cot \alpha \quad (13)$$

$$\tan^2 \alpha - \sin^2 \alpha = \tan^2 \alpha \sin^2 \alpha \quad (15)$$

הוכחות מתקדמות:

$$(17) \quad \frac{1 + \cos \alpha}{1 - \cos \alpha} + \frac{1 - \cos \alpha}{1 + \cos \alpha} = 2 + 4 \cot^2 \alpha \quad \text{הוכח את הזהות הבאה:}$$

$$(18) \quad \frac{1 + \tan \alpha}{1 - \tan \alpha} + \frac{1 - \tan \alpha}{1 + \tan \alpha} = \frac{2}{\cos^2 \alpha - \sin^2 \alpha} \quad \text{הוכח את הזהות הבאה:}$$

$$(19) \quad (\cot \alpha - \tan \alpha)(\cot \alpha + \tan \alpha) = (1 + \cot^2 \alpha)(1 + \tan^2 \alpha) \quad \text{הוכח את הזהות הבאה:}$$

$$(20) \quad \frac{\sin^4 \alpha + \cos^2 \alpha - \sin^2 \alpha}{\cos^4 \alpha + \sin^2 \alpha - \cos^2 \alpha} = \cot^4 \alpha \quad \text{הוכח את הזהות הבאה:}$$

$$(21) \quad 1 - \sin^2 \alpha (1 + \cos^2 \alpha) = \cos^4 \alpha \quad \text{הוכח את הזהות הבאה:}$$

$$(22) \quad \left(\sqrt{\frac{1 + \cos \alpha}{1 - \cos \alpha}} + \sqrt{\frac{1 - \cos \alpha}{1 + \cos \alpha}} \right)^2 = 4 + 4 \cot^2 \alpha \quad \text{הוכח את הזהות הבאה:}$$

$$(23) \quad \sin^2 \alpha \cos^2 \beta - \sin^2 \beta \cos^2 \alpha = \sin^2 \alpha - \sin^2 \beta \quad \text{הוכח את הזהות הבאה:}$$

$$(24) \quad \frac{\tan \alpha + \tan \beta}{\cot \alpha + \cot \beta} = \tan \alpha \tan \beta \quad \text{הוכח את הזהות הבאה:}$$

הבעת ביטויים וחישובים באמצעות זהויות יסוד:

$$(25) \quad \text{נתון כי: } \sin \alpha + \cos \alpha = k$$

הבע באמצעות k את ערכי הביטויים הבאים:

א. $\sin \alpha \cdot \cos \alpha$

ב. $\sin \alpha - \cos \alpha$

ג. $\tan \alpha + \cot \alpha$

ד. $\sin^3 \alpha + \cos^3 \alpha$

$$(26) \quad \text{נתון כי: } \sin \alpha = \frac{\sqrt{5}}{5}$$

מבלי למצוא את α חשב את: $\tan^2 \alpha - 2 \cot^2 \alpha$

(27) נתון כי: $\tan \alpha = \sqrt{7}$.

מבלי למצוא את α חשב את: $\frac{\sqrt{7} \sin \alpha + 6 \cos \alpha}{\sqrt{28} \sin \alpha - \cos \alpha}$.

(28) חשב את ערך המכפלה הבאה: $\tan 1^\circ \cdot \tan 2^\circ \cdot \tan 3^\circ \cdot \dots \cdot \tan 88^\circ \cdot \tan 89^\circ$.

תשובות סופיות:

- (1) שאלת הוכחה.
- (2) שאלת הוכחה.
- (3) שאלת הוכחה.
- (4) שאלת הוכחה.
- (5) שאלת הוכחה.
- (6) שאלת הוכחה.
- (7) שאלת הוכחה.
- (8) שאלת הוכחה.
- (9) שאלת הוכחה.
- (10) שאלת הוכחה.
- (11) שאלת הוכחה.
- (12) שאלת הוכחה.
- (13) שאלת הוכחה.
- (14) שאלת הוכחה.
- (15) שאלת הוכחה.
- (16) שאלת הוכחה.
- (17) שאלת הוכחה.
- (18) שאלת הוכחה.
- (19) שאלת הוכחה.
- (20) שאלת הוכחה.
- (21) שאלת הוכחה.
- (22) שאלת הוכחה.
- (23) שאלת הוכחה.
- (24) שאלת הוכחה.

$$(25) \text{ א. } \frac{k^2 - 1}{2} \quad \text{ב. } \pm\sqrt{2 - k^2} \quad \text{ג. } \frac{2}{k^2 - 1} \quad \text{ד. } \frac{k}{2}(3 - k^2)$$

$$(26) -7.75$$

$$(27) 1$$

$$(28) 1$$

ערכי הפונקציות הטריגונומטריות עבור זוויות מיוחדות:

סיכום כללי:

$\alpha = 90^\circ$	$\alpha = 60^\circ$	$\alpha = 45^\circ$	$\alpha = 30^\circ$	$\alpha = 0^\circ$	
1	$\frac{\sqrt{3}}{2}$	$\frac{\sqrt{2}}{2}$	$\frac{1}{2}$	0	$\sin \alpha$
0	$\frac{1}{2}$	$\frac{\sqrt{2}}{2}$	$\frac{\sqrt{3}}{2}$	1	$\cos \alpha$
ϕ	$\sqrt{3}$	1	$\frac{\sqrt{3}}{3}$	0	$\tan \alpha$
0	$\frac{\sqrt{3}}{3}$	1	$\sqrt{3}$	ϕ	$\cot \alpha$

הערות:

- ערכי הפונקציות הטריגונומטריות עבור זוויות של 0° ו- 90° תלמדנה בהמשך אך ניתנו כעת כדי להשלים את תמונת ערכי הזוויות.
- ניתן לזכור את הטבלה ע"י כתיבה של שורת הסינוס לפי: $\frac{\sqrt{4}}{2}, \frac{\sqrt{3}}{2}, \frac{\sqrt{2}}{2}, \frac{\sqrt{1}}{2}, \frac{\sqrt{0}}{2}$ אשר נותנים את הערכים של השורה הראשונה לאחר פישוט קל. עבור שורת ה- $\cos \alpha$ יש להפוך את הערכים ולבסוף יש לחלק כל זוג ביטויים כדי לכתוב את ערכי $\tan \alpha$ ולסובב עבור ערכי $\cot \alpha$.

שאלות:

חשב ללא מחשבון את ערכי הביטויים הבאים תוך שימוש בערכי הפונקציות הטריגונומטריות של זוויות מיוחדות:

$$1) \sin 30^\circ + \cos 30^\circ$$

$$2) \frac{\sin 30^\circ \cdot \cos 30^\circ}{\sin 60^\circ}$$

$$3) \tan 45^\circ + \frac{\sin 45^\circ}{\cos 45^\circ}$$

$$\cdot \frac{1 + \cos 60^\circ}{2 \sin 60^\circ} \quad (4)$$

$$\cdot \cos^2 45^\circ + \sin^2 30^\circ \quad (5)$$

$$\cdot \frac{\tan^2 60^\circ \cdot \cos^2 30^\circ}{\cos^2 60^\circ} \quad (6)$$

$$\cdot \frac{\tan 30^\circ \cdot \cot 60^\circ - \cot 45^\circ \cdot \tan 45^\circ}{4 \left(\sin^2 60^\circ - \frac{1}{4} \right)} \quad (7)$$

$$\cdot \frac{27 \cot^4 60^\circ}{\sin 30^\circ \cdot \cos 45^\circ \cdot \tan 60^\circ} \quad (8)$$

תשובות סופיות:

$$\frac{1 + \sqrt{3}}{2} \quad (1)$$

$$\frac{1}{2} \quad (2)$$

$$2 \quad (3)$$

$$\frac{3}{2\sqrt{3}} \quad (4)$$

$$\frac{3}{4} \quad (5)$$

$$9 \quad (6)$$

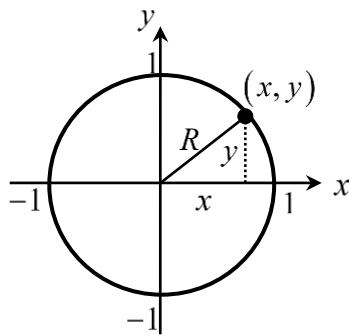
$$-\frac{1}{3} \quad (7)$$

$$2\sqrt{6} \quad (8)$$

מעגל היחידה – הגדרה וזהויות:

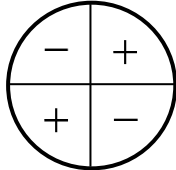
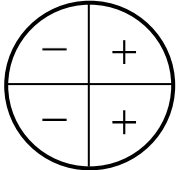
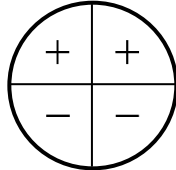
סיכום כללי:

הגדרת מעגל היחידה:



- מעגל קנוני שרדיוסו 1 מוגדר להיות המעגל הטריגונומטרי.
- הנקודות $(0, -1)$, $(-1, 0)$, $(0, 1)$, $(1, 0)$ מתאימות לזוויות של 270° , 180° , 90° , 0° .

הזהויות של המעגל הטריגונומטרי:

טנגנס	קוסינוס	סינוס	רביע
$\tan(180^\circ - \alpha) = -\tan \alpha$	$\cos(180^\circ - \alpha) = -\cos \alpha$	$\sin(180^\circ - \alpha) = \sin \alpha$	II
$\tan(180^\circ + \alpha) = \tan \alpha$	$\cos(180^\circ + \alpha) = -\cos \alpha$	$\sin(180^\circ + \alpha) = -\sin \alpha$	III
$\tan(-\alpha) = -\tan \alpha$	$\cos(-\alpha) = \cos \alpha$	$\sin(-\alpha) = -\sin \alpha$	VI
			סימנים

זהויות עבור זווית הגדולות מ-360 מעלות:

ניתן להוסיף או להוריד 'סיבובים' שלמים לזווית לפי:

$$\boxed{\sin(\alpha + 360^\circ k) = \sin \alpha} \quad \boxed{\tan(\alpha + 180^\circ k) = \tan \alpha}$$

$$\boxed{\cos(\alpha + 360^\circ k) = \cos \alpha} \quad \boxed{\cot(\alpha + 180^\circ k) = \cot \alpha}$$

כאשר k הוא מספר שלם מציין את מספר הסיבובים.

שאלות:

(1) העבר את הביטויים הבאים לביטויים עם זווית ברביע הראשון. אין צורך לחשב את ערך הביטוי:

א. $\sin 120^\circ$	ב. $\cos 150^\circ$
ג. $\tan 160^\circ$	ד. $\cot 130^\circ$
ה. $\sin 215^\circ$	ו. $\cos 245^\circ$
ז. $\tan 230^\circ$	ח. $\cot 200^\circ$
ט. $\sin 300^\circ$	י. $\cos 310^\circ$

(2) חשב את ערכי הביטויים הבאים ע"י שימוש בזהויות המעגל הטריגונומטרי:

א. $\sin 150^\circ$	ב. $\cos 210^\circ$	ג. $\tan 120^\circ$
ד. $\sin 330^\circ$	ה. $\tan 225^\circ$	ו. $\sin 315^\circ$
ז. $\cos 120^\circ$	ח. $\tan(-30^\circ)$	ט. $\cos(-45^\circ)$
י. $\sin 510^\circ$	יא. $\cos 930^\circ$	יב. $\tan(-225^\circ)$

(3) חשב את ערכי הביטויים הבאים ללא שימוש במחשבון:

$$\begin{aligned} \text{א. } & (\sin 240^\circ \cdot \tan 150^\circ + \cos(-60^\circ))^2 \\ \text{ב. } & 8\sin^2 150^\circ \cdot \tan 135^\circ - 2 \cdot \sin 135^\circ \cdot \cos(-135^\circ) \\ \text{ג. } & \frac{\cot 225^\circ}{\sin(-225^\circ) - \cos 135^\circ} + \tan^2 210^\circ \end{aligned}$$

(4) הוכח כי אם α, β ו- γ הן זוויות במשולש, אז מתקיים:

$$\begin{aligned} \text{א. } & \sin(\alpha + \beta) = \sin \gamma \\ \text{ב. } & \sin\left(\frac{\gamma + \beta}{2}\right) = \cos \frac{\alpha}{2} \end{aligned}$$

תשובות סופיות:

- | | | | |
|--------------------------|---------------------------------------|--------------------------|-------------------------|
| $-\cot 50^\circ$.ד | $-\tan 20^\circ$.ג | $-\cos 30^\circ$.ב | $\sin 60^\circ$.א (1 |
| $\cot 20^\circ$.ח | $\tan 50^\circ$.ז | $-\cos 65^\circ$.ו | $-\sin 35^\circ$.ה |
| | | $\cos 50^\circ$.י | $-\sin 60^\circ$.ט |
| $-\frac{1}{2}$.ד | $-\sqrt{3}$.ג | $-\frac{\sqrt{3}}{2}$.ב | $\frac{1}{2}$.א (2 |
| $-\frac{\sqrt{3}}{3}$.ח | $-\frac{1}{2}$.ז | $-\frac{\sqrt{2}}{2}$.ו | 1 .ה |
| -1 .יב | $-\frac{\sqrt{3}}{2}$.יא | $\frac{1}{2}$.י | $\frac{\sqrt{2}}{2}$.ט |
| | $\frac{1}{\sqrt{2}} + \frac{1}{3}$.ג | -1 .ב | 1 .א (3 |
- (4) שאלת הוכחה.

סכום והפרש זוויות:

סיכום כללי:

סכום והפרש עבור $\sin(\alpha \pm \beta)$ ו- $\cos(\alpha \pm \beta)$ יחושב לפי:

$$\begin{aligned} \sin(\alpha \pm \beta) &= \sin \alpha \cos \beta \pm \sin \beta \cos \alpha \\ \cos(\alpha \pm \beta) &= \cos \alpha \cos \beta \mp \sin \alpha \sin \beta \end{aligned}$$

סכום והפרש עבור $\tan(\alpha \pm \beta)$ ו- $\cot(\alpha \pm \beta)$

$$\begin{aligned} \tan(\alpha \pm \beta) &= \frac{\tan \alpha \pm \tan \beta}{1 \mp \tan \alpha \tan \beta} \\ \cot(\alpha \pm \beta) &= \frac{\cot \alpha \cot \beta \mp 1}{\cot \beta \pm \cot \alpha} \end{aligned}$$

הערה:

בסרטון התיאוריה אין התייחסות מיוחדת לזהויות עבור $\tan(\alpha \pm \beta)$ ו- $\cot(\alpha \pm \beta)$.

שאלות:

1) חשב את ערכי הביטויים הבאים תוך שימוש בזהויות של סכום והפרש זוויות וללא שימוש במחשבון:

- | | | |
|-----------------------|---------------------|-----------------------|
| א. $\sin 75^\circ$ | ב. $\sin 15^\circ$ | ג. $\sin 105^\circ$ |
| ד. $\sin(-15^\circ)$ | ה. $\cos 75^\circ$ | ו. $\cos 15^\circ$ |
| ז. $\cos(-105^\circ)$ | ח. $\cos 165^\circ$ | ט. $\cos(-195^\circ)$ |

2) חשב ללא שימוש במחשבון את ערכי הביטויים הבאים:

- א. $\sin 65^\circ \cos 25^\circ + \sin 25^\circ \cos 65^\circ$
 ב. $5 \cos 50^\circ \cos 20^\circ + 5 \sin 50^\circ \sin 20^\circ$

(3) הוכח את הזהויות הבאות :

$$\text{א. } \sin(60^\circ + \alpha) + \sin(60^\circ - \alpha) = \sqrt{3} \cos \alpha$$

$$\text{ב. } \cos(45^\circ - \alpha) - \cos(45^\circ + \alpha) = \sqrt{2} \sin \alpha$$

$$\text{ג. } \sin(\alpha + \beta) \cdot \sin(\alpha - \beta) = \sin^2 \alpha - \sin^2 \beta$$

$$\text{ד. } \tan \alpha - \tan \beta = \frac{\sin(\alpha - \beta)}{\cos \alpha \cos \beta}$$

(4) נתון: $\cos \alpha = \frac{4}{5}$, $\cos \beta = \frac{8}{17}$ ו- α, β זוויות חדות.מבלי למצוא את הערכים של α ו- β חשב :

$$\text{א. } \sin(\alpha + \beta)$$

$$\text{ב. } \cos(\alpha + \beta)$$

$$\text{ג. } \tan(\alpha + \beta)$$

(5) הוכח את הזהות: $\sin(\alpha + \beta) - \sin(\alpha - \beta) = 2 \sin \beta \cos \alpha$ (6) הוכח את הזהות: $(\sin \alpha + \cos \alpha)(\sin 2\alpha + \cos 2\alpha) = \sin 3\alpha + \cos \alpha$ (7) הוכח את הזהות: $\tan 7\alpha - \tan 5\alpha - \tan 2\alpha = \tan 7\alpha \tan 5\alpha \tan 2\alpha$ (8) הוכח את הזהות: $\frac{\sin(\alpha - \beta)}{\cos(\alpha + \beta)} = \frac{\tan \alpha - \tan \beta}{1 - \tan \alpha \tan \beta}$ (9) הוכח את הזהות: $\cot \alpha - \cot \beta = \frac{\sin(\beta - \alpha)}{\sin \alpha \sin \beta}$

(10) הוכח את הזהות הבאה :

$$\sin \alpha \cos \beta \cos \gamma + \cos \alpha \sin \beta \cos \gamma + \cos \alpha \cos \beta \sin \gamma - \sin \alpha \sin \beta \sin \gamma = \sin(\alpha + \beta + \gamma)$$

(11) הוכח כי מתקיים: $\sin 65^\circ \cos 25^\circ + \sin 25^\circ \cos 65^\circ = 1$.

(12) הוכח כי מתקיים: $\tan 18^\circ \tan 27^\circ + \tan 18^\circ + \tan 27^\circ = 1$.

(13) נתון כי: $\sin 76^\circ = m$. הבע את $\sin 31^\circ$ באמצעות m .

(14) הזוויות α ו- β הן זוויות חדות.

נתון כי: $\tan \beta = \frac{(2k-1)\sqrt{3}}{3}$ ו- $\tan \alpha = \frac{(2-k)\sqrt{3}}{3k}$.

הראה כי מתקיים: $\alpha + \beta = 60^\circ$.

(15) היעזר בנוסחה: $\tan(\alpha \pm \beta) = \frac{\tan \alpha \pm \tan \beta}{1 \mp \tan \alpha \tan \beta}$ ומצא את $\tan x$ ו- $\tan y$.

אם ידוע כי: $\tan(x+y) = -3$ ו- $\tan(x-y) = \frac{1}{3}$. הבחן בין שני מקרים.

תשובות סופיות:

$$(1) \quad \begin{array}{llll} \text{א. } \frac{\sqrt{6}+\sqrt{2}}{4} & \text{ב. } \frac{\sqrt{6}-\sqrt{2}}{4} & \text{ג. } \frac{\sqrt{6}+\sqrt{2}}{4} & \text{ד. } \frac{\sqrt{2}-\sqrt{6}}{4} \\ \text{ו. } \frac{\sqrt{6}+\sqrt{2}}{4} & \text{ז. } \frac{\sqrt{2}-\sqrt{6}}{4} & \text{ח. } -\frac{\sqrt{6}+\sqrt{2}}{4} & \text{ט. } -\frac{\sqrt{6}+\sqrt{2}}{4} \\ \text{י. } \frac{\sqrt{6}+\sqrt{2}}{4} & \text{יא. } \frac{\sqrt{6}-\sqrt{2}}{4} & \text{יב. } \frac{\sqrt{2}-\sqrt{6}}{4} & \text{יג. } \frac{\sqrt{6}-\sqrt{2}}{4} \end{array}$$

$$(2) \quad \begin{array}{ll} \text{א. } 1 & \text{ב. } \frac{5\sqrt{3}}{2} \end{array}$$

(3) שאלת הוכחה.

$$(4) \quad \begin{array}{ll} \text{א. } \frac{84}{85} & \text{ב. } -\frac{13}{85} \\ \text{ג. } -6\frac{6}{13} & \end{array}$$

(5) שאלת הוכחה.

(6) שאלת הוכחה.

(7) שאלת הוכחה.

(8) שאלת הוכחה.

(9) שאלת הוכחה.

(10) שאלת הוכחה.

(11) שאלת הוכחה.

(12) שאלת הוכחה.

(13) שאלת הוכחה.

$$(14) \quad \frac{\sqrt{2}}{2} (m - \sqrt{1-m^2})$$

(15) שאלת הוכחה.

$$(16) \quad 1 \text{ ו-} 2 \text{ או } -\frac{1}{2} \text{ ו-} -1$$

זווית כפולה:

סיכום כללי:

נפתח זווית כפולה לפי הצורות הבאות:

$$\begin{aligned} \sin 2\alpha &= 2 \sin \alpha \cos \alpha \\ \cos 2\alpha &= \cos^2 \alpha - \sin^2 \alpha = 2 \cos^2 \alpha - 1 = 1 - 2 \sin^2 \alpha \end{aligned}$$

שאלות:

(1) הוכח את הזהויות הבאות:

- א. $4 \sin \alpha \cos \alpha \cos 2\alpha = \sin 4\alpha$
 ב. $(\sin \alpha - \cos \alpha)^2 = 1 - \sin 2\alpha$
 ג. $(\sin 3\alpha - \cos 3\alpha)^2 = 1 - \sin 6\alpha$
 ד. $\cos^4 \alpha - \sin^4 \alpha = \cos 2\alpha$
 ה. $\frac{\cos \alpha}{\sin \alpha} - \frac{\sin \alpha}{\cos \alpha} = 2 \cot 2\alpha$
 ו. $\frac{\cos 2\alpha - 2 \sin^2 \alpha \cos 2\alpha}{\sin 4\alpha} = \frac{1}{2} \cot 2\alpha$
 ז. $\cos^2 2\alpha = 4 \sin^4 \alpha - 4 \sin^2 \alpha + 1$
 ח. $\cos 4\alpha = 8 \cos^4 \alpha - 8 \cos^2 \alpha + 1$

(2) הוכח את הזהות: $\sin^3 \alpha = \frac{3 \sin \alpha - \sin 3\alpha}{4}$ ע"י כתיבה של $\sin 3\alpha$

לפי: $\sin(\alpha + 2\alpha)$ ושימוש בזהויות שנלמדו.

(3) הוכח את הזהות: $\cos^3 \alpha = \frac{3 \cos \alpha + \cos 3\alpha}{4}$ ע"י כתיבה של $\cos 3\alpha$

לפי: $\cos(\alpha + 2\alpha)$ ושימוש בזהויות שנלמדו.

(4) נתונה זווית חדה α המקיימת: $\sin \alpha = \frac{40}{41}$. מבלי להיעזר במחשבון חשב:

א. $\cos \alpha$

ב. $\tan \alpha$

ג. $\sin 2\alpha$

ד. $\cos 2\alpha$

ה. $\tan 2\alpha$

(5) נתונה זווית חדה α המקיימת: $\tan \alpha = \frac{5}{12}$. מבלי להיעזר במחשבון חשב:

א. $\sin \alpha$

ב. $\cos \alpha$

ג. $\sin 2\alpha$

ד. $\cos 2\alpha$

(6) נתונה זווית α ברביע הראשון וזווית β ברביע השני המקיימות: $\sin \alpha = \frac{5}{13}$

ו- $\cos \beta = -0.8$. מבלי למצוא את α ו- β חשב את הביטויים הבאים:

א. $\sin(\alpha + \beta)$

ב. $\cos(\alpha + \beta)$

ג. $\sin(2\alpha + \beta)$

(7) נתון כי $\sin \alpha + \cos \alpha = 1.2$ עבור $0^\circ < \alpha < 90^\circ$. חשב את $\sin 2\alpha$.

(8) פשט את הביטוי הבא: $\sqrt{\frac{1 + \cos 8\alpha}{2}}$

(9) ללא שימוש במחשבון, חשב את ערך הביטוי הבא: $\frac{\sin 16^\circ \cos 16^\circ}{3 - 6 \sin^2 29^\circ}$

(10) ללא שימוש במחשבון, חשב את ערך הביטוי הבא: $\frac{\sin^2 78^\circ - \cos^2 78^\circ}{\sin 66^\circ}$

(11) ללא שימוש במחשבון, חשב את ערך הביטוי הבא: $\frac{5 \tan 15^\circ (1 - 2 \cos^2 15^\circ)}{1 - \tan^2 15^\circ}$

תשובות סופיות:

(1) שאלת הוכחה.

(2) שאלת הוכחה.

(3) שאלת הוכחה.

$$(4) \quad \begin{array}{ll} \text{א. } \frac{9}{41} & \text{ב. } 4\frac{4}{9} \\ \text{ג. } \frac{720}{1681} & \text{ד. } -\frac{1519}{1681} \end{array}$$

$$\text{ה. } -\frac{720}{1519}$$

$$(5) \quad \begin{array}{ll} \text{א. } \frac{5}{13} & \text{ב. } \frac{12}{13} \\ \text{ג. } \frac{120}{169} & \text{ד. } \frac{119}{169} \end{array}$$

$$(6) \quad \begin{array}{ll} \text{א. } \frac{16}{65} & \text{ב. } -\frac{63}{65} \\ \text{ג. } -\frac{123}{845} & \end{array}$$

(7) .0.44

(8) $\cos 4\alpha$.

(9) $\frac{1}{6}$.

(10) .1

(11) .-1.25

סכום והפרש פונקציות טריגונומטריות:

סיכום כללי:

להלן נוסחאות הסכום וההפרש של פונקציות טריגונומטריות:

$\sin \alpha + \sin \beta = 2 \sin \frac{\alpha + \beta}{2} \cos \frac{\alpha - \beta}{2}$
$\sin \alpha - \sin \beta = 2 \sin \frac{\alpha - \beta}{2} \cos \frac{\alpha + \beta}{2}$
$\cos \alpha + \cos \beta = 2 \cos \frac{\alpha + \beta}{2} \cos \frac{\alpha - \beta}{2}$
$\cos \alpha - \cos \beta = -2 \sin \frac{\alpha + \beta}{2} \sin \frac{\alpha - \beta}{2}$

הערה:

בסרטון התיאוריה אין התייחסות לזהויות הסכום וההפרש של טנגנס ושל קוטנגנס עקב חוסר השימוש בהן בפתרון שאלות.

שאלות:

- (1) הוכח את הזהות הבאה : $\sin 5\alpha + \sin 3\alpha = 2 \sin 4\alpha \cos \alpha$
- (2) הוכח את הזהות הבאה : $\sin 7\alpha - \sin 2\alpha = 2 \sin 2.5\alpha \cos 4.5\alpha$
- (3) הוכח את הזהות הבאה : $\cos \alpha + \cos 5\alpha = 2 \sin 2\alpha \cos 3\alpha$
- (4) הוכח את הזהות הבאה : $\cos 5\alpha - \cos 2\alpha = -2 \sin 3.5\alpha \cos 1.5\alpha$
- (5) הוכח את הזהות הבאה : $\sin 3\alpha = 2 \sin 2\alpha \cos \alpha - \sin \alpha$
- (6) הוכח את הזהות הבאה : $\sin^2 \alpha - \sin^2 \beta = \sin(\alpha + \beta) \sin(\alpha - \beta)$
- (7) הוכח את הזהות הבאה : $\sin(2\alpha + \beta) - 2 \cos(\alpha + \beta) \sin \alpha = \sin \beta$
- (8) הוכח את הזהות הבאה : $\frac{\sin 5\alpha - \sin \alpha}{\sin 4\alpha - \sin 2\alpha} = 2 \cos \alpha$

$$(9) \quad \frac{\sin 7\alpha - \sin 3\alpha}{\cos 4\alpha + \cos 6\alpha} = 2 \sin \alpha \quad \text{הוכח את הזהות הבאה:}$$

$$(10) \quad \frac{\sin \alpha + \sin 2\alpha + \sin 3\alpha}{\cos \alpha + \cos 2\alpha + \cos 3\alpha} = \tan 2\alpha \quad \text{הוכח את הזהות הבאה:}$$

$$(11) \quad \tan \alpha + \tan 3\alpha = \frac{2 \sin 4\alpha}{\cos 4\alpha + \cos 2\alpha} \quad \text{הוכח את הזהות הבאה:}$$

$$(12) \quad \text{פשט את הביטוי: } \frac{1 + \cos \alpha + \cos 2\alpha + \cos 3\alpha}{\cos \alpha + 2 \cos^2 \alpha - 1} \quad \text{ומצא את ערכו מבלי להיעזר}$$

$$\text{במחשבון אם ידוע כי } \sin \frac{\alpha}{2} = \frac{5}{6}$$

$$(13) \quad \text{נתון כי } \alpha \text{ ו-} \beta \text{ הן זוויות חדות המקיימות: } \sin \alpha = \frac{2mn}{m^2 + n^2} \text{ ו-} \sin \beta = \frac{n^2 - m^2}{m^2 + n^2}$$

$$\text{הראה כי: } \alpha + \beta = 90^\circ$$

$$(14) \quad \text{היעזר במעבר מכפל לסכום או הפרש}$$

$$\text{והוכח כי: } \cos 6\alpha \cos 2\alpha - \cos 5\alpha \cos \alpha = -\sin 7\alpha \sin \alpha$$

$$(15) \quad \text{היעזר במעבר מכפל לסכום או הפרש}$$

$$\text{והוכח כי: } \sin 4\alpha \sin 2\alpha - \sin 5\alpha \sin \alpha + \cos 3\alpha \cos \alpha = \cos 2\alpha$$

$$(16) \quad \text{חשב ללא מחשבון את ערך הביטוי הבא: } \sin 52.5^\circ \cdot \sin 7.5^\circ$$

$$(17) \quad \text{חשב ללא מחשבון את ערך הביטוי הבא: } \frac{\sin 35^\circ \sin 55^\circ}{\cos 40^\circ \cos 20^\circ} - 0.25$$

$$(18) \quad \text{חשב ללא מחשבון את ערך הביטוי הבא: } \cos 20^\circ \cos 40^\circ \cos 80^\circ$$

$$(19) \quad \text{חשב ללא מחשבון את ערך הביטוי הבא: } \sin 5^\circ \cdot \sin 25^\circ \cdot \sin 35^\circ \cdot \sin 55^\circ \cdot \sin 65^\circ \cdot \sin 85^\circ$$

תשובות סופיות:

(1) שאלת הוכחה.

(2) שאלת הוכחה.

(3) שאלת הוכחה.

(4) שאלת הוכחה.

(5) שאלת הוכחה.

(6) שאלת הוכחה.

(7) שאלת הוכחה.

(8) שאלת הוכחה.

(9) שאלת הוכחה.

(10) שאלת הוכחה.

(11) שאלת הוכחה.

(12) $-\frac{7}{9}$.

(13) שאלת הוכחה.

(14) שאלת הוכחה.

(15) שאלת הוכחה.

(16) $\frac{\sqrt{2}-1}{4}$.

(17) .1

(18) $\frac{1}{8}$.(19) $\frac{1}{64}$.

מכפלת פונקציות:

סיכום כללי:

להלן נוסחאות המעבר מסכום למכפלה וממכפלה לסכום:

$$\left\{ \begin{array}{l} \sin \alpha + \sin \beta = 2 \sin \frac{\alpha + \beta}{2} \cos \frac{\alpha - \beta}{2} \\ \sin \alpha - \sin \beta = 2 \sin \frac{\alpha - \beta}{2} \cos \frac{\alpha + \beta}{2} \\ \cos \alpha + \cos \beta = 2 \cos \frac{\alpha + \beta}{2} \cos \frac{\alpha - \beta}{2} \\ \cos \alpha - \cos \beta = -2 \sin \frac{\alpha + \beta}{2} \sin \frac{\alpha - \beta}{2} \end{array} \right. \quad \left\{ \begin{array}{l} \sin \alpha \cos \beta = \frac{1}{2} [\sin(\alpha + \beta) + \sin(\alpha - \beta)] \\ \cos \alpha \cos \beta = \frac{1}{2} [\cos(\alpha + \beta) + \cos(\alpha - \beta)] \\ \sin \alpha \sin \beta = \frac{1}{2} [\cos(\alpha - \beta) - \cos(\alpha + \beta)] \end{array} \right.$$

שאלות:

- (1) הוכח את הזהות הבאה: $\sin 7\alpha \cos \alpha = \frac{1}{2}(\sin 8\alpha + \sin 6\alpha)$
- (2) הוכח את הזהות הבאה: $\cos 11\alpha \sin 3\alpha = \frac{1}{2}(\sin 14\alpha - \sin 8\alpha)$
- (3) הוכח את הזהות הבאה: $\cos 4\alpha \cos 10\alpha = \frac{1}{2}(\cos 6\alpha + \cos 14\alpha)$
- (4) הוכח את הזהות הבאה: $\sin 3\alpha \sin 7\alpha = \frac{1}{2}(\cos 4\alpha - \cos 10\alpha)$
- (5) הוכח את הזהות הבאה: $2 \sin 7\alpha \sin 2\alpha + \cos 9\alpha = \cos 5\alpha$
- (6) הוכח את הזהות הבאה: $\sin 7\alpha \cos 4\alpha - \sin 4\alpha \cos \alpha = \sin 3\alpha \cos 8\alpha$
- (7) הוכח את הזהות הבאה: $\sin \alpha \sin 3\alpha = \cos 2\alpha - \cos 3\alpha \cos \alpha$
- (8) הוכח את הזהות הבאה: $2(\sin^2 \beta - \sin^2 \alpha) = \cos 2\alpha - \cos 2\beta$
- (9) הוכח את הזהות הבאה: $\frac{2}{\cot \beta - \tan \alpha} = \tan(\alpha + \beta) - \frac{\sin(\alpha - \beta)}{\cos(\alpha + \beta)}$

תשובות סופיות:

(1) הוכחה.

(2) הוכחה.

(3) הוכחה.

(4) הוכחה.

(5) הוכחה.

(6) הוכחה.

(7) הוכחה.

(8) הוכחה.

(9) הוכחה.

הכנה למבחן כניסה למכינה במתמטיקה

פרק 19 - טריגונומטריה במישור

תוכן העניינים

- 286 1. שאלות יסודיות עם משפט הסינוסים והקוסינוסים
- 294 2. שאלות העוסקות בנוסחת שטח משולש
- 303 3. שאלות המשלבות ידע בגיאומטריה
- 307 4. שאלות מסכמות

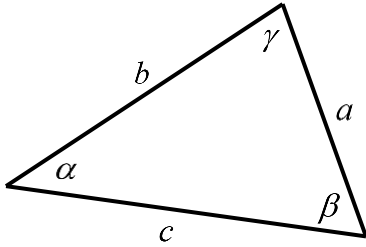
שאלות יסודיות עם משפט הסינוסים והקוסינוסים:

סיכום כללי:

משפט הסינוסים:

במשולש, צלע חלקי סינוס הזווית שמולה הוא גודל קבוע והוא שווה לפעמיים רדיוס המעגל החוסם.

$$\frac{a}{\sin \alpha} = \frac{b}{\sin \beta} = \frac{c}{\sin \gamma} = 2R$$



משפט הקוסינוסים:

במשולש, ריבוע צלע אחת שווה לסכום ריבועי שתי הצלעות האחרות פחות מכפלתן

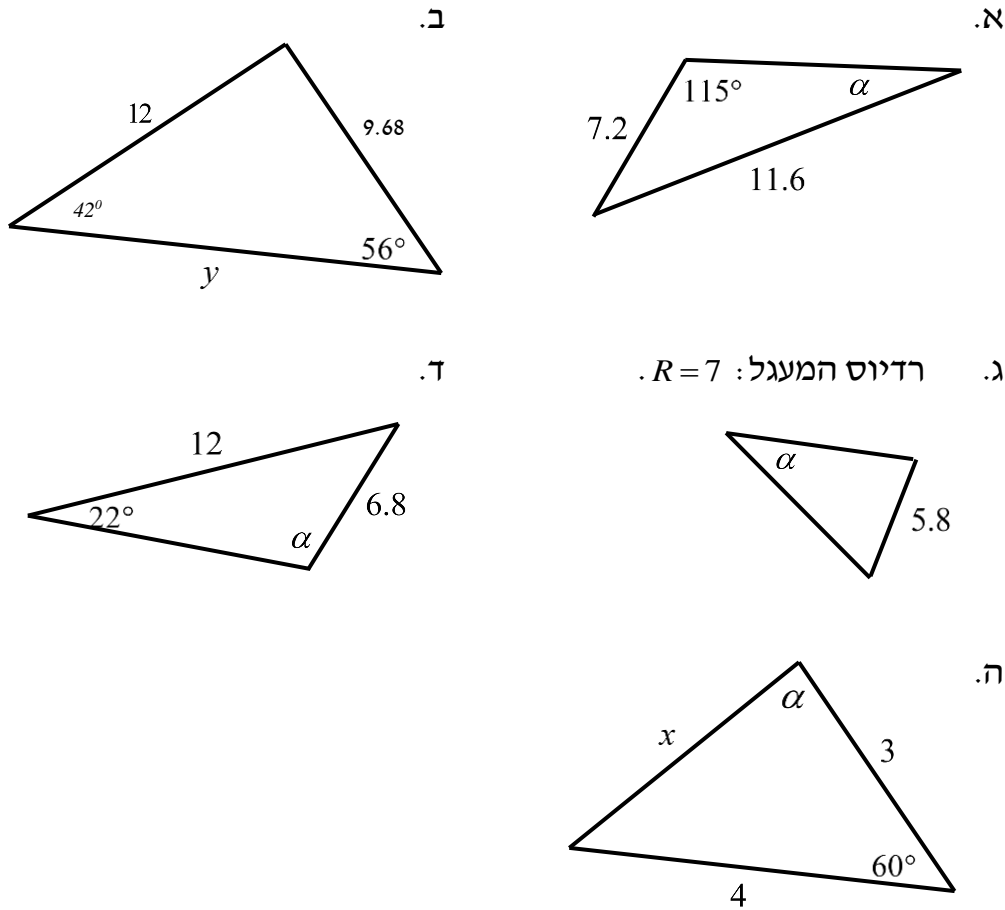
$$c^2 = a^2 + b^2 - 2ab \cos \gamma \quad \text{או} \quad \cos \gamma = \frac{a^2 + b^2 - c^2}{2ab}$$

מתי נשתמש בכל משפט:

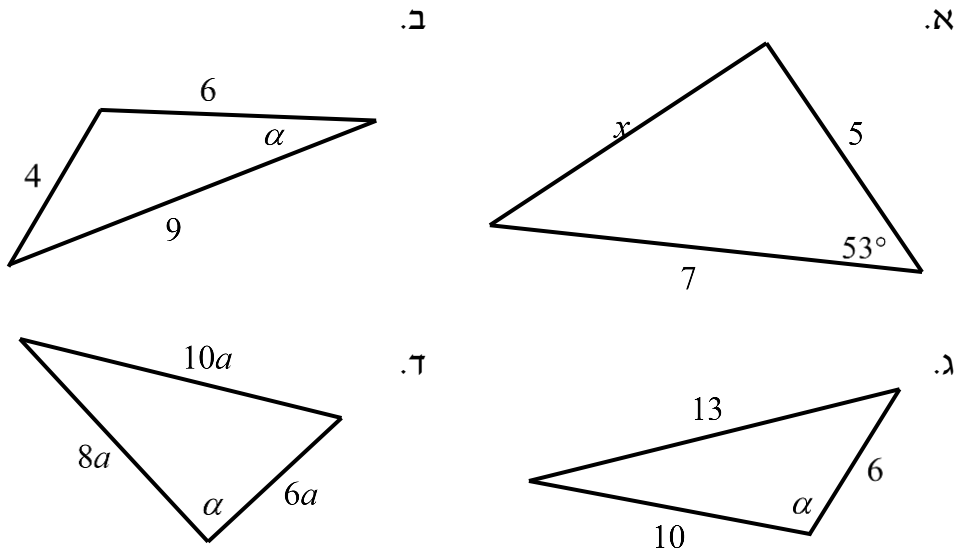
- נשתמש במשפט הסינוסים כאשר:
 - א. נתונות שתי זוויות וצלע.
 - ב. נתונות שתי צלעות והזווית מול אחת מהן.
 - ג. נתון רדיוס המעגל החוסם וצלע/זווית נוספת.
- נשתמש במשפט הקוסינוסים כאשר:
 - א. נתונות שתי צלעות והזווית ביניהן.
 - ב. נתונות שלוש צלעות.
- כאשר ישנם יותר נתונים מאשר בסעיפים שלהלן ייתכן שנוכל להשתמש בשני המשפטים. בבחירת המשפט שבו נשתמש כדאי לזכור שבמשפט הסינוסים ייתכנו שתי תשובות לזווית, גם אם בפועל רק אחת נכונה, ובמשפט הקוסינוסים תתקבל בוודאות הזווית הנכונה.

שאלות:

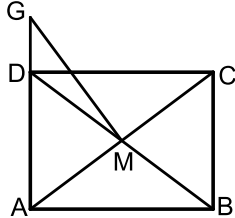
1 מצא את ערכו של $a/x/y$ במשולשים הבאים (R הוא רדיוס המעגל החוסם, נתוני הצלעות בס"מ):



2 מצא את ערכו של α/x במשולשים הבאים:

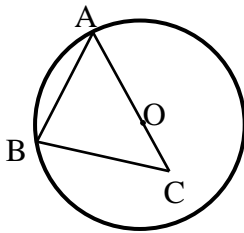


- (3) נתון משולש שווה שוקיים ABC ($AB=AC$) שאורך השוק שלו הוא 22 ס"מ וגודלה של זווית הבסיס בו הוא 70° . CD הוא חוצה זווית הבסיס C . מצא את אורכו של הקטע AD .



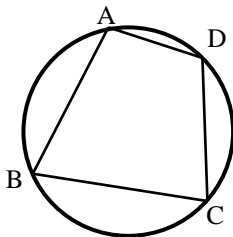
- (4) אלכסוני המלבן $ABCD$ נפגשים בנקודה M . הנקודה G נמצאת על המשך הצלע AD . נתון: $AD = 3$ ס"מ, $AB = 4$ ס"מ, $DG = 1.2$ ס"מ. מצא את גודלו של הקטע GM .

- (5) מרובע שאורכי אלכסוניו 8 ס"מ ו-11 ס"מ חסום במעגל שאורך רדיוסו הוא 6 ס"מ. חשב את זוויות המרובע.

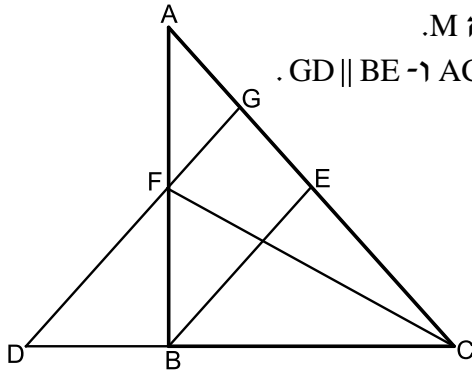


- (6) הצלע AB במשולש ABC היא מיתר במעגל שמרכזו O . הצלע AC עוברת במרכז המעגל כמתואר בשרטוט. נתון: $BC = 9$ ס"מ, $OC = 3$ ס"מ, $\angle BAC = 38^\circ$. מצא את אורכם של רדיוס המעגל ושל הצלע AB .

- (7) אחד האלכסונים במקבילית יוצר זווית של 30° עם צלע אחת של המקבילית וזווית של 61.05° עם הצלע הסמוכה לה. אחת מצלעות המקבילית גדולה ב-3 ס"מ מהצלע הסמוכה לה. חשב את היקף המקבילית.



- (8) המרובע $ABCD$ חסום במעגל. נתון: $AB = 6$ ס"מ, $BC = 9$ ס"מ, $CD = 10$ ס"מ ו- $AD = 4$ ס"מ. מצא את אורכם של האלכסון AC ושל רדיוס המעגל.



9) BE ו-CF הם תיכונים במשולש ABC הנפגשים בנקודה M.

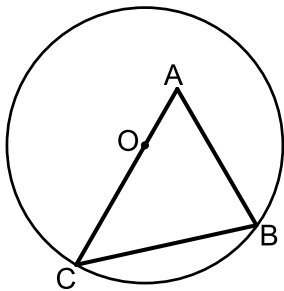
מהנקודה F מעבירים קטע GD כן שמתקיים: $AC = DC$ ו- $GD \parallel BE$.

א. הוכח: $\frac{AG}{BD} = \frac{3}{4}$.

ב. נתון כי: $ME = 4$ ס"מ. חשב את אורך הקטע DG.

ג. נתון כי: $\angle ACD = 48.189^\circ$. הוכח כי המשולש DGC הוא שווה-שוקיים.

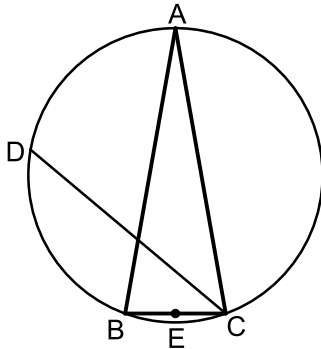
10) נתון משולש ABC. הקודקודים B ו-C של המשולש ABC נמצאים על מעגל שמרכזו O. מרכז המעגל O מונח על הצלע AC. אורך הצלע AB הוא 12 ס"מ ואורך הקטע AO הוא 4.5 ס"מ. זווית BAC היא 60° .



א. חשב את רדיוס המעגל.

ב. מעבירים את הקוטר BD ואת הקטע AD כך שנוצר המשולש ADB. חשב את זווית ADB.

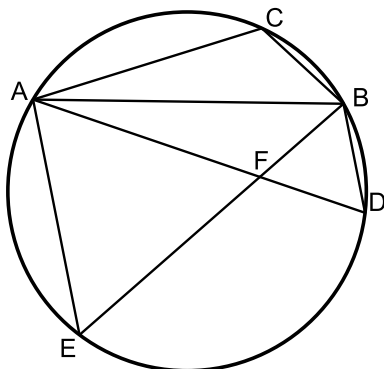
11) המשולש ABC הוא שווה שוקיים ($AB = AC$) החסום במעגל שרדיוסו R. הנקודה E היא אמצע הבסיס BC והנקודה D היא אמצע הקשת \widehat{AB} . ידוע כי זווית הבסיס של המשולש היא 80° .



א. הבע באמצעות R את הקטעים CD ו-DE.

ב. r הוא רדיוס המעגל החוסם את המשולש CED. הבע באמצעות R את r .

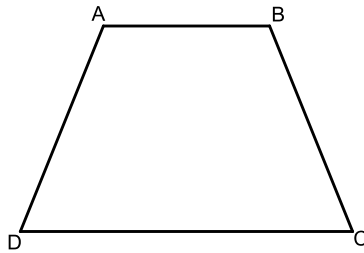
12) AB, AC ו-AD הם מיתרים במעגל המקיימים: $\widehat{BC} = \widehat{BD}$. מהנקודה E שעל המעגל מעבירים את המיתרים AE ו-BE. המיתרים BE ו-AD נחתכים בנקודה F. נתון כי: $AC = AF = EF$.



א. הוכח: $\triangle ABF \cong \triangle ABC$.

ב. נתון גם: $\angle CAB = 3 \cdot \angle DAE$. הוכח כי המשולש AFE הוא שווה צלעות.

13 המרובע ABCD הוא טרפז שווה שוקיים ($AB \parallel CD, AD = BC$).

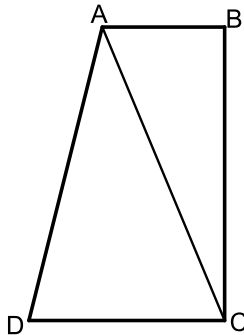


מידות הטרפז הן:

$AB = 6$ ס"מ, $BC = 8$ ס"מ, $CD = 12$ ס"מ.

- מצא את זווית C (עגל למספר שלם).
- מצא את אורך אלכסון הטרפז.
- חשב את רדיוס המעגל החוסם את הטרפז.

14 המרובע ABCD הוא טרפז ישר זווית ($AB \parallel CD, \angle B = 90^\circ$).

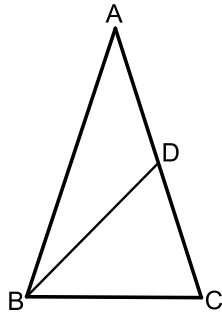


מסמנים את הבסיס: $AB = t$ וידוע כי: $AD = 3t, DC = 1.6t$.
היקף הטרפז הוא: 40 ס"מ.

- הבע באמצעות t את אורך האלכסון AC.
- ידוע גם כי: $\angle D = 60^\circ$.
- i. חשב את אורך הקטע AC.
- ii. חשב את שטח הטרפז.

15 המשולש ABC הוא שווה שוקיים ($AB = AC$) בעל זווית

ראש 36° החסום במעגל שקוטרו 16 ס"מ. מעבירים תיכון לשוק BD.



א. מצא את אורך הבסיס BC במשולש.

ב. חשב את אורך התיכון BD.

ג. מסמנים:

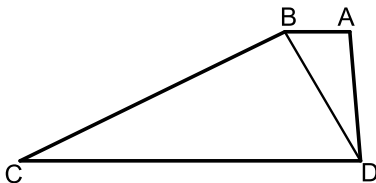
r_1 - רדיוס המעגל החוסם את המשולש ABD.

r_2 - רדיוס המעגל החוסם את המשולש BCD.

$$\frac{r_1}{r_2} = 2 \cos 36^\circ$$

הוכח את היחס הבא:

16 המרובע ABCD הוא טרפז ($AB \parallel CD$).



מעבירים את האלכסון BD המקיים: $\angle BCD = \angle ADB$.

נתון כי: $AB = 5$ ס"מ, $AD = 10$ ס"מ, $CD = 20$ ס"מ.

כמו כן ידוע כי השוק BC גדולה פי 2 מהאלכסון BD.

א. הראה כי השוק BC שווה לבסיס CD.

ב. חשב את זווית C.

ג. ממשיכים את שוקי הטרפז AD ו-BC עד לנקודה E שמחוץ לטרפז.

חשב את רדיוס המעגל החוסם את המשולש CDE.

17 באיור שלפניך נתון המרובע ABCD.

ידוע כי: $\angle D = 90^\circ$.

נסמן את הצלעות באופן הבא: $AB = 6x$, $BC = 5x$, $CD = 8x$, $AD = 3x$.

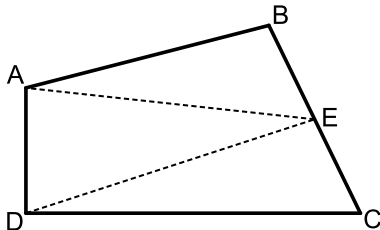
א. חשב את זווית BCD.

ב. E היא נקודה הנמצאת על אמצע הצלע BC.

מעבירים את הקטעים AE ו-DE כך

ש-DE מקביל ל-AB.

חשב את היחס הבא: $\frac{S_{ABE}}{S_{BCD}}$.



18 מהנקודה O מעבירים את הקטעים OA, OB, OC ו-OD.

ידוע כי זווית AOB שווה לזווית COD והיא מסומנת ב- α .

המשולש COD הוא ישר זווית $\angle CDO = 90^\circ$.

נתונים האורכים: $BO = 9$, $DO = 10$.

מסמנים: $BC = 1.4m$, $CD = 1.5m$.

א. הבע באמצעות m את $\sin \alpha$.

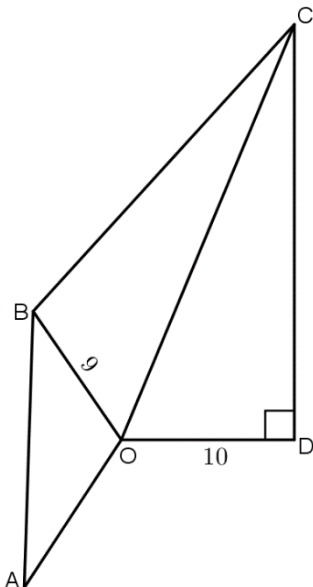
(העזר במשולש COD ובטא תחילה את CO).

ב. נתון גם כי: $AB = m$.

מצא את m אם ידוע כי רדיוס המעגל החוסם

את המשולש AOB הוא $8\frac{2}{3}$.

ג. חשב את זווית BOC.



19 במשולש ABC הזווית A היא בת 60° .

מעבירים את הקטע AD כך שנוצרת זווית: $\angle ADB = 60^\circ$.

ידוע כי $AB = \sqrt{28}$ וכי הצלע AD במשולש ABD

גדולה פי 1.5 מהצלע BD.

א. מצא את אורך הצלע BD.

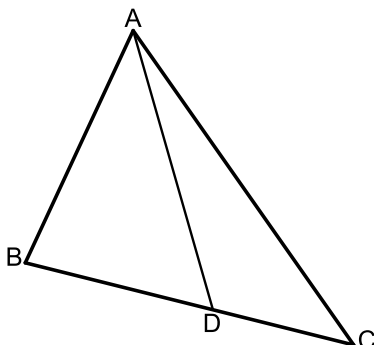
ב. היקף המשולש ABC הוא: $P = 5\sqrt{7} + 7$.

i. סמן: $DC = t$ והבע באמצעות t

את אורך הצלע AC.

ii. מצא את t.

ג. חשב את שטח המשולש ABC.



(20) מהנקודה A מעבירים את הקטעים AB ו-AC.

הנקודה D היא אמצע AC וממנה מעבירים את DE המקביל ל-AB.

הנקודות C, E ו-F נמצאות על אותו הישר.

ידוע כי המשולשים ABD, DEF ו-DCE הם

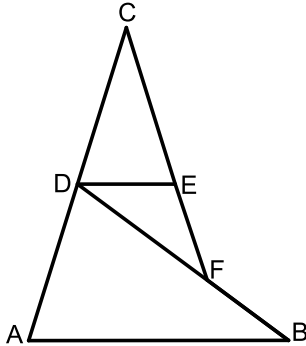
שווי שוקיים ($AB = BD, DC = CE, EF = DE$).

נתון כי: $AD = 8$.

א. חשב את אורך הקטע BF.

ב. מחברים את הנקודות B ו-C.

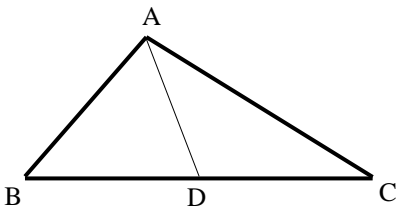
חשב את אורך הצלע BC.



(21) בשרטוט נתון: $AB = 6$ ס"מ, $AC = 8$ ס"מ,

$AD = 5$ ס"מ. הנקודה D היא אמצע הצלע BC.

חשב את אורך הקטע BC.



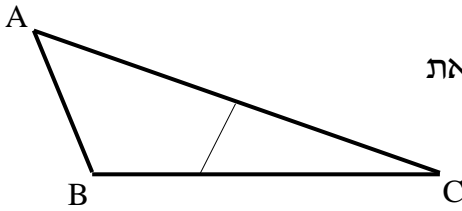
(22) הצלע AC במשולש ABC גדולה פי 4 מהצלע AB.

הנקודה E היא אמצע הצלע AC והנקודה D נמצאת

על הצלע BC כך שמתקיים $DC = 2BD$.

נתון: $BC = b, AB = a$.

הבע באמצעות a ו-b את אורך הקטע DE.

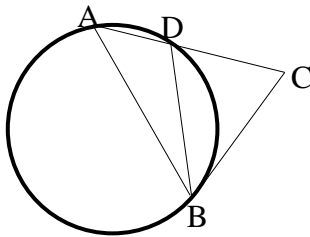


(23) המשולש ABD חסום במעגל שרדיוסו R.

המשך הצלע AD והמשיק למעגל בנקודה B

נפגשים בנקודה C. נתון: $\angle C = \alpha, \angle ADB = \beta$.

הבע באמצעות R, α ו- β את אורך הקטע BC.

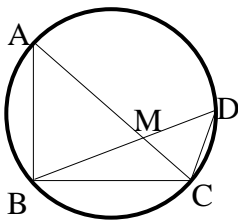


(24) AC ו-BD הם מיתרים במעגל שרדיוסו R,

שנפגשים בנקודה M. זווית $\angle B$ היא זווית ישרה.

נתון: $DC = q, DM = p, AB = k$.

הבע באמצעות R, k, p ו-q את אורך הקטע MC.



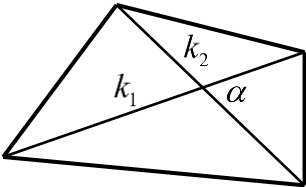
תשובות סופיות:

- א. $\alpha = 34.231^\circ$ ב. 14.33 ס"מ = y ג. $\alpha = 155.526^\circ$ או $\alpha = 24.474^\circ$ (1)
- ד. $\alpha = 41.382^\circ$ או $\alpha = 138.618^\circ$ ה. 3.606 ס"מ = x , $\alpha = 73.898^\circ$
- א. 5.646 ס"מ = x ב. $\alpha = 20.742^\circ$ ג. $\alpha = 105.962^\circ$ ד. $\alpha = 90^\circ$ (2)
- AD = 13.064 ס"מ (3)
- GM = 3.360 ס"מ (4)
- 66.444° , 113.556° , 41.810° , 138.190° (5)
- $R = 9.242$ ס"מ, $AB = 14.56$ ס"מ (6)
- $P = 22$ ס"מ (7)
- $R = 5.395$ ס"מ, $AC = 10.790$ ס"מ (8)
- $DG = 18$ (9)
- א. 10.5 ס"מ = R ב. 24.32° (10)
- א. $DE = 1.48R$, $CD = R\sqrt{3}$ ב. $r = 1.15R$ (11)
- א. 68° ב. 11.66 ס"מ ג. 6.29 ס"מ = R (13)
- א. $AC = \sqrt{32.36t^2 - 448t + 1600}$ ב. i. 13 ס"מ ג. ii. 78 סמ"ר (14)
- א. 9.4 ס"מ ב. i. 10 ס"מ (15)
- א. $\sphericalangle C = 28.9^\circ$ ב. $R = 13.77$ ג. (16)
- א. 64.04° ב. $\frac{S_{ABE}}{S_{ECD}} = 0.817$ (17)
- א. $\sin \alpha = \frac{1.5m}{\sqrt{100 + 2.25m^2}}$ ב. $m = 16$ ג. 56.94° (18)
- א. 4 ב. i. $1.5\sqrt{28} + 3 - t$ ג. ii. 3 ג. $S = 18.18$ (19)
- א. 4.94 ס"מ ב. 17.19 ס"מ (20)
- BC = 10 ס"מ (21)
- $DE = \sqrt{\frac{1}{9}b^2 - a^2}$ (22)
- $MC = \sqrt{p^2 + q^2 - \frac{pqk}{R}}$ (24)
- $BC = \frac{2R \sin \beta \sin(\beta - \alpha)}{\sin \alpha}$ (23)

שאלות העוסקות בנוסחת שטח משולש:

סיכום כללי:

שטחים של משולשים ומרובעים:

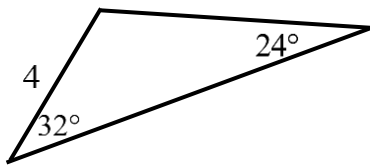


- שטח משולש ניתן לחישוב ע"י: $S = \frac{a \cdot h}{2} = \frac{ab \sin \gamma}{2} = \frac{a^2 \sin \beta \sin \gamma}{2 \sin \alpha}$
- שטח מרובע ניתן לחישוב ע"י אלכסונו: $S = \frac{k_1 k_2 \sin \alpha}{2}$

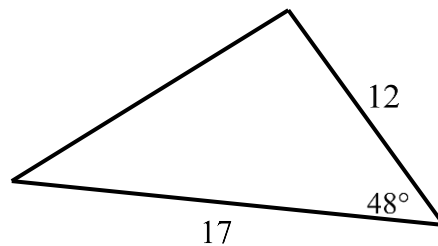
שאלות:

25) חשב את שטחי המשולשים הבאים:

ב.



א.



26) חשב את שטחו של טרפז שווה שוקיים שאורך האלכסון שלו 8 ס"מ והוא יוצר זווית של 15° עם הבסיסים.

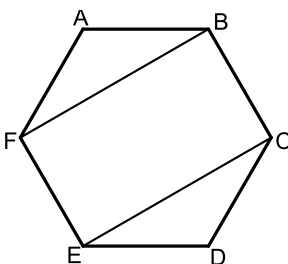
27) אורכו של מלבן הוא m ורוחבו n . הזווית שבין אלכסונו המלבן היא θ .

$$\text{הוכח כי מתקיים: } \sin \theta = \frac{2mn}{m^2 + n^2}$$

28) במשולש ישר זווית ABC ($\angle B = 90^\circ$), BD חוצה את הזווית $\angle B$.

נתון: $\angle A = \alpha$, $AB = m$.

הבע באמצעות α ו- m את שטח המשולש BCD .



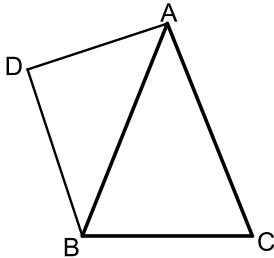
29) באיור שלפניך נתון משושה משוכלל ששטחו הכולל הוא S .

א. הבע באמצעות S את אורך צלע המשושה.

ב. מעבירים אלכסונים במשושה כך שנוצר המלבן $BFEC$.

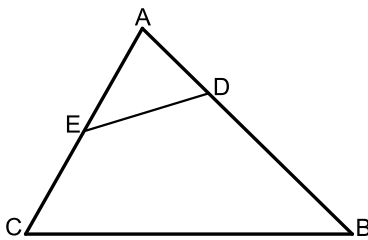
הבע באמצעות S את שטח המלבן.

30 המשולש ABC הוא שווה שוקיים בעל זווית ראש α , $(AB = AC)$. אורך הבסיס BC הוא k .



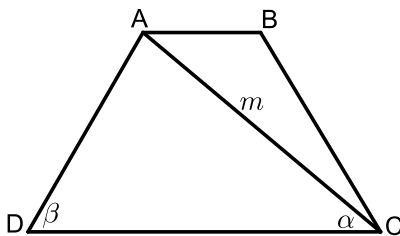
- על השוק AB בונים משולש ישר זווית ABD ובו $\angle D = 90^\circ$.
- הבע באמצעות k ו- α את אורך שוק המשולש ABC.
 - הניצב AD במשולש ABD שווה ל- $0.85k$.
 - וכי: $\angle ABD = 40^\circ$. מצא את זוויות המשולש ABC.
 - חשב את שטח המרובע ACBD אם ידוע כי $k = 6$.

31 במשולש ABC אורך הצלע AC הוא 8 ס"מ ואורך הצלע AB הוא 10 ס"מ.



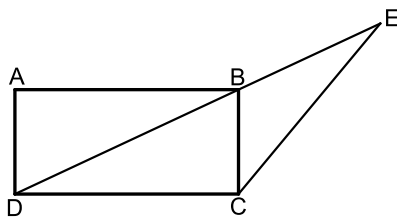
- הנקודה E היא אמצע הצלע AC והנקודה D מקיימת: $AD = 3$ ס"מ.
- ידוע כי: $\frac{DE}{BC} = \frac{2}{5}$.
- מצא את אורך הקטע DE.
 - חשב את רדיוס המעגל החוסם את המשולש ADE.
 - חשב את שטח המרובע BCED.

32 המרובע ABCD הוא טרפז $(AB \parallel CD)$. הקטע AC הוא אלכסון בטרפז.

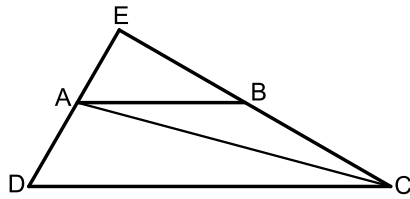


- מסמנים: $AC = m$, $\angle ACD = \alpha$, $\angle ADC = \beta$.
- הבע באמצעות α , β ו- m את אורך הבסיס הגדול DC.
 - נתון כי האלכסון AC מקיים: $\frac{S_{ADC}}{S_{ABC}} = 3$.
 - הבע באמצעות α , β ו- m את הבסיס AB.
 - חשב את שטח הטרפז אם ידוע כי: $\beta = 60^\circ$, $\alpha = 40^\circ$ ו- $m = 8$.

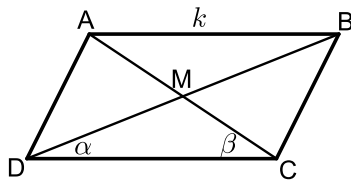
33 המרובע ABCD הוא מלבן. מעבירים את האלכסון BD וממשיכים אותו עד לנקודה E שמחוץ למלבן.



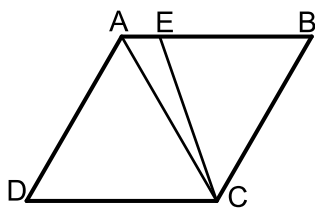
- אותו עדין נקודה E מחברים את הנקודה E עם הקודקוד C. ידוע כי אורך הצלע AD של המלבן הוא 6 ס"מ וכי אורך הקטע BE הוא 9 ס"מ. הזווית CBE היא 115° .
- מצא את אורך הקטע CE.
 - מצא את אורך האלכסון BD.
 - חשב את שטח המשולש DCE.



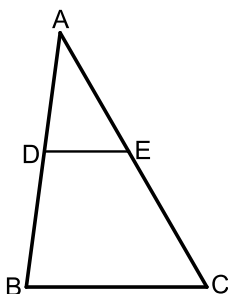
- (34)** המרובע ABCD הוא טרפז $(AB \parallel CD)$. ממשיכים את השוקיים AD ו-BC עד לפגישתם בנקודה E. ידוע כי: $DE \perp CE$. מעבירים את האלכסון AC אשר חוצה את זווית C. מסמנים את הבסיס הגדול DC ב- k ואת: $\angle ACD = \alpha$.
 א. הבע באמצעות k ו- α את הבסיס הקטן AB.
 ב. הבע באמצעות k ו- α את שטח המשולש ABC.
 ג. חשב את שטח המשולש ABC כאשר: $\alpha = 15^\circ$, $12 \text{ ס"מ} = k$.



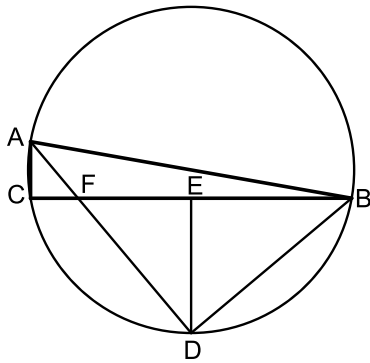
- (35)** נתונה מקבילית ABCD ובה מעבירים את האלכסונים AC ו-BD אשר נחתכים בנקודה M כמתואר באיור. מסמנים: $AB = k$, $\angle BDC = \alpha$, $\angle ACD = \beta$.
 א. הוכח כי אלכסוני המקבילית מקיימים: $\frac{AC}{BD} = \frac{\sin \alpha}{\sin \beta}$.
 ב. ענה על השאלות הבאות:
 i. הבע באמצעות α , β ו- k את שטח המשולש DMC.
 ii. הבע באמצעות α , β ו- k את שטח המקבילית ABCD.
 ג. נתון כי: $\frac{AC}{BD} = 2$. הראה כי שטח המקבילית הוא: $\frac{4k^2 \sin^2 \beta}{\sin(\alpha + \beta)}$.



- (36)** המרובע ABCD הוא מעוין ובו $\angle D = 60^\circ$. מעבירים את האלכסון AC ואת הקטע CE כך שהנקודה E נמצאת על הצלע AB ומחלקת אותה ביחס: $\frac{BE}{AE} = 4$.
 א. חשב את זווית AEC.
 ב. נתון כי שטח המשולש AEC הוא 8.66 סמ"ר. חשב את שטח המעוין.



- (37)** הקטע DE מקביל לצלע BC במשולש ABC כמתואר באיור. נתון כי: $BC = 15$, $CE = 13$, $BD = \sqrt{129}$. ידוע כי זווית AED היא 60° .
 א. חשב את אורך הקטע DE אם ידוע.
 ב. כי הוא קטן מ-10 ס"מ.
 ג. חשב את שטח המשולש ADE.



(38) המשולש ABC חסום במעגל כך ש-AB הוא קוטר.

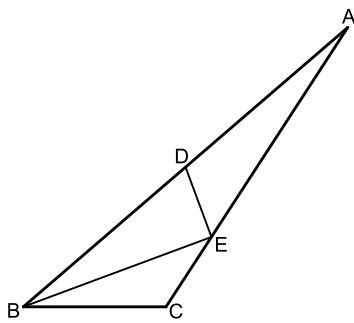
הנקודה D היא אמצע הקשת BC וממנה מעבירים את המיתרים AD ו-BD ומעלים גובה DE לצלע BC.

מסמנים: $DE = k$ ונתון כי: $\angle ABC = 10^\circ$.

א. הבע באמצעות k את רדיוס המעגל.

ב. הבע באמצעות k את שטח המשולש ABF.

ג. מצא את k אם ידוע כי שטח המשולש ABF הוא 15.363 סמ"ר.



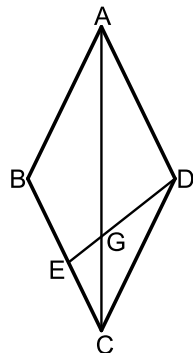
(39) במשולש ABC הקטע BE חוצה את זווית B.

הנקודה D היא אמצע הצלע AB ומקיימת: $DE = CE$.

ידוע כי: $BC = 6$, $BE = 8$, $BD = 9$.

א. מצא את זווית B.

ב. חשב את שטח המשולש ADE.



(40) נתון המעוין ABCD. אורך האלכסון הגדול במעוין AC גדול פי 1.8 מצלע המעוין.

א. חשב את זוויות המעוין.

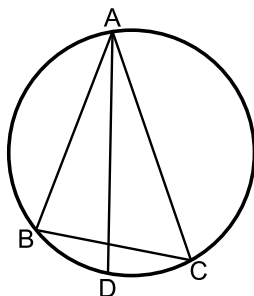
ב. מהקודקוד D מעבירים את הקטע DE שאורכו הוא m .

הקטע DE חותך את האלכסון AC בנקודה G.

הזווית EDC תסומן ב- α .

i. הבע באמצעות m ו- α את אורך הקטע CE.

ii. הבע באמצעות m ו- α את שטח המשולש EGC.



(41) המשולש ABC חסום במעגל כמתואר באיור.

מעבירים את המיתר AD החוצה את זווית BAC.

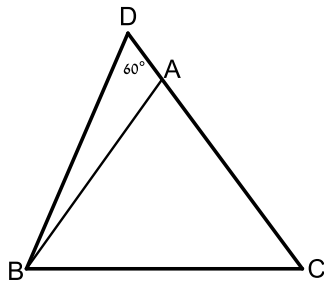
ידוע כי: $\angle ACB = 60^\circ$, $\angle BAC = 40^\circ$.

מסמנים: $AD = k$.

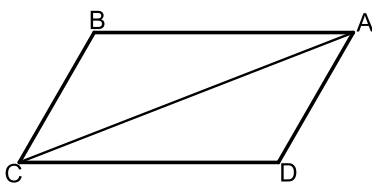
א. הבע באמצעות k את אורך המיתר BD.

ב. ידוע כי שטח המשולש ABD הוא 7.368 סמ"ר.

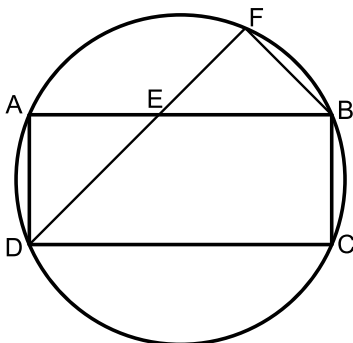
מצא את k (עגל למספר שלם).



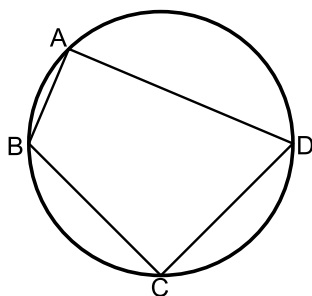
- (42)** המשולש ABC הוא שווה שוקיים ($AB = AC$). ממשיכים את הצלע AC עד לנקודה D כך שאורך שוק המשולש גדולה פי 3.8 מהקטע AD. ידוע כי: $\angle D = 60^\circ$. אורך הקטע BD הוא 21 ס"מ.
א. מצא את אורך הקטע AD.
ב. חשב את שטח המשולש ABC.



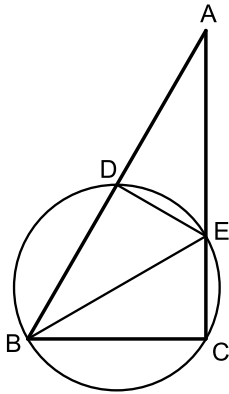
- (43)** במקבילית ABCD אורך האלכסון AC הוא $\sqrt{79}$ ס"מ. היקף המקבילית הוא 20 ס"מ וידוע כי: $\angle B = 120^\circ$.
א. מצא את אורכי צלעות המקבילית.
ב. חשב את שטח המקבילית.
ג. מסמנים נקודה E על האלכסון AC כך שהמרובע CBED הוא בר חסימה. חשב את רדיוס המעגל החוסם את המרובע CBED.



- (44)** המרובע ABCD הוא מלבן החסום במעגל. מהקודקוד D מעבירים את המיתר DF החותך את הצלע AB בנקודה E. ידוע כי: $\widehat{AF} = \widehat{CF}$. הצלע AD של המלבן תסומן ב- a .
א. הוכח כי המשולש DAE שווה שוקיים.
ב. נתון גם כי: $BC = BF$.
i. הבע באמצעות a את רדיוס המעגל.
ii. חשב את הזוויות המרכזיות של הקשתות: \widehat{AB} , \widehat{BC} . (אין צורך לסרטט אותן).



- (45)** המרובע ABCD חסום במעגל כמתואר באיור. ידוע כי: $AB = b$, $BC = a$, $CD = a$, $AD = 3b$.
א. הבע באמצעות a ו- b את $\cos \angle BCD$.
ב. הוכח כי אם BD קוטר אז מתקיים: $a = b\sqrt{5}$.
ג. נתון כי רדיוס המעגל הוא 3 ס"מ. הסתמך על סעיף ב' וחשב את שטח המרובע ABCD.

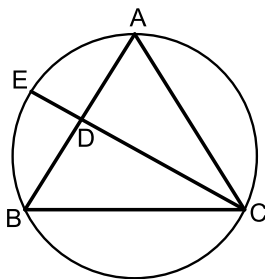


- (46)** המשולש ABC הוא ישר זווית $\sphericalangle C = 90^\circ$ ובו: $\sphericalangle B = 2\alpha$.
 מעבירים מעגל שרדיוסו R דרך הקודקודים B ו-C אשר חותך את צלעות המשולש בנקודות D ו-E.
 המיתר BE חוצה את זווית B.
 א. הבע באמצעות R ו- α את שטח המשולש ABE.
 ב. ידוע כי המשולש ABE הוא שווה שוקיים וכי אורך המיתר CE הוא 6 ס"מ.
 חשב את שטח המשולש ABE.

- (47)** במשולש שווה שוקיים ABC ($AB = AC$) שאורך השוק בו הוא k וזווית הבסיס שלו היא β , BE חוצה את זווית B ו-CD הוא הגובה לשוק AB.

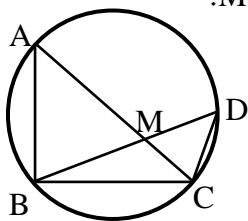
הוכח כי שטח המשולש ADE הוא:

$$S_{ADE} = -\frac{k^2 \sin \frac{\beta}{2} \sin 4\beta}{4 \sin \frac{3\beta}{2}}$$



- (48)** נתון משולש שווה שוקיים ABC ($AB = AC$) החסום במעגל. מהקודקוד C מעבירים את המיתר CE החותך את השוק AB בנקודה D. ידוע כי E היא אמצע הקשת \widehat{AB} והיחס בין הקטעים BD ו-CD הוא 4:7.
 מסמנים: $\sphericalangle ACD = \alpha$.

- א. מצא את זוויות המשולש ABC (עגל למספרים שלמים).
 ב. חשב את אורך המיתר BE אם ידוע כי רדיוס המעגל החוסם שווה ל-8 ס"מ.



- (49)** AC ו-BD הם מיתרים במעגל שרדיוסו R, שנפגשים בנקודה M. זווית B היא זווית ישרה.
 נתון: $\sphericalangle MCB = \beta$, $\sphericalangle MBC = \alpha$.

א. הבע באמצעות R, α ו- β את שטח המשולש BDC.

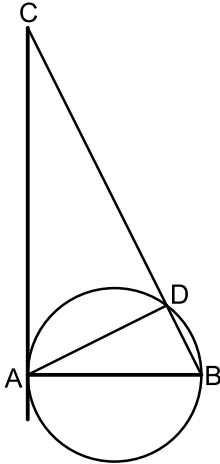
ב. נתון: $\beta = 2\alpha$, $S_{BDC} = \frac{1}{2}R^2$.

חשב את α .

50 בטרפז שווה שוקיים, שאורך השוק שבו הוא b והזווית שליד הבסיס הגדול היא γ נתון שהאלכסונים מאונכים זה לזה.

א. הבע באמצעות γ ו- b את אורכי בסיסי הטרפז.

ב. חשב את γ אם ידוע שהבסיס הגדול ארוך פי $\sqrt{3}$ מהבסיס הקטן.



51 המיתר AB הוא קוטר במעגל שרדיוסו R ו-AD הוא מיתר.

ממשיכים את המיתר BD ומעבירים משיק מהנקודה A.

המשיק והמשך המיתר נפגשים בנקודה C.

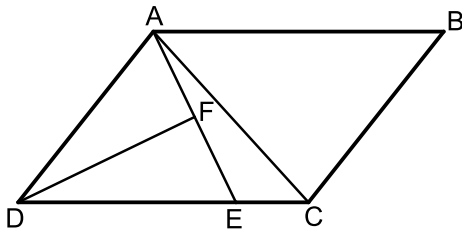
מסמנים: $\angle BAD = \alpha$.

א. הבע באמצעות α ו- R את שטח המשולש ABD.

ב. הבע באמצעות α ו- R את שטח המשולש ACD.

ג. מצא את α אם ידוע כי שטח המשולש ABD

קטן פי 4 משטח המשולש ACD.



52 המרובע ABCD הוא מקבילית.

הקטע AE מקצה על הצלע DC קטעים

המקיימים: $3CE = DE$.

מעבירים תיכון DF לצלע AE במשולש ADE.

ידוע כי: $\angle ADF = \angle CDF = \alpha$.

מסמנים: $CE = k$.

א. הבע באמצעות k ו- α את אורך הקטע AE.

ב. מעבירים את האלכסון AC.

הבע באמצעות k ו- α את היקף המשולש ACE.

ג. היקף המשולש ACE הוא $4.5k$. מצא את α .

תשובות סופיות:

(25) א. $S = 75.801$ סמ"ר ב. $S = 8.641$ סמ"ר

(26) $S = 16$ סמ"ר

(27) $S_{ABCD} = \frac{m^2 \tan^2 \alpha \sin 45^\circ \cos \alpha}{2 \sin(\alpha + 45^\circ)}$

(28) א. $\sqrt{\frac{2S}{\sqrt{27}}} \approx 0.62S$ ב. $\frac{2}{3}S$

(29) א. $\frac{k}{2 \sin \frac{\alpha}{2}}$ ב. $44.4^\circ, 67.78^\circ, 67.78^\circ$ ג. $S = 37.18$

(30) א. $DE = \sqrt{1.6} = 1.26$ ב. $R = 2$ ג. $S = 21.48$

(31) א. $DC = \frac{m \sin(\alpha + \beta)}{\sin \beta}$ ב. $AB = \frac{m \sin(\alpha + \beta)}{3 \sin \beta}$ ג. $S_{ABCD} = 31.2$

(32) א. 12.75 ס"מ ב. 14.19 ס"מ ג. 63.05 ס"מ

(33) א. $\frac{k \tan \alpha}{\tan 2\alpha}$ ב. $\frac{k^2 \tan \alpha \sin 2\alpha}{2 \tan^2 2\alpha}$ ג. $S = 7.754$ ס"מ

(34) א. $\frac{k^2 \sin \alpha \sin \beta}{2 \sin(\alpha + \beta)}$ ב. $\frac{2k^2 \sin \alpha \sin \beta}{\sin(\alpha + \beta)}$.ii.

(35) א. 109.1° ב. $S = 86.6$

(36) א. 7 ס"מ ב. 34.48 סמ"ר

(37) א. $R = \frac{k}{2 \sin^2 40} = 1.21k$ ב. $S = \frac{k^2 \sin 10}{2 \sin 50 \sin^3 40}$ ג. $k = 6$

(38) א. 40.72° ב. $S = 12.52$

(39) א. $128.32^\circ; 51.68^\circ$ ב. $1.27m \sin \alpha$ ג. $\frac{0.35m^2 \sin^2 \alpha \sin(128.32 - \alpha)}{\sin(25.84 + \alpha)}$

(40) א. $BD = \frac{k \sin 20}{\sin 100}$ ב. $k = 7$

(41) א. 5 ס"מ ב. $S = 172.77$

(42) א. $AB = 3$ ס"מ $BC = 7$ ס"מ ב. $S = 18.18$ סמ"ר ג. $R = \sqrt{\frac{37}{3}}$

ב.ii. $45^\circ, 135^\circ$

(43) ב.i. $R = a\sqrt{1 + \frac{\sqrt{2}}{2}} \approx 1.3a$

ג. $S = 14.4$ סמ"ר

(44) א. $\cos \sphericalangle BCD = \frac{a^2 - 5b^2}{a^2 + 3b^2}$

ב. $S = 36\sqrt{3}$ סמ"ר

(45) א. $S = R^2 \tan 2\alpha$

ב. $BE = 7.75$

(48) א. $58^\circ, 58^\circ, 64^\circ$

ב. $\alpha = 22.5^\circ$

(49) א. $S = 2R^2 \sin \alpha \cos \beta \sin(90^\circ - \alpha + \beta)$

ב. $\gamma = 75^\circ$

(50) א. $\frac{b \sin(135^\circ - \gamma)}{\sin 45^\circ}, \frac{b \sin(\gamma - 45^\circ)}{\sin 45^\circ}$

ג. $\alpha = 26.56^\circ$

ב. $S = \frac{2R^2 \cos^3 \alpha}{\sin \alpha}$

(51) א. $S = R^2 \sin 2\alpha$

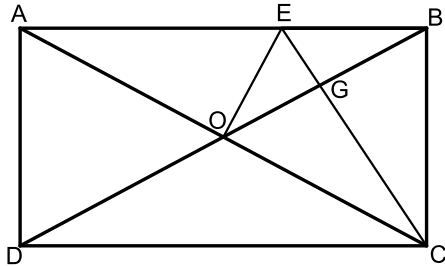
ב. $P_{ACE} = k + 6k \sin \alpha + k\sqrt{25 - 24 \cos 2\alpha}$

(52) א. $AE = 6k \sin \alpha$

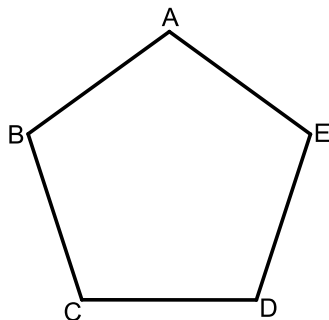
ג. $\alpha = 14.47^\circ$

שאלות המשלבות ידע בגיאומטריה:

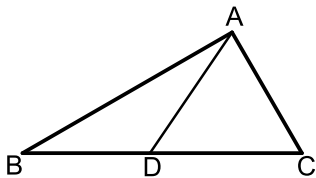
שאלות:



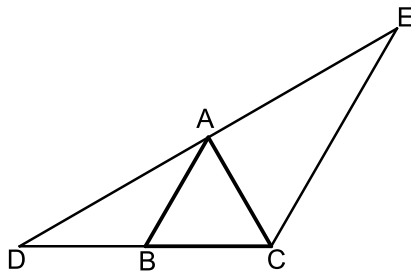
- 53) המרובע ABCD הוא מלבן.
מעבירים את האלכסונים AC ו-BD.
הנקודה E נמצאת על הצלע AB של המלבן ומחלקת אותה כך ש- $2BE = AE$.
ידוע כי הקטע OE מאונך לאלכסון AC ושווה ל-BE.
הקטע CE חותך את האלכסון BD בנקודה G.
א. הוכח כי הקטע CE מאונך לאלכסון BD.
ב. הוכח כי מתקיים: $4GE = AE$.
ג. נתון כי שטח המשולש BEG הוא 5 סמ"ר.
חשב את שטח המלבן ABCD.



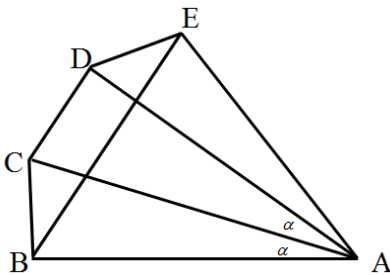
- 54) באיור שלפניך נתון מחומש משוכלל ACBDE (כל זוויותיו הן 108°) בעל אורך צלע α .
א. הבע באמצעות α את אלכסון המחומש AD.
ב. הבע באמצעות α את רדיוס המעגל החוסם את המחומש.
ג. הבע באמצעות α את שטח המחומש.
ד. אורך רדיוס המעגל החוסם את המחומש הוא 6 ס"מ.
חשב את שטח המחומש.



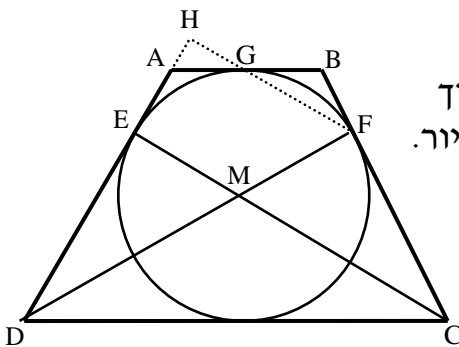
- 55) במשולש ABC הזווית C היא 60° .
מעבירים את הקטע AD כך שנוצרים המשולשים ABD ו-ACD.
ידוע כי רדיוס המעגל החוסם את המשולש ACD הוא: $R_1 = \sqrt{3}$ ס"מ.
כמו כן רדיוס המעגל החוסם את המשולש ABD הוא: $R_2 = 3$ ס"מ.
א. הוכח כי המשולש ABC הוא ישר זווית.
ב. היקף המשולש ABC הוא: $12 + 4\sqrt{3}$ ס"מ = P.
חשב את שטח המשולש.



- 56** המשולש ABC הוא שווה צלעות. הקטע DE עובר דרך הקודקוד A כך שנוצרים שני משולשים ABD ו-ACE. ידוע כי AC חוצה את זווית DCE במשולש DCE. א. הוכח: $AB \parallel CE$. ב. הוכח: $BC \cdot DE = DC \cdot AE$. ג. נתון: $DC = 8$ ס"מ וכי: $AC \perp DE$.
i. חשב את שטח המשולש DCE.
ii. חשב את שטח המשולש ABD.

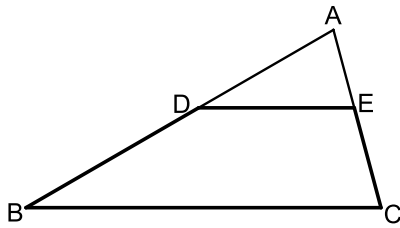


- 57** מהנקודה A מעבירים את הקטעים AB, AC, AD ו-AE כך שמתקיים: $\angle BAC = \angle CAD = \alpha$ ו- $AB = AE$. מעבירים את האלכסון BE במחומש ABCDE מתקיים: $BE \parallel CD$. ידוע כי המרובע BCDE הוא בר חסימה. א. הוכח כי המרובע BCDE הוא טרפז שווה שוקיים. ב. נתון כי המשולש ACD הוא ש"ש ($AC = AD$). הוכח כי: $\triangle ABD \cong \triangle ACE$. ג. ידוע כי: $\angle ADC = 3\alpha + 2.5$ ו- $\angle ADE = 3\alpha - 10$. הוכח כי משולש ADE הוא ישר זווית. ד. נסמן: $AB = m$.
i. הבע באמצעות m את צלעות הטרפז BCDE.
ii. הבע באמצעות m את שטח המחומש ABCDE.
iii. מצא את m אם ידוע כי שטח המחומש ABCDE הוא 46.284 סמ"ר. (עגל למספר שלם).



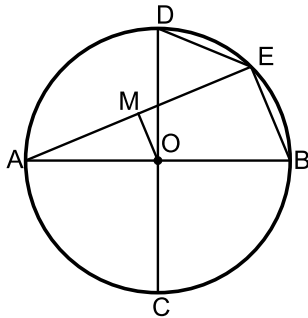
- 58** הטרפז ABCD הוא שווה שוקיים. חוסמים מעגל בתוך הטרפז אשר משיק לו בנקודות E, F, G ו-H כמתואר באיור. הקטעים DF ו-CE חוצים את זוויות הטרפז ונחתכים בנקודה M. א. הוכח כי הנקודה M היא מרכז המעגל החסום. ב. חשב את זוויות הטרפז. ג. ממשיכים את GF ואת AD כך שהם נפגשים בנקודה H.

חשב את היחס $\frac{EM}{FH}$.

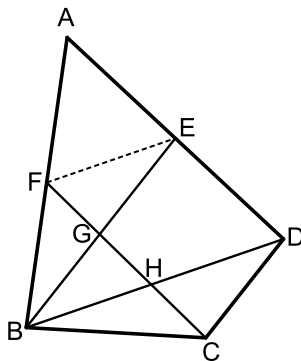


- (59)** המרובע BDEC הוא טרפז $BC \parallel DE$. המשכי השוקיים BD ו-CE נפגשים בנקודה A כך שהמשולש ABC הוא שווה שוקיים ($AB = BC$). נתון: $AB = 18$ ס"מ, $\angle ADE = 30^\circ$.
- סמן את אורך הבסיס DE ב- x . ואת שטח הטרפז BDEC ב- S . הבע את S באמצעות x .
 - על הקטע AD בונים ריבוע. ידוע כי שטחו קטן ב-1 סמ"ר משטח הטרפז BDEC.

חשב את היחס: $\frac{S_{ADE}}{S_{ABC}}$.



- (60)** במעגל שמרכזו O מעבירים את הקטרים AB ו-CD. המאונכים זה לזה. E היא נקודה על היקף המעגל המקיימת: $BE + DE = 15$ ס"מ. מעבירים את המיתר AE. הקטע OM מאונך למיתר AE ושווה למיתר DE.
- הוכח כי המרובע OMEB הוא טרפז ישר זווית.
 - מצא את אורך המיתר BE.
 - נתון כי שטח הטרפז הוא 90 סמ"ר. מצא את רדיוס המעגל.
 - חשב את זווית B.



- (61)** BD הוא אלכסון במרובע הבר-חסימה ABCD. הנקודות E ו-F הן בהתאמה אמצעי הצלעות AD ו-AB במרובע. מעבירים את הקטעים BE ו-CF כך ש- $BE \parallel CD$. נתון כי הזוויות $\angle A$ ו- $\angle BFE$ משלימות ל- 180° .
- הוכח: $\triangle ABCD \sim \triangle BFE$.
 - נתון כי: $BE = 7.5$ וכי: $GE - HD = 17 \frac{1}{15}$. חשב את אורך הקטע FE.
 - נתון כי רדיוס המעגל החוסם את המשולש BED הוא: $R = 4.001$ ס"מ. מצא את זווית $\angle EBD$.

תשובות סופיות:

(53) ג. 120 סמ"ר

(54) א. 1.618α

(55) ב. $S = 8\sqrt{3}$

(56) ג. i. $S_{CDE} = 16\sqrt{3}$

ג. ii. $S_{ABD} = 4\sqrt{3}$

(57) ד. i. $BC = 0.4663m$, $DE = 0.4663m$, $CD = 0.4776m$, $BE = 1.2175m$

(62) ד. ii. $0.7232m^2$

ד. iii. $m = 8$ ס"מ

ג. $\frac{2}{3}$

(58) ב. 60° , 120°

ב. $\frac{S_{ADE}}{S_{ABC}} = \frac{16}{81}$

(59) א. $S = 81 - 0.25x^2$

ג. $R = 13$

(60) ב. $BE = 10$

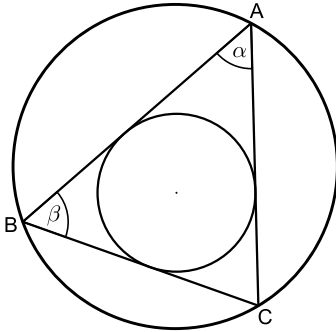
ד. $\sphericalangle B = 67.38^\circ$

ג. 16.73°

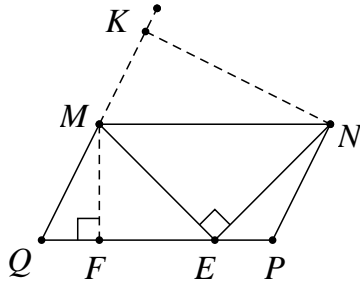
(61) ב. $FE = 4$

שאלות מסכמות:

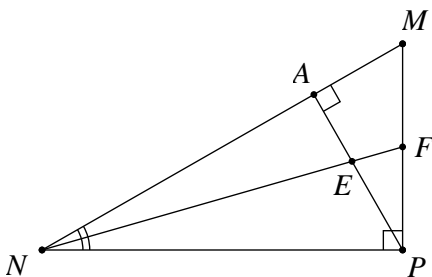
שאלות:



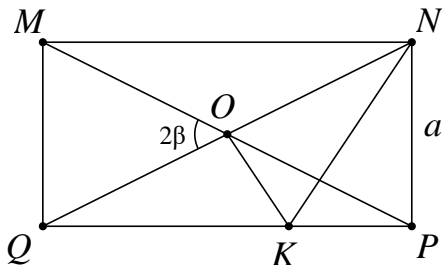
- (1) המשולש ABC חסום מעגל שרדיוסו R . נתון כי $\sphericalangle A = \alpha$, $\sphericalangle B = \beta$.
 א. הבע את רדיוס המעגל החסום במשולש בעזרת R , α , β .
 ב. נתון כי: $\alpha = \beta = 60^\circ$. חשב את רדיוס המעגל החסום במשולש בעזרת R .



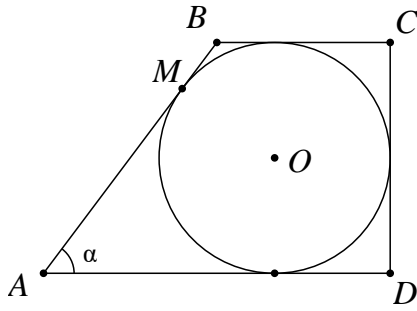
- (2) במקבילית MNQP נקודה E נמצאת על הצלע PQ כך ש- $\sphericalangle MEN = 90^\circ$ (ראה ציור). נתון: 12 ס"מ MQ , $\sphericalangle MNE = 40^\circ$, $\sphericalangle MQP = 70^\circ$. מצא את הגובה MF, ואת הגובה NK.



- (3) במשולש ישר-זווית MNP, ($\sphericalangle P = 90^\circ$) PA הוא גובה ליתר ו-NF חוצה את הזווית $\sphericalangle MNP$.
 PA ו-NF נחתכים בנקודה E (ראה ציור). נתון: 24 ס"מ NP , $\sphericalangle MNP = 40^\circ$.
 א. מצא את אורך הקטע NA.
 ב. מצא את אורך הקטע EF.



- (4) אלכסוני המלבן MNPQ נחתכים בנקודה O. מנקודה O מעלים אנך ל-QN החותך את QP בנקודה K (ראה ציור). נתון: $NP = a$, $\sphericalangle MOQ = 2\beta$.
 א. הבע את אורך הקטע OK באמצעות β ו- a .
 ב. הבע את היקף המשולש NOK באמצעות β ו- a .



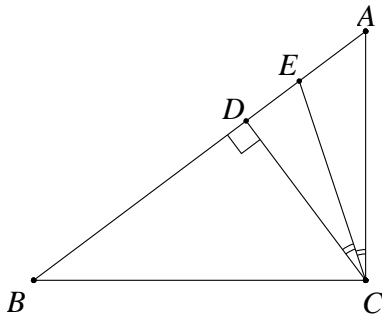
5) בטרפז ישר-זווית ABCD חסום מעגל שמרכזו O.

הנקודה M היא נקודת ההשקה של המעגל עם השוק AB.

נתון: $AM = 12$ ס"מ, $\angle BAD = \alpha$.

א. הבע את רדיוס המעגל בעזרת α .

ב. הבע את היקף הטרפז בעזרת α .



6) במשולש ישר-זווית ABC (ראה ציור) נתון:

$\angle ABC = \beta$, $\angle ACB = 90^\circ$, $BC = 8$ ס"מ.

CD הוא הגובה ליתר.

CE הוא חוצה-הזווית $\angle C$.

הבע את אורך הקטע AE באמצעות β .

7) נתון מעגל שרדיוסו R. מצולע משוכלל בעל 9 צלעות חוסם את המעגל הזה.

מצולע משוכלל אחר בעל 9 צלעות חסום בתוך מעגל זה.

חשב את היחס בין שטח המצולע החוסם את המעגל לשטח המצולע החסום במעגל זה.

8) $\triangle ABC$ הוא משולש שווה-שוקיים ($AB = AC$) שאורך בסיסו 12 ס"מ.

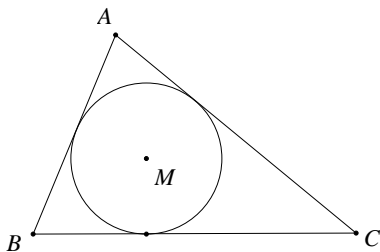
AD הוא הגובה לבסיס BC ו-CE הוא הגובה לשוק AB.

שני הגבהים נחתכים בנקודה O. נתון: $\angle ABC = \alpha$ ($\alpha > 45^\circ$).

א. הבע את היחס $AO : DO$ באמצעות α .

ב. הראה כי בעבור $\alpha = 60^\circ$ הביטוי שמצאת בסעיף א' מתאים לתכונות

הגאומטריות של משולש שווה-צלעות.



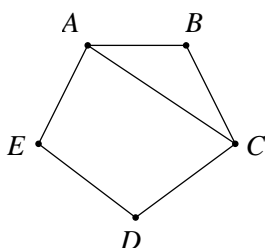
9) במשולש ABC חסום מעגל שמרכזו M

ורדיוסו r (ראה ציור).

נתון: $\angle B = 62^\circ$, $\angle C = 46^\circ$.

א. הבע באמצעות r את אורך הצלע BC.

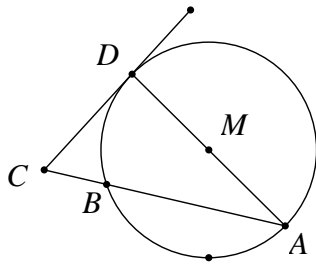
ב. נתון: $BC = 16$ ס"מ. מצא את r.



10) במחומש משוכלל ABCDE (ראה ציור)

אורך האלכסון AC הוא 15 ס"מ.

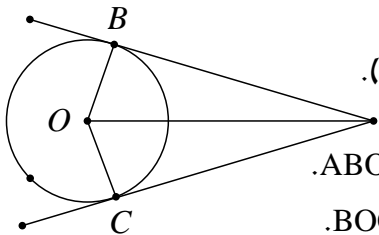
חשב את שטח המחומש.



11 מנקודה C הנמצאת מחוץ למעגל שמרכזו M ורדיוסו R מעבירים משיק CD וחוטך CBA למעגל (ראה ציור).

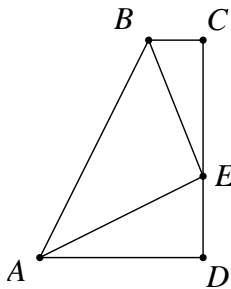
נתון: $CD = \frac{3}{5}R$.

- א. מצא את זוויות המשולש CAD.
ב. הבע באמצעות R את שטח המשולש BCD.



12 מנקודה A, הנמצאת מחוץ למעגל שמרכזו O, יוצאים שני משיקים למעגל, AB ו-AC (ראה ציור). נתון: $\angle BAC = 2\alpha$, $AO = 10$ ס"מ.

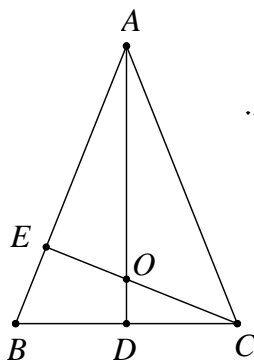
- א. הבע באמצעות α את S_1 , שטח המרובע ABOC.
ב. הבע באמצעות α את S_2 , שטח המשולש BOC.
ג. הראה שאם $\alpha = 30^\circ$, אזי: $S_1 = 4 \cdot S_2$.



13 ABCD הוא טרפז ישר-זווית ($\angle C = \angle D = 90^\circ$). נקודה E נמצאת על הצלע DC (ראה ציור). נתון: $\angle AEB = 90^\circ$, $AE = BE = k$, ו- $\angle CBE = \beta$. הבע באמצעות k ו- β את שטח הטרפז.

14 ענה על השאלות הבאות:

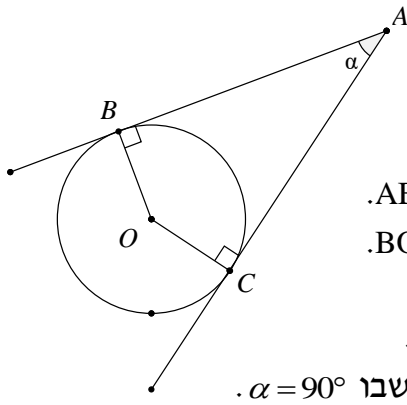
- א. במעושר משוכלל, ששטחו 100 סמ"ר, חוסמים מעגל. מצא את רדיוס המעגל החסום במעושר.
ב. מעושר משוכלל חסום במעגל, שאת רדיוסו מצאת בסעיף א'. מצא את שטח המעושר המשוכלל הזה.



15 ABC הוא משולש שווה-שוקיים ($AB = AC$) שבו זווית הראש היא זווית חדה. נתון כי זווית הבסיס היא β ואורך הבסיס BC הוא 2α . AD הוא הגובה לבסיס BC ו-CE הוא הגובה לשוק AB. הגבהים AD ו-CE נפגשים בנקודה O (ראה ציור).

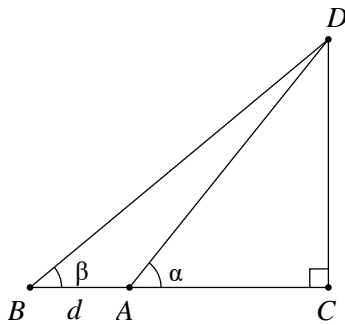
- א. הבע באמצעות α ו- β את אורכי הקטעים CO ו-CE.
ב. הבע באמצעות β את היחס $\frac{CO}{CE}$.

ג. חשב את היחס שמצאת בסעיף ב' כאשר $\beta = 60^\circ$, והסבר מהי המשמעות הגאומטרית של התוצאה שקיבלת.

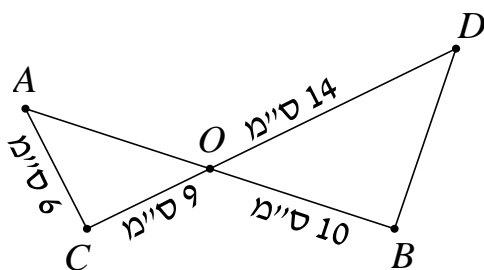


16) מנקודה A יוצאים שני משיקים למעגל שמרכזו O, שאורכם m (כלומר: $AB = AC = m$). נקודות ההשקה הן B ו-C, והזווית שבין המשיקים היא $\angle BAC = \alpha$ (ראה ציור).

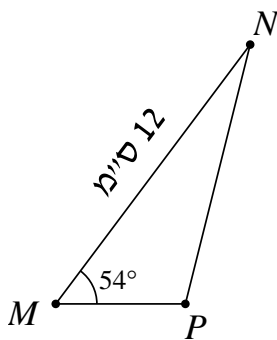
- הבע באמצעות m ו- α את שטח המשולש ABC.
- הבע באמצעות m ו- α את שטח המשולש BOC.
- הבע באמצעות α את היחס שבין שטחו של המשולש BOC לבין שטחו של המשולש ABC.
- בדוק את תשובתך לסעיף ג' למקרה המיוחד שבו $\alpha = 90^\circ$.



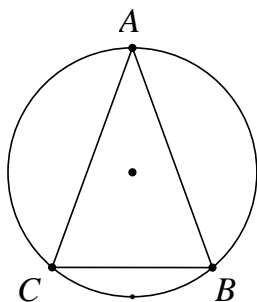
17) במשולש ישר-זווית DAC נתון $\angle DAC = \alpha$. מאריכים את הניצב AC כך ש- $AB = d$. נתון כי: $\angle DBA = \beta$ (ראה ציור). סמן: $AC = x$. הבע את x באמצעות d , α ו- β .



18) הקטעים AB ו-CD נחתכים בנקודה O. נתון כי: $\angle OAC = 60^\circ$, $AC = 6$ ס"מ, $CO = 9$ ס"מ, $OB = 10$ ס"מ, $OD = 14$ ס"מ. חשב את $\angle ODB$.

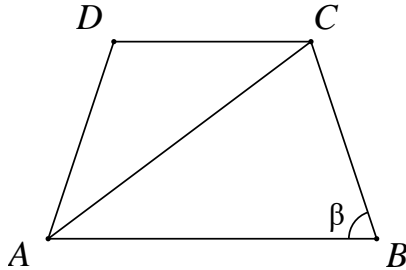


19) במשולש MNP גודל הזווית M הוא 54° . נתון כי אורך הצלע MN הוא 12 ס"מ (ראה ציור), והצלע NP ארוכה ב-7 ס"מ מהצלע MP. א. חשב את אורך הצלע NP. ב. PA הוא תיכון לצלע MN. חשב את שטח המשולש PAN.

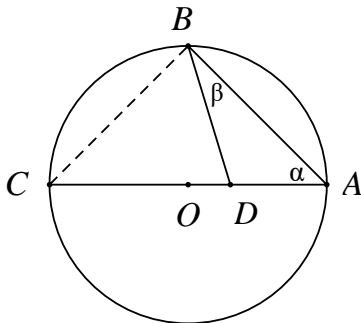


20) המשולש השווה-שוקיים ABC ($AB = AC$) חסום במעגל (ראה ציור). נתון: $\angle ABC = \beta$. כמו כן ידוע שאורך רדיוס המעגל הוא 20 ס"מ. א. הבע בעזרת β את שטח המשולש ABC. ב. חשב את שטח המשולש ABC בעבור $\beta = 45^\circ$.

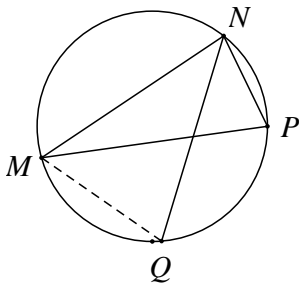
(21) במשולש ABC הזווית $\sphericalangle C$ היא בת 60° , אורך הצלע AB הוא $\sqrt{13}$ ס"מ, והיקף המשולש הוא $7 + \sqrt{13}$ ס"מ. חשב את שטח המשולש.



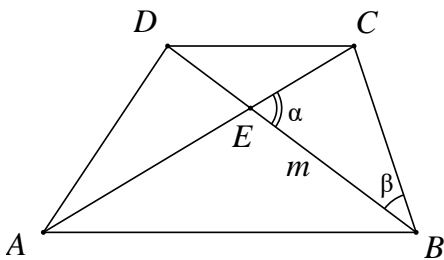
(22) בטרפז שווה-שוקיים ABCD ($AD = BC$) אורך הבסיס הגדול AB שווה לאורך האלכסון. זווית הבסיס היא β ($\beta > 60^\circ$), (ראה ציור). הבע באמצעות β את היחס שבין שטח המשולש ACD לשטח המשולש ABC.



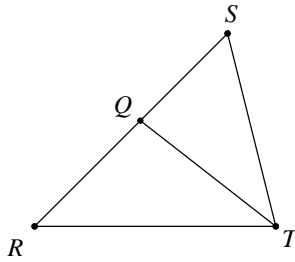
(23) הקודקודים A ו-B של המשולש ABD נמצאים על היקף מעגל שאורך רדיוסו 12 ס"מ ומרכזו O. הקודקוד D של המשולש ABD נמצא על הרדיוס OA. א. הבע בעזרת α ו- β את שטח המשולש ABD. ב. הבע בעזרת α ו- β את היחס שבין שטח המשולש ABC לשטח המשולש ABD.



(24) משולש MNP חסום במעגל. המיתר NQ חוצה את הזווית $\sphericalangle MNP$. נתון: $\sphericalangle MPN = 70^\circ$, $\sphericalangle MNP = 80^\circ$, $NP = 12$ ס"מ. חשב את אורך המיתר MQ.



(25) נתון טרפז ABCD ($AB \parallel CD$). הנקודה E היא נקודת המפגש של אלכסוני הטרפז. נתון: $BE = m$, $DC = BC$, $\sphericalangle CEB = \alpha$, $\sphericalangle CBD = \beta$ (ראה ציור). הבע את אורכי בסיס הטרפז: AB ו-CD באמצעות m , α ו- β .



26 במשולש RST נתון: QT הוא חוצה-הזווית $\angle RTS$

(ראה ציור), $RQ = \sqrt{2}$, $QS = m$,

$\angle TRQ = 45^\circ$, $\angle RST = \alpha$.

א. הבע את $\sin \alpha$ באמצעות m .

ב. נתון כי: $m = \frac{2}{\sqrt{3}}$.

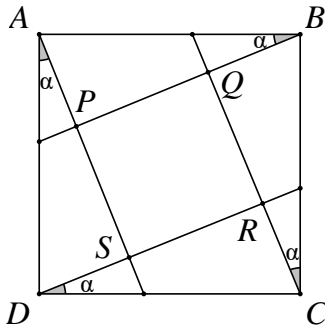
חשב את זוויות המשולש RST.

27 במשולש שווה שוקיים ABC ($AB = AC$) התיכון לשוק שווה באורכו לרדיוס המעגל החוסם את המשולש. חשב את זווית הבסיס של המשולש.

28 נתון משולש שצלעותיו t , $2t$, kt

א. לאיזה ערכים של הקבוע k המשולש הוא קהה זווית?

ב. נתון $k = \sqrt{7}$. הבע ע"י t את אורך חוצה הזווית הקהה.



29 בתוך הריבוע ABCD נתון, העבירו ארבעה

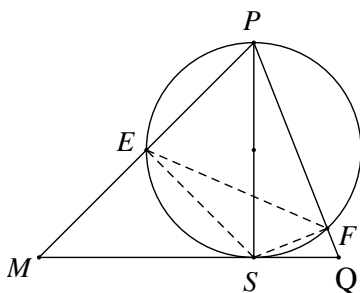
קטעים היוצרים את אותה זווית α

עם צלעות הריבוע כך שהתקבל ריבוע

פנימי PQRS.

א. הוכח כי: $\frac{PQ}{AB} = \cos \alpha - \sin \alpha$.

ב. לאיזו זווית α מתקיים: $PR = AB$?



30 PS הוא גובה במשולש PMQ (ראה ציור).

נתון $PS = h$, $\angle MPS = \alpha$, $\angle SPQ = \beta$.

א. הבע את שטח המשולש PMQ

באמצעות h , α ו- β .

ב. מעגל שקוטרו PS חותך את

הצלעות PM ו-PQ בנקודות E

ו-F בהתאמה (ראה ציור).

i. הבע באמצעות α ו- β את $\angle ESF$.

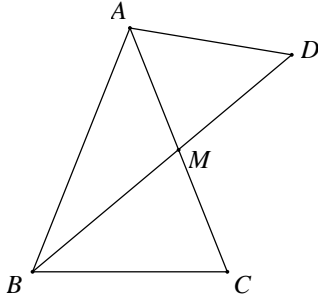
ii. הבע באמצעות α ו- β את היחס בין

שטח המשולש ESF לשטח המשולש PMQ.

31 במשולש ABC הצלעות הן a , b ו- c והזוויות שמונחות מולן הן: α , β ו- γ בהתאמה.

א. הבע את אורך התיכון m_a (התיכון לצלע a) באמצעות הצלעות b ו- c והזווית α .

ב. בדוק את הנוסחה שמצאת למקרה שבו המשולש ABC הוא שווה צלעות.



32 במשולש שווה שוקיים ABC ($AB = AC$),

BM הוא תיכון לשוק (ראה ציור).

נתון כי רדיוס המעגל החוסם את המשולש

ABC הוא 10 ס"מ וכן נתון ש- $\angle BAC = 50^\circ$.

א. מצא את גודל הזווית $\angle BMC$.

ב. ממשיכים את BM עד לנקודה D,

כך שרדיוס המעגל החוסם את המשולש ABD הוא 14 ס"מ.

מצא את שטח המשולש AMD.

33 משולש שווה שוקיים BCE ($BC = BE$) חסום במעגל שרדיוסו R.

זווית הבסיס של המשולש BCE היא α .

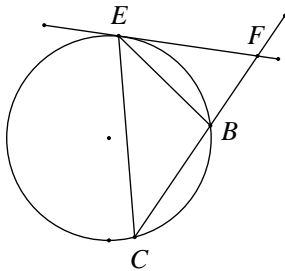
בנקודה E העבירו משיק למעגל החותך את

המשך השוק BC בנקודה F (ראה ציור).

א. בטא את שטח המשולש BEF באמצעות R ו- α .

ב. מצא את הערך של α שבעבורו שטח

המשולש BCE שווה לשטח המשולש BEF.



34 בטרפז BCDE ($BC \parallel ED$) אורך הבסיס BC הוא 12 ס"מ.

הזווית שבין הבסיס BC לשוק DC היא 80° .

אורך האלכסון BD הוא 16 ס"מ, והוא חוצה את הזווית $\angle CBE$.

חשב את היקף הטרפז.

35 במשולש ישר-זווית APD מחלקים את הזווית הישרה $\angle P$

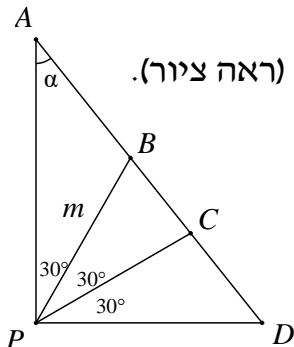
לשלוש זוויות שוות, כלומר $\angle APB = \angle BPC = \angle CPD = 30^\circ$ (ראה ציור).

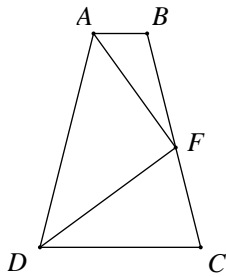
נתון כי: $PB = m$, $\angle PAD = \alpha$.

א. היעזר במשפט הסינוסים,

והבע את AB, AC, BD ו-CD באמצעות m ו- α .

ב. הוכח כי: $\frac{AC \cdot BD}{AB \cdot CD} = 3$



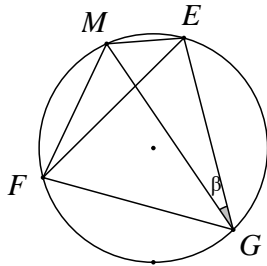


36) בטרפז שווה שוקיים $ABCD$ ($AD = BC$, $AB \parallel DC$),

F היא נקודה על השוק BC , כך ש- DF חוצה את הזווית $\sphericalangle CDA$ ו- AF חוצה את הזווית $\sphericalangle DAB$ (ראה ציור).

נתון: $\sphericalangle FAB = \beta$, $AB = b$

הבע באמצעות b ו- β את אורך הבסיס DC .

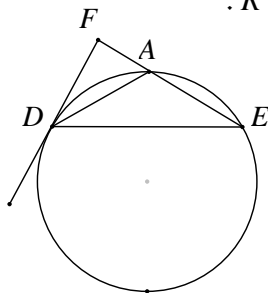


37) משולש שווה צלעות EFG חסום במעגל שרדיוסו R .

M היא נקודה על המעגל. נתון: $\sphericalangle MGE = \beta$ (ראה ציור).

א. הוכח כי: $ME + MF = MG$

ב. אם $ME = R$ מה תוכל לומר על $\sphericalangle MGE$?



38) משולש שווה שוקיים ADE ($AD = AE$) חסום במעגל שרדיוסו R .

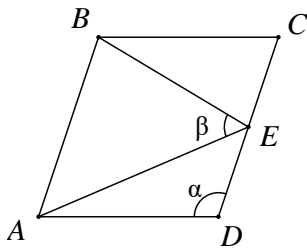
ישר המשיק למעגל בנקודה D חותך את המשך הצלע AE בנקודה F (ראה ציור).

נתון: $\sphericalangle ADE = \alpha$ ($60^\circ < \alpha < 180^\circ$).

א. הבע את שטח המשולש ADF באמצעות R ו- α .

ב. הבע באמצעות α את היחס שבין שטח המשולש ADE ובין שטח המשולש ADF .

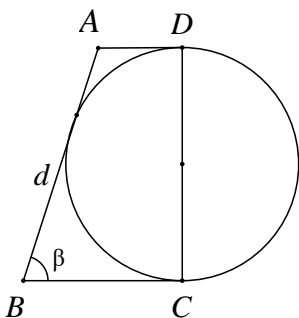
ג. חשב את α אם שטח המשולש ADE שווה לשטח המשולש ADF .



39) במעוין $ABCD$ הנקודה E היא אמצע הצלע CD .

נתון: $\sphericalangle AEB = \beta$, $\sphericalangle ADC = \alpha$ (ראה ציור).

הוכח כי: $\cos \beta = \frac{3}{\sqrt{25 - 16 \cos^2 \alpha}}$



40) נתון טרפז $ABCD$ ונתון מעגל. השוק DC הוא קוטר המעגל.

השוק AB משיקה למעגל, והבסיסים AD ו- BC משיקים גם הם למעגל בנקודות D ו- C בהתאמה (ראה ציור).

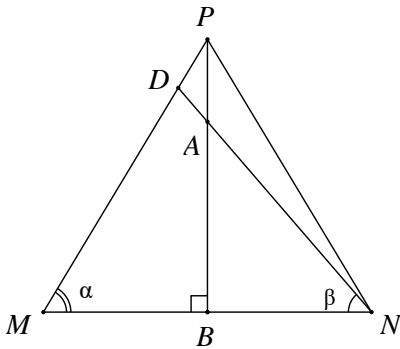
נתון כי: $AB = d$, $\sphericalangle B = \beta$

א. הבע באמצעות d את סכום בסיסיו של הטרפז.

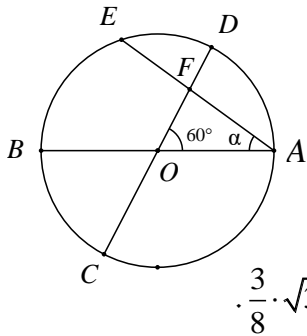
ב. הבע באמצעות d ו- β את היקף הטרפז ואת השטח של הטרפז.

ג. נתון שהיקף הטרפז 25 ס"מ ושטחו 25 סמ"ר.

חשב את הזווית החדה β .



- (41)** במשולש שווה שוקיים PMN ($PM = PN$),
 A היא נקודה על הגובה PB , כך ש- $PA = \frac{1}{5} \cdot PB$.
 הישר NA חותך את השוק PM בנקודה D (ראה ציור).
 נתון: $\angle DNB = \beta$, $\angle DNM = \alpha$ ו- $BN = \alpha$.
 א. חשב את היחס $\tan \beta : \tan \alpha$.
 ב. חשב את היחס $PM:DM$.



- (42)** במעגל שמרכזו O ורדיוסו R מעבירים שני
 קטרים AB ו- CD הנחתכים בזווית של 60° .
 מיתר AE , היוצר זווית α עם הקוטר AB ,
 חותך את הקוטר CD בנקודה F (ראה ציור).
 א. הבע את שטח המשולש ACF באמצעות R ו- α .
 ב. הוכח שכאשר $\alpha = 30^\circ$, שטח המשולש ACF הוא $\frac{3}{8} \cdot \sqrt{3} \cdot R^2$.

תשובות סופיות:

$$\frac{1}{2}R \quad \text{ב.} \quad r = \frac{2R \sin(\alpha + \beta) \tan \frac{\beta}{2} \tan \frac{\alpha}{2}}{\tan \frac{\alpha}{2} + \tan \frac{\beta}{2}} = 4R \sin \frac{\alpha}{2} \sin \frac{\beta}{2} \cos \frac{\alpha + \beta}{2} \quad \text{א.} \quad (1)$$

$$KN = 21.52 \text{ ס"מ} , MF = 11.28 \text{ ס"מ} \quad (2)$$

$$EF = 5.975 \text{ ס"מ} \quad \text{ב.} \quad NA = 18.385 \text{ ס"מ} \quad \text{א.} \quad (3)$$

$$\frac{a}{2 \sin \beta} \cdot \left[1 + \tan \beta + \frac{1}{\cos \beta} \right] \quad \text{ב.} \quad OK = \frac{a}{2 \cos \beta} \quad \text{א.} \quad (4)$$

$$24 \cdot \left(1 + \tan \frac{\alpha}{2} \right)^2 \quad \text{ב.} \quad 12 \cdot \tan \frac{\alpha}{2} \quad \text{א.} \quad (5)$$

$$AE = 8 \sin \beta \cdot \left[\tan \beta - \tan \left(\frac{1}{2} \beta \right) \right] = 8 \tan \beta \cdot \tan \left(\frac{1}{2} \beta \right) \quad (6)$$

$$2 \cdot \frac{\tan 20^\circ}{\sin 40^\circ} = \frac{1}{\cos^2 20^\circ} \approx 1.132 \quad (7)$$

$$-2 \cdot \frac{\tan \alpha}{\tan 2\alpha} = -\frac{\cos 2\alpha}{\cos^2 \alpha} = \tan^2 \alpha - 1 \quad \text{א.} \quad (8)$$

ב. מתקיים: $AO = 2 \cdot DO$ (מפגש הגבהים הוא גם מפגש התיכונים).

$$r = \frac{16}{\tan 59^\circ + \tan 67^\circ} \approx 3.98 \quad \text{ב.} \quad BC = r \cdot (\tan 59^\circ + \tan 67^\circ) \approx 4.02 \cdot r \quad \text{א.} \quad (9)$$

$$S = 147.86 \text{ סמ"ר} \quad (10)$$

$$S \approx 0.0495 \cdot R^2 \quad \text{ב.} \quad \sphericalangle C = 73.3^\circ , \sphericalangle D = 90^\circ , \sphericalangle A = 16.7^\circ \quad \text{א.} \quad (11)$$

$$S_1 = 100 \cdot \sin \alpha \cdot \cos \alpha = 50 \cdot \sin 2\alpha \quad \text{א.} \quad (12)$$

$$S_2 = 50 \cdot \sin^2 \alpha \cdot \sin(180^\circ - 2\alpha) = 50 \cdot \sin^2 \alpha \cdot \sin 2\alpha \quad \text{ב.}$$

$$\text{ב. 27 יח"ש.} \quad S = \frac{1}{2} k^2 \cdot (1 + 2 \sin \beta \cos \beta) \quad \text{א.} \quad (13)$$

$$S \approx 90.45 \text{ סמ"ר} \quad \text{ב.} \quad r \approx 5.548 \text{ ס"מ} \quad \text{א.} \quad (14)$$

$$\frac{CO}{CE} = \frac{1}{2 \sin^2 \beta} \quad \text{ב.} \quad CE = 2a \cdot \sin \beta , CO = \frac{a}{\sin \beta} \quad \text{א.} \quad (15)$$

ג. היחס הוא: $\frac{2}{3}$ (בדומה למפגש התיכונים במשולש)

$$S_{\Delta BOC} = \frac{1}{2} m^2 \cdot \sin \alpha \cdot \tan^2 \frac{\alpha}{2} \quad \text{ב.} \quad S_{\Delta ABC} = \frac{1}{2} m^2 \cdot \sin \alpha \quad \text{א. (16)}$$

$$\text{ג. יחס השטחים: } \tan^2 \frac{\alpha}{2}$$

ד. במקרה זה ABOC הוא ריבוע, ויחס השטחים שווה ל-1 ($\tan^2 45^\circ = 1$).

$$AC = x = d \cdot \frac{\tan \beta}{\tan \alpha - \tan \beta} \quad (17)$$

$$\sphericalangle ODB \approx 44.7^\circ \quad (18)$$

$$S_{\Delta PAN} = 8.2 \text{ סמ"ר} \quad \text{ב.} \quad NP = 10.38 \text{ ס"מ} \quad \text{א. (19)}$$

$$S = 800 \cdot \sin^2 \beta \cdot \sin 2\beta \quad \text{א. (20)} \quad \text{ב. 400 סמ"ר}$$

$$S_{\Delta ABC} = 3 \cdot \sqrt{3} \approx 5.196 \text{ סמ"ר} \quad (21)$$

$$(22) \quad \text{יחס השטחים הוא: } 1 - 4 \cos^2 \beta = \left(-\frac{\sin 3\beta}{\sin \beta} \right) \quad \text{או כל תשובה שקולה.}$$

$$\frac{\sin(\alpha + \beta)}{\sin \beta \cdot \cos \alpha} \quad \text{ב.} \quad S_{\Delta ABD} = 288 \cdot \frac{\sin \alpha \cdot \cos^2 \alpha \cdot \sin \beta}{\sin(\alpha + \beta)} \quad \text{א. (23)}$$

$$MQ \approx 15.43 \text{ ס"מ} \quad (24)$$

$$DC = m \cdot \frac{\sin \alpha}{\sin(\alpha + \beta)}, \quad AB = m \cdot \frac{\sin \alpha}{\sin(\alpha - \beta)} \quad (25)$$

$$45^\circ, 60^\circ, 75^\circ \text{ או } 45^\circ, 120^\circ, 15^\circ \quad \text{ב.} \quad \sin \alpha = \frac{1}{m} \quad \text{א. (26)}$$

$$\alpha \approx 20.7 \quad (27)$$

$$\frac{2}{3} \cdot t \approx 0.667t \quad \text{ב.} \quad 1 < k < \sqrt{3} \text{ או } \sqrt{5} < k < 3 \quad \text{א. (28)}$$

$$\alpha = 15^\circ \quad (29)$$

$$\sphericalangle ESF = 180^\circ - (\alpha + \beta) \quad \text{ב. i.} \quad S_{\Delta MPQ} = \frac{1}{2} \cdot h^2 \cdot (\tan \alpha + \tan \beta) \quad \text{א. (30)}$$

$$S_{\Delta EFS} : S_{\Delta MPQ} = \frac{1}{4} \cdot \sin 2\alpha \cdot \sin 2\beta \quad \text{ב. ii.}$$

$$m_a = \frac{\sqrt{3}}{2} \cdot b \quad \text{ב.} \quad m_a = \frac{1}{2} \cdot \sqrt{b^2 + c^2 + 2 \cdot b \cdot c \cdot \cos \alpha} \quad \text{א. (31)}$$

$$S_{\Delta AMD} = 54.1 \text{ סמ"ר} \quad \text{ב.} \quad \sphericalangle BMC = 79.5^\circ \quad \text{א. (32)}$$

$$\alpha = 45^\circ \text{ ב.} \quad S_{\triangle BEF} = \frac{2R^2 \cdot \sin^3 \alpha \cdot \sin 2\alpha}{\sin 3\alpha} \text{ נ. (33)}$$

$$P_{BCDE} = 51.09 \text{ (34)}$$

$$, BD = \frac{\sqrt{3} \cdot m}{2 \cdot \cos \alpha}, AB = \frac{m}{2 \cdot \sin \alpha}, AC = \frac{\sqrt{3} \cdot m \cdot \sin(30^\circ + \alpha)}{2 \cdot \sin(60^\circ + \alpha) \cdot \sin \alpha} \text{ נ. (35)}$$

$$\text{ב. הוכחה.} \quad CD = \frac{m \cdot \sin(30^\circ + \alpha)}{2 \cdot \sin(60^\circ + \alpha) \cdot \cos \alpha}$$

$$DC = \frac{-b \cdot \tan \beta}{\tan 3\beta} \text{ (36)}$$

$$\text{ב. MG הוא קוטר במעגל. (37)}$$

$$\frac{S_{\triangle ADE}}{S_{\triangle ADF}} = -\frac{\cos(1.5\alpha)}{\cos(0.5\alpha)} \text{ ב.} \quad S_{\triangle ADF} = \frac{-2R^2 \cdot \cos^3 \frac{\alpha}{2} \cdot \sin \alpha}{\cos(1.5\alpha)} \text{ נ. (38)}$$

$$\alpha = 90^\circ \text{ ג.}$$

$$S = \frac{1}{2} d^2 \cdot \sin \beta, P = 2d + d \sin \beta \text{ ב.} \quad AD + BC = d \text{ נ. (40)}$$

$$\beta = 30^\circ \text{ ג.}$$

$$PM : DM = \frac{9}{8} = 1.125 \text{ ב.} \quad \tan \beta : \tan \alpha = \frac{4}{5} = 0.8 \text{ נ. (41)}$$

$$.S = \frac{3R^2 \cdot \sin(30^\circ + \alpha)}{4 \cdot \sin(60^\circ + \alpha)} \text{ נ. (42)}$$

הכנה למבחן כניסה למכינה במתמטיקה

פרק 20 - הסתברות קלאסית

תוכן העניינים

319	1. שאלות יסודיות
322	2. שאלות עם שני ניסויים
324	3. שאלות עם הסתברות מותנית
326	4. שאלות עם נעלמים
328	5. שאלות הנפתרות באמצעות טבלה דו-מימדית
330	6. התפלגות בינומית ונוסחת ברנולי – שאלות יסודיות
331	7. התפלגות בינומית ונוסחת ברנולי – שאלות עם הסתברות מותנית
332	8. התפלגות בינומית ונוסחת ברנולי – שאלות עם נעלמים
335	9. שאלות מסכמות

שאלות יסודיות:

סיכום כללי:

1. ההסתברות להתרחשות מאורע A : מספר האפשרויות הכולל = $P(A) = \frac{\text{מספר האפשרויות הרצוי}}{\text{מספר האפשרויות הכולל}}$
2. המאורע המשלים למאורע A : $P(\bar{A}) = 1 - P(A)$.
3. חיתוך ואיחוד מאורעות A ו-B : $P(A \cup B) = P(A) + P(B) - P(A \cap B)$.
4. מאורעות זרים הם מאורעות שלא יכולים להתקיים בו זמנית.
5. עבור מאורעות זרים A ו-B מתקיים : $P(A \cup B) = P(A) + P(B)$, $P(A \cap B) = 0$.
6. מאורעות נקראים בלתי תלויים אם קיום האחד מהם לא משפיע על ההסתברות לקיומו של השני.
7. עבור מאורעות בלתי תלויים A ו-B מתקיים : $P(A \cap B) = P(A) \cdot P(B)$.
8. אם מתקיים : $P(A \cap B) \neq P(A) \cdot P(B)$ המאורעות תלויים.
9. הסתברות מותנית של מאורע A בהינתן מאורע B מוגדרת : $P(A/B) = \frac{P(A \cap B)}{P(B)}$.
10. צורה כללית של טבלת הסתברויות עבור מאורעות A ו-B :

	\bar{A}	A	
$P(B)$	$P(\bar{A} \cap B)$	$P(A \cap B)$	B
$P(\bar{B})$	$P(\bar{A} \cap \bar{B})$	$P(A \cap \bar{B})$	\bar{B}
1	$P(\bar{A})$	$P(A)$	

קשרים מידיים מהטבלה :

- $P(A \cap B) + P(\bar{A} \cap B) = P(B)$
- $P(A \cap \bar{B}) + P(\bar{A} \cap \bar{B}) = P(\bar{B})$
- $P(A \cap B) + P(A \cap \bar{B}) = P(A)$
- $P(\bar{A} \cap B) + P(\bar{A} \cap \bar{B}) = P(\bar{A})$

9. התפלגות בינומית : חישוב k הצלחות מתוך n ניסיונות בלתי תלויים כאשר

ההסתברות להצלחה בניסיון בודד היא p נתונה ע"י : $P_n(k) = \binom{n}{k} p^k (1-p)^{n-k}$.

שאלות:

- (1) בכד 3 כדורים כחולים ו-7 כדורים לבנים.
מה ההסתברות להוצאת כדור כחול בהוצאה אקראית של כדור מהכד?
- (2) בכד 2 כדורים כחולים, 3 כדורים אדומים ו-7 כדורים לבנים.
מה ההסתברות שבהוצאה אקראית של כדור מהכד לא ייצא כדור אדום?
- (3) מהי ההסתברות שבסיבוב סביבון לא יתקבל "נס"?
- (4) עבור שני מאורעות, A ו-B נתון: $P(A) = 0.6$, $P(\bar{B}) = 0.3$, $P(A \cap B) = 0.4$.
מצא את $P(A \cup B)$.
- (5) עבור שני מאורעות, A ו-B נתון: $P(\bar{A}) = 0.2$, $P(\bar{B}) = 0.5$, $P(A \cup B) = 0.95$.
מצא את $P(A \cap B)$.
- (6) עבור שני מאורעות, A ו-B נתון: $P(A) = 0.6$, $P(B) = 0.25$, $P(A \cup B) = 0.65$.
קבע האם המאורעות זרים והאם הם תלויים.
- (7) נתון כי שני מאורעות, A ו-B בלתי תלויים.
בנוסף נתון: $P(A) = 0.75$, $P(B) = 0.4$. מצא את $P(A \cup B)$.

תשובות סופיות:

$$\frac{3}{10} \quad (1)$$

$$\frac{3}{4} \quad (2)$$

$$\frac{3}{4} \quad (3)$$

$$P(A \cup B) = 0.9 \quad (4)$$

$$P(A \cap B) = 0.35 \quad (5)$$

(6) לא זרים ותלויים.

$$P(A \cup B) = 0.85 \quad (7)$$

שאלות עם שני ניסויים:

שאלות:

- (8) בכד 3 כדורים כחולים ו-7 כדורים אדומים. אדם מוציא באקראי כדור מהכד, ולאחריו מוציא עוד כדור (ללא החזרה של הכדור הראשון).
 א. מה ההסתברות ששני הכדורים כחולים?
 ב. מה ההסתברות ששני הכדורים באותו צבע?
 ג. מה ההסתברות ששני הכדורים אינם באותו צבע?
- (9) בכד 3 כדורים כחולים, 2 כדורים אדומים ו-5 כדורים ירוקים. אדם מוציא באקראי כדור מהכד, מחזיר אותו לכד ואז מוציא עוד כדור.
 א. מה ההסתברות ששני הכדורים כחולים?
 ב. מה ההסתברות ששני הכדורים באותו צבע?
 ג. מה ההסתברות ששני הכדורים אינם באותו צבע?
- (10) בחדר 4 גברים ו-5 נשים. מוציאים באקראי שלושה אנשים מהחדר (בלי החזרה).
 מה ההסתברות שמתוך השלושה יש יותר גברים מנשים?
- (11) נתונים שני כדים: בכד א' שלושה כדורים כחולים ואחד לבן ובכד ב' שני כדורים כחולים ושלושה לבנים. לואיזה מטילה מטבע לא הוגנת שבה הסיכוי לקבלת "עץ" כפול מהסיכוי לקבלת "פלי". אם יוצא "עץ" היא מוציאה כדור מכד א' ואם יוצא "פלי" היא מוציאה שני כדורים מכד ב'.
 מה ההסתברות שלא ייצא ללואיזה אף כדור לבן?
- (12) ליואב יש בכיסו הימני 3 גולות כחולות ו-5 שחורות ובכיסו השמאלי 4 גולות כחולות ו-4 שחורות. יואב מוציא גולה מכיסו הימני.
 אם היא כחולה הוא מחזיר אותה לכיס הימני ואם היא שחורה הוא מעביר אותה לכיס השמאלי. אחר כך הוא מוציא גולה מכיסו השמאלי.
 מה ההסתברות ששתי הגולות שהוציא באותו צבע?

תשובות סופיות:

$$\begin{array}{lll} \frac{7}{15} \text{ ג.} & \frac{8}{15} \text{ ב.} & \frac{1}{15} \text{ א.} \quad (8) \\ \frac{31}{50} \text{ ג.} & \frac{19}{50} \text{ ב.} & \frac{9}{100} \text{ א.} \quad (9) \end{array}$$

$$\frac{17}{42} \quad (10)$$

$$\frac{8}{15} \quad (11)$$

$$\frac{77}{144} \quad (12)$$

שאלות עם הסתברות מותנית:

שאלות:

- 13** בכד 3 כדורים כחולים ו-7 כדורים אדומים.
 אדם מוציא באקראי כדור מהכד, ולאחריו מוציא עוד כדור.
 א. מה ההסתברות ששני הכדורים כחולים?
 ב. מה ההסתברות ששני הכדורים באותו צבע?
 ג. ידוע ששני הכדורים באותו צבע. מה ההסתברות ששניהם כחולים?
- 14** בכד 3 כדורים כחולים, 2 כדורים אדומים ו-5 כדורים ירוקים.
 אדם מוציא באקראי כדור מהכד, מחזיר אותו לכד ואז מוציא עוד כדור.
 א. מה ההסתברות ששני הכדורים כחולים?
 ב. מה ההסתברות ששני הכדורים באותו צבע?
 ג. ידוע ששני הכדורים באותו צבע. מה ההסתברות ששניהם כחולים?
- 15** בחדר 4 גברים ו-5 נשים. מוציאים באקראי שלושה אנשים מהחדר (בלי החזרה). ידוע שמתוך השלושה יש יותר גברים מנשים.
 מה ההסתברות שכולם גברים?
- 16** נתונים שני כדים: בכד א' שלושה כדורים כחולים ואחד לבן ובכד ב' שני כדורים כחולים ושלושה לבנים. לואיזה מטילה מטבע לא הוגנת שבה הסיכוי לקבלת "עץ" כפול מהסיכוי לקבלת "פלי". אם יוצא "עץ" היא מוציאה כדור מכד א' ואם יוצא "פלי" היא מוציאה שני כדורים מכד ב'.
 א. מה ההסתברות שלא ייצא ללואיזה אף כדור לבן?
 ב. ידוע שללואיזה לא ייצא אף כדור לבן, מה ההסתברות שבהטלת המטבע ייצא "עץ"?
- 17** במשחק מזל הסיכוי להרוויח 10 ₪ הוא 0.3 והסיכוי להרוויח 20 ₪ הוא 0.2. ישנו סיכוי של 0.5 לא להרוויח כלל. אדם שיחק במשחק פעמיים וידוע שהרוויח יותר מ-20 ₪. מה הסיכוי שהרוויח 40 ₪?

- 18** כדי להתקבל לעבודה בחברת משקאות יש לעבור שלושה ראיונות על ידי שלושה בעלי תפקידים בסדר הבא: אחראי משמרת, מנהל ראשי ומנכ"ל החברה. כל בעל מקצוע נותן חוות דעת חיובית או שלילית בלבד. כדי שמועמד יקבל עבודה בחברה עליו לעבור בהצלחה לפחות את אחד מהראיונות עם אחראי המשמרת והמנהל הראשי, אך הראיון עם המנכ"ל חייב לעבור בהצלחה (כדי שמועמד יקבל עבודה המנכ"ל צריך לתת לו חוות דעת חיובית).
- ידוע כי אחראי המשמרת נותן חוות דעת חיובית ל- $\frac{1}{6}$ מהמועמדים.
- המנהל הראשי קורא את חוות הדעת של אחראי המשמרת וב- $\frac{2}{3}$ מהמקרים נותן חוות דעת הפוכה מזו של אחראי המשמרת. מנכ"ל החברה נותן חוות דעת חיובית ל-80% מהמועמדים בלי קשר לחוות הדעת הקודמות.
- א. מה ההסתברות לקבל חוות דעת חיובית מהמנהל הראשי?
 ב. ידוע כי המנהל הראשי נתן חוות דעת חיובית, מה ההסתברות שגם אחראי המשמרת נתן חוות דעת חיובית?
 ג. מה ההסתברות להתקבל לחברה?

תשובות סופיות:

- 13** א. $\frac{1}{15}$ ב. $\frac{8}{15}$ ג. $\frac{1}{8}$
- 14** א. $\frac{9}{100}$ ב. $\frac{38}{100}$ ג. $\frac{9}{38}$
- 15** $\frac{2}{17}$
- 16** א. $\frac{8}{15}$ ב. $\frac{15}{16}$
- 17** $\frac{1}{4}$
- 18** א. $\frac{11}{18}$ ב. $\frac{1}{11}$ ג. $\frac{26}{45}$

שאלות עם נעלמים:

שאלות:

- 19** בכד מספר מסוים של כדורים. 3 כחולים והשאר אדומים. הסיכוי להוציא שני כדורים אדומים מהכד (בלי החזרה) הוא $\frac{5}{14}$. כמה כדורים בכד?
- 20** ההסתברות של צלף לפגוע במטרה בירייה הראשונה היא p והיא גדולה מההסתברות שלו להחטיא. אם הוא פוגע, עולה ההסתברות שלו לפגוע בירייה הבאה ב-0.1 ואם הוא מחטיא היא יורדת ב-0.1. הצלף ירה למטרה פעמיים. ההסתברות שפגע במטרה בדיוק בירייה אחת היא 0.38.
- א. מצא את p .
- ב. מה ההסתברות שהצלף פגע פעמיים במטרה אם ידוע שהוא פגע בה לפחות פעם אחת?
- 21** רפי קנה במכולת חבילה של מסטיק "מנטוס". בכל חבילה יש 10 סוכריות, חלקן ורודות וחלקן צהובות. רפי מוציא באקראי (ללא החזרה) שתי סוכריות מהחבילה שקנה. ידוע כי ההסתברות ששתי הסוכריות תהיינה ורודות קטנה פי 4 מההסתברות להוציא סוכריות בצבעים שונים.
- א. כמה סוכריות מכל צבע יש בכל חבילה?
- רפי מחזיר את הסוכריות בחזרה לחבילה ולאחר מכן מוציא באקראי 3 סוכריות (ללא החזרה).
- ב. מה ההסתברות שכל הסוכריות שהוציא רפי הן צהובות? שלומי, חברו הטוב של רפי, קנה 3 חבילות "מנטוס".
- ג. שלומי מוציא באקראי סוכרייה מכל חבילה. האם ההסתברות של שלומי להוציא 3 סוכריות צהובות גבוהה או נמוכה מזו של רפי?
- ד. שלומי מוציא מכל חבילה שתי סוכריות. מה ההסתברות שלו להוציא מכל חבילה סוכרייה ורודה ואחר כך צהובה?

- (22)** בתוך כד ישנם 8 כדורים, חלקם אדומים וחלקם לבנים. מוציאים באקראי כדור, מניחים אותו בצד ומוציאים כדור נוסף. א. מצא כמה כדורים יש בכד מכל צבע אם ידוע כי ההסתברות שהכדור השני שהוצא הוא לבן היא $\frac{3}{8}$. ב. ידוע כי הכדור השני שהוצא הוא לבן, מה ההסתברות שהכדור הראשון שיצא הוא אדום?

- (23)** בכד ישנם 12 כדורים, חלקם לבנים וחלקם שחורים. אם מוציאים עם החזרה שני כדורים מהכד ההסתברות ששניהם יהיו בעלי אותו הצבע היא $\frac{13}{18}$. א. מה ההסתברות להוציא כדור שחור מהכד אם ידוע כי יש יותר כדורים שחורים? ב. מה ההסתברות להוציא מהכד כדור שחור שרשום עליו מספר? ג. איזה חלק מבין הכדורים שרשום עליהם מספר מהווים הכדורים הלבנים? על 40% מהכדורים השחורים רשום מספר ועל מחצית הכדורים הלבנים לא רשום כלום.

תשובות סופיות:

- (19)** 8 כדורים.
- (20)** א. $p = 0.6$ ב. $\frac{21}{40}$
- (21)** א. 4 ורודות ו-6 צהובות. ב. $\frac{1}{6}$ ג. גבוהה $\left(\frac{27}{125} > \frac{1}{6}\right)$ ד. $P = 0.0189$
- (22)** א. 5 אדומים ו-3 לבנים. ב. $\frac{5}{7}$
- (23)** א. $\frac{5}{6}$ ב. $P = \frac{1}{3}$ ג. $\frac{1}{5}$

שאלות הנפתרות באמצעות טבלה דו-מימדית:

שאלות:

- 24** 70% מאוהדי מכבי ת"א הם גברים והשאר נשים. 40% מהאוהדים מעשנים. נתון כי 45% מהאוהדים הם גברים שאינם מעשנים.
- א. מהו אחוז הנשים המעשנות מבין אוהדי מכבי?
 ב. בוחרים באקראי אוהד מכבי. מה ההסתברות שהוא גבר או שהוא מעשן?
 ג. בוחרים באקראי אישה שאוהדת מכבי. מה ההסתברות שהיא מעשנת?
 ד. האם מין האוהד והעובדה שהוא מעשן הם מאורעות תלויים?
- 25** 65% מהפחיות המיוצרות במפעל משקאות הן רגילות והשאר דיאט. 80% מהפחיות המיוצרות תקינות והשאר פגומות. נתון כי 7% מהפחיות הן פחיות דיאט פגומות.
- א. בוחרים באקראי פחית. מה ההסתברות שהיא פחית רגילה ותקינה?
 ב. בוחרים באקראי פחית דיאט. מה ההסתברות שהיא פגומה?
 ג. בוחרים באקראי פחית פגומה. מה ההסתברות שהיא דיאט?
 ד. האם סוג הפחית ותקינותה הם מאורעות תלויים?
- 26** 80% מהתלמידים בכיתה עברו את המבחן בתנ"ך ו-70% עברו את המבחן בהיסטוריה. 75% מבין התלמידים שעברו את המבחן בתנ"ך עברו גם את המבחן בהיסטוריה.
- א. בוחרים באקראי תלמיד. מה ההסתברות שהוא נכשל בשתי הבחינות?
 ב. תלמיד נכשל במבחן בהיסטוריה. מה ההסתברות שהוא עבר את המבחן בתנ"ך?
 ג. ידוע שתלמיד עבר בדיוק מבחן אחד. מה ההסתברות שזה המבחן בתנ"ך?
- 27** בעיר גדולה ל-80% מהתושבים יש רישיון נהיגה. מבין בעלי רישיון נהיגה 30% הם גברים. 60% מהגברים הם בעלי רישיון נהיגה. בחרו באקראי שתי נשים מהעיר. מה ההסתברות שלשתיהן אין רישיון נהיגה?
- 28** 10% מהאנשים באוכלוסייה עיוורי צבעים. קיימת בדיקה הבוחנת אם אדם הוא עיוור צבעים. אם עיוור צבעים ניגש לבדיקה ישנו סיכוי של 80% שהבדיקה תקבע שהוא עיוור צבעים. אם אדם שאינו עיוור צבעים ניגש לבדיקה ישנו סיכוי של 5% שהבדיקה תקבע שהוא עיוור צבעים. מהם אחוזי האמינות של הבדיקה (אחוז המקרים בהם הבדיקה מאבחנת נכונה את הנבדק)?

(29) בסניף "תנו לחיות לחיות" בירושלים יש כלבים וחתולים בלבד, בעלי פרווה כהה או פרווה בהירה. 55% מהחיות בסניף הם כלבים. אחוז החתולים בעלי הפרווה הכהה גדול פי 3 מאחוז הכלבים בעלי הפרווה הבהירה. מבין בעלי הפרווה הכהה 60% הם כלבים. בוחרים באקראי חתול מהסניף. מה ההסתברות שהוא בהיר פרווה?

(30) בית ספר תיכון מציע לתלמידיו 3 מגמות ריאליות לבחירה: פיזיקה, כימיה ומחשבים. 40% מתלמידי מגמות אלה הם בנים. הבנים מהווים $\frac{2}{5}$ מתלמידי הפיזיקה, $\frac{5}{12}$ מתלמידי הכימיה ו- $\frac{1}{3}$ מתלמידי המחשבים. $\frac{1}{4}$ מהבנים הם תלמידי פיזיקה.

- א. האם יש תלות בין העובדה שתלמיד לומד פיזיקה למין התלמיד?
 ב. מהו אחוז לומדי המחשבים מקרב הבנים?

תשובות סופיות:

- (24)** א. 15% ב. 0.85 ג. 0.5 ד. כן.
- (25)** א. 0.52 ב. 0.2 ג. 0.35 ד. בלתי תלויים.
- (26)** א. 0.1 ב. $\frac{2}{3}$ ג. $\frac{2}{3}$
- (27)** $\frac{1}{225}$
- (28)** 93.5%
- (29)** $\frac{1}{3}$
- (30)** א. בלתי תלויים. ב. 12.5%

התפלגות בינומית ונוסחת ברנולי – שאלות יסודיות:

שאלות:

- (31) אדם מסובב חמש פעמים סביבון. מה ההסתברות שיקבל פעמיים "נס"?
- (32) מה ההסתברות לקבלת 5 פעמים "נס" בשמונה סיבובי סביבון?
- (33) הסיכוי לעבור את מבחן התיאוריה הוא 0.7. עשרה אנשים ניגשים למבחן התיאוריה. מהי ההסתברות שבדיוק שישה מהם יעברו?
- (34) בכד 6 כדורים כחולים ו-4 לבנים. אדם מוציא מהכד כדור, מסתכל על צבעו ומחזיר אותו לכד. הוא חוזר על הפעולה 4 פעמים נוספות.
מה ההסתברות שמתוך חמשת הכדורים הוציא:
- בדיוק ארבע יהיו כחולים?
 - חמישה יהיו כחולים?
 - לפחות ארבעה יהיו כחולים?
 - הרוב יהיו כחולים?
 - לפחות אחד יהיה כחול?
 - הראשון והאחרון בלבד יהיו כחולים?

תשובות סופיות:

- (31) 0.264
- (32) 0.023
- (33) 0.2001
- (34) א. 0.259 ב. 0.078 ג. 0.337 ד. 0.683 ה. 0.98976 ו. 0.023

התפלגות בינומית ונוסחת ברנולי – שאלות עם הסתברות מותנית:

שאלות:

35 בכד 6 כדורים כחולים ו-4 לבנים. אדם מוציא מהכד כדור, מסתכל על צבעו ומחזיר אותו לכד. הוא חוזר על הפעולה 4 פעמים נוספות. ידוע שרוב הכדורים שהוציא כחולים. מה ההסתברות שכולם כחולים?

36 יערה מצליחה לקלוע לסל בשלושה מכל ארבעה ניסיונות. כדי להתקבל לנבחרת הכדורסל של בית הספר עליה להצליח לקלוע ברוב הפעמים מתוך 6 ניסיונות קליעה לסל. ידוע שיערה התקבלה לנבחרת הכדורסל. מה ההסתברות שהצליחה לקלוע את כל הקליעות?

תשובות סופיות:

35 0.114

36 0.214

התפלגות בינומית ונוסחת ברנולי – שאלות עם נעלמים:

שאלות:

37 בכד יש 9 כדורים, חלקם כחולים והשאר לבנים. מוציאים כדור מהכד. אם הוא כחול אז מחזירים אותו לכד ומוסיפים 4 כדורים לבנים ואם הוא לבן אז מחזירים אותו לכד ומוסיפים 4 כדורים כחולים. לאחר מכן מוציאים כדור נוסף. נתון שההסתברות שהכדור הראשון שיצא הוא כחול אם ידוע כי הכדור השני

$$\text{כחול היא } \frac{6}{11}.$$

- א. מצא כמה כדורים כחולים יש בכד.
 ב. חוזרים על התהליך 6 פעמים, כלומר בכל פעם מחזירים את המצב לקדמותו, מוציאים באקראי כדור ופועלים בהתאם לחוקים. מצא את ההסתברות שלפחות פעם אחת יבחרו שני כדורים כחולים בזה אחר זה.

38 בסיטונאות מזון ידוע כי 40% מבין הסכו"ם החד-פעמי הוא תוצרת חו"ל והשאר תוצרת הארץ. 40% מבין הסכו"ם המיובא מחו"ל הם צבעוניים והשאר שקופים.

- א. מה ההסתברות לבחור בסיטונאות המזון סכו"ם שקוף המיובא מחו"ל?
 ב. i. בוחרים 5 כלים בחנות באופן אקראי. מה ההסתברות שלכל היותר כלי אחד הוא כלי שקוף תוצרת חו"ל?
 ii. מה ההסתברות שבדיוק אחד מחמשת הכלים הוא כלי שקוף תוצרת חו"ל אם ידוע כי לכל היותר כלי אחד הוא שקוף תוצרת חו"ל?
 ג. בוחרים שני כלים באופן אקראי וידוע כי ההסתברות ששניהם שקופים היא 0.4096. איזה חלק מהווים כלי הסכו"ם השקופים מבין כלי הסכו"ם תוצרת הארץ?

39 בחדר יש x גברים ו- $3x$ נשים. משחקים את המשחק הבא: בוחרים באקראי שני אנשים מהחדר בזה אחר זה (בלי החזרה).

ידוע כי ההסתברות לבחור שני אנשים מאותו המין היא $\frac{13}{22}$.

- א. מצא כמה נשים יש בחדר.
 ב. ידוע כי האדם השני שנבחר הוא גבר. מה ההסתברות שגם הראשון שנבחר הוא גבר?
 ג. משחקים את המשחק 4 פעמים. ידוע כי בכל הפעמים נבחר גבר בפעם השנייה. מה ההסתברות שבדיוק ב-3 פעמים יבחר גבר גם בפעם הראשונה?

- 40** בוחרים שלושה גברים באקראי מעיר גדולה. ההסתברות שכולם מעשנים היא 0.027. מה ההסתברות שרובם מעשנים?
- 41** בוחרים שלוש נשים מעיר גדולה. ההסתברות ששתיים מהן מעשנות קטנה פי 4 מההסתברות ששתיים מהן לא מעשנות. מה ההסתברות שכולן מעשנות?
- 42** בכד 10 כדורים, חלקם לבנים והשאר שחורים. נמרוד מוציא 9 פעמים כדור מהכד (עם החזרה). הסיכוי שיצאו פי 2 כדורים שחורים מלבנים גדול פי $3\frac{3}{8}$ מהסיכוי שיצאו פי 2 כדורים לבנים משחורים. מצא כמה כדורים מכל צבע בכד.
- 43** מפעל מייצר שולחנות וכיסאות. בוחרים 4 רהיטים. ידוע כי ההסתברות שכולם יהיו כיסאות זהה להסתברות שיהיה שולחן אחד בדיוק בניהם.
- א. מצא את ההסתברות לבחור כיסא.
 במפעל צובעים את הרהיטים בשחור או לבן.
 רבע מהשולחנות נצבעים בשחור ורבע מהכיסאות נצבעים בלבן.
- ב. מה ההסתברות לבחור כיסא שחור?
 ג. איזה חלק מבין הרהיטים הלבנים מהווים השולחנות?
- 44** בחדר x גברים ו- $3x$ נשים. מוציאים באקראי שני אנשים מהחדר. ההסתברות שהם יהיו מאותו מין היא 0.6.
- א. מצא את גודלו של x .
 ב. חוזרים על התהליך 4 פעמים.
 מה הסיכוי שבשלוש מתוך 4 הפעמים ייצאו מהחדר שתי נשים?
- 45** במבחן רב ברירה עם 5 שאלות שוות ניקוד, לכל שאלה יש n תשובות מהן רק אחת נכונה. ישנו סיכוי של 50% ששי ידע את התשובה הנכונה לשאלה במבחן. אם שי לא יודע את התשובה לשאלה הוא מנחש.
- ההסתברות ששי יקבל במבחן 60 גדולה פי $1\frac{1}{3}$ מההסתברות שיקבל 80. מצא את ערכו של n .

- (46) כדי להתקבל לקורס טיס יש לעבור גיבוש וראיון. כל המועמדים ניגשים גם לראיון וגם לגיבוש. 40% מהניגשים לגיבוש עוברים אותו ו-35% מהניגשים לראיון עוברים אותו. $\frac{5}{17}$ מאלה שלא התקבלו לקורס טיס לא התקבלו בגלל הריאיון בלבד. שלושה חברים ניסו להתקבל לקורס טיס. ידוע שרובם התקבלו. מה ההסתברות שכולם התקבלו?

תשובות סופיות:

- (37) א. 6 כדורים כחולים. ב. 0.88989
- (38) א. 0.24 ב. i. 0.65389 ב. ii. $\frac{30}{49} \sim 0.61224$ ג. $\frac{2}{3}$
- (39) א. 9 נשים ב. $\frac{2}{11}$ ג. 0.0196
- (40) 0.216
- (41) 0.008
- (42) 4 לבנים, 6 שחורים.
- (43) א. $P = 0.8$ ב. $P = 0.6$ ג. $\frac{3}{7}$
- (44) א. $x = 4$ ב. 0.299
- (45) $n = 5$
- (46) $\frac{5}{90}$

שאלות מסכמות:

שאלות:

47) כדי להתקבל לחברת היי-טק יש לעבור ראיונות משלושה בעלי תפקידים בסדר הבא: מהנדס ראשי, אחראי משמרת ומנכ"ל החברה. כל אחד מבעלי התפקידים נותן חוות דעת חיובית או שלילית על המועמד לעבודה. מועמד שמתקבל לחברה חייב לקבל חוות דעת חיובית משלושת בעלי התפקידים. ידוע כי המהנדס הראשי נותן חוות דעת חיובית ל- $\frac{3}{5}$ מהמועמדים.

אחראי המשמרת קורא את חוות הדעת של המהנדס הראשי וב- $\frac{1}{6}$ מהמקרים נותן חוות דעת הפוכה מזו של המהנדס הראשי. מנכ"ל החברה קורא את חוות הדעת של אחראי המשמרת וב- $\frac{7}{10}$ נותן חוות דעת זהה לשלו.

א. ענה על השאלות הבאות:

- i. מה ההסתברות שמועמד יקבל חוות דעת חיובית מאחראי המשמרת?
- ii. ידוע כי אחראי המשמרת נתן חוות חיובית. מה ההסתברות שהמהנדס הראשי ייתן חוות דעת שלילית?
- ב. מה ההסתברות שמועמד יקבל עבודה בחברה?
- ג. מה ההסתברות שמועמד יקבל חוות דעת שלילית מהמנכ"ל?
- ד. לאחר היעדר עובדים שינתה החברה את מדיניותה וקבעה כי כדי להתקבל לעבודה יש לעבור לפחות שני ראיונות בהצלחה, אך חוות הדעת של המנכ"ל חייבת להיות חיובית. מה ההסתברות כעת לקבל עבודה בחברה?

48) במדינה מסוימת $\frac{19}{60}$ מהאזרחים הם גברים ו- $\frac{41}{60}$ הן נשים.

30% מבין מרכיבי המשקפיים במדינה זו הם גברים ו-40% מבין אלו שלא מרכיבים משקפיים הם גברים.

- א. מה ההסתברות למצוא אישה במדינה זו שאינה מרכיבה משקפיים?
- ב. בוחרים 4 אנשים. מה ההסתברות שבדיוק שניים מהם הם נשים שאינם מרכיבות משקפיים?
- ג. בוחרים אזרח. ידוע כי הוא גבר. מה ההסתברות שהוא מרכיב משקפיים?

49) בעיר מסוימת ההסתברות לבחור אדם מעשן גדולה פי 3 מההסתברות לבחור אדם המרכיב משקפיים. ידוע כי החלק של התושבים שמרכיבים משקפיים מבין

$$\frac{1}{12}.$$

- א. מצא מהי ההסתברות לבחור מעשן מתוך כל מרכיבי המשקפיים.
 ב. ידוע כי 15% מהתושבים הם מרכיבים משקפיים בלבד. מצא את ההסתברות לבחור תושב שלא מרכיב משקפיים.
 ג. בוחרים 6 תושבים באופן אקראי. מה ההסתברות שמחצית מהם אינם מרכיבים משקפיים ואינם מעשנים?

50) בבית ספר מסוים ישנם תלמידים המרכיבים משקפיים. ידוע כי אם בוחרים 3 תלמידים אז ההסתברות ששלושתם מרכיבים משקפיים היא 0.027.

- א. מצא את אחוז מרכיבי המשקפיים בבית הספר. בבית הספר ההסתברות להיתקל בתלמיד גדולה ב-0.1 מההסתברות להיתקל בתלמידה ומספר הבנים שמרכיבים משקפיים זהה למספר הבנות שמרכיבות משקפיים.
 ב. מה ההסתברות להיתקל בחצר בית הספר בתלמיד שאינו מרכיב משקפיים?
 ג. איזה חלק מכלל הבנות בבית הספר מהוות הבנות שמרכיבות משקפיים?
 ד. בוחרים 4 תלמידים. ידוע כי כולן בנות. מה ההסתברות כי אחת מהן תרכיב משקפיים?

51) כדי להתקבל לעבוד בחברת ההיי-טק Techno יש לעבור שני ראיונות משני בעלי מקצוע, תחילה על ידי המהנדס הראשי ואחריו על ידי מנכ"ל החברה. כל בעל מקצוע נותן חוות דעת חיובית, שלילית או שנמנע מלקבוע. כדי שמועמד יתקבל לחברה עליו לעבור לפחות ראיון אחד עם חוות דעת חיובית. ידוע כי המהנדס

$$\frac{1}{5} \text{ מהמועמדים ו-} \frac{2}{7} \text{ מהם הוא משאיר בלי}$$

קביעה. המנכ"ל קורא את חוות הדעת של המהנדס הראשי וקובע את חוות הדעת שלו בצורה הבאה:

- אם המהנדס נתן חוות דעת חיובית, אז המנכ"ל ייתן גם חוות דעת חיובית ב-60% מהמקרים. אם המהנדס נתן חוות דעת שלילית, אז המנכ"ל נמנע מלקבוע ב-60% מהמקרים ובשאר המקרים הוא נותן חוות דעת חיובית. אם המהנדס נמנע מלקבוע אז המנכ"ל ייתן חוות דעת חיובית או שלילית בלבד. הסיכוי שהמנכ"ל ייתן במקרה זה חוות דעת חיובית גדול פי 3 מהסיכוי שייתן חוות דעת שלילית.

- א. מה ההסתברות לקבל חוות דעת חיובית מהמנכ"ל?
 ב. ידוע כי המנכ"ל נתן חוות דעת חיובית.
 מה ההסתברות שגם המהנדס נתן חוות דעת חיובית?
 ג. מה ההסתברות להתקבל לחברה?
 ד. ביום מסוים הגיעו 5 מועמדים.
 מה ההסתברות שבדיוק 3 מהם קיבלו עבודה באותו היום?

(52) בכד יש 12 כדורים, חלקם אדומים וחלקם שחורים. מוציאים עם החזרה שני כדורים מהכד.

- א. מצא את מספר הכדורים האדומים שבכד אם ידוע כי ההסתברות ששני הכדורים שהוצאו הם שחורים היא $\frac{4}{9}$.
 ב. חלק מהכדורים עשויים מעץ והשאר עשויים מפלסטיק. ידוע כי 25% מהכדורים האדומים עשויים מעץ וכי 50% מהכדורים העשויים מעץ הם אדומים.
 מצא את ההסתברות לבחור כדור שחור עשוי מפלסטיק.
 ג. מוציאים מהכד 5 כדורים בזה אחר זה עם החזרה.
 מה ההסתברות להוציא 4 כדורים אדומים העשויים מפלסטיק?
 ד. מוציאים מהכד 5 כדורים בזה אחר זה עם החזרה.
 ידוע כי כולם עשויים מפלסטיק, מה ההסתברות ש-3 מהם בצבע אדום?

(53) בבית ספר בעיר נערכו שני מבחנים. 80% מתלמידי העיר עברו את המבחן

הראשון. $\frac{1}{4}$ מבין התלמידים שעברו את המבחן הראשון עברו גם את השני ו- $\frac{1}{2}$

מהתלמידים שנכשלו במבחן הראשון נכשלו גם בשני.

- א. בוחרים באקראי תלמיד. מה ההסתברות שהוא עבר את אחד המבחנים?
 ב. בוחרים באקראי 4 תלמידים.
 מה ההסתברות שבדיוק אחד מהם עבר את אחד המבחנים?
 ג. איזה חלק מבין התלמידים שנכשלו במבחן השני מהווה קבוצת התלמידים שנכשלו גם במבחן הראשון?

- 54) במפעל גדול ההסתברות שמתוך 4 עובדים לפחות אחד ירכיב משקפיים היא 0.5904.
- א. מה ההסתברות לבחור עובד שלא מרכיב משקפיים?
 ידוע כי 40% מהפועלים שמרכיבים משקפיים הם מעשנים ו-20% מבין העובדים המעשנים הם מרכיבים משקפיים.
- ב. מה ההסתברות לבחור עובד שמרכיב משקפיים בלבד או מעשן בלבד?
- ג. בוחרים באקראי 5 עובדים. מה ההסתברות שרוב העובדים שנבחרו מעשנים?

- 55) במפעל לייצור ברגים פועלים שני פסי ייצור – פס ייצור א' ופס ייצור ב'.
 ידוע כי אם בוחרים 5 ברגים אז ההסתברות ששלושה מהם מיוצרים על ידי פס הייצור השני גדולה פי 4.5 מההסתברות שאחד מהם מיוצר על ידי פס הייצור הנ"ל.
- א. מצא את ההסתברות לבחור בורג המיוצר על ידי פס הייצור הראשון.
 מתוך כל 100 ברגים שהמפעל מייצר 7 פגומים. ומתוך כל 10 ברגים היוצאים מפס הייצור הראשון אחד הוא פגום.
- ב. מהו אחוז הברגים התקינים שמיוצרים על ידי פס הייצור השני?
- ג. איזה חלק מבין הברגים הפגומים מהווים אלו שיוצאים מפס הייצור הראשון?

- 56) בכד יש פי 5 כדורים כחולים מאדומים. מוציאים מהכד כדור.
 אם הוא כחול אז משאירים אותו בחוף ואם הוא אדום אז מחזירים אותו לכד.
 לאחר מכן מוציאים כדור נוסף מהכד. ידוע כי ההסתברות להוציא שני כדורים בצבעים שונים היא: $\frac{175}{612}$.

- א. כמה כדורים מכל צבע יש בכד?
- ב. ידוע כי הכדור השני שנבחר הוא כחול, מה ההסתברות שהכדור הראשון שנבחר היה אדום?
- ג. חוזרים על התהליך 5 פעמים.
 ידוע כי בכל חמשת הפעמים הכדור השני שהוצא הוא כחול,
 מה ההסתברות שברוב הפעמים הכדור הראשון שיצא הוא אדום?

- 57) בחדר יש פי 4 נשים מגברים. משחקים את המשחק הבא: בוחרים באקראי אדם מהחדר. אם נבחר גבר אז הוא יוצר מהחדר ואם נבחרה אישה אז היא נשארת.
 לאחר מכן בוחרים אדם נוסף.
- א. מצא כמה גברים יש בחדר אם ידוע כי ההסתברות שייבחרו שני אנשים שונים היא $\frac{236}{725}$.

- ב. ידוע כי בפעם השנייה נבחר גבר, מה ההסתברות שגם בפעם הראשונה ייבחר גבר?
- ג. משחקים את המשחק 4 פעמים. ידוע כי בכל הפעמים נבחר גבר בפעם השנייה. מה ההסתברות שברוב המקרים יצא גבר גם בפעם הראשונה?

58) בעיר מסוימת נערכות בחירות. ידוע כי אם בוחרים 4 תושבים אז ההסתברות

שלפחות אחד מהם יצביע למועמד ב' היא: $\frac{65}{81}$.

א. איזה חלק מהתושבים הצביעו למועמד א'?

בעיר זו יש תושבים מבוגרים וצעירים. ידוע כי $\frac{2}{3}$ מהצעירים הצביעו למועמד א'

וכי ההסתברות לבחור מבוגר שהצביע למועמד ב' היא $\frac{2}{15}$.

ב. מהו אחוז התושבים הצעירים שהצביעו למועמד ב'?

ג. איזה אחוז מהווים התושבים הצעירים מבין אלו שהצביעו למועמד א'?

59) לכבוד חנוכה קנתה סבתא תקווה לשתי נכדותיה, שני ושרון, סביבונים עם

סוכריות בתוכם. בכל סביבון יש 7 סוכריות שוקולד ו-4 סוכריות מנטה.

שרון לקחה את סביבון אחד והוציאה ממנו באקראי (בלי החזרה) 4 סוכריות.

א. מה ההסתברות שכל הסוכריות שהוציאה שרון הן סוכריות מנטה?

ב. שני לקחה 4 סביבונים והוציאה באקראי מכל סביבון סוכרייה אחת.

האם ההסתברות ששני תוציא 4 סוכריות מנטה גבוהה יותר או נמוכה

יותר מההסתברות שחשבת בסעיף א'? נמק.

ג. שני הוציאה באקראי סוכרייה אחת מכל סביבון מתוך ארבעת הסביבונים

שברשותה. ידוע שבין הסוכריות שבידה יש יותר סוכריות מנטה.

מה ההסתברות שכל הסוכריות שיש לשני ביד יהיו בטעם מנטה?

60) כדי לקבל עבודה בחברת Makido יש לעבור ראיונות משני בעלי מקצוע: מהנדס

ראשי ומנכ"ל החברה. המהנדס הראשי נותן חוות דעת חיובית ברבע מהמקרים,

בשליש מהמקרים הוא נמנע מלתת חוות דעת ובשאר המקרים הוא נותן חוות

דעת שלילית. מנכ"ל החברה קורא את חוות הדעת של המהנדס וקובע את חוות

דעתו באופן הבא:

אם המהנדס נתן חוות דעת חיובית אז הוא נותן חוות דעת חיובית ב-90%

מהמקרים וב-10% מהמקרים הוא נמנע מלתת חוות דעת. אם המהנדס נמנע

מלקבוע אז המנכ"ל נותן חוות דעת שלילית במחצית מהמקרים או חיובית

במחצית מהמקרים. אם המהנדס נתן חוות דעת שלילית אז ההסתברות

שהמנכ"ל יתן חוות דעת חיובית גדולה פי 2 מההסתברות שימנע מלתת חוות

דעת וההסתברות שימנע מלתת חוות דעת גדולה פי 2 מההסתברות שייתן חוות

דעת שלילית.

א. מה ההסתברות שמועמד יקבל חוות דעת חיובית לפחות באחד הראיונות?

ב. אם ידוע כי מועמד קיבל חוות דעת חיובית אחת לפחות, מה ההסתברות

שהמהנדס נמנע מלתת חוות דעת?

ג. ענה על השאלות הבאות:

- i. מה ההסתברות שמתוך 5 מועמדים, לפחות אחד יקבל עבודה אם ידוע כי כדי להתקבל לעבודה בחברה יש לקבל שתי חוות דעת חיוביות?
- ii. כיצד תשתנה התוצאה של חלק i אם כדי לקבל עבודה יש לקבל לפחות חוות דעת חיובית אחת ואף לא חוות דעת שלילית אחת?

61 בעיר מסוימת נערכו בחירות מקומיות.

ידוע כי אם בוחרים באקראי 4 אזרחים מההסתברות שתמצא אישה אחת בניהם קטנה פי 16 מההסתברות להיתקל באישה באופן אקראי.

א. מה הוא אחוז הגברים בעיר?

בעיר שלושה מועמדים. $\frac{1}{11}$ מהמצביעים למועמד א' הם גברים,

60% מהמצביעים למועמד ב' הם גברים ו-25% מהמצביעים למועמד ג' הם גברים. אחוז המצביעים למועמד ג' הוא 20%.

ב. איזה מועמד קיבל את רוב הקולות?

ג. בוחרים באקראי 4 נשים.

מה ההסתברות ששלושה מהן הצביעו למועמד המנצח?

62 בחדר x גברים ו- $x+2$ נשים. זורקים קוביית משחק מאוזנת.

אם מתקבל מספר הגדול מ-4 אז מוסיפים לחדר x גברים ואם מתקבל מספר הקטן או שווה ל-4 אז מוסיפים לחדר x נשים. לאחר מכן מוציאים אדם מהחדר.

א. מצא כמה נשים יש בחדר אם ידוע כי ההסתברות לבחור אישה היא $\frac{21}{33}$.

ב. ידוע כי יצאה אישה מהחדר.

מה ההסתברות שהמספר בקובייה היה קטן או שווה ל-4?

אנשי החדר הנמצאים בו במקור (לפני זריקת הקובייה) לובשים חולצות אדומות או לבנות בלבד. ידוע כי החלק היחסי של האנשים הלובשים חולצות לבנות בחדר גדול פי 16 מהחלק היחסי של הגברים הלובשים חולצות אדומות. כמו כן פרופורציית הגברים מבין כל אלו שלובשים חולצות אדומות היא 0.25.

ג. מצא מה ההסתברות לבחור גבר הלובש חולצה אדומה בחדר.

ד. בוחרים 5 אנשים מהחדר (עם החזרה) וידוע כי כולם לובשים חולצות אדומות. מה ההסתברות שרובם נשים?

63 באוניברסיטה מסוימת ידוע כי חלק מהסטודנטים נעזרים בספרי לימוד חיצוניים להעשרת הידע שלהם, וכי ההסתברות לבחור 2 סטודנטים הנעזרים בספרי לימוד חיצוניים קטנה ב-0.1 מההסתברות לבחור שני סטודנטים שאינם נעזרים בספרי לימוד חיצוניים.

א. מהו אחוז הסטודנטים שנעזרים בספרי לימוד חיצוניים?
 האוניברסיטה מוכרת ספרי לימוד ב-3 מקצועות לכלל הסטודנטים: ספר א', ספר ב' וספר ג'. כל סטודנט יכול לקנות רק ספר אחד.
 ידוע כי כמות הסטודנטים שקנו את ספר א' וכמות הסטודנטים שקנו את ספר ג' זהות. כמו כן, $\frac{6}{7}$ מאלו שקנו את ספר ג' נעזרים גם בספרים חיצוניים. $\frac{1}{3}$ מהסטודנטים שקנו את ספר ב' נעזרים בספרי לימוד חיצוניים וכמות הסטודנטים שקנו את ספר א' ונעזרים בספרי לימוד חיצוניים מהווים $\frac{1}{9}$ מכלל הסטודנטים שנעזרים בספרי לימוד חיצוניים.

- ב. מהו אחוז הסטודנטים שקנו את ספר ב' ואינם נעזרים בספרי לימוד חיצוניים?
 ג. איזה חלק מהווים הסטודנטים שקנו את ספר ג' מכלל הסטודנטים שאינם נעזרים בספרי לימוד חיצוניים?
 ד. בוחרים 4 סטודנטים שאינם נעזרים בספרי לימוד חיצוניים. מה ההסתברות שאחד מהם קנה את ספר ג'?

תשובות סופיות:

- (47) א.i. $\frac{17}{30}$ א.ii. $\frac{2}{17}$ ב. $\frac{7}{20}$ ג. $\frac{71}{150}$ ד. $\frac{32}{75}$
- (48) א. $P=0.1$ ב. $P=0.0486$ ג. $\frac{15}{19}$
- (49) א. $P\left(\frac{B}{A}\right)=\frac{1}{4}$ ב. $P(\bar{A})=0.8$ ג. $P_6(3)=0.1318$
- (50) א. 30% ב. $P=0.4$ ג. $\frac{1}{3}$ ד. $P=\frac{32}{81}$
- (51) א. $\frac{27}{50}$ ב. $\frac{2}{9}$ ג. $\frac{31}{50}$ ד. $P=0.34414$
- (52) א. 4 כדורים. ב. $\frac{7}{12}$ ג. $\frac{15}{1024}=0.0146$ ד. 0.1323
- (53) א. $P=0.7$ ב. $P=\frac{189}{2500}$ ג. $\frac{1}{7}$
- (54) א. $P=0.8$ ב. $P=0.44$ ג. $P=0.31744$
- (55) א. $P=0.4$ ב. 95% ג. $\frac{4}{7}$
- (56) א. 15 כחולים ו-3 אדומים. ב. $\frac{17}{101}$ ג. 0.03645
- (57) א. 6 גברים ו-24 נשים. ב. הסתברות לגבר בפעם הראשונה: $P\left(\frac{1}{2}\right)=\frac{25}{141}$ ג. 0.0193
- (58) א. $\frac{2}{3}$ ב. 20% ג. 60%
- (59) א. $\frac{1}{330}$ ב. גבוהה יותר $\left(\frac{256}{14641} > \frac{1}{330}\right)$ ג. $\frac{1}{8}$
- (60) א. $\frac{55}{84}$ ב. $\frac{14}{55}$ ג.i. 0.7204 ג.ii. 0.9324
- (61) א. 25% ב. מועמד א'. ג. $\frac{2}{3}$
- (62) א. 5 נשים. ב. $\frac{16}{21}$ ג. 0.05 ד. $\frac{459}{512}$
- (63) א. 45% ב. 20% ג. $\frac{1}{11}$ ד. $P=0.2732$