

# גאומטריה אנליטית



## תוכן העניינים

1	1. גיאומטריה אנליטית - נקודה וישר
26	2. גיאומטריה אנליטית - המעגל
45	3. גיאומטריה אנליטית - האליפסה והפרבולה
55	4. גיאומטריה אנליטית - ההיפרבולה
61	5. גיאומטריה אנליטית - מקומות גיאומטרים והוכחות

# גאומטריה אנליטית

## פרק 1 - גיאומטריה אנליטית - נקודה וישר

### תוכן העניינים

1. מושגי יסוד בגיאומטריה אנליטית. 1
2. משוואת הישר. 5
3. מצבים הדדיים בין ישרים. 10
4. מציאת משוואות ישר. 12
5. שאלות יסודיות שונות עם משוואת הישר. 13
6. נושאים מתקדמים עם משוואת הישר. (ללא ספר) 19
7. חלוקת קטע ביחס נתון. 20
8. מרחק נקודה מישר. 22
9. מיקום נקודה ביחס לישר. 24
10. מרחק בין ישרים מקבילים. 24

## מושגי יסוד בגיאומטריה אנליטית:

סיכום כללי:

נוסחאות כלליות:

- המרחק בין הנקודות  $A(x_1, y_1)$  ו-  $B(x_2, y_2)$  יחושב לפי:  $d = \sqrt{(x_2 - x_1)^2 + (y_2 - y_1)^2}$ .
- אמצע הקטע  $M$  שקצותיו הם:  $A(x_1, y_1)$  ו-  $B(x_2, y_2)$  הוא:  $x_M = \frac{x_1 + x_2}{2}, y_M = \frac{y_1 + y_2}{2}$ .

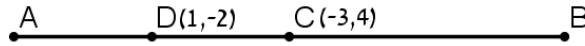
שאלות:

שאלות העוסקות באמצע קטע:

- 1) מצא את אמצעי הקטעים שקדקודיהם נתונים ע"י הנקודות A ו-B:
- א.  $A(1, 4), B(5, -8)$       ב.  $A(-3, 0), B(3, -2)$
- ג.  $A(4, 5), B(-4, -5)$       ד.  $A\left(\frac{1}{2}, \frac{3}{4}\right), B\left(7\frac{1}{2}, -2\right)$
- ה.  $A(6, -1), B(-3, -1)$       ו.  $A(4, 7), B(4, -12)$
- 2) נתון קטע AB שאמצעו בנקודה M.
- מצא את שיעורי נקודת הקצה B אם נתונים שיעורי הנקודות של A ושל M:
- א.  $A(4, -2), M(2, 1)$       ב.  $A(-6, -8), M(0, 0)$
- ג.  $A(13, -11), M(4, -7)$       ד.  $A\left(\frac{1}{3}, -\frac{4}{3}\right), M\left(\frac{2}{3}, -\frac{1}{3}\right)$
- 3) נתון משולש שווה שוקיים ABC שבו A הוא קדקוד הראש.
- ידוע כי שיעורי הקדקודים B ו-C הם  $B(2, -4), C(6, 1)$ .
- מעבירים תיכון AD לבסיס BC. מצא את שיעורי הנקודה D.
- 4) באיור שלפניך C היא נקודת האמצע של AB, ו-D היא נקודת האמצע של AC.
- ידוע כי:  $A(-2, 1), B(6, 5)$ . מצא את שיעורי הנקודה D.



- (5) באיור שלפניך C היא נקודת האמצע של AB, ו-D היא נקודת האמצע של AC. ידוע כי:  $D(1, -2)$ ,  $C(-3, 4)$ . מצא את שיעורי הנקודות A ו-B.



- (6) הנקודות  $A(2, -7)$ ,  $B(-10, 4)$  ו- $C(6, 11)$  הן שלושה קדקודים של מקבילית ABCD. מצא את שיעורי הקדקוד הרביעי, D.

### שאלות העוסקות במרחק בין שתי נקודות:

- (7) מצא את המרחק בין זוגות הנקודות הבאות:
- א.  $A(4, 7)$ ,  $B(-3, 7)$       ב.  $A(6, 2)$ ,  $B(1, 2)$
- ג.  $A(-3, 10)$ ,  $B(0, 6)$       ד.  $A(6, -9)$ ,  $B(1, 3)$
- ה.  $A(4, 7)$ ,  $B(13, -1)$       ו.  $A(6, 6)$ ,  $B(-9, -9)$
- (8) חשב את היקף המשולש ABC שקודקודיו הם:  $A(3, -2)$ ,  $B(4, 9)$ ,  $C(0, 14)$ .
- (9) נתונות נקודות  $A(14, 4)$ ,  $B(6, y)$  שמרחקן הוא 10 יחידות אורך. מצא את  $y$ .
- (10) נתונות נקודות  $A(x, -12)$ ,  $B(15, -2)$  שמרחקן הוא 26 יחידות אורך. מצא את  $x$ .

- (11) נתונה נקודה B ברביע השלישי, ששיעור ה- $y$  שלה גדול פי 3 משיעור ה- $x$  שלה ומרחקה מהנקודה  $A(-4, 1)$  הוא 5. מצא את שיעורי הנקודה B.

- (12) במשולש שווה שוקיים ABC ( $AB = AC$ ) ידוע כי אורכי השוקיים הוא  $\sqrt{45}$  יחידות אורך. שיעורי הקדקוד A הם  $(0, 4)$  ושיעורי ה- $y$  של הקדקודים B ו-C הוא -2. מצא את קדקודי המשולש B ו-C (הנח B ברביע הרביעי).

- (13) אורך האלכסון AC במלבן ABCD הוא  $d_{AC} = \sqrt{50}$  וידוע כי:  $A(-3, -2)$ ,  $B(-4, 1)$ . מצא את היקף המלבן.

**שאלות העוסקות בשיפוע בין שתי נקודות:****14** מצא את השיפוע בין זוגות הנקודות הבאים:

- א.  $A(5,2)$  ,  $B(4,1)$       ב.  $A(3,-2)$  ,  $B(-3,1)$
- ג.  $A(7,8)$  ,  $B(6,15)$       ד.  $A(0,5)$  ,  $B(7,0)$
- ה.  $A(6,9)$  ,  $B(6,-7)$       ו.  $A(4,-1)$  ,  $B(18,-1)$

**15** מצא את שיפועי הישרים שצלעות המשולש שקודקודיוהם:  $A(6,5)$  ,  $B(2,13)$  ,  $C(4,-7)$  מונחים עליהם.

## תשובות סופיות:

- (1) א.  $(3, -2)$     ב.  $(0, -1)$     ג.  $(0, 0)$
- ד.  $\left(4, -\frac{5}{8}\right)$     ה.  $(1.5, -1)$     ו.  $(4, -2.5)$
- (2) א.  $B(0, 4)$     ב.  $B(6, 8)$     ג.  $B(-5, -3)$     ד.  $B\left(1, \frac{2}{3}\right)$
- (3)  $D(4, -1.5)$
- (4)  $D(0, 2)$
- (5)  $A(5, -8)$ ,  $B(-11, 16)$
- (6)  $D(18, 0)$
- (7) א.  $d_{AB} = 7$     ב.  $d_{AB} = 5$     ג.  $d_{AB} = 5$     ד.  $d_{AB} = 13$
- ה.  $d_{AB} = \sqrt{145}$     ו.  $d_{AB} = 15\sqrt{2}$
- (8)  $P_{ABC} \approx 33.862$  יחידות אורך
- (9)  $y = -2$  או  $y = 10$
- (10)  $x = 39$  או  $x = -9$
- (11)  $B(-1, -3)$
- (12)  $B(3, -2)$ ,  $C(-3, -2)$
- (13)  $P_{ABCD} = 6\sqrt{10} \approx 18.97$  יחידות אורך
- (14) א.  $m_{AB} = 1$     ב.  $m_{AB} = -\frac{1}{2}$     ג.  $m_{AB} = -7$     ד.  $m_{AB} = -\frac{5}{7}$
- ה. שיפוע לא מוגדר.    ו.  $m_{AB} = 0$
- (15)  $m_{AB} = -2$ ,  $m_{BC} = -10$ ,  $m_{AC} = 6$

## משוואת הישר:

סיכום כללי:

נוסחאות כלליות:

- שיפוע ישר בין שתי נקודות  $A(x_1, y_1)$  ו-  $B(x_2, y_2)$  הוא:  $m_{AB} = \frac{y_2 - y_1}{x_2 - x_1} = \frac{y_1 - y_2}{x_1 - x_2}$ .

שיפועים של ישרים:

- שיפועי ישרים מאונכים מקיימים:  $m_1 \cdot m_2 = -1$ .
- הקשר בין שיפוע ישר לזווית שהוא יוצר עם הכיוון החיובי של ציר ה- $x$ :  $m = \tan \alpha$ .

משוואת הישר:

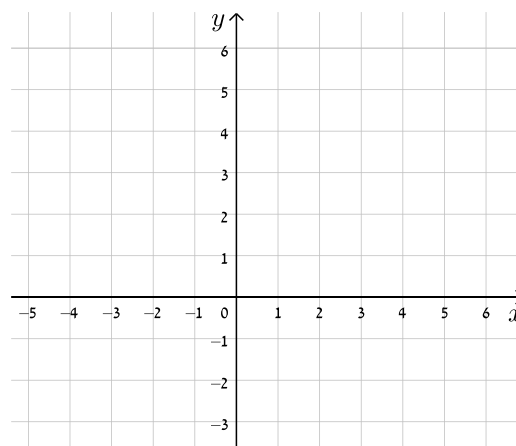
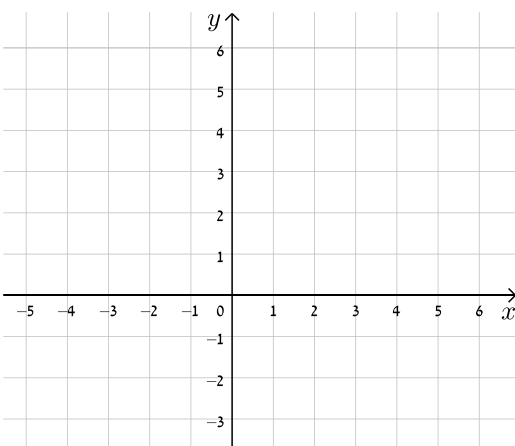
- משוואת ישר מפורשת היא מהצורה:  $y = mx + n$ .
- כאשר:  $m$  הוא שיפוע הישר ו- $n$  הוא ערך ה- $y$  של נקודת החיתוך של הישר עם ציר ה- $y$ .
- נוסחה למציאת משוואת ישר:  $y - y_1 = m(x - x_1)$ .

שאלות:

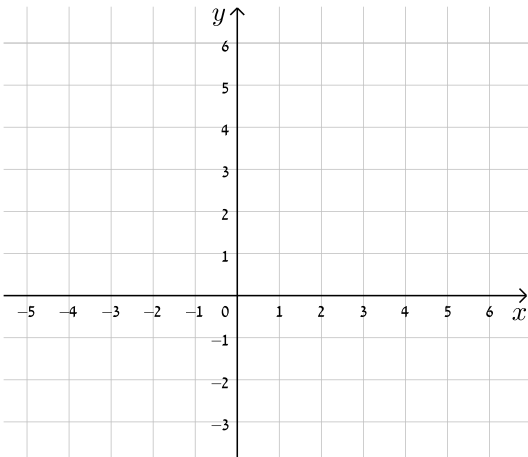
16) עבור כל אחד ממשוואות הישרים הבאות, מצא את נקודות החיתוך עם הצירים וסרטט את הישרים במערכת הצירים שלפניך.

ב.  $y = -x + 5$

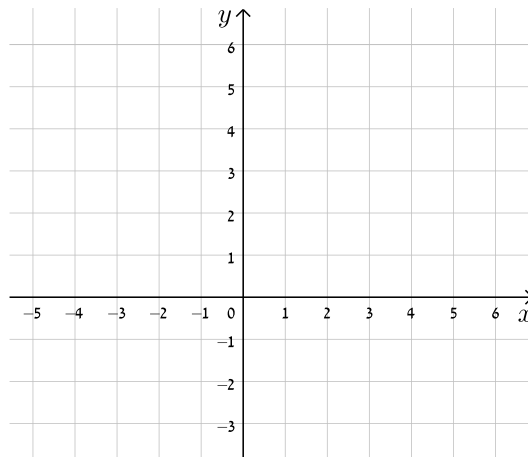
א.  $y = x + 4$



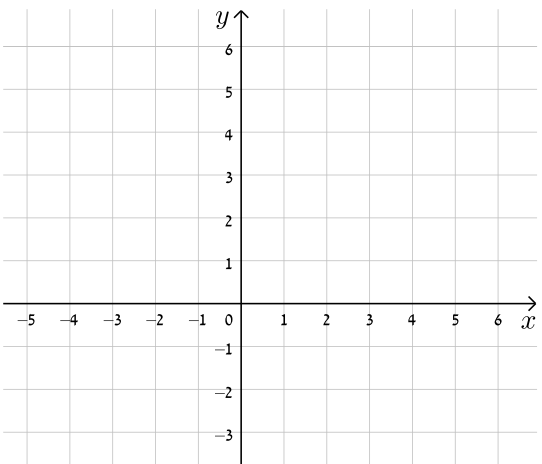
$$y = -3x + 5 \quad \text{ד.}$$



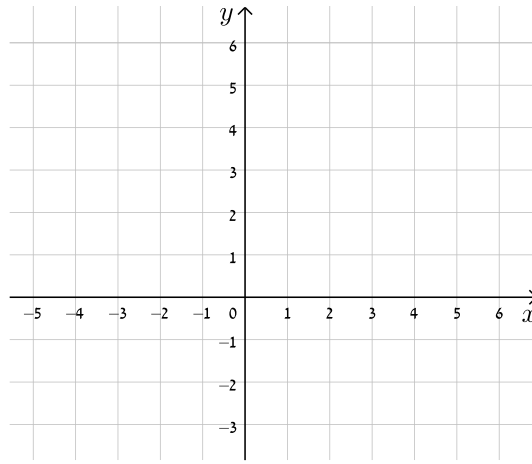
$$y = 2x - 3 \quad \text{ג.}$$



$$y = 8 - 4x \quad \text{ו.}$$

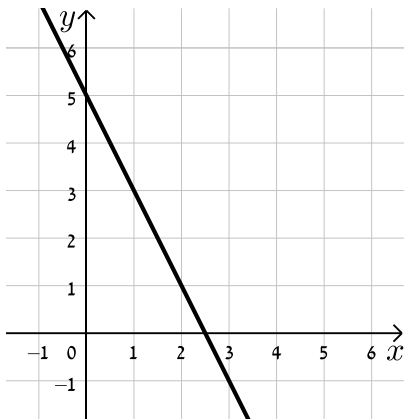


$$y = 3x - 1 \quad \text{ה.}$$

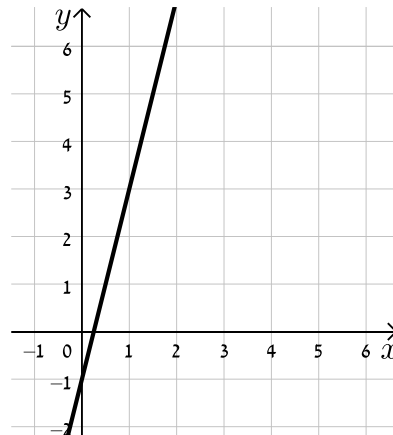


17) כתוב את משוואת הישר המתאימה לכל אחד מהישרים הבאים:

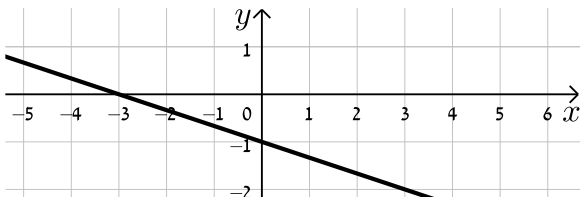
ב.



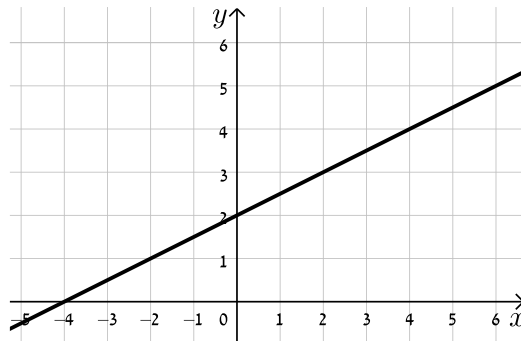
א.



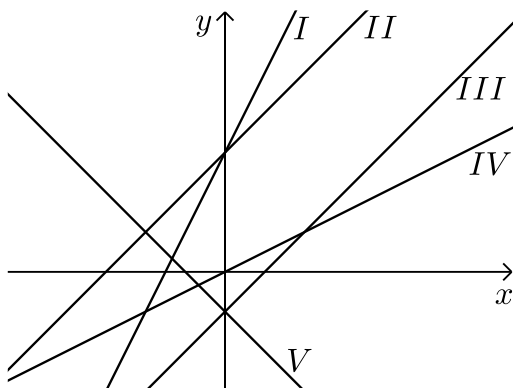
ד.



ג.



18) התאם בין משוואות הישרים הבאים לישרים בשרטוט :



א.  $y = x + 3$

ב.  $y = -x - 1$

ג.  $y = 2x + 3$

ד.  $y = x - 1$

ה.  $y = \frac{1}{2}x$

19) נתונה משוואה הישר הבאה :  $y = 2x + 3$  . קבע אלו מבין הנקודות הבאות נמצאות

עליו :  $A(-1,1)$  ,  $B(3,3)$  ,  $C(0,4)$  ,  $D(6,15)$  .

20) נתונה משוואת הישר הבאה :  $y = mx - 2.5$  . ידוע כי הנקודה  $A(4,2)$  נמצאת על

הישר. מצא את  $m$  וקבע האם גם הנקודה  $B(7,-2)$  נמצאת עליו.

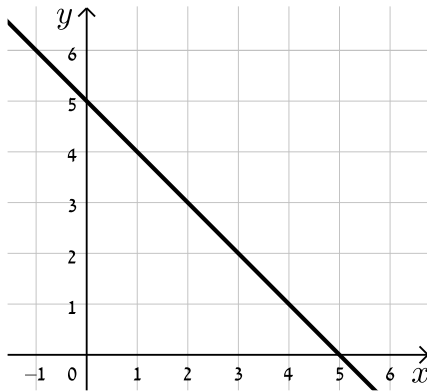
21) הנקודות  $A(5,-3)$  ,  $B(4,1)$  נמצאות על ישר שמשוואתו היא :  $y = mx + n$  .

מצא את  $m$  ואת  $n$  .

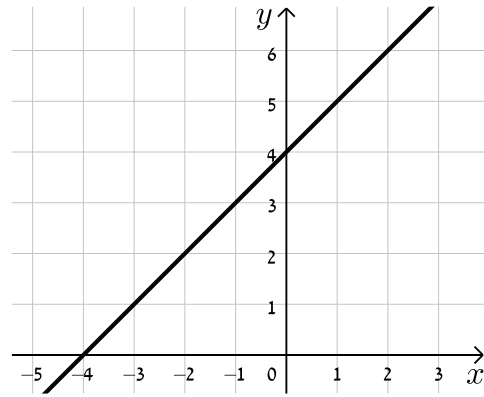
**תשובות סופיות:**

16) להלן הגרפים של משוואות הישרים:

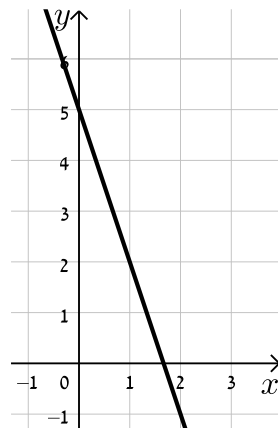
ב.



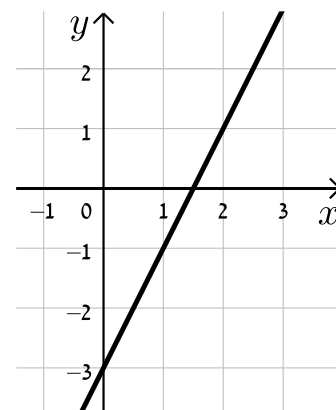
א.



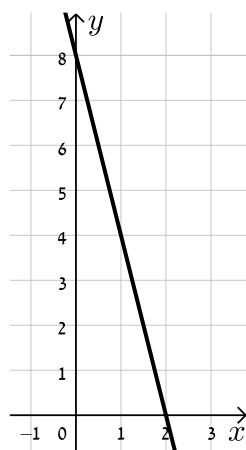
ד.



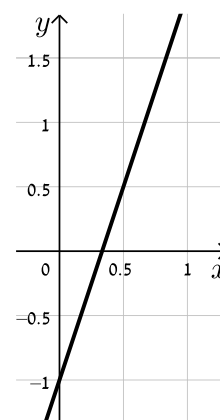
ג.



ו.



ה.



- א.  $y = 4x - 1$     ב.  $y = -2x + 5$     ג.  $y = \frac{1}{2}x + 2$     ד.  $y = -\frac{1}{3}x - 1$     (17)
- א. II.    ב. V.    ג. I.    ד. III.    ה. IV.    (18)
- נמצאות : A, D. לא נמצאות : B, C.    (19)
- B לא נמצאת.  $m = \frac{9}{8}$     (20)
- $m = -4, n = 17$     (21)

## מצבים הדדיים בין ישרים:

### סיכום כללי:

#### מצב הדדי בין שני ישרים:

- ישרים מקבילים מקיימים:  $m_1 = m_2, n_1 \neq n_2$ .
- ישרים חותכים מקיימים:  $m_1 \neq m_2$ .
- ישרים מתלכדים מקיימים:  $m_1 = m_2, n_1 = n_2$ .

### שאלות:

22) מצא את נקודות החיתוך שבין זוגות הישרים הבאים:

$$\begin{cases} y = 2x - 4 \\ y = x + 6 \end{cases} \quad \text{ג.}$$

$$\begin{cases} y = x - 12 \\ y = 4x + 6 \end{cases} \quad \text{ב.}$$

$$\begin{cases} y = 3x + 4 \\ y = -2x - 1 \end{cases} \quad \text{א.}$$

23) קבע את המצב ההדדי בין זוגות הישרים הבאים:

$$\begin{cases} y = x - 7 \\ y = x + 6 \end{cases} \quad \text{ב.}$$

$$\begin{cases} y = 3x + 4 \\ y = 2x + 4 \end{cases} \quad \text{א.}$$

$$\begin{cases} y = x + 8 \\ y = x + 8 \end{cases} \quad \text{ד.}$$

$$\begin{cases} y = 6x - 15 \\ y = 3x + 41 \end{cases} \quad \text{ג.}$$

24) קבע אלו מבין זוגות הישרים הבאים הם מאונכים זה לזה:

$$\begin{cases} y = 2x \\ y = \frac{1}{2}x + 4 \end{cases} \quad \text{ב.}$$

$$\begin{cases} y = 3x + 1 \\ y = 3x - 1 \end{cases} \quad \text{א.}$$

$$\begin{cases} y = x - 6 \\ y = -x + 6 \end{cases} \quad \text{ד.}$$

$$\begin{cases} y = -4x - 5 \\ y = \frac{1}{4}x + 5 \end{cases} \quad \text{ג.}$$

- (25)** משוואת הצלע AB של המלבן ABCD היא  $y = 6x - 2$ .
- א. מה הם שיפועי הצלעות האחרות של המלבן?  
 ב. כיצד תשתנה תשובתך לסעיף הקודם אם משוואת הישר הנ"ל הייתה שייכת לצלע BC במקום AB?
- (26)** במשולש ABC נתונים שיעורי הקודקודים:  $A(5, -1)$ ,  $B(3, 7)$ ,  $C(-5, 5)$ .  
 הוכח שהמשולש ישר זווית ושווה שוקיים.

### תשובות סופיות:

- (22)** א.  $(-1, 1)$       ב.  $(-6, -18)$       ג.  $(10, 16)$
- (23)** א. נחתכים.      ב. מקבילים.      ג. נחתכים.      ד. מתלכדים.
- (24)** מאונכים: ג', ד'.      לא מאונכים: א', ב'.
- (25)** א.  $m_{AB} = m_{CD} = 6$ ,  $m_{BC} = m_{AD} = -\frac{1}{6}$
- ב. הכל הפוך:  $m_{BC} = m_{AD} = 6$ ,  $m_{AB} = m_{CD} = -\frac{1}{6}$
- (26)** שאלת הוכחה.

## מציאת משוואות ישר:

### שאלות:

27 מצא את משוואות הישרים הבאים:

- א. ישר העובר דרך הנקודה  $A(1,3)$  ושיפועו  $m=2$ .
- ב. ישר העובר דרך הנקודה  $A(0,-4)$  ושיפועו  $m=\frac{1}{3}$ .
- ג. ישר העובר דרך הנקודה  $A(5,9)$  ושיפועו  $m=0$ .
- ד. ישר העובר דרך הנקודות  $A(5,-12)$  ו- $B(6,-6)$ .
- ה. ישר העובר דרך הנקודה  $A(-6,4)$  ומקביל לישר:  $y=2x-3$ .
- ו. ישר העובר דרך הנקודה  $A(3,-5)$  ומקביל לציר ה- $y$ .
- ז. ישר העובר דרך הנקודה  $A(-7,-3)$  ומאונך לישר:  $y=x+3$ .
- ח. ישר העובר דרך נקודת החיתוך של הישרים:  $y=11x-4$  ו- $y=3x-12$  ומקביל לישר:  $y=7x+5$ .

### תשובות סופיות:

- 27 א.  $y=2x+1$       ב.  $y=\frac{1}{3}x-4$       ג.  $y=9$       ד.  $y=6x-42$
- ה.  $y=2x+16$       ו.  $x=3$       ז.  $y=-x-10$       ח.  $y=7x-8$

## שאלות יסודיות שונות עם משוואת הישר:

### שאלות:

**(28)** במשולש ABC מעבירים את התיכון AD לצלע BC.

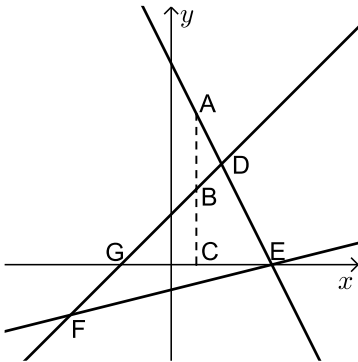
ידוע כי:  $A(3, -2)$ ,  $B(2, 4)$ ,  $D(-2, 2)$ .

- כתוב את משוואת הישר של התיכון AD.
- מצא את שיעורי הקדקוד C.
- כתוב את משוואת הישר של הצלע AC.

**(29)** נתון מעוין ABCD שבו נתונים הקודקודים A(-9,1) ו-B(5,-7).

משוואת הישר עליו מונח האלכסון AC היא  $x + 3y + 6 = 0$ .

- מצא את משוואת הישר עליו מונח האלכסון BD.
- מצא את משוואת הישר עליו מונחת הצלע BC.



**(30)** שלוש המשוואות הבאות מייצגות את הישרים המופיעים

בשרטוט:  $x - y + 2 = 0$ ,  $x - 4y - 4 = 0$ ,  $2x + y - 8 = 0$ .

הקטע AC מקביל לציר ה-y.

- חשב את שטח המשולש DEF.
- נתון:  $d_{BC} = 3$ . חשב את אורך הקטע AB.

**(31)** BD הוא התיכון לצלע AC במשולש ABC שבו נתון הקודקוד A(-6,1).

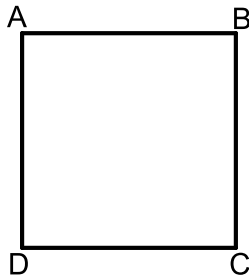
משוואת התיכון BD היא  $x - y = 1$  ומשוואת הצלע BC היא  $3x + 5y = 67$ .

מצא את שיעורי הקדקוד C.

**(32)** נתון טרפז ABCD ( $AB \parallel CD$ ) ובו משוואת השוק BC היא:  $x = 2$ .

משוואת הבסיס CD היא  $2x + 3y = 7$  וידוע כי  $A(-4, 1)$ .

- מצא את משוואת הבסיס AB.
- מצא את שיעורי הקדקודים B ו-C.
- מעבירים את האלכסון AC. הראה כי המשולש ABC הוא ישר זווית ומצא את שטחו.



**33** במרובע ABCD ידוע כי שיפוע הצלע BC הוא 3

ושיעורי הנקודה A הם: (1,4).

א. איזה מרובע הוא המרובע ABCD?  
הראה חישוב מתאים.

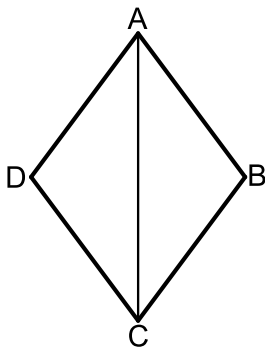
ב. נתון גם:  $D(4,13)$ ,  $m_{CD} = -\frac{1}{3}$  ו- $\sqrt{90}$  ס"מ  $BC =$ .

איזה מרובע הוא המרובע ABCD כעת?  
הראה חישוב מתאים.

ג. נתון גם:  $B(-8,7)$ .

איזה מרובע הוא המרובע ABCD כעת?  
הראה חישוב מתאים.

ד. חשב את שטח המרובע ABCD.



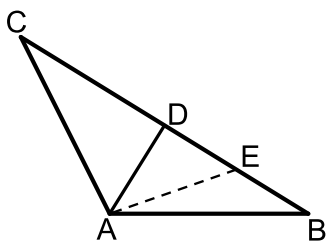
**34** המרובע ABCD הוא מעוין.

ידוע כי שיעורי אחת הנקודות במעוין הם: (0,6).

כמו כן, ידוע גם כי משוואת האלכסון AC היא:  $y = -1.5x + 6$  ואחת ממשוואות הצלעות היא:  $5y + x = 4$ .

א. מצא את משוואת האלכסון השני.

ב. מצא את שאר קדקודי המעוין.



**35** המשולש ABC הוא משולש שווה שוקיים ( $AB = AC$ ).

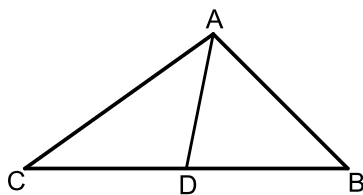
ב- $\triangle ABC$  מעבירים את הגובה AD לבסיס BC

ומסמנים נקודה E כך שמתקיים:  $DE = BE$ .  
קדקוד הראש A נמצא בראשית הצירים ונתון

כי:  $D(5,7)$ ,  $E(8.5,2.5)$ .

א. מצא את שיעורי שאר קודקודי המשולש.

ב. כתוב את משוואת השוק AC.



**36** נתון משולש ABC. הנקודה D נמצאת על הצלע BC

של המשולש ABC כך שהקטע AD מחלק אותו

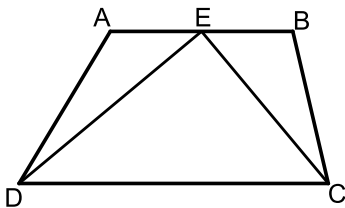
לשני משולשים שווי שטח ABD ו-ACD.

הצלע BC מונחת על הישר:  $y = 4$  וידוע כי

שיעור ה-x של הנקודה C הוא:  $x_C = -1$ .

כמו כן נתון:  $A(7,8)$ ,  $m_{AB} = -2$ .

- א. מצא את משוואת הצלע AB.  
 ב. ענה על הסעיפים הבאים:  
 i. איזה קטע הוא AD בתוך המשולש ABC?  
 ii. מצא את שיעורי הנקודות B ו-D.  
 ג. ענה על הסעיפים הבאים:  
 i. חשב את אורך הצלע BC ואת אורך הקטע AD.  
 ii. איזה משולש הוא המשולש ABC?



**37** המרובע ABCD הוא טרפז. הנקודה E היא אמצע

הבסיס AB וידוע כי היא נמצאת על ציר ה-x.

שיעורי הנקודה B הם (3, 2) והצלע AD מונחת

על הישר:  $x = -5$ . אורך הקטע DE הוא  $\sqrt{80}$

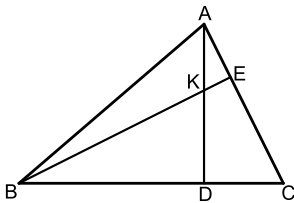
כך ש- $\angle DEC = 90^\circ$  ברביע השלישי וכן:

א. מצא את שיעורי הנקודות A, D ו-E.

ב. מצא את משוואת הקטע CE ואת משוואת הבסיס CD.

ג. מצא את שיעורי הנקודה C.

ד. חשב את שטח המשולש DEC.



**38** AD ו-BE הם בהתאמה גבהים לצלעות BC ו-AC

במשולש ABC.

ידוע כי שיעורי נקודת פגישת הגבהים K הם: (1, 3).

שיעורי הנקודות D ו-E הם:  $D(-2, 4)$ ,  $E(3, 5)$ .

א. מצא את משוואת הגובה AD ואת משוואת הצלע AC.

ב. מצא את שיעורי הקדקוד A.

ג. מצא את משוואת הגובה BE ואת משוואת הצלע BC.

ד. מצא את שיעורי הקדקוד B.

**39** נתון מעוין ABCD. ידוע כי הצלע CD מונחת על  $y = -7$ .

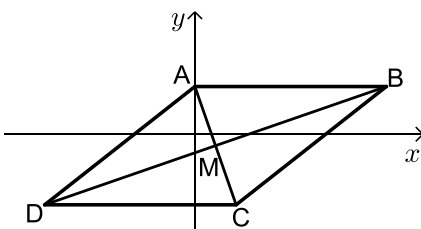
אלכסוני המעוין AC ו-BD נפגשים

בנקודה:  $M(-0.5, -3)$ . שיפוע האלכסון AC הוא -4.

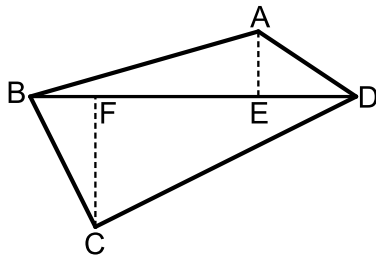
א. מצא את משוואת האלכסון AC.

ב. מצא את שיעורי הנקודה C.

ג. חשב את שטח המשולש BMC.

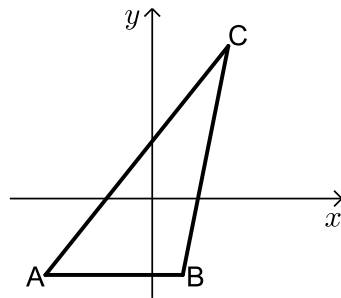


40 נתון מרובע ABCD שקודקודיו הם:  $A(3,13)$ ,  $B(-2,4)$ ,  $C(9,3)$ ,  $D(8,14)$ .



מורידים גבהים AE ו-CF לאלכסון BD.

- מצא את משוואת האלכסון BD ואת אורכו.
- מצא את שיעורי הנקודות E ו-F.
- מצא את אורכי הגבהים AE ו-CF.
- חשב את שטח המרובע ABCD.



41 על הישר  $y = -5$  מסמנים את

הנקודות:  $A(-7, -5)$ ,  $B(2, -5)$ .

הנקודה C נמצאת על הישר:  $y = x - 5$ .

נסמן את שיעור ה-x של הנקודה C ב-t.

א. הבע באמצעות t את שיעור ה-y של הנקודה C.

ב. ידוע כי אורך הצלע AC הוא 17 ס"מ.

הבע באמצעות t את המרחקים של C מ-A ומ-B.

ג. מצא את t ואת אורך הצלע BC.

ד. מסמנים נקודה D על המשך הצלע AB.

ידוע כי D נמצאת ברביע השלישי.

מצא את שיעורי הנקודה D המקיימת ששטח

המשולש DAC יהיה גדול ב-16 יחידות משטח המשולש ABC.

42 המשולש ABC הוא שווה שוקיים ( $AB = BC$ )

ובו נתון:  $A(-4, 12)$ ,  $B(x, 6)$  ו-  $C(4, 8)$ .

א. מצא את x.

ב. הוכח כי המשולש הוא ישר זווית.

ג. ענה על הסעיפים הבאים:

i. מצא את משוואת הצלע AC.

ii. מסמנים את נקודת החיתוך של הצלע AC עם ציר ה-y ב-D.

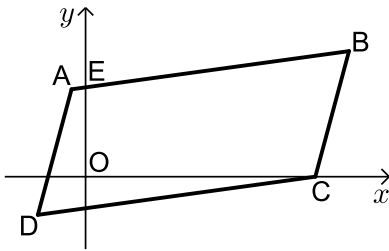
מצא את שיעורי הנקודה D.

ד. ענה על הסעיפים הבאים:

i. מצא נקודה E ברביע הראשון ( $x_E < 5$ ) כך שהמשולש DCE יהיה גם

שווה שוקיים וישר זווית ( $\sphericalangle C = 90^\circ$ ).

ii. חשב את יחס השטחים בין המשולשים:  $\frac{S_{DCE}}{S_{ABC}}$ .



43 באיור שלפניך נתונה מקבילית ABCD.

ידועים קודקודי המקבילית הבאים:  $A(-1, y)$

ו-  $B(x, 4)$ .  $(x$  ו-  $y$  נעלמים).

שיפוע הצלע CD הוא 0.2 ואורכה הוא:  $d_{CD} = \sqrt{104}$ .

א. מצא את  $x$  ו-  $y$  אם ידוע כי B ברביע הראשון.

ב. נתון גם כי הקדקוד C נמצא על ציר ה- $x$  בחלקו החיובי

וכי:  $d_{BC} = \sqrt{17}$ . מצא את שיעורי הקדקוד C (מצא שתי אפשרויות).

ג. סמן את נקודת החיתוך של הצלע AB עם ציר ה- $y$  ב-E.

שטח המרובע EOCB הוא 25.9 יח"ש. מצא את האפשרות הנכונה עבור

הנקודה C מבין אלו שמצאת בסעיף הקודם.

## תשובות סופיות:

$$(28) \quad \text{א. } y = -\frac{4}{5}x + \frac{2}{5} \quad \text{ב. } C(-6, 0) \quad \text{ג. } y = -\frac{2}{9}x - \frac{4}{3}$$

$$(29) \quad \text{א. } l_{BD}: y = 3x - 22 \quad \text{ב. } l_{BC}: y = -\frac{1}{8}x - 6\frac{3}{8}$$

$$(30) \quad \text{א. } 18 \text{ יח"ש} = S_{EDF} \quad \text{ב. } 3 \text{ יחידות אורך} = AB$$

$$(31) \quad C(14, 5)$$

$$(32) \quad \text{א. } y = -\frac{2}{3}x - \frac{5}{3} \quad \text{ב. } B(2, -3), C(2, 1) \quad \text{ג. } 12 \text{ יחידות שטח} = S_{ABC}$$

(33) א. מרובע כללי כלשהו. לא ניתן להצביע על אף תכונה.

ב. מלבן. ניתן להראות כי יש למרובע שני זוגות צלעות נגדיות מקבילות ושוות וזווית ישרה.

ג. ריבוע. ניתן להראות כי קיימות זוג צלעות סמוכות שוות. ד.  $90$  יח"ש =  $S$ .

$$(34) \quad \text{א. } y = \frac{2}{3}x + 1\frac{2}{3} \quad \text{ב. } (-1, 1), (4, 0), (5, 5)$$

$$(35) \quad \text{א. } B(12, -2), C(-2, 16) \quad \text{ב. } y = -8x$$

$$(36) \quad \text{א. } y = -2x + 22 \quad \text{ב. i. תיכון - קטע במשולש שחוצה אותו לשני משולשים שווי שטח הוא תיכון. ב. ii. } B(9, 4), D(4, 4)$$

ג. ii.  $AD = 5, BC = 10$ . ג. ii. משולש ישר זווית - אם במשולש יש תיכון לצלע ששווה למחציתה אז המשולש הוא ישר זווית.

$$(37) \quad \text{א. } D(-5, -8), A(-5, -2), E(-1, 0) \quad \text{ב. } CE: y = -\frac{1}{2}x - \frac{1}{2}, CD: y = \frac{1}{2}x - 5\frac{1}{2}$$

$$\text{ג. } C(5, -3) \quad \text{ד. } 30 \text{ יח"ש} = S_{DEC}$$

$$(38) \quad \text{א. } AC: y = -x + 8, AD: y = -\frac{1}{3}x + 3\frac{1}{3} \quad \text{ב. } A(7, 1)$$

$$\text{ג. } BC: y = 3x + 10, BE: y = x + 2 \quad \text{ד. } B(-4, -2)$$

$$(39) \quad \text{א. } y = -4x - 5 \quad \text{ב. } C(0.5, -7) \quad \text{ג. } 34 \text{ סמ"ר} = S_{BMC} = S_{DMC}$$

$$(40) \quad \text{א. } d_{BD} = \sqrt{200}, y = x + 6 \quad \text{ב. } E(5, 11), F(3, 9)$$

$$\text{ג. } d_{CF} = \sqrt{72}, d_{AE} = \sqrt{8} \quad \text{ד. } S_{ABCD} = 80$$

$$(41) \quad \text{א. } C(t, t-5) \quad \text{ב. i. } AC = \sqrt{2t^2 + 14t + 49}, BC = \sqrt{2t^2 - 4t + 4}$$

$$\text{ii. } 10 \text{ ס"מ} = BC, t = 8 \quad \text{ג. } D(-20, -5)$$

$$(42) \quad \text{א. } x = -2 \quad \text{ג. i. } y = -0.5x + 10 \quad \text{ii. } D(0, 10) \quad \text{ד. i. } E(2, 4)$$

$$\text{ii. } \frac{S_{DCE}}{S_{ABC}} = \frac{1}{2}$$

$$(43) \quad \text{א. } x = 9, y = 2 \quad \text{ב. } C(8, 0), C(10, 0) \quad \text{ג. } C(8, 0)$$

## חלוקת קטע ביחס נתון:

### סיכום כללי:

- שיעורי נקודה P המחלקת קטע שקצותיו  $A(x_1, y_1)$  ו-  $B(x_2, y_2)$  ביחס של  $k:l$  הם:  $x_p = \frac{k \cdot x_1 + l \cdot x_2}{k+l}, y_p = \frac{k \cdot y_1 + l \cdot y_2}{k+l}$  (בהצלבה).

### שאלות:

- (1) הנקודה P נמצאת על הקטע AB. נתון:  $A(2, -5), B(-12, 16)$ .

$$\frac{AP}{PB} = \frac{2}{5} \text{ . מצא את ערכי הנקודה P, אם נתון כי}$$

- (2) קודקודי משולש ABC הם:  $A(-1, 3), B(6, 0), C(4, -12)$ .

מצא את שיעורי מרכז הכובד של המשולש.  
(מרכז כובד של משולש הוא מפגש תיכוני המשולש).

- (3) מצא את שיעורי מרכז הכובד של משולש ABC

$$\text{שקודקודיו הם: } A(x_1, y_1), B(x_2, y_2), C(x_3, y_3)$$

- (4) קודקודי המשולש ABC הם:  $A(5, 1), B(7, -3), C(-1, 4)$ .

מצא את אורכו של חוצה הזווית היוצא מקודקוד A.

### תשובות סופיות:

$$M(3, -3) \quad (2) \qquad P(-2, 1) \quad (1)$$

$$1.697 \text{ יחידות אורך.} \quad (4) \qquad \left( \frac{x_1 + x_2 + x_3}{3}, \frac{y_1 + y_2 + y_3}{3} \right) \quad (3)$$

## מרחק נקודה מישר:

### סיכום כללי:

#### הצגה כללית של ישר ומרחקים:

- הצגה כללית של ישר (צורה סתומה):  $Ax + By + C = 0$ .
- מרחק הנקודה  $A(x_1, y_1)$  מהישר  $Ax + By + C = 0$  הוא:  $d = \left| \frac{Ax_1 + By_1 + C}{\sqrt{A^2 + B^2}} \right|$  כאשר  $B > 0$ .

- אם הנקודה מעל הישר מורידים את הערך המוחלט.
- אם הנקודה מתחת לישר מורידים את הערך המוחלט ומוסיפים מינוס לאחד האגפים.

### שאלות:

(5) ענה על הסעיפים הבאים:

- מצא את מרחק הנקודה  $(-2, 4)$  מהישר  $4x + 3y + 11 = 0$ .
- מצא את מרחק הנקודה  $(4, 3)$  מהישר  $y = 3x - 1$ .
- מצא את מרחק הנקודה  $(3, -11)$  מהישר  $x - 5 = 0$ .

(6) מצא את המרחק בין הנקודה הנתונה לישר הנתון:

- $3x - 4y + 6 = 0$ ,  $A(-5, -1)$     ב.  $12x + 5y - 17 = 0$ ,  $A(-3, 8)$
- $2y + 7 = 0$ ,  $A(11, -2)$     ד.  $3x - 14 = 0$ ,  $A\left(6, -\frac{1}{2}\right)$

(7) מצא את שיעורי הנקודות על הישר  $x + y - 7 = 0$  שמרחקן מהישר  $2x - y + 5 = 0$  הוא:  $\sqrt{20}$ .

(8) מצא את שטחה של מקבילית ששיעורי קודקודיה הם:  $A(7, -1)$ ,  $B(-5, 4)$ ,  $C(-1, 7)$ ,  $D(11, 2)$ .

- (9) מצא את שטחו של המשולש  $\triangle ABC$  שבו שיעורי קדקוד A הם  $A(5, -3)$  ושניים מתיכוני המשולש מונחים על הישרים  $x - 4 = 0$  ו-  $2x - y - 1 = 0$ .
- (10) מצא את שטחו של משולש שקודקודיו הם:  $A(2, 2)$ ,  $B(-1, 1)$ ,  $C(-5, -2)$ .
- (11) מצא את שיעורי הנקודות על הישר  $3x - 2y + 6 = 0$ , שמרחקן מהישר:  $2x - y - 14 = 0$  הוא  $3\sqrt{5}$ .
- (12) מצא את שיעורי הנקודות על הישר  $4x + 3y - 20 = 0$ , שמרחקן מהישר:  $3x + 2y + 13 = 0$  הוא  $2\sqrt{13}$ .

### תשובות סופיות:

- (5) א. 3 ב.  $\frac{8}{\sqrt{10}}$  ג. 2
- (6) א. 1 ב. 1 ג.  $1\frac{1}{2}$  ד.  $\frac{1}{3}$
- (7)  $(4, 3)$ ,  $\left(-2\frac{2}{3}, 9\frac{2}{3}\right)$
- (8)  $S_{ABCD} = 56$  יח"ש
- (9)  $S_{ABC} = 18$  יח"ש
- (10)  $S_{ABC} = 2.5$  יח"ש
- (11)  $(4, 9)$ ,  $(64, 99)$
- (12)  $(-1, 8)$ ,  $(-157, 216)$

## מיקום נקודה ביחס לישר:

### שאלות:

- 13** מצא את שיעורי הנקודה על הישר  $3x - 2y + 6 = 0$ , שמרחקה מהישר:  $2x - y - 14 = 0$  הוא  $3\sqrt{5}$  והיא נמצאת מתחתיו.
- 14** מצא את שיעורי הנקודה על הישר  $4x + 3y - 20 = 0$ , שמרחקה מהישר:  $3x + 2y + 13 = 0$  הוא  $2\sqrt{13}$  והיא נמצאת מעליו.
- 15** נתון משולש ABC שבו נתונים הקודקודים:  $A(1,1)$ ,  $B(13,6)$ . הקדקוד C נמצא על הישר  $2x - y - 19 = 0$  ונמצא מתחת לצלע AB. מצא את שיעורי הקדקוד C אם ידוע ששטח המשולש הוא 13.
- 16** נתון משולש שצלעותיו מונחות על הישרים:  
 $I: x + 2y + 1 = 0$ ,  $II: x - 2y - 11 = 0$ ,  $III: 2x - y + 6 = 0$   
 מצא שיעורי נקודה הנמצאת בתוך המשולש, שמרחקה מישר I שווה למרחקה מישר III ומרחקה מישר II הוא מחצית מהמרחק משני ישרים אלה.
- 17** מצא את שיעורי מרכז המעגל, החסום במשולש, שצלעותיו מונחות על הישרים:  $I: 4x - 3y + 2 = 0$ ,  $II: 3x - 4y - 51 = 0$ ,  $III: 3x + 4y - 11 = 0$ .
- 18** מצא משוואת ישר ששיפועו 3 אם ידוע שהנקודה  $G(7, -3)$  נמצאת מתחתיו ובמרחק  $2\sqrt{10}$  ממנו.
- 19** מצא משוואת ישר שעובר בנקודה  $A(-2, 6)$  ומרחקו מהנקודה  $B(2, 9)$  הוא  $\sqrt{5}$ .
- 20** מצא משוואת ישר שעובר בנקודה  $A(9, 10)$  ומרחקו מהנקודה  $B(8, -3)$  הוא  $5\sqrt{5}$ .
- 21** מצא משוואת ישר שעובר בנקודה  $A(3, 6)$  ומרחקו מהנקודה  $B(-9, 2)$  הוא 4.

- (22) מצא משוואת ישר שעובר בנקודה  $A(1,2)$  ומרחקו מהנקודה  $B(-3,10)$  הוא 4.
- (23) מצא משוואת ישר שעובר בנקודה  $A(10,8)$  ומרחקו מהנקודה  $B(7,-1)$  הוא 3.
- (24) מצא משוואת ישר שעובר בנקודה  $A(-6,1)$  ומרחקו מהנקודה  $B(2,7)$  הוא 10.

### תשובות סופיות:

- |  |  |
|--|--|
| $(-1,8)$ (14)  | $(64,99)$ (13)   |
| $(-1,-4)$ (16)   | $C(11,3)$ (15)   |
| $y = 3x - 4$ (18)  | $(2,-5)$ (17)  |
| $y = -\frac{22}{31}x + 16\frac{12}{31}$ , $y = \frac{1}{2}x + 5\frac{1}{2}$ (20) | $y = 2x + 10$ , $y = \frac{2}{11}x + 6\frac{4}{11}$ (19) |
| $x = 1$ או $y = -\frac{3}{4}x + 2\frac{3}{4}$ (22)                               | $y = \frac{3}{4}x + 3\frac{3}{4}$ , $y = 6$ (21)         |
| $y = -\frac{4}{3}x - 7$ (24)   | $x = 10$ או $y = 1\frac{1}{3}x - 5\frac{1}{3}$ (23)      |

## מרחק בין ישרים מקבילים:

### סיכום כללי:

- מרחק בין שני ישרים מקבילים:  $Ax + By + C_1 = 0$  ו-  $Ax + By + C_2 = 0$  כאשר:  $B > 0$

$$\text{הוא: } d = \frac{|C_1 - C_2|}{\sqrt{A^2 + B^2}} \text{ ומתקיים בהעדר הערך המוחלט:}$$

- אם:  $C_1 > C_2$ ,  $(d > 0)$  אז הישר  $Ax + By + C_1 = 0$  מתחת ל-  $Ax + By + C_2 = 0$ .
- אם:  $C_1 < C_2$ ,  $(d < 0)$  אז הישר  $Ax + By + C_1 = 0$  מעל ל-  $Ax + By + C_2 = 0$ .

### שאלות:

(25) מצא משוואת ישר, המקביל לישר  $3x - 4y + 8 = 0$  ונמצא במרחק 4 ממנו.

(26) מצא את המרחק בין הישרים המקבילים:  $5x + 12y - 14 = 0$ ,  $5x + 12y + 25 = 0$ .

(27) נתונים הישרים:  $y = 6x + 5$ ,  $12x - 2y - 15 = 0$ .  
הראה שהישרים מקבילים ומצא את המרחק ביניהם.

(28) נתון המלבן ABCD. משוואותיהן של שתיים מצלעות המלבן הן  $AB: 3x + y = 0$  ו-  $CD: 3x + y - 6 = 0$ . הקדקוד B נמצא בראשית הצירים. נתון כי הצלע BC ארוכה פי 4 מהצלע BC. מצא את שטח המלבן ואת מפגש אלכסוני המלבן, אם ידוע שהוא ברביע הרביעי.

(29) צלע של ריבוע מונחת על הישר  $3x - 2y + 5 = 0$ . אלכסוני הריבוע נפגשים בנקודה  $B(1, -1)$ . מצא את משוואות הישרים עליהם מונחות הצלעות האחרות של הריבוע.

(30) נתון ישר שעובר בראשית הצירים ושיפועו חיובי. מצא את משוואת הישר אם נתון שהוא נמצא מעל הנקודות  $P(4, 1)$  ו-  $Q(7, 2)$  וסכום המרחקים ממנו לנקודות אלה הוא  $3\sqrt{10}$ .

**(31)** במשולש BKP נתון כי הצלע BK מונחת על הישר  $x - y + 3 = 0$  והצלע BP מונחת על הישר  $x + 2y + 3 = 0$ . אורך הגובה לצלע BP הוא  $3\sqrt{5}$  ואורך הגובה לצלע KP הוא 5. מצא את שיעורי קדקוד P אם ידוע שראשית הצירים נמצאת בתוך המשולש.

### תשובות סופיות:

$$3 \quad (26) \quad 3x - 4y + 28 = 0, 3x - 4y - 12 = 0 \quad (25)$$

$$(2.1, -3.3), S = \text{יח"ש} \quad 14.4 \quad (28) \quad \frac{25}{\sqrt{148}} \quad (27)$$

$$3x - 2y - 15 = 0, y = -\frac{2}{3}x - 3\frac{2}{3}, y = -\frac{2}{3}x + 3 \quad (29)$$

$$P\left(2, -2\frac{1}{2}\right) \quad (31) \quad y = 3x \quad (30)$$

# גאומטריה אנליטית

## פרק 2 - גיאומטריה אנליטית - המעגל

### תוכן העניינים

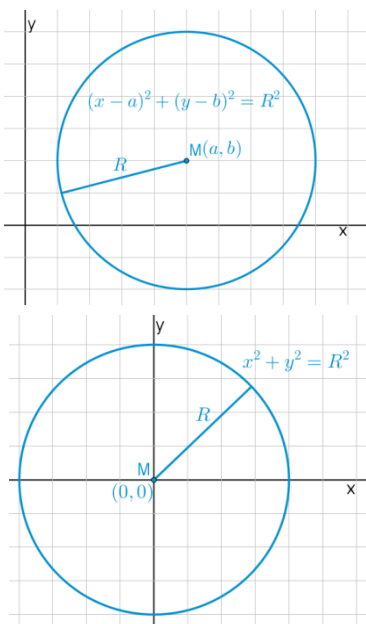
26	1. הכרות עם משוואת המעגל
30	2. מעגל המשיק לצירים
32	3. משיק למעגל
33	4. שאלות יסודיות שונות
(ללא ספר)	5. נושאים מתקדמים במעגל
40	6. כתיבת משוואת מעגל עם השלמה לריבוע
41	7. משוואות המשיקים למעגל
43	8. מיתר המחבר שתי נקודות השקה
44	9. שאלות מסכמות שונות

## הכרות עם משוואת המעגל:

**סיכום כללי:**

**הגדרה:**

המקום הגאומטרי של כל הנקודות, הנמצאות במרחק קבוע מנקודה קבועה במישור נקרא מעגל.



**משוואת מעגל:**

משוואת מעגל שמרכזו בנקודה  $M(a, b)$  ורדיוסו  $R$  היא:  $(x-a)^2 + (y-b)^2 = R^2$ .

**משוואת מעגל קנוני:**

משוואת מעגל קנוני (שמרכזו בראשית הצירים  $M(0, 0)$ ) ורדיוסו  $R$  היא:  $x^2 + y^2 = R^2$ .

**שאלות:**

**1) מצא את מרכזם ורדיוסם של המעגלים הבאים:**

א.  $(x-3)^2 + (y+5)^2 = 49$

ב.  $\left(x + \frac{1}{2}\right)^2 + y^2 = 10$

ג.  $(x-m)^2 + (y+n)^2 = m^2 + n^2$

**2) כתוב את משוואות המעגלים שמרכזם  $M$  ורדיוסם  $R$ :**

א.  $M(4, -2), R=3$

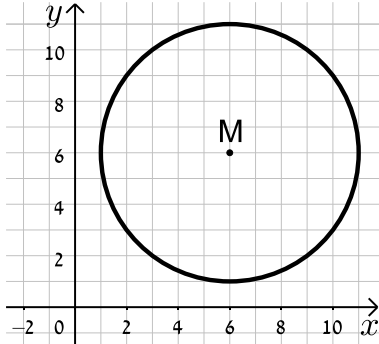
ב.  $M(-3, 5), R=10$

ג.  $M(5, 5), R=\sqrt{40}$

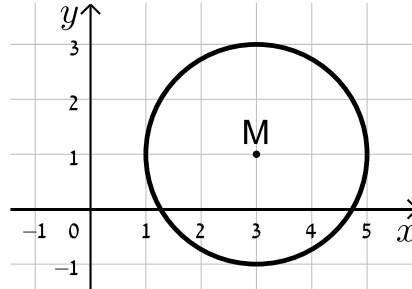
ד.  $M(10, -12), R=\sqrt{30}$

3) כתוב את משוואות המעגלים הבאים בכל מקרה:

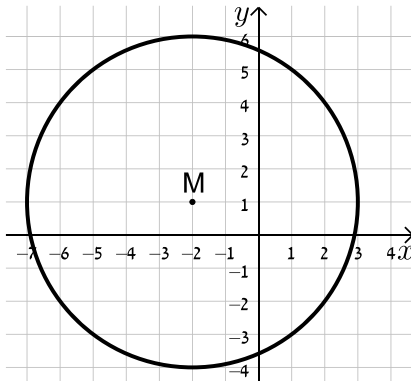
ב.



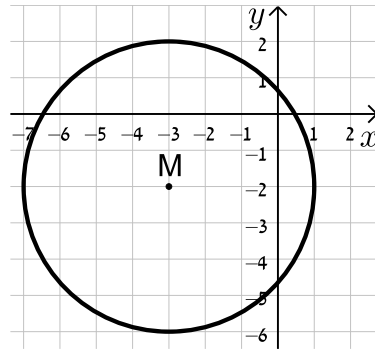
א.



ד.



ג.



4) מצא את משוואתו של מעגל שעובר בנקודה  $A(-4, 5)$  ומרכזו בנקודה  $O(2, -1)$ .

5) מצא את משוואת המעגל שמרכזו בנקודה  $M(-5, 6)$  והוא חותך את ציר ה- $x$  בנקודה שבה  $x = 9$ .

6) מצא את משוואת המעגל שמרכזו בנקודה  $M(0, -7)$  והוא חותך את ציר ה- $y$  בנקודה שבה  $y = 3$ .

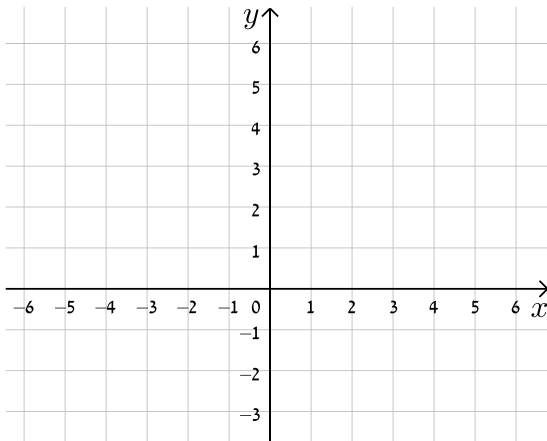
7) מצא את משוואתו של מעגל שעובר בנקודה  $A(11, 2)$ , רדיוסו 13 ומרכזו נמצא על הישר  $y = 2x - 1$ .

8) מצא את משוואתו של מעגל שהנקודות  $A(-2, 3)$  ו- $B(4, -3)$  הן קצות הקוטר שלו.

9 מצא את משוואתו של מעגל שמרכזו נמצא על הישר  $x=4$ , רדיוסו 10 והוא חותך מציר ה- $x$  מיתר שאורכו 12.

10 מצא את משוואתו של מעגל שמרכזו  $M(4,-3)$  אם ידוע כי הישר  $y = -3x + 7$  חותך אותו בשתי נקודות A ו-B כך שאורכו של המיתר AB הוא 4 יחידות אורך.

11 מצא את משוואתו של מעגל החוסם משולש שקודקודיו הם  $A(22,-24)$ ,  $B(-10,40)$ ,  $C(-30,28)$ .



12 נתונים שני מעגלים בעלי אותו המרכז  $M(3,-1)$ , האחד הוא בעל רדיוס  $R$  והשני בעל רדיוס של  $2R$ .  
 א. כתוב את המשוואות של שני המעגלים (בטא באמצעות  $R$ ).  
 ב. מה תהיינה המשוואות עבור  $R = 2$ ?  
 ג. צייר את שני המעגלים במערכת הצירים שלפניך.

13 שני מעגלים שמרכזיהם  $M_1(6,2)$  ו- $M_2(-3,-4)$  חותכים זה את זה בנקודה  $(-2,3)$ . מצא את משוואות המעגלים.

14 נתונה משוואת המעגל הבאה:  $x^2 + y^2 - 10x - 10y + a = 0$  כאשר  $a$  פרמטר.  
 א. מצא ביטוי של רדיוס המעגל באמצעות  $a$ .  
 ב. איזה מהערכים הבאים יכול להיות הגיוני עבור  $a$ ?  
 נמק ומצא את תחום ההגדרה של  $a$ .  
 i.  $a = 5$   
 ii.  $a = 55$

**תשובות סופיות:**

$$\text{ב. } M(-0.5, 0), R = \sqrt{10} \quad \text{א. } M(3, -5), R = 7 \quad \text{(1)}$$

$$\text{ג. } M(m, -n), R = \sqrt{m^2 + n^2}$$

$$\text{ב. } (x+3)^2 + (y-5)^2 = 100 \quad \text{א. } (x-4)^2 + (y+2)^2 = 9 \quad \text{(2)}$$

$$\text{ד. } (x-10)^2 + (y+12)^2 = 30 \quad \text{ג. } (x-5)^2 + (y-5)^2 = 40$$

$$\text{ב. } (x-6)^2 + (y-6)^2 = 25 \quad \text{א. } (x-3)^2 + (y-1)^2 = 4 \quad \text{(3)}$$

$$\text{ד. } (x+2)^2 + (y-1)^2 = 25 \quad \text{ג. } (x+3)^2 + (y+2)^2 = 16$$

$$\text{א. } M(3, -3), (x-2)^2 + (y+1)^2 = 72 \quad \text{(4)}$$

$$\text{ב. } (x+5)^2 + (y-6)^2 = 232 \quad \text{(5)}$$

$$\text{ג. } x^2 + (y+7)^2 = 100 \quad \text{(6)}$$

$$\text{א. } (x-7.8)^2 + (y+14.6)^2 = 169 \quad \text{או } (x+1)^2 + (y+3)^2 = 169 \quad \text{(7)}$$

$$\text{ב. } (x-1)^2 + y^2 = 18 \quad \text{(8)}$$

$$\text{א. } (x-4)^2 + (y+8)^2 = 100 \quad \text{או } (x-4)^2 + (y-8)^2 = 100 \quad \text{(9)}$$

$$\text{ב. } (x-4)^2 + (y+3)^2 = 4\frac{2}{5} \quad \text{(10)}$$

$$\text{ג. } (x+2)^2 + (y-4)^2 = 1360 \quad \text{(11)}$$

$$\text{א. } (x-3)^2 + (y+1)^2 = R^2, (x-3)^2 + (y+1)^2 = 4R^2 \quad \text{(12)}$$

$$\text{ב. } (x-3)^2 + (y+1)^2 = 4, (x-3)^2 + (y+1)^2 = 16$$

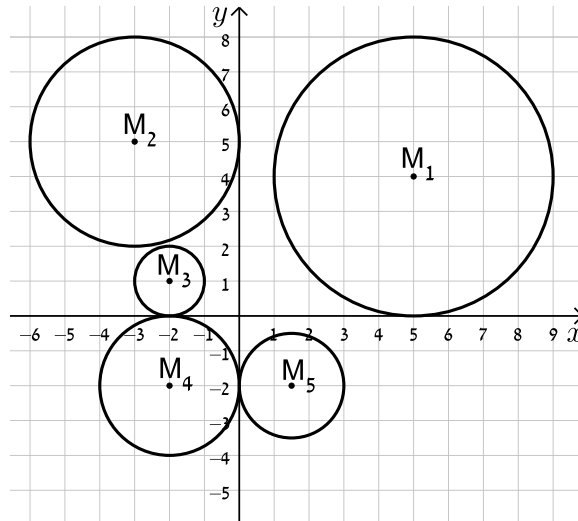
$$\text{א. } (x+3)^2 + (y+4)^2 = 50, (x-6)^2 + (y-2)^2 = 65 \quad \text{(13)}$$

$$\text{ב. } a = 5, \text{ ת.ה. } : a < 50 \quad \text{א. } R = \sqrt{50-a} \quad \text{(14)}$$

## מעגל המשיק לצירים:

שאלות:

15) כתוב את משוואות המעגלים הבאים:



16) מצא את משוואתו של מעגל המשיק לשני הצירים ורדיוסו 4.

17) מצא את משוואת המעגל שמשיק לציר ה- $x$  ומרכזו בנקודה  $M(16,8)$ .

18) מצא את משוואת המעגל שמרכזו נמצא על הישר  $2x + 3y + 6 = 0$  והוא משיק לשני הצירים.

19) מצא את משוואתו של מעגל המשיק לציר ה- $y$  ולישר  $y = 6$  ומרכזו על הישר  $y = 3x - 2$  ברביע הראשון.

**תשובות סופיות:**

$$M_1 : (x-5)^2 + (y-4)^2 = 16, M_2 : (x+3)^2 + (y-5)^2 = 9 \quad \mathbf{(15)}$$

$$, M_3 : (x+2)^2 + (y-1)^2 = 1, M_4 : (x+2)^2 + (y+2)^2 = 4$$

$$. M_5 : (x-1.5)^2 + (y+2)^2 = 2\frac{1}{4}$$

$$. (x \pm 4)^2 + (y \pm 4)^2 = 16 \quad \mathbf{(16)}$$

$$. (x-16)^2 + (y-8)^2 = 64 \quad \mathbf{(17)}$$

$$. \left(x+1\frac{1}{5}\right)^2 + \left(y+1\frac{1}{5}\right)^2 = \frac{36}{25}, (x-6)^2 + (y+6)^2 = 36 \quad \mathbf{(18)}$$

$$. (x-2)^2 + (y-4)^2 = 4 \quad \mathbf{(19)}$$

## משיק למעגל:

### סיכום כללי:

משוואת המשיק למעגל  $(x-a)^2 + (y-b)^2 = R^2$  בנקודה  $A(x_1, y_1)$  שעליו היא:  $(x-a)(x_1-a) + (y-b)(y_1-b) = R^2$ .

### שאלות:

**20** מצא את משוואות המשיקים למעגל  $(x+1)^2 + (y-2)^2 = 25$  בנקודות על המעגל שבהן  $y = 5$ .

**21** נתונה משוואת המעגל:  $(x-1)^2 + (y-3)^2 = 20$  ומשוואת הישר  $y = 2x + m$  כאשר  $m$  פרמטר. מצא עבור אלו ערכים של  $m$  הישר ישיק למעגל ולאילו ערכים הישר יחתוך את המעגל.

### תשובות סופיות:

**20**  $4x - 3y + 35 = 0$  ו-  $4x + 3y = 27$ .

**21** משיק:  $m = 11, -9$ , חותך:  $-9 < m < 11$ .

## שאלות יסודיות שונות:

### שאלות:

(22) נתון מעגל שמשוואתו  $(x-3)^2 + (y+4)^2 = 25$ .

- א. מצא את נקודות החיתוך של המעגל עם הצירים.  
 ב. העבירו קוטר במעגל, המאונך לציר ה- $x$ .  
 מצא את שטח המרובע הנוצר על ידי נקודות החיתוך שמצאת בסעיף א'  
 ונקודת החיתוך של הקוטר עם המעגל הנמצאת ברביע הראשון.

- (23) נתון ישר שמשוואתו  $y = 2x - 10$ . הישר חותך את ציר ה- $x$  בנקודה A ואת ציר ה- $y$  בנקודה B. בנקודה A מעבירים משיק למעגל שהקטע AB הוא קוטרו. המשיק חותך את ציר ה- $y$  בנקודה C. מצא את אורך הקטע BC.

- (24) נתון המעגל שמשוואתו  $x^2 + y^2 = 81$ . מסמנים ב-A את נקודת החיתוך החיובית של המעגל עם ציר ה- $x$ . הנקודה A היא מרכזו של מעגל נוסף בעל רדיוס של 12. מסמנים את נקודות החיתוך של שני המעגלים ב-B ו-C. מצא את שטח המשולש שנוצר בין הנקודות B, C ו-O (ראשית הצירים).

- (25) נתון ישר שמשוואתו  $y = x$ . הישר חותך מעגל קנוני שמשוואתו  $x^2 + y^2 = 32$  בשתי נקודות, A ו-B, כאשר A ברביע הראשון. בנקודה A עובר מעגל נוסף, המשיק למעגל הקנוני ובעל אותו רדיוס. מצא את משוואת המעגל הנוסף ואת משוואת המשיק המשותף לשני המעגלים העובר בנקודה A.

- (26) הישרים:  $9y + 11x = 94$  ו-  $y = -3x + 14$  נחתכים בנקודה B.

דרך נקודה זו עובר מעגל שמרכזו הוא:  $M(-9, 1)$ .

ידוע כי מעגל זה חותך את הישרים (חוץ מהנקודה B)

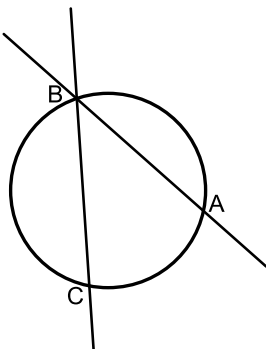
בשתי נקודות A ו-C (ראה איור).

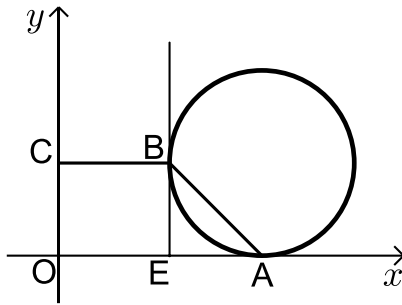
א. מצא את שיעורי הנקודה B.

ב. מצא את משוואת המעגל.

ג. מצא את שיעורי הנקודה A – נקודת החיתוך של הישר

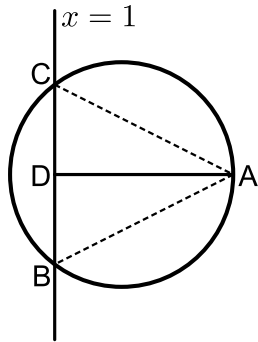
שמשוואתו:  $y = -3x + 14$  עם המעגל.





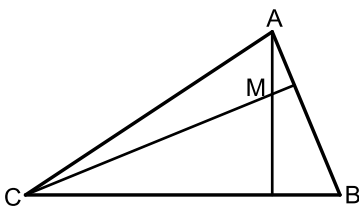
- (27)** נתון מעגל המשיק לציר ה- $x$  בנקודה  $A$ .  
 מהנקודה  $E$  שעל ציר ה- $x$  מעלים אנך המשיק למעגל בנקודה  $B$  (ראה איור).  
 הקטע  $BC$  מקביל לציר ה- $x$  ו- $O$  היא נקודת ראשית הצירים. יוצרים טרפז ישר זווית  $ABCO$  ששטחו הוא  $170$  סמ"ר.  
 ידוע כי:  $C(0,10)$  ו-  $AE = 10$  ס"מ.

- א. ענה על הסעיפים הבאים:  
 i. מצא את שיעורי הנקודה  $B$ .  
 ii. מצא את שיעורי הנקודה  $A$ .  
 ב. כתוב את משוואת המעגל.

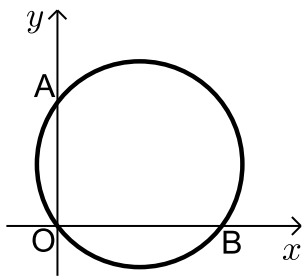


- (28)** הנקודה  $A(17,4)$  נמצאת על המעגל שמשוואתו:  $(x-7)^2 + (y-4)^2 = R^2$ .  
 הישר  $x=1$  חותך את המעגל בשתי נקודות  $B$  ו- $C$  כך ש- $B$  נמצאת ברביע הרביעי. מעבירים את הקטע  $AD$  המאונך לישר  $BC$  וידוע כי הנקודה  $D$  היא אמצע  $BC$ .

- א. מצא את רדיוס המעגל.  
 ב. מצא את שיעורי הנקודות  $B$  ו- $C$ .  
 ג. ענה על הסעיפים הבאים:  
 i. חשב את מרחק הנקודה  $A$  מהישר:  $x=1$   
 ii. חשב את שטח המשולש  $ABC$ .



- (29)** נתון משולש  $ABC$ . משוואות הצלעות  $AB$  ו- $BC$  במשולש  $ABC$  הן בהתאמה:  $2y - x = 56$  ו-  $8y + x = 104$ .  
 מעבירים גבהים לצלעות  $AB$  ו- $BC$  אשר נחתכים בנקודה  $M(0, -2)$  שבתוך המשולש.  
 א. מצא את משוואות הגבהים.  
 ב. מצא את שיעורי הנקודה  $B$ .  
 ג. מצא את משוואת המעגל שמרכזו בנקודה  $M$  ורדיוסו הוא הקטע  $BM$ .



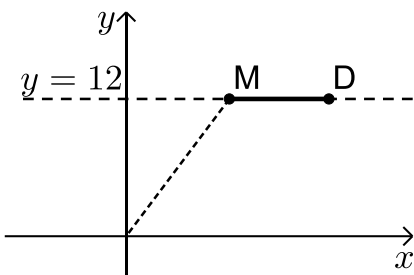
**30** באיור שלפניך מתואר המעגל:  $(x-4)^2 + (y-3)^2 = 25$ .

המעגל חותך את הצירים בנקודות A, B ו-O.

- א. מצא את נקודות החיתוך של המעגל עם הצירים.
- ב. מצא נקודה C הנמצאת על היקף המעגל ברביע הראשון כך שהמרובע ABCO יהיה מלבן.
- ג. חשב את היקף המלבן.

**31** המעגל:  $(x+a)^2 + (y-1)^2 = a+4$ ,  $a > 0$  חותך את ציר ה-x בנקודה שבה:  $x=1$ .

- א. מצא את a.
- ב. מצא את נקודות החיתוך של המעגל הנתון עם המעגל  $(x-1)^2 + (y-2)^2 = 10$ .
- ג. כתוב את משוואת הישר העובר דרך נקודות החיתוך של שני המעגלים.
- ד. חשב את שטח המשולש שיוצר הישר שמצאת בסעיף הקודם עם הצירים.



**32** הנקודות M ו-D נמצאות על הישר  $y=12$  ידוע כי שיעור

ה-x של הנקודה M הוא 9 וכי המרחק של הנקודה M מראשית הצירים גדול ב-6 מהמרחק בין הנקודות M ו-D (ראה איור).  
בוניס מעגל שמרכזו נמצא בנקודה M ורדיוסו הוא האורך DM.

א. ענה על הסעיפים הבאים:

- i. מצא את מרחק הנקודה M מראשית הצירים.
  - ii. מצא את שיעור ה-x של הנקודה D.
- ב. כתוב את משוואת המעגל.
- ג. האם המעגל הזה חותך את הצירים? הראה חישוב מתאים לטענתך.

**33** מעגל שמרכזו בנקודה M(15,12) משיק לציר ה-y

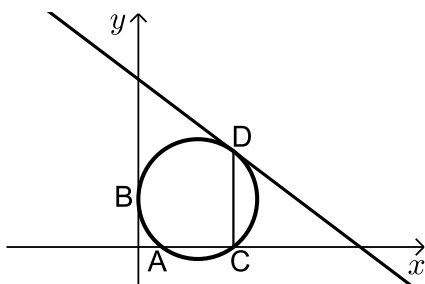
בנקודה B וחותך את ציר ה-x בשתי נקודות A ו-C כמתואר באיור.

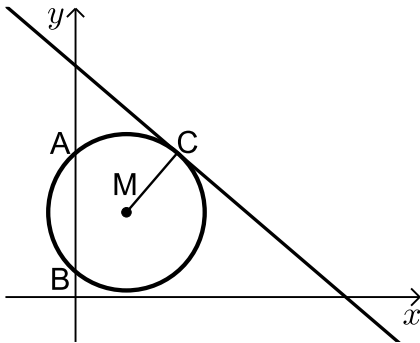
א. כתוב את משוואת המעגל.

מהנקודה C מעלים אנך לציר ה-x שחותך את המעגל בנקודה נוספת D.  
דרך הנקודה D עובר משיק למעגל.

ב. מצא את שיעורי הנקודות C ו-D.

ג. מצא את משוואת המשיק למעגל בנקודה D.





**34** באיור שלפניך נתון מעגל שמרכזו בנקודה M.

המעגל חותך את ציר ה- $y$  בנקודות A ו-B.

מעבירים משיק למעגל:  $6x + 7y = 191$

דרך הנקודה:  $C(12, 17)$ .

א. כתוב את משוואת הרדיוס MC.

ב. ידוע כי הנקודה M נמצאת על הישר  $y = 10$ .

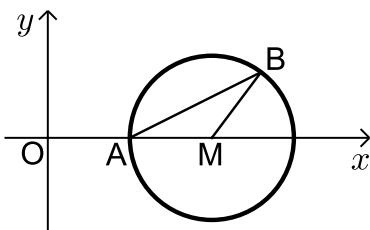
i. מצא את שיעורי הנקודה M.

ii. מצא את אורך רדיוס המעגל.

iii. כתוב את משוואת המעגל.

ג. מצא את נקודות החיתוך של המעגל עם ציר ה- $y$ .

ד. חשב את שטח המשולש AMB.



**35** באיור שלפניך נתון מעגל שמרכזו בנקודה M הנמצאת על

ציר ה- $x$ . המעגל חותך את ציר ה- $x$  בנקודה A.

מסמנים את ראשית הצירים ב-O.

ידוע כי A היא אמצע הקטע MO ושיעוריה הם:  $A(5, 0)$ .

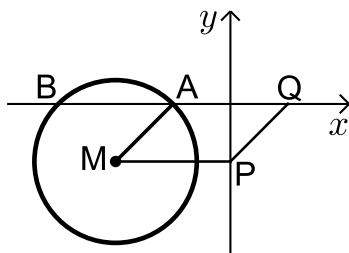
א. מצא את משוואת המעגל.

ב. כתוב את משוואת הישר שעובר דרך הנקודה A ושיפועו הוא 0.5.

ג. מצא את נקודת החיתוך הנוספת של הישר שמצאת עם המעגל.

ד. סמן את הנקודה שמצאת בסעיף הקודם ב-B וחשב

את שטח המשולש AMB.



**36** באיור שלפניך נתון מעגל שמשוואתו

$$(x+4)^2 + (y+2)^2 = 8$$

היא: מסמנים את נקודות החיתוך של המעגל עם ציר ה- $x$

ב-A ו-B (ראה איור).

א. מצא את שיעורי הנקודות A ו-B.

מעבירים אנך לציר ה- $y$  מנקודת מרכז המעגל M

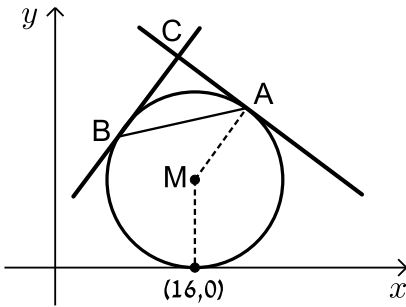
ומסמנים את חיתוכם ב-P.

ב. מצא נקודה Q כך שהמרובע AMPQ יהיה מקבילית. נמק.

ג. כתוב את משוואת הישר PQ.

ד. הוכח כי הישר שמצאת בסעיף הקודם משיק למעגל

בנקודה  $(-2, -4)$ .



**37** נתון מעגל שרדיוסו  $R$  ( $R < 16$ ) ומשיק לציר ה- $x$

בנקודה שבה:  $x = 16$ .

א. הבע באמצעות  $R$  את משוואת המעגל וציין האם הוא חותך את ציר ה- $y$  או לא. נמק.

מהנקודה  $A(22,18)$  שעל המעגל מעבירים משיק.

ב. מצא את  $R$  וכתוב את משוואת המעגל.

ג. כתוב את משוואת המשיק למעגל בנקודה  $A$ .

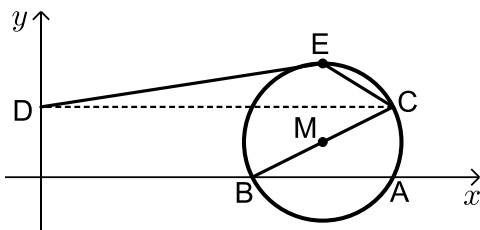
ד. מצא את משוואת המשיק למעגל בנקודה  $B$  שבה  $x_B < x_M$

אם ידוע כי הוא המאונך למשיק הקודם.

ה. המשיקים נחתכים בנקודה  $C$ .

i. מצא את שיעורי הנקודה  $C$ .

ii. מצא את שטח המשולש  $ABC$ .



**38** באיור שלפניך נתון מעגל

שמשוואתו:  $(x+a)^2 + (y-1)^2 = 5$ , פרמטר  $a$ .

ידוע כי המעגל חותך את ציר ה- $x$  בנקודה  $A(10,0)$ .

א. מצא את  $a$  אם ידוע כי  $a > -10$ .

ב. מצא את הנקודה  $B$  - נקודת החיתוך השנייה של המעגל עם ציר ה- $x$ .

ג. כתוב את משוואת הקוטר העובר דרך הנקודה  $B$  ומרכז המעגל  $M$ .

ד. מצא את נקודת החיתוך השנייה של הקוטר עם המעגל.

ה. מעבירים אנך מנקודת החיתוך שמצאת בסעיף הקודם לציר ה- $y$  בנקודה  $D$ .

הנקודה  $E$  היא הנקודה בעלת שיעור ה- $y$  הגדול ביותר על המעגל.

מחברים את הנקודות  $D$  ו- $E$  כך שנוצר המחומש  $DECBO$ . חשב את שטחו.

**39** באיור שלפניך נתון מעגל שמשוואתו:  $(x-5)^2 + (y-3)^2 = R^2$ , רדיוס המעגל.

ידוע כי המעגל עובר בראשית הצירים.

א. מצא את רדיוס המעגל

וכתוב את משוואת המעגל.

ב. מצא את הנקודות  $A$  ו- $B$  - החיתוך של

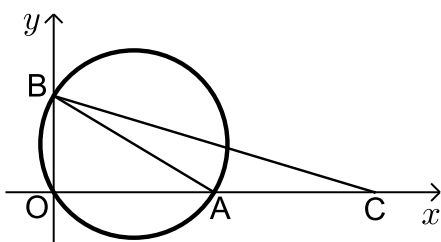
המעגל עם הצירים (ראה איור).

ג. מסמנים נקודה  $C$  על ציר ה- $x$

כך ש- $A$  היא אמצע הקטע  $CO$ .

i. מצא את שיעורי הנקודה  $C$ .

ii. חשב את שטח המשולש  $ABC$ .



## תשובות סופיות:

(22) א.  $(0, -8)$ ,  $(6, 0)$ ,  $(0, 0)$  ב. 27 יח"ש.

(23) 12.5 יחידות אורך.

(24)  $S_{ABOC} = \sqrt{80}$  יח"ש

(25)  $y = -x + 8$ ,  $(x - 8)^2 + (y - 8)^2 = 32$

(26) א.  $(2, 8)$  ב.  $(x + 9)^2 + (y - 1)^2 = 170$  ג.  $(4, 2)$

(27) א. i.  $B(12, 10)$  ii.  $A(22, 0)$  ב.  $(x - 22)^2 + (y - 10)^2 = 100$

(28) א.  $R = 10$  ב.  $B(1, -4)$ ,  $C(1, 12)$  ג. i.  $d = 16$

ii.  $S = 128$

(29) א.  $y = 8x - 2$ ,  $y = -2x - 2$  ב.  $(-24, 16)$  ג.  $x^2 + (y + 2)^2 = 900$

(30) א.  $O(0, 0)$ ,  $A(0, 6)$ ,  $B(8, 0)$  ב.  $C(8, 6)$  ג. 28 יח"ש  $P =$

(31) א.  $a = 1$  ב.  $(0, -1)$ ,  $(-2, 3)$  ג.  $y = -2x - 1$

ד.  $S = \frac{1}{4}$

(32) א. i.  $d = 15$  ii.  $x = 18$  ב.  $(x - 9)^2 + (y - 12)^2 = 81$

ג. המעגל אינו חותך את ציר ה- $x$  - כאשר מציבים ב- $y$  אפס מתקבלת משוואה ריבועיתללא פתרון. המעגל חותך את ציר ה- $x$  בנקודה אחת- $(12, 0)$ .

(33) א.  $(x - 15)^2 + (y - 12)^2 = 225$  ב.  $C(24, 0)$ ,  $D(24, 24)$  ג.  $y = -\frac{3}{4}x + 42$

(34) א.  $y = \frac{7}{6}x + 3$  ב. i.  $M(6, 10)$  ii.  $\sqrt{85}$

iii.  $(x - 6)^2 + (y - 10)^2 = 85$  ג.  $A(0, 17)$ ,  $B(0, 3)$  ד. 42 יח"ש

(35) א.  $(x - 10)^2 + y^2 = 25$  ב.  $y = 0.5x - 2.5$  ג.  $B(13, 4)$

ד. 10 יח"ש  $S_{AMB} =$

(36) א.  $A(-2,0)$ ,  $B(-6,0)$  ב.  $Q(2,0)$  ג.  $y = x - 2$ .

(37) א.  $(x-16)^2 + (y-R)^2 = R^2$ , המעגל אינו חותך את ציר ה- $y$ .

ב.  $(x-16)^2 + (y-10)^2 = 100$ ,  $R = 10$  ג.  $y = -\frac{3}{4}x + 34\frac{1}{2}$ .

ד.  $y = \frac{4}{3}x + 5\frac{1}{3}$  ה. i.  $C(14,24)$  ii. 50 יח"ש.

(38) א.  $a = -8$  ב.  $B(6,0)$  ג.  $y = 0.5x - 3$ .

ד.  $(10,2)$  ה.  $S_{\text{DECB}} = 11 + 5\sqrt{5}$  יח"ש.

(39) א.  $\sqrt{34}$  יחידות אורך  $R =$ ,  $(x-5)^2 + (y-3)^2 = 34$  ב.  $A(10,0)$ ,  $B(0,6)$ .

ג. i.  $C(20,0)$  ii. 30 יח"ש  $S_{\text{ABC}} =$ .

## כתיבת משוואת מעגל עם השלמה לריבוע:

### שאלות:

1 מצא את מרכזם ורדיוסם של המעגלים הבאים:

א.  $x^2 + 10x + y^2 + 6y - 2 = 0$       ב.  $x^2 - 2x + y^2 + 20y + 1 = 0$

ג.  $x^2 - 8x + y^2 - 14y = 0$       ד.  $x^2 + y^2 + 2y = 0$

ה.  $x^2 + x + y^2 - 3\frac{3}{4} = 0$       ו.  $x^2 - 2mx + y^2 + 6my + m^2 = 0$

2 משוואתו של מעגל היא  $x^2 + y^2 - 6mx - 2(m+2)y + 4m + 4 = 0$

מצא את ערכו של  $m$  אם ידוע שמרכז המעגל נמצא על הישר  $y = 2x + 7$ .

3 משוואתו של מעגל היא  $x^2 + y^2 - 8x + 12y - 48 = 0$ .

מצא את אורכו של המיתר שחותך הישר  $y = 2x - 4$  מהמעגל בלי למצוא את נקודות הקצה של המיתר.

### תשובות סופיות:

1 א.  $M(-5, -3), R = 6$       ב.  $M(1, -10), R = 10$

ג.  $M(4, 7), R = \sqrt{65}$       ד.  $M(0, -1), R = 1$

ה.  $M\left(-\frac{1}{2}, 0\right), R = 2$       ו.  $M(m, -3m), R = 3m$

2  $m = -1$

3  $2\sqrt{80}$

## משוואות המשיקים למעגל:

### שאלות:

- (4) מצא משוואת מעגל העובר בנקודה  $(1, 8)$  המשיק לשני הצירים.
- (5) מצא את אורך המשיק למעגל שמשוואתו  $x^2 + y^2 - 4x + 14y + 37 = 0$  היוצא מהנקודה  $A(10, -3)$ .
- (6) מצא את משוואת המשיק ואת משוואת הנורמל למעגל שמשוואתו  $x^2 + y^2 - 4x + 6y + 3 = 0$  בנקודה  $A(5, -4)$ .
- (7) מצא את נקודת החיתוך של המשיקים למעגל שמשוואתו  $x^2 + (y-1)^2 = 5$  בנקודות שבהן  $x = -1$ .
- (8) נתון מעגל שמרכזו בנקודה  $(-2, 6)$  והוא עובר בראשית הצירים. המעגל חותך את הצירים בשתי נקודות נוספות, A ו-B.  
 א. הוכח כי המשיקים למעגל בנקודות A ו-B מקבילים זה לזה.  
 ב. הוכח את סעיף א' בלי למצוא את משוואות המשיקים או את שיפועיהם.
- (9) נתון המעגל  $(x-1)^2 + (y-3)^2 = 20$  והישר  $y = 2x + m$ .  
 לאלו ערכים של הפרמטר  $m$  הישר משיק למעגל ולאלו ערכים של  $m$  הישר חותך את המעגל?

**תשובות סופיות:**

$$(4) \quad (x-13)^2 + (y-13)^2 = 169 \text{ או } (x-5)^2 + (y-5)^2 = 25$$

$$(5) \quad .8$$

$$(6) \quad \text{משיק: } y = 3x - 19, \text{ נורמל: } x + 3y + 7 = 0$$

$$(7) \quad .(-5,1)$$

$$(8) \quad \text{שאלת הוכחה.}$$

$$(9) \quad \text{משיק: } m = -9, 11, \text{ חותך: } -9 < m < 11$$

## מיתר המחבר שתי נקודות השקה:

### סיכום כללי:

משוואת המיתר, המחבר את שתי נקודות ההשקה של שני המשיקים

למעגל  $(x-a)^2 = (y-b)^2 = R^2$  היוצאים מהנקודה  $A(x_1, y_1)$  שמחוץ

למעגל היא:  $(x-a)(x_1-a) + (y-b)(y_1-b) = R^2$ .

### שאלות:

10) ענה על הסעיפים הבאים:

א. מצא את משוואת המיתר במעגל שמשוואתו  $x^2 + y^2 + 2x - 19 = 0$ ,

המחבר את נקודות ההשקה של המשיקים היוצאים מהנקודה  $A(-3, 8)$

ב. מצא את משוואת המיתר במעגל שמשוואתו  $x^2 + (y-1)^2 = 5$ , המחבר

את נקודות ההשקה של המשיקים היוצאים מהנקודה  $A(-5, 1)$ .

11) נתון מעגל שמשוואתו  $x^2 + y^2 + 16x + 48 = 0$  ונקודה P, שנמצאת על החלק

החיובי של ציר ה-y. הישר המחבר את נקודות ההשקה של המשיקים

היוצאים למעגל מנקודה P חותך את ציר ה-y בנקודה Q. נתון:  $PQ = 14$ .

מצא את שיעורי הנקודה Q.

### תשובות סופיות:

10) א.  $x - 4y + 11 = 0$ . ב.  $x = -1$ .

11)  $Q(0, -8)$  או  $Q(0, -6)$ .

## שאלות מסכמות שונות:

### שאלות:

**12** נתון מעגל שמשוואתו  $x^2 + y^2 + 16x - 12y + 64 = 0$ . המעגל משיק מבחוץ למעגל קנוני. מצא את משוואת המעגל הקנוני, את נקודת ההשקה בין המעגלים ואת משוואת המשיק המשותף העובר בנקודה זו.

**13** המעגלים  $x^2 + y^2 + 22x - 6y = m$  ו-  $x^2 + y^2 = 26$  נחתכים בזווית ישרה. מצא את ערכו של  $m$ .

**14** בטרפז שווה שוקיים ABCD נתון כי הבסיס הגדול, DC, מונח על הישר:  $3x - y - 9 = 0$  והשוק AD מונחת על הישר  $x + y - 3 = 0$ . שיעורי הקודקוד B הם  $(3, -8)$ . מצא את משוואת המעגל החוסם את הטרפז ABCD.

**15** מצא את משוואתו של מעגל החוסם ריבוע, שאחד מקדקודיו נמצא בראשית הצירים ומשוואת אחד מאלכסוניו היא  $3x - y + 10 = 0$ .

### תשובות סופיות:

**12**  $x^2 + y^2 = 16$ ,  $A(-3.2, 2.4)$ ,  $4x - 3y + 20 = 0$

**13**  $m = -26$

**14**  $(x-1)^2 + (y+4)^2 = 20$

**15**  $(x+3)^2 + (y-1)^2 = 10$

# גאומטריה אנליטית

פרק 3 - גיאומטריה אנליטית - האליפסה והפרבולה

תוכן העניינים

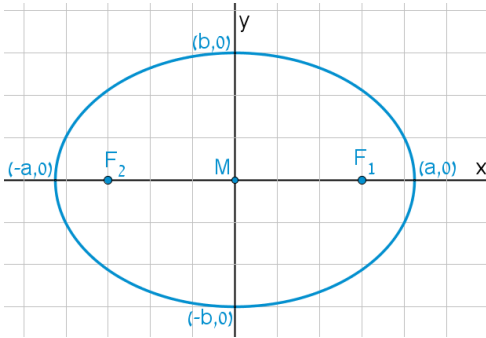
45	.....	1. האליפסה
49	.....	2. הפרבולה

## האליפסה:

### סיכום כללי:

#### הגדרה:

המקום הגאומטרי של כל הנקודות, שסכום מרחקיהן משתי נקודות קבועות במישור קבוע, נקרא אליפסה. הנקודות הקבועות נקראות מוקדי האליפסה.



#### מושגים באליפסה:

- הציר הגדול: הקטע שהאליפסה חותכת מציר ה- $x$ .
- הציר הקטן: הקטע שהאליפסה חותכת מציר ה- $y$ .
- מרכז האליפסה: מפגש צירי האליפסה (ראה איור).  
באליפסה קנונית מרכז האליפסה נמצא בראשית הצירים.
- מוקדי האליפסה: שתי נקודות קבועות שבעבורן סכום המרחקים מכל נקודה על האליפסה הוא גודל קבוע השווה ל- $2a$ . המוקדים יסומנו ב- $F_1$  ו- $F_2$  ושיעוריהם הם:  $F_1(c,0)$ ,  $F_2(-c,0)$ .
- רדיוסי ווקטור: המרחקים של כל נקודה על האליפסה משני המוקדים.  
אורך הרדיוס מנקודה  $(x, y)$  שעל האליפסה למוקד הימני הוא:  $r_1 = a - \frac{cx}{a}$ .  
אורך הרדיוס מנקודה  $(x, y)$  שעל האליפסה למוקד השמאלי הוא:  $r_2 = a + \frac{cx}{a}$ .
- מיתר: קטע המחבר שתי נקודות שעל האליפסה.
- קוטר: מיתר העובר דרך מרכז האליפסה.

#### משוואות וקשרים:

- משוואת אליפסה קנונית היא:  $\frac{x^2}{a^2} + \frac{y^2}{b^2} = 1$  או  $b^2x^2 + a^2y^2 = a^2b^2$ .
- הקשר בין הפרמטרים של האליפסה הוא:  $a^2 - b^2 = c^2$ .
- מכפלת שיפועי מיתר באליפסה והקוטר החוצה אותו היא קבועה ושווה ל- $-\frac{b^2}{a^2}$ .

## שאלות:

- (1) מצא את אורך צירי אליפסה שמשוואתה  $x^2 + 4y^2 = 36$ .
- (2) מצא את משוואתה של אליפסה שאורך צירה הגדול הוא 18 ואורך צירה הקטן הוא  $2\sqrt{3}$ .
- (3) מצא את משוואתה של אליפסה שאורך צירה הגדול הוא 12 והמרחק בין מוקדיה  $8\sqrt{2}$ .
- (4) מצא את משוואתה של אליפסה שאורך צירה הקטן הוא 8 והיא עוברת בנקודה  $(-3\sqrt{3}, 2)$ .
- (5) מצא את משוואתה של אליפסה שחסומה במעגל שמשוואתו  $x^2 + y^2 = 16$  ומוקד אחד שלה הוא בנקודה  $(\sqrt{10}, 0)$ .
- (6) מצא את משוואתה של אליפסה שחותכת את ציר ה- $y$  בנקודה  $(0, -2\sqrt{5})$  והמרחק בין המוקד הימני לקדקוד הימני בה הוא 2.
- (7) מצא את משוואתה של אליפסה שעוברת בנקודות  $(-2, \sqrt{6})$  ו- $(\sqrt{14}, 1)$ .
- (8) מצא על האליפסה  $3x^2 + 4y^2 = 144$  את הנקודות שהפרש מרחקיהן מהמוקדים הוא 4.
- (9) מצא את משוואתה של אליפסה שעוברת בנקודה  $(-3, 1)$  ומכפלת המרחקים מנקודה זו למוקדים הוא 6.
- (10) מצא על האליפסה  $x^2 + 3y^2 = 12$  את הנקודות שמהן רואים את הקטע שבין שני המוקדים בזווית ישרה.

- (11)** מצא את משוואתו של קוטר באליפסה  $x^2 + 4y^2 = 50$  ששיפועו חיובי ואורכו  $\sqrt{56}$ .
- (12)** נתונים האליפסה  $\frac{x^2}{30} + \frac{y^2}{24} = 1$  והישר  $y = 2x + k$ . מצא לאלו ערכים של הפרמטר  $k$  הישר משיק לאליפסה ולאלו ערכים של הפרמטר  $k$  הישר חותך את האליפסה.
- (13)** מצא את שטחו של ריבוע החסום באליפסה  $3x^2 + 5y^2 = 120$  כך שצלעותיו מקבילות לצירים.
- (14)** מצא את שטחו של ריבוע החסום באליפסה  $b^2x^2 + a^2y^2 = a^2b^2$  כך שצלעותיו מקבילות לצירים.
- (15)** באליפסה  $5x^2 + 9y^2 = 90$  חסום מלבן שצלעותיו מקבילות לצירים. מצא את שטח המלבן אם שתיים מצלעותיו עוברות במוקדי האליפסה.
- (16)** באליפסה  $x^2 + 5y^2 = 16$  חסום משולש שווה צלעות כך שקדקוד אחד שלו הוא הקדקוד הימני של האליפסה. מצא את שיעורי קדקודיו האחרים.
- (17)** באליפסה חסום משולש שווה צלעות כך שקדקוד אחד שלו הוא הקדקוד הימני של האליפסה וקדקודיו האחרים הם נקודות החיתוך של האליפסה עם ציר ה- $y$ . מצא את משוואת האליפסה אם אחד ממוקדיה נמצא בנקודה  $(4\sqrt{2}, 0)$ .
- (18)** מצא באליפסה  $2x^2 + 3y^2 = 12$  משוואת מיתר שנקודת האמצע שלו היא  $(1.5, 1)$ .
- (19)** ישר שמשוואתו  $x - y - 3 = 0$  חותך מאליפסה מיתר שאמצעו בנקודה  $(2, -1)$ . מצא את משוואת האליפסה אם ידוע שהיא עוברת בנקודה  $(2\sqrt{2}, -2)$ .

$$(20) \text{ נתונה המשוואה } \frac{x^2}{a^2} - \frac{y^2}{a^2 - 25} = 1, (0 < a \neq 5).$$

א. ענה על הסעיפים הבאים:

i. לאיזה ערך של  $a$  המשוואה מייצגת מעגל?

ii. לאלו ערכים של  $a$  המשוואה מייצגת אליפסה?

ב. הוכח כי בעבור  $a = 4$  אין אף נקודה על האליפסה שממנה רואים את הקטע שבין המוקדים בזווית ישרה.

### תשובות סופיות:

$$(1) \quad 2a = 12, 2b = 6$$

$$(2) \quad \frac{x^2}{81} + \frac{y^2}{3} = 1$$

$$(3) \quad \frac{x^2}{36} + \frac{y^2}{4} = 1$$

$$(4) \quad \frac{x^2}{36} + \frac{y^2}{16} = 1$$

$$(5) \quad \frac{x^2}{16} + \frac{y^2}{6} = 1$$

$$(6) \quad \frac{x^2}{36} + \frac{y^2}{20} = 1$$

$$(7) \quad \frac{x^2}{16} + \frac{y^2}{8} = 1$$

$$(8) \quad (4, \sqrt{24}), (4, -\sqrt{24}), (-4, \sqrt{24}), (-4, -\sqrt{24})$$

$$(9) \quad \frac{x^2}{12} + \frac{y^2}{4} = 1$$

$$(10) \quad (\sqrt{6}, \sqrt{2}), (-\sqrt{6}, \sqrt{2}), (\sqrt{6}, -\sqrt{2}), (-\sqrt{6}, -\sqrt{2})$$

$$(11) \quad y = \sqrt{6}x$$

$$(12) \text{ משיק: } k = \pm 12, \text{ חותך: } -12 < k < 12.$$

$$(13) \quad S = 60 \text{ יח"ש}$$

$$(14) \quad S = \frac{4a^2b^2}{a^2 + b^2}$$

$$(15) \quad S = 26 \frac{2}{3} \text{ יח"ש}$$

$$(16) \quad (1, \sqrt{3}), (1, -\sqrt{3})$$

$$(17) \quad \frac{x^2}{48} + \frac{y^2}{16} = 1$$

$$(18) \quad y = -x + 2.5$$

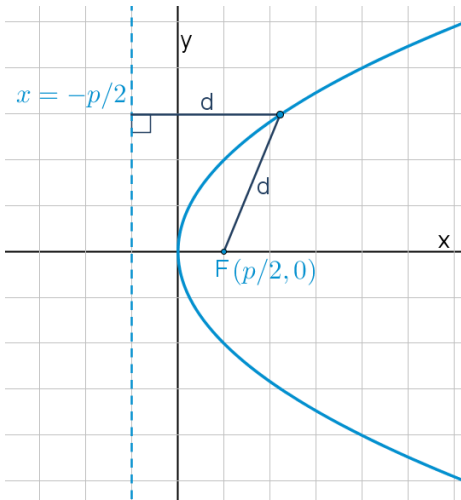
$$(19) \quad \frac{x^2}{16} + \frac{y^2}{8} = 1$$

$$(20) \text{ א. } a = \sqrt{12.5} \text{ .ii } a \neq \sqrt{12.5}$$

## הפרבולה:

### סיכום כללי:

#### הגדרה:



המקום הגאומטרי של כל הנקודות, שמרחקן מנקודה קבועה שווה למרחקן מישר קבוע נקרא פרבולה. הנקודה הקבועה נקראת מוקד הפרבולה והישר הקבוע נקרא מדריך הפרבולה.

#### מושגים בפרבולה:

- מוקד: נקודה קבועה שמרחק כל נקודה על הפרבולה ממנה שווה למרחק הנקודה מהמדריך.
- מדריך: ישר קבוע שמרחק כל נקודה על הפרבולה אליו שווה למרחק הנקודה מהמוקד.
- קדקוד הפרבולה: ראשית הצירים.
- רדיוס: מרחק בין המוקד לנקודה שעל הפרבולה:  $r = x + \frac{p}{2}$ .
- מיתר: קטע המחבר בין שתי נקודות על הפרבולה.
- קוטר (לא בחומר): ישר המקביל לציר הסימטריה של הפרבולה (ציר ה- $x$  אצלנו).

#### משוואת הפרבולה:

משוואת הפרבולה הקנונית היא:  $y^2 = 2px$  כאשר  $p$  הוא פרמטר הפרבולה.

### משיק לפרבולה:

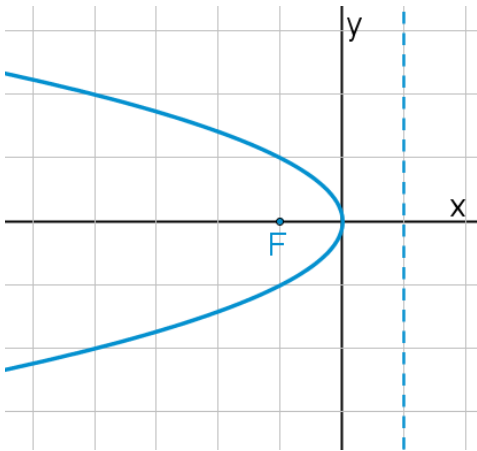
- משוואת המשיק לפרבולה  $y^2 = 2px$  בנקודה  $A(x_0, y_0)$  שעליה היא:  $yy_0 = p(x + x_0)$ .
- שיפוע המשיק לפרבולה  $y^2 = 2px$  בנקודה  $A(x_0, y_0)$  שעליה הוא:  $m = \frac{p}{y_0}$ .

### מיתר המחבר שתי נקודות השקה:

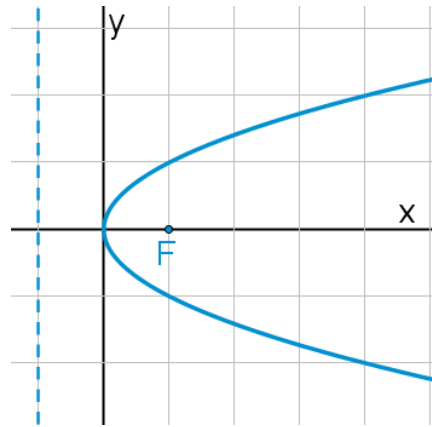
- משוואת המיתר, המחבר את שתי נקודות ההשקה של שני המשיקים לפרבולה  $y^2 = 2px$  היוצאים מהנקודה  $A(x_0, y_0)$  שמחוץ לפרבולה היא:  $yy_0 = p(x + x_0)$ .

### תיאורים גרפיים:

פרבולה שמשוואתה  $y^2 = -2px$ :



פרבולה שמשוואתה  $y^2 = 2px$ :



### שאלות:

- (1) נתונה הפרבולה  $y^2 = 18x$ . מצא מהו הפרמטר, המוקד והמדריך שלה.
- (2) מצא את משוואתה של פרבולה שהישר  $x = -3$  הוא המדריך שלה.
- (3) מצא את משוואתה של פרבולה שהמרחק בין המוקד שלה למדריך שלה הוא 5.

- (4) מצא את משוואתה של פרבולה שעוברת בנקודה  $(-6, 9)$ .
- (5) מצא את משוואתה של פרבולה שמוקדה מתלכד עם המוקד הימני של האליפסה  $x^2 + 2y^2 = 18$ .
- (6) מצא נקודות על הפרבולה  $y^2 = 6x$  שמרחקן מהמוקד הוא 4.
- (7) מצא נקודות על הפרבולה  $y^2 = 8x$  שמרחקן מהמוקד שווה למרחקן מהקדקוד.
- (8) מצא נקודות על הפרבולה  $y^2 = 2px$  שמרחקן מהמוקד שווה למרחקן מהקדקוד.
- (9) מצא את שטחו של משולש שווה צלעות שקדקוד אחד שלו נמצא בראשית הצירים ושני קדקודיו האחרים מונחים על הפרבולה  $y^2 = 10x$ .
- (10) הבע באמצעות  $p$  את שטחו של משולש שווה צלעות שקדקוד אחד שלו נמצא בראשית הצירים ושני קדקודיו האחרים מונחים על הפרבולה  $y^2 = 2px$ .
- (11) נתונה הפרבולה  $y^2 = 2px$ . הבע באמצעות  $p$  את שטחו של משולש שווה צלעות שקדקוד אחד שלו מונח על ציר ה- $x$ , וקדקודיו האחרים מונחים על מדריך הפרבולה אם ידוע שמפגש תיכוני המשולש הוא מוקד הפרבולה.
- (12) את נקודה A שעל הפרבולה  $y^2 = 20x$  חיברו עם המוקד F וגם העבירו ממנה אנך למדריך. היקף הטרפז, שבסיסיו הם האנך והקטע על ציר ה- $x$  שבין מוקד הפרבולה למדריך שלה, שוק אחת שלו היא AF והשוק השנייה שלו מונחת על המדריך, הוא 27.5. חשב את שטח הטרפז.
- (13) קצות מיתר בפרבולה  $y^2 = 4x$  הם A ו-B. מצא את שיעורי הנקודה B אם ידוע שהמיתר עובר במוקד הפרבולה ושערך ה- $x$  של נקודה A הוא 4.
- (14) מצא משוואת מיתר בפרבולה  $y^2 = 16x$ , שעובר בראשית הצירים ומרחקו מהמוקד הוא  $\frac{8}{\sqrt{5}}$ .

**(15)** מצא משוואת מיתר בפרבולה  $y^2 = 2x$ , שאמצעו בנקודה  $\left(1\frac{1}{4}, \frac{1}{2}\right)$ .

**(16)** נתונה הפרבולה  $y^2 = 4x$  והישר  $y = 2x + k$ , לאיזה ערך של  $k$  הישר משיק לפרבולה?

**(17)** נתונה הפרבולה  $y^2 = 6x$ .

- א. מצא את משוואות המשיקים לפרבולה בנקודות שבהן  $x = 1.5$ .  
 ב. הוכח שנקודת החיתוך של הנורמלים בנקודות אלה נמצאת על ציר ה- $x$ .

**(18)** הנקודות A ו-B נמצאות על הפרבולה  $y^2 = 12x$ . נתון כי  $y_A = 4$ . מצא את שיעורי נקודה B אם ידוע שהמשיקים לפרבולה בנקודות הנתונות יוצרים זווית ישרה.

**(19)** נקודה A נמצאת על הפרבולה  $y^2 = 28x$  ברביע הרביעי. אורך הנורמל לפרבולה מנקודה A עד לציר ה- $x$  הוא  $7\sqrt{5}$ . מצא את משוואת הנורמל.

**(20)** מרחק המוקד של הפרבולה  $y^2 = 8x$  ממשיק לה ששיפועו חיובי הוא  $\sqrt{8}$ . מצא את משוואת המשיק.

**(21)** נתונה הפרבולה  $y^2 = 2px$ . הבע באמצעות  $p$  את שיעורי הנקודה שעל הפרבולה ברביע הראשון, שמרחק המשיק בה ממוקד הפרבולה הוא  $p$ .

**(22)** נתונות שתי פרבולות: I.  $y^2 = 6x$ , II.  $y^2 = 12x$ . ישר שעובר בראשית הצירים חותך את הפרבולות בנקודות A ו-B. הראה כי המשיקים בנקודות A ו-B מקבילים.

**(23)** נתונה הפרבולה  $y^2 = 14x$  והנקודה  $(-1, -3)$ , ממנה יוצאים שני משיקים לפרבולה. מצא את משוואת המיתר המחבר בין נקודות ההשקה.

- (24)** נתונה הפרבולה  $y^2 = 18x$  ונקודה ברביע השלישי, ששיעור ה- $x$  שלה קטן ב-1 משיעור ה- $y$  שלה. מהנקודה יוצאים שני משיקים לפרבולה. המיתר המחבר בין נקודות ההשקה יוצר עם הצירים משולש ששטחו 18. מצא את משוואת המיתר.
- (25)** מצא את משוואתו של מעגל שמרכזו במוקד הפרבולה  $y^2 = 24x$  והוא משיק למדרוך שלה.
- (26)** מצא את משוואתו של מעגל שמרכזו בנקודה  $(8,0)$  והוא משיק לפרבולה  $y^2 = 10x$  בשתי נקודות.
- (27)** נתונה הפרבולה  $y^2 = 2px$  ומעגל שמרכזו על ציר ה- $x$  והוא משיק לפרבולה מבפנים בשתי נקודות. הישר המחבר בין נקודות ההשקה יוצר עם המשיקים בנקודות אלה משולש שווה צלעות. הבע באמצעות  $p$  את משוואת המעגל.
- (28)** הנקודה  $A(2,3)$  נמצאת על פרבולה. מצא את משוואתו של מעגל שמשיק לפרבולה בנקודה  $A$  ומשיק לציר ה- $y$ .
- (29)** נתונה הפרבולה  $y^2 = 2px$  שבה  $p > 4$ . הישר  $x = 2$  חותך את הפרבולה בנקודות  $A$  ו- $B$ . הבע באמצעות  $p$  את שיעורי קדקוד  $C$  של משולש  $\triangle ABC$  שמוקד הפרבולה הוא מפגש האנכים האמצעיים בו, אם ידוע שקדקוד  $C$  נמצא על ציר ה- $x$ .
- (30)** אליפסה שמשוואתה  $x^2 + 4y^2 = 16$  חותכת את הפרבולה  $y^2 = 2px$  בשתי נקודות. המרובע שקדקודיו הם נקודות החיתוך, מרכז האליפסה וקדקודה הימני של האליפסה הוא מעויך. מצא את משוואת הפרבולה.

## תשובות סופיות:

- (1)  $p = 9, F\left(4\frac{1}{2}, 0\right)$
- (2)  $y^2 = 12x$
- (3)  $y^2 = 10x$
- (4)  $y^2 = 4x$
- (5)  $y^2 = 12x$
- (6)  $\left(2\frac{1}{2}, \sqrt{15}\right), \left(2\frac{1}{2}, -\sqrt{15}\right)$
- (7)  $(1, \sqrt{8}), (1, -\sqrt{8})$
- (8)  $\left(\frac{p}{4}, \frac{p}{\sqrt{2}}\right), \left(\frac{p}{4}, -\frac{p}{\sqrt{2}}\right)$
- (9)  $S_{OAB} = 300\sqrt{3}$  יח"ש
- (10)  $S_{ABO} = 12\sqrt{3}p^2$  יח"ש
- (11)  $S_{ABC} = 3\sqrt{3}p^2$  יח"ש
- (12)  $S_{ABCF} = 40\frac{5}{8}$  יח"ש
- (13)  $B\left(\frac{1}{4}, 1\right)$  או  $B\left(\frac{1}{4}, -1\right)$
- (14)  $y = -2x$  או  $y = 2x$
- (15)  $y = 2x - 2$
- (16)  $k = \frac{1}{2}$
- (17)  $y = x + 1\frac{1}{2}, y = -x - 1\frac{1}{2}$  .א
- (18)  $B\left(6\frac{3}{4}, -9\right)$
- (19)  $y = \frac{1}{2}x - 7\frac{7}{8}$
- (20)  $y = x + 2$
- (21)  $A\left(\frac{3}{2}p, \sqrt{3}p\right)$
- (22) הוכחה.
- (23)  $7x + 3y - 7 = 0$
- (24)  $y = -9x + 18$
- (25)  $(x - 6)^2 + y^2 = 144$
- (26)  $(x - 8)^2 + y^2 = 55$
- (27)  $\left(x - 2\frac{1}{2}p\right)^2 + y^2 = 4p^2$
- (28)  $\left(x - 1\frac{1}{4}\right)^2 + (y - 4)^2 = \frac{25}{16}$
- (29)  $C(p + 2, 0)$
- (30)  $y^2 = 1\frac{1}{2}x$

# גאומטריה אנליטית

## פרק 4 - גיאומטריה אנליטית - ההיפרבולה

### תוכן העניינים

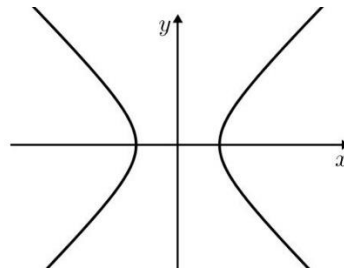
55	1. הגדרות יסודיות
56	2. הקשר בין הפרמטרים של היפרבולה
57	3. רדיוסים של היפרבולה
58	4. מיתר וקוטר החוצה אותו בהיפרבולה
59	5. אסימפטוטות של היפרבולה

## הגדרות יסודיות:

### סיכום כללי:

#### הגדרה:

המקום הגיאומטרי של כל הנקודות, שהפרש מרחקיהן משתי נקודות קבועות במישור קבוע, נקרא היפרבולה. הנקודות הקבועות נקראות מוקדי ההיפרבולה.



- משוואת היפרבולה קנונית:  $\frac{x^2}{a^2} - \frac{y^2}{b^2} = 1$
- היפרבולה שבה  $a = b$ , נקראת היפרבולה שוות שוקיים.
- הקשר בין הפרמטרים:  $c^2 = a^2 + b^2$ .

#### שאלות:

- (1) מצא את אורך צירי ההיפרבולה שמשוואתה  $x^2 - 4y^2 = 36$ .
- (2) מצא את משוואתה של ההיפרבולה שאורך צירה הממשי הוא 18 ואורך צירה המדומה הוא  $2\sqrt{3}$ .
- (3) מצא את משוואתה של היפרבולה שאורך צירה הממשי הוא 12 והמרחק בין מוקדיה הוא 20.

#### תשובות סופיות:

- (1) אורך הציר הממשי: 12, אורך הציר המדומה: 6.

$$\frac{x^2}{81} - \frac{y^2}{3} = 1 \quad (2)$$

$$\frac{x^2}{64} - \frac{y^2}{80} = 1 \quad (3)$$

## הקשר בין הפרמטרים של היפרבולה:

שאלות:

(4) מצא את משוואתה של היפרבולה שאורך צירה המדומה הוא  $8\sqrt{5}$  והיא עוברת בנקודה  $(-10, 3\sqrt{5})$ .

(5) מצא משוואת היפרבולה שוות שוקיים שהמרחק בין מוקדיה הוא  $\sqrt{200}$ .

תשובות סופיות:

$$\frac{x^2}{36} - \frac{y^2}{64} = 1 \quad (4)$$

$$x^2 - y^2 = 25 \quad (5)$$

## רדיוסים של היפרבולה:

סיכום כללי:

רדיוסים באליפסה	רדיוסים בהיפרבולה
$r_1 = a - \frac{cx}{a}$	$r_1 = \left  \frac{cx}{a} - a \right $
$r_2 = a + \frac{cx}{a}$	$r_2 = \left  \frac{cx}{a} + a \right $

שאלות:

- (6) נתונה היפרבולה שמשוואתה:  $6x^2 - y^2 = 18$ . מצא על ההיפרבולה את הנקודות שמכפלת מרחקיהן מהמוקדים הוא 25.
- (7) נתונה היפרבולה שמשוואתה:  $7x^2 - 9y^2 = 63$ . מצא על ההיפרבולה את הנקודות שסכום ריבועי מרחקיהן מהמוקדים הוא  $74\frac{8}{9}$ .
- (8) נתונה היפרבולה שמשוואתה  $4x^2 - y^2 = 20$ . מצא נקודה על ההיפרבולה ברביע הרביעי שממנה רואים את הקטע שבין המוקדים בזווית ישרה.
- (9) נתונה היפרבולה שמשוואתה  $5x^2 - 4y^2 = 80$ . מנקודה A שעל ההיפרבולה ברביע הראשון העבירו ישר מקביל לציר ה- $x$ , החותך את הענף השמאלי של ההיפרבולה בנקודה B. את נקודה A חיברו עם המוקד הימני  $F_1$  של ההיפרבולה ואת הנקודה B חיברו עם המוקד השמאלי של ההיפרבולה  $F_2$ . נתון כי היקף הטרפז  $F_1BAF_2$  הוא 29 יחידות אורך. מצא את שיעורי הנקודה A.

תשובות סופיות:

$$\begin{array}{ll} \left( \pm 4, \pm 2\frac{1}{3} \right) & (7) \\ \left( 5, \frac{\sqrt[3]{5}}{2} \right) & (9) \end{array} \quad \begin{array}{ll} (\pm 2, \pm \sqrt{6}) & (6) \\ (3, -4) & (8) \end{array}$$

## מיתר וקוטר החוצה אותו בהיפרבולה:

**סיכום כללי:**

מכפלת שיפועי מיתר וקוטר החוצה אותו בהיפרבולה, היא:  $\frac{a^2}{b^2}$ .

**שאלות:**

**10** נתונה היפרבולה שמשוואתה  $4x^2 - 3y^2 = 24$ . מצא את משוואתו של מיתר בהיפרבולה, שהנקודה  $(3, 4)$  היא אמצעו.

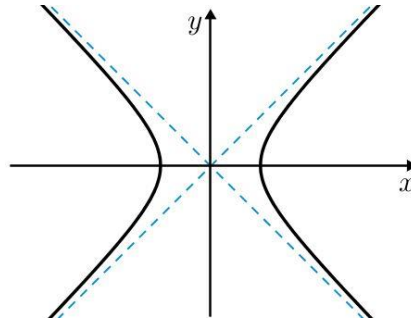
**תשובות סופיות:**

$$y = x + 1 \quad \mathbf{10}$$

## אסימפטוטות של היפרבולה:

### סיכום כללי:

לכל היפרבולה יש שתי אסימפטוטות משופעות, שענפי ההיפרבולה שואפים אליהן.



- משוואות האסימפטוטות הן:  $y = \frac{b}{a}x$ ,  $y = -\frac{b}{a}x$ .

### שאלות:

11) מצא את משוואת האסימפטוטות של היפרבולה שמשוואתה  $4x^2 - y^2 = 48$ .

12) הישר  $y = -\frac{3}{4}x$  הוא אסימפטוטה של היפרבולה, שהמרחק בין מוקדיה הוא 20. מצא את משוואת ההיפרבולה.

13) נתונה היפרבולה שמשוואתה  $9x^2 - 4y^2 = k$  ואורך צירה המדומה הוא 6. מצא נקודה על האסימפטוטה היורדת של ההיפרבולה ברביע הרביעי שממנה רואים את הקטע שבין המוקדים בזווית ישרה.

14) ישר שעובר בנקודה  $(-6, 8)$  הוא אסימפטוטה של היפרבולה שעוברת בנקודה  $(9, -8\sqrt{2})$ .  
 א. מצא את משוואת ההיפרבולה.  
 ב. מצא את מרחק אחד ממוקדי ההיפרבולה מאחת האסימפטוטות שלה.

15) מוקדיה של היפרבולה שעוברת בנקודה  $(4, -1)$  מתלכדים עם מוקדיה של אליפסה שמשוואתה  $16x^2 + 25y^2 = 400$ . מצא נקודה על הענף השמאלי של ההיפרבולה, שמרחקה מהאסימפטוטה העולה של ההיפרבולה הוא  $1\frac{1}{3}$ .

**תשובות סופיות:**

$$y = 2x, y = -2x \quad (11)$$

$$\frac{x^2}{64} + \frac{y^2}{36} = 1 \quad (12)$$

$$(2, -3) \quad (13)$$

$$d = 4 \quad \text{ב.} \quad \frac{x^2}{9} - \frac{y^2}{16} = 1 \quad \text{א.} \quad (14)$$

$$\left(-3, \frac{1}{\sqrt{8}}\right) \quad (15)$$

# גאומטריה אנליטית

פרק 5 - גיאומטריה אנליטית - מקומות גיאומטרים והוכחות

תוכן העניינים

61	.....	1. מקומות גיאומטרים
65	.....	2. שאלות הוכחה

## מקומות גיאומטריים:

### סיכום כללי:

#### הגדרה:

מקום גאומטרי הוא אוסף נקודות בעלות תכונה מסוימת.

מקום גאומטרי הוא משוואה המקשרת בין  $x$  ל-  $y$ .

#### טכניקות מרכזיות במציאת מקומות גיאומטריים:

בשאלות של מקום גאומטרי נפוץ השימוש בדברים הבאים:

- שיפועים:

i. שיפועי ישרים מקבילים (שווים זה לזה).

ii. שיפועי ישרים מאונכים (מכפלתם היא -1).

iii. שלוש נקודות שעל אותו ישר שומרות על אותו שיפוע.

- משפט פיתגורס.

- אמצע קטע / חלוקת קטע ביחס נתון.

- משיק למעגל – המשיק מאונך לרדיוס – רמז לשימוש במשפט פיתגורס.

- קטע מרכזים:

i. במעגלים המשיקים מבחוץ – סכום הרדיוסים.

ii. במעגלים המשיקים מבפנים – הפרש הרדיוסים.

- משפטים מגאומטריה (תאלס, משפט חוצה הזווית, דמיון משולשים)

- אם נתונה משוואה בשאלה – ניתן להשתמש בה על ידי הצבת נקודה שעליה במשוואה.

## שאלות:

- (1) מצא את המקום הגאומטרי של כל הנקודות שמרחקן מהנקודה  $A(-7, -6)$  שווה למרחקן מהנקודה  $B(9, 2)$ .
- (2) מצא את המקום הגאומטרי של כל הנקודות שמרחקן מהנקודה  $A(3, -6)$  גדול פי 3 ממרחקן מהנקודה  $B(-1, 10)$ .
- (3) מצא את המקום הגאומטרי של כל הנקודות שמרחקן מהנקודה  $(1, 0)$  קטן פי 3 ממרחקן מהישר  $x = 9$ .
- (4) מצא את המקום הגאומטרי של מרכזי כל המעגלים שעוברים בנקודה  $(6, 0)$  ומשיקים לישר  $x = -6$ .
- (5) נתונים שני ישרים: I.  $3x + y - 6 = 0$ , II.  $2x + 6y - 1 = 0$ . מצא את המקום הגאומטרי של כל הנקודות שמרחקן מישר I גדול פי 4 ממרחקן מישר II.
- (6) מצא את המקום הגאומטרי של מרכזי כל המעגלים שמשיקים לציר ה- $y$  מימין ומשיקים מבפנים למעגל קנוני שרדיוסו 4. מהן ההגבלות?
- (7) מצא את המקום הגאומטרי של אמצעי כל הקטעים, המחברים את הנקודה  $(4, -10)$  עם נקודות על הישר  $y = 6x + 2$ .
- (8) נתון מעגל שמשוואתו  $x^2 + y^2 + 12x - 16y = 0$ . מצא את המקום הגאומטרי של אמצעי כל המיתרים במעגל שעוברים בראשית הצירים.
- (9) נתון מעגל שמשוואתו  $x^2 + y^2 = 36$ . הכפילו את שיעורי ה- $y$  של כל הנקודות על המעגל ב- $\frac{2}{3}$ . מצא את המקום הגאומטרי שמתקבל באופן הזה.

**10** נתונות הנקודות  $A(2,0)$  ו- $B(10,0)$ . מצא את המקום הגאומטרי של מרכזי הכובד של כל המשולשים ABC אם ידוע שהקודקוד C מונח על הישר  $y = 3x - 12$ . מהי ההגבלה?

**11** נתון המעגל  $x^2 + y^2 + 4x - 10y + 11 = 0$ . מצא את המקום הגאומטרי של כל הנקודות שאורך המשיק מהן למעגל שווה למרחקן מהנקודה  $(7,2)$ .

**12** מצא את המקום הגאומטרי של כל הנקודות שמהן רואים את המעגל  $(x-2)^2 + (y-1)^2 = 9$  בזווית של  $120^\circ$ .

**13** מצא את המקום הגאומטרי של כל הנקודות שמהן רואים את המעגל  $(x-a)^2 + (y-b)^2 = R^2$  בזווית של  $60^\circ$ .

**14** נתון מעגל שמרכזו M ומשוואתו  $x^2 + y^2 - 12x - 64 = 0$ . מנקודה A שעל המעגל העבירו אנך לציר ה- $x$  שחותך את ציר ה- $x$  בנקודה B והמשכו חותך את המעגל בנקודה C. בנקודה B העבירו מקביל לישר AM ובנקודה C העבירו מקביל לציר ה- $x$ . המקביל ל-AM והמקביל לציר ה- $x$  נפגשים בנקודה D. מצא את המקום הגאומטרי של נקודה D. מהן ההגבלות?

**15** האליפסה  $\frac{x^2}{16} + \frac{y^2}{9} = 1$  חותכת את חלקו החיובי של ציר ה- $x$  בנקודה A ואת

חלקו החיובי של ציר ה- $y$  בנקודה B. מנקודה C שעל ציר ה- $x$  בין O ל-A (O ראשית הצירים) העלו אנך לציר ה- $x$  שחותך את הישר AB בנקודה D. מצא את המקום הגאומטרי של נקודת מפגש הישרים BC ו-OD.

**16** נתון מעגל קנוני שרדיוסו 3. מנקודה A שעל המעגל הורידו אנך לציר ה- $x$  שחותך את ציר ה- $x$  בנקודה C. נסמן ב-B את אמצע הקטע AC. מנקודה C העבירו מקביל ל-AO (O ראשית הצירים). מצא את המקום הגאומטרי של מפגש הישרים BO והמקביל ל-AO.

**17** נתונות הנקודות  $A(4,0)$  ו- $B(-2,0)$ . מצא את המקום הגאומטרי של כל הנקודות C כך שהקטע CO (O ראשית הצירים) הוא חוצה זווית  $\sphericalangle C$  במשולש  $\triangle ABC$ .

- 18** נתון מעגל קנוני שרדיוסו  $R$ . את נקודה  $A$  שעל המעגל חיברו עם ראשית הצירים ועל הקטע  $AO$  (  $O$  ראשית הצירים) סימנו נקודה  $B$  כך שמתקיים  $AB : BO = a : b$  מנקודה  $A$  העבירו אנך לציר ה- $x$  ומנקודה  $B$  העבירו אנך לציר ה- $y$ .
- א. מצא את המקום הגאומטרי של מפגש האנכים הללו.
- ב. המקום הגאומטרי שמצאת בסעיף א' חותך את ציר ה- $y$  בנקודות  $P$  ו- $Q$ . מצא את אורך הקטע  $PQ$ .

### תשובות סופיות:

- $$\left(x + 1\frac{1}{2}\right)^2 + (y - 12)^2 = 38\frac{1}{4} \quad (2)$$
- $$y^2 = 24x \quad (4)$$
- $$y^2 = 16 - 8x, -4 < x, y < 4 \quad (6)$$
- $$(x + 3)^2 + (y - 4)^2 = 25 \quad (8)$$
- $$y = 3x - 16, x \neq 5\frac{1}{3} \quad (10)$$
- $$(x - 2)^2 + (y - 1)^2 = 12 \quad (12)$$
- $$x = 6, -10 < y < 10 \quad (14)$$
- $$\frac{x^2}{36} + \frac{y^2}{9} = 1 \quad (16)$$
- $$y = -2x \quad (1)$$
- $$\frac{x^2}{9} + \frac{y^2}{8} = 1 \quad (3)$$
- $$x + 11y + 4 = 0, 7x + 13y - 8 = 0 \quad (5)$$
- $$y = 6x - 16 \quad (7)$$
- $$\frac{x^2}{36} + \frac{y^2}{16} = 1 \quad (9)$$
- $$y = 3x - 7 \quad (11)$$
- $$(x - a)^2 + (y - b)^2 = 4R^2 \quad (13)$$
- $$3x + 8y - 12 = 0, 0 < y < 3, 0 < x < 4 \quad (15)$$
- $$(x + 4)^2 + y^2 = 16 \quad (17)$$
- 18** א.  $b^2x^2 + (a + b)^2y^2 = R^2b^2$  . ב.  $PQ = \frac{2bR}{a + b}$

## שאלות הוכחה:

### שאלות:

- (1) הנקודה P נמצאת על המעגל  $x^2 + y^2 = R^2$ . בנקודה P מעבירים משיק למעגל שחותך את הישרים  $x = R$  ו- $x = -R$  בנקודות A ו-B. הוכח:  $y_A \cdot y_B = R^2$ .
- (2) הנקודה P נמצאת על המעגל  $x^2 + y^2 = R^2$ , שחותך את ציר ה-y בנקודות A(0, R) ו-B(0, -R). בנקודה P מעבירים משיק למעגל שחותך את הישר  $y = R$  בנקודה T. הוכח:  $OT \parallel BP$ .
- (3) הנקודה P נמצאת על האליפסה  $b^2x^2 + a^2y^2 = a^2b^2$ , ש-F<sub>1</sub> ו-F<sub>2</sub> הם מוקדיה. הוכח:  $PO^2 + PF_1 \cdot PF_2 = a^2 + b^2$  (O ראשית הצירים).
- (4) הנקודה P נמצאת על האליפסה  $b^2x^2 + a^2y^2 = a^2b^2$ , שקודקודה הימני הוא A וקודקודה השמאלי הוא B. הישר AP חותך את הישר  $x = -a$  בנקודה K והישר BP חותך את הישר  $x = a$  בנקודה L. הוכח:  $y_K \cdot y_L = 4b^2$ .
- (5) הנקודה P נמצאת על האליפסה  $b^2x^2 + a^2y^2 = a^2b^2$ . הוכח: היחס בין ריבוע אורך האנך, היורד מנקודה P לציר הגדול, ובין מכפלת שני קטעי הציר הגדול שמשני צידי האנך הוא גודל קבוע.
- (6) הנקודה P נמצאת על האליפסה  $b^2x^2 + a^2y^2 = a^2b^2$ , שקודקודה הימני הוא A, קודקודה השמאלי הוא B ומוקדה הימני הוא F<sub>1</sub>. הישר AP חותך את הישר  $x = \frac{a^2}{c}$  בנקודה M והישר BP חותך את הישר  $x = \frac{a^2}{c}$  בנקודה N. הוכח:  $\angle MF_1N = 90^\circ$ .
- (7) נתונה האליפסה  $b^2x^2 + a^2y^2 = a^2b^2$ . הוכח כי מכפלת שיפועי מיתר וקוטר החוצה אותו היא  $-\frac{b^2}{a^2}$ .

- (8) בפרבולה  $y^2 = 2px$  מעבירים נורמל. הוכח כי היטלו של הנורמל על ציר ה- $x$  הוא גודל קבוע.
- (9) בפרבולה  $y^2 = 2px$  מעבירים משיקים משתי נקודות שעליה, A ו-B. המשיקים נפגשים בנקודה C. הוכח:  $y_A + y_B = 2y_C$ .
- (10) בנקודה A, שעל הפרבולה  $y^2 = 2px$  מעבירים משיק לפרבולה שחותך את המדריך שלה בנקודה B. ממוקד הפרבולה מעלים אנך לציר ה- $x$  שחותך את המשיק בנקודה C. הוכח:  $FB = FC$  (F - מוקד הפרבולה).
- (11) בפרבולה  $y^2 = 2px$  מעבירים מיתר, החותך את הפרבולה בנקודות A ו-B. המיתר חותך את ציר ה- $x$  בנקודה C. הוכח:  $x_A \cdot x_B = (x_C)^2$ .