

אלגברה ליניארית



תוכן העניינים

1	1. פתרון וחקירת מערכת משוואות ליניאריות
14	2. מטריצות
42	3. מרחבים וקטורים
61	4. העתקות ליניאריות
71	5. מטריצות והעתקות ליניאריות
80	6. מרחבי מכפלה פנימית
92	7. קבוצות אורתוגונליות, בסיסים אורתוגונליים, התהליך של גרם-שמידט
100	8. מספרים מרוכבים ופתרון משוואות פולינומיאליות

אלגברה ליניארית

פרק 1 - פתרון וחקירת מערכת משוואות ליניאריות

תוכן העניינים

1. פתרון מערכת משוואות ליניאריות 1
2. חקירת מערכת משוואות ליניאריות (עם פרמטר) 6
3. פתרון וחקירת מערכת הומוגנית של משוואות ליניאריות 9
4. שימושים של מערכת משוואות ליניאריות 12

פתרון מערכת משוואות ליניאריות

שאלות

(1) מצאו אילו מהמערכות הבאות הן מערכות שקולות:

$$\begin{array}{llll}
 2x + y = 4 & x - y = 0 & x - 4y = -7 & x + 10y = 11 \\
 x + y = 3 & 2x + y = 3 & x - y = -1 & 2x - 2y = 0
 \end{array}
 \begin{array}{l}
 \cdot \text{ד} \\
 \cdot \text{ג} \\
 \cdot \text{ב} \\
 \cdot \text{א}
 \end{array}$$

(2) רשמו את המטריצות המתאימות למערכות המשוואות הבאות:

$$\begin{array}{llll}
 x = 3 & x - 4y + z = -7 & x + 10y = 11 & \\
 2x + y + z = 3 & x - y = -1 & 2x - 2 = 0 & \\
 x - z = 0 & x + y + z = 5 & x + y = 3 & \\
 2x + y = 4 & & & \\
 z + t = 8 & & &
 \end{array}
 \begin{array}{l}
 \cdot \text{ד} \\
 \cdot \text{ג} \\
 \cdot \text{ב} \\
 \cdot \text{א}
 \end{array}$$

בשאלות 3-5 בצעו על כל מטריצה את הפעולות הרשומות מתחתיה, בזו אחר זו, ומצאו את המטריצה המתקבלת (סדר הפעולות הוא משמאל לימין ומלמעלה למטה).

$$\begin{array}{lll}
 \begin{pmatrix} 3 & -4 & 8 & 1 \\ 2 & -3 & 6 & 0 \\ -1 & 4 & -5 & 1 \end{pmatrix} & \text{(5)} & \begin{pmatrix} 4 & 1 & 0 & 2 \\ -1 & 2 & 1 & 0 \\ 0 & 3 & 1 & -1 \end{pmatrix} & \text{(4)} & \begin{pmatrix} 3 & 5 & -1 & 0 \\ 2 & 1 & 4 & 2 \\ 5 & 0 & -2 & 6 \end{pmatrix} & \text{(3)} \\
 R_1 \rightarrow R_1 + 3R_3, R_2 \rightarrow R_2 + 3R_3 & & R_2 \rightarrow 4R_2, R_2 \rightarrow R_2 + R_1 & & R_1 \leftrightarrow R_2, R_1 \rightarrow 2R_1 \\
 R_1 \rightarrow 5R_1 - 8R_2 & & R_2 \leftrightarrow R_3, R_3 \rightarrow R_3 - 3R_2 & & R_3 \rightarrow R_3 + R_1, R_1 \leftrightarrow R_3
 \end{array}$$

(6) מצאו איזה פעולה אלמנטרית אחת יש לבצע על המטריצה שמשמאל, כדי לקבל את המטריצה מימין:

$$\begin{array}{l}
 \text{א.} \quad \begin{pmatrix} 1 & -2 & 4 \\ 4 & 1 & 1 \end{pmatrix} \rightarrow \begin{pmatrix} 6 & -3 & 9 \\ 4 & 1 & 1 \end{pmatrix} \\
 \text{ב.} \quad \begin{pmatrix} 1 & 0 & -4 & 1 \\ 4 & 2 & 1 & 1 \\ 0 & 1 & 0 & 4 \end{pmatrix} \rightarrow \begin{pmatrix} 1 & 0 & -4 & 1 \\ 0 & 2 & 17 & -3 \\ 0 & 1 & 0 & 4 \end{pmatrix} \\
 \text{ג.} \quad \begin{pmatrix} 1 & 0 \\ 0 & 1 \\ 4 & 4 \end{pmatrix} \rightarrow \begin{pmatrix} 1 & 0 \\ 4 & 2 \\ 4 & 4 \end{pmatrix}
 \end{array}$$

בשאלות 7-15 הביאו את המטריצות הבאות לצורה מדורגת
 (בשאלות 7, 9, 11 ו-13 – גם לצורה מדורגת קנונית):

$$\begin{pmatrix} 3 & 6 & 3 & -6 & 5 \\ 2 & 4 & 1 & -2 & 3 \\ 1 & 2 & -1 & 2 & 1 \end{pmatrix} \quad (8) \qquad \begin{pmatrix} 1 & 2 & -3 & -2 & 4 & 1 \\ 2 & 5 & -8 & -1 & 6 & 4 \\ 1 & 4 & -7 & 5 & 2 & 8 \end{pmatrix} \quad (7)$$

$$\begin{pmatrix} 4 & 1 & 1 & 5 \\ 0 & 11 & -5 & 3 \\ 2 & -5 & 3 & 1 \\ 1 & 3 & -1 & 2 \end{pmatrix} \quad (10) \qquad \begin{pmatrix} 1 & 2 & -1 & 3 \\ 1 & 3 & 1 & 5 \\ 3 & 8 & 4 & 17 \end{pmatrix} \quad (9)$$

$$\begin{pmatrix} 0 & 0 & 0 & 1 & 1 & 0 \\ 0 & 0 & 0 & 0 & 1 & 0 \\ 0 & 0 & 0 & 0 & 0 & 0 \\ 0 & 0 & 1 & 1 & 1 & 1 \end{pmatrix} \quad (12) \qquad \begin{pmatrix} 1 & 2 & 1 & 3 & 5 \\ 2 & 5 & 3 & 1 & 6 \\ 1 & -1 & -2 & 2 & 1 \\ -2 & 3 & 5 & -4 & -1 \end{pmatrix} \quad (11)$$

$$\begin{pmatrix} 1 & 3 & -2 & 2 & 3 \\ 1 & 4 & -3 & 4 & 2 \\ 2 & 3 & -1 & -2 & 9 \\ 1 & 3 & 0 & 2 & 1 \\ 2 & 5 & 3 & 2 & 1 \\ 1 & 5 & -6 & 6 & 3 \end{pmatrix} \quad (14) \qquad \begin{pmatrix} 1 & 2 & 1 & 3 & 5 \\ 2 & 5 & 3 & 1 & 6 \\ -1 & 1 & 2 & -2 & -1 \\ -2 & 3 & 5 & -4 & -1 \\ 3 & -2 & -5 & 1 & -1 \end{pmatrix} \quad (13)$$

$$\begin{pmatrix} 1 & 1+i \\ 1+i & 2i \\ 2+i & 1+3i \end{pmatrix} \quad (15)$$

$$F=\mathbb{C}, F=\mathbb{R}$$

* בשאלה 15 יש לדרג את המטריצה פעם מעל השדה \mathbb{C} ופעם מעל השדה \mathbb{R} .

בשאלות 16-27 פתרו את מערכות המשוואות בשיטת גאוס (כלומר, על ידי דירוג):

$$\begin{aligned} 4x + 8y &= 20 \\ 3x + 6y &= 15 \end{aligned} \quad (17)$$

$$\begin{aligned} 2x + 3y &= 8 \\ 5x - 4y &= -3 \end{aligned} \quad (16)$$

$$\begin{aligned} 2x_1 - x_2 - 3x_3 &= 5 \\ 3x_1 - 2x_2 + 2x_3 &= 5 \\ 10x_1 - 6x_2 - 2x_3 &= 32 \end{aligned} \quad (19)$$

$$\begin{aligned} 8x - 4y &= 10 \\ -6x + 3y &= 1 \end{aligned} \quad (18)$$

$$\begin{aligned} x + 2y + 3z &= 3 \\ 4x + 6y + 16z &= 8 \\ 3x + 2y + 17z &= 1 \end{aligned} \quad (21)$$

$$\begin{aligned} x + 2y + 3z &= -11 \\ 2x + 3y - z &= -5 \\ 3x + y - z &= 2 \end{aligned} \quad (20)$$

$$\begin{aligned} 4x - 7y &= 0 \\ 8x - 14y &= 2 \\ -16x + 28y &= 4 \end{aligned} \quad (23)$$

$$\begin{aligned} x + 3y &= 2 \\ 2x + y &= -1 \\ x - y &= -2 \end{aligned} \quad (22)$$

$$\begin{aligned} x + 2y - 3z + 2t &= 2 \\ 2x + 5y - 8z + 6t &= 5 \\ 6x + 8y - 10z + 4t &= 8 \end{aligned} \quad (25)$$

$$\begin{aligned} 3x - 2y &= 1 \\ -9x + 6y &= -3 \\ 6x - 4y &= 2 \end{aligned} \quad (24)$$

$$\begin{aligned} x + 2y + 2z &= 2 \\ 3x - 2y - z &= 5 \\ 2x - 5y + 3z &= -4 \\ 2x + 8y + 12z &= 0 \end{aligned} \quad (27)$$

$$\begin{aligned} x_1 + 5x_2 + 4x_3 - 13x_4 &= 3 \\ 3x_1 - x_2 + 2x_3 + 5x_4 &= 2 \\ 2x_1 + 2x_2 + 3x_3 - 4x_4 &= 0 \end{aligned} \quad (26)$$

28) פתרו את מערכת המשוואות הבאה בשיטת גאוס, מעל השדה F :

$$z_1 + iz_2 + (1-i)z_3 = 1 + 4i$$

$$iz_1 + z_2 + (1+i)z_3 = 2 + i$$

$$(-1+3i)z_1 + (3-i)z_2 + (2+4i)z_3 = 5 - i$$

א. $F = \mathbb{R}$

ב. $F = \mathbb{C}$

תשובות סופיות

1) א ו-ג שקולות, ו-ב ו-ד שקולות.

$$\begin{pmatrix} 2 & 1 & 1 & 3 \\ 1 & 0 & -1 & 0 \end{pmatrix} \text{ ג.} \quad \begin{pmatrix} 1 & -4 & 1 & -7 \\ 1 & -1 & 0 & -1 \\ 1 & 1 & 1 & 5 \end{pmatrix} \text{ ב.} \quad \begin{pmatrix} 1 & 10 & 11 \\ 2 & 0 & 2 \\ 1 & 1 & 3 \end{pmatrix} \text{ א.} \quad (2)$$

$$\begin{pmatrix} 1 & 0 & 0 & 0 & 3 \\ 2 & 1 & 0 & 0 & 4 \\ 0 & 0 & 1 & 1 & 8 \end{pmatrix} \text{ ד.}$$

$$\begin{pmatrix} 0 & 0 & -4 & 4 \\ 0 & 5 & -4 & 2 \\ -1 & 4 & -5 & 1 \end{pmatrix} (5) \quad \begin{pmatrix} 4 & 1 & 0 & 2 \\ 0 & 3 & 1 & -1 \\ 0 & 0 & 1 & 5 \end{pmatrix} (4) \quad \begin{pmatrix} 9 & 2 & 6 & 8 \\ 3 & 5 & -1 & 0 \\ 4 & 2 & 8 & 2 \end{pmatrix} (3)$$

6) א. $R_1 \rightarrow 2R_1 + R_2$ ב. $R_2 \rightarrow R_2 - 4R_1$ ג. $R_2 \rightarrow 2R_2 + 4R_1$

$$\begin{pmatrix} 1 & 0 & 1 & 0 & 24 & 21 \\ 0 & 1 & -2 & 0 & -8 & -7 \\ 0 & 0 & 0 & 1 & 2 & 3 \end{pmatrix} \text{ ו-} \quad \begin{pmatrix} 1 & 2 & -3 & -2 & 4 & 1 \\ 0 & 1 & -2 & 3 & -2 & 2 \\ 0 & 0 & 0 & 1 & 2 & 3 \end{pmatrix} (7)$$

$$\begin{pmatrix} 1 & 2 & -1 & 2 & 1 \\ 0 & 0 & 3 & -6 & 1 \\ 0 & 0 & 0 & 0 & 0 \end{pmatrix} (8)$$

$$\begin{pmatrix} 1 & 0 & 0 & \frac{17}{3} \\ 0 & 1 & 0 & -\frac{2}{3} \\ 0 & 0 & 1 & \frac{4}{3} \end{pmatrix} \text{ ו-} \quad \begin{pmatrix} 1 & 2 & -1 & 3 \\ 0 & 1 & 2 & 2 \\ 0 & 0 & 3 & 4 \end{pmatrix} (9)$$

$$\begin{pmatrix} 1 & 3 & -1 & 2 \\ 0 & 11 & -5 & 3 \\ 0 & 0 & 0 & 0 \\ 0 & 0 & 0 & 0 \end{pmatrix} (10)$$

$$\begin{pmatrix} 1 & 0 & -1 & 0 & 0 \\ 0 & 1 & 1 & 0 & 1 \\ 0 & 0 & 0 & 1 & 1 \\ 0 & 0 & 0 & 0 & 0 \end{pmatrix} \text{ ו-} \quad \begin{pmatrix} 1 & 2 & 1 & 3 & 5 \\ 0 & 1 & 1 & -5 & -4 \\ 0 & 0 & 0 & 1 & 1 \\ 0 & 0 & 0 & 0 & 0 \end{pmatrix} (11)$$

$$\begin{pmatrix} 0 & 0 & 1 & 1 & 1 & 1 \\ 0 & 0 & 0 & 1 & 1 & 0 \\ 0 & 0 & 0 & 0 & 1 & 0 \\ 0 & 0 & 0 & 0 & 0 & 0 \end{pmatrix} (12)$$

$$\begin{pmatrix} 1 & 0 & -1 & 0 & 0 \\ 0 & 1 & 1 & 0 & 1 \\ 0 & 0 & 0 & 1 & 1 \\ 0 & 0 & 0 & 0 & 0 \\ 0 & 0 & 0 & 0 & 0 \end{pmatrix} \rightarrow \begin{pmatrix} 1 & 2 & 1 & 3 & 5 \\ 0 & 1 & 1 & -5 & -4 \\ 0 & 0 & 0 & 1 & 1 \\ 0 & 0 & 0 & 0 & 0 \\ 0 & 0 & 0 & 0 & 0 \end{pmatrix} \quad (13)$$

$$\begin{pmatrix} 1 & 3 & -2 & 2 & 3 \\ 0 & 1 & -1 & 2 & -1 \\ 0 & 0 & -2 & 0 & 2 \\ 0 & 0 & 0 & 0 & 0 \\ 0 & 0 & 0 & 0 & 0 \\ 0 & 0 & 0 & 0 & 0 \end{pmatrix} \quad (14)$$

$$\begin{pmatrix} 1 & 1+i \\ 1+i & 2i \\ 0 & 0 \end{pmatrix}, \begin{pmatrix} 1 & 1+i \\ 0 & 0 \\ 0 & 0 \end{pmatrix} \quad (15)$$

$F=\mathbb{R} \qquad F=\mathbb{C}$

$$\phi \quad (18) \qquad (x, y) = (5 - 2t, t) \quad (17) \qquad (x, y) = (1, 2) \quad (16)$$

$$(x_1, x_2, x_3) = (1, -3, -2) \quad (20) \qquad \phi \quad (19)$$

$$(x, y) = (-1, 1) \quad (22) \qquad (x, y, z) = (-1 - 7t, 2 + 2t, t) \quad (21)$$

$$(x, y) = \left(\frac{1+2t}{3}, t \right) \quad (24) \qquad \phi \quad (23)$$

$$\phi \quad (26) \qquad (x, y, z, t) = (-a + 2b, 1 + 2a - 2b, a, b) \quad (25)$$

$$(x, y, z) = (2, 1, -1) \quad (27)$$

$$(z_1, z_2, z_3) = ((-1+i)t + 1 + i, 3, t) \quad \text{ב} \quad (28) \qquad (z_1, z_2, z_3) = (2, 3, -1) \quad \text{א} \quad (28)$$

$F=\mathbb{C} \qquad F=\mathbb{R}$

חקירת מערכת משוואות לינאריות (עם פרמטר)

שאלות

בשאלות 1-6 מצאו לאילו ערכי k (אם יש כאלה) יש למערכות:
1. פתרון יחיד. 2. אף פתרון. 3. אינסוף פתרונות.

$$\begin{array}{l} x + ky + z = 1 \\ x + y + kz = 1 \quad (2) \\ kx + y + z = 1 \end{array} \quad \begin{array}{l} x - y + z = 1 \\ 5x - 7y + (k^2 + 3)z = k^2 + 1 \quad (1) \\ 3x - y + (k + 3)z = 3 \end{array}$$

$$\begin{array}{l} 2x - y + z = 0 \\ x + 2y - z = 0 \quad (4) \\ 5x + (1 - k)y + k^2z = 1 \end{array} \quad \begin{array}{l} x + 2ky + z = 0 \\ 3x + y + kz = 2 \quad (3) \\ x + 9ky + 5z = -2 \end{array}$$

$$\begin{array}{l} x + ky + 3z = 2 \\ kx - y + z = 4 \quad (6) \\ 3x + y + (2 + k)z = 0 \end{array} \quad \begin{array}{l} kx - y = 1 \\ (k - 2)x + ky = -2 \quad (5) \\ (k^2 - 1)z = 9 \end{array}$$

בשאלות 7-9 מצאו לאילו ערכי k (אם יש כאלה) יש למערכות:
1. פתרון יחיד. 2. אף פתרון. 3. אינסוף פתרונות.

$$\begin{array}{l} 2x - 3y + z = 1 \\ 4x + (k^2 - 5k)y + 2z = k \quad (8) \end{array} \quad \begin{array}{l} 2x + ky = 3 \\ (k + 3)x + 2y = k^2 + 5 \quad (7) \\ 6x + 3ky = 7k^2 + 2 \end{array}$$

$$\begin{array}{l} 3x + 4y - z = 2 \\ kx - 2y + z = -1 \\ x + 8y - 3z = k \\ 2x + 6y - 2z = 0.5k + 1 \end{array} \quad (9)$$

בשאלות 10-12 מצאו לאילו ערכים של a ושל b (אם יש כאלה) יש למערכות:
1. פתרון יחיד. 2. אף פתרון. 3. אינסוף פתרונות.

$$\begin{array}{l} x + y - z + t = 1 \\ ax + y + z + t = b \quad (12) \\ 3x + 2y + at = 1 + a \end{array} \quad \begin{array}{l} 2x + 4y + az = -1 \\ x + 2y + 4z = -4 \\ x + 2y - 4z = 0 \\ x + 2y + 6z = -2b \end{array} \quad \begin{array}{l} x + 2y - 4z = b \\ 7x - 10y + 16z = 7 \quad (10) \\ 2x - ay + 3z = 1 \end{array} \quad (11)$$

$$x + az = 1$$

$$y + 2z = 2 \quad (13) \text{ נתונה מערכת המשוואות:}$$

$$bx + cy + dz = 3$$

- א. מצאו תנאי עבור a, b, c, d , כך שלמערכת יהיה פתרון יחיד.
 ב. מצאו תנאי עבור b, c, d , כך שלכל a , למערכת יהיו אינסוף פתרונות.

$$(14) \text{ נתונה המערכת: } \begin{cases} x + y - z = 1 \\ 3x - 7y + (k^2 + 1)z = k^2 - 1 \\ 4x - 6y + (k + 2)z = 4 \end{cases}$$

- א. רשמו את המטריצה המתאימה למערכת המשוואות.
 ב. רשמו את הצורה המדורגת של המטריצה מסעיף א.
 ג. מצאו לאילו ערכי k יש למערכת:
 1. פתרון יחיד. 2. אף פתרון. 3. אינסוף פתרונות.
 ד. רשמו את הפתרון הכללי במקרה בו יש אינסוף פתרונות.
 ה. מצאו לאילו ערכי k יש למערכת פתרון שבו $z = 0$.
 ו. מצאו לאילו ערכי k יש למערכת פתרון יחיד שבו $z = 0$.
 ז. מצאו עבור איזה ערך של k פתרון של המשוואה השלישית הוא $(1, 2, 3)$.
 האם ייתכן שהפתרון הנ"ל הוא גם פתרון של כל המערכת? הסבירו.
 ח. מצאו לאיזה ערך של k , הוא הפתרון היחיד של המערכת.

$$(15) \text{ נתונות המשוואות של 3 מישורים: } \begin{cases} 3x + my = 3 \\ mx + 2y - mz = 1 \\ -x + mz = -1 \end{cases}$$

- בסעיפים א-ג מצאו עבור אילו ערכים של m שלוש המישורים:
 א. נפגשים בנקודה אחת (מצא נקודה זו).
 ב. לא נפגשים באף נקודה.
 ג. בעלי אינסוף נקודות משותפות (מצא נקודות אילו).
 ד. האם קיים ערך של m עבורו 3 המישורים מתלכדים או מקבילים?

תשובות סופיות

(1) 1. $k \neq 1, k \neq -2$.2 $k = 1$.3 $k = -2$

(2) 1. $k \neq 1, k \neq -2$.2 $k = -2$.3 $k = 1$

(3) 1. $k \neq -1, k \neq \frac{4}{7}$.2 $k = \frac{4}{7}$.3 $k = -1$

(4) 1. $k \neq 1, k \neq -0.4$.2 $k = 1, k = -0.4$

(5) 1. $k \neq \pm 1, k \neq -2$.2 $k = \pm 1, k = -2$

(6) 1. $k \neq -1, k \neq -3, k \neq 2$.3 $k = -1, k = -3, k = 2$

(7) 1. $k = -1$.2 $k \neq \pm 1$.3 $k = 1$

(8) 1. $k = 3$.2 $k \neq 3$.3

(9) 1. $k \neq 1$.2 $k = 1$

(10) 1. $a \neq 2$.2 $a = 2, b \neq -3$.3 $a = 2, b = -3$

(11) 1. $a \neq -6$ או $b \neq 2.5$.2 $a = -6, b = 2.5$.3

(12) 1. $a = 2, b \neq 2$.2 $a \neq 2$ או $a = 2, b = 2$.3

(13) א. $ab + 2c \neq d$.ב. $b = 0, c = 1.5, d = 3$

(14) א. $\begin{pmatrix} 1 & 1 & -1 & 1 \\ 3 & -7 & k^2 + 1 & k^2 - 1 \\ 4 & -6 & k + 2 & 4 \end{pmatrix}$.ב. $\begin{pmatrix} 1 & 1 & -1 & 1 \\ 0 & -10 & k^2 + 4 & k^2 - 4 \\ 0 & 0 & -k^2 + k + 2 & 4 - k^2 \end{pmatrix}$

ג. 1. $k \neq 2, k \neq -1$.2. $k = -1$.3. $k = 2$.ד. $(x, y, z) = (1 + 0.2t, 0.8t, t)$

ה. $k = \pm 2$.ו. $k = -2$.ז. $k = 2$, לא. ח. $k = -2$

(15) א. $m \neq 0, -2, 3$.ב. $m = -2, 3$.ג. $m = 0$.ד. לא.

פתרון וחקירת מערכת הומוגנית של משוואות לינאריות

שאלות

$$(1) \quad \begin{cases} x - y + z = 2 \\ x + y + 2z = 6 \\ 4x - 2y + 5z = 12 \end{cases} \quad \text{פתרו את המערכת}$$

על סמך הפתרון, קבעו את הפתרון של המערכת ההומוגנית המתאימה.

$$(2) \quad \begin{cases} x - y + z = 2 \\ x + y + 2z = 6 \\ x + y + z = 4 \end{cases} \quad \text{פתרו את המערכת}$$

על סמך הפתרון, קבעו את הפתרון של המערכת ההומוגנית המתאימה.

$$(3) \quad \begin{cases} x - y = 1 \\ -x + 2y - z = k \\ 2x + my + z = 3 \end{cases} \quad \text{נתונה המערכת:}$$

- א. מצאו את ערכי m , עבורם למערכת ההומוגנית המתאימה אינסוף פתרונות.
 ב. עבור ערך m שנמצא ב-א, מצאו את ערכי k , עבורם למערכת פתרון.
 ג. עבור ערכי m, k שנמצאו בסעיפים הקודמים, מצאו את הפתרון הכללי של המערכת הנתונה, וקבעו את הפתרון הכללי של המערכת ההומוגנית המתאימה.

(4) נתון שהחמישייה $(4t - 2s + 4, -t + s, 2, t, s)$ מהווה פתרון כללי של מערכת ליניארית נתונה. קבעו אילו מבין הטענות הבאות נכונות:

- א. המערכת הנתונה היא מערכת הומוגנית.
 ב. החמישייה $(4, 0, 2, 0, 0)$, היא פתרון פרטי של המערכת הנתונה.
 ג. החמישייה $(4, 0, 2, 1, 1)$, היא פתרון של המערכת הנתונה.
 ד. לכל a ממשי, החמישייה $(4a, 0, 2a, 0, 0)$ אינה פתרון של המערכת הנתונה.
 ה. החמישייה $(4t - 2s, -t + s, 0, t, s)$, היא פתרון כללי של המערכת ההומוגנית המתאימה.
 ו. החמישייה $(0, 1, 0, 1, 2)$, היא פתרון פרטי של המערכת ההומוגנית המתאימה.
 ז. במערכת הנתונה, מספר המשוואות לאחר דירוג הוא 2.

$$(5) \quad \begin{cases} 3x + my = 0 \\ mx + 2y - mz = 0 \\ -x + mz = 0 \end{cases}$$

יהי W אוסף הפתרונות של המערכת.
 עבור אילו ערכים של הקבוע m (אם בכלל) W הוא:
 א. נקודה (מצאו נקודה זו).
 ב. ישר (מצאו ישר זה).
 ג. מישור (מצאו מישור זה).

$$(6) \quad \text{נתונה המטריצה } A = \begin{pmatrix} 1 & 2 & 3 & 4 \\ 2 & a & b & c \\ 4 & d & e & f \\ -3 & g & h & i \end{pmatrix}$$

נסמן ב- A' את הצורה המדורגת של A .
 ידוע כי בממ"ל ההומוגנית המתאימה יש יותר משתנים חופשיים ממשתנים תלויים.
 מצאו את A .

תשובות סופיות

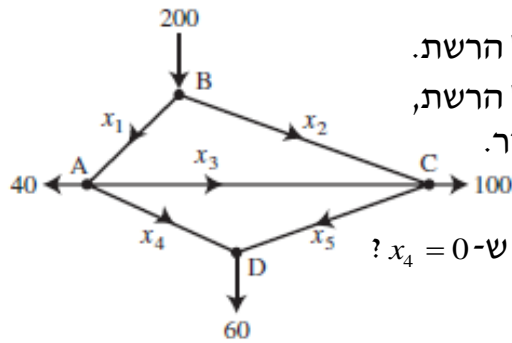
- (1) פתרון כללי של המערכת $(4 - \frac{3}{2}t, -\frac{1}{2}t + 2, t)$.
- פתרון כללי של המערכת ההומוגנית המתאימה הוא $(-\frac{3}{2}t, -\frac{1}{2}t, t)$.
- (2) למערכת פתרון יחיד $(x, y, z) = (1, 1, 2)$.
- למערכת ההומוגנית המתאימה פתרון יחיד $(0, 0, 0)$.
- (3) א. $m = -3$ ב. $k = -2$ ג. פתרון כללי של המערכת $(x, y, z) = (t, t - 1, t)$.
- פתרון כללי של המערכת ההומוגנית המתאימה הוא (t, t, t) .
- (4) א. הטענה לא נכונה. ב. הטענה נכונה. ג. הטענה לא נכונה.
ד. הטענה לא נכונה. ה. הטענה נכונה. ו. הטענה לא נכונה.
ז. הטענה לא נכונה.
- (5) א. $m \neq 0, -2, 3$. הנקודה היא $(x, y, z) = (0, 0, 0)$.
- ב. אם $m = 0$ נקבל ישר $\underline{x} = t(0, 0, 1)$ אם $m = 2$ נקבל ישר $\underline{x} = t(2, -1, 1)$,
- אם $m = 3$ נקבל ישר $\underline{x} = t(3, -3, 1)$.
- ג. אין ערכים של m עבורם נקבל מישור.

$$A = \begin{pmatrix} 1 & 2 & 3 & 4 \\ 2 & 4 & 6 & 8 \\ 4 & 8 & 12 & 16 \\ -3 & -6 & -9 & -12 \end{pmatrix} \quad (6)$$

שימושים של מערכת משוואות לינאריות

שאלות

1) באיור שלהלן רשת זרימה המתארת את זרם התנועה (במכוניות לדקה) של מספר רחובות בתל אביב.

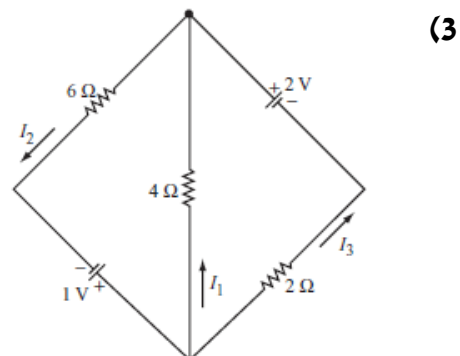
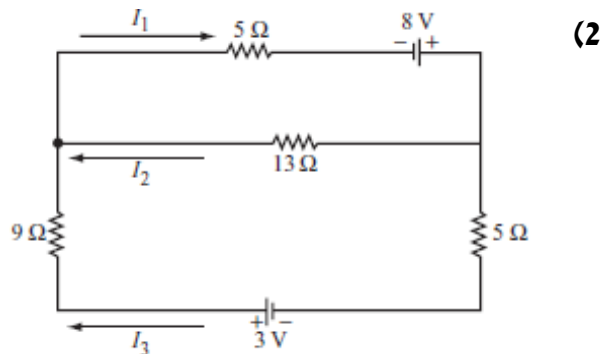


א. מצאו את תבנית הזרימה הכללית של הרשת.

ב. מצאו את תבנית הזרימה הכללית של הרשת, אם ידוע שהכביש שהזרם שלו x_4 סגור.

ג. מהו הערך המינימלי של x_1 , אם ידוע ש- $x_4 = 0$?

בשאלות 2-3 מצאו את הזרמים במעגלים החשמליים (חוקי קירכהוף וחוק אוהם):



* בפרק 3 (דטרמיננטות) תמצאו שאלות נוספות הנוגעות בנושא מערכת משוואות לינאריות.

תשובות סופיות

(1) א. x_3 ו- x_5 חופשיים. $x_1 = 100 + x_3 - x_5$, $x_2 = 100 - x_3 + x_5$, $x_4 = 60 - x_5$.

ב. חופשי. x_3 . $x_1 = 40 + x_3$, $x_2 = 160 - x_3$, $x_4 = 0$, $x_5 = 60$. ג. 40.

(2) א. $I_1 = \frac{255}{317}$, $I_2 = \frac{97}{317}$, $I_3 = \frac{158}{317}$

(3) $I_1 = -\frac{5}{22}$, $I_2 = \frac{7}{22}$, $I_3 = \frac{6}{11}$

אלגברה ליניארית

פרק 2 - מטריצות

תוכן העניינים

14	1. מטריצות
19	2. מטריצות סימטריות ומטריצות אנטי-סימטריות
20	3. המטריצה ההופכית
27	4. דרגה של מטריצה
31	5. בחזרה למערכת משוואות ליניארית
38	6. מטריצה אלמנטרית
40	7. פירוק LU
41	8. שיטת הריבועים הפחותים - רגרסיה ליניארית

מטריצות

שאלות

1 נתונות המטריצות הבאות: $A_{4 \times 6}$, $B_{4 \times 6}$, $C_{6 \times 2}$, $D_{4 \times 2}$, $E_{6 \times 4}$.
קבעו אילו מבין המטריצות הבאות מוגדרות.
במידה והמטריצה מוגדרת, רשמו את סדר המטריצה:

- א. $A+B$ ב. AB ג. $AC-D$ ד. $AE-B$
ה. $B+AB$ ו. $E(B+A)$ ז. $(E+A^T)D$ ח. $E^T B$
ט. $E(AC)$ י. $E(B-A)$

2 מצאו את x, y, z , אם ידוע כי:

$$\begin{pmatrix} x+2y & 3x-2y \\ 2x-5y & 2x+8y \end{pmatrix} = \begin{pmatrix} 2-2z & 5+z \\ -4-3z & -12z \end{pmatrix}$$

בשאלות 3-8 נתונות המטריצות הבאות:

$$A = \begin{pmatrix} 4 & 0 \\ 1 & 2 \\ -1 & 1 \end{pmatrix}, B = \begin{pmatrix} 4 & 1 \\ 0 & -2 \end{pmatrix}, C = \begin{pmatrix} 1 & 4 & 2 \\ 4 & 1 & 5 \end{pmatrix}, D = \begin{pmatrix} 1 & 4 & 2 \\ 1 & 0 & -1 \\ 4 & 2 & 10 \end{pmatrix},$$

$$E = \begin{pmatrix} 4 & 1 & 1 \\ -1 & 0 & 1 \\ 4 & 1 & -1 \end{pmatrix}, I_2 = \begin{pmatrix} 1 & 0 \\ 0 & 1 \end{pmatrix}, I_3 = \begin{pmatrix} 1 & 0 & 0 \\ 0 & 1 & 0 \\ 0 & 0 & 1 \end{pmatrix}$$

חשבו (במידה וניתן):

3 א. $E+D$ ב. $E-D+I_3$

ג. $5C$ ד. $2D+4EI_3$

4 $2tr(D^2 - 2E)$

5 א. $4C^T + A$ ב. $\frac{1}{2}A^T + \frac{1}{4}C$

6 $I_2 BC$

7 $tr(C^T C)$

8 $DABC$

- (9) נתון כי A מטריצה ריבועית מסדר n .
נתון כי $(A-I)(A+I) = 0$.
הוכיחו או הפריכו: $A=I$ או $A=-I$.

(10) אפיינו את כל המטריצות $A_{2 \times 2}$ שמקימות $A^2 = -4I$.

(11) הוכיחו כי לכל n טבעי מתקיים $\begin{pmatrix} 2 & 0 \\ -1 & 1 \end{pmatrix}^n = \begin{pmatrix} 2^n & 0 \\ 1-2^n & 1 \end{pmatrix}$

הערה: תרגיל זה מיועד רק למי שנדרש לדעת הוכחות באינדוקציה.

- (12) שתי מטריצות A ו- B יקראו מתחלפות אם $AB = BA$.
הוכיחו או הפריכו על ידי דוגמה נגדית:

א. אם המטריצות A ו- B מתחלפות עם המטריצה $\begin{pmatrix} 0 & 1 \\ 1 & 0 \end{pmatrix}$, אז המטריצות

A ו- B מתחלפות.

ב. אם המטריצה A מתחלפת עם המטריצה $\begin{pmatrix} 0 & -1 \\ 1 & 0 \end{pmatrix}$, אז $A^T = -A$.

- (13) תהי A מטריצה ריבועית מסדר n .
נתון כי $AA^T = 0$. הוכיחו כי $A = 0$.

האם הטענה נשארת נכונה אם איברי A מרוכבים?
אם כן, הוכיחו. אם לא, הביאו דוגמה נגדית.

- (14) יהיו A ו- B מטריצות ריבועיות המקיימות $AB = BA$ (מטריצות מתחלפות).
א. הוכיחו כי לכל k טבעי מתקיים $AB^k = B^k A$.
ב. הוכיחו כי לכל k טבעי מתקיים $(AB)^k = A^k B^k$.

(15) לפי נוסחת הבינום של ניוטון $(A+B)^n = \sum_{k=1}^n \binom{n}{k} A^{n-k} B^k$, כאשר

$$A, B \in \mathbb{R}, n, k \in \mathbb{N}$$

א. האם נוסחת הבינום נשארת נכונה גם אם A ו- B מטריצות ריבועיות מסדר ℓ ?

ב. מצאו תנאי מספיק על המטריצות A ו- B , על מנת שנוסחת הבינום תהיה נכונה עבורן.

ג. מצאו את הפיתוח של $(A+I)^n$ ו- $(A-I)^n$, כאשר A ו- I ריבועיות מסדר ℓ .

16 א. הגדירו והדגימו את המונח מטריצה נילפוטנטית.
 ב. נניח ש- A ו- B מטריצות מתחלפות ונילפוטנטיות.
 הוכיחו שגם המטריצות AB ו- $A+B$ נילפוטנטיות.

17 תהי $A_{n \times n}$ מטריצה שהאיברים שלה נתונים על ידי: $a_{ij} = \min\{i, j\}$.
 תהי $B_{n \times n}$ מטריצה שהאיברים שלה נתונים על ידי: $b_{ij} = \begin{cases} 1 & i + j = n + 1 \\ 0 & \text{else} \end{cases}$.

א. כתבו את המטריצות A ו- B בצורה מפורשת.
 ב. המטריצה C מקיימת $C = A \cdot B$.
 חשבו את C ומצאו נוסחה עבור c_{ij} לכל $1 \leq i, j \leq n$.

18 מצאו מטריצה ממשית A , כך שיתקיים $A - \left(\begin{pmatrix} 0 & 1 \\ -1 & 0 \end{pmatrix} A \right)^T = A - A^T$.

תשובות סופיות

- (1) א. 4×6 ב. לא. ג. 4×2 ד. לא. ה. לא. ו. 6×6
 ז. 6×2 ח. לא

(2) $(x, y, z) = (2, 1, -1)$

(3) א. $\begin{pmatrix} 5 & 5 & 3 \\ 0 & 0 & 0 \\ 8 & 3 & 9 \end{pmatrix}$ ב. $\begin{pmatrix} 4 & -3 & -1 \\ -2 & 1 & 2 \\ 0 & -1 & -10 \end{pmatrix}$ ג. $\begin{pmatrix} 5 & 20 & 10 \\ 20 & 5 & 25 \end{pmatrix}$

ד. $\begin{pmatrix} 18 & 12 & 8 \\ -2 & 0 & 2 \\ 24 & 8 & 16 \end{pmatrix}$

(4) 230

(5) א. $\begin{pmatrix} 8 & 16 \\ 17 & 6 \\ 7 & 21 \end{pmatrix}$ ב. $\begin{pmatrix} 2.25 & 1.5 & 0 \\ 1 & 1.25 & 1.75 \end{pmatrix}$

(6) $\begin{pmatrix} 8 & 17 & 13 \\ -8 & -2 & -10 \end{pmatrix}$

(7) 63

(8) $\begin{pmatrix} -32 & 82 & -22 \\ 48 & 87 & 75 \\ -48 & 108 & -36 \end{pmatrix}$

(9) שאלת הוכחה.

(10) $A = \begin{pmatrix} a & -\frac{a^2+4}{c} \\ c & -a \end{pmatrix}$

(11) שאלת הוכחה.

(12) שאלת הוכחה.

(13) שאלת הוכחה.

(14) שאלת הוכחה.

(15) א+ב. שאלת הוכחה.

$$(A+I)^n = \binom{n}{0}A^n + \binom{n}{1}A^{n-1} + \binom{n}{2}A^{n-2} + \dots + \binom{n}{n-1}A^1 + \binom{n}{n}I$$

$$(A-I)^n = \binom{n}{0}A^n - \binom{n}{1}A^{n-1} + \binom{n}{2}A^{n-2} - \dots + (-1)^{n+1} \binom{n}{n-1}A^1 + (-1)^n \binom{n}{n}I$$

(16) שאלת הוכחה.

$$A = \begin{pmatrix} 1 & 1 & 1 & 1 & 1 & \dots & 1 \\ 1 & 2 & 2 & 2 & 2 & \dots & 2 \\ 1 & 2 & 3 & 3 & 3 & \dots & 3 \\ 1 & 2 & 3 & 4 & 4 & \dots & 4 \\ 1 & 2 & 3 & 4 & 5 & \dots & 5 \\ \vdots & \vdots & \vdots & \vdots & \vdots & \ddots & \vdots \\ 1 & 2 & 3 & 4 & 5 & \dots & n \end{pmatrix} \quad B = \begin{pmatrix} 0 & 0 & 0 & 0 & 0 & 0 & 1 \\ 0 & 0 & 0 & 0 & 0 & \ddots & 0 \\ 0 & 0 & 0 & 0 & 1 & 0 & 0 \\ 0 & 0 & 0 & 1 & 0 & 0 & 0 \\ 0 & 0 & 1 & 0 & 0 & 0 & 0 \\ 0 & 1 & 0 & 0 & 0 & 0 & 0 \\ 1 & 0 & 0 & 0 & 0 & 0 & 0 \end{pmatrix} \quad \text{א. (17)}$$

$$C = \begin{pmatrix} 1 & \dots & 1 & 1 & 1 & 1 & 1 \\ 2 & \dots & 2 & 2 & 2 & 2 & 1 \\ 3 & \dots & 3 & 3 & 3 & 2 & 1 \\ 4 & \dots & 4 & 4 & 3 & 2 & 1 \\ 5 & \dots & 5 & 4 & 3 & 2 & 1 \\ \vdots & \ddots & \vdots & \vdots & \vdots & \vdots & \vdots \\ n & \dots & 5 & 4 & 3 & 2 & 1 \end{pmatrix} \quad \text{ב. } c_{ij} = \min\{i, n+1-j\}$$

$$A = \begin{pmatrix} -1 & 1 \\ 1 & 1 \end{pmatrix} \quad \text{(18)}$$

מטריצות סימטריות ומטריצות אנטי-סימטריות

שאלות

מטריצה ריבועית A תיקרא סימטרית אם $A^T = A$, ואנטי-סימטרית אם $A^T = -A$.

(1) ידוע ש- A מטריצה ריבועית.
מי מבין הבאים נכון (אחד או יותר):

1. AA^T סימטרית.
2. $A + A^T$ סימטרית.
3. $A - A^T$ אנטי-סימטרית.

(2) ידוע ש- A ו- B אנטי-סימטריות מאותו סדר.
מי מבין הבאים נכון:

1. $BABABA$ אנטי-סימטרית.
2. $A^2 - B^2$ סימטרית.
3. $A^2 + B$ סימטרית.

(3) ידוע ש- A ו- B סימטריות מאותו סדר ונתון כי $AB = -BA$.
מי מבין הבאים נכון:

1. AB^3 אנטי-סימטרית.
2. AB^2 סימטרית.
3. $(A - B)^2$ סימטרית.

(4) ידוע ש- A סימטרית ו- B אנטי סימטרית מאותו סדר ונתון כי $AB = BA$.
הוכיחו:

1. AB אנטי-סימטרית.
2. $AB + B$ אנטי-סימטרית.

(5) נתון: A, B, AB סימטריות מאותו סדר.
הוכיחו כי $A^4 B^4 = B^4 A^4$.

תשובות סופיות

- (1) 1,2,3
- (2) 2
- (3) 1,2,3
- (4) שאלת הוכחה.
- (5) שאלת הוכחה.

המטריצה ההופכית

שאלות

בשאלות 1-9 מצאו את ההפוכה של כל מטריצה. בדקו את התשובות על ידי כפל מטריצות מתאים.

$$\begin{array}{lll} \begin{pmatrix} 4 & 1.5 \\ 2 & 1 \end{pmatrix} & \text{(3)} & \begin{pmatrix} 5 & 2 \\ 7 & 3 \end{pmatrix} & \text{(2)} & \begin{pmatrix} 1 & 2 \\ 3 & 4 \end{pmatrix} & \text{(1)} \\ \begin{pmatrix} 2 & -1 & 1 \\ 3 & -2 & 2 \\ 5 & -3 & 4 \end{pmatrix} & \text{(6)} & \begin{pmatrix} 2 & 1 & 1 \\ 0 & 2 & -1 \\ 5 & 2 & 3 \end{pmatrix} & \text{(5)} & \begin{pmatrix} 1 & 0 & 2 \\ 4 & -1 & 8 \\ 2 & 1 & 3 \end{pmatrix} & \text{(4)} \\ \begin{pmatrix} 1 & 1 & 0 & 1 \\ 4 & 2 & 2 & 3 \\ 2 & -1 & 2 & -1 \\ 4 & 0 & 2 & -2 \end{pmatrix} & \text{(9)} & \begin{pmatrix} 1 & 4 & 2 & 4 \\ 1 & 2 & -1 & 0 \\ 0 & 1 & 1 & 1 \\ 1 & 3 & -1 & -2 \end{pmatrix} & \text{(8)} & \begin{pmatrix} 1 & 0 & 0 & 0 \\ 1 & 2 & 0 & 0 \\ 1 & 2 & 3 & 0 \\ 1 & 2 & 3 & 4 \end{pmatrix} & \text{(7)} \end{array}$$

(10) עבור אילו ערכים של הקבוע k המטריצה $\begin{pmatrix} 1 & -1 & 1 \\ 5 & -7 & k^2+3 \\ 3 & -1 & k+3 \end{pmatrix}$ הפיכה?

(11) עבור אילו ערכים של הקבוע k המטריצה $\begin{pmatrix} 1 & 1 & 1 & 1 & k \\ 1 & 1 & 1 & k & 1 \\ 1 & 1 & k & 1 & 1 \\ 1 & k & 1 & 1 & 1 \\ k & 1 & 1 & 1 & 1 \end{pmatrix}$ איננה הפיכה?

הניחו שהמטריצות בשאלות 12-14 הן הפיכות מסדר n , וחלצו את X :

(12) א. $AXC = D$. ב. $A^{-1}XC = A^{-1}DC$. ג. $P^{-1}X^T P = A$

(13) א. $C^{-1}(A+X)D^{-2} = I$. ב. $(A-AX)^{-1} = X^{-1}C$

(14) $ABC^T X^{-1} BA^T C = AB^T$

(15) נתון $B = \begin{pmatrix} 1 & 2 \\ 4 & 9 \end{pmatrix}$.

חשבו את X , אם ידוע כי $B^2 X (2B)^{-1} = B + I$.

$$(16) \text{ נתון } B^{-1} = \begin{pmatrix} 1 & 0 & 2 \\ 4 & -1 & 8 \\ 2 & 1 & 3 \end{pmatrix} \text{ , חשבו את } Y \text{ , אם ידוע כי } BYB^T = B^{-1} + B$$

$$(17) \text{ נתון } A^{-1} = \begin{pmatrix} 2 & 3 \\ 4 & 7 \end{pmatrix}$$

$$\text{חשבו את } B \text{ , אם נתון בנוסף כי : } 5A^T B(I+2A)^{-2} = (7A)^{-2}$$

(18) ענו על הסעיפים הבאים :

א. נתון : A מטריצה ריבועית המקיימת $A^2 - 5A - 2I = 0$

הוכיחו כי A הפיכה ובטאו את A^{-1} במונחי A ו- I .

ב. נתון : A מטריצה ריבועית המקיימת $(A-3I)(A+2I) = 0$

הוכיחו כי A הפיכה ובטאו את A^{-1} במונחי A ו- I .

$$(19) \text{ נתון כי } p(x) = x^3 - 4x^2 - 20x + 48 \text{ , } A = \begin{pmatrix} -1 & 3 & 0 \\ 3 & -1 & 0 \\ -2 & -2 & 6 \end{pmatrix}$$

א. חשבו את $p(A)$.

ב. בעזרת תוצאת סעיף א (ולא בדרך אחרת), הוכיחו ש- A הפיכה, ובטאו את A^{-1} בעזרת A ו- I בלבד.

(20) נתון כי A מטריצה ריבועית המקיימת $A^4 = 0$

א. הוכיחו כי A לא הפיכה.

ב. הוכיחו כי המטריצה $I - A$ הפיכה, ומצאו את ההופכית שלה.

$$(21) \text{ נתון כי } \begin{cases} P^{-1}AP = B \\ Q^{-1}BQ = C \end{cases}$$

הוכיחו כי קיימת מטריצה הפיכה D , כך ש- $D^{-1}AD = C$

* הניחו שכל המטריצות הנתונות ריבועיות, מאותו סדר והפיכות.
 ** לסטודנטים המכירים את המושג **דמיון מטריצות**, ניתן לנסח את השאלה כך :
 הוכיחו : אם A דומה ל- B ו- B דומה ל- C , אז A דומה ל- C .
 (כלומר יחס הדמיון הוא יחס טרנזיטיבי)

הערה : בפרק 3 (דטרמיננטות) תמצאו שאלות נוספות הנוגעות למטריצה ההפוכה.

(22) תהיינה A, B מטריצות ריבועיות ממשיות מסדר $n \geq 2$. הוכיחו או הפריכו כל אחת מהטענות הבאות:

- א. $AB = BA$.
 ב. אם $A^2 - AB = I_n$, אז בהכרח B הפיכה.
 ג. אם $A^2 - AB = I_n$, אז בהכרח A הפיכה.
 ד. אם $(AB)^{100} = I$, אז בהכרח $(BA)^{100} = I$.
 ה. אם $(AB)^{100} = 0$, אז בהכרח $(BA)^{101} = 0$.

(23) תהיינה A, B מטריצות מסדר $n \times n$, עבורן $A^2 + AB = I$.

- א. הוכיחו ש- $AB = BA$.
 ב. אם נתון בנוסף ש- $B^2 + BA$ היא מטריצת האפס, הוכיחו שגם B היא מטריצת האפס.

(24) תהיינה A, B מטריצות כלשהן.

הוכיחו או הפריכו את הטענות הבאות:

- א. אם $AB = I$ אז $B = A^{-1}$.
 ב. אם המכפלה AB היא מטריצה ריבועית, אזי A, B מטריצות ריבועיות.
 ג. אם המכפלה AB היא מטריצה הפיכה, אזי A, B מטריצות ריבועיות.
 ד. המכפלה AB לא הפיכה.
 ה. אם A מטריצה ריבועית והמכפלה AB מוגדרת, אזי B מטריצה ריבועית.

(25) מטריצה ריבועית A תיקרא אידמפוטנטית אם $A^2 = A$. הוכיחו:

- א. למעט המקרה בו $A = I$, מטריצה אידמפוטנטית היא לא הפיכה.
 ב. אם נחסר מטריצה אידמפוטנטית ממטריצת היחידה נקבל מטריצה אידמפוטנטית.
 ג. אם A מטריצה אידמפוטנטית ריבועית מסדר 2, אז $\text{tr}(A) = 1$ או ש- A מטריצה אלכסונית.
 ד. A אידמפוטנטית $\Leftrightarrow A^n = A$, לכל n טבעי.

$$(26) \text{ נתונה } M = \begin{pmatrix} a & b & c & d \\ -b & a & -d & c \\ -c & d & a & -b \\ -d & -c & b & a \end{pmatrix} \quad (a, b, c, d \in \mathbb{R})$$

מצאו תנאי על הקבועים a, b, c, d כך ש- M תהיה הפיכה ומצאו את M^{-1} במקרה זה.

$$(27) \text{ נתון כי } A = \begin{pmatrix} \alpha_{11} & \alpha_{12} & \alpha_{13} \\ \alpha_{21} & \alpha_{22} & \alpha_{23} \\ \alpha_{31} & \alpha_{32} & \alpha_{33} \end{pmatrix} \text{ הפיכה.}$$

לגבי כל אחת מהמערכות הבאות קבע את מספר הפתרונות של המערכת.

$$\alpha_{11}x + \alpha_{12}y = \alpha_{13}$$

$$\alpha_{21}x + \alpha_{22}y = \alpha_{23} \quad \text{א.}$$

$$\alpha_{31}x + \alpha_{32}y = \alpha_{33}$$

$$\alpha_{11}x + \alpha_{12}y + \alpha_{13}z + w = 0$$

$$\alpha_{21}x + \alpha_{22}y + \alpha_{23}z - 4w = 1 \quad \text{ב.}$$

$$\alpha_{31}x + \alpha_{32}y + \alpha_{33}z + 3w = -4$$

$$\alpha_{11}x + \alpha_{21}y + \alpha_{31}z = 3$$

$$\alpha_{12}x + \alpha_{22}y + \alpha_{32}z = 1 \quad \text{ג.}$$

$$\alpha_{13}x + \alpha_{23}y + \alpha_{33}z = 1$$

(28) תהינה A, B מטריצות מסדר $n \times n$.

הוכיחו:

א. אם $BA = I - A^2$ וגם $B^2 = -AB$, אז $B = 0$.

ב. אם $A^2 = 2I$, אז $A + I$ ו- $A - I$ הפיכות.

(29) תהינה A, B מטריצות מסדר $n \times n$, כך ש- $B^2A = -2B^3$ וגם

$$(2) \quad B^3 + AB^2 = 3I$$

הוכיחו ש- A ו- B הפיכות, ובטאו את A^{-1} ו- B^{-1} באמצעות B .

(30) תהינה A, B מטריצות מסדר $n \times n$, כך ש- $BA + 2I = B$.

א. הוכיחו ש- B הפיכה.

ב. ידוע ש- B סימטרית.

הוכיחו כי A סימטרית.

(31) תהי A מטריצה נילפוטנטית (כלומר, קיים n טבעי כך ש- $A^n = 0$).

א. הוכיחו כי A לא הפיכה.

ב. הוכיחו כי $I - A$ ו- $I + A$ הפיכות.

ג. נגדיר: $e^A = I + \frac{1}{1!}A + \frac{1}{2!}A^2 + \frac{1}{3!}A^3 + \dots + \frac{1}{n!}A^n + \dots$

הוכיחו: אם $e^A = I$ אז $A = 0$.

(32) נתונות שתי מטריצות, A ו- B , מסדר n .
סמנו את הטענה שנכונה בהכרח:

- א. ל- A ול- A^T יש אותה צורה מדורגת קנונית.
- ב. אם A, B מדורגות קנונית, אז $A+B$ מדורגת קנונית.
- ג. אם A, B מדורגות קנונית, אז $A-B$ מדורגת קנונית.
- ד. אם בצורה המדורגת קנונית של B יש שורת אפסים, אז גם בצורה המדורגת קנונית של AB יש שורת אפסים.

תשובות סופיות

$$\begin{pmatrix} 1 & -1.5 \\ -2 & 4 \end{pmatrix} \quad (3)$$

$$\begin{pmatrix} 3 & -2 \\ -7 & 5 \end{pmatrix} \quad (2)$$

$$\begin{pmatrix} 2 & 1 \\ 1.5 & -0.5 \end{pmatrix} \quad (1)$$

$$\begin{pmatrix} 8 & -1 & -3 \\ -5 & 1 & 2 \\ -10 & 1 & 4 \end{pmatrix} \quad (5)$$

$$\begin{pmatrix} -11 & 2 & 2 \\ 4 & -1 & 0 \\ 6 & -1 & -1 \end{pmatrix} \quad (4)$$

$$\begin{pmatrix} 1 & 0 & 0 & 0 \\ -\frac{1}{2} & \frac{1}{2} & 0 & 0 \\ 0 & -\frac{1}{3} & \frac{1}{3} & 0 \\ 0 & 0 & -\frac{1}{4} & \frac{1}{4} \end{pmatrix} \quad (7)$$

$$\begin{pmatrix} 2 & -1 & 0 \\ 2 & -3 & 1 \\ -1 & -1 & 1 \end{pmatrix} \quad (6)$$

$$\begin{pmatrix} 7 & -2 & 3 & -1 \\ -10 & 3 & -5 & 2 \\ -10 & 3 & -4 & 1.5 \\ 4 & -1 & 2 & -1 \end{pmatrix} \quad (9)$$

$$\begin{pmatrix} 7 & -10 & -20 & 4 \\ -2 & 3 & 6 & -1 \\ 3 & -5 & -8 & 2 \\ -1 & 2 & 3 & -1 \end{pmatrix} \quad (8)$$

$$k=1, k=-4 \quad (11)$$

$$k \neq 1, k \neq -2 \quad (10)$$

$$(P^{-1})^T A^T P^T \quad \text{ג.} \quad D \quad \text{ב.} \quad A^{-1}DC^{-1} \quad \text{א.} \quad (12)$$

$$(A+C^{-1})^{-1}A \quad \text{ג.} \quad A \quad \text{ב.} \quad CD^2 - A \quad \text{א.} \quad (13)$$

$$X = 4 \begin{pmatrix} 5 & -1 \\ -2 & 1 \end{pmatrix} \quad (15)$$

$$BA^T C(B^{-1})^T BC^T \quad (14)$$

$$B = \frac{1}{245} \begin{pmatrix} 264 & 450 \\ 448 & 768 \end{pmatrix} \quad (17)$$

$$Y = \begin{pmatrix} 22 & 86 & 38 \\ 64 & 246 & 114 \\ 60 & 238 & 100 \end{pmatrix} \quad (16)$$

$$A^{-1} = \frac{1}{6}A - \frac{1}{6}I \quad \text{ג.} \quad A^{-1} = 0.5A - 2.5I \quad \text{א.} \quad (18)$$

$$A^{-1} = 0.5A - 2.5I \quad \text{א.} \quad (18)$$

$$B^{-1} = -\frac{1}{48}B^2 + \frac{1}{12}B + \frac{5}{12}I \quad \text{ג.} \quad B^{-1} = -\frac{1}{48}B^2 + \frac{1}{12}B + \frac{5}{12}I \quad \text{ב.} \quad (19)$$

$$f(B) = \begin{pmatrix} 0 & 0 & 0 \\ 0 & 0 & 0 \\ 0 & 0 & 0 \end{pmatrix} \quad \text{א.} \quad (19)$$

$$(I-A)^{-1} = I + A + A^2 + A^3 \quad \text{ג.} \quad (I-A)^{-1} = I + A + A^2 + A^3 \quad \text{ב.} \quad (20)$$

$$\text{א. שאלת הוכחה.} \quad (20)$$

$$\text{שאלת הוכחה.} \quad (21)$$

$$\text{שאלת הוכחה.} \quad (22)$$

$$\text{שאלת הוכחה.} \quad (23)$$

$$\text{שאלת הוכחה.} \quad (24)$$

$$\text{שאלת הוכחה.} \quad (25)$$

$$((a,b,c,d) \neq (0,0,0,0)) \quad M^{-1} = \frac{1}{(a^2+b^2+c^2+d^2)} M^T \quad (26)$$

- 27) א. אין פתרון. ב. אינסוף פתרונות. ג. פתרון יחיד.
- 28) שאלת הוכחה.
- 29) שאלת הוכחה.
- 30) שאלת הוכחה.
- 31) שאלת הוכחה.
- 32) ד

דרגה של מטריצה

שאלות

(1) אמתו את המשפט $\text{rank}(A) = \text{rank}(A^T)$,

$$. A = \begin{pmatrix} 1 & 2 & 3 & 4 & 10 \\ 5 & 6 & 7 & 8 & 14 \\ 6 & 8 & 10 & 12 & 24 \\ 3 & 2 & 1 & 0 & -6 \end{pmatrix} \text{ על המטריצה}$$

(2) אמתו את המשפט $\text{rank}(AB) \leq \min\{\text{rank}(A), \text{rank}(B)\}$,

$$. A = \begin{pmatrix} 1 & 2 & 3 & 4 \\ 5 & 6 & 7 & 8 \\ 6 & 8 & 10 & 12 \\ 3 & 2 & 1 & 0 \end{pmatrix} \quad B = \begin{pmatrix} 1 & 2 & 3 \\ 4 & 5 & 6 \\ 7 & 8 & 9 \\ 1 & 1 & 1 \end{pmatrix} \text{ עבור}$$

$$. A = \begin{pmatrix} 1-k & 0 & 0 & 0 \\ 0 & 1-k & 0 & 0 \\ 0 & 0 & 4-k & 1 \\ 0 & 0 & 0 & 10-k \end{pmatrix} \text{ נתונה המטריצה (3)}$$

חשבו את $\text{rank}(A)$.

(4) נתון כי A מטריצה ריבועית מסדר $n > 1$. הוכיחו או הפריכו:

א. $\text{rank}(A) = n-1 \Rightarrow \text{rank}(A^2) = n-1$

ב. $\text{rank}(A) = n-1 \Leftarrow \text{rank}(A^2) = n-1$

(5) נתון כי A, B מטריצות ריבועיות מסדר $n > 1$. הוכיחו או הפריכו:

א. אם $\text{rank}(A) = \text{rank}(AB)$, אז בהכרח B הפיכה.

ב. ייתכן ש- $\text{rank}(A) < \text{rank}(AB)$.

ג. אם $\text{rank}(A) > \text{rank}(B)$, אז $\text{rank}(AB) > \text{rank}(B)$.

$$(6) \text{ נתון } A = \begin{pmatrix} 1 & -2 & 3 \\ 0 & 0 & -1 \\ 0 & 0 & 4 \end{pmatrix}, B = \begin{pmatrix} 1 & 2 & 3 \\ 0 & 4 & 5 \\ 0 & 0 & 1 \end{pmatrix}$$

א. חשבו את $\text{rank}(A)$, $\text{rank}(B)$.

ב. חשבו את $\text{rank}(B^{10}A^{14})$.

(7) נניח כי A, B שתי מטריצות ריבועיות מסדר n .

הוכיחו כי $\text{rank} \begin{pmatrix} A & A \\ A & B \end{pmatrix} \leq 2\text{rank}(A) + \text{rank}(B)$.

(8) תהי $A_{8 \times 7}$ מטריצה, כך ש- $\text{rank}(A) = 3$.

הוכיחו כי קיימות 3 מטריצות A_1, A_2, A_3 , שלכל אחת מהן דרגה 1,

כך ש- $A = A_1 + A_2 + A_3$.

הראו כי לא ניתן לקבל זאת עם פחות מ-3 מטריצות.

הכלילו את תוצאת התרגיל למטריצה מסדר $m \times n$ שדרגתה k .

(9) נתונות שתי מטריצות $A_{3 \times 5}, B_{5 \times 3}$.

הוכיחו או הפריכו את הטענות הבאות:

א. $\text{rank}(AB) = \text{rank}(BA)$.

ב. $\text{rank}(AB) \neq \text{rank}(BA)$.

ג. המטריצה BA לא הפיכה.

(10) תהי A מטריצה מסדר $m \times n$, ותהי B מטריצה מסדר $n \times m$.
הוכיחו:

א. אם $AB = I_m$ אז $\text{rank}(A) = \text{rank}(B) = m$.

ב. אם $BA = I_n$ אז $\text{rank}(A) = \text{rank}(B) = n$.

ג. אם $AB = I_m$ וגם $BA = I_n$ אז בהכרח $m = n$.

ד. אם A לא ריבועית אז לא ייתכן שגם $AA^T = I_m$ וגם $A^T A = I_n$.

(11) בשדה F נתונים a_1, a_2, \dots, a_m איברים, שלא כולם אפס, ו- b_1, b_2, \dots, b_n איברים, שלא כולם אפס.

קבעו מהי דרגתה של המטריצה $M = (m_{ij})_{\substack{1 \leq i \leq m \\ 1 \leq j \leq n}}$, כאשר $m_{ij} = a_i b_j$.

12 תהי $A = (a_{ij})_{1 \leq i, j \leq n}$ מטריצה שהאיברים שלה נתונים על ידי: $a_{ij} = b_i^2 - b_j^2$,

כאשר b_1, b_2, \dots, b_n מספרים ממשיים שונים ו- $n \geq 3$.

א. הוכיחו שהמטריצה לא הפיכה.

ב. האם הטענה תישאר נכונה אם נשנה את הנתון ל- $n \geq 2$?

הוכיחו או הפריכו.

13 תהיינה A, B מטריצות מעל \mathbb{R} , מסדר $m \times n$, כך שלכל $\underline{x} \in \mathbb{R}^n$, $\underline{x} \neq \underline{0}$,

מתקיים $A\underline{x} \neq B\underline{x}$.

מה הדרגה של המטריצה $A - B$?

14 תהיינה A, B מטריצות מסדר $n \times n$.

א. נתון שכל פתרון של המערכת $(AB)\underline{x} = \underline{0}$, הוא פתרון של המערכת

$$A\underline{x} = \underline{0}$$

הוכיחו שהדרגה של AB שווה לדרגה של A .

ב. הוכיחו: אם A הפיכה, אז $\rho(AB) = \rho(A)$.

ג. הוכיחו שאם $\rho(AB) < \rho(A)$, אז A לא הפיכה.

15 תהי A מטריצה מסדר $n \times n$.

א. הוכיחו כי $P(A) \subseteq P(A^2)$.

ב. נתון כי $\rho(A^2) < \rho(A)$.

הוכיחו שקיים $v \in \mathbb{R}^n$, כך ש- $Av \neq 0$ וגם $A^2v = 0$.

תשובות סופיות

- (1) שאלת הוכחה.
- (2) שאלת הוכחה.
- (3) אם $k=1$, אז $\text{rank}(A)=2$. אם $k=4, k=10$, אז $\text{rank}(A)=3$.
- אם $\text{rank}(A)=4$ $k \neq 1, 4, 10$.
- (4) א. הטענה אינה נכונה. ב. הטענה נכונה.
- (5) א. הטענה אינה נכונה. ב. הטענה אינה נכונה. ג. הטענה אינה נכונה.
- (6) א. $\text{rank}(A)=2$, $\text{rank}(B)=3$. ב. $\text{rank}(B^{10}A^{14})=2$.
- (7) שאלת הוכחה.
- (8) שאלת הוכחה.
- (9) שאלת הוכחה.
- (10) שאלת הוכחה.
- (11) 1
- (12) שאלת הוכחה.
- (13) n
- (14) שאלת הוכחה.
- (15) שאלת הוכחה.

בחזרה למערכת משוואות ליניארית

שאלות

1) בסעיפים הבאים מצאו מטריצות A , \underline{x} ו- \underline{b} , המבטאות את מערכת המשוואות הנתונה ע"י המשוואה היחידה $A\underline{x} = \underline{b}$:

$$2x - 3y + z + t = 1$$

$$4x + y + 2z = 4$$

$$y + z + t = 1$$

$$x - 4z - 2y = 10$$

$$2x + y - z = 3$$

$$x + 2y - 4z = 5$$

$$6x + 4y + z = 2$$

בשאלות 2-6 נתון כי $\underline{b} = \begin{pmatrix} 1 \\ 2 \\ 3 \end{pmatrix}$, $\underline{x} = \begin{pmatrix} x \\ y \\ z \end{pmatrix}$ ו- $A = \begin{pmatrix} 4 & -2 & 4 \\ 1 & -1 & 1 \\ 1 & -6 & 3 \end{pmatrix}$.

בטאו כל אחת מהמשוואות בשאלות אלה כמערכת משוואות ליניאריות:

$$A\underline{x} = -k\underline{x} + \underline{b} \quad (4)$$

$$A\underline{x} = 4\underline{x} + \underline{b} \quad (3)$$

$$A\underline{x} = \underline{b} \quad (2)$$

$$A^T \underline{x} = 2\underline{x} + 3\underline{b} \quad (6)$$

$$A\underline{x} = \underline{x} \quad (5)$$

$$2x - y + z = 3$$

7) פתרו את מערכת המשוואות $3x - 2y + 2z = 5$,

$$5x - 3y + 4z = 11$$

בעזרת המטריצה ההפוכה.

$$x + 4y + 2z + 4t = 1$$

$$x + 2y - z = 0$$

$$y + z + t = 1$$

$$x + 3y - z - 2t = 0$$

8) פתרו את מערכת המשוואות בעזרת המטריצה ההפוכה.

9) למערכת משוואות מסוימת יש את שני הפתרונות הבאים:

$$(x, y, z) = (-1, 4, -2), \quad (x, y, z) = (2, -8, 4)$$

הוכיחו שהמערכת חייבת להיות הומוגנית.

10 למערכת משוואות לא הומוגנית יש את שני הפתרונות הבאים :
 $(x, y, z) = (2, 3, 4)$, $(x, y, z) = (-1, 4, -2)$
 מצאו פתרון לא טריוויאלי כלשהו של המערכת ההומוגנית המתאימה.

$$(11) \text{ נתונה המערכת } \begin{cases} x + y - z = 1 \\ 3x - 7y + (k^2 + 1)z = k^2 - 1 \\ 4x - 6y + (k + 2)z = 4 \end{cases}$$

מצאו עבור אילו ערכים של הקבוע k , למערכת :
 א. פתרון יחיד. ב. אין פתרון. ג. אינסוף פתרונות.

* השתמשו בפתרון במושג 'דרגה של מטריצה'.

$$(12) \text{ נתון } A = \begin{pmatrix} 1 & 1 & 2 & 3 \\ 2 & 0 & 1 & 2 \\ 5 & 8 & 4 & 2 \\ 0 & -5 & 3 & k \end{pmatrix}, b = \begin{pmatrix} 1 \\ 2 \\ 0 \\ m \end{pmatrix}$$

ידוע כי $\text{rank}(A) = 3$, וידוע כי למערכת $Ax = b$ יש פתרון.
 מצאו את הקבועים k, m .

13 נתונה מטריצה ריבועית A , המקיימת את התכונה הבאה :
 סכום האיברים בכל שורה של המטריצה A שווה 0.
 הוכיחו ש- A מטריצה לא הפיכה.

14 נתונה מטריצה ריבועית הפיכה A , המקיימת את התכונה הבאה :
 סכום האיברים בכל שורה של המטריצה A שווה k .
 הוכיחו שסכום האיברים בכל שורה של המטריצה הוא קבוע.
 בטאו קבוע זה בעזרת k .

$$(15) \text{ מטריצה } A \text{ מקיימת } A \begin{pmatrix} 1 & 2 & 3 \\ 4 & 5 & 6 \\ 7 & 8 & 9 \end{pmatrix} = 0$$

הוכיחו כי הווקטור $\begin{pmatrix} 6 \\ 15 \\ 24 \end{pmatrix}$ הוא פתרון של המערכת ההומוגנית $Ax = 0$.

- 16** יהיו A, B מטריצות ממשיות מסדר $n \times n$. עבור כל אחת מהטענות הבאות קבעו האם היא נכונה או לא.
- א. אם למערכת $(AB)x = 0$ קיימים שני פתרונות שונים, אז בהכרח A לא הפיכה.
- ב. אם קיים פתרון שונה מ-0 למערכת $(AB)x = 0$, אז למערכת $(BA)x = 0$ קיים פתרון שונה מ-0.
- ג. אם למערכת $Ax = 0$ קיים פתרון יחיד, אז ייתכן ש- $A^2 = 0$.
- ד. אם למערכת $(A^t A)x = 0$ קיים פתרון יחיד, אז A לא הפיכה.
- ה. אם קיים פתרון שונה מ-0 למערכת ההומוגנית $(AB)x = 0$, אז למערכת ההומוגנית $Ax = 0$ קיים פתרון שונה מ-0.

- 17** נתונה מערכת משוואות מעל \mathbb{R} : $Ax = d$ ($d \neq 0$). נתון כי A מטריצה ריבועית מסדר 4, המקיימת $\text{rank}(A) = 2$. ידוע כי הווקטורים הבאים פותרים את המערכת הנתונה:
- $$u = (x_1, x_2, 6, 7), \quad v = (y_1, y_2, 1, 2), \quad w = (z_1, z_2, 4, 3)$$
- מי מבין הבאים הוא הפתרון הכללי של המערכת הנתונה:
- א. $x = au + bv + cw$
- ב. $x = (a + b + 1)u - av - bw$
- ג. $x = au + bv + w$
- ד. $x = (a - b)u + (b - c)v + (c - a)w$
- ה. $x = (a + b)u - (av + bw + u)$, כאשר $a, b, c \in \mathbb{R}$.

- הערה:** בחלקו האחרון של פתרון תרגיל זה נדרש הידע הבא מהפרק מרחבים וקטורים: בהינתן מערכת הומוגנית $Ax = 0$:
- אוסף כל הפתרונות של המערכת נקרא מרחב הפתרונות של המערכת.
 - מספר המשתנים החופשיים במערכת לאחר דירוג נקרא המימד של מרחב הפתרונות. בכל אופן, מומלץ לחזור לתרגיל זה אחרי שתעברו על הפרק מרחבים וקטורים.

- 18** נתונה מערכת $A_{m \times n} \cdot x = b$. הוכיחו או הפריכו:
- א. אם u וגם λu ($\lambda \neq 1$) פתרונות של המערכת אז המערכת הומוגנית.
- ב. אם u ו- v וגם $\alpha u + \beta v$ ($\alpha, \beta \neq 0$) פתרונות של המערכת אז היא הומוגנית.
- ג. אם הווקטורים $(1, 2, \dots, n)$, $(n, \dots, 2, 1)$ פותרים את המערכת והווקטור $(n+1, \dots, n+1)$ לא פותר את המערכת, אז המערכת לא הומוגנית.

(19) תהי A מטריצה כך שלמערכת $Ax=0$ פתרון יחיד. הוכיחו או הפריכו:

- A הפיכה.
- למערכת ההומוגנית עם מטריצת מקדמים A^T פתרון יחיד.
- לכל מערכת לא הומוגנית עם מטריצת מקדמים A פתרון יחיד.

(20) תהי $A_{m \times n}$ מטריצה ממשית כך ש- $m < n$. הוכיחו או הפריכו:

- ממד מרחב הפתרונות של המערכת $Ax=0$ הוא $n-m$.
- למערכת $(A^T A)x=0$ יש אינסוף פתרונות.
- ייתכן מצב בו למערכת $(A^T A)x=0$ יש פתרון יחיד.
- ייתכן מצב בו למערכת $(AA^T)x=0$ יש פתרון יחיד.

(21) תהי A מטריצה ריבועית מסדר n , כך שלכל מטריצה ריבועית $B \neq 0$ מסדר n , מתקיים $AB \neq 0$. הוכיחו ש- $\text{rank}(A) = n$.

(22) תהי A מטריצה ממשית מסדר $m \times n$.

לגבי כל אחת מהטענות הבאות, קבעו אם היא נכונה או לא. נמקו.

- אם למערכת $Ax=b$ יש פתרון לכל $b \in \mathbb{R}^m$, אז בהכרח למערכת $A^T x=b$ יש פתרון לכל $b \in \mathbb{R}^m$.
- עבור $m=n$, אם למערכת $Ax=b$ יש פתרון לכל $b \in \mathbb{R}^m$, אז בהכרח למערכת $A^T x=b$ יש פתרון לכל $b \in \mathbb{R}^m$.
- אם למערכת ההומוגנית $Ax=0$ יש אינסוף פתרונות, אז בהכרח $m < n$.
- ייתכן ש- $A^T A = I_n$ וגם $AA^T = I_m$.
- אם $m \neq n$ ואם למערכת $Ax=0$ יש פתרון יחיד, אז יש מערכת לא הומוגנית $Ax=b$ עם יותר מפתרון אחד.

(23) תהא $A \in M_{4 \times 4}(R)$ ויהי $b \in R^4$.

ידוע כי u ו- v פתרונות של המערכת הלא הומוגנית $Ax=b$.

- נגדיר $w = \alpha u + \beta v$. הוכיחו כי אם גם w פתרון של המערכת $Ax=b$, אז $\alpha + \beta = 1$.
- נניח בנוסף כי $w = -u + 2v$ הוא פתרון של המערכת $A^2 x = b$. הוכיחו כי $A-I$ לא הפיכה.

$$(24) \text{ נתון } A = \begin{pmatrix} 1 & 2 & 0 & 2 & 3 \\ 2 & 4 & 1 & 3 & 6 \\ -3 & -6 & 3 & -8 & -8 \end{pmatrix}, \text{ ויהי } b = \begin{pmatrix} 1 \\ 4 \\ 3 \end{pmatrix}$$

א. הראו כי $v = (2, -1, 1, -1, 1)^T$ הוא פתרון של המערכת $Ax = b$.

ב. מצאו את קבוצת הפתרונות של המערכת ההומוגנית $Ax = 0$.

ג. מצאו $C, D \in M_{5 \times 2}(\mathbb{R})$, כך ש- $C \neq D$ ו- $AC = AD = \begin{pmatrix} 1 & -1 \\ 4 & -4 \\ 3 & -3 \end{pmatrix}$.

תשובות סופיות

$$A = \begin{pmatrix} 2 & 1 & -1 \\ 1 & 2 & -4 \\ 4 & 4 & 1 \end{pmatrix} \quad \underline{x} = \begin{pmatrix} x \\ y \\ z \end{pmatrix} \quad \underline{b} = \begin{pmatrix} 3 \\ 5 \\ 2 \end{pmatrix} \quad \text{א. (1)}$$

$$A = \begin{pmatrix} 2 & -3 & 1 & 1 \\ 4 & 1 & 2 & 0 \\ 0 & 1 & 1 & 1 \\ 1 & -2 & -4 & 0 \end{pmatrix} \quad \underline{x} = \begin{pmatrix} x \\ y \\ z \\ t \end{pmatrix} \quad \underline{b} = \begin{pmatrix} 1 \\ 4 \\ 1 \\ 10 \end{pmatrix} \quad \text{ב.}$$

$$4x - 2y + 4z = 1$$

$$x - y + z = 2 \quad \text{(2)}$$

$$x - 6y + 3z = 3$$

$$-2y + 4z = 1$$

$$x - 5y + z = 2 \quad \text{(3)}$$

$$x - 6y - z = 3$$

$$(4+k)x - 2y + 4z = 1$$

$$x + (k-1)y + z = 2 \quad \text{(4)}$$

$$x - 6y + (3+k)z = 3$$

$$3x - 2y + 4z = 0$$

$$x - 2y + z = 0 \quad \text{(5)}$$

$$x - 6y + 2z = 0$$

$$2x + y + z = 3$$

$$-2x - 3y - 6z = 6 \quad \text{(6)}$$

$$4x + y + z = 9$$

$$(x, y, z) = (1, 2, 3) \quad \text{(7)}$$

$$(x, y, z, t) = (-13, 4, -5, 2) \quad \text{(8)}$$

(9) שאלת הוכחה.

$$\begin{pmatrix} x \\ y \\ z \end{pmatrix} = \begin{pmatrix} -3 \\ 1 \\ -6 \end{pmatrix} \quad \text{(10)}$$

(11) אם $k \neq 2$ או $k \neq -1$, אז יש פתרון אחד.

אם $k = 2$, אז יש אינסוף פתרונות.

אם $k = -1$, אז אין פתרונות.

$$m = 5, k = 9 \quad \text{(12)}$$

(13) שאלת הוכחה.

14) סכום האיברים בכל שורה של A^{-1} הוא קבוע השווה ל- $\frac{1}{k}$.

15) שאלת הוכחה.

16) שאלת הוכחה.

17) שאלת הוכחה.

18) שאלת הוכחה.

19) שאלת הוכחה.

20) שאלת הוכחה.

21) שאלת הוכחה.

22) שאלת הוכחה.

23) שאלת הוכחה.

24) א. שאלת הוכחה. ב. $(x_1, x_2, x_3, x_4, x_5) = (-t, -2s, s, -t, -t, t)$.

$$C = \begin{pmatrix} 2 & -2 \\ -1 & 1 \\ 1 & -1 \\ -1 & 1 \\ 1 & -1 \end{pmatrix} (t=s=0) \quad D = \begin{pmatrix} -1 & 1 \\ 0 & 0 \\ 0 & 0 \\ -2 & 2 \\ 2 & -2 \end{pmatrix} (t=s=1) \text{ ג.}$$

מטריצה אלמנטרית

שאלות

(1) רשמו את המטריצה $A = \begin{pmatrix} 1 & 2 \\ 3 & 4 \end{pmatrix}$ כמכפלה של מטריצות אלמנטריות.

(2) רשמו את המטריצה $A = \begin{pmatrix} 1 & -1 & -1 \\ 3 & -4 & -2 \\ 2 & -3 & -2 \end{pmatrix}$ כמכפלה של מטריצות אלמנטריות.

(3) הוכיחו או הפריכו כל אחד מסעיפים א-ד.
 נתון כי A מטריצה ריבועית, ו- B מתקבלת מ- A ע"י סדרת פעולות דירוג.
 ע"י הפעלת אותה סדרה של פעולות תתקבל גם:

א. A^2 מ- B^2 .

ב. BA מ- A^2 .

ג. BA מ- B^2 .

ד. AB מ- B^2 .

(4) תהי $A \in M_3[R]$, כך שסכום איברי השורה הראשונה שלה הוא 4, סכום איברי השורה השנייה שלה הוא 1 וסכום איברי השורה השלישית שלה הוא 10.

נגדיר את המטריצות האלמנטריות $E_1 = \begin{pmatrix} 1 & 0 & 0 \\ 0 & 1 & 0 \\ -4 & 0 & 1 \end{pmatrix}$, $E_2 = \begin{pmatrix} 1 & 0 & 0 \\ 0 & 1 & 0 \\ 0 & 3 & 1 \end{pmatrix}$.

למה שווה סכום איברי השורה השלישית במטריצה $E_2 E_1 A$?

פתרו בשתי דרכים:

דרך א' – בעזרת תכונות המטריצה האלמנטרית.

דרך ב' – בעזרת כפל מטריצות.

תשובות סופיות

$$\underbrace{\begin{pmatrix} 1 & 0 \\ 3 & 1 \end{pmatrix}}_{e_1} \underbrace{\begin{pmatrix} 1 & -1 \\ 0 & 1 \end{pmatrix}}_{e_2} \underbrace{\begin{pmatrix} 1 & 0 \\ 0 & -2 \end{pmatrix}}_{e_3} = \underbrace{\begin{pmatrix} 1 & 2 \\ 3 & 4 \end{pmatrix}}_A \quad (1)$$

$$\underbrace{\begin{pmatrix} 1 & 0 & 0 \\ 3 & 1 & 0 \\ 0 & 0 & 1 \end{pmatrix}}_{e_1} \underbrace{\begin{pmatrix} 1 & 0 & 0 \\ 0 & 1 & 0 \\ 2 & 0 & 1 \end{pmatrix}}_{e_2} \underbrace{\begin{pmatrix} 1 & 0 & 0 \\ 0 & 1 & 0 \\ 0 & 1 & 1 \end{pmatrix}}_{e_3} \underbrace{\begin{pmatrix} 1 & 0 & 0 \\ 0 & 1 & -1 \\ 0 & 0 & 1 \end{pmatrix}}_{e_4} \bullet \quad (2)$$

$$\bullet \underbrace{\begin{pmatrix} 1 & 0 & 1 \\ 0 & 1 & 0 \\ 0 & 0 & 1 \end{pmatrix}}_{e_5} \underbrace{\begin{pmatrix} 1 & 1 & 0 \\ 0 & 1 & 0 \\ 0 & 0 & 1 \end{pmatrix}}_{e_6} \underbrace{\begin{pmatrix} 1 & 0 & 0 \\ 0 & -1 & 0 \\ 0 & 0 & 1 \end{pmatrix}}_{e_7} \underbrace{\begin{pmatrix} 1 & 0 & 0 \\ 0 & 1 & 0 \\ 0 & 0 & -1 \end{pmatrix}}_{e_8} = A$$

(3) שאלת הוכחה.

(4) -3

פירוק LU

שאלות

$$(1) \text{ רשמו את פירוק LU של המטריצה } A = \begin{pmatrix} 1 & -1 & -1 \\ 3 & -4 & -2 \\ 2 & -3 & -2 \end{pmatrix}$$

$$(2) \text{ רשמו את פירוק LU של המטריצה } A = \begin{pmatrix} 1 & 2 & -3 & 4 \\ 2 & 3 & -8 & 5 \\ 1 & 3 & 1 & 3 \\ 3 & 8 & -1 & 13 \end{pmatrix}$$

$$(3) \text{ רשמו את פירוק LU של המטריצה } A = \begin{pmatrix} 2 & -6 & 6 \\ -4 & 5 & -7 \\ 3 & 5 & -1 \\ -6 & 4 & -8 \\ 8 & -3 & 9 \end{pmatrix}$$

תשובות סופיות

$$(1) \underbrace{\begin{pmatrix} 1 & -1 & -1 \\ 3 & -4 & -2 \\ 2 & -3 & -2 \end{pmatrix}}_A = \underbrace{\begin{pmatrix} 1 & 0 & 0 \\ 3 & 1 & 0 \\ 2 & 1 & 1 \end{pmatrix}}_L \cdot \underbrace{\begin{pmatrix} 1 & -1 & -1 \\ 0 & -1 & 1 \\ 0 & 0 & -1 \end{pmatrix}}_U$$

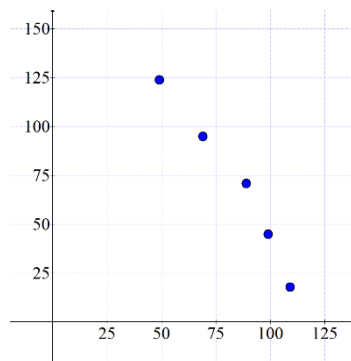
$$(2) \underbrace{\begin{pmatrix} 1 & 2 & -3 & 4 \\ 2 & 3 & -8 & 5 \\ 1 & 3 & 1 & 3 \\ 3 & 8 & -1 & 13 \end{pmatrix}}_A = \underbrace{\begin{pmatrix} 1 & 0 & 0 & 0 \\ 2 & 1 & 0 & 0 \\ 1 & -1 & 1 & 0 \\ 3 & -2 & 2 & 1 \end{pmatrix}}_L \cdot \underbrace{\begin{pmatrix} 1 & 2 & -3 & 4 \\ 0 & -1 & -2 & -3 \\ 0 & 0 & 2 & -4 \\ 0 & 0 & 0 & 3 \end{pmatrix}}_U$$

$$(3) \underbrace{\begin{pmatrix} 2 & -6 & 6 \\ -4 & 5 & -7 \\ 3 & 5 & -1 \\ -6 & 4 & -8 \\ 8 & -3 & 9 \end{pmatrix}}_A = \underbrace{\begin{pmatrix} 1 & 0 & 0 & 0 & 0 \\ -2 & 1 & 0 & 0 & 0 \\ \frac{3}{2} & -2 & 1 & 0 & 0 \\ -3 & 2 & 0 & 1 & 0 \\ 4 & -3 & 0 & 0 & 1 \end{pmatrix}}_L \cdot \underbrace{\begin{pmatrix} 2 & -6 & 6 \\ 0 & -7 & 5 \\ 0 & 0 & 0 \\ 0 & 0 & 0 \\ 0 & 0 & 0 \end{pmatrix}}_U$$

שיטת הריבועים הפחותים – רגרסיה לינארית

שאלות

- 1) נתונות חמש נקודות במישור: $(-4, -1)$, $(-2, 0)$, $(2, 4)$, $(4, 5)$, $(5, 6)$. מצאו את הישר הקרוב ביותר לנקודות הללו במובן הריבועים הפחותים.
- 2) בטבלה הבאה הביקוש של מוצר מסוים ביחס למחיר שלו בתקופה של חודש.



$price(x)$	$Demand / sales(y)$
49\$	124
69\$	95
89\$	71
99\$	45
109\$	18

- א. מצא את הישר כך שסכום ריבועי המרחקים האנכיים בין הישר והנקודות יהיה מינימלי. ישר זה נקרא ישר הרגרסיה.
- ב. בעזרת ישר זה נבא את הביקוש אם המחיר הוא $54\$$.
- ג. מה משמעות השיפוע של הישר?
- ד. מצא את השגיאה בחישוב הנ"ל.

תשובות סופיות

- 1) $f(x) = 0.8x + 2$
- 2) א. $f(x) = -1.7x + 211$ ב. 119.2 יחידות.
- ג. אם נעלה את המחיר של המוצר ב- $1\$$ נצפה לירידה במכירות של 1.7 יחידות בחודש.
- ד. 14.41

אלגברה ליניארית

פרק 3 - מרחבים וקטורים

תוכן העניינים

- 1. מרחבים ותת-מרחבים 42
- 2. צירופים ליניאריים, פרישה ליניארית ותלות ליניארית 46
- 3. בסיס ומימד, דרגה של מטריצה 50
- 4. חיתוך, סכום וסכום ישר של תת-מרחבים 54
- 5. וקטור קואורדינטות ומטריצת מעבר מבסיס לבסיס 59

מרחבים ותת-מרחבים

סימון

- R^n - המרחב הווקטורי של כל הווקטורים הממשיים ממימד n מעל השדה הממשי R .
- $M_n[R]$ - המרחב הווקטורי של כל המטריצות הריבועיות מסדר n מעל השדה הממשי R .
- $P_n[R]$ - המרחב הווקטורי של כל הפולינומים ממעלה קטנה או שווה ל- n מעל השדה R .
- $F[R]$ - המרחב הווקטורי של כל הפונקציות הממשיות ($f: R \rightarrow R$) מעל השדה R .

שאלות

בשאלות 1-7 בדקו האם W תת-מרחב של R^3 :

$$W = \{(a, b, c) \mid a + b + c = 0\} \quad (1)$$

$$W = \{(a, b, c) \mid a = c\} \quad (2)$$

$$W = \{(a, b, c) \mid a = 3b\} \quad (3)$$

$$W = \{(a, b, c) \mid a < b < c\} \quad (4)$$

$$W = \{(a, b, c) \mid a = c^2\} \quad (5)$$

$$W = \{(a, b, c) \mid c - b = b - a\} \quad (6)$$

כלומר, a, b, c מהווים סדרה חשבונית.

$$W = \{(a, b, c) \mid b = a \cdot q, c = a \cdot q^2\} \quad (7)$$

כלומר, a, b, c מהווים סדרה הנדסית.

בשאלות 8-15 בדקו האם W תת-מרחב של $M_n[R]$:

(8) W מורכב מן המטריצות הסימטריות. כלומר, $W = \{A \mid A = A^T\}$.

(9) W מורכב מכל המטריצות המתחלפות בכפל עם מטריצה נתונה B . כלומר, $W = \{A \mid AB = BA\}$.

(10) W מורכב מכל המטריצות שהדטרמיננטה שלהן אפס. כלומר, $W = \{A \mid |A| = 0\}$.

(11) W מורכב מכל המטריצות ששוות לריבוע שלהן. כלומר, $W = \{A \mid A^2 = A\}$.

(12) W מורכב מכל המטריצות שהן משולשות עליונות.

(13) W מורכב מכל המטריצות שמכפלתן במטריצה נתונה B הוא אפס. כלומר, $W = \{A \mid AB = 0\}$.

(14) W מורכב מכל המטריצות שהעקבה שלהן אפס. כלומר, $W = \{A \mid \text{tr}(A) = 0\}$.

(15) W מורכב מכל המטריצות שבהן סכום כל שורה הוא אפס.

בשאלות 16-21 בדקו האם W הוא תת-מרחב של $P_n[R]$:

(16) W מורכב מכל הפולינומים בעלי 4 כשורש. כלומר, $W = \{p(x) \mid p(4) = 0\}$.

(17) W מורכב מכל הפולינומים בעלי מקדמים שלמים.

(18) W מורכב מכל הפולינומים בעלי מעלה ≥ 4 . כלומר, $W = \{p(x) \mid \deg(p) \leq 4\}$.

(19) W מורכב מכל הפולינומים בעלי חזקות זוגיות בלבד של x .

(20) W מורכב מכל הפולינומים ממעלה n , כאשר $4 \leq n \leq 7$.

(21) $W = \{p(x) \mid p(0) = 1\}$

בשאלות 22-30 בדקו האם W הוא תת-מרחב של $F[\mathbb{R}]$:

(22) W מורכב מכל הפונקציות הזוגיות.
 כלומר, לכל x ממשי $W = \{f(x) \mid f(-x) = f(x)\}$.

(23) W מורכב מכל הפונקציות החסומות.
 כלומר, לכל x ממשי $W = \{f(x) \mid |f(x)| \leq M\}$.

(24) W מורכב מכל הפונקציות הרציפות.

(25) W מורכב מכל הפונקציות הגזירות.

(26) W מורכב מכל הפונקציות הקבועות.

(27) $W = \left\{ f(x) \mid \int_0^1 f(x) dx = 4 \right\}$ (הנח ש- f אינטגרבילית ב- $[0,1]$).

(28) $W = \{f(x) \mid f'(x) = 0\}$ (הנח ש- f גזירה לכל x).

(29) $W = \{f(x) \mid f'(x) = 1\}$ (הנח ש- f גזירה לכל x).

(30) $W = \{f(x) \mid f(x) = f(x+1)\}$

(31) בדקו האם $W = \{(z_1, z_2, z_3) \mid z_2 = \bar{z}_1, z_3 = z_1 + \bar{z}_1\}$ הוא תת-מרחב של C^3 :

א. מעל השדה הממשי \mathbb{R} .

ב. מעל שדה המרוכבים \mathbb{C} .

(32) נתונה המטריצה $A = \begin{pmatrix} 0 & 0 & 0 & 1 & 1 \\ 0 & 0 & 0 & -1 & 3 \\ 0 & 0 & 0 & 1 & -1 \\ 1 & -1 & 1 & -1 & -1 \\ 1 & 3 & -1 & 1 & 1 \end{pmatrix}$

א. מצאו וקטור b , כך שלמערכת $Ax = b$ אין פתרון.

ב. מהי קבוצת כל הווקטורים b , כך שלמערכת $Ax = b$ אין פתרון?

ג. האם הקבוצה מסעיף ב' מהווה תת-מרחב של R^5 ?

- (33)** יהי V מרחב הפולינומים ממעלה קטנה או שווה ל-4, מעל שדה F .
- א. מצאו תנאי על k , עבורו הקבוצה $W = \{p \in V \mid p(0) = p(1) = p(2) = k\}$, הינה תת-מרחב של V .
- ב. מצאו קבוצה סופית של פולינומים מ- V , שפורשים את W .

הערה: לפתרון סעיף זה עברו קודם על הנושא 'בסיס ומימד למרחב הפתרונות של מערכת משוואות הומוגנית'.

תשובות סופיות

- | | | | | | | | | | |
|------|--------------------------|--|----|------|----|------|----|------|----|
| (1) | כן | (2) | כן | (3) | כן | (4) | לא | (5) | לא |
| (6) | כן | (7) | לא | (8) | כן | (9) | כן | (10) | לא |
| (11) | לא | (12) | כן | (13) | כן | (14) | כן | (15) | כן |
| (16) | כן | (17) | לא | (18) | כן | (19) | כן | (20) | לא |
| (21) | לא | (22) | כן | (23) | כן | (24) | כן | (25) | כן |
| (26) | כן | (27) | לא | (28) | כן | (29) | לא | (30) | כן |
| (31) | א. כן | ב. לא | | | | | | | |
| (32) | א. $u = (1, 0, 0, 0, 0)$ | ב. $B = \{(b_1, b_2, b_3, b_4, b_5) \mid -b_1 + b_2 + 2b_3 \neq 0\}$ | | | | | | | |
| | ג. לא. | | | | | | | | |
| (33) | א. $k = 0$ | ב. $W = \text{span}\{2x - 3x^2 + x^3, 6x - 7x^2 + x^4\}$ | | | | | | | |

צירופים לינאריים, פרישה לינארית ותלות לינארית

שאלות

בשאלות 1-7 נתונים הווקטורים הבאים :

$$u_1 = (4, 1, 1, 5), \quad u_2 = (0, 11, -5, 3), \quad u_3 = (2, -5, 3, 1), \quad u_4 = (1, 3, -1, 2)$$

- (1) א. האם u_1 הוא צירוף לינארי של u_4 ?
 ב. האם u_1 שייך ל- $Sp\{u_4\}$?
 ג. האם הקבוצה $\{u_1, u_4\}$ תלויה לינארית?
- (2) א. האם u_3 הוא צירוף לינארי של u_1 ו- u_2 ?
 ב. האם u_3 שייך ל- $Sp\{u_1, u_2\}$?
 ג. האם הקבוצה $\{u_1, u_2, u_3\}$ תלויה לינארית?
 במידה וכן, רשמו כל וקטור בקבוצה כצירוף לינארי של הווקטורים האחרים.
- (3) א. האם u_4 הוא צירוף לינארי של u_1 ו- u_2 ?
 ב. האם u_4 שייך ל- $Sp\{u_1, u_2\}$?
 ג. האם הקבוצה $\{u_1, u_2, u_4\}$ תלויה לינארית?
 במידה וכן, רשמו כל וקטור בקבוצה כצירוף לינארי של הווקטורים האחרים.
- (4) נתון $v = (4, 12, k, -2k)$.
 א. מה צריך להיות ערכו של k , על מנת שהווקטור v יהיה צירוף לינארי של u_1 ו- u_2 ?
 ב. מה צריך להיות ערכו של k , על מנת שהווקטור v יהיה שייך ל- $Sp\{u_1, u_2\}$?
 ג. מה צריך להיות ערכו של k , על מנת שהקבוצה $\{u_1, u_2, v\}$ תהיה תלויה לינארית?
- (5) נתון $v = (a, b, c, d)$.
 א. מה התנאים על a, b, c, d , על מנת שהווקטור v יהיה צירוף לינארי של u_1 ו- u_2 ?
 ב. מה התנאים על a, b, c, d , על מנת שהווקטור v יהיה שייך ל- $Sp\{u_1, u_2\}$?
 ג. מה התנאים על a, b, c, d , על מנת שהקבוצה $\{u_1, u_2, v\}$ תהיה תלויה לינארית?

6) הביעו את הווקטור $v = (10, 8, 0, 14)$ כצירוף לינארי של u_1, u_2, u_3 ו- u_4 .
בכמה אופנים ניתן לעשות זאת?

7) הביעו את הווקטור $v = (7, 10, -2, 11)$ כצירוף לינארי של u_1, u_2, u_3 ו- u_4 .
בכמה אופנים ניתן לעשות זאת?

8) נתונות המטריצות הבאות:

$$A = \begin{pmatrix} 4 & 1 \\ 1 & 5 \end{pmatrix}, B = \begin{pmatrix} 0 & 11 \\ -5 & 3 \end{pmatrix}, C = \begin{pmatrix} 2 & -5 \\ 3 & 1 \end{pmatrix}, D = \begin{pmatrix} 1 & 3 \\ -1 & 2 \end{pmatrix}$$

- א. בדקו האם המטריצות תלויות ליניארית מעל $M_2[R]$.
ב. במידה והמטריצות תלויות, רשמו כל אחת מהמטריצות כצירוף לינארי של יתר המטריצות.
ג. האם המטריצה A שייכת ל- $Sp\{B, C\}$?

9) נתונים הפולינומים הבאים: $p_1(x) = 4 + x + x^2 + 5x^3$, $p_2(x) = 11x - 5x^2 + 3x^3$,
 $p_3(x) = 2 - 5x + 3x^2 + x^3$, $P_4(x) = 1 + 3x - x^2 + 2x^3$

- א. בדקו האם הפולינומים תלויים ליניארית מעל $P_3[R]$.
ב. במידה והפולינומים תלויים ליניארית, רשמו כל פולינום כצירוף לינארי של שאר הפולינומים.
ג. האם הפולינום p_2 שייך ל- $Sp\{p_1, p_4\}$?

10) עבור איזה ערכים של a, b, c , הווקטורים הבאים תלויים ליניארית:

$$\{(c, 2, 4), (2, 4, a, 2), (c, b, 6), (b, 2, a)\}$$

בשאלות 11-13 נתון כי קבוצת הווקטורים $\{u, v, w\}$ בלתי תלויה ליניארית ב- $V[F]$.
בדקו האם הקבוצות הבאות תלויות ליניארית,
ובמידה וכן רשמו כל וקטור כצירוף של הווקטורים האחרים:

$$\{u - v, u - w, u + v - 2w\} \quad (11)$$

$$\{u + 2v + 3w, 4u + 5v + 6w, 7u + 8v + 9w\} \quad (12)$$

$$\{u + v, v + w, w\} \quad (13)$$

בשאלות 14-15 בדקו האם הווקטורים $\{(1, i, i-1), (i+1, i-1, -2)\}$ תלויים ליניארית ב- C^3 :

(14) מעל C .

(15) מעל R .

(16) נתבונן ב- $V = R$ כמרחב וקטורי מעל השדה Q . הוכיחו כי הקבוצה $\{1, \sqrt{2}, \sqrt{3}\}$ היא בת"ל ב- R , כשהוא מרחב וקטורי מעל Q .

(17) תהי $A_{m \times n}$ מטריצה, שעמודותיה A_1, A_2, \dots, A_n . הוכיחו את הטענה הבאה :
למערכת $Ax = b$ יש פתרון אם ורק אם $b \in \text{span}\{A_1, A_2, \dots, A_n\}$.

(18) להלן 3 תת-קבוצות של R^4 :

$$U = \text{span}\{(1, 2, 2, 1), (1, 1, -1, -1), (0, 0, 1, 1)\}$$

$$W = \text{span}\{(1, 1, 0, 0), (1, 2, 1, 0), (1, 3, 3, 1)\}$$

$$V = \text{span}\{(2, 3, 1, 0), (1, 2, 1, 0), (1, 4, 3, 1)\}$$

א. האם $U = W$?

ב. האם $U = V$?

תשובות סופיות

- (1) א. לא. ב. לא. ג. לא.
- (2) א. כן. ב. כן. ג. כן, $u_1 = 2u_3 + u_2$, $u_2 = u_1 - 2u_3$.
- (3) א. כן. ב. כן. ג. כן, $u_1 = 4u_4 - u_2$, $u_2 = 4u_4 - u_1$.
- (4) א+ב+ג. $k = -4$.
- (5) $a = 5t + 3s$, $b = 4t - 13s$, $c = 7s$, $d = 7t$.
- (6) אינסוף, $v = 2u_1 + u_2 + u_3$.
- (7) אינסוף, $v = \frac{7}{4}u_1 + \frac{3}{4}u_2$.
- (8) א. המטריצות תלויות. ג. כן. $A = B + 2C$.
- ב. $A = B + 2C$, $B = A - 2C$, $C = 0.5A - 0.5B$, $D = 0.25A + 0.25B$.
- (9) א. הפולינומים תלויים. ג. $p_2 = 4p_4 - p_1$.
- ב. $p_1 = p_2 + 2p_3$, $p_2 = p_1 - 2p_3$, $p_3 = 0.5p_1 - 0.5p_2$, $p_4 = 0.25p_1 + 0.25p_2$.
- (10) לכל ערך של a, b, c .
- (11) הווקטורים תלויים ליניארית, ומתקיים: $x = 2y - z$, $y = 0.5x + 0.5z$, $z = 2y - x$.
- (12) הווקטורים תלויים ליניארית, ומתקיים: $x = 2y - z$, $y = 0.5x + 0.5z$, $z = 2y - x$.
- (13) בלתי תלויים ליניארית.
- (14) תלויים.
- (15) בלתי תלויים ליניארית.
- (16) שאלת הוכחה.
- (17) שאלת הוכחה.
- (18) א. כן. ב. לא.

בסיס ומימד, דרגה של מטריצה

שאלות

(1) בדקו אם הקבוצות הבאות הן בסיס ל- R^3 :

א. $\{(1,0,1), (0,0,1)\}$

ב. $\{(1,1,2), (1,2,3), (3,3,4), (2,2,1)\}$

ג. $\{(1,2,3), (4,5,6), (7,8,9)\}$

(2) בדקו אם הקבוצות הבאות הן בסיס ל- $M_{2 \times 2}[R]$:

א. $\left\{ \begin{pmatrix} 1 & 2 \\ 3 & 4 \end{pmatrix}, \begin{pmatrix} 5 & 6 \\ 7 & 8 \end{pmatrix}, \begin{pmatrix} 9 & 1 \\ 2 & 3 \end{pmatrix} \right\}$

ב. $\left\{ \begin{pmatrix} 1 & 2 \\ 3 & 4 \end{pmatrix}, \begin{pmatrix} 5 & 6 \\ 7 & 8 \end{pmatrix}, \begin{pmatrix} 9 & 1 \\ 2 & 3 \end{pmatrix}, \begin{pmatrix} 5 & 6 \\ 7 & 2 \end{pmatrix}, \begin{pmatrix} 5 & 16 \\ 7 & 8 \end{pmatrix} \right\}$

ג. $\left\{ \begin{pmatrix} 1 & 1 \\ 1 & 1 \end{pmatrix}, \begin{pmatrix} 0 & 1 \\ 1 & 1 \end{pmatrix}, \begin{pmatrix} 0 & 0 \\ 1 & 1 \end{pmatrix}, \begin{pmatrix} 0 & 0 \\ 0 & 1 \end{pmatrix} \right\}$

(3) בדקו אם הקבוצות הבאות הן בסיס ל- $P_2(R)$:

א. $\{1+x, x^2+2x+3\}$

ב. $\{1+x, x^2+2x+3, 2x+4x^2, x-x^2\}$

ג. $\{1+2x+3x^2, 4+5x+6x^2, 7+8x+10x^2\}$

(4) נתונה קבוצת וקטורים ב- R^3 : $T = \{(1,2,3), (4,5,6), (7,8,9), (2,3,4)\}$.

א. האם T בסיס ל- R^3 ?

ב. מצאו קבוצה T' , שהיא קבוצה מקסימלית של וקטורים,

בלתי תלויה ליניארית ב- T .

ג. השלימו את T' לבסיס של R^3 .

מציאת בסיס וממד למרחב פתרונות של מערכת משוואות הומוגנית

(5) להלן 3 מערכות של משוואות הומוגניות:

$$\begin{cases} x - y + z + w = 0 \\ 2x - 2y + 2z + 2w = 0 \end{cases} \cdot 3 \quad \begin{cases} x - y + z + w = 0 \\ x + 2z - w = 0 \\ x + y + 3z - 3w = 0 \end{cases} \cdot 2 \quad \begin{cases} x + y - z + 2w = 0 \\ 3x - y + 7z + 4w = 0 \\ -5x + 3y - 15z - 6w = 0 \end{cases} \cdot 1$$

1. נסמן ב- W את המרחב הנפרש ע"י מערכת המשוואות2. נסמן ב- U את המרחב הנפרש ע"י מערכת המשוואות3. נסמן ב- V את המרחב הנפרש ע"י מערכת המשוואותמצאו בסיס וממד ל- U , W ו- V .

(6) נתון $U = \{(a, b, c, d) \in \mathbb{R}^4 \mid a = c, b = d\}$

מצאו בסיס וממד ל- U .

(7) נתון $U = \{(a, b, c, d) \in \mathbb{R}^4 \mid c = a + b, d = b + c\}$

מצאו בסיס וממד ל- U .

(8) נתון $U = \{v \in \mathbb{R}^4 \mid v \cdot (1, -1, 1, -1) = 0\}$

מצאו בסיס וממד ל- U .

(9) נתון $U = \{A \in M_{2 \times 2}[\mathbb{R}] \mid A = A^T\}$

מצאו בסיס וממד ל- U .

(10) נתון $U = \left\{ A \in M_{2 \times 2}[\mathbb{R}] \mid A \cdot \begin{pmatrix} 1 & -1 \\ 1 & 1 \end{pmatrix} = \begin{pmatrix} 0 & 0 \\ 0 & 0 \end{pmatrix} \right\}$

מצאו בסיס וממד ל- U .

(11) נתון $U = \{p(x) \in P_3[\mathbb{R}] \mid p(1) = 0\}$

מצאו בסיס וממד ל- U .

מציאת בסיס וממד לתת-מרחב

(12) להלן שני תתי מרחבים של המרחב R^4 :

$$U = \text{span}\{(1,1,-1,2), (3,-1,7,4), (-5,3,-15,-6)\}$$

$$V = \text{span}\{(1,-1,1,1), (1,0,2,-1), (1,1,3,-3), (5,1,5,8)\}$$

א. מצאו בסיס, ממד ומשוואות ל- U .ב. מצאו בסיס, ממד ומשוואות ל- V .(13) להלן תת-מרחב של המרחב $M_{2 \times 2}[R]$:

$$U = \text{span}\left\{\begin{pmatrix} 1 & 1 \\ -1 & 2 \end{pmatrix}, \begin{pmatrix} 4 & 1 \\ -1 & 1 \end{pmatrix}, \begin{pmatrix} 2 & -1 \\ 1 & -3 \end{pmatrix}\right\}$$

מצאו בסיס וממד ל- U .(14) להלן תת-מרחב של המרחב $P_3[R]$:

$$U = \text{span}\{1+x-x^2+2x^3, 4+x-x^2+x^3, 2-x+x^2-3x^3\}$$

מצאו בסיס וממד ל- U .

מציאת בסיס וממד למרחב שורה ומרחב עמודה של מטריצה, דרגת מטריצה

בשאלות 15-16 מצאו בסיס וממד למרחב השורה ומרחב העמודה של המטריצה,

וציינו את דרגת המטריצה (rank):

$$\begin{pmatrix} 4 & 1 & 1 & 5 \\ 0 & 11 & -5 & 3 \\ 2 & -5 & 3 & 1 \\ 1 & 3 & -1 & 2 \end{pmatrix} \quad (15)$$

$$\begin{pmatrix} 1 & 2 & 1 & 3 & 5 \\ 2 & 5 & 3 & 1 & 6 \\ 1 & -1 & -2 & 2 & 1 \\ -2 & 3 & 5 & -4 & -1 \end{pmatrix} \quad (16)$$

תשובות סופיות

- (1) א. לא. ב. לא. ג. לא.
- (2) א. לא. ב. לא. ג. כן.
- (3) א. לא. ב. לא. ג. כן.
- (4) א. לא. ב. $T' = \{(1,2,3), (4,5,6)\}$. ג. $T' = \{(1,2,3), (4,5,6), (0,0,1)\}$.
- (5) א. W - בסיס: $\{(-1.5, 2.5, 1, 0), (-1.5, -0.5, 0, 1)\}$, ממד: 2.
- U - בסיס: $\{(-2, -1, 1, 0), (1, 2, 0, 1)\}$, ממד: 2.
- V - בסיס: $\{(-1, 0, 0, 1), (-1, 0, 1, 0), (1, 1, 0, 0)\}$, ממד: 3.
- (6) בסיס: $\{(0, 1, 0, 1), (1, 0, 1, 0)\}$, ממד: 2.
- (7) בסיס: $\{(-1, 1, 0, 1), (2, -1, 1, 0)\}$, ממד: 2.
- (8) בסיס: $\{(1, 0, 0, 1), (-1, 0, 1, 0), (1, 1, 0, 0)\}$, ממד: 3.
- (9) בסיס: $\left\{ \begin{pmatrix} 0 & 0 \\ 0 & 1 \end{pmatrix}, \begin{pmatrix} 0 & 1 \\ 1 & 0 \end{pmatrix}, \begin{pmatrix} 1 & 0 \\ 0 & 0 \end{pmatrix} \right\}$, ממד: 3.
- (10) בסיס: $\left\{ \begin{pmatrix} 0 & 0 \\ 0 & 0 \end{pmatrix} \right\}$, ממד: 0.
- (11) בסיס: $\{p_1(x) = -1 + x^3, p_2(x) = -1 + x^2, p_3(x) = -1 + x\}$, ממד: 3.
- (12) א. בסיס: $\{(1, 1, -1, 2), (0, -4, 10, -2)\}$, ממד: 2.
- ב. בסיס: $\{(1, -1, 1, 1), (0, -1, 1, -2), (0, 0, -2, 5)\}$, ממד: 3.
- (13) בסיס: $\left\{ \begin{pmatrix} 1 & 1 \\ -1 & 2 \end{pmatrix}, \begin{pmatrix} 0 & -3 \\ 3 & -7 \end{pmatrix} \right\}$, ממד: 2.
- (14) בסיס: $\{1 + x - x^2 + 2x^3, -3x + 3x^2 - 7x^3\}$, ממד: 2.
- (15) מרחב שורה: בסיס: $\{(4, 1, 1, 5), (0, 11, -5, 3)\}$, ממד: 2.
- מרחב עמודה: בסיס: $\left\{ \begin{pmatrix} 4 \\ 0 \\ 2 \\ 1 \end{pmatrix}, \begin{pmatrix} 0 \\ 4 \\ -2 \\ 1 \end{pmatrix} \right\}$, ממד: 2, דרגה: 2.
- (16) מרחב שורה: בסיס: $\{(1, 2, 1, 3, 5), (0, 11, -5, -4), (0, 0, 0, 1, 1)\}$, ממד: 3.
- מרחב עמודה: בסיס: $\left\{ \begin{pmatrix} 1 \\ 2 \\ 1 \\ -2 \end{pmatrix}, \begin{pmatrix} 0 \\ 1 \\ -3 \\ 7 \end{pmatrix}, \begin{pmatrix} 0 \\ 0 \\ -16 \\ 37 \end{pmatrix} \right\}$, ממד: 3, דרגה: 3.

חיתוך, סכום וסכום ישר של תת-מרחבים

שאלות

(1) להלן 3 מערכות של משוואות לינאריות הומוגניות:

$$1) \begin{cases} x + y - z + 2w = 0 \\ 3x - y + 7z + 4w = 0 \\ -5x + 3y - 15z - 6w = 0 \end{cases} \quad 2) \begin{cases} x - y + z + w = 0 \\ x + 2z - w = 0 \\ x + y + 3z - 3w = 0 \end{cases} \quad 3) \begin{cases} x - y + z + w = 0 \\ 2x - 2y + 2z + 2w = 0 \end{cases}$$

נסמן ב- V, U, W את המרחבים הנפרשים ע"י פתרון המערכות 1, 2 ו-3 בהתאמה.

א. מצאו בסיס וממד ל- U, W ו- V .

ב. מצאו בסיס וממד ל- $U + V$.

ג. מצאו בסיס וממד ל- $U \cap V$.

(2) להלן שני תת-מרחבים של המרחב R^4 :

$$U = sp\{(1, 1, -1, 2), (3, -1, 7, 4), (-5, 3, -15, -6)\}$$

$$V = sp\{(1, -1, 1, 1), (1, 0, 2, -1), (1, 1, 3, -3), (5, 1, 5, 8)\}$$

א. מצאו בסיס, ממד ומשוואות ל- U .

ב. מצאו בסיס, ממד ומשוואות ל- V .

ג. מצאו בסיס וממד ל- $U + V$.

ד. מצאו בסיס וממד ל- $U \cap V$ (פתרו בשתי דרכים שונות).

ה. האם $U + V = R^4$?

ו. האם $U \oplus V = R^4$?

(3) להלן שני תת-מרחבים של המרחב $P_3[R]$:

$$U = sp\{1 + x - x^2 + 2x^3, 3 - x + 7x^2 + 4x^3, -5 + 3x - 15x^2 - 6x^3\}$$

$$V = sp\{1 - x + x^2 + x^3, 1 + 2x^2 - x^3, 1 + x + 3x^2 - 3x^3, 5 + x + 5x^2 + 8x^3\}$$

א. מצאו בסיס וממד ל- $U + V$.

ב. מצאו בסיס וממד ל- $U \cap V$.

(4) להלן שני תת-מרחבים של המרחב $P_3[R]$:

$$U = sp\{1 + x + x^3, 1 + 2x + x^2 + 2x^3, -1 + 2x + 3x^2 + 2x^3\}$$

$$V = \{p(x) \in P_3[R] \mid p(1) = p(-1) = 0\}$$

א. מצאו בסיס וממד ל- $U + V$.

ב. מצאו בסיס וממד ל- $U \cap V$.

$$U = sp\{1+x, x+x^2, 1+x^3\} \quad (5) \quad \text{להלן שני תת-מרחבים של המרחב } P_3[R] \\ V = \{p(x) \in P_3[R] \mid p'(0) = 0\}$$

מצאו בסיס וממד ל- $U \cap V$.

$$(6) \quad \text{להלן שני תת-מרחבים של המרחב } M_2[R]$$

$$U = \left\{ \begin{pmatrix} x+3y-5z & x-y+3z \\ -x+7y-15z & 2x+4y-6z \end{pmatrix} \mid x, y, z \in R \right\}$$

$$W = sp \left\{ \begin{pmatrix} 1 & -1 \\ 1 & 1 \end{pmatrix}, \begin{pmatrix} 1 & 0 \\ 2 & -1 \end{pmatrix}, \begin{pmatrix} 1 & 1 \\ 3 & -3 \end{pmatrix}, \begin{pmatrix} 5 & 1 \\ 5 & 8 \end{pmatrix} \right\}$$

- מצאו בסיס וממד ל- U ול- W .
- מצאו בסיס וממד ל- $U+W$.
- מצאו בסיס וממד ל- $U \cap W$.
- אשרו את משפט הממד עבור תרגיל זה.

$$(7) \quad \text{להלן שני תת-מרחבים של המרחב } V = M_2[R]$$

$$U = \{A \in V \mid A = -A^T\}, \quad W = \left\{ A \in V \mid A \begin{pmatrix} 1 & 1 \\ -1 & -1 \end{pmatrix} = 0 \right\}$$

- מצאו בסיס וממד ל- U ול- W .
- מצאו בסיס וממד ל- $U+W$.
- מצאו בסיס וממד ל- $U \cap W$.
- האם $U+W=V$?
- האם $U \oplus W=V$?

$$(8) \quad \text{להלן שני תת-מרחבים של המרחב } V = M_3[R]$$

$$U = \{A \in V \mid A = A^T\}, \quad W = \{A \in V \mid A \text{ משולשית עליונה}\}$$

- מצאו בסיס וממד ל- U .
- מצאו בסיס וממד ל- W .
- מצאו בסיס וממד ל- $U+W$.
- מצאו בסיס וממד ל- $U \cap W$.
- האם $U \oplus W=V$.

$$(9) \quad \text{יהיו } U \text{ ו- } W \text{ שני תת-מרחבים מממד } 2 \text{ של } R^3. \\ \text{הוכיחו כי } \dim(U \cap W) \neq 0.$$

- (10)** יהי V מרחב וקטורי מממד 10.
 יהיו U ו- W שני תת-מרחבים שונים של V מממד 9.
 א. הוכיחו כי $U + W = V$.
 ב. חשבו $\dim(U \cap W)$.

- (11)** יהי V מרחב וקטורי מממד 10.
 יהיו U ו- W שני תת-מרחבים שונים של V מממד 7.
 מצאו את המימדים האפשריים של $U \cap W$ ו- $U + W$.

- (12)** יהי V מרחב וקטורי מממד 7.
 יהיו U ו- W שני תת-מרחבים של V , כך ש- $\dim U = 4$, $\dim W = 5$, $(U \not\subseteq W)$.
 מצאו את המימדים האפשריים של $U \cap W$ ו- $U + W$.

- (13)** יהי V מרחב וקטורי מעל שדה F . $\phi \neq A, B \subseteq V$.

$$A + B = \{a + b \mid a \in A, b \in B\}$$

הוכיחו או הפריכו:

א. $sp(A + B) = sp(A) \cup sp(B)$

ב. $sp(A \cup B) = sp(A) \cup sp(B)$

ג. $sp(A \cup B) = sp(A) + sp(B)$

ד. $sp(A + B) = sp(A) + sp(B)$

ה. $sp(A \cap B) = sp(A) \cap sp(B)$

- (14)** יהיו U ו- W תת-מרחבים של R^3 , המוגדרים על ידי:

$$U = \{(a, b, c) \mid a = b = c\}, \quad W = \{(0, b, c)\}$$

$$U \oplus W = R^3 \text{ הוכיחו כי}$$

- (15)** יהי $V = M_n[R]$.

- א. יהי U תת-מרחב של V המכיל את כל המטריצות הסימטריות.
 יהי W תת-מרחב של V המכיל את כל המטריצות האנטי-סימטריות.
 הוכיחו כי $U \oplus W = V$.
 ב. יהי U תת-מרחב של V המכיל את כל המטריצות המשולשות העליונות.
 יהי W תת-מרחב של V המכיל את כל המטריצות המשולשות התחתונות.
 הוכיחו כי $U \oplus W \neq V$.

תשובות סופיות

$$B_W = \{(-1.5, 2.5, 1, 0), (-1.5, -0.5, 0, 1)\} \quad , \quad \dim W = 2 \quad \text{א. (1)}$$

$$B_U = \{(-2, -1, 1, 0), (1, 2, 0, 1)\} \quad , \quad \dim U = 2$$

$$B_V = \{(-1, 0, 0, 1), (-1, 0, 1, 0), (1, 1, 0, 0)\} \quad , \quad \dim V = 3$$

$$B_{U+V} = \{(0, 0, -1, 1), (0, 1, 1, 0), (1, 1, 0, 0)\} \quad \dim(U+V) = 3 \quad \text{ב.}$$

$$B_{U \cap V} = \{(-2, -1, 1, 0), (1, 2, 0, 1)\} \quad , \quad \dim(U \cap V) = 2 \quad \text{ג.}$$

$$\begin{cases} -3x + 5y + 2z = 0 \\ -3x - y + 2t = 0 \end{cases} \quad , \quad B_U = \{(1, 1, -1, 2), (0, 2, -5, 1)\} \quad , \quad \dim U = 2 \quad \text{א. (2)}$$

$$-8x - y + 5z + 2t = 0 \quad , \quad B_V = \{(1, -1, 1, 1), (0, 1, 1, -2), (0, 0, 2, -5)\} \quad , \quad \dim V = 3 \quad \text{ב.}$$

$$B_{U+V} = \{(1, 1, -1, 2), (0, -4, 10, -2), (0, 0, 1, 0), (0, 0, 0, 1)\} \quad , \quad \dim(U+V) = 4 \quad \text{ג.}$$

$$B_{U \cap V} = \{(5, 1, 5, 8)\} \quad , \quad \dim(U \cap V) = 1 \quad \text{ד.} \quad \text{ה. כן.} \quad \text{ו. לא.}$$

$$U+V = sp\{1+x-x^2+2x^3, 2x-5x^2+x^3, x^2, x^3\} \quad , \quad \dim(U+V) = 4 \quad \text{א. (3)}$$

$$B_{U \cap V} = \{5+x+5x^2+8x^3\} \quad , \quad \dim(U \cap V) = 1 \quad \text{ב.}$$

$$B_{U+V} = \{1+x+x^3, x+x^2+x^3, x^2+2x^3\} \quad , \quad \dim(U+V) = 3 \quad \text{א. (4)}$$

$$B_{U \cap V} = \{-1+x^2\} \quad , \quad \dim(U \cap V) = 1 \quad \text{ב.}$$

$$B_{U \cap V} = \{-1+x^2, 1+x^3\} \quad , \quad \dim(U \cap V) = 2 \quad \text{ב. (5)}$$

$$B_U = \left\{ \begin{pmatrix} 1 & 1 \\ -1 & 2 \end{pmatrix}, \begin{pmatrix} 0 & -4 \\ 10 & -2 \end{pmatrix} \right\} \quad , \quad \dim(U) = 2 \quad \text{א. (6)}$$

$$B_W = \left\{ \begin{pmatrix} 1 & -1 \\ 1 & 1 \end{pmatrix}, \begin{pmatrix} 0 & 1 \\ 1 & -2 \end{pmatrix}, \begin{pmatrix} 0 & 0 \\ -6 & 15 \end{pmatrix} \right\} \quad , \quad \dim(W) = 3$$

$$B_{U+W} = \left\{ \begin{pmatrix} 1 & 1 \\ -1 & 2 \end{pmatrix}, \begin{pmatrix} 0 & 2 \\ -5 & 1 \end{pmatrix}, \begin{pmatrix} 0 & 0 \\ 1 & 0 \end{pmatrix}, \begin{pmatrix} 0 & 0 \\ 0 & 1 \end{pmatrix} \right\} \quad , \quad \dim(U+W) = 4 \quad \text{ב.}$$

$$B_{U \cap W} = \left\{ \begin{pmatrix} 5 & 1 \\ 5 & 8 \end{pmatrix} \right\} \quad , \quad \dim(U \cap W) = 1 \quad \text{ג.}$$

ד. ראו בסרטון.

$$B_U = \left\{ \begin{pmatrix} 0 & -1 \\ 1 & 0 \end{pmatrix} \right\}, \dim U = 1, \quad B_W = \left\{ \begin{pmatrix} 0 & 0 \\ 1 & 1 \end{pmatrix}, \begin{pmatrix} 1 & 1 \\ 0 & 0 \end{pmatrix} \right\}, \dim W = 2. \quad \text{א. (7)}$$

$$B_{U+W} = \left\{ \begin{pmatrix} 0 & -1 \\ 1 & 0 \end{pmatrix}, \begin{pmatrix} 0 & 0 \\ 1 & 1 \end{pmatrix}, \begin{pmatrix} 1 & 1 \\ 0 & 0 \end{pmatrix} \right\}, \quad \dim(U+W) = 3. \quad \text{ב.}$$

$$B_{U \cap W} = \left\{ \begin{pmatrix} 0 & 0 \\ 0 & 0 \end{pmatrix} \right\}, \quad \dim(U \cap W) = 0. \quad \text{ג.}$$

ד. לא. ה. לא.

א. (8)

$$B_U = \left\{ \begin{pmatrix} 1 & 0 & 0 \\ 0 & 0 & 0 \\ 0 & 0 & 0 \end{pmatrix}, \begin{pmatrix} 0 & 1 & 0 \\ 1 & 0 & 0 \\ 0 & 0 & 0 \end{pmatrix}, \begin{pmatrix} 0 & 0 & 0 \\ 0 & 1 & 0 \\ 0 & 0 & 0 \end{pmatrix}, \begin{pmatrix} 0 & 0 & 1 \\ 0 & 0 & 0 \\ 1 & 0 & 0 \end{pmatrix}, \begin{pmatrix} 0 & 0 & 0 \\ 0 & 0 & 1 \\ 0 & 1 & 0 \end{pmatrix}, \begin{pmatrix} 0 & 0 & 0 \\ 0 & 0 & 0 \\ 0 & 0 & 1 \end{pmatrix} \right\}$$

$$\dim U = 6$$

ב.

$$B_W = \left\{ \begin{pmatrix} 1 & 0 & 0 \\ 0 & 0 & 0 \\ 0 & 0 & 0 \end{pmatrix}, \begin{pmatrix} 0 & 1 & 0 \\ 0 & 0 & 0 \\ 0 & 0 & 0 \end{pmatrix}, \begin{pmatrix} 0 & 0 & 1 \\ 0 & 0 & 0 \\ 0 & 0 & 0 \end{pmatrix}, \begin{pmatrix} 0 & 0 & 0 \\ 0 & 1 & 0 \\ 0 & 0 & 0 \end{pmatrix}, \begin{pmatrix} 0 & 0 & 0 \\ 0 & 0 & 1 \\ 0 & 0 & 0 \end{pmatrix}, \begin{pmatrix} 0 & 0 & 0 \\ 0 & 0 & 0 \\ 0 & 0 & 1 \end{pmatrix} \right\}$$

$$\dim W = 6$$

ג.

$$B_{U+W} = \left\{ \begin{pmatrix} 1 & 0 & 0 \\ 0 & 0 & 0 \\ 0 & 0 & 0 \end{pmatrix}, \begin{pmatrix} 0 & 1 & 0 \\ 1 & 0 & 0 \\ 0 & 0 & 0 \end{pmatrix}, \begin{pmatrix} 0 & 0 & 0 \\ 0 & 1 & 0 \\ 0 & 0 & 0 \end{pmatrix}, \begin{pmatrix} 0 & 0 & 1 \\ 0 & 0 & 0 \\ 1 & 0 & 0 \end{pmatrix}, \begin{pmatrix} 0 & 0 & 0 \\ 0 & 0 & 1 \\ 0 & 1 & 0 \end{pmatrix}, \begin{pmatrix} 0 & 0 & 0 \\ 0 & 0 & 0 \\ 0 & 0 & 1 \end{pmatrix}, \begin{pmatrix} 1 & 0 & 0 \\ 0 & 0 & 0 \\ 0 & 0 & 0 \end{pmatrix}, \begin{pmatrix} 0 & 1 & 0 \\ 0 & 0 & 0 \\ 0 & 0 & 0 \end{pmatrix}, \begin{pmatrix} 0 & 0 & 0 \\ 0 & 0 & 0 \\ 0 & 0 & 1 \end{pmatrix} \right\}$$

$$\dim(U+W) = 9$$

$$B_{U \cap W} = \left\{ \begin{pmatrix} 1 & 0 & 0 \\ 0 & 0 & 0 \\ 0 & 0 & 0 \end{pmatrix}, \begin{pmatrix} 0 & 0 & 0 \\ 0 & 1 & 0 \\ 0 & 0 & 0 \end{pmatrix}, \begin{pmatrix} 0 & 0 & 0 \\ 0 & 0 & 0 \\ 0 & 0 & 1 \end{pmatrix} \right\}, \quad \dim(U \cap W) = 3. \quad \text{ד.}$$

ה. לא.

שאלת הוכחה. (9)

א. שאלת הוכחה. ב. 8 (10)

$$\dim(U+W) = 8, 9 \text{ or } 10, \quad \dim(U \cap W) = 4, 5, 6 \text{ or } 7 \quad \text{(11)}$$

$$\dim(U \cap W) = 2, 3 \text{ or } 4, \quad \dim(U+W) = 6 \text{ or } 7 \quad \text{(12)}$$

שאלת הוכחה. (13)

שאלת הוכחה. (14)

שאלת הוכחה. (15)

וקטור קואורדינטות ומטריצת מעבר מבסיס לבסיס

(1) נתונים שני בסיסים של R^3 :

$$B_1 = \{(1,1,0), (0,1,0), (0,1,1)\}, \quad B_2 = \{(1,0,1), (0,1,1), (0,0,1)\}$$

א. מצאו את וקטור הקואורדינטות ביחס לבסיס B_1 .

סמנו וקטור זה ב- $[v]_{B_1}$.

ב. מצאו את וקטור הקואורדינטות ביחס לבסיס B_2 .

סמנו וקטור זה ב- $[v]_{B_2}$.

ג. מצאו מטריצת מעבר מהבסיס B_1 לבסיס B_2 .

סמנו מטריצה זו ב- $[M]_{B_1}^{B_2}$.

ד. מצאו מטריצת מעבר מהבסיס B_2 לבסיס B_1 .

סמנו מטריצה זו ב- $[M]_{B_1}^{B_2}$.

ה. אשרו את הטענות הבאות :

$$1. [M]_{B_2}^{B_1} \cdot [v]_{B_1} = [v]_{B_2}$$

$$2. [M]_{B_1}^{B_2} \cdot [v]_{B_2} = [v]_{B_1}$$

$$3. [M]_{B_1}^{B_2} = \left([M]_{B_2}^{B_1} \right)^{-1}$$

(2) נתונים שני בסיסים של $P_2[R]$:

$$B_1 = \{1+x, x, x+x^2\}, \quad B_2 = \{1+x^2, x+x^2, x^2\}$$

א. מצאו את וקטור הקואורדינטות ביחס לבסיס B_1 .

סמנו וקטור זה ב- $[v]_{B_1}$.

ב. מצאו את וקטור הקואורדינטות ביחס לבסיס B_2 .

סמנו וקטור זה ב- $[v]_{B_2}$.

ג. מצאו מטריצת מעבר מהבסיס B_1 לבסיס B_2 .

סמנו מטריצה זו ב- $[M]_{B_1}^{B_2}$.

$$B = \left\{ \begin{pmatrix} 1 & 1 \\ 0 & 0 \end{pmatrix}, \begin{pmatrix} 0 & 1 \\ 1 & 0 \end{pmatrix}, \begin{pmatrix} 0 & 0 \\ 1 & 1 \end{pmatrix}, \begin{pmatrix} 0 & 0 \\ 0 & 1 \end{pmatrix} \right\} \quad (3) \text{ נתונים שני בסיסים של } M_2[R]$$

$$E = \left\{ \begin{pmatrix} 1 & 0 \\ 0 & 0 \end{pmatrix}, \begin{pmatrix} 0 & 1 \\ 0 & 0 \end{pmatrix}, \begin{pmatrix} 0 & 0 \\ 1 & 0 \end{pmatrix}, \begin{pmatrix} 0 & 0 \\ 0 & 1 \end{pmatrix} \right\}$$

א. מצאו את וקטור הקואורדינטות ביחס לבסיס B .

סמנו וקטור זה ב- $[v]_B$.

ב. מצאו את וקטור הקואורדינטות ביחס לבסיס E .

סמנו וקטור זה ב- $[v]_E$.

ג. מצאו מטריצת מעבר מהבסיס B לבסיס E .

סמנו מטריצה זו ב- $[M]_B^E$.

(4) יהי V מרחב וקטורי ויהי B בסיס של V .

הוכיחו כי הווקטורים $\{u_1, u_2, \dots, u_m\}$ בת"ל,

אם ורק אם וקטורי הקואורדינטות שלהם,

לפי הבסיס B , $\{[u_1], [u_2], \dots, [u_m]\}$, הם בת"ל.

הסבירו כיצד השתמשנו בטענה זו רבות במהלך הקורס.

תשובות סופיות

$$(1) \quad \text{א. } (x, y-x-z, z) \quad \text{ב. } (x, y, z-x-y) \quad \text{ג. } [M]_{B_1}^{B_2} = \begin{pmatrix} 1 & 0 & 0 \\ -2 & 0 & -1 \\ 1 & 1 & 1 \end{pmatrix}$$

$$\text{ד. } [M]_{B_2}^{B_1} = \begin{pmatrix} 1 & 0 & 0 \\ 1 & 1 & 1 \\ -2 & -1 & 0 \end{pmatrix} \quad \text{ה. הוכחה.}$$

$$(2) \quad \text{א. } (a, b-a-c, c) \quad \text{ב. } (a, b, c-a-b) \quad \text{ג. } [M]_{B_1}^{B_2} = \begin{pmatrix} 1 & 0 & 0 \\ -2 & 0 & -1 \\ 1 & 1 & 1 \end{pmatrix}$$

$$(3) \quad \text{א. } (x, y-x, z-y+x, t-z+y-x) \quad \text{ב. } (x, y, z, t) \quad \text{ג. } \begin{pmatrix} 1 & 0 & 0 & 0 \\ -1 & 1 & 0 & 0 \\ 1 & -1 & 1 & 0 \\ -1 & 1 & -1 & 1 \end{pmatrix}$$

(4) שאלת הוכחה.

אלגברה ליניארית

פרק 4 - העתקות ליניאריות

תוכן העניינים

61	1. העתקות ליניאריות.....
63	2. גרעין ותמונה של העתקות ליניאריות.....
66	3. העתקות ליניאריות חד-חד ערכיות ועל, איזומורפיזם.....
70	4. פעולות עם העתקות ליניאריות.....

העתקות לינאריות

שאלות

בשאלות 1-15, קבעו, עבור כל אחת מההעתקות, אם היא העתקה לינארית:

$$T(x, y) = (x + y, x - y) ; T : \mathbb{R}^2 \rightarrow \mathbb{R}^2 \quad (1)$$

$$T(x, y, z) = (x + y - 2z, x + 2y + z, 2x + 2y - 3z) ; T : \mathbb{R}^3 \rightarrow \mathbb{R}^3 \quad (2)$$

$$T(x, y, z) = (2x + z, |y|) ; T : \mathbb{R}^3 \rightarrow \mathbb{R}^2 \quad (3)$$

$$T(x, y) = (xy, y, z) ; T : \mathbb{R}^2 \rightarrow \mathbb{R}^3 \quad (4)$$

$$T(x, y, z) = (x + 1, x + y, y + z) ; T : \mathbb{R}^3 \rightarrow \mathbb{R}^3 \quad (5)$$

$$(B \in M_n[\mathbb{R}]) \quad T(A) = BA + AB ; T : M_n[\mathbb{R}] \rightarrow M_n[\mathbb{R}] \quad (6)$$

$$T(A) = A + A^T ; T : M_n[\mathbb{R}] \rightarrow M_n[\mathbb{R}] \quad (7)$$

$$T(A) = |A| \cdot I ; T : M_n[\mathbb{R}] \rightarrow M_n[\mathbb{R}] \quad (8)$$

$$T(A) = A \cdot A^T ; T : M_n[\mathbb{R}] \rightarrow M_n[\mathbb{R}] \quad (9)$$

$$T(A) = A^{-1} ; T : M_n[\mathbb{R}] \rightarrow M_n[\mathbb{R}] \quad (10)$$

$$T(a + bx + cx^2 + dx^3) = a + bx + cx^2 ; T : P_3[\mathbb{R}] \rightarrow P_2[\mathbb{R}] \quad (11)$$

$$T(p(x)) = p(x+1) ; T : P_n[\mathbb{R}] \rightarrow P_n[\mathbb{R}] \quad (12)$$

$$T(p(x)) = p'(x) + p''(x) ; T : P_n[\mathbb{R}] \rightarrow P_n[\mathbb{R}] \quad (13)$$

$$T(p(x)) = p^2(x) ; T : P_n[\mathbb{R}] \rightarrow P_{2n}[\mathbb{R}] \quad (14)$$

$$(F = \mathbb{C}, F = \mathbb{R}) \quad T(z) = \bar{z} ; T : C[F] \rightarrow C[F] \quad (15)$$

16 עבור איזה ערך של הקבוע m (אם יש כזה), ההעתקה הבאה תהיה ליניארית:
 $T(x, y) = (m^2 x^{2m}, y^{2m} + x)$; $T: R^2 \rightarrow R^2$?

בשאלות **17-20**, קבעו האם קיימת העתקה ליניארית המקיימת את הנתון.
 אם כן, מצאו את ההעתקה וקבעו האם היא יחידה. אם לא, נמקו מדוע.

17 $T: R^3 \rightarrow R^3$ כך ש- $T(1,1,0) = (1,2,3)$, $T(0,1,1) = (4,5,6)$, $T(0,0,1) = (7,8,9)$

18 $T: R^3 \rightarrow R^3$ כך ש- $T(1,0,1) = (1,1,0)$, $T(0,1,1) = (1,2,1)$, $T(0,0,1) = (0,1,1)$

19 $T: R^4 \rightarrow R^3$ כך ש-

$T(1,2,-1,0) = (0,1,-1)$, $T(-1,0,1,1) = (1,0,0)$, $T(0,4,0,2) = (2,2,-2)$

20 $T: P_2[R] \rightarrow P_2[R]$ כך ש- $T(1) = 4$, $T(4x + x^2) = x$, $T(1-x) = x^2 + 1$

$T(1,0,0) = (a_1, a_2, a_3)$

21 נתונה העתקה ליניארית $T: R^3 \rightarrow R^3$, המקיימת:

$T(0,1,0) = (b_1, b_2, b_3)$

$T(0,0,1) = (c_1, c_2, c_3)$

א. הוכיחו שנוסחת ההעתקה נתונה על ידי

$$T \begin{pmatrix} x \\ y \\ z \end{pmatrix} = \begin{pmatrix} a_1 & b_1 & c_1 \\ a_2 & b_2 & c_2 \\ a_3 & b_3 & c_3 \end{pmatrix} \begin{pmatrix} x \\ y \\ z \end{pmatrix}$$

ב. נסחו והוכיחו טענה דומה לטענה מסעיף א' עבור $T: R^n \rightarrow R^m$

22 נתונה העתקה ליניארית $T: V \rightarrow V$

הוכיחו או הפריכו:

א. אם $\{T(v_1), T(v_2), \dots, T(v_k)\}$ קבוצה בת"ל, אז $\{v_1, v_2, \dots, v_k\}$ קבוצה בת"ל.

ב. אם $\{v_1, v_2, \dots, v_k\}$ קבוצה בת"ל, אז $\{T(v_1), T(v_2), \dots, T(v_k)\}$ קבוצה בת"ל.

תשובות סופיות

(1) כן	(2) כן	(3) לא	(4) לא	(5) לא
(6) כן	(7) כן	(8) לא	(9) לא	(10) לא
(11) כן	(12) כן	(13) כן	(14) לא	(15) לא
(16) כן	(17) כן	(18) כן	(19) כן	(20) כן

(21) שאלת הוכחה. (22) שאלת הוכחה.

גרעין ותמונה של העתקות לינאריות

עבור כל אחת מההעתקות בשאלות 1-6, מצאו:

א. בסיס ומימד לגרעין.

ב. בסיס ומימד לתמונה.

$$T(x, y, z, t) = (x + y, y - 4z + t, 4x + y + 4z - t), \quad T: R^4 \rightarrow R^3 \quad (1)$$

$$T(x, y, z) = (x - 4y - z, x + y, y - z, x + 4z), \quad T: R^3 \rightarrow R^4 \quad (2)$$

$$T(x, y, z, t) = \begin{pmatrix} 1 & 2 & 3 & 1 \\ 1 & 3 & 5 & -2 \\ 2 & 6 & 10 & -4 \end{pmatrix} \begin{pmatrix} x \\ y \\ z \\ t \end{pmatrix}, \quad T: R^4 \rightarrow R^3 \quad (3)$$

$$T(A) = A \cdot \begin{pmatrix} 1 & 2 \\ 0 & 3 \end{pmatrix} - \begin{pmatrix} 1 & 2 \\ 0 & 3 \end{pmatrix} \cdot A, \quad T: M_2[R] \rightarrow M_2[R] \quad (4)$$

$$T(p(x)) = p(x+1) - p(x+4), \quad T: P_2[R] \rightarrow P_2[R] \quad (5)$$

$$D(p(x)) = p'(x), \quad D: P_3[R] \rightarrow P_3[R] \quad (6)$$

(7) מצאו העתקה לינארית $T: R^3 \rightarrow R^3$,
אשר תמונתה נפרשת על ידי: $\{(4, 1, 4), (-1, 4, 1)\}$.

(8) מצאו העתקה לינארית $T: R^4 \rightarrow R^3$,
אשר הגרעין שלה נפרש על ידי: $\{(0, 1, 1, 1), (1, 2, 3, 4)\}$.

נתונה העתקה לינארית $T: V \rightarrow U$.

(9) הוכיחו כי אם $\dim \text{Im}(T) = \dim \text{Ker}(T)$ אז הממד של V זוגי.

(10) הוכיחו או הפריכו:

א. קימת העתקה לינארית $T: R^5 \rightarrow R^5$ שעבורה $\text{Ker}(T) = \text{Im}(T)$.

ב. קימת העתקה לינארית $T: R^4 \rightarrow R^4$ שעבורה $\text{Ker}(T) = \text{Im}(T)$.

11 ידוע שהעתקה ליניארית $T: V \rightarrow W$, מקיימת: $\dim \text{Im}(T) = \dim \text{Ker}(T)$, $\dim(W) = 4$.
מי מבין הבאים יכול להיות הממד של V ?

א. 10

ב. 9

ג. 7

ד. 6

ה. כל התשובות לא נכונות.

12 הוכיחו או הפריכו:א. לכל העתקה ליניארית $T: V \rightarrow V$ מתקיים $\text{Im}(T^2) \subseteq \text{Im}(T)$.ב. לכל העתקה ליניארית $T: V \rightarrow V$ שמקיימת:

$$T = T^2, \text{Im}(T) = \text{Im}(T^2), \text{Ker}(T) = \text{Ker}(T^2)$$

ג. לכל העתקה ליניארית $T: V \rightarrow V$, המקיימת $\text{Im}(T) \subseteq \text{Ker}(T)$,אז בהכרח $T = 0$.**13** מטריצה $A_{m \times n}$ מגדירה העתקה $T: R^n \rightarrow R^m$; $T(x) = Ax$,ואילו $A_{n \times m}^T$ מגדירה העתקה $S: R^m \rightarrow R^n$; $S(y) = A^T y$.הראו כי $\text{Im}(T) = (\text{Ker}(S))^\perp$.

תשובות סופיות

(1) גרעין – בסיס : $\{(0,0,1,4)\}$, מימד : 1. תמונה – כל בסיס של \mathbb{R}^3 , מימד : 3.

(2) גרעין – בסיס : $\{(0,0,0)\}$, מימד : 0.

תמונה – בסיס : $\{(1,1,0,1), (0,5,1,4), (0,0,-6,21)\}$, מימד : 3.

(3) גרעין – בסיס : $\{(1,-2,1,0), (-7,3,0,1)\}$, מימד : 2.

תמונה – בסיס : $\{(1,1,2), (0,1,2)\}$, מימד : 2.

(4) גרעין – בסיס : $\left\{ \begin{pmatrix} -1 & 1 \\ 0 & 0 \end{pmatrix}, \begin{pmatrix} 1 & 0 \\ 0 & 1 \end{pmatrix} \right\}$, מימד : 2.

תמונה – בסיס : $\left\{ \begin{pmatrix} 0 & 1 \\ 0 & 0 \end{pmatrix}, \begin{pmatrix} 1 & 0 \\ 1 & -1 \end{pmatrix} \right\}$, מימד : 2.

(5) גרעין – בסיס : $\{p(x)=1\}$, מימד : 1.

תמונה – בסיס : $\{p(x)=2x+5, p(x)=1\}$, מימד : 2.

(6) גרעין – בסיס : $\{p(x)=1\}$, מימד : 1.

תמונה – בסיס : $\{p(x)=x^2, p(x)=x, p(x)=1\}$, מימד : 3.

$$T \begin{pmatrix} x \\ y \\ z \end{pmatrix} = \begin{pmatrix} 4 & -1 & -1 \\ 1 & 4 & 1 \\ 4 & 1 & 1 \end{pmatrix} \begin{pmatrix} x \\ y \\ z \end{pmatrix} \quad (7)$$

$$T(x, y, z, t) = (-x - y + z, -2x - y + t, 0) \quad (8)$$

(9) שאלת הוכחה.

(10) לא.

(11) שאלת הוכחה.

(12) שאלת הוכחה.

(13) שאלת הוכחה.

העתקות לינאריות חד-חד ערכיות ועל, איזומורפיזם

שאלות

עבור כל אחת מההעתקות בשאלות 1-4, קבעו האם היא חח"ע,¹ האם היא על, האם היא איזומורפיזם והאם קיימת העתקה הפוכה. כמו כן, במידה וקיימת העתקה הפוכה, מצאו אותה.

$$T(x, y, z) = (x - y + z, y + z, z - x) \quad , \quad T: R^3 \rightarrow R^3 \quad (1)$$

$$T(x, y, z) = (x - y + z, y + z, x + 2z) \quad , \quad T: R^3 \rightarrow R^3 \quad (2)$$

$$T(a + bx + cx^2) = (a + b + c, a - b, b - 2c) \quad , \quad T: P_2[R] \rightarrow R^3 \quad (3)$$

$$T\begin{pmatrix} a & b \\ c & d \end{pmatrix} = a - b + (c + d)x + (a - c)x^2 + dx^3 \quad , \quad T: M_2[R] \rightarrow P_3[R] \quad (4)$$

$$(5) \quad \text{האם תיתכן העתקה חד-חד ערכית } T: R^4 \rightarrow R^3 ?$$

$$(6) \quad \text{נתונה העתקה לינארית } T: U \rightarrow V \text{ הוכיחו:}$$

- א. אם $\dim(U) < \dim(V)$, אז T לא על.
 ב. אם $\dim(U) > \dim(V)$, אז T לא חח"ע.
 ג. אם $\dim(U) = \dim(V)$, אז T חח"ע $\Leftrightarrow T$ על.

$$(7) \quad \text{נתונה העתקה לינארית } T: V \rightarrow W \text{ הוכיחו או הפריכו:}$$

- א. אם $\dim \text{Ker}(T) \neq 0$, אז ההעתקה T אינה על.
 ב. אם $\dim \text{Ker}(T) = 0$ ו- $\dim(V) \leq \dim(W)$, אז ההעתקה T היא על.
 ג. אם $\dim \text{Ker}(T) = 0$ ו- $\dim(V) \geq \dim(W)$, אז ההעתקה T היא על.
 ד. אם $\dim(V) < \dim(W)$, אז ההעתקה T חח"ע.

¹ הערה: העתקה חח"ע נקראת גם לא-סינגולרית.

(8) נתונה העתקה לינארית $T: V \rightarrow W$; $\{v_1, \dots, v_n\}$ בסיס של V .
הוכח או הפרך:

- א. אם $\dim(V) > \dim(W)$ ואם $T(v_1) = 0$, אז ייתכן מקרה שבו T חח"ע.
ב. אם $\dim(V) > \dim(W)$, הקבוצה $\{T(v_1), \dots, T(v_n)\}$ בת"ל.

(9) נתונה העתקה לינארית $T: V \rightarrow W$.

$\{v_1, v_2, \dots, v_n\}$ קבוצה בת"ל ב- V .

הוכיחו או הפריכו:

- א. אם T חח"ע, אז הקבוצה $\{T(v_1), T(v_2), \dots, T(v_n)\}$ בת"ל ב- W .
ב. אם הקבוצה $\{T(v_1), T(v_2), \dots, T(v_n)\}$ בת"ל ב- W , אז T חח"ע.

(10) נתונה העתקה לינארית $T: R^n \rightarrow R^m$.

הוכיחו או הפריכו:

- א. אם T היא איזומורפיזם אז $m = n$.
ב. אם $m > n$, אז T חח"ע.
ג. אם $T(v) = Av$ לכל v , אז למטריצה A יש n שורות ו- m עמודות.

(11) נתונה העתקה לינארית $T: V \rightarrow V$, המקיימת $\text{Im}(T) = \text{Ker}(T)$.

הוכיחו או הפריכו:

- א. אם T על, אז בהכרח $V = \{0\}$.
ב. אם T חח"ע, אז בהכרח $V = \{0\}$.
ג. T היא איזומורפיזם.
ד. T היא העתקת האפס.

(12) נתונה העתקה לינארית $T: R^n \rightarrow R^m$, ונתונה מטריצה $A_{m \times n}$,

כך ש- $T(v) = Av$, לכל $v \in R^n$.

הוכיחו או הפריכו:

- א. אם $v \in \text{Ker}(T)$, אז $v \in \text{rowsp}(A)$.
ב. אם $v \in \text{rowsp}(A)$, אז $v \in \text{Ker}(T)$.
ג. אם $v \in \text{colsp}(A)$, אז $v \in \text{Im}(T)$.
ד. אם $\text{Ker}(T) = \{0\}$, אז $n < m$.

13 נתונה העתקה ליניארית $T: R^n \rightarrow R^n$, ונתונה מטריצה A ,

כך ש- $T(v) = Av$, לכל $v \in R^n$.

הוכיחו את הטענות הבאות:

א. אם $\text{rank}(A) = n$, אז T חח"ע.

ב. אם $\text{rank}(A) = n$, אז T על.

ג. אם $T^2(v) = 0$, אז $\text{Im}(T) \subseteq \text{Ker}(T)$.

ד. אם $T^2(v) = 0$, אז $\text{rank}(A) \leq \frac{n}{2}$.

14 נתונה העתקה ליניארית $T: P_3[R] \rightarrow R$, המוגדרת על ידי $T(p(x)) = p(1)$.

א. מצאו את הגרעין והתמונה של ההעתקה.

ב. קבעו האם ההעתקה היא חח"ע/על.

ג. ענו על הסעיפים הקודמים עבור $T: P_n[R] \rightarrow R$.

15 נתונה העתקה ליניארית $T: M_n[R] \rightarrow M_n[R]$, המוגדרת על ידי $T(A) = A^T$.

א. מצאו את הגרעין והתמונה של ההעתקה.

ב. קבעו האם ההעתקה היא חח"ע/על.

ג. מצאו את ההעתקה ההפוכה של T .

תשובות סופיות

(1) חח"ע, על, איזומורפיזם ויש לה העתקה הפיכה:

$$T^{-1}(x, y, z) = \left(\frac{1}{3}(x + y - 2z), \frac{1}{3}(2y - z - x), \frac{1}{3}(z + x + y) \right)$$

(2) לא חח"ע ולא על, ולכן לא איזומורפיזם ואין לה העתקה הפיכה.

(3) חח"ע, על, איזומורפיזם ויש לה העתקה הפיכה:

$$T^{-1}(a, b, c) = 0.4a + 0.6b + 0.2c + (-0.4a + 0.4b + 0.2c)x + (-0.4c - 0.2b + 0.2a)x^2$$

(4) חח"ע, על, איזומורפיזם ויש לה העתקה הפיכה:

$$T^{-1}(a + bx + cx^2 + dx^3) = \begin{pmatrix} b + c - d & -a + b + c - d \\ b - d & d \end{pmatrix}$$

(5) לא.

(6) שאלת הוכחה.

(7) שאלת הוכחה.

(8) שאלת הוכחה.

(9) שאלת הוכחה.

(10) שאלת הוכחה.

(11) שאלת הוכחה.

(12) שאלת הוכחה.

(13) שאלת הוכחה.

(14) א. $\text{Ker}(T) = \text{span}\{-1 + x, -1 + x^2, -1 + x^3\}$, $\dim \text{Ker}(T) = 3$

$$\text{Im}(T) = \text{span}\{1\}, \dim \text{Im}(T) = 1$$

ב. לא חח"ע, כן על.

א. $\text{Ker}(T) = \text{span}\{-1 + x, -1 + x^2, \dots, -1 + x^n\}$, $\dim \text{Ker}(T) = n$

$$\text{Im}(T) = \text{span}\{1\}, \dim \text{Im}(T) = 1$$

לא חח"ע, כן על.

$$\text{Ker}(T) = \left\{ \begin{pmatrix} 0 & 0 \\ & \ddots \\ 0 & 0 \end{pmatrix} \right\}, \text{Im}(T) = M_n[\mathbb{R}] \quad \text{א. (15)}$$

ב. חח"ע ועל. ג. $T^{-1}(A) = A^T$

פעולות עם העתקות לינאריות

שאלות

בשאלות 1-9, תהינה $S: \mathbb{R}^3 \rightarrow \mathbb{R}^2$ ו- $T: \mathbb{R}^3 \rightarrow \mathbb{R}^3$ העתקות לינאריות המוגדרות על ידי: $S(x, y, z) = (x - z, y)$, $T(x, y, z) = (x, 4x - y, x + 4y - z)$.

מצאו נוסחאות (אם יש) המגדירות את:

- | | | | | |
|-----------|--------------|--------------|-----------|----------|
| (1) $S+T$ | (2) $4S$ | (3) $4S-10T$ | (4) TS | (5) ST |
| (6) T^2 | (7) T^{-1} | (8) T^{-2} | (9) S^2 | |

תשובות סופיות

- (1) לא ניתן להגדיר.
- (2) $4S = 4(x - z, y)$
- (3) לא ניתן להגדיר.
- (4) לא ניתן להגדיר.
- (5) $ST: \mathbb{R}^3 \rightarrow \mathbb{R}^3$; $St(x, y, z) = (z - 4y, 4x - y)$
- (6) $T^2(x, y, z) = (x, y, 16x - 8y + z)$
- (7) $T^{-1}(x, y, z) = (x, 4x, -y, 17x - 4y - z)$
- (8) $T^{-2}(x, y, z) = (x, y, -16x + 8y + z)$
- (9) לא ניתן להגדיר.

אלגברה ליניארית

פרק 5 - מטריצות והעתקות ליניאריות

תוכן העניינים

- 71 1. מטריצה שמייצגת העתקה.
- 77 2. מטריצה שמייצגת העתקה מבסיס לבסיס.

מטריצה שמייצגת העתקה

הערה :

כבסיס לפרק זה יש להכיר את המושגים וקטור קואורדינטות ביחס לבסיס ומטריצת מעבר מבסיס לבסיס (סוף הפרק מרחיבים וקטורים). לפיכך, השאלה הראשונה עוסקת בכך.

שאלות

(1) נתונים שני בסיסים של R^3 :

$$B_1 = \{(1,1,0), (0,1,0), (0,1,1)\}, \quad B_2 = \{(1,0,1), (0,1,1), (0,0,1)\}$$

א. מצאו את וקטור הקואורדינטות ביחס לבסיס B_1 .

סמנו וקטור זה ב- $[v]_{B_1}$.

ב. מצאו את וקטור הקואורדינטות ביחס לבסיס B_2 .

סמנו וקטור זה ב- $[v]_{B_2}$.

ג. מצאו מטריצת מעבר מהבסיס B_1 לבסיס B_2 .

סמנו מטריצה זו ב- $[M]_{B_1}^{B_2}$.

ד. מצאו מטריצת מעבר מהבסיס B_2 לבסיס B_1 .

סמנו מטריצה זו ב- $[M]_{B_2}^{B_1}$.

ה. אשרו את הטענות הבאות :

$$1. [M]_{B_2}^{B_1} \cdot [v]_{B_1} = [v]_{B_2}$$

$$2. [M]_{B_1}^{B_2} \cdot [v]_{B_2} = [v]_{B_1}$$

$$3. [M]_{B_1}^{B_2} = \left([M]_{B_2}^{B_1} \right)^{-1}$$

(2) נתונה העתקה לינארית: $T: R^3 \rightarrow R^3$, $T(x, y, z) = (x + y, y + z, z - x)$.

נתונים שני בסיסים של R^3 :

$$B_1 = \{(1, 1, 0), (0, 1, 0), (0, 1, 1)\}, \quad B_2 = \{(1, 0, 1), (0, 1, 1), (0, 0, 1)\}$$

א. מצאו את המטריצה שמייצגת את ההעתקה בבסיס B_1 .

$$[T]_{B_1} \text{ סמנו מטריצה זו ב-}$$

ב. מצאו את המטריצה שמייצגת את ההעתקה בבסיס B_2 .

$$[T]_{B_2} \text{ סמנו מטריצה זו ב-}$$

ג. אשרו את הטענות הבאות:

$$1. [T]_{B_1} \cdot [v]_{B_1} = [T(v)]_{B_1}$$

$$2. [T]_{B_2} \cdot [v]_{B_2} = [T(v)]_{B_2}$$

$$3. [M]_{B_2}^{B_1} \cdot [T]_{B_1} \cdot [M]_{B_1}^{B_2} = [T]_{B_2}$$

ד. האם ההעתקה הפיכה?

ה. חשבו את הדטרמיננטה והעקבה של ההעתקה.

ו. מצאו ערכים עצמיים ו-וקטורים עצמיים עבור ההעתקה.

ז. האם ההעתקה ניתנת ללכסון?

(3) נתונה העתקה לינארית $T: R^3 \rightarrow R^3$.

ידוע שהמטריצה שמייצגת את ההעתקה בבסיס $B = \{(1, 0, 1), (0, 1, 1), (0, 0, 1)\}$

$$[T]_B = \begin{pmatrix} 1 & 1 & 0 \\ 1 & 2 & 1 \\ -2 & -2 & 0 \end{pmatrix} \text{ היא}$$

מהי נוסחת ההעתקה? פתרו בשתי דרכים שונות.

(4) יהיו B_1 ו- B_2 שני בסיסים של המרחב R^3 , ויהי T אופרטור לינארי על R^3 .

$$\text{נתון כי: } [M]_{B_1}^{B_2} = \begin{pmatrix} -1 & -9 & 6 \\ 1 & 6 & -4 \\ 1 & 5 & -2 \end{pmatrix} \text{ ו-} [T]_{B_1} = \begin{pmatrix} -29 & -45 & 6 \\ 20 & 31 & -4 \\ 13 & 19 & -1 \end{pmatrix}$$

חשבו את $[M]_{B_2}^{B_1}$ ואת $[T]_{B_2}$.

5 מצאו את המטריצה שמייצגת את ההעתקה :

$$, T(A) = \begin{pmatrix} 1 & 2 \\ 3 & 4 \end{pmatrix} A \quad , \quad T: M_2[R] \rightarrow M_2[R]$$

$$. B = \left\{ \begin{pmatrix} 1 & 1 \\ 0 & 0 \end{pmatrix}, \begin{pmatrix} 0 & 1 \\ 1 & 0 \end{pmatrix}, \begin{pmatrix} 0 & 0 \\ 1 & 1 \end{pmatrix}, \begin{pmatrix} 0 & 0 \\ 0 & 1 \end{pmatrix} \right\} : \text{לפי הבסיס}$$

6 מצאו את המטריצה שמייצגת את ההעתקה $D: P_4[R] \rightarrow P_3[R]$, $D(p(x)) = p'(x)$, לפי הבסיס הסטנדרטי של הפולינומים ממעלה קטנה או שווה ל-4.

7 נתונה העתקה לינארית $T: M_2[R] \rightarrow M_2[R]$. ידוע שהמטריצה שמייצגת את ההעתקה בבסיס הסטנדרטי

$$. [T]_E = \begin{pmatrix} 1 & 0 & 1 & 0 \\ 0 & 1 & 0 & 1 \\ 1 & 0 & 1 & 0 \\ 0 & 1 & 0 & 1 \end{pmatrix} : \text{היא}$$

מצאו את נוסחת ההעתקה.

8 נתונה העתקה לינארית $T: P_2[R] \rightarrow P_2[R]$. נתון כי המטריצה המייצגת את ההעתקה, לפי הבסיס הסטנדרטי,

$$. [T]_E = \begin{pmatrix} 1 & 1 & 1 \\ 0 & 1 & 2 \\ 0 & 0 & 1 \end{pmatrix} : \text{היא}$$

מצאו את נוסחת ההעתקה.

9 נתונה העתקה לינארית $T: P_2[R] \rightarrow P_2[R]$. נתון כי המטריצה המייצגת את ההעתקה, לפי הבסיס $B = \{1, 1-x, x+x^2\}$,

$$. [T]_B = \begin{pmatrix} 1 & 0 & 1 \\ 0 & -1 & -1 \\ 2 & 1 & 3 \end{pmatrix} : \text{היא}$$

א. מצאו את נוסחת ההעתקה. כלומר, מצאו את $T(p(x))$.

* פתרו בשתי דרכים שונות.

ב. מצאו את $T^2(p(x))$.

10 תהי $T: \mathbb{R}^n \rightarrow \mathbb{R}^n$ העתקה לינארית, ותהי A מטריצה ממשית,

כך שמתקיים $T(v) = Av$ לכל $v \in \mathbb{R}^n$.

נתון כי B בסיס ל- \mathbb{R}^n ו- $\text{rank}(A) = n-1$.

הוכיחו כי $[T]_B$ הפיכה.

(11) נתונה העתקה לינארית $T: P_3[R] \rightarrow P_3[R]$.

ידוע שהמטריצה שמייצגת את ההעתקה בבסיס הסטנדרטי

$$[T]_E = \begin{pmatrix} 0 & 1 & 0 & 1 \\ 1 & 0 & 1 & 0 \\ 0 & 1 & 0 & 1 \\ 1 & 0 & 1 & 0 \end{pmatrix} \text{ היא}$$

א. מצאו גרעין ותמונה של ההעתקה.

ב. מצאו את נוסחת ההעתקה.

(12) נתונה העתקה לינארית $T: M_2[R] \rightarrow M_2[R]$.

ידוע שהמטריצה שמייצגת את ההעתקה, בבסיס הסטנדרטי,

$$[T]_E = \begin{pmatrix} 1 & 2 & 3 & 0 \\ 4 & 5 & 6 & 0 \\ 7 & 8 & 9 & 0 \\ 0 & 0 & 0 & 0 \end{pmatrix} \text{ היא}$$

א. מצאו גרעין ותמונה של ההעתקה.

ב. חשבו את העקבה, הדטרמיננטה והדרגה של ההעתקה.

ג. מצאו את נוסחת ההעתקה.

(13) נתונה העתקה לינארית: $T: P_2[R] \rightarrow P_2[R]$; $T(a+bx+cx^2) = b+cx$.

הוכיחו ש- T העתקה נילפוטנטית.

(14) יהי $V = \mathbb{R}_2[x]$ מרחב הפולינומים ממעלה 2 ומטה מעל \mathbb{R} .

נתון הבסיס $B = \{1, x, x^2\}$, ונתונה ההעתקה הלינארית

$$T(p(x)) = xp''(x) - p'(x); T: V \rightarrow V$$

א. מצאו את המטריצה המייצגת $[T]_B$.

ב. מצאו בסיס וממד עבור $\text{Im}(T)$, $\text{Ker}(T)$.

הערה: בפתרון סעיף זה לא נשתמש במטריצה המייצגת למציאת הגרעין והתמונה, היות ונוסחת ההעתקה כבר נתונה בתרגיל.

15) נתונות שתי העתקות לינאריות $S, T: V \rightarrow V$.

יהי $B = \{u, v, w\}$ בסיס ל- V .

$$\text{נתון כי: } \begin{cases} S(u) = u + v \\ S(v) = v + w \\ S(w) = w + u \end{cases}, \begin{cases} T(u) = u - v \\ T(v) = v - w \\ T(w) = w - u \end{cases}$$

א. הוכיחו כי: $\text{Ker}(T) \neq \{0\}$, $\text{Ker}(S) = \{0\}$.

ב. עבור כל אחת מההעתקות קבע האם היא חח"ע ו/או על.

ג. קבעו האם $\{T(u), T(v), T(w)\}$ פורשת את V .

ד. קבעו האם $\{S(u), S(v), S(w)\}$ פורשת את V .

תשובות סופיות

$$[M]_{B_1}^{B_2} = \begin{pmatrix} 1 & 0 & 0 \\ -2 & 0 & -1 \\ 1 & 1 & 1 \end{pmatrix} \quad \text{ג.} \quad \text{א. } (x, y-x-z, z) \quad \text{ב. } (x, y, z-x-y) \quad \text{1}$$

$$\text{ה. שאלת הוכחה.} \quad [M]_{B_2}^{B_1} = \begin{pmatrix} 1 & 0 & 0 \\ 1 & 1 & 1 \\ -2 & -1 & 0 \end{pmatrix} \quad \text{ד.}$$

$$[T]_{B_2} = \begin{pmatrix} 1 & 1 & 0 \\ 1 & 2 & 1 \\ -2 & -2 & 0 \end{pmatrix} \quad \text{ב.} \quad \text{ג. הוכחה.} \quad [T]_{B_1} = \begin{pmatrix} 2 & 1 & 1 \\ 0 & 0 & 0 \\ -1 & 0 & 1 \end{pmatrix} \quad \text{א.} \quad \text{2}$$

ד. לא. ה. הדטרמיננטה: 0, העקבה: 3.
ו. 0 עייע יחיד; הוייע שלו: (1, -1, 1). ז. לא.

$$T(x, y, z) = (x+y, y+z, z-x) \quad \text{3}$$

$$[M]_{B_2}^{B_1} = \begin{pmatrix} 2 & 3 & 0 \\ -0.5 & -1 & 0.5 \\ -0.25 & -1 & 0.75 \end{pmatrix}, \quad [T]_{B_2} = \begin{pmatrix} 1 & 0 & 0 \\ 0.5 & -0.5 & 1 \\ -0.75 & 2.75 & 0.5 \end{pmatrix} \quad \text{4}$$

$$[T]_E = \begin{pmatrix} 0 & 1 & 0 & 0 & 0 \\ 0 & 0 & 2 & 0 & 0 \\ 0 & 0 & 0 & 3 & 0 \\ 0 & 0 & 0 & 0 & 4 \\ 0 & 0 & 0 & 0 & 0 \end{pmatrix} \quad \text{6} \quad [T]_B = \begin{pmatrix} 1 & 2 & 2 & 0 \\ 0 & -1 & 0 & 2 \\ 3 & 5 & 4 & -2 \\ 0 & -2 & 0 & 6 \end{pmatrix} \quad \text{5}$$

$$T \begin{pmatrix} x & y \\ z & t \end{pmatrix} = \begin{pmatrix} 1 & 1 \\ 1 & 1 \end{pmatrix} \begin{pmatrix} x & y \\ z & t \end{pmatrix} \quad \text{7}$$

$$T(p(x)) = p(x+1) \quad ; \quad T: P_2[R] \rightarrow P_2[R] \quad \text{8}$$

$$T(a+bx+cx^2) = (a+2b-2c) + (2a+4c)x + (2a+b+2c)x^2 \quad \text{א.} \quad \text{9}$$

$$T^2(a+bx+cx^2) = (a+2c)1 + (10a+8b+4c)x + (8a+6b+4c)x^2 \quad \text{ב.}$$

10 שאלת הוכחה.

$$\text{Ker}(T) = sp\{-x+x^3, -1+x^2\}, \quad \text{Im}(T) = sp\{1+x^2, x+x^3\} \quad \text{א.} \quad \text{11}$$

$$T(a+bx+cx^2+dx^3) = (b+d)(1) + (a+c)x + (b+d)x^2 + (a+c)x^3 \quad \text{ב.}$$

$$\text{Ker}(T) = sp\left\{\begin{pmatrix} 1 & -2 \\ 1 & 0 \end{pmatrix}, \begin{pmatrix} 0 & 0 \\ 0 & 1 \end{pmatrix}\right\}, \quad \text{Im}(T) = sp\left\{\begin{pmatrix} 1 & 4 \\ 7 & 0 \end{pmatrix}, \begin{pmatrix} 0 & 1 \\ 2 & 0 \end{pmatrix}\right\} \quad \text{א.} \quad \text{12}$$

$$\text{tr}(T) = 15, \quad \det(T) = 0, \quad \text{rank}(T) = 2 \quad \text{ב.}$$

13 שאלת הוכחה.

$$B_{\text{Im}(T)} = \{1\}, \quad \dim(\text{Im}(T)) = 1 \quad \text{ב.} \quad [T]_B = \begin{pmatrix} 0 & -1 & 0 \\ 0 & 0 & 0 \\ 0 & 0 & 0 \end{pmatrix} \quad \text{א.} \quad \text{14}$$

$$B_{\text{Ker}(T)} = \{1, x^2\}, \quad \dim(\text{Ker}(T)) = 2$$

15 שאלת הוכחה.

מטריצה שמייצגת העתקה מבסיס לבסיס

שאלות

(1) מצאו את המטריצה המייצגת של כל אחת מההעתקות הלינאריות הבאות,

ביחס לבסיסים הסטנדרטיים של R^n :

א. $T(x, y) = (x + y, y, -x)$, $T : R^2 \rightarrow R^3$

ב. $T(x, y, z, t) = (4x - y - z + t, x + y + 4z + t)$, $T : R^4 \rightarrow R^2$

(2) נתונה העתקה לינארית $T : R^4 \rightarrow R^2$; $T(x, y, z, t) = (x + y, z + t)$
מצאו את המטריצה שמייצגת את ההעתקה מהבסיס הסטנדרטי של R^4
לבסיס הסטנדרטי של R^2 .

(3) תהי $T : R^3 \rightarrow R^2$ העתקה לינארית המוגדרת על ידי :

$$T(x, y, z) = (4x + y - z, x - y + z)$$

חשבו את המטריצה המייצגת את ההעתקה T מהבסיס

$B_1 = \{(1, 1, 0), (0, 1, 1), (0, 0, 1)\}$ של R^3 , לבסיס $B_2 = \{(1, 4), (1, 5)\}$ של R^2 .

כלומר, את $[T]_{B_1}^{B_2}$.

(4) עבור העתקה לינארית $T : R^3 \rightarrow R^2$ מתקיים :

$$[T]_{B_1}^{B_2} = \begin{pmatrix} 1 & 2 & 3 \\ 4 & 5 & 6 \end{pmatrix}$$

כאשר : $B_1 = \{(1, 0, 0), (0, 1, 0), (0, 0, 1)\}$, $B_2 = \{(1, 0), (0, 1)\}$

מצאו את נוסחת ההעתקה.

(5) עבור העתקה לינארית $T : R^3 \rightarrow R^2$ מתקיים :

$$[T]_{B_1}^{B_2} = \begin{pmatrix} 2 & 1 & -1 \\ 0 & 0 & 1 \end{pmatrix}$$

כאשר $B_1 = \{(1, 1, 1), (1, 0, 1), (0, 0, 1)\}$, $B_2 = \{(1, 1), (1, 2)\}$

מצאו את נוסחת ההעתקה.

(6) נתונה העתקה לינארית $T : P_3[R] \rightarrow P_2[R]$.

המטריצה שמייצגת את ההעתקה T , מהבסיס הסטנדרטי של $P_3[R]$

לבסיס הסטנדרטי של $P_2[R]$, נתונה על ידי :

$$[T] = \begin{pmatrix} 0 & 1 & 2 & 0 \\ 0 & 0 & 2 & 6 \\ 0 & 0 & 0 & 3 \end{pmatrix}$$

מצאו את נוסחת ההעתקה.

7 נתונה העתקה לינארית $T: P_2[R] \rightarrow R^3$, אשר המטריצה המייצגת

$$[T] = \begin{pmatrix} 1 & 1 & 0 \\ 0 & 1 & 1 \\ 0 & 0 & 1 \end{pmatrix} : \text{אותה מבסיס סטנדרטי לבסיס סטנדרטי היא:}$$

מצאו את נוסחת ההעתקה.

8 נתונה העתקה לינארית $T: M_2[R] \rightarrow P_3[R]$, שהמטריצה המייצגת אותה

$$[T] = \begin{pmatrix} 1 & -1 & 0 & 0 \\ 0 & 0 & 1 & 1 \\ 1 & 0 & -1 & 0 \\ 0 & 0 & 0 & 1 \end{pmatrix} : \text{מבסיס סטנדרטי לבסיס סטנדרטי היא:}$$

מצאו את נוסחת ההעתקה.

9 תהי $T: V \rightarrow V$ העתקה לינארית, כך ש- $\dim(V) = n$,

ויהיו B_2, B_1 בסיסים סדורים של V . הוכיחו או הפריכו:

$$\text{א. } [T]_{B_1}^{B_1} = I_n$$

ב. אם T העתקת זהות, אז בהכרח $[T]_{B_1}^{B_1} = I_n$.

ג. אם T העתקת זהות, אז בהכרח $[T]_{B_2}^{B_1} [T]_{B_1}^{B_2} = I_n$.

10 נתונה העתקה לינארית $T: P_2[R] \rightarrow R^3$ המוגדרת על ידי:

$$T(a + bx + cx^2) = (a + b, b + c, c)$$

א. מצאו את המטריצה שמייצגת את ההעתקה מבסיס לבסיס (הבסיסים סטנדרטים)

ב. הוכיחו שההעתקה הפיכה וחשבו את $T^{-1}(a, b, c)$.

ג. חשבו את $T^4(a + bx + cx^2)$.

11 נתונה העתקה לינארית $T: M_2[R] \rightarrow P_3[R]$, המוגדרת על ידי:

$$T \begin{pmatrix} a & b \\ c & d \end{pmatrix} = (a - b) + (c + d)x + (a - c)x^2 + dx^3$$

א. מצאו את המטריצה שמייצגת את ההעתקה מבסיס לבסיס (הבסיסים סטנדרטים)

ב. הוכיחו שההעתקה הפיכה וחשבו את $T^{-1}(a + bx + cx^2 + dx^3)$.

12 חשבו את ST ואת TS , עבור ההעתקות:

$$S(x, y) = (x - y, x + y, y) \quad ; \quad S: R^2 \rightarrow R^3$$

$$T(a + bx + cx^2) = (a + b, b - c) \quad ; \quad T: P_2[R] \rightarrow R^2$$

תשובות סופיות

$$[T] = \begin{pmatrix} 4 & -1 & -1 & 1 \\ 1 & 1 & 4 & 1 \end{pmatrix} \text{ ב. } [T] = \begin{pmatrix} 1 & 1 \\ 0 & 1 \\ -1 & 0 \end{pmatrix} \text{ א. (1)}$$

$$[T] = \begin{pmatrix} 1 & 1 & 0 & 0 \\ 0 & 0 & 1 & 1 \end{pmatrix} \text{ (2)}$$

$$[T] = \begin{pmatrix} 25 & 0 & -6 \\ -20 & 0 & 5 \end{pmatrix} \text{ (3)}$$

$$T(x, y, z) = (x + 2y + 3z, 4x + 5y + 6z) \text{ (4)}$$

$$T(x, y, z) = (x + y, y + z) \text{ (5)}$$

$$T(a + bx + cx^2 + dx^3) = (b + 2c)1 + (2c + 6d)x + (3d)x^2 \text{ (6)}$$

$$T(a + bx + cx^2) = (a + b, b + c, c) \text{ (7)}$$

$$T \begin{pmatrix} a & b \\ c & d \end{pmatrix} = (a - b) + (c + d)x + (a - c)x^2 + dx^3 \text{ (8)}$$

שאלת הוכחה. (9)

$$T^{-1}(a, b, c) = (a - b + c)1 + (b - c)x + cx^2 \text{ ב. } \begin{pmatrix} 1 & 1 & 0 \\ 0 & 1 & 1 \\ 0 & 0 & 1 \end{pmatrix} \text{ א. (10)}$$

ג. לא ניתן.

$$\begin{pmatrix} 1 & -1 & 0 & 0 \\ 0 & 0 & 1 & 1 \\ 1 & 0 & -1 & 0 \\ 0 & 0 & 0 & 1 \end{pmatrix} \text{ א. (11)}$$

$$T^{-1}(a + bx + cx^2 + dx^3) = \begin{pmatrix} b + c - d & -a + b + c - d \\ b - d & d \end{pmatrix} \text{ ב.}$$

$$ST(a + bx + cx^2) = (a + c, a + 2b - c, b - c) \text{ (12)}$$

אלגברה ליניארית

פרק 6 - מרחבי מכפלה פנימית

תוכן העניינים

80	1. מרחבי מכפלה פנימית
82	2. הנורמה והמרחק
84	3. אי שוויון קושי-שוורץ, זווית בין וקטורים
87	4. אורתוגונליות
90	5. משלים אורתוגונלי

מרחבי מכפלה פנימית

שאלות

(1) לכל שני וקטורים $u = (x_1, x_2)$, $v = (y_1, y_2)$ ב- \mathbb{R}^2 , נגדיר:

$$\langle u, v \rangle = x_1 y_1 - 3x_1 y_2 - 3x_2 y_1 + 4x_2 y_2$$

בדקו האם ההגדרה לעיל מהווה מכפלה פנימית ב- \mathbb{R}^2 .

(2) לכל שני וקטורים $u = (x_1, x_2)$, $v = (y_1, y_2)$ ב- \mathbb{R}^2 , נגדיר:

$$\langle u, v \rangle = x_1 y_1 - 3x_1 y_2 - 3x_2 y_1 + kx_2 y_2$$

עבור אילו ערכים של הקבוע k ההגדרה לעיל מהווה מכפלה פנימית ב- \mathbb{R}^2 ?

(3) לכל שני וקטורים $u = (x_1, x_2, x_3)$, $v = (y_1, y_2, y_3)$ ב- \mathbb{R}^3 , נגדיר:

$$\langle u, v \rangle = x_1 y_1 + kx_1 y_3 + x_2 y_2 + kx_3 y_1 + x_3 y_3$$

עבור אילו ערכים של הקבוע k ההגדרה לעיל מהווה מכפלה פנימית ב- \mathbb{R}^3 ?

(4) לכל שני וקטורים $u = (u_1, \dots, u_n)$, $v = (v_1, \dots, v_n)$ ב- \mathbb{R}^n ,

נגדיר: $\langle u, v \rangle = \sum_{i=1}^n k_i u_i v_i$, כאשר k_1, \dots, k_n מספרים חיוביים כלשהם.

הראו כי הנוסחה לעיל מגדירה מכפלה פנימית ב- \mathbb{R}^n .

מהי המכפלה המתקבלת אם $k_i = 1$ לכל $1 \leq i \leq n$?

(5) לכל שתי מטריצות A, B ב- $M_{m \times n}[R]$, נגדיר: $\langle A, B \rangle = \text{tr}(B^T A)$.

בדקו האם ההגדרה לעיל מהווה מכפלה פנימית ב- $M_{m \times n}[R]$.

tr מייצג את המילה trace (עקבה), כלומר, סכום איברי האלכסון.

(6) לכל שתי פונקציות f, g ב- $C[a, b]$, נגדיר: $\langle f, g \rangle = \int_a^b f \cdot g dx$.

בדקו האם ההגדרה לעיל מהווה מכפלה פנימית ב- $C[a, b]$.

- (7) נתונה מכפלה פנימית על R^3 , שעבורה הקבוצה $B = \{(1,1,0), (1,1,0), (1,0,0)\}$ מהווה בסיס אורתונורמלי. חשבו את המכפלה הפנימית של שני וקטורים כלליים $\langle (x_1, x_2, x_3), (y_1, y_2, y_3) \rangle$.

תשובות סופיות

- (1) ההגדרה לא מהווה מכפלה פנימית.
 (2) $k > 9$
 (3) $-1 < k < 1$
 (4) עבור $k_i = 1$ לכל $1 \leq i \leq n$, נקבל את המכפלה הפנימית הסטנדרטית.
 (5) ההגדרה מהווה מכפלה פנימית ב- $M_{m \times n}[R]$.
 (6) ההגדרה מהווה מכפלה פנימית ב- $C[a, b]$.
 (7) $(x_1, x_2, x_3) \begin{pmatrix} 1 & -1 & 0 \\ -1 & 2 & -1 \\ 0 & -1 & 2 \end{pmatrix} \begin{pmatrix} y_1 \\ y_2 \\ y_3 \end{pmatrix}$

הנורמה והמרחק

שאלות

(1) נתונים שלושה וקטורים ב- \mathbb{R}^3 : $u = (1, -2, 2)$, $v = (3, -2, 6)$, $w = (5, 3, -2)$.
בהתייחס למכפלה הפנימית הרגילה ב- \mathbb{R}^3 , חשבו:

א. $\langle u, v \rangle$	ב. $\langle u, w \rangle$	ג. $\langle v, w \rangle$	ד. $\langle u + v, w \rangle$
ה. $\ u\ $	ו. $\ v\ $	ז. $\ u + v\ $	ח. $d(u, v)$
ט. \hat{u}	י. \hat{v}		

(2) נתונות שלוש מטריצות ב- $M_{2 \times 3}[R]$:

$$A = \begin{pmatrix} 10 & 9 & 8 \\ 7 & 6 & 5 \end{pmatrix}, B = \begin{pmatrix} 2 & 3 & 4 \\ 5 & 6 & 7 \end{pmatrix}, C = \begin{pmatrix} 3 & -5 & 2 \\ 1 & 0 & -4 \end{pmatrix}$$

בהתייחס למכפלה הפנימית $\langle A, B \rangle = \text{tr}(B^T A)$ ב- $M_{2 \times 3}[R]$, חשבו:

א. $\langle A, B \rangle$	ב. $\langle A, C \rangle$	ג. $\langle A, B + C \rangle$
ד. $\langle B, C \rangle$	ה. $\langle 4A + 10B, 11C \rangle$	ו. $\ A\ $
ז. $\ B\ $	ח. $d(A, B)$	ט. \hat{A}

(3) נתונים שלושה פולינומים ב- $C[0, 1]$:

$$p(x) = x + 3, \quad q(x) = 3x + 1, \quad r(x) = x^2 - 4x - 1$$

בהתייחס למכפלה הפנימית $\langle p, q \rangle = \int_0^1 p(x) \cdot q(x) dx$, חשבו:

א. $\langle p, q \rangle$	ב. $\langle p, r \rangle$	ג. $\langle p, q + r \rangle$
ד. $\ p\ $	ה. $d(p, q)$	ו. \hat{r}

$$(4) \text{ הוכיחו: } \|u+v\|^2 = \|u\|^2 + 2\langle u, v \rangle + \|v\|^2$$

$$(5) \text{ הוכיחו: } \|u-v\|^2 = \|u\|^2 - 2\langle u, v \rangle + \|v\|^2$$

$$(6) \text{ הוכיחו: } \langle u-v, u+v \rangle = \|u\|^2 - \|v\|^2$$

$$(7) \text{ הוכיחו: } \|u+v\|^2 + \|u-v\|^2 = 2\|u\|^2 + 2\|v\|^2$$

$$(8) \text{ הוכיחו: } \frac{1}{4}(\|u+v\|^2 - \|u-v\|^2) = \langle u, v \rangle$$

(9) יהי V ממ"פ ויהיו $u, v \in V$ וקטורים המקיימים: $\|u\| = a$, $\|u+v\| = b$, $\|u-v\| = c$. מצאו את $\|v\|$ ואת $\langle u, v \rangle$.

תשובות סופיות

$$(1) \begin{array}{llll} \text{א. } 19 & \text{ב. } -5 & \text{ג. } -3 & \text{ד. } -8 \\ \text{ה. } 3 & \text{ו. } 7 & \text{ז. } \sqrt{96} & \text{ח. } \sqrt{20} \\ \text{ט. } \left(\frac{1}{3}, -\frac{2}{3}, \frac{2}{3}\right) & \text{י. } \left(\frac{3}{7}, -\frac{2}{7}, \frac{6}{7}\right) & & \end{array}$$

$$(2) \begin{array}{llll} \text{א. } 185 & \text{ב. } -12 & \text{ג. } 173 & \text{ד. } -24 \\ \text{ה. } -3168 & \text{ו. } \sqrt{355} & \text{ז. } \sqrt{139} & \text{ח. } \sqrt{124} \\ \text{ט. } \frac{1}{\sqrt{355}} \begin{pmatrix} 3 & -5 & 2 \\ 1 & 0 & -4 \end{pmatrix} & & & \end{array}$$

$$(3) \begin{array}{llll} \text{א. } 9 & \text{ב. } -9.5833 & \text{ג. } -0.5833 & \text{ד. } \sqrt{\frac{37}{3}} \end{array}$$

$$\begin{array}{ll} \text{ה. } \sqrt{\frac{4}{3}} & \text{ו. } \frac{x^2 - 4x - 1}{\sqrt{7\frac{13}{15}}} \end{array}$$

(4) שאלת הוכחה.

(5) שאלת הוכחה.

(6) שאלת הוכחה.

(7) שאלת הוכחה.

(8) שאלת הוכחה.

$$(9) \|v\| = \sqrt{\frac{b^2 + c^2 - 2a^2}{2}}, \quad \langle u, v \rangle = \frac{b^2 - c^2}{4}$$

אי שוויון קושי-שוורץ, יישומים

שאלות

(1) הוכיחו כי אם u, v תלויים לינארית, אז $|\langle u, v \rangle| = \|u\| \cdot \|v\|$.

(2) יהיו x_1, x_2, \dots, x_n ו- y_1, y_2, \dots, y_n מספרים ממשיים.
 הוכיחו כי $(x_1 y_1 + x_2 y_2 + \dots + x_n y_n)^2 \leq (x_1^2 + x_2^2 + \dots + x_n^2)(y_1^2 + y_2^2 + \dots + y_n^2)$.

(3) יהיו f, g פונקציות רציפות בקטע הסגור $[a, b]$.
 הוכיחו כי $\left(\int_a^b f(x) g(x) dx \right)^2 \leq \left(\int_a^b f^2(x) dx \right) \left(\int_a^b g^2(x) dx \right)$.

(4) ענו על הסעיפים הבאים:
 א. נניח כי $u = (u_1, \dots, u_n), v = (v_1, \dots, v_n) \in R^n$ שני וקטורי יחידה ב- R^n .
 הוכיחו כי $|u_1 v_1 + \dots + u_n v_n| \leq 1$.
 ב. נניח ש- $u = (u_1, \dots, u_n) \in R^n$.
 הוכיחו כי $(u_1 + \dots + u_n)^n \leq n(u_1^2 + \dots + u_n^2)$.

(5) נניח ש- a_1, a_2, \dots, a_n מספרים חיוביים כך ש- $a_1 + a_2 + \dots + a_n = 1$.
 הוכיחו כי $\sqrt{a_1} + \sqrt{a_2} + \dots + \sqrt{a_n} \leq \sqrt{n}$.

(6) הוכיחו את אי השוויון $\sum_{k=1}^n \sqrt{\frac{k}{n}} \leq \sqrt{\frac{n^2 + n}{2}}$.

(7) נתון כי $\sum_{i=1}^n a_i = 1$.
 הוכיחו כי $\frac{a_1^2}{a_1 + a_2} + \frac{a_2^2}{a_2 + a_3} + \dots + \frac{a_n^2}{a_n + a_1} \geq \frac{1}{2}$.

$$(8) \quad \text{נתון כי } \sum_{i=1}^n a_i = \sum_{i=1}^n b_i .$$

$$\text{א. הוכיחו כי } \sum_{i=1}^n \frac{a_i^2}{a_i + b_i} \geq \frac{1}{2} \sum_{i=1}^n a_i$$

$$\text{ב. נתון כי } \sum_{i=1}^n a_i = 1, \text{ הוכיחו כי } \frac{a_1^2}{a_1 + a_2} + \frac{a_2^2}{a_2 + a_3} + \dots + \frac{a_n^2}{a_n + a_1} \geq \frac{1}{2}$$

$$(9) \quad \text{נתון כי } \sum_{i=1}^n a_i \geq \sum_{i=1}^n a_i b_i$$

$$\text{הוכיחו כי } \sum_{i=1}^n a_i \leq \sum_{i=1}^n \frac{a_i}{b_i}$$

(10) ענו על הסעיפים הבאים:

$$\text{א. הוכיחו כי } \sum_{i=1}^n \frac{(a_i - b_i)^2}{a_i + b_i} \geq \frac{\left(\sum_{i=1}^n (a_i - b_i) \right)^2}{\sum_{i=1}^n (a_i + b_i)}$$

$$\text{ב. הוכיחו כי } \sum_{i=1}^n \frac{a_i b_i}{a_i + b_i} \leq \frac{\sum_{i=1}^n a_i \sum_{i=1}^n b_i}{\sum_{i=1}^n a_i + \sum_{i=1}^n b_i}$$

(11) חשבו את הזווית בין שני הווקטורים $u = (1, 2, 2)$, $v = (-2, 1, 2)$ ביחס למכפלה הפנימית הסטנדרטית ב- \mathbb{R}^3 .

(12) חשבו את הזווית בין שני הווקטורים $u = (3, 4)$, $v = (1, 2)$ ביחס למכפלה הפנימית $\langle (x_1, x_2), (y_1, y_2) \rangle = x_1 y_1 - x_1 y_2 - x_2 y_1 + 3x_2 y_2$ ב- \mathbb{R}^2 .

(13) מצאו את $\cos \theta$ עבור הזווית θ שבין $p(x) = 2x - 1$ ו- $q(x) = x^2 - 1$ בהתייחס למכפלה הפנימית: $\langle p, q \rangle = \int_0^1 p(x) \cdot q(x) dx$ שב- $C[0, 1]$.

(14) מצאו את $\cos \theta$ עבור הזווית θ שבין $A = \begin{pmatrix} 2 & 1 \\ 3 & -1 \end{pmatrix}$, $B = \begin{pmatrix} 0 & -1 \\ 2 & 3 \end{pmatrix}$ בהתייחס למכפלה הפנימית: $\langle A, B \rangle = \text{tr}(B^T A)$ ב- $M_{2 \times 2}[\mathbb{R}]$.

(15) יהיו $u, v \in \mathbb{R}^n$ וקטורי יחידה המקיימים $\|u - v\| = 2$. הוכיחו ש- u ו- v הם בהכרח כפולה בסקלר אחד של השני.

תשובות סופיות

- (1) שאלת הוכחה.
- (2) שאלת הוכחה.
- (3) שאלת הוכחה.
- (4) שאלת הוכחה.
- (5) שאלת הוכחה.
- (6) שאלת הוכחה.
- (7) שאלת הוכחה.
- (8) שאלת הוכחה.
- (9) שאלת הוכחה.
- (10) שאלת הוכחה.
- (11) $\theta = 63.61^\circ$
- (12) $\theta = 9.44^\circ$
- (13) $\cos \theta = 0.173^\circ$
- (14) $\cos \theta = 0.00036^\circ$
- (15) שאלת הוכחה.

אורתוגונליות

שאלות

(1) הוכיחו כי הווקטורים $u = (1, 2, 3)$, $v = (4, 7, -6)$ אורתוגונליים ב- \mathbb{R}^3 .

(2) מצאו את ערכו של הקבוע k , עבורו הווקטורים $u = (1, k, 3)$, $v = (4, 7, -6)$ יהיו אורתוגונליים ב- \mathbb{R}^3 .

(3) מצאו וקטור יחידה המאונך לשני הווקטורים $u = (1, 2, 3)$, $v = (2, 5, 7)$ ב- \mathbb{R}^3 .

(4) הוכיחו כי הפולינומים $p(x) = 2x - 1$, $q(x) = 6x^2 - 6x + 1$ אורתוגונליים בקטע $[0, 1]$ (ביחס למכפלה הפנימית $\langle p, q \rangle = \int_0^1 p(x) \cdot q(x) dx$).

(5) במרחב $P_n[\mathbb{R}]$ (מרחב הפולינומים ממעלה $n \geq 1$ מעל \mathbb{R}), נגדיר מכפלה פנימית:

$$\langle p(x), q(x) \rangle = \sum_{k=0}^n p(k)q(k) = p(0)q(0) + p(1)q(1) + \dots + p(n)q(n)$$

הראו כי הפולינומים:

$$p(x) = x(x-2)(x-4)(x-6), \quad q(x) = x(x-1)(x-3)(x-5)(x-7)$$

אורתוגונליים כאיברי המרחב $P_7[\mathbb{R}]$, עם המכפלה הפנימית שהוגדרה לעיל.

(6) נתונות שתי מטריצות: $A = \begin{pmatrix} k & 1 \\ 3 & -1 \end{pmatrix}$, $B = \begin{pmatrix} 4 & -1 \\ 2 & 3 \end{pmatrix}$

בהתייחס למכפלה הפנימית: $\langle A, B \rangle = \text{tr}(B^T A)$ ב- $M_{2 \times 2}[\mathbb{R}]$,

מצאו את הערך של הקבוע k , עבורו המטריצות הנ"ל אורתוגונליות.

(7) הוכיחו כי: $\|u+v\| = \|u-v\| \Leftrightarrow u \perp v$.

מהו הפירוש הגיאומטרי של תכונה זו ב- \mathbb{R}^2 ?

(8) הוכיחו כי: $\|u+v\|^2 = \|u\|^2 + \|v\|^2 \Leftrightarrow u \perp v$.

מהו הפירוש הגיאומטרי של תכונה זו?

(9) הוכיחו כי : $\|u\| = \|v\| \Leftrightarrow (u-v) \perp (u+v)$.
 מהו הפירוש הגיאומטרי של תכונה זו?

(10) מצאו וקטור שמאונך לשני הווקטורים $(3, 2, 1)$ ו- $(1, -1, 2)$,
 ושמרחקו מהווקטור $(1, 1, 0)$ הוא $\sqrt{3}$.

(11) יהיו $u, v \in \mathbb{R}^n$ וקטורים שונים מ-0, אורתוגונליים זה לזה ובעלי אותה נורמה.
 נגדיר $a = u - 2v$, $b = 3u + v$.
 אם α היא הזווית בין a ל- b , אז $\cos \alpha$ שווה ל-?

(12) יהיו $w_1, w_2 \in \mathbb{R}^n$ וקטורים שונים מ-0, אורתוגונליים זה לזה ובעלי נורמה k .
 יהי $v = \alpha w_1 + \frac{3}{4} w_2$ וקטור שמרחקו מ- $2w_2$ שווה למרחקו מ- w_1 .
 מהו המרחק של v מ- w_1 ?

תשובות סופיות

(1) שאלת הוכחה.

(2) $k = 2$ (3) $\left(\frac{-1}{\sqrt{3}}, \frac{-1}{\sqrt{3}}, \frac{1}{\sqrt{3}}\right)$

(4) שאלת הוכחה.

(5) שאלת הוכחה.

(6) $k = 0.5$

(7) שאלת הוכחה.

(8) שאלת הוכחה.

(9) שאלת הוכחה.

(10) $v = \left(\frac{1}{\sqrt{3}}, -\frac{1}{\sqrt{3}}, -\frac{1}{\sqrt{3}}\right)$ or $v = \left(-\frac{1}{\sqrt{3}}, \frac{1}{\sqrt{3}}, \frac{1}{\sqrt{3}}\right)$ (11) $\frac{1}{\sqrt{50}}$ (12) $\frac{5}{4}k$

משלים אורתוגונלי

שאלות

(1) יהי $W = \text{span}\{(1, 2, -1, 1), (2, 5, 3, 1)\}$.

מצא בסיס וממד עבור W^\perp .
הראו כי מתקיים משפט הפירוק.

(2) יהי $w = \text{span}\{(1, 1, 1)\}$.

מצאו בסיס וממד עבור W^\perp .
הראו כי מתקיים משפט הפירוק.

(3) יהי $W = \text{span}\{x\} \subseteq P_2[R]$.

מצאו בסיס וממד עבור W^\perp , ביחס למכפלה הפנימית האינטגרלית בקטע $[0, 1]$.

(4) יהי $W = \text{span}\{x, x^2\} \subseteq P_2[R]$.

מצאו בסיס וממד עבור W^\perp , ביחס למכפלה הפנימית האינטגרלית בקטע $[0, 1]$.

(5) יהי $W = \text{span}\left\{\begin{pmatrix} 0 & 0 \\ 1 & 1 \end{pmatrix}, \begin{pmatrix} 0 & 0 \\ 1 & 0 \end{pmatrix}\right\} \subseteq M_{2 \times 2}[R]$.

מצאו בסיס וממד עבור W^\perp , ביחס למכפלה הפנימית $\langle A, B \rangle = \text{tr}(B^T A)$
ב- $M_{2 \times 2}[R]$.

(6) מצאו בסיס למשלים האורתוגונלי של מרחב המטריצות האלכסוניות מסדר 3.

(7) מצאו בסיס למשלים האורתוגונלי של מרחב המטריצות הסימטריות מסדר 2.

(8) נתונה מערכת משוואות הומוגנית $A \cdot \underline{x} = 0$.

יהי U מרחב הפתרונות של המערכת.
תנו פירוש אפשרי ל- U בעזרת המושג משלים אורתוגונלי,
והמושג מרחב השורות של המטריצה A .

(9) נניח ש- W_1, W_2 הן תת קבוצות של V .

הוכיחו כי: $W_1 \subseteq W_2 \Rightarrow W_2^\perp \subseteq W_1^\perp$.

(10) נניח ש- W הוא תת קבוצה של V .
הוכיחו כי: $W \subseteq W^{\perp\perp}$.

(11) נניח ש- W הוא תת קבוצה של V .
הוכיחו כי: $W = W^{\perp\perp}$ (אם V מממד סופי).

(12) נניח ש- W_1, W_2 הן תת קבוצות של V .
הוכיחו כי: $(W_1 + W_2)^\perp = W_1^\perp \cap W_2^\perp$.

(13) נניח ש- W_1, W_2 הן תת קבוצות של V .
הוכיחו כי: $(W_1 \cap W_2)^\perp = W_1^\perp + W_2^\perp$.

תשובות סופיות

$$W^\perp = \text{span}\{(-3, 1, 0, 1), (11, -5, 1, 0)\} \quad (1)$$

$$W^\perp = \text{span}\{(-1, 0, 1), (-1, 1, 0)\} \quad (2)$$

$$W^\perp = \text{span}\left\{\left(-\frac{2}{3} + x\right), \left(-\frac{1}{2} + x^2\right)\right\} \quad (3)$$

$$W^\perp = \text{span}\{1.5x^2 - 6x + 5\} \quad (4)$$

$$W^\perp = \text{span}\left\{\begin{pmatrix} 1 & 0 \\ 0 & 0 \end{pmatrix}, \begin{pmatrix} 0 & 1 \\ 0 & 0 \end{pmatrix}\right\} \quad (5)$$

$$B_W = \begin{pmatrix} \begin{pmatrix} 0 & 1 & 0 \\ 0 & 0 & 0 \\ 0 & 0 & 0 \end{pmatrix} & \begin{pmatrix} 0 & 0 & 1 \\ 0 & 0 & 0 \\ 0 & 0 & 0 \end{pmatrix} & \begin{pmatrix} 0 & 0 & 0 \\ 1 & 0 & 0 \\ 0 & 0 & 0 \end{pmatrix} \\ \begin{pmatrix} 0 & 0 & 0 \\ 0 & 0 & 1 \\ 0 & 0 & 0 \end{pmatrix} & \begin{pmatrix} 0 & 0 & 0 \\ 0 & 0 & 0 \\ 1 & 0 & 0 \end{pmatrix} & \begin{pmatrix} 0 & 0 & 0 \\ 0 & 0 & 0 \\ 0 & 1 & 0 \end{pmatrix} \end{pmatrix} \quad (6)$$

$$B_{W^\perp} = \left\{ \begin{pmatrix} 0 & 1 \\ -1 & 0 \end{pmatrix} \right\} \quad (7)$$

(8) הסבר בוודא.

(9) שאלת הוכחה.

(10) שאלת הוכחה.

(11) שאלת הוכחה.

(12) שאלת הוכחה.

(13) שאלת הוכחה.

אלגברה ליניארית

פרק 7 - קבוצות אורתוגונליות, בסיסים אורתוגונליים, התהליך של גרם-שמידט

תוכן העניינים

- 92 1. בסיס אורתוגונלי, שוויון פרסבל, אי-שוויון בסל
- 96 2. ההיטל של וקטור
- 99 3. תהליך גרם-שמידט

בסיס אורתוגונלי, שוויון פרסבל, אי-שוויון בסל

שאלות

- (1) נתונה קבוצת וקטורים $S = \{(2, 1, -4), (1, 2, 1), (3, -2, 1)\}$ ב- \mathbb{R}^3 .
- א. הראו שהקבוצה S אורתוגונלית.
 ב. נרמלו את הקבוצה לקבלת קבוצה אורתונורמלית.
 ג. ללא חישוב, הוכיחו שהקבוצה מהווה בסיס ל- \mathbb{R}^3 .
- (2) נתונה קבוצת וקטורים $S = \{(2, 1, -4), (1, 2, 1), (3, -2, 1)\}$ ב- \mathbb{R}^3 ,
 ללא דירוג, תוך שימוש במכפלות פנימיות, רשמו את הווקטור $(13, -1, 7)$,
 כצירוף לינארי של איברי S .
- (3) נתונה קבוצת וקטורים $S = \{(2, 1, -4), (1, 2, 1), (3, -2, 1)\}$ ב- \mathbb{R}^3 ,
 רשמו את וקטור הקואורדינטות של וקטור כלשהו $v = (a, b, c)$ ב- \mathbb{R}^3 ,
 ביחס לבסיס S .
- (4) נניח ש- $\{u_1, u_2, \dots, u_n\}$ היא בסיס אורתוגונלי ל- V .
- הוכיחו שלכל $v \in V$, אז $v = \frac{\langle v, u_1 \rangle}{\langle u_1, u_1 \rangle} u_1 + \frac{\langle v, u_2 \rangle}{\langle u_2, u_2 \rangle} u_2 + \dots + \frac{\langle v, u_n \rangle}{\langle u_n, u_n \rangle} u_n$.
- הערה: הקבוע $a_i = \frac{\langle v, u_i \rangle}{\langle u_i, u_i \rangle}$ נקרא מקדם פורייה של v ביחס ל- u_i ,
 או הרכיב של v ביחס ל- u_i .
- (5) נתונה קבוצת פונקציות $S = \{\cos x, \cos 2x, \cos 3x, \dots\}$ ב- $V = C[0, \pi]$.
 האם הקבוצה אורתוגונלית? אם כן, האם היא אורתונורמלית?
 במידה והקבוצה אורתוגונלית ולא אורתונורמלית,
 נרמלו אותה לקבלת קבוצה אורתונורמלית.
 ענו ביחס למכפלה הפנימית האינטגרלית.
- (6) נתונה קבוצת פונקציות $S = \{1, \cos x, \sin x, \cos 2x, \sin 2x, \dots\}$ ב- $V = C[0, 2\pi]$.
 האם הקבוצה אורתוגונלית? אם כן, נרמלו אותה לקבלת קבוצה אורתונורמלית.
 ענו ביחס למכפלה הפנימית האינטגרלית.
 האם הקבוצה מהווה בסיס?

(7) נתונה קבוצה $S = \{(2, 4, 4), (4, -1, -1), (0, 2, -2)\}$ ב- \mathbb{R}^3 .

בדקו האם הקבוצה S אורתוגונלית.
האם היא בסיס אורתוגונלי? האם היא אורתונורמלית?
האם היא בסיס אורתונורמלי?
במידה והקבוצה אורתוגונלית אך לא אורתונורמלית, נרמלו אותה.

(8) נתונה קבוצה $S = \{1, x, x^2, x^3\}$ ב- $P_3[\mathbb{R}]$.

בדקו האם הקבוצה S אורתוגונלית.
האם היא בסיס אורתוגונלי? האם היא אורתונורמלית?
האם היא בסיס אורתונורמלי?
במידה והקבוצה אורתוגונלית אך לא אורתונורמלית, נרמלו אותה.
(ענו ביחס למכפלה הפנימית האינטגרלית ב- $[0, 1]$)

(9) נתונה קבוצה $S = \{1, 2x - 1, 6x^2 - 6x + 1\}$ ב- $P_2[\mathbb{R}]$.

בדקו האם הקבוצה S אורתוגונלית.
האם היא בסיס אורתוגונלי? האם היא אורתונורמלית?
האם היא בסיס אורתונורמלי?
במידה והקבוצה אורתוגונלית אך לא אורתונורמלית, נרמלו אותה.
(ענו ביחס למכפלה הפנימית האינטגרלית ב- $[0, 1]$)

(10) נתונה הקבוצה $S = \left\{ \begin{pmatrix} 2 & 4 & 6 \\ 0 & 2 & 4 \\ 0 & 0 & 2 \end{pmatrix}, \begin{pmatrix} 1 & 0 & 0 \\ 0 & -1 & 0 \\ 0 & 0 & 0 \end{pmatrix}, \begin{pmatrix} 1 & 1 & -1 \\ 0 & 1 & -1 \\ 0 & 0 & 1 \end{pmatrix} \right\} \subseteq M_3[\mathbb{R}]$

בדקו: האם הקבוצה S אורתוגונלית? האם היא בסיס אורתוגונלי?
האם היא אורתונורמלית? האם היא בסיס אורתונורמלי?
במידה והקבוצה אורתוגונלית אך לא אורתונורמלית, נרמלו אותה.
ענו ביחס למכפלה הפנימית הסטנדרטית של המטריצות.

(11) נסחו והוכיחו את שוויון פרסבל.

(12) ענו על הסעיפים הבאים:

א. יהי $B = \left\{ \frac{1}{\sqrt{2}}(1, 1), \frac{1}{\sqrt{2}}(1, -1) \right\}$ בסיס אורתונורמלי של \mathbb{R}^2 .

אמתו את שוויון פרסבל עבור וקטור כלשהו $v \in \mathbb{R}^2$.

ב. יהי $B = \left\{ \frac{1}{\sqrt{2}}(1, 1, 0), \frac{1}{\sqrt{2}}(1, -1, 0), (0, 0, 1) \right\}$ בסיס אורתונורמלי של \mathbb{R}^3 .

אמתו את שוויון פרסבל עבור וקטור כלשהו $v \in \mathbb{R}^3$.

$$(13) \text{ יהי } D = \left\{ A_1 = \frac{1}{2} \begin{pmatrix} 1 & 1 \\ 1 & 1 \end{pmatrix}, A_2 = \frac{1}{2} \begin{pmatrix} 1 & -1 \\ 1 & -1 \end{pmatrix}, A_3 = \frac{1}{2} \begin{pmatrix} 1 & 1 \\ -1 & -1 \end{pmatrix}, A_4 = \frac{1}{2} \begin{pmatrix} 1 & -1 \\ -1 & 1 \end{pmatrix} \right\}$$

א. הוכיחו ש- D מהווה בסיס אורתונורמלי של $M_2(R)$ עם המכפלה

$$\langle A, B \rangle = \text{tr}(B^T A)$$

ב. כתבו את שוויון פרסבל עבור מטריצה כללית $A \in M_2(R)$ עם המכפלה הפנימית לעיל.

(14) במרחב $C([-π, π])$ של כל הפונקציות הרציפות בקטע $[-π, π]$ נגדיר את

$$\langle f, g \rangle = \frac{1}{\pi} \int_{-\pi}^{\pi} f(x)g(x)dx$$

תהי $\{f_1(x) = \cos x, f_2(x) = \sin x\}$ מערכת אורתונורמלית במרחב זה.

אמתו את אי שוויון בסל עבור הפונקציה $f(x) = \begin{cases} x & x \geq 0 \\ 0 & x < 0 \end{cases}$ ביחס למערכת הנתונה.

(15) במרחב $C([-π, π])$ של כל הפונקציות הרציפות בקטע $[-π, π]$ נגדיר את

$$\langle f, g \rangle = \frac{1}{\pi} \int_{-\pi}^{\pi} f(x)g(x)dx$$

תהי $\{f_1 = \sin x, f_2 = \sin(2x), \dots, f_{60} = \sin(60x)\}$ מערכת אורתונורמלית במרחב זה.

כתבו את אי שוויון בסל עבור הפונקציה $f(x) = \begin{cases} -1 & -\pi < x < 0 \\ 0 & x = 0 \\ 1 & 0 < x < \pi \end{cases}$ ביחס

למערכת הנתונה.

תשובות סופיות

1 א. שאלת הוכחה. ב. $S \left\{ \frac{(2,1,-4)}{\sqrt{2^2+1^2+(-4)^2}}, \frac{(1,2,1)}{\sqrt{6}}, \frac{(3,-2,1)}{\sqrt{14}} \right\}$

ג. שאלת הוכחה.

2 $(13, -1, 7) = \frac{-1}{7}(2, 1, 4) + 3(1, 2, 1) + \frac{24}{7}(3, -2, 1)$

3 $\frac{2a+b-4c}{21}(2,1,4) + \frac{a+2b+c}{6}(1,2,1) + \frac{3a-2b+c}{14}(3,-2,1)$

4 שאלת הוכחה.

5 הקבוצה אורתוגונלית, הקבוצה לא אורתונורמלית,

$$S = \left\{ \frac{\cos x}{\sqrt{0.5\pi}}, \frac{\cos 2x}{\sqrt{0.5\pi}}, \frac{\cos 3x}{\sqrt{0.5\pi}}, \dots \right\}$$

6 הקבוצה אורתוגונלית, הקבוצה לא אורתונורמלית,

$$S = \left\{ \frac{1}{\sqrt{2\pi}}, \frac{\cos x}{\sqrt{\pi}}, \frac{\sin x}{\sqrt{\pi}}, \frac{\cos 2x}{\sqrt{\pi}}, \frac{\sin 2x}{\sqrt{\pi}}, \dots \right\}$$

7 הקבוצה אורתוגונלית, הקבוצה מהווה בסיס אורתוגונלי, הקבוצה אינה

אורתונורמלית, $S = \left\{ \frac{1}{\sqrt{36}}(2, 4, 4), \frac{1}{\sqrt{8}}(4, -1, -1), \frac{1}{\sqrt{18}}(0, 2, -2) \right\}$

8 הקבוצה לא אורתוגונלית.

9 הקבוצה אורתוגונלית, הקבוצה מהווה בסיס אורתוגונלי,

$$S = \{1, \sqrt{3}(2x-1), \sqrt{5}(6x^2-6x+1)\}$$

10 הקבוצה אורתוגונלית, הקבוצה אינה בסיס אורתוגונלי, הקבוצה לא

אורתונורמלית, $S = \left\{ \frac{1}{\sqrt{80}} \begin{pmatrix} 2 & 4 & 6 \\ 0 & 2 & 4 \\ 0 & 0 & 2 \end{pmatrix}, \frac{1}{\sqrt{2}} \begin{pmatrix} 1 & 0 & 0 \\ 0 & -1 & 0 \\ 0 & 0 & 0 \end{pmatrix}, \frac{1}{\sqrt{6}} \begin{pmatrix} 1 & 1 & -1 \\ 0 & 1 & -1 \\ 0 & 0 & 1 \end{pmatrix} \right\}$

11 שאלת הוכחה.

12 שאלת הוכחה.

13 שאלת הוכחה.

14 שאלת הוכחה.

15 $2 \geq \frac{16}{\pi^2} \left[\frac{1}{1^2} + \frac{1}{3^2} + \frac{1}{5^2} + \dots + \frac{1}{59^2} \right]$

ההיטל של וקטור

שאלות

- (1) מצאו את מקדם פורייה c ואת ההיטל של $v = (1, 2, 2)$ לאורך $w = (0, 1, -1)$ ב- \mathbb{R}^3 .
- (2) מצאו את מקדם פורייה c ואת ההיטל של $v = (1, -2, 2, 0)$ לאורך $w = (0, 2, -1, 2)$ ב- \mathbb{R}^4 . מקובל לסמן גם $\text{proj}(v, w)$.
- (3) מצאו את מקדם פורייה c ואת ההיטל של $p(x) = 2x - 1$ לאורך $q(x) = x^2$ במרחב הפולינומים עם המכפלה הפנימית האינטגרלית ב- $[0, 1]$.
- (4) מצאו את מקדם פורייה c ואת ההיטל של $A = \begin{pmatrix} 1 & 2 \\ 3 & 4 \end{pmatrix}$ לאורך $B = \begin{pmatrix} 1 & 2 \\ -1 & 0 \end{pmatrix}$ במרחב המטריצות הממשיות מסדר 2 עם המכפלה הפנימית הסטנדרטית.
- (5) יהי $V = \mathbb{R}^3$ ויהי $W = \text{span}\{w_1 = (1, 2, 1), w_2 = (1, -1, 1)\}$ תת מרחב של V . מצאו את ההיטל של הווקטור $v = (-2, 2, 2)$ על תת המרחב W לפי המכפלה הפנימית הסטנדרטית ב- $V = \mathbb{R}^3$. בנוסף, רשמו את v כסכום $v = v_{\parallel} + v_{\perp}$, כאשר $v_{\parallel} \in W$, $v_{\perp} \in W^{\perp}$.
- (6) יהי $V = \mathbb{R}^4$ עם המכפלה הפנימית הסטנדרטית. ויהי $W = \text{span}\{w_1 = (1, 1, 0, -1), w_2 = (1, 0, 1, 1), w_3 = (0, -1, 1, -1)\}$ תת מרחב של V . מצאו את הווקטור הקרוב ביותר לווקטור $v = (3, 4, 5, 6)$ בתת המרחב W . בנוסף, כתבו את v כסכום של וקטור מ- W ווקטור מ- W^{\perp} .
- (7) יהי $V = C([0, 1])$ מרחב הפונקציות הרציפות על הקטע $[0, 1]$. ויהי $W = \text{span}\left\{w_1 = 1, w_2 = x - \frac{1}{2}\right\}$ תת מרחב של V . מצאו את ההיטל של $v = 4x^2 - 4$ על W עם המכפלה הפנימית האינטגרלית הסטנדרטית. בנוסף, כתבו את v כסכום של וקטור מ- W ווקטור מ- W^{\perp} .

(8) נתון המרחב $C([-1,1])$ עם המכפלה הפנימית $\langle f, g \rangle = \int_{-1}^1 f(x)g(x)dx$.

נגדיר תת מרחב של $C([-1,1])$: $W = sp\{f_1 = |x|+x, f_2 = |x|-x\}$

מצאו את ההיטל של $f(x) = x^2$ על W .

(9) נתון המרחב $C([-π, π])$ עם המכפלה הפנימית $\langle f, g \rangle = \frac{1}{π} \int_{-π}^π f(x)g(x)dx$.

נגדיר תת מרחב של $C([-π, π])$:

$W = sp\{f_1 = \sin x, f_2 = \sin(2x), \dots, f_{60} = \sin(60x)\}$

ידוע שהקבוצה $\{f_i\}_{i=1}^{60}$ היא קבוצה אורתונורמלית.

מצאו את ההיטל של $f(x) = \begin{cases} -1 & -\pi < x < 0 \\ 0 & x = 0 \\ 1 & 0 < x < \pi \end{cases}$ על W .

תשובות סופיות

$$\text{proj}(v, w) = cw = 0, \quad c = 0 \quad (1)$$

$$\text{proj}(v, w) = cw = -\frac{2}{3}(0, 2, -1, 2), \quad c = \frac{-2}{3} \quad (2)$$

$$\text{proj}(p, q) = c \cdot q(x) = \frac{5}{6}x^2, \quad c = \frac{5}{6} \quad (3)$$

$$\text{proj}(A, B) = cB = \frac{1}{3} \begin{pmatrix} 1 & 2 \\ -1 & 0 \end{pmatrix}, \quad c = \frac{1}{6} \quad (4)$$

$$v = v_{\parallel} + v_{\perp} = (0, 2, 0) + (-2, 0, 2), \quad \pi(v) = (0, 2, 0) \quad (5)$$

$$(3, 4, 5, 6) = v_{\parallel} + v_{\perp} = (5, 2, 3, 6) + (-2, 2, 2, 0), \quad \pi(v) = (5, 2, 3, 6) \quad (6)$$

$$v = v_{\parallel} + v_{\perp} = \left(-\frac{14}{3} + 4x\right) + \left(4x^2 - 4x + \frac{2}{3}\right), \quad \pi(v) = -\frac{14}{3} + 4x \quad (7)$$

$$\text{proj}_w f = \frac{3}{4}|x| \quad (8)$$

$$\text{proj}_w f = \frac{4 \sin(x)}{\pi} + \frac{4 \sin(3x)}{3\pi} + \frac{4 \sin(5x)}{5\pi} + \dots + \frac{4 \sin(59x)}{59\pi} \quad (9)$$

תהליך גרם-שמידט

שאלות

(1) נתון: $U = \text{span}\{(1,2,3), (4,5,6), (7,8,9)\} \subseteq \mathbb{R}^3$
מצאו בסיס אורתונורמלי ל- U .

(2) נתון: $U = \text{span}\{(2,2,2,2), (1,1,2,4), (1,2,-4,-3)\} \subseteq \mathbb{R}^4$
מצאו בסיס אורתונורמלי ל- U .

(3) נתון: $U = \text{span}\{4, x, x^2, x^3\} \subseteq P_3[x]$
מצאו בסיס אורתונורמלי ל- U ,
בהתייחס למכפלה הפנימית האינטגרלית בקטע $[-1,1]$.

(4) נתון: $U = \text{span}\left\{\begin{pmatrix} 1 & 2 \\ 3 & 4 \end{pmatrix}, \begin{pmatrix} 1 & 2 \\ -1 & 0 \end{pmatrix}, \begin{pmatrix} 0 & 2 \\ 1 & 1 \end{pmatrix}\right\} \subseteq M_2[R]$
מצאו בסיס אורתונורמלי ל- U ,
בהתייחס למכפלה הפנימית הרגילה של המטריצות.

תשובות סופיות

$$B_{\text{orthonormal}} = \left\{ \frac{1}{\sqrt{15}}(1,2,3), \frac{1}{\sqrt{21}}(-4,-1,2) \right\} \quad (1)$$

$$B_{\text{orthonormal}} = \left\{ w_1 = \frac{(2,2,2,2)}{\sqrt{16}}, w_2 = \frac{(-1,-1,0,2)}{\sqrt{6}}, w_3 = \frac{(1,3,-6,2)}{\sqrt{50}} \right\} \quad (2)$$

$$B_{\text{orthonormal}} = \left\{ \hat{w}_1 = \frac{4}{\sqrt{32}}, \hat{w}_2 = \frac{x}{\sqrt{2}}, \hat{w}_3 = \frac{3x^2-1}{\sqrt{8}}, \hat{w}_4 = \frac{5x^3-3x}{\sqrt{7}} \right\} \quad (3)$$

$$B_{\text{orthonormal}} = \left\{ \hat{w}_1 = \frac{\begin{pmatrix} 1 & 2 \\ 3 & 4 \end{pmatrix}}{\sqrt{30}}, \hat{w}_2 = \frac{\begin{pmatrix} 7 & 14 \\ -9 & -2 \end{pmatrix}}{\sqrt{330}}, \hat{w}_3 = \frac{\begin{pmatrix} -4 & 3 \\ 2 & -2 \end{pmatrix}}{\sqrt{33}} \right\} \quad (4)$$

אלגברה ליניארית

פרק 8 - מספרים מרוכבים ופתרון משוואות פולינומיאליות

תוכן העניינים

100	1. מספרים מרוכבים - הכרות ותכונות בסיסיות
102	2. הצמוד המרוכב
105	3. הצגת מספר מרוכב בצורה קוטבית
107	4. נוסחת דה-מואבר – חזקה ושורש של מספר מרוכב
109	5. תרגול נוסף במספרים מרוכבים
112	6. חילוק פולינומים
113	7. פתרון משוואות פולינומיאליות ממעלה גבוהה
114	8. שימושים של מספרים מרוכבים באלגברה ליניארית

מספרים מרוכבים – היכרות ותכונות בסיסיות

שאלות

בשאלות 1-3 פתרו את המשוואות ומצאו את z :

$$(1) \quad z^2 + 9 = 0 \quad (2) \quad z^2 - 4z + 5 = 0 \quad (3) \quad z^2 - 6z + 13 = 0$$

בשאלות 4-7 חשבו :

$$(4) \quad (i\sqrt{2})^6 \quad (5) \quad (i^5 - i^{13})^2$$

$$(6) \quad (4+i) - (2+10i) \quad (7) \quad (-4-i)(2-3i)$$

(8) נתונים שני מספרים מרוכבים $z_1 = a_1 + b_1i$ ו- $z_2 = a_2 + b_2i$.

ידוע כי $z_1 + z_2$ ממשי וכי $z_1 - z_2$ מדומה.

א. מצאו קשר בין a_1 ל- a_2 ובין b_1 ל- b_2 .

ב. הראו כי המכפלה $z_1 \cdot z_2$ היא ממשית.

(9) יהיו z_1, z_2, \dots, z_n מספרים מרוכבים.

א. הוכיחו כי $|z_1 \cdot z_2| = |z_1| \cdot |z_2|$

ב. הוכיחו כי $|z_1 \cdot z_2 \cdot \dots \cdot z_n| = |z_1| \cdot |z_2| \cdot \dots \cdot |z_n|$

ג. הוכיחו כי $|z_1^n| = |z_1|^n$

(10) יהי z מספר מרוכב.

הוכיחו: אם $z^{11} = 1$ אז $z + \frac{1}{z}$ מספר ממשי.

(11) יהי z מספר מרוכב.

הוכיחו: אם $|z+1| = |z-1|$ אז iz מספר ממשי.

תשובות סופיות

- (1) $\pm 3i$
- (2) $2 \pm i$
- (3) $3 \pm 2i$
- (4) -8
- (5) 0
- (6) $2 - 9i$
- (7) $-11 + 10i$
- (8) שאלת הוכחה.
- (9) שאלת הוכחה.
- (10) שאלת הוכחה.
- (11) שאלת הוכחה.

הצמוד המרוכב

שאלות

בשאלות 1-3 חשבו (כתבו את התוצאה בצורה $z = x + yi$):

$$(1) \quad \frac{5}{2+i} \quad (2) \quad \frac{1+i}{1-3i} \quad (3) \quad \frac{i}{1-i} - \frac{1}{(i+1)^2}$$

פתרו את המשוואות בשאלות 4-6 ומצאו את המספר המרוכב z :

$$(4) \quad 2z - 6i = \bar{z} - 1 \quad (5) \quad z\bar{z} - 5\bar{z} = 10i \quad (6) \quad (1+i)z^2 + 2z - i + 1 = 0$$

7) פתרו את מערכת המשוואות הבאה (כאשר z ו- w משתנים מרוכבים):

$$\begin{cases} 3z + iw = 5 - 4i \\ 5iz - 2w = 5 + 8i \end{cases}$$

8) חשבו את ערכי המספרים המרוכבים הבאים:

$$\text{א. } \sqrt{5-12i} \quad \text{ב. } \sqrt{8+6i}$$

9) פתרו את המשוואות הריבועיות הבאות:

$$\text{א. } (1-i)z^2 - 2z + i + 1 = 0 \quad \text{ב. } (-2+i)z^2 - (6+12i)z + 10 - 25i = 0$$

בשאלות 10-11 פתרו את המשוואות:

$$(10) \quad iz^2 - 2(1-i)z + 6 + 15i = 0$$

$$(11) \quad z^2 - i\bar{z} + 6 = 0$$

12) הוכיחו שהמספר הבא הוא מספר מדומה $\frac{\bar{z}}{z^2} - \frac{z}{\bar{z}^2}$ כאשר $z \in \mathbb{C} \setminus \{0\}$.

13) נתון מספר מרוכב $z \neq 0$ המקיים: $|z-i|=1$. הוכח:

א. $|z|^2 = 2 \operatorname{Im}(z)$

ב. $\frac{z-2i}{iz} \in \mathbb{R}$

14) המספר $\frac{3+4i}{a-i}$ הוא ממשי טהור. מצאו את a .

15) נתונים שני מספרים מרוכבים $z_1 = a_1 + b_1i$ ו- $z_2 = a_2 + b_2i$.

הראו כי כדי שתוצאת החילוק $\frac{z_1}{z_2}$ תהיה ממשית טהורה, צריך להתקיים

$$\frac{a_1}{a_2} = \frac{b_1}{b_2}$$

תשובות סופיות

(1) $2 - i$

(2) $-\frac{1}{5} + \frac{2}{5}i$

(3) $-\frac{1}{2} + i$

(4) $z = -1 + 2i$

(5) $z = 1 + 2i, z = 4 + 2i$

(6) $z = i, z = -1$

(7) $z = 2 - 3i, w = 5 + i$

(8) א. $z = \pm(3 - 2i)$ ב. $z = \pm(3 + i)$

(9) א. $z_{1,2} = i, 1$ ב. $z_{1,2} = -2 - i, 2 - 5i$

(10) $z_1 = -2 - 5i, z_2 = 3i$

(11) $z_1 - 3i, z_2 = 2i$

(12) שאלת הוכחה.

(13) שאלת הוכחה.

(14) $a = -\frac{3}{4}$

(15) שאלת הוכחה.

הצגת מספר מרוכב בצורה קוטבית

שאלות

כתבו את המספרים בשאלות 1-8 בצורה קוטבית:

- (1) $1 + \sqrt{3}i$ (2) $-1 - i$ (3) $-3 - \sqrt{3}i$ (4) $1 - i$
 (5) $1 + i$ (6) $\sqrt{3} - i$ (7) $\sqrt{3}i$ (8) -8

(9) נתון המספר המרוכב $z = Rcis\theta$.

הביעו באמצעות R ו- θ את המספרים:

- א. \bar{z}
 ב. $\frac{1}{z}$
 ג. $-z$
 ד. $-\frac{1}{z}$
 ה. iz
 ו. $z \cdot \bar{z}$

(10) הראו כי המספרים הבאים הם ממשיים טהורים:

- א. $z + \bar{z}$
 ב. $z \cdot \bar{z}$
 ג. $\frac{z}{\bar{z}} + \frac{\bar{z}}{z}$

(11) הראו כי המספרים הבאים הם מדומים טהורים:

- א. $z^2 - \bar{z}^2$
 ב. $\frac{1}{\bar{z}} - \frac{1}{z}$

(12) הוכיחו:

- א. $z - i\bar{z} = \overline{\bar{z} + iz}$
 ב. $z \cdot \bar{z} = |z|^2$

תשובות סופיות

$$2 \left(\cos \frac{\pi}{3} + i \sin \frac{\pi}{3} \right) \quad (1)$$

$$\sqrt{2} \left(\cos \frac{5\pi}{4} + i \sin \frac{5\pi}{4} \right) \quad (2)$$

$$\sqrt{12} \left(\cos \frac{7\pi}{6} + i \sin \frac{7\pi}{6} \right) \quad (3)$$

$$\sqrt{2} \left(\cos \frac{7\pi}{4} + i \sin \frac{7\pi}{4} \right) \quad (4)$$

$$\sqrt{2} \left(\cos \frac{\pi}{4} + i \sin \frac{\pi}{4} \right) \quad (5)$$

$$2 \left(\cos \frac{11\pi}{6} + i \sin \frac{11\pi}{6} \right) \quad (6)$$

$$\sqrt{3} \left(\cos \frac{\pi}{2} + i \sin \frac{\pi}{2} \right) \quad (7)$$

$$8(\cos \pi + i \sin \pi) \quad (8)$$

$$R \operatorname{cis}(180^\circ + \theta) \quad \text{ג.} \quad \frac{1}{R} \operatorname{cis}(-\theta) \quad \text{ב.} \quad R \operatorname{cis}(-\theta) \quad \text{א.} \quad (9)$$

$$R^2 \quad \text{ו.} \quad R \operatorname{cis}(90^\circ + \theta) \quad \text{ה.} \quad \frac{1}{R} \operatorname{cis}(180^\circ + \theta) \quad \text{ד.}$$

(10) שאלת הוכחה.

(11) שאלת הוכחה.

(12) שאלת הוכחה.

נוסחת דה-מואבר – חזקה ושורש של מספר מרוכב

שאלות

בשאלות 1-6 חשבו:

$$\left(\frac{\sqrt{2}}{2} + \frac{\sqrt{2}}{2}i\right)^{100} \quad (3) \qquad (1 + \sqrt{3}i)^9 \quad (2) \qquad \left(\frac{1}{2} + \frac{1}{2}i\right)^{10} \quad (1)$$

$$\sqrt[3]{-8} \quad (6) \qquad \sqrt[5]{1} \quad (5) \qquad \sqrt[6]{-8} \quad (4)$$

(7) בעזרת משפט דה-מואבר, הוכיחו את הזהויות הבאות:

$$\cos 2\alpha = \cos^2 \alpha - \sin^2 \alpha$$

$$\sin 2\alpha = 2 \sin \alpha \cos \alpha$$

$$\cos 3\alpha = 4 \cos^3 \alpha - 3 \cos \alpha$$

$$\sin 3\alpha = 3 \sin \alpha - 4 \sin^3 \alpha$$

(8) בעזרת משפט דה-מואבר, הוכיחו כי: $\sin 1 + \sin 2 + \dots + \sin n = \frac{\sin \frac{n+1}{2} \sin \frac{n}{2}}{\sin \frac{1}{2}}$

תשובות סופיות

$$\frac{1}{32}i \quad (1)$$

$$-2^9 \quad (2)$$

$$-1 \quad (3)$$

$$8^{\frac{1}{6}} \left(\cos \frac{\pi + 2\pi k}{6} + i \sin \frac{\pi + 2\pi k}{6} \right) \quad k = 0, 1, 2, 3, 4, 5 \quad (4)$$

$$1^{\frac{1}{5}} \left(\cos \frac{0 + 2\pi k}{5} + i \sin \frac{0 + 2\pi k}{5} \right) \quad k = 0, 1, 2, 3, 4 \quad (5)$$

$$8^{\frac{1}{3}} \left(\cos \frac{\pi + 2\pi k}{3} + i \sin \frac{\pi + 2\pi k}{3} \right) \quad k = 0, 1, 2 \quad (6)$$

(7) שאלת הוכחה.

(8) שאלת הוכחה.

תרגול נוסף במספרים מרוכבים

שאלות

(1) ענו על הסעיפים הבאים:

- א. מצאו את כל הפתרונות של המשוואה $z^4 + z^2 + 1 = 0$.
 ב. הראו כי אם z הוא פתרון של המשוואה מסעיף א אזי: $z^6 = 1$.

(2) נתונה המשוואה $z^4 = -8 - 8\sqrt{3}i$.

- א. מצאו את פתרונות המשוואה הנתונה.
 ב. הוכיחו כי החזקה השלישית של כל אחד מפתרונות הנתונה היא מספר ממשי או מספר מדומה טהור.

(3) פתרו את המשוואה $\left(\frac{z+i}{z-i}\right)^4 = 1$.

(4) ענו על הסעיפים הבאים:

- א. מצאו את שלושת הפתרונות של המשוואה $z^3 = i$.
 ב. הראו שמכפלת שלושת הפתרונות היא i .
 ג. הראו שאם מעלים בריבוע פתרון כלשהו של המשוואה, התוצאה שווה למכפלת שני הפתרונות האחרים.

(5) ענו על הסעיפים הבאים:

- א. פתרו את המשוואה $z^5 = -16(\sqrt{3} - i)$.
 ב. הוכיחו כי חמשת השורשים מהווים סדרה הנדסית, ומצאו את מנת הסדרה.
 הערה: סדרה הנדסית היא סדרה מהצורה $a_1, a_1q, a_1q^2, \dots, a_1q^{n-1}$, כאשר q מנת הסדרה.

(6) נתון $w = \frac{1}{\sqrt{2}} + \frac{1}{\sqrt{2}}i$.

- א. מצאו את פתרונות המשוואה $z^3 = w^3$.
 ב. הראו כי מכפלת הפתרונות של המשוואה היא w^3 .

(7) נתונה המשוואה $(z-1)^3 = 1$.
הוכיחו שסכום שורשיה הוא 3.

(8) נתונה המשוואה $z^3 = -\sqrt{3} + i$.

א. מצאו את שורשי המשוואה: z_1, z_2, z_3 .

ב. מצאו את הסכום $|z_1|^3 + |z_2|^3 + |z_3|^3$.

ג. הראו כי הסכום $(z_1)^9 + (z_2)^9 + (z_3)^9$ הוא מספר מדומה טהור.

(9) נתונה המשוואה $z^2 + |z|^2 - 2ti = 18s^2$, כאשר z הוא מספר מרוכב,
 s ו- t הם מספרים ממשיים שונים מאפס ו- z_1, z_2 הם פתרונות המשוואה.

א. הביעו את פתרונות המשוואה באמצעות s ו- t .

ב. נתון $z_1 \cdot z_2 = -18i$. מצאו את הפרמטרים s ו- t .

(10) ענו על הסעיפים הבאים:

א. פתרו את המשוואה $\bar{z} \cdot i + (\bar{z})^2 + |z|^2 + z + \bar{z} = 0$.

ב. אחד מהפתרונות שמצאת בסעיף א הוא איבר אחרון בסדרה חשבונית,
שכל איבריה שונים מאפס.

הפרש סדרה זו הוא $1 + \frac{1}{16}i$.

האיבר הראשון בסדרה הוא מספר ממשי.

חשבו את האיבר הראשון בסדרה.

הערה: סדרה חשבונית היא סדרה מהצורה: $a_1, a_1 + d, a_1 + 2d, \dots, a_1 + (n-1)d$,

כאשר d נקרא הפרש הסדרה.

תשובות סופיות

- (1) א. $z_1 = cis60^\circ, z_2 = cis240^\circ, z_3 = cis120^\circ, z_4 = cis300^\circ$. ב. שאלת הוכחה.
- (2) א. $z_1 = 1 + \sqrt{3}i, z_2 = -\sqrt{3} + i, z_3 = -1 - \sqrt{3}i, z_4 = \sqrt{3} - i$. ב. שאלת הוכחה.
- (3) $z = 0, z = 1, z = -1$
- (4) א. $z_1 = \frac{1}{2}\sqrt{3} + \frac{1}{2}i, z_2 = -\frac{1}{2}\sqrt{3} + \frac{1}{2}i, z_3 = -i$. ב. שאלת הוכחה. ג. שאלת הוכחה.
- (5) א. $z_n = 2cis[30^\circ + (n-1)72^\circ]$ $n = 1, 2, 3, 4, 5$. ב. $q = cis72^\circ$.
- (6) א. $z_1 = cis45^\circ, z_2 = cis165^\circ, z_3 = cis285^\circ$. ב. שאלת הוכחה.
- (7) שאלת הוכחה.
- (8) א. $z_1 = \sqrt[3]{2}cis50^\circ, z_2 = \sqrt[3]{2}cis170^\circ, z_3 = \sqrt[3]{2}cis290^\circ$. ב. 6. ג. שאלת הוכחה.
- (9) א. $z_1 = -3s - \frac{t}{3s}i, z_2 = -3s - \frac{t}{3s}i$. ב. $t = 9, s = \pm 1$.
- (10) א. $z_1 = 0, z_2 = -0.5 + 0.5i, z_3 = -8.5$. ב. $a_1 = -8.5$.

חילוק פולינומים

שאלות

צמצמו עד כמה שניתן את השברים האלגבריים הבאים :

$$\frac{4x^4 + 6x^3 + 31x^2 + 99x + 10}{x^2 - x + 10} \quad (2)$$

$$\frac{x^3 - x^2 + x - 1}{x - 1} \quad (1)$$

$$\frac{x^2 - 5x - 14}{x + 2} \quad (4)$$

$$\frac{4x^2 + x - 1}{x - 2} \quad (3)$$

$$\frac{x^4 + x^3 - x^2 + 14x - 3}{x + 3} \quad (6)$$

$$\frac{x^3 + x^2 + 3x - 5}{x - 1} \quad (5)$$

$$\frac{x^3 + 5x^2 - 4x - 20}{x + 5} \quad (8)$$

$$\frac{x^3 - 4x^2 + 9}{x - 3} \quad (7)$$

תשובות סופיות

$$x^2 + 1 \quad (1)$$

$$0 \quad (2)$$

$$4x + 9 + \frac{17}{x - 2} \quad (3)$$

$$x - 7 \quad (4)$$

$$x^2 + 2x + 5 \quad (5)$$

$$x^3 - 2x^2 + 5x - 1 \quad (6)$$

$$x^2 - x - 3 \quad (7)$$

$$x^2 - 4 \quad (8)$$

פתרון משוואות פולינומיאליות ממעלה גבוהה

שאלות

פתרו את המשוואות הבאות :

$$k^4 + 3k^3 - 15k^2 - 19k + 30 = 0 \quad (1)$$

$$k^3 + 2k^2 - 3k + 20 = 0 \quad (2)$$

$$k^5 + 3k^4 + 2k^3 - 2k^2 - 3k - 1 = 0 \quad (3)$$

$$k^3 - 6k^2 + 12k - 8 = 0 \quad (4)$$

$$k^6 - 3k^4 + 3k^2 - 1 = 0 \quad (5)$$

$$k^3 - k^2 + k - 1 = 0 \quad (6)$$

$$k^4 - 3k^3 + 6k^2 - 12k + 8 = 0 \quad (7)$$

תשובות סופיות

$$k_1 = 1, \quad k_2 = -2, \quad k_3 = 3, \quad k_4 = -5 \quad (1)$$

$$k_1 = -4, \quad k_{2,3} = 1 \pm 2i \quad (2)$$

$$k_1 = 1, \quad k_2 = -1, \quad k_3 = -1, \quad k_4 = -1, \quad k_5 = -1 \quad (3)$$

$$k_1 = 2, \quad k_2 = 2, \quad k_3 = 2 \quad (4)$$

$$k_1 = 1, \quad k_2 = -1, \quad k_3 = 1, \quad k_4 = -1, \quad k_5 = 1, \quad k_6 = -1 \quad (5)$$

$$k_1 = 1, \quad k_{2,3} = \pm i \quad (6)$$

$$k_1 = 1, \quad k_2 = 2, \quad k_{3,4} = \pm 2i \quad (7)$$

שימושים של מספרים מרוכבים באלגברה לינארית

שאלות

בשאלות 1-4 נתון $u = (3 - 2i, 4i, 1 + 6i)$, $v = (5 + i, 2 - 3i, 7 + 2i)$
מצאו:

(1) א. $4u + v$ ב. $2i \cdot u - v$ (2) $u \cdot v$

(3) א. $u \cdot u$ ב. $|u|$

(4) $|v|$

בשאלות 5-6 פתרו את מערכת המשוואות הבאה בשיטת גאוס,

$$z_1 + iz_2 + (1 - i)z_3 = 1 + 4i$$

מעל השדה \mathbf{F} : $iz_1 + z_2 + (1 + i)z_3 = 2 + i$, כאשר:

$$(-1 + 3i)z_1 + (3 - i)z_2 + (2 + 4i)z_3 = 5 - i$$

(5) $\mathbf{F} = \mathbb{R}$

(6) $\mathbf{F} = \mathbb{C}$

בשאלות 7-8 בדקו האם $W = \{(z_1, z_2, z_3) \mid z_2 = \bar{z}_1, z_3 = z_1 + \bar{z}_1\}$
הוא תת-מרחב של C^3 :

(7) מעל השדה הממשי \mathbb{R} .

(8) מעל שדה המרוכבים \mathbb{C} .

בשאלות 9-10 בדקו האם הווקטורים $\{(1, i, i - 1), (i + 1, i - 1, -2)\}$
תלויים ליניארית ב- C^3 :

(9) מעל \mathbb{C} .

(10) מעל \mathbb{R} .

עבור כל אחת מהמטריצות בשאלות **11-13** מצאו ערכים עצמיים ו-וקטורים עצמיים. במידה והמטריצה ניתנת ללכסון, לכסנו אותה. כלומר, מצאו מטריצה הפיכה P , כך ש- $P^{-1}AP = D$, באשר D מטריצה אלכסונית. פתרו פעם מעל \mathbb{C} ופעם מעל \mathbb{R} .

$$A = \begin{pmatrix} 2 & -1 \\ 1 & 4 \end{pmatrix} \quad \text{(12)}$$

$$A = \begin{pmatrix} 3 & -2 \\ 4 & -1 \end{pmatrix} \quad \text{(11)}$$

$$\text{(13) נתונה מטריצה } A = \begin{pmatrix} 1 & 1 & -1 \\ -1 & 1 & 1 \\ 1 & -1 & 1 \end{pmatrix}$$

מצאו את הערכים העצמיים והוקטורים העצמיים של המטריצה.

תשובות סופיות

$$(1) \quad \text{א. } (17 - 7i, 2 + 13i, 11 + 26i) \quad \text{ב. } (-1 + 5i, -10 + 3i, -19)$$

$$(2) \quad \text{א. } 20 + 35i \quad \text{ב. } 66$$

$$(3) \quad \sqrt{66}$$

$$(4) \quad \sqrt{92}$$

$$(5) \quad (z_1, z_2, z_3)_{F=\mathbb{R}} = (2, 3, -1)$$

$$(6) \quad (z_1, z_2, z_3)_{F=\mathbb{C}} = ((-1+i)t + 1 + i, 3, t)$$

$$(7) \quad \text{כן}$$

$$(8) \quad \text{לא}$$

$$(9) \quad \text{תלויים.}$$

$$(10) \quad \text{בלתי תלויים.}$$

$$(11) \quad \text{אין פתרונות מעל } \mathbb{R}, \text{ ולכן אין ערכים עצמיים ווקטורים עצמיים.}$$

$$\text{מעל } \mathbb{C} : x = 1 \pm 2i, \mathbf{v}_{x=1+2i} = \langle 1+i, 2 \rangle, \mathbf{v}_{x=1-2i} = \langle 1-i, 2 \rangle$$

$$A = \begin{bmatrix} 1+i & 1-i \\ 2 & 2 \end{bmatrix}, D = \begin{bmatrix} 1+2i & 0 \\ 1 & 1-2i \end{bmatrix}$$

$$(12) \quad \text{ערכים עצמיים : } x = 3, \text{ וקטורים עצמיים : } \mathbf{v}_{x=3} = \langle -1, 1 \rangle. \text{ לא ניתנת ללכסון.}$$

$$(13) \quad \mathbf{v}_{x=1+\sqrt{3}i} = \langle 1 - \sqrt{3}i, 1 + \sqrt{3}i, -2 \rangle, \mathbf{v}_{x=1} = \langle 1, 1, 1 \rangle, x = 1, x = 1 \pm \sqrt{3}i$$

$$\mathbf{v}_{x=1-\sqrt{3}i} = \langle 1 + \sqrt{3}i, 1 - \sqrt{3}i, -2 \rangle$$