

אלגברה ליניארית



תוכן העניינים

1	פתרון וחקירת מערכת משוואות ליניאריות
8	מטריצות
18	דטרמיננטות
32	מרחבים וקטורים
39	תכנון לינארי
42	וקטורים גיאומטרים
(ללא ספר)	אלגברה בוליאנית
52	ערכים עצמיים-וקטורים עצמיים-לכסון מטריצות - דימיון
77	העתקות ליניאריות

אלגברה ליניארית

פרק 1 - פתרון וחקירת מערכת משוואות ליניאריות

תוכן העניינים

1. פתרון מערכת משוואות ליניאריות..... 1
2. חקירת מערכת משוואות ליניאריות (עם פרמטר)..... 6

פתרון מערכת משוואות ליניאריות

שאלות

(1) מצאו אילו מהמערכות הבאות הן מערכות שקולות:

$$\begin{array}{llll}
 2x + y = 4 & x - y = 0 & x - 4y = -7 & x + 10y = 11 \\
 x + y = 3 & 2x + y = 3 & x - y = -1 & 2x - 2y = 0
 \end{array}
 \begin{array}{l}
 \text{ד.} \\
 \text{ג.} \\
 \text{ב.} \\
 \text{א.}
 \end{array}$$

(2) רשמו את המטריצות המתאימות למערכות המשוואות הבאות:

$$\begin{array}{llll}
 x = 3 & x - 4y + z = -7 & x + 10y = 11 & \\
 2x + y + z = 3 & x - y = -1 & 2x - 2 = 0 & \\
 x - z = 0 & x + y + z = 5 & x + y = 3 & \\
 2x + y = 4 & & & \\
 z + t = 8 & & &
 \end{array}
 \begin{array}{l}
 \text{ג.} \\
 \text{ב.} \\
 \text{א.} \\
 \text{ד.}
 \end{array}$$

בשאלות 3-5 בצעו על כל מטריצה את הפעולות הרשומות מתחתיה, בזו אחר זו, ומצאו את המטריצה המתקבלת (סדר הפעולות הוא משמאל לימין ומלמעלה למטה).

$$\begin{array}{lll}
 \begin{pmatrix} 3 & -4 & 8 & 1 \\ 2 & -3 & 6 & 0 \\ -1 & 4 & -5 & 1 \end{pmatrix} & \text{(5)} & \begin{pmatrix} 4 & 1 & 0 & 2 \\ -1 & 2 & 1 & 0 \\ 0 & 3 & 1 & -1 \end{pmatrix} & \text{(4)} & \begin{pmatrix} 3 & 5 & -1 & 0 \\ 2 & 1 & 4 & 2 \\ 5 & 0 & -2 & 6 \end{pmatrix} & \text{(3)} \\
 R_1 \rightarrow R_1 + 3R_3, R_2 \rightarrow R_2 + 3R_3 & & R_2 \rightarrow 4R_2, R_2 \rightarrow R_2 + R_1 & & R_1 \leftrightarrow R_2, R_1 \rightarrow 2R_1 \\
 R_1 \rightarrow 5R_1 - 8R_2 & & R_2 \leftrightarrow R_3, R_3 \rightarrow R_3 - 3R_2 & & R_3 \rightarrow R_3 + R_1, R_1 \leftrightarrow R_3
 \end{array}$$

(6) מצאו איזה פעולה אלמנטרית אחת יש לבצע על המטריצה שמשמאל, כדי לקבל את המטריצה מימין:

$$\begin{array}{l}
 \text{א.} \quad \begin{pmatrix} 1 & -2 & 4 \\ 4 & 1 & 1 \end{pmatrix} \rightarrow \begin{pmatrix} 6 & -3 & 9 \\ 4 & 1 & 1 \end{pmatrix} \\
 \text{ב.} \quad \begin{pmatrix} 1 & 0 & -4 & 1 \\ 4 & 2 & 1 & 1 \\ 0 & 1 & 0 & 4 \end{pmatrix} \rightarrow \begin{pmatrix} 1 & 0 & -4 & 1 \\ 0 & 2 & 17 & -3 \\ 0 & 1 & 0 & 4 \end{pmatrix} \\
 \text{ג.} \quad \begin{pmatrix} 1 & 0 \\ 0 & 1 \\ 4 & 4 \end{pmatrix} \rightarrow \begin{pmatrix} 1 & 0 \\ 4 & 2 \\ 4 & 4 \end{pmatrix}
 \end{array}$$

בשאלות 7-15 הביאו את המטריצות הבאות לצורה מדורגת
 (בשאלות 7, 9, 11 ו-13 – גם לצורה מדורגת קנונית):

$$\begin{pmatrix} 3 & 6 & 3 & -6 & 5 \\ 2 & 4 & 1 & -2 & 3 \\ 1 & 2 & -1 & 2 & 1 \end{pmatrix} \quad (8) \qquad \begin{pmatrix} 1 & 2 & -3 & -2 & 4 & 1 \\ 2 & 5 & -8 & -1 & 6 & 4 \\ 1 & 4 & -7 & 5 & 2 & 8 \end{pmatrix} \quad (7)$$

$$\begin{pmatrix} 4 & 1 & 1 & 5 \\ 0 & 11 & -5 & 3 \\ 2 & -5 & 3 & 1 \\ 1 & 3 & -1 & 2 \end{pmatrix} \quad (10) \qquad \begin{pmatrix} 1 & 2 & -1 & 3 \\ 1 & 3 & 1 & 5 \\ 3 & 8 & 4 & 17 \end{pmatrix} \quad (9)$$

$$\begin{pmatrix} 0 & 0 & 0 & 1 & 1 & 0 \\ 0 & 0 & 0 & 0 & 1 & 0 \\ 0 & 0 & 0 & 0 & 0 & 0 \\ 0 & 0 & 1 & 1 & 1 & 1 \end{pmatrix} \quad (12) \qquad \begin{pmatrix} 1 & 2 & 1 & 3 & 5 \\ 2 & 5 & 3 & 1 & 6 \\ 1 & -1 & -2 & 2 & 1 \\ -2 & 3 & 5 & -4 & -1 \end{pmatrix} \quad (11)$$

$$\begin{pmatrix} 1 & 3 & -2 & 2 & 3 \\ 1 & 4 & -3 & 4 & 2 \\ 2 & 3 & -1 & -2 & 9 \\ 1 & 3 & 0 & 2 & 1 \\ 2 & 5 & 3 & 2 & 1 \\ 1 & 5 & -6 & 6 & 3 \end{pmatrix} \quad (14) \qquad \begin{pmatrix} 1 & 2 & 1 & 3 & 5 \\ 2 & 5 & 3 & 1 & 6 \\ -1 & 1 & 2 & -2 & -1 \\ -2 & 3 & 5 & -4 & -1 \\ 3 & -2 & -5 & 1 & -1 \end{pmatrix} \quad (13)$$

$$\begin{pmatrix} 1 & 1+i \\ 1+i & 2i \\ 2+i & 1+3i \end{pmatrix} \quad (15)$$

$$F=\mathbb{C}, F=\mathbb{R}$$

* בשאלה 15 יש לדרג את המטריצה פעם מעל השדה \mathbb{C} ופעם מעל השדה \mathbb{R} .

בשאלות 16-27 פתרו את מערכות המשוואות בשיטת גאוס (כלומר, על ידי דירוג):

$$\begin{aligned} 4x + 8y &= 20 \\ 3x + 6y &= 15 \end{aligned} \quad (17)$$

$$\begin{aligned} 2x + 3y &= 8 \\ 5x - 4y &= -3 \end{aligned} \quad (16)$$

$$\begin{aligned} 2x_1 - x_2 - 3x_3 &= 5 \\ 3x_1 - 2x_2 + 2x_3 &= 5 \\ 10x_1 - 6x_2 - 2x_3 &= 32 \end{aligned} \quad (19)$$

$$\begin{aligned} 8x - 4y &= 10 \\ -6x + 3y &= 1 \end{aligned} \quad (18)$$

$$\begin{aligned} x + 2y + 3z &= 3 \\ 4x + 6y + 16z &= 8 \\ 3x + 2y + 17z &= 1 \end{aligned} \quad (21)$$

$$\begin{aligned} x + 2y + 3z &= -11 \\ 2x + 3y - z &= -5 \\ 3x + y - z &= 2 \end{aligned} \quad (20)$$

$$\begin{aligned} 4x - 7y &= 0 \\ 8x - 14y &= 2 \\ -16x + 28y &= 4 \end{aligned} \quad (23)$$

$$\begin{aligned} x + 3y &= 2 \\ 2x + y &= -1 \\ x - y &= -2 \end{aligned} \quad (22)$$

$$\begin{aligned} x + 2y - 3z + 2t &= 2 \\ 2x + 5y - 8z + 6t &= 5 \\ 6x + 8y - 10z + 4t &= 8 \end{aligned} \quad (25)$$

$$\begin{aligned} 3x - 2y &= 1 \\ -9x + 6y &= -3 \\ 6x - 4y &= 2 \end{aligned} \quad (24)$$

$$\begin{aligned} x + 2y + 2z &= 2 \\ 3x - 2y - z &= 5 \\ 2x - 5y + 3z &= -4 \\ 2x + 8y + 12z &= 0 \end{aligned} \quad (27)$$

$$\begin{aligned} x_1 + 5x_2 + 4x_3 - 13x_4 &= 3 \\ 3x_1 - x_2 + 2x_3 + 5x_4 &= 2 \\ 2x_1 + 2x_2 + 3x_3 - 4x_4 &= 0 \end{aligned} \quad (26)$$

28) פתרו את מערכת המשוואות הבאה בשיטת גאוס, מעל השדה F :

$$z_1 + iz_2 + (1-i)z_3 = 1 + 4i$$

$$iz_1 + z_2 + (1+i)z_3 = 2 + i$$

$$(-1+3i)z_1 + (3-i)z_2 + (2+4i)z_3 = 5 - i$$

א. $F = \mathbb{R}$

ב. $F = \mathbb{C}$

תשובות סופיות

1) א ו-ג שקולות, ו-ב ו-ד שקולות.

$$\begin{pmatrix} 2 & 1 & 1 & 3 \\ 1 & 0 & -1 & 0 \end{pmatrix} \text{ ג.} \quad \begin{pmatrix} 1 & -4 & 1 & -7 \\ 1 & -1 & 0 & -1 \\ 1 & 1 & 1 & 5 \end{pmatrix} \text{ ב.} \quad \begin{pmatrix} 1 & 10 & 11 \\ 2 & 0 & 2 \\ 1 & 1 & 3 \end{pmatrix} \text{ א.} \quad (2)$$

$$\begin{pmatrix} 1 & 0 & 0 & 0 & 3 \\ 2 & 1 & 0 & 0 & 4 \\ 0 & 0 & 1 & 1 & 8 \end{pmatrix} \text{ ד.}$$

$$\begin{pmatrix} 0 & 0 & -4 & 4 \\ 0 & 5 & -4 & 2 \\ -1 & 4 & -5 & 1 \end{pmatrix} (5) \quad \begin{pmatrix} 4 & 1 & 0 & 2 \\ 0 & 3 & 1 & -1 \\ 0 & 0 & 1 & 5 \end{pmatrix} (4) \quad \begin{pmatrix} 9 & 2 & 6 & 8 \\ 3 & 5 & -1 & 0 \\ 4 & 2 & 8 & 2 \end{pmatrix} (3)$$

6) א. $R_1 \rightarrow 2R_1 + R_2$ ב. $R_2 \rightarrow R_2 - 4R_1$ ג. $R_2 \rightarrow 2R_2 + 4R_1$

$$\begin{pmatrix} 1 & 0 & 1 & 0 & 24 & 21 \\ 0 & 1 & -2 & 0 & -8 & -7 \\ 0 & 0 & 0 & 1 & 2 & 3 \end{pmatrix} \text{ ו-} \quad \begin{pmatrix} 1 & 2 & -3 & -2 & 4 & 1 \\ 0 & 1 & -2 & 3 & -2 & 2 \\ 0 & 0 & 0 & 1 & 2 & 3 \end{pmatrix} (7)$$

$$\begin{pmatrix} 1 & 2 & -1 & 2 & 1 \\ 0 & 0 & 3 & -6 & 1 \\ 0 & 0 & 0 & 0 & 0 \end{pmatrix} (8)$$

$$\begin{pmatrix} 1 & 0 & 0 & \frac{17}{3} \\ 0 & 1 & 0 & -\frac{2}{3} \\ 0 & 0 & 1 & \frac{4}{3} \end{pmatrix} \text{ ו-} \quad \begin{pmatrix} 1 & 2 & -1 & 3 \\ 0 & 1 & 2 & 2 \\ 0 & 0 & 3 & 4 \end{pmatrix} (9)$$

$$\begin{pmatrix} 1 & 3 & -1 & 2 \\ 0 & 11 & -5 & 3 \\ 0 & 0 & 0 & 0 \\ 0 & 0 & 0 & 0 \end{pmatrix} (10)$$

$$\begin{pmatrix} 1 & 0 & -1 & 0 & 0 \\ 0 & 1 & 1 & 0 & 1 \\ 0 & 0 & 0 & 1 & 1 \\ 0 & 0 & 0 & 0 & 0 \end{pmatrix} \text{ ו-} \quad \begin{pmatrix} 1 & 2 & 1 & 3 & 5 \\ 0 & 1 & 1 & -5 & -4 \\ 0 & 0 & 0 & 1 & 1 \\ 0 & 0 & 0 & 0 & 0 \end{pmatrix} (11)$$

$$\begin{pmatrix} 0 & 0 & 1 & 1 & 1 & 1 \\ 0 & 0 & 0 & 1 & 1 & 0 \\ 0 & 0 & 0 & 0 & 1 & 0 \\ 0 & 0 & 0 & 0 & 0 & 0 \end{pmatrix} (12)$$

$$\begin{pmatrix} 1 & 0 & -1 & 0 & 0 \\ 0 & 1 & 1 & 0 & 1 \\ 0 & 0 & 0 & 1 & 1 \\ 0 & 0 & 0 & 0 & 0 \\ 0 & 0 & 0 & 0 & 0 \end{pmatrix} \rightarrow \begin{pmatrix} 1 & 2 & 1 & 3 & 5 \\ 0 & 1 & 1 & -5 & -4 \\ 0 & 0 & 0 & 1 & 1 \\ 0 & 0 & 0 & 0 & 0 \\ 0 & 0 & 0 & 0 & 0 \end{pmatrix} \quad (13)$$

$$\begin{pmatrix} 1 & 3 & -2 & 2 & 3 \\ 0 & 1 & -1 & 2 & -1 \\ 0 & 0 & -2 & 0 & 2 \\ 0 & 0 & 0 & 0 & 0 \\ 0 & 0 & 0 & 0 & 0 \\ 0 & 0 & 0 & 0 & 0 \end{pmatrix} \quad (14)$$

$$\begin{pmatrix} 1 & 1+i \\ 1+i & 2i \\ 0 & 0 \end{pmatrix}, \begin{pmatrix} 1 & 1+i \\ 0 & 0 \\ 0 & 0 \end{pmatrix} \quad (15)$$

$F=\mathbb{R} \qquad F=\mathbb{C}$

$$\phi \quad (x, y) = (5 - 2t, t) \quad (17) \qquad (x, y) = (1, 2) \quad (16)$$

$$(x_1, x_2, x_3) = (1, -3, -2) \quad (20) \qquad \phi \quad (19)$$

$$(x, y) = (-1, 1) \quad (22) \qquad (x, y, z) = (-1 - 7t, 2 + 2t, t) \quad (21)$$

$$(x, y) = \left(\frac{1+2t}{3}, t \right) \quad (24) \qquad \phi \quad (23)$$

$$\phi \quad (26) \qquad (x, y, z, t) = (-a + 2b, 1 + 2a - 2b, a, b) \quad (25)$$

$$(x, y, z) = (2, 1, -1) \quad (27)$$

$$(z_1, z_2, z_3) = ((-1+i)t + 1 + i, 3, t) \quad \text{ב} \quad (z_1, z_2, z_3) = (2, 3, -1) \quad \text{א} \quad (28)$$

$F=\mathbb{C} \qquad F=\mathbb{R}$

חקירת מערכת משוואות לינאריות (עם פרמטר)

שאלות

בשאלות 1-6 מצאו לאילו ערכי k (אם יש כאלה) יש למערכות:
 1. פתרון יחיד. 2. אף פתרון. 3. אינסוף פתרונות.

$$x + ky + z = 1$$

$$x + y + kz = 1 \quad (2)$$

$$kx + y + z = 1$$

$$x - y + z = 1$$

$$5x - 7y + (k^2 + 3)z = k^2 + 1 \quad (1)$$

$$3x - y + (k + 3)z = 3$$

$$2x - y + z = 0$$

$$x + 2y - z = 0 \quad (4)$$

$$5x + (1 - k)y + k^2z = 1$$

$$x + 2ky + z = 0$$

$$3x + y + kz = 2 \quad (3)$$

$$x + 9ky + 5z = -2$$

$$x + ky + 3z = 2$$

$$kx - y + z = 4 \quad (6)$$

$$3x + y + (2 + k)z = 0$$

$$kx - y = 1$$

$$(k - 2)x + ky = -2 \quad (5)$$

$$(k^2 - 1)z = 9$$

מצאו לאילו ערכי k (אם יש כאלה) יש למערכת:
 1. פתרון יחיד. 2. אף פתרון. 3. אינסוף פתרונות.

$$2x + ky = 3$$

$$(k + 3)x + 2y = k^2 + 5 \quad (7)$$

$$6x + 3ky = 7k^2 + 2$$

תשובות סופיות

- (1) 1. $k \neq 1, k \neq -2$.2 $k = 1$.3 $k = -2$
- (2) 1. $k \neq 1, k \neq -2$.2 $k = -2$.3 $k = 1$
- (3) 1. $k \neq -1, k \neq \frac{4}{7}$.2 $k = \frac{4}{7}$.3 $k = -1$
- (4) 1. $k \neq 1, k \neq -0.4$.2 $k = 1, k = -0.4$
- (5) 1. $k \neq \pm 1, k \neq -2$.2 $k = \pm 1, k = -2$
- (6) 1. $k \neq -1, k \neq -3, k \neq 2$.3 $k = -1, k = -3, k = 2$
- (7) 1. $k = -1$.2 $k \neq \pm 1$.3 $k = 1$

אלגברה ליניארית

פרק 2 - מטריצות

תוכן העניינים

- 1. מטריצות 8
- 2. המטריצה ההופכית 13
- 3. בחזרה למערכת משוואות ליניארית 16
- 4. שיטת הריבועים הפחותים - רגרסיה ליניארית 17

מטריצות

שאלות

1 נתונות המטריצות הבאות: $A_{4 \times 6}$, $B_{4 \times 6}$, $C_{6 \times 2}$, $D_{4 \times 2}$, $E_{6 \times 4}$.
קבעו אילו מבין המטריצות הבאות מוגדרות.
במידה והמטריצה מוגדרת, רשמו את סדר המטריצה:

- א. $A+B$ ב. AB ג. $AC-D$ ד. $AE-B$
ה. $B+AB$ ו. $E(B+A)$ ז. $(E+A^T)D$ ח. $E^T B$
ט. $E(AC)$ י. $E(B-A)$

2 מצאו את x, y, z , אם ידוע כי:

$$\begin{pmatrix} x+2y & 3x-2y \\ 2x-5y & 2x+8y \end{pmatrix} = \begin{pmatrix} 2-2z & 5+z \\ -4-3z & -12z \end{pmatrix}$$

בשאלות 3-8 נתונות המטריצות הבאות:

$$A = \begin{pmatrix} 4 & 0 \\ 1 & 2 \\ -1 & 1 \end{pmatrix}, B = \begin{pmatrix} 4 & 1 \\ 0 & -2 \end{pmatrix}, C = \begin{pmatrix} 1 & 4 & 2 \\ 4 & 1 & 5 \end{pmatrix}, D = \begin{pmatrix} 1 & 4 & 2 \\ 1 & 0 & -1 \\ 4 & 2 & 10 \end{pmatrix},$$

$$E = \begin{pmatrix} 4 & 1 & 1 \\ -1 & 0 & 1 \\ 4 & 1 & -1 \end{pmatrix}, I_2 = \begin{pmatrix} 1 & 0 \\ 0 & 1 \end{pmatrix}, I_3 = \begin{pmatrix} 1 & 0 & 0 \\ 0 & 1 & 0 \\ 0 & 0 & 1 \end{pmatrix}$$

חשבו (במידה וניתן):

3 א. $E+D$ ב. $E-D+I_3$

ג. $5C$ ד. $2D+4EI_3$

4 $2tr(D^2 - 2E)$

5 א. $4C^T + A$ ב. $\frac{1}{2}A^T + \frac{1}{4}C$

6 $I_2 BC$

7 $tr(C^T C)$

8 $DABC$

- (9) נתון כי A מטריצה ריבועית מסדר n .
נתון כי $(A-I)(A+I) = 0$.
הוכיחו או הפריכו: $A = I$ או $A = -I$.

(10) אפיינו את כל המטריצות $A_{2 \times 2}$ שמקיימות $A^2 = -4I$.

(11) הוכיחו כי לכל n טבעי מתקיים $\begin{pmatrix} 2 & 0 \\ -1 & 1 \end{pmatrix}^n = \begin{pmatrix} 2^n & 0 \\ 1-2^n & 1 \end{pmatrix}$

הערה: תרגיל זה מיועד רק למי שנדרש לדעת הוכחות באינדוקציה.

- (12) שתי מטריצות A ו- B יקראו מתחלפות אם $AB = BA$.
הוכיחו או הפריכו על ידי דוגמה נגדית:

א. אם המטריצות A ו- B מתחלפות עם המטריצה $\begin{pmatrix} 0 & 1 \\ 1 & 0 \end{pmatrix}$, אז המטריצות

A ו- B מתחלפות.

ב. אם המטריצה A מתחלפת עם המטריצה $\begin{pmatrix} 0 & -1 \\ 1 & 0 \end{pmatrix}$, אז $A^T = -A$.

- (13) תהי A מטריצה ריבועית מסדר n .

נתון כי $AA^T = 0$. הוכיחו כי $A = 0$.

האם הטענה נשארת נכונה אם איברי A מרוכבים?
אם כן, הוכיחו. אם לא, הביאו דוגמה נגדית.

- (14) יהיו A ו- B מטריצות ריבועיות המקיימות $AB = BA$ (מטריצות מתחלפות).

א. הוכיחו כי לכל k טבעי מתקיים $AB^k = B^k A$.

ב. הוכיחו כי לכל k טבעי מתקיים $(AB)^k = A^k B^k$.

(15) לפי נוסחת הבינום של ניוטון $(A+B)^n = \sum_{k=1}^n \binom{n}{k} A^{n-k} B^k$, כאשר

$$A, B \in \mathbb{R}, n, k \in \mathbb{N}$$

א. האם נוסחת הבינום נשארת נכונה גם אם A ו- B מטריצות ריבועיות

מסדר ℓ ?

ב. מצאו תנאי מספיק על המטריצות A ו- B , על מנת שנוסחת הבינום

תהיה נכונה עבורן.

ג. מצאו את הפיתוח של $(A+I)^n$ ו- $(A-I)^n$, כאשר A ו- I ריבועיות מסדר

ℓ .

- 16** א. הגדירו והדגימו את המונח מטריצה נילפוטנטית.
 ב. נניח ש- A ו- B מטריצות מתחלפות ונילפוטנטיות.
 הוכיחו שגם המטריצות AB ו- $A+B$ נילפוטנטיות.

17 תהי $A_{n \times n}$ מטריצה שהאיברים שלה נתונים על ידי: $a_{ij} = \min\{i, j\}$.
 תהי $B_{n \times n}$ מטריצה שהאיברים שלה נתונים על ידי: $b_{ij} = \begin{cases} 1 & i + j = n + 1 \\ 0 & \text{else} \end{cases}$.

- א. כתבו את המטריצות A ו- B בצורה מפורשת.
 ב. המטריצה C מקיימת $C = A \cdot B$.
 חשבו את C ומצאו נוסחה עבור c_{ij} לכל $1 \leq i, j \leq n$.

18 מצאו מטריצה ממשית A , כך שיתקיים $A - \left(\begin{pmatrix} 0 & 1 \\ -1 & 0 \end{pmatrix} A \right)^T = A - A^T$.

תשובות סופיות

- (1) א. 4×6 ב. לא. ג. 4×2 ד. לא. ה. לא. ו. 6×6
 ז. 6×2 ח. לא ט. 6×4 י. 6×6

(2) $(x, y, z) = (2, 1, -1)$

(3) א. $\begin{pmatrix} 5 & 5 & 3 \\ 0 & 0 & 0 \\ 8 & 3 & 9 \end{pmatrix}$ ב. $\begin{pmatrix} 4 & -3 & -1 \\ -2 & 1 & 2 \\ 0 & -1 & -10 \end{pmatrix}$ ג. $\begin{pmatrix} 5 & 20 & 10 \\ 20 & 5 & 25 \end{pmatrix}$

ד. $\begin{pmatrix} 18 & 12 & 8 \\ -2 & 0 & 2 \\ 24 & 8 & 16 \end{pmatrix}$

(4) 230

(5) א. $\begin{pmatrix} 8 & 16 \\ 17 & 6 \\ 7 & 21 \end{pmatrix}$ ב. $\begin{pmatrix} 2.25 & 1.5 & 0 \\ 1 & 1.25 & 1.75 \end{pmatrix}$

(6) $\begin{pmatrix} 8 & 17 & 13 \\ -8 & -2 & -10 \end{pmatrix}$

(7) 63

(8) $\begin{pmatrix} -32 & 82 & -22 \\ 48 & 87 & 75 \\ -48 & 108 & -36 \end{pmatrix}$

(9) שאלת הוכחה.

(10) $A = \begin{pmatrix} a & -\frac{a^2+4}{c} \\ c & -a \end{pmatrix}$

(11) שאלת הוכחה.

(12) שאלת הוכחה.

(13) שאלת הוכחה.

(14) שאלת הוכחה.

(15) א+ב. שאלת הוכחה.

$$(A+I)^n = \binom{n}{0}A^n + \binom{n}{1}A^{n-1} + \binom{n}{2}A^{n-2} + \dots + \binom{n}{n-1}A^1 + \binom{n}{n}I$$

$$(A-I)^n = \binom{n}{0}A^n - \binom{n}{1}A^{n-1} + \binom{n}{2}A^{n-2} - \dots + (-1)^{n+1}\binom{n}{n-1}A^1 + (-1)^n\binom{n}{n}I$$

(16) שאלת הוכחה.

$$A = \begin{pmatrix} 1 & 1 & 1 & 1 & 1 & \dots & 1 \\ 1 & 2 & 2 & 2 & 2 & \dots & 2 \\ 1 & 2 & 3 & 3 & 3 & \dots & 3 \\ 1 & 2 & 3 & 4 & 4 & \dots & 4 \\ 1 & 2 & 3 & 4 & 5 & \dots & 5 \\ \vdots & \vdots & \vdots & \vdots & \vdots & \ddots & \vdots \\ 1 & 2 & 3 & 4 & 5 & \dots & n \end{pmatrix} \quad B = \begin{pmatrix} 0 & 0 & 0 & 0 & 0 & 0 & 1 \\ 0 & 0 & 0 & 0 & 0 & \ddots & 0 \\ 0 & 0 & 0 & 0 & 1 & 0 & 0 \\ 0 & 0 & 0 & 1 & 0 & 0 & 0 \\ 0 & 0 & 1 & 0 & 0 & 0 & 0 \\ 0 & 1 & 0 & 0 & 0 & 0 & 0 \\ 1 & 0 & 0 & 0 & 0 & 0 & 0 \end{pmatrix} \quad \text{א. (17)}$$

$$C = \begin{pmatrix} 1 & \dots & 1 & 1 & 1 & 1 & 1 \\ 2 & \dots & 2 & 2 & 2 & 2 & 1 \\ 3 & \dots & 3 & 3 & 3 & 2 & 1 \\ 4 & \dots & 4 & 4 & 3 & 2 & 1 \\ 5 & \dots & 5 & 4 & 3 & 2 & 1 \\ \vdots & \ddots & \vdots & \vdots & \vdots & \vdots & \vdots \\ n & \dots & 5 & 4 & 3 & 2 & 1 \end{pmatrix} \quad \text{ב. } c_{ij} = \min\{i, n+1-j\}$$

$$A = \begin{pmatrix} -1 & 1 \\ 1 & 1 \end{pmatrix} \quad \text{(18)}$$

המטריצה ההופכית

שאלות

בשאלות 1-9 מצאו את ההפוכה של כל מטריצה. בדקו את התשובות על ידי כפל מטריצות מתאים.

$$\begin{array}{lll} \begin{pmatrix} 4 & 1.5 \\ 2 & 1 \end{pmatrix} & \text{(3)} & \begin{pmatrix} 5 & 2 \\ 7 & 3 \end{pmatrix} & \text{(2)} & \begin{pmatrix} 1 & 2 \\ 3 & 4 \end{pmatrix} & \text{(1)} \\ \begin{pmatrix} 2 & -1 & 1 \\ 3 & -2 & 2 \\ 5 & -3 & 4 \end{pmatrix} & \text{(6)} & \begin{pmatrix} 2 & 1 & 1 \\ 0 & 2 & -1 \\ 5 & 2 & 3 \end{pmatrix} & \text{(5)} & \begin{pmatrix} 1 & 0 & 2 \\ 4 & -1 & 8 \\ 2 & 1 & 3 \end{pmatrix} & \text{(4)} \\ \begin{pmatrix} 1 & 1 & 0 & 1 \\ 4 & 2 & 2 & 3 \\ 2 & -1 & 2 & -1 \\ 4 & 0 & 2 & -2 \end{pmatrix} & \text{(9)} & \begin{pmatrix} 1 & 4 & 2 & 4 \\ 1 & 2 & -1 & 0 \\ 0 & 1 & 1 & 1 \\ 1 & 3 & -1 & -2 \end{pmatrix} & \text{(8)} & \begin{pmatrix} 1 & 0 & 0 & 0 \\ 1 & 2 & 0 & 0 \\ 1 & 2 & 3 & 0 \\ 1 & 2 & 3 & 4 \end{pmatrix} & \text{(7)} \end{array}$$

(10) עבור אילו ערכים של הקבוע k המטריצה $\begin{pmatrix} 1 & -1 & 1 \\ 5 & -7 & k^2+3 \\ 3 & -1 & k+3 \end{pmatrix}$ הפיכה?

(11) עבור אילו ערכים של הקבוע k המטריצה $\begin{pmatrix} 1 & 1 & 1 & 1 & k \\ 1 & 1 & 1 & k & 1 \\ 1 & 1 & k & 1 & 1 \\ 1 & k & 1 & 1 & 1 \\ k & 1 & 1 & 1 & 1 \end{pmatrix}$ איננה הפיכה?

הניחו שהמטריצות בשאלות 12-14 הן הפיכות מסדר n , וחלצו את X :

(12) א. $AXC = D$ ב. $A^{-1}XC = A^{-1}DC$ ג. $P^{-1}X^T P = A$

(13) א. $C^{-1}(A+X)D^{-2} = I$ ב. $(A-AX)^{-1} = X^{-1}C$

(14) $ABC^T X^{-1} BA^T C = AB^T$

(15) נתון $B = \begin{pmatrix} 1 & 2 \\ 4 & 9 \end{pmatrix}$.

חשבו את X , אם ידוע כי $B^2 X (2B)^{-1} = B + I$.

$$(16) \text{ נתון } B^{-1} = \begin{pmatrix} 1 & 0 & 2 \\ 4 & -1 & 8 \\ 2 & 1 & 3 \end{pmatrix}$$

חשבו את Y , אם ידוע כי $BYB^T = B^{-1} + B$.

$$(17) \text{ נתון } A^{-1} = \begin{pmatrix} 2 & 3 \\ 4 & 7 \end{pmatrix}$$

חשבו את B , אם נתון בנוסף כי $5A^T B(I + 2A)^{-2} = (7A)^{-2}$.

הערה: בפרק 3 (דטרמיננטות) תמצאו שאלות נוספות הנוגעות למטריצה ההפוכה.

תשובות סופיות

$$\begin{pmatrix} 1 & -1.5 \\ -2 & 4 \end{pmatrix} \quad (3)$$

$$\begin{pmatrix} 3 & -2 \\ -7 & 5 \end{pmatrix} \quad (2)$$

$$\begin{pmatrix} 2 & 1 \\ 1.5 & -0.5 \end{pmatrix} \quad (1)$$

$$\begin{pmatrix} 8 & -1 & -3 \\ -5 & 1 & 2 \\ -10 & 1 & 4 \end{pmatrix} \quad (5)$$

$$\begin{pmatrix} -11 & 2 & 2 \\ 4 & -1 & 0 \\ 6 & -1 & -1 \end{pmatrix} \quad (4)$$

$$\begin{pmatrix} 1 & 0 & 0 & 0 \\ -\frac{1}{2} & \frac{1}{2} & 0 & 0 \\ 0 & -\frac{1}{3} & \frac{1}{3} & 0 \\ 0 & 0 & -\frac{1}{4} & \frac{1}{4} \end{pmatrix} \quad (7)$$

$$\begin{pmatrix} 2 & -1 & 0 \\ 2 & -3 & 1 \\ -1 & -1 & 1 \end{pmatrix} \quad (6)$$

$$\begin{pmatrix} 7 & -2 & 3 & -1 \\ -10 & 3 & -5 & 2 \\ -10 & 3 & -4 & 1.5 \\ 4 & -1 & 2 & -1 \end{pmatrix} \quad (9)$$

$$\begin{pmatrix} 7 & -10 & -20 & 4 \\ -2 & 3 & 6 & -1 \\ 3 & -5 & -8 & 2 \\ -1 & 2 & 3 & -1 \end{pmatrix} \quad (8)$$

$$k=1, k=-4 \quad (11)$$

$$k \neq 1, k \neq -2 \quad (10)$$

$$(P^{-1})^T A^T P^T \quad \lambda \quad D \quad \text{ב.} \quad A^{-1}DC^{-1} \quad \text{א.} \quad (12)$$

$$(A+C^{-1})^{-1} A \quad \text{ב.} \quad CD^2 - A \quad \text{א.} \quad (13)$$

$$X = 4 \begin{pmatrix} 5 & -1 \\ -2 & 1 \end{pmatrix} \quad (15)$$

$$BA^T C(B^{-1})^T BC^T \quad (14)$$

$$B = \frac{1}{245} \begin{pmatrix} 264 & 450 \\ 448 & 768 \end{pmatrix} \quad (17)$$

$$Y = \begin{pmatrix} 22 & 86 & 38 \\ 64 & 246 & 114 \\ 60 & 238 & 100 \end{pmatrix} \quad (16)$$

בחזרה למערכת משוואות ליניארית

שאלות

(1) פתרו את מערכת המשוואות הבאה,

$$2x - y + z = 3$$

בעזרת המטריצה ההפוכה: $3x - 2y + 2z = 5$

$$5x - 3y + 4z = 11$$

(2) פתרו את מערכת המשוואות הבאה,

$$x + 4y + 2z + 4t = 1$$

$$x + 2y - z = 0$$

בעזרת המטריצה ההפוכה:

$$y + z + t = 1$$

$$x + 3y - z - 2t = 0$$

תשובות סופיות

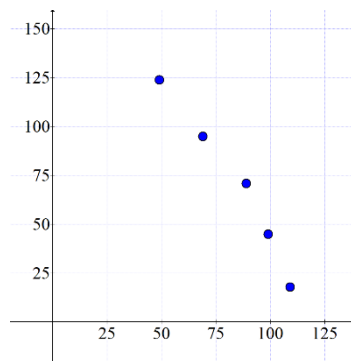
(1) $(x, y, z) = (1, 2, 3)$

(2) $(x, y, z, t) = (-13, 4, -5, 2)$

שיטת הריבועים הפחותים – רגרסיה לינארית

שאלות

- 1) נתונות חמש נקודות במישור: $(-4, -1)$, $(-2, 0)$, $(2, 4)$, $(4, 5)$, $(5, 6)$. מצאו את הישר הקרוב ביותר לנקודות הללו במובן הריבועים הפחותים.
- 2) בטבלה הבאה הביקוש של מוצר מסוים ביחס למחיר שלו בתקופה של חודש.



$price(x)$	$Demand / sales(y)$
49\$	124
69\$	95
89\$	71
99\$	45
109\$	18

- א. מצא את הישר כך שסכום ריבועי המרחקים האנכיים בין הישר והנקודות יהיה מינימלי. ישר זה נקרא ישר הרגרסיה.
- ב. בעזרת ישר זה נבא את הביקוש אם המחיר הוא 54\$.
- ג. מה משמעות השיפוע של הישר?
- ד. מצא את השגיאה בחישוב הנ"ל.

תשובות סופיות

- 1) $f(x) = 0.8x + 2$
- 2) א. $f(x) = -1.7x + 211$ ב. 119.2 יחידות. ג. אם נעלה את המחיר של המוצר ב-1\$ נצפה לירידה במכירות של 1.7 יחידות בחודש. ד. 14.41

אלגברה ליניארית

פרק 3 - דטרמיננטות

תוכן העניינים

- 18 1. חישוב דטרמיננטה לפי הגדרה ולפי דירוג.
- 23 2. חישוב דטרמיננטה כללית מסדר n.
- 28 3. חישוב דטרמיננטה לפי חוקי דטרמיננטות.
- 30 4. כלל קרמר ופתרון מערכת משוואות.
- 31 5. שימושי הדטרמיננטה.

דטרמיננטות

שאלות

בשאלות 1-5 חשבו את הדטרמיננטה על ידי הורדת סדר (פיתוח לפי שורה/עמודה):

$$(1) \quad \text{א.} \begin{vmatrix} a & b \\ c & d \end{vmatrix} \quad \text{ב.} \begin{vmatrix} 5 & 2 \\ -7 & 3 \end{vmatrix} \quad \text{ג.} \begin{vmatrix} 4 & -1.5 \\ 2 & -1 \end{vmatrix}$$

$$(2) \quad \text{א.} \begin{vmatrix} 1 & 0 & 2 \\ 4 & 1 & 8 \\ 2 & 0 & 3 \end{vmatrix} \quad \text{ב.} \begin{vmatrix} 2 & 1 & 1 \\ 0 & 2 & -1 \\ 1 & 0 & 0 \end{vmatrix} \quad \text{ג.} \begin{vmatrix} 2 & 1 & 1 \\ 3 & -2 & 5 \\ 0 & 2 & 0 \end{vmatrix}$$

$$(3) \quad \text{א.} \begin{vmatrix} 1 & 0 & 0 & 0 \\ 1 & 2 & 0 & 0 \\ 1 & 2 & 3 & 0 \\ 1 & 2 & 3 & 4 \end{vmatrix} \quad \text{ב.} \begin{vmatrix} 1 & 0 & 2 & 5 \\ -2 & 0 & -6 & 0 \\ 5 & 3 & -7 & 4 \\ 2 & 0 & 5 & 44 \end{vmatrix} \quad \text{ג.} \begin{vmatrix} 4 & 0 & 0 & 5 \\ 1 & 7 & 2 & 4 \\ 4 & 0 & 0 & 0 \\ 1 & 4 & -1 & 1 \end{vmatrix}$$

$$(4) \quad \begin{vmatrix} 1 & 9 & 8 & 3 & 4 \\ 3 & 0 & -5 & 0 & 2 \\ 2 & -4 & 1 & 0 & 3 \\ 4 & 1 & 7 & 0 & 2 \\ 0 & 0 & 1 & 0 & 0 \end{vmatrix}$$

$$(5) \quad \begin{vmatrix} 4 & 0 & 7 & 5 & 0 \\ 0 & 0 & 3 & 0 & 0 \\ -7 & 2 & 1 & 5 & 9 \\ 3 & 0 & 4 & 2 & -1 \\ -5 & 0 & -8 & -3 & 2 \end{vmatrix}$$

בשאלות 6-7 חשבו את הדטרמיננטה של המטריצות על ידי דירוג.

$$(6) \quad \text{א.} \begin{vmatrix} 1 & 3 & 0 & 2 \\ -2 & -5 & 7 & 4 \\ 3 & 5 & 2 & 1 \\ 2 & 2 & 2 & -1 \end{vmatrix} \quad \text{ב.} \begin{vmatrix} 1 & 3 & 3 & -4 \\ 0 & 1 & 2 & -5 \\ 2 & 5 & 4 & -3 \\ -1 & -2 & -1 & -1 \end{vmatrix} \quad \text{ג.} \begin{vmatrix} 1 & -1 & -3 & 0 \\ 1 & 0 & 2 & 4 \\ -1 & 2 & 8 & 5 \\ 3 & -1 & -2 & 3 \end{vmatrix}$$

$$\begin{vmatrix} 1 & 2 & -1 & 0 & -2 \\ 3 & 4 & -5 & -1 & -8 \\ 0 & 0 & 2 & 3 & 9 \\ 0 & 0 & -3 & 1 & 0 \\ 0 & 0 & 5 & 2 & 7 \end{vmatrix} \text{ ב.}$$

$$\begin{vmatrix} 1 & 3 & -1 & 0 & -2 \\ 1 & 5 & -5 & -1 & -8 \\ -2 & -6 & 2 & 3 & 9 \\ 3 & 7 & -3 & 8 & -7 \\ 3 & 5 & 5 & 2 & 7 \end{vmatrix} \text{ א. (7)}$$

$$\begin{vmatrix} 1 & 3 & -1 & 0 & -2 \\ 1 & 5 & -5 & -1 & -8 \\ 0 & 0 & 2 & 3 & 9 \\ 0 & 0 & 0 & 4 & 1 \\ 0 & 0 & 0 & 2 & 7 \end{vmatrix} \text{ ג.}$$

בשאלות 8-10 חשבו את הדטרמיננטה על ידי שילוב של הורדת סדר ודירוג:

$$\begin{vmatrix} 2 & 5 & -3 & -1 \\ 3 & 0 & 1 & -3 \\ -6 & 0 & -4 & 9 \\ 6 & 15 & -7 & -2 \end{vmatrix} \text{ (8)}$$

$$\begin{vmatrix} -1 & 2 & 3 & 0 \\ 3 & 4 & 3 & 0 \\ 5 & 4 & 6 & 6 \\ 3 & 4 & 7 & 3 \end{vmatrix} \text{ (9)}$$

$$\begin{vmatrix} 2 & 5 & 4 & 1 \\ 6 & 12 & 10 & 3 \\ 6 & -2 & -4 & 0 \\ -6 & 7 & 7 & 0 \end{vmatrix} \text{ (10)}$$

בשאלות 11-12 הראו, ללא חישוב, שהדטרמיננטה של המטריצות שווה אפס:

$$\begin{vmatrix} 12 & 15 & 18 \\ 13 & 16 & 19 \\ 14 & 17 & 20 \end{vmatrix} \text{ ג.}$$

$$\begin{vmatrix} 1 & 2 & 3 \\ 4 & 5 & 6 \\ 5 & 7 & 9 \end{vmatrix} \text{ ב.}$$

$$\begin{vmatrix} 1 & 0 & 2 \\ 7 & 0 & 12 \\ 3 & 0 & 2 \end{vmatrix} \text{ א. (11)}$$

$$\begin{vmatrix} a & a+x & a+y \\ b & b+x & b+y \\ c & c+x & c+y \end{vmatrix} \cdot \text{ב.} \quad \begin{vmatrix} y+z & z+x & y+x \\ x & y & z \\ 1 & 1 & 1 \end{vmatrix} \text{א. (12)}$$

$$\begin{vmatrix} 3 & -1 & 4 & 5 & 0 & 1 & -12 \\ -14 & 4 & 1 & -4 & 1 & 8 & 4 \\ 3 & 5 & -2 & 0 & -4 & 1 & -3 \\ -4 & 2 & 1 & 1 & 0 & 6 & -6 \\ -21 & 2 & 3 & 4 & 5 & 6 & 1 \\ 2 & -5 & 7 & -4 & 2.5 & -1 & -1.5 \\ -11 & 2 & -6 & 9 & -1 & 3 & 4 \end{vmatrix} \cdot \text{ד.} \quad \begin{vmatrix} \sin^2 x & \cos^2 x & 1 \\ \sin^2 y & \cos^2 y & 1 \\ \sin^2 z & \cos^2 1 & 1 \end{vmatrix} \text{ג.}$$

$$\begin{vmatrix} a & b & c \\ d & e & f \\ g & h & i \end{vmatrix} = 4 \text{ בשאלות 13-15 נתון כי:}$$

חשבו:

$$\begin{vmatrix} a & g+d & 2d \\ b & h+e & 2e \\ c & i+f & 2f \end{vmatrix} \text{ (13)}$$

$$\begin{vmatrix} 2a-3d & 2d & g+4a \\ 2b-3e & 2e & h+4b \\ 2c-3f & 2f & i+4c \end{vmatrix} \text{ (14)}$$

$$\begin{vmatrix} 0 & g+3d & 3a & a+3d \\ 0 & h+3e & 3b & b+3e \\ 0 & i+3f & 3c & c+3f \\ 1 & 0 & 0 & 0 \end{vmatrix} \text{ (15)}$$

$$\begin{vmatrix} 1 & a & a^2 \\ 1 & b & b^2 \\ 1 & c & c^2 \end{vmatrix} = (b-a)(c-a)(c-b) \text{ הוכיחו כי: (16)}$$

$$\begin{vmatrix} 1 & x & x^2 & x^3 \\ 1 & y & y^2 & y^3 \\ 1 & z & z^2 & z^3 \\ 1 & t & t^2 & t^3 \end{vmatrix} = (y-x)(z-x)(t-x)(z-y)(t-y)(t-z) \quad \text{17) הוכיחו כי:}$$

בשאלות 18-19 נתון כי A ו- B מטריצות מסדר 3, $|B|=2$, $|A|=4$.
חשבו:

18) א. $|ABA^{-1}B^T|$ ב. $|4A^2B^3|$

19) א. $| -A^{-2}B^T A^3 |$ ב. $| -2A^2 A^T adj B |$

20) נתון: $(PQ)^{-1}APQ = B$.
הוכיחו: $|A|=|B|$.

21) נתון: A ו- B מטריצות הפיכות מסדר 4, כך ש- $2AB+3I=0$, $|A|=2$.
חשבו את $|B|$.

22) נתון: A ו- B מטריצות הפיכות מסדר 3, כך ש- $B^2-2A^{-1}=0$, $A+3B=0$.
חשבו את $|A|$, $|B|$.

23) הוכיחו: 1. $|A^{-1}| = \frac{1}{|A|}$ 2. $|adj(A_{n \times n})| = |A|^{n-1}$.

24) נתון כי A מטריצה אנטי-סימטרית מסדר אי-זוגי.
הוכיחו ש- $|A|=0$.

25) נתון: A מטריצה מסדר n , $|A|=128$, $2AB = B^T A^2$, ו- B הפיכה.
מצאו את n .

26) נתון: $\det(A_{n \times n}) = 2$, $\det(B_{n \times n}) = \frac{1}{3}$.

חשבו: $\det \left| \frac{1}{3} B^{-n} A^{2n} \right|$.

תשובות סופיות

- (1) א. $ad - bc$ ב. 29 ג. -1
- (2) א. -1 ב. -3 ג. -14
- (3) א. 24 ב. 234 ג. -300
- (4) 9
- (5) 6
- (6) א. 0 ב. 0 ג. 3
- (7) א. 24 ב. 44 ג. 104
- (8) 120
- (9) 114
- (10) 6
- (11) פתרונות באתר: www.GooL.co.il
- (12) פתרונות באתר.
- (13) -8
- (14) 16
- (15) 9
- (16) שאלת הוכחה.
- (17) שאלת הוכחה.
- (18) א. 4 ב. 2^{13}
- (19) א. -8 ב. -2^{11}
- (20) שאלת הוכחה.
- (21) $\frac{81}{32}$
- (22) $|A|=18, |B|=-2/3$
- (23) שאלת הוכחה.
- (24) שאלת הוכחה.
- (25) 7
- (26) 4^n

חישוב דטרמיננטה כללית מסדר n

שאלות

(1) ענו על הסעיפים הבאים:

א. חשבו את הדטרמיננטה של המטריצה $A_{n \times n} = (a_{ij})$ הנתונה ע"י:

$$a_{ij} = \begin{cases} 1 & i = j < n \\ a & 1 \leq i \leq n, j = n \\ a & 1 \leq j \leq n, i = n \\ 0 & \text{else} \end{cases}$$

ב. עבור אילו ערכים של המספרים הממשיים a_0, \dots, a_{n-1} , המטריצה הבאה

$$A = \begin{pmatrix} 0 & 1 & 0 & \dots & \dots & 0 \\ 0 & 0 & 1 & 0 & \dots & 0 \\ \vdots & & \ddots & \ddots & & \vdots \\ \vdots & & & \ddots & \ddots & \vdots \\ 0 & \dots & \dots & \dots & 0 & 1 \\ a_0 & a_1 & \dots & \dots & \dots & a_{n-1} \end{pmatrix} \quad \text{הפיכה:}$$

(2) חשבו את הדטרמיננטה של המטריצה $A_{n \times n} = (a_{ij})$ הנתונה על ידי:

$$a_{ij} = \begin{cases} j & i = j + 1 \\ n & i = 1, j = n \\ 0 & \text{else} \end{cases}$$

האם קיים ערך של n עבורו דרגת המטריצה קטנה מ- n ?

(3) חשבו את $|A|$ כאשר המטריצה $A = (a_{ij})$ נתונה על ידי:

$$a_{ij} = \begin{cases} 1 & i = j = 1 \\ 0 & i = j \neq 1 \\ j & i < j \\ -j & i > j \end{cases}$$

(4) חשבו את הדטרמיננטה של המטריצה $A_{n \times n} = (a_{ij})$ הנתונה ע"י: $a_{ij} = |i - j|$.

(5) חשבו את $|A|$ כאשר המטריצה $A = (a_{ij})$ נתונה על ידי:

$$a_{ij} = \begin{cases} a & i = j \\ b & i \neq j \end{cases}$$

(6) חשבו את הדטרמיננטה הבאה מסדר n , כאשר $n \geq 1$:

$$\begin{vmatrix} -1 & 2 & 2 & 2 & \cdots & 2 \\ 4 & -2 & 4 & 4 & \cdots & 4 \\ 6 & 6 & -3 & 6 & \cdots & 6 \\ 8 & 8 & 8 & -4 & \cdots & 8 \\ \vdots & \vdots & \vdots & \vdots & \cdots & \vdots \\ 2n & 2n & 2n & 2n & \cdots & -n \end{vmatrix}$$

(7) חשבו את $|A|$ כאשר המטריצה $A = (a_{ij})$ נתונה על ידי:

$$a_{ij} = \min\{i, j\} \quad \text{א.}$$

$$a_{ij} = \max\{i, j\} \quad \text{ב.}$$

(8) המטריצה $A = (a_{ij})$ נתונה על ידי:

$$a_{ij} = \begin{cases} \min\{3(i-1), 3(j-1)\} & 1 < i, j \leq n \\ 1 & i=1 \text{ or } j=1 \end{cases}$$

חשבו את $|A|$.

(9) המטריצה $A = (a_{ij})$ נתונה על ידי:

$$a_{ij} = \begin{cases} \min\{k(i-1), k(j-1)\} & 1 < i, j \leq n \\ 1 & i=1 \text{ or } j=1 \end{cases}$$

חשבו את $|A|$ ומצאו עבור אילו ערכים של k המטריצה הפיכה.

(10) חשבו את הדטרמיננטה הבאה מסדר n , כאשר $n \geq 3$:

$$\left(a_{ij} = \begin{cases} 0 & i = j \\ 1 & 2 \leq i \leq n, j = 1 \\ 1 & 2 \leq j \leq n, i = 1 \\ x & \text{else} \end{cases} \right) \begin{vmatrix} 0 & 1 & 1 & 1 & \cdots & 1 \\ 1 & 0 & x & x & \cdots & x \\ 1 & x & 0 & x & \cdots & x \\ 1 & x & x & 0 & \ddots & \vdots \\ \vdots & \vdots & \vdots & x & \ddots & x \\ 1 & x & x & \cdots & x & 0 \end{vmatrix}$$

(11) תהי $A = (a_{ij})$ מטריצה שהאיברים שלה נתונים על ידי:

$$a_{ij} = \begin{cases} ij & i \neq j \\ 1+ij & i = j \end{cases}$$

חשבו את $D_n = |A_{n \times n}|$.

הערה: נפתור תרגיל זה בדרך אחרת בפרק על ערכים עצמיים ווקטורים עצמיים.

$$(12) \text{ המטריצה } A = (a_{ij}) \text{ נתונה על ידי: } a_{ij} = \begin{cases} a & i = j \\ b & i = j+1 \\ c & j = i+1 \end{cases}$$

א. מצאו נוסחת נסיגה לחישוב $D_n = |A_{n \times n}|$.

ב. הניחו כי $a=3, b=1, c=2$ וחשבו:

1. ביטוי סגור עבור הדטרמיננטה.

2. את הדטרמיננטה עבור $n=20$.

(13) נתונה מטריצה $A_{n \times n}$.

במטריצה זו מבצעים את פעולות השורה הבאות:
מחליפים בין השורה הראשונה לשורה האחרונה, בין השורה השנייה לשורה
הלפני אחרונה וכך הלאה, עד שלא ניתן יותר להחליף שורות.

בסוף התהליך מקבלים מטריצה B .

חשבו את $|B|$ במונחי $|A|$.

$$(14) \text{ חשבו את } D_n = \begin{vmatrix} 0 & & 1 \\ & \ddots & \\ 1 & & 0 \end{vmatrix}_{n \times n} \text{ כאשר } n \geq 2 \text{ טבעי.}$$

$$d_{ij} = \begin{cases} 1 & i+j = n+1 \\ 0 & \text{else} \end{cases} \text{ הערה:}$$

$$(15) \text{ חשבו את } D_n = \det \begin{pmatrix} 2 & & 1 \\ & \ddots & 2 \\ n & & 2 \end{pmatrix}_{n \times n} \text{ כאשר } n \geq 2 \text{ טבעי.}$$

$$d_{ij} = \begin{cases} i & i+j = n+1 \\ 2 & \text{else} \end{cases} \text{ הערה:}$$

$$(16) \text{ חשבו את } D_n = \det \begin{pmatrix} a & & b \\ & \ddots & b \\ b & & a \end{pmatrix}_{n \times n} \text{ כאשר } n \geq 2 \text{ טבעי.}$$

$$d_{ij} = \begin{cases} b & i+j = n+1 \\ a & \text{else} \end{cases} \text{ הערה:}$$

(17) חשבו את הדטרמיננטה של המטריצה של $A_{n \times n} = (a_{ij})$ הנתונה ע"י:

$$a_{ij} = \min \{i, n-j+1\}$$

$$\begin{vmatrix}
 a_n & a_{n-1} & \cdots & a_2 & x \\
 a_n & a_{n-1} & \cdots & x & a_1 \\
 a_n & a_{n-1} & \cdots & a_2 & a_1 \\
 \vdots & \vdots & \ddots & \vdots & \vdots \\
 a_n & x & \cdots & a_2 & a_1 \\
 a_n & a_{n-1} & \cdots & a_2 & a_1
 \end{vmatrix}$$

(18) חשבו את הדטרמיננטה הבאה מסדר n , כאשר $n \geq 2$

תשובות סופיות

$$(1) \quad \text{א. } |A| = a - (n-1)a^2 \quad \text{ב. } A \text{ הפיכה אם ורק אם } a_0 \neq 0$$

$$(2) \quad \text{א. } (-1)^{n+1} n! \quad \text{ב. לא.}$$

$$(3) \quad |A| = n!$$

$$(4) \quad |A| = (-1)^{n+1} (n-1) 2^{n-2}$$

$$(5) \quad |A| = (a-b)^{n-2} [a + (n-1)b]$$

$$(6) \quad (-3)^{n-1} (2n-3)n!$$

$$(7) \quad \text{א. } |A| = 1 \quad \text{ב. } |A| = (-1)^{n+1} n$$

$$(8) \quad |A| = 2 \cdot 3^{n-2}$$

$$(9) \quad |A| = (k-1) \cdot k^{n-2} \text{ והמטריצה הפיכה אם ורק אם } k \neq 1 \text{ וגם } k = 0$$

$$(10) \quad |A| = (-1)^{n-1} x^{n-2} (n-1)$$

$$(11) \quad D_n = 1 + \frac{1}{6} n(n+1)(2n+1)$$

$$(12) \quad \text{א. } D_n = aD_{n-1} - bcD_{n-1}, D_2 = a^2 - bc, D_3 = a^3 - 2abc$$

$$\text{ב.1. } D_n = 2^{n+1} - 1 \quad \text{ב.2. } D_{20} = 2^{21} - 1$$

$$(13) \quad |B| = \begin{cases} (-1)^{\frac{n}{2}} |A| & n \text{ even} \\ (-1)^{\frac{n-1}{2}} |A| & n \text{ odd} \end{cases}$$

$$(14) \quad D_n = \begin{cases} (-1)^{\frac{n}{2}} & n \text{ even} \\ (-1)^{\frac{n-1}{2}} & n \text{ odd} \end{cases}$$

$$(15) \quad D_n = \begin{cases} (-1)^{\frac{n+2}{2}} 2(n-2)! & n \text{ even} \\ (-1)^{\frac{n+1}{2}} 2(n-2)! & n \text{ odd} \end{cases}$$

$$(16) \quad D_n = \begin{cases} (-1)^{\frac{n}{2}} (b-a)^{n-1} [b + (n-1)a] & n \text{ even} \\ (-1)^{\frac{n-1}{2}} (b-a)^{n-1} [b + (n-1)a] & n \text{ odd} \end{cases}$$

$$(17) \quad D_n = \begin{cases} (-1)^{\frac{n-1}{2}} & n \text{ odd} \\ (-1)^{\frac{n-2}{2} + n-1} & n \text{ even} \end{cases}$$

$$(18) \quad D_n = \begin{cases} a_n (-1)^{\frac{n}{2}} (x-a_1)(x-a_2) \cdots (x-a_{n-1}) & n \text{ even} \\ a_n (-1)^{\frac{n-1}{2}} (x-a_1)(x-a_2) \cdots (x-a_{n-1}) & n \text{ odd} \end{cases}$$

חישוב דטרמיננטה לפי משפטי דטרמיננטות

שאלות

בשאלות 1-2 נתון כי A ו- B מטריצות מסדר 3, $|B|=2$, $|A|=4$.
חשבו:

(1) א. $|ABA^{-1}B^T|$ ב. $|4A^2B^3|$

(2) א. $| -A^{-2}B^T A^3 |$ ב. $| -2A^2 A^T \text{adj} B |$

(3) נתון: $(PQ)^{-1}APQ = B$.
הוכיחו: $|A|=|B|$.

(4) נתון: A ו- B מטריצות הפיכות מסדר 4, כך ש- $2AB+3I=0$, $|A|=2$.
חשבו את $|B|$.

(5) נתון: A ו- B מטריצות הפיכות מסדר 3, כך ש- $B^2-2A^{-1}=0$, $A+3B=0$.
חשבו את $|A|$, $|B|$.

(6) הוכיחו: 1. $|A^{-1}| = \frac{1}{|A|}$ 2. $|\text{adj}(A_{n \times n})| = |A|^{n-1}$.

(7) נתון כי A מטריצה אנטי-סימטרית מסדר אי-זוגי.
הוכיחו ש- $|A|=0$.

(8) נתון: A מטריצה מסדר n , $|A|=128$, $2AB = B^T A^2$, ו- B הפיכה.
מצאו את n .

(9) נתון: $\det(A_{n \times n}) = 2$, $\det(B_{n \times n}) = \frac{1}{3}$.

חשבו: $\det \left| \frac{1}{3} B^{-n} A^{2n} \right|$.

$$(10) \text{ נתון } M = \begin{pmatrix} a & b & c & d \\ -b & a & -d & c \\ -c & d & a & -b \\ -d & -c & b & a \end{pmatrix}$$

הוכיחו כי $\det(M) = (a^2 + b^2 + c^2 + d^2)^2$.

תשובות סופיות

- (1) א. 4 ב. 2^{13}
- (2) א. -8 ב. -2^{11}
- (3) שאלת הוכחה.
- (4) $\frac{81}{32}$
- (5) $|A|=18, |B|=-2/3$
- (6) שאלת הוכחה.
- (7) שאלת הוכחה.
- (8) 7
- (9) 4^n
- (10) שאלת הוכחה.

כלל קרמר

שאלות

בשאלות 1-3 פתרו את מערכות המשוואות בעזרת כלל קרמר:

$$\begin{array}{l}
 x + 2z + 5t = 8 \\
 -2x - 6y = -8 \\
 5x + 3y - 7z + 4t = 5 \\
 2x + 5y + 44z = 51
 \end{array} \quad (3)$$

$$\begin{array}{l}
 x + z = 3 \\
 4x + y + 8z = 21 \\
 2x + 3z = 8
 \end{array} \quad (2)$$

$$\begin{array}{l}
 x + 2y = 5 \\
 3x + 4y = 11
 \end{array} \quad (1)$$

תשובות סופיות

$$\begin{array}{l}
 x = 1, y = 2 \quad (1) \\
 x = 1, y = 1, z = 2 \quad (2) \\
 x = y = z = t = 1 \quad (3)
 \end{array}$$

שימושי הדטרמיננטה

שאלות

- 1) א. חשבו את שטח המקבילית שקדקודיה: $(0,0), (5,2), (6,5), (11,6)$.1
 2. $(-1,0), (0,5), (1,-4), (2,1)$.
 ב. חשבו את נפח המקבילון שקדקודיו: $(0,0,0), (1,0,-2), (1,2,4), (7,1,0)$.
 ג. מצאו משוואת מישור העובר דרך הנקודות: $(3,3,-2), (-1,3,1), (1,1,-1)$.
 ד. חשבו את שטח המשולש שקדקודיו: $(1,2), (3,4), (5,8)$.
הערה: בכל אחד מהסעיפים בתרגיל זה יש להשתמש בדטרמיננטות.

תשובות סופיות

- 1) א.1. 13. א.2. 14. ב. 22. ג. $3x - y + 4z + 2 = 0$. ד. 2

אלגברה ליניארית

פרק 4 - מרחבים וקטורים

תוכן העניינים

- 1. מרחבים ותת-מרחבים 32
- 2. צירופים ליניאריים, פרישה ליניארית ותלות ליניארית 33
- 3. בסיס ומימד, דרגה של מטריצה 35

מרחבים ותת-מרחבים

סימון

- R^n - המרחב הווקטורי של כל הווקטורים הממשיים ממימד n מעל השדה הממשי R .
- $M_n[R]$ - המרחב הווקטורי של כל המטריצות הריבועיות מסדר n מעל השדה הממשי R .
- $P_n[R]$ - המרחב הווקטורי של כל הפולינומים ממעלה קטנה או שווה ל- n מעל השדה R .
- $F[R]$ - המרחב הווקטורי של כל הפונקציות הממשיות ($f: R \rightarrow R$) מעל השדה R .

שאלות

בשאלות 1-7 בדקו האם W תת-מרחב של R^3 :

$$W = \{(a, b, c) \mid a + b + c = 0\} \quad (1)$$

$$W = \{(a, b, c) \mid a = c\} \quad (2)$$

$$W = \{(a, b, c) \mid a = 3b\} \quad (3)$$

$$W = \{(a, b, c) \mid a < b < c\} \quad (4)$$

$$W = \{(a, b, c) \mid a = c^2\} \quad (5)$$

$$W = \{(a, b, c) \mid c - b = b - a\} \quad (6)$$

כלומר, a, b ו- c מהווים סדרה חשבונית.

$$W = \{(a, b, c) \mid b = a \cdot q, c = a \cdot q^2\} \quad (7)$$

כלומר, a, b ו- c מהווים סדרה הנדסית.

תשובות סופיות

- | | | | | | | | | | |
|-----|----|-----|----|-----|----|-----|----|-----|----|
| (1) | כן | (2) | כן | (3) | כן | (4) | לא | (5) | לא |
| (6) | כן | (7) | לא | | | | | | |

צירופים לינאריים, פרישה לינארית ותלות לינארית

שאלות

בשאלות 1-7 נתונים הווקטורים הבאים:

$$u_1 = (4, 1, 1, 5), \quad u_2 = (0, 11, -5, 3), \quad u_3 = (2, -5, 3, 1), \quad u_4 = (1, 3, -1, 2)$$

- (1) א. האם u_1 הוא צירוף לינארי של u_4 ?
 ב. האם u_1 שייך ל- $Sp\{u_4\}$?
 ג. האם הקבוצה $\{u_1, u_4\}$ תלויה לינארית?
- (2) א. האם u_3 הוא צירוף לינארי של u_1 ו- u_2 ?
 ב. האם u_3 שייך ל- $Sp\{u_1, u_2\}$?
 ג. האם הקבוצה $\{u_1, u_2, u_3\}$ תלויה לינארית?
 במידה וכן, רשמו כל וקטור בקבוצה כצירוף לינארי של הווקטורים האחרים.
- (3) א. האם u_4 הוא צירוף לינארי של u_1 ו- u_2 ?
 ב. האם u_4 שייך ל- $Sp\{u_1, u_2\}$?
 ג. האם הקבוצה $\{u_1, u_2, u_4\}$ תלויה לינארית?
 במידה וכן, רשמו כל וקטור בקבוצה כצירוף לינארי של הווקטורים האחרים.
- (4) נתון $v = (4, 12, k, -2k)$.
 א. מה צריך להיות ערכו של k , על מנת שהווקטור v יהיה צירוף לינארי של u_1 ו- u_2 ?
 ב. מה צריך להיות ערכו של k , על מנת שהווקטור v יהיה שייך ל- $Sp\{u_1, u_2\}$?
 ג. מה צריך להיות ערכו של k , על מנת שהקבוצה $\{u_1, u_2, v\}$ תהיה תלויה לינארית?
- (5) נתון $v = (a, b, c, d)$.
 א. מה התנאים על a, b, c, d , על מנת שהווקטור v יהיה צירוף לינארי של u_1 ו- u_2 ?
 ב. מה התנאים על a, b, c, d , על מנת שהווקטור v יהיה שייך ל- $Sp\{u_1, u_2\}$?
 ג. מה התנאים על a, b, c, d , על מנת שהקבוצה $\{u_1, u_2, v\}$ תהיה תלויה לינארית?

(6) הביעו את הווקטור $v = (10, 8, 0, 14)$ כצירוף לינארי של u_1, u_2 ו- u_3 .
 בכמה אופנים ניתן לעשות זאת?

(7) הביעו את הווקטור $v = (7, 10, -2, 11)$ כצירוף לינארי של u_1, u_2, u_3 ו- u_4 .
 בכמה אופנים ניתן לעשות זאת?

תשובות סופיות

- (1) א. לא. ב. לא. ג. לא.
- (2) א. כן. ב. כן. ג. כן, $u_2 = u_1 - 2u_3$, $u_1 = 2u_3 + u_2$.
- (3) א. כן. ב. כן. ג. כן, $u_2 = 4u_4 - u_1$, $u_1 = 4u_4 - u_2$.
- (4) א+ב+ג. $k = -4$
- (5) $a = 5t + 3s$, $b = 4t - 13s$, $c = 7s$, $d = 7t$
- (6) אינסוף, $v = 2u_1 + u_2 + u_3$.
- (7) אינסוף, $v = \frac{7}{4}u_1 + \frac{3}{4}u_2$.

בסיס ומימד, דרגה של מטריצה

שאלות

(1) בדקו אם הקבוצות הבאות הן בסיס ל- R^3 :

א. $\{(1,0,1), (0,0,1)\}$

ב. $\{(1,1,2), (1,2,3), (3,3,4), (2,2,1)\}$

ג. $\{(1,2,3), (4,5,6), (7,8,9)\}$

(2) בדקו אם הקבוצות הבאות הן בסיס ל- $M_{2 \times 2}[R]$:

א. $\left\{ \begin{pmatrix} 1 & 2 \\ 3 & 4 \end{pmatrix}, \begin{pmatrix} 5 & 6 \\ 7 & 8 \end{pmatrix}, \begin{pmatrix} 9 & 1 \\ 2 & 3 \end{pmatrix} \right\}$

ב. $\left\{ \begin{pmatrix} 1 & 2 \\ 3 & 4 \end{pmatrix}, \begin{pmatrix} 5 & 6 \\ 7 & 8 \end{pmatrix}, \begin{pmatrix} 9 & 1 \\ 2 & 3 \end{pmatrix}, \begin{pmatrix} 5 & 6 \\ 7 & 2 \end{pmatrix}, \begin{pmatrix} 5 & 16 \\ 7 & 8 \end{pmatrix} \right\}$

ג. $\left\{ \begin{pmatrix} 1 & 1 \\ 1 & 1 \end{pmatrix}, \begin{pmatrix} 0 & 1 \\ 1 & 1 \end{pmatrix}, \begin{pmatrix} 0 & 0 \\ 1 & 1 \end{pmatrix}, \begin{pmatrix} 0 & 0 \\ 0 & 1 \end{pmatrix} \right\}$

(3) בדקו אם הקבוצות הבאות הן בסיס ל- $P_2(R)$:

א. $\{1+x, x^2+2x+3\}$

ב. $\{1+x, x^2+2x+3, 2x+4x^2, x-x^2\}$

ג. $\{1+2x+3x^2, 4+5x+6x^2, 7+8x+10x^2\}$

(4) נתונה קבוצת וקטורים ב- R^3 : $T = \{(1,2,3), (4,5,6), (7,8,9), (2,3,4)\}$.

א. האם T בסיס ל- R^3 ?

ב. מצאו קבוצה T' , שהיא קבוצה מקסימלית של וקטורים,

בלתי תלויה ליניארית ב- T .

ג. השלימו את T' לבסיס של R^3 .

מציאת בסיס וממד למרחב פתרונות של מערכת משוואות הומוגנית

(5) להלן 3 מערכות של משוואות הומוגניות :

$$\begin{cases} x - y + z + w = 0 \\ 2x - 2y + 2z + 2w = 0 \end{cases} \cdot 3 \quad \begin{cases} x - y + z + w = 0 \\ x + 2z - w = 0 \\ x + y + 3z - 3w = 0 \end{cases} \cdot 2 \quad \begin{cases} x + y - z + 2w = 0 \\ 3x - y + 7z + 4w = 0 \\ -5x + 3y - 15z - 6w = 0 \end{cases} \cdot 1$$

1. נסמן ב- W את המרחב הנפרש ע"י מערכת המשוואות

2. נסמן ב- U את המרחב הנפרש ע"י מערכת המשוואות

3. נסמן ב- V את המרחב הנפרש ע"י מערכת המשוואות

מצאו בסיס וממד ל- U , W ו- V .

(6) נתון $U = \{(a, b, c, d) \in \mathbb{R}^4 \mid a = c, b = d\}$

מצאו בסיס וממד ל- U .

(7) נתון $U = \{(a, b, c, d) \in \mathbb{R}^4 \mid c = a + b, d = b + c\}$

מצאו בסיס וממד ל- U .

(8) נתון $U = \{v \in \mathbb{R}^4 \mid v \cdot (1, -1, 1, -1) = 0\}$

מצאו בסיס וממד ל- U .

מציאת בסיס וממד לתת-מרחב

(9) להלן שני תתי מרחבים של המרחב \mathbb{R}^4 :

$$U = \text{span}\{(1, 1, -1, 2), (3, -1, 7, 4), (-5, 3, -15, -6)\}$$

$$V = \text{span}\{(1, -1, 1, 1), (1, 0, 2, -1), (1, 1, 3, -3), (5, 1, 5, 8)\}$$

א. מצאו בסיס, ממד ומשוואות ל- U .

ב. מצאו בסיס, ממד ומשוואות ל- V .

(10) להלן תת-מרחב של המרחב $M_{2 \times 2}[\mathbb{R}]$:

$$U = \text{span}\left\{\begin{pmatrix} 1 & 1 \\ -1 & 2 \end{pmatrix}, \begin{pmatrix} 4 & 1 \\ -1 & 1 \end{pmatrix}, \begin{pmatrix} 2 & -1 \\ 1 & -3 \end{pmatrix}\right\}$$

מצאו בסיס וממד ל- U .

(11) להלן תת-מרחב של המרחב $P_3[\mathbb{R}]$:

$$U = \text{span}\{1 + x - x^2 + 2x^3, 4 + x - x^2 + x^3, 2 - x + x^2 - 3x^3\}$$

מצאו בסיס וממד ל- U .

מציאת בסיס וממד למרחב שורה ומרחב עמודה של מטריצה, דרגת מטריצה
 בשאלות 12-13 מצאו בסיס וממד למרחב השורה ומרחב העמודה של המטריצה,
 וציינו את דרגת המטריצה (rank):

$$\begin{pmatrix} 4 & 1 & 1 & 5 \\ 0 & 11 & -5 & 3 \\ 2 & -5 & 3 & 1 \\ 1 & 3 & -1 & 2 \end{pmatrix} \quad (12)$$

$$\begin{pmatrix} 1 & 2 & 1 & 3 & 5 \\ 2 & 5 & 3 & 1 & 6 \\ 1 & -1 & -2 & 2 & 1 \\ -2 & 3 & 5 & -4 & -1 \end{pmatrix} \quad (13)$$

תשובות סופיות

- (1) א. לא. ב. לא. ג. לא.
- (2) א. לא. ב. לא. ג. כן.
- (3) א. לא. ב. לא. ג. כן.
- (4) א. לא. ב. $T' = \{(1,2,3), (4,5,6)\}$. ג. $T' = \{(1,2,3), (4,5,6), (0,0,1)\}$.
- (5) א. W - בסיס: $\{(-1.5, 2.5, 1, 0), (-1.5, -0.5, 0, 1)\}$, ממד: 2.
- U - בסיס: $\{(-2, -1, 1, 0), (1, 2, 0, 1)\}$, ממד: 2.
- V - בסיס: $\{(-1, 0, 0, 1), (-1, 0, 1, 0), (1, 1, 0, 0)\}$, ממד: 3.
- (6) בסיס: $\{(0, 1, 0, 1), (1, 0, 1, 0)\}$, ממד: 2.
- (7) בסיס: $\{(-1, 1, 0, 1), (2, -1, 1, 0)\}$, ממד: 2.
- (8) בסיס: $\{(1, 0, 0, 1), (-1, 0, 1, 0), (1, 1, 0, 0)\}$, ממד: 3.
- (9) א. בסיס: $\{(1, 1, -1, 2), (0, -4, 10, -2)\}$, ממד: 2.
- ב. בסיס: $\{(1, -1, 1, 1), (0, -1, 1, -2), (0, 0, -2, 5)\}$, ממד: 3.
- (10) בסיס: $\left\{ \begin{pmatrix} 1 & 1 \\ -1 & 2 \end{pmatrix}, \begin{pmatrix} 0 & -3 \\ 3 & -7 \end{pmatrix} \right\}$, ממד: 2.
- (11) בסיס: $\{1+x-x^2+2x^3, -3x+3x^2-7x^3\}$, ממד: 2.
- (12) מרחב שורה: בסיס: $\{(4, 1, 1, 5), (0, 11, -5, 3)\}$, ממד: 2.
- מרחב עמודה: בסיס: $\left\{ \begin{pmatrix} 4 \\ 0 \\ 2 \\ 1 \end{pmatrix}, \begin{pmatrix} 0 \\ 4 \\ -2 \\ 1 \end{pmatrix} \right\}$, ממד: 2, דרגה: 2.
- (13) מרחב שורה: בסיס: $\{(1, 2, 1, 3, 5), (0, 11, -5, -4), (0, 0, 0, 1, 1)\}$, ממד: 3.
- מרחב עמודה: בסיס: $\left\{ \begin{pmatrix} 1 \\ 2 \\ 1 \\ -2 \end{pmatrix}, \begin{pmatrix} 0 \\ 1 \\ -3 \\ 7 \end{pmatrix}, \begin{pmatrix} 0 \\ 0 \\ -16 \\ 37 \end{pmatrix} \right\}$, ממד: 3, דרגה: 3.

אלגברה ליניארית

פרק 5 - תכנון לינארי

תוכן העניינים

1. תכנון לינארי..... 39

תכנון לינארי

שאלות

1) חקלאי צריך לתכנן את עיבוד שדותיו לעונה החקלאית, כך שרווחיו יהיו מקסימליים. המשאבים העומדים לרשותו הם: שטח של 10 דונמים, 2,800 מ"ק מים ו-364 ימי עבודה. הוא החליט לנצל את כל משאביו לגידול עגבניות ופלפל. הצרכים והרווחים לדונם, לגידולים אלה, נתונים בטבלה שלפניך:

רווחים לדונם	ימי עבודה לדונם	מים לדונם	
800 שקל	14 יום	350 מ"ק	עגבניות
1400 שקל	42 יום	210 מ"ק	פלפל

- א. כתבו את מערכת האילוצים ואת פונקציית המטרה לבעיה.
 ב. מצאו על כמה דונמים צריך החקלאי לגדל עגבניות ועל כמה דונמים הוא צריך לגדל פלפל, כדי שרווחיו יהיו מקסימליים.
 ג. מצאו מה יהיו הרווחים המקסימליים של החקלאי.

2) לרשות נגריה 3 מ"ק עצים, 21 מ"ר דיקט ו-104 ימי עבודת פועל. לייצור ארון מטבח דרושים 0.2 מ"ק עץ, 1 מ"ר דיקט ו-12 ימי עבודת פועל. לייצור ארון בגדים דרושים 0.4 מ"ק עץ, 3 מ"ר דיקט ו-5 ימי עבודת פועל. הרווח ממכירת ארון מטבח הוא 1,000 שקל וממכירת ארון בגדים 1,500 שקל. כמה ארונות וכמה ארונות בגדים כדאי לנגריה לייצר, כדי שרווחיה יהיו מקסימליים?

3) מפעל מייצר שני סוגי שולחנות: שולחן אוכל ושולחן סלוני. תהליך הייצור מורכב משלושה שלבים עיקריים: חיתוך, עיבוד וצביעה. במחזור ייצור אחד אפשר להפעיל את ציוד החיתוך 16 שעות לכל היותר, את ציוד העיבוד אפשר להפעיל 18 שעות לכל היותר ואת ציוד הצביעה 12 שעות לכל היותר. אותו ציוד משמש לייצור שני סוגי השולחנות. פירוט הזמן הדרוש לכל שלב בייצור שולחן אחד נתון בטבלה שלפניך:

צביעה	עיבוד	חיתוך	
1 שעה	1 שעה	2 שעות	שולחן אוכל
1 שעה	3 שעות	1 שעה	שולחן סלוני

- רווח המפעל מכל שולחן אוכל הוא 200 שקל ומכל שולחן סלוני הוא 350 שקל.
 א. כמה שולחנות מכל סוג על המפעל לייצר במחזור ייצור אחד, כדי שרווחיו יהיו מקסימליים?
 ב. באחד ממחזורי הייצור התקלקלה מכונת הצביעה לשעה אחת ולכן היה אפשר להפעילה רק 11 שעות.
 האם התשובה לסעיף א' תשתנה לגבי מחזור ייצור זה? נמקו.

(4) נתונים האילוצים:

$$y \geq 0, x \geq 0$$

$$y \leq 2x + 4$$

$$y \leq -2x + 8$$

$$y \geq 2x - 4$$

פונקציית המטרה היא: $f(x, y) = 3x - y + 6$.

- א. קווקו בשרטוט מדויק את התחום האפשרי של הבעיה.
 ב. הוסף לשרטוט את קו הגובה שבו ערך פונקציית המטרה הוא 5.
 ג. באיזו נקודה בתחום האפשרי מקבלת פונקציית המטרה ערך מקסימלי?

(5) מצא ערך מינימלי של הפונקציה $f(x, y) = 2x - y$

$$x + y \leq 5$$

כאשר האילוצים הם: $y \geq 0$.

$$y \geq 6 - 2x$$

(6) מצא ערך מינימלי וערך מקסימלי של פונקציית המטרה $f(x, y) = x + 2y$.תחת האילוצים: $y + 2 \geq 0, x + y \leq 3, x \geq y, x \leq 2$.

(7) נתונים האילוצים:

$$y \leq 2x + 3$$

$$x + 2y \leq 21$$

$$x + 7y \geq 21$$

$$y \leq 7$$

- א. שרטט את התחום האפשרי המתקבל ממערכת האילוצים.
 ב. מצא את הערך המקסימלי שמקבלת פונקציית המטרה $f(x, y) = 16x - 8y$ בתחום זה.
 ג. מצא שני פתרונות אפשריים, שעבורם מקבלת פונקציית המטרה את הערך 8.

8 נתונה מערכת האילוצים :

$$2y + 5x \geq 0$$

$$2y - x \leq 12$$

$$x + y \leq 10$$

$$y \geq 2\frac{1}{2}$$

פונקציית המטרה היא : $f(x, y) = 10x - 10y$.

- א. שרטט את התחום האפשרי המתקבל ממערכת האילוצים.
 ב. באיזה נקודה בתחום מקבלת פונקציית המטרה ערך מקסימלי?
 ג. תן דוגמא לשתי נקודות השייכות לתחום האפשרי ושעבורן הערך של פונקציית המטרה הוא -20.

תשובות סופיות

- 1 א. מערכת אילוצים : פונקציית מטרה : $f(x, y) = 800x + 1400y$
- $$x + y \leq 10$$
- $$14x + 42y \leq 364$$
- $$350x + 210y \leq 2800$$
- $$y \geq 0 ; x \geq 0$$
- ב. עגבניות : 2 דונם, פלפל : 8 דונם. ג. 12,800 שקל.
- 2 א. 7 ארונות מטבח, 4 ארונות בגדים.
- 3 א. 4 שולחנות סלוניים, 6 שולחנות אוכל.
 ב. לא תשתנה. כיוון שהאילוץ של מכונת הצביעה, גם הוא משתנה ל- $x + y \leq 1$, עדיין נמצא מחוץ לתחום.
- 4 ג. (3, 2)
- 5 מינימום : $f(1, 4) = -2$.
- 6 מינימום : $f(-2, -2) = -6$, מקסימום : $f(1.5, 1.5) = 4.5$.
- 7 ב. מקסימום : $f(7, 2) = 96$. ג. נקודות בתחום על הקו $y = 2x - 1$, לדוגמא : (2, 3) ; (3, 5) ; (4, 7).
- 8 ב. מקסימום בנקודה (7.5, 2.5). ג. לדוגמא : (2, 4) ; (1, 3) ; (3, 5).

אלגברה ליניארית

פרק 6 - וקטורים גיאומטרים

תוכן העניינים

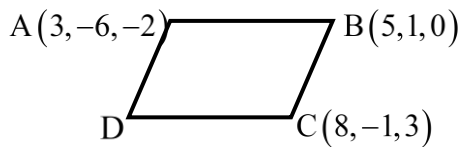
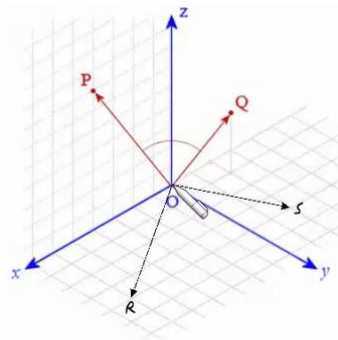
42	1. וקטורים
49	2. מכפלה וקטורית ומכפלה מעורבת
51	3. שימושי מכפלה וקטורית לגיאומטריה אנליטית במרחב

וקטורים

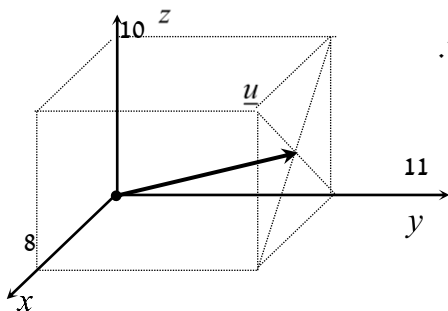
הערת סימון: נסמן את הווקטור u כך \underline{u} . סימונים מקובלים נוספים הם: \vec{u}, \vec{u} .
את גודל הווקטור \underline{u} נסמן כך $|\underline{u}|$. סימון מקובל נוסף הוא $\|\underline{u}\|$.
גודל וקטור נקרא גם אורך הווקטור וגם הנורמה של הווקטור.

שאלות

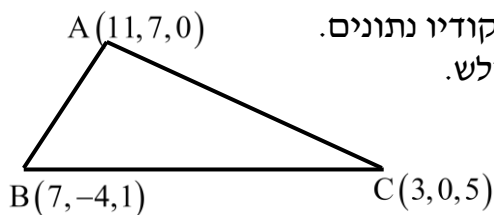
(1) רשמו את נוסחת כל אחד מהווקטורים $\vec{P}, \vec{Q}, \vec{R}, \vec{S}$ שבאיור. הניחו שאורך ורוחב כל משבצת באיור הוא יחידה אחת.



(2) בשרטוט הבא נתונה מקבילית, ששיעורי שלושה מקדקודיה נתונים. מצאו את שיעורי הקדקוד D. רמז: היעזר בנוסחת אמצע קטע.



(3) נתונה תיבה שמידותיה מצוינות במערכת הצירים. מצאו מהו הווקטור \underline{u} על פי השרטוט.



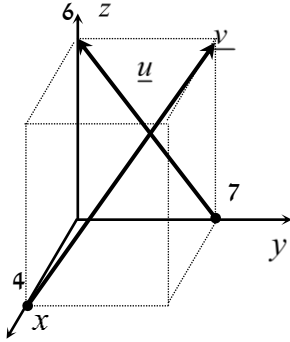
(4) בשרטוט הבא נתון משולש ששיעורי קדקודיו נתונים. מצאו את שיעורי מפגש התיכונים במשולש.

(5) ענו על הסעיפים הבאים (אין קשר בין הסעיפים):

א. מצאו את הווקטור \overline{EF} , אם נתונות הנקודות $E(2,0,-3)$ ו- $F(7,-1,-3)$.

ב. מצאו את שיעורי הנקודה N , אם נתונה הנקודה $M(0,-4,1)$

והווקטור $\overline{MN} = (-1,-1,9)$.



(6) נתונה תיבה שמידותיה מצוינות במערכת הצירים שלפניך. מצאו מהו הווקטור \underline{u} ומהו הווקטור \underline{v} .

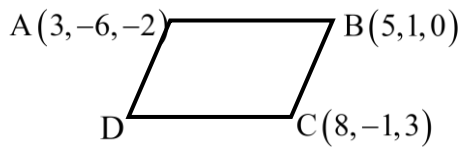
(7) מצאו את x , y ו- z , אם נתון ש- $\underline{u} = \underline{v}$, כאשר $\underline{u} = (4, -1, 2)$, $\underline{v} = (z-2, y+1, x-3)$.

(8) נתונות הנקודות הבאות:

$A(1,0,2)$, $B(3,7,-4)$, $C(6,9,0)$, $D(7,4,10)$, $E(9,11,4)$

א. הראו כי: $\overline{AB} = \overline{DE}$.

ב. האם ניתן לומר כי גם $\overline{AD} = \overline{BC}$? נמק.



(9) בשרטוט נתונה מקבילית, ששיעורי שלושה מקדקודיה נתונים. מצאו את שיעורי הקדקוד D . * אין להיעזר בפתרון בנוסחת אמצע קטע.

בשאלות 10-16 נתונים הווקטורים: $\underline{w} = (2, 6, -5)$, $\underline{v} = (4, -2, -6)$, $\underline{u} = (-3, 1, 4)$.
 * בשאלות 13, 14, 16 הסבירו את משמעות התוצאות מבחינה גיאומטרית.

(10) חשבו:

א. $2\underline{u}$ ב. $-0.5\underline{v}$ ג. $3\underline{u} - 2\underline{v}$

(11) חשבו:

א. $0.25\underline{v} - 0.5\underline{u}$ ב. $\underline{v} - 0.5\underline{u} + 2\underline{w}$

(12) $2\underline{v} - \underline{u} + 4\underline{w}$

(13) $\underline{u} / |\underline{u}|$

(14) $d(\underline{u}, \underline{v})$

(15) $\underline{v} \cdot \underline{u} + 2\underline{w} \cdot \underline{v}$

(16) $\text{proj}(\underline{u}, \underline{v})$

בשאלות 17-19 נתונות הנקודות: $A(1, -3, 0)$, $B(4, 2, -1)$, $C(3, -1, 2)$,
 ויש למצוא את הווקטורים:

(17) $\overline{AC} + \overline{AB}$

(18) $2\overline{AC} - 4\overline{AB}$

(19) $2\overline{AC} + \overline{AB} - \overline{BC}$

(20) נתונים ארבעת קדקודי המרובע ABCD:

$A(-4, 2, 1)$, $B(0, 2, -1)$, $C(-3, -5, 0)$, $D(-7, -5, 2)$

הוכיחו כי המרובע הוא מקבילית.

- (21)** נתונים ארבעת קדקודי המרובע ABCD :
 $A(1, 2, 0)$, $B(-2, 5, 3)$, $C(-1, 8, 4)$, $D(4, 3, -1)$
 א. הוכיחו כי המרובע הוא טרפז.
 ב. האם הטרפז שווה שוקיים?
- (22)** חשבו את הזווית שבין הווקטורים \underline{u} ו- \underline{v} , כאשר :
 א. $\underline{u} = (-2, 2, 5)$, $\underline{v} = (4, 0, 1)$
 ב. $\underline{u} = (6, -3, 1)$, $\underline{v} = (2, 5, 3)$
 ג. $\underline{u} = (-2, 1, 3)$, $\underline{v} = (4, -2, -6)$
- (23)** מצאו את שטחו של משולש ABC , שקדקודיו הם :
 $A(-3, 2, 1)$, $B(0, 3, 2)$, $C(5, -1, 0)$
- (24)** נתונים הווקטורים : $\underline{u} = (2, -1, 0)$, $\underline{v} = (5, 0, 3)$
 מצאו וקטור \underline{w} , שמכפלתו ב- \underline{u} היא 0 ומכפלתו ב- \underline{v} היא 0 ,
 אם ידוע שגודלו הוא $\sqrt{70}$.
- (25)** מצאו וקטור שמאונך לשני הווקטורים $(3, 2, 1)$ ו- $(1, -1, 2)$,
 ושמרחקו מהווקטור $(1, 1, 0)$ הוא $\sqrt{3}$.
- (26)** ענו על שני הסעיפים הבאים :
 א. הוכיחו כי $\underline{u} \perp \underline{v} \Leftrightarrow |\underline{u} + \underline{v}| = |\underline{u} - \underline{v}|$
 הסבירו מהו הפירוש הגיאומטרי של תכונה זו במישור.
 ב. הוכיחו כי $\underline{u} \perp \underline{v} \Leftrightarrow |\underline{u} + \underline{v}|^2 = |\underline{u}|^2 + |\underline{v}|^2$
 הסבירו מהו הפירוש הגיאומטרי של תכונה זו במישור.
- (27)** ענו על חמשת הסעיפים הבאים :
 א. הוכיחו כי $|\underline{u} + \underline{v}|^2 = |\underline{u}|^2 + 2\underline{u} \cdot \underline{v} + |\underline{v}|^2$
 ב. הוכיחו כי $|\underline{u} - \underline{v}|^2 = |\underline{u}|^2 - 2\underline{u} \cdot \underline{v} + |\underline{v}|^2$
 ג. הוכיחו כי $(\underline{u} - \underline{v})(\underline{u} + \underline{v}) = |\underline{u}|^2 - |\underline{v}|^2$
 ד. הוכיחו כי $|\underline{u} + \underline{v}|^2 + |\underline{u} - \underline{v}|^2 = 2|\underline{u}|^2 + 2|\underline{v}|^2$
 תנו פירוש גיאומטרי לתוצאה במישור.
 ה. הוכיחו כי $\frac{1}{4}(|\underline{u} + \underline{v}|^2 - |\underline{u} - \underline{v}|^2) = \underline{u} \cdot \underline{v}$

(28) יהיו $u, v \in \mathbb{R}^n$ וקטורים שונים מ-0, אורתוגונליים זה לזה ובעלי אותה נורמה. נגדיר $a = u - 2v$, $b = 3u + v$. אם α היא הזווית בין a ל- b , אז $\cos \alpha$ שווה ל-?

(29) יהיו $w_1, w_2 \in \mathbb{R}^n$ וקטורים שונים מ-0, אורתוגונליים זה לזה ובעלי נורמה k . יהי $v = \alpha w_1 + \frac{3}{4} w_2$ וקטור שמרחקו מ- $2w_2$ שווה למרחקו מ- w_1 . מהו המרחק של v מ- w_1 ?

(30) יהיו $u, v \in \mathbb{R}^n$ וקטורי יחידה המקיימים $\|u - v\| = 2$. הוכיחו ש- u ו- v הם בהכרח כפולה בסקלר אחד של השני.

תשובות סופיות

$$\vec{P} = (4, 0, 7), \quad \vec{Q} = (-2, 1, 3), \quad \vec{R} = (6, 4, 0), \quad \vec{S} = (-2, 4, 0) \quad (1)$$

$$D = (6, -8, 1) \quad (2)$$

$$\underline{u} = (4, 11, 5) \quad (3)$$

$$M = (7, 1, 2) \quad (4)$$

$$N = (-1, -5, 10) \quad \text{ב.} \quad \vec{EF} = (5, -1, 0) \quad \text{א.} \quad (5)$$

$$\underline{u} = (0, -7, 6), \quad \underline{v} = (-4, 7, 6) \quad (6)$$

$$z = 6, \quad y = -2, \quad x = 5 \quad \text{א.} \quad (7)$$

$$\text{א. הוכחה.} \quad \text{ב. לא.} \quad (8)$$

$$D = (6, -8, 1) \quad (9)$$

$$\text{א.} \quad (-6, 2, 8) \quad \text{ב.} \quad (-2, 1, 3) \quad \text{ג.} \quad (-17, 7, 24) \quad (10)$$

$$\text{א.} \quad (2.5, -1, -3.5) \quad \text{ב.} \quad (9.5, 9.5, -18) \quad (11)$$

$$(19, 19, -36) \quad (12)$$

$$\left(\frac{-3}{\sqrt{20}}, \frac{1}{\sqrt{20}}, \frac{4}{\sqrt{20}} \right) \quad (13)$$

$$\sqrt{158} \quad (14)$$

$$14 \quad (15)$$

$$\underline{u}^* \quad (16)$$

$$(5, 7, 1) \quad (17)$$

$$(-8, -16, 8) \quad (18)$$

$$(8, 12, 0) \quad (19)$$

$$\text{שאלת הוכחה.} \quad (20)$$

$$\text{א. שאלת הוכחה.} \quad \text{ב. כן.} \quad (21)$$

$$\text{א.} \quad \alpha = 97.277^\circ \quad \text{ב.} \quad \alpha = 90^\circ \quad \text{ג.} \quad \alpha = 180^\circ \quad (22)$$

$$S_{\triangle ABC} = 10.173 \quad \text{יח"ש.} \quad (23)$$

$$(-3, -6, 5) \quad (24)$$

$$v = \left(\frac{1}{\sqrt{3}}, -\frac{1}{\sqrt{3}}, -\frac{1}{\sqrt{3}} \right) \quad \text{or} \quad v = \left(-\frac{1}{\sqrt{3}}, \frac{1}{\sqrt{3}}, \frac{1}{\sqrt{3}} \right) \quad (25)$$

$$\text{שאלת הוכחה.} \quad (26)$$

$$\text{שאלת הוכחה.} \quad (27)$$

$$\frac{1}{\sqrt{50}} \quad (28)$$

$$\frac{5}{4}k \quad (29)$$

(30) שאלת הוכחה.

מכפלה וקטורית ומכפלה מעורבת

שאלות

$$(1) \quad \text{נתון: } u = \begin{pmatrix} 1 \\ 0 \\ 1 \end{pmatrix}, v = \begin{pmatrix} 0 \\ 1 \\ 1 \end{pmatrix}, w = \begin{pmatrix} 0 \\ 1 \\ 0 \end{pmatrix}$$

חשבו: $(u \times v) \times w$.

$$(2) \quad \text{חשבו את שטח המשולש, שקדקודיו: } A(8, 2, 3), B(4, -1, 2), C(-8, 0, 4)$$

(3) נתונים שלושה וקטורים u, v, w במרחב.

$$\text{ידוע כי: } |u| \neq 0, \quad u \cdot w = 0, \quad u \times v = 0,$$

$$\text{הוכיחו כי: } v \cdot w = 0.$$

(4) נתונים שני וקטורים u, v במרחב.

$$\text{ידוע כי: } |v| = 4, \quad |u| = 1, \quad u \perp v$$

$$\text{חשבו: } |(u+v) \times (u-v)|$$

$$(5) \quad \text{נתון } u = \begin{pmatrix} 1 \\ 2 \\ 3 \end{pmatrix}, v = \begin{pmatrix} 4 \\ 5 \\ 6 \end{pmatrix}, w = \begin{pmatrix} 7 \\ 8 \\ 10 \end{pmatrix}$$

חשבו:

$$\text{א. } u \cdot (v \times w) \quad \text{ב. } v \cdot (w \times u) \quad \text{ג. } (u \times v) \cdot w$$

(6) ענו על הסעיפים הבאים:

א. חשבו את נפח המקבילון שקדקודיו $A(1, 1, 1), B(2, 2, 2), C(3, 0, 2), D(4, 1, 1)$

ב. חשבו את נפח הפירמידה שקדקודה $A(1, 1, 1), B(2, 2, 2), C(3, 0, 2), D(4, 1, 1)$

(7) חשבו את נפח הפירמידה שקדקודה $A(2, 2, 5), B(1, -1, -4), C(3, 3, 10), D(8, 6, 3)$

8 נתון מקבילון הבנוי על וקטורים a, b, c .
הוכיחו כי נפח המקבילון, הבנוי על הווקטורים $a, a-b, a+b-4c$,
שווה לפי 4 מנפח המקבילון הנתון.

9 נתונים שלושה וקטורים u, v, w במרחב.
הוכיחו כי $[(u+v) \times (v+w)](u+w) = 2w \cdot (u \times v)$.

10 נתונים שלושה וקטורים u, v, w במרחב.
ידוע כי: $u \cdot (v \times w) = 4$.
חשבו:

א. $u \cdot (w \times v)$

ב. $(v \times w) \cdot u$

ג. $w \cdot (u \times v)$

ד. $v \cdot (u \times w)$

11 נתונים שלושה וקטורים a, b, c במרחב.
מהי הנוסחה עבור $a \times b \times c$?

תשובות סופיות

(1) $\begin{pmatrix} -1 \\ 0 \\ -1 \end{pmatrix}$

(2) $S = 22.5$

(3) שאלת הוכחה.

(4) 8

(5) א. -3 ב. -3 ג. -3

(6) א. -6 ב. 1

(7) $9\frac{1}{3}$

(8) שאלת הוכחה.

(9) שאלת הוכחה.

(10) א. -4 ב. 4 ג. 4 ד. 4

(11) אין לו נוסחה.

שימושי מכפלה וקטורית לגיאומטריה אנליטית במרחב

שאלות

(1) הוכיחו שהנקודות הבאות נמצאות על מישור אחד:
 $A = (1, 2, 1)$, $B(1, 1, 1)$, $C = (2, 1, 2)$, $D(2, 2, 2)$

(2) מצאו את מרחק הנקודה $A(3, -2, 1)$ מהישר $L: (-10, 8, -8) + t(2, -1, 2)$.

(3) נתונים שני ישרים:

$$L_1: \frac{x-2}{2} = 3-y = \frac{z-4}{3}, \quad L_2: x+7 = y-5, z=3$$

- א. הוכיחו שהישרים מצטלבים.
 ב. מצאו את המרחק בין הישרים.

תשובות סופיות

(1) שאלת הוכחה.

(2) $\sqrt{26}$

(3) א. שאלת הוכחה. ב. 5.7735

אלגברה ליניארית

פרק 7 - אלגברה בוליאנית

תוכן העניינים

1. אלגברה בוליאנית (ללא ספר)

אלגברה ליניארית

פרק 8 - ערכים עצמיים-וקטורים עצמיים-לכסון מטריצות - דימיון

תוכן העניינים

52	1. לכסון מטריצות - תרגילי חישוב
56	2. לכסון מטריצות – תרגילי תיאוריה
68	3. חקירת הלכסינות של מטריצה עם פרמטרים
72	4. דמיון מטריצות

לכסון מטריצות – תרגילי חישוב

שאלות

עבור כל אחת מהמטריצות בשאלות 1-4:

- א. מצאו מטריצה אופיינית.
- ב. מצאו פולינום אופייני.
- ג. מצאו ערכים עצמיים ואת הריבוב האלגברי של כל ערך עצמי.
- ד. מצאו מרחבים עצמיים ואת הריבוב הגיאומטרי של כל ערך עצמי.
- ה. מצאו וקטורים עצמיים.
- ו. קבעו האם המטריצה ניתנת ללכסון.
- ז. במידה והמטריצה ניתנת ללכסון, לכסנו אותה. כלומר, מצאו מטריצה הפיכה P , כך ש- $P^{-1}AP = D$, באשר D מטריצה אלכסונית.
- ח. במידה והמטריצה ניתנת ללכסון, חשבו A^{2009} .
- ט. מצאו את הפולינום המינימלי.
- י. קבעו האם המטריצה הפיכה לפי ערכיה העצמיים. במידה והמטריצה הפיכה, בטאו את A^{-1} בעזרת A ו- I בלבד, תוך שימוש במשפט קיילי המילטון.

$$A = \begin{pmatrix} 1 & 1 & 0 \\ 0 & 1 & 0 \\ 0 & 0 & 2 \end{pmatrix} \quad (2)$$

$$A = \begin{pmatrix} 0 & 2 & -1 \\ 0 & 2 & -1 \\ 0 & 1 & 0 \end{pmatrix} \quad (1)$$

$$A = \begin{pmatrix} -1 & 3 & 0 \\ 3 & -1 & 0 \\ -2 & -2 & 6 \end{pmatrix} \quad (4)$$

$$A = \begin{pmatrix} 1 & 0 & 1 \\ 0 & 1 & 0 \\ 1 & 0 & 1 \end{pmatrix} \quad (3)$$

- עבור כל אחת מהמטריצות בשאלות 5-6 מצאו ערכים עצמיים ו-וקטורים עצמיים. במידה והמטריצה ניתנת ללכסון, לכסנו אותה. כלומר, מצאו מטריצה הפיכה P , כך ש- $P^{-1}AP = D$, כאשר D מטריצה אלכסונית. פתרו פעם מעל \mathbb{C} ופעם מעל \mathbb{R} .

$$A = \begin{pmatrix} 2 & -1 \\ 1 & 4 \end{pmatrix} \quad (6)$$

$$A = \begin{pmatrix} 3 & -2 \\ 4 & -1 \end{pmatrix} \quad (5)$$

עבור כל אחת מהמטריצות בשאלות 7-11 מצאו ערכים עצמיים ו-וקטורים עצמיים:

$$A = \begin{pmatrix} 1 & -1 & 4 \\ 3 & 2 & -1 \\ 2 & 1 & -1 \end{pmatrix} \quad (8)$$

$$A = \begin{pmatrix} 4 & -1 & -1 \\ 1 & 2 & -1 \\ 1 & -1 & 2 \end{pmatrix} \quad (7)$$

$$A = \begin{pmatrix} 1 & 1 \\ 4 & 1 \end{pmatrix} \quad (10)$$

$$A = \begin{pmatrix} 1 & 1 & 2 \\ 1 & 2 & 1 \\ 2 & 1 & 1 \end{pmatrix} \quad (9)$$

$$A = \begin{pmatrix} 1 & 1 & -1 \\ -1 & 1 & 1 \\ 1 & -1 & 1 \end{pmatrix} \quad (11)$$

(12) תהי A מטריצה ממשית ריבועית מסדר 3×3 .

ידוע כי הווקטורים העצמיים של המטריצה הם $v_1 = \begin{pmatrix} 0 \\ 0 \\ 1 \end{pmatrix}$, $v_2 = \begin{pmatrix} 1 \\ 1 \\ 1 \end{pmatrix}$, $v_3 = \begin{pmatrix} -1 \\ 1 \\ 0 \end{pmatrix}$

והם מתאימים לערכים העצמיים: $\lambda_1 = 6$, $\lambda_2 = 2$, $\lambda_3 = -4$.

מצאו את המטריצה A .

(13) קבעו האם קיימת מטריצה ממשית ריבועית מסדר 3×3 ,

בעלת וקטורים עצמיים $v_1 = \begin{pmatrix} 1 \\ 2 \\ 3 \end{pmatrix}$, $v_2 = \begin{pmatrix} 4 \\ 5 \\ 6 \end{pmatrix}$, $v_3 = \begin{pmatrix} 7 \\ 8 \\ 9 \end{pmatrix}$

המתאימים לערכים העצמיים: $\lambda_1 = 1$, $\lambda_2 = 2$, $\lambda_3 = 3$.

במידה וקיימת מטריצה כזאת, מצאו אותה.

תשובות סופיות

$$\text{א. } \begin{bmatrix} x & -2 & 1 \\ 0 & x-2 & 1 \\ 0 & -1 & x \end{bmatrix} \quad \text{ב. } p(x) = x(x-1)^2 \quad \text{ג. } x=0, x=1 \quad \text{ד. } (1) \quad \text{ט. } m(x) = x(x-1)^2 \quad \text{י. } \text{לא הפיכה.}$$

הריבוב האלגברי של $x=1$ הוא 2, והריבוב האלגברי של $x=0$ הוא 1.

ד. $V_{x=1} = sp\{\langle 1, 1, 1 \rangle\}$ – ריבוב גיאומטרי: 1.

ה. $V_{x=0} = sp\{\langle 1, 0, 0 \rangle\}$ – ריבוב גיאומטרי: 1.

ה. $\langle 1, 1, 1 \rangle, \langle 1, 0, 0 \rangle$ – ו-ח. לא ניתנת.

ט. $m(x) = x(x-1)^2 \quad \deg = 3$ – הפולינום האופייני הוא גם הפולינום המינימלי.
י. לא הפיכה.

$$\text{א. } \begin{bmatrix} x-1 & -1 & 0 \\ 0 & x-1 & 0 \\ 0 & 0 & x-2 \end{bmatrix} \quad \text{ב. } p(x) = (x-1)^2(x-2) \quad \text{ג. } x=1, x=2 \quad \text{ד. } (2) \quad \text{ט. } m(x) = (x-1)^2(x-2) \quad \text{י. } \text{לא הפיכה.}$$

הריבוב האלגברי של $x=1$ הוא 2, והריבוב האלגברי של $x=2$ הוא 1.

ד. $V_{x=1} = sp\{\langle 1, 0, 0 \rangle\}$ – ריבוב גיאומטרי: 1.

ה. $V_{x=2} = sp\{\langle 0, 0, 1 \rangle\}$ – ריבוב גיאומטרי: 1.

ה. $\langle 0, 0, 1 \rangle, \langle 1, 0, 0 \rangle$ – ו-ח. לא ניתנת.

ט. $m(x) = (x-1)^2(x-2) \quad \deg = 3$ – הפולינום האופייני הוא גם המינימלי.
י. הפיכה.

$$\text{א. } \begin{bmatrix} x-1 & 0 & -1 \\ 0 & x-1 & 0 \\ -1 & 0 & x-1 \end{bmatrix} \quad \text{ב. } p(x) = x(x-1)(x-2) \quad \text{ג. } x=0, x=1, x=2 \quad \text{ד. } (3) \quad \text{ט. } m(x) = x(x-1)(x-2) \quad \text{י. } \text{לא הפיכה.}$$

$x=0$ – ריבוב אלגברי: 1, $x=1$ – ריבוב אלגברי: 1, $x=2$ – ריבוב אלגברי: 1.

ד. $V_{x=0} = sp\{\langle -1, 0, 1 \rangle\}$ – ריבוב גיאומטרי: 1.

ה. $V_{x=1} = sp\{\langle 0, 1, 0 \rangle\}$ – ריבוב גיאומטרי: 1.

ה. $\langle 0, 1, 0 \rangle, \langle 1, 0, 1 \rangle, \langle -1, 0, 1 \rangle$ – ו. ניתנת ללכסון.
ז. $P = \begin{bmatrix} -1 & 0 & 1 \\ 0 & 1 & 0 \\ 1 & 0 & 1 \end{bmatrix}$

ח. $\begin{bmatrix} 2^{2016} & 0 & 2^{2016} \\ 0 & 1 & 0 \\ 2^{2016} & 0 & 2^{2016} \end{bmatrix}$ – ט. $m(x) = x(x-1)(x-2)$ – י. לא הפיכה.

$$p(x) = (x-6)(x-2)(x+4) \quad \text{ב.} \quad \begin{bmatrix} x+1 & -3 & 0 \\ -3 & x+1 & 0 \\ 2 & 2 & x-6 \end{bmatrix} \quad \text{א.} \quad (4)$$

$$\text{ג. } x=6, x=2, x=-4$$

1. $x=-4$ – ריבוב אלגברי: 1, $x=2$ – ריבוב אלגברי: 1, $x=6$ – ריבוב אלגברי: 1.

$$\text{ד. } V_{x=6} = \text{sp}\{\langle 0, 0, 1 \rangle\} \text{ – ריבוב גיאומטרי: 1.}$$

$$V_{x=2} = \text{sp}\{\langle 1, 1, 1 \rangle\} \text{ – ריבוב גיאומטרי: 1.}$$

$$V_{x=-4} = \text{sp}\{\langle -1, 1, 0 \rangle\} \text{ – ריבוב גיאומטרי: 1.}$$

$$P = \begin{bmatrix} 0 & 1 & -1 \\ 0 & 1 & 1 \\ 1 & 1 & 0 \end{bmatrix} \quad \text{ז.} \quad \text{ה. } \langle 0, 0, 1 \rangle, \langle -1, 1, 0 \rangle, \langle 1, 1, 1 \rangle \quad \text{ו. ניתנת ללכסון.}$$

$$\frac{1}{2} \begin{bmatrix} 2^{2017} + (-4)^{2017} & 2^{2017} - (-4)^{2017} & 0 \\ 2^{2017} - (-4)^{2017} & 2^{2017} + (-4)^{2017} & 0 \\ -6^{2017} + 2^{2017} & -6^{2017} + 2^{2017} & 2 \cdot 6^{2017} \end{bmatrix} \quad \text{ח.}$$

$$\text{ט. } m(x) = (x-6)(x-2)(x+4) \quad \text{י. הפיכה.}$$

(5) אין פתרונות מעל \mathbb{R} , ולכן אין ערכים עצמיים ווקטורים עצמיים.

$$\text{מעל } \mathbb{C}: x = 1 \pm 2i, \quad \mathbf{v}_{x=1+2i} = \langle 1+i, 2 \rangle, \quad \mathbf{v}_{x=1-2i} = \langle 1-i, 2 \rangle$$

$$A = \begin{bmatrix} 1+i & 1-i \\ 2 & 2 \end{bmatrix}, \quad D = \begin{bmatrix} 1+2i & 0 \\ 1 & 1-2i \end{bmatrix}$$

(6) ערכים עצמיים: $x=3$, וקטורים עצמיים: $\mathbf{v}_{x=3} = \langle -1, 1 \rangle$. לא ניתנת ללכסון.

(7) ערכים עצמיים: $x_1=2, x_{2,3}=3$

$$\text{וקטורים עצמיים: } V_{x=2} = (1, 1, 1), \quad v_{x=3}^{(1)} = (1, 0, 1), \quad v_{x=3}^{(2)} = (1, 1, 0)$$

$$(8) \quad \mathbf{v}_{x=-2} = (-1, 1, 1), \quad \mathbf{v}_{x=3} = (1, 2, 1), \quad \mathbf{v}_{x=1} = (-1, 4, 1), \quad x=1, x=3, x=-2$$

$$(9) \quad \mathbf{v}_{x=-1} = (-1, 0, 1), \quad \mathbf{v}_{x=4} = (1, 1, 1), \quad \mathbf{v}_{x=1} = (1, -2, 1), \quad x=1, x=4, x=-1$$

$$(10) \quad \mathbf{v}_{x=3} = (1, 2), \quad \mathbf{v}_{x=1} = (-1, 2), \quad x=-1, x=3$$

$$(11) \quad \mathbf{v}_{x=1+\sqrt{3}i} = (1-\sqrt{3}i, 1+\sqrt{3}i, -2), \quad \mathbf{v}_{x=1} = \langle 1, 1, 1 \rangle, \quad x=1, x=1 \pm \sqrt{3}i$$

$$\mathbf{v}_{x=1-\sqrt{3}i} = (1+\sqrt{3}i, 1-\sqrt{3}i, -2)$$

$$A = \begin{bmatrix} -1 & 3 & 0 \\ 3 & -1 & 0 \\ -2 & -2 & 6 \end{bmatrix} \quad (12)$$

(13) אין כזו מטריצה.

לכסון מטריצות – תרגילי תיאוריה

שאלות

(1) נתונה מטריצה ריבועית A . הוכיחו או הפריכו:

- א. 0 ערך עצמי של המטריצה A , אם ורק אם המטריצה איננה הפיכה.
 ב. אם A הפיכה ו- λ ע"ע של A , אז $\frac{1}{\lambda}$ הוא ערך עצמי של A^{-1} .
 ג. ל- A ול- A^T יש את אותו פולינום אופייני.
 ד. ל- A ול- A^T יש את אותם וקטורים עצמיים.
 ה. אם סכום האיברים בכל שורה של A הוא λ , אז λ הוא ע"ע של A .
 ו. אם $A^{-1} = A^T$ ואם λ הוא ע"ע של A , אז $\lambda = \pm 1$.
 ז. אם $A^2 = A$ ואם λ הוא ע"ע של A , אז $\lambda = 0$ או $\lambda = 1$.

(2) פתרו את 2 הסעיפים הבאים:

- א. ידוע שלמטריצה A יש וקטור עצמי v השייך לערך העצמי 4. נתונה המטריצה $B = A^4 - 2A^2 + 10A - 4I$. הוכיחו ש- v וקטור עצמי גם של המטריצה B וחשבו את הערך העצמי המתאים לו.
 ב. נתון ש- v וקטור עצמי של מטריצה A השייך לערך עצמי λ . יהי $p(x)$ פולינום. הוכיחו ש- v ו"ע של המטריצה $p(A)$ השייך לערך עצמי $p(\lambda)$.

(3) פתרו את 2 הסעיפים הבאים:

- א. נתונה מטריצה ריבועית A מסדר 2.
 1. הוכיחו כי הפולינום האופייני של המטריצה שווה ל-

$$p(x) = x^2 - \text{tr}(A)x + |A|$$

 2. נתון כי $\text{tr}(A) = 4$. חשבו את $|A|$, אם ידוע בנוסף שלמטריצה יש ערך עצמי אחד.
 ב. נתונה מטריצה ריבועית A מסדר n . נניח כי $p(x) = x^n + a_{n-1}x^{n-1} + \dots + a_1x + a_0$ הפולינום האופייני של A . הוכיחו כי $a_{n-1} = -\text{tr}(A)$, $a_0 = (-1)^n |A|$.

(4) נתונה מטריצה A מסדר n .
הוכיחו:

א. λ עי"ע של $A \Leftrightarrow \text{rank}(A - \lambda I) < n$.

ב. הריבוי הגיאומטרי של עי"ע λ שווה ל- $n - \text{rank}(A - \lambda I)$.

ג. אם $\text{rank}(A) = k < n$ אז 0 עי"ע של המטריצה A מריבוי גיאומטרי $n - k$.
מה ניתן לומר על הריבוי האלגברי במקרה זה.

(5) נתונה מטריצה ריבועית B מסדר 4. ידוע כי $\text{rank}(B) = 1$.
הוכיחו:

א. 0 עי"ע של המטריצה B .

ב. הריבוי הגיאומטרי של העי"ע 0 הוא 3.

ג. הריבוי האלגברי של העי"ע 0 הוא 3 או 4.

ד. למטריצה B לכל היותר 2 ערכים עצמיים.

ה. אם למטריצה B עי"ע פרט ל-0 אז הוא שווה ל- $\text{tr}(B)$.

(6) נתונה מטריצה $A = \begin{pmatrix} a & b & c \\ 4a & 4b & 4c \\ 10a & 10b & 10c \end{pmatrix}$ ($a, b, c \in \mathbb{R}$).

ידוע שלמטריצה קיים ערך עצמי $\lambda = k \neq 0$.

הוכיחו שהמטריצה ניתנת ללכסון ומצאו מטריצה אלכסונית הדומה ל- A .

(7) תהינה A ו- B מטריצות מסדר n המקיימות $AB = BA$.
נניח כי $\text{rank} A = n - 1$ ו- v וקטור עצמי השייך לערך העצמי 0 של המטריצה.
הוכיחו כי v הוא וקטור עצמי של המטריצה B .

(8) תהי A מטריצה מסדר 3 המקיימת $0 < \text{rank}(A - 10I) < \text{rank}(A - 4I) < 3$.
א. מצאו את הפולינום האופייני של המטריצה A .
ב. מצאו את הערכים העצמיים של A ואת הריבוי האלגברי והגיאומטרי של כל עי"ע.
ג. קבעו האם A ניתנת ללכסון. אם כן, מצאו מטריצה אלכסונית הדומה ל- A .
ד. קבעו האם A הפיכה?
ה. הוכיחו כי $(A - 10I)^2(A - 4I) = 0$. האם ייתכן ש- $A = 4I$ או $A = 10I$?

(9) תהי A מטריצה מסדר 5×5 , כך ש- $\det A = 12$ וגם $\rho(I + A) = \rho(2I - A) = 3$.
הוכיחו ש- A לכסינה, ורשמו מטריצה אלכסונית דומה לה.

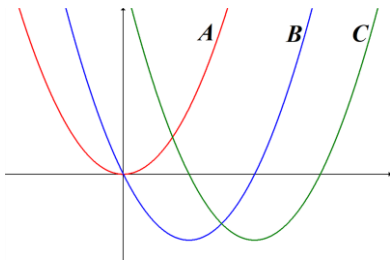
10 נתונה מטריצה $A = (a_1 \ a_2 \ \dots \ a_n)$ (מטריצה עם שורה אחת). מצאו את הערכים העצמיים של המטריצה $A^T A$ (הניחו $n > 1$).

11 תהי A מטריצה מסדר 3×3 , כך ש- $\begin{pmatrix} 1 \\ 1 \\ -1 \end{pmatrix} = \begin{pmatrix} 4 \\ 4 \\ -4 \end{pmatrix}$, וכן $\rho(2I + A) < \rho(4I - A)$.

הוכיחו ש- A לכסינה.

12 תהי A מטריצה מסדר 3×3 המקיימת $\rho(2I - A) > \rho(5I + A)$.

ידוע גם ש- $\text{span}\{(3, 1, -1)\}$ הוא מרחב הפתרונות של המערכת $A\underline{x} = 2\underline{x}$. הוכיחו ש- A לכסינה, ורשמו את כל המטריצות האלכסוניות הדומות ל- A .



13 באיור שלפניך הגרפים של הפולינום האופייני של 3 מטריצות A , B ו- C מסדר 2. ידוע שהמטריצה A ניתנת ללכסון. מצאו את הדרגה של כל אחת מהמטריצות והוכיחו שגם המטריצות B ו- C ניתנות ללכסון.

14 תהי A מטריצה ממשית מסדר 3.

נתון כי $\det(A) = \text{tr}(A) = 0$ וכי $\lambda = 1$ ערך עצמי של המטריצה. הוכיחו כי המטריצה ניתנת לליכסון ומצאו את כל הערכים העצמיים שלה.

15 יהיו $A, B \in M_2[\mathbb{R}]$.

ידוע כי $A = AB - BA$.

הוכיחו כי $A^2 = 0$.

16 תהי A מטריצה ממשית לא הפיכה מסדר 2 כך ש- $\text{tr}(A) \neq -1$.

א. הוכיחו כי $(I + A)^{-1} = I - \frac{1}{1 + \text{tr}(A)} A$.

ב. בעזרת סעיף א מצאו את $\begin{pmatrix} 2 & 1 \\ 1 & 2 \end{pmatrix}^{-1}$.

17 נתונה מטריצה ריבועית A מסדר n .
 ויהיו $\lambda_1, \lambda_2, \dots, \lambda_n$ הערכים העצמיים של המטריצה.
 הוכיחו:

א. $|A| = \prod_{i=1}^n \lambda_i$

ב. $tr(A) = \sum_{i=1}^n \lambda_i$

הערה:

הערכים העצמיים של המטריצה מתקבלים ממציאת השורשים של הפולינום האופייני מעל \mathbb{C} . בנוסף, הערכים העצמיים לא בהכרח שונים זה מזה.

18 נתונה מטריצה ממשית A מסדר 2.

- א. אם $tr(A) = 3, tr(A^2) = 5$. מצאו את $|A|$.
 ב. אם וקטורי העמודה של A מקבילים ואם $tr(A) = 5$ מצאו את $tr(A^2)$.
 ג. אם $|A| = 5$ ואם ל- A ע"ע שהם מספרים שלמים וחיוביים מהו $tr(A)$.

19 תהי A מטריצה מסדר 3 שמקיימת $|A| = 1$.

- א. אם $\frac{-1 + \sqrt{3}i}{2}$ הוא ערך עצמי של A מצאו את כל הע"ע של A .
 ב. ידוע כי $A^{100} = aA^2 + bA + cI$.
 מצאו את a, b, c .

20 ענו על הסעיפים הבאים:

- א. הפולינום האופייני של מטריצה A הוא $p_A(x) = x^2 + bx + c$.
 מצאו את הפולינום האופייני של המטריצה $4A$.
 ב. מטריצה $A \in M_2[\mathbb{R}]$ מקיימת $|A| < 0$.
 הוכיחו שהמטריצה ניתנת ללכסון.

21 תהי A מטריצה ריבועית עם פולינום אופייני $p(t) = (t-2)^2 (t+1)^2 (t-5)^8 (t+3)^7$.

- א. מה הדרגה של A ?
 ב. ידוע שקיימת מטריצה P הפיכה כך ש- $AP = PD$, כאשר D אלכסונית.
 חשבו את הדרגה של $A - 5I$.

(22) תהי $A = \begin{pmatrix} a & c \\ c & b \end{pmatrix}$ מטריצה ממשית.

א. נסמן את העי"ע של A על ידי α ו- β . הוכיחו שהם ממשיים.

ב. הניחו ש- $\alpha = \beta$, והוכיחו ש- $A = \begin{pmatrix} \alpha & 0 \\ 0 & \alpha \end{pmatrix}$.

(23) תהי A מטריצה לכסינה מעל \mathbb{C} , שהפולינום האופייני שלה

$$p(t) = t^4 + 2it^3 + 3t^2$$

הוכיחו שהמטריצה $A^2 - 3A + I$ לכסינה מעל \mathbb{C} , ורשמו מטריצה אלכסונית הדומה לה.

(24) ענו על הסעיפים הבאים:

- א. תהי A מטריצה ריבועית מעל \mathbb{R} , בעלת פולינום אופייני $p(t) = t^3 - 2t + 5$. הוכיחו שלכל $b \in \mathbb{R}^3$ יש למערכת $Ax = b$ פתרון יחיד ומצאו את $|A|$ ו- $\text{tr}(A)$.
- ב. תהי A מטריצה ממשית, כאשר $A \neq I$, ובעלת פולינום אופייני $p(t) = (t-1)^3$. הוכיחו ש- A הפיכה, וחשבו את $\text{tr}(A - 2I)$.

(25) ענו על הסעיפים הבאים:

- א. הוכיחו ש- λ עי"ע של A אם ורק אם $A - \lambda I$ לא הפיכה.
- ב. תהי A מטריצה ריבועית, עם פולינום אופייני $p(t) = (t-1)(t+2)^{n-1}$, כאשר $n \geq 2$. הוכיחו שהמטריצה $C = A^2 + A - 2I$ לא הפיכה, ושהמטריצה $D = A^2 - 2I$ הפיכה.

(26) ענו על הסעיפים הבאים:

- א. הגדירו והדגימו את המונח מטריצה נילפוטנטית.
- ב. הוכיחו שכל הערכים העצמיים של מטריצה נילפוטנטית הם אפס.
- ג. האם הטענה ההפוכה לטענה בסעיף ב נכונה? הוכיחו או הפריכו.
- ד. הוכיחו שאם A מטריצה נילפוטנטית מסדר n אז $A^n = 0$.
- ה. תהי A מטריצה נילפוטנטית מסדר n , ותהי $B = A - I$. מצאו את $|B|$.

(27) צטטו את המשפט בנוגע לחישוב פולינום מינימלי של מטריצת בלוקים. בעזרת המשפט לעיל חשב את הפולינום המינימלי של המטריצה הבאה:

$$\begin{pmatrix} 2 & 1 & 0 & 0 & 0 \\ 0 & 2 & 0 & 0 & 0 \\ 0 & 0 & 4 & 3 & 0 \\ 0 & 0 & 2 & 5 & 0 \\ 0 & 0 & 0 & 0 & 7 \end{pmatrix}$$

(28) תהי $A = (a_{ij})$ מטריצה שהאיברים שלה נתונים על ידי: $a_{ij} = \begin{cases} ij & i \neq j \\ 1+ij & i = j \end{cases}$.

חשבו את $|A|$.

(29) נסחו את המשפט בנוגע לחישוב פולינום אופייני של מטריצת בלוקים. בעזרת המשפט לעיל חשבו את הפולינום האופייני של המטריצה הבאה:

$$M = \begin{pmatrix} 9 & 8 & 5 & 7 \\ -1 & 3 & 2 & -4 \\ 0 & 0 & 3 & -1 \\ 0 & 0 & 6 & 8 \end{pmatrix}$$

ב. הוכיחו את המשפט מסעיף א.

(30) נתונות שתי מטריצות ריבועיות, A ו- B , מסדר n . הוכיחו או הפריכו:

א. ל- AB ו- BA אותם ערכים עצמיים.

ב. נניח ש- v וקטור עצמי, שונה מאפס, של A ו- B ,

אז v גם הוא וקטור עצמי של המטריצה $4A+10B$.

(31) תהי A מטריצה ריבועית הניתנת ללכסון.

א. הוכיחו כי לכל סקלר k , המטריצה $A+kI$ ניתנת ללכסון.

ב. אם 4 הוא ערך עצמי של המטריצה A , מצאו את הערך העצמי

של המטריצה $A+kI$.

(32) תהי A מטריצה ממשית מסדר 3×3 . ידוע כי v_1, v_2 הם ו"ע של A , שונים מאפס,

המתאימים לע"ע $\lambda = 1$, וכי v_3 הוא ו"ע, שונה מאפס, המתאים לע"ע $\lambda = -1$.

הוכיחו או הפריכו כל אחת מהטענות:

א. אם הווקטורים v_1, v_2 בת"ל, אז $A^{2018} = I$.

ב. A ניתנת ללכסון.

ג. v_3 הוא צרוף לינארי של הווקטורים v_1, v_2 .

(33) הוכיחו או הפריכו :

- א. כל מטריצה הניתנת ללכסון היא הפיכה.
 ב. כל מטריצה הניתנת ללכסון היא לא הפיכה.
 ג. כל מטריצה הפיכה ניתנת ללכסון.
 ד. קיימת מטריצה A אשר הווקטור $\begin{pmatrix} 4 \\ 1 \\ 10 \end{pmatrix}$ הוא ו"ע שלה השייך לע"ע 14.

(34) נתונות שתי מטריצות מסדר n : מטריצה B הניתנת ללכסון ומטריצה Q הפיכה. הוכיחו או הפריכו :

- א. המטריצה $Q^{-1}BQ$ אלכסונית.
 ב. המטריצה $Q^{-1}BQ$ ניתנת ללכסון.
(35) נסמן ב- W את קבוצת כל המטריצות מסדר n , שעבורן v הוא ו"ע.
 א. הוכיחו כי W תת מרחב של מרחב המטריצות מסדר n .
 ב. עבור $v = \begin{pmatrix} 4 \\ 0 \end{pmatrix}$, $n = 2$, מצאו בסיס ל- W .

(36) תהי $A = \begin{pmatrix} 1 & a \\ 4 & 1 \end{pmatrix}$, כאשר a קבוע ממשי.

- א. עבור $a = 3$, תנו דוגמה לזוג $\begin{pmatrix} x \\ y \end{pmatrix}$ שאינו וקטור עצמי של A .
 ב. עבור איזה ערך של a , הזוג $\begin{pmatrix} 1 \\ 2 \end{pmatrix}$ הוא וקטור עצמי של A ?
 ג. יהי $0 \neq u \in \mathbb{R}^2$ וקטור שאינו ו"ע של A .
 הוכיחו כי הקבוצה $\{u, Au\}$, מהווה בסיס של \mathbb{R}^2 .

(37) מטריצה ריבועית A תיקרא אידמפוטנטית, אם $A^2 = A$.
תהי A מטריצה אידמפוטנטית.

- א. הוכיחו כי הערכים העצמיים של A הם 0 או 1 בלבד.
 ב. רשמו את כל האפשרויות עבור הפולינום המינימלי של A .
 ג. הוכיחו כי הפולינום האופייני של A מתפרק לגורמים לינאריים.
 ד. הוכיחו כי A ניתנת ללכסון.
 ה. הוכיחו כי $\text{tr}(A) = \text{rank}(A)$ (סעיף זה דורש ידע בדימיון מטריצות).

- (38)** תהי A מטריצה ממשית מסדר 5. הוכיחו או הפריכו:
- קיים תת מרחב $W_\alpha = \{u \mid Au = \alpha u\}$ של R^5 , כך ש- $\dim W_\alpha \geq 1$.
 - אם u_1, u_2 ו"ע של A , אז גם הווקטור $u_1 + u_2$ ו"ע של A .
 - אם המטריצה B שקולת שורות למטריצה A , אז לשתי המטריצות אותם ערכים עצמיים.
 - אם A לכסינה מעל R , אז כל הערכים העצמיים שלה שונים זה מזה.
 - אם כל הערכים העצמיים של A שונים זה מזה, אז המטריצה A לכסינה מעל R .

- (39)** תהי A מטריצה ממשית מסדר 4, שכל הערכים העצמיים שלה ממשיים. ידוע שהערך העצמי הקטן ביותר של המטריצה הוא 2, והערך העצמי הגדול ביותר של המטריצה הוא 4. מכאן נובע ש:

- $\text{rank}(A) = 4$.
- A לכסינה.
- $\text{tr}(A) > 10$.
- $|A| \leq 127$.
- קיים וקטור עצמי v של A , כך ש- $A^2 v = 2v$.

- (40)** תהי A מטריצה ריבועית ויהי n מספר טבעי. הוכיחו או הפריכו:

- אם v וקטור עצמי של A , אז v וקטור עצמי גם של A^n .
- אם v וקטור עצמי של A^n , אז v וקטור עצמי גם של A .
- אם A לכסינה, אז A^n לכסינה.
- אם A^n לכסינה, אז A לכסינה.

- (41)** נתונה מטריצה A , שהפולינום המינימלי שלה הוא $m(x) = (x-1)^2$. הוכיחו כי המטריצה $A^2 + 4A + 3I$ הפיכה.

- (42)** הוכיחו שהערכים העצמיים של מטריצה סימטרית ממשית הם בהכרח ממשיים.

- (43)** נתונה מטריצה סימטרית ממשית A . הוכיחו שווקטורים עצמיים של A המתאימים לערכים עצמיים שונים הם אורתוגונליים.

- (44) תהי A מטריצה ממשית מסדר n .
 נתון: (1) A ניתנת ללכסון. (2) קיים k טבעי כך ש- $A^k = I$.
 צריך להוכיח: $A^2 = I$.

- (45) ענו על הסעיפים הבאים:
 א. תהי A מטריצה מסדר $n \times n$, לכסינה ובעלת דרגה 1.
 הוכיחו שהעקבה שלה שונה מ-0.
 ב. תהי A מטריצה ריבועית נילפוטנטית מסדר n .
 הוכיחו ש-0 ע"ע של A , ושהוא הע"ע היחיד שלה.

(46) נתונה המטריצה $A = \begin{pmatrix} 5 & -6 & -6 \\ -1 & 4 & 2 \\ 3 & -6 & -4 \end{pmatrix}$

- א. הוכיחו ש- A לכסינה.
 ב. האם המטריצה $B = 4A^{11} - 10A + 20I$ הפיכה?

- (47) תהי $A_{n \times n}$ מטריצה ריבועית ממשית שמקיימת $A^2 + I = 0$.
 הוכיחו את הטענות בסעיפים א'-ד':
 א. הפיכה A .
 ב. לא ניתנת לליכסון A .
 ג. לא סימטרית A .
 ד. n זוגי.
 ה. האם הטענה בסעיף ד' נשארת נכונה גם אם המטריצה A מרוכבת?

- (48) תהי A מטריצה מסדר n ויהי c קבוע.
 ידוע ש- λ ע"ע של המטריצה A עם וקטור עצמי v .
 א. הוכיחו כי $\lambda + c$ הוא ערך עצמי של המטריצה $A + cI$ עם וקטור עצמי v .
 ב. הוכיחו שהריבוי האלגברי של הע"ע λ של המטריצה A שווה לריבוי האלגברי של הע"ע $\lambda + c$ של המטריצה $A + cI$.
 ג. הוכיחו שהריבוי הגיאומטרי של הע"ע λ של המטריצה A שווה לריבוי הגיאומטרי של הע"ע $\lambda + c$ של המטריצה $A + cI$.

$$(49) \text{ נתונה מטריצה } A \text{ על ידי } a_{ij} = \begin{cases} b & i = j \\ a & i \neq j \end{cases} \text{ כאשר } 1 \leq i, j \leq n$$

חשבו את הערכים העצמיים ואת הווקטורים העצמיים של המטריצה A .
 קבעו האם המטריצה ניתנת ללכסון, אם כן, לכסנו אותה.
 בעזרת התוצאות שקיבלת חשבו גם את $|A|$.
 הערה: ניתן לפתור ללא חישוב של הפולינום האופייני.

(50) תהי A מטריצה ממשית מסדר n .
 הוכיחו:

- א. אם n אי-זוגי אז למטריצה לפחות עי"ע ממשי אחד.
 ב. אם λ עי"ע של A אז גם הצמוד המרוכב שלו $\bar{\lambda}$ הוא עי"ע של A .

(51) תהי A מטריצה מסדר n .
 הוכיחו:

- א. אם A ניתנת ללכסון ואם הערכים העצמיים שלה הם 1 או -1 אז $A^2 = I$.
 ב. אם כל הערכים העצמיים של A ממשיים וקטנים מ-1 אז $|I - A| > 0$.

(52) תהי A מטריצה אנטי-סימטרית ממשית.
 הוכיחו שכל ערך עצמי של A הוא מספר מדומה.
 תזכורת: מספר מדומה הוא מספר מהצורה bi כאשר b ממשי.

(53) ענו על הסעיפים הבאים:

- א. הגדר את המושגים מטריצה צמודה, מטריצה נורמלית ומטריצה אוניטרית.
 צטט משפט מפורסם הנוגע ללכסינות מטריצות נורמליות.
 תהי A מטריצה אנטי-סימטרית ממשית.
 ב. הוכיחו שהמטריצה A נורמלית.
 ג. הוכיחו שהדרגה של A היא זוגית.
 הערה: תרגיל זה מיועד רק למי שלמד מספרים מרוכבים.

(54) סדרה (a_n) מוגדרת רקורסיבית על ידי: $a_0 = a_1 = 1$, $a_n = 5a_{n-1} - 6a_{n-2}$.
 מצאו ביטוי סגור עבור a_n (כלומר, נוסחה לא רקורסיבית).

(55) סדרה (a_n) מוגדרת רקורסיבית על ידי: $a_0 = a_1 = 2$, $a_2 = 4$, $a_n = 2a_{n-1} + a_{n-2} - 2a_{n-3}$.
 מצאו ביטוי סגור עבור a_n (כלומר, נוסחה לא רקורסיבית).

תשובות סופיות

השאלות בנושא זה הן שאלות הוכחה.

לפתרונות מלאים היכנסו לאתר GooL.co.il.

- (1) שאלת הוכחה.
- (2) א. הערך העצמי הוא 260.
- (3) א.2. $|A| = 4$
- (4) שאלת הוכחה.
- (5) שאלת הוכחה.
- (6) $D = \text{diag}(0, 0, k)$
- (7) שאלת הוכחה.
- (8) א. $p(\lambda) = (\lambda - 10)^2(\lambda - 4)$
- ב. ע"ע 4 עם ריבוי אלגברי וגיאומטרי 1. ע"ע 10 עם ריבוי אלגברי וגיאומטרי 2.
- ג. $D = \text{diag}(10, 10, 4)$ ד. כן. ה. לא.
- (9) $\text{diag}(-1, -1, 2, 2, 3)$
- (10) $\text{tr}(A) = 0$
- (11) שאלת הוכחה.
- (12) $\text{diag}(2, -5, -5), \text{diag}(-5, 2, -5), \text{diag}(-5, -5, 2)$
- (13) $\text{rank}(A) = 0, \text{rank}(B) = 1, \text{rank}(C) = 2$
- (14) 0, 1, -1
- (15) שאלת הוכחה.
- (16) ב. $\begin{pmatrix} 2/3 & -1/3 \\ -1/3 & 2/3 \end{pmatrix}$
- (17) שאלת הוכחה.
- (18) א. $|A| = 2$ ב. $\text{tr}(A^2) = 25$ ג. $\text{tr}(A) = 6$
- (19) א. $1, \frac{-1 + \sqrt{3}i}{2}, \frac{-1 - \sqrt{3}i}{2}$ ב. $a = 0, b = 1, c = 0$
- (20) א. $p_{4A}(x) = x^2 + 4bx + 16c$
- (21) א. 19 ב. 11
- (22) שאלת הוכחה.
- (23) $\text{diag}(1, 1, -3i, -8 + 9i)$
- (24) א. $|A| = -5$ ב. $\text{tr}(A - 2I) = -3$
- (25) שאלת הוכחה.
- (26) ה. $|B| = (-1)^n$
- (27) $|A| = -384$

$$m_M(x) = (x-2)^2(x-7) \quad (28)$$

$$p_M(x) = (x-5)^2(x-6)(x-7) \quad \text{א.} \quad (29)$$

(30) שאלת הוכחה.

$$(31) \text{ ב. } 4+k$$

(32) שאלת הוכחה.

(33) שאלת הוכחה.

(34) שאלת הוכחה.

$$(35) \text{ ב. } B_W = \left\{ \begin{pmatrix} 1 & 0 \\ 0 & 0 \end{pmatrix}, \begin{pmatrix} 0 & 1 \\ 0 & 0 \end{pmatrix}, \begin{pmatrix} 0 & 0 \\ 0 & 1 \end{pmatrix} \right\}$$

$$(36) \text{ א. } \begin{pmatrix} 1 \\ 1 \end{pmatrix} \quad \text{ב. } \begin{pmatrix} 1 \\ 2 \end{pmatrix}$$

$$(37) \text{ ב. } p(x) = x, p(x) = x-1, p(x) = x(x-1)$$

(38) שאלת הוכחה.

(39) שאלת הוכחה.

(40) שאלת הוכחה.

(41) שאלת הוכחה.

(42) שאלת הוכחה.

(43) שאלת הוכחה.

(44) שאלת הוכחה.

(45) שאלת הוכחה.

(46) שאלת הוכחה.

(47) שאלת הוכחה.

(48) שאלת הוכחה.

$$(49) |A| = (b-a)^{n-1} [a(n-1) + b]$$

(50) שאלת הוכחה.

(51) שאלת הוכחה.

(52) שאלת הוכחה.

(53) שאלת הוכחה.

$$(54) a_n = 2^{n+1} - 3^n$$

$$(55) a_n = \frac{1}{3} (3 + (-1)^n + 2^{n+1})$$

חקירת הלכסינות של מטריצה

שאלות

$$(1) \text{ נתונה המטריצה } A = \begin{pmatrix} 4 & 0 & 0 \\ 1 & k & 0 \\ 1 & 0 & k \end{pmatrix}, \text{ כאשר } k \text{ קבוע ממשי.}$$

- א. לאיזה ערכים של k המטריצה לכסינה?
 ב. במקרים בהם A לכסינה מצאו מטריצה אלכסונית הדומה ל- A .

$$(2) \text{ נתון } A = \begin{pmatrix} 4 & 0 & 0 \\ 1 & k & 0 \\ 1 & 1 & k \end{pmatrix}, \text{ כאשר } k \text{ קבוע ממשי.}$$

לאיזה ערכים של k (אם בכלל) המטריצה לכסינה?

$$(3) \text{ נתונה המטריצה } A = \begin{pmatrix} 1 & 0 & 0 \\ 1 & 0 & a^2 \\ 1 & a^2 & 0 \end{pmatrix}, \text{ כאשר } a \in \mathbb{R}.$$

- א. מצאו את כל ערכי a , כך ש- A לכסינה מעל \mathbb{R} .
 ב. במקרה בו A לכסינה מצאו מטריצה אלכסונית הדומה לה.

$$(4) \text{ נתונה המטריצה } A = \begin{pmatrix} m & 1 & 1 \\ 1 & m & 1 \\ 1 & 1 & m \end{pmatrix}, \text{ כאשר } m \in \mathbb{R}.$$

עבור אילו ערכים של m , המטריצה A לכסינה?
 כאשר היא לכסינה, רשמו מטריצה אלכסונית הדומה לה.

$$(5) \text{ נתון } A = \begin{pmatrix} k-2 & 2k & k+1 \\ k-1 & -1 & 2 \\ -k & 0 & -6 \end{pmatrix}, \text{ כאשר } k \text{ קבוע ממשי חיובי.}$$

- א. לאיזה ערך של הפרמטר k המספר 2 יהיה ערך עצמי של המטריצה A ?
 עבור ערך ה- k שמצאת בסעיף א:
 ב. מצאו את הריבוי האלגברי והריבוי הגיאומטרי של הערך העצמי 2.
 ג. הוכיחו שהמטריצה ניתנת ללכסון ומצאו מטריצה אלכסונית הדומה לה.

$$(6) \text{ נתונה המטריצה הממשית } A = \begin{pmatrix} a & b & b \\ -1 & 3 & 2 \\ 2 & -8 & -5 \end{pmatrix}$$

- א. מצאו את ערכי a ו- b עבורם הערכים העצמיים של A יהיו 1 ו-1- בלבד.
 ב. עבור ערכי a ו- b שמצאתם בסעיף א' קבעו האם המטריצה לכסינה.

$$(7) \text{ נתונה המטריצה } A = \begin{pmatrix} 2 & 0 & a-2 \\ 1 & 1 & a-2 \\ 0 & 0 & a \end{pmatrix}, \text{ מעל } \mathbb{R}.$$

- א. מצאו את כל הערכים של a , עבורם A לכסינה.
 ב. במקרים בהם A לכסינה מצאו מטריצה אלכסונית D הדומה ל- A .

$$(8) \text{ נתונה המטריצה } A = \begin{pmatrix} a^2 & 0 & a \\ 0 & 2a & 0 \\ 0 & 0 & a+2 \end{pmatrix}, \text{ כאשר } a \in \mathbb{R}.$$

- א. עבור כל ערך של a , מצאו את הערכים העצמיים של A .
 ב. עבור אילו ערכי a , המטריצה A לכסינה?
 בכל אחד מהמקרים, רשמו מטריצה אלכסונית הדומה ל- A .

$$(9) \text{ נתונה המטריצה הבאה מעל } \mathbb{R}: A = \begin{pmatrix} 0 & 0 & a \\ 1 & 0 & b \\ 0 & 1 & c \end{pmatrix},$$

- כאשר a, b, c מספרים ממשיים המקיימים $a - b + c = -1$.
 א. הוכיחו כי -1 הוא ערך עצמי של A ומצאו את הריבוי הגיאומטרי שלו.
 ב. נתון כי $a = b > 1$.
 הוכיחו כי המטריצה ניתנת ללכסון ומצאו את כל ערכיה העצמיים.

$$ג. ידוע כי $\left(\frac{b-a}{2}\right)^2 + a < 0$.$$

הוכיחו שהמטריצה לא ניתנת ללכסון.

- (10) מצאו את כל הערכים של המספרים הממשיים a, b , כך שהמטריצה

$$A = \begin{pmatrix} a & 0 & b-a \\ b & a & 0 \\ 0 & 0 & b \end{pmatrix} \text{ לכסינה.}$$

$$(11) \text{ נתונה המטריצה } A = \begin{pmatrix} a & 0 & 0 \\ b & 0 & 0 \\ 1 & 2 & 1 \end{pmatrix}$$

א. עבור אילו ערכי a, b ל A לכסינה? נמקו.

ב. בכל אחד מהמקרים ש- A לכסינה, רשמו מטריצה אלכסונית ש- A דומה לה.

$$(12) \text{ נתונה המטריצה } A = \begin{pmatrix} 3 & 0 & 0 & 0 \\ 1 & 2 & 0 & 0 \\ 0 & 0 & 2 & 0 \\ 0 & a & 0 & b \end{pmatrix}, \text{ כאשר } a, b \in \mathbb{R}$$

מצאו את כל הערכים של a ו- b , כך ש- A לכסינה.
בכל מקרה בו היא לכסינה, רשמו מטריצה אלכסונית הדומה לה.

$$(13) \text{ נתונה מטריצה ממשית } A = \begin{pmatrix} 1 & -3 & a \\ 3 & -5 & 3 \\ 1 & -1 & -1 \end{pmatrix}, \text{ כאשר } a \text{ פרמטר ממשי.}$$

ידוע ש- $\lambda = -2$ הוא ערך עצמי שלה, עם ריבוב גיאומטרי 2.

א. מהו ערכו של a ?

ב. האם המטריצה לכסינה?

$$(14) \text{ נתונה המטריצה } A = \begin{pmatrix} 0 & a & 0 & 0 \\ 0 & 0 & a & 0 \\ 0 & 0 & 0 & a \\ a & 0 & 0 & 0 \end{pmatrix}, \text{ כאשר } a \in \mathbb{R}$$

האם קיימים ערכי a , כך ש- A לכסינה מעל \mathbb{R} ? מעל \mathbb{C} ?
אם כן, עבור כל ערך כזה של a , רשמו מטריצה אלכסונית הדומה ל- A .

$$(15) \text{ נתונה המטריצה } A = \begin{pmatrix} 1 & 0 & 0 \\ 2 & -a & 2a \\ a & -a & a \end{pmatrix}, \text{ מעל } \mathbb{R}$$

מצאו את כל ערכי a עבורם A לכסינה:

א. מעל \mathbb{R} .

ב. מעל \mathbb{C} .

תשובות סופיות

- (1) א. $k \neq 4$. ב. $D = \text{diag}(4, k, k)$
- (2) המטריצה A לא ניתנת ללכסון לכל ערך של k .
- (3) א. A לכסינה אם ורק אם $a \neq \pm 1$. ב. $D = \text{diag}(1, -a^2, a^2)$
- (4) A לכסינה לכל m ודומה למשל ל- $D = \text{diag}(m-1, m-1, m+2)$
- (5) א. $k=3$. ב. ר"א $= 1$. ר"ג $= 1$. ג. $D = \text{diag}(2, -3, -5)$
- (6) א. $a=3, b=-4$ או $a=1, b=0$. ב. המטריצה לא לכסינה.
- (7) א. A לכסינה עבור כל a . ב. דומה למטריצה אלכסונית $D = \text{diag}(a, 1, 2)$.
- (8) א. אם $a \neq 0, 2, -1$, אז יש שלושה ע"ע שונים $a^2, 2a, a+2$.
 אם $a=0$, הע"ע הם 0 ו-2.
 אם $a=-1$, הע"ע הם 1 ו-2.
 אם $a=2$, יש ע"ע אחד והוא 4.
 ב. A לכסינה אם ורק אם $a \neq 2, -1$.
- במקרה זה היא דומה למטריצה $D = \text{diag}(a^2, 2a, a+2)$.
- (9) שאלת הוכחה.
- (10) אם $a=b=0$, או אם $a \neq 0$ ו- $b=0$, אז A לכסינה.
- (11) א+ב. A לכסינה בשלושה מקרים:
 כאשר $a \neq 0, 1$ ואז דומה ל- $D = \text{diag}(1, 0, a)$
 או כאשר $a=0$ וגם $b=0$ ואז דומה ל- $D = \text{diag}(0, 0, 1)$
 או כאשר $a=1$ וגם $b = -\frac{1}{2}$ ואז דומה ל- $D = \text{diag}(0, 1, 1)$
- (12) A לכסינה אם ורק אם:
 1. $b \neq 2, 3$ ואז $D = \text{diag}(3, 2, 2, b)$
 או 2. $b=2$ וגם $a=0$ ואז $D = \text{diag}(3, 2, 2, 2)$
 או 3. $b=3$ וגם $a=0$ ואז $D = \text{diag}(3, 3, 2, 2)$
- (13) א. $a=3$. ב. כן.
- (14) מעל \mathbb{R} : לכסינה אם $a=0$ ודומה ל- $D = \text{diag}(0, 0, 0, 0)$.
- מעל \mathbb{C} : לכסינה לכל a דומה ל- $D = \text{diag}(a, -a, ai, -ai)$.
- (15) א. A לכסינה מעל \mathbb{R} אם ורק אם $a=0$. ב. A לכסינה מעל \mathbb{C} לכל a .

דמיון מטריצות

שאלות

(1) ידוע ש- A ו- B מטריצות דומות. הוכיחו כי:

א. $|A| = |B|$

ב. $\text{tr}(A) = \text{tr}(B)$

ג. ל- A ו- B אותו פולינום אופייני.

(2) הוכיחו באינדוקציה: אם $P^{-1}AP = B$, אז $A^n = PB^nP^{-1}$. (3)

(3) ענו על הסעיפים הבאים:

א. ידוע כי A מטריצה ממשית מסדר n וידוע כי A דומה למטריצה $4A$. הוכיחו כי A מטריצה לא הפיכה.

ב. הוכיחו שהמטריצות $A = \begin{pmatrix} 0 & 1 \\ 0 & 0 \end{pmatrix}$, $4A = \begin{pmatrix} 0 & 4 \\ 0 & 0 \end{pmatrix}$ דומות.

(4) נתונות שתי מטריצות ממשיות: $A = \begin{pmatrix} a & b & b \\ -1 & 3 & 2 \\ 2 & -8 & -5 \end{pmatrix}$, $B = \begin{pmatrix} 2 & 0 & 0 \\ -1 & 7 & 0 \\ 9 & -17 & 6 \end{pmatrix}$

האם קיימים קבועים ממשיים a, b , כך שהמטריצה A דומה למטריצה B ?

(5) נתונות שלוש מטריצות ריבועיות מסדר n : A, B, C . הוכיחו כי:

א. A דומה לעצמה.

ב. אם A דומה ל- B , אז B דומה ל- A .

ג. אם A דומה ל- B ו- B דומה ל- C , אז A דומה ל- C .

ד. אם A דומה ל- B ושתייהן הפיכות, אז A^{-1} דומה ל- B^{-1} .

ה. אם A דומה ל- B , אז A^k דומה ל- B^k , לכל k טבעי.

ו. אם A דומה ל- B ו- $q(x)$ פולינום, אז $q(A)$ דומה ל- $q(B)$.

ז. אם A דומה ל- B , אז A^T דומה ל- B^T .

ח. אם A דומה ל- B , אז $\text{rank}(A) = \text{rank}(B)$.

ט. אם A דומה ל- B , אז $\text{Nullity}(A) = \text{Nullity}(B)$.

הערה – $\text{Nullity}(A) =$ מימד מרחב הפתרונות של המערכת ההומוגנית $Ax = 0$.

6) הוכיחו או הפריכו :

- א. אם לשתי מטריצות מסדר 3 אותו פולינום אופייני, הן דומות.
 ב. אם לשתי מטריצות מסדר 3 אותו פולינום מינימלי, הן דומות.
 ג. אם לשתי מטריצות אותו פולינום אופייני ואותו פולינום מינימלי, אז הן דומות.

ד. המטריצות הבאות דומות $A = \begin{pmatrix} 3 & 0 & 0 \\ 0 & 0 & 0 \\ 0 & 0 & 0 \end{pmatrix}$ $B = \begin{pmatrix} 1 & 1 & 1 \\ 1 & 1 & 1 \\ 1 & 1 & 1 \end{pmatrix}$

7) ידוע שלמטריצה ריבועית A מסדר 3 יש ערכים עצמיים 0, 1 ו-2. חשבו כל אחד מהבאים או הסבירו מדוע לא ניתן לעשות זאת :

א. $\text{rank}(A)$

ב. $\dim \text{Ker}(A)$

ג. $\text{tr}(A)$

ד. $|A^T A|$

ה. עייע עבור $A^T A$.

ו. עייע עבור $(4A^2 + 10A + I)^{-1}$.

הערה – $\dim \text{Ker}(A) = \text{Nullity}(A)$

8) הוכיחו כי למטריצות דומות אותו פולינום מינימלי.

9) ענו על הסעיפים הבאים :

- א. A ו- B שתי מטריצות הדומות למטריצה C .
 הוכיחו כי A דומה ל- B .

ב. הוכיחו שהמטריצות הבאות דומות: $A = \begin{pmatrix} 1 & 2 \\ 2 & 4 \end{pmatrix}$, $B = \begin{pmatrix} 1 & 1 \\ 4 & 4 \end{pmatrix}$

10) עבור אילו ערכים של x המטריצות הבאות דומות :

$$A = \begin{pmatrix} 3 & 0 & -1 \\ -2 & 1 & 1 \\ 2 & 0 & 0 \end{pmatrix}, B = \begin{pmatrix} 1 & x & 0 \\ 0 & 1 & 0 \\ -1 & x & 2 \end{pmatrix}$$

11 הוכיחו שכל אחת מהמטריצות הבאות אינה דומה לאף אחת מהאחרות:

$$A = \begin{pmatrix} 1 & 0 & 1 \\ 0 & 1 & 0 \\ 0 & 0 & 1 \end{pmatrix}, B = \begin{pmatrix} 1 & 1 & 0 \\ 0 & 1 & 1 \\ 0 & 0 & 1 \end{pmatrix}, C = \begin{pmatrix} 1 & 0 & 1 \\ 1 & 1 & 0 \\ 0 & 1 & 1 \end{pmatrix}, D = \begin{pmatrix} -1 & 0 & 1 \\ 1 & -1 & 0 \\ 0 & 1 & 1 \end{pmatrix}$$

12 נתונות שתי מטריצות $A, B \in M_n[\mathbb{R}]$.

נתון כי A ניתנת ללכסון.

הוכיחו:

B דומה ל- A אם ורק אם B ניתנת ללכסון והיא בעלת אותם ע"ע כמו של A .

13 נתונות המטריצות $A = \begin{pmatrix} -2 & 0 & 0 \\ 2 & a & 2 \\ 3 & 1 & 1 \end{pmatrix}$ ו- $B = \begin{pmatrix} -1 & 0 & 0 \\ 0 & 2 & 0 \\ 0 & 0 & b \end{pmatrix}$, כאשר $a, b \in \mathbb{R}$.

עבור אילו ערכים של a ו- b המטריצות A ו- B דומות?

14 נתונות המטריצות $A = \begin{pmatrix} 1 & 0 & a \\ 0 & 3 & 0 \\ a & 0 & 1 \end{pmatrix}$ ו- $B = \begin{pmatrix} 3 & 0 & 0 \\ 0 & -1 & 0 \\ 0 & 0 & 3 \end{pmatrix}$, כאשר $a \in \mathbb{R}$.

קבעו האם קיימת מטריצה הפיכה P כך ש- $P^{-1}AP = B$.

15 נתונות המטריצות $A = \begin{pmatrix} 1 & 0 & \dots & 0 & 0 \\ 0 & 2 & \dots & 0 & 0 \\ 0 & 0 & \dots & n-1 & 0 \\ 0 & 0 & \dots & 0 & n \end{pmatrix}$ ו- $B = \begin{pmatrix} n & 0 & \dots & 0 & 0 \\ 0 & n-1 & \dots & 0 & 0 \\ 0 & 0 & \dots & 2 & 0 \\ 0 & 0 & \dots & 0 & 1 \end{pmatrix}$.

קבעו האם המטריצות דומות. אם כן, מצאו מטריצה הפיכה P , כך ש-

$$P^{-1}AP = B$$

16 תהיינה A, B מטריצות ב- $M_n(\mathbb{R})$, בעלות דרגה 1, וכן $\text{tr}(A) = \text{tr}(B) = k$, כאשר

k מספר ממשי שונה מ-0.

א. מצאו את הפולינום האופייני של A ו- B .

ב. הוכיחו ש- A ו- B דומות.

(17) תהי A מטריצה מסדר 3×3 עם פולינום אופייני $p(t) = (t-1)(t+4)^2$, ונתון כי $\rho(4I + A) = 1$.

- א. רשמו את הפולינום האופייני של A^2 .
 ב. הוכיחו שהמטריצה $A^4 - 10A + 9I$ לא הפיכה, ומצאו את ממד מרחב הפתרונות של המערכת $(A^4 - 10A + 9I)\underline{x} = \underline{0}$.

(18) נתון כי $A, B, C, D \in M_n[\mathbb{R}]$ כך ש- A דומה ל- B ו- C דומה ל- D . הוכיחו או הפריכו:

- א. $A+C$ דומה ל- $B+D$.
 ב. AC דומה ל- BD .

(19) הוכיחו או הפריכו:

- א. אם שתי מטריצות שקולות שורה אז הן דומות.
 ב. אם שתי מטריצות הן דומות אז הן שקולות שורה.

(20) ענו על הסעיפים הבאים:

- א. הוכיחו: אם A דומה ל- B אז $A - kI$ דומה ל- $B - kI$.
 ב. בדקו האם המטריצות הבאות דומות:

$$A = \begin{pmatrix} 1 & 1 & 1 \\ 0 & 1 & 0 \\ 0 & 0 & 1 \end{pmatrix}, \quad B = \begin{pmatrix} 1 & 1 & 0 \\ 0 & 1 & 1 \\ 0 & 0 & 1 \end{pmatrix}$$

ג. בדקו האם המטריצות הבאות דומות:

$$A = \begin{pmatrix} 1 & 1 & 5 \\ 0 & 2 & 0 \\ 0 & 0 & 2 \end{pmatrix}, \quad B = \begin{pmatrix} 1 & 7 & 0 \\ 0 & 2 & 7 \\ 0 & 0 & 2 \end{pmatrix}$$

(21) נתון כי A ו- B מטריצות דומות.

הוכיחו של- A ו- B אותם ערכים עצמיים עם ריבוי אלגברי וגיאומטרי זהה.

(22) תהי A מטריצה ממשית מסדר 7×7 , בעלת דרגה 4.

נתון שהפולינום $q(t) = t^4 - 7t^2 + 10$ מחלק את הפולינום האופייני של A .

מצאו את הפולינום האופייני של A .

א. הוכיחו ש- A לכסינה ומצאו מטריצה אלכסונית שדומה לה.

ב. מצאו את $\text{tr}(A^2)$.

23 נתונות שתי מטריצות $A, B \in M_n(R)$.

הוכיחו או הפריכו:

א. אם $B+I$ דומה ל- $I-A$ אז A^2 דומה ל- B^2 .

ב. אם ל- A ול- B אותה דרגה, אותו פולינום אופייני, אותה דטרמיננטה ואותו סכום איברי אלכסון (trace) אז הן בהכרח דומות.

תשובות סופיות

1) שאלת הוכחה.

2) שאלת הוכחה.

3) שאלת הוכחה.

4) לא.

5) שאלת הוכחה.

6) שאלת הוכחה.

7) א. 2 ב. 1 ג. 3 ד. 0 ה. לא ניתן לחשב. ו. $1, \frac{1}{15}, \frac{1}{37}$

8) שאלת הוכחה.

9) שאלת הוכחה.

10) $x=0$

11) שאלת הוכחה.

12) שאלת הוכחה.

13) $a=0$ ו- $b=-2$

14) כן, עבור $a = \pm 2$

15) המטריצות דומות ו- P מטריצה שהאלכסון המשני שלה 1 ושאר האיברים 0.

16) א. $p_A(t) = p_B(t) = t^n - kt^{n-1}$ ב. שאלת הוכחה.

17) א. $p(x) = (x-1)(x-16)^2$ ב. ממד מרחב הפתרונות הוא 1.

18) שאלת הוכחה.

19) שאלת הוכחה.

20) א. שאלת הוכחה. ב. לא דומות. ג. לא דומות.

21) שאלת הוכחה.

22) א. $D = \text{diag}(0, 0, 0, \sqrt{2}, -\sqrt{2}, \sqrt{5}, -\sqrt{5})$ ב. $\text{tr}(A^2) = 14$

23) שאלת הוכחה.

אלגברה ליניארית

פרק 9 - העתקות ליניאריות

תוכן העניינים

77	1. העתקות ליניאריות.....
79	2. גרעין ותמונה של העתקות ליניאריות.....
82	3. העתקות ליניאריות חד-חד ערכיות ועל, איזומורפיזם.....
86	4. פעולות עם העתקות ליניאריות.....

העתקות לינאריות

שאלות

בשאלות 1-15, קבעו, עבור כל אחת מההעתקות, אם היא העתקה לינארית:

$$T(x, y) = (x + y, x - y) ; T : \mathbb{R}^2 \rightarrow \mathbb{R}^2 \quad (1)$$

$$T(x, y, z) = (x + y - 2z, x + 2y + z, 2x + 2y - 3z) ; T : \mathbb{R}^3 \rightarrow \mathbb{R}^3 \quad (2)$$

$$T(x, y, z) = (2x + z, |y|) ; T : \mathbb{R}^3 \rightarrow \mathbb{R}^2 \quad (3)$$

$$T(x, y) = (xy, y, z) ; T : \mathbb{R}^2 \rightarrow \mathbb{R}^3 \quad (4)$$

$$T(x, y, z) = (x + 1, x + y, y + z) ; T : \mathbb{R}^3 \rightarrow \mathbb{R}^3 \quad (5)$$

$$(B \in M_n[\mathbb{R}]) \quad T(A) = BA + AB ; T : M_n[\mathbb{R}] \rightarrow M_n[\mathbb{R}] \quad (6)$$

$$T(A) = A + A^T ; T : M_n[\mathbb{R}] \rightarrow M_n[\mathbb{R}] \quad (7)$$

$$T(A) = |A| \cdot I ; T : M_n[\mathbb{R}] \rightarrow M_n[\mathbb{R}] \quad (8)$$

$$T(A) = A \cdot A^T ; T : M_n[\mathbb{R}] \rightarrow M_n[\mathbb{R}] \quad (9)$$

$$T(A) = A^{-1} ; T : M_n[\mathbb{R}] \rightarrow M_n[\mathbb{R}] \quad (10)$$

$$T(a + bx + cx^2 + dx^3) = a + bx + cx^2 ; T : P_3[\mathbb{R}] \rightarrow P_2[\mathbb{R}] \quad (11)$$

$$T(p(x)) = p(x+1) ; T : P_n[\mathbb{R}] \rightarrow P_n[\mathbb{R}] \quad (12)$$

$$T(p(x)) = p'(x) + p''(x) ; T : P_n[\mathbb{R}] \rightarrow P_n[\mathbb{R}] \quad (13)$$

$$T(p(x)) = p^2(x) ; T : P_n[\mathbb{R}] \rightarrow P_{2n}[\mathbb{R}] \quad (14)$$

$$(F = \mathbb{C}, F = \mathbb{R}) \quad T(z) = \bar{z} ; T : C[F] \rightarrow C[F] \quad (15)$$

16 עבור איזה ערך של הקבוע m (אם יש כזה), ההעתקה הבאה תהיה ליניארית:
 $T(x, y) = (m^2 x^{2m}, y^{2m} + x)$; $T: R^2 \rightarrow R^2$?

בשאלות **17-20**, קבעו האם קיימת העתקה ליניארית המקיימת את הנתון.
 אם כן, מצאו את ההעתקה וקבעו האם היא יחידה. אם לא, נמקו מדוע.

17 $T: R^3 \rightarrow R^3$ כך ש- $T(1,1,0) = (1,2,3)$, $T(0,1,1) = (4,5,6)$, $T(0,0,1) = (7,8,9)$

18 $T: R^3 \rightarrow R^3$ כך ש- $T(1,0,1) = (1,1,0)$, $T(0,1,1) = (1,2,1)$, $T(0,0,1) = (0,1,1)$

19 $T: R^4 \rightarrow R^3$ כך ש-

$T(1,2,-1,0) = (0,1,-1)$, $T(-1,0,1,1) = (1,0,0)$, $T(0,4,0,2) = (2,2,-2)$

20 $T: P_2[R] \rightarrow P_2[R]$ כך ש- $T(1) = 4$, $T(4x + x^2) = x$, $T(1-x) = x^2 + 1$

$T(1,0,0) = (a_1, a_2, a_3)$

21 נתונה העתקה ליניארית $T: R^3 \rightarrow R^3$, המקיימת:

$T(0,1,0) = (b_1, b_2, b_3)$

$T(0,0,1) = (c_1, c_2, c_3)$

א. הוכיחו שנוסחת ההעתקה נתונה על ידי

$$T \begin{pmatrix} x \\ y \\ z \end{pmatrix} = \begin{pmatrix} a_1 & b_1 & c_1 \\ a_2 & b_2 & c_2 \\ a_3 & b_3 & c_3 \end{pmatrix} \begin{pmatrix} x \\ y \\ z \end{pmatrix}$$

ב. נסחו והוכיחו טענה דומה לטענה מסעיף א' עבור $T: R^n \rightarrow R^m$

22 נתונה העתקה ליניארית $T: V \rightarrow V$

הוכיחו או הפריכו:

א. אם $\{T(v_1), T(v_2), \dots, T(v_k)\}$ קבוצה בת"ל, אז $\{v_1, v_2, \dots, v_k\}$ קבוצה בת"ל.

ב. אם $\{v_1, v_2, \dots, v_k\}$ קבוצה בת"ל, אז $\{T(v_1), T(v_2), \dots, T(v_k)\}$ קבוצה בת"ל.

תשובות סופיות

(1) כן	(2) כן	(3) לא	(4) לא	(5) לא
(6) כן	(7) כן	(8) לא	(9) לא	(10) לא
(11) כן	(12) כן	(13) כן	(14) לא	(15) לא
(16) כן	(17) כן	(18) כן	(19) כן	(20) כן

(21) שאלת הוכחה. (22) שאלת הוכחה.

גרעין ותמונה של העתקות לינאריות

עבור כל אחת מההעתקות בשאלות 1-6, מצאו:

א. בסיס ומימד לגרעין.

ב. בסיס ומימד לתמונה.

$$T(x, y, z, t) = (x + y, y - 4z + t, 4x + y + 4z - t), \quad T: R^4 \rightarrow R^3 \quad (1)$$

$$T(x, y, z) = (x - 4y - z, x + y, y - z, x + 4z), \quad T: R^3 \rightarrow R^4 \quad (2)$$

$$T(x, y, z, t) = \begin{pmatrix} 1 & 2 & 3 & 1 \\ 1 & 3 & 5 & -2 \\ 2 & 6 & 10 & -4 \end{pmatrix} \begin{pmatrix} x \\ y \\ z \\ t \end{pmatrix}, \quad T: R^4 \rightarrow R^3 \quad (3)$$

$$T(A) = A \cdot \begin{pmatrix} 1 & 2 \\ 0 & 3 \end{pmatrix} - \begin{pmatrix} 1 & 2 \\ 0 & 3 \end{pmatrix} \cdot A, \quad T: M_2[R] \rightarrow M_2[R] \quad (4)$$

$$T(p(x)) = p(x+1) - p(x+4), \quad T: P_2[R] \rightarrow P_2[R] \quad (5)$$

$$D(p(x)) = p'(x), \quad D: P_3[R] \rightarrow P_3[R] \quad (6)$$

(7) מצאו העתקה לינארית $T: R^3 \rightarrow R^3$,
 אשר תמונתה נפרשת על ידי: $\{(4, 1, 4), (-1, 4, 1)\}$.

(8) מצאו העתקה לינארית $T: R^4 \rightarrow R^3$,
 אשר הגרעין שלה נפרש על ידי: $\{(0, 1, 1, 1), (1, 2, 3, 4)\}$.

נתונה העתקה לינארית $T: V \rightarrow U$.

(9) הוכיחו כי אם $\dim \text{Im}(T) = \dim \text{Ker}(T)$ אז הממד של V זוגי.

(10) הוכיחו או הפריכו:

א. קימת העתקה לינארית $T: R^5 \rightarrow R^5$ שעבורה $\text{Ker}(T) = \text{Im}(T)$.

ב. קימת העתקה לינארית $T: R^4 \rightarrow R^4$ שעבורה $\text{Ker}(T) = \text{Im}(T)$.

11 ידוע שהעתקה ליניארית $T: V \rightarrow W$, מקיימת: $\dim \text{Im}(T) = \dim \text{Ker}(T)$, $\dim(W) = 4$.
מי מבין הבאים יכול להיות הממד של V ?

א. 10

ב. 9

ג. 7

ד. 6

ה. כל התשובות לא נכונות.

12 הוכיחו או הפריכו:א. לכל העתקה ליניארית $T: V \rightarrow V$ מתקיים $\text{Im}(T^2) \subseteq \text{Im}(T)$.ב. לכל העתקה ליניארית $T: V \rightarrow V$ שמקיימת:

$$T = T^2, \text{Im}(T) = \text{Im}(T^2), \text{Ker}(T) = \text{Ker}(T^2)$$

ג. לכל העתקה ליניארית $T: V \rightarrow V$, המקיימת $\text{Im}(T) \subseteq \text{Ker}(T)$,אז בהכרח $T = 0$.**13** מטריצה $A_{m \times n}$ מגדירה העתקה $T: R^n \rightarrow R^m$; $T(x) = Ax$,ואילו $A_{n \times m}^T$ מגדירה העתקה $S: R^m \rightarrow R^n$; $S(y) = A^T y$.הראו כי $\text{Im}(T) = (\text{Ker}(S))^\perp$.

תשובות סופיות

(1) גרעין – בסיס : $\{(0,0,1,4)\}$, מימד : 1 . תמונה – כל בסיס של \mathbb{R}^3 , מימד : 3 .

(2) גרעין – בסיס : $\{(0,0,0)\}$, מימד : 0 .

תמונה – בסיס : $\{(1,1,0,1), (0,5,1,4), (0,0,-6,21)\}$, מימד : 3 .

(3) גרעין – בסיס : $\{(1,-2,1,0), (-7,3,0,1)\}$, מימד : 2 .

תמונה – בסיס : $\{(1,1,2), (0,1,2)\}$, מימד : 2 .

(4) גרעין – בסיס : $\left\{ \begin{pmatrix} -1 & 1 \\ 0 & 0 \end{pmatrix}, \begin{pmatrix} 1 & 0 \\ 0 & 1 \end{pmatrix} \right\}$, מימד : 2 .

תמונה – בסיס : $\left\{ \begin{pmatrix} 0 & 1 \\ 0 & 0 \end{pmatrix}, \begin{pmatrix} 1 & 0 \\ 1 & -1 \end{pmatrix} \right\}$, מימד : 2 .

(5) גרעין – בסיס : $\{p(x)=1\}$, מימד : 1 .

תמונה – בסיס : $\{p(x)=2x+5, p(x)=1\}$, מימד : 2 .

(6) גרעין – בסיס : $\{p(x)=1\}$, מימד : 1 .

תמונה – בסיס : $\{p(x)=x^2, p(x)=x, p(x)=1\}$, מימד : 3 .

$$T \begin{pmatrix} x \\ y \\ z \end{pmatrix} = \begin{pmatrix} 4 & -1 & -1 \\ 1 & 4 & 1 \\ 4 & 1 & 1 \end{pmatrix} \begin{pmatrix} x \\ y \\ z \end{pmatrix} \quad (7)$$

$$T(x, y, z, t) = (-x - y + z, -2x - y + t, 0) \quad (8)$$

(9) שאלת הוכחה.

(10) לא.

(11) שאלת הוכחה.

(12) שאלת הוכחה.

(13) שאלת הוכחה.

העתקות ליניאריות חד-חד ערכיות ועל, איזומורפיזם

שאלות

עבור כל אחת מההעתקות בשאלות 1-4, קבעו האם היא חח"ע¹, האם היא על, האם היא איזומורפיזם והאם קיימת העתקה הפוכה. כמו כן, במידה וקיימת העתקה הפוכה, מצאו אותה.

$$T(x, y, z) = (x - y + z, y + z, z - x) \quad , \quad T: R^3 \rightarrow R^3 \quad (1)$$

$$T(x, y, z) = (x - y + z, y + z, x + 2z) \quad , \quad T: R^3 \rightarrow R^3 \quad (2)$$

$$T(a + bx + cx^2) = (a + b + c, a - b, b - 2c) \quad , \quad T: P_2[R] \rightarrow R^3 \quad (3)$$

$$T\begin{pmatrix} a & b \\ c & d \end{pmatrix} = a - b + (c + d)x + (a - c)x^2 + dx^3 \quad , \quad T: M_2[R] \rightarrow P_3[R] \quad (4)$$

$$(5) \quad \text{האם תיתכן העתקה חד-חד ערכית } T: R^4 \rightarrow R^3 ?$$

$$(6) \quad \text{נתונה העתקה ליניארית } T: U \rightarrow V \text{ הוכיחו:}$$

א. אם $\dim(U) < \dim(V)$, אז T לא על.

ב. אם $\dim(U) > \dim(V)$, אז T לא חח"ע.

ג. אם $\dim(U) = \dim(V)$, אז T חח"ע $\Leftrightarrow T$ על.

$$(7) \quad \text{נתונה העתקה ליניארית } T: V \rightarrow W \text{ הוכיחו או הפריכו:}$$

א. אם $\dim \text{Ker}(T) \neq 0$, אז ההעתקה T אינה על.

ב. אם $\dim \text{Ker}(T) = 0$ ו- $\dim(V) \leq \dim(W)$, אז ההעתקה T היא על.

ג. אם $\dim \text{Ker}(T) = 0$ ו- $\dim(V) \geq \dim(W)$, אז ההעתקה T היא על.

ד. אם $\dim(V) < \dim(W)$, אז ההעתקה T חח"ע.

¹ הערה: העתקה חח"ע נקראת גם לא-סינגולרית.

(8) נתונה העתקה ליניארית $T: V \rightarrow W$; $\{v_1, \dots, v_n\}$ בסיס של V .
הוכח או הפרך:

- א. אם $\dim(V) > \dim(W)$ ואם $T(v_1) = 0$, אז ייתכן מקרה שבו T חח"ע.
ב. אם $\dim(V) > \dim(W)$, הקבוצה $\{T(v_1), \dots, T(v_n)\}$ בת"ל.

(9) נתונה העתקה ליניארית $T: V \rightarrow W$.

$\{v_1, v_2, \dots, v_n\}$ קבוצה בת"ל ב- V .

הוכיחו או הפריכו:

- א. אם T חח"ע, אז הקבוצה $\{T(v_1), T(v_2), \dots, T(v_n)\}$ בת"ל ב- W .
ב. אם הקבוצה $\{T(v_1), T(v_2), \dots, T(v_n)\}$ בת"ל ב- W , אז T חח"ע.

(10) נתונה העתקה ליניארית $T: R^n \rightarrow R^m$.

הוכיחו או הפריכו:

- א. אם T היא איזומורפיזם אז $m = n$.
ב. אם $m > n$, אז T חח"ע.
ג. אם $T(v) = Av$ לכל v , אז למטריצה A יש n שורות ו- m עמודות.

(11) נתונה העתקה ליניארית $T: V \rightarrow V$, המקיימת $\text{Im}(T) = \text{Ker}(T)$.

הוכיחו או הפריכו:

- א. אם T על, אז בהכרח $V = \{0\}$.
ב. אם T חח"ע, אז בהכרח $V = \{0\}$.
ג. T היא איזומורפיזם.
ד. T היא העתקת האפס.

(12) נתונה העתקה ליניארית $T: R^n \rightarrow R^m$, ונתונה מטריצה $A_{m \times n}$,

כך ש- $T(v) = Av$, לכל $v \in R^n$.

הוכיחו או הפריכו:

- א. אם $v \in \text{Ker}(T)$, אז $v \in \text{rowsp}(A)$.
ב. אם $v \in \text{rowsp}(A)$, אז $v \in \text{Ker}(T)$.
ג. אם $v \in \text{colsp}(A)$, אז $v \in \text{Im}(T)$.
ד. אם $\text{Ker}(T) = \{0\}$, אז $n < m$.

13 נתונה העתקה ליניארית $T: R^n \rightarrow R^n$, ונתונה מטריצה A ,

כך ש- $T(v) = Av$, לכל $v \in R^n$.

הוכיחו את הטענות הבאות:

א. אם $\text{rank}(A) = n$, אז T חח"ע.

ב. אם $\text{rank}(A) = n$, אז T על.

ג. אם $T^2(v) = 0$, אז $\text{Im}(T) \subseteq \text{Ker}(T)$.

ד. אם $T^2(v) = 0$, אז $\text{rank}(A) \leq \frac{n}{2}$.

14 נתונה העתקה ליניארית $T: P_3[R] \rightarrow R$, המוגדרת על ידי $T(p(x)) = p(1)$.

א. מצאו את הגרעין והתמונה של ההעתקה.

ב. קבעו האם ההעתקה היא חח"ע/על.

ג. ענו על הסעיפים הקודמים עבור $T: P_n[R] \rightarrow R$.

15 נתונה העתקה ליניארית $T: M_n[R] \rightarrow M_n[R]$, המוגדרת על ידי $T(A) = A^T$.

א. מצאו את הגרעין והתמונה של ההעתקה.

ב. קבעו האם ההעתקה היא חח"ע/על.

ג. מצאו את ההעתקה ההפוכה של T .

תשובות סופיות

(1) חח"ע, על, איזומורפיזם ויש לה העתקה הפיכה:

$$T^{-1}(x, y, z) = \left(\frac{1}{3}(x + y - 2z), \frac{1}{3}(2y - z - x), \frac{1}{3}(z + x + y) \right)$$

(2) לא חח"ע ולא על, ולכן לא איזומורפיזם ואין לה העתקה הפיכה.

(3) חח"ע, על, איזומורפיזם ויש לה העתקה הפיכה:

$$T^{-1}(a, b, c) = 0.4a + 0.6b + 0.2c + (-0.4a + 0.4b + 0.2c)x + (-0.4c - 0.2b + 0.2a)x^2$$

(4) חח"ע, על, איזומורפיזם ויש לה העתקה הפיכה:

$$T^{-1}(a + bx + cx^2 + dx^3) = \begin{pmatrix} b + c - d & -a + b + c - d \\ b - d & d \end{pmatrix}$$

(5) לא.

(6) שאלת הוכחה.

(7) שאלת הוכחה.

(8) שאלת הוכחה.

(9) שאלת הוכחה.

(10) שאלת הוכחה.

(11) שאלת הוכחה.

(12) שאלת הוכחה.

(13) שאלת הוכחה.

(14) א. $\text{Ker}(T) = \text{span}\{-1 + x, -1 + x^2, -1 + x^3\}$, $\dim \text{Ker}(T) = 3$

$$\text{Im}(T) = \text{span}\{1\}, \dim \text{Im}(T) = 1$$

ב. לא חח"ע, כן על.

$\text{Ker}(T) = \text{span}\{-1 + x, -1 + x^2, \dots, -1 + x^n\}$, $\dim \text{Ker}(T) = n$

$$\text{Im}(T) = \text{span}\{1\}, \dim \text{Im}(T) = 1$$

לא חח"ע, כן על.

$$\text{Ker}(T) = \left\{ \begin{pmatrix} 0 & 0 \\ & \ddots \\ 0 & 0 \end{pmatrix} \right\}, \text{Im}(T) = M_n[\mathbb{R}] \quad \text{א. (15)}$$

ב. חח"ע ועל. ג. $T^{-1}(A) = A^T$

פעולות עם העתקות לינאריות

שאלות

בשאלות 1-9, תהינה $S: \mathbb{R}^3 \rightarrow \mathbb{R}^2$ ו- $T: \mathbb{R}^3 \rightarrow \mathbb{R}^3$ העתקות לינאריות המוגדרות על ידי: $S(x, y, z) = (x - z, y)$, $T(x, y, z) = (x, 4x - y, x + 4y - z)$.

מצאו נוסחאות (אם יש) המגדירות את:

- | | | | | |
|-----------|--------------|--------------|-----------|----------|
| (1) $S+T$ | (2) $4S$ | (3) $4S-10T$ | (4) TS | (5) ST |
| (6) T^2 | (7) T^{-1} | (8) T^{-2} | (9) S^2 | |

תשובות סופיות

- (1) לא ניתן להגדיר.
- (2) $4S = 4(x - z, y)$
- (3) לא ניתן להגדיר.
- (4) לא ניתן להגדיר.
- (5) $ST(x, y, z) = (z - 4y, 4x - y)$; $ST: \mathbb{R}^3 \rightarrow \mathbb{R}^2$
- (6) $T^2(x, y, z) = (x, y, 16x - 8y + z)$
- (7) $T^{-1}(x, y, z) = (x, 4x - y, 17x - 4y - z)$
- (8) $T^{-2}(x, y, z) = (x, y, -16x + 8y + z)$
- (9) לא ניתן להגדיר.