

אלגברה ב 4033623



תוכן העניינים

1	משוואות אלגבריות	1
23	אי שוויונים אלגבריים	23
39	סדרות	39
63	חוקי החזקות והשורשים	63
73	משוואות ואי-שוויונים מעריכיים	73
83	חוקי הלוגריתמים, משוואות ואי-שוויונים לוגריתמים	83

אלגברה ב 4033623

פרק 1 - משוואות אלגבריות

תוכן העניינים

1. משוואות ממעלה ראשונה..... 1
2. מערכת שתי משוואות בשני נעלמים ממעלה ראשונה..... 3
3. משוואות עם אינסוף פתרונות וללא פתרון..... 6
4. משוואה ממעלה שנייה..... 7
5. משוואות דו-ריבועיות..... 9
6. משוואות עם פרמטרים..... 11
7. משוואות עם שורשים..... 13
8. משוואות עם ערך מוחלט..... 15
9. מערכת משוואות ממעלה שנייה..... 16
10. משוואות מתקדמות מסכמות..... 18
11. פישוט ביטויים ומשוואות ממעלה שלישית..... 21

משוואה ממעלה ראשונה:

סיכום כללי:

משוואה ממעלה ראשונה היא מהצורה: $ax=b$ (כלומר, החזקה של הנעלם היא 1).

פתרון של משוואה ממעלה ראשונה הוא $x = \frac{b}{a}$ כאשר $a \neq 0$.

שלבי הפתרון הם:

1. ביצוע מכנה משותף (במידה וצריך).
2. פתיחת סוגריים אם ישנם.
3. העברת אגפים וכינוס אברים דומים (בידוד הנעלם באגף אחד והמספרים באגף שני).
4. בידוד הנעלם ומציאתו ע"י חילוק במקדם שלו.

שאלות:

(1) פתור את המשוואות הבאות (משוואות יסודיות ממעלה ראשונה):

- | | |
|---------------------|-------------------------|
| א. $6x+2=8$ | ב. $7-2x=7$ |
| ג. $2x+x=24$ | ד. $2x+6=8+x$ |
| ה. $-7x+5+2x=4x-13$ | ו. $6x-3+5-7x=x-5x-7$ |
| ז. $2-5x+7=-3x+8$ | ח. $x-2+5x=4-3x-5+7x+7$ |

(2) פתור את המשוואות הבאות (משוואות עם פתיחת סוגריים):

- | | |
|----------------------|---------------------------|
| א. $3(x-1)-4=2$ | ב. $7x-4(3-4x)=-x$ |
| ג. $6(4-x)-(6-x)=3x$ | ד. $5x-(3x-7)4=21$ |
| ה. $x(x-5)=x^2-7x+8$ | ו. $(7-x)(1-x)-(x-3)^2=0$ |

3 פתור את המשוואות הבאות (משוואות עם מכנה מספרי):

$$\begin{array}{ll}
 \text{א. } \frac{x}{3} - \frac{x}{9} = -4 & \text{ב. } \frac{4x}{15} - \frac{3x}{10} = 1 \\
 \text{ג. } \frac{2}{3}x + \frac{4}{5}x = x - \frac{7}{15} & \text{ד. } \frac{5x+1}{6} - \frac{6x-1}{5} = \frac{3x+1}{4} - 1 \\
 \text{ה. } \frac{2}{5}(x-3) - \frac{3}{15}(4-x) = x+2 & \text{ו. } 5\left(\frac{x}{3} - \frac{x}{7}\right) - x = 1
 \end{array}$$

4 פתור את המשוואות הבאות (משוואות עם נעלם במכנה):

$$\begin{array}{ll}
 \text{א. } \frac{1}{4} - \frac{2}{x} = 0 & \text{ב. } \frac{1}{2} - \frac{x}{x-1} = 0 \\
 \text{ג. } \frac{3}{x} = \frac{1}{x+2} & \text{ד. } \frac{5}{2x-1} = \frac{4}{3x+2} \\
 \text{ה. } \frac{x+5}{3x^2} - \frac{1}{6x} = \frac{1}{x} & \text{ו. } \frac{1}{4x} + \frac{3}{x} = \frac{13}{2}
 \end{array}$$

5 פתור את המשוואות הבאות (משוואות עם מכנה משותף ע"י פירוק לגורמים):

$$\begin{array}{ll}
 \text{א. } \frac{x^2+2}{3x^2+5x} = \frac{3x-1}{9x+15} & \text{ב. } \frac{7}{x^2-1} + \frac{2}{x+1} + \frac{3}{2-2x} = 0 \\
 \text{ג. } \frac{3}{(2-x)^2} + \frac{5}{12-3x^2} = 0 & \text{ד. } \frac{4x^2-24x+36}{x-3} = 12
 \end{array}$$

תשובות סופיות:

- (1) א. $x=1$ ב. $x=0$ ג. $x=8$ ד. $x=2$ ה. $x=2$ ו. $x=-3$
- ז. $x=\frac{1}{2}$ ח. $x=4$
- (2) א. $x=3$ ב. $x=\frac{1}{2}$ ג. $x=2\frac{1}{4}$ ד. $x=1$ ה. $x=4$ ו. $x=-1$
- (3) א. $x=-18$ ב. $x=-30$ ג. $x=-1$ ד. $x=1$ ה. $x=-10$ ו. $x=-21$
- (4) א. $x=8$ ב. $x=-1$ ג. $x=-3$ ד. $x=-2$ ה. $x=2$ ו. $x=\frac{1}{2}$
- (5) א. $x=-6$ ב. $x=-7$ ג. $x=-7$ ד. $x=6, x \neq 3$

מערכת שתי משוואות בשני נעלמים ממעלה ראשונה:

סיכום כללי:

הגדרה:

מערכת שתי משוואות בשני נעלמים ממעלה ראשונה (ליניאריות) היא מהצורה הבאה:

$$\begin{cases} a_1x + b_1y = c_1 \\ a_2x + b_2y = c_2 \end{cases}$$

כאשר a_1, b_1, c_1 ו- a_2, b_2, c_2 הם מקדמים מספריים.

$$\cdot \begin{cases} y = 3x - 1 \\ \frac{x + 3}{2} = y + 6 \end{cases}, \begin{cases} x + y = 3 \\ 2x - y = 1 \end{cases} : \text{דוגמאות למערכות של משוואות}$$

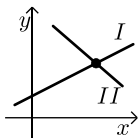
פתרון של מערכת משוואות:

פתרון של מערכת המשוואות הוא זוג סדור המקיים את כל המשוואות שבמערכת.

הצגה גרפית של מערכת משוואות:

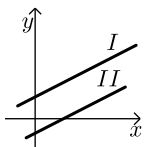
פתרון גרפי של מערכת משוואות הוא נקודת החיתוך של הישרים המייצגים כל משוואה.

יתכנו שלושה מצבים הדדיים בין שני ישרים:



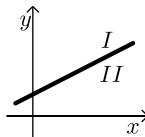
- הישרים נחתכים:

במקרה זה נקודת החיתוך תהיה פתרון המערכת.



- הישרים מקבילים:

במקרה זה לא יהיה פתרון למערכת.



- הישרים מתלכדים:

במקרה זה יהיו אינסוף פתרונות למערכת המשוואות.

פתרון אלגברי של מערכת משוואות:

- פתרון ע"י שיטת ההצבה :
 נבודד את אחד הנעלמים ממשוואה אחת ונציב אותו במשוואה השנייה.
 נבחר בשיטה זו במקרים בהם קל לבודד נעלם באחת המשוואות.
 - פתרון ע"י השוואת מקדמים :
1. כופלים (או מחלקים) משוואה אחת (או שתיהן) במספר השונה מאפס כך שתתקבלנה משוואות שקולות בעלות מקדמים נגדיים או זהים עבור אחד המשתנים.
 2. מחברים (או מחסרים) את המשוואות ומקבלים משוואה חדשה עם נעלם אחד.
 3. מוצאים את ערך הנעלם מהמשוואה החדשה ומציבים אותו באחת המשוואות המקוריות למציאת ערך הנעלם השני.

הערה:

נוח להשתמש בשיטת השוואת המקדמים ע"י כך שמעבירים את המערכת הנתונה למערכת שקולה שבה המשתנים באגף אחד והמספר החופשי באגף השני.

שאלות:

1) פתור את המשוואות הבאות :

$\begin{cases} -3x + 2y = -16 \\ x = 5y + 14 \end{cases} \text{ ג.}$	$\begin{cases} y = x - 3 \\ y = 2x + 4 \end{cases} \text{ ב.}$	$\begin{cases} 3x + y = 11 \\ y = 5 \end{cases} \text{ א.}$
$\begin{cases} 2x + 3y = 5 \\ 5x + 7y = 11 \end{cases} \text{ ו.}$	$\begin{cases} -5x + 7y = -26 \\ x + 3y = -8 \end{cases} \text{ ה.}$	$\begin{cases} 5x - 2y = -2 \\ x + 4y = 4 \end{cases} \text{ ד.}$

2) פתור את המשוואות הבאות :

$\begin{cases} 5x + 2y = 14 \\ 5x + 3y = 23 \end{cases} \text{ ב.}$	$\begin{cases} x + 3y = 5 \\ x - 3y = 3 \end{cases} \text{ א.}$
$\begin{cases} 4x = 3y - 29 \\ 5y = 9 - 13x \end{cases} \text{ ד.}$	$\begin{cases} 5y = 2x \\ 4x = 5y + 8 \end{cases} \text{ ג.}$

3) פתור את המשוואות הבאות :

$\begin{cases} 2(x - y) + 4y = 1 + x \\ 2 - 7y + x = 3(x - y) \end{cases} \text{ ב.}$	$\begin{cases} x + 2y = 1 \\ 4x + 8y = 5 \end{cases} \text{ א.}$
---	--

4 פתור את המשוואות הבאות :

$$\begin{cases} \frac{x-3}{8} - \frac{x+y}{16} = \frac{y-1}{4} \\ 3(2x-y) - 4x - 11 = 0 \end{cases} \text{ ב.}$$

$$\begin{cases} 3y - x + 2 = 4x + 2 - 3y \\ 2x - 3 - y = 5y - 4x + 3 \end{cases} \text{ א.}$$

$$\begin{cases} \frac{3x-1}{4} - \frac{2}{5}(x-y) = \frac{3}{10}(x+3) \\ \frac{x+1}{4} - \frac{y}{2} = 1 \end{cases} \text{ ג.}$$

5 פתור את המשוואות הבאות :

$$\begin{cases} 4x - \frac{7}{y} = -3 \\ 5x + \frac{2}{y} = 7 \end{cases} \text{ ג.}$$

$$\begin{cases} \frac{3}{x} + \frac{3}{y} = 2 \\ \frac{9}{x} - \frac{4}{y} = -7 \end{cases} \text{ ב.}$$

$$\begin{cases} \frac{3}{x} + \frac{1}{y} = 4 \\ \frac{5}{x} - \frac{1}{y} = 4 \end{cases} \text{ א.}$$

6 פתור את המשוואות הבאות :

$$\begin{cases} xy = 20 \\ y(3x-4) = 20 \end{cases} \text{ ב.}$$

$$\begin{cases} x(y+2) + y = xy - 5 \\ x - y = 2 \end{cases} \text{ א.}$$

$$\begin{cases} 5x - 4xy = 22 \\ 6x + xy = -20 \end{cases} \text{ ג.}$$

תשובות סופיות:

1 א. (2,5) ב. (-7,-10) ג. (4,-2) ד. (0,1) ה. (1,-3) ו. (-2,3)

2 א. $(4, \frac{1}{3})$ ב. $(-\frac{4}{5}, 9)$ ג. (4,1.6) ד. (-2,7)

3 א. אין פתרון. ב. אינסוף פתרונות.

4 א. (6,5) ב. (7,1) ג. (7,2)

5 א. (1,1) ב. (-3,1) ג. (1,1)

6 א. (-1,-3) ב. (2,10) ג. (-2,4)

משוואות עם אינסוף פתרונות וללא פתרון:

סיכום כללי:

משוואה ממעלה ראשונה:

למשוואה ממעלה ראשונה מהצורה: $ax = b$ יתכן פתרון יחיד אם ורק אם $a \neq 0$
 מכיוון שניתן לחלק ולכתוב: $x = \frac{b}{a}$.

כאשר $a = 0$ מתקבלת המשוואה $0 \cdot x = b$ ויתכנו שני מצבים:

1. אם $b = 0$ את המשוואה היא $0x = 0$ ויש אינסוף פתרונות המקיימים אותה.
2. אם $b \neq 0$ את המשוואה היא $0x = b \neq 0$ ואין אף ערך של x המקיים אותה.

שאלות:

פתור את המשוואות הבאות:

$$x + 4 = 6 + x \quad (1) \qquad 3x + 6 - x = 4 + 2x + 2 \quad (2)$$

$$6(x - 2) = 2x + 5 + 4x \quad (3) \qquad 5x - 3 + x = 4x + 2x - 3 \quad (4)$$

$$(5) \quad \text{נתונה המשוואה: } 3 - 2(x + 2) = 5x + \square$$

- א. איזה מספר יש להציב ב- \square על מנת שפתרון המשוואה יהיה 1?
- ב. איזה מספר יש להציב ב- \square על מנת שפתרון המשוואה יהיה 0?
- ג. מצא ביטוי אלגברי שיש להציב ב- \square על מנת שלמשוואה יהיו אינסוף פתרונות.
- ד. מצא ביטוי אלגברי שיש להציב ב- \square על מנת שלמשוואה לא יהיה פתרון.

תשובות סופיות:

- (1) אף פתרון.
- (2) אינסוף פתרונות.
- (3) אין פתרון.
- (4) אינסוף פתרונות.
- (5) א. -8 ב. -1 ג. $-7x - 1$
 ד. $-7x + k$ כאשר k הוא מספר כלשהו השונה מ-1.

משוואה ממעלה שנייה:

סיכום כללי:

משוואה מהצורה: $ax^2 + bx + c = 0$ ($a \neq 0$), נקראת משוואה ריבועית. פתרונות המשוואה יסומנו ב- x_1 ו- x_2 ויחושבו לפי נוסחת השורשים:

$$x_{1,2} = \frac{-b \pm \sqrt{b^2 - 4ac}}{2a}$$

למשוואה ריבועית יתכנו שלושה סוגים של פתרונות:

- משוואה עם שני פתרונות ממשיים שונים.**
 אם מתקבל מספר חיובי בתוך השורש שבנוסחת השורשים אזי למשוואה יהיו שני פתרונות ממשיים שונים.
 דוגמא: $x^2 + 5x - 4 = 0$.
- משוואה עם פתרון ממשי אחד בלבד.**
 אם מתקבל אפס בתוך השורש שבנוסחת השורשים אזי למשוואה יהיה פתרון ממשי אחד בלבד.
 דוגמא: $x^2 + 4x + 4 = 0$.
- משוואה ללא פתרונות ממשיים כלל.**
 אם מתקבל מספר שלילי בתוך השורש שבנוסחת השורשים אזי למשוואה לא יהיו פתרונות ממשיים כלל.
 דוגמא: $x^2 + x + 4 = 0$.

שאלות:

(1) פתור את המשוואות הבאות:

ב. $-x^2 + 10x - 16 = 0$

ד. $2x^2 - 6x + 5 = 0$

א. $x^2 + 3x - 10 = 0$

ג. $25x^2 - 20x + 4 = 0$

(2) פתור את המשוואות הבאות:

ב. $-x(x-5) = (1-3x)(1-x) + 4$

ד. $(2x-1)^2 + x(2x+3) = (x-1)(x-7)$

א. $4x^2 - 5x + 7 = 4 - x^2 + 13$

ג. $2(x-5)^2 - (2x-3)^2 = 10x + 21$

(3) פתור את המשוואות הבאות (משוואה חסרת b):

$$\begin{array}{ll} \text{א.} & x^2 - 36 = 0 \\ \text{ב.} & 32x^2 - 18 = 0 \\ \text{ג.} & 4x - x(x+2) = 3(x-1) - x - 6 \\ \text{ד.} & (2x-1)^2 + (2x+1)^2 = 10 \end{array}$$

(4) פתור את המשוואות הבאות (משוואה חסרת c):

$$\begin{array}{ll} \text{א.} & -7x^2 - 14x = 0 \\ \text{ב.} & 5x^2 - x = 0 \\ \text{ג.} & 6x(x-2) - 1 = 4x - 3(x+1) + 2 \\ \text{ד.} & (5x-2)^2 = (x-2)(x+3) + 10 \end{array}$$

(5) פתור את המשוואות הבאות:

$$\begin{array}{ll} \text{א.} & \frac{4x+1}{3} - \frac{x+2}{2} = \frac{2}{x} \\ \text{ב.} & \frac{x^2-9}{x+3} + x = x^2 - 18 \\ \text{ג.} & \frac{3}{2x+2} - \frac{2x-5}{2(x-1)^2} - \frac{4}{1-x^2} = 0 \\ \text{ד.} & \frac{x}{2x^2-72} + \frac{2}{x^2+12x+36} = \frac{8x-15}{24-4x} + 2 \end{array}$$

תשובות סופיות:

$$\begin{array}{ll} \text{(1)} & \text{א. } x_1 = 2, x_2 = -5 \quad \text{ב. } x_1 = 2, x_2 = 8 \\ & \text{ג. } x = \frac{2}{5} \quad \text{ד. אין פתרון.} \\ \text{(2)} & \text{א. } x_1 = 2, x_2 = -1 \quad \text{ב. } x_1 = 1, x_2 = 1\frac{1}{4} \\ & \text{ג. } x_1 = 1, x_2 = -10 \quad \text{ד. } x_1 = 0.6, x_2 = -2 \\ \text{(3)} & \text{א. } x = \pm 6 \quad \text{ב. } x = \pm \frac{3}{4} \\ & \text{ג. } x = \pm 3 \quad \text{ד. } x = \pm 1 \\ \text{(4)} & \text{א. } x_1 = 0, x_2 = -2 \quad \text{ב. } x_1 = 0, x_2 = \frac{1}{5} \\ & \text{ג. } x_1 = 0, x_2 = 2\frac{1}{6} \quad \text{ד. } x_1 = 0, x_2 = \frac{7}{8} \\ \text{(5)} & \text{א. } x_1 = 2, x_2 = -1.2 \quad \text{ב. } x = 5, x \neq -3 \\ & \text{ג. } x_1 = 0, x_2 = -5 \quad \text{ד. } x_1 = -7.6, x_2 = -4\frac{2}{7} \end{array}$$

משוואות דו-ריבועיות:

סיכום כללי:

משוואה דו-ריבועית היא משוואה מהצורה: $ax^4 + bx^2 + c = 0$ כאשר הנעלם הוא x .
 פתרון המשוואה יבוצע ע"י מעבר לפרמטר: $x^2 = t \rightarrow at^2 + bt + c = 0$ ומציאתו.
 לאחר מכן יש להחזיר את ההצבה ולמצוא את ערכי x .

ניתן להביא משוואות לצורה זו ולהגדיר ביטוי המופיע בחזקות 2 ו-4 כגון:
 $t = x^2 - 1$: באמצעות פרמטר: $(x^2 - 1)^2 + 3(x^2 - 1) - 2 = 0$
 ובכך לפתור משוואה: $t^2 + 3t - 2 = 0$ ולהחזיר את ההצבה עבור מציאת x .
 דרך הפתרון תקפה לכל משוואה בה הנעלם מופיע בחזקות כפולות כגון 3 ו-6, או 4 ו-8.

שאלות:

פתור את המשוואות הבאות:

- | | |
|--|---|
| $x^4 - 3x^2 + 2 = 0$ (2) | $5x^4 + 3x^2 - 8 = 0$ (1) |
| $x^2(x^2 + 1) = 10(3x^2 - 10)$ (4) | $13x^2(3x^2 - 1) - 2 = 3(x^2 - 1)(x^2 + 1)$ (3) |
| $x^3 + 4 = \frac{32}{x^3}$ (6) | $x^6 + x^3 = 56$ (5) |
| $x^8 - 4x^4 - 50 = 31x^4 - 84$ (8) | $x - 9\sqrt{x} + 14 = 0$ (7) |
| $(2x^2 - x)^2 - 4(2x^2 - x) + 3 = 0$ (10) | $125x^6 - 1 = 124(x^6 + x^3 + 1)$ (9) |
| $\frac{21}{x^2 - 4x + 10} = 6 + x^2 - 4x$ (12) | $(x^2 + 2x)^2 + 7x^2 + 14x = -6$ (11) |
| $\frac{x^2 + 2x + 2}{x^2 + 2x + 3} = \frac{7}{6} - \frac{x^2 + 2x + 1}{x^2 + 2x + 2}$ (14) | $\frac{12}{x^2 + 2x - 8} = 1 + \frac{7.5}{x^2 + 2x - 3}$ (13) |
| $\frac{x^2 - 1}{4x^2 - 28} + 2 = \frac{9}{x^4 - 8x^2 + 7} + \frac{x^2}{2x^2 - 2}$ (16) | $\frac{3}{3x^2 - 15} + \frac{1}{x^2 + 5} = \frac{10}{x^4 - 25}$ (15) |
| $\frac{3x^4}{(x+2)^2} + \frac{3x^2}{x+2} = 6$ (18) | $\left(2x + \frac{3}{x}\right)^2 + 35 = 12\left(2x + \frac{3}{x}\right)$ (17) |
| $(x^2 - 5x + 6)(x^2 - 5x - 8) = -24$ (20) | $(2x - x^2 + 3)(2x - x^2 - 2) = 0$ (19) |

תשובות סופיות:

$$x = \pm 1 \quad (1)$$

$$x = \pm 1, \pm \sqrt{2} \quad (2)$$

$$x = \pm \frac{1}{2}, \pm \frac{1}{3} \quad (3)$$

$$x = \pm 2, \pm 5 \quad (4)$$

$$x_1 = \sqrt[3]{7}, x_2 = -2 \quad (5)$$

$$x = -2, \sqrt[3]{4} \quad (6)$$

$$x_1 = 4, x_2 = 49 \quad (7)$$

$$x_{1,2} = \pm \sqrt[4]{34}, x_{3,4} = \pm 1 \quad (8)$$

$$x = 5, -1 \quad (9)$$

$$x_1 = 1.5, x_2 = -1, x_3 = 1, x_4 = -\frac{1}{2} \quad (10)$$

$$x = -1 \quad (11)$$

$$x_{1,2} = 1, 3 \quad (12)$$

$$x_1 = 0, x_2 = -2, x_3 = 3.06, x_4 = -5.06 \quad (13)$$

$$x_1 = 0, x_2 = -2 \quad (14)$$

(15) אין פתרונות.

$$x = \pm \sqrt{\frac{3}{7}} \quad (16)$$

$$x = \frac{1}{2}, 1, \frac{3}{2}, 3 \quad (17)$$

$$x = -1, 2 \quad (18)$$

$$x = 3, -1 \quad (19)$$

$$x = \pm 1, 4, 6 \quad (20)$$

משוואות עם פרמטרים:

סיכום כללי:

משוואה עם פרמטר הינה משוואה שמכילה שני סוגים של גדלים – משתנים ופרמטרים. את המשתנים מקובל לסמן באותיות x , y , z ואת הפרמטרים מסמנים בשאר האותיות. פתרון המשוואה יתקבל ע"י בידוד המשתנה כך שיבוטא באמצעות הפרמטרים שבמשוואה.

למשל פתרון המשוואה: $mx=4$ (כאשר x הוא הנעלם ו- m הוא פרמטר) הוא $x = \frac{4}{m}$

אשר מבוטא באמצעות הפרמטר m .

בכתיבת פתרון של משוואה עם פרמטרים יש לציין את תחום ההגדרה של הפרמטר עבורו הפתרון הוא בעל משמעות. בדוגמא הנ"ל תחום ההגדרה הוא $m \neq 0$.

שאלות:

(1) פתור את המשוואות הבאות:

$$\text{א. } 3x - b = (b + 1)x - 6 \quad \text{ב. } \frac{1}{3}(a - 3x) = \frac{1}{a}(ax - 3)$$

$$\text{ג. } (x - 2a)(x - 2b) = x^2 - 2(a^2 + b^2) \quad \text{ד. } \frac{m+1}{x-1} = \frac{m-1}{x+1}$$

$$\text{ה. } \frac{x}{a^2 - a} - \frac{1}{2a} = \frac{ax + x}{2a^3 - 4a^2 + 2a} - \frac{2}{a^3 - 2a^2 + a}$$

(2) פתור את מערכות המשוואות הבאות:

$$\text{א. } \begin{cases} x + my = 1 \\ x + y = m \end{cases} \quad \text{ב. } \begin{cases} ax + y = 2 \\ x + ay = 4 \end{cases}$$

$$\text{ג. } \begin{cases} \frac{x}{m} + y = m \\ x - m^2 y = 1 \end{cases} \quad \text{ד. } \begin{cases} (m-1)x - (2m+3)y = 5 \\ (m+2)x - (2m-1)y = 10m \end{cases}$$

$$\text{ה. } \begin{cases} (2a+b)x - (2a-b)y = 8ab \\ (2a-b)x + (2a+b)y = 8a^2 - 2b^2 \end{cases}$$

(3) פתור את המשוואות הריבועיות הבאות:

$$\text{א. } x^2 - 2mx + m^2 - 1 = 0 \quad \text{ב. } x^2 - 2x + 4a = a^2 + 3$$

$$\text{ג. } x^2 + m(x+10) = 2m^2 - 5x \quad \text{ד. } \frac{1}{a-x} + \frac{1}{a} + \frac{1}{a+x} = 0$$

$$\text{ה. } (m^2 + 1)x^2 - m^2x - 1 = 0 \quad \text{ו. } \frac{a}{x} + \frac{1}{b} = \frac{x}{a} + b$$

$$\text{ז. } x + \frac{1}{x} = \frac{a-b}{a+b} + \frac{a+b}{a-b}$$

תשובות סופיות:

$$\text{(1) א. } x = \frac{b-6}{2-b}, b \neq 2 \quad \text{ב. } x = \frac{a^2+9}{6a}, a \neq 0 \quad \text{ג. } x = a+b \quad \text{ד. } x = -m \quad \text{ה. } x = a+1$$

$$\text{(2) א. } m \neq 1, (m+1, -1) \quad \text{ב. } a \neq \pm 1, \left(\frac{2a-4}{a^2-1}, \frac{4a-2}{a^2-1} \right)$$

$$\text{ג. } m \neq 0-1, \left(m^2 - m + 1, \frac{m-1}{m} \right) \quad \text{ד. } m \neq 1, -2, (2m+1, m-2)$$

$$\text{ה. } b \neq \pm 2a, (2a+b, 2a-b)$$

$$\text{(3) א. } x = m+1, m-1 \quad \text{ב. } x = a-1, 3-a \quad \text{ג. } x = m-5, -2m$$

$$\text{ד. } a \neq 0, x \neq \pm a, x = \pm a\sqrt{3} \quad \text{ה. } x = 1, -\frac{1}{m^2+1}$$

$$\text{ו. } a, b \neq 0, x = \frac{a}{b}, -ab \quad \text{ז. } a \neq \pm b, x = \frac{a+b}{a-b}, \frac{a-b}{a+b}$$

משוואות עם שורשים:

סיכום כללי:

פתרון משוואה מהצורה $\sqrt{x} = a$ יתקבל ע"י העלאה בריבוע של שני אגפי המשוואה באופן הבא: $x = a^2 \rightarrow (\sqrt{x})^2 = (a)^2$.

הערות:

- (1) יש לזכור בעת העלאה בריבוע של שני אגפי המשוואה יש לבדוק את כל הפתרונות המתקבלים ע"י הצבתם במשוואה המקורית.
- (2) למשוואה מהצורה $\sqrt{x} = a$ שבה $a < 0$ אין פתרון.
- (3) יש לסדר תחילה משוואות שבהן הביטוי עם שורש אינו מבודד.
- (4) במשוואות שבהן יותר מביטוי אחד עם שורש יש לבודד תחילה את אחד הביטויים, להעלות בריבוע ולאחר מכן לחזור על התהליך ולבצע העלאה בריבוע פעם נוספת.

שאלות:

פתור את המשוואות הבאות:

- | | |
|--|---|
| $\sqrt{x+2} = x$ (2) | $\sqrt{2x+5} = 7$ (1) |
| $\sqrt{2x+7} + 4 = x$ (4) | $\sqrt{3x+1} + x = 13$ (3) |
| $\sqrt{10x+6} + 9 = x$ (6) | $\sqrt{x-1} + 3 = x$ (5) |
| $\sqrt{24-x} + 3 = 2x$ (8) | $\sqrt{x+6} - 2 = 2x$ (7) |
| $2x = 16 - 3\sqrt{x-1}$ (10) | $\sqrt{x+16} + 4 = 2x$ (9) |
| $\sqrt{x^2 - 5x + 12} = 2\sqrt{6-x}$ (12) | $\sqrt{3x+5} = \sqrt{x+17}$ (11) |
| $\sqrt{2x-1} + 3 = \sqrt{7x+1}$ (14) | $\sqrt{x-1} \cdot \sqrt{2x-5} = \sqrt{11-x^2}$ (13) |
| $\sqrt{2x-3} + \sqrt{3-x} = 2$ (16) | $\sqrt{9x-8} - 3\sqrt{x+4} = -2$ (15) |
| $\sqrt{2x-2} + \sqrt{5x-4} = \sqrt{3x-2}$ (18) | $\sqrt{x+3} + \sqrt{x-2} = \sqrt{4x+1}$ (17) |
| | $3\sqrt{x-1} + \sqrt{2x-3} = 2\sqrt{x+2}$ (19) |

תשובות סופיות:

- | | |
|---------------------------|---------------|
| $x = 2$ (2 | $x = 22$ (1 |
| $x = 9$ (4 | $x = 8$ (3 |
| $x = 25$ (6 | $x = 5$ (5 |
| $x = 3.75$ (8 | $x = 0.25$ (7 |
| $x = 5$ (10 | $x = 4.25$ (9 |
| $x = 4, -3$ (12 | $x = 6$ (11 |
| $x = 5$ (14 | $x = 3$ (13 |
| $x = 2, 2\frac{8}{9}$ (16 | $x = 12$ (15 |
| $x = 1$ (18 | $x = 6$ (17 |
| | $x = 2$ (19 |

משוואות עם ערך מוחלט:

סיכום כללי:

הגדרה:

ערך מוחלט הינו המרחק של מספר מ-0 ומוגדר באופן הבא: $|x| = \begin{cases} x & x \geq 0 \\ -x & x < 0 \end{cases}$.

משוואה עם ערך מוחלט:

משוואה עם ערך מוחלט היא מהצורה: $|x| = a$.

כדי לפתור משוואה עם ערכים מוחלטים יש למצוא את נקודות האפס של כל ערך מוחלט (קרי: הנקודות בהן הביטוי שבתוך הערך המוחלט מתאפס) ולפצל את המשוואה הנתונה לתחומים עבור כל תחום.

שאלות:

פתור את המשוואות הבאות:

$$|3x+14|=7 \quad (1) \qquad |3x-24|=x \quad (2)$$

$$|12-x|=3x \quad (3) \qquad 2x-|8-x|=10 \quad (4)$$

$$|4x-5|=|2x+13| \quad (5) \qquad |14-3x|=2|x+5| \quad (6)$$

$$|x|+7=|2x| \quad (7) \qquad |x+2|+6=|2x-4| \quad (8)$$

$$|x+2|+|2x-6|=|4x+8| \quad (9) \qquad |10-3x|-|x+4|=|2x-6| \quad (10)$$

תשובות סופיות:

$$\begin{array}{llll} x = -\frac{7}{3}, -7 & (1) & x = 6, 12 & (2) \\ x = 9, -1\frac{1}{3} & (5) & x = 24, \frac{4}{5} & (6) \\ x = 0, -12 & (9) & x = 0 & (10) \\ x = 6 & (4) & x = 3 & (3) \\ x = 12, -1\frac{1}{3} & (8) & x = \pm 7 & (7) \end{array}$$

מערכת משוואות ממעלה שנייה:

סיכום כללי:

מערכת משוואות ריבועיות מיוחסת למערכת של שתי משוואות (לפחות) שאחת מהן מכילה את אחד מהנעלמים בריבוע. למערכת משוואות ריבועיות יכולים להתקבל עד 4 פתרונות שונים. יש לפתור את המערכת לפי הטכניקות הרגילות של בידוד והצבה או השוואת מקדמים.

שאלות:

פתור את מערכות המשוואות הבאות:

$$\begin{cases} 2x^2 + y^2 = 36 \\ x^2 + 3y = 10 \end{cases} \quad (2)$$

$$\begin{cases} x^2 + y^2 = 20 \\ x + y = 6 \end{cases} \quad (1)$$

$$\begin{cases} x^2 - 2y^2 = 17 \\ xy = -10 \end{cases} \quad (4)$$

$$\begin{cases} 3x^2 + 4y^2 = 16 \\ 5x^2 - 3y^2 = 17 \end{cases} \quad (3)$$

$$\begin{cases} x^2 - 2xy + 8y^2 = 8 \\ 3xy - 2y^2 = 4 \end{cases} \quad (6)$$

$$\begin{cases} x^2 - xy - 20y^2 = 0 \\ x + 6y = 1 \end{cases} \quad (5)$$

$$\begin{cases} 16x^2 - y^2 = 391 \\ 4x - y = 23 \end{cases} \quad (8)$$

$$\begin{cases} x^2 - y^2 = 33 \\ x + y = 11 \end{cases} \quad (7)$$

$$\begin{cases} \frac{3}{x} + \frac{1}{y} = 5 \\ \frac{4}{y} - \frac{1}{x} = -19 \end{cases} \quad (10)$$

$$\begin{cases} 4xy + x = -15 \\ \frac{3}{y} - 2x = 16 \end{cases} \quad (9)$$

$$\begin{cases} xy = 24 \\ (y-x)^2 - 7(y-x) + 10 = 0 \end{cases} \quad (12)$$

$$\begin{cases} \frac{3}{x} + \frac{5}{y} = 21 \\ \frac{8}{x} - \frac{1}{y} = 13 \end{cases} \quad (11)$$

$$\begin{cases} \sqrt{\frac{x}{y}} + \sqrt{\frac{y}{x}} = \frac{10}{3} \\ x^2 + y^2 = 9xy + 25 \end{cases} \quad (14)$$

$$\begin{cases} x^2y - xy^2 = 84 \\ x^2 - 2xy + y^2 + 5x - 5y = 24 \end{cases} \quad (13)$$

תשובות סופיות:

- | | |
|---|--|
| $(\pm 4, -2)$ (2) | $(2, 4), (4, 2)$ (1) |
| $(5, -2), (-5, 2)$ (4) | $(\pm 2, \pm 1)$ (3) |
| $\left(3, \frac{1}{2}\right), \left(-3, -\frac{1}{2}\right), (2, 1), (-2, -1)$ (6) | $\left(-2, \frac{1}{2}\right), \left(\frac{5}{11}, \frac{1}{11}\right)$ (5) |
| $(5, -3)$ (8) | $(7, 4)$ (7) |
| $\left(\frac{1}{3}, -\frac{1}{4}\right)$ (10) | $\left(-5, \frac{1}{2}\right), \left(-24, -\frac{3}{32}\right)$ (9) |
| $(4, 6), (-6, -4), (3, 8), (-8, -3)$ (12) | $\left(\frac{1}{2}, \frac{1}{3}\right)$ (11) |
| | $(-1.65, 6.35), (-6.35, 1.65), (7, 4), (-4, -7)$ (13) |
| | $(5, 45), (-5, -45), (45, 5), (-45, -5)$ (14) |

משוואות מסכמות מתקדמות:

סיכום כללי:

תזכורת מהירה:

- משוואה דו-ריבועית יכולה להופיע בכל תצורה (עם שורשים, עם ערכים מוחלטים וכו'). העיקרון הוא זיהוי תבנית של הנעלם אשר חוזרת על עצמה לאורך המשוואה. סימון התבנית במשתנה זמני ופתרון עבור משתנה זה תוביל למשוואה מוגדרת ופתירה. לאחר מכן יש להחזיר את ההצבה לתבנית של המשתנה המקורי ולמצוא את ערכיו.
- דרך הפתרון של משוואה עם שורשים היא ע"י בידוד השורש והעלאה בריבוע. במידה ויש יותר משורש אחד המופיעים בחיבור/חיסור יש לבצע את הפעולה פעמיים. חשוב לוודא נכונות של כל הפתרונות המתקבלים ע"י הצבה במשוואה המקורית לפני ההעלאות בריבוע.
- דרך הפתרון של משוואה עם ערכים מוחלטים היא ע"י פיצול המשוואה לתחומים לפי סימני הערך המוחלט. זאת יש לבצע ע"י איפוס הביטוי שבכל ערך מוחלט ומציאת ערכי הנעלם המקיימים זאת, חלוקת המשוואה לתחומים מתאימים ופתרונה בכל תחום. יש לזכור לבדוק האם הפתרון המתקבל נמצא בתחום הפתרון – במידה וכן הוא פתרון של המשוואה, אחרת הוא נפסל.
- משוואה עם פרמטרים נפתרת בצורה רגילה (התייחסות לפרמטרים כאל קבועים מספריים) כאשר יש לציין את תחומי ההגדרה שלהם. יש לבדוק פתרונות שמתקבלים המבוטאים באמצעות הפרמטרים במידה וקיימת הגבלת תחום הגדרה במשוואה.

שאלות:

פתור את המשוואות הבאות:

$$\begin{array}{ll}
 x^2 + 5x - \sqrt{x^2 + 5x} - 30 = 0 & \text{(2)} & x + \sqrt{x+6} - 6 = 0 & \text{(1)} \\
 2x^2 + 6x - \sqrt{x^2 + 3x + 5} = 5 & \text{(4)} & 4x^2 + 16x - 4\sqrt{x^2 + 4x} - 3 = 0 & \text{(3)} \\
 x^2 - \sqrt{6x^2 - 15} = 1 & \text{(6)} & x^2 - \sqrt{16x^2 + 48} + 7 = 0 & \text{(5)} \\
 \frac{\sqrt{x^2 + 4x - 12}}{\sqrt{x-1}} + \sqrt{x+5} = \frac{7}{\sqrt{x-1}} & \text{(8)} & \frac{x^2}{\sqrt{3x-2}} - \sqrt{3x-2} = 1-x & \text{(7)} \\
 \sqrt{x^2 - 3x + 2} + \sqrt{x+3} = \sqrt{x-2} + \sqrt{x^2 + 2x - 3} & \text{(9)} \\
 \sqrt{x + \sqrt{14x - 49}} + \sqrt{x - \sqrt{14x - 49}} = \sqrt{14} & \text{(10)} \\
 \sqrt{x+6+6\sqrt{x-3}} - \sqrt{x+6-6\sqrt{x-3}} = 2 & \text{(11)} \\
 \frac{4}{x + \sqrt{x^2 + x}} - \frac{1}{x - \sqrt{x^2 + x}} = \frac{3}{x} & \text{(12)}
 \end{array}$$

פתור את המשוואות הבאות עבור $a > 0$:

$$x^2 + ax - 2a\sqrt{3x^2 + 3ax - 9a^2} = 0 \quad \text{(14)} \quad x^2 + ax - 2a\sqrt{x^2 + ax - a^2} = 0 \quad \text{(13)}$$

פתור את המשוואות הבאות:

$$\begin{array}{ll}
 |4 - |5 - x|| = |x + 3| & \text{(16)} & |3 - |2 - x| + |x|| = 1 & \text{(15)} \\
 \sqrt{25 + |16x^2 - 25|} = 4 + 4|x+1| & \text{(18)} & \left| \frac{x + |3 - x|}{x + 2} \right| = 18 & \text{(17)} \\
 & & \frac{x^3 - 5x}{\sqrt{2x^2 - 4x - 1} - |x| + 2} = 0 & \text{(19)}
 \end{array}$$

$$\frac{|x+2|}{|x|+2} = |2-x|+2 : \text{הראה כי אין פתרון למשוואה הבאה:} \quad \text{(20)}$$

תשובות סופיות:

$$x = 3 \quad (1)$$

$$x_1 = 4, x_2 = -9 \quad (2)$$

$$x_1 = 0.5, x_2 = -4.5 \quad (3)$$

$$x_1 = 1, x_2 = -4 \quad (4)$$

$$x_{1,2} = \pm 1 \quad (5)$$

$$x_{1,2} = \pm 2 \quad (6)$$

$$. x = 1 \quad (7)$$

$$. x = 3 \quad (8)$$

$$. x = 2 \quad (9)$$

$$. 3.5 \leq x \leq 7 \quad (10)$$

$$. x = 4 \quad (11)$$

$$. x = 1, x = \frac{9}{16} \quad (12)$$

$$x_1 = -2a, x_2 = a \quad (13)$$

$$x_1 = -2a, x_2 = 3a \quad (14)$$

$$. x \leq 0 \quad (15)$$

$$. x = -1 \quad (16)$$

$$. x = -\frac{39}{18}, -\frac{33}{18} \quad (17)$$

$$. x \leq \frac{5}{4}, x = -\frac{1}{4} \quad (18)$$

$$. x = -\sqrt{5} \quad (19)$$

$$. שאלת הוכחה. \quad (20)$$

ביטויים ומשוואות ממעלה שלישית:

סיכום כללי:

נוסחאות הכפל המקוצר ממעלה שלישית:

$$(a \pm b)^3 = a^3 \pm 3a^2b + 3ab^2 \pm b^3$$

$$a^3 \pm b^3 = (a \pm b)(a^2 \mp ab + b^2)$$

שאלות:

פישוט ביטויים:

פשט את הביטויים הבאים:

$$(2y+5)^3 \quad (2)$$

$$(x-3)^3 \quad (1)$$

$$8y^3 + 343 \quad (4)$$

$$8x^3 - 1 \quad (3)$$

$$x^3y^6z^9 - 1 \quad (6)$$

$$a^6 - 27 \quad (5)$$

$$64mn^4 - 8m^4n^7 \quad (8)$$

$$11 + 88x^{12} \quad (7)$$

$$\frac{x^3 + 64}{x^2 + 4x} \quad (10)$$

$$\frac{x^2 + 4x + 4}{x^3 + 6x^2 + 12x + 8} \quad (9)$$

משוואות בנעלם אחד עם נוסחאות הכפל המקוצר:

פתור את המשוואות הבאות:

$$125x^3 = 1 - 15x + 75x^2 \quad (12)$$

$$x^3 - 12x^2 + 48x - 64 = 0 \quad (11)$$

$$x^3 - 7x - 6 = 0 \quad (14)$$

$$x^3 + x - 30 = 0 \quad (13)$$

משוואות בנעלם אחד עם פירוקים שונים:

פתור את המשוואות הבאות:

$$2x^3 + 5x^2 - 2x - 5 = 0 \quad (16)$$

$$2x^3 - 7x^2 + 7x - 2 = 0 \quad (15)$$

מערכת משוואות:

$$\begin{cases} x^3 + y^3 = 243 \\ x + y = 9 \end{cases} \quad (17) \text{ פתור את מערכת המשוואות הבאה:}$$

$$\begin{cases} x^3 - y^3 = 91 \\ x^2y - xy^2 = 30 \end{cases} \quad (18) \text{ פתור את מערכת המשוואות הבאה:}$$

תשובות סופיות:

$$8y^3 + 60y^2 + 150y + 125 \quad (10)$$

$$(2y + 7)(4y^2 - 17y + 49) \quad (11)$$

$$(xy^2z^3 - 1)(x^2y^4z^6 + xy^2z^3 + 1) \quad (12)$$

$$8mn^4(2 - mn)(4 + 2mn + m^2n^2) \quad (13)$$

$$\frac{x^2 - 4x + 16}{x} \quad (14)$$

$$x = \frac{1}{2} \quad (15)$$

$$x_{1,2,3} = -2, -1, 3 \quad (16)$$

$$x_{1,2,3} = -2.5, -1, 1 \quad (17)$$

$$(-5, -6), (6, 5) \quad (18)$$

$$x^3 - 9x + 27x - 27 \quad (1)$$

$$(2x - 1)(4x^2 + 2x + 1) \quad (2)$$

$$(a^2 - 3)(a^4 + 3a^2 + 9) \quad (3)$$

$$8(1 + 2x^4)(1 - 2x^4 + 4x^8) \quad (4)$$

$$\frac{1}{x + 2} \quad (5)$$

$$x = 4 \quad (6)$$

$$x = 3 \quad (7)$$

$$x_{1,2,3} = \frac{1}{2}, 1, 2 \quad (8)$$

$$(3, 6), (6, 3) \quad (9)$$

אלגברה ב 4033623

פרק 2 - אי שוויונים אלגבריים

תוכן העניינים

- 23 1. אי שוויונים ממעלה ראשונה
- 25 2. אי שוויונים ממעלה שנייה
- 26 3. אי שוויונים ממעלה שלישית
- 27 4. אי שוויונים עם מנה
- 29 5. אי שוויונים כפולים מערכות וגם ואו
- 30 6. שאלות מסכמות
- 32 7. אי שוויונים עם שורשים
- 34 8. מציאת תחום הגדרה
- 36 9. אי שוויונים עם ערך מוחלט

אי-שוויונים ממעלה ראשונה:

סיכום כללי:

פעולות המותרות לביצוע בפתרון אי-שוויון:

- לחבר או לחסר כל מספר או ביטוי.
- לכפול או לחלק בכל מספר או ביטוי חיובי.
- לכפול או לחלק בכל מספר או ביטוי שלילי תוך הפיכת סימן אי-השוויון.
- להעלות בחזקה אי זוגית.
- להעלות בחזקה זוגית אם שני אגפי אי-השוויון אינם שליליים.

פעולות אסורות לביצוע בפתרון אי-שוויון:

- לכפול או לחלק בביטוי שלא יודעים את סימנו.
- להעלות בחזקה זוגית כשיש אגף שלילי.

שאלות:

פתור את אי-השוויונים הבאים:

$$45x - 26 > 109 \quad (1) \qquad 6x > 2(3x - 1) \quad (2)$$

$$2(x - 5) \geq \frac{1}{2}(4x + 6) \quad (3) \qquad (x - 2)^2 + 4 < (x + 2)^2 + 20 \quad (4)$$

$$\frac{8x - 4}{2} < \frac{9(x + 1)}{3} \quad (5) \qquad 4(6x - 8) < 8(3x - 4) \quad (6)$$

$$\frac{x - 6}{3} - \frac{x - 4}{4} \geq 12 - x \quad (7) \qquad \frac{7 - x}{10} - \frac{3x - 1}{5} + \frac{x + 4}{3} < 7 \quad (8)$$

תשובות סופיות:

$$x > 3 \quad (1)$$

$$x \text{ כל} \quad (2)$$

$$x \text{ אף} \quad (3)$$

$$x > -2 \quad (4)$$

$$x < 5 \quad (5)$$

$$x \text{ אף} \quad (6)$$

$$x \geq 12 \quad (7)$$

$$x > -13 \quad (8)$$

אי-שוויונים ממעלה שנייה:

סיכום כללי:

אי שוויון ריבועי הוא מהצורה: $ax^2 + bx + c \begin{matrix} > \\ < \end{matrix} 0$ כאשר $a \neq 0$.

כדי לפתור אי שוויון ריבועי יש למצוא את נקודות האפס של הביטוי הריבועי ולאחר מכן למצוא את תחום ההצבה עבורו הביטוי מקיים את אי השוויון עצמו.

שאלות:

פתור את אי-השוויונים הבאים:

- | | |
|-------------------------------|--|
| $x^2 - 12x > -32$ (2) | $x^2 < 144$ (1) |
| $(x+2)(x+4) < 35$ (4) | $(x+2)(x+5) < 0$ (3) |
| $(x-3)(x-7) \geq 8x - 56$ (6) | $-x^2 + 13x + 30 < 0$ (5) |
| $(5x+6)^2 \leq 4(x-3)^2$ (8) | $(x-5)^2 + x(x+2) < 89$ (7) |
| $x^2 - 10x + 25 > 0$ (10) | $-3x^2 + 12x > 0$ (9) |
| $2x^2 + 2x + 24 \geq 0$ (12) | $(x-3)^2 > (x-1)(x+6) - x^2 - 3x$ (11) |

תשובות סופיות:

- | | |
|---------------------------|----------------------|
| $x < 4, x > 8$ (2) | $-12 < x < 12$ (1) |
| $-9 < x < 3$ (4) | $-5 < x < -2$ (3) |
| $x \leq 7, x \geq 11$ (6) | $x < -2, x > 15$ (5) |
| $-4 \leq x \leq 0$ (8) | $-4 < x < 8$ (7) |
| $x > 5, x < 5$ (10) | $0 < x < 4$ (9) |
| x כל (12) | $x < 3, x > 5$ (11) |

אי-שוויונים ממעלה שלישית:

סיכום כללי:

אי שוויונים ממעלה גבוהה מיוחסים לכאלה שניתן לכתוב אותם בצורה של פולינומים, כגון: $x^4 + 2x^2 + 1 < 0$, $x^3 - 4x^2 + 4x + 1 > 0$. וכי.
 בפועל נפתור אותם ע"י פירוק לגורמים ומציאת נקודות האפס של כל גורם.
 לאחר מכן נבדוק את כל אחד מתחומי המספרים המתקבלים עבור הנעלם ונראה באלו מהם מתקבל פסוק אמת.

שאלות:

פתור את אי-השוויונים הבאים:

$x(x^2 + x + 1) > 0$ (2)	$(x-1)(x-2)(x-3) > 0$ (1)
$x^3 - 25x \geq 0$ (4)	$(-2x^2 - 3x + 2)(x+1) \leq 0$ (3)
$(x^2 + 8x + 20)(3x - 5) \leq 0$ (6)	$(x^2 + 3x + 5)(x - 2) > 0$ (5)
$x^3 - 6x^2 + 9x \leq 0$ (8)	$(x^2 - x - 6)(x - 1) < 0$ (7)
$(x-2)(x-4)(x-1) < 0$ (10)	$(x^2 + 6)(x+3) > 0$ (9)

תשובות סופיות:

$x > 0$ (2)	$1 < x < 2, x > 3$ (1)
$-5 \leq x \leq 0, x \geq 5$ (4)	$-2 \leq x \leq -1, x \geq \frac{1}{2}$ (3)
$x \leq 1\frac{2}{3}$ (6)	$x > 2$ (5)
$x \leq 0, x = 3$ (8)	$x < -2, 1 < x < 3$ (7)
$x < 1, 2 < x < 4$ (10)	$x > -3$ (9)

אי-שוויונים עם מנה:

סיכום כללי:

אי שוויון מהצורה: $\frac{f(x)}{g(x)} > 0$ או $\frac{f(x)}{g(x)} < 0$ נקרא אי-שוויון עם מנה, בו $f(x)$

ו- $g(x)$ הם פולינומים כלשהם.

למשל: $\frac{2x+4}{x^2-3x+4} < 0$ בו: $f(x) = 2x+4$ ו- $g(x) = x^2-3x+4$.

כדי לפתור אי שוויון עם מנה נמצא את נקודות האפס של $f(x)$ ושל $g(x)$ ונציב מספרים בתחומים המתקבלים. אלו שיתנו פסוק אמת יהוו את פתרון אי השוויון.

הערות:

- ניתן לבצע כפל של המכנה בריבוע בכדי להעביר את אי השוויון לצורה של מכפלות.
- ניתן להעביר אי שוויון המכיל מספר מנות ומספרים שלמים לצורה הנ"ל ע"י פעולות אלגבריות מתאימות תחילה.

שאלות:

פתור את אי-השוויונים הבאים:

$\frac{x-1}{3x+2} \geq -3$ (2)	$\frac{x-1}{x^2-9} > 0$ (1)
$\frac{x-3}{2x^2-10x+12} > 0$ (4)	$\frac{1}{x^2-16} > 0$ (3)
$\frac{1}{-3(x-1)} < 0$ (6)	$\frac{2x-1}{x-5} \leq 0$ (5)
$\frac{1}{x^2-5x+6} < 0$ (8)	$\frac{x-1}{x+2} \leq 1$ (7)
$\frac{1}{x^2-8x+12} \geq 0$ (10)	$\frac{x^2-7x+6}{-x^2+3x-7} \geq 0$ (9)

תשובות סופיות:

$$x < -\frac{2}{3}, x \geq -\frac{1}{2} \quad (2)$$

$$2 < x < 3, x > 3 \quad (4)$$

$$x > 1 \quad (6)$$

$$2 < x < 3 \quad (8)$$

$$x < 2, x > 6 \quad (10)$$

$$-3 < x < 1, x > 3 \quad (1)$$

$$x < -4, x > 4 \quad (3)$$

$$\frac{1}{2} \leq x < 5 \quad (5)$$

$$x > -2 \quad (7)$$

$$1 \leq x \leq 6 \quad (9)$$

אי-שוויונים כפולים - מערכת וגם:

סיכום כללי:

אי-שוויון כפול הוא צורה מקוצרת להציג שני אי-שוויונים אשר יש לפתור יחד (קרי: כמערכת יוגם!). למשל במקום לכתוב: $a < b$ וגם $b < c$, ניתן לכתוב: $a < b < c$. מכאן כי כדי לפתור אי שוויון כפול יש לפצל אותו תחילה לשני אי-שוויונים ולפתור כל אחד בנפרד. לאחר מכן יש לקחת את חיתוך הפתרונות.

שאלות:

פתור את אי-השוויונים הבאים:

$$0 < \frac{1}{x+4} < 2 \quad (2)$$

$$3 < x+1 < 5 \quad (1)$$

$$0 < \frac{8-3x}{5-2x} < 4 \quad (4)$$

$$-1 < \frac{x-1}{x+1} < 1 \quad (3)$$

$$6 < \frac{2x+10}{3} \leq \frac{7x-20}{5} \quad (6)$$

$$6x-38 \leq x-3 \leq 5x+7 \quad (5)$$

$$\frac{4x+5}{15} > \frac{3x-8}{5} + \frac{9-x}{3} > 11 \quad (8)$$

$$-1 \leq \frac{2x-6}{4} < \frac{x+2}{3} \quad (7)$$

תשובות סופיות:

$$x > -3\frac{1}{2} \quad (2)$$

$$2 < x < 4 \quad (1)$$

$$x < 2\frac{2}{5}, x > 2\frac{2}{3} \quad (4)$$

$$x > 0 \quad (3)$$

$$x \geq 10 \quad (6)$$

$$-2.5 \leq x \leq 7 \quad (5)$$

$$\emptyset \quad (8)$$

$$1 \leq x < 13 \quad (7)$$

שאלות מסכמות – אי-שוויונים:

שאלות:

פתור את אי-השוויונים הבאים:

$$x \leq -\frac{3}{4} \cap \{-2 < x \leq 5 \cup 0 < x < 8\} \quad (1)$$

$$\frac{(x-3)(x+4)}{2-x} \leq 0 \quad (3) \quad x(x+5) - 3x + 15 \leq 2x - 1 - x(4-x) \quad (2)$$

$$\frac{(2x-3)(x-12)}{(x+1)(4-x)} \geq 0 \quad (5) \quad \frac{(x-5)(3x+1)}{(2-x)(x+7)} < 0 \quad (4)$$

$$\frac{(x-6)^2(x+1)}{x-2} > 0 \quad (7) \quad x(x+3)(2x-5) < 0 \quad (6)$$

$$\frac{x-3}{x^2+2} > 0 \quad (9) \quad \frac{5-2x}{(x-8)^2} \leq 0 \quad (8)$$

$$\frac{x^2-6x+9}{x^3-x} > 0 \quad (11) \quad \frac{x^2-4x}{x^2+2x-3} > 0 \quad (10)$$

$$\frac{x}{x^2-4} + \frac{1}{x+2} < \frac{1}{x-2} \quad (13) \quad \frac{x-7}{x^2+x+3} > 0 \quad (12)$$

$$6 < 5x - x^2 \cap x^2 > 3x + 10 \quad (15) \quad \frac{2x^2}{x^2-6x+8} \geq \frac{x}{x-4} - \frac{x}{x-2} \quad (14)$$

$$1 < \frac{x-1}{x-4} \leq 2 \quad (17) \quad \frac{3}{x-1} - \frac{2}{x} > 0 \cup \frac{1}{x-3} < \frac{1}{1-x} \quad (16)$$

(18) לאלו ערכי x נמצאת הפונקציה $f(x) = \frac{x}{x-3}$ מעל הפונקציה $g(x) = \frac{x+1}{x+3}$?

תשובות סופיות:

- | | |
|---|--------------------------------------|
| $x \leq -4$ (2) | $-2 < x \leq -\frac{3}{4}$ (1) |
| $x < -7, -\frac{1}{3} < x < 2, x > 5$ (4) | $-4 \leq x < 2, 3 \leq x$ (3) |
| $x < -3, 0 < x < 2.5$ (6) | $-1 < x \leq 1.5, 4 < x \leq 12$ (5) |
| $2.5 \leq x < 8, x > 8$ (8) | $x < -1, 2 < x < 6, x > 6$ (7) |
| $x < -3, 0 < x < 1, x > 4$ (10) | $x > 3$ (9) |
| $x > 7$ (12) | $-1 < x < 0, 1 < x < 3, x > 3$ (11) |
| $x \leq 0, 1 \leq x < 2, x > 4$ (14) | $x < -2, 2 < x < 4$ (13) |
| $x \neq 1$ (16) | $x \neq 7$ (15) |
| $-3 < x < -\frac{3}{5}, x > 3$ (18) | $x \geq 7$ (17) |

אי שוויונים עם שורשים:

סיכום כללי:

מקרים בפתרון אי-שוויונות עם שורשים:

מקרה	אי השוויון	פתרון
$a \geq 0$	$\sqrt{f(x)} < a$	$0 \leq f(x) < a^2$
$a < 0$	$\sqrt{f(x)} < a$	אין פתרון
	$\sqrt{f(x)} > a$	כל x בת.ה. של $f(x)$

שאלות:

פתור את אי השוויונים הבאים:

$$\sqrt{2x-5} \geq 1 \quad (2)$$

$$\sqrt{x+3} < 7 \quad (1)$$

$$\sqrt{x^2+x-6} < x-3 \quad (4)$$

$$\sqrt{2x^2+5x-6} > 2-x \quad (3)$$

$$\sqrt{x^2+5x+6} - \sqrt{x^2-x+1} < 1 \quad (6)$$

$$\sqrt{x^2+3x+2} - 1 < \sqrt{x^2-x+1} \quad (5)$$

$$\frac{4}{\sqrt{2-x}} - \sqrt{2-x} < 2 \quad (8)$$

$$\frac{1-\sqrt{1-4x^2}}{x} > \frac{3}{2} \quad (7)$$

$$\sqrt{2-\sqrt{3+x}} < \sqrt{4+x} \quad (10)$$

$$\sqrt{\frac{1}{x^2} - \frac{3}{4}} < \frac{1}{x} - \frac{1}{2} \quad (9)$$

$$\sqrt{1+\frac{9}{x}} + 5\sqrt{\frac{x}{x+9}} \geq 4 \quad (12)$$

$$\sqrt{x+6} > \sqrt{x+1} + \sqrt{2x-5} \quad (11)$$

תשובות סופיות:

(1) $-3 \leq x < 46$

(2) $x \geq 3$

(3) $x < -10, x > 1$

(4) \emptyset

(5) $x \leq -2, -1 \leq x < \frac{-1 + \sqrt{13}}{6}$

(6) $x \leq -3, -2 \leq x < \frac{-13 + \sqrt{73}}{16}$

(7) $\frac{12}{25} < x \leq \frac{1}{2}$

(8) $x < 2\sqrt{5} - 4$

(9) $1 < x \leq \frac{2}{\sqrt{3}}$

(10) $שזה: -2.618 < x \leq 1 - \frac{3 + \sqrt{5}}{2} < x \leq 1$

(11) $2.5 \leq x < 3$

(12) $x < -9, x > 0$

תחום הגדרה:

שאלות:

1 מצא את תחום ההגדרה של הפונקציות הבאות:

א. $f(x) = \sqrt{3x-4}$	ב. $f(x) = \sqrt{x^2 - 5x - 6}$
ג. $f(x) = \sqrt{12x - x^2 - x^3}$	ד. $f(x) = \sqrt{\frac{x+5}{x^2-4}}$
ה. $f(x) = \frac{1}{\sqrt{x+2-x}}$	ו. $f(x) = \frac{\sqrt{3x^2-2x-1}}{2x-3}$

2 מצא את תחום ההגדרה של הפונקציות הבאות:

א. $f(x) = \sqrt{\sqrt{x+2}-3}$	ב. $f(x) = \frac{1}{x+\sqrt{x+6}}$
ג. $f(x) = \sqrt{\frac{2x^2+x-3}{x^2+5x+9}}$	ד. $f(x) = \frac{\sqrt{x^2+5x+6}}{x-1}$

3 תחום ההגדרה של הפונקציה: $f(x) = \sqrt{ax - x^2 - 4}$ הוא $1 \leq x \leq 4$. מצא את ערכו של הפרמטר a .

4 תחום ההגדרה של הפונקציה: $f(x) = \sqrt{\frac{x+a}{x-a}}$ הוא $x \leq -2, x > 2$. מצא את ערכו של הפרמטר a .

5 נתונה הפונקציה: $f(x) = \sqrt{\sqrt{x+6}-a}$, (a פרמטר חיובי).

א. הבע באמצעות a את תחום הגדרתה.

ב. מגדירים פונקציה נוספת: $g(x) = \sqrt{\frac{2x}{x+5}}$.

ידוע כי תחום ההגדרה של שתי הפונקציות מכסה את כל ציר המספרים. מצא את תחום הערכים האפשרי של הפרמטר a .

תשובות סופיות:

- (1) א. $x \geq 1\frac{1}{3}$ ב. $x \leq -1, x \geq 6$ ג. $x \leq -4, 0 \leq x \leq 3$
- ד. $-5 \leq x < -2, x > 2$ ה. $-2 \leq x < 2, x > 2$ ו. $x \leq -\frac{1}{3}, 1 \leq x < \frac{3}{2}, x > \frac{3}{2}$
- (2) א. $x \geq 7$ ב. $-6 \leq x \neq -2$ ג. $x \leq -1\frac{1}{2}, x \geq 1$
- ד. $x \leq -3, -2 \leq x \neq 1$
- (3) $a = 5$
- (4) $a = 2$
- (5) א. $x \geq a^2 - 6$ ב. $0 < a \leq 1$

אי שוויונים עם ערך מוחלט:

סיכום כללי:

כללים לפתרון אי שוויון עם ערך מוחלט יחיד:

$ x > a$	$ x < a$	מקרה
$x < -a \cap x > a$	$-a < x < a$	פתרון

כללים לפתרון אי שוויון עם מספר ערכים מוחלטים:

- נמצא את הנקודות המאפסות כל ביטוי עם ערך מוחלט.
- מחלקים את אי השוויון לתחומים לפי נקודות האפס.
- פותרים את אי השוויון לכל תחום בנפרד.
- כותבים פתרון כללי (מערכת או) לכל התחומים יחדיו.

שאלות:

(1) פתור את אי-השוויונים הבאים:

א. $|x+2| < 3$ ב. $|2x+1| > 7$
 ג. $|6-2x| < x$ ד. $|2x+1|-3x > 4$

(2) פתור את אי-השוויונים הבאים:

א. $1 < |4-3x| < 7$ ב. $|2x+3| < 8 < |5-x|$

(3) פתור את אי-השוויונים הבאים:

א. $|x^2 + 6x - 4| < 12$ ב. $|x^2 + x - 10| > 3x - 2$
 ג. $|x^2 - 3x| < 4$ ד. $|6x^2 - 7x - 4| > 1$
 ה. $x^2 - 6|x| + 5 \leq 0$ ו. $x^2 - 6|x+1| - 1 > 0$

(4) פתור את אי-השוויונים הבאים:

א. $|x-3|+|2x+2|>7$

ב. $|x+8|<11-|1-3x|$

ג. $|3-2x|-11>4-|6+x|$

ד. $|2x-6|+|x+5|>14-|1-x|$

ה. $|5+4x|-|3-x|+\left|4-\frac{1}{2}x\right|\leq 22$

ו. $|x+3|+|x^2-5x+4|<19$

(5) פתור את אי-השוויונים הבאים:

א. $\left|\frac{3x-1}{x-2}\right|\geq 3$

ב. $1\leq\left|\frac{x+2}{x-2}\right|\leq 2$

ג. $\frac{|x-6|+8x}{x-12}\leq 12$

ד. $\left|\frac{x^2+3x+2}{x^2-3x+2}\right|>5$

(6) פתור את אי-השוויונים הבאים (ערך מוחלט ושורשים):

א. $\sqrt{x^2-|x-12|}<x$

ב. $2-\sqrt{1-x}\leq|x+2|-3$

ג. $\sqrt{|2x+1|-x-1}\leq 4-|3x|$

ד. $\frac{|x+2|-|x|}{\sqrt{4-x^3}}>0$

תשובות סופיות:

- (1) א. $-5 < x < 1$
 ג. $2 < x < 6$
- (2) א. $1\frac{2}{3} < x < 3\frac{2}{3}$ או $-1 < x < 1$
 ב. $-5\frac{1}{2} < x < -3$
- (3) א. $-2 < x < 2$ או $-8 < x < -4$
 ג. $-1 < x < 4$
 ה. $1 \leq x \leq 5$ או $-5 \leq x \leq -1$
- (4) א. $2 < x$ או $x < -2$
 ג. $4 < x$ או $x < -6$
 ה. $-7\frac{3}{7} \leq x \leq 4$
- (5) א. $\frac{7}{6} \leq x < 2$, $x > 2$
 ג. $x < 12$, $x \geq 46$
- (6) א. $x = -1$, $x \geq 3$, $x \neq 12$
 ג. $0 \leq x \leq 1$, $-1 \leq x \leq -\frac{2}{3}$
- ב. $3 < x$ או $x < -4$
 ד. $x < -1$
- ב. $4 < x$ או $x < 2$
 ד. $x < -\frac{1}{2}$, $-\frac{1}{3} < x < \frac{3}{2}$, $x > \frac{5}{3}$
 ו. $x < -5$, $x > 7$
- ב. $-1 < x < 1$
 ד. $4 < x$ או $x < -1$
 ו. $-2 < x < 6$
- ב. $0 \leq x \leq \frac{2}{3}$, $x \geq 6$
- ד. $\frac{1}{2} < x < 1$, $1 < x < 2$, $2 < x \leq 4$
- ב. $x \leq \frac{-15 + \sqrt{33}}{2}$
 ד. $-1 < x < \sqrt[3]{4}$

אלגברה ב 4033623

פרק 3 - סדרות

תוכן העניינים

1. הקדמה כללית	(ללא ספר)
2. סדרה חשבונית	39
3. סדרה הנדסית	46
4. סדרות מעורבות	51
5. סדרה הנדסית אינסופית מתכנסת	53
6. סדרת נסיגה	59

סדרה חשבונית:

סיכום כללי:

- נוסחת האיבר הכללי:

נוסחת האיבר הכללי של סדרה חשבונית המתחילה באיבר a_1 והפרשה הוא d נתונה ע"י: $a_n = a_1 + d(n-1)$, כאשר: n הוא מיקום האיבר שערכו a_n בסדרה.

- כלל נסיגה של סדרה חשבונית:

כלל נסיגה של סדרה חשבונית a_n שהפרשה הוא d ואיברה הראשון הוא a_1 נתון ע"י: $a_{n+1} - a_n = d$.

- נוסחת הסכום של סדרה חשבונית:

סכום n האיברים הראשונים של סדרה חשבונית a_n שהפרשה הוא d ואיברה

הראשון הוא a_1 נתון ע"י: $S_n = \frac{n(a_1 + a_n)}{2}$.

בהצבת נוסחת האיבר הכללי מקבלים: $S_n = \frac{n(2a_1 + d(n-1))}{2}$.

שאלות:

- (1) נתונה הסדרה החשבונית: $17, 11, 5, -1, -7, \dots$. מצא את האיבר האחרון בסדרה אם ידוע שיש בה 43 איברים.
- (2) בסדרה חשבונית האיבר השישי הוא 15 והאיבר העשירי הוא 31. מצא מהו האיבר הראשון בסדרה ומהו הפרש הסדרה.
- (3) מצא כמה איברים יש בסדרה החשבונית: $2, 4.5, 7, 9.5, 12, 14.5, \dots, 49.5$.

- (4) בסדרה חשבונית סכום האיברים השני, החמישי והשמיני הוא 87 וההפרש בין האיבר השנים-עשר לאיבר השישי הוא 24. מצא כמה איברים בסדרה אם ידוע שהאיבר האחרון בה הוא 201.
- (5) תחביב אחה"צ של שימי הפרעוש הוא לקפוץ על טומי הכלב. מנהגו של שימי הוא לקפוץ בדקה הראשונה 4 קפיצות ובכל דקה שאחריה לקפוץ 3 קפיצות יותר מדקה הקודמת. כמה דקות אורך תחביב אחה"צ של שימי אם ידוע שבדקה האחרונה הוא קופץ 46 קפיצות?
- (6) כמה מספרים תלת ספרתיים שמתחלקים ב-6 יש בין 201 ל-550?
- (7) כמה איברים חיוביים ישנם בסדרה החשבונית: $91, 88, 85, 82, \dots$.
- (8) מצא את ערכו של x אם ידוע שהאיברים הבאים הם איברים עוקבים בסדרה חשבונית: $x-3, 3x-4, x^2-1$.
- (9) נתונה סדרה המוגדרת באמצעות כלל הנסיגה הבא:
$$\begin{cases} a_{n+1} = a_n + 3 \\ a_1 = 5 \end{cases}$$
 הוכח שהסדרה חשבונית ומצא מהו האיבר התשעה-עשר שלה.
- (10) בסדרה חשבונית $a_1, a_2, a_3, \dots, a_n$ ידוע כי סכום ארבעת האיברים הראשונים וסכום האיברים ה-6 עד ה-9 הם מספרים נגדיים.
- א. הוכח: $a_5 = 0$.
- ב. נתון: $a_3 - a_{11} = 24$. מצא את a_1 ואת d .
- ג. מגדירים סדרה חשבונית חדשה b_n המקיימת: $b_n = 2a_n - 3$. מצא את ערך האיבר השלילי הראשון בסדרה ואת מיקומו הסידורי.
- (11) מצא את סכום ארבעה-עשר האיברים הראשונים בסדרה החשבונית: $-3, 2, 7, 12, \dots$.

- (12) נתונה הסדרה החשבונית: $5, -1, -7, -13, \dots$. כמה איברים יש לחבר בסדרה (החל מהראשון) כדי להגיע לסכום של 987?
- (13) תחביב אחה"צ של מימי הפרעושה הוא לקפוץ על טומי הכלב. מנהגה של מימי הוא לקפוץ בדקה הראשונה 11 קפיצות ובכל דקה שאחריה לקפוץ 2 קפיצות יותר מדקה הקודמת. כמה דקות אורך תחביב אחה"צ של מימי אם ידוע שבכל אחה"צ היא קפצה 416 קפיצות?
- (14) נתונה הסדרה החשבונית: $63, -67, -71, \dots$. כמה איברים לכל הפחות יש לחבר בסדרה כדי שהסכום המתקבל יהיה חיובי?
- (15) נתונה הסדרה החשבונית: $4, 13, 22, 31, \dots$. בסדרה יש 36 איברים. חשב את סכום ארבעה-עשר האיברים האחרונים בסדרה.
- (16) נתונה הסדרה החשבונית: $4, 9, 14, 19, \dots, 599$. מחקו כל איבר שלישי בסדרה. מצא את סכום האיברים שנתרו.
- (17) סכום n האיברים האחרונים בסדרה חשבונית בת $3n$ איברים גדול ב-1024 מסכום n האיברים הראשונים שבה.
 א. בטא את n באמצעות הפרש הסדרה, d .
 ב. נתון כי הפרש הסדרה הוא 8. כמה איברים בסדרה?
- (18) נתונה סדרה שבה $S_n = 2n^2 + 4n$.
 א. מצא את ערכם של שלושת האיברים הראשונים בסדרה.
 ב. הוכח כי הסדרה חשבונית ומצא את הפרשה.
- (19) בסדרה חשבונית ידוע כי סכום האיברים העומדים במקומות ה-5, ה-7, וה-16 הוא אפס. כמו כן ידוע כי סכום שלושת האיברים הראשונים הוא 132.
 א. מצא את האיבר הראשון בסדרה ואת הפרש הסדרה.
 ב. מצא את האיבר השלילי הראשון בסדרה.
 ג. מצא כמה איברים יש לחבר (החל מהאיבר הראשון) כדי לקבל סכום 210.

$$(20) \quad \left. \begin{array}{l} 150, 144, 138, \dots \\ 90, 93, 96, \dots \end{array} \right\} \text{ נתונים שני טורים חשבוניים:}$$

לשני הטורים אותו מספר איברים. ידוע כי סכום האיברים האחרונים של שני הטורים (האיבר האחרון מהטור הראשון והאיבר אחרון מהטור השני) הוא אפס.

א. מצא את מספר האיברים שבכל טור.

ב. מחברים את n האיברים הראשונים מהטור הראשון יחד עם n האיברים הראשונים מהטור השני. ידוע כי חיבור הסכומים הוא 3480. מצא את n אם ידוע שהוא קטן מ-20.

(21) נתונות שתי סדרות החשבוניות הבאות: a_n שהפרשה הוא d_1 ו- b_n שהפרשה

$$\text{הוא } d_2. \text{ ידוע כי: } d_1 = -2d_2.$$

סכום 50 האיברים הראשונים של שתי הסדרות שווה והאיבר העומד במקום ה-20 בסדרה a_n גדול ב-1 מהאיבר העומד במקום ה-37 בסדרה b_n .

א. מצא את הפרש הסדרה $a_n - d_1$.

ב. ידוע כי האיבר a_{10} קטן ב-1 מ-5 פעמים האיבר b_{50} .

מצא את a_1 ואת b_1 .

(22) נתונה הסדרה החשבונית: $\dots, -13, -17, -21, \dots$

בסדרה יש 18 איברים. חשב את סכום האיברים הנמצאים במקומות האי-זוגיים ואת סכום האיברים הנמצאים במקומות הזוגיים.

(23) בסדרה חשבונית שהפרשה d ובה $2n$ איברים סכום האיברים במקומות

האי-זוגיים הוא 552 וסכום האיברים במקומות הזוגיים הוא 612.

$$\text{הוכח כי } nd = 60.$$

(24) בסדרה חשבונית עולה, שכל איבריה חיוביים ובה מספר אי-זוגי של איברים,

גדול סכום כל איברי הסדרה פי $1\frac{14}{15}$ מסכום איברי הסדרה הנמצאים

במקומות האי-זוגיים. כמה איברים יש בסדרה?

- (25)** לפניך שלושה איברים סמוכים בסדרה חשבונית: $x-5$, $x-16$, $2x+23$.
- א. ענה על הסעיפים הבאים:
- מצא את x .
 - מצא את הפרש הסדרה.
- ב. ידוע כי: $a_{12} = 0$. מצא את a_1 .
- ג. האיבר האחרון בסדרה הוא: $a_n = 308$.
- מצא את סכום כל האיברים החיוביים העומדים במקומות האי-זוגיים.

- (26)** בסדרה חשבונית שבה מספר זוגי של איברים נתון כי סכום ריבועי האיברים העומדים במקומות ה-4 וה-5 שווה לריבוע האיבר העומד במקום ה-6. האיבר הראשון אינו אפס.
- א. הוכח את הטענות הבאות:
- $a_1 = -4d$
 - $S_9 = 0$
- ב. האיבר העומד במקום ה-6 גדול ב-2 מהאיבר העומד במקום ה-5. מצא את a_1 ואת d .
- ג. מצא את מספר איברי הסדרה אם ידוע כי סכום האיברים העומדים במקומות הזוגיים הוא 504.

- (27)** בסדרה חשבונית שבה $2n$ איברים ידוע כי סכום כל האיברים גדול ב-66 מפעמיים סכום האיברים העומדים במקומות האי-זוגיים.
- א. הוכח כי $nd = 66$.
- ב. ידוע כי הפרש הסדרה הוא 3. הבע באמצעות a_1 את סכום n האיברים הראשונים.
- ג. סכום n האיברים הראשונים הוא 187. מצא את האיבר החיובי הקטן ביותר בסדרה ואת מיקומו הסידורי בסדרה.

- (28)** אדם המעוניין לקנות רכב קיבל שתי הצעות מחיר.
- ההצעה הראשונה :
- לשלם בתשלום הראשון 1000 ₪ ובכל תשלום שאחריו סכום הגדול ב-500 ₪ מהתשלום הקודם.
- ההצעה השנייה :
- לשלם בתשלום הראשון 7200 ₪ ובכל תשלום שאחריו סכום הקטן ב-450 ₪ מהתשלום הקודם.
- ידוע כי מספר התשלומים בהצעה השנייה קטן ב-4 ממספר התשלומים שבהצעה הראשונה.
- א. כמה תשלומים יצטרך לשלם לפי כל הצעה.
- ב. מה מחיר הרכב?

תשובות סופיות:

- (1) $a_{43} = -235$
- (2) $d = 4, a_1 = -5$
- (3) 20 איברים.
- (4) 48 איברים.
- (5) 15 קפיצות.
- (6) 58 מספרים.
- (7) 31 איברים חיוביים.
- (8) $x = 4, x = 1$
- (9) $a_{19} = 59$
- (10) א. הוכחה.
- (11) $S_{14} = 413$
- (12) 21 איברים.
- (13) 16 דקות.
- (14) 37 איברים.
- (15) 3647
- (16) 23920
- (17) א. $n = \sqrt{\frac{512}{d}}$
- (18) א. $a_1 = 6, a_2 = 10, a_3 = 14$ ב. $d = 4$
- (19) א. $a_1 = 50, d = -6$ ב. $a_{10} = -4$ ג. $n = 6$
- (20) א. $n = 81$ ב. $n = 16$
- (21) א. $d_1 = 4$ ב. $a_1 = -52, b_1 = 95$
- (22) אי-זוגיים: $S = 99$ זוגיים: $S = 135$
- (23) שאלת הוכחה.
- (24) 29 איברים.
- (25) א. i. $x = -50$ ii. $d = 11$ ב. $a_1 = -121$ ג. $S = 2156$
- (26) א. הוכחה. ב. $a_1 = -8, d = 2$ ג. $n = 36$
- (27) א. הוכחה. ב. $S = 22a_1 + 693$ ג. $a_9 = 1$
- (28) א. 12 לפי ההצעה הראשונה ו-8 לפי ההצעה השנייה. ב. 45000 שח.

סדרה הנדסית:

סיכום כללי:

- נוסחת האיבר הכללי:

נוסחת האיבר הכללי של סדרה הנדסית המתחילה באיבר a_1 ומנתה היא q נתונה ע"י הנוסחה: $a_n = a_1 q^{n-1}$, כאשר: n הוא מיקום האיבר שערכו a_n בסדרה.

- כלל נסיגה של סדרה הנדסית:

כלל נסיגה של סדרה הנדסית a_n שמנתה היא q ואיברה הראשון הוא a_1 נתון ע"י הקשר הבא: $a_{n+1} = a_n \cdot q$.

- נוסחת הסכום של סדרה הנדסית:

סכום n האיברים הראשונים של סדרה הנדסית a_n שמנתה היא q ואיברה

הראשון הוא a_1 נתון ע"י: $S_n = \frac{a_1(q^n - 1)}{q - 1}$.

שאלות:

(1) נתונה הסדרה ההנדסית: $\frac{1}{9}, \frac{1}{3}, 1, 3, \dots$

מצא את האיבר האחרון בסדרה אם ידוע שיש בה 9 איברים.

(2) מצא כמה איברים יש בסדרה ההנדסית: $\frac{9}{64}, \frac{3}{16}, \frac{1}{4}, \dots, \frac{64}{81}$

(3) בסדרה הנדסית האיבר השישי הוא 8 והאיבר העשירי הוא 128. מצא מהו האיבר הראשון בסדרה ומהי מנת הסדרה.

(4) בסדרה הנדסית ההפרש בין האיבר השביעי לאיבר החמישי הוא 432 וההפרש בין האיבר החמישי לשלישי הוא 48. מצא מהו האיבר הראשון בסדרה ומהי מנת הסדרה.

- (5) בסדרה הנדסית עולה ההפרש בין האיבר השמיני לאיבר הרביעי הוא 3120 וסכום האיברים השני והרביעי הוא 5.2. מצא מהו האיבר הראשון בסדרה ומהי מנת הסדרה.
- (6) תחביב אחה"צ של שימי הפרעוש הוא לקפוץ על טומי הכלב. מנהגו של שימי הוא לקפוץ בדקה הראשונה 4 קפיצות ובכל דקה שאחריה לקפוץ פי 3 קפיצות מדקה הקודמת. כמה דקות אורך תחביב אחה"צ של שימי אם ידוע שבדקה האחרונה הוא קופץ 324 קפיצות?
- (7) מצא את ערכו של x אם ידוע שהאיברים הבאים הם איברים עוקבים בסדרה הנדסית: $x-6, x+4, 4x+1$. מצא גם את מנת הסדרה.
- (8) נתונה סדרה המוגדרת באמצעות כלל הנסיגה הבא:
$$\begin{cases} a_{n+1} = 2a_n \\ a_1 = 3 \end{cases}$$
 הוכח שהסדרה הנדסית ומצא מהו האיבר השמיני בה.
- (9) מצא את סכום תשעת האיברים הראשונים בסדרה ההנדסית: $5, 10, 20, 40, \dots$.
- (10) תחביב אחה"צ של מימי הפרעושה הוא לקפוץ על טומי הכלב. מנהגו של מימי הוא לקפוץ בדקה הראשונה 2 קפיצות ובכל דקה שאחריה לקפוץ פי 5 קפיצות מדקה הקודמת. כמה דקות אורך תחביב אחה"צ של מימי אם ידוע שבכל אחה"צ היא קפצה 1562 קפיצות?
- (11) סכום n האיברים האחרונים בסדרה הנדסית בת $3n$ איברים שמנתה 2, גדול פי 256 מסכום n האיברים הראשונים בה. כמה איברים בסדרה?
- (12) בסדרה הנדסית עולה שבה n איברים, סכום $n-3$ האיברים האחרונים גדול פי 8 מסכום $n-3$ האיברים הראשונים בה. מצא את מנת הסדרה.
- (13) סכום כל האיברים בסדרה הנדסית הוא 252. האיבר האחרון בסדרה גדול ב-120 מהאיבר השני בה. מצא כמה איברים יש בסדרה אם ידוע שמנתה 2.

14 המספרים: $2x-3$, $x-9$, $x-13$ הם שלושת האיברים הראשונים בסדרה הנדסית עולה שכל איבריה חיוביים.

- א. מצא את x .
 ב. ענה על הסעיפים הבאים:
 i. כתוב את נוסחת האיבר הכללי בסדרה זו.
 ii. מצא שני איברים סמוכים בסדרה שסכומם הוא 18750.
 ג. ידוע כי האיבר האחרון בסדרה הוא: $a_n = 5^{11}$.
 מצא את סכום 7 האיברים האחרונים בסדרה.

15 נתונה הסדרה ההנדסית הבאה: $a_1, 4, 12, 36, \dots, a_{n+1}$. מוסיפים לכל איבר בסדרה זו שישית מהאיבר הבא אחריו ויוצרים סדרה חדשה b_n באופן הבא:

$$b_1 = a_1 + \frac{a_2}{6}, \quad b_2 = a_2 + \frac{a_3}{6}, \quad b_3 = a_3 + \frac{a_4}{6}, \quad \dots, \quad b_n = a_n + \frac{a_{n+1}}{6}$$

- א. הוכח כי הסדרה b_n היא סדרה הנדסית ומצא את מנתה.
 ב. הראה כי היחס בין סכום n האיברים הראשונים של הסדרה a_n ובין סכום n האיברים הראשונים של הסדרה b_n הוא $\frac{2}{3}$.
 ג. מצא שני איברים סמוכים בסדרה b_n שסכומם מהווה $\frac{2}{9}$ מ- a_8 .

16 נתונה הסדרה ההנדסית: $7, 14, 28, \dots$. בסדרה יש 8 איברים. חשב את סכום האיברים הנמצאים במקומות האי-זוגיים ואת סכום האיברים הנמצאים במקומות הזוגיים.

17 בסדרה הנדסית ובה $2n$ איברים סכום האיברים במקומות הזוגיים גדול פי 4 מסכום האיברים במקומות האי-זוגיים. חשב את מנת הסדרה.

18 נתונה סדרה הנדסית שמנתה q ובה מספר זוגי של איברים. בטא באמצעות q את היחס בין סכום איברי הסדרה כולה לסכום האיברים הנמצאים במקומות הזוגיים שבה.

19 בסדרה הנדסית שבה $2n+1$ איברים, סכום n האיברים הראשונים קטן פי 9 מסכום n האיברים הבאים אחריהם. האיבר האחרון בסדרה גדול ב-30 מהאיבר הראשון שבה. מצא את האיבר הראשון בסדרה.

20) ענה על הסעיפים הבאים :

- א. הראה כי בסדרה הנדסית שבה $2n$ איברים היחס בין סכום האיברים העומדים במקומות האי-זוגיים לבין סכום כל איברי הסדרה תלוי במנת בסדרה.
- בסדרה הנדסית שבה מספר זוגי של איברים ידוע כי סכום כל האיברים העומדים במקומות האי-זוגיים קטן פי 4 מסכום כל איברי הסדרה. האיבר הראשון בסדרה זו קטן ב-2 ממנת הסדרה.
- ב. כתוב נוסחה לאיבר כללי של סדרה זו.
- ג. מצא שני איברים סמוכים בסדרה שסכומם הוא 324.

21) בסדרה הנדסית שבה 12 איברים סכום כל איברי הסדרה גדול פי 3 מסכום האיברים כאשר מחליפים את סימני כל האיברים העומדים במקומות האי-זוגיים.

- א. מצא את מנת הסדרה.
- ב. ידוע כי ההפרש בין האיבר החמישי לאיבר הרביעי בסדרה הוא 8. מצא את האיבר הראשון בסדרה.
- ג. חשב את סכום כל האיברים העומדים במקומות הזוגיים בסדרה.

22) באחת ממדינות המזרח היה מלך שאהב משחקי חשיבה. לכבוד יום הולדתו הכין לו השר הבכיר שבממלכתו משחק מיוחד המכיל 25 משבצות ו-2 חיילי משחק. המלך, מרוב התלהבות ושמחה לא ידע כיצד לגמול לשר החכם ושאל אותו מה ירצה בתמורה. השר סרב לקבל דבר על מתנתו עד שלבסוף החליט המלך לתת לשר מחצית מכל אוצרות הממלכה המונים כ-40 מיליון אבנים יקרות. לאחר ששמע על כך השר, הוא החליט לאתגר את המלך והעלה את ההצעה הבאה :

תן לי אבן יקרה אחת והכפל אותה בכל משבצת שבמשבצות המשחק באופן הבא : כנגד המשבצת הראשונה - אבן אחת, כנגד השנייה - שתי אבנים, כנגד השלישית - ארבע אבנים וכן הלאה...

המלך הסכים להצעה.

- א. כמה אבנים המלך ייתן לשר כנגד המשבצת האחרונה במשחק?
- ב. העזר בכמות האבנים שברשותו של השר וקבע האם הצעתו שוות-ערך יותר מהחלטת המלך לתת לו מחצית מאוצרות הממלכה.
- ג. סמוך לפני שנתן המלך את האבנים לשר, הציעה בתו של המלך הצעה נוספת והיא : תן עבור כל משבצת זוגית 2^n אבנים, כאשר n הוא מספר המשבצת. האם כדאי למלך לקבל את הצעת בתו או להישאר עם ההצעה המקורית של השר?

תשובות סופיות:

(1) $a_9 = 729$

(2) $n = 7$

(3) $a_1 = \pm \frac{1}{4}, q = \pm 2$

(4) $a_1 = \frac{2}{3}, q = \pm 3$

(5) $a_1 = \frac{1}{25}, q = 5$

(6) 5 דקות.

(7) $x = -\frac{2}{3} \rightarrow q = -\frac{1}{2}, x = 11 \rightarrow q = 3$

(8) $a_8 = 384$

(9) $S_9 = 2555$

(10) 5 דקות.

(11) יש 12 איברים בסדרה. $n = 4$

(12) $q = 2$

(13) $n = 6$

(14) א. $x = 14$ ב. i. $a_n = 5^{n-1}$ ב. ii. a_6, a_7 ג. $S_7^* = 61,034,375$

(15) א. $q = 3$ ג. b_5, b_6

(16) אי-זוגיים: $S = 595$, זוגיים: $S = 1190$

(17) $q = 4$

(18) $\frac{q+1}{q}$

(19) $a_1 = \frac{3}{8}$

(20) א. $\frac{S_{n(o)}}{S_{2n}} = \frac{1}{q+1}$ ב. $a_n = 3^{n-1}$ ג. a_5, a_6

(21) א. $q = 2$ ב. $a_1 = 1$ ג. $S_{6(p)} = 2730$

(22) א. $a_{25} = 16,777,216$

ב. לפי הצעת השר יהיו לו 33,554,431 אבנים ולפי הצעת המלך יהיו

לו 20,000,000 אבנים. ג. $4, 16, 64, \dots, 2^{24}$, $S_n = 22,369,620$

סדרות מעורבות:

שאלות:

- (1) נתונים שלושה איברים עוקבים בסדרה הנדסית שמנתה 3. אם נכפול את המספר הראשון ב-3, נוסיף למספר השני 4 ונחסיר מהמספר השלישי 4 תתקבל סדרה חשבונית. מצא את המספרים.
- (2) נתונות שתי סדרות שמתחילות במספר 2 ובשתיהן 3 איברים. סדרה אחת היא חשבונית והשנייה הנדסית. האיבר השלישי בשתי הסדרות זהה והאיבר השני בסדרה ההנדסית קטן ב-4 מהאיבר השני בסדרה החשבונית. מצא את מנת הסדרה ההנדסית.
- (3) נתונים ארבעה מספרים בעלי התכונות הבאות:
 הראשון, השני והרביעי מהווים שלושה איברים עוקבים בסדרה הנדסית שמנתה 2.
 הראשון, השלישי והרביעי מהווים שלושה איברים עוקבים בסדרה חשבונית וסכומם $22\frac{1}{2}$. מצא את ארבעת המספרים.
- (4) ההפרש של סדרה חשבונית שווה למנה של סדרה הנדסית עולה. האיבר הראשון בסדרה ההנדסית הוא 6 וידוע כי סכום 2 האיברים הראשונים בסדרה החשבונית שווה לסכום שני האיברים הראשונים בסדרה ההנדסית. האיבר השלישי בסדרה ההנדסית גדול פי 2 מהאיבר השלישי בסדרה החשבונית.
 א. מצא את שלושת האיברים של הסדרה החשבונית.
 ב. מצא כמה איברים יש לחבר בסדרה החשבונית החל מהאיבר הראשון כדי לקבל את הסכום 60.
 ג. מצא את מיקומו הסידורי של איבר בסדרה ההנדסית הגדול פי 12 מהאיבר האחרון שחובר בסכום הסדרה החשבונית שחישבת בסעיף הקודם.
- (5) נתונות שתי הסדרות הבאות: סדרה חשבונית: a_1, a_2, a_3, \dots וסדרה הנדסית: b_1, b_2, b_3, \dots . ידוע כי האיבר הראשון בשתי הסדרות שווה. האיבר השלישי בסדרה ההנדסית גדול פי 4 מהאיבר הראשון בסדרה החשבונית.
 א. מצא את מנת הסדרה ההנדסית אם ידוע כי היא אינה עולה.
 ב. נתון גם כי האיבר החמישי בסדרה ההנדסית שווה לאיבר הרביעי בסדרה החשבונית. הוכח כי הפרש הסדרה החשבונית גדול פי 5 מהאיבר הראשון.
 ג. בכל סדרה יש 10 איברים. הסכום של כל האיברים של שתי הסדרות יחד הוא 212. מצא את האיבר הראשון של שתי הסדרות.

תשובות סופיות:

- (1) המספרים הם: 2, 6, 18.
- (2) $q = 3$ או $q = -1$.
- (3) המספרים הם: 3, 6, 7.5, 12.
- (4) א. 8, 10, 12 ב. 5 ג. 6.
- (5) א. $q = -2$ ג. $a_1 = 2$.

סדרה הנדסית אינסופית מתכנסת:

סיכום כללי:

- הגדרה:

סדרה הנדסית a_n המקיימת: $|q| < 1$, $(q \neq 0)$ נקראת סדרה הנדסית אינסופית מתכנסת.

- נוסחת הסכום של סדרה הנדסית אינסופית מתכנסת:

הסכום של סדרה הנדסית אינסופית מתכנסת a_n ניתן לחישוב ע"י שימוש בכלל: $\lim_{n \rightarrow \infty} q^n = 0$ והצבתו בנוסחת הסכום של סדרה הנדסית.

$$. S = \frac{a_1}{1-q} \quad \text{מתקבל הכלל הבא:}$$

- סכום סופי של איברים בסדרה הנדסית אינסופית מתכנסת:

- כאשר מתבקשים לחשב סכום של n איברים ראשונים בסדרה הנדסית אינסופית מתכנסת יש להשתמש בנוסחת הסכום הרגילה: $. S_n = \frac{a_1(q^n - 1)}{q - 1}$

- כאשר מתבקשים לחשב סכום של n איברים בסדרה הנדסית אינסופית מתכנסת המתחילים באיבר a_k יש להשתמש בנוסחת הסכום הרגילה

$$. S_n = \frac{a_k(q^n - 1)}{q - 1} \quad \text{באופן הבא:}$$

שאלות:

(1) מצא את סכום כל איברי הסדרה ההנדסית הבאה: $12, 4, 1\frac{1}{3}, \dots$

(2) סכום כל איברי סדרה הנדסית אינסופית שמנתה $\frac{1}{4}$ הוא 32. מצא את האיבר הראשון בסדרה.

(3) נתונה סדרה הנדסית אינסופית יורדת שסכומה 62.5. ידוע כי האיבר השני בסדרה הוא 10. מצא את האיבר הראשון ואת מנת הסדרה (שתי אפשרויות).

(4) האיבר הראשון בסדרה הנדסית אינסופית יורדת הוא 14. סכום האיברים במקומות הזוגיים הוא $9\frac{1}{3}$. מצא את סכום האיברים במקומות האי-זוגיים.

***הערה:** שתי השאלות הבאות מסכמות את סוגי הסכומים וייצוג סדרות שונות באמצעות סדרה נתונה כפי שמקובל בנושא זה ואינן מייצגות אורך של שאלת בגרות.

(5) נתונה סדרה הנדסית אינסופית מתכנסת a_n שמנתה q , $(q \neq 0, |q| < 1)$, מגדירים שלוש סדרות חדשות: b_n, c_n ו- d_n באופן הבא:

d_n	c_n	b_n	הסדרה:
$d_1 = S_a + a_1$	$c_1 = a_2^2 - a_1^2$	$b_1 = a_1$	הכלל:
$d_2 = S_a + a_2$	$c_2 = a_3^2 - a_2^2$	$b_2 = a_1 + a_2$	
$d_3 = S_a + a_3$	$c_3 = a_4^2 - a_3^2$	$b_3 = a_1 + a_2 + a_3$	
\vdots	\vdots	\vdots	
$d_n = S_a + a_n$	$c_n = a_{n+1}^2 - a_n^2$	$b_n = a_1 + a_2 + a_3 + \dots + a_n = S_{a(n)}$	

הסכום S_a הוא סכום הסדרה a_n , והסכום $S_{a(n)}$ הוא סכום n האיברים הראשונים של הסדרה a_n .

- א. קבע אלו מבין הסדרות b_n , c_n ו- d_n הן הנדסיות והבע את מנתן ע"י q .
- ב. הבע באמצעות a_1 בלבד את סכום הסדרה ההנדסית שמצאת בסעיף הקודם.
- ג. מסמנים את סכום ריבועי האיברים של הסדרה ההנדסית שמצאת בסעיף א' ב- $S_{(s)}$. הוכח כי לא קיים ערך של q עבורו סכום ריבועי האיברים $S_{(s)}$, שווה לסכום הסדרה הנ"ל בריבוע.

6 נתונה סדרה הנדסית אינסופית יורדת: a_n שמנתה q . מגדירים סדרה חדשה b_n באופן הבא:

$$b_1 = S_1^* = \frac{a_1}{1-q}, b_2 = S_2^* = \frac{a_2}{1-q}, b_3 = S_3^* = \frac{a_3}{1-q}, \dots, b_n = S_n^* = \frac{a_n}{1-q}, \dots$$

כאשר: S_n^* מייצג את סכום הסדרה a_n החל מהאיבר a_n (ועד אינסוף).

- א. הוכח כי הסדרה b_n היא גם הנדסית אינסופית יורדת וכתוב את נוסחת האיבר הכללי שלה באמצעות a_1 ו- q .
- ב. ידוע כי סכום הסדרה b_n הוא 126 וכי סכום 8 האיברים הראשונים בסדרה a_n גדול פי 6560 מהאיבר התשיעי בסדרה b_n . מצא את a_1 ו- q .
- ג. היעזר בסעיף הקודם והוכח כי מתקיים: $b_2 + b_3 + \dots + b_n + \dots = 42$.
- ד. חשב את סכום האיברים העומדים במקומות הזוגיים בסדרה b_n .
- ה. חשב את סכום האיברים העומדים במקומות האי-זוגיים בסדרה b_n .
- ו. מחליפים את סימני האיברים העומדים במקומות האי-זוגיים בסדרה b_n כך שנוצרת הסדרה: b_n^* . חשב את סכום הסדרה b_n^* .
- ז. מחליפים את סימני האיברים העומדים במקומות הזוגיים בסדרה b_n כך שנוצרת הסדרה: b_n^{**} . חשב את סכום הסדרה b_n^{**} .
- ח. מעלים בריבוע את כל איברי הסדרה b_n . מסמנים את הסכום המתקבל ב- $S_{(s)}$ (מלשון: square). כמו כן, מסמנים את סכום הסדרה המקורית b_n ב- S_b . הראה כי: $S_b^2 \neq S_{(s)}$.
- ט. הוכח כי היחס בין סכום איברי הסדרה a_n וסכום איברי הסדרה b_n הוא $\frac{2}{3}$.

- (7) נתונה סדרה הנדסית אינסופית יורדת שסכומה 24. מאיברי הסדרה הנתונה יצרו את סדרה חדשה באופן הבא: $a_1 + a_2, a_2 + a_3, a_3 + a_4, a_4 + a_5, \dots$.
- א. הוכח שהסדרה החדשה היא הנדסית אינסופית יורדת.
 ב. ידוע שסכום כל איברי הסדרה החדשה הוא 32.
 מצא את האיבר הראשון והמנה של הסדרה המקורית.
- (8) בסדרה הנדסית אינסופית יורדת a_n ידוע כי סכום האיברים העומדים במקומות האי-זוגיים גדול פי $1\frac{2}{3}$ מסכום האיברים העומדים במקומות הזוגיים.
- א. מצא את מנת הסדרה.
 מחברים כל שני איברים סמוכים בסדרה הנתונה ויוצרים סדרה חדשה b_n .
- ב. הוכח כי הסדרה b_n גם היא הנדסית יורדת ומצא את מנתה.
 ג. הראה כי סכום הסדרה b_n שווה לסכום הסדרה a_n .
 ד. סכום שתי הסדרות יחד הוא 1000. מצא את האיבר הראשון בסדרה a_n .
- (9) נתונה סדרה הנדסית אינסופית a_1, a_2, a_3, \dots שמנתה היא q , $(0 < q < 1)$. נגדיר את הסכומים הבאים: $T = a_1 + a_2 + a_5 + a_6 + a_9 + a_{10} + \dots$, $V = a_3 + a_7 + a_{11} + \dots$. נתון כי: $T = 6V$.
- א. מצא את מנת הסדרה q .
 ב. פי כמה קטן V מסכום כל האיברים העומדים במקומות האי-זוגיים בסדרה?
 ג. מצא את האיבר הראשון אם ידוע כי סכום האיברים העומדים במקומות האי-זוגיים הוא $1365\frac{1}{3}$.
- (10) נתונה הסדרה ההנדסית הבאה: $a_1, a_2, a_3, \dots, a_{2n}$ שמנתה היא q . בונים סדרה חדשה מריבועי כל האיברים הסדרה באופן הבא: $a_1^2, a_2^2, a_3^2, \dots, a_{2n}^2$.
- א. הוכח כי היחס בין סכום n האיברים הראשונים בסדרת הריבועים ובין סכום כל האיברים העומדים במקומות האי-זוגיים בסדרה הנתונה תלוי רק באיבר הראשון של הסדרה.
 בסדרה הנדסית אינסופית יורדת שסכומה 640 ידוע כי סכום 10 האיברים הראשונים כאשר מעלים אותם בריבוע גדול פי 320 מסכום 10 האיברים הראשונים העומדים במקומות האי-זוגיים בסדרה.
 ב. מצא את מנת הסדרה.
 ג. מחברים את כל איברי הסדרה החל מאיבר a_n כלשהו.
 ידוע כי סכום זה קטן פי 16 מסכום הסדרה המקורי. מצא את האיבר a_n .

- 11** נתונה סדרה הנדסית אינסופית a_1, a_2, a_3, \dots שמנתה היא q , $(q \neq 0, |q| < 1)$.
- נגדיר את הסכומים הבאים: $T = a_1 + a_3 + a_6 + a_8 + a_{11} + a_{13} + \dots$, $V = a_2 + a_7 + a_{12} + \dots$. נתון כי: $V = 0.3T$.
- א. מצא את מנת הסדרה q .
 מחליפים את הסימנים של כל האיברים העומדים במקומות האי-זוגיים ומתקבלת סדרה חדשה שסכומה הוא 12.
- ב. מצא את האיבר הראשון בסדרה המקורית.
- ג. מעלים את כל איברי הסדרה בריבוע. חשב את סכום הסדרה כעת.

תשובות סופיות:

$$. S = 18 \quad (1)$$

$$. a_1 = 24 \quad (2)$$

$$. q = \frac{4}{5}, a_1 = 12 \frac{1}{2} \text{ או } q = \frac{1}{5}, a_1 = 50 \quad (3)$$

$$. S = 18 \frac{2}{3} \quad (4)$$

$$\frac{b_{n+1}}{b_n} = \frac{S_{n+1}}{S_n} = \frac{S_{n+1}}{S_n} = \frac{a_{n+1}(q^{n+1}-1)}{a_n(q^n-1)} = \frac{a_{n+1}(q^{n+1}-1)}{a_n(q^n-1)} = q \cdot \frac{q^{n+1}-1}{q^n-1} : b_n \text{ הסדרה } (5)$$

היות והיא תלויה ב- n היא אינה הנדסית.

$$. \frac{c_{n+1}}{c_n} = \frac{a_{n+2}^2 - a_{n+1}^2}{a_{n+1}^2 - a_n^2} = \frac{a_n^2 q^4 - a_n^2 q^2}{a_n^2 q^2 - a_n^2} = \frac{a_n^2 q^2 (q^2 - 1)}{a_n^2 (q^2 - 1)} = q^2 : c_n \text{ הסדרה הנדסית: } (6)$$

$$\frac{b_{n+1}}{b_n} = \frac{S + a_{n+1}}{S + a_n} = \frac{\frac{a_1}{1-q} + a_{n+1}}{\frac{a_1}{1-q} + a_n} = \frac{a_1 + (1-q)a_{n+1}}{a_1 + (1-q)a_n} = \frac{a_1(1 + (1-q)q^n)}{a_1(1 + (1-q)q^{n-1})} = \frac{q^n - q^{n+1} + 1}{q^{n-1} - q^n + 1} : d_n \text{ הסדרה}$$

$$. S_{(c_n)} = \frac{c_1}{1-q_c} = \frac{a_2^2 - a_1^2}{1-q^2} = \frac{a_1^2(q^2-1)}{1-q^2} = -a_1^2 \text{ ב. } (7)$$

ג. מההשוואה: $S_{(s)} = S^2$ מקבלים כי פתרון המשוואה הוא: $q = 0, \pm 1$.

כולם נפסלים מכיוון שמנת הסדרה הנתונה a_n היא שבר.

עבור $|q| > 1$ הסדרות אינן מתכנסות ולכן לא קיים ערך של q עבורו

השוויון יתקיים. מש"ל.

$$31.5 \text{ ד. } \quad \text{ג. הוכחה.} \quad \text{ב. } a_1 = 56, q = \frac{1}{3} \quad \text{א. } b_n = \frac{a_1}{1-q} q^{n-1} \quad (8)$$

$$7938 \text{ ה. } \quad 63 \text{ ו. } \quad -63 \text{ ז. } \quad 94.5$$

$$. (b_1 + b_2 + \dots + b_n + \dots)^2 : \text{משמעו: } (9)$$

הסכום: $S_{(s)}$ משמעו: $b_1^2 + b_2^2 + \dots + b_n^2 + \dots$. ברור כי הביטויים אינם שווים.

$$. q = \frac{1}{3}, a_1 = 16 \text{ ב. } \quad \text{א. הוכחה.} \quad (10)$$

$$a_1 = 200 \text{ ד. } \quad \frac{b_{n+1}}{b_n} = \frac{a_{2n+1} + a_{2n+2}}{a_{2n-1} + a_{2n}} = q^2 \text{ ב. } \quad \text{א. } q = 0.6 \quad (11)$$

$$a_1 = 1024 \text{ ג. } \quad \text{ב. פי 5} \quad \text{א. } q = \frac{1}{2} \quad (12)$$

$$. a_5 = 20 \text{ ג. } \quad \text{ב. } q = 0.5 \quad \text{א. הוכחה.} \quad (13)$$

$$. S = 288 \text{ ג. } \quad \text{ב. } a_1 = -16 \quad \text{א. } q = \frac{1}{3} \quad (14)$$

סדרת נסיגה:

שאלות:

$$(1) \quad \begin{cases} a_{n+1} = a_n + 2n - 11 \\ a_1 = -6 \end{cases} \quad \text{נתונה סדרה המוגדרת על פי כלל הנסיגה הבא:}$$

- א. מצא את האיבר השלישי בסדרה.
 ב. נתון כי האיבר השלושה-עשר בסדרה הוא 18. מצא את a_{12} ו- a_{14} .
 ג. נתון כי האיבר השלושים ואחת בסדרה הוא k .
 הבע באמצעות k את a_{30} ו- a_{32} .
 ד. מצא את מיקומם של שני איברים סמוכים בסדרה שההפרש ביניהם הוא 133.
 ה. הסבר מדוע אין שני איברים סמוכים בסדרה שההפרש ביניהם הוא 62.

$$(2) \quad \begin{cases} a_{n+1} = a_n + 2n \\ a_1 = 0 \end{cases} \quad \text{נתונה סדרה המוגדרת על פי כלל הנסיגה הבא:}$$

נתון כי $a_k = 72$. הבע באמצעות k את a_{k+2} .

$$(3) \quad \begin{cases} a_{n+1} = 2a_n + n^2 - 31 \\ a_7 = t \end{cases} \quad \text{נתונה סדרה המוגדרת על פי כלל הנסיגה הבא:}$$

מצא את ערכו של t שבעבורו האיברים a_7, a_8, a_9 הם איברים עוקבים בסדרה חשבונית.

$$(4) \quad \text{סדרה שהאיבר הכללי בה הוא } a_n \text{ מוגדרת על פי כלל הנסיגה הבא: } a_{n+1} = a_n + 6n - 2$$

מגדירים סדרה חדשה שהאיבר הכללי בה הוא b_n באופן הבא: $b_n = a_{n+1} - a_n$.

א. הוכח שהסדרה b_n היא סדרה חשבונית ומצא את הפרשה.

ב. חשב את b_1 .

$$(5) \quad \text{סדרה שהאיבר הכללי בה הוא } a_n \text{ מוגדרת על פי כלל הנסיגה הבא: } a_{n+1} = 3a_n + 4$$

מגדירים סדרה חדשה שהאיבר הכללי בה הוא b_n באופן הבא: $b_n = a_n + 2$.

א. הוכח שהסדרה b_n היא סדרה הנדסית ומצא את מנתה.

ב. נתון: $b_5 = 162$. חשב את a_1 .

- 6) סדרה מוגדרת ע"י הכלל: $a_1 = 3, a_{n+1} = 3a_n + 10n - 5$.
 מגדירים סדרה חדשה המקיימת לכל n טבעי: $b_n = a_n + 5n$.
- הוכח כי הסדרה b_n היא סדרה הנדסית.
 - חשב את האיבר b_5 .
 - חשב את הסכום: $b_2 + b_4 + b_6 + \dots + b_{12}$.
- 7) סדרה מוגדרת לכל n טבעי ע"י הנוסחה: $a_1 = k, a_{n+1} = 8n - a_n + 3$.
- הבע באמצעות k את ארבעת האיברים הראשונים בסדרה.
 - הוכח כי סדרת האיברים העומדים במקומות האי-זוגיים וסדרת האיברים העומדים במקומות הזוגיים הן חשבוניות ומצא את הפרשן.
 - חשב את סכום 20 האיברים הראשונים בסדרה.
- 8) סדרה מוגדרת ע"י כלל הנסיגה הבא: $a_1 = 2, a_{n+1} = \frac{3a_n}{2a_n + 3}$.
- מגדירים סדרה חדשה לפי: $b_n = \frac{4 - 7a_n}{a_n}$.
- הוכח כי הסדרה b_n היא חשבונית ומצא את הפרשה.
 - חשב את הסכום הבא: $b_2 + b_4 + b_6 + \dots + b_{22}$.
- 9) סדרה מקיימת את כלל הנסיגה: $a_1 = 1, a_{n+1} = 3n - a_n - 7$.
- חשב את 5 האיברים הראשונים וקבע האם הסדרה היא חשבונית.
 - הוכח כי לכל n טבעי מתקיים: $a_{n+2} = a_n + 3$.
 - כתוב נוסחה לסכום n האיברים הראשונים העומדים במקומות האי-זוגיים בסדרה.
 - חשב את הסכום הבא: $a_1 + a_3 + a_5 + \dots + a_{17}$.

10 סדרה מוגדרת לפי כלל הנסיגה הבא : $a_{n+1} = a_n + 2 \cdot 3^n + 2$.

א. ענה על הסעיפים הבאים :

i. הבע את a_{n+2} באמצעות a_n .

ii. מצא את מיקומו הסידורי של איבר הגדול ב-652 מהאיבר העומד שני מקומות לפניו.

ב. הנוסחה לסכום n האיברים הראשונים של אחת מהסדרות המיוצגות

ע"י כלל הנסיגה הנ"ל היא : $S_n = 1.5 \cdot 3^n + n^2 + n - 1.5$.

חשב את הסכום הבא : $a_6 + a_7 + a_8 + \dots + a_{11}$.

ג. מהו האיבר הראשון של הסדרה המיוצגת ע"י כלל הנסיגה ונוסחת הסכום הנ"ל?

11 סדרה מוגדרת ע"י כלל הנסיגה : $a_1 = 6$, $a_{n+1} = \frac{2a_n}{a_n + 5}$.

מגדירים סדרה חדשה b_n המקיימת לכל n טבעי : $b_n = \frac{a_n + 3}{a_n}$.

א. הוכח כי הסדרה b_n היא הנדסית ומצא את מנתה.

ב. כתוב נוסחה ל- b_n באמצעות n בלבד.

ג. חשב את הסכום הבא : $b_1 - b_2 + b_3 - b_4 + \dots - b_{10}$.

תשובות סופיות:

$$a_{30} = k - 49, a_{32} = k + 51 \quad \text{ג.} \quad a_{12} = 5, a_{14} = 33 \quad \text{ב.} \quad a_3 = -22 \quad \text{א.} \quad (1)$$

$$a_{62}, a_{63} \quad \text{ד.}$$

$$a_{k+2} = 74 + 4k \quad (2)$$

$$t = -33 \quad (3)$$

$$b_1 = 4 \quad \text{ב.} \quad d = 6 \quad \text{א.} \quad (4)$$

$$a_1 = 0 \quad \text{ב.} \quad q = 3 \quad \text{א.} \quad (5)$$

$$S = 1594320 \quad \text{ג.} \quad b_5 = 648 \quad \text{ב.} \quad b_{n+1} = 3b_n \quad \text{א.} \quad (6)$$

$$8 \quad \text{ב.} \quad a_4 = 19 - k, a_3 = k + 8, a_2 = 11 - k, a_1 = k \quad \text{א.} \quad (7)$$

$$830 \quad \text{ג.}$$

$$S_{11(p)} = 267 \frac{2}{3} \quad \text{ב.} \quad (8)$$

$$S_{n(o)} = 1.5n^2 - 0.5n \quad \text{ג.} \quad a_1 = 1, a_2 = -5, a_3 = 4, a_4 = -2, a_5 = 7 \quad \text{א.} \quad (9)$$

$$S_{9(o)} = 117 \quad \text{ד.}$$

$$a_4 \quad \text{ii.}$$

$$a_{n+2} = a_n + 8 \cdot 3^n + 4 \quad \text{i.} \quad \text{א.} \quad (10)$$

$$a_1 = 5 \quad \text{ג.}$$

$$S_{6-11} = 265458 \quad \text{ב.}$$

$$S_{10}^* = -4086.74 \quad \text{ג.}$$

$$b_n = 1.5 \cdot 2.5^{n-1} \quad \text{ב.}$$

$$q = 2.5 \quad \text{א.} \quad (11)$$

אלגברה ב 4033623

פרק 4 - חוקי החזקות והשורשים

תוכן העניינים

63	1. חוקי החזקות
68	2. חוקי השורשים
72	3. כתיבה מדעית של מספרים

חוקי החזקות:

סיכום כללי:

סיכום חוקי החזקות:

$$\begin{array}{lll}
 a^n \cdot a^m = a^{m+n} & .3 & a^1 = a & .2 & a^0 = 1 & .1 \\
 a^m \cdot b^m = (a \cdot b)^m & .6 & (a^n)^m = a^{n \cdot m} & .5 & \frac{a^n}{a^m} = a^{n-m} & .4 \\
 \left(\frac{a}{b}\right)^{-m} = \left(\frac{b}{a}\right)^m & .9 & a^{-m} = \frac{1}{a^m} & .8 & \frac{a^m}{b^m} = \left(\frac{a}{b}\right)^m & .7
 \end{array}$$

שאלות:

(1) פשט את הביטויים הבאים בעזרת החוקים: $a^n a^m = a^{n+m}$ ו- $\frac{a^n}{a^m} = a^{n-m}$

$$\begin{array}{lll}
 a^2 a^6 & .א & t^3 t^5 t^7 & .ב & b^2 b^5 b^{12} b^3 & .ג \\
 \frac{k^8}{k^3} & .ד & \frac{n^{14}}{n^9} & .ה & \frac{c^6}{c^2} & .ו \\
 \frac{a^3 a^{19}}{a^{15}} & .ז & \frac{x^{30}}{x^9 x^{18}} & .ח & \frac{y^3 y^{15}}{y^4 y^{14}} & .ט \\
 3^2 3^3 3^4 & .י & \frac{2^{16} 2^2}{2^{10}} & .יא & \frac{5^{20} 5^3 5^{16}}{5^4 5^{22} 5^8} & .יב
 \end{array}$$

(2) פשט את הביטויים הבאים בעזרת החוקים: $a^n a^m = a^{n+m}$ ו- $\frac{a^n}{a^m} = a^{n-m}$

$$\begin{array}{lll}
 \frac{3^4 2^7}{2^6 3^2} & .א & \frac{a^{10} b^{13} a^3}{b^4 b^6 b^2 a^{12}} & .ב & \frac{x^8 y^5 y^9 x^2}{y^4 x^4} & .ג
 \end{array}$$

(3) לפניך הביטוי הבא: $\frac{3^6 2^{17} 3^3 2^4}{3^4 2^3 2^2}$

מצא n כך שיתקיים שוויון בין הביטוי $243 \cdot 2^n$ לבין הביטוי הנתון.

(4) חשב ללא מחשבון את ערכי הביטויים הבאים:

$\frac{9^3 \cdot 27^2}{3^9 \cdot 81} \quad \text{ב.}$	$\frac{2^3 \cdot 2^7}{2^4 \cdot 2^5} \quad \text{א.}$
$2^3 + 2^5 \quad \text{ד.}$	$\frac{10^9 \cdot 25^5 \cdot 8^{-1}}{40^3 \cdot 125^5} \quad \text{ג.}$

(5) פשט את הביטויים הבאים בעזרת החוק: $(a^n)^m = a^{n \cdot m}$.

$(x^3 x^{10})^2 \quad \text{ג.}$	$(c^3)^{10} \quad \text{ב.}$	$(a^2)^4 \quad \text{א.}$
$\frac{d^{20} (d^4)^2}{d^{12} (d^3)^2} \quad \text{ו.}$	$\frac{n^7 n^8}{(n^3)^4} \quad \text{ה.}$	$\frac{(b^2)^3}{b^2 b^3} \quad \text{ד.}$
$\frac{(8^3)^8 8^{11}}{(8^2 8)^3 8^8} \quad \text{ט.}$	$\frac{3^6 (3^3 3^2)^6}{3^{28} (3^2)^3} \quad \text{ח.}$	$\frac{2^5 (2^4)^2 2^3}{(2^3 2^2)^3} \quad \text{ז.}$
$\frac{(3^2)^7 5^{10} (5^3)^2}{3^9 5^{16}} \quad \text{יב.}$	$\frac{(3^2)^6 5^{31} 3^7}{(5^2)^{10} 5^{11} 3^{18}} \quad \text{יא.}$	$\frac{(2^4)^5 (3^6)^7 2^{20}}{3^{35} 2^{40}} \quad \text{י.}$

(6) לפניך הביטויים הבאים: $\left((3^2)^3\right)^4$ ו- $\left((3^6)^n\right)^2$.

מצא n כך שיתקיים שוויון בין שני הביטויים.

(7) חשב ללא מחשבון את הביטויים הבאים:

$\frac{7^{12} 2^2 2^6}{2^5 7^{10} 7} \quad \text{ג.}$	$\frac{5^{20} 3^{14} 3^8}{3^{20} 5^{12} 5^8} \quad \text{ב.}$	$\frac{2^3 3^5}{2^2 3^4} \quad \text{א.}$
---	---	---

(8) פשט את הביטויים הבאים:

$125 \cdot 25 \cdot 5^5 \quad \text{ג.}$	$64^2 2^3 8^2 \quad \text{ב.}$	$3^2 9 \cdot 81^2 \quad \text{א.}$
$\frac{\left((3^4)^4\right)^5}{81^3 27^4 3^5} \quad \text{ו.}$	$\frac{(4^2)^3 16}{64 \cdot 2^3} \quad \text{ה.}$	$\frac{2^4 \cdot 16^5}{8 \cdot 512} \quad \text{ד.}$

9 פשט את הביטויים הבאים :

$\frac{(k^2)^{m+2} \cdot k^{1-3m}}{(k^{2m})^3 \cdot \frac{1}{k^{7m-4}}} \quad \text{ב.}$ $\frac{1}{x^2} \cdot \frac{x^{n+3} + x^{n+5}}{x^{n+2}} \quad \text{ד.}$	$\frac{(2a^2b)^3 \cdot (ab^{-3})^2}{4ab^{-2} \cdot \left(\frac{a^2}{b}\right)^4} \quad \text{א.}$ $\frac{4^{b+3}}{4^{b+1} + 4^{b+2}} \quad \text{ג.}$
--	---

10 פשט את הביטויים הבאים בעזרת החוקים: $(ab)^n = a^n b^n$ ו- $\left(\frac{a}{b}\right)^n = \frac{a^n}{b^n}$

$(x^{12}y^3)^3 \quad \text{ג.}$ $\left(\frac{a^{14}b^4}{a^6ab^3}\right)^3 \quad \text{ו.}$ $\left(\frac{(b^{12}c)^2 c^{14}}{c(c^3b^5)^4 b^3}\right)^2 \quad \text{ט.}$	$(m^4n^3)^5 \quad \text{ב.}$ $\left(\frac{i^4}{k^3}\right)^7 \quad \text{ה.}$ $\left(\frac{t^7 r^{20} t^3}{r^2 r^{12} t^8}\right)^2 \quad \text{ח.}$	$(a^2b)^3 \quad \text{א.}$ $\left(\frac{a^3}{b^2}\right)^4 \quad \text{ד.}$ $\left(\frac{x^3 y^5 y^2 x^6}{y^4 x^7}\right)^6 \quad \text{ז.}$
--	--	--

11 חשב ללא מחשבון את הביטויים הבאים :

$\left(\frac{7^3 \cdot 16 \cdot 128 \cdot 49}{(2^27)^5}\right)^3 \quad \text{ג.}$	$\left(\frac{(5^4)^2 3^6}{3^5 5^7}\right)^2 \quad \text{ב.}$	$\left(\frac{3^9 2^6 2^2}{3^6 2^5 3^2}\right)^2 \quad \text{א.}$
---	--	--

12 בטא את הביטויים הבאים מחדש בעזרת שימוש בחזקה שלילית :

$\frac{1}{2^{10}} \quad \text{ג.}$ $\frac{1}{125} \quad \text{ו.}$	$\frac{1}{5^3} \quad \text{ב.}$ $\frac{1}{81} \quad \text{ה.}$	$\frac{1}{4^6} \quad \text{א.}$ $\frac{1}{8} \quad \text{ד.}$
--	--	---

13 בטא את הביטויים הבאים מחדש בעזרת שימוש בחזקה חיובית וחשב את ערכם :

$\frac{1}{5^{-3}} \quad \text{ג.}$	$\frac{1}{3^{-2}} \quad \text{ב.}$	$\frac{1}{4^{-3}} \quad \text{א.}$
------------------------------------	------------------------------------	------------------------------------

14) חשב את הביטויים הבאים :

ג. $5^6 \cdot 5^{-3} \cdot 5^{-2}$

ב. $2^{-8} \cdot 512 \cdot 2^2$

א. $3^2 \cdot 3^{-5} \cdot 3^7$

ו. $\frac{3^{-6} \cdot 7^7 \cdot 7^{-4}}{3^{-4} \cdot 3^{-3} \cdot 7^3}$

ה. $\frac{2^{-5} \cdot 5^3 \cdot 2^{14}}{5^2 \cdot 5^{-10} \cdot 5^8 \cdot 2^6}$

ד. $2^{14} \cdot 3^{-6} \cdot 2^{16} \cdot 3^4 \cdot 2^{-30}$

15) פשט את הביטויים הבאים לצורה ללא חזקות שליליות.

ג. $\frac{2^{-3} 5^4}{5^4 \cdot 125 \cdot (5^2 2)^{-3} \cdot 2^{-4}}$

ב. $\frac{(4^4)^{-4} 3^{-11}}{(3^{-2} 4^3)^{-6}}$

א. $\left(\frac{5^{-4}}{3^2}\right)^{-6}$

16) פשט את הביטויים הבאים :

ג. $\frac{(m^{n+2})^3 \cdot m^{-4n-2}}{\frac{1}{m^{6n+2}} \cdot (m^3)^{n-2}}$

ב. $\frac{(k^2)^{m+2} \cdot k^{1-3m}}{(k^{2m})^3 \cdot \frac{1}{k^{7m-4}}}$

א. $\frac{a^{n+2} \cdot a^{2-3n}}{(a^3)^{n+1}}$

תשובות סופיות:

- (1) א. a^8 ב. t^{15} ג. b^{22} ד. k^5 ה. n^5 ו. c^4
- ז. a^7 ח. x^3 ט. 1 י. 3^9 יא. 2^8 יב. 5^5
- (2) א. 18 ב. ab ג. $x^6 y^{10}$
- (3) $n=16$
- (4) א. 2 ב. $\frac{1}{3}$ ג. $\frac{5}{8}$ ד. 40
- (5) א. a^8 ב. c^{30} ג. x^{26} ד. b ה. n^3 ו. d^{10}
- ז. 2 ח. 9 ט. 8^{18} י. 3^7 יא. 3 יב. 3^5
- (6) $n=2$
- (7) א. 6 ב. 9 ג. 56
- (8) א. 3^{12} ב. 2^{21} ג. 5^{10} ד. 2^{12} ה. 2^7 ו. 3^{51}
- (9) א. $\frac{2b^3}{a}$ ב. k ג. $3\frac{1}{5}$ ד. $\frac{1}{x} + x$
- (10) א. $a^6 b^3$ ב. $m^{20} n^{15}$ ג. $x^{36} y^9$ ד. $\frac{a^{12}}{b^8}$ ה. $\frac{i^{28}}{k^{21}}$ ו. $a^{21} b^3$
- ז. $x^{12} y^{18}$ ח. $t^4 r^{12}$ ט. $b^2 c^6$
- (11) א. 576 ב. 225 ג. 8
- (12) א. 4^{-6} ב. 5^{-3} ג. 2^{-10} ד. 2^{-3} ה. 3^{-4} ו. 5^{-3}
- (13) א. 64 ב. 9 ג. 125
- (14) א. 81 ב. 8 ג. 5 ד. $\frac{1}{9}$ ה. 1000 ו. 3
- (15) א. $5^{24} \cdot 3^{12}$ ב. $\frac{4^2}{3^{23}}$ ג. $5^3 \cdot 2^4$
- (16) א. a^{1-5n} ב. k ג. m^{2n+12}

חוקי השורשים:

סיכום כללי:

סיכום חוקי השורשים:

$$\begin{array}{lll}
 \sqrt[n]{a^n} = a^{\frac{n}{n}} & .3 & \sqrt[n]{a} = a^{\frac{1}{n}} & .2 & \sqrt{a} = a^{\frac{1}{2}} & .1 \\
 \sqrt[n]{\sqrt[m]{a}} = \sqrt[n \cdot m]{a} & .6 & \frac{\sqrt[m]{a}}{\sqrt[m]{b}} = \sqrt[m]{\frac{a}{b}} & .5 & \sqrt[n]{a} \cdot \sqrt[n]{b} = \sqrt[n]{a \cdot b} & .4
 \end{array}$$

שאלות:

17) הבא את הביטויים הבאים לצורה: $\sqrt[n]{a^m}$.

א. $3^{\frac{1}{4}}$	ב. $2^{\frac{3}{5}}$	ג. $6^{\frac{5}{6}}$
ד. $-12^{\frac{2}{7}}$	ה. $-(-4)^{\frac{1}{3}}$	ו. $-(-3)^{\frac{3}{4}}$
ז. $5^{-\frac{1}{4}}$	ח. $27^{\frac{1}{3}}$	ט. $64^{-\frac{5}{6}}$

18) חשב ללא מחשבון את ערכם של הביטויים הבאים:

א. $\sqrt{49}$	ב. $-\sqrt{25}$	ג. $\sqrt[3]{8}$
ד. $-\sqrt[3]{128}$	ה. $\sqrt[3]{(-2)^6}$	ו. $(\sqrt[5]{1024})^2$
ז. $(\sqrt[5]{-243})^3$	ח. $\sqrt[4]{-16}$	ט. $\sqrt[4]{-25^2}$
י. $\sqrt[4]{(-25)^2}$		

19) חשב ללא מחשבון את ערכם של הביטויים הבאים :

א. $8^{\frac{2}{3}}$	ב. $32^{\frac{3}{5}}$	ג. $128^{\frac{2}{7}}$
ד. $\left(\frac{1}{25}\right)^{-1.5}$	ה. $\left(2\frac{1}{4}\right)^{-2.5}$	ו. $\left(\frac{64}{343}\right)^{\frac{2}{3}}$
ז. $81^{\frac{3}{4}} \cdot 64^{\frac{1}{3}}$	ח. $343^{\frac{2}{3}} \cdot 100^{\frac{1}{2}}$	ט. $16^{\frac{1}{4}} \cdot 8^{\frac{1}{3}} \cdot 4^{\frac{1}{2}}$

20) חשב ללא מחשבון את ערך הביטוי הבא : $\frac{\sqrt[5]{2^2} \cdot \sqrt{8}}{\sqrt[3]{128}}$

21) פשט את הביטויים הבאים :

א. $\sqrt{2} \cdot \sqrt{8}$	ב. $\sqrt{3} \cdot \sqrt{27}$	ג. $\sqrt{4} \cdot \sqrt{5} \cdot \sqrt{20}$
ד. $\frac{\sqrt{72}}{\sqrt{2}}$	ה. $\frac{\sqrt[3]{81}}{\sqrt[3]{3}}$	ו. $\frac{\sqrt[5]{96}}{\sqrt[5]{3}}$
ז. $\frac{\sqrt[5]{2^2} \cdot \sqrt{8}}{\sqrt[5]{128}}$	ח. $\frac{\sqrt[3]{500} \cdot \sqrt{5}}{\sqrt[4]{25^2} \cdot \sqrt[3]{4}}$	ט. $\frac{\sqrt[3]{8^2} \sqrt[4]{25}}{\sqrt[4]{400} \sqrt{2}}$

22) הכנס לתוך שורש את המספרים החופשיים :

א. $3\sqrt{2}$	ב. $5\sqrt{3}$	ג. $\frac{\sqrt{36}}{2}$
ד. $2\sqrt[3]{3}$	ה. $x\sqrt{x}$	

23) הכנס את כל המקדמים בביטויים הבאים לתוך השורש :

א. $2\sqrt{5}$	ב. $4\sqrt[3]{2}$	ג. $2\sqrt[5]{3}$
ד. $\frac{\sqrt{24}}{2}$	ה. $\frac{\sqrt[3]{24}}{2}$	ו. $\frac{3\sqrt[4]{5000}}{10}$
ז. $-5\sqrt[3]{2}$	ח. $-5\sqrt[4]{2}$	ט. $-5\sqrt[5]{-2}$

24) הוצא מהשורש את הכופל הגדול ביותר:

- א. $\sqrt{12}$ ב. $\sqrt{48}$ ג. $\sqrt{63}$
- ד. $\sqrt[3]{54}$ ה. $\sqrt{x^5}$

25) חלץ מן הביטויים הבאים את המקדם הגבוה ביותר ככל הניתן:

- א. $\sqrt{40}$ ב. $\sqrt{50}$ ג. $\sqrt{320}$
- ד. $\sqrt[3]{108}$ ה. $\sqrt[3]{56}$ ו. $\sqrt[3]{160}$
- ז. $\sqrt[4]{162}$ ח. $\sqrt[5]{972}$ ט. $\sqrt[9]{192}$

26) פשט את הביטויים הבאים:

- א. $\sqrt{18} - \sqrt{8}$ ב. $\sqrt{7} + \sqrt{63}$ ג. $\sqrt[3]{16} + \sqrt[3]{128}$
- ד. $\sqrt[4]{405} - \sqrt[4]{80}$ ה. $\frac{20}{\sqrt{5}}$ ו. $\frac{\sqrt{8}}{2}$
- ז. $\frac{16}{\sqrt{2}}$ ח. $\frac{6}{\sqrt{3} + \sqrt{12}}$ ט. $\frac{10}{\sqrt[5]{160} - \sqrt[5]{5}}$

27) פשט את הביטויים הבאים:

- א. $3^{\frac{1}{4}} \cdot 9^{-2.5} \cdot 27^{\frac{3}{2}}$ ב. $2^{\frac{3}{4}} \cdot 16^{\frac{1}{2}} \cdot 64^{-3}$ ג. $125^{\frac{1}{6}} \cdot 5^2 \cdot 5^{-\frac{2}{3}}$
- ד. $\frac{27^{\frac{4}{3}} \cdot 3^{-\frac{2}{3}}}{9^{\frac{1}{6}}}$ ה. $\frac{49^{\frac{2}{5}} \cdot 7^{-\frac{6}{5}}}{343^{\frac{1}{5}}}$ ו. $\frac{512^{\frac{1}{4}} \cdot 64^{\frac{3}{4}}}{128^{\frac{1}{8}} \cdot 2^{-2}}$

תשובות סופיות:

- (17) א. $\sqrt[4]{3}$ ב. $\sqrt[5]{2^3}$ ג. $\sqrt[6]{6^5}$ ד. $-\sqrt[7]{12^2}$ ה. $-\sqrt[3]{-4}$ ו. ϕ
- ז. $\frac{1}{\sqrt[4]{5}}$ ח. $\frac{1}{\sqrt[3]{27}}$ או $\frac{1}{3}$ ט. $\frac{1}{\sqrt[6]{64^5}}$ או $\frac{1}{2^5}$
- (18) א. 7 ב. -5 ג. 2 ד. -2 ה. 4 ו. 16
- ז. -27 ח. ϕ ט. ϕ י. 5
- (19) א. 4 ב. $\frac{1}{8}$ ג. $\frac{1}{4}$ ד. 125 ה. $\frac{32}{243}$ ו. $\frac{49}{16}$
- ז. $\frac{27}{4}$ ח. $\frac{10}{49}$ ט. $\frac{1}{2}$
- (20) $\sqrt{2}$
- (21) א. 4 ב. 9 ג. 20 ד. 6 ה. 3 ו. 2
- ז. $\sqrt{2}$ ח. $\sqrt{5}$ ט. $\sqrt{2}$
- (22) א. $\sqrt{18}$ ב. $\sqrt{75}$ ג. $\sqrt{9}$ ד. $\sqrt[3]{24}$ ה. $\sqrt{x^3}$
- (23) א. $\sqrt{20}$ ב. $\sqrt[3]{128}$ ג. $\sqrt[5]{96}$ ד. $\sqrt{6}$ ה. $\sqrt[3]{3}$
- ו. $\sqrt[4]{40 \frac{1}{2}}$ ז. $\sqrt[3]{-250}$ ח. $-\sqrt[4]{1250}$ ט. $\sqrt[5]{5^5 \cdot 2}$
- (24) א. $2\sqrt{3}$ ב. $4\sqrt{3}$ ג. $3\sqrt{7}$ ד. $3\sqrt[3]{2}$ ה. $x^2\sqrt{x}$
- (25) א. $2\sqrt{10}$ ב. $5\sqrt{2}$ ג. $8\sqrt{5}$ ד. $3\sqrt[3]{4}$ ה. $2\sqrt[3]{7}$ ו. $2\sqrt[5]{5}$
- ז. $3\sqrt[4]{2}$ ח. $3\sqrt[5]{4}$ ט. $2\sqrt[6]{3}$
- (26) א. $\sqrt{2}$ ב. $4\sqrt{7}$ ג. $6\sqrt[3]{2}$ ד. $\sqrt[4]{5}$ ה. $4\sqrt{5}$ ו. $\sqrt{2}$
- ז. $8\sqrt{2}$ ח. $\frac{2}{\sqrt{3}}$ או $\frac{2\sqrt{3}}{3}$ ט. $\frac{10}{\sqrt[3]{5}}$ או $2\sqrt[5]{5^4}$
- (27) א. $\frac{1}{\sqrt[4]{3}}$ ב. $\frac{1}{\sqrt[4]{2^{61}}}$ ג. $\sqrt[6]{5^{11}}$ ד. 27 ה. $\frac{1}{7}$ ו. $\sqrt[8]{2^5}$

כתיבה מדעית של מספרים:

שאלות:

28) בטא את המספרים הבאים בכתיב מדעי:

א. 15,000,000	ב. 1,500,000
ג. 150,000,000,000	ד. 23,400,000
ה. 0.0003	ו. 0.00000042
ז. 0.000000042	ח. 0.00000000042

29) בטא את המספרים הבאים בכתיב מדעי:

א. $(3,000,000)^2$	ב. $(2,000,000)^2$
ג. $(5,000)^3$	ד. $(50,000)^3$
ה. $(0.0002)^4$	ו. $(0.00004)^3$
ז. $(0.000005)^3$	ח. $(0.000000007)^3$

תשובות סופיות:

28) א. $1.5 \cdot 10^7$	ב. $1.5 \cdot 10^6$	ג. $1.5 \cdot 10^{11}$	ד. $2.34 \cdot 10^7$	ה. $3 \cdot 10^{-4}$
ו. $4.2 \cdot 10^{-7}$	ז. $4.2 \cdot 10^{-8}$	ח. $4.2 \cdot 10^{-10}$		
29) א. $9 \cdot 10^{12}$	ב. $4 \cdot 10^{12}$	ג. $1.25 \cdot 10^{11}$	ד. $1.25 \cdot 10^{14}$	ה. $1.6 \cdot 10^{-15}$
ו. $6.4 \cdot 10^{-14}$	ז. $1.25 \cdot 10^{-16}$	ח. $3.43 \cdot 10^{-25}$		

אלגברה ב 4033623

פרק 5 - משוואות ואי-שוויונים מעריכיים

תוכן העניינים

- 73 1. משוואות מעריכיות יסודיות.
- 75 2. משוואות עם חיבור וחסור איברים.
- 77 3. משוואות בהן המשתנה גם בבסיס.
- 78 4. משוואות מסכמות שונות.
- 79 5. משוואות עם קבוע אוילר.
- 80 6. מערכת משוואות מעריכיות.
- 81 7. אי שוויונים מעריכיים.
- 82 8. אי-שוויונים עם משתנה בבסיס ובמעריך.

משוואות מעריכיות יסודיות:

סיכום כללי:

- פתרון כללי של משוואת מעריכית מהצורה: $a^x = a^y$ הוא: $x = y$.
- פתרון של משוואה מהצורה: $a^x = 1$ הוא: $x = 0$ שכן: $a^x = 1 = a^0$.
- פתרון של משוואה מהצורה: $a^x = b^x$ הוא: $x = 0$ שכן: $a^x = b^x = 1$ ללא תלות בבסיסים.

שאלות:

(1) פתור את המשוואות הבאות (שימוש בחוקי החזקות היסודיים):

$$\text{א. } 2^x = 16 \quad \text{ב. } 5^x \cdot 25^{x+2} = 125$$

$$\text{ג. } 10^{x-2} = 10000^{x+1} \quad \text{ד. } 9^x \cdot 3^{x^2} = 81^{3x-4}$$

$$\text{ה. } (2^x \cdot 32)^3 = 8 \quad \text{ו. } (5^{x^2})^5 \cdot \frac{1}{5^5} = 625^{x-1}$$

$$\text{ז. } \frac{7^x}{343^3} = 1 \quad \text{ח. } (25 \cdot 0.2^{2x})^2 = \left(\frac{1}{125}\right)^{1-x}$$

(2) פתור את המשוואות הבאות (הבסיס הוא שבר):

$$\text{א. } 27 \cdot \left(\frac{3}{2}\right)^{5x+2} = 8 \quad \text{ב. } \left(\frac{3}{4}\right)^{2-x} \cdot \left(\frac{4}{3}\right)^{3x} = \left(\frac{9}{16}\right)^{7+x}$$

$$\text{ג. } 25 \left(\frac{7}{5}\right)^{x^2-2x} \cdot \left(\frac{5}{7}\right)^{4-x} = 49$$

(3) פתור את המשוואות הבאות (שימוש בחוקי השורשים):

$$\text{א. } \sqrt{27} \cdot \left(\frac{1}{3}\right)^{2x} = 9\sqrt{3} \quad \text{ב. } \sqrt{3^{x+7}} = 81$$

$$\text{ג. } (9\sqrt{27})^{3x} \cdot 3^{2-x} = \frac{1}{9} \quad \text{ד. } \sqrt[3]{16} \cdot \left(\frac{1}{2^x}\right)^3 = \frac{1}{16}$$

$$\text{ה. } 2^{\sqrt{x}} \cdot \frac{1}{\sqrt{2^x}} = 8(\sqrt{8})^{-\sqrt{x}} \quad \text{ו. } 5^x \cdot \frac{1}{25^5} = 125^{\sqrt{x}}$$

4) פתור את המשוואות הבאות (מכפלת בסיסים שונים):

א. $2^x = 7^x$	ב. $3^x \cdot \frac{625}{\sqrt{25^x}} = 81$
ג. $2^{3x} \cdot 5^{3x} = 1000000$	ד. $2^{x+1} \cdot 3^{x-2} \cdot 7^x = 392$
ה. $243 \cdot 2^{x-1} \cdot 18^{x-9} = \frac{1}{3^{x-2}}$	ו. $108 \cdot \frac{1}{2^{1-2x}} = 72^x \cdot \sqrt{0.5}$
ז. $2^{2x+2} \cdot 5^{x+1} = (2\sqrt{5})^{4-x}$	

תשובות סופיות:

א. $x = 4$	ב. $x = -\frac{1}{3}$	ג. $x = -2$	ד. $x = 2, 8$	ה. $x = -4$
ו. $x = 1, -\frac{1}{5}$	ז. $x = 9$	ח. $x = 1$		
א. $x = -1$	ב. $x = -2$	ג. $x = 3, -2$		
א. $x = -\frac{1}{2}$	ב. $x = 1$	ג. $x = -\frac{8}{19}$	ד. $x = 2, -\frac{2}{3}$	ו. $x = 25$
א. $x = 0$	ב. $x = 4$	ג. $x = 2$	ד. $x = 2$	ה. $x = 5$
ו. $x = 1.5$	ז. $x = \frac{2}{3}$			

משוואות עם חיבור וחסור איברים:

סיכום כללי:

במשוואות הכוללות חיבור וחסור של איברים, נאתר את הבסיס עם המעריך הקטן ביותר ונסמן אותו ב- t , למשל במשוואה: $4^x - 3 \cdot 2^x = 4$ נסמן: $2^x = t$.
 נבטא את כל איברים המשוואה באמצעות t ונפתור אותה עבורו.
 לאחר מכן נחזיר את ההצבה למציאת ערכי ה- x המתאימים.

שאלות:

(1) פתור את המשוואות הבאות (משוואות יסודיות עם חיבור וחסור ממעלה ראשונה):

ב. $8^x + 3 \cdot 8^x = 256$

א. $2^x + 6 \cdot 2^x = 56$

ד. $2 \cdot 6^x + 6^{x+2} - 6^{x-1} = 227$

ג. $5 \cdot 3^x - 3^{x+1} = 162$

(2) פתור את המשוואות הבאות (משוואות כלליות עם חיבור וחסור ממעלה ראשונה):

ב. $5^{3x+2} + 4 \cdot 125^x = 29$

א. $81^{x+1} + 18 \cdot 3^{4x-3} = 735$

ד. $\sqrt{10000^{x+1}} - \sqrt[4]{10^{8x+1}} = \sqrt[4]{1000} \cdot (\sqrt[4]{10^7} - 1)$

ג. $(2^{3x+1})^2 - 64^{x-\frac{1}{3}} = 15$

ו. $5^{-x} + 25^{\frac{1-x}{2}} - 5^{-x-1} = 145$

ה. $6^{-x} - 5 \cdot 36^{-\left(\frac{x+1}{2}\right)} = 186$

ח. $4^{x+2} - 6 \cdot 4^x = 7 \cdot 12^{x+1} + 6 \cdot 12^x$

ז. $2 \cdot 10^{x+1} + 10^{x+2} = 3 \cdot 5^{x+1}$

(3) פתור את המשוואות הבאות (משוואות עם חיבור וחסור ממעלה שנייה):

ב. $16^{x+1} - 65 \cdot 4^x + 4 = 0$

א. $9^x - 36 \cdot 3^x + 243 = 0$

ד. $4^{-x} - 3 \cdot 4^x + 2 = 0$

ג. $6^x - 4 \cdot 6^{-x} + 3 = 0$

ו. $\left(2^{\frac{1}{3}x+2}\right)^2 - 5 \cdot 2^{\frac{1}{3}x+1} + 1 = 0$

ה. $\left(\frac{4}{9}\right)^x - \frac{5}{2} \cdot \left(\frac{3}{2}\right)^{-x-1} = -\frac{2}{3}$

(4) פתור את המשוואות הבאות (משוואות כלליות):

ב. $\frac{7^x}{7^x-4} + \frac{8}{7^x+5} = 3$

א. $\frac{20}{9^x+1} = 3 - \frac{8}{9^x-1}$

5) פתור את המשוואות הבאות (משוואות מסכמות):

א. $\frac{1}{25^{1-x}} - 6 \cdot 5^{x-1.5} + 1 = 0$	ב. $3^x - \sqrt{16 \cdot 3^{x+1}} = -9$
ג. $36^x - 6^{x+1} \cdot 3^x + 8 \cdot 9^x = 0$	ד. $4 \cdot 9^x - 10 \cdot 6^x + 6 \cdot 4^x = 0$
ה. $25 \cdot 5^{2x} + 16 \cdot 15^x = 9^{x+1}$	ו. $9^x + 4^x - 6^x = \frac{7}{6^{1-x}}$
ז. $\frac{8^{2x} - 8}{7} = 4^x - 2$	ח. $2^{3x} - 2^{2x+2} - 2^x + 4 = 0$

תשובות סופיות:

א. $x=3$	ב. $x=2$	ג. $x=4$	ד. $x=1$
א. $x=\frac{1}{2}$	ב. $x=0$	ג. $x=\frac{1}{3}$	ד. $x=\frac{1}{4}$
ה. $x=-3$	ו. $x=-2$	ז. $x=-3$	ח. $x=-2$
א. $x=2,3$	ב. $x=1,-2$	ג. $x=0$	ד. $x=0$
ה. $x=0,1$	ו. $x=-6,-9$		
א. $x=1, -\frac{1}{2}$	ב. $x=1$		
א. $x=\frac{1}{2}, 1\frac{1}{2}$	ב. $x=1,3$	ג. $x=1,2$	ד. $x=1,0$
ה. $x=-2$	ו. $x=1,-1$	ז. $x=0, \frac{1}{2}$	ח. $x=0,2$

משוואות בהן המשתנה גם בבסיס:

סיכום כללי:

במשוואות עם משתנה בבסיס יש לדרוש תנאי עבורו הבסיס חיובי. יש לקחת את חיתוך תחומי ההגדרה (במידה וקיימים ביטויים עם שורשים או שברים) יחד עם תוצאת השוואת המעריכים.

הערה:

יש לבדוק את ערכי ה- x עבורם הבסיס שווה ל-1 ולראות האם מתקבל פסוק אמת או פסוק שקר. בהתאם יש להוסיף או להוריד אותו מתחום המספרים המהווים את פתרון המשוואה.

שאלות:

פתור את המשוואות הבאות:

$$(\sqrt{3-x})^{\sqrt{x}} = (\sqrt[3]{3-x})^x \cdot \sqrt{\sqrt[3]{3-x}} \quad (1)$$

$$\left(1 + \frac{1}{x}\right)^{x^2+x} = 1 \quad (2)$$

$$\frac{|x-3|^{x^2-2}}{|x-3|^{x-1}} = |x-3|^{-1} \quad (3)$$

תשובות סופיות:

$$x = \frac{1}{4}, 1, 2 \quad (1)$$

(2) אין פתרון.

$$x = 0, 1, 2, 4 \quad (3)$$

משוואות מסכמות שונות:

שאלות:

פתור את המשוואות הבאות:

$$.5(2^x - 2) + 2 = 4^x - 2^x \quad (1)$$

$$\cdot \frac{6}{4^{x-1} - 1} + \frac{2^{x+1}}{2^x + 2} = \frac{2^x + 4}{2^x - 2} \quad (2)$$

$$\cdot \frac{4^x}{4^x - 10} - \frac{4}{2^{2x-1} - 3} = \frac{32}{16^x - 4^{x+2} + 60} \quad (3)$$

$$\cdot 3^{2x^2+2} - 3^{x^2+3} + 9 = 3^{x^2+1} \quad (4)$$

$$\cdot \sqrt{x}{10} = 4 \cdot \sqrt[2]{x}{10} + 60 \quad (5)$$

$$\cdot \sqrt[x-1]{8 \cdot 2^{x+1}} = (\sqrt{x}{2})^2 \cdot \sqrt[x-1]{x}{32} \quad (6)$$

$$\cdot 10 \cdot 4^{x+2} - 16 \cdot 10^x - 90 \cdot 6^x + 36 \cdot 15^x = 0 \quad (7)$$

תשובות סופיות:

$$\cdot x = 1, 2 \quad (1)$$

$$\cdot x = 3 \quad (2)$$

$$\cdot x = 1.5 \quad (3)$$

$$\cdot x = 1, -1 \quad (4)$$

$$\cdot x = \frac{1}{2} \quad (5)$$

$$\cdot x = -3 \quad (6)$$

$$\cdot x = 1, -2 \quad (7)$$

משוואות עם קבוע אוילר:

סיכום כללי:

קבוע אוילר מסומן באות e וערכו שווה (בערך) ל-2.71828. למספר זה משמעויות רבות במתמטיקה ובמדעים ועל כן הוחלט לסמן אותו באות משלו ולשלב אותו במשוואות מתמטיות ועוד.

דרך הפתרון של משוואה שבה הבסיס הוא e זהה לחלוטין לשל משוואה מעריכית רגילה כפי שנלמד בפרק זה.

שאלות:

(1) פתור את המשוואות הבאות (משוואות יסודיות עם קבוע אוילר):

$$\text{א. } e^{3x} = e^{2x-1} \quad \text{ב. } e^{5x-1} = e \cdot e^{6x+1}$$

$$\text{ג. } e^{x-5} = (e^{1-x})^3 \quad \text{ד. } e^x \cdot \sqrt{e^{3x-1}} = \left(\frac{1}{e^x}\right)^{1-3x}$$

(2) פתור את המשוואות הבאות (משוואות עם חיבור וחיסור):

$$\text{א. } e^2 \cdot e^x - e^{x+1} = e - 1 \quad \text{ב. } \sqrt[3]{e^{x+1}} \cdot e^2 = e^x \sqrt{e}$$

$$\text{ג. } e^{2x} + e^x - 2 = 0 \quad \text{ד. } e^{1+x} + e^{1-x} = e^2 + 1$$

(3) פתור את המשוואות הבאות (המשתנה גם בבסיס):

$$\text{א. } xe^x = \sqrt[4]{e} \cdot x \quad \text{ב. } e^{3x} = x \cdot e^{3x}$$

$$\text{ג. } xe^{x^2} = \frac{x}{\sqrt{e^x}} \quad \text{ד. } \sqrt[3]{e^{3x-1}} \cdot x = xe^x$$

תשובות סופיות:

$$(1) \quad \text{א. } x = -1 \quad \text{ב. } x = -3 \quad \text{ג. } x = 2 \quad \text{ד. } x = 1, \frac{1}{6}$$

$$(2) \quad \text{א. } x = -1 \quad \text{ב. } x = \frac{11}{4} \quad \text{ג. } x = 0 \quad \text{ד. } x = 1, -1$$

$$(3) \quad \text{א. } x = 0, \frac{1}{4} \quad \text{ב. } x = 1 \quad \text{ג. } x = 0, -\frac{1}{2} \quad \text{ד. } x = 0$$

מערכת משוואות מעריכיות:

שאלות:

$$(1) \quad \begin{cases} y = 3^x \\ y = 18 - 3^x \end{cases} \quad \text{פתור את מערכת המשוואות הבאה:}$$

$$(2) \quad \begin{cases} 5^{2x} - 5^y = 5^x - 25 \\ y - x = 2 \end{cases} \quad \text{פתור את מערכת המשוואות הבאה:}$$

$$(3) \quad \begin{cases} \frac{1}{3^y - 4} + \frac{3}{3^x - 2} - \frac{1}{3^x + 2} = 3 \\ 4^y = \sqrt{256^x} \end{cases} \quad \text{פתור את מערכת המשוואות הבאה:}$$

$$(4) \quad \begin{cases} 5^x + 2^y = 13 \\ 2 \cdot 5^x - 2^y = 2 \end{cases} \quad \text{פתור את מערכת המשוואות הבאה:}$$

$$(5) \quad \begin{cases} 2 \cdot 3^x - 3 \cdot 2^y = 42 \\ 3^{x+1} - 2^{y+1} = 73 \end{cases} \quad \text{פתור את מערכת המשוואות הבאה:}$$

$$(6) \quad \begin{cases} 5^{2x+1} + 8 \cdot 10^x - 2^{2y+4} = 0 \\ (\sqrt{3})^y = 27^{\frac{x-1}{6}} \end{cases} \quad \text{פתור את מערכת המשוואות הבאה:}$$

$$(7) \quad \begin{cases} 6 \cdot 4^x - 7 \cdot 6^{y-1} + 2 \cdot 3^{x+y} = 6^y \\ \sqrt[4]{5^x} \cdot \sqrt{(5\sqrt{5})^y} = \sqrt[4]{125} \cdot 5^x \end{cases} \quad \text{פתור את מערכת המשוואות הבאה:}$$

תשובות סופיות:

(1,3) (4)	(1,2) (3)	(0,2) , (2,4) (2)	(2,9) (1)
(1,2) , (-1,0) (7)	(-1,-2) (6)	(3,2) (5)	

אי שוויונים מעריכיים:

סיכום כללי:

פתרון אי-השוויון: $a^x > a^y$ הוא: $x > y$ עבור $a > 1$ ו- $x < y$ עבור $0 < a < 1$.

שאלות:

פתור את אי השוויונים הבאים:

$$\sqrt{2^x} \leq 4^{x^2-1\frac{1}{4}} \quad (2)$$

$$3^{2x+1} < 27^{1-\frac{1}{3}x} \quad (1)$$

$$\left(\frac{1}{7}\right)^{5x} \geq \left(\frac{1}{7}\right)^{1-3x} \quad (4)$$

$$e^{\sqrt{x+1}} > e^{2x} \quad (3)$$

$$e^{2x} - 2e^x + 1 \leq 0 \quad (6)$$

$$25^x + 5 < 6 \cdot 5^x \quad (5)$$

הערה:

השאלות הבאות דורשות הכרות עם מושג הלוגריתם הטבעי (\ln) וכן חוקי הלוגריתמים אשר ילמדו בהמשך.

$$e^{2x} - 5e^x + 4 > 0 \quad (8)$$

$$e^x > 3 \quad (7)$$

תשובות סופיות:

$$x \leq -1 \text{ או } x \geq 1\frac{1}{4} \quad (2)$$

$$x < \frac{2}{3} \quad (1)$$

$$x \leq \frac{1}{8} \quad (4)$$

$$0 \leq x < 1 \quad (3)$$

$$x = 0 \quad (6)$$

$$0 < x < 1 \quad (5)$$

$$x < 0 \text{ או } x > \ln 4 \quad (8)$$

$$x > \ln 3 \quad (7)$$

אי-שוויונים עם משתנה בבסיס ובמעריך:

סיכום כללי:

דרך הפתרון של אי שוויון עם משתנה בבסיס ובמעריך:

- יש לדרוש בסיס חיובי ולחבר אי-שוויון בהתאם.
- יש לפתור את אי השוויון לפי השוואת מעריכים.
- יש למצוא את חיתוך הפתרונות.

נתון: $f(x)^{g(x)} > f(x)^{h(x)}$ נדרוש: $f(x) > 0$.

דרך הפתרון: אם $f(x) > 1$ אז $g(x) > h(x)$.

אם $0 < f(x) < 1$ אז $g(x) < h(x)$.

לבסוף נמצא את חיתוך התחומים.

שאלות:

פתור את אי השוויונים הבאים:

$$(x-2)^{2x-5} < (x-2)^{x+1} \quad (2) \qquad x^{2x-1} > x^{x+2} \quad (1)$$

$$x^{2x^2+2} < x^{5x} \quad (4) \qquad x^{2x-6} < 1 \quad (3)$$

$$(x+1)^{|x|} < x^2 + 2x + 1 \quad (6) \qquad (x^2 - 6x + 13)^{x^2 - 2x} \geq (x^2 - 6x + 13)^3 \quad (5)$$

תשובות סופיות:

$$.0 < x < 1, x > 3 \quad (1)$$

$$.3 < x < 6 \quad (2)$$

$$.1 < x < 3 \quad (3)$$

$$.0 < x < 0.5, 1 < x < 2 \quad (4)$$

$$.x \leq -1, x \geq 3 \quad (5)$$

$$.0 < x < 2 \quad (6)$$

אלגברה ב 4033623

פרק 6 - חוקי הלוגריתמים, משוואות ואי-שוויונים לוגריתמים

תוכן העניינים

1. הגדרת הלוגריתם ומשוואות יסודיות 83
2. חוקי הלוגריתמים 86
3. חישובים עם חזקה לוגריתמית 90
4. מעבר בין בסיסים 91
5. הלוגריתם הטבעי 93
6. משוואות עם בסיסים שונים 95
7. מערכת משוואות לוגריתמיות 96
8. מערכת משוואות לוגריתמיות ומעריכיות 97
9. אי-שוויונים לוגריתמים 98
10. אי-שוויונים לוגריתמים עם משתנה בבסיס (ללא ספר)

הגדרת הלוגריתם ומשוואות יסודיות:

סיכום כללי:

הגדרה:

הלוגריתם מוגדר באופן הבא: $\log_a b = x \Leftrightarrow a^x = b$ כאשר: $a, b > 0, a \neq 1$.

הסבר:

לוגריתם על בסיס a של b מוגדר בתור החזקה שיש להעלות את a על מנת שיהיה שווה ל- b .
 ערך חזקה זו הוא x . ערך לוגריתם יכול להיות חיובי, שלילי או אפס. נחשב ערכי לוגריתמים
 ונפתור משוואות לוגריתמיות ע"י מעבר לפי ההגדרה למשוואה מעריכית מתאימה.

כללים יסודיים בלוגריתמים:

מהגדרת הלוגריתם נובע כי: $\log_a a = 1$ וכן: $\log_a 1 = 0$ לכל $a > 0, a \neq 1$.

שאלות:

(1) חשב ללא מחשבון את ערכי הביטויים הלוגריתמים הבאים:

א. $\log_2 32$ ב. $\log 1000$ ג. $\log_{25} 5$

ד. $\log_8 4$ ה. $\log_4 \frac{1}{16}$ ו. $\log_a a^4$

ז. $\log_a \frac{1}{a\sqrt{a}}$

(2) פתור את המשוואות הלוגריתמיות הבאות (יסודי - שימוש בהגדרת הלוג):

א. $\log_{36} 6 = x$ ב. $\log_2 x = 16$

ג. $\log_{\frac{1}{9}} x = -1.5$ ד. $\log_x 64 = 3$

ה. $\log_x 25 = 2$ ו. $\log_x (3x+4) = 2$

3) פתור את המשוואות הלוגריתמיות הבאות (כללי - שימוש בהגדרת הלוג):

$$\log_6(4x-2)=1 \quad \text{א.} \quad \log_4(4-x)=\frac{1}{2} \quad \text{ב.}$$

$$\log_8(x^4-73)=1 \quad \text{ג.} \quad \log_3 \frac{x+3}{3-3x}=-2 \quad \text{ד.}$$

$$\log_x(2x^2+x-12)=2 \quad \text{ה.} \quad \log_{\sqrt{x+1}}(2x^2-5)=2 \quad \text{ו.}$$

4) פתור את המשוואות הלוגריתמיות הבאות (שימוש בהגדרת הלוג מספר פעמים):

$$\log_4(\log_3 x)=1 \quad \text{א.} \quad 3\log_{27}(\log_2(x+3))=1 \quad \text{ב.}$$

$$\log_{\frac{1}{16}}(\log_3(5x^2+1))=-\frac{1}{2} \quad \text{ג.} \quad \log_6(3+\log_2(6+\log_4(x^2+15)))=1 \quad \text{ד.}$$

5) פתור את המשוואות הלוגריתמיות הבאות (מתקבלת משוואה מעריכית):

$$\log_2(3^x+37)=6 \quad \text{א.} \quad \log_3(3 \cdot 2^x-303)=4 \quad \text{ב.}$$

$$\log_5(126 \cdot 5^x-25)=2x+1 \quad \text{ג.} \quad 3\log_2\left(3 \cdot 4^{1+\frac{1}{3}x}-11 \cdot 2^{\frac{x}{3}}+3\right)=12+2x \quad \text{ד.}$$

6) פתור את המשוואות הלוגריתמיות הבאות (הצבה):

$$(\log_2 x)^4=10000 \quad \text{א.} \quad 2(\log_3 x)^2+\log_3 x=10 \quad \text{ב.}$$

$$\frac{3 \cdot \log_{14} x+1}{(\log_{14} x)^2}=4 \quad \text{ג.} \quad \sqrt{\log_{\frac{1}{81}} x}+\sqrt{\log_{\frac{1}{81}} x+2}=2 \quad \text{ד.}$$

תשובות סופיות:

- (1) א. 5 ב. 3 ג. $\frac{1}{2}$ ד. $\frac{2}{3}$ ה. -2
- ו. -1.5 ז. 4
- (2) א. $x = \frac{1}{2}$ ב. $x = 65,536$ ג. $x = 27$ ד. $x = 4$
- ה. $x = 5$ ו. $x = 4$
- (3) א. $x = 2$ ב. $x = 2$ ג. $x = \pm 3$ ד. $x = -2$ ה. $x = 3$ ו. $x = 2$
- (4) א. $x = 81$ ב. $x = 5$ ג. $x = \pm 4$ ד. $x = \pm 1$
- (5) א. $x = 3$ ב. $x = 7$ ג. $x = -1, 2$ ד. $x = -6$
- (6) א. $x = 1024, \frac{1}{1024}$ ב. $x = 9, \frac{1}{9\sqrt{3}}$
- ג. $x = 14, \frac{1}{\sqrt[4]{14}}$ ד. $x = \frac{1}{3}$

חוקי הלוגריתמים:

סיכום כללי:

- להלן 3 חוקי הלוגריתמים עבור בסיס $a > 0 \neq 1$ וארגומנטים x ו- y חיוביים:
- מכפלה לסכום: $\log_a (x \cdot y) = \log_a x + \log_a y$.
 - מנה להפרש: $\log_a \left(\frac{x}{y} \right) = \log_a x - \log_a y$.
 - מקדם למעריך: $\log_a b^n = n \log_a b$ (כאשר $b > 0$ ו- n מספר ממשי כלשהו).

שאלות:

שאלות חישוב כלליות:

(1) חשב ללא מחשבון את ערכי הביטויים הבאים (שימוש בחוקי הלוגים):

- | | |
|--|---|
| א. $\log_3 12 + \log_3 2.25$ | ב. $\log_{\frac{1}{5}} 40 + \log_{\frac{1}{5}} 12.5 + \log_{\frac{1}{5}} \frac{1}{4}$ |
| ג. $\log_2 200 - \log_2 100$ | ד. $\log_3 60 - \log_3 540$ |
| ה. $\log_4 8 + \log_4 12 - \log_4 6$ | ו. $\log_7 1.5 - \log_7 147 + \log_7 2$ |
| ז. $3 \log_5 2 - \log_5 1.6$ | ח. $\log_{\sqrt{4}} 6.4 + 2 \log_{\sqrt{4}} \sqrt{10}$ |
| ט. $\frac{1}{2} \left(\log_7 \frac{7}{2} + \log_7 2 \right) + \log_7 14 - \frac{1}{3} \log_7 8$ | י. $\frac{1}{4} \log 81 - \log 1.5 - \frac{1}{2} \log 40$ |

(2) חשב ללא מחשבון את ערכי הביטויים הבאים (שימוש בחוקי הלוגים):

- | | |
|---|--|
| א. $\frac{\log_5 16}{\log_5 8}$ | ב. $\frac{\log_9 62.5 + \log_9 2}{\log_9 0.2}$ |
| ג. $\frac{\log_3 5 - \log_3 2 + \log_3 50}{\log_3 225 - 2}$ | ד. $\frac{2 - 2 \log_3 4 + \log_3 8 \frac{8}{9}}{4 - \log_3 0.01 - 2 \log_3 18}$ |

משוואות לוגריתמיות:

(3) פתור את המשוואות הבאות (שימוש ישיר בחוקי הלוגריתמים):

א. $\log_2 x + \log_2 (x-6) = 4$ ב. $\log_3 x + \log_3 (x+2) = 1$

ג. $\log_2 (x+30) - \log_2 x = 4$ ד. $\log_5 (x+146) - \log_5 (x+2) = 2$

ה. $2\log_3 (2x-1) - \log_3 (22x+9) = -1$

ו. $2\log_5 (x-2) = \log_5 (4x-15) + \log_5 x$

(4) פתור את המשוואות הבאות (פתרון בשיטת לוג שווה לוג):

א. $\log_5 (4x-3) = \log_5 7$

ב. $2\log_2 (2x-2) - \log_2 (16-x) = \log_2 (x-1) + 1$

(5) פתור את המשוואות הבאות (מתקבלת משוואה מעריכית):

א. $\log_3 (3 \cdot 5^x + 39) = 3 + \log_3 (5^x - 3)$

ב. $\log_2 (3 - 4^{x+1}) - \log_2 11 = x$

(6) פתור את המשוואות הבאות (שימוש הפוך בחוקי הלוגריתמים):

א. $\log_4 x \cdot \log_4 (16x) = 8$

ב. $\log_2 \left(\frac{x}{4}\right) \cdot \log_2 (1024x) = -11$

ג. $\log_2 x^2 \log_2 \left(\frac{x}{16}\right) = -\log_2 (64x)$

ד. $(\log_4 4x)^2 = \log_4 4x^2 + 1$

ה. $\log_3 (9x^2) \cdot \log_3 (9x^3) = \log_3 \left(\frac{81}{x}\right) + 2$

ו. $\frac{\log_2 \left(\frac{x^3}{32}\right)}{(\log_2 x)^2} + \frac{\log_2 (2x)}{\log_2 x} = 1\frac{7}{9}$

שאלות הבעה:

(7) נתון: $\log_3 2 = a$. הבע באמצעות a את ערכי הביטויים הבאים:

א. $\log_3 16$ ב. $\log_3 6$

ג. $\log_3 24$ ד. $\log_3 1.5$

(8) נתון: $\log_2 3 = a$, $\log_2 5 = b$. הבע באמצעות a ו- b את ערכי הביטויים הבאים:

א. $\log_2 45$ ב. $\log_2 60$ ג. $\log_2 \sqrt{7.5}$

(9) נתון: $\log_{18} 2 + \log_{18} 3 = a$.

הבע באמצעות a את $\log_{18} 27$ ואת $\log_{18} 16$.

שאלות נוספות:

בכל אחת מהמשוואות הבאות, חשב את ערך הביטוי שמשמאל וקבל את התוצאה מימין:

(10) $\log 4 \log 40 + \log 5 \log 16 = \log 64$

(11) $2 \log^2 2 + \log 25 \cdot \log 20 = 2$

(12) $\log_{12} 16 \cdot \log_{12} 4 + \log_{12} 9 \cdot \log_{12} 48 = 2$

(13) $\log_5 10 \cdot \log_5 75 - \log_5 3 \cdot \log_5 2 - \log_5 3 - \log_5 4 = 2$

תשובות סופיות:

- (1) א. 3 ב. -3 ג. 1 ד. -2 ה. 2 ו. -0.5
- (2) א. $\frac{4}{3}$ ב. -3 ג. 1.5 ד. 0.5
- (3) א. $x=8$ ב. $x=3, \frac{1}{27}$ ג. $x=2$ ד. $x=4$ ה. $x=3$ ו. $x=4$
- (4) א. $x=2.5$ ב. $x=6$
- (5) א. $x=1$ ב. $x=-2$
- (6) א. $x=16, \frac{1}{256}$ ב. $x=2, \frac{1}{512}$ ג. $x=4, 2\sqrt{2}$ ד. $x=4, \frac{1}{4}$ ה. $x=\frac{1}{9}, \sqrt[9]{3}$ ו. $x=8, \sqrt[7]{2^{15}}$
- (7) א. $4a$ ב. $a+1$ ג. $3a+1$ ד. $1-a$
- (8) א. $2a+b$ ב. $2+a+b$ ג. $\frac{1}{2}a + \frac{1}{2}b - \frac{1}{2}$
- (9) $4(2a-1), 3(1-a)$
- (10) הוכחה.
- (11) הוכחה.
- (12) הוכחה.
- (13) הוכחה.

חישובים עם חזקה לוגריתמית:

סיכום כללי:

מהגדרת הלוגריתם ניתן לנסח את הקשר הבא: $a^{\log_a x} = x$ כאשר $a > 0 \neq 1$.

שאלות:

(1) חשב ללא מחשבון את ערכי הביטויים הבאים (חזקה לוגריתמית):

א. $6^{\log_6 8}$ ב. $4^{\log_2 5}$

(2) נתונה התבנית: $3 \cdot 4^x$. חשב את ערכה עבור:

א. $x = \log_4 7$ ב. $x = \log_4 \sqrt{3}$

ג. $x = 2 \log_4 0.1$ ד. $x = \sqrt{\log_2 5}$

(3) נתונה התבנית: $\frac{1}{6} \cdot 9^x - 2 \cdot 3^x + 1$. חשב את ערכה עבור:

א. $x = -1$ ב. $x = \log_3 5$

ג. $x = \log_3 \sqrt{6}$

(4) חשב:

א. $\left(\frac{1}{6}\right)^{\log_{\sqrt{56}} 81}$ ב. $\sqrt[3]{2^{3-\log_{\sqrt{8}} 5}}$

תשובות סופיות:

(1) א. 8 ב. 25

(2) א. 21 ב. $3\sqrt{3}$ ג. 0.03 ד. 15

(3) א. $\frac{19}{54}$ ב. $-4\frac{5}{6}$ ג. $2 - 2\sqrt{6}$

(4) א. $\frac{1}{81}$ ב. $\frac{2}{\sqrt[2]{25}}$

מעבר בין בסיסים:

סיכום כללי:

מעבר מבסיס a לבסיס m (כאשר: $a > 0 \neq 1$ ו- $m > 0 \neq 1$, וכן: $b > 0$)

$$\log_a b = \frac{\log_m b}{\log_m a}$$

יתבצע באופן הבא:

שאלות:

שאלות חישוב כלליות:

(1) חשב את ערכי הביטויים הבאים:

ב. $\log_{0.1} 3 \cdot \log_9 1000$

א. $\log_4 7 \cdot \log_7 4$

ד. $\log_4 169 \cdot \log_{25} 64 \cdot \log_{13} 625$

ג. $\log_{\sqrt{3}} 5 \cdot \log_{\sqrt{125}} 9$

(2) הוכח את השוויונים הבאים:

א. $\log_2 25 \cdot \log_5 3 \cdot \log_9 2 = 1$

ב. $\log_{16} 9 \cdot \log_5 4 \cdot \log_3 5 = 1$

משוואות לוגריתמיות:

(3) פתור את המשוואות הבאות:

ב. $\log_3 x \cdot \log_{27} x = 3$

א. $\log_2 x + \log_{32} x = 6$

ד. $\log_x 5 - 6 \log_{125} x = 1$

ג. $\log_2 4x \cdot \log_8 \frac{x}{16} = -\frac{5}{3}$

שאלות הבעה:

(4) נתון: $\log_4 6 = a$. הבע באמצעות a את ערכי הביטויים הבאים:

ג. $\log_{216} 96$

ב. $\log_{32} 36$

א. $\log_2 3$

(5) נתון: $\log_2 3 = a$, $\log_3 5 = b$. הבע באמצעות a ו- b את ערכי הביטויים הבאים:

ג. $\log_5 22.5$

ב. $\log_2 \sqrt{30}$

א. $\log_3 50$

6 נתון $\log_3 7 = a$, $\log 9 = 2b$. הבע באמצעות a ו- b את:

א. $\log 21$.

ב. $\log_3 \left(\frac{10}{7} \right)$.

ג. $\log_7 10$.

ד. $\log_{30} 63$.

שאלות נוספות:

בכל אחת מהמשוואות הבאות, חשב את ערך הביטוי שמשמאל וקבל את התוצאה מימין:

7 $\log_6 9 \cdot \log_{15} 30 + \log_6 5 \cdot \log_{15} 4 = 2$

8 $\log \sqrt{3} \cdot \log_6 50 + \log \sqrt{2} \cdot \log_6 300 = 1$

תשובות סופיות:

1 א. 1 ב. -1.5 ג. $2\frac{2}{3}$ ד. 12

2 א. שאלת הוכחה. ב. שאלת הוכחה.

3 א. $x = 32$ ב. $x = 27, \frac{1}{27}$ ג. $x = 8, \frac{1}{2}$ ד. $x = \frac{1}{5}, \sqrt{5}$

4 א. $2a - 1$ ב. $0.8a$ ג. $\frac{a+2}{3a}$

5 א. $2b + \frac{1}{a}$ ב. $\frac{a}{2} + \frac{ab}{2} + \frac{1}{2}$ ג. $\frac{2}{b} + 1 - \frac{1}{ab}$

6 א. $b + ab$ ב. $\frac{1}{b} - a$ ג. $\frac{1}{ab}$ ד. $\frac{ab+2b}{b+1}$

7 הוכחה.

8 הוכחה.

הלוגריתם הטבעי:

סיכום כללי:

לוגריתם על בסיס e (קבוע אוילר) מסומן: $\log_e \Rightarrow \ln$ והוא נקרא הלוגריתם הטבעי. למשל: $\ln 3 = \log_e 3$ או $\ln \frac{1}{4} = \log_e \frac{1}{4}$. לוג זה נקרא בשם לן. מהגדרת הלוגריתם מתקיים: $\ln a = b \rightarrow e^b = a$ כאשר $a > 0$ ו- b מספרים כלשהם.

שאלות:

(1) חשב ללא מחשבון את ערכי הביטויים הלוגריתמיים הטבעיים הבאים:

$$\text{א. } \ln e^2 \quad \text{ב. } \ln \frac{1}{e^4} \quad \text{ג. } \ln \frac{1}{e\sqrt{e}}$$

(2) פתור את המשוואות הלוגריתמיות הבאות (שימוש בהגדרת הלוג):

$$\text{א. } \ln x = 2 \quad \text{ב. } \ln x = -\frac{1}{2}$$

(3) פתור את המשוואות הבאות (הצבה וחוקי הלוגריתמים):

$$\begin{aligned} \text{א. } \ln\left(e^{2x} - \frac{1}{2}\right) + \ln 2 = x \\ \text{ב. } 3 \ln^2 x + \ln x = 2 \\ \text{ג. } \ln(e^2 x^3) \cdot \ln \frac{1}{x} = \ln(ex^2) \end{aligned}$$

(4) פתור את המשוואות הלוגריתמיות הבאות (הוצאת לוג משני אגפי המשוואה)

$$\text{א. } x^{\ln x} = e^6 x \quad \text{ב. } \left(\frac{1}{x}\right)^{2-3 \ln x} = \frac{1}{e} \cdot x^{1+\ln x}$$

(5) חשב ללא מחשבון את ערכי הביטויים הבאים (חזקה לוגריתמית):

$$\text{א. } e^{\ln 3} \quad \text{ב. } e^{2 \ln 3}$$

תשובות סופיות:

$$(1) \quad \text{א. } 2 \quad \text{ב. } -4 \quad \text{ג. } -1.5$$

$$(2) \quad \text{א. } x = e^2 \quad \text{ב. } x = \frac{1}{\sqrt{e}}$$

$$(3) \quad \text{א. } x = 0 \quad \text{ב. } x = \sqrt[3]{e^2}, \frac{1}{e} \quad \text{ג. } x = \frac{1}{\sqrt[3]{e}}, \frac{1}{e}$$

$$(4) \quad \text{א. } x = e^3, \frac{1}{e^2} \quad \text{ב. } x = \sqrt{e}, e$$

$$(5) \quad \text{א. } 3 \quad \text{ב. } 9$$

משוואות עם בסיסים שונים:

סיכום כללי:

לעיתים תתקבל משוואה מעריכית שבה לא ניתן למצוא חזקה שלמה, כגון: $3^x = 4$. במקרים אלו נעזר בהגדרת הלוג כדי לבטא את ערך המעריך: $x = \log_3 4$. את ערך הביטוי $\log_3 4$ ניתן לחשב ע"י מחשבון או ע"י מעבר לבסיס 10: $\log_3 4 = \frac{\log 4}{\log 3}$.

שאלות:

(1) פתור את המשוואות הבאות (בסיסים שונים):

א. $3^x = 6$ ב. $2^x - 9 = 0$

ג. $49^x - 8 \cdot 7^x + 15 = 0$ ד. $2 \cdot 3^{\frac{2x}{3}} + 5 \cdot 3^{\frac{x}{3}} + 2 = 0$

(2) פתור את המשוואות הבאות (משוואות עם בסיס ולוגריתם טבעי):

א. $e^{3x} = 3$ ב. $4 + 3e^x = 9$

ג. $3e^{2x} - 4e^x + 1 = 0$ ד. $e(e^x + 1) = 2\sqrt{e^{x+2}} + 9e$

(3) פתור את המשוואות הבאות (משוואות כלליות עם פתרונות לא שלמים):

א. $\log_2(7 - 5^x) = \log_2 \frac{10}{5^x}$ ב. $\log_2(4e^{2x} + 6) - 1 = \log_2(7e^x)$

תשובות סופיות:

(1) א. $x = \log_3 6 = 1.63$ ב. $x = \log_2 9 = 3.17$

ג. $x = \log_7 3 = 0.564$, $x = \log_7 5 = 0.827$ ד. אין פתרון.

(2) א. $x = \frac{1}{3} \ln 3 = 0.36$ ב. $x = \ln \frac{5}{3} = 0.51$ ג. $x = 0$, $x = -\ln 3 = -1.09$

ד. $x = \ln 16 = 2.7725$

(3) א. $x = 1$, $x = \log_5 2 = 0.43$ ב. $x_1 = \ln \frac{1}{2} = -0.693$, $x = \ln 3 = 1.098$

מערכת משוואות לוגריתמיות:

שאלות:

פתור את מערכות המשוואות הבאות:

$$\begin{cases} \log_6^2 x - \log_6(2y-2) = 2 \\ \frac{1}{2}x = y-1 \end{cases} \quad (2) \qquad \begin{cases} y = \log_2 x \\ y = 6 - \log_2 x \end{cases} \quad (1)$$

$$\begin{cases} \log_3(x+y) = \log_3(4x+y) - 2 \\ \log_5(5x+3y) = 2 \end{cases} \quad (3)$$

$$\begin{cases} \log_2(\log_3(x-y)) = 1 \\ \log_5(x+y-11) = \log_{25} x + \frac{1}{2}\log_5(y+2) \end{cases} \quad (4)$$

$$\begin{cases} \log_2 x^2 + \log_3 \frac{1}{y} = 9 \\ \log_2 \sqrt{x} + \log_{\sqrt[3]{3}} y = -1 \end{cases} \quad (6) \qquad \begin{cases} \log_5 x + 6\log_4 y = 11 \\ 10\log_5 x - 2\log_4 y = 17 \end{cases} \quad (5)$$

$$\begin{cases} xy = 27 \\ x^{\log_3 y} = 9 \end{cases} \quad (8) \qquad \begin{cases} \log_5 x + 2^{\log_2 y} = 6 \\ x^y = 5^8 \end{cases} \quad (7)$$

$$\begin{cases} 2^{\frac{\log_1(2x-y)}{2}} = 7^{\log_7 \frac{2x+y}{15}} \\ \log_3 x + \log_3 y = \frac{1}{\log_{28} 3} \end{cases} \quad (9)$$

תשובות סופיות:

$$(8, -5) \quad (3) \qquad (36, 19), \left(\frac{1}{6}, 1\frac{1}{12}\right) \quad (2) \qquad (8, 3) \quad (1)$$

$$\left(16, \frac{1}{3}\right) \quad (6) \qquad (25, 8) \quad (5) \qquad (16, 7) \quad (4)$$

$$(4, 7) \quad (9) \qquad (3, 9), (9, 3) \quad (8) \qquad (25, 4), (625, 2) \quad (7)$$

מערכת משוואות לוגריתמיות ומעריכיות:

שאלות:

פתור את מערכות המשוואות הבאות:

$$\begin{cases} 25^y = (5\sqrt{5})^{x+1} \\ \log_5 \sqrt{x} + \log_5 \sqrt{y} = \log_5 3 \end{cases} \quad (2) \quad \begin{cases} y = \log_2(4^x - 2) \\ y = 2x - 1 \end{cases} \quad (1)$$

$$\begin{cases} x \cdot \log_2 3 = \frac{y}{\log_9 2} \\ \log_3(9^x + 27) = 2y + \log_3 12 \end{cases} \quad (4) \quad \begin{cases} 3y + 5 \log_6 x = 1 \\ 216 \cdot x^{2-y} = 6^{1-4y} \end{cases} \quad (3)$$

$$\begin{cases} x = \log_4(5 - 9^y) \\ \log_2(2^x + 3) = \log_4(29 - (3^y - 3)^2) \end{cases} \quad (6) \quad \begin{cases} (2^x - 1)^2 - 4y + 3 = 0 \\ x = \log_2(y + 1) \end{cases} \quad (5)$$

תשובות סופיות:

$$(36, -3), \left(6, -1\frac{1}{3}\right) \quad (3) \quad (3, 3) \quad (2) \quad (1, 1) \quad (1)$$

$$(1, 0) \quad (6) \quad (1, 1), (2, 3) \quad (5) \quad \left(1, \frac{1}{2}\right), (2, 1) \quad (4)$$

אי-שוויונים לוגריתמים:

סיכום כללי:

פתרון אי-השוויון: $\log_a x > \log_a y$ הוא: עבור $x > y$: עבור $a > 1$ ו- עבור $x < y$: עבור $0 < a < 1$.

שאלות:

פתור את אי-השוויונים הבאים:

$\log_6(x^2 - 5x) < 1$ (2)	$\log_2 x < \log_2(5x - 20)$ (1)
$\log_{\frac{1}{2}}(1 - 3x) \geq \log_{\frac{1}{2}}(7 - x)$ (4)	$\log_3 x > \log_9(15 - 2x)$ (3)
$\ln x < 3$ (6)	$\ln x \geq \ln(x^2 - 12)$ (5)
$\frac{6}{\ln^2 x} \geq 2 - \frac{1}{\ln x}$ (8)	$\ln^2 x - 6 \ln x < 7$ (7)

תשובות סופיות:

$-1 < x < 0, 5 < x < 6$ (2)	$x > 5$ (1)
$-3 \leq x \leq \frac{1}{3}$ (4)	$3 < x < 7\frac{1}{2}$ (3)
$0 < x < e^3$ (6)	$2\sqrt{3} < x \leq 4$ (5)
$x \neq 1$ וגם $\frac{1}{\sqrt{e^3}} \leq x \leq e^2$ (8)	$\frac{1}{e} < x < e^7$ (7)