

## סטודנטים יקרים

לפניכם ספר תרגילים בקורס סטטיסטיקה. הספר הוא חלק מקורס חדשני וראשון מסוגו בארץ בנושא זה, המועבר ברשת האינטרנט .On-line

הקורס באתר כולל פתרונות מלאים לספר התרגילים, וכן את התיאוריה הרלוונטית לכל נושא ונושא.

**הקורס כולו מוגש בסרטוני וידאו המלווים בהסבר קולי, כך שאתם רואים את התהליכים בצורה מובנית, שיטתית ופשוטה, ממש כפי שנעשה בשיעור פרטי, לדוגמה לחצו כאן.**

את הקורס בנה מר ברק קנדל, מרצה מבוקש במוסדות אקדמיים שונים ובעל ניסיון עתיר בהוראת המקצוע.

אז אם אתם עסוקים מידי בעבודה, סובלים מלקויות למידה, רוצים להצטיין או פשוט אוהבים ללמוד בשקט בבית, אנחנו מזמינים אתכם לחוויית לימודים יוצאת דופן וחדשה לחלוטין, היכנסו עכשיו לאתר [www.gool.co.il](http://www.gool.co.il).

**GOOL**  
בשביל התירגול

אנו מאחלים לכם הצלחה מלאה בבחינות

צוות האתר GooL

**גול, בשביל התירגול...**

לפתרון מלא בסרטון וידאו היכנסו ל- [www.GooL.co.il](http://www.GooL.co.il)

כתב ופתר - ברק קנדל ©

## תוכן

4	פרק 1 - סטטיסטיקה תיאורית - הקדמה
7	פרק 2 - סטטיסטיקה תיאורית - סיווג משתנים וסולמות מדידה
10	פרק 3 - סטטיסטיקה תיאורית - הצגה של נתונים
18	פרק 4 - סטטיסטיקה תיאורית - גבולות מדומים וגבולות אמתיים
20	פרק 5 - סטטיסטיקה תיאורית - סכימה
23	פרק 6 - סטטיסטיקה תיאורית - מדדי מיקום מרכזי
33	פרק 7 - סטטיסטיקה תיאורית - מדדי פיזור: הטוות, השונות וסטיית התקן
38	פרק 8 - סטטיסטיקה תיאורית - מדדי פיזור- טווח בין-רבעוני
41	פרק 9 - סטטיסטיקה תיאורית - מדדי פיזור - ממוצע סטיות מוחלטות מהתציון
44	פרק 10 - סטטיסטיקה תיאורית - מדדי מיקום יחסי - ציון תקן
47	פרק 11 - סטטיסטיקה תיאורית - טרנספורמציה לינארית
50	פרק 12 - סטטיסטיקה תיאורית - שאלות מסכמות
55	פרק 13 - הסקה סטטיסטית - הקדמה
58	פרק 14 - מושגים בסיסיים באמידה
65	פרק 15 - רווח סמך לתוחלת (ממוצע האוכלוסייה)
65	רווח סמך כששונות האוכלוסייה ידועה
71	קביעת גודל מדגם באמידת תוחלת עם שונות אוכלוסייה ידועה
74	רווח סמך לתוחלת (ממוצע האוכלוסייה) כששונות האוכלוסייה אינה ידועה
80	פרק 16 - רווח סמך לפרופורציה
83	קביעת גודל מדגם באמידת פרופורציה
86	פרק 17 - רווח סמך להפרש פרופורציות
89	פרק 18 - רווח סמך להפרש תוחלות ממדגמים בלתי תלויים
89	כששונות האוכלוסייה ידועות
92	כששונות האוכלוסייה אינן ידועות אך שוות והמדגמים בלתי תלויים
95	פרק 19 - רווח סמך לתוחלת ההפרש במדגם מזווג
98	פרק 20 - רווח סמך לשונות וסטיית תקן
103	פרק 21 - רווח סמך ליחס שונות
108	פרק 22 - תרגול מסכם ברווחי סמך
113	פרק 23 - בדיקת השערות על פרמטרים
113	הקדמה
116	טעויות בבדיקת השערות

118	פרק 24 - בדיקת השערות על תוחלת (ממוצע).....
118	כאשר שונות האוכלוסייה ידועה.....
123	סיכוי לטעויות ועוצמה כאשר שונות האוכלוסייה ידועה.....
130	מובהקות התוצאה (p-value) בבדיקת השערות על תוחלת עם שונות ידועה.....
135	בדיקת השערות על תוחלת (ממוצע) כאשר שונות האוכלוסייה אינה ידועה.....
140	מובהקות התוצאה (p-value) כאשר שונות האוכלוסייה לא ידועה.....
144	ניתוח פלטי SPSS.....
149	הקשר בין רווח סמך לבדיקת השערות על תוחלת.....
152	פרק 25 - בדיקת השערות על פרופורציה.....
152	התהליך.....
156	סיכוי לטעויות ועוצמה.....
161	מובהקות התוצאה.....
165	פרק 26 - בדיקת השערות על הפרש פרופורציות.....
169	פרק 27 - בדיקת השערות על הפרש תוחלות במדגמים בלתי תלויים.....
169	כשהשונות של האוכלוסייה ידועות.....
173	כשהשונות האוכלוסייה לא ידועות ומניחים שהן שוות.....
177	ניתוח פלטים.....
184	פרק 28 - בדיקת השערות על תוחלת ההפרשים במדגמים מזווגים (תלויים).....
184	בדיקת השערות למדגמים מזווגים.....
190	מדגמים מזווגים - ניתוח פלטים.....
196	פרק 29 - הקשר בין רווח סמך לבדיקת השערות על הפרש תוחלות.....
200	פרק 30 - בדיקת השערות על שונות.....
200	בדיקת השערות על שונות האוכלוסייה כאשר התוחלת לא ידועה.....
205	בדיקת השערות על שתי שונות.....
211	פרק 31 - שאלות מסכמות בבדיקת השערות על פרמטרים.....
211	שאלות מסכמות בבדיקת השערות על פרמטרים.....
218	שאלות מסכמות בסגנון רב ברירה ( אמריקאיות) על בדיקת השערות.....
234	פרק 32 - מבחני חי בריבוע.....
237	פרק 33 - ניתוח שונות חד כיוונית.....
243	פרק 34 - מדדי קשר - מדד הקשר הלינארי (פירסון).....
251	פרק 35 - מדדי קשר - רגרסיה ליניארית.....
254	פרק 36 - מדדי קשר - רגרסיה - שונות מוסברת ושונות לא מוסברת.....

## פרק 1 - סטטיסטיקה תיאורית - הקדמה

### רקע:

בסטטיסטיקה תיאורית אנו חוקרים קבוצה מסוימת. הקבוצה יכולה להיות קבוצת ילדים בגן, קבוצת מניית בתיק, כלל התושבים בעיר מסוימת וכולי. בין ישות לישות בקבוצה ישנם גורמים היכולים לקבל מספר ערכים. גורמים אלה נקראים משתנים. למשל, בין מניה למניה בתיק משתנה התשואה היומית של המניה, הוותק של המניה, תחום המניה וכדומה.

בסטטיסטיקה תיאורית אנחנו נתבונן בקבוצה מסוימת ובתוך הקבוצה הזו נאסוף נתונים לגבי משתנה מסוים ונלמד להציג את הנתונים ולנתח אותם מכל מיני אספקטים.

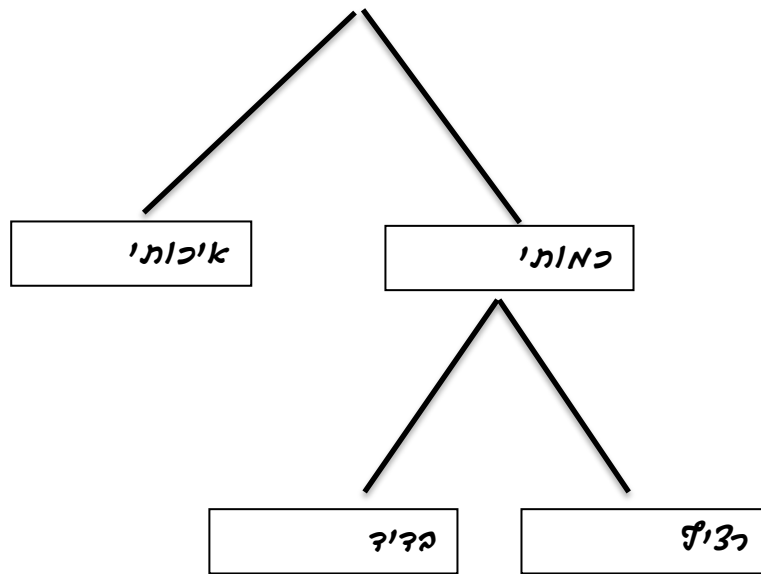
### דוגמה:

בתיק מניות 10 מניות. מנהל התיק פרסם את התשואה של כל מניה בשנת 2011.

מי הקבוצה הנחקרת?

מה גודל הקבוצה?

מה המשתנה הנחקר?

סוגי משתנים:

משתנה איכותי הוא משתנה שלערכיו אין משמעות של יותר או פחות, אין עניין כמותי לערכים המתקבלים.

כמו: מקום מגורים של אדם (רעננה, תל אביב, אשדוד..)

מין האדם (זכר, נקבה)

מצב משפחתי (רווק, נשוי, גרוש, אלמן)

משתנה כמותי הוא משתנה שערכיו הם מספרים להם יש משמעות כמותית כמו: גובה אדם בס"מ, ציון בבחינה וכדומה.

את המשתנה הכמותי נסווג לשני סוגים:

משתנה בדיד: משתנה שערכיו מתקבלים מתוך סידרה של ערכים אפשריים. כמו: מספר ילדים למשפחה (1,2,3..)

ציון בבחינה (מ 0 ועד 100 בקפיצות של 1)

הערה:

משתנה רציף: משתנה שערכיו מתקבלים מתוך אינסוף ערכים בתחום מסוים, הערכים מתקבלים ברצף וללא קפיצות של ערכים.

כמו: גובה בס"מ – אם למשל, הגובה הנמוך ביותר הוא 150 ועד 190 ס"מ בקבוצה הגבהים הם ברצף. גם בין 160 ל 161 ס"מ יש רצף אינסופי של ערכים אפשריים לגובה (160.33 ס"מ הוא גם גובה אפשרי)

משקל בק"ג, מהירות בקמ"ש וכולי.

**תרגילים:**

1. סווג את המשתנים הבאים לפי: איכותי / כמותי בדיד / כמותי רציף:
- מספר הדירות בבנין.
  - גיל אדם בשנים.
  - אחוז האבטלה בעיר.
  - מקצוע לימוד מועדף.

2. להלן התפלגות מספר האיחורים לעבודה בחודש של העובדים בחברת "סטאר".  
בחברה 200 עובדים.

מספר העובדים	מספר האיחורים
17	0
23	1
85	2
50	3
25	4

- מהו המשתנה הנחקר כאן?
- האם מדובר במשתנה איכותי או כמותי? אם הוא כמותי האם הוא בדיד או רציף?
- לפניכם רשימה של משתנים כמותיים. ציין ליד כל משתנה אם הוא רציף או בדיד.
  - שכר עובד בש"ח.
  - ציון בחינת בגרות.
  - תוצאה בהטלת קובייה.
  - מהירות ריצה בתחרות.
  - שיעור התמיכה בממשלה.

## פרק 2 - סטטיסטיקה תיאורית - סיווג משתנים וסולמות מדידה

### רקע:

סטטיסטיקה תיאורית הוא ענף בו לומדים כיצד לאסוף נתונים, להציג אותם ולנתח אותם. בסטטיסטיקה תיאורית אנו פונים לקבוצה מסוימת. באותה קבוצה אנו אוספים נתונים על הישויות באותה קבוצה.

משתנה – תכונה שיכולה לקבל מספר ערכים : דעה פוליטית, מקום מגורים, גובה של אדם וכדומה.

חלוקה אחת של המשתנים הנמדדים היא לפי סולמות מדידה :

### מיון משתנים לפי סולמות המדידה:

1. **סולם שמי** (נומינאלי) – משתנה שלערכיו יש משמעות רק מבחינת הזהות ואין עניין של יותר או פחות לדוגמה : מצב משפחתי רווק/נשוי/אלמן/גרש ; אזור מגורים. משתנה דיכוטומי ( הינו מסולם שמי) אותם משתנים שיש להם רק שני ערכים אפשריות זכר/נקבה. מעשך/לא מעשך.
2. **סולם סדר** (אורדינאלי) – כאשר לערכים של המשתנה בנוסף לשם ישנה גם משמעות לסדר אבל אין משמעות לגודל ההפרש. למשל, דרגה בצבא.
3. **סולם רווחים** (אינטרוואלי) – משתנה שלערכים שלו בנוסף לשם ולסדר בניהם יש משמעות לרווחים בין הערכים אבל אין משמעות ליחס בין הערכים. למשל, קומה בבניין. סולם לא כל כך פופולרי.
4. **סולם מנה/יחס** – משתנה שלערכיו בנוסף לשם, לסדר ולרווח יש משמעות גם ליחס בין הערכים. למשל, מספר מכוניות למשפחה, משקל אדם בק"ג. הדרך הקלה ביותר כדי לזהות עם הסולם הוא סולם מנה היא על ידי מבחן האפס. בסולם מנה האפס הוא מוחלט, אבסולוטי, ומייצג אין.

### סוגי משתנים:

נבצע סיווג של המשתנים :

משתנה איכותי הוא משתנה שלערכיו אין משמעות של יותר או פחות , אין עניין כמותי לערכים המתקבלים.

כמו : מקום מגורים של אדם (רעננה, תל אביב, אשדוד..)

מין האדם (זכר, נקבה)

מצב משפחתי ( רווק, נשוי, גרוש, אלמן)

משתנה כמותי הוא משתנה שערכיו הם מספרים להם יש משמעות כמותית כמו : גובה אדם בס"מ, ציון בבחינה וכדומה.

את המשתנה הכמותי נסווג לשני סוגים :

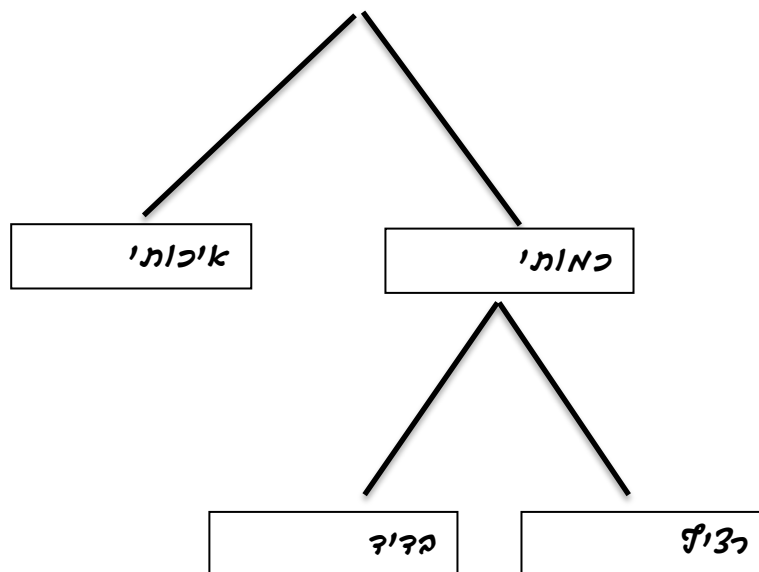
משתנה בדיד : משתנה שערכיו מתקבלים מתוך סידרה של ערכים אפשריים. כמו : מספר ילדים למשפחה (1,2,3..)

ציון בבחינה ( מ 0 ועד 100 בקפיצות של 1 )

משתנה רציף : משתנה שערכיו מתקבלים מתוך אינסוף ערכים בתחום מסוים , הערכים מתקבלים ברצף וללא קפיצות של ערכים .

כמו : גובה בס"מ – אם למשל, הגובה הנמוך ביותר הוא 150 ועד 190 ס"מ בקבוצה הגבהים הם ברצף. גם בין 160 ל 161 ס"מ יש רצף אינסופי של ערכים אפשריים לגובה (16.233 ס"מ הוא גם גובה אפשרי)

משקל בק"ג , מהירות בקמ"ש וכולי.





## תרגילים:

1. לפניכם רשימה של משתנים:
  - א. גובה אדם בס"מ.
  - ב. מספר ילדים למשפחה.
  - ג. מידת חרדה לפני מבחן.
  - ד. שביעות רצון משירות לקוחות בסקלה מ 1 עד 7 ( 1 כלל לא מרוצה עד 7 מרוצה מאד)
  - ה. השכלה.
  - ו. מספר אוטובוס.
  - ז. מקום מגורים.
  - ח. מין (1=גבר ו-2=אישה).
  - ט. מידת נעליים.

ציינו באיזה סולם מדידה המשתנה הנחקר ( שמי , סדר , רווחים או מנה)

2. להלן התפלגות מספר האיחורים לעבודה בחודש של העובדים בחברת "סטאר".  
בחברה 200 עובדים.

מספר העובדים	מספר האיחורים
17	0
23	1
85	2
50	3
25	4

- ג. מהו המשתנה הנחקר כאן?
  - ד. האם מדובר במשתנה איכותי או כמותי ? אם הוא כמותי האם הוא בדיד או רציף?  
באיזה סולם מדידה המשתנה?
3. לפניכם רשימה של משתנים כמותיים . ציין ליד כל משתנה אם הוא רציף או בדיד.
    - א. שכר עובד בש"ח.
    - ב. ציון בחינת בגרות.
    - ג. תוצאה בהטלת קובייה.
    - ד. מהירות ריצה בתחרות.
    - ה. שיעור התמיכה בממשלה.

### פרק 3 - סטטיסטיקה תיאורית - הצגה של נתונים

#### רקע:

דרכים להצגת נתונים שנאספו:

#### א. רשימה של תצפיות:

התצפית היא הערך שנצפה עבור ישות מסוימת בקבוצה. רושמים את התצפיות שהתקבלו כרשומה, יעיל שיש מספר מועט של תצפיות. ההצגה הזו רלבנטית לכל סוגי המשתנים. למשל, להלן מספר החדרים בבניין בן 5 דירות:

3 4 3 5 4

#### ב. טבלת שכיחויות בדידה:

שם המשתנה - X	שכיחות - $f(X)$	שכיחות יחסית באחוזים
$X_1$	$f_1$	$\frac{f_1}{N} \times 100$
$X_2$	$f_2$	$\frac{f_2}{N} \times 100$
$X_3$	$f_3$	$\frac{f_3}{N} \times 100$
$\vdots$	$\vdots$	$\vdots$
$X_k$	$f_k$	$\frac{f_k}{N} \times 100$
סה"כ	$N = \sum_{i=1}^k f_i$	100%

רושמים את התצפיות בטבלה שבה עמודה אחת מבטאת את ערכי המשתנה והשנייה את השכיחות. יעיל עבור משתנה איכותי וכמותי בדיד וכשיש מספר רב של תצפיות. לא יעיל למשתנה כמותי רציף.

למשל, להלן התפלגות הציונים בכיתה מסוימת:

הציון X-	מספר התלמידים – השכיחות f-	$F_i$	$\frac{f_i}{n}$
5	2	2	$0.08=2/25$
6	4	6	$0.16=4/25$
7	8	14	$0.32=8/25$
8	5	19	$0.2=5/25$
9	4	23	$0.16=4/25$
10	2	25	$0.08=2/25$

שכיחות מצטברת – צבירה של השכיחויות:  $F_i$  - השכיחות המצטברת נותנת כמה תצפיות קטנות או שוות לערך.

שכיחות יחסית (פרופורציה) – השכיחות מחולקת לכמות התצפיות הכללי:  $\frac{f_i}{n}$  - איזה חלק מהתצפיות בקבוצה שוות לערך.

### ג. טבלת שכיחויות במחלקות:

משתמשים שהמשתנה כמותי רציף או כאשר יש מספר ערכים רב במשתנה הבדיד וטבלת שכיחויות תהיה ארוכה מידי.  
למשל, נתנו לקבוצת ילדים לבצע משימה מסוימת ובדקו את התפלגות זמן ביצוע המשימה בדקות.  
להלן ההתפלגות שהתקבלה:

מספר הילדים	זמן בדקות
20	0.5-3.5
18	3.5-9.5
14	9.5-19.5
8	19.5-29.5

**ד. דיאגרמת עוגה :**

זהו התיאור הגרפי של משתנה איכותי. בדיאגרמת עוגה כל ערך במשתנה מקבל "נתח" יחסי מהעוגה. הנתח בעוגה פרופורציוני לשכיחות היחסית של ערך המשתנה בנתונים.

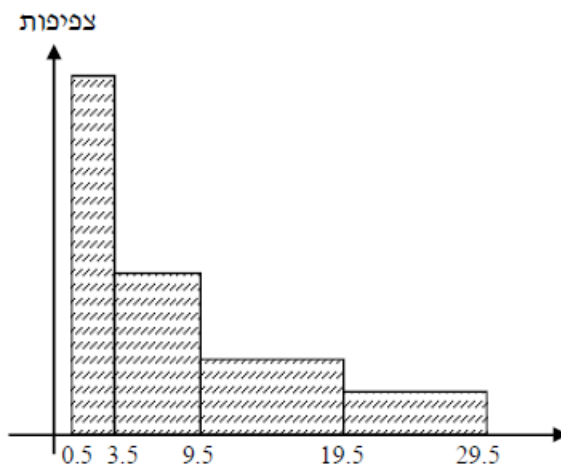
**ה. דיאגרמת מקלות :**

הציר האופקי הוא הציר של המשתנה הציר האנכי של השכיחות – הגובה של המקל מעיד על השכיחות .  
רלבנטי למשתנה כמותי בדיד. לא נהוג להשתמש בתיאור למשתנה איכותי וכמו כן לא למשתנה כמותי רציף .  
כמו כן בסולמות מדידה עבור משתנה מסולם סדר.

1. **היסטוגרמה:**

ההיסטוגרמה היא הדרך הגרפית כדי לתאר טבלת שכיחויות במחלקות. רלבנטית למשתנה כמותי רציף. בהיסטוגרמה ציר האופקי הוא הציר של המשתנה וציר האנכי הוא הציר של הצפיפות. הצפיפות מחושבת בכל מחלקה על ידי חלוקת השכיחות ברוחב של כל המחלקה והיא נותנת את מספר התצפיות הממוצע בכל מחלקה ליחידה. אם המחלקות הן שוות ברוחב, ניתן לשרטט את ההיסטוגרמה לפי השכיחות ואין צורך בצפיפות.

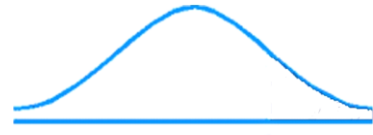
		X			
צפיפות	מצטברת	שכיחות	אמצע	רוחב	
6.6667	20	20	2	3	0.5 - 3.5
3	38	18	6.5	6	3.5 - 9.5
1.4	52	14	14.5	10	9.5 - 19.5
0.8	60	8	24.5	10	19.5 - 29.5



**פוליגון- מצולעון:** אם נחבר את אמצע קצה כל מלבן בקווים ישרים. נותן מראה חזותי לצורה של התפלגות המשתנה.

### צורות התפלגות נפוצות

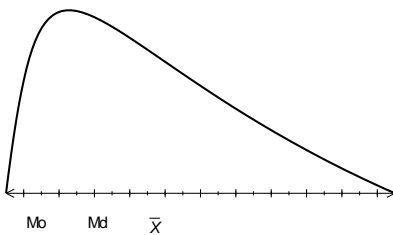
התפלגות סימטרית פעמונית- רוב התצפיות במרכז וככל שנתרחק מהמרכז יהיו פחות תצפיות באופן סימטרי. למשל, ציוני IQ.



ישנן התפלגויות סימטריות שאינן פעמוניות:

התפלגות אסימטרית ימנית (חיובית) – רוב התצפיות מקבלות ערכים נמוכים ויש מיעוט הולך וקטן של תצפיות שמקבלות ערכים גבוהים קיצוניים. למשל, שכר במשק.

#### התפלגות א-סימטרית ימנית או חיובית



התפלגות אסימטרית שמאלית (שלילית) רוב התצפיות מקבלות ערכים גבוהים ויש מיעוט הולך וקטן של תצפיות שמקבלות ערכים נמוכים קיצוניים. למשל, אורך חיים.

#### התפלגות א-סימטרית שמאלית או שלילית



**תרגילים:**

1. בסקר צפייה בטלוויזיה התקבלו התוצאות הבאות: 25 צפו בערוץ הראשון, 25 צפו בערוץ 10, 75 צפו בערוץ השני, 50 צפו באחד מערוצי הכבלים ו- 25 לא צפו בטלוויזיה בזמן הסקר.  
א. רשמו את טבלת השכיחות ואת השכיחות היחסית.  
ב. תארו את הנתונים באופן גרפי.

2. להלן נתונים על התפלגות המקצוע המועדף של תלמידי שכבה ו' בבית הספר "מעוף":

מספר התלמידים	המקצוע
44	מתמטיקה
20	תנ"ך
12	אנגלית
26	היסטוריה

- א. מהו המשתנה הנחקר?  
ב. מהי פרופורציית התלמידים שמעדיפים תנ"ך?

3. להלן התפלגות ההשכלה במקום עבודה מסוים:

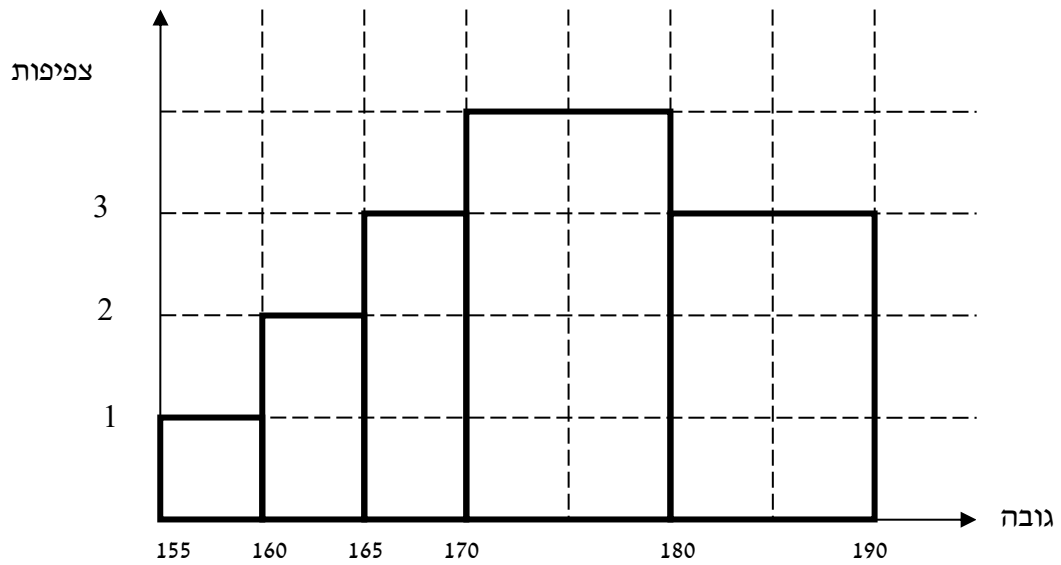
מספר העובדים	השכלה
60	נמוכה
120	תיכונית
20	אקדמאית

- א. מהו המשתנה הנחקר? מאיזה סולם הוא?  
ב. תארו את הנתונים באופן גרפי.

4. להלן רשימת הציונים של 20 תלמידים שנבחנו במבחן הבנת הנקרא:  
7, 6, 8, 9, 10, 6, 4, 5, 8, 7, 6, 7, 6, 8, 9, 6, 7, 8, 5, 6

- א. מהו המשתנה? האם הוא בדיד או רציף?  
ב. תאר את הרשימה בטבלת שכיחויות.  
ג. הוסף שכיחויות יחסיות לטבלה.  
ד. תאר את הנתונים באופן גרפי.

5. להלן היסטוגרמה המתארת את התפלגות הגבהים בס"מ של קבוצה מסוימת:



- א. מהו המשתנה הנחקר? האם הוא בדיד או רציף?  
 ב. תאר את הנתונים בטבלת שכיחויות במחלקות.  
 ג. הוסף שכיחות יחסית לטבלה.  
 ד. הוסף את הצפיפות של כל מחלקה לטבלה.  
 ה. מהי צורת ההתפלגות של הגבהים?

6. להלן התפלגות המשקל של קבוצה מסוימת בק"ג:

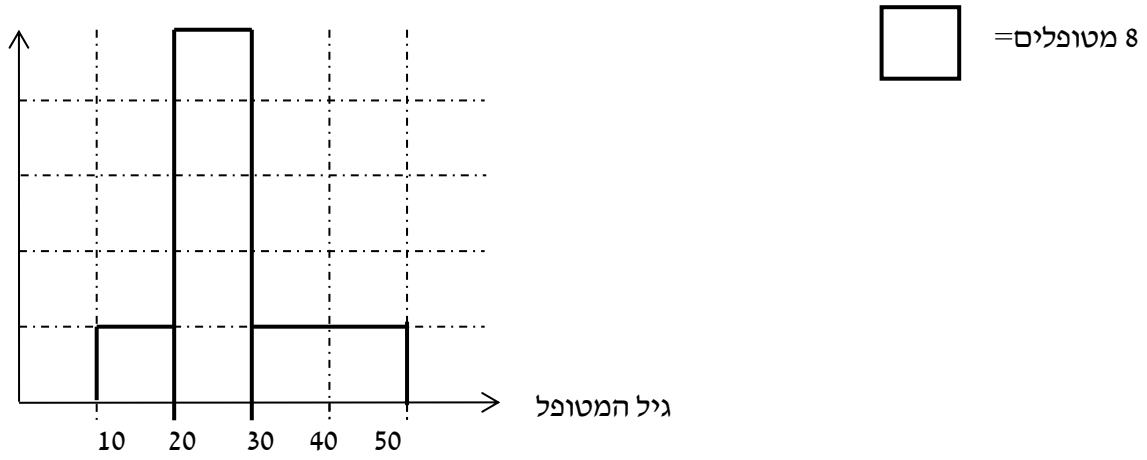
מספר מקרים	משקל
10	40-45
20	45-50
30	50-60
20	60-65
10	65-70

- א. תאר את ההתפלגות באופן גרפי.  
 ב. מה ניתן להגיד על צורת ההתפלגות?



7. להלן גיל המטופלים של ד"ר שוורץ בשנים :

קנה מידה :



א. מה המשתנה הנחקר? האם הוא בדיד או רציף?

ב. מהי הקבוצה הנחקרת?

ג. תרגמו את ההסיטוגרמה לטבלת שכיחות.

ד. מהי הפרופורציה של המטופלים של ד"ר שוורץ בגילאים 20-30?

## פרק 4 - סטטיסטיקה תיאורית - גבולות מדומים וגבולות אמתיים

### רקע:

עבור משתנה רציף נהוג לתאר את הנתונים בטבלת שכיחויות במחלקות. הנתונים שנאספים הם ברמת דיוק מסוימת. לדוגמא משקל של בני אדם או משקל של יהלומים ישקלו ברמת דיוק שונה. **גבולות מדומים:** כאשר גבול עליון של מחלקה אחת שונה מגבול תחתון של המחלקה הבאה אז הגבולות הם גבולות מדומים. כשהגבולות מדומים ההפרש בין גבול תחתון של מחלקה לבין גבול עליון של המחלקה הקודמת יהיה רמת הדיוק. **רמת הדיוק חייבת להיות קבועה** אין אפשרות שחלק מהאנשים נדייק ברמה אחת ואת השאר ברמה אחרת. בגלל שהמשתנה הוא משתנה רציף כשננתח את הנתונים נעבור מגבולות מדומים לגבולות אמתיים. אם הנתונים יינתנו בגבולות מדומים נהפוך אותם תמיד לגבולות אמתיים. כיצד עוברים מגבולות מדומים לגבולות אמתיים? לוקחים את רמת הדיוק ומחלקים אותה ב-2 את התוצאה המתקבלת מוסיפים לגבולות העליונים ומפחיתים מהגבולות התחתונים. אם יתנו נתונים בגבולות מדומים אנחנו מוכרחים לעבור לגבולות אמתיים על מנת להמשיך ולנתח, אך אם הנתונים כבר יינתנו בגבולות אמתיים נשאר אותם כמו שהם.

### דוגמה: (פתרון בהקלטה)

להלן התפלגות הגבהים בס"מ של תלמידי כיתה ח'. יש להעביר את הנתונים לגבולות אמתיים.

f(x)	X
20	130-139
25	140-149
30	150-159
20	160-169
10	170-189

**תרגילים:**

1. להלן התפלגות של משתנה בהצגה של מחלקות. יש להעביר את הנתונים לגבולות אמתיים:

$f(x)$	X
542	500-590
32	600-690
154	700-790
254	800-890

2. להלן התפלגות המשקלים בקייג של קבוצת אנשים מסוימת. יש לרשום את הנתונים בגבולות אמתיים.

משקל בקייג	מספר אנשים
60-64	18
65-69	24
70-79	52
80-89	19

**פרק 5 - סטטיסטיקה תיאורית - סכימה**

**רקע:**

בסטטיסטיקה ישנה צורת רישום מקובלת כדי לרשום סכום של תצפיות:

$$\sum_{i=1}^n X_i$$

נסביר את צורת הרישום על ידי הדוגמה הבאה:

$i$	$X_i$
1	5
2	0
3	1
4	3
5	2

תרגילים:

1. בבניין 5 דירות, לכל דירה רשמו את מספר החדרים שיש בדירה (X) ומספר הנפשות החיות בדירה (Y).

מספר דירה	X	Y
1	2	1
2	3	1
3	2	2
4	4	3
5	3	2

חשבו:

$$\sum_{i=1}^3 X_i$$

$$\sum_{i=1}^5 Y_i$$

$$\sum_{i=1}^4 X_i$$

$$\left(\sum_{i=1}^4 X_i\right)^2$$

$$\sum X_i$$

$$\sum X_i Y_i$$

$$\sum (X_i) \sum (Y_i)$$

2. נתון לוח ערכי המשתנים  $x_i$  ו- $y_i$  כאשר:  $i=1,2,\dots,6$

$i$	1	2	3	4	5	6
$x_i$	3	2	4	-2	1	4
$y_i$	2	0	0	1	-5	2

ונתונים הקבועים:  $a=2$   $b=5$  חשבו את הנוסחאות הבאות:

$$\sum_{i=1}^4 y_i \quad \text{א.}$$

$$\sum_{i=1}^6 a \quad \text{ב.}$$

$$\sum_{i=1}^6 x_i y_i \quad \text{ג.}$$

$$\sum_{i=1}^6 (x_i + y_i) \quad \text{ד.}$$

$$\sum_{i=1}^6 x_i + a \quad \text{ה.}$$

3. קבע לכל זהות אם היא נכונה:

$$\sum_{i=1}^n bX_i = b \cdot \sum_{i=1}^n X_i \quad \text{א.}$$

$$\sum_{i=1}^n a = a \cdot n \quad \text{ב.}$$

$$\left(\sum_{i=1}^n X_i\right)^2 = \sum_{i=1}^n X_i^2 \quad \text{ג.}$$

4. נתון:  $\sum_{i=1}^{10} X_i = 80$  חשב:  $\sum_{i=1}^{10} (X_i - 4)^2$  (פתרון: 1160)

$$\sum_{i=1}^{10} X_i^2 = 1640$$

## פרק 6 - סטטיסטיקה תיאורית - מדדי מיקום מרכזי

### רקע:

המטרה במדדי המיקום המרכזי למדוד את מרכז ההתפלגות של התצפיות.

### השכיח – MODE

השכיח הוא הערך הנפוץ ביותר בהתפלגות.

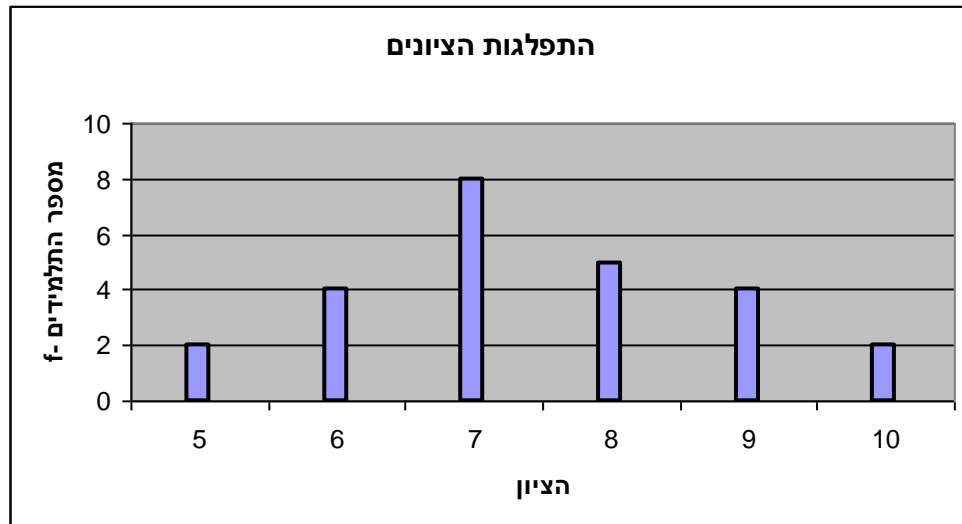
ברשימה : הערך החוזר על עצמו הכי הרבה פעמים .

7 9 4 8 4 10 6

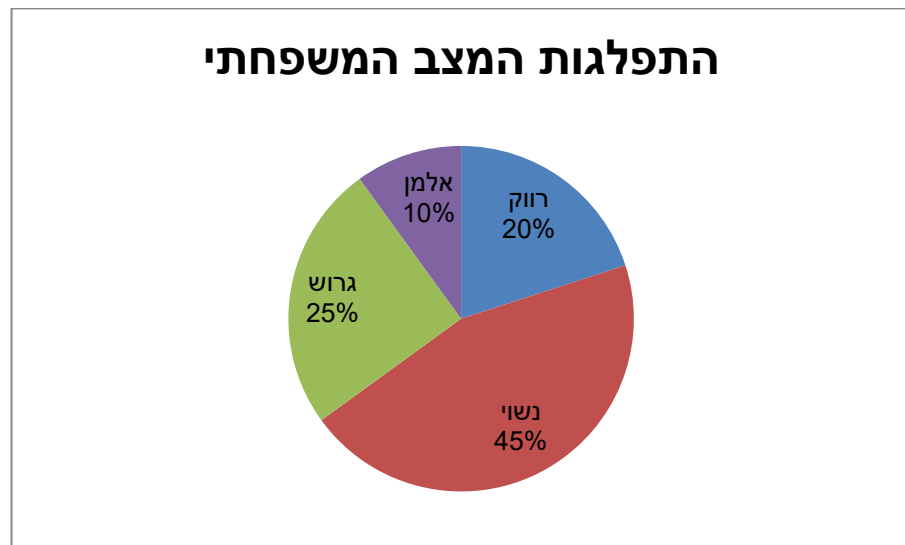
בטבלת שכיחויות בדידה : הערך שהשכיחות שלו היא הגבוהה ביותר.

$f(x)$	# תכניות החיסכון
100	0
75	1
25	2
25	3
25	4

בדיאגרמת מקלות : שיעור ה-  $X$  של המקל הגבוה ביותר.



בעוגה: הערך של הפלח הגדול ביותר.

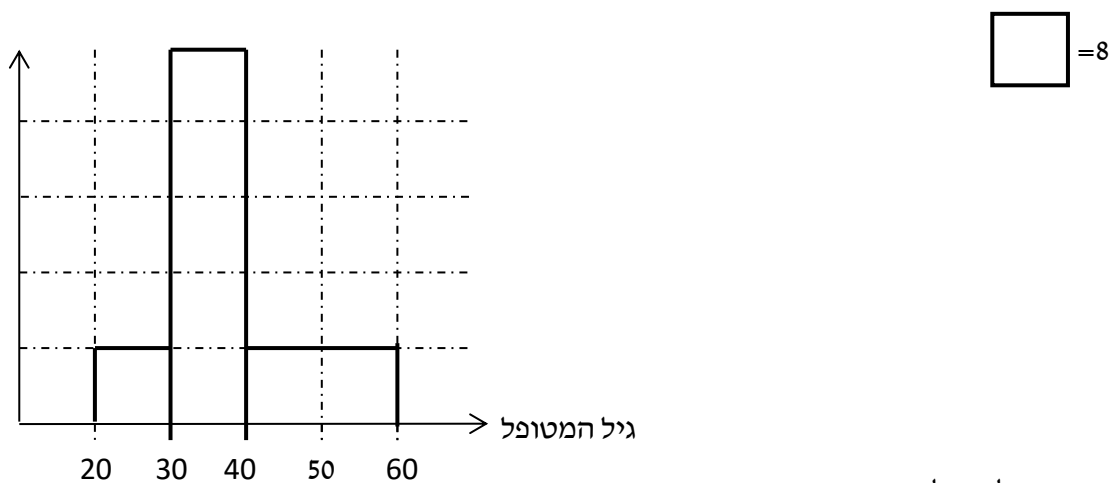


בטבלת שכיחויות במחלקות: אמצע המחלקה עם הצפיפות הגבוהה ביותר. התפלגות הציונים בכיתה.

$f(x)$	$X$
20	0-60
10	60-70
18	70-80
15	80-90
15	90-100

בהיסטוגרמה: שיעור ה- $X$  של אמצע המחלקה הגבוהה ביותר.

להלן גיל המטופלים של ד"ר שוורץ בשנים:



כללי: יתכן שלהתפלגות יותר משכיח אחד. השכיח הוא מדד הרלבנטי לכל סוגי המשתנים.



**MIDRANGE – (טווח) – אמצע תחום**

הממוצע בין התצפית הגבוהה ביותר לתצפית הנמוכה ביותר.

$$MR = \frac{X_{\min} + X_{\max}}{2}$$

**MEDIAN - החציון**

החציון הוא ערך שמחצית מהתצפיות קטנות או שוות לו ומחצית מהתצפיות גדולות או שוות לו .  
**ברשימה** : נסדר את התצפיות בסדר עולה.

אם יש מספר אי זוגי של איברים מקומו של החציון יהיה התצפית שמיקומה :  $\frac{n+1}{2}$

אם יש מספר זוגי של איברים החציון יהיה הממוצע של האיבר ה-  $\frac{n}{2}$  והאיבר ה-  $\frac{n}{2} + 1$

כלומר שיש מספר אי-זוגי של תצפיות החציון יהיה :  $md = X_{\frac{n+1}{2}}$

ושיש מספר זוגי של תצפיות החציון יהיה :  $md = \frac{X_{\frac{n}{2}} + X_{\frac{n}{2}+1}}{2}$

**בטבלת שכיחויות בדידה** : נעשה תהליך דומה אך נעזר בשכיחות המצטברת.

**דיאגרמת מקלות** : נמיר לטבלת שכיחויות בדידה במטרה למצוא את החציון.

**בטבלת שכיחויות במחלקות** :

שלב א : נימצא את המחלקה החציונית שמיקומה יהיה  $\frac{n}{2}$ .

שלב ב : נציב בנוסחה הבאה :  $Md = L_0 + \frac{\frac{n}{2} - F(x_{m-1})}{f(x_m)} \cdot (L_1 - L_0)$

$F(x_{m-1})$  - שכיחות מצטברת של מחלקה אחת לפני המחלקה החציונית.

$f(x_m)$  - השכיחות של המחלקה החציונית.

$L_0$  - גבול התחתון של המחלקה.

$L_1$  - גבול העליון של המחלקה.

**היסטוגרמה** : החציון הוא הערך על ציר ה- $X$  שמחלק את ההיסטוגרמה לשני חלקים שווים בשטח.

כללי : החציון אינו רלבנטי למשתנה מסולם שמי ולא רלבנטי למשתנה איכותי.

**הממוצע**

הנו מרכז הכובד של ההתפלגות.

**ברשימה** :  $\bar{x} = \frac{\sum_{i=1}^n x_i}{n}$

**בטבלת שכיחויות** :  $\bar{x} = \frac{\sum x \cdot f}{n}$

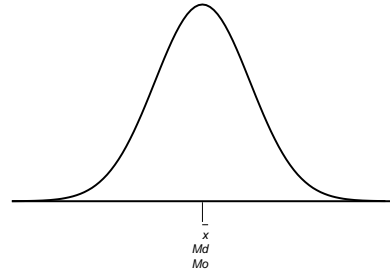
**במחלקות** : נשתמש באותה נוסחה רק נתייחס לאמצע המחלקה בתור ה- $X$ . הממוצע הזה יהיה ממוצע מקורב.

כללי : הממוצע רלבנטי רק למשתנה כמותי.

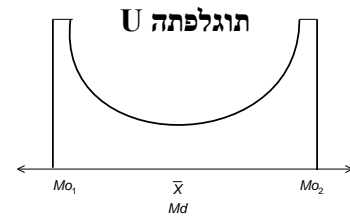
### מדדי המיקום המרכזי בהתפלגויות המיוחדות:

בהתפלגות סימטרית פעמונית כל מדדי המרכז שווים זה לזה:

#### התפלגות סימטרית



בהתפלגות סימטרית השכיח לא חייב להיות במרכז:

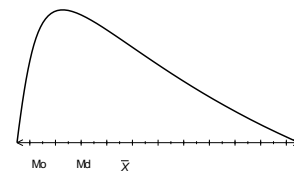


בהתפלגות אסימטרית



התפלגות  
א-סימטרית  
שמאלית או  
שליילית

התפלגות א-סימטרית  
ימנית או חיובית



**תרגילים:**

1. להלן רשימת הציונים של 20 תלמידים שנבחנו במבחן הבנת הנקרא :  
7, 6, 8, 9, 10, 6, 4, 5, 8, 7, 6, 7, 6, 8, 9, 6, 7, 8, 5, 6  
חשב את החציון, השכיח, והממוצע של הציונים.

2. בדקו את מספר החדרים לדירה בבניין בן 5 דירות והתקבל ממוצע 3.8  
לגבי 4 דירות נמצא מספר חדרים : 4, 3, 4, 5 .  
א. כמה חדרים יש בדירה החמישית?  
ב. מהו השכיח ומהו החציון?

3. להלן התפלגות מספר מקלטי הטלויזיה שנספרו עבור כל משפחה בישוב מסוים :

מספר מקלטים	מספר משפחות
0	22
1	28
2	18
3	22
4	10

ה. חשב את הממוצע, החציון והשכיח של ההתפלגות.

ו. הסבר ללא חישוב כיצד כל מדד שחישבת בסעיף א' היה משתנה אם חלק מהמשפחות (לא כולן) שלא היה להם עד היום טלוויזיה היו רוכשים מקלט אחד.

4. להלן התפלגות מספר המכוניות למשפחה בישוב "הגורן"

מספר מכוניות למשפחה	שכיחות
5	55
4	140
3	220
2	150
1	65

א. כמה משפחות יש בישוב?

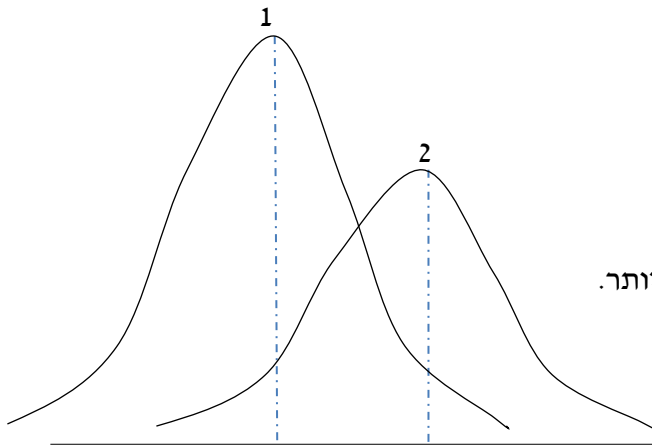
ב. מה אחוז המשפחות בישוב עם לכל היותר 2 מכוניות?

ג. חשבו את הממוצע, החציון והשכיח.

הקפידו להסביר לגבי כל סעיף מה משמעות התוצאה שקיבלתם!

5. מורה לימד 2 כיתות, הוא תיאר באותה מערכת צירים את התפלגות הציונים בכל כיתה.

בחר בתשובה הנכונה:



א. בכיתה 1 השכיח גבוה יותר מכיתה 2.

ב. בכיתה 2 השכיח גבוה יותר מכיתה 1.

ג. בשתי הכיתות אותו שכיח.

ד. לא ניתן לדעת באיזו כיתה השכיח גדול יותר.

6. ביישוב מסוים בדקו לכל משפחה את מספר הטלוויזיות שיש לה בבית. ביישוב גרות 200

משפחות. בממוצע יש למשפחה 1.5 טלוויזיות.

מספר משפחות	מספר טלוויזיות
28	0
62	1
	2
	3

א. השלימו את הטבלה.

ב. מהו השכיח, אמצע טווח והחציון.

ג. חלק מהמשפחות להן הייתה טלוויזיה אחת בדיוק הוציאו את הטלוויזיה מביתם, כיצד כל

מדד ישתנה (יגדל, יקטן או לא ישתנה) הסבירו ללא חישוב.

7. להלן התפלגות המשקל של קבוצה מסוימת בק"ג :

מספר מקרים	משקל
10	40-45
20	45-50
30	50-60
20	60-65
10	65-70

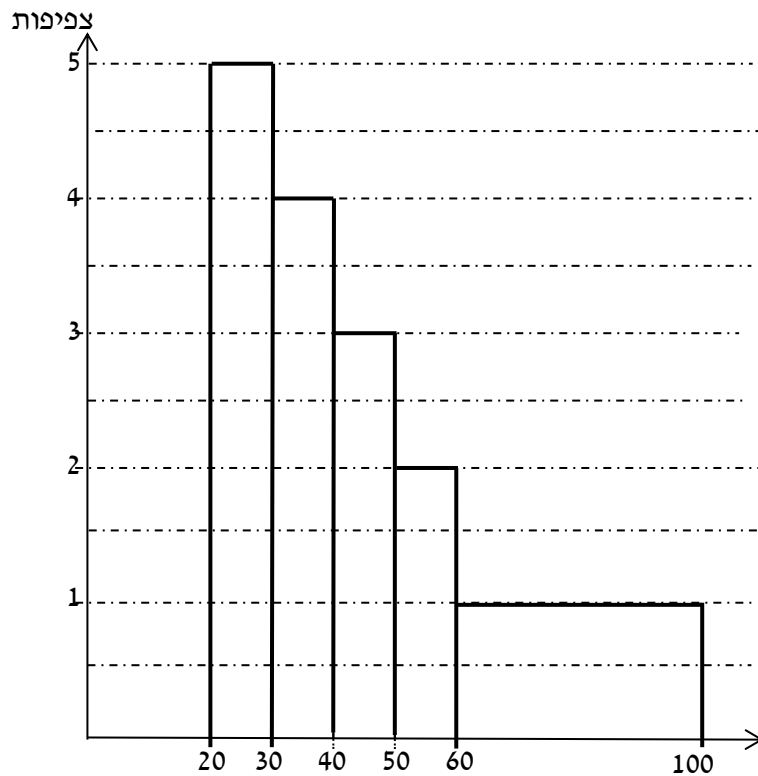
מה הממוצע והחציון של ההתפלגות?

8. להלן התפלגות הגבהים בס"מ בקבוצה מסוימת.

גובה בס"מ	שכיחות
150-160	30
160-170	40
170-175	60
175-180	70
180-190	40

חשב את הממוצע, החציון והשכיח של הגבהים בקבוצה זו.

9. בפקולטה מסוימת בדקו לסטודנטים העובדים בה את השכר לשעת עבודה. להלן התוצאות:



- א. מצא את השכיח בהתפלגות.  
 ב. מצא את החציון בהתפלגות.  
 ג. הסבירו ללא חישוב האם הממוצע גדול/קטן/שווה לחציון.  
 ד. הסתבר שיש להוציא מספר תלמידים במחלקה בין 20-30 שקלים כיצד הדבר ישפיע על הממוצע, החציון והשכיח? הסבירו ללא חישוב.

**פתרונות:****שאלה 1:**

החציון : 7

השכיח : 6

הממוצע : 6.9

**שאלה 2:**

א. 3

ב. שכיח : 3,4 חציון : 4

**שאלה 3:**

א. הממוצע : 1.7

החציון : 1.5

השכיח : 1

ב. הממוצע יגדל ויתר המדדים לא ישתנו.

**שאלה 4:**

א. 630

ב. 34.13%

ג. שכיח וחציון : 3

ממוצע : 2.952

**שאלה 5:**

תשובה : ב

**שאלה 6:**

ב חציון : 2 שכיח : 2 אמצע טווח : 1.5

**שאלה 7:**

חציון וממוצע : 55



## פרק 7 - סטטיסטיקה תיאורית - מדדי פיזור: הטווח, השונות וסטיית התקן

### רקע:

**המטרה:** למדוד את הפיזור של הנתונים כלומר כמה הם רחוקים זה מזה ושונים זה מזה.

### הטוחותחום RANGE:

ההפרש בין התצפית הגבוהה ביותר לנמוכה ביותר:  $R = X_{\max} - X_{\min}$

### שונות וסטיית תקן:

השונות היא ממוצע ריבועי הסטיות מהממוצע וסטיית התקן היא שורש של השונות.

$$s_x^2 = \frac{\sum_{i=1}^n (x_i - \bar{x})^2}{n} = \frac{\sum_{i=1}^n x_i^2}{n} - \bar{x}^2 \quad \text{עבור סדרת נתונים:}$$

דוגמה: נחשב את השונות של סדרת המספרים הבאה: 5, 4, 9

$$s_x^2 = \frac{\sum (x - \bar{x})^2 \cdot f}{n} = \frac{\sum x^2 \cdot f}{n} - \bar{x}^2 \quad \text{עבור טבלת שכיחויות:}$$

להלן התפלגות הציונים בכיתה מסוימת בה ממוצע הציונים הוא 7.44

$x^2 \cdot f$	השכיחות-f	הציון X-
50	2	5
144	4	6
392	8	7
320	5	8
324	4	9
200	2	10
1430		סה"כ

$$s_x^2 = \frac{\sum x^2 f(x)}{n} - \bar{x}^2 = \frac{1430}{25} - 7.44^2 = 1.8464$$

$$s = \sqrt{s_x^2} = \sqrt{1.8464} = 1.3588$$

כשיש מחלקות נעזר באמצע המחלקה כדי לחשב את השונות.

**תרגילים:**

1. להלן רשימת הציונים של 20 תלמידים שנבחנו במבחן הבנת הנקרא:

7, 6, 8, 9, 10, 6, 4, 5, 8, 7, 6, 7, 6, 8, 9, 6, 7, 8, 5, 6  
 חשבו את השונות, סטיית התקן והטווח של הציונים.

2. להלן התפלגות מספר המכוניות למשפחה ב"הגורן"

מספר מכוניות למשפחה	1	2	3	4	5
שכיחות	65	150	220	140	55

א. חשבו סטיית התקן.

ב. חשבו את הטווח של הנתונים.

הקפידו להסביר לגבי כל סעיף מה משמעות התוצאה שקיבלתם!

3. בחברה העוסקת בטלמרקטינג בדקו עבור כל עובד את מספר שנות הוותק שלו. התקבל שממוצע שנות הוותק הוא 4 שנים וסטיית התקן היא שנתיים.

א. האם הממוצע יגדל/יקטן/לא ישתנה וסטיית התקן תגדל/תקטן/לא תשנה כאשר יתווספו שני עובדים עם וותק של 4 שנים להתפלגות?

ב. האם הממוצע יגדל/יקטן/לא ישתנה וסטיית התקן תגדל/תקטן/לא תשנה כאשר יתווספו שני

עובדים אשר אחד עם וותק של 0 שנים והשני עם וותק של 8 שנים להתפלגות?

4. נתונה רשימה של 5 תצפיות, אך רק עבור 4 מהן נרשמו הסטיות שלהן מהממוצע:

2, 3, 2, -1. חשב את השונות של חמש התצפיות.

5. בשכונה בדקו בכל דירה את מספר החדרים לדירה. בשכונה 200 דירות.

פרופורציה	מספר חדרים
0.1	1
0.2	2
0.4	3
0.15	4
	5

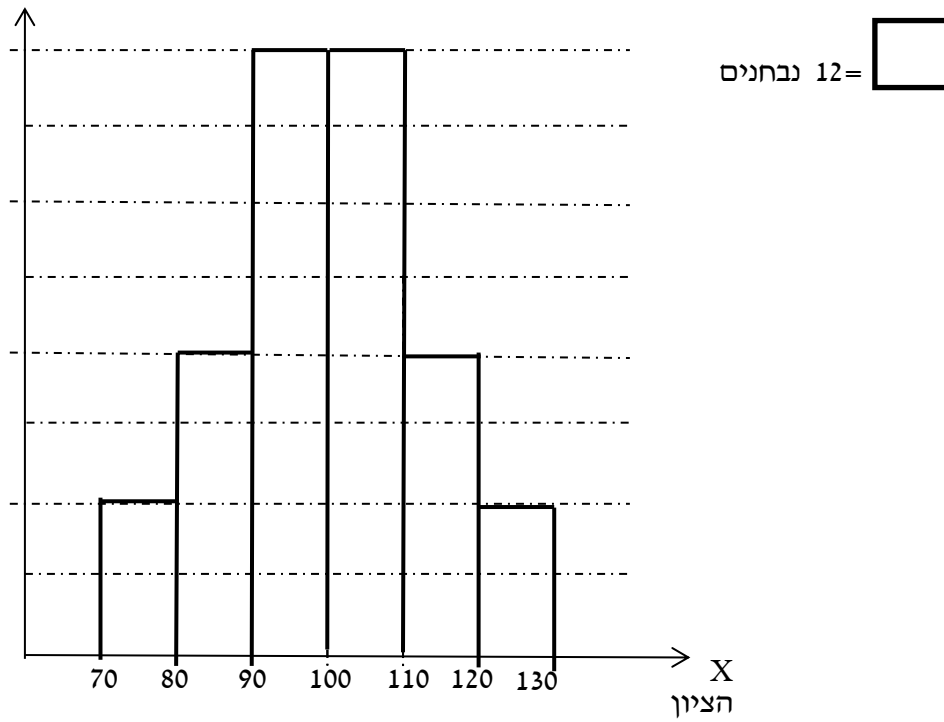
- א. מה הממוצע של מספר החדרים לשכונה בדירה?  
 ב. חשבו את סטיית התקן של מספר החדרים לדירה.  
 ג. חלק מבעלי הדירות בנות 2 החדרים הפכו את דירתם לדירת חדר. כיצד הדבר ישפיע (יקטין, יגדל, לא ישנה) כל מדד שחיבתם בסעיפים הקודמים.

6. להלן התפלגות המשקל של קבוצה מסוימת בק"ג:

מספר מקרים	משקל
10	40-45
20	45-50
30	50-60
20	60-65
10	65-70

מהי סטיית התקן של התפלגות המשקל?

7. להלן התפלגות הציונים במבחן אינטליגנציה:



א. מה הממוצע ומה החציון של ההתפלגות?

ב. חשבו את סטיית התקן של הציונים.

ג. מסתבר שיש להוסיף 20 תצפיות לכל אחת משתי המחלקות 90-100 ו-100-110.

כיצד הדבר ישתנה את כל אחד מהמדדים של הסעיפים הקודמים?

**פתרונות :****שאלה 1:**

השונות : 2.19

סטיית תקן : 1.48

טווח : 6

**שאלה 2:**

א. סטיית תקן: 1.106

ב. טווח 4

**שאלה 3:**

א. ממוצע לא ישתנה, סטיית התקן תקטן.

ב. ממוצע לא ישתנה, סטיית התקן תגדל.

**שאלה 4:**

10.8

**שאלה 5:**

א. 3.05

ב. 1.16

**שאלה 6:**

7.73

**שאלה 7 :**

א. 100

ב. 12.96

## פרק 8 - סטטיסטיקה תיאורית - מדדי פיזור - טווח בין-רבעוני

### רקע:

הטווח הבין-רבעוני נותן את הטווח בין הרבעונים בו נמצאים 50% מהתצפיות המרכזיות.

שלב א' במציאת טווח בין-רבעוני במחלקות:

F	f מספר עובדים (שכירות)	$L_1 - L_0$ רוחב	מספר שנות ותק
56	56	4	0.5 – 4.5
106	50	5	4.5 – 9.5
154	48	2	9.5 – 11.5
190	36	3	11.5 – 14.5
200	10	5	14.5 – 19.5

שלב א' : נימצא את הרבעון התחתון (האחוזון ה-25) והרבעון העליון (האחוזון ה-75).

$\frac{n}{4}$  : מיקום הרבעון התחתון יהיה :

$\frac{3n}{4}$  : מיקום הרבעון העליון יהיה :

נוסחאות הרבעונים יהיו :

$$Q_1 = L_0 + \frac{\frac{n}{4} - F(x_{m-1})}{f(x_m)} \cdot (L_1 - L_0) \quad ; \quad Q_3 = L_0 + \frac{\frac{3n}{4} - F(x_{m-1})}{f(x_m)} \cdot (L_1 - L_0)$$

שלב ב' : נחסר את הרבעונים :

$$IQR = Q_3 - Q_1$$


תרגילים:

1. להלן התפלגות המשקל של קבוצה מסוימת בק"ג:

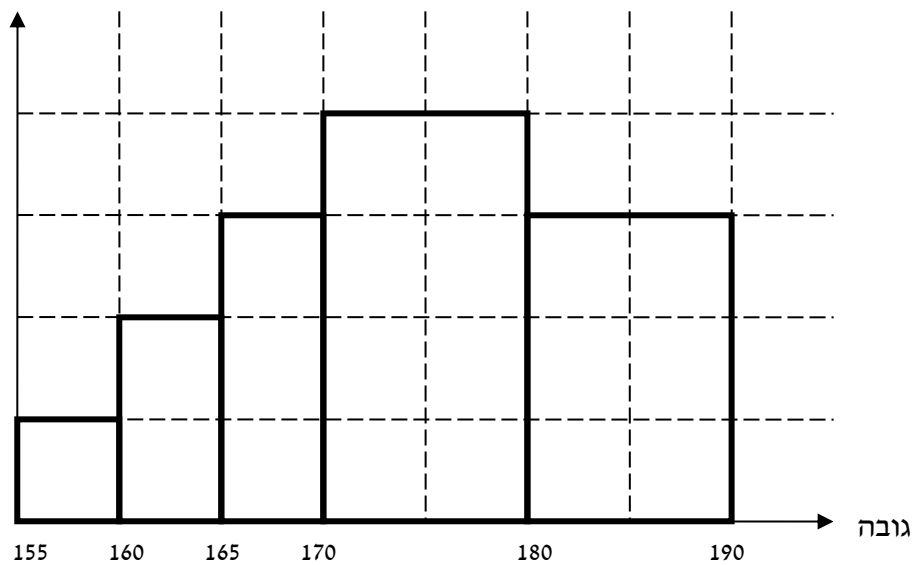
משקל	מספר מקרים
40-45	10
45-50	20
50-60	30
60-65	20
65-70	10

מצא את הטווח הבין-רבעוני.

2. להלן היסטוגרמה המתארת את התפלגות הגבהים בס"מ של קבוצה מסוימת:



אנשים = 5



מצא

את הטווח

הבין-

רבעוני.

**פתרונות:**

**שאלה 1:**

13.75

**שאלה 2:**

13.33



## פרק 9 - סטטיסטיקה תיאורית - מדדי פיזור - ממוצע סטיות מוחלטות מהחציון

### רקע:

מדד זה הוא מדד לפיזור בנוסף למדדים שנלמדו בפרקים הקודמים כמו סטיית התקן.

המדד בודק את הפיזור הממוצע סביב החציון.

הרעיון הוא למצוא בכמה בממוצע התצפיות סוטות בערך המוחלט מהחציון.

כדי לחשב את המדד יש לחשב קודם כל את החציון.

$$MAD = \frac{\sum_i |X_i - Md|}{n} \quad \text{אם מדובר ברשימה של תצפיות הנוסחה לחישוב המדד :}$$

$$MAD = \frac{\sum |X_i - Md| \cdot f(X)}{n} \quad \text{אם מדובר בטבלת שכיחויות, הנוסחה לחישוב המדד :}$$

כאשר מדובר על טבלת שכיחויות במחלקות ניקח בתור  $X$  את אמצע המחלקה.

### דוגמה: (הפתרון בהקלטה)

נתונה רשימת המספרים הבאה : 2 8 7 6 3

מה ממוצע הסטיות המוחלטות מהחציון?

**תרגילים:**

1. נתונה רשימת המספרים הבאה : 3 5 6 9 12 8 . מה ממוצע הסטיות המוחלטות מהחציון?

2. להלן התפלגות מספר מקלטי הטלויזיה שנספרו עבור כל משפחה בישוב מסוים :

מספר משפחות	מספר מקלטים
22	0
28	1
18	2
22	3
10	4

א. חשב את החציון.

ב. חשב את ממוצע הסטיות המוחלטות מהחציון.

ג. הסבר ללא חישוב כיצד כל מדד שחישבת היה משתנה אם 5 ממשפחות שהיה להם מקלט יחיד היו מוכרים אותו.

**פתרונות:****שאלה 1 :**

2.5

**שאלה 2:**

א. 1.5

ב. 1.14

ג. חציון לא ישתנה וממוצע סטיות מוחלטות מהחציון יגדל.

## פרק 10 - סטטיסטיקה תיאורית - מדדי מיקום יחסי - ציון תקן

### רקע:

המטרה למדוד איך תצפית ממוקמות יחסית לשאר התצפיות בהתפלגות.

### ציון תקן:

$$Z = \frac{X - \bar{X}}{S} : \text{ הנוסחה לציון תקן של תצפית היא :}$$

ציון התקן נותן כמה סטיות תקן סוטה התצפית מהממוצע.

כלומר, ציון התקן מעיד על כמה סטיות תקן התצפית מעל או מתחת לממוצע.

ציון תקן חיובי אומר שהתצפית מעל הממוצע.

ציון תקן שלילי אומר שהתצפית מתחת לממוצע.

ציון תקן אפס אומר שהתצפית בדיוק בממוצע.

### דוגמה : ( פתרון בהקלטה )

במקום עבודה מסוים ממוצע המשכורות 8 אלפי ₪ עם סטית תקן של 2 אלפי ₪ באותו מקום עבודה ההשכלה הממוצעת של העובדים הנה 14 שנים עם סטית תקן של 1.5 שנים. ערך מרויח במקום עבודה זה 11 אלף ₪ והשכלתו 16 שנים. מה ערך יותר באופן יחסי משכיל או משתכר ?

**תרגילים:**

1. תלמידי כיתה ח' ניגשו למבחן בלשון ולמבחן במתמטיקה.  
להלן התוצאות שהתקבלו:

מקצוע	ממוצע	סטיית תקן
לשון	74	12
מתמטיקה	80	16

עודד קיבל: 68 בלשון ו70 במתמטיקה.

א. באיזה מקצוע עודד טוב יותר באופן יחסי לשכבה שלו?

ב. איזה ציון עודד צריך לקבל במתמטיקה כדי שיהיה שקול לציונו בלשון?

2. במפעל לייצור מצברים לרכב בדקו במשך 40 ימים את התפוקה היומית ( מספר מצברים במאות) ואת מספר הפועלים שעבדו באותו היום.

להלן טבלה המסכמת את האינפורמציה שנאספה על שני המשתנים:

מספר פועלים	תפוקה	
15	48	ממוצע
2	10	סטיית תקן

באחד הימים מתוך כלל הימים שנבדקו התפוקה הייתה 50 מאות מצברים ובאותו היום עבדו 13 פועלים.

מה יותר חריג באותו היום יחסית לשאר הימים שנבדקו נתוני התפוקה או כמות הפועלים?  
בחר בתשובה הנכונה.

א. התפוקה.

ב. כמות הפועלים.

ג. חריגים באותה מידה.

ד. חסרים נתונים כדי לדעת זאת.

3. הגובה הממוצע של המתגייסים לצבא הוא 175 סנטימטר עם סטיית תקן 10 סנטימטר. המשקל הממוצע 66 ק"ג עם סטיית תקן 8 ק"ג. ערן התגייס, גובהו 180 ס"מ ומשקלו 59 ק"ג.

א. במה ערן חריג יותר ביחס לשאר המתגייסים- גובהו או משקלו?

ב. כמה ערן אמור לשקול כדי שמשקלו יהיה שקול לגובהו?

**פתרונות:**

**שאלה 1:**

א. לשון

ב. 72

**שאלה 2:**

תשובה ב

**שאלה 3:**

א. משקל

ב. 70

## פרק 11 - סטטיסטיקה תיאורית - טרנספורמציה לינארית

### רקע:

מצב שבו מבצעים שינוי מסוג הוספה של קבוע ( או החסרה ) והכפלה של קבוע ( או חילוק ) לכל

$$y = a \cdot x + b$$

התצפיות :

וכך יושפעו המדדים השונים :

### מדדי המרכז:

$$MR_y = a \cdot MR_x + b$$

$$Mo_y = a \cdot Mo_x + b$$

$$\bar{y} = a \cdot \bar{x} + b$$

$$Md_y = a \cdot Md_x + b$$

### מדדי הפיזור:

$$R_y = |a| R_x$$

$$s_y = |a| s_x$$

$$s_y^2 = a^2 s_x^2$$

### מדדי המיקום היחסי:

$$Y_p = a \cdot X_p + b$$

$$Z_Y = \frac{a}{|a|} Z_X$$

### שלבי העבודה:

1. נזהה שמדובר בטרנספורמציה לינארית ( שינוי קבוע לכל התצפיות ).
2. נרשום את כלל הטרנספורמציה לפי נתוני השאלה.
3. נפשט את הכלל ונזהה את ערכי  $a$  ו  $b$ .
4. נציב בנוסחאות שלעיל בהתאם למדדים שנשאלים.

דוגמה: (פתרון בהקלטה)

השכר הממוצע של עובדים הנו 9000 ₪ וטווח 6000 ₪ חשבו את המדדים הללו לאחר שהעלו את כל המשכורות ב-10% ואחר כך קנסו אותם ב100 ₪.

**תרגילים:**

1. עבור סדרת נתונים התקבל:

$$\bar{X} = 80$$

$$S = 15$$

$$MO = 70$$

הוחלט להכפיל את כל התצפיות פי-4 ולהחסיר מהתוצאה 5. חשב את המדדים הללו לאחר השינוי.

2. בחברה מסוימת השכר הממוצע הוא 40 ₪ לשעה עם סטיית תקן של 5 ₪ לשעה. הוחלט להעלות את כל המשכורות ב-10%, אך זה לא סיפק את העובדים ולכן הם קיבלו לאחר מכן תוספת של 2 ₪ לשעה. מה הממוצע ומהי השונות של השכר לשעה לאחר כל השינויים.

3. במבחן הציון החציוני היה 73, טווח הציונים היה 40 נקודות. והעשירון העליון היה הציון 87. כיוון שהציונים בבחינה היו נמוכים, המורה החליט לתת פקטור של 4 נק' לכל התלמידים. חשבו את המדדים לאחר הפקטור.

4. דגמו מקו ייצור 50 קופסאות של גפרורים. בדקו בכל קופסא בה יש 40 גפרורים את כמות הגפרורים הפגומים. קבלו שבממוצע יש 3 גפרורים פגומים בקופסא. עם סטיית תקן של 1.5 גפרורים. מה יהיה הממוצע ומה תהיה סטיית התקן של מספר התקנים בקופסא?

5. חברת בזק הציעה את החבילה הבאה:  
שלושים שקלים דמי מנוי חודשיים קבועים. ובנוסף 10 אגורות לכל דקה של שיחה יוצאת, אדם בדק במשך שנה את דקות השיחות היוצאות שלו, וקיבל שבממוצע בחודש יש לו 600 דקות שיחות יוצאות עם שונות 2500 דקות רבועות, כמו כן בחודש ינואר ציון התקן היה 2. חשבו את המדדים הללו עבור חשבון הטלפון החודשי של אותו אדם בשקלים אם היה משתמש בחבילה המוצעת לו על ידי בזק.

6. הוכח שאם כל התצפיות בהתפלגות עברו טרנספורמציה לינארית:

$$Y_i = a \cdot X_i + b$$

אזי הממוצע והשונות של כלל התצפיות לאחר הטרנספורמציה יהיו בהתאמה:

$$\bar{y} = a \cdot \bar{x} + b$$

$$s_y^2 = a^2 s_x^2$$



**פתרונות :****שאלה 2 :**

הממוצע : 46  
 השונות : 30.25

**שאלה 1 :**

הממוצע : 315  
 סטיית התקן : 60  
 השכיח : 275

**שאלה 4 :**

ממוצע : 37  
 סטיית תקן : 1.5

**שאלה 3 :**

טווח : 40  
 חציון : 77  
 עשירון עליון : 91

**שאלה 5 :**

ממוצע : 90  
 שונות : 25  
 ציון תקן : 2

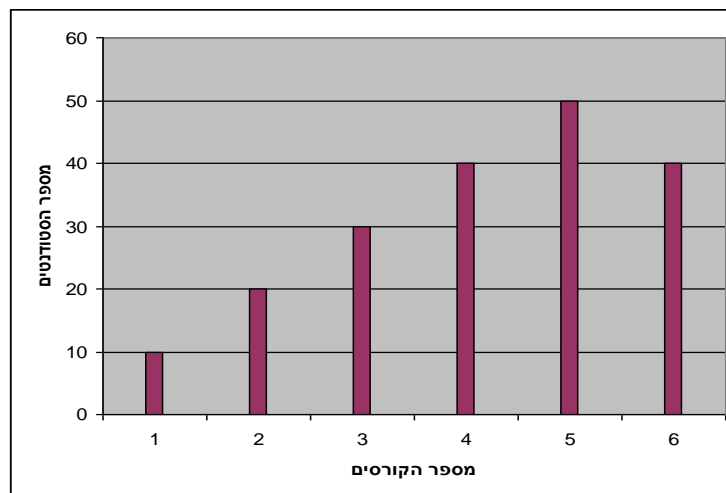
## פרק 12 - סטטיסטיקה תיאורית - שאלות מסכמות

1. בדקו עבור 5 תלמידים את המשקל שלהם :

מספר תלמיד	משקל בק"ג
1	58
2	62
3	48
4	34
5	58

- מהו המשתנה הנחקר? האם הוא בדיד או רציף?
- מהו המשקל החציוני, הממוצע והשכיח?
- מה הטווח וסטיית התקן של המשקל?
- לאותם תלמידים חישבו גם את הגובה בס"מ וקיבלו גובה ממוצע של 168 וסטיית תקן 6. במה תלמיד מספר 3 שגובהו 162 יותר חריג במשקל או בגובה?
- הוסיפו עוד תלמיד השוקל 52 ק"ג בדיוק. הסבירו ללא חישוב כיצד הדבר ישפיע על הממוצע וסטיית התקן? ( יגדיל יקטין או לא ישנה)

2. בפקולטה להנדסה אספה מזכירות הסטודנטים נתונים לגבי מס' הקורסים שכל סטודנט סיים בשנה הראשונה ללימודיו בשנת 2008. להלן התוצאות שהתקבלו :



- מה המשתנה הנחקר? האם הוא בדיד או רציף?
- מהי צורת ההתפלגות?
- תאר את הנתונים בטבלת שכיחויות.
- חשב את השכיח, החציון והטווח.

3. להלן התפלגות הציונים בבחינה בלשון שנעשתה עבור תלמידי כיתות ד'. השתתפו במחקר 150 תלמידים.

$$\text{ממוצע הציונים שהתקבל: } \bar{X} = 7\frac{1}{15}$$

מספר התלמידים	ציון
12	4
16	5
	6
38	7
	8
14	9
10	10

- א. השלם את השכיחויות החסרות בטבלה.  
 ב. חשב את הציון החציוני, השכיח.  
 ג. חשב שונות וסטיית תקן להתפלגות הציונים.

4. חברה סלולארית דגמה 200 אנשים. עבור כל אדם נבדקה מידת שביעות הרצון של הלקוח מהחברה (1 – שביעות רצון נמוכה ועד 5 שביעות רצון גבוהה) להלן ההתפלגות שהתקבלה:

מספר האנשים	שביעות רצון
40	1
60	2
50	3
30	4
20	5

- א. מה אחוז האנשים עם רמת שביעות רצון נמוכה?  
 ב. מה המשתנה הנחקר ומאיזה סוג הוא?  
 ג. מהי הדרך הגרפית המתאימה ביותר לתיאור הנתונים?  
 i. היסטוגרמה.  
 ii. דיאגרמת מקלות.  
 iii. דיאגרמת עוגה.  
 ד. חשבו את המדדים הבאים:  
 1. טווח  
 2. שכיח  
 3. חציון

5. נתנו לקבוצת ילדים לבצע משימה מסוימת ובדקו את התפלגות זמן ביצוע המשימה בדקות. להלן ההתפלגות שהתקבלה:

מספר הילדים	זמן בדקות
20	0.5-3.5
18	3.5-9.5
14	9.5-19.5
8	19.5-29.5

- א. שרטט היסטוגרמה לתיאור התפלגות זמן ביצוע המשימה.  
 ב. מתוך ההיסטוגרמה שבנית בסעיף א מהי צורת ההתפלגות?  
 ג. חשב את השכיח והחציון של ההתפלגות.  
 ד. הסבר, ללא חישובים, האם הזמן הממוצע לביצוע המשימה, קטן או גדול או שווה ביחס לשכיח ולחציון.

**פתרונות:****שאלה 1:**

- א. המשתנה הנחקר כאן הוא משקל תלמיד בק"ג והוא משתנה כמותי רציף.  
ב.

$$\bar{X} = 52$$

$$Md = X_{\frac{n+1}{2}} = X_3 = 58$$

השכיח הוא 58

$$R = 28 \quad \text{ג.}$$

$$s = 10.12$$

- ד. הוא חריג יותר בגובה כי שם ציון התקן בערך מוחלט יותר גבוה.  
ה. הממוצע לא ישתנה אך סטיית התקן תקטן.

**שאלה 2:**

- א. מספר הקורסים. בדיד.  
ב. התפלגות אסימטרית שמאלית  
ד. השכיח: 5  
הטווח: 5

**שאלה 3:**

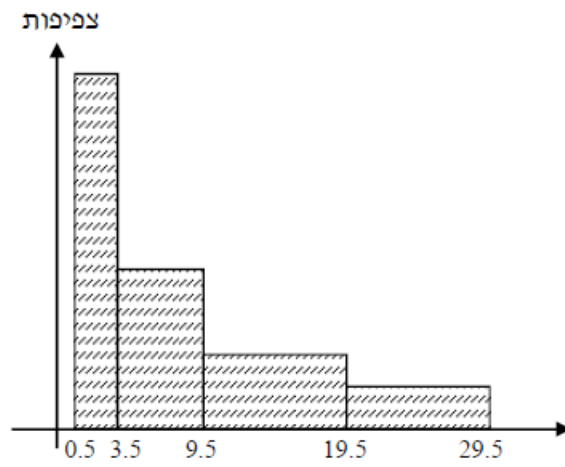
- א. 20 תלמידים קיבלו ציון 6 ו-40  
תלמידים קיבלו ציון 8.  
החציון: 7  
השכיח: 8  
ג. השונות: 2.533  
סטיית התקן: 1.592

**שאלה 4:**

- א. 20%  
ב. שביעות רצון (סדר)  
ג. 2  
ד. טווח: 4 שכיח: 2 חציון: 2.5  
ה. חציון: 4

## שאלה 5:

א.



ב. ההתפלגות היא א-סימטרית ימנית .

ג. שכיח: 2 חציון: 6.83

ד. בהתפלגות א-סימטרית ימנית מתקיים  $Mo < Md < \bar{X} < MR$

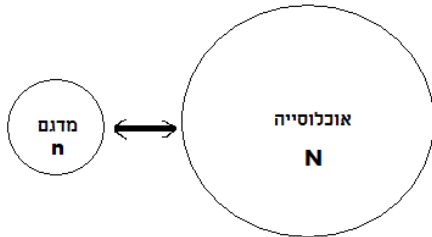
## פרק 13 - הסקה סטטיסטית - הקדמה

### רקע:

אוכלוסייה – קבוצה שאליה מפנים שאלה מחקרית.

למשל, חברת תרופות שמעוניינת לפתח תרופה למחלת הסוכרת מתעניינת באוכלוסיית חולי הסוכרת בעולם.

מדגם – חלק מתוך האוכלוסייה.



למשל, אם נדגום באקראי 10 אנשים מתוך חולי הסוכרת אז זהו מדגם מתוך אוכלוסיית חולי הסוכרת.

במקרים רבים אין אפשרות לחקור את כל האוכלוסייה כיוון שאין גישה לכולה, היא גדולה מידי, או מוגבלים בזמן ובאמצעים טכניים ולכן מבצעים מדגם במטרה לבצע הסקה סטטיסטית מהמדגם לאוכלוסייה.

הדגימה בקורס תהייה דגימה מקרית הכוונה לדגימה שבה לכל תצפית באוכלוסייה יש את אותו סיכוי להיכלל במדגם.

סטטיסטי – גודל המחושב על המדגם.

פרמטר – גודל המתאר את האוכלוסייה.

הסימונים לפרמטר וסטטיסטי הם שונים

למשל:

פרמטר (אוכלוסייה)	סטטיסטי (מדגם)	
$\mu$	$\bar{X}$	ממוצע
P	$\hat{p}$	פרופורציה (שכיחות יחסית)

פרמטר הוא גודל קבוע גם אם לא יודעים אותו סטטיסטי הוא משתנה ממדגם למדגם ולכן יש לו התפלגות הנקראת התפלגות הדגימה.

**דוגמה (פתרון בהקלטה):**

25% מאזרחי המדינה תומכים בהצעת החוק של חבר כנסת מסוים . הוחלט לדגום 200 אזרחים ומתוכם לבדוק מהו אחוז התומכים בהצעת החוק.

א. מי האוכלוסייה?

ב. מה המשתנה?

ג. מה הפרמטרים?

ד. מהו גודל המדגם?

ה. מהו הסטטיסטי שמתכננים להוציא מהמדגם?

ו. האם הפרמטר או הסטטיסטי הוא משתנה מקרי?



**תרגילים :**

1. מתוך כלל הסטודנטים במכללה שסיימו סטטיסטיקה א נדגמו שני סטודנטים. נתון שממוצע הציונים של כלל הסטודנטים היה 78 עם סטיית תקן של 15.

א. מי האוכלוסייה?

ב. מה המשתנה?

ג. מהם הפרמטרים?

ד. מהו גודל המדגם?

2. להלן התפלגות מספר מקלטי הטלויזיה למשפחה בישוב "העוגן".

נגדיר את  $x$  להיות מספר המקלטים של משפחה אקראית.

מתכננים לדגום מאוכלוסיה זו 4 משפחות ולהתבונן בממוצע מספר מקלטי הטלויזיה במדגם.

מספר מקלטים	מספר המשפחות
0	50
1	250
2	350
3	300
4	50
	סך הכול $N = 1000$

א. מיהי האוכלוסייה ומהו המשתנה הנחקר?

ב. מהו הסטטיסטי שיילקח מהמדגם ומה סימונו?

3. נתון כי 20% מהשכירים במדינה הם אקדמאיים. נבחרו באקראי 10 שכירים באותה אוכלוסייה ומתכננים לפרסם את מספר האקדמאיים שנדגמו.

א. מהי האוכלוסייה ?

ב. מה המשתנה באוכלוסייה?

ג. מהם הפרמטרים?

ד. מהו הסטטיסטי?

## פרק 14 - מושגים בסיסיים באמידה

### רקע:

כזכור מהמפגש הקודם פרמטר הוא גודל המתאר את האוכלוסייה או התפלגות מסוימת.

כמו ממוצע הגבהים בקרב מתגייסים לצה"ל- $\mu$ .

כמו פרופורציית התומכים בממשלה בקרב אזרחי המדינה -  $p$ .

בדרך כלל הפרמטרים הם גדלים שאינם ידועים באמת, ולכן מבצעים מדגמים במטרה לאמוד אותם. אין אפשרות לחשב אותם הניסיון הוא בלהעריך כמה הם שווים ככל שניתן.

• נסמן באופן כללי פרמטר באות  $\theta$  ואומד ב- $\hat{\theta}$ . הוא סטטיסטי המחושב על המדגם ובאמצעותו נאמוד את  $\theta$ .

• שגיאת אמידה:  $|\hat{\theta} - \theta|$  - ההפרש בין האומד לאמת(הפרמטר).

### דוגמה: (פתרון בהקלטה)

בכנסת ה-19 קיבלה מפלגת העבודה 15 מנדטים. בערוץ 10 ברגע סגירת הקלפיות העריכו את מספר המנדטים של המפלגה להיות 17 מנדטים וזאת על סמך תוצאות מדגם של הערוץ.

מה הפרמטר בדוגמה זו?

מהי טעות האמידה של ערוץ 10?

•  $E(\hat{\theta}) = \theta$  יהיה אומד חסר הטיה ל  $\theta$  אם התוחלת של  $\hat{\theta}$  תהיה שווה ל  $\theta$  :

• טעות התקן של אומד היא סטיית התקן שלו, כלומר:  $\sigma(\hat{\theta}) = S.E$

להלן פרמטרים מרכזיים והאומדים שלהם:

ממוצע האוכלוסייה:  $\mu$

האומד הנקודתי שלו יהיה: ממוצע המדגם  $\bar{x} = \frac{\sum x}{n}$

$E(\bar{x}) = \mu$  לכן  $\bar{x}$  הינו אומר חסר הטיה ל  $\mu$ .

כמו כן טעות תקן:  $\sigma(\bar{x}) = \frac{\sigma}{\sqrt{n}} = SE$

פרופורציה באוכלוסייה:  $p$

האומד הנקודתי שלו יהיה: פרופורציה במדגם:  $\hat{p} = \frac{y}{n}$

$E(\hat{p}) = p$  לכן  $\hat{p}$  הינו אומר חסר הטיה ל  $p$ .

כמו כן טעות התקן:  $\sigma(\hat{p}) = \sqrt{\frac{p \cdot (1-p)}{n}}$

שונות האוכלוסייה:  $\sigma^2$

האומד הנקודתי שלו יהיה:  $S^2 = \frac{\sum (x_i - \bar{x})^2}{n-1}$

$E(S^2) = \sigma^2$  ולכן  $S^2$  הינו אומד חסר הטיה ל  $\sigma^2$ .

$$S^2 = \frac{\sum (x_i - \bar{x})^2}{n-1} = \frac{\sum x_i^2 - n\bar{x}^2}{n-1}$$

הערה: אומד הוא הנוסחה הכללית לאמידת הפרמטר ואומדן הוא הערך הספציפי שהתקבל במדגם מסוים.

**דוגמה: ( פתרון בהקלטה )**

נדגמו 10 משפחות בתל אביב ונבדק עבור כל משפחה מספר הילדים שלה. להלן התוצאות שהתקבלו:

2,1,3,2,1,4,5,2,1,3

אמדו באמצעות אומדים חסרי הטיה את הפרמטרים הבאים:

1. ממוצע מספר הילדים למשפחה בתל אביב.
2. שונות מספר הילדים למשפחה בתל אביב.
3. פרופורציית המשפחות בנות שני ילדים.

**תרגילים:**

1. מתוך 500 טירונים נמצאו 120 בעלי שברי הליכה. נתון שהסיכוי שטירון יהיה עם שבר הליכה הוא 0.25.
- א. מהי האוכלוסייה המוצגת בשאלה? מהם הפרמטרים שלה?
- ב. מהי טעות התקן של האומדן כשהמדגם בגודל 500?
- ג. מהו האומדן לפרמטר?
- ד. מהי טעות האמידה?
2. לפי נתוני היצרן מקרר צורך בממוצע 2400 וואט לשעה עם סטיית תקן של 500 וואט לשעה. במדגם של 25 מקררים של היצרן התקבל ממוצע של 2342 וואט לשעה.
- א. מהי האוכלוסייה המוצגת בשאלה? מהם הפרמטרים שלה?
- ב. מהי טעות התקן של האומדן?
- ג. מהו האומדן לפרמטר?
- ד. מהי טעות האמידה?
3. נדגמו עשרה מתגייסים לצה"ל. גובהם נמדד בס"מ. להלן התוצאות שהתקבלו:
- 168, 184, 192, 171, 180, 177, 187, 168, 177 ו-175.
- א. מצא אומדן חסר הטיה לגובה הממוצע של מתגייסי צה"ל.
- ב. מצא אומדן חסר הטיה לשונות הגבהים של מתגייסי צה"ל.
- ג. מצא אומדן חסר הטיה לפרופורציות המתגייסים בגובה של לפחות 180 ס"מ.
4. נדגמו 20 שכירים באקראי. עבור כל שכיר נמדד השכר באלפי שקלים. להלן התוצאות שהתקבלו:
- $$\sum_{i=1}^{20} X_i^2 = 1502.2 \quad \sum_{i=1}^{20} X_i = 162$$
- א. אמדו את השכר הממוצע של השכירים במשק.
- ב. אמדו את סטיית התקן של שכר השכירים במשק.

5. במטרה לאמוד את ממוצע האוכלוסייה. דגמו תצפיות בלתי תלויות מהאוכלוסייה וחישובו את הממוצע שלהם. מהי טעות התקן?  
 א. סטיית התקן של האוכלוסייה.  
 ב. סטיית התקן של ממוצע האוכלוסייה.  
 ג. סטיית התקן של המדגם.  
 ד. סטיית התקן של ממוצע המדגם.

6. משקל הממוצע של אוכלוסייה מסוימת הוא 75 ק"ג עם שונות של 25. אם יבחרו כל המדגמים האפשריים בגודל 10 מאוכלוסייה זו סטיית התקן של ממוצעי המדגמים תהייה:

א. 3

ב. 2.5

ג. 1.581

ד. אין מספיק נתונים לדעת.

7. במדגם מקרי, מתי סכום ריבועי הסטיות מהממוצע,  $\sum_{i=1}^n (x_i - \bar{x})^2$ , מחולק ב-  $n - 1$ ?

א. כאשר  $n$  קטן.

ב. כאשר תצפיות המדגם אינן בלתי תלויות.

ג. כאשר האוכלוסייה אינה מתפלגת נורמאלית.

ד. כאשר מעוניינים באומדן חסר הטיה לשונות האוכלוסייה ממנה הוצא המדגם.

ה. כאשר מעוניינים לחשב את שונות התפלגות הדגימה של ממוצע המדגם.

8.  $X_1, X_2, \dots, X_{16}$  מדגם מקרי מתוך אוכלוסייה בעלת ממוצע  $\mu$  לא ידוע ושונות

$\sigma^2 = 64$ . טעות התקן של האומדן ל-  $\mu$  היא:

א. 16

ב. 8

ג. 4

ד. 2

9. מהו אומד חסר הטיה?

- א. אומד שערכו שווה לממוצע התפלגות הדגימה שלו.
- ב. אומד שערכו שווה לערך הפרמטר באוכלוסייה.
- ג. אומד שממוצע התפלגות הדגימה שלו שווה לערך הפרמטר באוכלוסייה.
- ד. אומד שהסיכוי שערכו יהיה גבוה מערך הפרמטר באוכלוסייה שווה לסיכוי שיהיה נמוך ממנו.

**פתרונות:****שאלה 3**

א. 177.9

ב. 64.1

ג. 0.4

**שאלה 4**

א. 8.1

ב. 3.16

**שאלה 5**

התשובה היא ד.

**שאלה 6**

התשובה היא ג.

**שאלה 7**

התשובה היא ד.

**שאלה 8**

התשובה היא ד.

**שאלה 9**

התשובה היא ג.



## פרק 15 - רווח סמך לתוחלת (ממוצע האוכלוסייה)

### רווח סמך כששונות האוכלוסייה ידועה

#### רקע:

ממוצע המדגם הוא אומדן לממוצע האוכלוסייה, אך לא באמת ניתן להבין ממנו על גודלו של ממוצע האוכלוסייה. ההסתברות שממוצע המדגם יהיה בדיוק כמו הממוצע האמתי הוא אפסי. מה שנהוג לעשות כדי לאמוד את ממוצע האוכלוסייה זה לבנות רווח סמך. נבנה מרווח בטחון שהסיכוי שהפרמטר  $\mu$  ייכלל בתוכו הוא  $1-\alpha$ .

$1-\alpha$  : נקרא רמת בטחון או רמת סמך.

כך ש:  $P(A \leq \mu \leq B) = 1 - \alpha$

A - גבול התחתון של רווח הסמך

B - הגבול העליון של רווח הסמך

$L = B - A$  - אורך רווח הסמך

#### דוגמה: (פתרון בהקלטה)

חוקר דגם 25 חיילים שנבחנו במבחן הפסיכומטרי. הוא בנה רווח סמך לממוצע הציונים במבחן הפסיכומטרי בקרב אוכלוסיית החיילים וקיבל בין 510 ל-590. רווח הסמך נבנה ברמת סמך של 95%.

מהי אוכלוסיית המחקר?

מה המשתנה באוכלוסייה?

מה הפרמטר שהחוקר רצה לאמוד?

מהו רווח הסמך?

מה אורך רווח הסמך?

מהי רמת הביטחון של רווח הסמך?

בפרק זה נרצה לבנות רווח סמך לתוחלת (  $\mu$  ) במקרה ש  $\sigma^2$  (שוונות האוכלוסייה) ידועה

הפרמטר שנרצה לאמוד :  $\mu$

האומד נקודתי :  $\bar{x}$

התנאים לבניית רווח הסמך :

1  $X \sim N$  או  $n \geq 30$

2  $\sigma^2$  (שוונות האוכלוסייה) ידועה

הנוסחה לרווח הסמך :

$$\bar{x} \pm Z_{1-\frac{\alpha}{2}} \cdot \frac{\sigma}{\sqrt{n}}$$

דוגמה : (פתרון בהקלטה)

על פי נתוני היצרן אורך חיי סוללה מתפלג נורמאלית עם סטיית תקן של 1 שעה.

מעוניינים לאמוד את תוחלת חיי סוללה.

נדגמו באקראי 4 סוללות, אורך החיים הממוצע שהתקבל הוא 13.5 שעות.

בנו רווח סמך ברמת סמך של 95% לתוחלת אורך חיי סוללה.

שגיאת האמידה המקסימלית:

$$\varepsilon = Z_{1-\frac{\alpha}{2}} \cdot \frac{\sigma}{\sqrt{n}}$$

$\varepsilon$ -נותן את שגיאת האמידה המקסימלית, דבר שנקרא גם טעות סטטיסטית, טעות דגימה.

**דוגמה:** (פתרון בהקלטה)

בהמשך לשאלה עם הסוללות. מה ניתן להגיד בביטחון של 95% על שגיאת האמידה?

קשרים מתמטיים ברווח הסמך:

- אורך רווח הסמך הוא פעמיים שגיאת האמידה המקסימלית:  $L = 2\varepsilon$ .
- ממוצע המדגם נופל תמיד באמצע רווח הסמך:  $\bar{X} = \frac{A+B}{2}$
- ככל שמספר התצפיות ( $n$ ) גבוה יותר, כך יש יותר אינפורמציה ולכן האומדן יותר מדויק, ולכן נקבל רווח סמך יותר קצר.
- ככל שרמת הביטחון  $(1-\alpha)$  גבוהה יותר כך  $z_{1-\alpha/2}$  יותר גבוה, ורווח הסמך יותר ארוך.

### תרגילים :

1. חוקר התעניין לאמוד את השכר הממוצע במשק. על סמך מדגם הוא קבע שבביטחון של 95% כי השכר הממוצע במשק נע בין 9200 ל-9800.
  - א. מי האוכלוסייה במחקר?
  - ב. מה המשתנה הנחקר?
  - ג. מה הפרמטר שאותו רוצים לאמוד?
  - ד. מה רווח הסמך לפרמטר?
  - ה. מהי רמת הסמך לפרמטר?
  - ו. מה אורך רווח הסמך?
  - ז. מה הסיכוי שטעות הדגימה תעלה על 300 ₪?
  
2. מעוניינים לאמוד את התפוקה היומית הממוצעת של מפעל מסוים ברמת סמך של 95%. במדגם אקראי של 100 ימים התקבלה תפוקה ממוצעת 4950 מוצרים ביום. לצורך פתרון הנח שסטיית התקן האמתית ידועה ושווה 150 מוצרים ביום. בנה את רווח הסמך.
  - א. בנו רווח סמך ברמת סמך של 90% לאורך החיים הממוצע של מכשיר.
  - ב. בנו רווח סמך ברמת סמך של 95% לאורך החיים הממוצע של מכשיר.
  - ג. הסבר כיצד ומדוע השתנה רווח הסמך.
  
3. מעוניינים לאמוד את ממוצע אורך החיים של מכשיר. מנתוני היצרן ידוע שאורך החיים מתפלג נורמאלי עם סטיית תקן של 20 שעות. נדגמו 25 מכשירים ונמצא כי ממוצע אורך החיים שלהם היה 230 שעות.
  - א. בנו רווח סמך ברמת סמך של 90% לאורך החיים הממוצע של מכשיר.
  - ב. בנו רווח סמך ברמת סמך של 95% לאורך החיים הממוצע של מכשיר.
  - ג. הסבר כיצד ומדוע השתנה רווח הסמך.
  
4. דגמו 200 עובדים מהמשק הישראלי. השכר הממוצע שלהם היה 9700 ₪. נניח שסטיית התקן של השכר במשק היא 3000 ₪.
  - א. בנו רווח סמך ברמת סמך של 95% לתוחלת השכר במשק.
  - ב. מה ניתן לומר בביטחון של 95% על הסטייה המרבית בין ממוצע המדגם לתוחלת השכר?
  - ג. מה היה צריך להיות גודל המדגם אם הינו רוצים להקטין את רווח הסמך ב-50%?
  - ד. אם היינו מגדילים את גודל המדגם ובונים רווח סמך באותה רמת סמך האם היה ניתן לטעון בביטחון רב יותר שרווח הסמך מכיל את הפרמטר?
  
5. בנו רווח סמך לממוצע הציונים של מבחן אינטליגנציה. ידוע שסטיית התקן היא 15 והמדגם מתבסס על 100 תצפיות. רווח הסמך שהתקבל הוא (99,105). שחזרו את :
  - א. ממוצע המדגם.
  - ב. שגיאת האמידה המקסימאלית.
  - ג. רמת הסמך.

6. זמן החלמה מאנגינה מתפלג עם סטיית תקן של יומיים. חברת תרופות מעוניינת לחקור אנטיביוטיקה חדשה שהיא פיתחה. במחקר השתתפו 60 אנשים שחלו באנגינה וקיבלו את האנטיביוטיקה החדשה. בממוצע הם החלימו לאחר 4 ימים.
- א. בנו רווח סמך לתוחלת זמן ההחלמה תחת האנטיביוטיקה החדשה ברמת סמך של 90%.
- ב. מה היה קורה לאורך רווח הסמך אם היה תקציב להגדלת גודל המדגם פי 4? הסבירו.
- ג. מה היה קורה לאורך רווח הסמך אם היינו בונים את רווח הסמך ברמת סמך גדולה יותר? הסבירו.
7. חוקר בנה רווח סמך לממוצע וקיבל את רווח הסמך הבא:  $82 < \mu < 92$ . נתון שסטיית התקן בהתפלגות שווה ל-10 ושהמדגם מתבסס על 16 תצפיות. התפלגות המשתנה היא נורמאלית.
- א. מהו ממוצע המדגם?
- ב. מהי רמת הסמך של רווח הסמך שנבנה?
- ג. מה הסיכוי ששגיאת האמידה באמידת ממוצע האוכלוסייה תעלה על 5 ?
8. חוקר בנה רווח סמך לתוחלת כאשר השונות בהתפלגות ידועה ברמת סמך של 95%. אם החוקר כעת יבנה על סמך אותם נתונים רווח סמך ברמת סמך קטנה מ-95%, מי מהמשפטים הבאים אינו יהיה נכון.
- א. אורך רווח הסמך החדש יהיה קטן יותר.
- ב. גודל המדגם יהיה כעת קטן יותר.
- ג. המרחק בין ממוצע המדגם לקצות רווח הסמך יהיו קטנים יותר ברווח הסמך החדש.
- ד. רמת הביטחון לבנות רווח הסמך החדש תהיה קטנה יותר.
9. חוקר בנה רווח סמך ל- $\mu$  וקיבל  $48 < \mu < 54$  מה נכון בהכרח:
- א.  $\mu = 51$
- ב.  $\bar{X} = 6$
- ג.  $\bar{X} = 51$
- ד. אורך רווח הסמך הינו 3.
10. איזה מהגורמים הבאים אינו משפיע על גודלו של רווח בר סמך, כאשר שונות האוכלוסייה ידועה? (בחר בתשובה הנכונה)
- א. רמת הביטחון.
- ב. סטיית התקן באוכלוסייה.
- ג. מספר המשתתפים.
- ד. סטיית התקן במדגם.

**פתרונות :****שאלה 2**

$$4920.6 < \mu < 4979.4$$

**שאלה 3**

א.  $223.42 < \mu < 236.58$

ב.  $222.16 < \mu < 237.84$

**שאלה 5**

א. 102

ב. 3

ג. 0.9544

**שאלה 6**

א.  $3.58 < \mu < 4.42$

ב. יקטן פי 2

ג. גדל

**שאלה 7**

א. 87

ב. 5

ג. 0.9544

**שאלה 8**

א. 139

ב.  $21 < \mu < 25$

**שאלה 9**

התשובה היא : ב

**שאלה 10**

התשובה היא : ג

### קביעת גודל מדגם באמידת תוחלת עם שונות אוכלוסייה ידועה

#### רקע:

אם מעוניינים לאמוד את ממוצע האוכלוסייה כאשר סטיית התקן של האוכלוסייה ידועה:  $\sigma$   
 ברמת סמך של  $1 - \alpha$  ושגיאת אמידה שלא תעלה על  $\varepsilon$  מסוים, נציב בנוסחה הבאה:

$$n \geq \left( \frac{z_{1-\frac{\alpha}{2}} \cdot \sigma}{\varepsilon} \right)^2$$

כדי להציב בנוסחה צריך שהמשתנה הנחקר יתפלג נורמלית או שהמדגם ייצא בגודל של לפחות 30 תצפיות.

#### דוגמה: (פתרון בהקלטה)

חברת תעופה מעוניינת לאמוד את תוחלת משקל המטען של נוסע. נניח שמשקל מטען של נוסע מתפלג נורמלית עם סטיית תקן של 2 ק"ג. כמה נוסעים יש לדגום אם מעוניינים שבביטחון של 98% הסטייה המרבית בין ממוצע המדגם לממוצע האמיתי לא יעלה על 0.5 ק"ג? (תשובה: 87)

**תרגילים:**

1. משתנה מקרי מתפלג נורמאלית עם סטיית תקן ידועה 12. מה צריך להיות גודל המדגם כדי לבנות רווח סמך ברמת סמך של 98% שאורכו לא יעלה על 2?
2. מעוניינים לאמוד את הדופק הממוצע של מתגייסים לצבא. מעוניינים שבביטחון של 95% שגיאת האמידה המרבית תהיה 0.5. נניח שהדופק מתפלג נורמאלית על סטיית תקן של 3 פעימות לדקה. א. כמה מתגייסים יש לדגום? ב. אם ניקח מדגם הגדול פי 4 מהמדגם של סעיף א ונאמוד את הממוצע באותה רמת סמך כיצד הדבר ישפיע על שגיאת האמידה?
3. יהי  $X$  משתנה מקרי עם ממוצע  $\mu$  וסטיית תקן  $\sigma$ . חוקר רוצה לבנות רווח בר סמך ל- $\mu$  ברמת ביטחון של 0.95 כך שהאורך של הרווח יהיה  $0.5\sigma$ . מהו גודל המדגם הנדרש?



**פתרונות :****שאלה 1**

780

**שאלה 2**

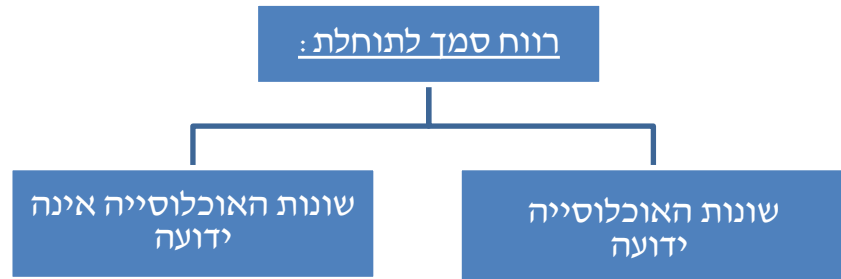
א. 139

ב. הדבר יקטין את  $\varepsilon$  פי 2.**שאלה 3** $n = 62$

## רווח סמך לתוחלת (ממוצע האוכלוסייה) כששונות האוכלוסייה אינה ידועה

רקע:

בבואנו לבנות רווח סמך לתוחלת אנו צריכים להתמקד בשני המצבים הבאים:



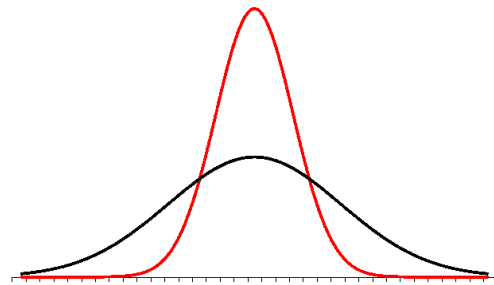
בפרק זה נעסוק במקרה ששונות האוכלוסייה ( $\sigma^2$ ) אינה ידועה לנו. מקרה יותר פרקטי.

התנאי:  $X \sim N$  או שהמדגם גדול

$$\text{רווח סמך: } \bar{X} \pm t_{1-\alpha/2}^{(n-1)} \cdot \frac{S}{\sqrt{n}}$$

$$S^2 = \frac{\sum_{i=1}^n (X_i - \bar{X})^2}{n-1} = \frac{\sum_{i=1}^n X_i^2 - n\bar{X}^2}{n-1} \quad \text{: האומד לשונות}$$

התפלגות T:



הינה התפלגות סימטרית פעמונית שהתוחלת שלה היא 0. ההתפלגות דומה להתפלגות Z רק שהיא יותר רחבה ולכן הערכים שלה יהיו יותר גבוהים. התפלגות T תלויה במושג שנקרא דרגות חופש. דרגות החופש הן  $df=n-1$ . ככל שדרגות החופש עולות ההתפלגות הופכת להיות יותר גבוהה וצרה. כשדרגות החופש שואפות לאינסוף התפלגות T שואפת להיות כמו התפלגות Z.

**דוגמה :** (פתרון בהקלטה)

הזמן שלוקח לפתור שאלה מסוימת בחשבון מתפלג אצל תלמידי כיתות ח' נורמאלית. במטרה לאמוד את תוחלת זמן הפתרון נדגמו 4 תלמידים בכיתה ח'. להלן התוצאות שהתקבלו בדקות: 4.7, 5.2, 4.6, 5.3. בנו רווח סמך ברמת סמך של 95% לממוצע זמן הפתרון לשאלה בקרב תלמידי כיתה ח'.

**פתרון :**

$$4.39 < \mu < 5.51$$

### תרגילים:

1. מחקר מעוניין לדעת כיצד תרופה מסוימת משפיעה על קצב פעימות הלב. ל-5 אנשים שנטלו את התרופה מדדו את הדופק והתקבל מספר פעימות לדקה: 89, 79, 84, 88, 84. הערה: לצורך פתרון הנח שקצב פעימות הלב מתפלג נורמאלי בקירוב.
  - א. בנו רווח סמך ברמת סמך של 95% לתוחלת הדופק של נוטלי התרופה הנ"ל.
  - ב. נתון שהדופק הממוצע ללא לקיחת התרופה הינו 70. לאור זאת, האם בביטחון של 95% התרופה משפיעה על הדופק?
  - ג. בהמשך לסעיף א, אם היינו בונים את רווח הסמך ברמת ביטחון של 99% כיצד הדבר היה משפיע על רווח הסמך?
2. במדגם שנעשה על 25 מתגייסים לצבא האמריקאי התקבל כי: גובה ממוצע של חייל הינו 178 ס"מ עם סטיית תקן  $S=13$  ס"מ. בנו רווח סמך ברמת סמך של 90% לתוחלת גובה המתגייסים לצבא האמריקאי. מה יש להניח לצורך פתרון?
3. אדם מעוניין לאמוד את זמן הנסיעה הממוצע שלו לעבודה. לצורך כך הוא דוגם 5 ימים שזמן הנסיעה בהם בדקות הוא: 27, 34, 32, 40, 30.
  - א. ברמת ביטחון של 95% אמוד את זמן הנסיעה הממוצע. מהי ההנחה הדרושה לצורך פתרון?
  - ב. איך גודל רווח הסמך היה משתנה אם היו דוגמים עוד ימים?
4. ציוני מבחן אינטליגנציה מתפלגים נורמאלי. נדגמו 25 מבחנים והתקבל ממוצע ציונים 102 וסטיית תקן מדגמית 13.
  - א. בנו רווח סמך לממוצע הציונים באוכלוסייה ברמת ביטחון של 95%.
  - ב. חזרו על סעיף א' אם סטיית התקן הינה סטיית התקן האמתית של כלל הנבחנים.
  - ג. הסבירו את ההבדלים בין שני הסעיפים הנ"ל.
5. נשקלו 60 תינוקות אשר נולדו בשבוע ה-40 של ההיריון. המשקל נמדד בקילוגרמים. להלן התוצאות שהתקבלו:  $\sum_{i=1}^{60} X_i = 195$ ,  $\sum_{i=1}^{60} X_i^2 = 643.19$ . בנו רווח סמך ברמת סמך של 95% לתוחלת משקל תינוק ביום היוולדו.
6. נדגמו 120 אנשים אקראיים מעל גיל 50. עבור כל אדם נבדק מספר שנות השכלתו. להלן התוצאות שהתקבלו:  $\bar{x} = 13.8$ ,  $S = 2$ . בנו רווח סמך ברמת סמך של 96% לממוצע ההשכלה של אזרחים מעל גיל 50.

7. שני סטטיסטיקאים בנו רווח בר-סמך לאותו פרמטר  $\mu$ . לכל אחד מהסטטיסטיקאים מדגם אחר, אך באותו גודל 10. שניהם קבעו אותה רמת סמך.

סטטיסטיקאי א : הניח  $\sigma = 20$

סטטיסטיקאי ב : חישב לפי המדגם וקיבל  $S = 20$

למי משני הסטטיסטיקאים יהיה רווח סמך ארוך יותר? (בחר בתשובה הנכונה)

א. סטטיסטיקאי א

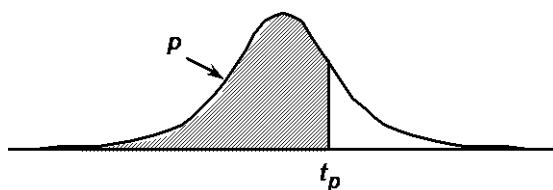
ב. סטטיסטיקאי ב

ג. אותו אורך רווח סמך לשני הסטטיסטיקאים.

ד. תלוי בתוצאות המדגם של כל סטטיסטיקאי.

8. נתון ש  $X \sim N(\mu, \sigma^2)$  ביצעו מדגם בגודל 16 וקיבלו סטיית תקן מדגמית 10. אורך רווח

הסמך שהתקבל הוא: 8.765. מהי רמת הביטחון של רווח הסמך?



P

דרגות חופש	0.75	0.90	0.95	0.975	0.99	0.995	0.9995
1	1.000	3.078	6.314	12.709	31.821	63.657	636.619
2	0.816	1.886	2.920	4.303	6.965	9.925	31.598
3	0.765	1.638	2.353	3.182	4.541	5.841	12.941
4	0.741	1.533	2.132	2.776	3.747	4.604	8.610
5	0.727	1.476	2.015	2.571	3.365	4.032	6.859
6	0.718	1.440	1.943	2.447	3.143	3.707	5.959
7	0.711	1.415	1.895	2.365	2.998	3.499	5.405
8	0.706	1.397	1.860	2.306	2.896	3.355	5.041
9	0.703	1.383	1.833	2.262	2.821	3.250	4.781
10	0.700	1.372	1.812	2.228	2.764	3.169	4.587
11	0.697	1.363	1.796	2.201	2.718	3.106	4.437
12	0.695	1.356	1.782	2.179	2.681	3.055	4.318
13	0.694	1.350	1.771	2.160	2.650	3.012	4.221
14	0.692	1.345	1.761	2.145	2.624	2.977	4.140
15	0.691	1.341	1.753	2.131	2.602	2.947	4.073
16	0.690	1.337	1.746	2.120	2.583	2.921	4.015
17	0.689	1.333	1.740	2.110	2.567	2.898	3.965
18	0.688	1.330	1.734	2.101	2.552	2.878	3.922
19	0.688	1.328	1.729	2.093	2.539	2.861	3.883
20	0.687	1.325	1.725	2.086	2.528	2.845	3.850
21	0.686	1.323	1.721	2.080	2.518	2.831	3.819
22	0.686	1.321	1.717	2.074	2.508	2.819	3.792
23	0.685	1.319	1.714	2.069	2.500	2.807	3.767
24	0.685	1.318	1.711	2.064	2.492	2.797	3.745
25	0.684	1.316	1.708	2.060	2.485	2.787	3.725
26	0.684	1.315	1.706	2.056	2.479	2.779	3.707
27	0.684	1.314	1.703	2.052	2.473	2.771	3.690
28	0.683	1.313	1.701	2.048	2.467	2.763	3.674
29	0.683	1.311	1.699	2.045	2.462	2.756	3.659
30	0.683	1.310	1.697	2.042	2.457	2.750	3.646
40	0.681	1.303	1.684	2.021	2.423	2.704	3.551
60	0.679	1.296	1.671	2.000	2.390	2.660	3.460
120	0.677	1.289	1.658	1.980	2.358	2.617	3.373
$\infty$	0.674	1.282	1.645	1.960	2.326	2.576	3.291

**פתרונות:****שאלה 1**

$$\text{א. } 79.88 < \mu < 89.72$$

**שאלה 4**

$$\text{א. } 96.63 < \mu < 107.37$$

$$\text{ב. } 96.90 < \mu < 107.10$$

**שאלה 5**

$$3.149 < \mu < 3.351$$

**שאלה 8**

90%

## פרק 16 - רווח סמך לפרופורציה

### רקע:

מטרה: לאמוד את P – פרופורציה באוכלוסייה.

האומד הנקודתי:  $\hat{p} = \frac{y}{n}$  (Y- מספר ההצלחות שבמדגם)

רווח הסמך ל P:  $\hat{p} \pm Z_{1-\frac{\alpha}{2}} \sqrt{\frac{\hat{p}(1-\hat{p})}{n}}$

התנאי לבנות את רווח הסמך הינו מדגם של לפחות 30 תצפיות (לעיתים נותנים תנאי של מספר הצלחות ומספר כשלונות לפחות 5 או לפחות 10)

האומד לטעות התקן:  $\sqrt{\frac{\hat{p}(1-\hat{p})}{n}}$

מתקיים ש:  $\hat{P} = \frac{A+B}{2}$   $L = 2\varepsilon$

דוגמה: (פתרון בהקלטה)

1. במטרה לאמוד את אחוז המובטלים במשק נדגמו 200 אזרחים. מתוכם התקבל ש 24 היו מובטלים.

א. בנו רווח סמך לאחוז המובטלים באוכלוסייה ברמת סמך של 95%.

ב. מהו האומד לטעות התקן?

פתרון:

א.  $7.5\% < p < 16.5\%$

ב. 2.29%



**תרגילים:**

1. נדגמו 200 דירות בעיר חיפה. 48 מתוכן נמצאו כבעלות ממ"ד.
  - א. בנו רווח סמך ברמת סמך של 95% לאחוז הדירות בחיפה עם ממ"ד.
  - ב. על סמך סעיף א' מה ניתן לומר על שגיאת האמידה המקסימאלית?
  - ג. בהנחה ובחיפה 80 אלף דירות, בנו רווח סמך ברמת סמך של 95% למספר הדירות בחיפה עם ממ"ד בפועל.
  
2. במדגם של 300 אנשי היי-טק התקבל ש-180 מהם אקדמאים.
  - א. בנו רווח סמך לפרופורציית אקדמאים ברמת סמך של 95% (בקרב אנשי היי-טק).
  - ב. כיצד רווח הסמך של סעיף א' היה משתנה אם היינו מקטינים את רמת הסמך?
  - ג. כיצד רווח הסמך היה משתנה אם הינו מגדילים את גודל המדגם?
  
3. במדגם של 400 נהגים התקבל רווח סמך לפרופורציית הנהגים החדשים:  $0.08 < p < 0.18$ 
  - א. כמה נהגים במדגם היו נהגים חדשים?
  - ב. מהי רמת הסמך של רווח הסמך שנבנה?
  
4. במסגרת מערכת הבחירות בארה"ב נשאלו 840 אנשים עבור איזה מועמד יצביעו.
  - א. 510 אנשים ענו כי יצביעו בעד ברק אובמה. בסקר פורסם שתתכן סטייה של  $\pm 3\%$  מתוצאות האמת. באיזו רמת ביטחון הסקר השתמש?
  
5. במדגם של 300 נשים בגילאי 35-40 נמצא ש-140 היו נשואות, 80 היו גרושות, 60 רווקות והיתר אלמנות.
  - א. מצאו רווח סמך ברמה של 90% לאחוז הגרושות באוכלוסייה הנחקרת.
  - ב. מצאו רווח סמך ברמה של 99% לסיכוי שבאוכלוסייה הנחקרת תמצא אישה לא נשואה?
  
6. ביצעו מדגם באוכלוסייה. שיעור ההצלחות במדגם היה 10% ורווח הסמך ניבנה ברמת סמך של 95%. אורכו הינו 0.3156.
  - א. מהו גודל המדגם שנלקח?

**פתרונות:****שאלה 3**

א. 52

ב. 0.997

**שאלה 5**א.  $22.5\% < p < 30.9\%$ ב.  $45.91\% < p < 60.72\%$ **שאלה 6**

200

### קביעת גודל מדגם באמידת פרופורציה

#### רקע:

בפרק זה נדון איך קובעים גודל מדגם שבאים לאמוד פרופורציה באוכלוסייה מסוימת: החוקר קובע מראש את רמת הסמך הרצויה:  $1 - \alpha$ . החוקר קובע מראש את הטעות הסטטיסטית המרבית שבה הוא מעוניין:  $\varepsilon$  (או את אורך רווח הסמך).

$$L = 2\varepsilon - \text{אורך רווח הסמך.}$$

$\varepsilon$  - טעות אמידה מרבית: המרחק המקסימאלי (הסטייה) בין הפרמטר ( $p$ ) לאומד ( $\hat{p}$ ).

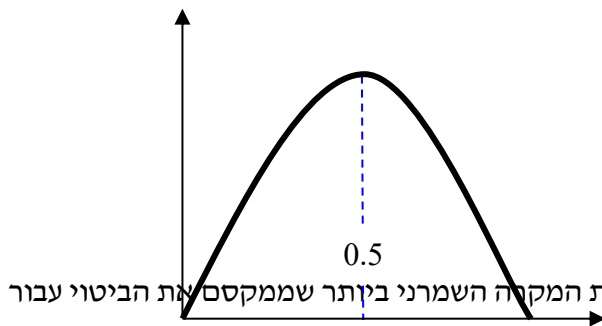
$$\varepsilon = z_{1-\frac{\alpha}{2}} \cdot \sqrt{\frac{\hat{p}(1-\hat{p})}{n}}$$

ויתעניין לדעת מהו גודל המדגם הרצוי לשם כך. נקבל ש:

$$n \geq \left( \frac{2 \cdot z_{1-\frac{\alpha}{2}} \cdot \sqrt{\hat{p}(1-\hat{p})}}{L} \right)^2$$

הבעיה שאין לנו יודעים את  $\hat{p}$ .

נתבונן בביטוי  $\hat{p}(1-\hat{p})$ :



כיוון שאין לנו ידע מוקדם על  $\hat{p}$  נציב את המקרה השמרני ביותר שממקסם את הביטוי עבור

$$\hat{p} = 0.5$$

$$n \geq \left( \frac{2 \cdot z_{1-\frac{\alpha}{2}} \cdot \sqrt{0.5 \cdot 0.5}}{L} \right)^2 \Rightarrow n \geq \left( \frac{z_{1-\frac{\alpha}{2}}}{L} \right)^2$$

**דוגמה:** (פתרון בהקלטה)

מעוניינים לאמוד את שיעור האבטלה במשק. האמידה צריכה להתבצע ברמת סמך של 90% ועם שגיאת אמידה שלא תעלה על 4%. מהו גודל המדגם המינימאלי שיש לקחת?

#### פתרון:

423

### תרגילים :

1. הממשלה אומדת מדי חודש את אחוז התמיכה בה. מהו גודל המדגם אשר יש לקחת אם דורשים שהאומדן לא יסטה מהאחוז האמתי באוכלוסייה ביותר מ-3%, וזאת בביטחון של 95%?
2. ענה על הסעיפים הבאים :
  - א. כמה אזרחים יש לדגום כדי לאמוד את אחוז התמיכה בממשלה עם אורך רווח הסמך שלא עולה על 9% ברמת סמך של 90%?
  - ב. בהנחה ובוצע מדגם שאת גודלו חישובתם בסעיף א והתקבל שאחוז התמיכה בממשלה במדגם הנו 42%. בנו רווח סמך לאחוז התמיכה בממשלה ברמת סמך של 95%.
  - ג. על סמך סעיף ב'. האם תקבל את הטענה שמיעוט האוכלוסייה תומך הממשלה?
3. משרד הבריאות מתכנן לבצע מדגם שמטרתו לבדוק את הסיכוי לחלות בשפעת עם לקיחת חיסון נגד שפעת. הוא מעוניין שבסיכוי של 98% טעות האמידה לא תעלה על 3%.
  - א. כמה מחוסנים יש לדגום ?
  - ב. משרד הבריאות ביצע את המדגם שאת גודלו חישובת בסעיף הקודם וקיבל ש 15% מבין אלה שקיבלו חיסון נגד שפעת בכל זאת חלו במשך החורף בשפעת. בנו ברמת סמך של 98% את הסיכוי לחלות בחורף בשפעת עם לקיחת חיסון נגד שפעת.

**פתרונות :**

**שאלה 1 :**

1068

## פרק 17 - רווח סמך להפרש פרופורציות

### רקע:

המטרה: לאמוד את  $p_1 - p_2$ : הפרש פרופורציות בין שתי אוכלוסיות שונות.

האומד הנקודתי:  $\hat{p}_1 - \hat{p}_2$

התנאי לבניית רווח הסמך: כל מדגם מעל 30 או לבדוק שמספר ההצלחות ומספר הכישלונות בכל מדגם לפחות 5 בכל מדגם (יש כאלה שבודקים לפחות 10).

### רווח סמך:

$$(\hat{p}_1 - \hat{p}_2) \pm Z_{1-\frac{\alpha}{2}} \sqrt{\frac{\hat{p}_1(1-\hat{p}_1)}{n_1} + \frac{\hat{p}_2(1-\hat{p}_2)}{n_2}}$$

רק שאפס נופל בתחומי רווח הסמך להפרש הפרופורציה נאמר שלא ניתן לקבוע שקיים הבדל מובהק בין הפרופורציות באוכלוסיות.

### דוגמה: (פתרון בהקלטה)

במטרה להשוות בין שתי תרופות נדגמו 200 איש שלקחו תרופה x. מתוכם 180 טענו שהתרופה עזרה להם. כמו כן נלקחו 300 איש שלקחו את תרופה y. מתוכם 150 טענו שהתרופה עזרה להם. בנו רווח סמך להפרש אחוזי ההצלחה של התרופות ברמת סמך של 95%. מה ניתן לומר על סמך רווח הסמך על ההבדלים בין התרופות?

### פתרון:

(47%, 33%)

**תרגילים:**

1. מתוך 150 נשים שנדגמו באקראי 30% תמכו בהצעת חוק מסוימת. מתוך 200 גברים שנדגמו באקראי 25% תמכו בהצעת החוק.  
 א. בנו רווח סמך לפער בין אחוזי התמיכה של הנשים לעומת הגברים ברמת סמך של 96%.  
 ב. בנו רווח סמך ברמת סמך של 95% לאחוז התמיכה בהצעת החוק.
  
2. במחקר רפואי השתתפו 200 אנשים הסובלים מכאבים כרוניים. הם חולקו באקראי ל-2 קבוצות שוות בגודלן.  
 קבוצה 1 קיבלה את תרופה A וקבוצה שנייה קיבלה את תרופה B.  
 בקרב לוקחי תרופה A 90 טענו שמצבם השתפר. בקרב לוקחי תרופה B 70 טענו שמצבם השתפר.  
 א. בנו רווח סמך ברמת סמך של 95% להפרש בין שיעורי ההצלחה של שתי התרופות.  
 ב. האם על סמך סעיף א ניתן לקבוע שקיים הבדל בין התרופות מבחינת שיעורי ההצלחה?
  
3. נדגמו 200 משפחות מגוש דן. ל-70% מתוכן מכשיר DVD בבית.  
 נדגמו 300 משפחות מאזור הצפון ל-65% מתוכן מכשיר DVD בבית.  
 א. בנו רווח סמך ברמת סמך של 98% לפרופורציות המשפחות בגוש דן עם DVD בבית.  
 ב. בנו רווח סמך ברמת סמך של 95% להפרש בין פרופורציות המשפחות בגוש דן עם DVD לבין פרופורציות המשפחות בצפון עם DVD.

**פתרונות:****שאלה 2**

$$.א. \quad 0.093 < P_A - P_B < 0.307$$

**שאלה 3**

$$.א. \quad 0.625 < p < 0.7754$$



## פרק 18 - רווח סמך להפרש תוחלות ממדגמים בלתי תלויים

### כששונויות האוכלוסייה ידועות

#### רקע:

מטרה: לאמוד את פער התוחלות:  $\mu_1 - \mu_2$ , כלומר ההבדלים של הממוצעים בין שתי האוכלוסיות.

האומד נקודתי:  $\bar{x}_1 - \bar{x}_2$

התנאים לבניית רווח הסמך:

1.  $\sigma_1^2, \sigma_2^2$  ידועות.

2.  $X_1, X_2 \sim N$  או  $n_1, n_2 > 30$

3. שני מדגמים בלתי תלויים.

#### רווח סמך:

$$(\bar{x}_1 - \bar{x}_2) \pm Z_{1-\frac{\alpha}{2}} \sqrt{\frac{\sigma_1^2}{n_1} + \frac{\sigma_2^2}{n_2}}$$

אם הערך אפס נופל בגבולות רווח הסמך נגיד שבביטחון של  $1-\alpha$  לא קיים הבדל בין התוחלות.

#### דוגמה: (פתרון בהקלטה)

נדגמו 100 תושבים מאזור a והמשכורת הממוצעת הייתה שם 9200 ₪.

כמו כן נדגמו 120 תושבים מאזור b וממוצע המשכורות שהתקבל שם 8700 ₪.

לצורך פתרון נניח שסטיית התקן של המשכורות באוכלוסיית שני האזורים היא 1800 ₪.

אמדו ברמת סמך של 90% את הפרש השכר הממוצע בין אזור a לאזור b.

## תרגילים:

1. מעוניינים לבדוק האם קיים הבדל בין ממוצע ציוני הפסיכומטרי של חיילים לממוצע ציוני הפסיכומטרי של תלמידי תיכון. ידוע שציוני הפסיכומטרי מתפלגים נורמאלית עם סטיית תקן 100. במדגם של 16 נבחנים חיילים התקבל ממוצע 543. במדגם של 20 תלמידי תיכון התקבל ממוצע 508. בנו רווח סמך לפער תוחלות הציונים בין חיילים לתלמידי תיכון ברמת סמך של 90%. מה ניתן להסיק מרווח סמך זה?
  
2. ציוני I.Q. מתוכננים כך שיתפלגו נורמאלית עם סטיית תקן של 15. במדגם של 20 נבחנים ישראלים התקבל ממוצע ציונים 104. במדגם של 23 נבחנים אמריקאיים התקבל ממוצע ציונים 99.
  - א. בנו רווח סמך ברמת סמך של 95% לפער בין ישראל לארה"ב בממוצע הציונים במבחן ה-IQ.
  - ב. האם קיים הבדל בין ישראלים לאמריקאים מבחינת ממוצע הציונים?
  
3. חברה להנדסת בניין מעוניינת להשוות ברמת הקשיות של שני סוגי ברגים. ידוע שרמת הקשיות של ברגים מתפלגת נורמלית עם סטיית תקן של 4 יחידות. במדגם של 15 ברגים מסוג א' התקבל רמת קשיות ממוצעת של 28 יחידות ובמדגם של 12 ברגים מסוג ב' התקבל רמת קשיות ממוצעת של 25. עבור אילו רמות בטחון יקבע שאין הבדל בין שני סוגי הברגים מבחינת ממוצע רמת הקשיות שלהם?

**פתרונות :**

**שאלה 1**

(-20,90)

**שאלה 3:**

רמות בטחון הגבוהות מ : 0.9476

## כששונות האוכלוסייה אינן ידועות אך שוות והמדגמים בלתי תלויים

### רקע:

מטרה: לאמוד את פער התוחלות:  $\mu_1 - \mu_2$ , כלומר ההבדלים של הממוצעים בין שתי האוכלוסיות.

האומד נקודתי:  $\bar{x}_1 - \bar{x}_2$

התנאים לבניית רווח הסמך:

$$1. \sigma_1^2 = \sigma_2^2$$

$$2. X_1, X_2 \sim N$$

3. מדגמים בלתי תלויים.

השונות המשוקללת: כיוון שאנו מניחים שבין שתי האוכלוסיות השונות שוות אנו אומדים את השונות הזו על ידי שקלול שתי השונות של שני המדגמים על ידי הנוסחה הבאה:

$$S_p^2 = \frac{(n_1 - 1)S_1^2 + (n_2 - 1)S_2^2}{n_1 + n_2 - 2}$$

דרגות החופש:  $d.f = n_1 + n_2 - 2$

רווח סמך:

$$(\bar{x}_1 - \bar{x}_2) \pm t_{1-\frac{\alpha}{2}}^{n_1+n_2-2} \cdot \sqrt{\frac{S_p^2}{n_1} + \frac{S_p^2}{n_2}}$$

אם הערך אפס נופל בגבולות רווח הסמך נגיד שבביטחון של  $1-\alpha$  לא קיים הבדל בין התוחלות.

**דוגמה:** (פתרון בהקלטה)

מחקר מעוניין לבדוק האם קיים הבדל בין תל אביב לבאר שבע מבחינת ההכנסה הממוצעת של אקדמאים. להלן תוצאות המדגם שנעשה:

באר שבע	תל אביב	
10	20	מספר האקדמאים
9500	11,000	ממוצע הכנסות של אקדמאים
250	200	סטיית התקן של הכנסות אקדמאים

בנו רווח סמך ברמת ביטחון של 90% להפרש תוחלות ההכנסה בשני האזורים.  
 הניחו שהשכר מתפלג נורמלית עם אותה שונות בכל אחד מהאזורים.  
 פתרון : (1357,1643)

**תרגילים:**

1. נדגמו 15 ישראלים ו-15 אמריקאים.

כל הנדגמים נגשו למבחן IQ. להלן תוצאות המדגם:

המדינה	ישראל	ארה"ב
גודל המדגם	15	15
סכום הציונים	1560	1470
סכום ריבועי הציונים	165,390	147,560

מצאו רווח סמך ברמת סמך של 95% לסטייה בין ממוצע הציונים בישראל לממוצע הציונים בארה"ב. רשמו את כל ההנחות הדרושות לצורך פתרון התרגיל.

2. להלן 4 תצפיות על משתנה  $X$  שמתפלג  $N(\mu_x, \sigma^2)$  ומשתנה  $Y$  שמתפלג  $N(\mu_y, \sigma^2)$ .

25	21	20	22	X
12	17	25	18	Y

חשבו רווח סמך ל-  $\mu_y - \mu_x$  ברמת הסמך 90%, בהנחה ששני המדגמים בלתי תלויים.

## פרק 19 - רווח סמך לתוחלת ההפרש במדגם מזווג

### רקע:

מדגם מזווג: מדגם אחד שבו יש  $n$  צמדדים.

כל תצפית במדגם תנפק זוג ערכים:  $X$  ו- $Y$ .

ניצור משתנה חדש:

$$D = x - y$$

הפרמטר שנרצה לאמוד:  $\mu_D$

התנאים לבניית רווח הסמך:

•  $x, y \sim N$

• המדגם מזווג

נוסחת רווח הסמך:

$$\bar{D} \pm t_{1-\frac{\alpha}{2}}^{n-1} \frac{S_D}{\sqrt{n}}$$

כאשר דרגות החופש:  $d.f = n - 1$

**דוגמה:** (פתרון בהקלטה)

מעוניינים לבדוק האם יש הבדל בין מהירות הריצות של שתי תוכנות מחשב.  
לקחו 5 קבצים אקראיים והריצו אותם בשתי התוכנות:

5	4	3	2	1	הקובץ
38	46	49	48	25	הזמן בתוכנה הראשונה
48	40	42	46	27	הזמן בתוכנה השנייה

הניחו כי זמני הריצות מתפלגים נורמלית.  
מצאו רווח סמך של 95% להפרש תוחלת הזמן בין שתי התוכנות.



**תרגילים:**

1. נדגמו 5 סטודנטים שסיימו את הקורס סטטיסטיקה ב'. להלן הציונים בסמסטר א' ו- ב':

סמסטר א	סמסטר ב
74	80
68	84
90	87
75	76
82	100

נניח שהציונים מתפלגים נורמאלית.

- בנו רווח סמך ברמת סמך של 95% לתוחלת פער הציונים בין סמסטר א לבין סמסטר ב.
- האם על סמך רווח הסמך קיים הבדל בין הסמסטרים מבחינת תוחלת הציונים?
- מה צריך לשנות בנתונים כדי שהמדגמים יהיו בלתי תלויים?

2. במטרה לבדוק האם קיים הבדל בין קווי זהב לבזק ממוצע המחירים לשיחות בינ"ל. נגדמו באקראי 7 מדינות ועבור כל מדינה נבדקה עלות דקת שיחה. להלן התוצאות:

קווי זהב-Y	בזק-X	המדינה
1.4	1.5	ארה"ב
2	2.1	קנדה
1.9	2.2	הולנד
3.1	3	פולין
3.3	3.5	מצרים
3.2	3.2	סין
4.2	4.2	יפן

בהנחה והמחירים מתפלגים נורמלית עבור כל חברה בנו רווח סמך ברמת סמך של 90% לתוחלת הפרש המחירים של שתי החברות.

## פרק 20 - רווח סמך לשונות וסטיית תקן

### רקע:

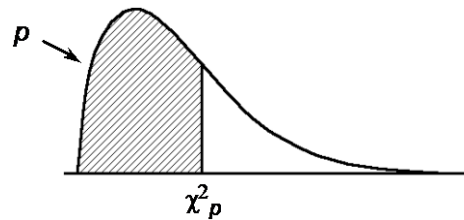
בפרק זה נדון על בניית רווח סמך לשונות האוכלוסייה.

התנאי לבניית רווח הסמך: המשתנה הנחקר מתפלג נורמלית, למרות שנהוג לא לדרוש את התנאי הזה אם המדגם מספיק גדול.

רווח הסמך יתבסס על התפלגות הנקראת חי בריבוע.

התפלגות זו היא התפלגות אסימטרית חיובית המתחילה מהערך אפס ותלויה בדרגות חופש.

דרגות החופש במקרה זה יהיו:  $n-1$



$$\frac{(n-1)S^2}{\chi^2_{1-\alpha/2, n-1}} \leq \sigma^2 \leq \frac{(n-1)S^2}{\chi^2_{\alpha/2, n-1}} : \text{רווח הסמך לשונות}$$

$$\text{כאשר } S^2 = \frac{\sum_{i=1}^n (X_i - \bar{X})^2}{n-1} = \frac{\sum_{i=1}^n X_i^2 - n \cdot \bar{X}^2}{n-1} \text{ אומד לשונות הלא-ידועה.}$$

אם נרצה לבנות רווח סמך לסטיית תקן אז נוציא שורש לרווח סמך לשונות.

### דוגמה: (פתרון בהקלטה)

זמן התגובה מתפלג נורמאלית. במטרה לאמוד את שונות זמן התגובה נדגמו 4 תצפיות. להלן התוצאות בשניות: 4.7, 5.2, 4.6, 5.3. בנו רווח סמך, ברמת סמך של 95% לשונות זמן התגובה באוכלוסייה.

### פתרון:

$$0.039 < \sigma^2 < 1.708$$

**תרגילים :**

1. חמישה מטופלים קבלו תרופה מסוימת. בדקו לכל מטופל את זמני התגובה שלו. להלן הזמנים שהתקבלו בדקות: 18,17,21,26,28.  
בהנחה זמני התגובה מתפלגים נורמאלית, בנו רווח סמך ברמת סמך של 95% לשונות זמן התגובה.
2. נדגמו 20 ימים אקראיים מחודשי יולי-אוגוסט ונמדדה בהם הטמפ' במעלות צלזיוס בת"א. במדגם התקבל טמפ' ממוצעת 30.8 וסטיית תקן מדגמית 1.1. בהנחה והטמפ' מתפלגת נורמאלית:  
א. בנו רווח סמך לתוחלת הטמפ' בחודשים אלה בת"א ברמת סמך של 95%.  
ב. בנו רווח סמך לסטיית התקן של הטמפ' בחודשים אלה בת"א ברמת סמך של 95%.
3. ציוני IQ בארה"ב מתפלגים נורמאלית עם ממוצע 100 וסטיית תקן 5. נבחנו 20 נבחנים ישראלים במבחן ה-IQ. להלן התוצאות שהתקבלו :

$$\sum_{i=1}^{20} X_i = 2080$$

$$\sum_{i=1}^{20} X_i^2 = 218,220$$

- נניח שגם בישראל הציונים מתפלגים נורמאלית.
- א. מצאו אומדנים לממוצע הציונים בישראל ולשונות הציונים בישראל באמצעות אומדנים חסרי הטיה.
  - ב. אמדו ברמת ביטחון של 95% את תוחלת הציונים של נבחנים בישראל.
  - ג. אמדו ברמת סמך של 90% את סטיית התקן של הציונים של נבחנים ישראלים.
  - ד. על סמך הסעיפים הקודמים, האם בישראל ממוצע הציונים וסטיית התקן של הציונים שונה מבארה"ב? הסבירו.

4. באוכלוסייה מסוימת נדגמו 10 תצפיות והתקבלו התוצאות הבאות :

לפתרון מלא בסרטון וידאו היכנסו ל- [www.GooL.co.il](http://www.GooL.co.il)

$$\sum_{i=1}^{10} X_i = 750$$

$$\sum_{i=1}^{10} (X_i - \bar{X})^2 = 900$$

נתון ש  $X_i \sim N(\mu, \sigma^2)$

א. בנו רווח סמך ל-  $\mu$  ברמת סמך של 95%.

ב. בנו רווח סמך ל-  $\sigma^2$  ברמת סמך של 95%.

**פתרונות :****שאלה 2**

א.  $30.285 < \mu < 31.315$

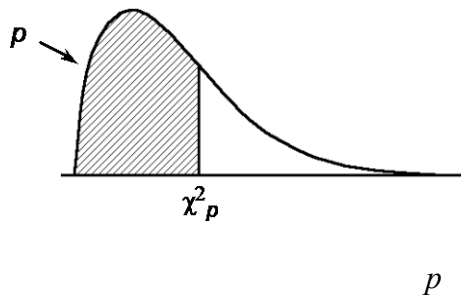
ב.  $0.837 < \sigma < 1.607$

**תשובה 3**

א. לממוצע 104, לשונות 100.

ב.  $99.32 < \mu < 108.68$

ג.  $7.94 < \sigma < 13.7$

טבלת התפלגות חי-בריבוע – ערכי החלוקה  $\chi^2_p$ 

df	.005	.01	.025	.05	.10	.25	.50	.75	.90	.95	.975	.99	.995
1	0.0 <sup>4</sup> 393	0.0 <sup>3</sup> 157	0.0 <sup>3</sup> 982	0.0 <sup>2</sup> 393	0.0158	0.102	0.455	1.32	2.71	3.84	5.02	6.63	7.88
2	0.0100	0.0201	0.0506	0.103	0.211	0.575	1.39	2.77	4.61	5.99	7.38	9.21	10.6
3	0.0717	0.115	0.216	0.352	0.584	1.21	2.37	4.11	6.25	7.81	9.35	11.3	12.8
4	0.207	0.297	0.484	0.711	1.06	1.92	3.36	5.39	7.78	9.49	11.1	13.3	14.9
5	0.412	0.554	0.831	1.15	1.61	2.67	4.35	6.63	9.24	11.1	12.8	15.1	16.7
6	0.676	0.872	1.24	1.64	2.20	3.45	5.35	7.84	10.6	12.6	14.4	16.8	18.5
7	0.989	1.24	1.69	2.17	2.83	4.25	6.35	9.04	12.0	14.1	16.0	18.5	20.3
8	1.34	1.65	2.18	2.73	3.49	5.07	7.34	10.2	13.4	15.5	17.5	20.1	22.0
9	1.73	2.09	2.70	3.33	4.17	5.90	8.34	11.4	14.7	16.9	19.0	21.7	23.6
10	2.16	2.56	3.25	3.94	4.87	6.74	9.34	12.5	16.0	18.3	20.5	23.2	25.2
11	2.60	3.05	3.82	4.57	5.58	7.58	10.3	13.7	17.3	19.7	21.9	24.7	26.8
12	3.07	3.57	4.40	5.23	6.30	8.44	11.3	14.8	18.5	21.0	23.3	26.2	28.3
13	3.57	4.11	5.01	5.89	7.04	9.30	12.3	16.0	19.8	22.4	24.7	27.7	29.8
14	4.07	4.66	5.63	6.57	7.79	10.2	13.3	17.1	21.1	23.7	26.1	29.1	31.3
15	4.60	5.23	6.26	7.26	8.55	11.0	14.3	18.2	22.3	25.0	27.5	30.6	32.8
16	5.14	5.81	6.91	7.96	9.31	11.9	15.3	19.4	23.5	26.3	28.8	32.0	34.3
17	5.70	6.41	7.56	8.67	10.1	12.8	16.3	20.5	24.8	27.6	30.2	33.4	35.7
18	6.26	7.01	8.23	9.39	10.9	13.7	17.3	21.6	26.0	28.9	31.5	34.8	37.2
19	6.84	7.63	8.91	10.1	11.7	14.6	18.3	22.7	27.2	30.1	32.9	36.2	38.6
20	7.43	8.26	9.59	10.9	12.4	15.5	19.3	23.8	28.4	31.4	34.2	37.6	40.0
21	8.03	8.90	10.3	11.6	13.2	16.3	20.3	24.9	29.6	32.7	35.5	38.9	41.4
22	8.64	9.54	11.0	12.3	14.0	17.2	21.3	26.0	30.8	33.9	36.8	40.3	42.8
23	9.26	10.2	11.7	13.1	14.8	18.1	22.3	27.1	32.0	35.2	38.1	41.6	44.2
24	9.89	10.9	12.4	13.8	15.7	19.0	23.3	28.2	33.2	36.4	39.4	43.0	45.6
25	10.5	11.5	13.1	14.6	16.5	19.9	24.3	29.3	34.4	37.7	40.6	44.3	46.9
26	11.2	12.2	13.8	15.4	17.3	20.8	25.3	30.4	35.6	38.9	41.9	45.6	48.3
27	11.8	12.9	14.6	16.2	18.1	21.7	26.3	31.5	36.7	40.1	43.2	47.0	49.6
28	12.5	13.6	15.3	16.9	18.9	22.7	27.3	32.6	37.9	41.3	44.5	48.3	51.0
29	13.1	14.3	16.0	17.7	19.8	23.6	28.3	33.7	39.1	42.6	45.7	49.6	52.3
30	13.8	15.0	16.8	18.5	20.6	24.5	29.3	34.8	40.3	43.8	47.0	50.9	53.7

## פרק 21 - רווח סמך ליחס שוניות

### רקע:

נרצה לאמוד את ההבדל בין שתי שוניות משתי אוכלוסיות שונות.

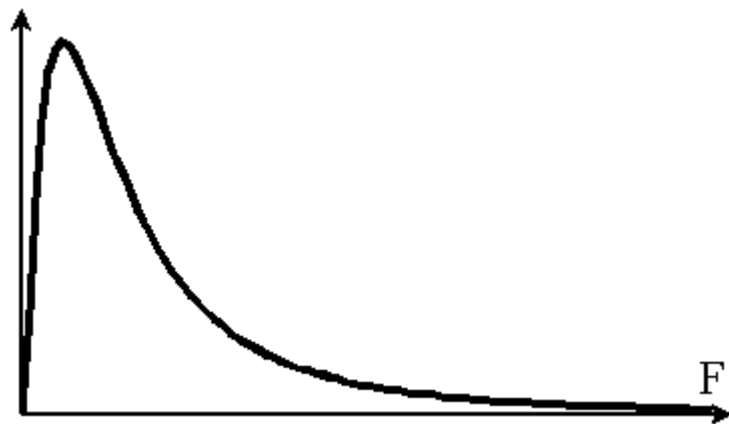
הפרמטר יהיה :  $\frac{\sigma_1^2}{\sigma_2^2}$  : כלומר היחס בין השוניות.

### התנאים:

•  $X_1, X_2 \sim N$  או מדגמים גדולים.

• מדגמים בלתי תלויים.

רווח הסמך יבנה על סמך התפלגות הנקראת התפלגות F. התפלגות זו היא אסימטרית חיובית ומושפעת משתי דרגות החופש זו של המונה וזו של המכנה.



$$df_1 = n_1 - 1$$

$$df_2 = n_2 - 1$$

רווח הסמך יהיה:

$$\frac{s_1^2}{s_2^2} \frac{1}{F_{1-\frac{\alpha}{2}}(n_1-1, n_2-1)} \leq \frac{\sigma_1^2}{\sigma_2^2} \leq \frac{s_1^2}{s_2^2} F_{1-\frac{\alpha}{2}}(n_2-1, n_1-1)$$

**דוגמה:** ( פתרון בהקלטה)

מחקר סוציולוגי מעוניין לחקור את הרגלי הבילויים בקבוצות גיל שונות :  
במדגם שנעשה על סטודנטים בגילאי 21-26 התקבל אומד חוסר הטיה לשונות ההוצאה החודשית  
על בילויים 10,000. כמות הסטודנטים שנדגמו 16.  
במדגם שנעשה על 11 מבוגרים בשנות השלושים התקבל אומד חסר הטיה לשונות ההוצאה  
החודשית על בילויים 490,000.  
ניח שההוצאה החודשית לבילוי בכל קבוצת גיל מתפלג נורמאלית.  
בנו רווח סמך ברמת סמך של 95% ליחס בין השונויות.



**תרגילים:**

1. בתחום הבינוי משתמשים בשני סוגי מתכות: מתכת A ומתכת B. מחקר מעוניין לבדוק האם קיים הבדל בין שני סוגי המתכות מבחינת שונות החוזק שלהן. דגמו מספר יחידות. מתכת מכל סוג והתקבלו התוצאות הבאות:

סוג המתכת	A	B
N	8	10
$\sum X_i$	16	30
$\sum X_i^2$	60	198

- יש להניח שרמת החוזק של המתכות מתפלגת נורמאלית.
- א. בנו רווח סמך ליחס השונות של רמות החוזק בין שני סוגי המתכות ברמת סמך של 90%.
- ב. בנו רווח סמך ליחס סטיות התקן של רמות החוזק בין שני סוגי המתכות ברמת סמך של 90%.
- ג. האם בבטחון של 90% ניתן לומר שסטיות התקן של שני סוגי המתכות שונות?

2. מעוניינים להשוות בין נשים וגברים מבחינת השונות בזמנים שלהם לבצע משימה מסוימת. במדגם של 10 גברים התקבלו התוצאות הבאות לגבי זמני ביצוע המשימה:

$$\sum (y_i - \bar{y})^2 = 204$$

במדגם של 13 נשים התקבלו התוצאות הבאות:

$$\sum (x_i - \bar{x})^2 = 200$$

- אמוד ברמת בטחון של 95% פי כמה גדולה השונות של הגברים באוכלוסייה מהשונות של הנשים. מה יש להניח לצורך פתרון?

טבלת התפלגות  $F$ . ערכי החלוקה  $F_p$  של התפלגות  $F(m, n)$   
 $m$  — דרגות חופש המונה;  $n$  — דרגות חופש המכנה

		$m$										
$p$	$n$	1	2	3	4	5	6	7	8	9	10	12
.95	1	161	200	216	225	230	234	237	239	241	242	244
.975		648	800	864	900	922	937	948	957	963	969	977
.99		4052	5000	5403	5625	5764	5859	5928	5981	6022	6056	6106
.995		16211	20000	21615	22500	23056	23437	23715	23925	24091	24224	24426
.95	2	18.51	19.00	19.16	19.25	19.30	19.33	19.35	19.37	19.38	19.40	19.41
.975		38.51	39.00	39.17	39.25	39.30	39.33	39.36	39.37	39.39	39.40	39.41
.99		98.50	99.00	99.16	99.25	99.30	99.33	99.36	99.38	99.39	99.40	99.42
.995		198.50	199.01	199.16	199.24	199.30	199.33	199.36	199.38	199.39	199.39	199.42
.95	3	10.13	9.55	9.28	9.12	9.01	8.94	8.89	8.85	8.81	8.79	8.74
.975		17.44	16.04	15.44	15.10	14.88	14.73	14.62	14.54	14.47	14.42	14.34
.99		34.12	30.82	29.46	28.71	28.24	27.91	27.67	27.49	27.34	27.23	27.05
.995		55.55	49.80	47.47	46.20	45.39	44.84	44.43	44.13	43.88	43.68	43.39
.95	4	7.71	6.94	6.59	6.39	6.26	6.16	6.09	6.04	6.00	5.96	5.91
.975		12.22	10.65	9.98	9.60	9.36	9.20	9.07	8.98	8.90	8.84	8.75
.99		21.20	18.00	16.69	15.98	15.52	15.21	14.98	14.80	14.66	14.55	14.37
.995		31.33	26.28	24.26	23.15	22.46	21.98	21.62	21.35	21.14	20.97	20.70
.95	5	6.61	5.79	5.41	5.19	5.05	4.95	4.88	4.82	4.77	4.74	4.68
.975		10.01	8.43	7.76	7.39	7.15	6.98	6.85	6.76	6.68	6.62	6.52
.99		16.26	13.27	12.06	11.39	10.97	10.67	10.46	10.29	10.16	10.05	9.89
.995		22.78	18.31	16.53	15.56	14.94	14.51	14.20	13.96	13.77	13.62	13.38
.95	6	5.99	5.14	4.76	4.53	4.39	4.28	4.21	4.15	4.10	4.06	4.00
.975		8.81	7.26	6.60	6.23	5.99	5.82	5.70	5.60	5.52	5.46	5.37
.99		13.75	10.92	9.78	9.15	8.75	8.47	8.26	8.10	7.98	7.87	7.72
.995		18.63	14.54	12.92	12.03	11.46	11.07	10.79	10.57	10.39	10.25	10.03
.95	7	5.59	4.74	4.35	4.12	3.97	3.87	3.79	3.73	3.68	3.64	3.57
.975		8.07	6.54	5.89	5.52	5.29	5.12	4.99	4.90	4.82	4.76	4.67
.99		12.25	9.55	8.45	7.85	7.46	7.19	6.99	6.84	6.72	6.62	6.47
.995		16.24	12.40	10.88	10.05	9.52	9.16	8.89	8.68	8.51	8.38	8.18
.95	8	5.32	4.46	4.07	3.84	3.69	3.58	3.50	3.44	3.39	3.35	3.28
.975		7.57	6.06	5.42	5.05	4.82	4.65	4.53	4.43	4.36	4.30	4.20
.990		11.26	8.65	7.59	7.01	6.63	6.37	6.18	6.03	5.91	5.81	5.67
.995		14.69	11.04	9.60	8.81	8.30	7.95	7.69	7.50	7.34	7.21	7.01

		$m$										
$p$	$n$	1	2	3	4	5	6	7	8	9	10	
.95	9	5.12	4.26	3.86	3.63	3.48	3.37	3.29	3.23	3.18	3.14	3.07
.975		7.21	5.71	5.08	4.72	4.48	4.32	4.20	4.10	4.03	3.96	3.87
.99		10.56	8.02	6.99	6.42	6.06	5.80	5.61	5.47	5.35	5.26	5.11
.995		13.61	10.11	8.72	7.96	7.47	7.13	6.88	6.69	6.54	6.42	6.23
.95	10	4.96	4.10	3.71	3.48	3.33	3.22	3.14	3.07	3.02	2.98	2.91
.975		6.94	5.46	4.83	4.47	4.24	4.07	3.95	3.85	3.78	3.72	3.62
.99		10.04	7.56	6.55	5.99	5.64	5.39	5.20	5.06	4.94	4.85	4.71
.995		12.83	9.43	8.08	7.34	6.87	6.54	6.30	6.12	5.97	5.85	5.66
.95	12	4.75	3.89	3.49	3.26	3.11	3.00	2.91	2.85	2.80	2.75	2.69
.975		6.55	5.10	4.47	4.12	3.89	3.73	3.61	3.51	3.44	3.37	3.28
.99		9.33	6.93	5.95	5.41	5.06	4.82	4.64	4.50	4.39	4.30	4.16
.995		11.75	8.51	7.23	6.52	6.07	5.76	5.52	5.35	5.20	5.09	4.91
.95	15	4.54	3.68	3.29	3.06	2.90	2.79	2.71	2.64	2.59	2.54	2.48
.975		6.20	4.77	4.15	3.80	3.58	3.41	3.29	3.20	3.12	3.06	2.96
.99		8.68	6.36	5.42	4.89	4.56	4.32	4.14	4.00	3.89	3.80	3.67
.995		10.80	7.70	6.48	5.80	5.37	5.07	4.85	4.67	4.54	4.42	4.25
.95	20	4.35	3.49	3.10	2.87	2.71	2.60	2.51	2.45	2.39	2.35	2.28
.975		5.87	4.46	3.86	3.51	3.29	3.13	3.01	2.91	2.84	2.77	2.68
.99		8.10	5.85	4.94	4.43	4.10	3.87	3.70	3.56	3.46	3.37	3.23
.995		9.94	6.99	5.82	5.17	4.76	4.47	4.26	4.09	3.96	3.85	3.68
.95	30	4.17	3.32	2.92	2.69	2.53	2.42	2.33	2.27	2.21	2.16	2.09
.975		5.57	4.18	3.59	3.25	3.03	2.87	2.75	2.65	2.57	2.51	2.41
.99		7.56	5.39	4.51	4.02	3.70	3.47	3.30	3.17	3.07	2.98	2.84
.995		9.18	6.35	5.24	4.62	4.23	3.95	3.74	3.58	3.45	3.34	3.18
.95	60	4.00	3.15	2.76	2.53	2.37	2.25	2.17	2.10	2.04	1.99	1.92
.975		5.29	3.93	3.34	3.01	2.79	2.63	2.51	2.41	2.33	2.27	2.17
.99		7.08	4.98	4.13	3.65	3.34	3.12	2.95	2.82	2.72	2.63	2.50
.995		8.49	5.79	4.73	4.14	3.76	3.49	3.29	3.13	3.01	2.90	2.74
.95	120	3.92	3.07	2.68	2.45	2.29	2.18	2.09	2.02	1.96	1.91	1.83
.975		5.15	3.80	3.23	2.89	2.67	2.52	2.39	2.30	2.22	2.16	2.05
.99		6.85	4.79	3.95	3.48	3.17	2.96	2.79	2.66	2.56	2.47	2.34
.995		8.18	5.54	4.50	3.92	3.55	3.28	3.09	2.93	2.81	2.71	2.54
.95	$\infty$	3.84	3.00	2.60	2.37	2.21	2.10	2.01	1.94	1.88	1.83	1.75
.975		5.02	3.69	3.12	2.79	2.57	2.41	2.29	2.19	2.11	2.05	1.94
.99		6.63	4.61	3.78	3.32	3.02	2.80	2.64	2.51	2.41	2.32	2.18
.995		7.88	5.30	4.28	3.72	3.35	3.09	2.90	2.74	2.62	2.52	2.36

## פרק 22 - תרגול מסכם ברווחי סמך

1. מהירות הגלישה באינטרנט במקום מסוים מתפלגת נורמאלית . בדקו את מהירות הגלישה ב-30 זמנים אקראיים. מהירות הגלישה נמדדה ב-Mbps . מהירות מתחת ל- 10 Mbps מוגדרת על ידי החברה כנמוכה.
- התוצאות שהתקבלו במדגם : ממוצע היה 87 עם סטיית תקן 17 ו-12 פעמים המהירות הייתה נמוכה. בנו רווחי סמך ברמת סמך של 95% לפרמטרים הבאים :
- א. תוחלת מהירות הגלישה.
- ב. סטיית תקן של מהירות הגלישה.
- ג. הסיכוי שמהירות הגלישה תהיה נמוכה.

2. 200 אנשים נשאלו כמה פעמים ביום הם שותים כוס קפה. להלן התפלגות התשובות :

מספר פעמים	0	1	2	3	4	5
מספר אנשים	86	34	28	22	20	10

- א. תנו רווח סמך לממוצע מספר כוסות הקפה שאנשים נוהגים לשתות ביום .  $\alpha = 0.05$
- ב. אדם השותה לפחות 4 כוסות קפה ביום נקרא "מכור לקפה". בנו רווח סמך לאחוז "המכורים לקפה"  $\alpha = 0.1$
3. חוקר בנה רווח סמך לאחוז האנשים שהתקררו לפחות פעם אחת בשנה. רווח הסמך שהתקבל הוא  $81 < p < 91$  רווח הסמך הני"ל התבסס על מדגם של 500 איש.
- א. כמה אנשים במדגם טענו שכלל לא התקררו השנה?
- ב. באיזו רמת סמך נבנה רווח הסמך?
- ג. בנו רווח סמך לאחוז האנשים שהתקררו לפחות פעם אחת השנה ברמת סמך של 95% על סמך תוצאות המדגם

4. ציוני IQ בארה"ב מתפלגים נורמאלית עם תוחלת 100. במדגם של 20 ישראלים שנבחנו במבחן

$$\sum_{i=1}^{20} x_i = 2040$$

ה-IQ התקבלו התוצאות הבאות:

$$\sum_{i=1}^{20} x_i^2 = 210740$$

א. אמדו ברמת ביטחון של 90% את ממוצע ציוני בחינת ה-IQ בישראל – מהי ההנחה

הדרושה לפתרון?

ב. על סמך רווח הסמך של סעיף א האם תקבלו את הטענה שבישראל ממוצע הציונים שונה

מארה"ב?

ג. מה היה קורה לרווח הסמך אם הינו מגדילים את רמת הסמך שלו?

5. להלן תוצאות מדגם שבדק עבור כל משפחה האם יש לה בבית מכשיר טאבלט.

אזור מגורים	גוש דן	שאר הארץ
גודל המדגם	200	240
מספר משפחות בעלי טאבלט	160	168

א. בנו רווח סמך להבדל בין אחוז המשפחות עם טאבלט בגוש דן ואחוז המשפחות בעלי

טאבלט בשאר חלקי הארץ. ברמת סמך של 98%.

ב. בנו רווח סמך לפרופורצית משפחות בעלות טאבלט בכלל הארץ ברמת סמך של 95%.

6. הגובה של מתגייסים לצה"ל מתפלג נורמלית במדגם של 25 מתגייסים התקבלו התוצאות

הבאות:

$$\bar{x} = 176.2cm$$

$$\sum (x_i - \bar{x})^2 = 2832cm^2$$

א. אמדו את הגובה הממוצע של המתגייסים ברמת סמך של 98%.

ב. אמדו ברמת סמך של 90% את סטיית התקן של הגובה של מתגייסים של צה"ל.

7. בנק מתלבט האם לפתוח סניף באזור A או באזור B. לצורך פתרון נניח שסטית התקן של המשכורת באזור A היא 1200 ובאזור B 1500. הבנק דגם 50 אנשים מאזור A, המשכורת הממוצעת שהתקבלה במדגם היא 6,800 ₪. כמו כן נדגמו 40 אנשים מאזור B, המשכורת הממוצעת שהתקבלה במדגם היא 6,600 ₪.
- א. בנו רווח סמך ברמת סמך של 95% להפרש הממוצעים של המשכורות בשני האזורים. האם על סמך רווח הסמך ניתן להמליץ לבנק היכן לפתוח את הסניף. אם כן, היכן?
- ב. בנו רווח סמך לתוחלת המשכורת באזור A ברמת סמך של 95%.

8. להלן מדגם של שכר הדירה בשי"ח של 5 דירות שלושה חדרים בשכונת בבלי בתל אביב :

שנת 2012	8000	7500	7000	6500	7500
שנת 2013	8000	8200	7800	6800	7700

- בנו רווח סמך ברמת סמך של 95% לתוחלת עליית שכר הדירה משנת 2012 לשנת 2013 בשכונת בבלי. ניתן להניח ששכר הדירה בשכונה מתפלג נורמלית.

**פתרונות:****שאלה 1**

א.  $80.65 \leq \mu \leq 93.35$

ב.  $13.5 \leq \sigma \leq 22.9$

ג.  $0.225 \leq p \leq 0.575$

**שאלה 2**

א.  $1.21 \leq \mu \leq 1.65$

ב.  $10.85\% \leq p \leq 19.15\%$

**שאלה 3**

א. 70

ב. 99.88%

ג.  $83\% \leq p \leq 89\%$

**שאלה 4**

א.  $97.4 \leq \mu \leq 106.6$

ב. לא

ג. יגדל

**שאלה 5**

א.  $0.5\% < p_1 - p_2 < 19.5\%$

ב.  $0.704 \leq p \leq 0.768$

**שאלה 6**

א.  $170.8 \leq \mu \leq 181.6$

ב.  $8.8 \leq \sigma \leq 14.3$

**שאלה 7**

$$\text{א. } -372 \leq \mu_A - \mu_B \leq 772$$

$$\text{ב. } 6467 \leq \mu \leq 7133$$

**שאלה 8**

$$-21 \leq \mu_{2013} - \mu_{2012} \leq 821$$



## פרק 23 - בדיקת השערות על פרמטרים

### הקדמה

#### רקע:

תהליך של בדיקת השערות הוא תהליך מאוד נפוץ בעולם הסטטיסטיקה. בבדיקת השערות על פרמטרים נעבוד לפי השלבים הבאים:

**שלב א:** נזהה את הפרמטר הנחקר.

**שלב ב:** נרשום את השערות המחקר.

**השערת האפס** המסומנות ב-  $H_0$

בדרך כלל השערת האפס מסמלת את אשר היה מקובל עד עכשיו, את השגרה הנורמה.

**השערה אלטרנטיבית** (השערת המחקר) המסומנת ב-  $H_1$ .

ההשערה האלטרנטיבית מסמלת את החדשנות בעצם ההשערה האלטרנטיבית מדברת על הסיבה שהמחקר נעשה היא שאלת המחקר.

**שלב ג:** נבדוק האם התנאים לביצוע התהליך מתקיימים ונניח הנחות במידת הצורך.

**שלב ד:** נרשום את כלל ההכרעה.

בתהליך של בדיקת השערות יוצרים כלל שניקרא **כלל הכרעה**: הכלל יוצר אזור שניקרא **אזור דחייה** (דחייה של השערת האפס כלומר קבלה של האלטרנטיבה) ו**אזור קבלה** (קבלה של השערת האפס ודחייה של האלטרנטיבה). כלל ההכרעה מתבסס על איזשהו סטטיסטי.

אזור הדחייה מוכתב על ידי סיכון שלוקח החוקר מראש שניקרא רמת מובהקות ומסומן ב-  $\alpha$ .

#### שלב ה:

בתהליך יש ללכת לתוצאות המדגם ולחשב את הסטטיסטי המתאים ולבדוק האם התוצאות נופלות באזור הדחייה או הקבלה.

#### שלב ו:

להסיק מסקנה בהתאם לתוצאות המדגם.

**דוגמה:** ( פתרון בהקלטה)

משרד הבריאות פרסם שמשקל ממוצע של תינוקות ביום היוולדם בישראל 3300 גר'. משרד הבריאות רוצה לחקור את הטענה שנשים מעשנות בזמן ההיריון יולדות תינוקות במשקל נמוך מהממוצע. במחקר השתתפו 20 נשים מעשנות בהריון. להלן תוצאות המדגם שבדק את המשקל של התינוקות בעת הלידה:

$$n = 20$$

$$\bar{X} = 3120$$

$$S = 280$$

א. מהי אוכלוסיית המחקר?

ב. מה המשתנה הנחקר?

ג. מה הפרמטר הנחקר?

ד. מהן השערות המחקר?

**תרגילים:**

1. ממוצע הציונים בבחינת הבררות באנגלית הנו 72 עם סטיית תקן 15 נקודות. מורה טוען שפיתח שיטת לימוד חדשה שתעלה את ממוצע הציונים. משרד החינוך החליט לתת למורה 36 תלמידים אקראיים. ממוצע הציונים של אותם תלמידים לאחר שלמדו בשיטתו היה 75.5.

- א. מהי אוכלוסיית המחקר?
- ב. מה המשתנה הנחקר?
- ג. מה הפרמטר הנחקר?
- ד. מהן השערות המחקר?

2. לפי הצהרת היצרן של חברת משקאות מסוימת נפח הנוזל בבקבוק מתפלג נורמלית עם תוחלת 500 סמ"ק וסטיית תקן 20 סמ"ק. אגודת הצרכנים מתלוננת על הפחתת נפח המשקה בבקבוק מהכמות המוצהרת. במדגם שעשתה אגודת הצרכנים התקבל נפח ממוצע של 492 סמ"ק במדגם בגודל 25.

- א. מהי אוכלוסיית המחקר?
- ב. מה המשתנה הנחקר?
- ג. מה הפרמטר הנחקר?
- ד. מהן השערות המחקר?

3. במשך שנים אחוז המועמדים שהתקבל לפקולטה למשפטים היה 25%. השנה מתוך מדגם של 120 מועמדים התקבלו 22. מחקר מעוניין לבדוק האם השנה מקשים על הקבלה לפקולטה למשפטים.

- א. מהי אוכלוסיית המחקר?
- ב. מה המשתנה הנחקר?
- ג. מה הפרמטר הנחקר?
- ד. מהן השערות המחקר?

4. בחודש ינואר השנה פורסם שאחוז האבטלה במשק הוא 8% במדגם עכשווי התקבל שמתוך 200 אנשים 6.5% מובטלים. רוצים לבדוק ברמת מובהקות של 5% האם כיום אחוז האבטלה הוא כמו בתחילת השנה.

- א. מהי אוכלוסיית המחקר?
- ב. מה המשתנה הנחקר?
- ג. מה הפרמטר הנחקר?
- ד. מהן השערות המחקר?

### טעויות בבדיקת השערות

#### רקע:

בתהליך של בדיקת השערות יוצרים כלל שניקרא כלל הכרעה :

הכלל יוצר אזור שניקרא אזור דחייה ( דחייה של השערת האפס כלומר קבלה של האלטרנטיבה) ואזור קבלה ( קבלה של השערת האפס ודחייה של האלטרנטיבה). כלל ההכרעה מתבסס על איזשהו סטטיסטי .

בתהליך יש ללכת לתוצאות המדגם ולבדוק האם התוצאות נופלות באזור הדחייה או הקבלה וכך להגיע למסקנה – המסקנה היא בעירבון מוגבל כיוון שהיא תלויה בכלל ההכרעה ובתוצאות המדגם. נשנה את כלל ההכרעה אנחנו יכולים לקבל מסקנה אחרת . נבצע מדגם חדש אנחנו עלולים לקבל תוצאה אחרת.

לכן יתכנו טעויות במסקנות שלנו :

		הכרעה	
		H0	H1
מציאות	H0	אין טעות	טעות מסוג 1
	H1	טעות מסוג 2	אין טעות

#### הגדרת הטעויות:

טעות מסוג ראשון- להכריע לדחות את  $H_0$  למרות שבמציאות  $H_0$  נכונה.

טעות מסוג שני- להכריע לקבל את  $H_0$  למרות שבמציאות  $H_1$  נכונה.

דוגמה: (פתרון בהקלטה)

אדם חשוד בביצוע עבירה ונתבע בבית המשפט. אילו סוגי טעויות אפשריות בהכרעת הדין?

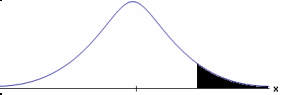


## תרגילים:

1. לפי הצהרת היצרן של חברת משקאות מסוימת נפח הנוזל בבקבוק מתפלג נורמלית עם תוחלת 500 סמ"ק וסטיית תקן 20 סמ"ק. אגודת הצרכנים מתלוננת על הפחתת נפח המשקה בבקבוק מהכמות המוצהרת. במדגם שעשתה אגודת הצרכנים התקבל נפח ממוצע של 492 סמ"ק במדגם בגודל 25. בסופו של דבר הוחלט להכריע לטובת חברת המשקאות.
  - א. רשמו את השערות המחקר.
  - ב. מה מסקנת המחקר?
  - ג. איזו סוג טעות יתכן וביצעו במחקר?
  
2. במחקר על פרמטר מסוים הוחלט בסופו של דבר לדחות את השערת האפס.
  - א. האם ניתן לדעת אם בוצע טעות במחקר?
  - ב. מה סוג הטעות האפשרית?
  
3. לפי נתוני משרד הפנים בשנת 1980 למשפחה ממוצעת היה 2.3 ילדים למשפחה עם סטיית תקן 0.4. ישנה טענה שכיום ממוצע מספר הילדים במשפחה קטן יותר. לצורך כך הוחלט לדגום 121 משפחות. במדגם התקבל ממוצע 2.17 ילדים למשפחה. על סמך תוצאות המדגם נקבע שלא ניתן לקבוע שבאופן מובהק תוחלת מספר הילדים למשפחה קטנה כיום.
  - א. מהי אוכלוסיית המחקר?
  - ב. מה המשתנה הנחקר?
  - ג. מה הפרמטר הנחקר?
  - ד. מה השערות המחקר?
  - ה. מה מסקנת המחקר?
  - ו. מהי סוג הטעות האפשרית במחקר?

## פרק 24 - בדיקת השערות על תוחלת (ממוצע)

### כאשר שונות האוכלוסיה ידועה

#### רקע:

$H_0 : \mu = \mu_0$ $H_1 : \mu > \mu_0$	$H_0 : \mu = \mu_0$ $H_1 : \mu < \mu_0$	$H_0 : \mu = \mu_0$ $H_1 : \mu \neq \mu_0$	<b>השערות האפס :</b> <b>השערה אלטרנטיבה :</b>
1. $\sigma$ ידועה 2. $X \sim N$ או מדגם מספיק גדול			<b>תנאים :</b>
$Z_{\bar{x}} > Z_{1-\alpha}$  $Z_{1-\alpha}$ - דוחים את $H_0$	$Z_{\bar{x}} < -Z_{1-\alpha}$  $-Z_{1-\alpha}$ - דוחים את $H_0$	$Z_{\bar{x}} < -Z_{1-\frac{\alpha}{2}}$ או $Z_{\bar{x}} > Z_{1-\frac{\alpha}{2}}$  $-Z_{1-\frac{\alpha}{2}}$ $Z_{1-\frac{\alpha}{2}}$ - דוחים את $H_0$	<b>כלל ההכרעה :</b> <b>אזור הדחייה של <math>H_0</math> :</b>

#### סטטיסטי המבחן :

$$Z_{\bar{x}} = \frac{\bar{X} - \mu_0}{\frac{\sigma}{\sqrt{n}}}$$

חלופה אחרת לכלל הכרעה :

$\bar{X} > \mu_0 + Z_{1-\alpha} \cdot \frac{\sigma}{\sqrt{n}}$	$\bar{X} < \mu_0 - Z_{1-\alpha} \cdot \frac{\sigma}{\sqrt{n}}$	$\bar{X} > \mu_0 + Z_{1-\alpha/2} \cdot \frac{\sigma}{\sqrt{n}}$ או $\bar{X} < \mu_0 - Z_{1-\alpha/2} \cdot \frac{\sigma}{\sqrt{n}}$	<b>נדחה <math>H_0</math> אם מתקיים :</b>
--	--	--	--

**דוגמה :** (פתרון בהקלטה)

יבול העגבניות מתפלג נורמלית עם תוחלת של 10 טון לדונם וסטיית תקן של 2.5 טון לדונם בעונה. משערים ששיטת זיבול חדשה תעלה את תוחלת היבול לעונה מבלי לשנות את סטיית התקן. נדגמו 4 חלקות שזובלו בשיטה החדשה. היבול הממוצע שהתקבל היה 12.5 טון לדונם. בדוק את ההשערה ברמת מובהקות של 1%.

### תרגילים:

1. ממוצע הציונים בבחינת הבגרות באנגלית הנו 72 עם סטיית תקן 15 נקודות. מורה טוען שפיתח שיטת לימוד חדשה שתעלה את ממוצע הציונים. משרד החינוך החליט לתת למורה 36 תלמידים אקראיים. ממוצע הציונים של אותם תלמידים לאחר שלמדו בשיטתו היה 75.5. בהנחה שגם בשיטתו סטיית התקן תהייה 15 מה מסקנתכם ברמת מובהקות של 5%?
2. לפי הצהרת היצרן של חברת משקאות מסוימת נפח הנוזל בבקבוק מתפלג נורמלית עם תוחלת 500 סמ"ק וסטיית תקן 20 סמ"ק. אגודת הצרכנים מתלוננת על הפחתת נפח המשקה בבקבוק מהכמות המוצהרת. במדגם שעשתה אגודת הצרכנים התקבל נפח ממוצע של 492 סמ"ק במדגם בגודל 25.
  - א. מה מסקנתכם ברמת מובהקות של 2.5%?
  - ב. האם ניתן לדעת מה תהיה המסקנה עבור רמת מובהקות הגבוהה מ-5%?
3. מהנדס האיכות מעוניין לבדוק אם מכונה מכוילת (מאופסת). המכונה כוונה לחתוך מוטות באורך 50 ס"מ. לפי נתוני היצרן סטיית התקן בחיתוך המוטות היא 0.5 ס"מ. במדגם של 50 מוטות התקבל ממוצע אורך המוט 50.93 ס"מ. מה מסקנתכם ברמת מובהקות של 5%?
4. המשקל הממוצע של הספורטאים בתחום ספורט מסוים הוא 90 ק"ג, עם סטיית תקן 8 ק"ג. לפי דעת מומחים בתחום יש צורך בהורדת המשקל ובשימוש בדיאטה מסוימת שצריכה להביא להורדת המשקל. לשם בדיקת יעילות הדיאטה נלקח מדגם מקרי של 50 ספורטאים ובתום שנה של שימוש בדיאטה התברר שהמשקל הממוצע במדגם זה היה 84 ק"ג. יש לבדוק בר"מ של 10%, האם הדיאטה גורמת להורדת המשקל.
5. לפי מפרט נתון, על עובי בורג להיות 4 מ"מ עם סטיית תקן של 0.2 מ"מ. במדגם של 25 ברגים העובי הממוצע היה 4.07 מ"מ. קבעו ברמת מובהקות 0.05, האם עובי הברגים מתאים למפרט. הניחו כי עובי של בורג מתפלג נורמלית וסטיית התקן של עובי בורג היא אכן 0.2 מ"מ.



6. במחקר נמצא שתוצאה היא מובהקת ברמת מובהקות של 5% מה תמיד נכון? בחר בתשובה הנכונה.
- הגדלת רמת המובהקות לא תשתנה את מסקנת המחקר.
  - הגדלת רמת המובהקות תשנה את מסקנת המחקר.
  - הקטנת רמת המובהקות לא תשנה את מסקנת המחקר.
  - הקטנת רמת המובהקות תשנה את מסקנת המחקר.
7. חוקר ערך מבחן דו צדדי ברמת מובהקות של  $\alpha$  והחליט לדחות את השערת האפס.
- אם החוקר היה עורך מבחן צדדי ברמת מובהקות של  $\frac{\alpha}{2}$  אזי בהכרח: (בחר בתשובה הנכונה)
- השערת האפס הייתה נדחית.
  - השערת האפס הייתה לא נדחית.
  - לא ניתן לדעת מה תהיה מסקנתו במקרה זה.
8. שני סטטיסטיקאים בדקו השערות  $H_0: \mu = \mu_0$  כנגד  $H_1: \mu > \mu_0$  עבור שונות ידועה ובאותה רמת מובהקות. שני החוקרים קבלו אותו ממוצע במדגם אך לחוקר א' היה מדגם בגודל 100 ולחוקר ב' מדגם בגודל 200.
- אם חוקר א' החליט לדחות את  $H_0$ , מה יחליט חוקר ב'? נמקו.
  - אם חוקר א' יחליט לא לדחות את  $H_0$ , מה יחליט חוקר ב'? נמקו.

**פתרונות :****שאלה 1:** $H_0$  נקבל**שאלה 2:** $H_0$  נדחה**שאלה 3:** $H_0$  נדחה**שאלה 4:** $H_0$  נדחה**שאלה 5:** $H_0$  נקבל**שאלה 6:**

ב

**שאלה 7:**

ג

**שאלה 8:**

א. אותה מסקנה

ב. לא ניתן לדעת.

## סיכוי לטעויות ועוצמה כאשר שונות האוכלוסייה ידועה

### רקע:

	הכרעה	
	H0	H1
מציאות	H0	אין טעות 1
	H1	טעות מסוג 2

נגדיר את ההסתברויות הבאות:

הסיכוי לבצע טעות מסוג 1 (רמת מובהקות)

$$\alpha = P(H_0 \text{ נכונה} \mid \text{לדחות את } H_0) = P_{H_0}(H_0)$$

הסיכוי לבצע טעות מסוג 2:

$$\beta = P(H_0 \text{ לקבל את } H_1 \mid \text{לדחות את } H_0) = P_{H_1}(H_0)$$

רמת בטחון:

$$(1 - \alpha) = P(H_0 \text{ לקבל את } H_0 \mid \text{לדחות את } H_0) = P_{H_0}(H_0)$$

עוצמה:

$$\pi = (1 - \beta) = P(H_1 \text{ נכונה} \mid \text{לדחות את } H_0) = P_{H_1}(H_0)$$

התהליך לחישוב סיכוי לטעות מסוג שני:

לפתרון מלא בסרטון וידאו היכנסו ל- [www.GooL.co.il](http://www.GooL.co.il)

כתב ופתר - ברק קנדל ©

$H_0 : \mu = \mu_0$ $H_1 : \mu > \mu_0$	$H_0 : \mu = \mu_0$ $H_1 : \mu < \mu_0$	$H_0 : \mu = \mu_0$ $H_1 : \mu \neq \mu_0$	השערת האפס : השערה אלטרנטיבה :
3. $\sigma$ ידועה 4. $X \sim N$ או מדגם מספיק גדול			תנאים :
$\bar{X} > \mu_0 + Z_{1-\alpha} \cdot \frac{\sigma}{\sqrt{n}}$	$\bar{X} < \mu_0 - Z_{1-\alpha} \cdot \frac{\sigma}{\sqrt{n}}$	$\bar{X} > \mu_0 + Z_{1-\alpha/2} \cdot \frac{\sigma}{\sqrt{n}}$ או $\bar{X} < \mu_0 - Z_{1-\alpha/2} \cdot \frac{\sigma}{\sqrt{n}}$	כלל ההכרעה : אזור הדחייה של $H_0$ :
$P_{H_1}(\bar{X} < \mu_0 + Z_{1-\alpha} \cdot \frac{\sigma}{\sqrt{n}})$	$P_{H_1}(\bar{X} > \mu_0 - Z_{1-\alpha} \cdot \frac{\sigma}{\sqrt{n}})$	$P_{H_1}(\mu_0 - Z_{1-\alpha/2} \cdot \frac{\sigma}{\sqrt{n}} < \bar{X} < \mu_0 + Z_{1-\alpha/2} \cdot \frac{\sigma}{\sqrt{n}})$	חישוב $\beta$ :

התפלגות ממוצע המדגם :  $\bar{X} \sim N(\mu, \frac{\sigma^2}{n})$

$$Z = \frac{\bar{x} - \mu}{\sigma / \sqrt{n}} : \text{התקנון}$$

**דוגמה :** (פתרון בהקלטה)

בתחילת השנה חשבון הטלפון הסלולארי הממוצע לאדם היה 200 ₪ עם סטיית תקן של 80 ₪ לחודש. בעקבות כניסתן של חברות טלפון סלולארית חדשות מעוניינים לבדוק האם כיום ממוצע חשבון הטלפון הסלולארי פחת. לצורך בדיקה דגמו באקראי 36 אנשים וחשבון הטלפון הסלולארי שלהם היה 150 ₪ בממוצע לחודש.

א. רשמו את השערות המחקר ובנו כלל הכרעה במונחי חשבון ממוצע מדגמי ברמת מובהקות של 5%.

ב. מה מסקנתכם? איזה סוג טעות אפשרית במסקנה?

ג. נניח שבמציאות כיום החשבון הממוצע הוא 160 ₪. מה הסיכוי לבצע טעות מסוג שני?

ד. אם נקטין את רמת המובהקות מסעיף א', כיצד הדבר ישפיע על התשובה מסעיף ג'?

**תרגילים:**

לפתרון מלא בסרטון וידאו היכנסו ל- [www.GooL.co.il](http://www.GooL.co.il)

כתב ופתר - ברק קנדל ©

1. נתון ש  $X \sim N(\mu, \sigma^2 = 1)$  להלן השערות של חוקר לגבי הפרמטר  $\mu$  :
- $$H_0 : \mu = 5$$
- $$H_1 : \mu = 7$$
- מעוניינים ליצור כלל הכרעה המתבסס על הסמך תצפית בודדת כך שרמת המובהקות תהיה 5%.
- א. עבור אילו ערכים של  $X$  שידגם נדחית השערת  $H_0$  ?
- ב. מה הסיכוי לבצע טעות מסוג שני?
- ג. אם במדגם התקבל ש  $X = 6.9$  מה תהיה המסקנה ומה הטעות האפשרית?
2. לפי נתוני משרד הפנים בשנת 1980 למשפחה ממוצעת היה 2.3 ילדים למשפחה עם סטיית תקן 0.4. מעוניינים לבדוק אם כיום ממוצע מספר הילדים למשפחה קטן יותר. לצורך כך הוחלט לדגום 121 משפחות. במדגם התקבל ממוצע 2.17 ילדים למשפחה.
- א. רשמו כלל הכרעה במונחי ממוצע מדגם קריטי ברמת מובהקות של 5%.
- ב. בהמשך לסעיף א מה תהיה המסקנה ומהי הטעות האפשרית במסקנה?
- ג. אם באמת ממוצע מספר הילדים במשפחה פחת לכדי 2.1 מהי העצמה של הכלל מסעיף א?
3. להלן נתונים על תהליך של בדיקת השערות על תוחלת :
- $$H_0 : \mu = 200$$
- $$H_1 : \mu \neq 200$$
- $$\sigma = 30$$
- $$n = 225$$
- א. רשום כלל הכרעה במונחי ממוצע מדגם קריטי וברמת מובהקות של 10%.
- ב. בהמשך לסעיף א מהי העצמה אם התוחלת שווה ל-195?
- ג. הסבר ללא חישוב איך העצמה תשתנה אם רמת המובהקות תהייה 5%?
4. מפעל ליצור צינורות מייצר צינור שקוטרו מתפלג נורמלית עם תוחלת של 50 מ"מ וסטית תקן של 6 מ"מ. במחלקת ביקורת האיכות דוגמים בכל יום 81 צינורות ומודדים את קוטרים,

בכדי לבדוק, בעזרת מבחן סטטיסטי, האם מכונת הייצור מכוילת כנדרש או שקוטר הצינורות קטן מהדרוש.

- א. רשום את ההשערות ואת כלל ההכרעה ברמת מובהקות של 5%.
- ב. אם ביום כלשהו מכונת הייצור התקלקלה והיא מייצרת את הצינורות בקוטר שתוחלתו 48 מ"מ בלבד (סטית התקן לא השתנתה), מה ההסתברות שהתקלה לא תתגלה בביקורת האיכות? כיצד נקראת הסתברות זו?
- ג. הסבר ללא חישוב כיצד התשובה לסעיף ב תשתנה אם רמת המובהקות תגדל.
- ד. הסבר ללא חישוב כיצד התשובה לסעיף ב תשתנה אם התוחלת האמיתית היא 47 ולא 48 מ"מ.

5. להלן השערות של מחקר

$$H_0 : \mu = 50$$

$$H_1 : \mu = 58$$

- מעוניינים לדגום 100 תצפיות. ידוע שסטיית התקן של ההתפלגות הינה 20.
- א. בנו כלל הכרעה שהסיכוי לטעות מסוג שני בו הוא 10%. מהי רמת המובהקות?
- ב. כיצד הייתה משתנה רמת המובהקות אם (כל סעיף בפני עצמו) ?
1. סטיית התקן הייתה יותר גדולה.
  2. הסיכוי לטעות מסוג שני גדול יותר.

השאלות שלהלן הן שאלות רב בררתיות. בחר בכל שאלה את התשובה הנכונה ביותר :

6. אם חוקר החליט להגדיל את רמת המובהקות במחקר שלו אזי :

א. הסיכוי לטעות מסוג ראשון גדל.

ב. העוצמה של המבחן גדלה.

ג. הסיכוי לטעות מסוג שני גדל.

ד. תשובות א ו-ב נכונות.

7. חוקר ביצע מחקר ובו עשה טעות מסוג שני לכן :

א. השערת האפס נכונה.

ב. השערת האפס נדחתה.

ג. השערת האפס לא נדחתה.

ד. אף אחת מהתשובות לא נכונה בהכרח.

8. מה המצב הרצוי לחוקר המבצע בדיקת השערה :

$1 - \beta$	$\alpha$
גדולה	א. גדולה
קטנה	ב. גדולה
גדולה	ג. קטנה
קטנה	ד. קטנה

9. נערך שינוי בכלל ההחלטה של בדיקת השערה מסוימת ובעקבותיו אזור דחיית

$H_0$  קטן. כל שאר הגורמים נשארו ללא שינוי. כתוצאה מכך :

א. הן  $\alpha$ , והן  $(1 - \beta)$ , יקטנו.

ב.  $\alpha$  יישאר ללא שינוי ואילו  $(1 - \beta)$  יגדל.

ג.  $\alpha$  יגדל ואילו  $(1 - \beta)$  יקטן.

ד. הן  $\alpha$  והן  $(1 - \beta)$  יגדלו.

10. ידוע כי לחץ דם תקין באוכלוסייה הוא 120. רופא מניח שלחץ הדם בקרב

עיתונאים גבוה יותר מהממוצע באוכלוסייה. הוא לקח מדגם של 60 עיתונאים

וקיבל ממוצע 137.

על סמך המדגם, הוא בודק טענתו ברמת מובהקות 0.02 ומסיק שלחץ הדם בקרב

העיתונאים אינו גבוה יותר. מה הטעות האפשרית שהרופא עושה ?

א. טעות מסוג ראשון.

ב. טעות מסוג שני.

ג. טעות מסוג שלישי.

ד. אין טעות במסקנתו.



פתרונות :שאלה 1:

א. מעל 6.645

ב. 0.3632

שאלה 2:א. נדחה  $H_0$  אם  $\bar{X} < 2.24$ ב. נדחה  $H_0$ 

ג. 1

שאלה 3:א. נדחה  $H_0$  אם  $\bar{X} > 203.29$  או  $\bar{X} < 196.71$ 

ב. 0.8051

ג. תקטן.

שאלה 4:א. נדחה  $H_0$  אם  $\bar{X} < 48.9$ 

ב. 0.0885

ג. תקטן.

ד. תקטן.

שאלה 6:

ד

שאלה 7:

ג

שאלה 8:

ג

שאלה 9:

א

שאלה 10:

ב

## מובהקות התוצאה ( p-value ) בבדיקת השערות על תוחלת עם שונות ידועה

### רקע:

דרך נוספת להגיע להכרעות שלא דרך כלל הכרעה, היא דרך חישוב מובהקות התוצאה:  
 באמצעות תוצאות המדגם מחשבים את מובהקות התוצאה שמסומן ב-  $p_v$ .  
 את רמת המובהקות החוקר קובע מראש לעומת זאת, את מובהקות התוצאה החוקר יוכל לחשב רק אחרי שיהיו לו את התוצאות.  
 המסקנה של המחקר תקבע לפי העיקרון הבא:

$$\text{אם } p_v \leq \alpha \text{ דוחים את } H_0$$

מובהקות התוצאה זה הסיכוי לקבלת תוצאות המדגם וקיצוני מתוצאות אלה בהנחת השערת האפס.

$$p_v = P_{H_0} \text{ (לקבל את תוצאות המדגם וקיצוני)}$$

אם ההשערה היא דו צדדית :

$$p_v = 2 P_{H_0} \text{ (לקבל את תוצאות המדגם וקיצוני)}$$

מובהקות התוצאה היא גם האלפא המינימלית לדחיית השערת האפס.

$H_0 : \mu = \mu_0$ $H_1 : \mu > \mu_0$	$H_0 : \mu = \mu_0$ $H_1 : \mu < \mu_0$	$H_0 : \mu = \mu_0$ $H_1 : \mu \neq \mu_0$	השערת האפס : השערה אלטרנטיבה :
.5 $\sigma$ ידועה			תנאים :
.6 $X \sim N$ או מדגם מספיק גדול			
$P_{H_0}(\bar{X} \geq \bar{x})$	$P_{H_0}(\bar{X} \leq \bar{x})$	אם $2 \cdot P_{H_0}(\bar{X} \geq \bar{x}) \Leftarrow \bar{x} > \mu_0$ אם $2 \cdot P_{H_0}(\bar{X} \leq \bar{x}) \Leftarrow \bar{x} < \mu_0$	p-value

כאשר בהנחת השערת האפס :  $\bar{X} \sim N(\mu_0, \frac{\sigma^2}{n})$

$$Z_{\bar{x}} = \frac{\bar{x} - \mu_0}{\frac{\sigma}{\sqrt{n}}}$$

**דוגמה:** (פתרון בהקלטה)

המשקל הממוצע של מתגייסים לצבא לפני 20 שנה היה 65 ק"ג. מחקר מעוניין לבדוק האם כיום המשקל הממוצע של מתגייסים גבוה יותר. נניח שמשקל המתגייסים מתפלג נורמאלית עם סטיית תקן של 12 ק"ג. במדגם של 16 מתגייסים התקבל משקל ממוצע של 71 ק"ג.

א. מהי מובהקות התוצאה?

ב. מה המסקנה אם רמת המובהקות היא 5% ואם רמת המובהקות היא 1%?

**תרגילים:**

1. לפניך השערות של מחקר :

$$H_0 : \mu = 70$$

$$H_1 : \mu > 70$$

המשתנה הנחקר מתפלג נורמלית עם סטיית תקן 20. במדגם מאותה אוכלוסייה התקבלו התוצאות הבאות :

$$n = 100$$

$$\bar{x} = 74$$

מהי מובהקות התוצאה?

2. השכר הממוצע במשק בשנת 2012 היה 8800 ₪ עם סטיית תקן 2000. במדגם שנעשה אתמול על 100 עובדים התקבל שכר ממוצע 9500 ₪. מטרת המחקר היא לבדוק האם כיום חלה עליה בשכר. עבור אילו רמות מובהקות שיבחר החוקר יוחלט שחלה עליה בשכר הממוצע במשק?

3. אדם חושד שחברת ממתקים לא עומדת בהתחייבויותיה, ומשקלו של חטיף מסוים אותו הוא קונה מדי בוקר נמוך מ – 100 גרם. חברת הממתקים טוענת מצידה שהיא אכן עומדת בהתחייבויותיה. ידוע כי סטית התקן של משקל החטיף היא 12 גרם. האדם מתכוון לשקול 100 חפיסות חטיפים ולאחר מכן להגיע להחלטה. לאחר הבדיקה הוא קיבל משקל הממוצע של 98.5 גרם.

א. רשמו את השערות המחקר.

ב. מהי רמת המובהקות המינימלית עבורה דוחים את השערת האפס?

ג. מהי רמת המובהקות המקסימלית עבורה נקבל את השערת האפס?

ד. מה המסקנה ברמת מובהקות של 5%?

4. מכונה לחיתוך מוטות במפעל חותכת מוטות באורך שמתפלג נורמלית עם תוחלת אליה כוונה המכונה וסטיית תקן 2 ס"מ. ביום מסוים כוונה המכונה לחתוך מוטות באורך 80 ס"מ. אחראי האיכות מעוניין לבדוק האם המכונה מכוילת. לצורך כך נדגמו מקו הייצור 16 מוטות שנחתכו אורכן הממוצע היה 81.7 ס"מ.

א. מהי רמת המובהקות המינימלית עבורה נכריע שהמכונה לא מכוילת?

ב. אם נוסף עוד תצפית שערכה יהיה 82 ס"מ, כיצד הדבר ישפיע על התשובה של הסעיף הקודם?

ג. הכרע ברמת מובהקות של 5% האם המכונה מכוילת.

5. אם מקבלים בחישובים אלפא מינימלית (P value) קטנה מאוד, סביר להניח כי החוקר ידחה את השערת האפס בקלות. נכון? לא נכון? נמק.
6. בבדיקת השערות התקבל שה-  $p\text{-value}=0.02$ .  
 מה תהיה מסקנת חוקר המשתמש ברמת מובהקות 1%? בחר בתשובה הנכונה.  
 א. יקבל את השערת האפס בכל מקרה.  
 ב. ידחה את השערת האפס מקרה.  
 ג. ידחה את השערת האפס רק אם המבחן הנו דו צדדי.  
 ד. לא ניתן לדעת כי אין מספיק נתונים.
7. מובהקות התוצאה (PV) היא גם : ( בחר בתשובה הנכונה )  
 א. רמת המובהקות המינימאלית לדחות השערת האפס.  
 ב. רמת המובהקות המקסימאלית לדחיית השערת האפס.  
 ג. רמת המובהקות שנקבעת מראש על ידי החוקר טרם קיבל את תוצאות המחקר.  
 ד. רמת המובהקות המינימאלית לאי דחיית השערת האפס.
8. בבדיקת השערות מסוימת התקבל  $p\text{ value}=0.0254$  לכן (בחר בתשובה הנכונה):  
 א. ברמת מובהקות של 0.01 אך לא של 0.05 נדחה את  $H_0$ .  
 ב. ברמת מובהקות של 0.01 ושל 0.05 לא נדחה את  $H_0$ .  
 ג. ברמת מובהקות של 0.05 אך לא של 0.01 נדחה את  $H_0$ .  
 ד. ברמת מובהקות של 0.01 ושל 0.05 נדחה את  $H_0$ .

**פתרונות :****שאלה 1:**

0.0228

**שאלה 2:**

עבור כל רמת מובהקות סבירה.

**שאלה 3:**

ב. 0.1056

ג. 0.1056

ד. נכריע שיש עמידה בהתחייבות של החברה.

**שאלה 4:**

א. 0.0006

ב. יקטן.

ג. נכריע שאין כיוול.

**שאלה 5:**

נכון

**שאלה 6:**

תשובה: א

**שאלה 7:**

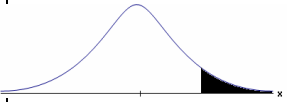
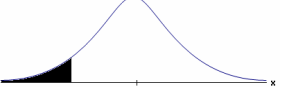
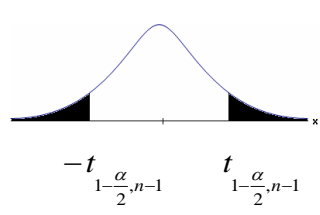
תשובה: א

**שאלה 8:**

תשובה: ג

**בדיקת השערות על תוחלת (ממוצע) כאשר שונות האוכלוסייה אינה ידועה**

**רקע:**

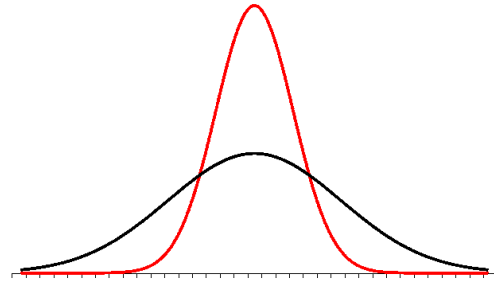
$H_0: \mu = \mu_0$ $H_1: \mu > \mu_0$	$H_0: \mu = \mu_0$ $H_1: \mu < \mu_0$	$H_0: \mu = \mu_0$ $H_1: \mu \neq \mu_0$	<b>השערת האפס:</b> <b>השערה אלטרנטיבית:</b>
7. $\sigma$ אינה ידועה			<b>תנאים:</b>
8. $X \sim N$ או מדגם מספיק גדול			<b>כלל ההכרעה:</b> אזור הדחייה של $H_0$ :
$t_{\bar{x}} > t_{1-\alpha}^{(n-1)}$  $t_{1-\alpha, n-1}$ - דוחים את $H_0$	$t_{\bar{x}} < -t_{1-\alpha}^{(n-1)}$  $-t_{1-\alpha, n-1}$ - דוחים את $H_0$	$t_{\bar{x}} < -t_{1-\frac{\alpha}{2}}^{(n-1)}$ או $t_{\bar{x}} > t_{1-\frac{\alpha}{2}}^{(n-1)}$  $-t_{1-\frac{\alpha}{2}, n-1}$ $t_{1-\frac{\alpha}{2}, n-1}$ - דוחים את $H_0$	<b>כלל ההכרעה:</b> אזור הדחייה של $H_0$ :
$\bar{X} > \mu_0 + t_{1-\alpha}^{n-1} \cdot \frac{S}{\sqrt{n}}$	$\bar{X} < \mu_0 - t_{1-\alpha}^{n-1} \cdot \frac{S}{\sqrt{n}}$	$\bar{X} > \mu_0 + t_{1-\frac{\alpha}{2}}^{n-1} \cdot \frac{S}{\sqrt{n}}$ $\bar{X} < \mu_0 - t_{1-\frac{\alpha}{2}}^{n-1} \cdot \frac{S}{\sqrt{n}}$	<b>חלופה לכלל הכרעה:</b> נדחה $H_0$ אם מתקיים:

סטטיסטי המבחן :

$$t_{\bar{x}} = \frac{\bar{x} - \mu_0}{S / \sqrt{n}}$$

$$S^2 = \frac{\sum_{i=1}^n (X_i - \bar{X})^2}{n-1} = \frac{\sum_{i=1}^n X_i^2 - n\bar{X}^2}{n-1}$$

**התפלגות T:**



הינה התפלגות סימטרית פעמונית שהתוחלת שלה היא 0. ההתפלגות דומה להתפלגות Z רק שהיא יותר רחבה ולכן הערכים שלה יהיו יותר גבוהים. התפלגות T תלויה במושג שנקרא דרגות חופש. דרגות החופש הן  $df=n-1$ . ככל שדרגות החופש עולות ההתפלגות הופכת להיות יותר גבוהה וצרה. כשדרגות החופש שואפות לאינסוף התפלגות T שואפת להיות כמו התפלגות Z.

#### דוגמה: (פתרון בהקלטה)

- מפעל קיבל הזמנה לייצור משטחים בעובי של 0.1 ס"מ.  
 כדי לבדוק האם המפעל עומד בדרישה נדגמו 10 משטחים ונמצא שהעובי הממוצע הוא 0.104 עם אומדן לסטיית תקן 0.002 ס"מ.
- מהן השערות המחקר?
  - מה ההנחה הדרושה לצורך פתרון?
  - בדוק ברמת מובהקות של 5%.



### תרגילים:

1. משך זמן ההחלמה בלקיחת אנטיביוטיקה מסוימת הוא 120 שעות בממוצע עם סטיית תקן לא ידועה. מעוניינים לבדוק האם אנטיביוטיקה אחרת מקטינה את משך זמן ההחלמה. במדגם של 5 חולים שלקחו את האנטיביוטיקה האחרת התקבלו זמני ההחלמה הבאים: 90, 95, 100, 80, 125 שעות. מה מסקנתכם ברמת מובהקות של 5%. מהי ההנחה הדרושה לצורך הפתרון?

2. משרד הבריאות פרסם שמשקל ממוצע של תינוקות ביום היוולדם בישראל 3300 גר'. משרד הבריאות רוצה לחקור את הטענה שנשים מעשנות בזמן ההיריון יולדות תינוקות במשקל נמוך מהממוצע. במחקר השתתפו 20 נשים מעשנות בהריון. להלן תוצאות המדגם שבדק את המשקל של התינוקות בעת הלידה:

$$n = 20$$

$$\bar{x} = 3120$$

$$S = 280$$

מה מסקנתכם ברמת מובהקות של 5% מה יש להניח לצורך פתרון?

3. ציוני מבחן אינטליגנציה מתפלגים נורמלית. בארה"ב ממוצע הציונים הוא 100. במדגם שנעשה על 23 נבחנים ישראלים, התקבל ממוצע ציונים 104.5 וסטיית התקן המדגמית 16. האם בישראל ממוצע הציונים שונה מבארה"ב? הסיקו ברמת מובהקות של 5%.

4. באוכלוסייה מסוימת נדגמו 10 תצפיות והתקבלו התוצאות הבאות:

$$\sum_{i=1}^{10} X_i = 750$$

$$\sum_{i=1}^{10} (X_i - \bar{X})^2 = 900$$

נתון שההתפלגות היא נורמלית.

בדוק ברמת מובהקות של 5% האם התוחלת של ההתפלגות שונה מ-80.

5. ליאור ורוני העלו את אותן השערות על ממוצע האוכלוסייה. כמו כן הם התבססו על אותן תוצאות של מדגם.

ליאור השתמש בטבלה של התפלגות  $Z$ .

רוני השתמשה בטבלה של התפלגות  $t$ .

מה נוכל לומר בנוגע להחלטת המחקר שלהם? בחר בתשובה הנכונה.

א. אם ליאור ידחה את השערת האפס אז גם בהכרח רוני.

ב. אם רוני תדחה את השערת האפס אז גם בהכרח ליאור.

ג. שני החוקרים בהכרח יגיעו לאותה מסקנה.

ד. לא ניתן לדעת על היחס בין דחיית השערת האפס של שני החוקרים.

6. נתון ש  $X \sim N(\mu, \sigma^2)$  כמו כן נתונות ההשערות הבאות :

$$H_0 : \mu = \mu_0$$

$$H_1 : \mu < \mu_0$$

חוקר בדק את ההשערות הללו על סמך מדגם שכלל 10 תצפיות.  $\sigma^2$  לא הייתה ידועה לחוקר. החוקר החליט לדחות את השערת האפס ברמת מובהקות של 5% לאחר מכן כדי לחזק את קביעתו הוא דגם עוד 5 תצפיות ושקלל את תוצאות אלה גם למדגם כך שכלל עכשיו 15 תצפיות.

בחר בתשובה הנכונה :

א. כעת בברור הוא ידחה את השערת האפס.

ב. כעת הוא דווקא יקבל את השערת האפס.

ג. כעת לא ניתן לדעת מה תהיה מסקנתו.

### פתרונות:

לפתרון מלא בסרטון וידאו היכנסו ל- [www.GooL.co.il](http://www.GooL.co.il)

כתב ופתר - ברק קנדל ©

**שאלה 1:** $H_0$  נדחה**שאלה 2:** $H_0$  נדחה**שאלה 3:** $H_0$  נקבל**שאלה 4:** $H_0$  נקבל**שאלה 5:**

התשובה היא : ב

**שאלה 6:**

התשובה היא : ג

## מובהקות התוצאה ( p-value ) כאשר שונות האוכלוסייה לא ידועה

### רקע:

נוכיר שהמסקנה של המחקר תקבע לפי העיקרון הבא :

$$\text{אם } p_v \leq \alpha \text{ דוחים את } H_0$$

מובהקות התוצאה זה הסיכוי לקבלת תוצאות המדגם וקיצוני מתוצאות אלה בהנחת השערת האפס.

$$p_v = P_{H_0} \text{ (לקבל את תוצאות המדגם וקיצוני)}$$

אם ההשערה היא דו צדדית :

$$p_v = 2 P_{H_0} \text{ (לקבל את תוצאות המדגם וקיצוני)}$$

מובהקות התוצאה היא גם האלפא המינימלית לדחיית השערת האפס.

$H_0 : \mu = \mu_0$ $H_1 : \mu > \mu_0$	$H_0 : \mu = \mu_0$ $H_1 : \mu < \mu_0$	$H_0 : \mu = \mu_0$ $H_1 : \mu \neq \mu_0$	השערת האפס : השערה אלטרנטיבה :
.9 $\sigma$ אינה ידועה			תנאים :
.10 $X \sim N$ או מדגם מספיק גדול			
$P_{H_0}(\bar{X} \geq \bar{x})$	$P_{H_0}(\bar{X} \leq \bar{x})$	אם $2 \cdot P_{H_0}(\bar{X} \geq \bar{x}) \leftarrow \bar{x} > \mu_0$ אם $2 \cdot P_{H_0}(\bar{X} \leq \bar{x}) \leftarrow \bar{x} < \mu_0$	p-value

$$t_{\bar{x}} = \frac{\bar{x} - \mu_0}{\frac{S}{\sqrt{n}}}$$

$$S^2 = \frac{\sum_{i=1}^n (X_i - \bar{X})^2}{n-1} = \frac{\sum_{i=1}^n X_i^2 - n\bar{X}^2}{n-1}$$

$$d.f = n - 1$$

**דוגמה :** (פתרון בהקלטה)

ממוצע זמן הנסיעה של אדם לעבודה הינו 40 דקות. הוא מעוניין לבדוק דרך חלופית שאמורה להיות יותר מהירה. לצורך כך הוא דוגם 5 ימים שבהם הוא נוסע בדרך החלופית. זמני הנסיעה שקיבל בדקות הם : 27,34,32,40,30 . הנח שזמן הנסיעה מתפלג נורמלית.

א. רשום את השערות המחקר.

ב. מצא חסמים למובהקות התוצאה.

ג. מה המסקנה ברמת מובהקות של 5% ?

**תרגילים :**

1. קו ייצור אריזות סוכר נארזות כך שהמשקל הממוצע של אריזות הסוכר צריך להיות אחד קילוגרם. בכל יום דוגמים מקו הייצור 5 אריזות במטרה לבדוק האם קו הייצור תקין. בבדיקה דגמו 5 אריזות סוכר ולהלן משקלן בגרמים:
- $$1008, 1024, 996, 1005, 997$$
- א. רשמו את השערות המחקר.  
 ב. מהי מובהקות התוצאה? הצג חסמים.  
 ג. מה המסקנה ברמת מובהקות של 5%?
2. חוקר בדק את הטענה כי פועלים העובדים במשמרת לילה איטיים יותר מפועלים העובדים ביום. ידוע כי משך הזמן הממוצע הדרוש לייצר מוצר מסוים ביום הוא 6 שעות. במדגם מיקרי של 25 פועלים שעבדו במשמרת לילה נמצא כי הזמן הממוצע לייצר אותו מוצר הוא 7 שעות עם סטית תקן של 3 שעות.  
 מהי ה- $\alpha$  המינימלית שלפיה ניתן להחליט שאכן העובדים במשמרת לילה איטיים יותר?
3. הגובה של מתגייסים לצה"ל מתפלג נורמלית. במדגם של 25 מתגייסים מדדו את הגבהים שלהם בס"מ והתקבלו התוצאות הבאות:
- $$\bar{x} = 176.2$$
- $$\sum (x_i - \bar{x})^2 = 2832$$
- מטרת המחקר היא לבדוק האם תוחלת הגבהים של המתגייסים גבוה מ-174 ס"מ באופן מובהק. מהי בקרוב מובהקות התוצאה ועל פיה מה תהיה המסקנה ברמת מובהקות של 6%?

**פתרונות :**

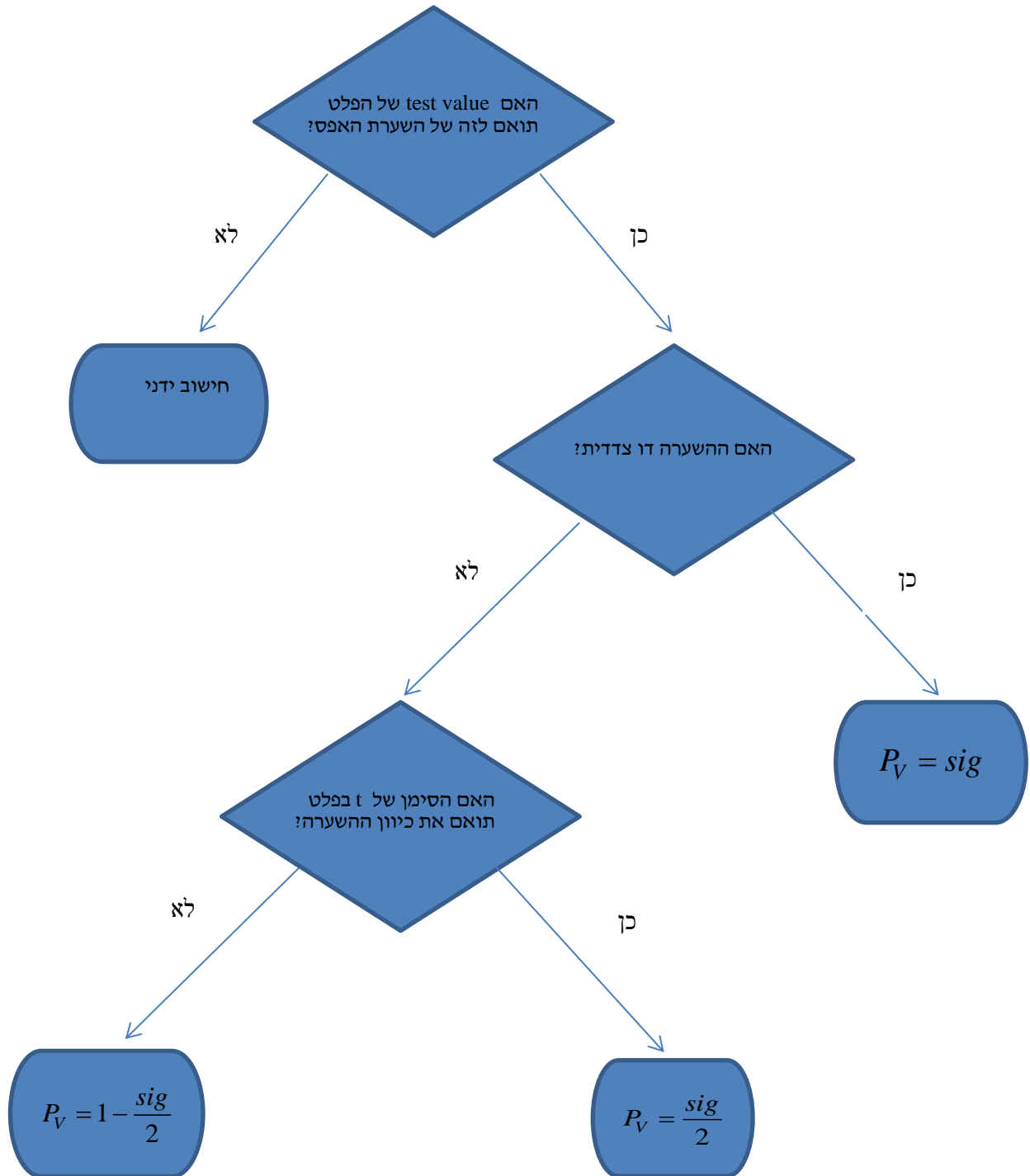
**שאלה 3:**

נקבל  $H_0$

## ניתוח פלטי SPSS

רקע:

חישוב מובהקות התוצאה באמצעות פלט תוכנת SPSS





**דוגמה:** (פתרון בהקלטה)

**One-Sample Statistics**

	N	Mean	Std. Deviation	Std. Error Mean
×	25	87.6400	64.90434	12.98087

**One-Sample Test**

	Test Value = 60					
	t	df	Sig. (2-tailed)	Mean Difference	95% Confidence Interval of the Difference	
					Lower	Upper
×	2.129	24	.044	27.64000	.8488	54.4312

ממוצע הציונים במבחן המיצב בחשבון הוא 60. הוחלט לדגום כיתה אקראית של 25 תלמידים וללמד אותם בשיטת לימוד חדשה.

א. מהו רווח הסמך לממוצע הציונים בחשבון אם יוחלט ליישם את שיטת הלימוד החדשה?

ב. מהו  $P_V$  לבדיקת יעילותה של שיטת הלימוד החדשה?

ג. מה יוכרע ברמת מובהקות של 5% לגבי יעילותה של שיטת הלימוד החדשה?

**תרגילים :**

1. באוניברסיטה גדולה גיל הסטודנטים לתואר ראשון מתפלג נורמאלי. בעבר פורסם שהגיל הממוצע של הסטודנטים הינו 23. להלן פלט תוכנת SPSS על מדגם של 16 סטודנטים אקראיים מתואר ראשון:

**One-Sample Statistics**

	N	Mean	Std. Deviation	Std. Error Mean
age	16	23.4375	2.50250	.62562

**One-Sample Test**

	Test Value = 23					
	t	df	Sig. (2-tailed)	Mean Difference	95% Confidence Interval of the Difference	
					Lower	Upper
age	.699	15	.495	.43750	-.8960	1.7710

- א. מהו המבחן הסטטיסטי שנעשה כאן?  
 ב. מה ערכו של הפרמטר לפי השערת האפס?  
 ג. רשום רווח סמך ברמת סמך של 95% לתוחלת גיל הסטודנטים באוניברסיטה לתואר ראשון.  
 ד. בדוק ברמת מובהקות של 5% האם הגיל הממוצע כיום שונה מבעבר?

2. קבוצת ילדים בגיל 6 קיבלה משימה לביצוע. עבור כל ילד בדקו כמה זמן לקח לו לסיים את המשימה בדקות. להלן תוצאות הניתוח הסטטיסטי:

**One-Sample Test**

	Test Value = 4.5					
	t	df	Sig. (2-tailed)	Mean Difference	95% Confidence Interval of the Difference	
					Lower	Upper
time	-1.853	24	.076	-.09200	-.1944	.0104

- א. כמה ילדים השתתפו במחקר?  
 ב. מצא רווח סמך ברמת סמך של 95% לתוחלת זמן ביצוע המשימה עבור ילדים בני 6.  
 ג. מה יש להניח כדי שרווח הסמך מסעיף א' יהיה תקף?  
 ד. בדוק ברמת מובהקות של 5% שזמן ביצוע המשימה הממוצע נמוך מ-4.5 דקות.

3. לפניך פלט מחשב עבור ניתוח סטטיסטי שנעשה בתוכנת SPSS. הניתוח הוא עבור מדגם אקראי של קבוצת נבחנים בבגרות באנגלית.

#### One-Sample Statistics

	N	Mean	Std. Deviation	Std. Error Mean
grade	???	???	19.62787	2.95901

#### One-Sample Test

	Test Value = 75					
	t	df	Sig. (2-tailed)	Mean Difference	95% Confidence Interval of the Difference	
					Lower	Upper
grade	???	43	.017	-7.34091	-13.3083	???

א. השלם את הגדלים החסרים המסומנים בסמני שאלה בפלט.

ב. מהי מובהקות התוצאה לבדיקת ההשערה שהתוחלת של הציונים שונה מ-75?

ג. מהי מובהקות התוצאה לבדיקת ההשערה שהתוחלת של הציונים קטנה מ-75?

ד. מהי מובהקות התוצאה לבדיקת ההשערה שהתוחלת של הציונים גדולה מ-75?

4. יצרן סיגריות מפרסם כי תוחלת הניקוטין בסיגריות שהוא מיצר קטנה מ- 27 מ"ג. בבדיקה מקרית של 5 סיגריות מתוצרתו נמצאו כמויות הניקוטין הבאות:  
21, 21, 20, 24, 22 מ"ג. הנח כי כמות הניקוטין בסיגריות מפולג נורמאלי.

#### One-Sample Statistics

	N	Mean	Std. Deviation	Std. Error Mean
nicotine	5	21.6000	1.51658	.67823

#### One-Sample Test

	Test Value = 27					
	t	df	Sig. (2-tailed)	Mean Difference	95% Confidence Interval of the Difference	
					Lower	Upper
nicotine	-7.962	4	.001	-5.40000	-7.2831	-3.5169

א. האם ברמת מובהקות של 5% ניתן להסיק שיש אמת בפרסום?

ב. אם הינו מוסיפים עוד תצפית שערכה 20. כיצד הדבר היה משפיע על הערך Sig ועל המסקנה?

ג. בדוק האם ניתן להגיד שתוחלת רמת הניקוטין שונה מ- 26 ברמת מובהקות של 5%.

**פתרונות :****שאלה 1:**

ב. 23

ג. (22.104, 24.771)

ד.  $H_0$  נקבל**שאלה 2:**

א. 25

ב. (4.3056, 4.5104)

ד.  $H_0$  נדחה**שאלה 3**א.  $n = 44$ 

$$\bar{X} = 67.66$$

$$t = -2.48$$

$$upper = -1.3735$$

ב. 0.017

ג. 0.0085

ד. 0.9915

**שאלה 4:**

א. נכריע שיש אמת בפרסום.

ב. מסקנה לא תשתנה.

ג. נכריע שהתוחלת שונה מ-26.

## הקשר בין רווח סמך לבדיקת השערות על תוחלת

### רקע:

ניתן לבצע בדיקת השערות דו צדדית ברמת מובהקות  $\alpha$  על  $\mu$ :

$$H_0 : \mu = \mu_0$$

$$H_1 : \mu \neq \mu_0$$

על ידי בניית רווח סמך ברמת סמך של  $1-\alpha$  ל  $\mu$ :

אם  $\mu_0$  נופל ברווח  $\leftarrow$  נקבל את  $H_0$

אם  $\mu_0$  לא נופל ברווח  $\leftarrow$  נדחה את  $H_0$

### דוגמה: (פתרון בהקלטה)

חוקר ביצע בדיקת השערות לתוחלת. להלן השערותיו:

$$H_0 : \mu = 80$$

$$H_1 : \mu \neq 80$$

$$\alpha = 5\%$$

החוקר בנה רווח סמך ברמה של 90% וקיבל:  $79 < \mu < 84$ .

האם אפשר לדעת מה מסקנתו, ואם כן מהי?

**תרגילים :**

1. חוקר רצה לבדוק את ההשערות הבאות :

$$H_0 : \mu = 90$$

$$H_1 : \mu \neq 90$$

החוקר בנה רווח סמך לתוחלת ברמת סמך של 95% וקיבל את רווח הסמך הבא : (87,97).  
אם החוקר מעוניין לבצע בדיקת השערות ברמת מובהקות של 1% האם ניתן להגיע למסקנה ע"ס רווח הסמך? נמקו.

2. חוקר מעוניין לבדוק השפעת דיאטה חדשה על רמת הסוכר בדם. ידוע כי מספר מיליגרם הסוכר בסמ"ק דם הוא משתנה מקרי שמתפלג נורמלית עם סטיית תקן 10.4 מ"ג. נלקח מדגם של 60 נבדקים שניזונו מדיאטה זו. נמצא כי ממוצע מספר המיליגרם סוכר היה 115.5 מ"ג לסמ"ק.

א. בנה רווח סמך ברמת סמך 95% לתוחלת רמת הסוכר בדם אצל הניזונים מדיאטה זו.  
ב. ידוע שתוחלת רמת הסוכר בדם באוכלוסייה היא 90 מ"ג לסמ"ק. האם לדעתך ניתן להסיק על סמך תוצאת סעיף א שהדיאטה משפיעה על רמת הסוכר בדם? הסבר.

3. יצרן אנטיביוטיקה רושם על גבי התרופות שכמות הפנצלין היא 200 מ"ג לקפסולה. משרד הבריאות ביצע מדגם של 8 קפסולות אקראיות מקו הייצור ומצא שבממוצע יש 196 מ"ג פנצלין לקפסולה עם סטיית תקן מדגמית של 5 מ"ג. בהנחה וכמות הפנצלין בקפסולה מתפלגת נורמלית.

א. בנה רווח סמך ברמת סמך של 95% לממוצע כמות הפנצלין לקפסולה המיוצרת על ידי יצרן האנטיביוטיקה.  
ב. בדוק ברמת מובהקות של 5% האם יש אמת באינפורמציה המסופקת על ידי היצרן.

**פתרונות :****שאלה 1:**

1. נקבל השערת  $H_0$

**שאלה 2:**

א.  $112.87 \leq \mu \leq 118.13$

ב. נכריע שהדיאטה משפיעה על תוחלת רמת הסוכר בדם.

**שאלה 3:**

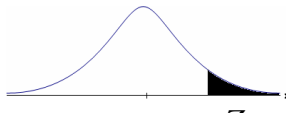


א.  $191.8 \leq \mu \leq 200.2$

ב. נכריע שיש אמת בפרסום.

## פרק 25 - בדיקת השערות על פרופורציה

### התהליך

#### רקע:

$H_0 : p = p_0$ $H_1 : p > p_0$	$H_0 : p = p_0$ $H_1 : p < p_0$	$H_0 : p = p_0$ $H_1 : p \neq p_0$	<b>השערת האפס :</b> <b>השערה אלטרנטיבית:</b>
$np_0 \geq 5 \ \& \ n(1-p_0) \geq 5$			<b>תנאים:</b>
$Z_{\hat{p}} > Z_{1-\alpha}$  $Z_{1-\alpha}$ <b>- דוחים את <math>H_0</math></b>	$Z_{\hat{p}} < -Z_{1-\alpha}$  $-Z_{1-\alpha}$ <b>- דוחים את <math>H_0</math></b>	או $Z_{\hat{p}} < -Z_{1-\frac{\alpha}{2}}$ $Z_{\hat{p}} > Z_{1-\frac{\alpha}{2}}$  $-Z_{1-\frac{\alpha}{2}}$ $Z_{1-\frac{\alpha}{2}}$ <b>- דוחים את <math>H_0</math></b>	<b>כלל ההכרעה:</b> אזור הדחייה של :

#### סטטיסטי המבחן :

$$Z_{\hat{p}} = \frac{\hat{p} - p_0}{\sqrt{\frac{p_0(1-p_0)}{n}}}$$

#### חלופה אחרת לכלל הכרעה:

$\hat{p} > p_0 + Z_{1-\alpha} \cdot \sqrt{\frac{p_0(1-p_0)}{n}}$	$\hat{p} < p_0 - Z_{1-\alpha} \cdot \sqrt{\frac{p_0(1-p_0)}{n}}$	$\hat{p} > p_0 + Z_{1-\alpha/2} \cdot \sqrt{\frac{p_0(1-p_0)}{n}}$ או $\hat{p} < p_0 - Z_{1-\alpha/2} \cdot \sqrt{\frac{p_0(1-p_0)}{n}}$	<b>כלל</b> <b>ההכרעה:</b> אזור הדחייה של $H_0$
--	--	--	--



**דוגמה:** (פתרון בהקלטה)

בחודש ינואר השנה פורסם שאחוז האבטלה במשק הוא 8% במדגם עכשווי התקבל שמתוך 200 אנשים 6.5% מובטלים. בדקו ברמת מובהקות של 5% האם כיום אחוז האבטלה הוא כמו בתחילת השנה.

**תרגילים:**

1. במשך שנים אחוז המועמדים שהתקבל לפקולטה מסוימת היה 25%. השנה מתוך מדגם של 120 מועמדים התקבלו 22. ברמת מובהקות של 5% האם השנה הקשו על תנאי הקבלה?
2. במדגם של 300 אזרחים 57% מתנגדים להצעת חוק מסוימת. לאור נתונים אלה האם רוב האזרחים מתנגדים להצעת החוק? בדקו ברמת מובהקות של 10%.
3. הטילו מטבע 50 פעמים וקיבלו 28 פעמים עץ. האם המטבע הוגן ברמת מובהקות של 5%?
4. קפיטריה במכללה מסוימת מעריכה כי אחוז הסטודנטים שקונים קפה בקפיטריה הינו 20%. נערך סקר אשר כלל 200 סטודנטים. התברר כי 33 מהם רוכשים קפה בקפיטריה. מטרת הסקר הייתה לבדוק את אמיתות הערכה של הקפיטריה.
  - א. רשמו את ההשערות.
  - ב. בדוק את ההשערות ברמת מובהקות של 10%.
  - ג. מה תהיה המסקנה אם נקטין את רמת המובהקות?
5. חבר כנסת רוצה להעביר חוק. לצורך כך הוא דוגם 400 אזרחים במטרה לבדוק האם רוב האזרחים תומכים בחוק. במדגם התקבל ש-276 אזרחים תומכים בחוק.
  - א. מה מסקנתכם ברמת מובהקות של 5%?
  - ב. האם ניתן לדעת מה תהיה המסקנה אם רמת המובהקות תהיה גדולה יותר? הסבירו.
6. שני חוקרים בדקו את ההשערות הבאות:
 
$$H_0 : p = p_0$$

$$H_1 : p > p_0$$

חוקר א השתמש ברמת מובהקות  $\alpha_1$  וחוקר ב ברמת מובהקות  $\alpha_2$  החוקר הראשון דחה את  $H_0$  ואילו החוקר השני קיבל את  $H_0$ . שניהם התבססו על אותם תוצאות של מדגם. בחר בתשובה הנכונה:

  - א.  $\alpha_1 = \alpha_2$
  - ב.  $\alpha_1 > \alpha_2$
  - ג.  $\alpha_1 < \alpha_2$
  - ד. המצב המתואר לא אפשרי.

**פתרונות :****שאלה 1:** $H_0$  נדחה**שאלה 2:** $H_0$  נדחה**שאלה 3:** $H_0$  נקבל**שאלה 4:**ב. נקבל  $H_0$ 

ג. המסקנה לא תשתנה.

**שאלה 5:**א. נדחה  $H_0$ 

ב. המסקנה לא תשתנה.

**שאלה 6:**

התשובה היא : ג.

סיכוי לטעויות ועוצמהרקע:

	הכרעה		
		H0	H1
מציאות	H0	אין טעות	טעות מסוג 1
	H1	טעות מסוג 2	אין טעות

נגדיר את ההסתברויות הבאות:הסיכוי לבצע טעות מסוג 1 ( רמת מובהקות ):

$$\alpha = P(H_0 \text{ לדחות את } H_0) = P_{H_0}(H_0 \text{ לדחות})$$

הסיכוי לבצע טעות מסוג 2:

$$\beta = P(H_0 \text{ לקבל את } H_1) = P_{H_1}(H_0 \text{ לקבל})$$

רמת בטחון:

$$(1-\alpha) = P(H_0 \text{ לקבל את } H_0) = P_{H_0}(H_0 \text{ לקבל})$$

עוצמה:

$$\pi = (1-\beta) = P(H_1 \text{ לדחות את } H_0) = P_{H_1}(H_0 \text{ לדחות})$$

התהליך לחישוב סיכוי לטעות מסוג שני:לפתרון מלא בסרטון וידאו היכנסו ל- [www.GooL.co.il](http://www.GooL.co.il)

© כתב ופתר - ברק קנדל

$H_0 : p = p_0$ $H_1 : p > p_0$	$H_0 : p = p_0$ $H_1 : p < p_0$	$H_0 : p = p_0$ $H_1 : p \neq p_0$	השערת האפס : השערה אלטרנטיבית :
$np_0 \geq 5 \ \& \ n(1-p_0) \geq 5$			תנאים :
$\hat{p} > p_0 + Z_{1-\alpha} \cdot \sqrt{\frac{p_0(1-p_0)}{n}}$	$\hat{p} < p_0 - Z_{1-\alpha} \cdot \sqrt{\frac{p_0(1-p_0)}{n}}$	$\hat{p} > p_0 + Z_{1-\alpha/2} \cdot \sqrt{\frac{p_0(1-p_0)}{n}}$ או $\hat{p} < p_0 - Z_{1-\alpha/2} \cdot \sqrt{\frac{p_0(1-p_0)}{n}}$	כלל ההכרעה : אזור הדחייה של $H_0$
$P_{H_1}(\hat{p} < p_0 + Z_{1-\alpha} \cdot \sqrt{\frac{p_0(1-p_0)}{n}})$	$P_{H_1}(\hat{p} > p_0 - Z_{1-\alpha} \cdot \sqrt{\frac{p_0(1-p_0)}{n}})$	$P_{H_1}(p_0 - Z_{1-\alpha/2} \cdot \sqrt{\frac{p_0(1-p_0)}{n}} < \hat{p} < p_0 + Z_{1-\alpha/2} \cdot \sqrt{\frac{p_0(1-p_0)}{n}})$	חישוב $\beta$ :

כאשר :  $\hat{P} \sim N(p, \frac{p(1-p)}{n})$

והתקנון :  $Z_{\hat{p}} = \frac{\hat{p} - p}{\sqrt{\frac{p(1-p)}{n}}}$

**דוגמה:** (פתרון בהקלטה)

רופאי שיניים טוענים שיותר ממחצית האוכלוסייה הבוגרת בארץ אינם מבקרים אצל רופא שיניים באופן קבוע, כנדרש. כדי לבדוק טענה זו, נערך סקר בקרב 150 אנשים בוגרים.

א. רשמו את ההשערות וכלל הכרעה ברמת מובהקות של 10%.

ב. מהי עוצמת המבחן אם מסתבר ש 60% מהאוכלוסייה אינם מבקרים אצל רופא שיניים באופן קבוע.

### תרגילים:

1. משרד הבריאות פרסם ש 10% מתושבי המדינה סובלים ממחלת האסטמה. מחקר דורש לבדוק האם בחיפה, בגלל זיהום האוויר, שיעור הסובלים מאסטמה גבוה יותר. לצורך המחקר נבדקו 260 מתושבי חיפה.
  - א. רשמו את השערות המחקר, וצרו מבחן ברמת מובהקות של 5% לבדיקתן.
  - ב. מהי עצמת המבחן של סעיף א' בהנחה ובחיפה 16% מהתושבים סובלים מאסטמה?
  - ג. כיצד תשנה התשובה לסעיף ב' אם מסתבר שבחיפה 18% סובלים מאסטמה?
  - ד. בהמשך לסעיף א' האם נכון לומר שבהסתברות של 5% ההשערה שבחיפה 10% מהתושבים סובלים מאסטמה אינה נכונה?
  
2. אחוז הסובלים מתופעות הלוואי מתרופה מסוימת הוא 15%. חברת תרופות טוענת שפיתחה תרופה שאמורה לצמצם את אחוז הסובלים מתופעות לוואי. לצורך בדיקת הטענה הוחלט לבצע מחקר שיכלול 120 חולים שיקבלו את התרופה הנבדקת.
  - א. נניח שהתרופה נבדקת אכן מורידה את פרופורציות הסובלים מתופעות הלוואי ל-10% מהי עצמת המבחן עבור רמת מובהקות של 5%?
  
3. בעיר מסוימת היו 20% אקדמאים. בעקבות פתיחת מכללה בעיר לפני כמה שנים מעוניינים לבדוק האם אחוז האקדמאים גדל. מעוניינים שהמחקר יכלול 200 אנשים והוא יהיה ברמת מובהקות של 5%.
  - א. חשבו את הסיכוי לבצע טעות מסוג שני בהנחה והיום יש 28% אקדמאים.
  - ב. כיצד התשובה לסעיף הקודם תשתנה אם נגדיל את רמת המובהקות?
  
4. מעוניינים לבדוק האם בפקולטה מסוימת ישנה העדפה לגברים. הוחלט לדגום 200 מתקבלים ועל סמך מספר הבנים לקבוע אם טענת המחקר מתקבלת.
 

חוקר א' קבע רמת מובהקות של 5% וחוקר ב' החליט לקבל את טענת המחקר אם במדגם יהיו לפחות 120 בנים. למי מבין החוקרים רמת מובהקות גדולה יותר?
  
5. חוקר ביצע מחקר ובו עשה טעות מסוג שני לכן ( בחר בתשובה הנכונה )
  - א. השערת האפס נכונה.
  - ב. השערת האפס נדחתה.
  - ג. השערת האפס לא נדחתה.
  - ד. אף אחת מהתשובות לא נכונה בהכרח.
  
6. קבע אם הטענה הבאה נכונה:
 

"בבדיקת השערות לא ניתן לבצע בו זמנית טעות מסוג ראשון וטעות מסוג שני"

### פתרונות:

**שאלה 1:**

ב. 0.9015

ג. תגדל

ד. טענה לא נכונה.

**שאלה 2:**

0.4404

**שאלה 3:**

א. 0.1446

ב. תקטן.

**שאלה 4:**

חוקר א.

**שאלה 5:**

התשובה הנכונה היא ג.

**שאלה 6:**

נכונה.



### מובהקות התוצאה

#### רקע:

דרך נוספת להגיע להכרעות שלא דרך כלל הכרעה, היא דרך חישוב מובהקות התוצאה: באמצעות תוצאות המדגם מחשבים את מובהקות התוצאה שמסומן ב-  $p_v$ . את רמת המובהקות החוקר קובע מראש לעומת זאת, את מובהקות התוצאה החוקר יוכל לחשב רק אחרי שיהיו לו את התוצאות. המסקנה של המחקר תקבע לפי העיקרון הבא:

$$\text{אם } p_v \leq \alpha \text{ דוחים את } H_0$$

מובהקות התוצאה זה הסיכוי לקבלת תוצאות המדגם וקיצוני מתוצאות אלה בהנחת השערת האפס.

$$p_v = P_{H_0} \text{ (לקבל את תוצאות המדגם וקיצוני)}$$

אם ההשערה היא דו צדדית :

$$p_v = 2 P_{H_0} \text{ (לקבל את תוצאות המדגם וקיצוני)}$$

מובהקות התוצאה היא גם האלפא המינימלית לדחיית השערת האפס.

$H_0 : p = p_0$ $H_1 : p > p_0$	$H_0 : p = p_0$ $H_1 : p < p_0$	$H_0 : p = p_0$ $H_1 : p \neq p_0$	<b>השערת האפס :</b> <b>השערה אלטרנטיבית:</b>
$np_0 \geq 5 \ \& \ n(1 - p_0) \geq 5$			<b>תנאים:</b>
$P_{H_0}(\hat{P} \geq \hat{p})$	$P_{H_0}(\hat{P} \leq \hat{p})$	אם $2 \cdot P_{H_0}(\hat{P} \geq \hat{p}) \Leftarrow \hat{p} > p_0$ אם $2 \cdot P_{H_0}(\hat{P} \leq \hat{p}) \Leftarrow \hat{p} < p_0$	<b>p-value</b>

$$\hat{P} \sim N\left(p_0, \frac{p_0(1-p_0)}{n}\right) : \text{כאשר בהנחת השערת האפס}$$

והתקנון:

$$Z_{\hat{p}} = \frac{\hat{p} - p_0}{\sqrt{\frac{p_0(1-p_0)}{n}}}$$

**דוגמה:** (פתרון בהקלטה)

ישנה טענה שיש הבדל בין אחוז הבנים ואחוז הבנות הפונים ללמוד להנדסאי מחשבים. לשם כך נלקח מדגם מקרי של 200 תלמידים הלומדים מחשבים והתברר כי 112 מהם בנים.

א. מהי מובהקות התוצאה?

ב. מה המסקנה ברמת מובהקות של 5%?

**תרגילים:**

1. במשך שנים אחוז המועמדים שהתקבל לפקולטה מסוימת היה 25%. השנה מתוך מדגם של 120 מועמדים התקבלו 22. רוצים לבדוק האם השנה הקשו על תנאי הקבלה.
  - א. מהי מובהקות התוצאה?
  - ב. מה תהיה המסקנה ברמת מובהקות של 1% וברמת מובהקות של 5%?
  
2. נהוג לחשוב ש 60% מהילדים בגיל שלוש קמים מהמיטה במהלך הלילה לפחות פעם אחת. ישנה טענה שללא שנת צהריים פחות מ-60% מהילדים בגיל זה יקומו לפחות פעם אחת במהלך הלילה. נדגמו 80 ילדים בגיל 3 אשר אינם ישנים בצהריים מתוכם התקבל ש 41 קמו במהלך הלילה.
  - א. מהי רמת המובהקות המינימלית עבורה תתקבל הטענה במחקר?
  - ב. מהי רמת המובהקות המקסימלית עבורה לא תתקבל טענת המחקר?
  - ג. עבור אילו רמות מובהקות נקבל את טענת המחקר?
  - ד. מה תהיה מסקנת המחקר ברמת מובהקות של 6%?
  
3. במטרה לבדוק האם מטבע הוא הוגן מטילים אותו 80 פעמים. התקבל ש 60 מההטלות הראו עץ. רשמו את השערות המחקר, חשבו את מובהקות התוצאה והסיקו מסקנה ברמת מובהקות של 5%.
  
4. בבדיקת השערות על פרופורציה התקבל שה-  $p\text{-value}=0.02$ .
  - א. יקבל את השערת האפס
  - ב. ידחה את השערת האפס.
  - ג. לא ניתן לדעת כי אין מספיק נתונים.
  
5. קבע אם הטענה הבאה נכונה:
 

"במבחן לבדיקת השערות חד-צדדי התקבל ערך  $p\text{-value}$  של 3% לכן אם היינו מבצעים מבחן דו-צדדי (כאשר יתר הנתונים ללא שינוי) היינו מקבלים ערך  $p\text{-value}$  של 6%"
  
6. במפעל 10% מהעובדים נפגעים לפחות פעם אחת בשנה מתאונות עבודה. לאור זאת, המפעל החליט לצאת בתוכנית לצמצום שיעור הנפגעים. תכנית זו נוסתה על 100 עובדים. מתוכם 12 נפגעו בתאונות עבודה במשך השנה. מהי רמת המובהקות הקטנה ביותר עבורה יוחלט שהתכנית יעילה?

**פתרונות:**

לפתרון מלא בסרטון וידאו היכנסו ל- [www.GooL.co.il](http://www.GooL.co.il)

כתב ופתר - ברק קנדל ©

**שאלה 1:**

א. 0.0455

**שאלה 2:**

א. 0.0548

ב. 0.0548

ג. מעל 0.0548

ד. נכריע לטובת טענת המחקר.

**שאלה 3:**

$$p_v = 0$$

**שאלה 4:**

התשובה הנכונה : ב

**שאלה 5:**


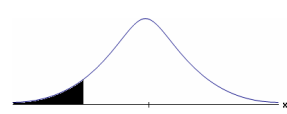

הטענה נכונה

**שאלה 6:**

0.7486

## פרק 26 - בדיקת השערות על הפרש פרופורציות

**רקע:**

$H_0: p_1 - p_2 = 0$ $H_1: p_1 - p_2 > 0$	$H_0: p_1 - p_2 = 0$ $H_1: p_1 - p_2 < 0$	$H_0: p_1 - p_2 = 0$ $H_1: p_1 - p_2 \neq 0$	<b>השערת האפס:</b> <b>השערה אלטרנטיבית:</b>
2. מדגמים גדולים		1. מדגמים בלתי תלויים	<b>תנאים:</b>
$Z_{\hat{p}_1 - \hat{p}_2} > Z_{1-\alpha}$  $Z_{1-\alpha}$ <b>דוחים את <math>H_0</math></b>	$Z_{\hat{p}_1 - \hat{p}_2} < -Z_{1-\alpha}$  $-Z_{1-\alpha}$ <b>דוחים את <math>H_0</math></b>	או $Z_{\hat{p}_1 - \hat{p}_2} < -Z_{1-\frac{\alpha}{2}}$ $Z_{\hat{p}_1 - \hat{p}_2} > Z_{1-\frac{\alpha}{2}}$  $-Z_{1-\frac{\alpha}{2}}$ $Z_{1-\frac{\alpha}{2}}$ <b>דוחים את <math>H_0</math></b>	<b>כלל ההכרעה:</b> <b>אזור הדחייה של:</b>

**סטטיסטי המבחן:**

$$\hat{p} = \frac{y_1 + y_2}{n_1 + n_2} = \frac{n_1 \hat{p}_1 + n_2 \hat{p}_2}{n_1 + n_2} \quad \text{כאשר הפרופורציה המשוקללת:}$$

$$Z_{\hat{p}_1 - \hat{p}_2}_{H_0} = \frac{\hat{p}_1 - \hat{p}_2}{\sqrt{\frac{\hat{p}\hat{q}}{n_1} + \frac{\hat{p}\hat{q}}{n_2}}}$$

**חלופה אחרת לכלל הכרעה:**

$\hat{p}_1 - \hat{p}_2 > 0 + Z_{1-\alpha} \cdot \sqrt{\frac{\hat{p}\hat{q}}{n_1} + \frac{\hat{p}\hat{q}}{n_2}}$	$\hat{p}_1 - \hat{p}_2 < 0 - Z_{1-\alpha} \cdot \sqrt{\frac{\hat{p}\hat{q}}{n_1} + \frac{\hat{p}\hat{q}}{n_2}}$	$\hat{p}_1 - \hat{p}_2 > 0 + Z_{1-\alpha/2} \cdot \sqrt{\frac{\hat{p}\hat{q}}{n_1} + \frac{\hat{p}\hat{q}}{n_2}}$ או $\hat{p}_1 - \hat{p}_2 < 0 - Z_{1-\alpha/2} \cdot \sqrt{\frac{\hat{p}\hat{q}}{n_1} + \frac{\hat{p}\hat{q}}{n_2}}$	<b>כלל ההכרעה:</b> <b>אזור הדחייה של <math>H_0</math></b>
---	---	--	--

$$\hat{p}_1 - \hat{p}_2 \sim N\left(p_1 - p_2, \frac{p_1 \cdot q_1}{n_1} + \frac{p_2 \cdot q_2}{n_2}\right)$$

**התפלגות של  $\hat{p}_1 - \hat{p}_2$ :**

$$Z_{\hat{p}_1 - \hat{p}_2} = \frac{\hat{p}_1 - \hat{p}_2 - (p_1 - p_2)}{\sqrt{\frac{\hat{p}_1 \hat{q}_1}{n_1} + \frac{\hat{p}_2 \hat{q}_2}{n_2}}}$$

**תקנון:**

$$Z_{\hat{p}_1 - \hat{p}_2}_{H_0} = \frac{\hat{p}_1 - \hat{p}_2}{\sqrt{\frac{\hat{p}\hat{q}}{n_1} + \frac{\hat{p}\hat{q}}{n_2}}}$$

**דוגמה:** (פתרון בהקלטה)

[www.Gool.co.il](http://www.Gool.co.il) לפתרון מלא בסרטון וידאו היכנסו ל-

© כתב ופתר - ברק קנדל

נדגמו 80 סטודנטים שנבחנו במיקרו-כלכלה. מתוכם 60 עברו את הבחינה. נדגמו 100 סטודנטים שנבחנו בסטטיסטיקה א'. מתוכם 82 עברו את הבחינה. האם שיעור העוברים את הבחינה בסטטיסטיקה גבוה מאשר מהבחינה במיקרו כלכלה? בדקו ברמת מבוהקות של 10%.

**תרגילים:**

1. במדגם של 200 גברים. 8% מהם היו מובטלים. המדגם של 180 נשים 10% מהן היו מובטלות. האם קיים הבדל מובהק בין פרופורציית המובטלים לפרופורציית המובטלות. בדוק ברמת מובהקות של 5%.
2. אחוז בעלי רישיון נהיגה בקרב האוכלוסייה הבוגרת הינו 60%. במדגם של 300 בוגרים מתל אביב 204 היו בעלי רישיון נהיגה. במדגם של 220 בוגרים מירושלים 100 היו בעלי רישיון נהיגה.
  - א. ברמת מובהקות של 5% האם תקבלו את הטענה שאחוז בעלי הרישיון בתל אביב גבוה מהאחוז הארצי?
  - ב. ברמת מובהקות של 10% האם תקבלו את הטענה שאחוז בעלי הרישיון נהיגה בתל אביב גבוה מאחוז בעלי רישיון הנהיגה בירושלים?
3. נדגמו 500 בוגרים מתוכם 200 גברים והיתר נשים. במדגם התקבל: מתוך הגברים ל-48% תעודת בגרות. מתוך הנשים ל-58% תעודת בגרות. מטרת המחקר היא לבדוק האם שיעור הזכאיות לבגרות גבוה משיעור הזכאים.
  - א. מהי מובהקות התוצאה?
  - ב. מה תהיה המסקנה ברמת מובהקות של 8%?
4. במדגם שנערך על 100 פרות מחוות בדרום הארץ התקבל כי 20 פרות נושאות וירוס מסוים. במדגם שנערך על 200 פרות מחוות בצפון הארץ התקבל כי 10 מתוכן נושאות וירוס גם כן.
  - א. בנו מבחן ברמת מובהקות של 5% לבדיקת הטענה כי הווירוס תקף את פרות הדרום באופן משמעותי יותר מאשר את הפרות בצפון הארץ.
  - ב. מהי המסקנה לבדיקת הטענה של סעיף א ומהי הטעות האפשרית במסקנה?
  - ג. מהי עוצמת המבחן אם שיעור הפרות בדרום עם הווירוס גבוה ב-10% משיעור הפרות בצפון עם הווירוס?
  - ד. כיצד העוצמה תשתנה אם נגדיל את רמת המובהקות?

**פתרונות:**

**שאלה 1:**

לא נדחה את  $H_0$

**שאלה 2:**

א. נדחה  $H_0$

ב. נדחה  $H_0$

**שאלה 3:**

א. 0.0139

ב. נדחה  $H_0$

**שאלה 4:**

ב. נדחה  $H_0$

ג. 0.8238



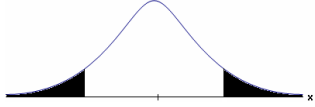
ד. תגדל



## פרק 27 - בדיקת השערות על הפרש תוחלות במדגמים בלתי תלויים

### כשהשונויות של האוכלוסייה ידועות

#### רקע:

$H_0 \mu_1 - \mu_2 = c$ $H_1 \mu_1 - \mu_2 > c$	$H_0 \mu_1 - \mu_2 = c$ $H_1 \mu_1 - \mu_2 < c$	$H_0 \mu_1 - \mu_2 = c$ $H_1 \mu_1 - \mu_2 \neq c$	<b>השערות האפס:</b> <b>השערה אלטרנטיבית:</b>
<b>תנאים:</b> 1. מדגמים בלתי תלויים 2. $\sigma_1, \sigma_2$ ידועות 3. $X_1, X_2 \sim N$ או מדגמים מספיק גדולים			
$Z_{\bar{x}_1 - \bar{x}_2} > Z_{1-\alpha}$  $Z_{1-\alpha}$ - דוחים את $H_0$	$Z_{\bar{x}_1 - \bar{x}_2} < -Z_{1-\alpha}$  $-Z_{1-\alpha}$ - דוחים את $H_0$	$Z_{\bar{x}_1 - \bar{x}_2} > Z_{1-\frac{\alpha}{2}}$ או $Z_{\bar{x}_1 - \bar{x}_2} < -Z_{1-\frac{\alpha}{2}}$  $-Z_{1-\frac{\alpha}{2}}$ $Z_{1-\frac{\alpha}{2}}$ - דוחים את $H_0$	<b>כלל ההכרעה:</b> אזור הדחייה של $H_0$ :

#### סטטיסטי המבחן:

$$Z_{\bar{x}_1 - \bar{x}_2} = \frac{\bar{x}_1 - \bar{x}_2 - c}{\sqrt{\frac{\sigma_1^2}{n_1} + \frac{\sigma_2^2}{n_2}}}$$

#### חלופה אחרת לכלל הכרעה:

$\bar{x}_1 - \bar{x}_2 > c + Z_{1-\alpha} \cdot \sqrt{\frac{\sigma_1^2}{n_1} + \frac{\sigma_2^2}{n_2}}$	$\bar{x}_1 - \bar{x}_2 < c - Z_{1-\alpha} \cdot \sqrt{\frac{\sigma_1^2}{n_1} + \frac{\sigma_2^2}{n_2}}$	$\bar{x}_1 - \bar{x}_2 > c + Z_{1-\alpha/2} \cdot \sqrt{\frac{\sigma_1^2}{n_1} + \frac{\sigma_2^2}{n_2}}$ או $\bar{x}_1 - \bar{x}_2 < c - Z_{1-\alpha/2} \cdot \sqrt{\frac{\sigma_1^2}{n_1} + \frac{\sigma_2^2}{n_2}}$	<b>נדחה <math>H_0</math> אם מתקיים:</b>
---	---	--	---

#### התפלגות הפרש הממוצעים:

$$\bar{x}_1 - \bar{x}_2 \sim N\left(\mu_1 - \mu_2, \frac{\sigma_1^2}{n_1} + \frac{\sigma_2^2}{n_2}\right)$$

#### התקנון:

$$Z_{\bar{x}_1 - \bar{x}_2} = \frac{\bar{x}_1 - \bar{x}_2 - (\mu_1 - \mu_2)}{\sqrt{\frac{\sigma_1^2}{n_1} + \frac{\sigma_2^2}{n_2}}}$$

**דוגמה:** (פתרון בהקלטה)

בשנת 2004 הפער בין השכר הממוצע של הגברים לנשים היה 3000 ₪ לטובת הגברים.  
מעוניינים לבדוק האם כיום הצטמצם הפער בין הגברים לנשים מבחינת השכר הממוצע.  
נדגמו 100 עובדים גברים. שכרם הממוצע היה 9,072 ₪. נדגמו 80 עובדות, שכרן הממוצע היה  
7809 ₪. לצורך פתרון נניח שסטיות התקן של השכר ידועות ושוות ל-2000 ₪ באוכלוסיית הנשים  
ו-3000 ₪ באוכלוסיית הגברים. מה המסקנה ברמת מבוהקות של 5%?

### תרגילים :

1. מחקר טוען שאנשים החיים במרכז הארץ צופים בממוצע בטלוויזיה יותר מאנשים שלא חיים במרכז. נדגמו 100 אנשים מהמרכז ו-107 אנשים לא מהמרכז. אנשים אלו נשאלו כמה שעות ביום הם נוהגים לצפות בטלוויזיה.  
במדגם של מרכז הארץ התקבל ממוצע 2.7 שעות.  
במדגם של מחוץ למרכז הארץ התקבל ממוצע 1.8 שעות.  
לצורך פתרון הניחו שבכל אזור, סטיית התקן היא שעה 1 ביום. בדקו את טענת המחקר ברמת מובהקות של 1%.
2. ציוני פסיכומטרי מתפלגים נורמלית עם סטיית תקן 100. מכון ללימוד פסיכומטרי טוען שהוא יכול לשפר את ממוצע הציונים ביותר מ-30 נקודות. במדגם של 20 נבחנים שניגשו למבחן ללא הכנה במכון התקבל ממוצע 508. במדגם של 25 נבחנים שעברו הכנה במכון התקבל ממוצע ציונים 561. מה מסקנתכם ברמת מובהקות של 5%.
3. במדגם אקראי של 20 ימים נבדקה התפוקה של מפעל ביום. התפוקה הממוצעת הייתה של 340 מוצרים ליום. במדגם אקראי של 20 ימים אחרים נבדקה התפוקה של המפעל בלילה והתפוקה הממוצעת הייתה 295. לצורך פתרון נניח שסטיית התקן של התפוקה ביום היא 40 מוצרים ובלילה 30 מוצרים.  
א. מהי מובהקות התוצאה לבדיקה האם התפוקה הממוצעת היומית גבוהה מהתפוקה הממוצעת הלילית.  
ב. מה תהיה המסקנה ברמת מובהקות של 8%?
4. במחקר מקיף שנעשה באירופה נקבע שגברים גבוהים מנשים ב-8 ס"מ בממוצע.  
מחקר ישראלי מתעניין לבדוק האם בישראל הפער גדול יותר. לצורך המחקר נדגמו 40 גברים ו 40 נשים באקראי. כמו כן, נניח שסטיות התקן של הגברים והנשים ידועות ושוות ל-6 ס"מ אצל הנשים. ו-12 ס"מ אצל הגברים.  
א. מהן השערות המחקר ומהו כלל ההכרעה ברמת מובהקות של 10%?  
ב. אם בישראל הפער בין גברים לנשים מבחינת הגובה הממוצע הוא 11 ס"מ, מה ההסתברות שהמחקר לא יגלה זאת? איך קוראים להסתברות הזאת?

**פתרונות:****שאלה 1:**

נדחה  $H_0$

**שאלה 2:**

לא נדחה את  $H_0$

**שאלה 3:**

א. 0

ב. נדחה  $H_0$

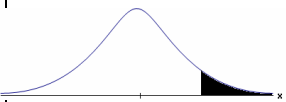


**שאלה 4:**

א. נדחה  $H_0$  אם במדגם הגברים יהיו גבוהים בממוצע מהנשים ביותר מ-10.72 ס"מ.

ב. 0.6331

**בששונות האוכלוסיה לא ידועות ומניחים שהן שוות**

**רקע:**

$H_0 \mu_1 - \mu_2 = c$ $H_1 \mu_1 - \mu_2 > c$	$H_0 \mu_1 - \mu_2 = c$ $H_1 \mu_1 - \mu_2 < c$	$H_0 \mu_1 - \mu_2 = c$ $H_1 \mu_1 - \mu_2 \neq c$	<b>השערת האפס :</b> <b>השערה אלטרנטיבית:</b>
4. מדגמים בלתי תלויים 5. $\sigma_1, \sigma_2$ לא ידועות אך שוות 6. המשתנים בכל אוכלוסייה מתפלגים נורמלית			<b>תנאים:</b>
$t_{\bar{x}_1 - \bar{x}_2} > t_{1-\alpha}^{(n_1+n_2-2)}$  $t_{1-\alpha, n_1+n_2-2}$ - דוחים את $H_0$	$t_{\bar{x}_1 - \bar{x}_2} < -t_{1-\alpha}^{(n_1+n_2-2)}$  $-t_{1-\alpha, n_1+n_2-2}$ - דוחים את $H_0$	או $t_{\bar{x}_1 - \bar{x}_2} < -t_{1-\frac{\alpha}{2}}^{(n_1+n_2-2)}$ או $t_{\bar{x}_1 - \bar{x}_2} > t_{1-\frac{\alpha}{2}}^{(n_1+n_2-2)}$  $-t_{1-\frac{\alpha}{2}, n_1+n_2-2}$ $t_{1-\frac{\alpha}{2}, n_1+n_2-2}$ - דוחים את $H_0$	<b>אזור הדחייה של <math>H_0</math> :</b>

**סטטיסטי המבחן :**

$S_p^2 = \frac{(n_1-1)S_1^2 + (n_2-1)S_2^2}{n_1+n_2-2}$  : השונות המשוקללת

$t_{\bar{x}_1 - \bar{x}_2} = \frac{(\bar{x}_1 - \bar{x}_2) - c}{\sqrt{\frac{S_p^2}{n_1} + \frac{S_p^2}{n_2}}}$

**חלופה אחרת לכלל הכרעה:**

$\bar{x}_1 - \bar{x}_2 > c + t_{1-\alpha}^{(n_1+n_2-2)} \cdot \sqrt{\frac{S_p^2}{n_1} + \frac{S_p^2}{n_2}}$	$\bar{x}_1 - \bar{x}_2 < c - t_{1-\alpha}^{(n_1+n_2-2)} \cdot \sqrt{\frac{S_p^2}{n_1} + \frac{S_p^2}{n_2}}$	או $\bar{x}_1 - \bar{x}_2 > c + t_{1-\frac{\alpha}{2}}^{(n_1+n_2-2)} \cdot \sqrt{\frac{S_p^2}{n_1} + \frac{S_p^2}{n_2}}$ או $\bar{x}_1 - \bar{x}_2 < c - t_{1-\frac{\alpha}{2}}^{(n_1+n_2-2)} \cdot \sqrt{\frac{S_p^2}{n_1} + \frac{S_p^2}{n_2}}$	<b>נדחה <math>H_0</math> אם מתקיים :</b>
---	---	--	--

**דוגמה :** (פתרון בהקלטה)

חברה המייצרת מוצרי בנייה טוענת שפיתחה סגסוגת (תערובת מתכות) שטמפרטורת ההתכה שלה גבוהה משמעותית מטמפרטורת ההתכה של הסגסוגת לבנייה שמשמשים בה כיום לבניית בניינים.

לצורך בדיקת טענת המחקר נדגמו 10 יחידות של מתכות מהסוג הישן ו-12 יחידות של מתכות מהסוג החדש.

**להלן תוצאות המדגם:**

טמפרטורת ההתכה הממוצעת במתכת הישנה 1170 מעלות עם אומד חסר הטיה לשונות  $S^2 = 200$ .

טמפרטורת ההתכה הממוצעת במתכת החדשה 1317 מעלות עם אומד חסר הטיה לשונות  $S^2 = 260$ .

נניח לצורך פתרון שטמפרטורת ההתכה מתפלגת נורמאלית עם אותה שונות במתכות השונות. בדקו ברמת מובהקות של 5%.

**תרגילים:**

לפתרון מלא בסרטון וידאו היכנסו ל- [www.GooL.co.il](http://www.GooL.co.il)

כתב ופתר - ברק קנדל ©

1. להלן נתונים של שטחי דירות מתוך דירות שנבנו בשנת 2012 ובשנת 2013 (מטרים רבועים):

120	94	90	130	95	112	120	2012
	69	74	105	91	82	100	2013

בדקו שבשנת 2013 הייתה ירידה משמעותית בשטחי הדירות לעומת שנת 2012 עבור רמת מובהקות של 5%. הניחו ששטחי הדירות בכל שנה מתפלגים נורמלית עם אותה שונות.

2. נדגמו 15 ישראלים ו-15 אמריקאים. הנדגמים נגשו למבחן IQ. להלן תוצאות המדגם:

מדינה	ישראל	ארה"ב
גודל המדגם	15	15
סכום הציונים	1560	1470
סכום ריבועי הציונים	165,390	147,560

בדקו ברמת מובהקות של 5% האם קיים הבדל של נקודה בין ישראלים לאמריקאים מבחינת ממוצע הציונים במבחן ה-IQ לטובת ישראל. רשמו את כל ההנחות הדרושות לצורך פתרון התרגיל.

3. להלן תוצאות מדגם הבדק אורך חיים של נורות מסוג W60 ומסוג W100. אורך החיים נמדד בשעות.

1-100W	2-60W	הקבוצה
956	1007	$\bar{x}$
72	80	S
15	13	n

א. בדקו ברמת מובהקות של 5% האם נורות מסוג W60 דולקות במוצע יותר מאשר נורות מסוג W100. רשמו את כל ההנחות הדרושות לפתרון.

ב. עבור איזו רמת מובהקות ניתן לקבוע שנורות מסוג W60 דולקות במוצע יותר מאשר נורות מסוג W100?

ג. בדקו ברמת מובהקות של 5% האם נורות מסוג W60 דולקות יותר מ-1000 שעות. רשמו את כל ההנחות הדרושות.

**פתרונות :**

**שאלה 1:**

לא נדחה  $H_0$

**שאלה 2:**

**שאלה 3:**

א. נדחה  $H_0$

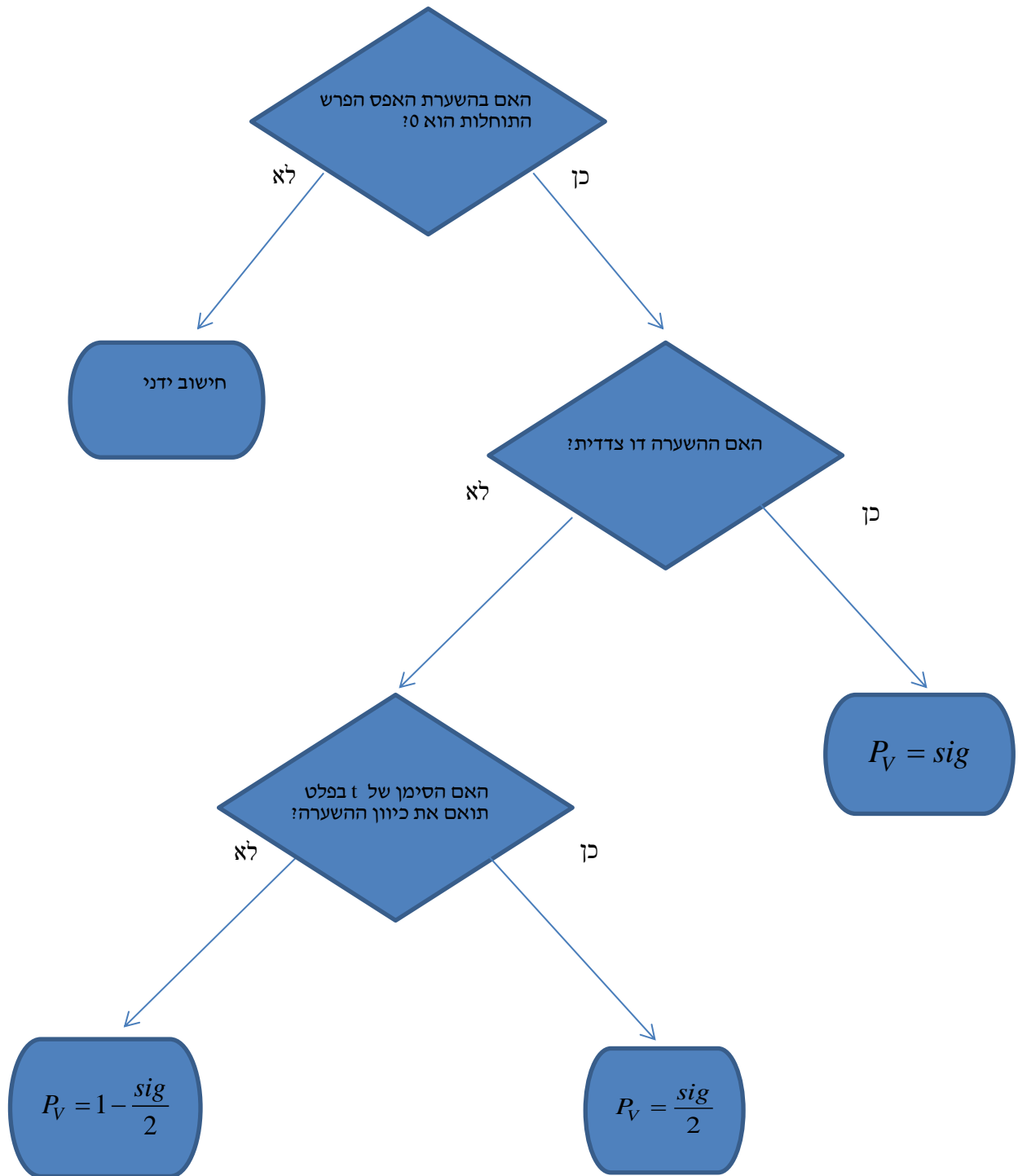
ב. רמות מובהקות של לפחות 5%

ג. לא נדחה  $H_0$



ניתוח פלטים**רקע:**

מובהקות התוצאה על סמך הפלט:

**דוגמה:** (פתרון בהקלטה)לפתרון מלא בסרטון וידאו היכנסו ל- [www.GooL.co.il](http://www.GooL.co.il)

© כתב ופתר - ברק קנדל

בסקר שנערך בארה"ב בשנת 1993 נשאלו נסקרים משני אזורים שונים במדינה על מס' האחים והאחיות שלהם. להלן הפלט שהתקבל:

**Group Statistics**

	Region of the United States	N	Mean	Std. Deviation	Std. Error Mean
Number of Brothers and Sisters	North East	676	3.76	2.939	.113
	South East	410	4.05	2.993	.148

**Independent Samples Test**

		Levene's Test for Equality of Variances		t-test for Equality of Means						
		F	Sig.	t	df	Sig. (2-tailed)	Mean Difference	Std. Error Difference	95% Confidence Interval of the Difference	
									Lower	Upper
Number of Brothers and Sisters	Equal variances assumed	.173	.677	-1.583	1084	.114	-.293	.185	-.657	.070
	Equal variances not assumed			-1.576	850.945	.115	-.293	.186	-.658	.072

- א. מהו המבחן הסטטיסטי שנעשה כאן?
- ב. בדוק ברמת מובהקות של 5% האם קיים שוויון שונויות בין שני האזורים?
- ג. בדוק האם קיים הבדל בין "South East" ל-"North East" ברמת מובהקות של 5% מבחינת מספר האחים והאחיות הממוצע.
- ד. מהי מובהקות התוצאה לבדיקת הטענה שהפרש הממוצע בין-"South East" לבין-"North East" חיובי ?

**תרגילים :**

1. להלן פלט מתוכנת SPSS מתוך מחקר שבחן את רמת האופטימיות של גברים ונשים.  
רמת האופטימיות נמדדה בסקאלת ציונים של 1 עד 5.

**Group Statistics**

	GENDER	N	Mean	Std. Deviation	Std. Error Mean
optimizm	MALE	633	2.6053	.49781	.01979
	FEMALE	568	2.5503	.48483	.02034

**Independent Samples Test**

		Levene's Test for Equality of Variances		t-test for Equality of Means						
		F	Sig.	t	df	Sig. (2-tailed)	Mean Difference	Std. Error Difference	95% Confidence Interval of the Difference	
									Lower	Upper
optimizm	Equal variances assumed	.383	.536	1.935	1199	.053	.05500	.02842	-.00076	?
	Equal variances not assumed			1.938	1190.977	.053	.05500	.02838	-.00068	.11067

- א. האם ניתן להניח ששוונות האופטימיות של נשים וגברים שווה ברמת מובהקות של 5%?  
 ב. ברמת מובהקות של 5% האם קיים הבדל בין הנשים לגברים ברמת האופטימיות הממוצעת שלהם?  
 ג. מצא את הגבול העליון של רווח הסמך המסומן בסימן שאלה בפלט. דייק עד 5 ספרות אחרי הנקודה.  
 ד. בנה רווח סמך לתוחלת רמת האופטימיות של הגברים ברמת סמך של 95%.

2. פסיכולוגים טוענים שאנשים שניגשים למבחן אינטליגנציה יותר מפעם אחת נוטים לקבל ציונים גבוהים יותר.  
להלן הפלט שהתקבל:

### T-Test

#### Group Statistic:

	N	Mean	Std. Deviation	Std. Error Mean
grade A	9	96.8889	9.40006	3.13335
B	11	108.4545	11.46616	3.45718

Independent Samples Test

	Levene's Test for Equality of Variances		t-test for Equality of Means							
	F	Sig.	t	df	Sig. (2-tailed)	Mean Difference	Std. Error Difference	95% Confidence Interval of the Difference		
								Lower	Upper	
grade	Equal variances assumed	.206	.656	-2.428	18	.026	-11.56566	4.76333	-21.57304	-1.55828
	Equal variances not assumed			-2.479	17.997	.023	-11.56566	4.66583	-21.36832	-1.76299

#### מקרא:

A = נגשו פעם אחת.

B = נגשו יותר מפעם אחת.

- רשמו את השערות המחקר והסבירו מהו המבחן המתאים כאן.
  - כיצד הייתה משתנה התשובה לסעיף הקודם אם היה מדובר על אותם אנשים שציונם נבדק פעם אחרי המבחן הראשון שעשו ופעם אחרי המבחן השני?
  - האם ניתן לומר כי מידת הפיזור של ציוני אנשים הנבחנים בפעם הראשונה שונה ממידת הפיזור של ציוני האנשים אשר נבחנים בפעם השנייה. בדוק ברמת מובהקות של  $\alpha=0.05$ .
  - האם נכונה טענת הפסיכולוגים ברמת מובהקות של  $\alpha=0.01$ .
3. כחלק ממחקר בנושא הנישואין בישראל, אחד החוקרים העלה השערה שיש הבדל במוצג גיל הנישואין (הראשונים), בין נשים הגרות בערים מרכזיות לבין נשים הגרות בערים מרוחקות מהמרכז.
- לשם כך נדגמו 50 כלות מכל אחת משתי ערים אי-מרכזית ועיר ב'-מרוחקת ונרשם גילן. תוצאות עיבוד הנתונים מופיעות בטבלאות שלהלן:

## T-Test

Group Statistics

מקום המגורים		N	Mean	Std. Deviation	Std. Error Mean
גיל הנישואין	עיר א	50	24.8072	1.38978	.19654
	עיר ב	50	23.0131	1.62070	.22920

Independent Samples Test

		Levene's Test for Equality of Variances		t-test for Equality of Means						
		F	Sig.	t	df	Sig. (2-tailed)	Mean Difference	Std. Error Difference	95% Confidence Interval of the Difference	
									Lower	Upper
גיל הנישואין	Equal variances assumed	.330	.567	5.942	98	.000	1.79415	.30193	1.19497	2.39332
	Equal variances not assumed			5.942	95.772	.000	1.79415	.30193	1.19480	2.39350

א. מהו המבחן הסטטיסטי שנעשה כאן?

ב. מצא רווח סמך ברמת סמך של 95% להפרש בין עיר א לעיר ב מבחינת גיל הנשים הממוצע בנישואין הראשונים.

ג. האם ניתן לומר ברמת מובהקות של 1% שנשים בערים מרכזיות מתחתנות בגיל מאוחר יותר מאשר נשים הגרות בערים מרוחקות?

4. להלן פלט של תוכנת SPSS :

**T-Test**

	N	Mean	Std. Deviation	Std. Error Mean
X	26	36.3077	13.23259	2.59513
Y	24	46.4583	20.96369	4.27920

**Independent Samples Test**

	Levene's Test for Equality of Variances		t-test for Equality of Means						
	F	Sig.	t	df	Sig. (2-tailed)	Mean Difference	Std. Error Difference	95% Confidence Interval of the Difference	
								Lower	Upper
Equal variances assumed	4.446	.040	-2.164	???	.044	-10.15064	???	-20.03781	-.26347
Equal variances not assumed			-2.038	38.267	.048	???	5.00462	-20.27964	-.02164

א. השלם את סימני השאלה בטבלה.

ב. מהי מובהקות התוצאה לבדיקת הטענה שקיים הבדל בין השונות של X לזה של Y?

ג. מהי מובהקות התוצאה לבדיקת הטענה שהתוחלת של X גדולה מהתוחלת של Y?

ד. מהי מובהקות התוצאה לבדיקת הטענה שהתוחלת של X קטנה מהתוחלת של Y?

**פתרונות:****שאלה 1:**

- א. נכריע שוויון שוניות.  
 ב. נקבע שלא קיים הבדל בין נשים לגברים מבחינת האופטימיות הממוצעת.  
 ג. 0.11076  
 ד.  $2.5665 \leq \mu \leq 2.6441$

**שאלה 2:**

- א. מבחן t למדגמים בלתי תלויים.  
 ב. מבחן t למדגמים מזווגים.  
 ג. נקבע שקיים שוויון שוניות.  
 ד. לא נקבל את טענת הפסיכולוגים.

**שאלה 3:**

- א. מבחן t להשוואת תוחלת במדגמים בלתי תלויים.  
 ב.  $1.19497 \leq \mu_1 - \mu_2 \leq 2.39332$   
 ג. כן.

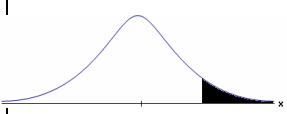

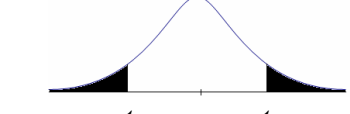
**שאלה 4:**

- א. -10.15, 4.69, 48  
 ב. 0.04  
 ג. 0.978  
 ד. 0.022

**פרק 28 - בדיקת השערות על תוחלת הפרשים במדגמים מזווגים  
(תלויים)**

**בדיקת השערות למדגמים מזווגים**

**רקע:**

$H_0: \mu_D = C$ $H_1: \mu_D > C$	$H_0: \mu_D = C$ $H_1: \mu_D < C$	$H_0: \mu_D = C$ $H_1: \mu_D \neq C$	<b>השערת האפס :</b> <b>השערה אלטרנטיבית:</b>
.7 $\sigma_D$ אינה ידועה			<b>תנאים:</b>
.8 $D \sim N$ או מדגם מספיק גדול			
$t_{\bar{D}} > t_{1-\alpha}^{(n-1)}$  $t_{1-\alpha, n-1}$ - דוחים את $H_0$	$t_{\bar{D}} < -t_{1-\alpha}^{(n-1)}$  $-t_{1-\alpha, n-1}$ - דוחים את $H_0$	$t_{\bar{D}} < -t_{1-\frac{\alpha}{2}}^{(n-1)}$ או $t_{\bar{D}} > t_{1-\frac{\alpha}{2}}^{(n-1)}$  $-t_{1-\frac{\alpha}{2}, n-1}$ $t_{1-\frac{\alpha}{2}, n-1}$ - דוחים את $H_0$	<b>כלל ההכרעה:</b> אזור הדחייה של $H_0$
$\bar{D} > C + t_{1-\alpha}^{n-1} \cdot \frac{S_D}{\sqrt{n}}$	$\bar{D} < C - t_{1-\alpha}^{n-1} \cdot \frac{S_D}{\sqrt{n}}$	$\bar{D} > C + t_{1-\frac{\alpha}{2}}^{n-1} \cdot \frac{S_D}{\sqrt{n}}$ ו $\bar{D} < C - t_{1-\frac{\alpha}{2}}^{n-1} \cdot \frac{S_D}{\sqrt{n}}$	<b>חלופה לכלל הכרעה:</b> נדחה $H_0$ אם מתקיים:

**סטטיסטי המבחן :**

$$t_{\bar{D}} = \frac{\bar{D} - \mu_D}{S_D / \sqrt{n}}$$

$$S_D^2 = \frac{\sum_{i=1}^n (D_i - \bar{D})^2}{n-1} = \frac{\sum_{i=1}^n D_i^2 - n\bar{D}^2}{n-1}$$



**דוגמה :** (פתרון בהקלטה)

חברה שיווקית מעוניינת לבדוק את טענת רשת השיווק "מגה בעיר" הטוענת שמחיריה נמוכים מהמחירים מרשת השיווק "שופרסל".

לצורך בדיקה נבחרו באקראי 4 מוצרים שונים. המחירים נבדקו בשתי הרשתות. להלן המחירים :

שופרסל	מגה בעיר	המוצר
18	17	שמפו
57	48	גיל כביסה
35	35	עוגת גבינה
10	12	לחם
47	49	קפה נמס
142	113	בקבוק יין
26	20	גבינה בולגרית

בהנחה והמחירים מתפלגים נורמאלית בדקו ברמת מובהקות של 5% את טענת רשת "מגה בעיר".

**תרגילים:**

1. במטרה לבדוק האם קיים הבדל בין חברת X לחברת Y מבחינת המחירים לשיחות בינ"ל. נגדמו באקראי 7 מדינות ועבור כל מדינה נבדקה עלות דקת שיחה. להלן התוצאות:

המדינה	X	Y
ארה"ב	1.5	1.4
קנדה	2.1	2
הולנד	2.2	1.9
פולין	3	3.1
מצרים	3.5	3.2
סין	3.2	3.2
יפן	4.2	4.2

- בהנחה והמחירים מתפלגים נורמלית בכל חברה, בדקו ברמת מובהקות של 5% האם קיים הבדל בין החברות מבחינת המחירים במוצע:

2. מכון המכין לפסיכומטרי טוען שהוא מעלה את ממוצע הציונים ביותר מ-30 נקודות. 8 נבחנים נבדקו לפני ואחרי שהם למדו במכון. להלן התוצאות שהתקבלו:

לפני	590	500	390	670	640	420	470	506
אחרי	580	520	510	680	610	430	540	570

- מה מסקנתכם ברמת מובהקות 5%? הניחו שציוני פסיכומטרי מתפלג נורמלית.

3. נדגמו 5 סטודנטים שסיימו את הקורס סטטיסטיקה ב'. להלן הציונים שלהם בסמסטר א' ו- ב':

סטטיסטיקה א	סטטיסטיקה ב
74	80
68	84
90	87
75	76
82	100

- פורסם שתלמידים שמסיימים את סמסטר ב משפרים בממוצע את הציונים ב-5 נקודות לעומת סמסטר א'. הנח שהציונים מתפלגים נורמלית.
- א. מהי מובהקות התוצאה לבדיקת הטענה שהשיפור הוא יותר מ 5 נקודות?
- ב. על סמך הסעיף הקודם, מהי רמת המובהקות המינימלית להכרעה שהשיפור הוא יותר מ- 5 נקודות?
- ג. לאור זאת, מה המסקנה ברמת מובהקות של 10% ?

4. לצורך בדיקת השפעת היפנוזה על לימוד אנגלית, נבחרו 10 זוגות תאומים זהים. אחד התאומים למד אנגלית בהשפעת היפנוזה, והשני ללא היפנוזה. לאחר מכן נערך לשניהם מבחן באנגלית. נניח שציוני המבחן מתפלגים נורמאלית ללא ידיעת השונות האמתית.
- המבחן שיש לבצע כאן הוא:
- א. מבחן Z למדגם יחיד.
- ב. מבחן T למדגם יחיד.
- ג. מבחן T למדגמים בלתי תלויים.
- ד. מבחן T למדגמים מזווגים.

5. בתחנת טיפת חלב מסוימת יש שני מכשירי שקילה. על מנת להשוות בין שני המשקלים נדגמו 4 תינוקות. כל תינוק בן חודשיים נשקל בכל אחד מהמשקלים. להלן תוצאות השקילה (בק"ג):

משקל במכשיר 1	5.4	6.9	7.0	5.2
משקל במכשיר 2	5.3	6.9	7.1	5.0

- נניח שהמשקלים מתפלגים נורמלית.  
 המבחן שיש לבצע כאן הוא:
- מבחן Z למדגם יחיד.
  - מבחן T למדגם יחיד.
  - מבחן T למדגמים בלתי תלויים.
  - מבחן T למדגמים מזווגים.
6. כדי להשוות בין שני אצנים נדגמו 5 תוצאות מריצת 100 מטר של כל אצן. זמני הריצה נרשמו ויש להניח שמתפלגים נורמלית. המטרה להשוות בין האצנים.  
 המבחן שיש לבצע כאן הוא:
- מבחן Z למדגם יחיד.
  - מבחן T למדגם יחיד.
  - מבחן T למדגמים בלתי תלויים.
  - מבחן T למדגמים מזווגים.

**פתרונות:****שאלה 1:**לא נדחה  $H_0$ **שאלה 2:**לא נדחה  $H_0$ **שאלה 3:**א.  $0.1 \leq p \leq 0.25$ 

ב. 0.25

ג. לא נדחה  $H_0$ **שאלה 4:**

התשובה היא ד.

**שאלה 5:**

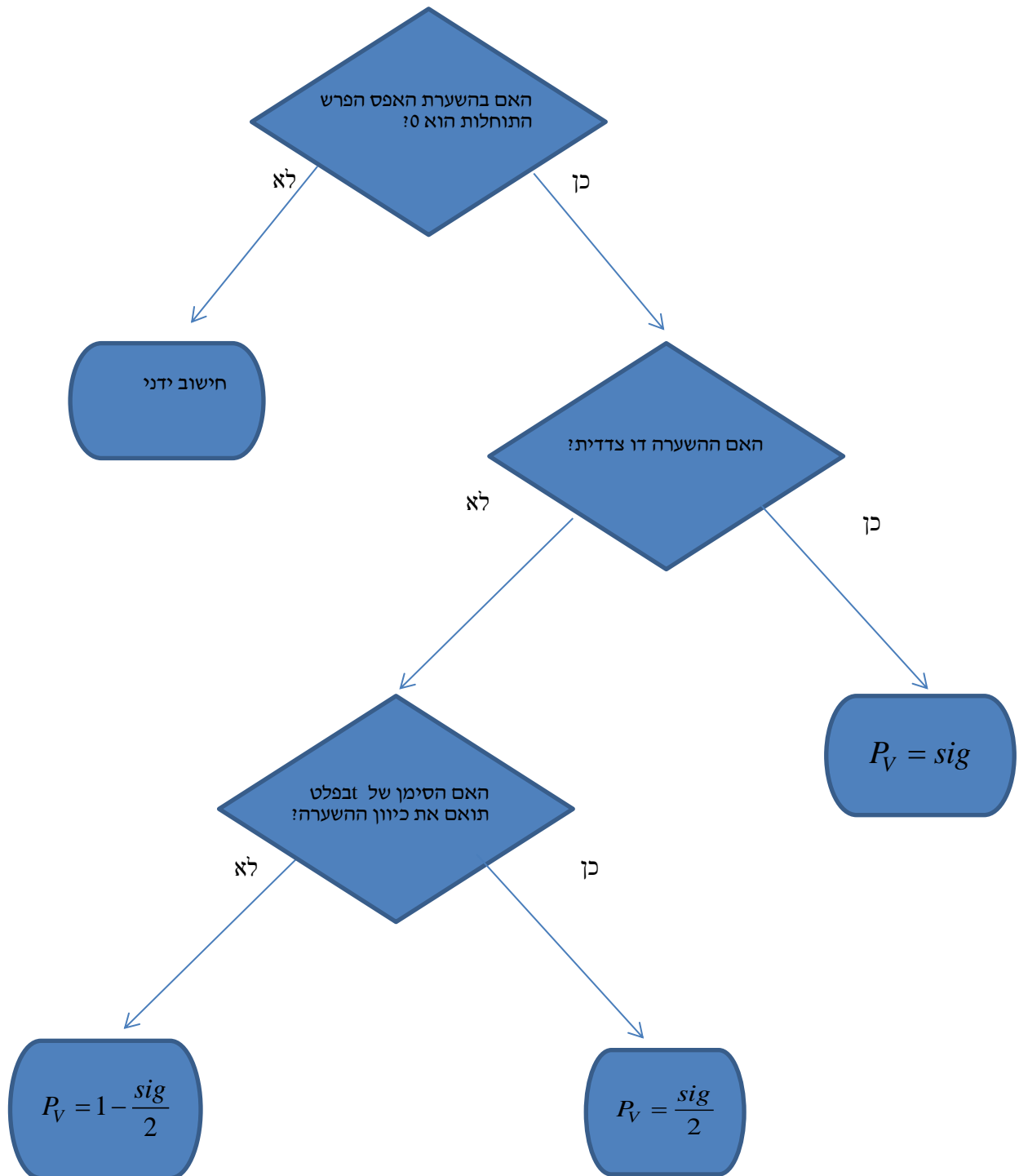
התשובה היא ד.

**שאלה 6:**

התשובה היא ג.

מדגמים מזווגים - ניתוח פלטים

רקע:



**דוגמה :** (פתרון בהקלטה)

כדי לבדוק את ההשפעה של קורס לגמילה מעישון נלקח מדגם מקרי של 5 נבדקים. עבור כל אחד מהם נמדדה צריכת הסיגריות היומית לפני הקורס וחודשיים אחריו. הניחו שצריכת הסיגריות מתפלגת נורמלית. להלן התוצאות :

נבדק	1	2	3	4	5
לפני	40	22	25	28	30
אחרי	30	24	13	10	12

**Paired Samples Statistics**

	Mean	N	Std. Deviation	Std. Error Mean
Pair 1 BEFORE	29.0000	5	6.85565	3.06594
AFTER	17.8000	5	8.72926	3.90384

**Paired Samples Test**

	Paired Differences					t	df	Sig. (2-tailed)
	Mean	Std. Deviation	Std. Error Mean	90% Confidence Interval of the Difference				
				Lower	Upper			
Pair 1 BEFORE - AFTER	11.20000	8.19756	3.66606	3.38452	19.01548	3.055	4	.038

בדוק ברמת מובהקות של 5% האם הקורס יעיל .

**תרגילים :**

1. בסקר שנערך בארה"ב בשנת 1993 נשאלו נסקרים על השכלת הוריהם, להלן הפלט שהתקבל :

		Paired Differences					t	df	Sig. (2-tailed)
		Mean	Std. Deviation	Std. Error Mean	95% Confidence Interval of the Difference				
					Lower	Upper			
Pair 1	Highest Year School Completed, Father - Highest Year School Completed, Mother	-.007	3.115	.100	-.203	.189	-.072	973	.943

- א. תן אומדן להפרש הממוצעים.  
 ב. תן אומדן לטעות התקן של הפרש הממוצעים.  
 ג. האם קיים הבדל מובהק בין השכלת האבות להשכלת האימהות ברמת מובהקות של 5%?

2. בתחרות קפיצה למים שופטים באופן קבוע שופט איטלקי ושופט דרום קוריאני. להלן פלט המנתח את הציונים ששופטים אלה נתנו בתחרויות השונות :

**Paired Samples Statistics**

		Mean	N	Std. Deviation	Std. Error Mean
Pair 1	Italy	???	300	.86742	.05008
	South Korea	8.9183	???	.81992	.04734

**Paired Samples Test**

		Paired Differences					t	df	Sig. (2-tailed)
		Mean	Std. Deviation	Std. Error Mean	95% Confidence Interval of the Difference				
					Lower	Upper			
Pair 1	Italy - South Korea	-.42233	.36153	.02087	-.46341	-.38126	-20.234	???	???

- א. השלימו את החלקים החסרים בפלט. (מסומנים בסימני שאלה).  
 ב. בדוק את הטענה שהשופט הדרום קוריאני נותן בממוצע 0.2 נקודות יותר מאשר השופט האיטלקי ברמת מובהקות של 5%.  
 ג. מהו רווח הסמך ברמת סמך של 95% לתוחלת פער הציונים בין השופטים.  
 ד. בנה את הרווח כעת ברמת סמך של 98% לתוחלת פער בציונים בין השופטים.



3. בדקו את ציוניהם של 44 נבדקים אקראיים במבחן הפסיכומטרי. פעם אחת לפני הכנה (Before) ופעם אחת אחרי הכנה (After).

Paired Samples Test

	Paired Differences					t	df	Sig. (2-tailed)
	Mean	Std. Deviation	Std. Error Mean	95% Confidence Interval of the Difference				
				Lower	Upper			
Pair 1 Before - After	-7.45455	19.28303	2.90703	-13.31712	-1.59197	-2.564	43	.014

- א. רשום מהו המבחן הסטטיסטי ונסח את ההשערות אליהם מתייחס הפלט.
- ב. בדוק את ההשערה שממוצע ציונים משתפרים לאחר ההכנה ברמת מובהקות של 5%.
- ג. בדוק את ההשערה שממוצע ציונים משתפרים לאחר ההכנה ביותר מ-5 נקודות ברמת מובהקות של 5%.
- ד. מצא רווח סמך לתוחלת שיפור ממוצע הציונים לאחר ההכנה ברמת ביטחון של 95%.

## T-Test

Paired Samples Statistics

		Mean	N	Std. Deviation	Std. Error Mean
Pair 1	x	54.0000	6	5.86515	2.39444
	y	46.5000	6	10.72847	4.37988

Paired Samples Test

	Paired Differences					t	df	Sig. (2-tailed)
	Mean	Std. Deviation	Std. Error Mean	95% Confidence Interval of the Difference				
				Lower	Upper			
Pair 1 x - y	7.50000	??	4.72405	-4.64356	19.64356	??	5	.173

- א. מלא את החלקים החסרים בטבלה.
- ב. מהי רמת המובהקות המינימלית לקבלת הטענה שיש הבדל בין X ל-Y בממוצע ?
- ג. האם התשובה לסעיף הקודם הייתה משתנה , ואם כן גדלה או קטנה , אם הינו מוסיפים עוד תצפית שההפרש בין X ל-Y הוא 0.
- ד. מהי מובהקות התוצאה לבדיקת הטענה ש X גדול מ-Y בממוצע?
- ה. מהי מובהקות התוצאה לבדיקת הטענה ש X קטן מ-Y בממוצע?
- ו. בנו רווח סמך לתוחלת של X ברמת סמך של 90% .

**פתרונות:**

**שאלה 1:**א.  $-0.007$ ב.  $0.1$ 

ג. אין הבדל מובהק

**שאלה 2:**א.  $d.f = 299$  $n = 300$  $\bar{X} = 8.496$ 

Sig=0

ב. נדחה  $H_0$ ג.  $(0.46341, 0.38126)$ ד.  $(0.4708, 0.3738)$ **שאלה 3:**ב. נדחה  $H_0$ ג. לא נדחה את  $H_0$ ד.  $(1.592, 13.317)$ **שאלה 4:**א.  $1.5876, 11.5715$ ב.  $0.173$ 

ג. יגדל

ד.  $0.0865$ ה.  $0.9135$ ו.  $49.18 < \mu < 58.82$

## פרק 29 - הקשר בין רווח סמך לבדיקת השערות על הפרש תוחלות

**רקע:**

ניתן לבצע בדיקת השערות דו צדדית ברמת מובהקות  $\alpha$  על  $\mu_1 - \mu_2$  :

$$H_0 : \mu_1 - \mu_2 = C$$

$$H_1 : \mu_1 - \mu_2 \neq C$$

על ידי בניית רווח סמך ברמת סמך של  $1 - \alpha$  ל  $\mu_1 - \mu_2$  :

אם C נופל ברווח  $\leftarrow$  נקבל את  $H_0$

אם C לא נופל ברווח  $\leftarrow$  נדחה את  $H_0$

**דוגמה:** (פתרון בהקלטה)

חוקר ביצע בדיקת השערות לתוחלת ההפרש במדגם מזווג. להלן השערותיו :

$$H_0 : \mu_D = 80$$

$$H_1 : \mu_D \neq 80$$

$$\alpha = 5\%$$

החוקר בנה רווח סמך ברמה של 90%

$$78 < \mu_D < 83$$

האם אפשר לדעת מה מסקנתו, ואם כן מהי?

**תרגילים:**

1. נדגמו 5 סטודנטים שסיימו את הקורס סטטיסטיקה ב'. להלן ציוניהם בסמסטר א' ו- ב' :

סטטיסטיקה א	סטטיסטיקה ב
74	80
68	84
90	87
75	76
82	100

א. בנו רווח סמך ברמת סמך של 95% לתוחלת פער הציונים בין סמסטר א לבין סמסטר ב.  
 ב. פורסם שתלמידים שמסיימים את סמסטר ב משפרים בממוצע את הציונים ב-5 נק' לעומת סמסטר א' האם יש אמת בפרסום?

2. הוחלט להשוות הציונים אצל מרצה X ואצל מרצה Y. נבחרו באקראי 6 סטודנטים, 3 סטודנטים של מרצה X ו- 3 סטודנטים של מרצה Y, עבורם התקבלו הציונים הבאים :

68	90	82	<b>מרצה X</b>
64	81	68	<b>מרצה Y</b>

א. חשבו רווח סמך ברמת סמך 90% להפרש בין התוחלות של הציונים אצל שני המרצים.  
 ב. האם ברמת מובהקות של 10% נכריע שיש הבדל בין תוחלות הציונים אצל שני המרצים?

**שאלות אמריקאיות:**

3. סטטיסטיקאי נתבקש לאמוד את הפרש הממוצעים של שני טיפולים לפי שני מדגמים מקריים בלתי תלויים.

הוא חישב רווח סמך להפרש ברמת סמך 0.98, וקיבל את הרווח  $-2 < \mu_1 - \mu_2 < 4.5$ .  
 אילו יתבקש החוקר לבדוק לפי אותם נתונים את ההשערות :

$H_0 : \mu_1 - \mu_2 = 0$  ;  $H_1 : \mu_1 - \mu_2 \neq 0$  , ברמת מובהקות 0.05 מסקנתו תהיה :

א. לדחות את השערת האפס.

ב. לא לדחות את השערת האפס.

ג. שלא ניתן לדעת את המסקנה עבור רמת מובהקות 0.05 .

ד. שלא נתונות בשאלה סטיות התקן של האוכלוסיות, ולכן לא ניתן להסיק דבר.

4. במטרה לבדוק האם קיים הבדל בין קווי זהב לבזק מבחינת ממוצע המחירים לשיחות בינ"ל. נגדמו באקראי 7 מדינות ועבור כל מדינה נבדקה עלות דקת שיחה. בהנחה

לפתרון מלא בסרטון וידאו היכנסו ל- [www.GooL.co.il](http://www.GooL.co.il)

והמחירים מתפלים נורמלית בנו רווח סמך לממוצע ההפרשים וקיבלו :

$$-0.0293 < \mu_b < 0.2145 \text{ רווח הסמך הוא ברמת סמך של } 95\%.$$

לכן מסקנת המחקר היא :

- א. ברמת מובהקות של 5% לא נוכל לקבוע שקיים הבדל בין החברות.
- ב. ברמת מובהקות של 5% נקבע שקיים הבדל מובהק בין החברות.
- ג. לא ניתן לדעת מה המסקנה ברמת מובהקות של 5% כיוון שלא נאמר מה ההגדרה של D.

**פתרונות:****שאלה 1:**

א.  $-3.8 \leq \mu_D \leq 19$

ב. נכריע שיש אמת בפרסום.

**שאלה 2:**

א.  $-8.5 \leq \mu_X - \mu_Y \leq 26.5$

ב. נכריע שאין הבדל.

**שאלה 3:**

התשובה היא ג.

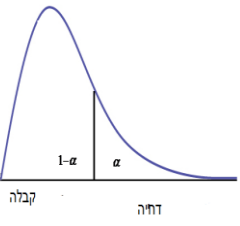
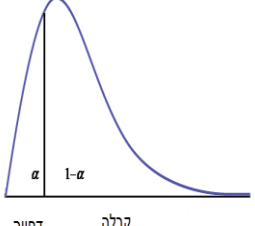
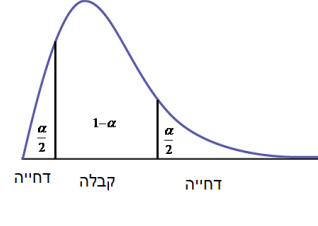
**שאלה 4:**

התשובה היא א.

**פרק 30 - בדיקת השערות על שוניות**

**בדיקת השערות על שונות האוכלוסייה כאשר התוחלת לא ידועה**

**רקע:**

$H_0: \sigma^2 = \sigma_0^2$ $H_1: \sigma^2 > \sigma_0^2$	$H_0: \sigma^2 = \sigma_0^2$ $H_1: \sigma^2 < \sigma_0^2$	$H_0: \sigma^2 = \sigma_0^2$ $H_1: \sigma^2 \neq \sigma_0^2$	השערת האפס : השערה אלטרנטיבית:
$X \sim N$			תנאים :
 <p style="text-align: center;"><math>\chi^2 &gt; \chi_{1-\alpha}^{2(n-1)}</math></p>	 <p style="text-align: center;"><math>\chi^2 &lt; \chi_{\alpha}^{2(n-1)}</math></p>	 <p style="text-align: center;">או <math>\chi^2 &lt; \chi_{\frac{\alpha}{2}}^{2(n-1)}</math> או <math>\chi^2 &gt; \chi_{1-\frac{\alpha}{2}}^{2(n-1)}</math></p>	נדחה את השערת האפס אם:

$\chi^2 = \frac{(n-1)S^2}{\sigma_0^2}$  : סטטיסטי המבחן

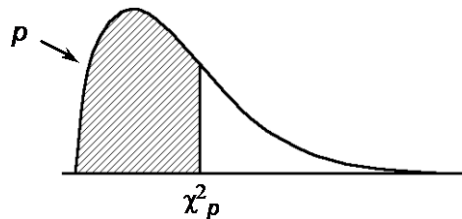
**התפלגות חי בריבוע :**

אם  $X_i \sim N(\mu, \sigma^2)$  והפרמטר  $\mu$  אינו ידוע מתקיים ש:  $\frac{(n-1)S^2}{\sigma_0^2} \sim \chi^{2(n-1)}$

התפלגות זו היא התפלגות אסימטרית חיובית המתחילה מהערך אפס וערכיה שואפים לאינסוף.

התפלגות זו תלויה בדרגות החופש. אם  $\mu$  אינו ידוע אז:

$d.f = n - 1$

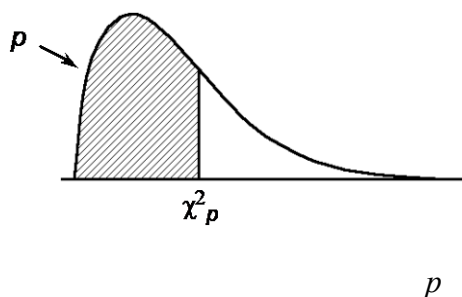




**דוגמה :** (פתרון בהקלטה)

ציוני IQ לפי סטנדרטים אמריקאים מתפלגים נורמאלית עם  $\sigma = 15$ . מעוניינים לבדוק האם שונות הציונים של נבחנים ישראלים שונה מאמריקה. במדגם של 20 ישראלים התקבל :

$$\text{מה המסקנה ברמת מובהקות של 5\%?} \quad \sum_{i=1}^{20} (x_i - \bar{x})^2 = 3420$$

טבלת התפלגות חי-בריבוע – ערכי החלוקה  $\chi^2_p$ 

df	.005	.01	.025	.05	.10	.25	.50	.75	.90	.95	.975	.99	.995
1	0.004393	0.005157	0.005982	0.006393	0.00658	0.00675	0.00695	0.00712	0.00727	0.0074	0.00752	0.00763	0.00773
2	0.0100	0.0201	0.0506	0.103	0.211	0.575	1.39	2.77	4.61	5.99	7.38	9.21	10.6
3	0.0717	0.115	0.216	0.352	0.584	1.21	2.37	4.11	6.25	7.81	9.35	11.3	12.8
4	0.207	0.297	0.484	0.711	1.06	1.92	3.36	5.39	7.78	9.49	11.1	13.3	14.9
5	0.412	0.554	0.831	1.15	1.61	2.67	4.35	6.63	9.24	11.1	12.8	15.1	16.7
6	0.676	0.872	1.24	1.64	2.20	3.45	5.35	7.84	10.6	12.6	14.4	16.8	18.5
7	0.989	1.24	1.69	2.17	2.83	4.25	6.35	9.04	12.0	14.1	16.0	18.5	20.3
8	1.34	1.65	2.18	2.73	3.49	5.07	7.34	10.2	13.4	15.5	17.5	20.1	22.0
9	1.73	2.09	2.70	3.33	4.17	5.90	8.34	11.4	14.7	16.9	19.0	21.7	23.6
10	2.16	2.56	3.25	3.94	4.87	6.74	9.34	12.5	16.0	18.3	20.5	23.2	25.2
11	2.60	3.05	3.82	4.57	5.58	7.58	10.3	13.7	17.3	19.7	21.9	24.7	26.8
12	3.07	3.57	4.40	5.23	6.30	8.44	11.3	14.8	18.5	21.0	23.3	26.2	28.3
13	3.57	4.11	5.01	5.89	7.04	9.30	12.3	16.0	19.8	22.4	24.7	27.7	29.8
14	4.07	4.66	5.63	6.57	7.79	10.2	13.3	17.1	21.1	23.7	26.1	29.1	31.3
15	4.60	5.23	6.26	7.26	8.55	11.0	14.3	18.2	22.3	25.0	27.5	30.6	32.8
16	5.14	5.81	6.91	7.96	9.31	11.9	15.3	19.4	23.5	26.3	28.8	32.0	34.3
17	5.70	6.41	7.56	8.67	10.1	12.8	16.3	20.5	24.8	27.6	30.2	33.4	35.7
18	6.26	7.01	8.23	9.39	10.9	13.7	17.3	21.6	26.0	28.9	31.5	34.8	37.2
19	6.84	7.63	8.91	10.1	11.7	14.6	18.3	22.7	27.2	30.1	32.9	36.2	38.6
20	7.43	8.26	9.59	10.9	12.4	15.5	19.3	23.8	28.4	31.4	34.2	37.6	40.0
21	8.03	8.90	10.3	11.6	13.2	16.3	20.3	24.9	29.6	32.7	35.5	38.9	41.4
22	8.64	9.54	11.0	12.3	14.0	17.2	21.3	26.0	30.8	33.9	36.8	40.3	42.8
23	9.26	10.2	11.7	13.1	14.8	18.1	22.3	27.1	32.0	35.2	38.1	41.6	44.2
24	9.89	10.9	12.4	13.8	15.7	19.0	23.3	28.2	33.2	36.4	39.4	43.0	45.6
25	10.5	11.5	13.1	14.6	16.5	19.9	24.3	29.3	34.4	37.7	40.6	44.3	46.9
26	11.2	12.2	13.8	15.4	17.3	20.8	25.3	30.4	35.6	38.9	41.9	45.6	48.3
27	11.8	12.9	14.6	16.2	18.1	21.7	26.3	31.5	36.7	40.1	43.2	47.0	49.6
28	12.5	13.6	15.3	16.9	18.9	22.7	27.3	32.6	37.9	41.3	44.5	48.3	51.0
29	13.1	14.3	16.0	17.7	19.8	23.6	28.3	33.7	39.1	42.6	45.7	49.6	52.3
30	13.8	15.0	16.8	18.5	20.6	24.5	29.3	34.8	40.3	43.8	47.0	50.9	53.7

**תרגילים:**

1. חברה אורזת סוכר במשקל עם סטיית תקן 20 גרם. משקל הסוכר באריזה מתפלג נורמאלית. החברה החליפה את מכוונות האריזה במטרה לדייק יותר במשקל הנארז. (רוצים שסטיית התקן תהיה קטנה יותר).  
לצורך בדיקה דגמו 5 אריזות סוכר ולהלן משקלן בגרמים: 1008,1024,996,1005,997.  
מה המסקנה ברמת מובהקות של 5%?
2. זמן ההחלמה ממחלה מסוימת כאשר משתמשים בטיפול מסוים מתפלג נורמלית עם סטיית תקן של 80 שעות. תרופה חדשה נוסתה על 5 חולים. זמני ההחלמה שלהם בשעות היו: 38,72,90,110,50.  
א. ברמת מובהקות של 5% בדקו האם סטיית התקן של זמן החלמה של התרופה החדשה נמוכה מהתרופה המקורית.  
ב. האם ניתן לדעת מה תהיה התשובה לסעיף א אם נגדיל את רמת המובהקות?  
ג. האם ניתן לדעת מה תהיה התשובה לסעיף א אם נקטין את רמת המובהקות?  
ד. האם ניתן לדעת מה תהיה התשובה לסעיף א אם נוסיף תצפית שערכה 70?
3. הגובה של אוכלוסייה מסוימת נחשב כמתפלג נורמלית עם ממוצע של 174 ס"מ וסטיית תקן של 12. במדגם של 20 אנשים מהאוכלוסייה התקבל ממוצע של 171 וסטיית תקן מדגמית של 23.  
א. בדקו ברמת מובהקות של 5% האם חל שינוי בשונות הגבהים באוכלוסייה.  
ב. בדקו ברמת מובהקות של 5% האם חל שינוי בתוחלת הגבהים באוכלוסייה, בבחירת המבחן המתאים הסתמך על המסקנה מסעיף א'.
4. השערות המחקר הן:  $H_0: \sigma = 2$   
 $H_1: \sigma < 2$   
במדגם של 21 תצפיות התקבל סטיית תקן של 1.143. תן הערכה למובהקות התוצאה.

**פתרונות:****שאלה 1**

לא נדחה  $H_0$

**שאלה 2**

א. נדחה  $H_0$

ב. לא תשתנה

ג. לא ניתן לדעת

ד. לא תשתנה

**שאלה 3**

א. נדחה  $H_0$

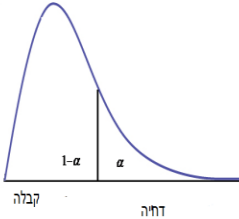
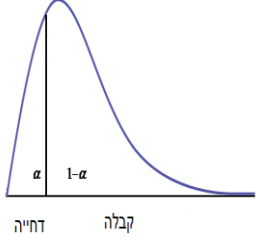
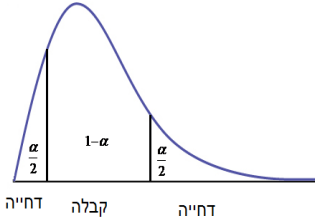
ב. לא נדחה  $H_0$

**שאלה 4**

$$0 < P_v < 0.005$$

**בדיקת השערות על שתי שונות**

**רקע:**

$H_0 : \frac{\sigma_1^2}{\sigma_2^2} = 1$ $H_1 : \frac{\sigma_1^2}{\sigma_2^2} > 1$	$H_0 : \frac{\sigma_1^2}{\sigma_2^2} = 1$ $H_1 : \frac{\sigma_1^2}{\sigma_2^2} < 1$	$H_0 : \frac{\sigma_1^2}{\sigma_2^2} = 1$ $H_1 : \frac{\sigma_1^2}{\sigma_2^2} \neq 1$	<b>השערת האפס :</b> <b>השערה אלטרנטיבית :</b>
$X_1, X_2 \sim N . 2$			<b>תנאים :</b> 1. מדגמים בלתי תלויים
 $F \geq f_{1-\alpha}^{(n_1-1, n_2-1)}$	 $F \leq \frac{1}{f_{1-\alpha}^{(n_2-1, n_1-1)}}$	 או $F \geq f_{1-\alpha/2}^{(n_1-1, n_2-1)}$ $F \leq \frac{1}{f_{1-\alpha/2}^{(n_2-1, n_1-1)}}$	<b>נדחה את השערת האפס אם :</b>

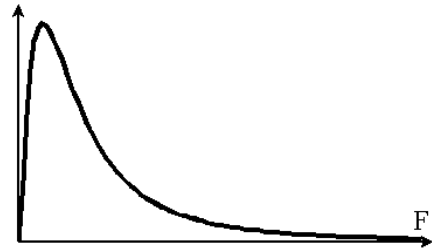
$F = \frac{S_1^2}{S_2^2}$  : סטטיסטי המבחן

**התפלגות F:**

אם  $X_1 \sim N(\mu_1, \sigma^2)$  ו-  $X_2 \sim N(\mu_2, \sigma^2)$  אזי :  $\frac{S_1^2}{S_2^2} \sim F(n_1 - 1, n_2 - 1)$

התפלגות F הינה התפלגות אסימטרית חיובית התלויה בדרגות חופש של המונה ושל המכנה.

כמו כן בהתפלגות F מתקיימת התכונה הבאה :  $F_\alpha(n_1 - 1, n_2 - 1) = \frac{1}{F_{1-\alpha}^{(n_2-1, n_1-1)}}$



$df_1 = n_1 - 1$   
 $df_2 = n_2 - 1$

**דוגמה:** (פתרון בהקלטה)

מעוניינים להשוות בין נשים וגברים מבחינת השונות בזמנים שלהם לבצע משימה מסוימת. במדגם של 10 גברים התקבלו התוצאות הבאות לגבי זמני ביצוע המשימה:

$$\sum (y_i - \bar{y})^2 = 204$$

במדגם של 13 נשים התקבלו התוצאות הבאות:

$$\sum (x_i - \bar{x})^2 = 200$$

בדקו ברמת מובהקות של 2% האם קיים הבדל בין השונות? מה יש להניח?

טבלת התפלגות  $F$ . ערכי החלוקה  $F_p$  של התפלגות  $F(m, n)$   
 $m$  — דרגות חופש המונה;  $n$  — דרגות חופש המכנה

$p$	$n$	$m$											
		1	2	3	4	5	6	7	8	9	10	12	15
.95	1	161	200	216	225	230	234	237	239	241	242	244	246
.975		648	800	864	900	922	937	948	957	963	969	977	985
.99		4052	5000	5403	5625	5764	5859	5928	5981	6022	6056	6106	6157
.995		16211	20000	21615	22500	23056	23437	23715	23925	24091	24224	24426	24630
.95	2	18.51	19.00	19.16	19.25	19.30	19.33	19.35	19.37	19.38	19.40	19.41	19.43
.975		38.51	39.00	39.17	39.25	39.30	39.33	39.36	39.37	39.39	39.40	39.41	39.43
.99		98.50	99.00	99.16	99.25	99.30	99.33	99.36	99.38	99.39	99.40	99.42	99.43
.995		198.50	199.01	199.16	199.24	199.30	199.33	199.36	199.38	199.39	199.39	199.42	199.43
.95	3	10.13	9.55	9.28	9.12	9.01	8.94	8.89	8.85	8.81	8.79	8.74	8.70
.975		17.44	16.04	15.44	15.10	14.88	14.73	14.62	14.54	14.47	14.42	14.34	14.25
.99		34.12	30.82	29.46	28.71	28.24	27.91	27.67	27.49	27.34	27.23	27.05	26.87
.995		55.55	49.80	47.47	46.20	45.39	44.84	44.43	44.13	43.88	43.68	43.39	43.08
.95	4	7.71	6.94	6.59	6.39	6.26	6.16	6.09	6.04	6.00	5.96	5.91	5.86
.975		12.22	10.65	9.98	9.60	9.36	9.20	9.07	8.98	8.90	8.84	8.75	8.66
.99		21.20	18.00	16.69	15.98	15.52	15.21	14.98	14.80	14.66	14.55	14.37	14.20
.995		31.33	26.28	24.26	23.15	22.46	21.98	21.62	21.35	21.14	20.97	20.70	20.44
.95	5	6.61	5.79	5.41	5.19	5.05	4.95	4.88	4.82	4.77	4.74	4.68	4.62
.975		10.01	8.43	7.76	7.39	7.15	6.98	6.85	6.76	6.68	6.62	6.52	6.43
.99		16.26	13.27	12.06	11.39	10.97	10.67	10.46	10.29	10.16	10.05	9.89	9.72
.995		22.78	18.31	16.53	15.56	14.94	14.51	14.20	13.96	13.77	13.62	13.38	13.15
.95	6	5.99	5.14	4.76	4.53	4.39	4.28	4.21	4.15	4.10	4.06	4.00	3.94
.975		8.81	7.26	6.60	6.23	5.99	5.82	5.70	5.60	5.52	5.46	5.37	5.27
.99		13.75	10.92	9.78	9.15	8.75	8.47	8.26	8.10	7.98	7.87	7.72	7.56
.995		18.63	14.54	12.92	12.03	11.46	11.07	10.79	10.57	10.39	10.25	10.03	9.81
.95	7	5.59	4.74	4.35	4.12	3.97	3.87	3.79	3.73	3.68	3.64	3.57	3.51
.975		8.07	6.54	5.89	5.52	5.29	5.12	4.99	4.90	4.82	4.76	4.67	4.57
.99		12.25	9.55	8.45	7.85	7.46	7.19	6.99	6.84	6.72	6.62	6.47	6.31
.995		16.24	12.40	10.88	10.05	9.52	9.16	8.89	8.68	8.51	8.38	8.18	7.97
.95	8	5.32	4.46	4.07	3.84	3.69	3.58	3.50	3.44	3.39	3.35	3.28	3.22
.975		7.57	6.06	5.42	5.05	4.82	4.65	4.53	4.43	4.36	4.30	4.20	4.10
.990		11.26	8.65	7.59	7.01	6.63	6.37	6.18	6.03	5.91	5.81	5.67	5.52
.995		14.69	11.04	9.60	8.81	8.30	7.95	7.69	7.50	7.34	7.21	7.01	6.81

$m$ 

$p$	$n$	1	2	3	4	5	6	7	8	9	10	12	15
.95	9	5.12	4.26	3.86	3.63	3.48	3.37	3.29	3.23	3.18	3.14	3.07	3.01
.975		7.21	5.71	5.08	4.72	4.48	4.32	4.20	4.10	4.03	3.96	3.87	3.77
.99		10.56	8.02	6.99	6.42	6.06	5.80	5.61	5.47	5.35	5.26	5.11	4.96
.995		13.61	10.11	8.72	7.96	7.47	7.13	6.88	6.69	6.54	6.42	6.23	6.03
.95	10	4.96	4.10	3.71	3.48	3.33	3.22	3.14	3.07	3.02	2.98	2.91	2.85
.975		6.94	5.46	4.83	4.47	4.24	4.07	3.95	3.85	3.78	3.72	3.62	3.52
.99		10.04	7.56	6.55	5.99	5.64	5.39	5.20	5.06	4.94	4.85	4.71	4.56
.995		12.83	9.43	8.08	7.34	6.87	6.54	6.30	6.12	5.97	5.85	5.66	5.47
.95	12	4.75	3.89	3.49	3.26	3.11	3.00	2.91	2.85	2.80	2.75	2.69	2.62
.975		6.55	5.10	4.47	4.12	3.89	3.73	3.61	3.51	3.44	3.37	3.28	3.18
.99		9.33	6.93	5.95	5.41	5.06	4.82	4.64	4.50	4.39	4.30	4.16	4.01
.995		11.75	8.51	7.23	6.52	6.07	5.76	5.52	5.35	5.20	5.09	4.91	4.72
.95	15	4.54	3.68	3.29	3.06	2.90	2.79	2.71	2.64	2.59	2.54	2.48	2.40
.975		6.20	4.77	4.15	3.80	3.58	3.41	3.29	3.20	3.12	3.06	2.96	2.86
.99		8.68	6.36	5.42	4.89	4.56	4.32	4.14	4.00	3.89	3.80	3.67	3.52
.995		10.80	7.70	6.48	5.80	5.37	5.07	4.85	4.67	4.54	4.42	4.25	4.07
.95	20	4.35	3.49	3.10	2.87	2.71	2.60	2.51	2.45	2.39	2.35	2.28	2.20
.975		5.87	4.46	3.86	3.51	3.29	3.13	3.01	2.91	2.84	2.77	2.68	2.57
.99		8.10	5.85	4.94	4.43	4.10	3.87	3.70	3.56	3.46	3.37	3.23	3.09
.995		9.94	6.99	5.82	5.17	4.76	4.47	4.26	4.09	3.96	3.85	3.68	3.50
.95	30	4.17	3.32	2.92	2.69	2.53	2.42	2.33	2.27	2.21	2.16	2.09	2.01
.975		5.57	4.18	3.59	3.25	3.03	2.87	2.75	2.65	2.57	2.51	2.41	2.31
.99		7.56	5.39	4.51	4.02	3.70	3.47	3.30	3.17	3.07	2.98	2.84	2.70
.995		9.18	6.35	5.24	4.62	4.23	3.95	3.74	3.58	3.45	3.34	3.18	3.01
.95	60	4.00	3.15	2.76	2.53	2.37	2.25	2.17	2.10	2.04	1.99	1.92	1.84
.975		5.29	3.93	3.34	3.01	2.79	2.63	2.51	2.41	2.33	2.27	2.17	2.06
.99		7.08	4.98	4.13	3.65	3.34	3.12	2.95	2.82	2.72	2.63	2.50	2.35
.995		8.49	5.79	4.73	4.14	3.76	3.49	3.29	3.13	3.01	2.90	2.74	2.57
.95	120	3.92	3.07	2.68	2.45	2.29	2.18	2.09	2.02	1.96	1.91	1.83	1.75
.975		5.15	3.80	3.23	2.89	2.67	2.52	2.39	2.30	2.22	2.16	2.05	1.94
.99		6.85	4.79	3.95	3.48	3.17	2.96	2.79	2.66	2.56	2.47	2.34	2.19
.995		8.18	5.54	4.50	3.92	3.55	3.28	3.09	2.93	2.81	2.71	2.54	2.37
.95	$\infty$	3.84	3.00	2.60	2.37	2.21	2.10	2.01	1.94	1.88	1.83	1.75	1.67
.975		5.02	3.69	3.12	2.79	2.57	2.41	2.29	2.19	2.11	2.05	1.94	1.83
.99		6.63	4.61	3.78	3.32	3.02	2.80	2.64	2.51	2.41	2.32	2.18	2.04
.995		7.88	5.30	4.28	3.72	3.35	3.09	2.90	2.74	2.62	2.52	2.36	2.19



**תרגילים :**

1. להלן נתונים על שטחי דירות במ"ר עבור דירות חדשות שנבנו בשנת 2012 ובשנת 2013:

120	94	90	130	95	112	120	2012
	69	74	105	91	82	100	2013

א. בדוק ברמת מובהקות של 10% את ההשערה ששונויות שטחי הדירות החדשות בשנת 2012

ובשנת 2013 שוות. מה הן ההנחות הדרושות לביצוע הבדיקה?

ב. האם וכיצד הייתה משתנה המסקנה מהסעיף הקודם אם מסתבר שחלה טעות ברישום ויש

להפחית 10 מ"ר מכל הדירות שמופיעות במדגם?

2. בתחום הבינוי משתמשים בשני סוגי מתכות: מתכת A ומתכת B. מחקר מעוניין לבדוק האם קיים

הבדל בין שני סוגי המתכות מבחינת החוזק שלהן. דגמו מספר יחידות מתכת מכל סוג והתקבלו

התוצאות הבאות:

B	A	סוג המתכת
10	8	n
30	16	$\sum X_i$
198	60	$\sum X_i^2$

יש להניח שרמת החוזק של המתכות מתפלגת נורמאלית.

א. האם קיים הבדל בין שונויות החוזק של מתכות?

ב. האם קיים הבדל בין תוחלות החוזק של מתכות?

ככל סעיף רמת מובהקות של 10%.

3. מחקר סוציולוגי מעוניין לחקור את הרגלי הבילויים בקבוצות גיל שונות. ידוע כי בקרב

האוכלוסייה הבוגרת (מעל 18) ההוצאה החודשית על בילויים מתפלגת נורמאלית עם תוחלת של

500 ₪ וסטיית תקן של 300 ₪.

במדגם שנעשה על סטודנטים בגילאי 21-26 התקבל אומד חוסר הטיה לשוונות ההוצאה החודשית

על בילויים 10,000. כמות הסטודנטים שנדגמה 16.

במדגם שנעשה על 11 מבוגרים בשנות השלושים התקבל אומד חסר הטיה לשוונות ההוצאה

החודשית על בילויים 490,000.

א. בדקו ברמת מובהקות של 5% האם שוונות ההוצאה על בילויים בקרב סטודנטים בקבוצת

גילאי 21-26 נמוכה מהשוונות אצל כלל המבוגרים.

ב. בדקו ברמת מובהקות של 1% האם הפיזור של ההוצאה החודשית לבילויים גדולה יותר

בקבוצת גיל ה-30 מאשר בקבוצת גיל 21-26.

**פתרונות:****שאלה 1**

- א. לא נדחה  $H_0$   
ב. מסקנה לא תשתנה

**שאלה 2**

- א. לא נדחה  $H_0$   
ב. לא נדחה  $H_0$

**שאלה 3**

- א. נדחה  $H_0$   
ב. נדחה  $H_0$

## פרק 31-שאלות מסכמות בבדיקת השערות על פרמטרים

### שאלות מסכמות בבדיקת השערות על פרמטרים

1. שני חוקרים נתבקשו לבדוק את ההשערות הבאות:

$$H_0 : \mu = 520$$

$$H_1 : \mu > 520$$

כל חוקר בדק מדגם של 225 נחקרים. ידוע ש-  $\sigma = 20$ .

חוקר א' קבע את כלל ההכרעה לפי  $\alpha = 0.05$ .

חוקר ב' מחליט לדחות  $H_0$  אם  $\bar{X} > 522$ .

א. למי מהחוקרים הסתברות לטעות מסוג ראשון קטנה יותר?

ב. מהי ההסתברות לטעות מסוג שני של חוקר ב' עבור  $\mu_1 = 525$ .

ג. הסבר ללא חישוב נוסף, האם ההסתברות לטעות מסוג שני עבור  $\mu_1 = 525$ , של חוקר א' שווה/קטנה/גדולה לזו של חוקר ב'.

ד. חוקר א' קיבל במדגם שלו  $\bar{X} = 523$ . מהי מסקנתו?

2. ידוע כי תוחלת מספר ה"לייק"ים היומי של דנה היא 12 עם סטיית תקן 5.

דני טוען שהוא יותר פופולארי מדנה בכך שהוא מקבל יותר "לייק"ים מדנה ביום. על-מנת לבדוק זאת ספר דני כמה "לייק"ים הוא קיבל בכל יום במהלך 7 שבועות (כלומר, ב- 49 ימים) וקיבל סך-הכול 637 "לייק"ים. נניח כי סטיית התקן של מספר ה"לייק"ים שדני מקבל ביום זהה לסטיית התקן של דנה.

א. מהי רמת המובהקות שכדאי לדני לדרוש, כדי שדנה תשתכנע בצדקת טענתו (שדני פופולארי יותר בכך שהוא מקבל יותר "לייק"ים מדנה ביום).

ב. אם דני משער שתוחלת מספר ה"לייק"ים שהוא מקבל ביום היא 14 וקובע רמת מובהקות 2.5%, מהי עוצמת המבחן של דני?

3. ברצוננו להשוות בין רשתות A לבין B. לשם כך בחרנו 4 מוצרים, ובדקנו את מחיריהם בשתי הרשתות. להלן התוצאות:

מוצר	A	B
1	5	5
2	4	5
3	5	3
4	7	4

הניחו כי המחירים מתפלגים נורמלית.  
 אם יש הנחות נוספות כדי לבצע את המבחן הפרמטרי רשמו אותן.  
 א. בדקו האם קיים הבדל בין הרשתות מבחינת תוחלת המחירים. רמת מובהקות של 5%.  
 ב. חזרו על הסעיף הקודם בהנחה ונבחרו בכל רשת מוצרים באקראי ולא בהכרח אותם מוצרים.

4. במדגם של 10 ישראלים שנבחנו במבחן ה-IQ נתקבלו התוצאות הבאות:

$$n = 10$$

$$\sum X_i = 1020$$

$$\sum X_i^2 = 105120$$

במדגם של 14 אמריקאים שנבחנו במבחן ה-IQ נתקבלו התוצאות הבאות:

$$n = 14$$

$$\sum X_i = 1386$$

$$\sum X_i^2 = 138644$$

נתון שציוני הבחינה מתפלגים נורמלית בכל מדינה.

א. בדוק ברמת מובהקות של 10% האם קיים שוויון שונויות בין אוכלוסיית אמריקה לאוכלוסיית ישראל?  
 ב. בדקו האם קיים הבדל בממוצע הציונים בבחינת ה-IQ בין ישראל לארה"ב. ברמת מובהקות של 5%?

5. במטרה לבדוק האם סטודנטים הלומדים במכללות משקיעים יותר זמן ללימודים מאשר סטודנטים באוניברסיטאות נדגמו 12 סטודנטים ובדקו לכל סטודנט את הזמן שהוא משקיע ביום ללימודים. הזמנים נמדדו בדקות:

180	140	171	189	156	176	סטודנטים באוניברסיטאות
150	204	186	191	190	180	סטודנטים במכללות

- א. נסח את ההשערות ובדוק אותן ברמת מובהקות של 5%. רשום את כלל ההכרעה ואת ההנחות הדרושות לביצוע המבחן הפרמטרי.
- ב. חשב את P-value.
- ג. ישנה טענה שממוצע זמן ההשקעה בלימודים במכללות הוא 3.5 שעות ביום. בדוק את הטענה כאשר רמת המובהקות הינה 5%.

6. במדינת טרפפו המשכורות במשק מתפלגות נורמלית עם ממוצע של 1 אלף דולר וסטיית תקן של 0.2 אלף דולר. בוצע מדגם מקרי בו השתתפו 5 נשים ו 5 גברים במדינת שומקום שבה המשכורות מתפלגות נורמאלית גם כן. להלן משכורותיהם באלפי דולר:

1.1	1.2	0.7	0.9	2	גברים
1.2	1.8	1.9	1.1	1.4	נשים

- א. בדוק את הטענה שממוצע משכורותיהם של אזרחי שומקום גבוה מאשר ממוצע משכורותיהם של אזרחי טרפפו ברמת מובהקות של 5%. בהנחה שסטיית התקן זהה בשתי המדינות.
- ב. חזור על הסעיף הקודם ללא ההנחה הנ"ל.
- ג. ישנה טענה שסטיית התקן במדינת שומקום גבוהה מזו של טרפפו. בדוק ברמת מובהקות של 5%.

7. במטרה להשוות בין אחוזי הצפייה של גברים ונשים בתוכנית טלוויזיה מסוימת בוצע סקר ובו התקבלו תוצאות הבאות:

לא צופים	צופים	
42	320	נשים
120	72	גברים

- א. האם יש הבדל בין אחוזי הצפייה של גברים ונשים ברמת מובהקות של 1%?
- ב. עבור רמת מובהקות של 5% בדוק טענה שמבין הצופים בתוכנית הטלוויזיה אחוז הנשים גדול פי 2 מאחוז הגברים.
8. בשנת 2000 ל-60% היה מדיח כלים בבית. מחקר רוצה לבדוק האם כיום פרופורציית המשפחות עם מדיח כלים עלה. הוחלט לבצע מדגם אקראי של 150 משפחות.
- א. רשמו את השערות המחקר.
- ב. מה היא מסקנת המחקר ברמת מובהקות של 5% אם במדגם ל-102 משפחות היה מדיח כלים.
- ג. מהי הטעות האפשרית במסקנה מהסעיף הקודם. האם ניתן לדעת את הסתברותה?
9. נערך מחקר על הקשר בין עישון ויתר לחץ דם. נבדק מדגם מקרי של 200 מעשנים ונמצא כי 30 סבלו מיתר לחץ דם. ידוע שבאוכלוסייה 18% סובלים מיתר לחץ דם.
- א. בדוק ברמת מובהקות 0.1 את השערה כי אחוז הסובלים מיתר לחץ דם בקרב המעשנים גדול מאשר כלל האוכלוסייה.
- ב. מהי רמת המובהקות המינימלית לקבלת הטענה שאחוז הסובלים מיתר לחץ דם בקרב המעשנים גדול מאשר כלל האוכלוסייה.
- ג. מהי עצמת המבחן, אם אחוז הסובלים מיתר לחץ דם בקרב אוכלוסיית המעשנים היא בפועל 25%.

10. להלן התפלגות מספר הנסיעות לחופשה השנתית במדגם של משפחות ישראליות :

4	3	2	1	0	מספר הנסיעות
12	20	26	102	84	מספר המשפחות

בדוק ברמת מובהקות של 5% :

א. באיטליה משפחות נוסעות בממוצע פעמיים בשנה לחופשה. האם בישראל משפחות נוסעות פחות מאשר באיטליה?

ב. בהולנד 80% מהמשפחות נוסעות לפחות פעם אחת בשנה לחופשה, האם בישראל אחוז המשפחות שנוסעות לפחות פעם אחת בשנה לחופשה נמוך מאשר בהולנד?

11. נתון כי :

$$X \sim N(\mu, \sigma^2 = 10^2)$$

מעוניינים לבדוק את ההשערות :

$$H_0 : \mu = 40$$

$$H_1 : \mu > 40$$

דגמו 25 תצפיות מהאוכלוסייה והתקבל  $\bar{X} = 45$ .

א. חשבו את P-value (מובהקות התוצאה).

ב. חזור על סעיף א אם ההשערה האלטרנטיבית הייתה :

$$H_1 : \mu < 40$$

ג. חזור על סעיף א אם ההשערה האלטרנטיבית הייתה :

$$H_1 : \mu \neq 40$$

12. ציוני בחינת הבגרות במתמטיקה מתפלגים נורמלית עם שונות 150. במדגם של 16 נבחנים מתל אביב

התקבלה שונות מדגמית-190. במדגם של 25 ירושלמים התקבלה שונות מדגמית 118.

א. בדקו ברמת מובהקות של 2.5% האם שונות הציונים במתמטיקה בקרב נבחני תל אביב גבוהה מהשונות בכלל הארץ.

ב. בדקו ברמת מובהקות של 5% האם שונות ציונים במתמטיקה בקרב תלמידי תל אביב גבוהה מאשר בקרב תלמידי ירושלים.

**פתרונות:****שאלה 1:**

- א. חוקר א
- ב. 0.0122
- ג. גדלה
- ד. נדחה  $H_0$

**שאלה 2:**

- א. לפחות 0.0808
- ב. 0.7995

**שאלה 3:**

- א. לא נדחה  $H_0$
- ב. לא נדחה  $H_0$

**שאלה 4:**

- א. לא נדחה  $H_0$
- ב. לא נדחה  $H_0$

**שאלה 5:**

- א. לא נדחה  $H_0$
- ב. בין 5% ל- 10%
- ג. נדחה  $H_0$

**שאלה 6:**

- א. נדחה  $H_0$
- ב. נדחה  $H_0$
- ג. נדחה  $H_0$

**שאלה 7:**

- א. נדחה  $H_0$
- ב. נדחה  $H_0$



**שאלה 8:**ב. נדחה  $H_0$ 

ג. טעות מסוג ראשון בסיכוי של 0.05

**שאלה 9:**א. לא נדחה  $H_0$ 

ב. 0.8643

ג. 0.8749

**שאלה 10:**א. נדחה  $H_0$ ב. נדחה  $H_0$ **שאלה 11:**

א. 0.0062

ב. 0.9938

ג. 0.0124

**שאלה 12:**א. לא נדחה  $H_0$ ב. לא נדחה  $H_0$

**שאלות מסכמות בסגנון רב ברירה ( אמריקאיות) על בדיקת השערות**

1. בבדיקת השערה חד-צדדית ימנית ברמת מובהקות  $\alpha=0.01$ , נדחתה השערת האפס. מה הייתה המסקנה לו נבדקה אותה ההשערה באמצעות אותם נתונים ברמת מובהקות  $\alpha=0.05$ ?
- השערת האפס הייתה נדחית.
  - השערת האפס לא הייתה נדחית.
  - ההשערה המחקרית הייתה נדחית.
  - בהעדר נתונים נוספים, לא ניתן לדעת.
2. על מנת לבדוק האם ההסתברות ללידת בן הנה חצי, נבחר מדגם מקרי של 200 ילדים, ונמצא שישנם 120 בנים.
- מהן ההשערות האלטרנטיביות להשערת האפס?
- $H_1 : p = 0.5$
  - $H_1 : p = 0.6$
  - $H_1 : p > 0.5$
  - $H_1 : p \neq 0.5$
3. לצורך בדיקת השפעת היפנוזה על לימוד אנגלית, נבחרו 10 זוגות תאומים זהים. אחד התאומים למד אנגלית בהשפעת היפנוזה, והשני ללא היפנוזה. לאחר מכן נערך לשניהם מבחן באנגלית. נניח שציוני המבחן מתפלגים נורמאלית ללא ידיעת השונות האמיתית.
- המבחן שיש לבצע כאן הוא :
- מבחן Z למדגם יחיד.
  - מבחן T למדגם יחיד.
  - מבחן T למדגמים בלתי תלויים.
  - מבחן T למדגמים מזווגים.

4. כדי לבדוק את הטענה שגברים רווקים שוקלים פחות מגברים נשואים לקח חוקר מדגם מקרי של 4 גברים ומדד את משקלם לפני נישואיהם ולאחר נישואיהם. הנה התוצאות:

68	82	93	69	לפני הנישואין-X
71	84	88	80	לאחר הנישואין-Y

מהן ההשערות הנבדקות? (ההפרש חושב X-Y)

א.  $H_1 : \mu_d < 0, H_0 : \mu_d = 0$

ב.  $H_1 : \mu_x - \mu_y < 0, H_0 : \mu_x - \mu_y = 0$

ג.  $H_1 : \mu_x - \mu_y < 0, H_0 : \mu_x - \mu_y = 0$

ד.  $H_1 : \mu_d > 0, H_0 : \mu_d = 0$

5. חוקר ביצע מחקר ובו עשה טעות מסוג שני לכן:

א. השערת האפס נכונה.

ב. השערת האפס נדחתה.

ג. השערת האפס לא נדחתה.

ד. אף אחת מהתשובות לא נכונה בהכרח.

6. ידוע כי ילד בגיל שנתיים ישן בממוצע 9 שעות בלילה. במדגם של 20 תינוקות בני שנתיים המתגוררים בצפון נמצא, כי ממוצע שעות השינה בלילה הינו 10 עם סטיית תקן של 1.1 במדגם של 10 תינוקות בדרום נמצא, כי ממוצע שעות השינה בלילה הינו 7.9 עם סטיית תקן של 1.1. על מנת להשוות בין ממוצע שעות השינה של ילדים מהצפון לבין זה של כלל הילדים יש לערוך \_\_\_\_\_, ועל מנת להשוות בין ממוצע שעות השינה של ילדים מהדרום לזה של ילדים המתגוררים בצפון יש לערוך \_\_\_\_\_. יש להניח שההנחות הדרושות מתקיימות.

א. מבחן Z למדגם יחיד; מבחן T למדגם יחיד.

ב. מבחן T למדגם יחיד; מבחן T למדגמים תלויים.

ג. מבחן T למדגם יחיד; מבחן T למדגמים בלתי תלויים.

ד. מבחן T למדגמים בלתי תלויים; מבחן T לממוצע יחיד.

7. מובהקות התוצאה (P-value) היא גם:

א. רמת המובהקות המינימאלית לדחות השערת האפס.

ב. רמת המובהקות המקסימאלית לדחיית השערת האפס.

ג. רמת המובהקות שנקבעת מראש על ידי החוקר טרם קיבל את תוצאות המחקר.

ד. רמת המובהקות המינימאלית לאי דחיית השערת האפס.

8. כדי לבדוק את הטענה שגברים רווקים שוקלים פחות מגברים נשואים לקח חוקר מדגם מקרי של 4 גברים ומדד את משקלם לפני נישואיהם ולאחר נישואיהם. הנה התוצאות:

68	82	93	69	לפני הנישואין
71	84	88	80	לאחר הנישואין

באיזה התפלגות משתמשים לבדיקת ההשערות, ובכמה דרגות חופש:

- ההתפלגות  $Z$  ללא דרגות חופש.
- ההתפלגות  $T$  ו-3 דרגות חופש.
- ההתפלגות  $T$  ו-6 דרגות חופש.
- ההתפלגות  $\chi^2$  ו-3 דרגות חופש.

9. שני סטטיסטיקאים בודקים השערות ברמת מובהקות  $\alpha = 0.05$ , על סמך אותו מדגם.

סטטיסטיקאי א' בודק את ההשערה:  $H_0: \mu = 20$  כנגד האלטרנטיבה

$H_1: \mu \neq 20$  ומחליט לא לדחות את השערת האפס.

סטטיסטיקאי ב' בודק את ההשערה  $H_0: \mu \leq 20$  כנגד האלטרנטיבה  $H_1: \mu > 20$

מה יחליט סטטיסטיקאי ב'?

- לדחות את השערת האפס.
- לא לדחות את השערת האפס.
- ללא נתונים נוספים אי אפשר לדעת מה יחליט.

10. חוקר בדק השערה מסוימת והחליט לדחות את השערת האפס ברמת מובהקות 5%. מה נכון לומר?  
 א. הוא בוודאות ידחה את השערת האפס ברמת מובהקות 9% ואילו ברמת מובהקות 2% יש לבדוק מחדש.  
 ב. הוא בוודאות לא ידחה את השערת האפס ברמת מובהקות 9% ואילו ברמת מובהקות 2% יש לבדוק מחדש.  
 ג. הוא בוודאות ידחה את השערת האפס ברמת מובהקות 9% וברמת מובהקות 2%.  
 ד. הוא בוודאות לא ידחה את השערת האפס ברמת מובהקות 9% ואילו ברמת מובהקות 2% יש לבדוק מחדש.

11. רמת הכולסטרול בדמם של אנשים מתפלג נורמאלית עם תוחלת של 180 מ"ג (ל 100 סמ"ק דם). וסטיית

לפתרון מלא בסרטון וידאו היכנסו ל- [www.Gool.co.il](http://www.Gool.co.il)

תקן של 10 מ"ג. מעוניינים לבדוק את הטענה שצמחונים הם בעלי רמת כולסטרול נמוכה יותר. נניח שסטיית התקן אצל צמחונים זהה לסטיית התקן של כלל האנשים. במדגם של 20 צמחונים התקבל ממוצע רמת כולסטרול 174.5 מ"ג.

אם הוחלט לקבל את הטענה שצמחונים הם בעלי רמת כולסטרול נמוכה יותר איזה סוג טעות אפשרית במסקנה?  
 א. טעות מסוג ראשון.  
 ב. טעות מסוג שני.  
 ג. טעות מסוג שלישי.  
 ד. לא ניתן לדעת כיוון שאנו לא יודעים מה התוחלת האמיתית אצל הצמחוניים.

12. בסקר שנערך התקבל ש 60% מתוך 220 נשאלים מבקרים אצל השיננית לפחות פעם אחת בשנה. עבור אילו רמות מובהקות ניתן יהיה לקבוע שרוב האוכלוסייה מבקרת אצל השיננית לפחות פעם בשנה?  
 א. רמת מובהקות הגדולה מ-5%.  
 ב. רמת מובהקות הקטנה מ-5%.  
 ג. רמת מובהקות הגדלה מ-0.0015.  
 ד. רמת מובהקות הקטנה מ-0.0015.

13. שני חוקרים העוסקים בתחום מחקרי משותף החליטו להסתמך על נתונים של מדגם שפורסם על ידי הלשכה המרכזית לסטטיסטיקה. חוקר א' ניסח השערה דו צדדית ואילו חוקר ב' ניסח השערה חד צדדית. מסקנתו של איזה מבין המשפטים הבאים הוא הנכון בנוגע למסקנות החוקרים?  
 א. אם חוקר א' ידחה את השערת האפס לא ניתן לדעת מה יחליט חוקר ב' באותה רמת מובהקות.  
 ב. אם חוקר א' יקבל את השערת האפס גם חוקר ב' יקבל את השערת האפס באותה רמת מובהקות.  
 ג. אם חוקר ב' ידחה את השערת האפס גם חוקר א' ידחה את השערת האפס באותה רמת מובהקות.  
 ד. אם חוקר א' ידחה את השערת האפס גם חוקר ב' ידחה את השערת האפס בתנאי שרמת המובהקות כפולה בגודלה.

14. ידוע מנתוני העבר כי תוחלת הציונים בבחינה בפסיכולוגיה היא 79. הועלתה השערה כי תוחלת הציונים

בקרב העולים החדשים נמוכה יותר. לצורך בדיקת הטענה נלקח מדגם מקרי של 47 סטודנטים עולים ונמצא ממוצע של 75. מה משמעות הפרמטר בניסוח ההשערות?

א. תוחלת ציוני העולים באוכלוסייה.

ב. ממוצע ציוני העולים במדגם.

ג. תוחלת ציוני האוכלוסייה מנתוני העבר.

ד. ממוצע ציוני שאר האוכלוסייה במדגם.

15. חוקר ביצע מחקר וידוע כי עשה טעות מסוג 1. מה מהבאים נכון?

א. החוקר דחה את השערת  $H_0$  כאשר היא הייתה נכונה.

ב. החוקר דחה את השערת  $H_1$  כאשר היא הייתה נכונה.

ג. החוקר לא דחה את השערת  $H_0$  כאשר היא הייתה לא נכונה.

ד. המדגם של החוקר שייך בפועל להתפלגות הדגימה של  $H_1$ .

16. חוקר ביקש לבחון האם תאומים זהים אשר הופרדו בילדותם שונים מתאומים זהים אשר גדלו יחדיו

מבחינת מידת הפער בין התאומים בלחץ הדם. הוא דגם 20 זוגות תאומים מכל אוכלוסייה ומדד את

הפרש בין לחץ הדם בכל זוג תאומים. מהו המבחן הסטטיסטי המתאים?

א. מבחן  $t$  למדגמים בלתי תלויים עם 38 דרגות חופש.

ב. מבחן  $t$  למדגמים מזווגים, עם 39 דרגות חופש.

ג. מבחן  $t$  למדגמים בלתי תלויים עם 39 דרגות חופש.

ד. מבחן  $t$  למדגמים מזווגים עם 38 דרגות חופש.

17. בינואר השנה פורסם שהשכר הממוצע במשק הוא 8,900 ₪. במדגם שנעשה בחודש יוני על 60 עובדים

נרשם עבור כל עובד במדגם האם השכר שלו נמוך או לא נמוך מהשכר הממוצע שפורסם בחודש ינואר.

מהו המבחן המתאים כדי לבדוק שרוב העובדים בחודש יוני קיבלו שכר הנמוך מהשכר הממוצע שפורסם

בחודש ינואר?

א. מבחן  $Z$  על פרופורציה.

ב. מבחן  $t$  על תוחלת אחת.

ג. מבחן  $t$  על שתי תוחלות במדגמים בלתי תלויים.

ד. מבחן  $t$  על שתי תוחלות במדגמים תלויים.

18. שלושה חוקרים רצו לבדוק את השפעתו של שידור פרסומות נגד תאונות דרכים על מהירות הנהיגה של

- נהגים בישראל (השוונות של מהירות הנהיגה בישראל אינה ידועה).  
 עידו השווה את מהירות הנהיגה של קבוצת נהגים אחת, חודש לפני שידור הפרסומות וחודש לאחר שידור הפרסומות.  
 רון השווה את מהירות הנהיגה של קבוצת נהגים, שראו את הפרסומות, למהירות הנהיגה של קבוצת נהגים, שלא ראו את הפרסומות.  
 יואב השווה את מהירות הנהיגה של קבוצת נהגים בחודש בו שודרו הפרסומות, למהירות הנהיגה הממוצעת בישראל על פי נתוני משרד התחבורה.  
 המבחנים בהם צריכים החוקרים להשתמש הם:  
 א. שלושתם במבחן  $t$  למדגמים בלתי תלויים.  
 ב. עידו במבחן  $t$  למדגמים מזווגים, ורון ויואב במבחן  $t$  למדגמים בלתי תלויים.  
 ג. עידו במבחן  $t$  למדגמים מזווגים, רון במבחן  $t$  למדגמים בלתי תלויים ויואב במבחן  $t$  למדגם יחיד.  
 ד. עידו במבחן  $t$  למדגמים מזווגים, רון ויואב במבחן  $t$  למדגם יחיד.

19. במחקר נמצא שתוצאה היא מובהקת ברמת מובהקות של 5%. מה תמיד נכון?

- א. הגדלת רמת המובהקות לא תשתנה את מסקנת המחקר.  
 ב. הגדלת רמת המובהקות תשנה את מסקנת המחקר.  
 ג. הקטנת רמת המובהקות לא תשנה את מסקנת המחקר.  
 ד. הקטנת רמת המובהקות תשנה את מסקנת המחקר.

20. חוקר ערך מבחן דו צדדי ברמת מובהקות של  $\alpha$  והחליט לדחות את השערת האפס.

אם החוקר היה עורך מבחן חד צדדי ברמת מובהקות של  $\frac{\alpha}{2}$  אזי בהכרח:

- א. השערת האפס הייתה נדחית.  
 ב. השערת האפס הייתה לא נדחית.  
 ג. לא ניתן לדעת מה תהיה מסקנתו במקרה זה.

21. ליאור ורוני העלו את אותן השערות על ממוצע האוכלוסייה. כמו כן הם התבססו על אותן תוצאות של מדגם.

ליאור השתמש בטבלה של התפלגות  $Z$ .

רוני השתמש בטבלה של התפלגות  $t$ .

מה נוכל לומר בנוגע להחלטת המחקר שלהם?

- א. אם ליאור ידחה את השערת האפס אז גם בהכרח רוני.  
 ב. אם רוני ידחה את השערת האפס אז גם בהכרח ליאור.  
 ג. שני החוקרים בהכרח יגיעו לאותה מסקנה.  
 ד. לא ניתן לדעת על היחס בין דחיית השערת האפס של שני החוקרים.

22. נתון ש  $X \sim N(\mu, \sigma^2)$  כמו כן נתונות ההשערות הבאות:

$$H_0 : \mu = \mu_0$$

$$H_1 : \mu < \mu_0$$

חוקר בדק את ההשערות הללו על סמך מדגם שכלל 10 תצפיות.  $\sigma^2$  לא הייתה ידועה לחוקר. החוקר החליט לדחות את השערת האפס ברמת מובהקות של 5% לאחר מכן כדי לחזק את קביעתו הוא דגם עוד 5 תצפיות ושקלל את תוצאות אלה גם למדגם כך שכלל עכשיו 15 תצפיות.

א. כעת בברור הוא ידחה את השערת האפס.

ב. כעת הוא דווקא יקבל את השערת האפס.

ג. כעת לא ניתן לדעת מה תהיה מסקנתו.

23. אם חוקר החליט להגדיל את רמת המובהקות במחקר שלו אזי :

א. הסיכוי לטעות מסוג ראשון גדל.

ב. העוצמה של המבחן גדלה.

ג. הסיכוי לטעות מסוג שני גדל.

ד. תשובות א ו-ב נכונות.

24. חוקר ביצע מחקר ובו עשה טעות מסוג שני לכן :

א. השערת האפס נכונה.

ב. השערת האפס נדחתה.

ג. השערת האפס לא נדחתה.

ד. אף אחת מהתשובות לא נכונה בהכרח.

25. מה המצב הרצוי לחוקר המבצע בדיקת השערה :

$1 - \beta$	$\alpha$
גדולה	ה. גדולה
קטנה	ו. גדולה
גדולה	ז. קטנה
קטנה	ח. קטנה

26. נערך שינוי בכלל ההחלטה של בדיקת השערה מסוימת ובעקבותיו אזור דחיית

$H_0$  קטן. כל שאר הגורמים נשארו ללא שינוי. כתוצאה מכך :



א. הן  $\alpha$ , והן  $(1 - \beta)$ , יקטנו.

ב.  $\alpha$  יישאר ללא שינוי ואילו  $(1 - \beta)$  יגדל.

ג.  $\alpha$  יגדל ואילו  $(1 - \beta)$  יקטן.

ד. הן  $\alpha$  והן  $(1 - \beta)$  יגדלו.

27. ידוע כי לחץ דם תקין באוכלוסייה הוא 120. רופא מניח שלחץ הדם בקרב עיתונאים גבוה יותר מהממוצע באוכלוסייה. הוא לקח מדגם של 60 עיתונאים וקיבל ממוצע 137. על סמך המדגם, הוא בודק טענתו ברמת מובהקות 0.02 ומסיק שלחץ הדם בקרב העיתונאים אינו גבוה יותר. מה הטעות האפשרית שהרופא עושה ?

א. טעות מסוג ראשון.

ב. טעות מסוג שני.

ג. טעות מסוג שלישי.

ד. אין טעות במסקנתו.

28. בבדיקת השערות התקבל שה-  $p\text{-value}=0.02$ .

מה תהיה מסקנת חוקר המשתמש ברמת מובהקות 1%? בחר בתשובה הנכונה.

ה. יקבל את השערת האפס בכל מקרה.

ו. ידחה את השערת האפס מקרה.

ז. ידחה את השערת האפס רק אם המבחן הנו דו צדדי.

ח. לא ניתן לדעת כי אין מספיק נתונים.

29. מובהקות התוצאה ( $PV$ ) היא גם :

א. רמת המובהקות המינימאלית לדחות השערת האפס.

ב. רמת המובהקות המקסימאלית לדחיית השערת האפס.

ג. רמת המובהקות שנקבעת מראש על ידי החוקר טרם קיבל את תוצאות המחקר.

ד. רמת המובהקות המינימאלית לאי דחיית השערת האפס.

30. בבדיקת השערות מסוימת התקבל  $p\text{ value}=0.0254$  לכן :

א. ברמת מובהקות של 0.01 אך לא של 0.05 נדחה את  $H_0$ .

ב. ברמת מובהקות של 0.01 ושל 0.05 לא נדחה את  $H_0$ .

ג. ברמת מובהקות של 0.05 אך לא של 0.01 נדחה את  $H_0$ .

ד. ברמת מובהקות של 0.01 ושל 0.05 נדחה את  $H_0$ .

31. רמת המובהקות במחקר הייתה 2% לכן.

א. בסיכוי של 2% נדחה את השערת האפס.

ב. בסיכוי של 2% לא נדחה את השערת האפס.

- ג. בסיכוי של 2% השערת האפס לא נכונה.  
ד. אף תשובה לא נכונה.

32. נתון ש  $X \sim N(\mu, \sigma^2)$  כמו כן נתונות ההשערות הבאות :

$$H_0 : \mu = \mu_0$$

$$H_1 : \mu < \mu_0$$

- חוקר בדק את ההשערות הללו על סמך מדגם שכלל 10 תצפיות.  $\sigma^2$  לא הייתה ידועה לחוקר. החוקר החליט לדחות את השערת האפס ברמת מובהקות של 5%. אם הוא היה מגדיל את רמת המובהקות ל-10% אזי:
- א. כעת בברור הוא ידחה את השערת האפס.  
ב. כעת הוא דווקא יקבל את השערת האפס.  
ג. כעת לא ניתן לדעת מה תהיה מסקנתו.

33. לצורך בדיקת השפעת היפנוזה על לימוד אנגלית, נבחרו 10 זוגות תאומים זהים. אחד התאומים למד אנגלית בהשפעת היפנוזה, והשני ללא היפנוזה. לאחר מכן נערך לשניהם מבחן באנגלית. נניח שציוני המבחן מתפלגים נורמאלית ללא ידיעת השונות האמתית. מספר דרגות החופש במבחן הוא :

א. 9

ב. 19

ג. 18

ד. 8

34. בתחנת טיפת חלב מסוימת יש שני מכשירי שקילה. על מנת להשוות בין שני המשקלים נדגמו 4 תינוקות. כל תינוק בן חודשיים נשקל בכל אחד מהמשקלים. להלן תוצאות השקילה (בק"ג):

משקל במכשיר 1	5.4	6.9	7.0	5.2
---------------	-----	-----	-----	-----

לפתרון מלא בסרטון וידאו היכנסו ל- [www.GooL.co.il](http://www.GooL.co.il)

משקל במכשיר 2	5.3	6.9	7.1	5.0
---------------	-----	-----	-----	-----

נניח שהמשקלים מתפלגים נורמלית.

המבחן שיש לבצע כאן הוא:

א. מבחן Z למדגם יחיד.

ב. מבחן T למדגם יחיד.

ג. מבחן T למדגמים בלתי תלויים.

ד. מבחן T למדגמים מזווגים.

35. כדי להשוות בין שני אצים נדגמו 5 תוצאות מריצת 100 מטר של כל אצן. זמני הריצה נרשמו

ויש להניח שמתפלגים נורמלית. המטרה להשוות בין האצנים.

המבחן שיש לבצע כאן הוא:

א. מבחן Z למדגם יחיד.

ב. מבחן T למדגם יחיד.

ג. מבחן T למדגמים בלתי תלויים.

ד. מבחן T למדגמים מזווגים.

36. סטטיסטיקאי ערך מבחן סטטיסטי. הוא חישב את עוצמת המבחן וקיבל 0. המשמעות של

תוצאה זו היא:

א. לעולם לא לדחות את השערת האפס כאשר היא לא נכונה.

ב. תמיד לדחות את השערת האפס כאשר היא נכונה.

ג. לעולם לא לדחות את השערת האפס כאשר היא נכונה.

ד. תמיד לדחות את השערת האפס כאשר היא לא נכונה.

37. סטטיסטיקאי נתבקש לאמוד את הפרש הממוצעים של שני טיפולים לפי שני מדגמים

מקריים בלתי תלויים.

הוא חישב רווח סמך להפרש ברמת סמך 0.98, וקיבל את הרווח  $-2 < \mu_1 - \mu_2 < 4.5$ .

אילו יתבקש החוקר לבדוק לפי אותם נתונים את ההשערות:

:  $H_1 : \mu_1 - \mu_2 \neq 0$  ;  $H_0 : \mu_1 - \mu_2 = 0$  , ברמת מובהקות 0.05 מסקנתו תהיה :

- ה. לדחות את השערת האפס.
- ו. לא לדחות את השערת האפס.
- ז. שלא ניתן לדעת את המסקנה עבור רמת מובהקות 0.05 .
- ח. שלא נתונות בשאלה סטיות התקן של האוכלוסיות, ולכן לא ניתן להסיק דבר.

38. במטרה לבדוק האם קיים הבדל בין קווי זהב לבזק מבחינת ממוצע המחירים

לשיחות בינ"ל. נגדמו באקראי 7 מדינות ועבור כל מדינה נבדקה עלות דקת שיחה.

בהנחה והמחירים מתפלים נורמלית בנו רווח סמך לממוצע ההפרשים וקיבלו :

$$-0.0293 < \mu_D < 0.2145$$

רווח הסמך הוא ברמת סמך של 95%.

לכן מסקנת המחקר היא :

- ד. ברמת מובהקות של 5% לא נוכל לקבוע שקיים הבדל בין החברות.
- ה. ברמת מובהקות של 5% נקבע שקיים הבדל מובהק בין החברות.
- ו. לא ניתן לדעת מה המסקנה ברמת מובהקות של 5% כיוון שלא נאמר מה ההגדרה של D.

39. אם רמת מובהקות של מבחן סטטיסטי הינה 0, הכוונה היא :

- א. תמיד נדחה  $H_0$  כאשר היא נכונה אך לא תמיד נדחה אותה כאשר היא לא נכונה.
- ב. לא נדחה את  $H_0$  אף פעם.
- ג. לא נדחה את  $H_0$  כאשר היא נכונה אך יתכן ונדחה אותה כאשר היא לא נכונה.
- ד. כל התשובות לא נכונות.

40. חוקר ביצע ניסוי. הוא ניסח את ההשערות הבאות:  $H_0: \mu = 10$  לצורך בדיקה הוא לקח  $H_1: \mu \neq 10$

- מדגם מקרי בגודל 5 מתוך אוכלוסייה המתפלגת נורמאלית עם שונות לא ידועה. על סמך תוצאות המדגם הוא חישב וקיבל:  $t_{\bar{x}} = -2.63$ . לכן המסקנה היא:
- הוא ידחה  $H_0$  ברמת מובהקות 0.1 אך לא כן ברמת מובהקות 0.05.
  - הוא ידחה  $H_0$  ברמת מובהקות 0.05 אך לא כן ברמת מובהקות 0.025.
  - הוא ידחה  $H_0$  ברמת מובהקות 0.025 אך לא כן ברמת מובהקות 0.01.
  - הוא לא ידחה  $H_0$  ברמת מובהקות 0.1.

41. האיגוד האמריקני לרפואת ילדים מפרסם הנחיות חדשות הקובעות כי יש ליטול תוספת יוד במהלך תקופת ההיריון וההנקה. מחסור במינרל זה עלול לגרום לפגיעה מוחית אצל העובר והתינוק. החלטה זו נקבעה על סמך מחקר בו השתתפו 1050 נשים שנטלו יוד במהלך תקופת ההיריון וההנקה. מתוך הנשים שהשתתפו במחקר רק ל-21 נמצאו ילדים בעלי פגיעה מוחית לעומת 3% באוכלוסייה הכללית. בנוסף פרסם שהאיגוד האמריקאי מגיע למסקנותיו על סמך רמת מובהקות של 0.5%.

מה הסיכוי לבצע טעות מסוג ראשון במחקר?

- 0.005
- 0.03
- 0.0287
- 0.05

42. חוקרת שיערה, כי משקלן של נשים כשנה לאחר החתונה גבוה ממשקלן בעת החתונה. החוקרת דגמה 15 נשים, ובדקה את משקלן בשתי נקודות הזמן (בעת החתונה, ושנה לאחריה), אך לא מצאה הבדל מובהק ברמת מובהקות 0.01 בהנחה, כי **במציאות** השערתה של החוקרת נכונה, **סביר** כי אם היא תגדיל את גודל המדגם, אזי:

- יקטן הסיכוי לטעות מסוג שני ( $\beta$ ).
- תגדל רמת הביטחון ( $1-\alpha$ ).
- אף תשובה לא נכונה.
- כל התשובות נכונות.

43. איזה מהמשפטים הבאים נכון תמיד?

א.  $POWER + \beta + \alpha = 1$

ב.  $\beta - POWER = .05$

ג.  $POWER + \alpha = 1$

ד.  $\beta + \alpha = 1$

ה. הכול לא נכון

44. מה נכון לומר לגבי הנחת שיוויון השונויות במבחן T למדגמים בלתי תלויים?

א. היא אומרת שהשונויות המדגמיות שוות.

ב. בלעדיה אין שום דרך לבדוק השערה על הפרש בין תוחלות.

ג. היא חשובה הן עבור מדגמים מזווגים והן עבור מדגמים בלתי תלויים.

ד. אף תשובה אינה נכונה.

45. חוקר החליט לא לדחות השערה ברמת מובהקות של  $\alpha$ . במידה וחוקר זה היה בודק השערה זו

ברמת מובהקות של  $2\alpha$  על סמך אותם נתונים האם ההשערה תדחה?

א. ההשערה תדחה.

ב. ההשערה לא תדחה.

ג. התשובה תלויה בעוצמת המבחן.

ד. לא ניתן לדעת בוודאות אם ההשערה תדחה או לא.

46. חוקרת שיערה, כי בגילאי הגן בנות יותר תקשורתיות מבנים. אם החוקרת תדגום אקראית 30 בנים ו-

30 בנות, ובמדגם יתקבל אותו ממוצע של ציון תקשורת. סטטיסטי המבחן יהיה:

א. אפס

ב. חיובי

ג. שלילי

ד. לא ניתן לדעת

47. עוצמה שווה ל-1 פרושה:

א. לעולם לא לדחות את השערת האפס כאשר היא נכונה.

ב. תמיד לדחות את השערת האפס כאשר היא נכונה.

ג. לעולם לא לדחות את השערת האפס כאשר היא לא נכונה.

48. מה מהבאים נכון לגבי מבחן t מדגמים מזווגים?

- א. כל התצפיות במחקר אינן תלויות זו בזו.
- ב. כל התצפיות במחקר תלויות זו בזו.
- ג. כל הצמדים של תצפיות במחקר אינם תלויים זה בזה.
- ד. התצפיות בתוך כל צמד אינן תלויות זו בזו.

49. לבדיקת ההשערה החד צדדית על התוחלת של התפלגות נורמלית נלקח מדגם

$$H_0 : \mu \geq 10$$

$$H_1 : \mu < 10$$

והתקבלה רמת מובהקות מינימאלית לדחיית השערת האפס 0.058. לו רצינו לבדוק את ההשערה

הדו צדדית  $H_0 : \mu = 10$ , אז על סמך תוצאת אותו המדגם ברמת מובהקות 0.05:

$$H_1 : \mu \neq 10$$

- א. ניתן להכריע בין ההשערות רק אם שונות האוכלוסייה נתונה.
- ב. מקבלים את השערת האפס.
- ג. דוחים את השערת האפס.
- ד. לא ניתן להכריע בין ההשערות שכן חסרים נתונים.

50. לבדיקת ההשערה החד צדדית ימנית נלקח מדגם מקרי בגודל  $n$   $H_0 : \mu = 55$   
 $H_1 : \mu = 65$

מאוכלוסייה בעלת התפלגות נורמלית ושונות  $\sigma^2$ . רמת המובהקות היא 5%. נמצא שהעוצמה היא 0.9. להלן 3 טענות:

(1) עבור מדגם בגודל  $n$  וברמת מובהקות 5% לבדיקת ההשערות:  $H_0 : \mu = 55$   
 $H_1 : \mu = 60$  תהיה גדולה מ- 0.9.

(2) עבור מדגם בגודל  $2n$  ורמת מובהקות 5% לבדיקת ההשערות:  $H_0 : \mu = 55$   
 $H_1 : \mu = 65$  תהיה גדולה מ- 0.9.

(3) עבור מדגם בגודל  $n$  ורמת מובהקות 10% לבדיקת ההשערות:  $H_0 : \mu = 55$   
 $H_1 : \mu = 65$  תהיה קטנה מ- 0.9.

א. שלושת הטענות אינן נכונות.

ב. טענות 2 ו-3 אינן נכונות וטענה 1 נכונה.

ג. טענות 1 ו-2 נכונות וטענה 3 אינה נכונה.

ד. טענות 1 ו-3 אינן נכונות וטענה 2 נכונה.



פתרונות :

א	2	א	1
ב	2	ב	2
א	2	ב	3
א	2	א	4
ג	3	ג	5
ב	3	ג	6
א	3	א	7
א	3	ב	8
ב	3	ג	9
ג	3	א	1
א	3	א	1
ג	3	ג	1
א	3	א	1
ג	3	א	1
א	4	א	1
א	4	א	1
א	4	א	1
ה	4	ג	1
ב	4	א	1
ב	4	ג	2
א	4	ב	2
ב	4	ג	2
ג	4	ב	2
ב	4	ג	2
ב	4	ג	2
ב	5	ג	2

## פרק 32 - מבחני חי בריבוע

### א. מבחן טיב התאמה

1. במטרה לבדוק האם קובייה הוגנת, מטילים אותה 120 פעמים. התקבל 17 פעמים 1, 23 פעמים 2, 20 פעמים 3, 25 פעמים 4, 18 פעמים 5 ו- 17 פעמים 6. מה מסקנתכם ברמת מובהקות של 5%?

2. מפעל מייצר סוכריות בצבעים כחול, אדום, ירוק וכתום. מעוניינים לבדוק שפרופורציית הסוכריות הכחולות גדולה פי 2 מכל צבע אחר. לצורך כך נדגמו באקראי 200 סוכריות והתקבל: 70 כחולות, 50 אדומות, 40 ירוקות והיתר כתומות. מה מסקנתכם ברמת מובהקות של 5%?

3. משרד החינוך טוען שבקרב השכירים במשק היחס בין השכירים בעלי השכלה נמוכה, תיכונית ואקדמאית הוא 1: 2: 1 בהתאמה. במדגם של 200 שכירים התקבלו 56 אנשים בעלי השכלה נמוכה, 105 בעלי השכלה תיכונית והיתר בעלי השכלה גבוהה. ע"ס תוצאות המדגם האם התפלגות ההשכלה היא כמו שמשדר החינוך מפרסם? בדוק ברמת מובהקות של 5%.

4. בפנס יש 4 סוללות. בבדיקה שנערכה ב-400 פנסים נמצאו סוללות פגומות לפי השכיחויות הבאות:

מספר הסוללות הפגומות	0	1	2	3 ומעלה
שכיחות	276	104	12	8

מעוניינים לבדוק על סמך תוצאות מדגם אלה האם הסיכוי לסוללה פגומה הוא 20%. בדוק ברמת מובהקות של 5%.

**ב. מבחן אי תלות**

1. במפעל עובד בשלוש משמרות. להלן מספר המוצרים הפגומים והתקינים בכל אחת מן המשמרות לפי מדגם שנעשה :

	יום	ערב	לילה
פגומים	50	60	70
תקינים	600	700	800

האם קיים קשר בין טיב המוצר למשמרת שלו? הסיקו עבור רמת מובהקות  $\alpha = 0.05$ .

2. בקרב מדגם של 200 נשים 120 טענו שהן תצבענה למועמד R לראשות העיר. בקרב מדגם של 200 גברים 80 טענו שהם יצביעו למועמד R האם קיים הבדל בין דפוס ההצבעה של הנשים ושל הגברים? בדוק ברמת מובהקות של 5%.

3. בחנות בגדים A בדקו את התפלגות הצבעים של הבגדים הנמכרים ביום מסוים :

צבע	שחור	לבן	אדום	כחול
מספר הפריטים	15	20	15	50

כמו כן בדקו את התפלגות הצבעים בחנות שכנה B :

צבע	שחור	לבן	אדום	כחול
מספר הכדורים	60	20	10	20

- א. בדוק ברמת מובהקות של 5% האם התפלגות הצבעים בחנות A היא ביחס של 1:1:1:3 לטובת הכחול.  
 ב. בדוק ברמת מובהקות של 2.5% האם קיים הבדל בין החניית מבחינת התפלגות הצבעים של הפריטים הנמכרים.

**תשובות סופיות - מבחני חי בריבוע**

**פרק א' - מבחן טיב התאמה**

<b><u>שאלה 2</u></b>	<b><u>שאלה 1</u></b>
$H_0$ נקבל	$H_0$ נקבל
<b><u>שאלה 4</u></b>	<b><u>שאלה 3</u></b>
$H_0$ נדחה	$H_0$ נקבל

**פרק ב' - מבחן לאי תלות**

<b><u>שאלה 2</u></b>	<b><u>שאלה 1</u></b>
$H_0$ נדחה	$H_0$ נקבל
	<b><u>שאלה 3</u></b>
	א. נקבל $H_0$
	ב. נדחה $H_0$

## פרק 33 - ניתוח שונות חד כיוונית

### רקע תיאורטי:

ניתוח שונות (חד כיווני) הוא מבחן להשוואת תוחלות ( $\mu_1, \dots, \mu_k$ ) של k אוכלוסיות שונות. ולכן בניתוח שונות השערות המחקר הן:

$$H_0 : \mu_1 = \mu_2 = \dots = \mu_k \quad (\text{התוחלות של כל האוכלוסיות שוות})$$

$$H_1 : \quad \text{אחרת} \quad (\text{לפחות שתיים מהתוחלות שונות})$$

התנחות הדרושות לביצוע התהליך הן:

1. בכל אוכלוסייה מתוך k האוכלוסיות ההתפלגות נורמלית.

2. כל האוכלוסיות הן עם אותה שונות  $\sigma^2$ .

3. המדגמים בלתי תלויים זה בזה.

ישנו משתנה המבדיל בין הקבוצות השונות, הוא המשתנה הבלתי תלוי הנקרא גורם (factor)

משתנה זה הוא קטגוריאלי עם k רמות (levels).

כדי לבצע את התהליך יש לבצע מדגם מכל אוכלוסייה:

נסמן ב-  $n_i$  את גודל המדגם בקבוצה i.

$$n = \sum_{i=1}^k n_i \quad \text{- מספר התצפיות סך הכול (בכל המדגמים)}$$

$\bar{X}_1$  - ממוצע המדגם הראשון,  $\dots, \bar{X}_k$  - ממוצע המדגם ה-k-י.

$\bar{X}$  - ממוצע כללי (של כל המדגמים).

$$SS_B = \sum_{i=1}^k n_i [\bar{X}_i - \bar{X}]^2 \quad \text{סכום ריבועים בין הקבוצות}$$

$$SS_W = \sum_{i=1}^k [n_i - 1] \cdot \hat{S}_i^2 \quad \text{סכום ריבועים בתוך הקבוצות}$$

$$SS_T = \sum_{i=1}^k \sum_{j=1}^{n_j} [X_{ij} - \bar{X}]^2 \quad \text{סכום ריבועים כללי :}$$

$$SST = SSB + SSW$$

[www.GooL.co.il](http://www.GooL.co.il) לפתרון מלא בסרטון וידאו היכנסו ל-

© כתב ופתר - ברק קנדל

יש למלא את טבלת ניתוח השונות הבאה :

טבלת ניתוח שונות

מקור השונות	סכום הריבועים SS	דרגות חופש df	ממוצע הריבועים MS	F
B-בין הקבוצות	SSB	k - 1	$\frac{SSB}{k - 1}$	$\frac{MSB}{MSW}$
W-בתוך הקבוצות	SSW	n - k	$\frac{SSW}{n - k}$	
T-סה"כ	SST	n - 1		

$$F = \frac{SS_B / (k - 1)}{SS_W / (n - k)} \sim F(k - 1, n - k)$$

$$F > F_{(k-1), (n-k); 1-\alpha} : H_0 \text{ איזור דחיית}$$

### תרגילים:

1. מחקר מעוניין להשוות בין שלוש תרופות לשיכוך כאבים במטרה לבדוק האם קיים הבדל בין התרופות מבחינת הזמן בדקות שלוקח עד שהתרופה משפיעה. לצורך הבדיקה נלקחו 15 אנשים שסובלים מכאבי ראש. אנשים אלה חולקו באקראי לשלוש : קבוצה 1 קיבלה "אקמול" קבוצה 2 קיבלה "אופטלגין" קבוצה 3 קיבלה "נורופן".
- כל אדם במחקר מסר את מספר הדקות עד שהתרופה השפיעה עליו.
- א. מהו המשתנה התלוי ומהו המשתנה הבלתי תלוי במחקר? מהו ה"גורם" וכמה רמות יש לו?
- ב. מהו המבחן הסטטיסטי המתאים כאן? רשמו את ההשערות.
- ג. מה הן ההנחות הדרושות כדי לבצע את המבחן הסטטיסטי שהצעת בסעיף הקודם?

2. בעיר מסוימת שלושה בתי ספר תיכון. ראש העיר התעניין לבדוק האם קיים הבדל בהצלחה של בתי הספר במקצוע מתמטיקה. לצורך כך הוא דגם מספר תלמידים שנבחנו במבחן הבגרות במתמטיקה ברמה של 3 יחידות בעירו ובדק עבור כל תלמיד מה ציון הבגרות שלו במתמטיקה.
- להלן הציונים שהתקבלו :

בית הספר	"המתמיד"	"רביץ"	"הס"
	78	98	85
	65	62	83
	70	55	74
	90	80	85
	56		75

- א. מהו המבחן הסטטיסטי המתאים? רשמו את ההשערות ואת ההנחות של המבחן.
- ב. מהו גודל המדגם? מהו המשתנה הבלתי תלוי (FACTOR) כמה רמות יש לו?
- ג. חשבו את הממוצע ואת סטיית התקן של הציונים בכל אחד מהמדגמים.
- ד. מלאו את טבלת ANOVA.
- ה. רשמו את כלל ההכרעה למבחן שהוצע בסעיף א ברמת מובהקות של 5%.
- ו. האם קיים הבדל בין בתי הספר בעיר מבחינת רמת הצלחת התלמידים במקצוע המתמטיקה? ענה על סמך הסעיפים הקודמים.

3. מעוניינים לבדוק האם יש הבדל בהשפעה של שיטות טפול שונות על לחץ הדם הסיסטולי (SBP) באוכלוסייה של קשישים. נבדקו 4 שיטות שונות. בטבלה המצורפת מרוכזים ממצאי המחקר.

השיטה	A	B	C	D
גודל המדגם	12	14	8	12
הממוצע	178	172	180	182
סטיית התקן	4	8	5	3

- א. רשמו את השערות המחקר וההנחות הדרושות כדי לבצע את המבחן המתאים.  
 ב. מה מסקנת המחקר ברמת מובהקות של 5%?  
 ג. האם יש צורך לבצע השוואות מרובות?

4. שלושה אופים נתבקשו להכין עוגת שוקולד. לכל אופה בדקו את משך זמן ההכנה בדקות.  
 כל אופה נדרש לאפות בכל יום 4 עוגות.

האופה	ניר	מוזס	שלום
סכום הזמנים	206	212	182
סכום ריבועי הזמנים	10644	11250	8982

האם קיים הבדל בין האופים מבחינת תוחלת זמני ההכנה של העוגות? בדקו ברמת מובהקות של 5%.



5. להלן טבלת ניתוח שונות חד כיוונית. במחקר בחנו 4 סוגי סוללות. רצו לבדוק האם לסוג הסוללה השפעה על תוחלת אורך החיים שלה. הפעילו את כל הסוללות על אותו מכשיר ובדקו את אורך החיים של כל סוללה בשעות.

### ANOVA

	Sum of Squares	df	Mean Square	F	Sig.
Between Groups	10.317	3	3.439	1.361	.279
Within Groups	60.648	24	2.527		
Total	70.964	27			

מה המסקנה ברמת מובהקות של 10%: רשמו את ההשערות וההנחות הדרושות.

6. להלן טבלת ANOVA בטבלה הושמטו חלקים. השלם את החלקים בטבלה שהושמטו ומסומנים באותיות.

### ANOVA

	Sum of Squares	df	Mean Square	F	Sig.
Between Groups	357.450	ב	ג	ה	.000
Within Groups	א	17	ד		
Total	522.950	19			

**פתרונות סופיים חלקיים - ניתוח שונות חד כיוונית**

2. אם חישבת נכון ה F הסטטיסטי יוצא: 0.58

3. נדחה את השערת האפס.

4. להלן טבלת הניתוח השונות המתקבלת:

	Sum of Squares	df	Mean Square	F
Between Groups	126.000	2	63.000	.756
Within Groups	750.000	9	83.333	
Total	876.000	11		

5. נקבל את השערת האפס.

6. א. 165.5 ב. 2 ג. 178.725 ד. 9.375 ה. 18.36

## פרק 34 - מדדי קשר - מדד הקשר הלינארי (פירסון)

### רקע:

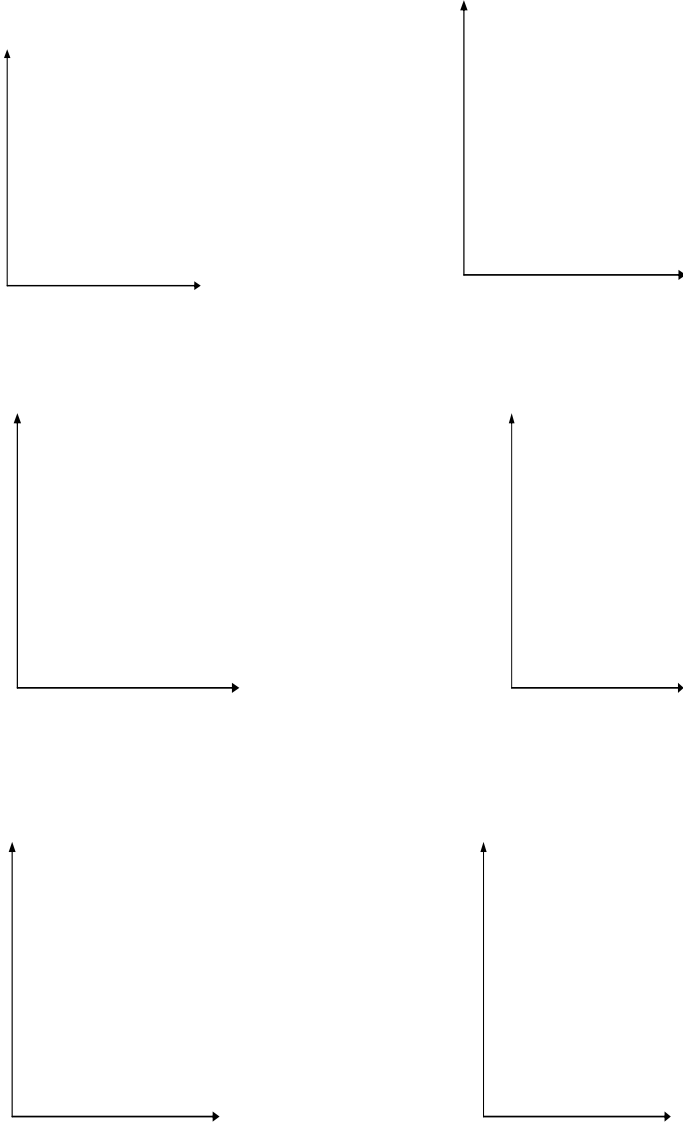
המטרה היא לבדוק האם קיים קשר (קורלציה, מתאם) של קו ישר בין שני משתנים כמותיים. מבחינת סולמות המדידה קשר בין סולמות רווחים ומנה. בדרך כלל, X הוא המשתנה המסביר (הבלתי תלוי) ו Y הוא המשתנה המוסבר (התלוי). למשל, נרצה להסביר כיצד השכלה של אדם הנמדדת בשנות לימוד X- מסבירה את ההכנסה שלו Y. במקרה זה שנות ההשכלה זהו המשתנה המסביר ( או הבלתי תלוי ) ואנחנו מעוניינים לבדוק כיצד שינויים בשנות ההשכלה של אדם יכולים להסביר את השינויים שלו בהכנסה, ולכן רמת ההכנסה זהו המשתנה המוסבר התלוי במשתנה המסביר אותו. בשלב הראשון, נהוג לשרטט דיאגרמת פיזור. זו דיאגרמה שנותנת אינדיקציה ויזואלית על טיב הקשר בין שני המשתנים. למשל, בבניין של 5 דירות בדקו את הנתונים הבאים: X - מס' חדרים בדירה. Y - מס' נפשות הגרות בדירה. להלן התוצאות שהתקבלו:

מס' דירה	X	Y
1	3	2
2	2	2
3	4	3
4	3	3
5	5	4

נשרטט מנתונים הללו דיאגרמת פיזור:



נתבונן בכמה מקרים של דיאגרמות פיזור וננתח אותן :



בשלב השני, מחשבים את מקדם המתאם (מדד הקשר) שבודק עד כמה קיים קשר לינארי בין שני המשתנים. המדד (ניקרא גם מדד הקשר של פירסון) מכמת את מה שנראה בשלב הראשון רק בעין.

המדד בודק את כיוון הקשר (חיובי או שלילי).

ואת עוצמת הקשר (חלש עד חזק).

מקדם מתאם זה מקבל ערכים בין -1 ל 1.

מקדם מתאם -1 או 1 אומר שקיים קשר לינארי מוחלט ומלא בין המשתנים שניתן לבטאו על ידי

$$y = bx + a$$

מתאם חיובי מלא (מקדם מתאם 1) אומר שקיים קשר לינארי מלא בו השיפוע  $b$  יהיה חיובי ואילו

מתאם שלילי מלא אומר שקיים קשר לינארי מלא בו השיפוע  $b$  שלילי (מקדם מתאם -1).

מתאם חיובי חלקי אומר שככל שמשנתנה אחד עולה לשני יש נטייה לעלות בערכו אבל לא קיימת

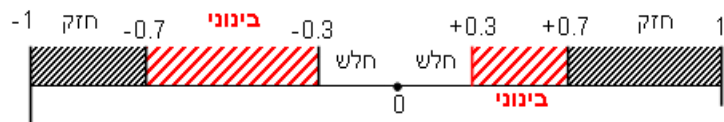
נוסחה לינארית שמקשרת את  $X$  ל- $Y$  באופן מוחלט ואילו מתאם שלילי חלקי אומר שככל

שמשנתנה אחד עולה לשני יש נטייה לרדת אבל לא קיימת נוסחה לינארית שמקשרת את  $X$  ל- $Y$

באופן מוחלט.

ככל שערך מקדם המתאם קרוב לאפס נאמר שעוצמת הקשר חלשה יותר וככל שמקדם המתאם

רחוק מהאפס נאמר שעוצמת הקשר חזקה יותר.



מקדם המתאם יסומן באות  $r$ .

כדי לחשב את מקדם המתאם, יש לחשב את סטיות התקן של כל משתנה ואת השונות המשותפת.

$$COV(x, y) = \frac{\sum (x - \bar{x})(y - \bar{y})}{n} = \frac{\sum xy}{n} - \bar{x} \cdot \bar{y} : \text{שונות משותפת}$$

$$s_x^2 = \frac{\sum_{i=1}^n (x_i - \bar{x})^2}{n} = \frac{\sum_{i=1}^n x_i^2}{n} - \bar{x}^2 : \text{שונות של המשתנה X}$$

$$s_y^2 = \frac{\sum_{i=1}^n (y_i - \bar{y})^2}{n} = \frac{\sum_{i=1}^n y_i^2}{n} - \bar{y}^2 : \text{שונות המשתנה Y}$$

$$r_{xy} = \frac{cov(x, y)}{s_x \cdot s_y} : \text{מקדם המתאם הלינארי}$$

**תרגילים:**

1. להלן נתונים לגבי שישה תלמידים שנגשו למבחן. בדקו לגבי כל תלמיד את הציון שלו בסוף הקורס וכמו כן את מספר החיסורים שלו מהקורס.

מספר חיסורים	ציון
2	80
1	90
0	90
2	70
3	70
4	50

- א. שרטט דיאגרמת פיזור לנתונים. מה ניתן להסיק מהדיאגרמה על טיב הקשר בין מספר החיסורים של תלמיד לציונו? מיהו המשתנה הבלתי תלוי ומיהו המשתנה התלוי?  
 ב. חשב את מדד הקשר של פירסון. האם התוצאה מתיישבת עם תשובתך לסעיף א?  
 ג. הסבר ללא חישוב כיצד מקדם המתאם היה משתנה אם היה מתווסף תלמיד שהחסיר 4 פעמים וקיבל ציון 80?

2. במחקר רפואי רצו לבדוק האם קיים קשר בין רמת ההורמון X בדם החולה לרמת ההורמון Y שלו. לצורך כך מדדו את רמת ההורמונים ההלו עבור חמישה חולים. להלן התוצאות שהתקבלו:

x	y
10	12
14	15
15	15
18	17
20	21

- א. מה הממוצע של כל רמת הורמון?  
 ב. מהו מקדם המתאם בין ההורמונים? ומה משמעות התוצאה?

3. נסמן ב- $X$  את ההכנסה של משפחה באלפי ₪. נסמן ב- $Y$  את ההוצאות של משפחה באלפי ₪. נלקחו 20 משפחות והתקבלו התוצאות הבאות:

$$\begin{aligned}\sum_{i=1}^{20} Y_i &= 200 & \sum_{i=1}^{20} X_i &= 240 \\ \sum_{i=1}^{20} (Y_i - \bar{Y})^2 &= 76 & \sum_{i=1}^{20} (X_i - \bar{X})^2 &= 76 \\ \sum_{i=1}^{20} (X_i - \bar{X})(Y_i - \bar{Y}) &= 60.8\end{aligned}$$

- א. חשב את מדד הקשר הלינארי בין  $X$  ל- $Y$ . מיהו המשתנה התלוי?  
 ב. מה המשמעות של התוצאה שקיבלת בסעיף א?

4. נסמן ב- $X$  את ההכנסה של משפחה באלפי ₪. נסמן ב- $Y$  את ההוצאות של משפחה באלפי ₪. נלקחו 20 משפחות והתקבלו התוצאות הבאות:

$$\begin{aligned}\sum_{i=1}^{20} Y_i &= 200 & \sum_{i=1}^{20} X_i &= 240 \\ \sum_{i=1}^{20} Y_i^2 &= 2080 & \sum_{i=1}^{20} X_i^2 &= 2960 \\ \sum_{i=1}^{20} X_i Y_i &= 2464\end{aligned}$$

חשב את מדד הקשר הלינארי בין  $X$  ל- $Y$ .

5. במוסד אקדמי ציון ההתאמה מחושב כך: מכפילים את הציון הממוצע בבגרות ב-3 ומפחיתים 2 נקודות. ידוע שעבור 40 מועמדים סטיית התקן של ממוצע הציון בבגרות הייתה 2. מה מקדם המתאם בין ציון ההתאמה לציון הממוצע בבגרות שלהם?

6. להלן רשימת טענות, לגבי כל טענה קבע נכון/לא נכון ונמק:

- א. מתווך דירות המיר מחירי דירות מדולר לשקל. נניח שדולר אחד הוא 3.5 ₪. אם מתווך הדירות יחשב את מדד הקשר של פירסון בין מחיר הדירה בשקלים למחיר הדירה בדולרים הוא יקבל 1.  
 ב. לסדרה של נתונים התקבל  $\bar{X} = \bar{Y} = 6$   $S_x = S_y = 1$  לכן מדד הקשר של פירסון יהיה 1.  
 ג. אם השונות המשותפת של  $X$  ושל  $Y$  הינה 0 אז בהכרח גם מקדם המתאם של פירסון יהיה 0.



**שאלות אמריקאיות:**

7. נמצא שקיים מקדם מתאם שלילי בין הציון בעברית לציון בחשבון בבחינה לכן :

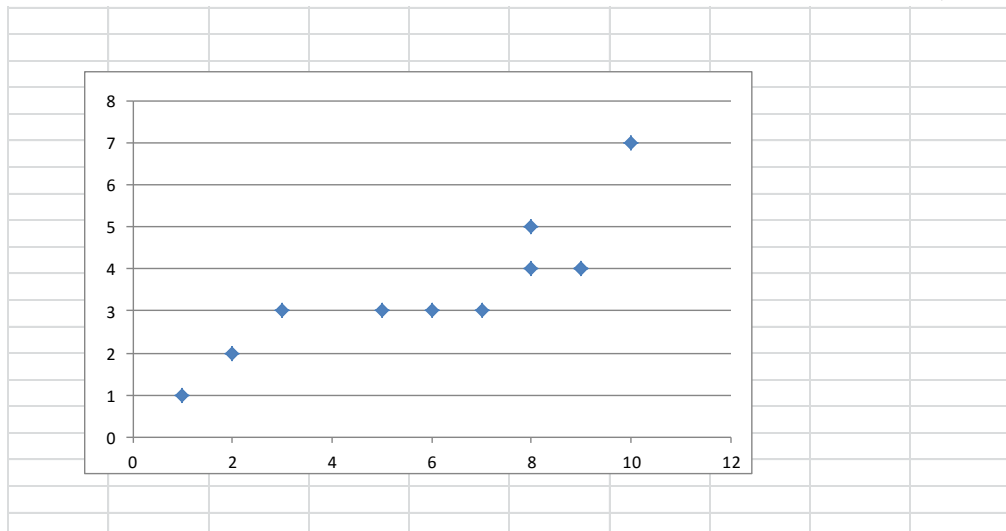
- א. הדבר מעיד שהציונים בכתה היו שליליים.
- ב. ככל שהציון של תלמיד יורד בחשבון יש לו נטייה לרדת בעברית.
- ג. ככל שהציון של תלמיד עולה בחשבון יש לו נטייה לרדת בעברית.
- ד. אף אחת מהתשובות לא נכונה.

8. נלקחו 20 מוצרים וניבדק ביום מסוים המחיר שלהם בדולרים והמחיר שלהם בש"ח ( באותו

היום ערך הדולר היה - 4.2 ₪ ) מהו מקדם המתאם בין המחיר בדולר למחיר בש"ח?

- א. 1
- ב. 0
- ג. 4.2
- ד. לא ניתן לדעת.

9. להלן דיאגרמת פיזור :



מה יהיה מקדם המתאם בין שני המשתנים?

- א. 1
- ב. 0.85
- ג. 0.15
- ד. 0

**פתרונות:****שאלה 1:**

א. בהקלטה

ב.  $-0.9325$ **שאלה 2:**

$$\bar{x} = 15.4$$

א.  $\bar{y} = 16$

ב.  $r_{xy} = 0.96$

**שאלה 3:**

א : 0.8

**שאלה 4:**

0.8

**שאלה 5:**

1

**שאלה 6:**

א. נכון

ב. לא נכון

ג. נכון

**שאלה 7:**

התשובה : ג

**שאלה 8:**

התשובה : א

**שאלה 9:**

התשובה : ב

## פרק 35 - מדדי קשר - רגרסיה ליניארית

### רקע:

במידה וקיים קשר חזק בין שני המשתנים הכמותיים נהוג לבצע ניבויי לבנות קו ניבויים הנקרא גם קו רגרסיה המנבא משתנה אחד על סמך האחר.

מדובר בקו שמנבא את  $Y$  על סמך  $X$ . השיטה למציאת הקו הנ"ל נקראת שיטת הריבועים הפחותים והקו המתקבל נקרא קו הרגרסיה או קו הניבויים או קו הריבועים הפחותים.

a - בעצם נותן את ערך  $Y$  כאשר  $X$  הנו אפס על גבי קו הניבויים. הוא ניקרא החותך של הקו.

b - הוא שיפוע הקו נותן בכמה בעצם  $Y$  משתנה כאשר  $X$  גדל ביחידה אחת על גבי קו הניבויים.

להלן המשוואות למציאת הפרמטרים של קו הרגרסיה:

$$\tilde{Y} = bX + a$$

$$b = r \frac{S_y}{S_x}$$

$$a = \bar{Y} - b\bar{X}$$

אם נרצה לבנות קו ניבויים לניבוי  $X$  על סמך  $Y$  נצטרך לעדכן את הנוסחאות בהתאם.

**תרגילים:**

1. נסמן ב- $X$  את ההכנסה של משפחה באלפי ₪. נסמן ב- $Y$  את ההוצאות של משפחה באלפי ₪. נלקחו 20 משפחות והתקבלו התוצאות הבאות:

$$\sum_{i=1}^{20} Y_i = 200 \quad \sum_{i=1}^{20} X_i = 240$$

$$\sum_{i=1}^{20} (Y_i - \bar{Y})^2 = 76 \quad \sum_{i=1}^{20} (X_i - \bar{X})^2 = 76$$

$$\sum_{i=1}^{20} (X_i - \bar{X})(Y_i - \bar{Y}) = 60.8$$

- א. חשב את מדד הקשר הלינארי בין  $X$  ל- $Y$ . מיהו המשתנה התלוי?  
 ב. מצא את קו הרגרסיה לניבוי ההוצאה של משפחה על סמך הכנסה שלה. הסבר את משמעות הפרמטרים של קו הרגרסיה.  
 ג. משפחת כהן הכניסה 15,000 ₪, מה ההוצאה הצפויה שלה?

2. נסמן ב- $X$  את ההשכלה של אדם בשנות למוד. נסמן ב- $Y$  את הכנסתו באלפי ₪. במחקר התקבלו התוצאות הבאות:

$$S_y = 5 \quad S_x = 2$$

$$\bar{Y} = 8 \quad \bar{X} = 14$$

$$COV(X, Y) = 7.5$$

- א. חשב את מדד הקשר של פירסון בין ההשכלה להכנסה.  
 ב. מה ההכנסה הצפויה לאדם שהשכלתו 12 שנים?  
 ג. מה ההשכלה הצפויה לאדם שהכנסתו 10,000 ₪?

3. חוקר רצה לחקור את הקשר הקווי שבין הציון המבחן בסטטיסטיקה לבין מספר שעות ההכנה של הסטודנטים למבחן. במדגם של 100 סטודנטים שנבחנו בקורס נרשמו התוצאות הבאות: הציון הממוצע של הסטודנטים היה 65 עם סטיית תקן של 27. מספר שעות ההכנה הממוצע היה 30 עם סטיית תקן של 18. מקדם המתאם בין הציון לשעות ההכנה היה 0.8.  
 א. על פי משוואת הרגרסיה שעת הכנה נוספת משפרת את ציון המבחן ב?  
 ב. על פי משוואת הרגרסיה תלמיד שייגש למבחן ללא שעות הכנה כלל יקבל ציון?  
 ג. מהו קו הרגרסיה לניבוי הציון לפי שעות ההכנה?

4. נתונים 2 משתנים  $Y, X$ . כמו כן נתון:  $X$  ממוצע = 1.5, שונות  $X$  = שונות  $Y$  = 4, וכן שקו הרגרסיה של  $Y$  על בסיס  $X$  הינו  $Y = -0.2X + 0.5$ . חשב מהו מקדם המתאם בין  $X$  ל- $Y$ ?

פתרונות:שאלה 1:

א. 0.8

ב.  $\tilde{Y} = 0.8X + 0.4$

ג. 12.4

שאלה 2:

א. 0.75

ב. 4.25 אלפי ש"ח

ג. 14.6 שנים

שאלה 3:

א. 1.2

ב. 29

ג.  $y = 1.2x + 29$

שאלה 4:

-0.2

**פרק 36 - מדדי קשר - רגרסיה - שונות מוסברת ושונות לא מוסברת****רקע:**

המטרה ברגרסיה הנה להסביר את השונות של המשתנה התלוי. למשל, להסביר את השונות של המשכורות באמצעות הוותק או להסביר את השוני בציונים באמצעות כמות החיסורים.

$r^2$  - נותן בעצם איזה חלק מהשונות של המשתנה התלוי מוסבר. השונות המוסברת נקראת גם שונות ניבויים. השונות הלא מוסברת נקראת גם שונות טעויות.

**תרגילים :**

1. נמצא קשר חיובי בעוצמה של 0.7 בין שטח דירה למחירה. כמו כן נתון שסטיית התקן של מחירי הדירות הינה 200.

- א. איזה אחוז מהשונות של מחירי הדירות מוסבר על ידי שטח הדירה?
- ב. איזה אחוז מהשונות של מחירי הדירות לא מוסבר על ידי שטח הדירה?
- ג. מהי השונות המוסברות ומהי השונות הלא מוסברת של מחירי הדירות?

2. להלן רשימת טענות, לגבי כל טענה קבע נכון/לא נכון ונמק!

- א. אם שונות הטעויות שווה ל-0 (השונות הלא מוסברת) אז מקדם המתאם של פירסון יהיה 1.
- ב. אם מקדם המתאם של פירסון בין שני משתנים הוא 1 אזי שונות הטעויות (השונות הלא מוסברת) תהיה 0.
- ג. אם השונות המשותפת של X ושל Y הינה 0 אז בהכרח גם מקדם המתאם של פירסון יהיה 0.

**שאלות אמריקאיות:**

בשאלות הבאות יש לבחור בתשובה הנכונה.

3. בקשר בין שני משתנים התקבל  $r^2 = 0.64$  לכן :

- א. ללא יוצא מן הכלל ככל שערכי משתנה אחד עולה השני יעלה.
- ב. 64% מהשונות של משתנה אחד מוסבר על ידי המשתנה השני.
- ג. הקשר בין שני המשתנים הוא בעוצמה של 0.64.
- ד. כל התשובות נכונות.

4. אם מגדילים את  $r^2$  מה ניתן לומר?

- א. אחוז השונות המוסברת יקטן
- ב. אחוז השונות המוסברת יגדל
- ג. אחוז השונות המוסברת יישאר ללא שינוי.
- ד. סטיית התקן משתנה
- ה. לא ניתן לדעת

5. בקורס מבוא לכלכלה ניתנו במשך השנה שני מבחנים : מבחן בסוף סימסטר א (  $X$  ) ומבחן בסוף סימסטר ב (  $Y$  ) . כאשר בנו את קו הרגרסיה של הציון במבחן סוף סמסטר ב לפי הציון במבחן סוף סמסטר א התקבלה שונות טעויות של 80 , ושונות ניבויים של 20 . לפי נתונים אלו מקדם המתאם בין הציון במבחן סוף סמסטר א לבין הציון במבחן סוף סמסטר ב הוא :

א. 0.44 .

ב. - 0.44 .

ג. עוצמת ההקשר הלינארי היא 0.44 , אך אין אפשרות לדעת את סימנה.

ד. אין אפשרות לחשב את מקדם המתאם.

ה. 0.35