

סטודנטים יקרים

לפניכם ספר תרגילים בקורס נושאים מתקדמים בהסתברות וסטטיסטיקה. הספר הוא חלק מקורס חדשני וראשון מסוגו בארץ בנושא זה, המועבר ברשת האינטרנט On-line.

הקורס באתר כולל פתרונות מלאים לספר התרגילים, וכן את התיאוריה הרלוונטית לכל נושא ונושא.

הקורס כולו מוגש בסרטוני וידאו המלווים בהסבר קולי, כך שאתם רואים את התהליכים בצורה מובנית, שיטתית ופשוטה, ממש כפי שנעשה בשיעור פרטי, לדוגמה [לחצו כאן](#).

את הקורס בנה מר ברק קנדל, מרצה מבוקש במוסדות אקדמיים שונים ובעל ניסיון עתיר בהוראת המקצוע.

אז אם אתם עסוקים מידי בעבודה, סובלים מלקויות למידה, רוצים להצטיין או פשוט אוהבים ללמוד בשקט בבית, אנחנו מזמינים אתכם לחוויית לימודים יוצאת דופן וחדשה לחלוטין, היכנסו עכשיו לאתר www.gool.co.il.



אנו מאחלים לכם הצלחה מלאה בבחינות

צוות האתר GooL

גול זה בול. בְּשִׁבִּילְךְ!

לפתרון מלא בסרטון וידאו היכנסו ל- www.Gool.co.il

כתב ופתר - ברק קנדל ©

תוכן

4	פרק 1 - המשתנה המקרי הרציף- התפלגויות כלליות (שימוש באינטגרלים)
14	פרק 2 - התפלגויות רציפות מיוחדות- התפלגות מעריכית
18	פרק 3 - התפלגויות רציפות מיוחדות - התפלגות נורמלית
27	פרק 4 - קומבינציות לינאריות להתפלגות נורמאלית
30	פרק 5 -משתנה מקרי דו ממדי רציף
31	פונקציית צפיפות שולית:
32	אי תלות בן משתנים רציפים
33	חישוב הסתברויות עבור משתנה מקרי רציף דו ממדי
34	פונקציית התפלגות מצטברת משותפת
35	פונקציית צפיפות מותנית
36	תוחלת מותנית
45	פרק 6 - הסקה סטטיסטית - הקדמה
48	פרק 7 - התפלגות הדגימה
48	ממוצע המדגם ומשפט הגבול המרכזי
57	התפלגות סכום תצפיות המדגם ומשפט הגבול המרכזי
61	התפלגות מספר ההצלחות במדגם - הקרוב הנורמלי להתפלגות הבינומית
66	התפלגות פרופורציית ההצלחות במדגם
71	פרק 8 - מושגים בסיסיים באמידה
78	פרק 9 - אמידה נקודתית
78	אומד חסר הטיה
86	אומד נראות מקסימלית
98	קריטריון MSE - תוחלת ריבוע הטעות
101	שאלות מסכמות באמידה נקודתית
109	פרק 10 - רווח סמך לתוחלת (ממוצע האוכלוסייה)
109	רווח סמך כששונות האוכלוסייה ידועה
116	קביעת גודל מדגם באמידת תוחלת עם שונות אוכלוסייה ידועה
119	רווח סמך לתוחלת (ממוצע האוכלוסייה) כששונות האוכלוסייה אינה ידועה
125	פרק 11 - רווח סמך להפרש תוחלות ממדגמים בלתי תלויים
125	כששונות האוכלוסייה ידועות
128	כששונות האוכלוסייה אינן ידועות אך שוות והמדגמים בלתי תלויים
131	פרק 12 - רווח סמך לתוחלת ההפרש במדגם מזווג
134	פרק 13 - בדיקת השערות כללית
142	פרק 14 - הלמה של ניימן פירסון
150	פרק 15 - בדיקת השערות על פרמטרים
150	הקדמה
153	טעויות בבדיקת השערות

155	פרק 16 - בדיקת השערות על תוחלת (ממוצע)
155	כאשר שונות האוכלוסייה ידועה
160	סיכוי לטעויות ועוצמה כאשר שונות האוכלוסייה ידועה
167	קביעת גודל מדגם כששונות האוכלוסייה ידועה
170	מובהקות התוצאה (<i>p-value</i>) בבדיקת השערות על תוחלת עם שונות ידועה
175	בדיקת השערות על תוחלת (ממוצע) כאשר שונות האוכלוסייה אינה ידועה
180	מובהקות התוצאה (<i>p-value</i>) כאשר שונות האוכלוסייה לא ידועה
184	הקשר בין רווח סמך לבדיקת השערות על תוחלת
187	פרק 17 - בדיקת השערות על הפרש תוחלות במדגמים בלתי תלויים
187	כשהשונות של האוכלוסייה ידועות
191	כששונות האוכלוסייה לא ידועות ומניחים שהן שוות
195	פרק 18 - בדיקת השערות על תוחלת ההפרשים במדגמים מזווגים (תלויים)
195	בדיקת השערות למדגמים מזווגים
201	פרק 19 - הקשר בין רווח סמך לבדיקת השערות על הפרש תוחלות
205	פרק 20-שאלות מסכמות בבדיקת השערות על פרמטרים
205	שאלות מסכמות בבדיקת השערות על פרמטרים
209	פרק 21- מבחני חי בריבוע

פרק 1 - המשתנה המקרי הרציף - התפלגויות כלליות (שימוש באינטגרלים)

רקע:

בפרק זה נעסוק בהתפלגות של משתנים מקריים רציפים (גובה אדם אקראי, זמן תגובה וכו'). משתנים רציפים הם משתנים שבתחום מסוים מקבלים רצף אינסופי של ערכים אפשריים בניגוד למשתנים בדידים.

נתאר את המשתנה המקרי הרציף על ידי פונקציה הנקראת פונקציית צפיפות. באופן כללי נסמן פונקציית צפיפות של משתנה רציף כלשהו ב $f(x)$.

השטח שמתחת לפונקציית הצפיפות נותן את ההסתברות.

פונקציית צפיפות חייבת להיות לא שלילית והשטח הכולל שמתחת לפונקציה יהיה תמיד 1.

פונקציית התפלגות מצטברת:

$$F(t) = p(X \leq t) = \int_{-\infty}^t f(x) dx$$

כמו כן:

$$p(a < X < b) = F(b) - F(a)$$

$$p(X > t) = 1 - F(t)$$

תוחלת של משתנה רציף:

$$E(X) = \int_{-\infty}^{\infty} X \cdot f(x) dx = \mu$$

שונות של משתנה רציף:

$$V(X) = \int_{-\infty}^{\infty} X^2 \cdot f(x) dx - \mu^2 = \sigma^2$$

תוחלת של פונקציה של X:

$$E(g(x)) = \int_{-\infty}^{\infty} g(x) f(x) dx$$

אחוזונים:

האחוזון ה-P הוא ערך (נסמן אותו: x_p) שהסיכוי ליפול מתחתיו הוא P. כלומר:

$$p(X \leq x_p) = p$$

ריענון מתמטי:נוסחאות לחישוב שטחים:

$$S_{\text{triangle}} = \frac{h \cdot a}{2} \quad \text{שטח משולש: גובה (h) כפול הבסיס (a) חלקי 2}$$

$$S_{\text{rectangle}} = a \cdot b \quad \text{שטח מלבן: אורך (a) כפול רוחב (b)}$$

משוואת קו ישר:

$$y = mx + n$$

$$m = \text{שיפוע}$$

$$n = \text{נקודת החיתוך עם ציר ה-y}$$

$$m = \frac{Y_2 - Y_1}{X_2 - X_1} \quad \text{שיפוע של ישר העובר דרך שתי נקודות: } (X_1, Y_1), (X_2, Y_2)$$

$$\text{משוואת ישר שעובר דרך נקודה ספציפית } (X_1, Y_1) \text{ ושיפועו ידוע } m:$$

$$y - Y_1 = m(x - X_1)$$

נוסחאות - אינטגרלים

$$\int adx = ax + c$$

$$\int x^n dx = \frac{x^{n+1}}{n+1} + c \quad n \neq -1$$

$$\int \frac{1}{x} dx = \ln |x| + c$$

$$\int e^x dx = e^x + c$$

$$\int k^x dx = \frac{k^x}{\ln k} + c$$

$$\int \cos x dx = \sin x + c$$

$$\int \sin x dx = -\cos x + c$$

$$\int \tan x dx = -\ln |\cos x| + c$$

$$\int \cot x dx = \ln |\sin x| + c$$

$$\int \frac{1}{\cos^2 x} dx = \tan x + c$$

$$\int \frac{1}{\sin^2 x} dx = -\cot x + c$$

$$\int (ax + b)^n dx = \frac{1}{a} \frac{(ax + b)^{n+1}}{n+1} + c \quad n \neq -1$$

$$\int \frac{1}{ax + b} dx = \frac{1}{a} \ln |ax + b| + c$$

$$\int e^{ax+b} dx = \frac{1}{a} e^{ax+b} + c$$

$$\int k^{ax+b} dx = \frac{1}{a \ln k} k^{ax+b} + c$$

$$\int \cos(ax + b) dx = \frac{1}{a} \sin(ax + b) + c$$

$$\int \sin(ax + b) dx = -\frac{1}{a} \cos(ax + b) + c$$

$$\int \tan(ax + b) dx = -\frac{1}{a} \ln |\cos(ax + b)| + c$$

$$\int \cot(ax + b) dx = \frac{1}{a} \ln |\sin(ax + b)| + c$$

$$\int \frac{1}{\cos^2(ax + b)} dx = \frac{1}{a} \tan(ax + b) + c$$

$$\int \frac{1}{\sin^2(ax + b)} dx = -\frac{1}{a} \cot(ax + b) + c$$

$$\int \frac{1}{\cos x} dx = \ln \left| \frac{1}{\cos x} + \tan x \right| + c$$

$$\int \frac{1}{x^2 + a^2} dx = \frac{1}{a} \arctan \left(\frac{x}{a} \right) + c$$

$$\int \frac{1}{\sqrt{a^2 - x^2}} dx = \arcsin \left(\frac{x}{a} \right) + c$$

$$\int \frac{1}{\sin x} dx = \ln \left| \frac{1}{\sin x} - \cot x \right| + c$$

$$\int \frac{1}{x^2 - a^2} dx = \frac{1}{2a} \ln \left| \frac{x-a}{x+a} \right| + c$$

$$\int \frac{1}{\sqrt{x^2 \pm a^2}} dx = \ln \left| x + \sqrt{x^2 \pm a^2} \right| + c$$

$$\int \frac{f'}{f} dx = \ln |f| + c$$

$$\int e^f \cdot f' dx = e^f + c$$

$$\int \sin f \cdot f' dx = -\cos(f) + c$$

$$\int \sqrt{f} \cdot f' dx = \frac{2}{3} f^{\frac{3}{2}} + c$$

$$\int f \cdot f' dx = \frac{1}{2} f^2 + c$$

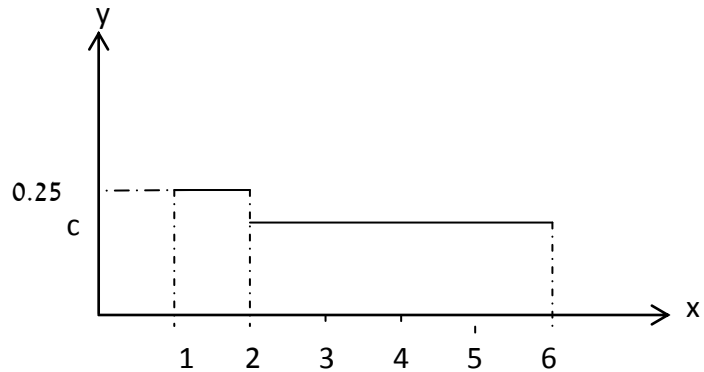
$$\int \cos f \cdot f' dx = \sin(f) + c$$

$$\int \frac{f'}{\sqrt{f}} dx = 2\sqrt{f} + c$$

$$\int u \cdot v' dx = u \cdot v - \int u' \cdot v dx$$

תרגילים:

1. X הינו משתנה רציף עם פונקציה צפיפות כמוצג בשרטוט:



א. מצא את ערכו של c .

ב. בנה את פונקציה ההתפלגות המצטברת.

ג. חשבו את ההסתברויות הבאות:

1. $P(x < 4)$

2. $P(x > 1.5)$

3. $P(1.5 < x < 5)$

4. $P(5 < x < 10)$

ד. מצא את החציון של המשתנה.

2. נתון משתנה מקרי רציף X שפונקציה הצפיפות שלו היא:

$$f(x) = \begin{cases} cx & 0 \leq x \leq b \\ 0 & \text{אחרת} \end{cases}$$

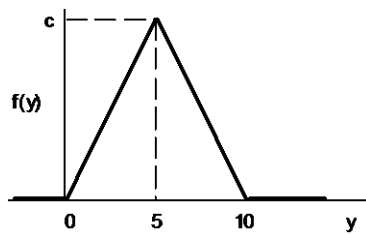
ידוע ש- $P(0 < X < 1) = 1/4$.

א. מצאו במפורש את פונקציה הצפיפות של X .

ב. מצאו את החציון של X .

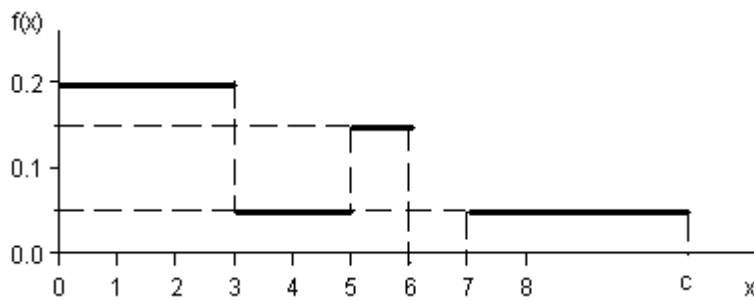
ג. מה הסיכוי ש- X קטן מ- 0.5?

3. נתונה פונקציית צפיפות של משתנה מקרי Y :



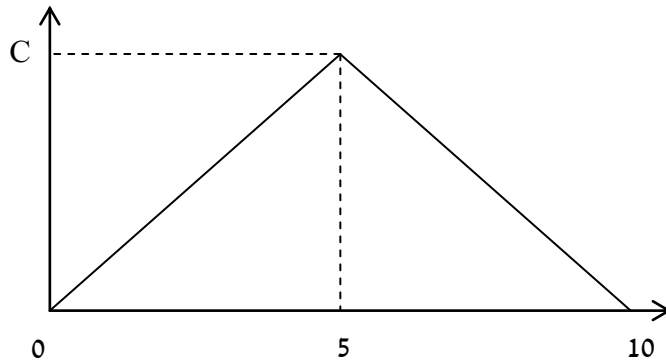
- א. מצאו את c .
 ב. מצאו את פונקציית ההתפלגות המצטברת של Y .
 ג. חשבו את ההסתברויות: $P(Y > 4)$, $P(7.5 \leq Y \leq 15.5)$, $P(Y \leq 3.0)$, $P(Y = 7.0)$.
 ד. מצאו את העשירון התחתון $Y_{0.1}$, הרבעון התחתון $Y_{0.25}$ והחציון של Y . הסיקו מהו העשירון עליון $Y_{0.9}$.

4. נתונה פונקציית צפיפות של משתנה מקרי X :



- א. מצאו ערך c שעבורו תתקבל פונקציית צפיפות.
 ב. מצאו את פונקציית ההתפלגות המצטברת.
 ג. חשבו את ההסתברויות הבאות: $P(1.0 < X \leq 5.0)$, $P(X \geq -2.0)$, $P(X \geq 4)$.

5. נתונה פונקצית הצפיפות הבאה :



א. מה ערכו של C?

ב. מצא אינטרוול (תחום) סימטרי סביב הערך 5 שהסיכוי ליפול בו הינו 0.5

6. נתונה פונקצית צפיפות $f(X) = \frac{2}{x}$ פונקציה זו מוגדרת מ-1 ועד K.

א. מצא את ערכו של K.

ב. בנה את פונקציית ההתפלגות המצטברת.

ג. חשב את הסיכוי ש X לפחות 1.5.

ד. מצא את העשירון התחתון של ההתפלגות.

ה. מה התוחלת של X?

7. נתונה פונקצית צפיפות הבאה : $f(X) = AX^2(10 - X)$ $0 < X < 10$ A הינו קבוע חיובי.

א. מצא את A.

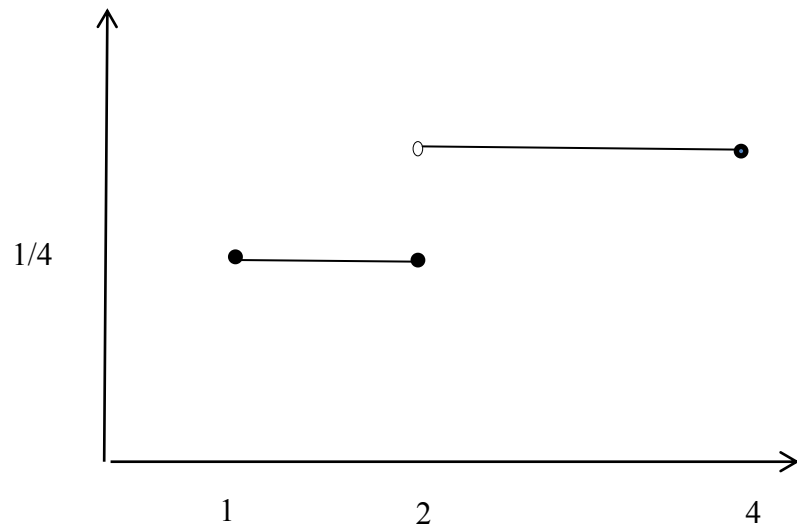
ב. חשב את $P(x > 5 | x > 2)$.

ג. מה התוחלת ומהי השונות של X?

8. פונקצית הצפיפות של משתנה מקרי רציף X :
 $f(x) = 0.5 \cdot e^{-2x}$
 $-\infty \leq X \leq \ln(c)$

- מצא את ערכו של c .
- מצא את פונקציית ההתפלגות המצטברת של ההתפלגות.
- חשב $P(X > 0)$.
- מהו הרבעון העליון של ההתפלגות?

9. נתונה פונקצית הצפיפות הבאה של משתנה מקרי X :



- רשום את נוסחת פונקציית הצפיפות.
- בנה את פונקציית ההתפלגות המצטברת.
- מצא את החציון של ההתפלגות.
- חשב את התוחלת והשונות של המשתנה.
- חשב את $E(X^3)$.

10. במפעל מייצרים מוצר A. זמן תהליך הייצור של המוצר בשעות הוא בעל פונקציית הצפיפות הבאה:

$$f(x) = 6x(1-x) \quad 0 \leq x \leq 1$$

- א. מה ההסתברות שזמן הייצור של מוצר A אקראי יהיה קטן מ 20 דקות?
 ב. מה ההסתברות שזמן הייצור של מוצר A אקראי יהיה בדיוק חצי שעה?
 ג. נבחרו חמישה מוצרים אקראיים מסוג A. מה תוחלת מספר המוצרים שזמן הייצור שלהם יהיה גדול מ 20 דקות?

11. זמן ההמתנה בדקות של לקוח בתור למכולת השכונתית מתפלג עם פונקציית ההתפלגות המצטברת הבאה:

$$F(t) = 1 - e^{-0.2t}$$

- א. שרטט את פונקציית ההתפלגות המצטברת.
 ב. מה הסיכוי שזמן ההמתנה יהיה לפחות רבע שעה?
 ג. אם חיכיתי בתור כבר 10 דקות מה ההסתברות שאאלץ לחכות בסך הכול פחות מרבע שעה?
 ד. מהו הזמן ש-90% מהלקוחות מחכים מתחתיו?

12. פונקציית הצפיפות של משתנה מקרי נתונה על ידי הנוסחה הבאה:

$$f(x) = \begin{cases} 0 & x < 4 \\ bx - 4b & 4 \leq x \leq 5 \\ b & 5 < x \leq 6 \\ 0 & x > 6 \end{cases}$$

- א. מצאו את b.
 ב. חשבו את התוחלת של X.
 ג. y הוא משתנה אינדיקטור המקבל את הערך 1 אם X קטן מ-5. מהי השונות של Y?

13. נתונה פונקציית הצפיפות הבאה :

$$f(x) = \begin{cases} \frac{x^2}{4} & 1 \leq x \leq 2 \\ kx & 2 < x \leq 3 \end{cases}$$

- א. מצאו את ערכו של k .
 ב. מצאו את פונקציית ההתפלגות המצטברת.
 ג. חשבו $p(x > 2.5)$

14. להלן משתנה מקרי בעל פונקציית צפיפות הבאה :

$$f(x) = \frac{1}{b-a}$$

$$a \leq x \leq b$$

- א. מצא את פונקציית ההתפלגות המצטברת.
 ב. חשב את התוחלת והשונות של ההתפלגות.
 ג. מצא את התוחלת של $\frac{1}{X}$.

פתרונות :שאלה 1 :

$$א. \frac{3}{16} \quad ד. \frac{1}{3}$$

שאלה 2 :

$$א. c=0.5 \quad b=2$$

$$ב. 1.41$$

$$ג. 0.0625$$

שאלה 3 :

$$א. 0.2$$

$$ג. 0, 0.18, 0.125, 0.32$$

ד. העשירון התחתון : 2.24

הרבעון התחתון: 3.54

החציון : 5

העשירון העליון : 7.76

שאלה 4 :

$$א. 10$$

שאלה 5 :

$$א. C=0.2$$

$$ב. 5 \pm 1.46$$

שאלה 6 :

$$א. \frac{1}{e^2}$$

$$ג. 0.189$$

$$ד. 1.051$$

$$ה. 1.297$$

שאלה 7 :

$$א. 0.0012$$

$$ב. 0.7067$$

שאלה 8 :

$$א. 2$$

$$ג. 0.75$$

$$ד. 0.549$$

ג. תוחלת : 6, שונות : 4

שאלה 9 :

ג. $2\frac{2}{3}$

ד. תוחלת : 2.625 שונות : 0.6927

ה. 23.4375

שאלה 10 :

א. $\frac{7}{27}$

ב. 0

ג. 3.704

שאלה 11 :

א. $\frac{2}{3}$

ב. 5.22

ג. $\frac{2}{9}$

שאלה 12 :

ב. 0.0498

ג. 0.6321

ד. 11.51

שאלה 13 :

ב. תוחלת :

$$E(X) = \frac{a+b}{2}$$

השונות :

$$V(x) = \frac{(b-a)^2}{12}$$

שאלה 14 :

א. $\frac{1}{6}$

ג. 0.229

פרק 2 - התפלגויות רציפות מיוחדות - התפלגות מעריכית

רקע:

התפלגות זו היא התפלגות רציפה המאפיינת את הזמן עד להתרחשות מאורע מסוים. λ - הוא ממוצע מספר האירועים המתרחשים ביחידת זמן (אותו פרמטר מההתפלגות הפואסונית).

$$X \sim \exp(\lambda) \text{ כאשר } \lambda > 0$$

התפלגות זו צריכה להיות נתונה בתרגיל או שיאמר שמספר האירועים ביחידת זמן מתפלג פואסונית ואז הזמן עד להתרחשות המאורע הבא מתפלג מעריכית.

פונקציית הצפיפות של ההתפלגות היא:

$$f(x) = \lambda e^{-\lambda x} \text{ לכל } x \geq 0$$

פונקציית ההתפלגות המצטברת היא:

$$F(t) = P(X \leq t) = 1 - e^{-\lambda t}$$

התוחלת:

$$E(x) = \frac{1}{\lambda}$$

השונות:

$$V(x) = \frac{1}{\lambda^2}$$

- להתפלגות זו יש תכונת חוסר הזיכרון: $P(X > a + b | X > a) = P(X > b)$

דוגמה: (פתרון בהקלטה)

- אורך חיי סוללה מתפלג מעריכית עם תוחלת של 8 שעות.
- מה ההסתברות שסוללה תחזיק מעמד פחות מ- 9 שעות?
 - מה סטיית התקן של אורך חיי הסוללה?
 - אם סוללה כבר חייה מעל שעתיים, מה הסיכוי שהיא תחייה מעל 7 שעות בסך הכול?

תרגילים:

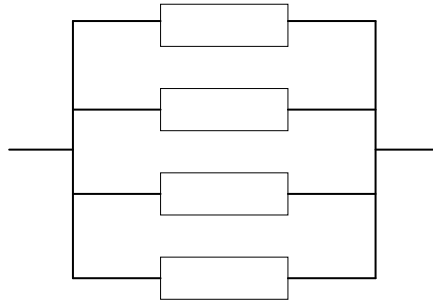
1. הזמן שלוקח במערכת עד שתקלה מתרחשת מתפלג מעריכית עם תוחלת של 0.5 שעה.
 - א. מה ההסתברות שהתקלה הבאה תתרחש תוך יותר מ-0.5 שעה?
 - ב. מה ההסתברות שהתקלה הבאה תתרחש תוך פחות משעה?
 - ג. מצא את הזמן החציוני להתרחשות תקלה במערכת.

2. הזמן שעובר בכביש מסוים עד להתרחשות תאונה מתפלג מעריכית עם תוחלת של 24 שעות.
 - א. מהי סטיית התקן של הזמן עד להתרחשות תאונה?
 - ב. מה ההסתברות שהתאונה הבאה תתרחש תוך פחות מיממה?
 - ג. מהי ההסתברות שהתאונה הבאה תתרחש תוך לפחות יומיים?

3. משך הזמן X (בדקות) שסטודנטים עובדים רצוף על מחשב מתפלג מעריכית עם תוחלת של 30 דקות.
 - א. מה הסיכוי שעבודת סטודנט על המחשב תארך פחות מרבע שעה?
 - ב. מה הסיכוי שעבודת סטודנט על המחשב תארך בין רבע שעה לחצי שעה?
 - ג. אם סטודנט עובד על המחשב כבר יותר מ-10 דקות, מה ההסתברות שמשך כל עבודתו יעלה על 30 דקות?
 - ד. מהו הזמן שבסיכוי של 90% הסטודנט יעבוד פחות ממנו?

4. בממוצע מגיעים לחדר מיון 4 חולים בשעה בזרם פואסוני.
 - א. שולה המזכירה הגיעה לחדר המיון. מה ההסתברות שזמן ההמתנה שלה לחולה הבא יהיה יותר מ-20 דקות?
 - ב. אם שולה המתונה יותר מרבע שעה לחולה הבא. מה ההסתברות שתמתין בסך הכל יותר מחצי שעה?
 - ג. מה ההסתברות שבין החולה הראשון לשני יש להמתין יותר מרבע שעה ובין החולה השני לשלישי יש להמתין פחות מרבע שעה?

5. מערכת חשמלית כוללת 4 רכיבים אלקטרוניים זהים הפועלים במקביל כמוראה בשרטוט :



על מנת שהמערכת תפעל בצורה תקינה נדרש שלפחות אחד מהמרכיבים יהיה תקין.
אורך החיים של כל רכיב מתפלג מעריכית עם ממוצע של 100 שעות.

- א. מה ההסתברות שהמערכת תפעל בצורה תקינה במשך 100 שעות לפחות?
 ב. מעוניינים להוסיף במקביל עוד רכיב למערכת. עלות הוספת רכיב היא K ₪. כמו כן אם המערכת עבדה פחות מ-100 שעות נגרם הפסד של A ₪.
 מה התנאי שבו יהיה כדאי להוסיף את הרכיב למערכת?

פתרונות:**שאלה 1 :**

א. 0.368

ב. 0.865

ג. 0.347

שאלה 2 :

א. 24 שעות

ב. 0.632

ג. 0.135

שאלה 3 :

א. 0.393

ב. 0.239

ג. 0.513

ד. 69.08

שאלה 4 :

א. 0.264

ב. 0.368

ג. 0.233

שאלה 5 :

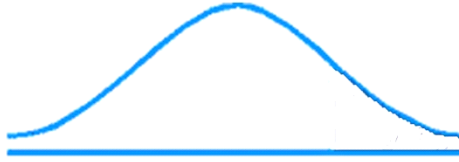
א. 0.8403

ב. $A0.0588 > K$

פרק 3 - התפלגויות רציפות מיוחדות - התפלגות נורמלית

רקע:

התפלגות נורמלית הינה התפלגות של משתנה רציף. ישנם משתנים רציפים מסוימים שנהוג להתייחס אליהם כנורמליים כמו: זמן ייצור, משקל תינוק ביום היוולדו ועוד. פונקציית הצפיפות של ההתפלגות הנורמלית נראית כמו פעמון:



לעקומה זו קוראים גם עקומת גאוס ועקומה אחת נבדלת מהשנייה באמצעות הממוצע וסטיית התקן שלה. אלה הם הפרמטרים שמאפיינים את ההתפלגות.

$$X \sim N(\mu, \sigma^2)$$

$$f(x) = \frac{1}{\sqrt{2\pi\sigma^2}} e^{-\frac{(x-\mu)^2}{2\sigma^2}} : \text{נוסחת פונקציית הצפיפות}$$

כדי לחשב הסתברויות בהתפלגות נורמלית יש לחשב את השטחים הרלבנטיים שמתחת לעקומה. כדי לחשב שטחים אלה נמיר כל התפלגות נורמלית להתפלגות נורמלית סטנדרטית על ידי תהליך הנקרא תקנון.

התפלגות נורמלית סטנדרטית היא התפלגות נורמלית שהממוצע שלה הוא אפס וסטיית התקן היא אחת והיא תסומן באות Z .

$$Z \sim N(0, 1^2)$$

תהליך התקנון מבוצע על ידי הנוסחה הבאה:

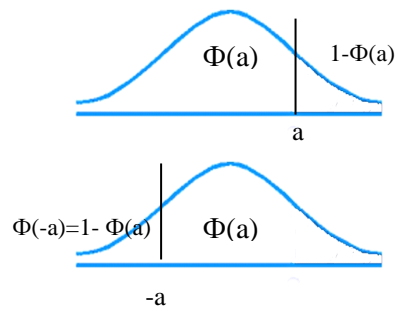
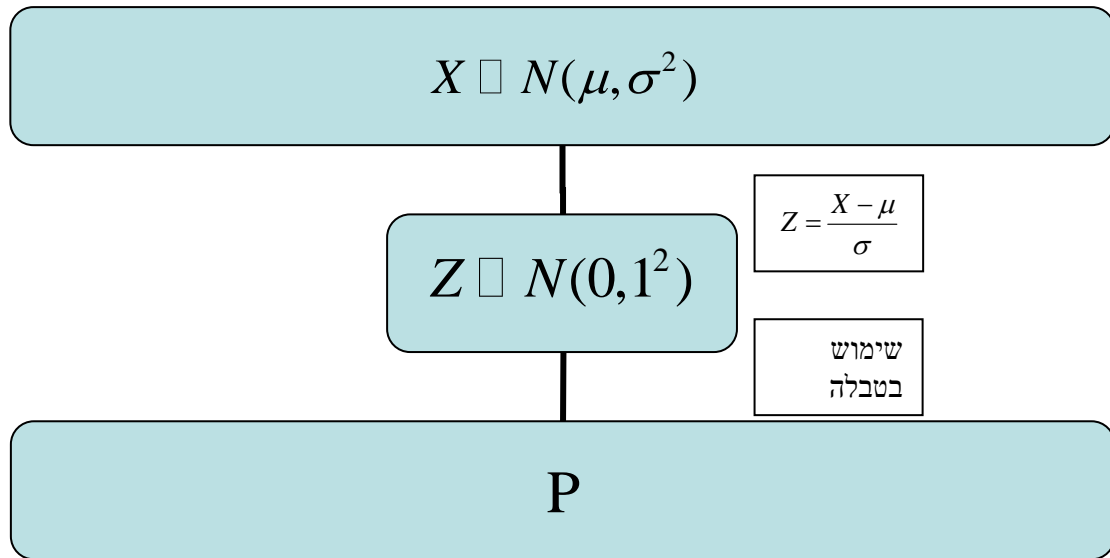
$$Z = \frac{X - \mu}{\sigma}$$

אחרי תקנון מקבלים ערך הנקרא ציון תקן.

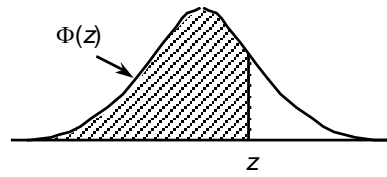
ציון התקן משמעו בכמה סטיות תקן הערך סוטה מהממוצע.

לאחר חישוב ציון התקן של ערך מסוים נעזרים בטבלה של ההתפלגות הנורמלית הסטנדרטית לחישוב השטח הרצוי.

ובאופן כללי נתאר את הסכמה הבאה :



טבלת ההתפלגות המצטברת הנורמלית סטנדרטית – ערכי $\Phi(z)$



z	.00	.01	.02	.03	.04	.05	.06	.07	.08	.09
0.0	.5000	.5040	.5080	.5120	.5160	.5199	.5239	.5279	.5319	.5359
0.1	.5398	.5438	.5478	.5517	.5557	.5596	.5636	.5675	.5714	.5753
0.2	.5793	.5832	.5871	.5910	.5948	.5987	.6026	.6064	.6103	.6141
0.3	.6179	.6217	.6255	.6293	.6331	.6368	.6406	.6443	.6480	.6517
0.4	.6554	.6591	.6628	.6664	.6700	.6736	.6772	.6808	.6844	.6879
0.5	.6915	.6950	.6985	.7019	.7054	.7088	.7123	.7157	.7190	.7224
0.6	.7257	.7291	.7324	.7357	.7389	.7422	.7454	.7486	.7517	.7549
0.7	.7580	.7611	.7642	.7673	.7704	.7734	.7764	.7794	.7823	.7852
0.8	.7881	.7910	.7939	.7967	.7995	.8023	.8051	.8078	.8106	.8133
0.9	.8159	.8186	.8212	.8238	.8264	.8289	.8315	.8340	.8365	.8389
1.0	.8413	.8438	.8461	.8485	.8508	.8531	.8554	.8577	.8599	.8621
1.1	.8643	.8665	.8686	.8708	.8729	.8749	.8770	.8790	.8810	.8830
1.2	.8849	.8869	.8888	.8907	.8925	.8944	.8962	.8980	.8997	.9015
1.3	.9032	.9049	.9066	.9082	.9099	.9115	.9131	.9147	.9162	.9177
1.4	.9192	.9207	.9222	.9236	.9251	.9265	.9279	.9292	.9306	.9319
1.5	.9332	.9345	.9357	.9370	.9382	.9394	.9406	.9418	.9429	.9441
1.6	.9452	.9463	.9474	.9484	.9495	.9505	.9515	.9525	.9535	.9545
1.7	.9554	.9564	.9573	.9582	.9591	.9599	.9608	.9616	.9625	.9633
1.8	.9641	.9649	.9656	.9664	.9671	.9678	.9686	.9693	.9699	.9706
1.9	.9713	.9719	.9726	.9732	.9738	.9744	.9750	.9756	.9761	.9767
2.0	.9772	.9778	.9783	.9788	.9793	.9798	.9803	.9808	.9812	.9817
2.1	.9821	.9826	.9830	.9834	.9838	.9842	.9846	.9850	.9854	.9857
2.2	.9861	.9864	.9868	.9871	.9875	.9878	.9881	.9884	.9887	.9890
2.3	.9893	.9896	.9898	.9901	.9904	.9906	.9909	.9911	.9913	.9916
2.4	.9918	.9920	.9922	.9925	.9927	.9929	.9931	.9932	.9934	.9936
2.5	.9938	.9940	.9941	.9943	.9945	.9946	.9948	.9949	.9951	.9952
2.6	.9953	.9955	.9956	.9957	.9959	.9960	.9961	.9962	.9963	.9964
2.7	.9965	.9966	.9967	.9968	.9969	.9970	.9971	.9972	.9973	.9974
2.8	.9974	.9975	.9976	.9977	.9977	.9978	.9979	.9979	.9980	.9981
2.9	.9981	.9982	.9982	.9983	.9984	.9984	.9985	.9985	.9986	.9986
3.0	.9987	.9987	.9987	.9988	.9988	.9989	.9989	.9989	.9990	.9990
3.1	.9990	.9991	.9991	.9991	.9992	.9992	.9992	.9992	.9993	.9993
3.2	.9993	.9993	.9994	.9994	.9994	.9994	.9994	.9995	.9995	.9995
3.3	.9995	.9995	.9995	.9996	.9996	.9996	.9996	.9996	.9996	.9997
3.4	.9997	.9997	.9997	.9997	.9997	.9997	.9997	.9997	.9997	.9998

z	1.282	1.645	1.960	2.326	2.576	3.090	3.291	3.891	4.417
$\Phi(z)$	0.90	0.95	0.975	0.99	0.995	0.999	0.9995	0.99995	0.999995

דוגמה: (הפתרון בהקלטה)

משקל חפיסות שוקולד המיוצרות בחברה מתפלג נורמלית עם ממוצע 100 גרם בסטיית תקן של 8 גרם.

- א. מה אחוז חפיסות השוקולד ששוקלות מתחת ל- 110 גרם?
- ב. מה אחוז חפיסות השוקולד ששוקלות מעל 110 גרם?
- ג. מה אחוז חפיסות השוקולד ששוקלות מתחת ל 92 גרם?
- ד. מהו המשקל ש-90% מהחפיסות בקו הייצור שוקלים פחות מהם?

תרגילים:

1. הגובה של אנשים באוכלוסייה מסוימת מתפלג נורמלית עם ממוצע של 170 ס"מ וסטית תקן של 10 ס"מ.

- א. מה אחוז האנשים שגובהם מתחת ל- 182.4 ס"מ?
- ב. מה אחוז האנשים שגובהם מעל 190 ס"מ?
- ג. מה אחוז האנשים שגובהם בדיוק 173.6 ס"מ?
- ד. מה אחוז האנשים שגובהם מתחת ל- 170 ס"מ?
- ה. מה אחוז האנשים שגובהם לכל היותר 170 ס"מ?

2. נתון שהזמן שלוקח לתרופה מסוימת להשפיע מתפלג נורמלית עם ממוצע של 30 דקות ושונות של 9 דקות רבועות .

- א. מהי פרופורציית המקרים בהן התרופה תעזור אחרי יותר משעה?
- ב. מה אחוז מהמקרים שבהן התרופה תעזור בין 35 ל-37 דקות?
- ג. מה הסיכוי שהתרופה תעזור בדיוק תוך 36 דקות?
- ד. מה שיעור המקרים שבהן ההשפעה של התרופה תסטה מ-30 דקות בפחות מ-3 דקות?

3. המשקל של אנשים באוכלוסייה מסוימת מתפלג נורמלית עם ממוצע של 60 ק"ג וסטית תקן של 8 ק"ג .

- א. מה אחוז האנשים שמשקלם נמוך מ- 55 ק"ג?
- ב. מהי פרופורציית האנשים באוכלוסייה שמשקלם לפחות 50 ק"ג?
- ג. מהי השכיחות היחסית של האנשים באוכלוסייה שמשקלם בין 60 ל- 70 ק"ג?
- ד. לאיזה חלק מהאוכלוסייה משקל הסוטה מהמשקל הממוצע בלא יותר מ- 4 ק"ג?
- ה. מה הסיכוי שאדם אקראי ישקול מתחת ל- 140 ק"ג?

4. משקל תינוקות ביום היוולדם מתפלג נורמלית עם ממוצע של 3300 גרם וסטית תקן 400 גרם.

- א. מצאו את העשירון העליון.
- ב. מצאו את האחוזון ה-95.
- ג. מצאו את העשירון התחתון.

5. ציוני מבחן אינטליגנציה מתפלג נורמלית עם ממוצע 100 ושונוות 225 .
- מה העשירון העליון של הציונים במבחן האינטליגנציה?
 - מה העשירון התחתון של ההתפלגות?
 - מהו הציון ש- 20% מהנבחנים מקבלים מעליו?
 - מהו האחוזון ה- 20?
 - מהו הציון ש- 5% מהנבחנים מקבלים מתחתיו?
6. נפח משקה בבקבוק מתפלג נורמלית עם סטיית תקן של 20 מ"ל, נתון ש-33% מהבקבוקים הם עם נפח שעולה על 508.8 מ"ל.
- מה ממוצע נפח משקה בבקבוק ?
 - 5% מהבקבוקים המיוצרים עם הנפח הגבוה ביותר נשלחים לבדיקה, החל מאיזה נפח שולחים בבקבוק לבדיקה?
 - 1% מהבקבוקים עם הנפח הקטן ביותר נתרמים לצדקה, מהו הנפח המקסימלי לצדקה?
7. אורך חיים של מכשיר מתפלג נורמלית . ידוע שמחצית מהמכשירים חיים פחות מ- 500 שעות, כמו כן ידוע ש- 67% מהמכשירים חיים פחות מ- 544 שעות.
- מהו ממוצע אורך חיי מכשיר?
 - מהי סטיית בתקן של אורך חיי מכשיר?
 - מה הסיכוי שמכשיר אקראי יחיה פחות מ- 460 שעות?
 - מהו המאון העליון של אורח חיי מכשיר?
 - 1% מהמכשירים בעלי אורך החיים הקצר ביותר נשלח למעבדה לבדיקה מעמיקה. מהו אורך החיים המקסימלי לשליחת מכשיר למעבדה?

8. להלן שלוש התפלגויות נורמליות של שלוש קבוצות שונות ששורטטו באותה מערכת צירים. ההתפלגויות מוספרו כדי להבדיל ביניהן.



- א. לאיזו התפלגות הממוצע הגבוה ביותר?
 ב. במה מבין המדדים הבאים התפלגות 1 ו 2 זהות?
 א. בעשירון העליון.
 ב. בממוצע.
 ג. בשונות.

ג. לאיזו התפלגות סטיית התקן הקטנה ביותר?

- א. 1
 ב. 2
 ג. 3
 ד. אין לדעת.

9. הזמן שלוקח לאדם להגיע לעבודתו מתפלג נורמלית עם ממוצע של 40 דקות וסטית תקן של 5 דקות.

- א. מה ההסתברות שמשך הנסיעה של האדם לעבודתו יהיה לפחות שלושת רבעי השעה?
 ב. אדם יצא לעבודתו בשעה 08:10 מביתו. הוא צריך להגיע לעבודתו בשעה 09:00. מה הסיכוי שיאחר לעבודתו?
 ג. אם ידוע שזמן נסיעתו לעבודה היה יותר משלושת רבעי השעה. מה ההסתברות שזמן הנסיעה הכולל יהיה פחות מ- 50 דקות?
 ד. מה הסיכוי שבשבוע (חמישה ימי עבודה) בדיוק פעם אחת יהיה זמן הנסיעה לפחות שלושת רבעי השעה?

10. ההוצאה החודשית לבית אב בעיר "טרירה" מתפלגת נורמלית עם ממוצע של 2000 דולר וסטית תקן של 300 דולר. בחרו באקראי 5 בתי אב. ההסתברות שלפחות אחד מהם מוציא בחודש מעל ל-T דולר היא 0.98976.
- א. מה ערכו של T?
- ב. מה הסיכוי שההוצאה החודשית של בית אב בעיר תהיה לפחות סטיית תקן אחת מעל T?
- ג. מסתבר שנפלה טעות בנתונים, ויש להוסיף 100 דולר להוצאות החודשית של כל בתי האב בעיר. לאור זאת, מה ההסתברות שההוצאה החודשית של בית אב נמוכה מ-1800 דולר?
11. אורך שיר אקראי המשודר ברדיו מתפלג נורמלית עם תוחלת של 3.5 דקות וסטיית תקן של שלושים שניות.
- א. מה ההסתברות שאורך של שיר אקראי המנוגן ברדיו יהיה בין 3 ל 2.5 דקות?
- ב. מהו הטווח הבין רבעוני של אורך שיר המשודר ברדיו?
- ג. ביום מסוים מנוגנים 200 שירים ברדיו. כמה שירים מתוכם תצפה שיהיו באורך הנמוך מ 3.5 דקות?
- ד. בשעה מסוימת שודרו 8 שירים. מה ההסתברות שרבע מהם בדיוק היו ארוכים מ-4 דקות והיתר לא?

פתרונות :

<u>שאלה 3</u>	<u>שאלה 1</u>
א. 26.43%	א. 89.25%
ב. 89.44%	ב. 2.28%
ג. 39.44%	ג. 0
ד. 0.383	ד. 50%
ה. 100%	

<u>שאלה 7</u>	<u>שאלה 5</u>
א. 500	א. 119.2
ב. 100	ב. 80.8
ג. 0.3446	ג. 112.6
ד. 733	ד. 87.4
ה. 267	

<u>שאלה 9</u>	<u>שאלה 8</u>
א. 0.1587	א. 3
ב. 0.0228	ב. בממוצע.
ג. 0.8563	ג. 1
ד. 0.3975	

<u>שאלה 11</u>	<u>שאלה 10</u>
א. 0.1359	א. 1925
ב. 0.675	ב. 0.2266
ג. 100	ג. 0.1587
ד. 0.25	

פרק 4 - קומבינציות לינאריות להתפלגות נורמאלית

רקע:

כל קומבינציה לינארית של משתנים המתפלגים נורמאלית מתפלגת נורמאלית בעצמה.

דוגמה: (פתרון בהקלטה)

הגובה של גברים במדינת ישראל מתפלג נורמלית עם תוחלת של 175 ס"מ וסטיית תקן של 10 ס"מ, כמו כן הגובה של נשים במדינה מתפלג נורמלית עם תוחלת של 165 ס"מ וסטיית תקן של 8 ס"מ.

מה הסיכוי שגבר אקראי מהמדינה יהיה גבוה מאישה אקראית? (0.7823)

תרגילים:

1. המשקל של גברים במדינת ישראל מתפלג נורמלית עם תוחלת של 75 ק"ג וסטיית תקן של 10 ק"ג.
כמו כן המשקל של נשים במדינה מתפלג נורמלית עם תוחלת של 65 ק"ג וסטיית תקן של 8 ק"ג.
מה הסיכוי שאישה אקראית תהיה בעלת משקל גבוה יותר מגבר אקראי?
2. ההוצאה השנתית על ביגוד לאדם מתפלג נורמלית עם תוחלת של 3000 ₪ וסטיית תקן של 1000 ₪. ההוצאה השנתית על בילויים מתפלגת נורמלית עם תוחלת של 4000 ₪ וסטיית תקן של 1500 ₪. מקדם המתאם בין ההוצאה השנתית על ביגוד וההוצאה השנתית על בילויים הינו 0.6.
א. מה התוחלת ומהי סטיית התקן של התפלגות ההוצאה השנתית הכוללת על ביגוד ובילוי?
ב. מה הסיכוי שההוצאה השנתית הכוללת על ביגוד ובילוי תעלה על 8000 ₪?
ג. מהו העשירון העליון של ההוצאה השנתית הכוללת על ביגוד ובילוי?
3. צריכת הירקות היומית במסעדה מתפלג נורמלית עם תוחלת של 50 ק"ג וסטיית תקן של 4 ק"ג. נתון שמחיר ק"ג ירק הוא 6 ₪ לקילו.
א. מה התוחלת ומהי השונות של העלות היומית של ירקות למסעדה?
ב. מה ההסתברות שהעלות היומית על ירקות תהיה נמוכה מ-290 ₪?
ג. מהו האחוזון ה-40 של התפלגות העלות היומית של המסעדה על ירקות?
4. נפח יין בבקבוק מתפלג נורמלית עם תוחלת של 750 מ"ל וסטיית תקן של 20 מ"ל. אדם קנה מארז של 4 בקבוקי יין.
א. מהי התוחלת ומהי סטיית התקן של נפח היין במארז.
ב. את היין שבמארז האדם מזג לכלי שקיבולתו 3.1 ליטר. מה ההסתברות שהיין יגלוש מהכלי?
5. לדוד משה הייתה חווה. בחווה פרה ועזה. תנובת החלב של הפרה מתפלג נורמלית עם ממוצע של 20 ליטר ביום וסטיית תקן של 5 ליטר ותנובת החלב של העזה מתפלג גם כן נורמלית עם ממוצע של 10 ליטר וסטיית תקן של 2 ליטר. כל ליטר חלב פרה נימכר ב-2 ₪ וליטר חלב עזה נימכר ב-3 ₪.
א. מה הסיכוי שהפדיון היומי של דוד משה מחלב יהיה לפחות 62 ₪?
ב. מה הסיכוי שמתוך 5 ימים יהיו לפחות 4 ימים בהם תנובת החלב מהפרה והעזה ביחד תהיה מתחת ל-30 ליטר?
ג. מה הסיכוי שביום מסוים תנובת הפרה תהיה נמוכה מתנובת העזה?

פתרונות:**שאלה 1**

0.2177

שאלה 2

א. תוחלת 7000, סטיית תקן 2247.

ב. 0.3264

ג. 9881

שאלה 3

א. תוחלת 300, שונות 576.

ב. 0.3372

ג. 294

שאלה 4

א. תוחלת 3000 מ"ל וסטיית תקן 40 מ"ל.

ב. 0.0062

פרק 5 - משתנה מקרי דו ממדי רציף

רקע:

יהיו X ו- Y משתנים מקריים רציפים המוגדרים בתחום R מסוים.
 פונקציית הצפיפות המשותפת שלהם תסומן על ידי $f(x, y)$.
 פונקציית צפיפות משותפת צריכה לקיים את שני התנאים הבאים:

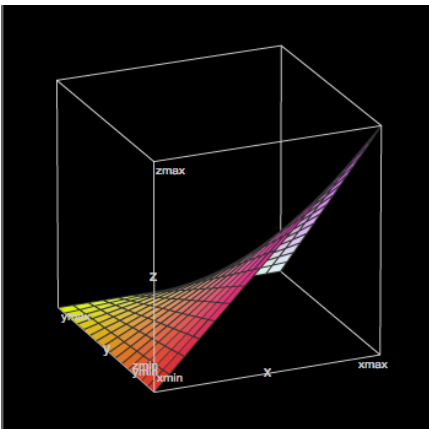
$$1 \quad f(x, y) \geq 0 \quad \text{לכל } (x, y) \in R$$

$$2 \quad \iint_R f(x, y) dx dy = 1$$

דוגמה: (פתרון בהקלטה)

$$f(x, y) = \begin{cases} 4x(1-y) & 0 \leq x, y \leq 1 \\ 0 & \text{else} \end{cases} \quad \text{נתונה הפונקציה:}$$

הראה שפונקציה זו יכולה להיות פונקציית צפיפות משותפת.



פונקציית צפיפות שולית:

פונקציית הצפיפות השולית של X תתקבל באופן הבא :

$$f(x) = \int_{-\infty}^{\infty} f(x, y) dy$$

פונקציית הצפיפות השולית של Y תתקבל באופן הבא :

$$f(y) = \int_{-\infty}^{\infty} f(x, y) dx$$

דוגמה: (פתרון בהקלטה)

$$f(x, y) = \begin{cases} 4x(1-y) & 0 \leq x, y \leq 1 \\ 0 & \text{else} \end{cases}$$

מצא לפונקציית הצפיפות :

את פונקציית הצפיפות השולית של X וחשב את E(X) דרכה.

אי תלות בן משתנים רציפים

X ו- Y יהיו משתנים מקרים בלתי תלויים אם עבור כל X ו- Y בתחום ההגדרה שלהם, R

$$f(x, y) = f(x) \cdot f(y) \quad \text{מתקיים ש:}$$

דוגמה: (פתרון בהקלטה)

האם X ו- Y המתפלגים לפי פונקציית הצפיפות המשותפת :

$$f(x, y) = \begin{cases} 4x(1-y) & 0 \leq x, y \leq 1 \\ 0 & \text{else} \end{cases}$$

הם משתנים בלתי תלויים?

חישוב הסתברויות עבור משתנה מקרי רציף דו ממדי

הנפח הכלוא מתחת למשטח $f(x, y)$ בתחום מסוים ייתן את ההסתברות ש X ו Y יהיו בתחום

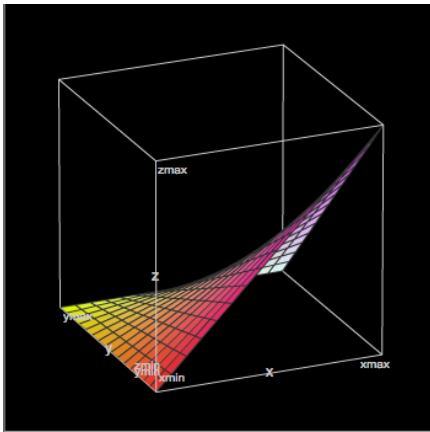
$$\text{הזה: } P[(x, y) \in A] = \iint_A f(x, y) dx dy$$

דוגמה: (פתרון בהקלטה)

$$f(x, y) = \begin{cases} 4x(1-y) & 0 \leq x, y \leq 1 \\ 0 & \text{else} \end{cases}$$

משתנים מתפלגים לפי פונקציית הצפיפות:

חשב את הסיכוי $P(X < 0.5 \cap Y < 0.5)$.



פונקציית התפלגות מצטברת משותפת

פונקציית התפלגות מצטברת משותפת הינה פונקציה של שני משתנים רציפים המחזירה את הסיכוי שהמשתנים יהיו קטנים מערכים מסוימים :

$$F(s, t) = P(X \leq s \cap Y \leq t) = \int_{-\infty}^t \int_{-\infty}^s f(x, y) dx dy$$

דוגמה: (פתרון בהקלטה)

$$f(x, y) = \begin{cases} 4x(1-y) & 0 \leq x, y \leq 1 \\ 0 & \text{else} \end{cases}$$

משתנים מתפלגים לפי פונקציית הצפיפות :

מצא את פונקציית ההתפלגות המצטברת המשותפת ועל פיה חשב את הסיכוי :
 $P(X < 0.5 \cap Y < 0.5)$

פונקציית צפיפות מותנית

אם ל- X ול- Y ישנה פונקציית צפיפות משותפת $f(x,y)$ אז מגדירים את פונקציית הצפיפות המותנית של X בהינתן ש $Y = y$ לכל ערכי y המקיימים $f(y) > 0$ על ידי :

$$f(x|y) = \frac{f(x,y)}{f(y)}$$

ובאופן דומה, פונקציית הצפיפות המותנית של Y בהינתן ש $X = x$ לכל ערכי x המקיימים

$$f(y|x) = \frac{f(x,y)}{f(x)} \quad : f(x) > 0 \text{ על ידי}$$

דוגמה: (פתרון בהקלטה)

$$f(x,y) = \begin{cases} 4x(1-y) & 0 \leq x, y \leq 1 \\ 0 & \text{else} \end{cases}$$

משתנים מתפלגים לפי פונקציית הצפיפות :

מצא את $f(x|y)$

תוחלת מותנית

ל- X ול- Y ישנה פונקציית צפיפות משותפת $f(x,y)$.

התוחלת של X בהינתן ש $Y = y$ תהיה: $E(X | Y = y) = \int_{-\infty}^{\infty} x \cdot f(x|y) dx$

ובאופן דומה, התוחלת של Y בהינתן ש $X = x$ תהיה: $E(Y | X = x) = \int_{-\infty}^{\infty} y \cdot f(y|x) dy$.

דוגמה: (פתרון בהקלטה)

$$f(x, y) = \begin{cases} 4x(1-y) & 0 \leq x, y \leq 1 \\ 0 & \text{else} \end{cases}$$

משתנים מתפלגים לפי פונקציית הצפיפות:

מצא את $E(X | Y)$

תרגילים:

1. נתונה פונקציית הצפיפות הבאה: $f(x, y) = x + y$ המוגדרת בתחום שבו $0 \leq x \leq 1$ וגם $0 \leq y \leq 1$. הוכח שמדובר בפונקציית צפיפות.

2. נתונה פונקציית הצפיפות הבאה: $f(x, y) = Ax(x - y)$ המוגדרת בתחום שבו $0 \leq x \leq 2$ וגם $-x \leq y \leq x$. מצא את ערכו של הפרמטר A.

3. נתונה פונקציית הצפיפות הבאה: $f(x, y) = \frac{(x \cdot y)^3 + x \cdot y}{C}$ המוגדרת בתחום שבו $0 \leq x \leq 1$ וגם $0 \leq y \leq 1$.

א. מצא את ערכו של C.

ב. מצא את $f(y)$.

ג. האם X ו-Y הינם משתנים בלתי תלויים?

4. משתנה מקרי דו ממדי מתפלג לפי פונקציית הצפיפות הבאה: $f(x, y) = \frac{1}{800}$ המוגדרת בתחום שבו $60 \leq x \leq y$ וגם $60 \leq y \leq 100$.

א. הראה שפונקציה זו מקיימת את התנאים של פונקציית צפיפות.

ב. מצא את פונקציית הצפיפות השולית של Y.

ג. חשב את $E(X)$ ו- $V(X)$.

ד. האם X ו-Y הם משתנים בלתי תלויים?

ה. חשב את מקדם המתאם בין X ל-Y.

ו. חשב את הסיכוי: $P(Y > X + 10)$.

5. משתנה מקרי דו ממדי מתפלג לפי פונקציית הצפיפות הבאה: $f(x, y) = \lambda\mu \cdot e^{-(\lambda x + \mu y)}$ המוגדרת בתחום שבו $x, y > 0$.

- מצאו את פונקציית הצפיפות של X ואת פונקציית הצפיפות של Y .
- האם X ו- Y הם משתנים תלויים?
- מהו מקדם המתאם בין X ל- Y ?
- חשב את הסיכוי: $P(Y > X)$.

6. Y הינו משתנה מקרי אחיד רציף המתפלג בקטע $[2, 4]$.

בנוסף נתון ש X הינו משתנה מקרי רציף המקיים:

$$f(x|y) = \frac{2x}{y^2} \quad 0 \leq x \leq y$$

מצא את השונות המשותפת של X ו- Y .

7. נתונים שני משתנים מקרים רציפים: X ו- Y . פונקציות הצפיפות המשותפות שלהם היא:

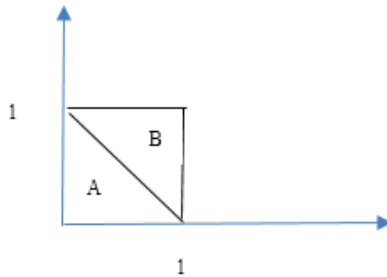
$$f(x, y) = \begin{cases} x & 0 < y < 1 \quad 1 - y \leq x \leq 1 + y \\ 0 & \text{אחרת} \end{cases}$$

- מצא את $f(x)$.
- מצא את $f(y|x)$.
- מצא את $E(Y|X)$.

8. יהי X ו- Y משתנים רציפים המתפלגים אחיד בתוך משולש שקדקודיו: $(0,1)$, $(-1,0)$, $(-1,2)$.

- רשמו את פונקציית הצפיפות המשותפת.
- מצאו את פונקציית הצפיפות השולית של X ושל Y .
- חשבו את התוחלת של X ושל Y .
- האם X ו- Y משתנים בלתי מתואמים?
- האם X ו- Y משתנים בלתי תלויים?

9. פונקציית צפיפות משותפת מקבלת ערך אחיד באופן הבא:
הצפיפות על פני משולש A הינה 1.5 ואילו הצפיפות על פני משולש B היא 0.5.



- האם פונקציית הצפיפות המשותפת היא לגיטימית?
- מצא את $f(x)$.
- מצא את $f(x|y)$.

10. נתונה פונקציית הצפיפות המשותפת $f(x,y) = cx$ פונקציה זו מוגדרת בתחום שבו

$$0 \leq x \leq 1 \text{ וגם } 0 \leq y \leq x^2$$

- מצאו את הקבוע C .
- חשבו את ההסתברות ש $6Y < 1 - X$.

11. נתונים X ו- Y שני משתנים מקריים רציפים כך ש: $Y \square U(0,1)$ ו-

$$X | Y = y \square U(0, \sqrt{y})$$

חשב את $E(Y | X = 0.5)$

12. נתונה פונקציית הצפיפות $f(x, y) = 2e^{-x} \cdot e^{-2y}$ בתחום שבו $x, y \geq 0$. חשבו את הסיכוי $P(X < Y)$.

13. נתונה פונקציית הצפיפות המשותפת: $f(x, y) = \frac{e^{-y} \cdot e^{-\frac{x}{y}}}{y}$ פונקציה זו מוגדרת לרביע הראשון.

חשבו את $P(X > 1 | Y = 2)$.

14. יוסי וערן עובדים באותו המשרד. הם מגיעים לעבודה בכל יום בין 8:00 ל 9:00. נניח שבזמן ההגעה של כל אחד מתפלג אחיד ובאופן בלתי תלוי זה בזה. מה הסיכוי שיוסי יצטרך לחכות לערן יותר מ 10 דקות?

15. נתונים שני משתנים מקרים רציפים: $X \sim N(Y, 1)$ ו $Y \sim U(0, 2)$.

א. מצאו את פונקציית הצפיפות המשותפת של X ושל Y .

ב. מצאו את $E(X^2 | Y)$.

ג. מצאו את $E(X)$.

16. פונקציית הצפיפות המשותפת של X ושל Y היא: $f(x, y) = 1$ פונקציה זו מוגדרת בתחומי $0 \leq x, y \leq 1$

$$E(|X - Y|^n) = \frac{2}{(n+1)(n+2)}$$

הוכח ש:

17. $X \sim \exp(1)$ וכמו כן $Y \sim \exp(1)$ הינם משתנים מקרים בלתי תלויים.

נגדיר את $Z = \frac{X}{X+Y}$. הוכח: $Z \sim U(0, 1)$.

פתרונות:שאלה 2:

$$A = \frac{1}{8}$$

שאלה 3:

א. $\frac{5}{16}$

ב. $f(y) = 0.8y^3 + 1.6y$

ג. תלויים.

שאלה 4:

א. הוכחה

ב. $f(y) = \frac{y-60}{800}$

ג. $E(X) = 73\frac{1}{3}$ $V(X) = 88\frac{8}{9}$

ד. לא.

ה. 0.5

ו. 0.5625

שאלה 5:

א. $f(y) = \mu e^{-\mu y}$ $f(x) = \lambda e^{-\lambda x}$

ב. לא.

ג. 0

ד. $\frac{\lambda}{\lambda + \mu}$

שאלה 6:

$$\frac{2}{9}$$

שאלה 7:

$$f(x) = \begin{cases} x^2 & 0 \leq x < 1 \\ 2x - x^2 & 1 \leq x \leq 2 \\ 0 & \text{אחרת} \end{cases} \quad \text{א.}$$

$$f(y|x) = \begin{cases} \frac{1}{x} & 0 \leq x < 1 \quad 1-x < y < 1 \\ \frac{1}{2-x} & 1 \leq x \leq 2 \quad x-1 < y < 1 \\ 0 & \text{אחרת} \end{cases} \quad \text{ב.}$$

$$E(y|x) = \begin{cases} 1 - \frac{x}{2} & 0 \leq x < 1 \\ \frac{x}{2} & 1 \leq x \leq 2 \\ 0 & \text{אחרת} \end{cases} \quad \text{ג.}$$

שאלה 8:

$$f(x, y) = \begin{cases} 1 & 1+x < y < 1-x \quad -1 < x < 0 \\ 0 & \text{else} \end{cases} \quad \text{א.}$$

$$f(y) = \begin{cases} y & 0 \leq y < 1 \\ 2-y & 1 \leq y \leq 2 \\ 0 & \text{אחרת} \end{cases} \quad f(x) = \begin{cases} -2x & -1 < x < 0 \\ 0 & \text{else} \end{cases} \quad \text{ב.}$$

$$E(X) = -\frac{2}{3} \quad E(Y) = 1 \quad \text{ג.}$$

ד. כן.

ה. לא.

שאלה 9:

א. כן.

$$f(x) = \begin{cases} 1.5 - x & 1 < x < 0 \\ 0 & \text{else} \end{cases} \quad \text{ב.}$$

$$f(x|y) = \begin{cases} \frac{1.5}{1.5-y} & 0 \leq x < 1-y \\ \frac{0.5}{1.5-y} & 1-y \leq x \leq 1 \\ 0 & \text{אחר ת} \end{cases} \quad \text{ג.}$$

שאלה 10:

א. 4

ב. 0.0947

שאלה 11:

$$\frac{7}{12}$$

שאלה 12:

$$\frac{1}{3}$$

שאלה 13:

$$e^{-\frac{1}{2}}$$

שאלה 14:

$$\frac{25}{72}$$

שאלה 15:

$$f(x, y) = \begin{cases} \frac{1}{2\sqrt{2\pi}} e^{-\frac{(x-y)^2}{2}} & 0 < y < 2 \\ 0 & \text{else} \end{cases} \quad \text{א.}$$

ב. $y^2 + 1$

ג. 1

שאלה 16:

הוכחה.

שאלה 17:

הוכחה.

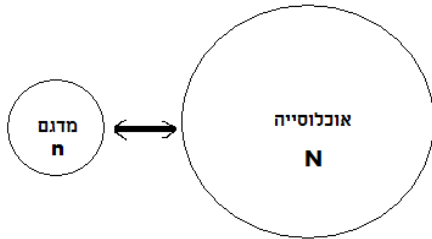
פרק 6 - הסקה סטטיסטית - הקדמה

רקע:

אוכלוסייה – קבוצה שאליה מפנים שאלה מחקרית.

למשל, חברת תרופות שמעוניינת לפתח תרופה למחלת הסוכרת מתעניינת באוכלוסיית חולי הסוכרת בעולם.

מדגם – חלק מתוך האוכלוסייה.



למשל, אם נדגום באקראי 10 אנשים מתוך חולי הסוכרת אז זהו מדגם מתוך אוכלוסיית חולי הסוכרת.

במקרים רבים אין אפשרות לחקור את כל האוכלוסייה כיוון שאין גישה לכולה, היא גדולה מידי, אנו מוגבלים בזמן ובאמצעים טכניים ולכן מבצעים מדגם במטרה לבצע הסקה סטטיסטית מהמדגם לאוכלוסייה.

הדגימה בקורס תהייה דגימה מקרית הכוונה לדגימה שבה לכל תצפית באוכלוסייה יש את אותו סיכוי להיכלל במדגם.

סטטיסטי – גודל המחושב על המדגם.

פרמטר – גודל המתאר את האוכלוסייה.

הסימונים לפרמטר וסטטיסטי הם שונים

למשל:

פרמטר (אוכלוסייה)	סטטיסטי (מדגם)	
μ	\bar{X}	ממוצע
P	\hat{p}	פרופורציה (שכיחות יחסית)

פרמטר הוא גודל קבוע גם אם אנו לא יודעים אותו סטטיסטי הוא משתנה ממדגם למדגם ולכן יש לו התפלגות הנקראת התפלגות הדגימה.

דוגמה (פתרון בהקלטה):

25% מאזרחי המדינה תומכים בהצעת החוק של חבר כנסת מסוים . הוחלט לדגום 200 אזרחים ומתוכם לבדוק מהו אחוז התומכים בהצעת החוק.

א. מי האוכלוסייה?

ב. מה המשתנה?

ג. מה הפרמטרים?

ד. מהו גודל המדגם?

ה. מהו הסטטיסטי שמתכננים להוציא מהמדגם?

ו. האם הפרמטר או הסטטיסטי הוא משתנה מקרי?

תרגילים :

1. מתוך כלל הסטודנטים במכללה שסיימו סטטיסטיקה א נדגמו שני סטודנטים. נתון שממוצע הציונים של כלל הסטודנטים היה 78 עם סטיית תקן של 15.

א. מי האוכלוסייה?

ב. מה המשתנה?

ג. מהם הפרמטרים?

ד. מהו גודל המדגם?

2. להלן התפלגות מספר מקלטי הטלוויזיה למשפחה בישוב "העוגן".

נגדיר את x להיות מספר המקלטים של משפחה אקראית.

מתכננים לדגום מאוכלוסייה זו 4 משפחות ולהתבונן בממוצע מספר מקלטי הטלוויזיה במדגם.

מספר מקלטים	מספר המשפחות
0	50
1	250
2	350
3	300
4	50
	סך הכול $N = 1000$

א. מיהי האוכלוסייה ומהו המשתנה הנחקר?

ב. מהו הסטטיסטי שיילקח מהמדגם ומה סימונו?

3. נתון כי 20% מהשכירים במדינה הם אקדמאיים. נבחרו באקראי 10 שכירים באותה אוכלוסייה

ומתכננים לפרסם את מספר האקדמאיים שנדגמו.

א. מהי האוכלוסייה ?

ב. מה המשתנה באוכלוסייה?

ג. מהם הפרמטרים?

ד. מהו הסטטיסטי?

פרק 7 - התפלגות הדגימה

ממוצע המדגם ומשפט הגבול המרכזי

רקע:

בפרק זה נדון בהתפלגות של ממוצע המדגם: $\bar{x} = \frac{\sum x_i}{n}$

מכיוון שממדגם למדגם או יכולים לקבל ממוצע מדגם שונה, אזי ממוצע המדגם הוא משתנה מקרי ויש לו התפלגות.

גדלים המתארים התפלגות כלשהי או אוכלוסייה כלשהי נקראים פרמטרים. להלן רשימה של פרמטרים החשובים לפרק זה:

ממוצע האוכלוסייה נסמן ב- μ (נקרא גם תוחלת).

שונות אוכלוסייה נסמן ב- σ^2 .

סטיית תקן של אוכלוסייה: σ .

א. תכונות התפלגות

ממוצע כל ממוצעי המדגם האפשריים שווה לממוצע האוכלוסייה:

$$E(\bar{x}) = \mu_{\bar{x}} = \mu$$

שונות כל ממוצעי המדגם האפשריים שווה לשונות האוכלוסייה מחולק ב- n . תכונה זו נכונה רק במדגם מקרי:

$$V(\bar{x}) = \sigma_{\bar{x}}^2 = \frac{\sigma^2}{n}$$

יש יחס הפוך בין גודל המדגם לבין שונות ממוצעי המדגם.

אם נוציא שורש לשונות נקבל סטיית תקן של ממוצע המדגם שנקראת גם טעות תקן:

$$\sigma(\bar{x}) = \sqrt{\frac{\sigma^2}{n}} = \frac{\sigma}{\sqrt{n}}$$

דוגמה: (פתרון בהקלטה)

השכר הממוצע במשק הינו 9000 ₪ עם סטיית תקן של 4000. דגמו באקראי 25 עובדים.

א. מי אוכלוסיית המחקר? מהו המשתנה הנחקר?

ב. מהם הפרמטרים של האוכלוסייה?

ג. מה התוחלת ומהי סטיית התקן של ממוצע המדגם?

ב. דגימה מהתפלגות נורמאלית

אם נדגום מתוך אוכלוסייה שהמשתנה בה מתפלג נורמאלית עם ממוצע μ ושונות σ^2 ממוצע המדגם גם יתפלג נורמאלית:

$$\bar{x} \sim N\left(\mu, \frac{\sigma^2}{n}\right)$$

$$Z_{\bar{x}} = \frac{\bar{x} - \mu}{\frac{\sigma}{\sqrt{n}}}$$

דוגמה: (פתרון בהקלטה)

משקל תינוק ביום היוולדו מתפלג נורמאלית עם ממוצע 3400 גרם וסטיית תקן של 400 גרם. מה ההסתברות שבמדגם של 4 תינוקות אקראיים בעת הולדתם המשקל הממוצע של התינוקות יהיה מתחת ל-3.5 ק"ג?

ג. משפט הגבול המרכזי

אם אוכלוסייה מתפלגת כלשהו עם ממוצע μ ושונות σ^2 אזי עבור מדגם מספיק גדול ($n \geq 30$)

$$\bar{x} \rightsquigarrow N\left(\mu, \frac{\sigma^2}{n}\right) \text{ נורמאלית בקירוב}$$

דוגמה: (פתרון בהקלטה)

משקל חפיסת שוקולד בקו ייצור מתפלג עם ממוצע 100 גרם וסטיית תקן של 4 גרם. דגמו מקו הייצור 36 חפיסות שוקולד אקראיות. מה ההסתברות שהמשקל הממוצע של חפיסות השוקולד שנדגמו יהיה מתחת ל 102 גרם?

תרגילים :

1. מתוך כלל הסטודנטים במכללה שסיימו סטיסטיקה א נדגמו שני סטודנטים. נתון שממוצע הציונים של כלל הסטודנטים היה 78 עם סטיית תקן של 15.

א. מי האוכלוסייה?

ב. מה המשתנה?

ג. מהם הפרמטרים?

ד. מהו גודל המדגם?

ה. מהו תוחלת ממוצע המדגם?

ו. מהי טעות התקן?

2. להלן התפלגות מספר מקלטי הטלוויזיה למשפחה בישוב מסוים :

מספר משפחות	מספר מקלטים
500	0
2500	1
3500	2
3000	3
500	4
סך הכול	

את x להיות מספר המקלטים של

נגדיר

משפחה אקראית.

א. בנו את פונקציית ההסתברות של x .

ב. חשבו את התוחלת, השונות וסטיית התקן של x .

ג. אם נדגום 4 משפחות מהישוב עם החזרה מה תהיה התוחלת, מהי השונות ומהי סטיית התקן של ממוצע המדגם?

3. אם נטיל קובייה פעמיים ונתבונן בממוצע התוצאות שיתקבלו, מה תהיה התוחלת ומה תהיה סטיית התקן של ממוצע זה?

4. משקל תינוק ביום היוולדו מתפלג נורמאלית עם ממוצע 3400 גרם וסטיית תקן של 400 גרם
א. מה ההסתברות שתינוק אקראי בעת הלידה ישקול פחות מ-3800 גרם?

נתון כי ביום מסוים נולדו 4 תינוקות.

ב. מה ההסתברות שהמשקל הממוצע שלהם יעלה על 4 ק"ג?

ג. מה ההסתברות שהמשקל הממוצע של התינוקות יהיה מתחת ל-2.5 ק"ג?

ד. מה ההסתברות שהמשקל הממוצע של התינוקות יהיה רחוק מהתוחלת בלא יותר מ-50 גרם?

ה. הסבירו ללא חישוב כיצד התשובה לסעיף הקודם הייתה משתנה אם היה מדובר על יותר מ-4 תינוקות?

5. הגובה של המתגייסים לצה"ל מתפלג נורמאלית עם תוחלת של 175 ס"מ וסטיית תקן של 10 ס"מ. ביום מסוים התגייסו 16 חיילים.

א. מה ההסתברות שהגובה הממוצע שלהם יהיה לפחות 190 ס"מ?

ב. מה ההסתברות שהגובה הממוצע שלהם יהיה בדיוק 180 ס"מ?

ג. מה ההסתברות שהגובה הממוצע שלהם יסטה מתוחלת הגבהים בפחות מ-5 ס"מ?

ד. מהו הגובה שבהסתברות של 90% הגובה הממוצע של המדגם יהיה נמוך ממנו?

6. הזמן הממוצע שלוקח לאדם להגיע לעבודתו 30 דקות עם שונות של 16 דקות רבועות. האדם נוסע לעבודה במשך שבוע 5 פעמים. לצורך פתרון הניחו שזמן הנסיעה לעבודה מתפלג נורמאלית.

א. מה ההסתברות שבמשך שבוע משך הנסיעה הממוצע יהיה מעל 33 דקות?

ב. מהו הזמן שבהסתברות של 90% ממוצע משך הנסיעה השבועי יהיה גבוה ממנו?

ג. מה ההסתברות שממוצע משך הנסיעה השבועי יהיה מרוחק מ-30 דקות בלפחות 2 דקות?

ד. כיצד התשובה לסעיף הקודם הייתה משתנה אם האדם היה נוסע לעבודה 6 פעמים בשבוע?

7. נפח היין בבקבוק מתפלג נורמאלית עם תוחלת של 750 סמ"ק וסטיית תקן של 10 סמ"ק.

א. בארגז 4 בקבוקי יין. מה ההסתברות שהנפח הממוצע של הבקבוקים בארגז יהיה בדיוק 755 סמ"ק?

ב. בארגז 4 בקבוקי יין. מה ההסתברות שהנפח הממוצע של הבקבוקים בארגז יהיה יותר מ-755 סמ"ק?

ג. בארגז 4 בקבוקי יין. מה ההסתברות שהנפח הממוצע של הבקבוקים בארגז יהיה לפחות 755 סמ"ק?

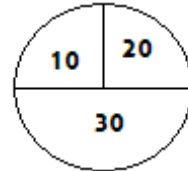
ד. בקבוקי היין שבארגז נמוזגים לקערה עם קיבולת של שלושה ליטר. מה ההסתברות שהיין יגלוש מהקערה?

8. משתנה מתפלג נורמאלית עם תוחלת 80 וסטיית תקן 4 .

א. מה ההסתברות שממוצע המדגם יסטה מתוחלתו בלא יותר מיחידה כאשר גודל המדגם הוא 9?

ב. מה ההסתברות שממוצע המדגם יסטה מתוחלתו בלא יותר מיחידה שגודל המדגם הוא 16?
ג. הסבר את ההבדל בתשובות של שני הסעיפים.

9. בקזינו ישנה רולטה. על הרולטה רשומים המס' הבאים כמוראה בשרטוט:



אדם מסובב את הרולטה וזוכה בסכום הרשום על הרולטה.

א. בנו את פונקציית ההסתברות של סכום הזכייה במשחק בודד.

ב. מה התוחלת ומה השונות של סכום הזכייה?

ג. אם האדם ישחק את המשחק 5 פעמים מה התוחלת ומה השונות של ממוצע סכום הזכייה בחמשת המשחקים?

ד. אם האדם משחק את המשחק 50 פעם מה ההסתברות שבסה"כ יזכה ב-1050 ₪ ומעלה?

10. לפי הערכות הלשכה המרכזית לסטטיסטיקה השכר הממוצע במשק הוא 8000 ₪ עם סטיית תקן של 3000 ₪. מה ההסתברות שבמדגם מקרי של 100 עובדים השכר הממוצע יהיה יותר מ-8500 ₪?

11. מטילים קובייה 50 פעמים בכל פעם מתבוננים בתוצאה של הקובייה. מה ההסתברות שהממוצע של התוצאות יהיה לפחות 3.72 ב-50 ההטלות?

12. אורך צינור שמפעל מייצר הינו עם ממוצע של 70 ס"מ וסטיית תקן של 10 ס"מ .

א. נלקחו באקראי 100 מוטות, מה ההסתברות שממוצע אורך המוטות יהיה בין 68 ל 78 ס"מ?

ב. יש לחבר 2 בניינים באמצעות מוטות. המרחק בין שני הבניינים הינו 7200 ס"מ. מה

ההסתברות ש 100 המוטות יספיקו למלאכה?

ג. מה צריך להיות גודל המדגם המינימאלי, כדי שבהסתברות של 5% ממוצע המדגם יהיה

קטן מ-69 ס"מ. העזר במשפט הגבול המרכזי.

13. נתון משתנה מקרי בדיד בעל פונקציית ההסתברות הבאה:

2	4	6	8	X
$\frac{1}{4}$	$\frac{1}{4}$	$\frac{1}{4}$	$\frac{1}{4}$	P(X)

מותוך התפלגות זו נלקח מדגם מקרי בגודל 50 . מה הסיכוי שממוצע המדגם יהיה קטן מ-5?

14. נתון ש $X \sim N(\mu, \sigma^2)$ דגמו 5 תצפיות מאותה התפלגות והתבוננו בממוצע המדגם \bar{X} :

לכן $P(\bar{X} > \mu)$ יהיה : (בחר בתשובה הנכונה)

א. 0

ב. 0.5

ג. 1

ד. לא ניתן לדעת.

15. נתון ש X מתפלג כלשהו עם תוחלת μ ושונות σ^2 .

החליטו לבצע מדגם בגודל 200 מתוך ההפלגות הנתונה לפי משפט הגבול המרכזי מתקיים ש :
(בחר בתשובה הנכונה)

א. $X \sim N(\mu, \frac{\sigma^2}{200})$

ב. $\mu \sim N(\mu, \frac{\sigma^2}{200})$

ג. $\bar{X} \sim N(\mu, \sigma^2)$

ד. $\bar{X} \sim N(\mu, \frac{\sigma^2}{200})$

16. נתון ש $X \sim N(\mu, \sigma^2)$. אם נדגום n תצפיות מתוך ההתפלגות ונגדיר $\bar{X} = \frac{\sum_{i=1}^n X_i}{n}$ אזי :

(בחר בתשובה הנכונה)

א. μ ו- \bar{X} יהיו משתנים מקריים.

ב. μ יהיה משתנה מקרי ו \bar{X} קבוע.

ג. \bar{X} יהיה משתנה מקרי ו μ קבוע.

ד. μ ו \bar{X} יהיו קבועים.

17. משקל חפיסת שוקולד בקו ייצור מתפלג עם ממוצע 100 גרם . החפיסות נארזות בקרטון המכיל 36 חפיסות שוקולד אקראיות. ההסתברות שהמשקל הממוצע של חפיסות השוקולד בקרטון יהיה מעל 99 גרם הוא 0.9932.
 א. מהי סטיית התקן של משקל חפיסת שוקולד בודדת?
 ב. מה הסיכוי שמתוך 4 קרטונים בדיוק קרטון אחד יהיה עם משקל ממוצע לחפיסה הנמוך מ-100 גרם?

18. משתנה מקרי כלשהו מתפלג עם סטיית תקן של 20. מה הסיכוי שאם נדגום 100 תצפיות בלתי תלויות מאותה התפלגות אזי ממוצע המדגם יסטה מתוחלתו בפחות מ-2?

19. מספר המכוניות הנכנסות לחניון "בציר" במשך היום מתפלג פואסונית עם קצב של מכוניות אחת לדקה. שומר מסר נתונים על מספר המכוניות שנכנסות בכל שעה לגבי 40 שעות שאסף נתונים. מה ההסתברות שממוצע מספר המכוניות שנכנסו לחניון לשעה בשעות אלה יהיה לפחות 63?

20. הוכיחו שאם משתנה מתפלג כלשהו עם תוחלת μ ושונות σ^2 ומבצעים מדגם בגודל n של תצפיות בלתי תלויות מהמשתנה, אזי מתקיימות התכונות הבאות לגבי ממוצע המדגם:

$$E(\bar{x}) = \mu$$

$$V(\bar{x}) = \frac{\sigma^2}{n}$$

פתרונות:**שאלה 2**

א.

4	3	2	1	0	X
0.05	0.3	0.35	0.25	0.05	P(x)

$$\mu = 2.05 \quad \sigma^2 = 0.9475 \quad \sigma = 0.973 \quad \text{ב.}$$

$$\mu_{\bar{x}} = 2.05 \quad \sigma_{\bar{x}}^2 = 0.2369 \quad \text{ג.}$$

$$\sigma(\bar{X}) = 0.486$$

שאלה 3

$$\mu_{\bar{x}} = 3.5$$

$$\sigma(\bar{X}) = 1.21$$

שאלה 4

א. 0.8413

ב. 0.0013

ג. 0

ד. 0.1974

שאלה 6

א. 0.0465

ב. 27.71

ג. 0.2628

שאלה 7

א. 0

ב. 0.1587

ג. 0.1587

ד. 0.5

שאלה 8

א. 0.5468

ב. 0.6826

שאלה 9

א.

30	20	10	
0.5	0.25	0.25	$P(x)$

ב. התוחלת: 22.5

השונות: 68.75

ג. התוחלת: 22.5

השונות: 13.75

ד. 0.8997

שאלה 10

0.0475

שאלה 11

0.1814

שאלה 12

א. 0.9772

ב. 0.0228

ג. 271

שאלה 14

התשובה ב

שאלה 15

התשובה ד

שאלה 16

התשובה ג

שאלה 17

א. 2.429

ב. 0.25

התפלגות סכום תצפיות המדגם ומשפט הגבול המרכזי

רקע:

$$T = \sum_{i=1}^n X_i$$

כעת נדון בסטטיסטי המבטא את סכום התצפיות במדגם

כאשר כל התצפיות נדגמו באקראי מאותה אוכלוסייה.

כלומר, היו X_1, \dots, X_n - משתנים מקריים בלתי תלויים בעלי התפלגות זהה שתוחלתה μ ושונותה σ^2 אזי:

א. התוחלת והשונות של סכום התצפיות:

$$E(T) = n\mu$$

$$V(T) = n\sigma^2$$

ב. דגימה מתוך התפלגות נורמלית:

$$T \sim N(n\mu, n\sigma^2)$$

$$Z = \frac{T - n\mu}{\sqrt{n\sigma^2}} \quad \text{אזי}$$

$$\text{אם } X \sim N(\mu, \sigma^2)$$

ג. משפט הגבול המרכזי :

$$E(X) = \mu$$

$$V(X) = \sigma^2$$

אם x מתפלג כלשהו וידוע

אזי עבור מדגם מספיק גדול (לפחות 30)

$$T \rightsquigarrow N(n\mu, n\sigma^2)$$

דוגמה: (פתרון בהקלטה)

בעיר מסוימת המשכורת הממוצעת של עובד הינה 8000 ₪. עם סטיית תקן של 2000 ₪. נדגמו 100 עובדים מהעיר שמפקידים את משכורתיהם לסניף בנק.

א. מה התוחלת וסטיית התקן של סך המשכורות שיופקדו לסניף הבנק על ידי העובדים הללו?
 ב. מה ההסתברות שלסניף יופקד פחות מ-780 אלף ₪ ע"י אותם עובדים? (0.1587)

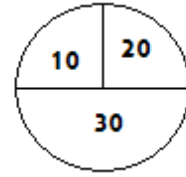
תרגילים:

1. המשקל באוכלוסייה מסוימת מתפלג נורמאלית עם תוחלת של 60 ק"ג וסטיית תקן של 10 ק"ג.
- א. מה הסיכוי שאדם אקראי מהאוכלוסייה ישקול מתחת ל-65 ק"ג?
- ב. מה הסיכוי שהמשקל הממוצע של 4 אנשים אקראיים יהיה מתחת ל-65 ק"ג?
- ג. מה הסיכוי שהמשקל הכולל של 4 אנשים אקראיים יהיה מתחת ל-240 ק"ג?
2. נפח יין בבקבוק מתפלג נורמאלית עם תוחלת של 750 מ"ל וסטיית תקן של 20 מ"ל. אדם קנה מארז של 4 בקבוקי יין.
- א. מהי התוחלת ומהי סטיית התקן של נפח היין במארז?
- ב. את היין שבמארז האדם מזג לכלי שקיבולתו 3.1 ליטר. מה ההסתברות שהיין יגלוש מהכלי?
- ג. אם לא היה נתון שנפח היין מתפלג נורמאלית. האם התשובה לסעיף א הייתה משתנה? האם התשובה לסעיף ב הייתה משתנה?
3. בספר כלשהו 500 עמודים. קצב הקריאה הממוצע הוא עמוד אחד ב 4 דקות עם סטיית תקן של 1 דקות.
- א. מה ההסתברות לסיים את הפרק הראשון (40 עמודים) תוך שעתיים וחצי?
- ב. מהו האחוזון ה-95 לזמן סיום קריאת הספר?
4. במגדל נבנו 40 יחידות דיור. כמו כן נבנו 135 מקומות חנייה לבניין. להלן פונקציית ההסתברות של מספר המכוניות ליחידת דיור:

x	1	2	3	4	5
$P(X = x)$	0.1	0.2	0.3	0.25	0.15

- נניח שמספר המכוניות ליחידת דיור בלתי תליות זו בזו ועם אותה פונקציית הסתברות לכל יחידת דיור (אין צורך בתיקון רציפות).
- א. מהי ההסתברות שיהיה מקום בחניון המגדל לכל מכוניות הבניין ?
- ב. בהינתן ויש מקום במגדל לכל המכוניות , מה הסיכוי שבפועל מספר המכוניות נמוך מ-130?

5. בקזינו ישנה רולטה עליה מסומנים המספרים הבאים :



אדם מסובב את הרולטה וזוכה בסכום הרשום על הרולטה.
 א. אם האדם משחק את המשחק 50 פעמים מה ההסתברות שבסך הכול יזכה בסכום של 1050 שקלים ומעלה?

ב. האדם מגיע בכל יום לקזינו ומשחק את המשחק 50 פעם עד אשר מגיע היום בו הוא יזכה

ב- 1050 שקלים ומעלה. מה התוחלת ומהי השונות של מספר הימים שיבלה בקזינו?

6. נתון ש $X_i \sim \exp(\lambda = 1)$ כאשר $i = 1, 2, \dots, 100$,

חשבו את הסיכוי $P(\sum_i X_i \geq 115)$.

7. אורך חיי סוללה בשעות הוא בעל פונקציה הצפיפות הבאה :

$$f(x) = 2x \quad 0 < x < 1$$

ברגע שסוללה מתרוקנת מחליפים אותה במידית בסוללה אחרת. כמה סוללות יש להחזיק במלאי אם רוצים שבסיכוי של 90% לפחות המלאי יספיק עבור 35 שעות לפחות?

פתרונות:**שאלה 1**

א. 0.6915

ב. 0.8413

ג. 0.5

שאלה 2

א. תוחלת 3000 מ"ל וסטיית תקן 40 מ"ל

ב. 0.0062

שאלה 4

א. 0.883

שאלה 5

א. 0.8997

ב. תוחלת : 1.111 שונות 0.1239

שאלה 7

56

התפלגות מספר ההצלחות במדגם - הקרוב הנורמלי להתפלגות הבינומית

רקע:

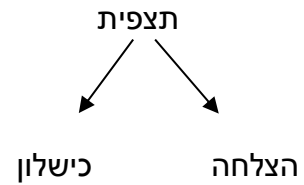
תזכורת על התפלגות בינומית

בפרק זה נדון על התפלגות מספר ההצלחות במדגם אקראי (תצפיות בלתי תלויות זו בזו).

מספר ההצלחות במדגם נסמן ב Y .

מחלקים כל תצפית במדגם להצלחה או כישלון.

כעת מה שמשתנה מתצפית לתצפית הוא משתנה דיכוטומי (משתנה שיש לו שני ערכים).



הסיכוי להצלחה יסומן עם הפרמטר p וכישלון יסומן ע"י הפרמטר $q = 1 - p$.

מבצעים מדגם אקראי בגודל n .

$$Y \sim B(n, p)$$

פונקציית ההסתברות של ההתפלגות הבינומית היא: $p(y = k) = \binom{n}{k} p^k q^{n-k}$

תוחלת: $E(y) = np$

שונות: $V(y) = npq$

קירוב נורמלי עבור התפלגות בינומית

אם לפנינו התפלגות בינומית : $Y \sim B(n, p)$ ומתקיים ש :

$$1. n \cdot p \geq 5$$

$$2. n \cdot (1 - p) \geq 5$$

$$y \sim N(np, npq)$$

$$Z_y = \frac{y - np}{\sqrt{npq}} \quad \text{אז :}$$

תיקון רציפות:

כאשר משתמשים בקירוב הנורמלי להתפלגות הבינומית יש לבצע תיקון רציפות .
הסיבה שעוברים כאן מהתפלגות בדידה להתפלגות נורמלית שהיא התפלגות רציפה.
על פי הכללים הבאים :

$$1. p(Y = a) \cong p\left(a - \frac{1}{2} \leq Y \leq a + \frac{1}{2}\right)$$

$$2. P(Y \leq a) \cong P(Y \leq a + 0.5)$$

$$3. P(Y \geq a) \cong P(Y \geq a - 0.5)$$

הערות:

- התנאים למעבר מבינומי לנורמלי הם נזילים, כלומר משתנים ממרצה אחד לשני. התנאי שהצגתי כאן הוא הפופולרי ביותר:

$$1. n \cdot p \geq 5$$

$$2. n \cdot (1 - p) \geq 5$$

- ישנם מרצים שנותנים את התנאי המחמיר הבא:

$$1. n \cdot p \geq 10$$

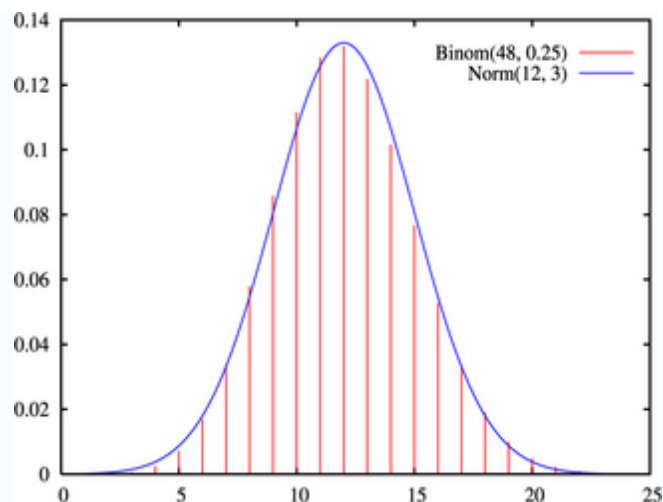
$$2. n \cdot (1 - p) \geq 10$$

- וישנם מרצים שפשוט התנאי שהם נותנים הוא: $(n \geq 30)$.
- תאלצו לבדוק מהו התנאי שנתנו לכם בכיתה כדי לעבור מהתפלגות בינומית לנורמלית.
- הערה נוספת היא לגבי תיקון רציפות. ישנם מרצים שלא מחייבים לבצע תיקון רציפות שהמדגמים גדולים (בדרך כלל מעל 100 תצפיות) אני בפתרונות שאציג תמיד אבצע תיקון רציפות במעבר מבינומי לנורמלי כיוון שכך הפתרון יהיה יותר מדויק (בכל מקרה שהמדגמים גדולים העניין זניח).

דוגמה: (הפתרון בהקלטה)

נתון שבקרב אוכלוסיית הנוער 25% זקוקים למשקפיים. נדגמו באקראי 48 בני נוער.

- מה הסיכוי שבדיוק 14 מתוכם יהיו זקוקים למשקפיים?
- מה הסיכוי שלכל היותר 13 מתוכם זקוקים למשקפיים?



תרגילים:

1. נתון ש-20% מאוכלוסייה מסוימת אקדמאית. נבחרו באקראי 10 אנשים באותה אוכלוסייה.
 - א. מה ההסתברות ששלושה מהם אקדמאים?
 - ב. מה ההסתברות שלכל היותר אחד מהם אקדמאי?
 - ג. מה התוחלת ומהי סטיית התקן של מספר האקדמאים במדגם?

2. במפעל 10% מהמוצרים פגומים. נלקחו 100 מוצרים באקראי מקו הייצור.
 - א. מה ההסתברות שנדגמו לפחות 6 מוצרים פגומים?
 - ב. מה ההסתברות שמספר המוצרים הפגומים יהיה לכל היותר 11 במדגם?

3. ציוני פסיכומטרי בקרב הנרשמים למוסד מסוים מתפלגים נורמאלית עם ממוצע 500 וסטיית תקן 100. למוסד מסוים הוחלט לקבל אך ורק סטודנטים שקיבלנו מעל 600 בפסיכומטרי. 100 סטודנטים אקראיים נרשמו למוסד. מה ההסתברות שלפחות 20 יתקבלו?
 4. מטילים מטבע 50 פעמים.
 - א. מה ההסתברות לקבל לכל היותר 30 עצים?
 - ב. מה ההסתברות לקבל 28 עצים לפי התפלגות הבינומית ולפי הקירוב הנורמאלי?

5. במטוס מקום ל-400 נוסעים. נרשמו לטיסה 430 אנשים (overbooking). מנתונים סטטיסטיים ידוע שהסיכוי שאדם שנרשם לטיסה אכן יגיע הוא 0.9.
 - א. מה ההסתברות שלא יהיו מקומות ישיבה לכל האנשים שהגיעו לטיסה?
 - ב. מה צריך להיות גודל המטוס כדי שבסיכוי שלפחות 95% המטוס יספיק לכמות הנרשמים?

6. מפעל לייצור ארטיקים טוען ש הסיכוי שארטיק שהוא מייצר יהיה פגום הוא 0.01. מוכר הזמין 1000 ארטיקים מהמפעל. מה ההסתברות שהמוכר יקבל לפחות 980 ארטיקים תקינים אם טענת המפעל מוצדקת?
 7. מהמר מטיל קובייה הוגנת 100 פעמים. בכל הטלה, אם מתקבל תוצאה זוגית בקובייה המהמר זוכה בשקל. אחרת, המהמר משלם שקל. המהמר הטיל את הקובייה 100 פעמים מה הסיכוי שהרווח של המהמר יהיה לכל היותר 10?
 8. לפתרון מלא בסרטון וידאו היכנסו ל- www.GooL.co.il

פתרונות:**שאלה 1**

א. 0.201

ב. 0.3758

ג. התוחלת : 2, סטיית התקן : 1.2649

שאלה 2

א. 0.9332

ב. 0.6915

שאלה 3

0.1611

שאלה 4

א. 0.9406

שאלה 5

א. 0.015

שאלה 6

0.8544

שאלה 7

0.8643

התפלגות פרופורציית ההצלחות במדגם

רקע:

בפרק זה נדון על התפלגות הדגימה של פרופורציית המדגם.

Y - מספר ההצלחות במדגם (למשל, מספר המובטלים במדגם)

$$\hat{p} = \frac{Y}{n} \text{ - פרופורציית ההצלחות במדגם (למשל, שיעור המובטלים במדגם)}$$

למשל,

$$n = 200$$

מספר המובטלים : $Y = 20$

$$\hat{p} = \frac{20}{200} = 0.1 \text{ פרופורציית המובטלים במדגם}$$

נסמן ב- p את שיעור ההצלחה באוכלוסייה וב- q את שיעור הכישלונות באוכלוסייה.

נבצע מדגם מקרי (הנחה שהתצפיות בלתי תלויות זו בזו) ונתבונן בהתפלגות של פרופורציית המדגם.

התוחלת, השונות וסטיית התקן של פרופורציית המדגם:

$$E(\hat{P}) = p$$

$$V(\hat{P}) = \frac{pq}{n}$$

$$\sigma(\hat{p}) = \sqrt{\frac{pq}{n}}$$

משפט הגבול המרכזי עבור הפרופורציה המדגמית :

אם $np \geq 5$ & $nq \geq 5$ אזי $\hat{p} \sim N(p, \frac{pq}{n})$

$$Z_{\hat{p}} = \frac{\hat{p} - p}{\sqrt{\frac{pq}{n}}}$$

הערות:

- התנאים לקרוב הנורמאלי הם נזילים, כלומר משתנים ממרצה אחד לשני. התנאי שהצגתי כאן הוא הפופולרי ביותר:

$$1. n \cdot p \geq 5$$

$$2. n \cdot (1 - p) \geq 5$$

- ישנם מרצים שנותנים את התנאי המחמיר הבא:

$$1. n \cdot p \geq 10$$

$$2. n \cdot (1 - p) \geq 10$$

- וישנם מרצים המשתמשים בתנאי: $(n \geq 30)$.

- תאלצו לבדוק מהו התנאי שנתנו לכם בכיתה כדי לעבור לנורמלית.
 - כיוון שפרופורציה אינה חייבת להיות מספר שלם בהכרח לא נהוג לבצע כאן תיקון רציפות.
- דוגמה:** (פתרון בהקלטה)

לפי נתוני משרד החינוך בעיר ירושלים ל-60% מתלמידי התיכון זכאים לתעודת בגרות. נדגמו 200 תלמידי תיכון.

- א. מה ההסתברות שהשכיחות היחסית \hat{p} של הזכאים לבגרות במדגם תעלה על 60%?
- ב. מה ההסתברות שפרופורציית הזכאים לבגרות במדגם תעלה על 70%?

תרגילים:

1. במדינה מסוימת 10% מכלל האוכלוסייה הינם מובטלים. נדגמו באקראי 140 אנשים מהמדינה.
 - א. מה התוחלת ומהי השונות של פרופורציות המובטלים שנדגמו?
 - ב. מה ההסתברות שבמדגם לפחות 10% יהיו מובטלים?
 - ג. מה ההסתברות שלכל היותר 9% מהמדגם יהיו מובטלים?

2. נניח כי 30% מהאוכלוסייה תומכים בהצעת חוק מסוימת. אם נדגום מהאוכלוסייה 200 איש.

חשבו את ההסתברויות הבאות:

 - א. לפחות 35% יתמכו בהצעת החוק במדגם.
 - ב. לכל היותר 25% יתמכו בהצעת החוק במדגם.
 - ג. יותר מ – 27% יתמכו בהצעת החוק במדגם.

3. לפי נתוני משרד התקשורת 40% מהאוכלוסייה מחזיקים בטלפון נייד מסוג "סמארטפון". נדגמו 400 אנשים מהאוכלוסייה.
 - א. מה ההסתברות שבמדגם לכל היותר ל 40% יש סמארטפון?
 - ב. מה ההסתברות שבמדגם לרוב יש סמארטפון?
 - ג. מה ההסתברות שפרופורציית בעלי הסמארטפון במדגם תסטה מהפרופורציה באוכלוסייה בלא יותר מ-4%?
 - ד. כיצד התשובה לסעיף הקודם הייתה משתנה אם הינו מגדילים את גודל המדגם?

4. נתון כי 80% מבתי האב מחוברים לאינטרנט. נדגמו 400 בתי אב אקראיים.
 - א. מה ההסתברות שלפחות 340 מהם מחוברים לאינטרנט?
 - ב. מה ההסתברות שפרופורציית המחוברים לאינטרנט במדגם תסטה מהפרופורציה האמתית ביותר מ-4%?
 - ג. כמה בתי אב יש לדגום כדי שהסטייה בין הפרופורציה המדגמית לפרופורציה האמתית לא תעלה על 3% בהסתברות של 90%?
 - ד. מהו העשירון התחתון של התפלגות פרופורציית המדגם?

5. נתון שציוני פסיכומטרי מתפלגים נורמלית עם תוחלת 500 וסטיית תקן 100. ל"מועדון ה-700" נכללים נבחנים שמקבלים ציון מעל 700 בפסיכומטרי. מה הסיכוי שבמועד בו נבחנו 2000 נבחנים אקראיים יהיו לפחות 3% המשתייכים למועדון?

6. נתון ש $X \sim B(n, p)$ נגדיר את המשתנה הבא : $\hat{P} = \frac{X}{n}$.

א. הוכיחו ש :

$$E(\hat{P}) = p$$

$$V(\hat{P}) = \frac{p(1-p)}{n}$$

ב. מה p המביא את $V(\hat{P})$ להיות במקסימום?

פתרונות:**שאלה 1**

א. התוחלת: 0.1, השונות: 0.00064

ב. 0.5

ג. 0.3446

שאלה 2

א. 0.0618

ב. 0.0618

ג. 0.8238

שאלה 3

א. 0.5

ב. 0

ג. 0.8968

ד. גדלה

שאלה 4

א. 0.0062

ב. 0.0456

פרק 8 - מושגים בסיסיים באמידה

רקע:

כזכור מהמפגש הקודם פרמטר הוא גודל המתאר את האוכלוסייה או התפלגות מסוימת.

כמו ממוצע הגבהים בקרב מתגייסים לצה"ל- μ .

כמו פרופרציית התומכים בממשלה בקרב אזרחי המדינה - p .

בדרך כלל הפרמטרים הם גדלים שאינם ידועים באמת, ולכן מבצעים מדגמים במטרה לאמוד אותם. אין אפשרות לחשב אותם הניסיון הוא בלהעריך כמה הם שווים ככל שניתן.

• נסמן באופן כללי פרמטר באות θ ואומד ב- $\hat{\theta}$. $\hat{\theta}$ הוא סטטיסטי המחושב על המדגם ובאמצעותו נאמוד את θ .

• שגיאת אמידה: $|\hat{\theta} - \theta|$ - ההפרש בין האומד לאמת(הפרמטר).

דוגמה: (פתרון בהקלטה)

בכנסת ה-19 קיבלה מפלגת העבודה 15 מנדטים. בערוץ 10 ברגע סגירת הקלפיות העריכו את מספר המנדטים של המפלגה להיות 17 מנדטים וזאת על סמך תוצאות מדגם של הערוץ.

מה הפרמטר בדוגמה זו?

מהי טעות האמידה של ערוץ 10?

• $E(\hat{\theta}) = \theta$ יהיה אומד חסר הטיה ל θ אם התוחלת של $\hat{\theta}$ תהיה שווה ל θ :

• $\sigma(\hat{\theta}) = S.E$ טעות התקן של אומד היא סטיית התקן שלו, כלומר :

להלן פרמטרים מרכזיים והאומדים שלהם:

ממוצע האוכלוסייה: μ

האומד הנקודתי שלו יהיה: ממוצע המדגם $\bar{x} = \frac{\sum x}{n}$

$E(\bar{x}) = \mu$ לכן \bar{x} הינו אומר חסר הטיה ל μ .

כמו כן טעות תקן: $\sigma(\bar{x}) = \frac{\sigma}{\sqrt{n}} = SE$

פרופורציה באוכלוסייה: p

האומד הנקודתי שלו יהיה: פרופורציה במדגם: $\hat{p} = \frac{y}{n}$

$E(\hat{p}) = p$ לכן \hat{p} הינו אומר חסר הטיה ל p .

כמו כן טעות התקן: $\sigma(\hat{p}) = \sqrt{\frac{p \cdot (1-p)}{n}}$

שונות האוכלוסייה: σ^2

האומד הנקודתי שלו יהיה: $S^2 = \frac{\sum (x_i - \bar{x})^2}{n-1}$

$E(S^2) = \sigma^2$ ולכן S^2 הינו אומד חסר הטיה ל σ^2 .

$$S^2 = \frac{\sum (x_i - \bar{x})^2}{n-1} = \frac{\sum x_i^2 - n\bar{x}^2}{n-1}$$

הערה: אומד הוא הנוסחה הכללית לאמידת הפרמטר ואומדן הוא הערך הספציפי שהתקבל במדגם מסוים.

דוגמה: (פתרון בהקלטה)

נדגמו 10 משפחות בתל אביב ונבדק עבור כל משפחה מספר הילדים שלה. להלן התוצאות שהתקבלו:

2,1,3,2,1,4,5,2,1,3

אמדו באמצעות אומדים חסרי הטיה את הפרמטרים הבאים:

1. ממוצע מספר הילדים למשפחה בתל אביב.
2. שונות מספר הילדים למשפחה בתל אביב.
3. פרופורציית המשפחות בנות שני ילדים.

תרגילים:

1. מתוך 500 טירונים נמצאו 120 בעלי שברי הליכה. נתון שהסיכוי שטירון יהיה עם שבר הליכה הוא 0.25.
- א. מהי האוכלוסייה המוצגת בשאלה? מהם הפרמטרים שלה?
- ב. מהי טעות התקן של האומדן כשהמדגם בגודל 500?
- ג. מהו האומדן לפרמטר?
- ד. מהי טעות האמידה?
2. לפי נתוני היצרן מקרר צורך בממוצע 2400 וואט לשעה עם סטיית תקן של 500 וואט לשעה. במדגם של 25 מקררים של היצרן התקבל ממוצע של 2342 וואט לשעה.
- א. מהי האוכלוסייה המוצגת בשאלה? מהם הפרמטרים שלה?
- ב. מהי טעות התקן של האומדן?
- ג. מהו האומדן לפרמטר?
- ד. מהי טעות האמידה?
3. נדגמו עשרה מתגייסים לצה"ל. גובהם נמדד בס"מ. להלן התוצאות שהתקבלו:
- 175, 168, 187, 177, 180, 171, 192, 184, 168, 177
- א. מצא אומדן חסר הטיה לגובה הממוצע של מתגייסי צה"ל.
- ב. מצא אומדן חסר הטיה לשונות הגבהים של מתגייסי צה"ל.
- ג. מצא אומדן חסר הטיה לפרופורציות המתגייסים בגובה של לפחות 180 ס"מ.
4. נדגמו 20 שכירים באקראי. עבור כל שכיר נמדד השכר באלפי שקלים. להלן התוצאות שהתקבלו:
- $$\sum_{i=1}^{20} X_i^2 = 1502.2 \quad \sum_{i=1}^{20} X_i = 162$$
- א. אמדו את השכר הממוצע של השכירים במשק.
- ב. אמדו את סטיית התקן של שכר השכירים במשק.

5. במטרה לאמוד את ממוצע האוכלוסייה. דגמו תצפיות בלתי תלויות מהאוכלוסייה וחישובו את הממוצע שלהם. מהי טעות התקן?
 א. סטיית התקן של האוכלוסייה.
 ב. סטיית התקן של ממוצע האוכלוסייה.
 ג. סטיית התקן של המדגם.
 ד. סטיית התקן של ממוצע המדגם.

6. משקל הממוצע של אוכלוסייה מסוימת הוא 75 ק"ג עם שונות של 25. אם יבחרו כל המדגמים האפשריים בגודל 10 מאוכלוסייה זו סטיית התקן של ממוצעי המדגמים תהיה:

א. 3

ב. 2.5

ג. 1.581

ד. אין מספיק נתונים לדעת.

7. במדגם מקרי, מתי סכום ריבועי הסטיות מהממוצע, $\sum_{i=1}^n (x_i - \bar{x})^2$, מחולק ב- $n-1$?

א. כאשר n קטן.

ב. כאשר תצפיות המדגם אינן בלתי תלויות.

ג. כאשר האוכלוסייה אינה מתפלגת נורמאלית.

ד. כאשר מעוניינים באומדן חסר הטיה לשונות האוכלוסייה ממנה הוצא המדגם.

ה. כאשר מעוניינים לחשב את שונות התפלגות הדגימה של ממוצע המדגם.

8. X_1, X_2, \dots, X_{16} מדגם מקרי מתוך אוכלוסייה בעלת ממוצע μ לא ידוע ושונות

$\sigma^2 = 64$. טעות התקן של האומדן ל- μ היא:

א. 16

ב. 8

ג. 4

ד. 2

9. מהו אומד חסר הטיה?

- א. אומד שערכו שווה לממוצע התפלגות הדגימה שלו.
- ב. אומד שערכו שווה לערך הפרמטר באוכלוסייה.
- ג. אומד שממוצע התפלגות הדגימה שלו שווה לערך הפרמטר באוכלוסייה.
- ד. אומד שהסיכוי שערכו יהיה גבוה מערך הפרמטר באוכלוסייה שווה לסיכוי שיהיה נמוך ממנו.

פתרונות:**שאלה 3**

א. 177.9

ב. 64.1

ג. 0.4

שאלה 4

א. 8.1

ב. 3.16

שאלה 5

התשובה היא ד.

שאלה 6

התשובה היא ג.

שאלה 7

התשובה היא ד.

שאלה 8

התשובה היא ד.

שאלה 9

התשובה היא ג.

פרק 9 - אמידה נקודתית

אומד חסר הטיה

רקע:

- $\hat{\theta}$ יהיה אומד חסר הטיה ל- θ אם התוחלת של $\hat{\theta}$ תהיה שווה ל- $E(\hat{\theta}) = \theta$.

דוגמה: (פתרון בהקלטה)

המשתנה X הוא בעל פונקציית ההסתברות הבאה:

3	2	1	X
4 θ	1-6 θ	2 θ	הסתברות

מעוניינים לאמוד את θ על סמך שתי תצפיות מההתפלגות: X_1 ו- X_2

א. הראו שהאומד $T_1 = \frac{2X_1 + X_2}{2}$ הוא אומד מוטה ל- θ .

- הטיה של אומד היא: $E(\hat{\theta}) - \theta$, כמובן שלאומד חסר הטיה אין הטיה.

ב. מהי ההטיה של האומד T_1 .

ג. תקנו את T_1 כך שיהיה אומד חסר הטיה.

- אם יש שני אומדים חסרי הטיה עדיף זה עם השונות היותר קטנה.

ד. מוצא האומד הבא: $T_3 = 1.5X_1 - X_2 - 1$. האם הוא עדיף על האומד שהצעת בסעיף

ג?

- אם $\hat{\theta}$ אומד חסר הטיה ל- θ אז $g(\hat{\theta})$ יהיה אומד חסר הטיה עבור $g(\theta)$ רק אם g

תהיה

לינארית.

ה. מצאו אומד חסר הטיה ל: $P(X = 3)$.

$$S^2 = \frac{\sum (x_i - \bar{x})^2}{n-1} = \frac{\sum x_i^2 - n\bar{x}^2}{n-1} : \sigma^2 \quad \bullet$$

אומד חסר הטיה לשונות האוכלוסייה:

ו. מצאו אומד חסר הטיה לשונות של X .

תזכורות חשובות:

• אם $Y = aX + b$ אזי:

$$\sigma_Y = |a| \sigma_X \quad V(Y) = a^2 \cdot V(X) \quad E(Y) = aE(X) + b$$

• אם X_1, X_2, \dots, X_n משתנים מקריים אזי:

$$E(T) = E(X_1 + X_2 + \dots + X_n) = E(X_1) + E(X_2) + \dots + E(X_n)$$

אם X_1, X_2, \dots, X_n משתנים מקריים בלתי תלויים בזוגות, אזי:

$$V(T) = V(X_1 + X_2 + \dots + X_n) = V(X_1) + V(X_2) + \dots + V(X_n)$$

תרגילים:

1. הציון במבחן מסוים של תלמידי כיתה ח' הנו משתנה מקרי בעל תוחלת μ וסטיית תקן 10. כדי לאמוד את התוחלת - μ , נלקח מדגם של 5 ציונים X_1, \dots, X_5 . שלושה חוקרים הציעו אומדים לתוחלת על סמך מדגם זה:

$$T_1 = \frac{X_1 + \dots + X_5}{5} \quad \text{חוקר א' הציע:}$$

$$T_2 = \frac{2X_1 - X_3 + X_4}{2} \quad \text{חוקר ב' הציע:}$$

$$T_3 = \frac{2X_1 + X_3}{2} \quad \text{חוקר ג' הציע:}$$

- א. איזה מן האומדים הוא חסר הטיה?
 ב. הצע תיקון לאומד המוטה כך שיהיה חסר הטיה.
 ג. במדגם התקבלו הציונים הבאים: 65, 78, 58, 82, 100. חשבו את האומדנים המתקבלים עבור האומדים חסרי ההטיה.
 ד. איזה מבין שני האומדים חסרי ההטיה עדיף? נמקו.

2. כדי לאמוד את המשקל הממוצע של הנשים בארה"ב, נבחר מדגם של $2n$ נשים. נסמן את שונות הגובה ב- σ^2 . הוצעו שני אומדים לממוצע המשקל על סמך מדגם זה:

$$T_1 = \frac{1}{n} \sum_{i=1}^n X_i \quad T_2 = \frac{1}{2n} \sum_{i=1}^{2n} X_i$$

- א. בדקו לגבי כל אומד אם הוא בלתי מוטה.
 ב. איזה אומד עדיף? נמקו.

3. $X \sim B(n, p)$ כלומר X הינו משתנה מקרי המתפלג בינומית עם פרמטר P (סיכוי להצלחה בניסיון בודד) במדגם בגודל n .
 א. פתחו אומד חסר הטיה ל- P .
 ב. מהו אומד חסר הטיה לסיכוי לכישלון בניסיון בודד.
 ג. מהו אומד חסר הטיה ל- $E(X)$.
 ד. מצאו אומד חסר הטיה ל- $E(X^2)$.

4. בתיק מניות שתי מניות . מספר המניות שיעלו ביום מסוים הוא משתנה מקרי התלוי בפרמטר פרמטר לא ידוע θ , $0 \leq \theta \leq 2$.

פונקציית ההסתברות של X – מספר המניות שיעלו ביום מסוים :

$$P(X = 0) = 1 - \frac{\theta}{2} \quad P(X = 1) = \frac{\theta}{3} \quad P(X = 2) = \frac{\theta}{6}$$

א. מצאו אומד בלתי מוטה ל- θ שמתבסס על מספר המניות שיעלו ביום מסוים.
 ב. מצאו אומד בלתי מוטה ל- θ שמתבסס על מספר המניות שעלו ביום במשך שלושה ימים X_1, X_2, X_3 (לכל אחד מהם אותה התפלגות כנ"ל והם בלתי תלויים).

5. בקרב המטפלות בת"א מספר התינוקות שבטיפולן הוא משתנה מיקרי בעל התפלגות התלויה

בפרמטר θ באופן הבא :

הסיכוי שמטפלת תטפל בתינוק אחד בלבד הוא 3θ ,

הסיכוי שמטפלת תטפל ב-2 תינוקות הוא $1 - 4\theta$,

הסיכוי שמטפלת תטפל ב-3 תינוקות הוא θ .

במדגם מיקרי של 4 מטפלות מת"א, נמצא כי שתיים מהם מטפלות בתינוק אחד בלבד, אחת מהן בשנים ואחת השלושה תינוקות.

א. מצא אומד חסר הטיה לפרמטר θ על סמך תצפית בודדת.

ב. מצאו אומד חסר הטיה לפרמטר θ על סמך 4 תצפיות.

ג. מהו האומדן לפרמטר θ על סמך תוצאות המדגם.

ד. מצאו אומד חסר הטיה לסיכוי שלמטפלת בת"א תטפל בתינוק בודד אחד.

ה. מצאו אומדים חסרי הטיה לתוחלת ולשונות של מספר התינוקות בטיפול אצל מטפלת מת"א. חשבו אומדנים.

6. קבע אילו מהטענות הבאות נכונות :

א. אם T הוא אומד בלתי מוטה עבור פרמטר θ , אז $5T$ אומד בלתי מוטה עבור הפרמטר 5θ .

ב. אם T הוא אומד בלתי מוטה עבור פרמטר θ , אז T^2 אומד בלתי מוטה עבור הפרמטר θ^2 .

7. במפעל שתי מכונות המייצרות מוצרים. במכונה הראשונה ההסתברות שמכשיר תקין היא p , מכונה השנייה ההסתברות שמכשיר תקין היא $2p$. דוגמים 20 מכשירים מהייצור של כל מכונה.

נסמן ב- X את מספר המכשירים התקינים שיוצרו על ידי המכונה הראשונה, Y - מספר המכשירים התקינים שיוצרו על ידי המכונה השנייה. איזה מבין האומדים הבאים אינו אומד חסר הטיה ל- p ?

א. $\frac{X}{20}$

ב. $\frac{Y}{20}$

ג. $\frac{X+Y}{60}$

ד. $\frac{2X+Y}{80}$

8. יהי T_1 ו- T_2 אומדים חסרי הטיה ובלתי תלויים לפרמטר θ .

א. מצא אומד חסר הטיה ל- θ^2 המתבסס על T_1 ו- T_2 .

ב. מצא אומד חסר הטיה ל- $\theta(1-\theta)$ המתבסס על T_1 ו- T_2 .

9. נתון ש X הינו משתנה מקרי עם תוחלת μ ושונות σ^2 . נדגמו n תצפיות בלתי תלויים מאותה אוכלוסיה.

א. הראה ש $\sum_{i=1}^n p_i x_i$ אומד חסר הטיה ל μ כאשר $\sum_{i=1}^n p_i = 1$.

ב. נתבונן במכפלת שתי התצפיות הראשונות $X_1 \cdot X_2$ הראה שהוא אומד חסרי הטיה ל-

μ^2 .

10. $X_i \sim N(\mu, 1)$ כאשר $i = 1, 2, \dots, n$

נתון שהתצפיות הינן בלתי תלויות זו בזו. מצא אומד חסר הטיה ל- μ^2 .

11. נתונות n תצפיות בלתי תלויות מתוך התפלגות בעלת הצפיפות הבאה :

$$f(x) = \begin{cases} \frac{1 + \beta x}{2} & -1 < x < 1 \\ 0 & \text{אחר } n \end{cases}$$

א. הראה כי האומד $3\bar{X}$ הנו אומד בלתי מוטה ל β .

ב. מצא את השונות של האומד מהסעיף הקודם.

12. X_1, X_2, \dots, X_n הינם משתנים מקריים רציפים בלתי תלויים בעל פונקצית הצפיפות הבאה :

$$f(x) = \begin{cases} X \cdot A & 0 \leq x \leq \theta \\ 0 & \text{אחר } n \end{cases}$$

א. בטא את ערכו של A באמצעות θ כדי שפונקצית הצפיפות תהיה לגיטימית.

ב. מצא אומד חסר הטיה ל- θ על סמך n התצפיות.

פתרונות:**שאלה 1**

א. $T_2 - T_1$

ב. $\frac{2}{3}T_3$

ג. $T_2 = 110 T_1 = 76.6$

ד. T_1

שאלה 2

ב. T_2

שאלה 3

א. $\frac{x}{n}$

ב. $1 - \frac{x}{n}$

ג. x

שאלה 4

א. $\frac{3x}{2}$

ב. $\frac{3\bar{x}}{2}$

שאלה 5

א. $1 - \frac{x}{2}$

ג. 0.125

ה. לשונות 0.917

שאלה 6

א. נכון.

ב. לא נכון.

שאלה 7

תשובה: ב

שאלה 8

א. $T_1 \cdot T_2$

ב. $T_1 - T_1 \cdot T_2$

שאלה 9

הוכחה

שאלה 10

$$\bar{X}^2 - \frac{1}{n}$$

שאלה 11

ב. $V(3\bar{X}) = \frac{3 - \beta^2}{n}$

שאלה 12

א. $A = \frac{2}{\theta^2}$

ב. $\theta = \frac{3}{2} \bar{X}$

אומד נראות מקסימלית

רקע

להלן נלמד את שיטת הנראות המקסימלית למציאת אומדים.

נניח ש X משתנה מקרי בדיד עם פונקציית הסתברות $P(x, \theta)$, כאשר θ הפרמטר הבלתי ידוע.

יהי X_1, X_2, \dots, X_n תוצאות מדגם מקרי בגודל n הנלקח מאוכלוסייה זו.

נבנה את פונקציית ההסתברות המשותפת (פונקציית הדגימה).

אם אנו יודעים את תוצאות המדגם ולא את הפרמטר קוראים לפונקציית הנראות שהיא פונקציה של הפרמטר.

נגדיר את פונקציית הנראות:

$$L(\theta) = P(x_1, \theta) \cdot P(x_2, \theta) \cdot \dots \cdot P(x_n, \theta) = \prod_{i=1}^n P(x_i, \theta)$$

פונקציית הנראות היא ההסתברות לקבל את התצפית הראשונה (כפונקציה של θ) כפול ההסתברות לקבל את התצפית השנייה, וכולי, כלומר המשמעות של פונקציית הנראות היא ההסתברות לקבל את המדגם שהתקבל, כפונקציה של הפרמטר המבוקש θ .

אם מדובר במשתנה רציף נכפיל את פונקציות הצפיפות ולא את פונקציות ההסתברות:

$$L(\theta) = f(x_1, \theta) \cdot f(x_2, \theta) \cdot \dots \cdot f(x_n, \theta) = \prod_{i=1}^n f(x_i, \theta)$$

דוגמה: (פתרון בהקלטה)

הסיכוי של שחקן כדורסל לקלוע לסל הוא p (לא ידוע). השחקן זורק כדורים לסל עד שהוא קולע בפעם הראשונה. נניח כי הזריקות בלתי תלויות זו בזו. הכדור נכנס לסל לראשונה בניסיון השלישי. השחקן חוזר על התהליך שוב והפעם הכדור נכנס לסל בניסיון החמישי.

מצאו את פונקציית הנראות של p .

אומד נראות מקסימלית עבור θ הוא האומד $\hat{\theta}$ שממקסם את פונקציית הנראות $L(\theta)$, כלומר, אנו מחפשים את האומד שיגרום לכך שהמדגם המקרי שקבלנו יהיה כמה שיותר סביר.

שלבם למציאת אומד נראות מקסימלית:

- לוקחים את פונקציית ההסתברות המשותפת של המדגם (או צפיפות משותפת אם המשתנה רציף).
- מציבים את תוצאות המדגם ומקבלים את פונקציית הנראות (פונקציה של הפרמטר הנחקר).
- מוצאים מקסימום לפונקציית הנראות (לעיתים כדאי להוסיף \ln כדי להקל על המלאכה).

המשך דוגמה:

חשבו את אומדן הנראות המקסימלית עבור p .

משפט: אם $\hat{\theta}$ הוא אומד נראות מקסימלית עבור θ , אזי $g(\hat{\theta})$ הוא אומד נראות מקסימלית עבור $g(\theta)$ בהנחה והפונקציה היא חד-חד ערכית (אינווריאנטיות).

המשך דוגמה:

מצאו את אומדן נראות מקסימלית לסיכוי של שחקן הכדורסל לקלוע לסל פעמיים ברצף.

תרגילים:

1. הסיכוי של שחקן לנצח במשחק הוא p (לא ידוע). השחקן משחק במשחק עד אשר הוא מנצח בפעם הראשונה. נתון שהשחקן ניצח לראשונה רק במשחק השני.
 - א. חשבו את פונקציית הנראות של p וציירו גרף שלה.
 - ב. מצאו אומדן נראות מקסימלית עבור p .
 - ג. מצאו אומדן נראות מקסימלית ל- p אם ביום אחד הוא נאלץ לשחק 4 פעמים וביום אחר הוא נאלץ לשחק 5 פעמים עד אשר ניצח.

2. מספר הלקוחות שנכנסים לחנות מסוימת, מתפלג פואסונית עם תוחלת של λ לקוחות ביום.
 - א. מצאו אומדן נראות מקסימלית ל- λ על סמך מספר הלקוחות שנכנסים ביום מסוים.
 - ב. מצאו אומדן נראות מקסימלית ל- λ על סמך מספר הלקוחות שנכנסים ב- n ימים מסוימים.

3. הזמן שלוקח לאדם לחכות בתור מתפלג מעריכית עם פרמטר λ . דגמו 4 אנשים מקריים שחיכו בתור ומדדו את זמני ההמתנה שלהם. התוצאות שהתקבלו בדקות הן: 3, 5, 7 ו-3.
 - א. פתחו אומדן נראות מקסימלית לפרמטר זה על סמך n תצפיות כלשהן.
 - ב. מהו האומדן לפרמטר?

4. משך זמן הכנת שיעורי הבית (בשעות) של בני נוער ביום אחד מתפלג אחיד $U(0, \theta)$. כדי לאמוד את θ , נשאלו ביום מסוים מספר בני נוער כמה שעות הם הכינו שיעורי בית באותו יום.
 - א. אלעד הכין ביום מסוים שיעורי בית במשך שעה שלמה. חשבו את פונקציית הנראות של θ המתבססת על תצפית זו, וציירו את הגרף שלה.
 - ב. מצאו אומדן נראות מקסימלית ל- θ על סמך התצפית.
 - ג. משכי הכנת שיעורי בית (שעות) של 3 בני נוער היו 1, 3, 1.5. מצאו אומדן נראות מקסימלית ל- θ על סמך המדגם הזה.
 - ד. מצאו באופן כללי אומדן נראות מקסימלית ל- θ על סמך מדגם של n בני נוער - X_1, \dots, X_n .

5. הגובה של אוכלוסייה מסוימת מתפלג נורמאלית עם תוחלת ידועה של 170 ס"מ ושונות σ^2 לא ידועה.

א. מצאו אומד נראות מקסימלית עבור השונות על סמך מדגם X_1, \dots, X_n מ תצפיות מהאוכלוסייה.

ב. נדגמו 5 אנשים בלתי תלויים בעלי הגבהים: 170, 182, 174, 165, 174. מהו האומדן לשונות הגבהים באוכלוסייה?

6. פתחו אומד נראות מקסימלית לפרמטר P בהתפלגות הבינומית על סמך מדגם בגודל n בו X הוא מספר ההצלחות במדגם.

7. X הוא משתנה מקרי בעל פונקצית הצפיפות:

$$f(x) = \begin{cases} 2\theta x e^{-\theta x^2}, & x > 0 \\ 0, & x \leq 0 \end{cases}$$

א. מצאו אומד נראות מקסימלית ל- θ על סמך n תצפיות בלתי תלויות: X_1, \dots, X_n .

ב. מצאו אומד נראות מקסימלית ל- θ^2 .

8. בכד א 10 כדורים שחורים ו 10 לבנים בכד ב 5 כדורים שחורים ו- 15 לבנים. דוגמים באקראי כדור אך אינך יודע מאיזה כד.

א. מצא אומד נראות מקסימלית לכד שממנו הוצא הכדור על סמך הצבע של הכדור.

ב. מהו האומדן אם הצבע הוא שחור?

9. הזמן שלוקח ליוסי לפתור תשבץ מתפלג מעריכית עם תוחלת לא ידועה. נתנו ליוסי לפתור חמישה תשבצים ובממוצע לקח לו 32 דקות לפתור אותם.

א. מה אומדן הנראות המקסימלית לתוחלת זמן הפתרון של תשבץ על ידי יוסי (אין חובה לפתח).

ב. מה אומדן הנראות המקסימלית לסיכוי שייקח לו לפחות חצי שעה לפתור את התשבץ הבא?

10. מספר הלקוחות הממתינים בתור במוקד טלפוני הוא משתנה מיקרי X בעל התפלגות התלויה בפרמטר θ באופן הבא:

2	1	0	X
$1 - 4\theta + 4\theta^2$	$4\theta - 8\theta^2$	$4\theta^2$	P(X)

- בחמישה זמנים שונים שנבחרו באקראי נמצאו: 0, 1, 0, 0, 0 לקוחות ממתינים בתור.
 א. מצאו אומדן בשיטת הנראות המקסימלית עבור הפרמטר θ על-סמך המדגם הנתון.
 ב. מצאו אומדן בשיטת הנראות המקסימלית לסיכוי שלא יהיו לקוחות בתור.

11. אדם מחזיק בידו שני מטבעות: מטבע הוגן ומטבע שאינו הוגן שהסיכוי בו לתוצאה עץ הוא 0.2. האדם מטיל את אחד המטבעות פעמיים ומודיע לך כמה פעמים הוא קיבל עץ. אתה צריך לנחש איזה מטבע הוא הטיל: את ההוגן או זה שאינו הוגן.

- א. מצא אומדן בשיטת הנראות המקסימלית לסוג המטבע שהוטל.
 ב. מהו האומדן אם האדם קיבל פעמיים עץ?

12. מעוניינים לאמוד את אחוז המובטלים באוכלוסייה. דוגמים 50 אנשים אקראיים ומתקבל ש 4 מהם מובטלים.

- א. מצא אומדן נראות מקסימלית לשיעור המובטלים באוכלוסייה.
 ב. מצא אומדן לשיעור העובדים באוכלוסייה
 ג. מצא אומדן ליחס בין שיעור העובדים לשיעור המובטלים באוכלוסייה.

13. במשחק מחשב שלוש רמות משחק :

ברמה 1 הסיכוי של יוסי לסיים את המשחק הוא 0.9.

ברמה 2 הסיכוי של יוסי לסיים את המשחק הוא 0.7.

ברמה 3 הסיכוי של יוסי לסיים את המשחק הוא 0.4.

יוסי בחר ברמה מסוימת אך אינו יודע איזו רמה הוא בחר. הוא משחק במשחק ברמה שבחר פעמיים.

א. הציעו א.נ.מ. לרמה של המשחק שיוסי שיחק על סמך מספר הפעמים שסיים את משחק.

ב. אם יוסי סיים את שני המשחקים, מה יהיה האומדן לרמה?

ג. מהו א.נ.מ. לסיכוי שמתוך שני משחקים הוא יצליח בדיוק משחק אחד?

14. X_1, X_2, \dots, X_n מתפלגים אחיד בקטע $[-\theta, \theta]$ מצא אומד נראות מקסימלית לפרמטר θ .

15. X_1, X_2, \dots, X_n מתפלגים בדיד לפי פונקציה ההסתברות הבאה :

$$P(X = k) = \frac{\binom{2}{k} \cdot P^k \cdot (1-P)^{2-k}}{1 - (1-P)^2} \quad K = 1, 2$$

הוכח שא.נ.מ. ל- P הינו: $2 - \frac{2}{X}$

16. במכשיר חשמלי יש 2 סוללות שפועלות באופן ב"ת זו בזו והוא מפסיק לפעול ברגע שאחת הסוללות מפסיקה לעבוד. הסיכוי של סוללה לתפקד לפחות חודש הוא P . כאשר המכשיר מפסיק לפעול מחליפים את שתי הסוללות שלו. בתחילת הניסוי נלקחו 80 מכשירים כאלה עם סוללות חדשות ולאחר חודש נמצא של 30 מהם עדיין פועלים.

א. מצא אומדן נראות מקסימלית עבור P .

ב. רשמו את האומדן שבו השתמשתם בחלק א' באופן כללי, עבור מדגם של n מכשירים שמתוכם נמצאו Y מכשירים שעדיין פועלים לאחר חודש אחד.

ג. בהנחה שאורך החיים (בחודשים) של סוללה בודדת הוא מעריכי עם פי צפיפות

$$f(t) = \theta e^{-\theta t} \quad \text{עבור } t > 0.$$

מצא א.נ.מ. עבור θ המבוסס על Y . מהו האומדן המתאים מן המדגם הנתון?

17. חיוג אוטומטי של מכשיר טלפון משדר אות אחת לשתי דקות. אם לאחר 20 דקות (10

אותות חיוג) המספר שאליו מטלפנים עדיין תפוס-החיוג האוטומטי נפסק.

א. רשמו את פונקציית ההסתברות של המשתנה X - מספר הפעמים שהחייגן האוטומטי

מחייג למספר הטלפון המבוקש, אם ההסתברות לקבלת צליל "פנוי" בשידור אחד של

אות חיוג הוא P .

ב. מתוך 12 ניסיונות חיוג אוטומטי למשרד הרישוי בזמנים שונים במשך 5 ימים, התקבלו

התוצאות הבאות : בשני ניסיונות הופסק החיוג האוטומטי ובשאר הניסיונות שבהם

הצלח המטלפן להשיג את המספר המבוקש, מספר החיוגים האוטומטיים עד לקבל צליל

"פנוי" היו :

5,1,2,2,8,3,7,2,6,1

מצאו אומדן נראות מקסימלית עבור P על סמך התוצאות שהתקבלו.

פתרונות :שאלה 1

ב. 0.5

ג. $\frac{2}{9}$ שאלה 2א. X ב. \bar{X} שאלה 3א. $\frac{1}{\bar{X}}$ ב. $\frac{2}{9}$ שאלה 4

א. 1

ג. 3

ד. X_{\max} שאלה 5

$$\frac{\sum_{i=1}^n (x_i - 170)^2}{n} \quad \text{א.}$$

ב. 40.2

שאלה 6

$$\frac{x}{n}$$

שאלה 7

$$\frac{n}{\sum X_i^2} \quad \text{א.}$$

$$\left(\frac{n}{\sum X_i^2}\right)^2 \quad \text{ב.}$$

שאלה 8

ב. כד א

שאלה 9

א. 32

ב. 0.3916

שאלה 10

א. 0.45

ב. 0.81

שאלה 11

ב. הוגן

שאלה 12

א. 0.08

ב. 0.92

ג. 11.5

שאלה 13

$$\hat{\theta} = \begin{cases} 3 & X = 0,1 \\ 1 & X = 2 \end{cases} \quad \text{א.}$$

ב. 1

$$\hat{p} = \begin{cases} 2 \cdot 0.4 \cdot 0.6 & X = 0,1 \\ 2 \cdot 0.9 \cdot 0.1 & X = 2 \end{cases} \quad \text{ג.}$$

שאלה 14 $\max |X_i|$ **שאלה 15**

הוכחה

שאלה 16

א. 0.6124

$$\hat{p} = \sqrt{\frac{y}{n}} \quad \text{ב.}$$

ג. 0.49

שאלה 17

ב. 0.1818

נספח

התפלגויות רציפות

התפלגות	פונקציית הצפיפות	פונקציית ההתפלגות המצטברת	תוחלת	שונות	הערות	אנ"מ
$X \sim U(a, b)$	$f(x) = \frac{1}{b-a}$ $a \leq x \leq b$	$\frac{t-a}{b-a}$	$\frac{a+b}{2}$	$\frac{(b-a)^2}{12}$		$b = \max(X_i)$ $a = \min(X_i)$
$X \sim \exp(\lambda)$	$f(x) = \lambda e^{-\lambda x}$	$1 - e^{-\lambda t}$	$\frac{1}{\lambda}$	$\frac{1}{\lambda^2}$	הזמן עד להתרחשות מאורע מסוים. λ - הוא ממוצע האירועים ביחידת זמן.	$\hat{\lambda} = \frac{1}{\bar{X}}$
$X \sim N(\mu, \sigma^2)$	$f(x) = \frac{1}{\sqrt{2\pi\sigma^2}} e^{-\frac{(x-\mu)^2}{2\sigma^2}}$	$\Phi(t)$	μ	σ^2	$Z = \frac{X - \mu}{\sigma}$	$\hat{\mu} = \bar{X}$ $\hat{\sigma}^2 = \frac{1}{n} \sum_{i=1}^n (X_i - \bar{X})^2$

התפלגויות בדידות

ההתפלגות	פונקציית ההסתברות	תוחלת	שונות	הערות	אנ"מ
ההתפלגות	$P(X = k)$				
בינומית $B(n, p)$ $0 \leq p \leq 1$	$\binom{n}{k} p^k (1-p)^{n-k}$ $k = 0, 1, \dots, n$	np	$np(1-p)$	מספר ההצלחות ב- n ניסויי ברנולי ב"ת. p - ההסתברות להצלחה	$\hat{p} = \frac{Y}{n}$
גיאומטרית $G(p)$ $0 < p \leq 1$	$(1-p)^{k-1} p$ $k = 1, 2, \dots, \infty$	$\frac{1}{p}$	$\frac{1-p}{p^2}$	מספר הניסויים עד להצלחה הראשונה בסדרת ניסויי ברנולי ב"ת, p - ההסתברות להצלחה	$\hat{p} = \frac{1}{\bar{X}}$
אחידה $U(a, b)$	$\frac{1}{b-a+1}$ $K=a, \dots, b$	$\frac{a+b}{2}$	$\frac{(b-a+1)^2 - 1}{12}$	בחירה אקראית של מספר בין a ו- b .	$b = \max(X_i)$ $a = \min(X_i)$
פואסונית $P(\lambda)$ $\lambda > 0$	$\frac{e^{-\lambda} \lambda^k}{k!}$ $k = 0, 1, \dots, \infty$	λ	λ	מספר אירועים ביחידת זמן λ - קצב האירועים	$\hat{\lambda} = \bar{X}$

קריטריון MSE - תוחלת ריבוע הטעות

רקע

הקריטריון הנפוץ ביותר כדי לבדוק את טיב האומד הוא קריטריון MSE. תוחלת ריבוע טעות האמידה.

$$MSE(\hat{\theta}) = E(\hat{\theta} - \theta)^2 = V(\hat{\theta}) + (E(\hat{\theta}) - \theta)^2$$

$V(\hat{\theta})$ - הינה שונות האומד.

$E(\hat{\theta}) - \theta$ - הינה ההטיה של האומד.

אם T_1 ו- T_2 הינם אומדים לפרמטר θ . האומד העדיף יהיה זה עם MSE קטן יותר כלומר, אם

$$MSE(T_1) > MSE(T_2) \text{ עדיף על } T_2.$$

דוגמה: (הפתרון בהקלטה)

נתון משתנה X המתפלג אחיד רציף באופן הבא: $X \sim U(3, \theta)$. מוצעים שני אומדים לפרמטר θ

$$T_1 = 2X - 3 \text{ ו- } T_2 = \frac{3X - 3}{2}$$

איזה אומד עדיף לאמידת הפרמטר θ ?

תרגילים :

1. מעוניינים לאמוד את התוחלת של התפלגות מסוימת. מוצעים שני אומדים אפשריים ממוצע של שתי תצפיות וממוצע של שלוש תצפיות. לפי קריטריון תוחלת ריבוע הטעות (MSE) איזה אומד עדיף? הסבירו.

2. בעיר מסוימת בשוויץ בכל θ דקות רכבת מגיעה לתחנה מסוימת. דוד מגיע לתחנה בזמן אקראי ומודד את זמן ההמתנה לרכבת X .

א. הצע אומד חסר הטיה ל- θ על סמך X .

ב. סטטיסטיקאי הציע לאמוד את θ על סמך האומד: $1.5X$ האם האומד הנ"ל מוטה?

ג. איזה אומד מבין האומדים של סעיף א או ב עדיף?

3. חוקר מעוניין לאמוד את הסיכוי לחלות במחלת השפעת בחורף (להלן הפרמטר P). הוא דוגם חמישה אנשים בריאים ומתבונן בסטטיסטי X מספר האנשים שחלו בשפעת בחורף. הוא מתלבט

$$\text{בין שני אומדים: } T_1 = \frac{X}{5} \text{ ו- } T_2 = \frac{X+1}{7}$$

א. מי מבין האומדים הללו הוא חסר הטיה?

ב. מי מבין האומדים עדיף אם $P=0.5$?

ג. מי מבין האומדים עדיף אם $P=0.1$?

4. מספר השריפות המתרחשות בחודש אוקטובר בארץ מתפלג פואסונית עם תוחלת λ . נלקח מדגם של 10 חודשי אוקטובר. להלן שני אומדים אפשריים:

$$\hat{\lambda}_1 = \frac{\sum_{i=1}^{10} X_i}{10}$$

$$\hat{\lambda}_2 = \frac{2 \cdot \sum_{i=1}^5 X_i + 2 \cdot \sum_{i=6}^{10} X_i}{10}$$

X_i = מספר השריפות בחודש אוקטובר ה- i .

איזה מהאומדים עדיף לצורך אמידת הפרמטר λ ?

5. הוכח ש: $E(\hat{\theta} - \theta)^2 = V(\hat{\theta}) + (E(\hat{\theta}) - \theta)^2$

פתרונות :**שאלה 1**

זה עם השלוש תצפיות.

שאלה 2

א. $2x$

ג. סעיף ב

שאלה 3

א. T_1

ב. T_2

ג. T_1

שאלה 5

הוכחה

שאלות מסכמות באמידה נקודתיתתרגילים:

1. במפעל מייצרים מוצרים בשלוש מכונות שונות ובלתי תלויות. במכונה הראשונה הסיכוי שמוצר יהיה תקין הוא P , במכונה השנייה ההסתברות שמוצר יהיה תקין הוא P^2 ובמכונה השלישית הסיכוי הוא $2P$. דוגמים 20 מוצרים מכל מכונה. נסמן ב- X את מספר המוצרים התקינים שיוצרו במכונה א. נסמן ב- Y את מספר המוצרים התקינים שיוצרו במכונה השנייה וב- Z את מספר המוצרים התקינים שיוצרו במכונה השלישית.
- א. מהם הערכים האפשריים של הפרמטר P ?
- ב. מצאו אומד בלתי מוטה עבור הפרמטר P על סמך X ו- Z .
- ג. אם התקבל ש- $Y=3$, $X=6$ מהו אומדן נראות מקסימלית ל- P ?
2. מספר תאונות הדרכים בקטע כביש א' מתפלג פואסונית עם קצב של λ תאונות בחודש. מספר תאונות הדרכים בקטע כביש ב' מתפלג פואסונית עם קצב של 2λ תאונות בחודש. הוחלט לספור את מספר התאונות בחודש בכל אחד מקטעי הכביש.
- נסמן ב- X את מספר התאונות בחודש בקטע א' ו ב- Y בקטע ב'.
- א. מצאו אומד נראות מקסימלית לפרמטר λ על סמך X ו- Y .
- ב. מצאו אומד נראות מקסימלית לסיכוי שבקטע כביש א תהיה לפחות תאונה אחת בחודש?
- ג. האם האומד שמצאת בסעיף א הוא חסר הטיה ל- λ ?
3. זמן הייצור של מוצר מסוים בתהליך ייצור מתפלג נורמאלית עם תוחלת ושונות שאינן ידועות.
- א. הציעו אומדים חסרי הטיה לתוחלת והשונות של זמן הייצור של המוצר.
- ב. הציעו אומדי נראות מקסימלית לתוחלת ולשונות של זמן הייצור של המוצר.
- ג. הציעו אומד נראות מקסימלית לריבוע התוחלת של זמן הייצור.
- ד. האם האומד מהסעיף הקודם הוא גם חסר הטיה?

4. בקזינו משחק בו 4 תאים ממוספרים מ 1 עד 4. מפעיל המשחק שם כסף באחד מארבעת התאים והאדם המשתתף צריך לנחש באיזה תא הכסף מוחבא. מפעיל הקזינו מודיע שהסיכוי להחביא את הכסף בכל אחד משלושת התאים הראשונים שווה אך לא בהכרח שווה לסיכוי להחביא אותו בתא הרביעי.

יש לאמוד את הסיכוי להחביא את הכסף בתא הראשון: P .

א. מצא את תחום ההגדרה של הפרמטר P .

יעל שיחקה את המשחק 3 פעמים וקיבלה שפעם אחת הכסף הוחבא בתא מספר 1 ובפעמים האחרות בתא מספר 2.

ב. מצאו אומדן ל- P על סמך התוצאות הללו בשיטת הנראות המקסימלית.

ג. מצאו אומדן חסר הטיה ל- P מהו האומדן לפי התוצאות של יעל?

ד. מצאו אומדן חסר הטיה ונראות מקסימלית לסיכוי שהכסף יוחבא בתא מספר 4 על סמך התוצאות של יעל.

5. יהי X_1, X_2, \dots, X_n מדגם מקרי מתוך ההתפלגות הבאה:

$$f(x) = \begin{cases} \frac{\theta}{\lambda} \left(\frac{x}{\lambda}\right)^{\theta-1}, & 0 < x < \lambda, \theta > 0 \\ 0, & \text{else} \end{cases}$$

א. מצא אחי"ה ל- λ (כאשר θ קבוע ידוע).

ב. מצא אחי"מ ל- θ (כאשר λ קבוע ידוע).

ג. מצא אחי"מ ל- λ (כאשר θ קבוע ידוע).

6. X -משך זמן הפרסומות בערוץ 2 מתפלג אחיד רציף בתחום $(0, \theta)$

Y -משך זמן הפרסומות בערוץ 10 מתפלג אחיד רציף בתחום $(0, 2\theta)$

א. מצא אומדן חסר הטיה ל- θ המשתמש במשך זמן אקראי של פרסומת בודדת בערוץ 2 ופרסומת בודדת בערוץ 10.

ב. מוצע האומדן $T_2 = X + 0.5Y$, האם האומדן הנ"ל הוא חסר הטיה?

ג. איזה אומדן יותר עדיף זה של סעיף א או זה של סעיף ב?

ד. מצא אומדן נראות מקסימלית ל- θ על סמך X ו- Y .

7. נדגמו 2 תצפיות (X_1, X_2) בלתי תלויות מהתפלגויות אחידות רציפות התלויות בפרמטר θ .

ידוע כי $X_1 \sim U(0, \theta)$; $X_2 \sim U(0, a\theta)$ (כאשר a קבוע ידוע וחיובי).

א. מצא אנ"מ ל - θ על סמך 2 התצפיות הנ"ל.

ב. חשב את תוחלת ושונות האנ"מ מסעיף א'. האם האנ"מ מוטה?

ג. מצא אח"ה ל - θ על סמך סכומן של 2 התצפיות הנ"ל. מהי שונותו?

פתרונות:**שאלה 1:**

א. $0 \leq P \leq 0.5$

ג. 0.345

שאלה 2:

א. $\frac{x+y}{3}$

ג. כן

שאלה 4:

א. $0 \leq P \leq \frac{1}{3}$

ב. $\frac{1}{3}$

ג. 0.389

שאלה 5:

$$\hat{\lambda} = \frac{\theta+1}{\theta} \bar{x} \quad \text{א. אחייה יהיה}$$

ב.

$$\hat{\theta} = \frac{n}{n \ln \lambda - \sum_{i=1}^n \ln x_i}$$

$$\hat{\lambda} = X_{\max} \quad \text{ג.}$$

שאלה 7:

$$\hat{\theta} = \max\left(X_1, \frac{X_2}{a}\right) \quad \text{א.}$$

$$E(\hat{\theta}) = \frac{2}{3} \theta \quad \text{ב.}$$

$$V(\hat{\theta}) = \frac{1}{18} \theta^2$$

$$\tilde{\theta} = \left(\frac{2}{1+a}\right)(X_1 + X_2) \quad \text{ג.}$$

נספח : אומדי נראות מכסימלית ואומדים חסרי הטיה בהתפלגויות השונות

מודל בינומי

נתון מדגם של משתנה בינומי $X \sim B(n, p)$.

א.נ.מ עבור p הוא $\hat{p} = \frac{X}{n}$ והוא גם א.ח.ה.

מודל אחיד (בדיד)

נתון מדגם X_1, X_2, \dots, X_n של משתנים אחידים $X_i \sim U(1, N)$ בלתי-תלויים בזוגות.

א.נ.מ עבור N הוא $\hat{N} = \max\{X_1, \dots, X_n\}$ ואינו א.ח.ה.

מודל פואסוני

נתון מדגם X_1, X_2, \dots, X_n של משתנים פואסוניים $X_i \sim P(\lambda)$ בלתי-תלויים בזוגות.

א.נ.מ עבור λ הוא $\hat{\lambda} = \bar{X}$ וגם א.ח.ה.

מודל גיאומטרי

נתון מדגם X_1, X_2, \dots, X_n של משתנים גיאומטריים $X_i \sim G(p)$ בלתי-תלויים בזוגות.

א.נ.מ עבור p הוא $\hat{p} = \frac{1}{\bar{X}}$ אינו א.ח.ה. וא.נ.מ עבור התוחלת $\frac{1}{p}$ הוא \bar{X} והנו א.ח.ה.

מודל נורמלי

נתון מדגם X_1, X_2, \dots, X_n של משתנים נורמליים $X_i \sim N(\mu, \sigma^2)$ בלתי-תלויים בזוגות.

א.נ.מ עבור μ הוא $\hat{\mu} = \bar{X}$

כאשר μ ידוע א.נ.מ עבור σ^2 הוא $\hat{\sigma}^2 = \frac{1}{n} \sum_{i=1}^n (X_i - \mu)^2$ (אומד חסר-הטייה)

כאשר μ לא-ידוע א.נ.מ עבור σ^2 הוא $\hat{\sigma}^2 = \frac{1}{n} \sum_{i=1}^n (X_i - \bar{X})^2$ (אומד מוטה!!!)

אומד חסר-הטיה עבור σ^2 :

$$\hat{\sigma}^2 = \frac{1}{n} \sum_{i=1}^n (X_i - \mu)^2$$

$$S^2 = \frac{1}{n-1} \sum_{i=1}^n (X_i - \bar{X})^2$$

מודל מעריכי

נתון מדגם X_1, X_2, \dots, X_n של משתנים מעריכיים $X_i \sim \exp(\theta)$ בלתי-תלויים בזוגות.

א.נ.מ עבור θ הוא $\hat{\theta} = \frac{1}{\bar{X}}$ -מהווה אומד מוטה. וא.נ.מ עבור התוחלת $\frac{1}{\theta}$ הוא \bar{X} א.ח.ה.

מודל אחיד (רציף)

נתון מדגם X_1, X_2, \dots, X_n של משתנים אחידים $X_i \sim U(0, \theta)$ בלתי-תלויים בזוגות.

א.נ.מ עבור θ הוא $\hat{\theta} = \max\{X_1, \dots, X_n\}$ אינו א.ח.ה

בכל התפלגות:

א.ח.ה עבור μ הוא $\hat{\mu} = \bar{X}$

אומד חסר-הטיה עבור σ^2 :

$$\hat{\sigma}^2 = \frac{1}{n} \sum_{i=1}^n (X_i - \mu)^2 \quad \text{כאשר } \mu \text{ ידוע}$$

$$S^2 = \frac{1}{n-1} \sum_{i=1}^n (X_i - \bar{X})^2 \quad \text{כאשר } \mu \text{ לא-ידוע}$$

פרק 10 - רווח סמך לתוחלת (ממוצע האוכלוסייה)

רווח סמך כששונות האוכלוסייה ידועה

רקע:

ממוצע המדגם הוא אומדן לממוצע האוכלוסייה, אך לא באמת ניתן להבין ממנו על גודלו של ממוצע האוכלוסייה. ההסתברות שממוצע המדגם יהיה בדיוק כמו הממוצע האמתי הוא אפסי. מה שנהוג לעשות כדי לאמוד את ממוצע האוכלוסייה זה לבנות רווח סמך. נבנה מרווח בטחון שהסיכוי שהפרמטר μ ייכלל בתוכו הוא $1-\alpha$.

$1-\alpha$: נקרא רמת בטחון או רמת סמך.

$$P(A \leq \mu \leq B) = 1 - \alpha \quad \text{כך ש:}$$

A - גבול התחתון של רווח הסמך

B - הגבול העליון של רווח הסמך

$$L = B - A \quad \text{אורך רווח הסמך}$$

דוגמה: (פתרון בהקלטה)

חוקר דגם 25 חיילים שנבחנו במבחן הפסיכומטרי. הוא בנה רווח סמך לממוצע הציונים במבחן הפסיכומטרי בקרב אוכלוסיית החיילים וקיבל בין 510 ל-590. רווח הסמך נבנה ברמת סמך של 95%.

מהי אוכלוסיית המחקר?

מה המשתנה באוכלוסייה?

מה הפרמטר שהחוקר רצה לאמוד?

מהו רווח הסמך?

מה אורך רווח הסמך?

מהי רמת הביטחון של רווח הסמך?

בפרק זה נרצה לבנות רווח סמך לתוחלת (μ) במקרה ש σ^2 (שוונות האוכלוסייה) ידועה

הפרמטר שנרצה לאמוד : μ

האומד נקודתי : \bar{x}

התנאים לבניית רווח הסמך :

1 $X \sim N$ או $n \geq 30$

2 σ^2 (שוונות האוכלוסייה) ידועה

הנוסחה לרווח הסמך :

$$\bar{x} \pm Z_{1-\frac{\alpha}{2}} \cdot \frac{\sigma}{\sqrt{n}}$$

דוגמה : (פתרון בהקלטה)

על פי נתוני היצרן אורך חיי סוללה מתפלג נורמאלית עם סטיית תקן של 1 שעה.

מעוניינים לאמוד את תוחלת חיי סוללה.

נדגמו באקראי 4 סוללות, אורך החיים הממוצע שהתקבל הוא 13.5 שעות.

בנו רווח סמך ברמת סמך של 95% לתוחלת אורך חיי סוללה.

שגיאת האמידה המקסימלית:

$$\varepsilon = Z_{1-\frac{\alpha}{2}} \cdot \frac{\sigma}{\sqrt{n}}$$

ε -נותן את שגיאת האמידה המקסימלית, דבר שנקרא גם טעות סטטיסטית, טעות דגימה.

דוגמה : (פתרון בהקלטה)

בהמשך לשאלה עם הסוללות . מה ניתן להגיד בביטחון של 95% על שגיאת האמידה?

קשרים מתמטיים ברווח הסמך:

- אורך רווח הסמך הוא פעמיים שגיאת האמידה המקסימלית : $L = 2\varepsilon$.
- ממוצע המדגם נופל תמיד באמצע רווח הסמך : $\bar{X} = \frac{A+B}{2}$
- ככל שמספר התצפיות (n) גבוה יותר, כך יש יותר אינפורמציה ולכן האומדן יותר מדויק, ולכן נקבל רווח סמך יותר קצר.
- ככל שרמת הביטחון $(1 - \alpha)$ גבוהה יותר כך $z_{1-\alpha/2}$ יותר גבוה, ורווח הסמך יותר ארוך.

תרגילים :

1. חוקר התעניין לאמוד את השכר הממוצע במשק. על סמך מדגם הוא קבע שבביטחון של 95% כי השכר הממוצע במשק נע בין 9200 ל-9800.
 - א. מי האוכלוסייה במחקר?
 - ב. מה המשתנה הנחקר?
 - ג. מה הפרמטר שאותו רוצים לאמוד?
 - ד. מה רווח הסמך לפרמטר?
 - ה. מהי רמת הסמך לפרמטר?
 - ו. מה אורך רווח הסמך?
 - ז. מה הסיכוי שטעות הדגימה תעלה על 300 ₪?

2. מעוניינים לאמוד את התפוקה היומית הממוצעת של מפעל מסוים ברמת סמך של 95%. במדגם אקראי של 100 ימים התקבלה תפוקה ממוצעת 4950 מוצרים ביום. לצורך פתרון הנח שסטיית התקן האמתית ידועה ושווה 150 מוצרים ביום. בנה את רווח הסמך.

3. מעוניינים לאמוד את ממוצע אורך החיים של מכשיר. מנתוני היצרן ידוע שאורך החיים מתפלג נורמאלי עם סטיית תקן של 20 שעות. נדגמו 25 מכשירים ונמצא כי ממוצע אורך החיים שלהם היה 230 שעות.
 - א. בנו רווח סמך ברמת סמך של 90% לאורך החיים הממוצע של מכשיר.
 - ב. בנו רווח סמך ברמת סמך של 95% לאורך החיים הממוצע של מכשיר.
 - ג. הסבר כיצד ומדוע השתנה רווח הסמך.

4. דגמו 200 עובדים מהמשק הישראלי. השכר הממוצע שלהם היה 9700 ₪. נניח שסטיית התקן של השכר במשק היא 3000 ₪.
 - א. בנו רווח סמך ברמת סמך של 95% לתוחלת השכר במשק.
 - ב. מה ניתן לומר בביטחון של 95% על הסטייה המרבית בין ממוצע המדגם לתוחלת השכר?
 - ג. מה היה צריך להיות גודל המדגם אם הינו רוצים להקטין את רווח הסמך ב-50%?
 - ד. אם היינו מגדילים את גודל המדגם ובונים רווח סמך באותה רמת סמך האם היה ניתן לטעון בביטחון רב יותר שרווח הסמך מכיל את הפרמטר?

5. בנו רווח סמך לממוצע הציונים של מבחן אינטליגנציה. ידוע שסטיית התקן היא 15 והמדגם מתבסס על 100 תצפיות. רווח הסמך שהתקבל הוא (99,105). שחזרו את :
 - א. ממוצע המדגם.
 - ב. שגיאת האמידה המקסימאלית.
 - ג. רמת הסמך.

6. זמן החלמה מאנגינה מתפלג עם סטיית תקן של יומיים. חברת תרופות מעוניינת לחקור אנטיביוטיקה חדשה שהיא פיתחה. במחקר השתתפו 60 אנשים שחלו באנגינה וקיבלו את האנטיביוטיקה החדשה. בממוצע הם החלימו לאחר 4 ימים.
- א. בנו רווח סמך לתוחלת זמן ההחלמה תחת האנטיביוטיקה החדשה ברמת סמך של 90%.
- ב. מה היה קורה לאורך רווח הסמך אם היה תקציב להגדלת גודל המדגם פי 4? הסבירו.
- ג. מה היה קורה לאורך רווח הסמך אם היינו בונים את רווח הסמך ברמת סמך גדולה יותר? הסבירו.
7. חוקר בנה רווח סמך לממוצע וקיבל את רווח הסמך הבא: $82 < \mu < 92$.
- נתון שסטיית התקן בהתפלגות שווה ל-10 ושהמדגם מתבסס על 16 תצפיות. התפלגות המשתנה היא נורמאלית.
- א. מהו ממוצע המדגם?
- ב. מהי רמת הסמך של רווח הסמך שנבנה?
- ג. מה הסיכוי ששגיאת האמידה באמידת ממוצע האוכלוסייה תעלה על 5 ?
8. חוקר בנה רווח סמך לתוחלת כאשר השונות בהתפלגות ידועה ברמת סמך של 95%. אם החוקר כעת יבנה על סמך אותם נתונים רווח סמך ברמת סמך קטנה מ-95%, מי מהמשפטים הבאים אינו יהיה נכון.
- א. אורך רווח הסמך החדש יהיה קטן יותר.
- ב. גודל המדגם יהיה כעת קטן יותר.
- ג. המרחק בין ממוצע המדגם לקצות רווח הסמך יהיו קטנים יותר ברווח הסמך החדש.
- ד. רמת הביטחון לבנות רווח הסמך החדש תהיה קטנה יותר.
9. חוקר בנה רווח סמך ל- μ וקיבל $48 < \mu < 54$ מה נכון בהכרח:
- א. $\mu = 51$
- ב. $\bar{X} = 6$
- ג. $\bar{X} = 51$
- ד. אורך רווח הסמך הינו 3.
10. איזה מהגורמים הבאים אינו משפיע על גודלו של רווח בר סמך, כאשר שונות האוכלוסייה ידועה? (בחר בתשובה הנכונה)
- א. רמת הביטחון.
- ב. סטיית התקן באוכלוסייה.
- ג. מספר המשתתפים.
- ד. סטיית התקן במדגם.

11. חוקר בנה רווח סמך לממוצע וקיבל את רווח הסמך הבא: $63 < \mu < 83$. נתון שסטיית התקן בהתפלגות הייתה ידועה לו ושהמדגם התבסס על 40 תצפיות. א. אם החוקר היה רוצה לבנות רווח סמך באורך 10. כמה תצפיות עליו היה לדגום? ב. רווח הסמך שנבנה על ידי החוקר היה ברמת סמך של 95%. בנה את רווח הסמך שהיה מתקבל ברמת סמך של 98%.

12. נתון משתנה מקרי רציף מתפלג אחיד: $X_i \sim U(\mu - 0.5, \mu + 0.5)$. נרצה לאמוד את μ . מצאו רווח סמך ל- μ ברמת-בטחון של 0.95 אם במדגם של 45 תצפיות התקבל: $\bar{x} = 74$.

$$(\text{Var}(X_i) = \frac{(b-a)^2}{12} : \text{תזכורת על השונות בהתפלגות אחידה רציפה})$$

פתרונות :**שאלה 2**

$$4920.6 < \mu < 4979.4$$

שאלה 3

$$א. 223.42 < \mu < 236.58$$

$$ב. 222.16 < \mu < 237.84$$

שאלה 5

$$א. 102$$

$$ב. 3$$

$$ג. 0.9544$$

שאלה 6

$$א. 3.58 < \mu < 4.42$$

$$ב. יקטן פי 2$$

$$ג. גדל$$

שאלה 7

$$א. 87$$

$$ב. 5$$

$$ג. 0.9544$$

שאלה 8

$$א. 139$$

$$ב. 21 < \mu < 25$$

שאלה 9

התשובה היא : ב

שאלה 10

התשובה היא : ג

שאלה 11

התשובה היא : ד

קביעת גודל מדגם באמידת תוחלת עם שונות אוכלוסייה ידועה**רקע:**

אם מעוניינים לאמוד את ממוצע האוכלוסייה כאשר סטיית התקן של האוכלוסייה ידועה: σ
 ברמת סמך של $1 - \alpha$ ושגיאת אמידה שלא תעלה על ε מסוים, נציב בנוסחה הבאה:

$$n \geq \left(\frac{z_{1-\frac{\alpha}{2}} \cdot \sigma}{\varepsilon} \right)^2$$

כדי להציב בנוסחה צריך שהמשתנה הנחקר יתפלג נורמלית או שהמדגם ייצא בגודל של לפחות 30 תצפיות.

דוגמה: (פתרון בהקלטה)

חברת תעופה מעוניינת לאמוד את תוחלת משקל המטען של נוסע. נניח שמשקל מטען של נוסע מתפלג נורמלית עם סטיית תקן של 2 ק"ג. כמה נוסעים יש לדגום אם מעוניינים שבביטחון של 98% הסטייה המרבית בין ממוצע המדגם לממוצע האמיתי לא יעלה על 0.5 ק"ג? (תשובה: 87)

תרגילים:

1. משתנה מקרי מתפלג נורמאלית עם סטיית תקן ידועה 12. מה צריך להיות גודל המדגם כדי לבנות רווח סמך ברמת סמך של 98% שאורכו לא יעלה על 2?
2. מעוניינים לאמוד את הדופק הממוצע של מתגייסים לצבא. מעוניינים שבביטחון של 95% שגיאת האמידה המרבית תהיה 0.5. נניח שהדופק מתפלג נורמאלית על סטיית תקן של 3 פעימות לדקה. א. כמה מתגייסים יש לדגום? ב. אם ניקח מדגם הגדול פי 4 מהמדגם של סעיף א ונאמוד את הממוצע באותה רמת סמך כיצד הדבר ישפיע על שגיאת האמידה?
3. יהי X משתנה מקרי עם ממוצע μ וסטיית תקן σ . חוקר רוצה לבנות רווח בר סמך ל- μ ברמת ביטחון של 0.95 כך שהאורך של הרווח יהיה 0.5σ . מהו גודל המדגם הנדרש?

פתרונות :**שאלה 1**

780

שאלה 2

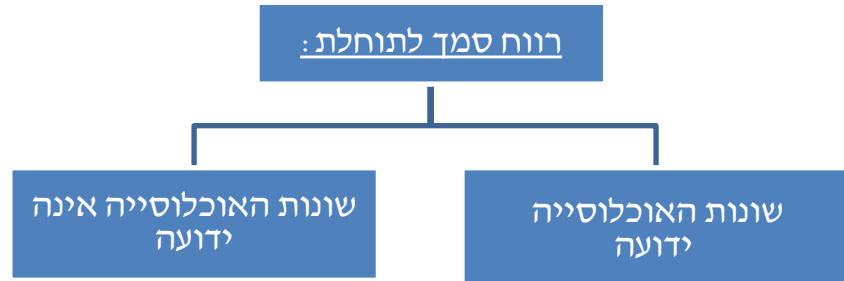
א. 139

ב. הדבר יקטין את ε פי 2.**שאלה 3** $n = 62$

רווח סמך לתוחלת (ממוצע האוכלוסייה) כששונות האוכלוסייה אינה ידועה

רקע:

בבואנו לבנות רווח סמך לתוחלת אנו צריכים להתמקד בשני המצבים הבאים:



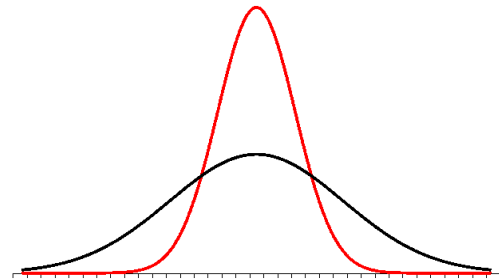
בפרק זה נעסוק במקרה ששונות האוכלוסייה (σ^2) אינה ידועה לנו. מקרה יותר פרקטי.

התנאי: $X \sim N$ או שהמדגם גדול

רווח סמך: $\bar{X} \pm t_{1-\alpha/2}^{(n-1)} \cdot \frac{S}{\sqrt{n}}$

$$S^2 = \frac{\sum_{i=1}^n (X_i - \bar{X})^2}{n-1} = \frac{\sum_{i=1}^n X_i^2 - n\bar{X}^2}{n-1} : \text{האומד לשונות}$$

התפלגות T:



הינה התפלגות סימטרית פעמונית שהתוחלת שלה היא 0. ההתפלגות דומה להתפלגות Z רק שהיא יותר רחבה ולכן הערכים שלה יהיו יותר גבוהים. התפלגות T תלויה במושג שנקרא דרגות חופש. דרגות החופש הן $df=n-1$. ככל שדרגות החופש עולות ההתפלגות הופכת להיות יותר גבוהה וצרה. כשדרגות החופש שואפות לאינסוף התפלגות T שואפת להיות כמו התפלגות Z.

דוגמה : (פתרון בהקלטה)

הזמן שלוקח לפתור שאלה מסוימת בחשבון מתפלג אצל תלמידי כיתות ח' נורמאלית.
במטרה לאמוד את תוחלת זמן הפתרון נדגמו 4 תלמידים בכיתה ח'. להלן התוצאות שהתקבלו

בדקות : 4.7, 5.2, 4.6, 5.3.

בנו רווח סמך ברמת סמך של 95% לממוצע זמן הפתרון לשאלה בקרב תלמידי כיתה ח'.

פתרון :

$$4.39 < \mu < 5.51$$

תרגילים:

1. מחקר מעוניין לדעת כיצד תרופה מסוימת משפיעה על קצב פעימות הלב. ל-5 אנשים שנטלו את התרופה מדדו את הדופק והתקבל מספר פעימות לדקה: 84, 88, 84, 79, 89. הערה: לצורך פתרון הנח שקצב פעימות הלב מתפלג נורמאלית בקירוב.
א. בנו רווח סמך ברמת סמך של 95% לתוחלת הדופק של נוטלי התרופה הנ"ל.
ב. נתון שהדופק הממוצע ללא לקיחת התרופה הינו 70. לאור זאת, האם בביטחון של 95% התרופה משפיעה על הדופק?
ג. בהמשך לסעיף א, אם היינו בונים את רווח הסמך ברמת ביטחון של 99% כיצד הדבר היה משפיע על רווח הסמך?
2. במדגם שנעשה על 25 מתגייסים לצבא האמריקאי התקבל כי: גובה ממוצע של חייל הינו 178 ס"מ עם סטיית תקן $S=13$ ס"מ. בנו רווח סמך ברמת סמך של 90% לתוחלת גובה המתגייסים לצבא האמריקאי. מה יש להניח לצורך פתרון?
3. אדם מעוניין לאמוד את זמן הנסיעה הממוצע שלו לעבודה. לצורך כך הוא דוגם 5 ימים שזמן הנסיעה בהם בדקות הוא: 27, 34, 32, 40, 30.
א. ברמת ביטחון של 95% אמוד את זמן הנסיעה הממוצע. מהי ההנחה הדרושה לצורך פתרון?
ב. איך גודל רווח הסמך היה משתנה אם היו דוגמים עוד ימים?
4. ציוני מבחן אינטליגנציה מתפלגים נורמאלית. נדגמו 25 מבחנים והתקבל ממוצע ציונים 102 וסטיית תקן מדגמית 13.
א. בנו רווח סמך לממוצע הציונים באוכלוסייה ברמת ביטחון של 95%.
ב. חזרו על סעיף א' אם סטיית התקן הינה סטיית התקן האמתית של כלל הנבחנים.
ג. הסבירו את ההבדלים בין שני הסעיפים הנ"ל.
5. נשקלו 60 תינוקות אשר נולדו בשבוע ה-40 של ההיריון. המשקל נמדד בקילוגרמים. להלן התוצאות שהתקבלו: $\sum_{i=1}^{60} X_i = 195$, $\sum_{i=1}^{60} X_i^2 = 643.19$. בנו רווח סמך ברמת סמך של 95% לתוחלת משקל תינוק ביום היוולדו.
6. נדגמו 120 אנשים אקראיים מעל גיל 50. עבור כל אדם נבדק מספר שנות השכלתו.
להלן התוצאות שהתקבלו: $\bar{x} = 13.8$, $S = 2$.
בנו רווח סמך ברמת סמך של 96% לממוצע ההשכלה של אזרחים מעל גיל 50.

7. שני סטטיסטיקאים בנו רווח בר-סמך לאותו פרמטר μ . לכל אחד מהסטטיסטיקאים מדגם אחר, אך באותו גודל 10. שניהם קבעו אותה רמת סמך.

סטטיסטיקאי א : הניח $\sigma = 20$

סטטיסטיקאי ב : חישב לפי המדגם וקיבל $S = 20$

למי משני הסטטיסטיקאים יהיה רווח סמך ארוך יותר? (בחר בתשובה הנכונה)

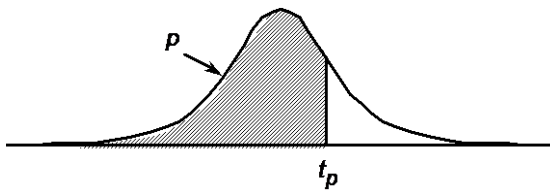
א. סטטיסטיקאי א

ב. סטטיסטיקאי ב

ג. אותו אורך רווח סמך לשני הסטטיסטיקאים.

ד. תלוי בתוצאות המדגם של כל סטטיסטיקאי.

8. נתון ש : $X \sim N(\mu, \sigma^2)$ ביצעו מדגם בגודל 16 וקיבלו סטיית תקן מדגמית 10. אורך רווח הסמך שהתקבל הוא : 8.765. מהי רמת הביטחון של רווח הסמך?

נספח : טבלת התפלגות T 

P

דרגות חופש	0.75	0.90	0.95	0.975	0.99	0.995	0.9995
1	1.000	3.078	6.314	12.709	31.821	63.657	636.619
2	0.816	1.886	2.920	4.303	6.965	9.925	31.598
3	0.765	1.638	2.353	3.182	4.541	5.841	12.941
4	0.741	1.533	2.132	2.776	3.747	4.604	8.610
5	0.727	1.476	2.015	2.571	3.365	4.032	6.859
6	0.718	1.440	1.943	2.447	3.143	3.707	5.959
7	0.711	1.415	1.895	2.365	2.998	3.499	5.405
8	0.706	1.397	1.860	2.306	2.896	3.355	5.041
9	0.703	1.383	1.833	2.262	2.821	3.250	4.781
10	0.700	1.372	1.812	2.228	2.764	3.169	4.587
11	0.697	1.363	1.796	2.201	2.718	3.106	4.437
12	0.695	1.356	1.782	2.179	2.681	3.055	4.318
13	0.694	1.350	1.771	2.160	2.650	3.012	4.221
14	0.692	1.345	1.761	2.145	2.624	2.977	4.140
15	0.691	1.341	1.753	2.131	2.602	2.947	4.073
16	0.690	1.337	1.746	2.120	2.583	2.921	4.015
17	0.689	1.333	1.740	2.110	2.567	2.898	3.965
18	0.688	1.330	1.734	2.101	2.552	2.878	3.922
19	0.688	1.328	1.729	2.093	2.539	2.861	3.883
20	0.687	1.325	1.725	2.086	2.528	2.845	3.850
21	0.686	1.323	1.721	2.080	2.518	2.831	3.819
22	0.686	1.321	1.717	2.074	2.508	2.819	3.792
23	0.685	1.319	1.714	2.069	2.500	2.807	3.767
24	0.685	1.318	1.711	2.064	2.492	2.797	3.745
25	0.684	1.316	1.708	2.060	2.485	2.787	3.725
26	0.684	1.315	1.706	2.056	2.479	2.779	3.707
27	0.684	1.314	1.703	2.052	2.473	2.771	3.690
28	0.683	1.313	1.701	2.048	2.467	2.763	3.674
29	0.683	1.311	1.699	2.045	2.462	2.756	3.659
30	0.683	1.310	1.697	2.042	2.457	2.750	3.646
40	0.681	1.303	1.684	2.021	2.423	2.704	3.551
60	0.679	1.296	1.671	2.000	2.390	2.660	3.460
120	0.677	1.289	1.658	1.980	2.358	2.617	3.373
∞	0.674	1.282	1.645	1.960	2.326	2.576	3.291

פתרונות:**שאלה 1**

א. $79.88 < \mu < 89.72$

ב.

שאלה 4

א. $96.63 < \mu < 107.37$

ב. $96.90 < \mu < 107.10$

שאלה 5

$3.149 < \mu < 3.351$

שאלה 8

90%

פרק 11 - רווח סמך להפרש תוחלות ממדגמים בלתי תלויים

כששונות האוכלוסייה ידועות

רקע:

מטרה: לאמוד את פער התוחלות: $\mu_1 - \mu_2$, כלומר ההבדלים של הממוצעים בין שתי האוכלוסיות.

האומד נקודתי: $\bar{x}_1 - \bar{x}_2$

התנאים לבניית רווח הסמך:

1. σ_1^2, σ_2^2 ידועות.

2. $X_1, X_2 \sim N$ או $n_1, n_2 > 30$

3. שני מדגמים בלתי תלויים.

רווח סמך:

$$(\bar{x}_1 - \bar{x}_2) \pm Z_{1-\frac{\alpha}{2}} \sqrt{\frac{\sigma_1^2}{n_1} + \frac{\sigma_2^2}{n_2}}$$

אם הערך אפס נופל בגבולות רווח הסמך נגיד שבביטחון של $1 - \alpha$ לא קיים הבדל בין התוחלות.

דוגמה: (פתרון בהקלטה)

נדגמו 100 תושבים מאזור a והמשכורת הממוצעת הייתה שם 9200 ₪.

כמו כן נדגמו 120 תושבים מאזור b וממוצע המשכורות שהתקבל שם 8700 ₪.

לצורך פתרון נניח שסטיית התקן של המשכורות באוכלוסיית שני האזורים היא 1800 ₪.

אמדו ברמת סמך של 90% את הפרש השכר הממוצע בין אזור a לאזור b.

תרגילים:

1. מעוניינים לבדוק האם קיים הבדל בין ממוצע ציוני הפסיכומטרי של חיילים לממוצע ציוני הפסיכומטרי של תלמידי תיכון. ידוע שציוני הפסיכומטרי מתפלגים נורמאלית עם סטיית תקן 100. במדגם של 16 נבחנים חיילים התקבל ממוצע 543. במדגם של 20 תלמידי תיכון התקבל ממוצע 508. בנו רווח סמך לפער תוחלות הציונים בין חיילים לתלמידי תיכון ברמת סמך של 90%. מה ניתן להסיק מרווח סמך זה?

2. ציוני IQ מתוכננים כך שיתפלגו נורמאלית עם סטיית תקן של 15. במדגם של 20 נבחנים ישראלים התקבל ממוצע ציונים 104. במדגם של 23 נבחנים אמריקאיים התקבל ממוצע ציונים 99.
 - א. בנו רווח סמך ברמת סמך של 95% לפער בין ישראל לארה"ב בממוצע הציונים במבחן ה-IQ.
 - ב. האם קיים הבדל בין ישראלים לאמריקאים מבחינת ממוצע הציונים?

3. חברה להנדסת בניין מעוניינת להשוות ברמת הקשיות של שני סוגי ברגים. ידוע שרמת הקשיות של ברגים מתפלגת נורמלית עם סטיית תקן של 4 יחידות. במדגם של 15 ברגים מסוג א' התקבל רמת קשיות ממוצעת של 28 יחידות ובמדגם של 12 ברגים מסוג ב' התקבל רמת קשיות ממוצעת של 25. עבור אילו רמות בטחון יקבע שאין הבדל בין שני סוגי הברגים מבחינת ממוצע רמת הקשיות שלהם?

פתרונות :

שאלה 1

(-20,90)

שאלה 3:

רמות בטחון הגבוהות מ : 0.9476

כששונות האוכלוסייה אינן ידועות אך שוות והמדגמים בלתי תלויים

רקע:

מטרה: לאמוד את פער התוחלות: $\mu_1 - \mu_2$, כלומר ההבדלים של הממוצעים בין שתי האוכלוסיות.

האומד נקודתי: $\bar{x}_1 - \bar{x}_2$

התנאים לבניית רווח הסמך:

$$1. \sigma_1^2 = \sigma_2^2$$

$$2. X_1, X_2 \sim N$$

3. מדגמים בלתי תלויים.

השונות המשוקללת: כיוון שאנו מניחים שבין שתי האוכלוסיות השונות שוות אנו אומדים את השונות הזו על ידי שקלול שתי השונות של שני המדגמים על ידי הנוסחה הבאה:

$$S_p^2 = \frac{(n_1 - 1)S_1^2 + (n_2 - 1)S_2^2}{n_1 + n_2 - 2}$$

דרגות החופש: $d.f = n_1 + n_2 - 2$

רווח סמך:

$$(\bar{x}_1 - \bar{x}_2) \pm t_{1-\frac{\alpha}{2}}^{n_1+n_2-2} \cdot \sqrt{\frac{S_p^2}{n_1} + \frac{S_p^2}{n_2}}$$

אם הערך אפס נופל בגבולות רווח הסמך נגיד שבביטחון של $1 - \alpha$ לא קיים הבדל בין התוחלות.

דוגמה: (פתרון בהקלטה)

מחקר מעוניין לבדוק האם קיים הבדל בין תל אביב לבאר שבע מבחינת ההכנסה הממוצעת של אקדמאים. להלן תוצאות המדגם שנעשה:

באר שבע	תל אביב	
10	20	מספר האקדמאים
9500	11,000	ממוצע הכנסות של אקדמאים
250	200	סטיית התקן של הכנסות אקדמאים

בנו רווח סמך ברמת ביטחון של 90% להפרש תוחלות ההכנסה בשני האזורים.
 הניחו שהשכר מתפלג נורמלית עם אותה שונות בכל אחד מהאזורים.
 פתרון : (1357,1643)

תרגילים:

1. נדגמו 15 ישראלים ו-15 אמריקאים.

כל הנדגמים נגשו למבחן IQ. להלן תוצאות המדגם:

המדינה	ישראל	ארה"ב
גודל המדגם	15	15
סכום הציונים	1560	1470
סכום ריבועי הציונים	165,390	147,560

מצאו רווח סמך ברמת סמך של 95% לסטייה בין ממוצע הציונים בישראל לממוצע הציונים בארה"ב. רשמו את כל ההנחות הדרושות לצורך פתרון התרגיל.

2. להלן 4 תצפיות על משתנה X שמתפלג $N(\mu_x, \sigma^2)$ ומשתנה Y שמתפלג $N(\mu_y, \sigma^2)$.

	X	22	20	21	25
	Y	18	25	17	12

חשבו רווח סמך ל- $\mu_y - \mu_x$ ברמת הסמך 90%, בהנחה ששני המדגמים בלתי תלויים.

פרק 12 - רווח סמך לתוחלת ההפרש במדגם מזווג

רקע:

מדגם מזווג: מדגם אחד שבו יש n צמדדים.

כל תצפית במדגם תנפק זוג ערכים: X ו- Y .

ניצור משתנה חדש:

$$D = x - y$$

הפרמטר שנרצה לאמוד: μ_D

התנאים לבניית רווח הסמך:

• $x, y \sim N$

• המדגם מזווג

נוסחת רווח הסמך:

$$\bar{D} \pm t_{\frac{\alpha}{2}}^{n-1} \frac{S_D}{\sqrt{n}}$$

כאשר דרגות החופש: $d.f = n - 1$

דוגמה: (פתרון בהקלטה)

מעוניינים לבדוק האם יש הבדל בין מהירות הריצות של שתי תוכנות מחשב.
לקחו 5 קבצים אקראיים והריצו אותם בשתי התוכנות:

5	4	3	2	1	הקובץ
38	46	49	48	25	הזמן בתוכנה הראשונה
48	40	42	46	27	הזמן בתוכנה השנייה

הניחו כי זמני הריצות מתפלגים נורמלית.
מצאו רווח סמך של 95% להפרש תוחלת הזמן בין שתי התוכנות.

תרגילים:

1. נדגמו 5 סטודנטים שסיימו את הקורס סטטיסטיקה ב'. להלן הציונים בסמסטר א' ו- ב' :

סמסטר א	סמסטר ב
74	80
68	84
90	87
75	76
82	100

נניח שהציונים מתפלגים נורמאלית.

- א. בנו רווח סמך ברמת סמך של 95% לתוחלת פער הציונים בין סמסטר א לבין סמסטר ב.
 ב. האם על סמך רווח הסמך קיים הבדל בין הסמסטרים מבחינת תוחלת הציונים?
 ג. מה צריך לשנות בנתונים כדי שהמדגמים יהיו בלתי תלויים?

2. במטרה לבדוק האם קיים הבדל בין קווי זהב לבזק מבחינת ממוצע המחירים לשיחות בינ"ל. נגדמו באקראי 7 מדינות ועבור כל מדינה נבדקה עלות דקת שיחה. להלן התוצאות :

קווי זהב-Y	בזק-X	המדינה
1.4	1.5	ארה"ב
2	2.1	קנדה
1.9	2.2	הולנד
3.1	3	פולין
3.3	3.5	מצרים
3.2	3.2	סין
4.2	4.2	יפן

בהנחה והמחירים מתפלגים נורמלית עבור כל חברה בנו רווח סמך ברמת סמך של 90% לתוחלת הפרש המחירים של שתי החברות.

פרק 13 - בדיקת השערות כללית

רקע:

תהליך של בדיקת השערות הוא תהליך מאד נפוץ בעולם הסטטיסטיקה. בתהליך זה ישנן שתי השערות שנבדקות :

השערת האפס המסומנות ב- H_0

והשערה אלטרנטיבית (השערת המחקר) המסומנת ב- H_1 .

בדרך כלל השערת האפס מסמנת את אשר היה מקובל עד עכשיו , את השגרה הנורמה ואילו ההשערה האלטרנטיבית את החדשנות בעצם ההשערה האלטרנטיבית מדברת על הסיבה שהמחקר נעשה .

למשל ,

ישנה תרופה קיימת למחלה A אשר גורמת ל – 10% מהמשתמשים בה לתופעות לוואי . חברת תרופות טוענת שפיתחה תרופה שיעילה באותה מידה , אך מקטינה את הסיכוי לתופעות הלוואי. לכן יש לבצע מחקר שעל סמך תוצאותיו ננסה להכריע איזה השערה נקבל :

H_0 : התרופה החדשה הנה קונבנציונאלית וגורמת ל-10% תופעות לוואי.

H_1 : התרופה החדשה מקטינה את אחוז הסובלים מתופעות לוואי מתחת ל -10%.

בתהליך של בדיקת השערות יוצרים כלל שניקרא כלל הכרעה :

הכלל יוצר אזור שניקרא אזור דחייה (דחייה של השערת האפס כלומר קבלה של האלטרנטיבה) ואזור קבלה (קבלה של השערת האפס ודחייה של האלטרנטיבה). כלל ההכרעה מתבסס על איזשהו סטטיסטי .

בתהליך יש ללכת לתוצאות המדגם ולבדוק האם התוצאות נופלות באזור הדחייה או הקבלה וכך להגיע למסקנה – המסקנה היא בעירבון מוגבל כיוון שהיא תלויה בכלל ההכרעה ובתוצאות המדגם. נשנה את כלל ההכרעה אנחנו יכולים לקבל מסקנה אחרת . נבצע מדגם חדש אנחנו עלולים לקבל תוצאה אחרת.

לכן יתכנו טעויות במסקנות שלנו :

		הכרעה	
		H0	H1
מציאות	H0	אין טעות	טעות מסוג 1
	H1	טעות מסוג 2	אין טעות

הגדרת הטעויות:

טעות מסוג ראשון- להכריע לדחות את H_0 למרות שבמציאות H_0 נכונה.

טעות מסוג שני- להכריע לקבל את H_0 למרות שבמציאות H_1 נכונה.

מה הן הטעויות האפשריות במחקר של התרופות? (בהקלטה)

נגדיר את ההסתברויות הבאות:

הסיכוי לבצע טעות מסוג 1 (רמת מובהקות)

$$\alpha = P(H_0 \text{ לדחות} | H_0 \text{ נכונה}) = P_{H_0}(H_0 \text{ לדחות})$$

הסיכוי לבצע טעות מסוג 2 :

$$\beta = P(H_0 \text{ לקבל} | H_1 \text{ נכונה}) = P_{H_1}(H_0 \text{ לקבל})$$

רמת בטחון :

$$(1-\alpha) = P(H_0 \text{ לקבל} | H_0 \text{ נכונה}) = P_{H_0}(H_0 \text{ לקבל})$$

עוצמה :

$$\pi = (1-\beta) = P(H_1 \text{ נכונה} | H_1 \text{ לדחות}) = P_{H_1}(H_1 \text{ לדחות})$$

דוגמה: (פתרון בהקלטה)

בכד יש 10 כדורים. יתכן ש- 5 מהם לבנים והיתר שחורים (כד א- השערת האפס) או ש- 7 מהם לבנים והיתר שחורים (כד ב- השערה אלטרנטיבית).

כדי להחליט איזה מהכדים ברשותנו, הוחלט להוציא כדור ולהשתמש בכלל ההחלטה הבא: אם הכדור שהוצא הוא לבן שזהו כד ב' (H_1).

א. חשבו את רמת המובהקות ואת רמת הביטחון של המבחן המוצע.

ב. חשבו את הסיכוי לטעות מסוג שני והעוצמה של המבחן המוצע.

תרגילים:

1. אדם חשוד בביצוע פשע. מהן הטעויות האפשריות בהכרעת הדין?
2. ילד קנה שקית סוכריות אטומה שבה ציפה ל-10 סוכריות תות ו-5 לימון. ישנה שקית אחרת אותה הוא לא רצה בה 6 סוכריות תות ו-9 לימון. הוא החליט להוציא באקראי סוכרייה אם היא תהיה לימון הוא יחזיר את השקית לחנות. מה הסיכויים לכל סוג של טעות בהכרעתו?

3. יהי X מספר שלם הנבחר באקראי מבין המספרים השלמים. הסיכוי ש- X יקבל ערך

$$p(X = k) = \frac{1}{n} \quad \text{עבור } k = 1, 2, \dots, n$$

נתונות ההשערות הבאות לגבי התפלגות של X :

$$H_0 : n = 4$$

$$H_1 : n = 6$$

כמו כן נתון כלל ההכרעה הבא: נדחה את השערת האפס אם $X > 3$.
חשבו את הסיכוי לטעות מסוג ראשון וטעות מסוג שני ואת העוצמה?

4. איכות של מוצר מסווגת ל-4 רמות איכות: מצוין, טוב, בינוני וירוד. להלן התפלגות טיב המוצר בשני מפעלים:

מפעל	מצוין	טוב	בינוני	ירוד
"היוצר"	0.6	0.2	0.2	0
"שמשון"	0.1	0.2	0.3	0.4

בוחרים ממשלוח מוצר באקראי, אך לא יודעים מאיזה מפעל המשלוח הגיע. על סמך בדיקת האיכות מנסים להכריע האם מדובר במפעל "היוצר" (השערת האפס) או במפעל "שמשון" (השערה אלטרנטיבית).

- א. להלן כלל החלטה: אם מדובר במוצר שטיבו "טוב" נכריע שהמוצר בא ממפעל "שמשון", מהן ההסתברויות לסוגי הטעויות השונים?
- ב. להלן כלל החלטה: אם מדובר במוצר שטיבו "בינוני" או גרוע מכך נכריע שהמוצר בא ממפעל "שמשון", מה מהן ההסתברויות לסוגי הטעויות השונים?
- ג. איזה כלל החלטה עדיף? נמק!

5. במטרה לבדוק האם מטבע תקין הטילו אותו 8 פעמים. הוחלט שאם מספר העצים יהיה בין 1 ל 7 כולל יוחלט שהמטבע תקין, אחרת נחליט שהמטבע מזויף.
- א. רשמו את השערות המחקר.
- ב. מה ההסתברות לטעות מסוג ראשון?
- ג. מהי עצמת המבחן אם במציאות אכן המטבע אינו תקין כי הסיכוי לעץ בו הוא 20%.

6. להלן השערות:

$$H_0 : X \sim t(5) \quad (\text{התפלגות } t \text{ עם } 5 \text{ דרגות חופש})$$

$$H_1 : X \sim Z \quad (\text{התפלגות נורמאלית סטנדרטית})$$

כלל החלטה: נדחה את השערת האפס אם X גדול מ-2.015.

- א. מהי רמת המובהקות של כלל החלטה?
- ב. מהי העוצמה של כלל החלטה?
7. במפעל מסוים נפליטים לאוויר חומרים רעילים. במצב שיגרה העוצמה הממוצעת של החומר הרעיל אמורה להיות 6,000 יחידות עם סטיית תקן 900. במצב חירום העוצמה הממוצעת היא 7,000 עם סטיית תקן 900. במפעל מערכת התראה נתמכת על ידי 9 חיישנים. אם ממוצע העוצמה של החומר הרעיל לפי תשעת החיישנים עולה על 6600 יחידות מופעלת מערכת ההתראה. נתון שעוצמת הזיהום מתפלגת נורמאלית.
- א. מה הסיכוי להתראת שווא? (באיזה סוג טעות מדובר)?
- ב. מה הסיכוי שבמצב חירום מערכת ההתראה לא תפעל? (באיזה סוג טעות מדובר)?
- ג. מה ההסתברות שאם המצב הוא מצב חירום מערכת ההתראה תפעל? (איך קוראים להסתברות זו)?
- ד. בסעיפים הבאים נשנה בכל סעיף נתון מסוים. כל סעיף עומד בפני עצמו, כיצד השינוי ישנה את הסיכוי לטעות מסוג ראשון ושני?
1. המפעל יקנה עוד 4 חיישנים.
 2. מצב חרום מוגדר כעת בתוחלת של 7500 יחידות.
 3. מערכת ההתראה תופעל אם ממוצע של תשעת החיישנים יהיה מעל 6700.

8. במטרה לבדוק האם במקום עבודה מסוים פרופורציית הבנים נמוכה מפרופורציית הבנות נדגמו באקראי 10 עובדים. הוחלט שאם מספר הבנים במדגם יהיה לכל היותר 2 תתקבל הטענה שפרופורציית הבנים נמוכה מפרופורציית הבנות.
- א. מה רמת המובהקות של כלל ההכרעה הנ"ל?
- ב. מהי העוצמה בהנחה ובחברה 30% בנים?

9. זמן ההשפעה של משכך הכאבים "אופטלנוס" מתפלג נורמאלית עם תוחלת של 40 דקות וסטיית תקן של 12 דקות.

חברת התרופות המייצרת את התרופה מנסה לשפר את התרופה כך שתוחלת הזמן עד להשפעה תתקצר. לצורך כך, דגמו 25 מטופלים שיקבלו את התרופה "אופטלנוס פורטה", ממוצע זמן התגובה של המטופלים היה 34.5 דקות. חברת התרופות החליטה מראש שאם ממוצע הזמן עד להשפעה יהיה נמוך מ-35 דקות, היא תמשיך בתהליך שיווק "אופטלנוס פורטה".

א. מהי רמת המובהקות של המבחן המוצע?

ב. על סמך תוצאות המדגם. מהי המסקנה ומהי הטעות האפשרית במסקנה?

ג. מהי עצמת המבחן המוצע אם במציאות התרופה "אופטלנוס פורטה" מפחיתה את התוחלת

לכדי 32 דקות?

ד. כיצד תשתנה התשובה לסעיף ג' אם החברה הייתה מחליטה שהיא תמשיך בתהליך שיווק

התרופה החדשה כאשר ממוצע המדגם יהיה נמוך מ-36 דקות?

10. ציוני פסיכומטרי מתפלגים נורמלית עם סטיית תקן 120.

מכון טוען שלימודים אצלו מעלים את ממוצע הציונים ביותר מ-30 נקודות. נלקחו 20

שלמדו

במכון ו-20 שניגשו לבחינה בלמידה עצמית. הוחלט במשרד פרסום לקבל את טענת

המכון רק אם

במדגם ממוצע הציונים של אלה שלמדו במכון יהיה גבוהה בלפחות 50 נקודות מאלה

שלא היו.

א. מהי רמת המובהקות של המחקר?

ב. מה הסיכוי לעשות טעות מסוג שני II בהנחה שהמכון מעלה את ממוצע הציונים ב-60

נקודות ?

ג. כיצד התשובות לסעיף א ו ב' היו משתנות אם מסתבר שסטיית התקן בציוני

הפסיכומטרי הינה

100. הסבירו ללא חישוב.

11. קו ייצור נחשב תקין אם יש בו לכל היותר 4% פגומים, ונחשב שאינו תקין אחרת. מנהל

האיכות דוגם בכל יום מקו הייצור 500 מוצרים. אם במדגם יהיה לפחות 30 מוצרים

פגומים יפסיקו באותו היום את קו הייצור.

א. מה ההסתברות להפסיק את קו הייצור כשהוא תקין. איך קוראים להסתברות זאת?

ב. מה ההסתברות להמשיך ביום מסוים את קו הייצור למרות שאינו תקין כי היו 8%

פגומים בקו

הייצור. איך קוראים להסתברות זאת?

12. מעוניינים לבדוק האם בפקולטה מסוימת ישנה העדפה לגברים. הוחלט לדגום 200 מתקבלים ועל סמך מספר הבנים לקבוע אם טענת המחקר מתקבלת.
 חוקר א' קבע רמת מובהקות של 5% וחוקר ב' החליט לקבל את טענת המחקר אם במדגם יהיו לפחות 120 בנים. למי מבין החוקרים רמת מובהקות גדולה יותר?

13. מספר המכונות הנכנסות לחניון "עזרים" מתפלג פואסונית. בשנה שעברה המכונות נכנסו לחניון בקצב של 2 מכונות לדקה. בעקבות תלונות על עומס יתר בכניסה לחניון מעוניין מנהל החניון לבדוק האם קצב כניסת המכונות לחניון גדל השנה. מנהל החניון החליט לספור את מספר המכונות שיכנסו לחניון בדקה אקראית. אם מספר המכונות שישפרו יהיה לפחות 4 יפתח מנהל החניון שער נוסף לחניון.
 א. רשום את השערות מנהל החניון ואת כלל ההחלטה שלו. האם כלל ההכרעה הגיוני?
 ב. מהי רמת המובהקות של כלל ההכרעה?
 ג. מהי העוצמה של כלל ההחלטה, אם כיום קצב כניסת המכונות לחניון גדל ל-4 מכונות בדקה?

14. עודד עובד במפעל שבו מתחילים לעבוד בשעה 8:00. עודד בדרך כלל מאחר לעבודה והמנהל החליט לרשום את שעת בואו לעבודה. המנהל טוען שמשך האיחור של עודד (דקות), X , היא משתנה אחיד $U(0, 60)$. עודד טוען שהוא לא מגיע באיחור כה גדול, אלא שהתפלגות X היא בעלת התפלגות מעריכית עם תוחלת איחור של 20 דקות. לבדיקת טענת המנהל (H_0) כנגד טענת עודד (H_1), המבוסס על משך האיחור של חגי ביום אחד.
 מוצאים שני ככלי הכרעה:

כלל 1: דחה את השערת האפס אם משך האיחור יהיה לפחות 40 דקות.
 כלל 2: דחה את השערת האפס אם משך האיחור יהיה לכל היותר 20 דקות.
 חשב את הסיכוי לטעות מסוג ראשון ושני לכל אחת מכללי ההכרעה. מי עדיף?

פתרונות:**שאלה 2**

$$\beta = \frac{2}{5} \quad \alpha = \frac{1}{3}$$

שאלה 3

$$\beta = 0.5 \quad \alpha = 0.25$$

שאלה 4

$$\beta = 0.8 \quad \alpha = 0.2 \quad \text{א.}$$

$$\beta = 0.3 \quad \alpha = 0.2 \quad \text{ב.}$$

ג. כלל ב'

שאלה 5

ב. 0.00781

ג. 0.1678

שאלה 6

א. 0.05

ב. 0.022

שאלה 7

א. 0.0228

ב. 0.0918

ג. 0.9082

שאלה 8

א. 0.055

ב. 0.383

שאלה 10

א. 0.2981

ב. 0.3974

ג. קטן

שאלה 11

א. 0.0113

ב. 0.0495

שאלה 12

חוקר א

שאלה 13

ב. 0.1428

ג. 0.566

פרק 14 - הלמה של ניימן פירסון

רקע:

שיטה זו עוזרת לנו לבנות מבחנים בעלי עוצמה מקסימאלית עבור α נתונה. הלמה של ניימן פירסון אומרת שמבחן בעל עוצמה מקסימלית מתקבל כאשר אזור הדחיה שלו כולל את התוצאות שעבורן יחס הנראות הוא הגבוה ביותר. נגדיר את יחס הנראות:

$$x_1, x_2, \dots, x_n - \text{תוצאות הניסוי.}$$

ההשערות:

$$H_0 : x_i \sim p_0$$

$$H_1 : x_i \sim p_1$$

$$\lambda(x_1, x_2, \dots, x_n) = \frac{p_{H_1}(x_1, x_2, \dots, x_n)}{p_{H_0}(x_1, x_2, \dots, x_n)}$$

המשמעות של יחס הנראות היא פי כמה H_1 יותר סבירה מ H_0 .

עבור משתנים שמתפלגים בדיד :

שלב א :

עבור כל תוצאות המדגם האפשריים מחשבים את הסיכויים בהנחת השערת האפס ובהנחת ההשערה האלטרנטיבית.

שלב ב :

מחלקים את הסיכויים באופן הבא : $\lambda(x_1, x_2, \dots, x_n) = \frac{p_{H_1}(x_1, x_2, \dots, x_n)}{p_{H_0}(x_1, x_2, \dots, x_n)}$. ומקבלים את יחס הנראות.

שלב ג :

מסדרים את תוצאות הניסוי על פי סדר יורד מהתוצאה שמניבה את ערך יחס הנראות הגבוה ביותר עד התוצאה שמניבה את ערך יחס הנראות הנמוך ביותר.

שלב ד :

מכניסים את התוצאה שמניבה את יחס הנראות הגבוה ביותר לאזור הדחיה ובודקים תחת השערת האפס מהי רמת המובהקות המתקבלת . צוברים את התוצאות לפי העיקרון שהוצג עד שרמת המובהקות לא תעלה על ה α הרצויה.

דוגמה: (הפתרון בהקלטה)

איכות של מוצר מסווגת ל-4 רמות איכות: מצוין, טוב, בינוני וירוד. להלן התפלגות טיב המוצר בשני מפעלים:

מפעל	מצוין	טוב	בינוני	ירוד
"היוצר"	0.6	0.15	0.25	0
"שמשון"	0.1	0.2	0.3	0.4

בוחרים ממשלוח מוצר באקראי, אך לא יודעים מאיזה מפעל המשלוח הגיע. על סמך בדיקת האיכות מנסים להכריע האם מדובר במפעל "היוצר" (השערת האפס) או במפעל "שמשון" (השערה אלטרנטיבית). צור כלל הכרעה לפי הלמה של ניימן פירסון ברמת מובהקות שלא תעלה על 20%.

עבור משתנים שמתפלגים רציף:**שלב א:**

בונים את פונקציית הצפיפות המשותפת בהנחת השערת האפס ובהנחת ההשערה האלטרנטיבית.

שלב ב:

מחלקים את שלב א באופן הבא: $\lambda(x_1, x_2, \dots, x_n) = \frac{f_{H_1}(x_1, x_2, \dots, x_n)}{f_{H_0}(x_1, x_2, \dots, x_n)}$. ומקבלים את פונקציית

יחס הנראות.

שלב ג:

מזהים את האזור עבורו יחס הנראות הוא הגבוה ביותר.

שלב ד:

לפי ההתפלגות של השערת האפס מוצאים את הערכים הקריטיים באזור שנקבע בסעיף הקודם כך שרמת המובהקות תהיה α שנקבעה מראש.

דוגמה: (פתרון בהקלטה)

נתון ש $X \sim \exp(\lambda)$

$$H_0 : \lambda = 1$$

$$H_1 : \lambda = 2$$

ההשערות הן:

מצא מבחן בעל עוצמה מקסימלית ברמת מובהקות של 5% על סמך תצפית בודדת.

תרגילים:

1. איכות של מוצר מסווגת ל-5 רמות איכות: מצוין, טוב, בינוני, ירוד ופסול. להלן התפלגות טיב המוצר בשני מפעלים:

מפעל	מצוין	טוב	בינוני	ירוד	פסול
"היוצר"	0.4	0.2	0.1	0.1	0.2
"שמשון"	0.1	0.2	0.3	0.4	0

בוחרים משלוח מוצר באקראי, אך לא יודעים מאיזה מפעל המשלוח הגיע. על סמך בדיקת האיכות

מנסים להכריע האם מדובר במפעל "היוצר" (השערת האפס) או במפעל "שמשון" (השערה אלטרנטיבית).

- חשב את יחס הנראות עבור כל תוצאות המדגם האפשריים.
- צור כלל הכרעה לפי הלמה של ניימן פירסון ברמת מובהקות שלא תעלה על 25%.
- מהי עוצמת המבחן שייצרת בסעיף הקודם.

2. מטילים מטבע 3 פעמים ומתבוננים במספר הפעמים שהתקבלה התוצאה ראש. נסמן ב- p את הסיכוי בהטלה בודדת לקבל את התוצאה ראש. ההשערות הן:

$$H_0 : p = 0.5$$

$$H_1 : p = 0.25$$

מצאו מבחן ברמת מובהקות שלא תעלה על 30% עם עוצמה מקסימלית. מהי העוצמה?

3. בכד א' 7 כדורים לבנים ו-8 שחורים. בכד ב' 8 כדורים לבנים ו-7 שחורים. אדם בוחר כד וממנו מוציא

באקראי 4 כדורים ללא החזרה. הוא מתבונן במספר הכדורים הלבנים שהוצאו ומודיע לך את המספר המתקבל. עליך לבנות כלל הכרעה על סמך המספר המתקבל שיכריע האם מדובר בהוצאה

- מכד א' (השערת האפס) או מכד ב' (השערה אלטרנטיבית).
- בנה כלל הכרעה בעל עוצמה מקסימלית ברמת מובהקות שלא תעלה על 10%.
- מהי רמת המובהקות של כלל ההכרעה שבנית בסעיף הקודם?
- מה הסיכוי לטעות מסוג שני של כלל ההכרעה שבנית?

4. בצרור מפתחות 5 מפתחות שרק אחד פותח את הדלת. על סמך מספר הניסיונות לפתיחת הדלת יש

להחליט האם הניסיונות נעשו ללא החזרה (השערת האפס) או עם החזרה (השערה אלטרנטיבית)

של המפתחות לצרור. מצאו מבחן לפי הלמה של ניימן פירסון ברמת מובהקות שלא עולה על 0.25.

5. מספר תאונות הדרכים בכביש 4 מתפלג פואסונית עם קצב של תאונה ביממה . לאחרונה התעורר

החשד שתוחלת מספר התאונות בכביש עלתה לקצב של שתי תאונות ביממה. דגמו 4 ימים אקראיים

וקיבלו את מספר התאונות הבאות ליממה : 3,3,0,1

א. נסחו את הבעיה ובנו מבחן MP עם $\alpha \leq 0.1$.

ב. מהי מסקנתך ומהי הטעות האפשרית במסקנה?

ג. מה הסיכוי להכריע שכיום קצב תאונות הדרכים בכביש מספר 4 עלה לשתי תאונות ביממה שאכן

כך הדבר באמת? פתרו על סמך המבחן של סעיף א.

6. התפלגות זמן ההמתנה לקופה בסופרמרקט מתפלג מעריכית. בעל הסופרמרקט טוען שתוחלת זמן

ההמתנה היא 5 דקות אך הלקוחות חושדים שהתוחלת גבוהה יותר ושווה ל-10 דקות.

א. רשמו את השערות המחקר וחשבו את פונקציית יחס הנראות על סמך זמן המתנה של לקוח אקראי

לקופה.

ב. מה כיוון אזור הדחייה של השערת האפס.

ג. מצאו את אזור הדחייה עבור רמת מובהקות של 5%.

ד. בהמשך לסעיף הקודם, מה הסיכוי להכריע לטובת בעל הסופרמרקט בטעות.

7. יהי X תצפית בודדת מפונקציית הצפיפות הבאה, כאשר θ פרמטר חיובי:

$$f_{\theta}(x) = \begin{cases} 2\theta x + 1 - \theta, & 0 \leq x \leq 1 \\ 0, & \text{otherwise} \end{cases}$$

ההשערות הן:

$$H_0: \theta = 0$$

$$H_1: \theta = 1$$

- א. הוכח שמבחן MP (עוצמה מקסימלית) עם רמת מובהקות α יהיה $C = \{X > 1 - \alpha\}$.
- ב. הוכח שהעוצמה של המבחן שמצאת הוא: $2\alpha - \alpha^2$.
- ג. מצא את כלל ההכרעה והעוצמה עבור $\alpha = 0.05$.

8. מחשב חניון "אתרים" רושם את זמן כניסת כל מכונית לחניון. ישנו חשד שעקב תקלה המחשב מבצע

את הרישום לכל מכונית שניה. נסמן ב- X את הזמן בדקות בין רישום לרישום.

אם הרישום הוא תקין ההתפלגות היא מעריכית $f_0(x) = \lambda \cdot e^{-\lambda x}$.

אם הרישום הוא לפי החשד, פונקציית הצפיפות היא: $f_1(x) = \lambda^2 \cdot x \cdot e^{-\lambda x}$.

כאשר מדובר באותו פרמטר λ .

א. רשמו את ההשערות.

ב. מצאו מבחן בעל עוצמה מקסימלית כדי לבדוק את ההשערות.

ג. פתרו עבור רמת מובהקות של 5% ו- $\lambda = 1$.

ד. רשמו את איזו הדחייה עבור שתי תצפיות אקראיות של X .

9. יהי X_1, \dots, X_n מדגם מקרי מהתפלגות בעלת פונקציית הצפיפות הבאה, כאשר θ פרמטר חיובי:

$$f_\theta(x) = \begin{cases} \theta e^{1-\theta x}, & x \geq \frac{1}{\theta} \\ 0, & \text{otherwise} \end{cases}$$

א. מצאו מבחן בעל עוצמה מקסימאלית לבדיקת השערות $H_0: \theta = 1$ כנגד $H_1: \theta = 2$ על סמך תצפית בודדת (ברמת מובהקות 5%).

ב. מהי עוצמת המבחן שמצאת?

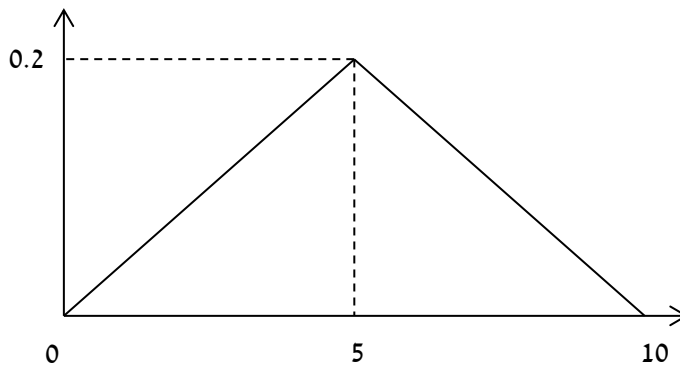
ג. כעת נשנה את הערך תחת האלטרנטיבה ל-3 במקום 2. בחר בתשובה הנכונה ונמק:

ג.1. אפשר לומר ללא חישוב נוסף שהעוצמה תגדל.

ג.2. אפשר לומר ללא חישוב נוסף שהעוצמה תקטן.

ג.3. יש לחשב כדי להחליט.

10. נתונה פונקציית הצפיפות הבאה שנסמנה ב- $f_1(x)$



כמו כן נתון ש:

$$f_0(x) = \begin{cases} 0.1, & 0 \leq x \leq 10 \\ 0, & \text{אחרת} \end{cases}$$

א. עבור השערות $H_0: f = f_0$ כנגד $H_1: f = f_1$ מצא את צורת איזור הדחיה של מבחן בעל עוצמה

מקסימלית, על סמך תצפית בודדת.

ב. בהנתן $\alpha = 0.05$, מצא את כלל הכרעה מתאים בעל עוצמה מקסימלית.

11. X הנו משתנה רציף המוגדר בין 0 ל-20. להלן השערות מחקר:

$$H_0 : X \sim U(0, 20)$$

$$H_1 : f(X) = \frac{e^{-X/4}}{4(1-e^{-5})}$$

יש לבנות מבחן בעל עוצמה מקסימלית ברמת מובהקות של 10% על סמך הממוצע 100 תצפיות אקראיות.

פתרונות :**שאלה 1 :**

ג. 0.7

שאלה 2 :

$C = \{X = 0\}$, עוצמה $\frac{27}{64}$

שאלה 3 :א. $C = \{X = 4\}$

ב. 0.0256

ג. 0.9487

שאלה 4 :

$$C = \{X = 1 \text{ or } X \geq 6\}$$
שאלה 5 :

א. נדחה את השערת האפס אם מספר התאונות הכולל ב- 4 הימים יהיה לפחות 8 תאונות.

ב. נקבל את השערת האפס (טעות מסוג שני)

ג. 0.5471

שאלה 8 :

א. השערת האפס: שומר הלילה רושם כל מבקר אשר ניכנס לבניין.

ב. ההשערה האלטרנטיבית: שומר הלילה מדלג ברישום על מבקר – רושם אחד כן ואחד לא.

ג. אזור הדחייה יהיה היכן שיחס הנראות הינו גבוה לכן הוא יהיה מאינסוף ועד ערך K מסוים.ד. נדחה את השערת האפס אם $x > 2.996$

$$x_1 \cdot x_2 > k$$
שאלה 9 :א. נדחה את H_0 עבור $1.0513 \leq x \leq \frac{1}{2}$.

ב. חישוב עוצמת המבחן: 0.668

ג. אפשר לומר ללא חישוב נוסף שהעוצמה תגדל

שאלה 11 :

כלל ההכרעה הוא נדחה את השערת האפס אם: $\bar{D} \leq 9.26$

פרק 15 - בדיקת השערות על פרמטרים

הקדמה

רקע:

תהליך של בדיקת השערות הוא תהליך מאד נפוץ בעולם הסטטיסטיקה. בבדיקת השערות על פרמטרים נעבוד לפי השלבים הבאים:

שלב א: נזהה את הפרמטר הנחקר.

שלב ב: נרשום את השערות המחקר.

השערת האפס המסומנות ב- H_0

בדרך כלל השערת האפס מסמלת את אשר היה מקובל עד עכשיו, את השגרה הנורמה.

השערה אלטרנטיבית (השערת המחקר) המסומנת ב- H_1 .

ההשערה האלטרנטיבית מסמלת את החדשנות בעצם ההשערה האלטרנטיבית מדברת על הסיבה שהמחקר נעשה היא שאלת המחקר.

שלב ג: נבדוק האם התנאים לביצוע התהליך מתקיימים ונניח הנחות במידת הצורך.

שלב ד: נרשום את כלל ההכרעה.

בתהליך של בדיקת השערות יוצרים כלל שניקרא **כלל הכרעה**: הכלל יוצר אזור שניקרא **אזור דחייה** (דחייה של השערת האפס כלומר קבלה של האלטרנטיבה) ו**אזור קבלה** (קבלה של השערת האפס ודחייה של האלטרנטיבה). כלל ההכרעה מתבסס על איזשהו סטטיסטי.

אזור הדחייה מוכתב על ידי סיכון שלוקח החוקר מראש שנקרא רמת מובהקות ומסומן ב- α .

שלב ה:

בתהליך יש ללכת לתוצאות המדגם ולחשב את הסטטיסטי המתאים ולבדוק האם התוצאות נופלות באזור הדחייה או הקבלה.

שלב ו:

להסיק מסקנה בהתאם לתוצאות המדגם.

דוגמה: (פתרון בהקלטה)

משרד הבריאות פרסם שמשקל ממוצע של תינוקות ביום היוולדם בישראל 3300 גר'. משרד הבריאות רוצה לחקור את הטענה שנשים מעשנות בזמן ההיריון יולדות תינוקות במשקל נמוך מהממוצע. במחקר השתתפו 20 נשים מעשנות בהריון. להלן תוצאות המדגם שבדק את המשקל של התינוקות בעת הלידה:

$$n = 20$$

$$\bar{X} = 3120$$

$$S = 280$$

- א. מהי אוכלוסיית המחקר?
- ב. מה המשתנה הנחקר?
- ג. מה הפרמטר הנחקר?
- ד. מהן השערות המחקר?

תרגילים:

1. ממוצע הציונים בבחינת הברגרות באנגלית הנו 72 עם סטיית תקן 15 נקודות. מורה טוען שפיתח שיטת לימוד חדשה שתעלה את ממוצע הציונים. משרד החינוך החליט לתת למורה 36 תלמידים אקראיים. ממוצע הציונים של אותם תלמידים לאחר שלמדו בשיטתו היה 75.5.

- א. מהי אוכלוסיית המחקר?
- ב. מה המשתנה הנחקר?
- ג. מה הפרמטר הנחקר?
- ד. מהן השערות המחקר?

2. לפי הצהרת היצרן של חברת משקאות מסוימת נפח הנוזל בבקבוק מתפלג נורמלית עם תוחלת 500 סמ"ק וסטיית תקן 20 סמ"ק. אגודת הצרכנים מתלוננת על הפחתת נפח המשקה בבקבוק מהכמות המוצהרת. במדגם שעשתה אגודת הצרכנים התקבל נפח ממוצע של 492 סמ"ק במדגם בגודל 25.

- א. מהי אוכלוסיית המחקר?
- ב. מה המשתנה הנחקר?
- ג. מה הפרמטר הנחקר?
- ד. מהן השערות המחקר?

3. במשך שנים אחוז המועמדים שהתקבל לפקולטה למשפטים היה 25%. השנה מתוך מדגם של 120 מועמדים התקבלו 22. מחקר מעוניין לבדוק האם השנה מקשים על הקבלה לפקולטה למשפטים.

- א. מהי אוכלוסיית המחקר?
- ב. מה המשתנה הנחקר?
- ג. מה הפרמטר הנחקר?
- ד. מהן השערות המחקר?

4. בחודש ינואר השנה פורסם שאחוז האבטלה במשק הוא 8% במדגם עכשווי התקבל שמתוך 200 אנשים 6.5% מובטלים. רוצים לבדוק ברמת מובהקות של 5% האם כיום אחוז האבטלה הוא כמו בתחילת השנה.

- א. מהי אוכלוסיית המחקר?
- ב. מה המשתנה הנחקר?
- ג. מה הפרמטר הנחקר?
- ד. מהן השערות המחקר?

טעויות בבדיקת השערות**רקע:**

בתהליך של בדיקת השערות יוצרים כלל שניקרא **כלל הכרעה** :

הכלל יוצר אזור שניקרא **אזור דחייה** (דחייה של השערת האפס כלומר קבלה של האלטרנטיבה) ו**אזור קבלה** (קבלה של השערת האפס ודחייה של האלטרנטיבה). כלל ההכרעה מתבסס על איזשהו סטטיסטי .

בתהליך יש ללכת לתוצאות המדגם ולבדוק האם התוצאות נופלות באזור הדחייה או הקבלה וכך להגיע למסקנה – המסקנה היא בעירבון מוגבל כיוון שהיא תלויה בכלל ההכרעה ובתוצאות המדגם. נשנה את כלל ההכרעה אנחנו יכולים לקבל מסקנה אחרת . נבצע מדגם חדש אנחנו עלולים לקבל תוצאה אחרת.

לכן יתכנו טעויות במסקנות שלנו :

		הכרעה	
		H0	H1
מציאות	H0	אין טעות	טעות מסוג 1
	H1	טעות מסוג 2	אין טעות

הגדרת הטעויות:

טעות מסוג ראשון- להכריע לדחות את H_0 למרות שבמציאות H_0 נכונה.

טעות מסוג שני- להכריע לקבל את H_0 למרות שבמציאות H_1 נכונה.

דוגמה: (פתרון בהקלטה)

אדם חשוד בביצוע עבירה ונתבע בבית המשפט. אילו סוגי טעויות אפשריות בהכרעת הדין?

תרגילים:

1. לפי הצהרת היצרן של חברת משקאות מסוימת נפח הנוזל בבקבוק מתפלג נורמלית עם תוחלת 500 סמ"ק וסטיית תקן 20 סמ"ק. אגודת הצרכנים מתלוננת על הפחתת נפח המשקה בבקבוק מהכמות המוצהרת. במדגם שעשתה אגודת הצרכנים התקבל נפח ממוצע של 492 סמ"ק במדגם בגודל 25. בסופו של דבר הוחלט להכריע לטובת חברת המשקאות.
 - א. רשמו את השערות המחקר.
 - ב. מה מסקנת המחקר?
 - ג. איזו סוג טעות יתכן וביצעו במחקר?

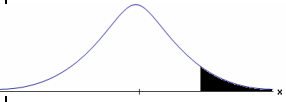
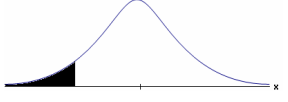
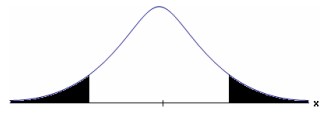
2. במחקר על פרמטר מסוים הוחלט בסופו של דבר לדחות את השערת האפס.
 - א. האם ניתן לדעת אם בוצע טעות במחקר?
 - ב. מה סוג הטעות האפשרית?

3. לפי נתוני משרד הפנים בשנת 1980 למשפחה ממוצעת היה 2.3 ילדים למשפחה עם סטיית תקן 0.4. ישנה טענה שכיום ממוצע מספר הילדים במשפחה קטן יותר. לצורך כך הוחלט לדגום 121 משפחות. במדגם התקבל ממוצע 2.17 ילדים למשפחה. על סמך תוצאות המדגם נקבע שלא ניתן לקבוע שבאופן מובהק תוחלת מספר הילדים למשפחה קטנה כיום.
 - א. מהי אוכלוסיית המחקר?
 - ב. מה המשתנה הנחקר?
 - ג. מה הפרמטר הנחקר?
 - ד. מה השערות המחקר?
 - ה. מה מסקנת המחקר?
 - ו. מהי סוג הטעות האפשרית במחקר?

פרק 16 - בדיקת השערות על תוחלת (ממוצע)

כאשר שונות האוכלוסיה ידועה

רקע:

$H_0: \mu = \mu_0$ $H_1: \mu > \mu_0$	$H_0: \mu = \mu_0$ $H_1: \mu < \mu_0$	$H_0: \mu = \mu_0$ $H_1: \mu \neq \mu_0$	השערת האפס: השערה אלטרנטיבה:
1. σ ידועה 2. $X \sim N$ או מדגם מספיק גדול			תנאים:
$Z_{\bar{x}} > Z_{1-\alpha}$  $Z_{1-\alpha}$ - דוחים את H_0	$Z_{\bar{x}} < -Z_{1-\alpha}$  $-Z_{1-\alpha}$ - דוחים את H_0	$Z_{\bar{x}} < -Z_{1-\frac{\alpha}{2}}$ או $Z_{\bar{x}} > Z_{1-\frac{\alpha}{2}}$  $-Z_{1-\frac{\alpha}{2}}$ $Z_{1-\frac{\alpha}{2}}$ - דוחים את H_0	כלל ההכרעה: אזור הדחייה של H_0 :

סטטיסטי המבחן:

$$Z_{\bar{x}} = \frac{\bar{X} - \mu_0}{\frac{\sigma}{\sqrt{n}}}$$

חלופה אחרת לכלל הכרעה:

$\bar{X} > \mu_0 + Z_{1-\alpha} \cdot \frac{\sigma}{\sqrt{n}}$	$\bar{X} < \mu_0 - Z_{1-\alpha} \cdot \frac{\sigma}{\sqrt{n}}$	$\bar{X} > \mu_0 + Z_{1-\alpha/2} \cdot \frac{\sigma}{\sqrt{n}}$ או $\bar{X} < \mu_0 - Z_{1-\alpha/2} \cdot \frac{\sigma}{\sqrt{n}}$	נדחה H_0 אם מתקיים:
--	--	--	---

דוגמה : (פתרון בהקלטה)

יבול העגבניות מתפלג נורמלית עם תוחלת של 10 טון לדונם וסטיית תקן של 2.5 טון לדונם בעונה. משערים ששיטת זיבול חדשה תעלה את תוחלת היבול לעונה מבלי לשנות את סטיית התקן. נדגמו 4 חלקות שזובלו בשיטה החדשה. היבול הממוצע שהתקבל היה 12.5 טון לדונם. בדוק את ההשערה ברמת מובהקות של 1%.

תרגילים:

1. ממוצע הציונים בבחינת הבגרות באנגלית הנו 72 עם סטיית תקן 15 נקודות. מורה טוען שפיתח שיטת לימוד חדשה שתעלה את ממוצע הציונים. משרד החינוך החליט לתת למורה 36 תלמידים אקראיים. ממוצע הציונים של אותם תלמידים לאחר שלמדו בשיטתו היה 75.5. בהנחה שגם בשיטתו סטיית התקן תהייה 15 מה מסקנתכם ברמת מובהקות של 5%?
2. לפי הצהרת היצרן של חברת משקאות מסוימת נפח הנוזל בבקבוק מתפלג נורמלית עם תוחלת 500 סמ"ק וסטיית תקן 20 סמ"ק. אגודת הצרכנים מתלוננת על הפחתת נפח המשקה בבקבוק מהכמות המוצהרת. במדגם שעשתה אגודת הצרכנים התקבל נפח ממוצע של 492 סמ"ק במדגם בגודל 25.
 - א. מה מסקנתכם ברמת מובהקות של 2.5%?
 - ב. האם ניתן לדעת מה תהיה המסקנה עבור רמת מובהקות הגבוהה מ-5%?
3. מהנדס האיכות מעוניין לבדוק אם מכונה מכוילת (מאופסת). המכונה כוונה לחתוך מוטות באורך 50 ס"מ. לפי נתוני היצרן סטיית התקן בחיתוך המוטות היא 0.5 ס"מ. במדגם של 50 מוטות התקבל ממוצע אורך המוט 50.93 ס"מ. מה מסקנתכם ברמת מובהקות של 5%?
4. המשקל הממוצע של הספורטאים בתחום ספורט מסוים הוא 90 ק"ג, עם סטיית תקן 8 ק"ג. לפי דעת מומחים בתחום יש צורך בהורדת המשקל ובשימוש בדיאטה מסוימת שצריכה להביא להורדת המשקל. לשם בדיקת יעילות הדיאטה נלקח מדגם מקרי של 50 ספורטאים ובתום שנה של שימוש בדיאטה התברר שהמשקל הממוצע במדגם זה היה 84 ק"ג. יש לבדוק בר"מ של 10%, האם הדיאטה גורמת להורדת המשקל.
5. לפי מפרט נתון, על עובי בורג להיות 4 מ"מ עם סטיית תקן של 0.2 מ"מ. במדגם של 25 ברגים העובי הממוצע היה 4.07 מ"מ. קבעו ברמת מובהקות 0.05, האם עובי הברגים מתאים למפרט. הניחו כי עובי של בורג מתפלג נורמלית וסטיית התקן של עובי בורג היא אכן 0.2 מ"מ.

6. במחקר נמצא שתוצאה היא מובהקת ברמת מובהקות של 5% מה תמיד נכון? בחר בתשובה הנכונה.
- הגדלת רמת המובהקות תשנה את מסקנת המחקר.
 - הקטנת רמת המובהקות לא תשנה את מסקנת המחקר.
 - הקטנת רמת המובהקות תשנה את מסקנת המחקר.
 - הגדלת רמת המובהקות לא תשנה את מסקנת המחקר.
7. חוקר ערך מבחן דו צדדי ברמת מובהקות של α והחליט לדחות את השערת האפס.
- אם החוקר היה עורך מבחן צדדי ברמת מובהקות של $\frac{\alpha}{2}$ אזי בהכרח: (בחר בתשובה הנכונה)
- השערת האפס הייתה נדחית.
 - השערת האפס הייתה לא נדחית.
 - לא ניתן לדעת מה תהיה מסקנתו במקרה זה.
8. שני סטטיסטיקאים בדקו השערות $H_0: \mu = \mu_0$ כנגד $H_1: \mu > \mu_0$ עבור שונות ידועה ובאותה רמת מובהקות. שני החוקרים קבלו אותו ממוצע במדגם אך לחוקר א' היה מדגם בגודל 100 ולחוקר ב' מדגם בגודל 200.
- אם חוקר א' החליט לדחות את H_0 , מה יחליט חוקר ב'? נמקו.
 - אם חוקר א' יחליט לא לדחות את H_0 , מה יחליט חוקר ב'? נמקו.

פתרונות :**שאלה 1:** H_0 נקבל**שאלה 2:** H_0 נדחה**שאלה 3:** H_0 נדחה**שאלה 4:** H_0 נדחה**שאלה 5:** H_0 נקבל**שאלה 6:**

ב

שאלה 7:

ג

שאלה 8:

א. אותה מסקנה

ב. לא ניתן לדעת.

סיכוי לטעויות ועוצמה כאשר שונות האוכלוסייה ידועה

רקע:

		הכרעה	
		H0	H1
מציאות	H0	אין טעות	טעות מסוג 1
	H1	טעות מסוג 2	אין טעות

נגדיר את ההסתברויות הבאות:

הסיכוי לבצע טעות מסוג 1 (רמת מובהקות)

$$\alpha = P(H_0 \text{ נכונה} \mid \text{לדחות את } H_0) = P_{H_0}(H_0 \text{ לדחות})$$

הסיכוי לבצע טעות מסוג 2:

$$\beta = P(H_0 \text{ לקבל} \mid H_1 \text{ נכונה}) = P_{H_1}(H_0 \text{ לקבל})$$

רמת בטחון:

$$(1 - \alpha) = P(H_0 \text{ לקבל} \mid H_0) = P_{H_0}(H_0 \text{ לקבל})$$

עוצמה:

$$\pi = (1 - \beta) = P(H_1 \text{ נכונה} \mid \text{לדחות את } H_0) = P_{H_1}(H_0 \text{ לדחות})$$

התהליך לחישוב סיכוי לטעות מסוג שני:

$H_0: \mu = \mu_0$ $H_1: \mu > \mu_0$	$H_0: \mu = \mu_0$ $H_1: \mu < \mu_0$	$H_0: \mu = \mu_0$ $H_1: \mu \neq \mu_0$	השערת האפס: השערה אלטרנטיבה:
<p>3. σ ידועה</p> <p>4. $X \sim N$ או מדגם מספיק גדול</p>			תנאים:
$\bar{X} > \mu_0 + Z_{1-\alpha} \cdot \frac{\sigma}{\sqrt{n}}$	$\bar{X} < \mu_0 - Z_{1-\alpha} \cdot \frac{\sigma}{\sqrt{n}}$	$\bar{X} > \mu_0 + Z_{1-\alpha/2} \cdot \frac{\sigma}{\sqrt{n}}$ או $\bar{X} < \mu_0 - Z_{1-\alpha/2} \cdot \frac{\sigma}{\sqrt{n}}$	כלל ההכרעה: אזור הדחייה של H_0 :
$P_{H_1}(\bar{X} < \mu_0 + Z_{1-\alpha} \cdot \frac{\sigma}{\sqrt{n}})$	$P_{H_1}(\bar{X} > \mu_0 - Z_{1-\alpha} \cdot \frac{\sigma}{\sqrt{n}})$	$P_{H_1}(\mu_0 - Z_{1-\frac{\alpha}{2}} \cdot \frac{\sigma}{\sqrt{n}} < \bar{X} < \mu_0 + Z_{1-\frac{\alpha}{2}} \cdot \frac{\sigma}{\sqrt{n}})$	חישוב β:

התפלגות ממוצע המדגם: $\bar{X} \sim N(\mu, \frac{\sigma^2}{n})$

התקנון: $Z = \frac{\bar{x} - \mu}{\sigma / \sqrt{n}}$

דוגמה : (פתרון בהקלטה)

בתחילת השנה חשבון הטלפון הסלולארי הממוצע לאדם היה 200 ₪ עם סטיית תקן של 80 ₪ לחודש. בעקבות כניסתן של חברות טלפון סלולארית חדשות מעוניינים לבדוק האם כיום ממוצע חשבון הטלפון הסלולארי פחת. לצורך בדיקה דגמו באקראי 36 אנשים וחשבון הטלפון הסלולארי שלהם היה 150 ₪ בממוצע לחודש.

א. רשמו את השערות המחקר ובנו כלל הכרעה במונחי חשבון ממוצע מדגמי ברמת מובהקות של 5%.

ב. מה מסקנתכם? איזה סוג טעות אפשרית במסקנה?

ג. נניח שבמציאות כיום החשבון הממוצע הוא 160 ₪. מה הסיכוי לבצע טעות מסוג שני?

ד. אם נקטין את רמת המובהקות מסעיף א', כיצד הדבר ישפיע על התשובה מסעיף ג'?

תרגילים:

1. נתון ש $X \sim N(\mu, \sigma^2 = 1)$ להלן השערות של חוקר לגבי הפרמטר μ :
- $$H_0 : \mu = 5$$
- $$H_1 : \mu = 7$$
- מעוניינים ליצור כלל הכרעה המתבסס על הסמך תצפית בודדת כך שרמת המובהקות תהיה 5%.
- א. עבור אילו ערכים של X שידגם נדחית השערת H_0 ?
- ב. מה הסיכוי לבצע טעות מסוג שני?
- ג. אם במדגם התקבל ש $X = 6.9$ מה תהיה המסקנה ומה הטעות האפשרית?
2. לפי נתוני משרד הפנים בשנת 1980 למשפחה ממוצעת היה 2.3 ילדים למשפחה עם סטיית תקן 0.4. מעוניינים לבדוק אם כיום ממוצע מספר הילדים למשפחה קטן יותר. לצורך כך הוחלט לדגום 121 משפחות. במדגם התקבל ממוצע 2.17 ילדים למשפחה.
- א. רשמו כלל הכרעה במונחי ממוצע מדגם קריטי ברמת מובהקות של 5%.
- ב. בהמשך לסעיף א מה תהיה המסקנה ומהי הטעות האפשרית במסקנה?
- ג. אם באמת ממוצע מספר הילדים במשפחה פחת לכדי 2.1 מהי העצמה של הכלל מסעיף א?
3. להלן נתונים על תהליך של בדיקת השערות על תוחלת :
- $$H_0 : \mu = 200$$
- $$H_1 : \mu \neq 200$$
- $$\sigma = 30$$
- $$n = 225$$
- א. רשום כלל הכרעה במונחי ממוצע מדגם קריטי וברמת מובהקות של 10%.
- ב. בהמשך לסעיף א מהי העצמה אם התוחלת שווה ל-195?
- ג. הסבר ללא חישוב איך העצמה תשתנה אם רמת המובהקות תהייה 5%?

4. מפעל לייצור צינורות מייצר צינור שקוטרו מתפלג נורמלית עם תוחלת של 50 מ"מ וסטית תקן של 6 מ"מ. במחלקת ביקורת האיכות דוגמים בכל יום 81 צינורות ומודדים את קוטרם, בכדי לבדוק, בעזרת מבחן סטטיסטי, האם מכונת הייצור מכוילת כנדרש או שקוטר הצינורות קטן מהדרוש.

- א. רשום את ההשערות ואת כלל ההכרעה ברמת מובהקות של 5%.
- ב. אם ביום כלשהו מכונת הייצור התקלקלה והיא מייצרת את הצינורות בקוטר שתוחלתו 48 מ"מ בלבד (סטית התקן לא השתנתה), מה ההסתברות שהתקלה לא תתגלה בביקורת האיכות? כיצד נקראת הסתברות זו?
- ג. הסבר ללא חישוב כיצד התשובה לסעיף ב תשתנה אם רמת המובהקות תגדל.
- ד. הסבר ללא חישוב כיצד התשובה לסעיף ב תשתנה אם התוחלת האמיתית היא 47 ולא 48 מ"מ.

5. להלן השערות של מחקר

$$H_0 : \mu = 50$$

$$H_1 : \mu = 58$$

- מעוניינים לדגום 100 תצפיות. ידוע שסטית התקן של ההתפלגות הינה 20.
- א. בנו כלל הכרעה שהסיכוי לטעות מסוג שני בו הוא 10%. מהי רמת המובהקות?
 - ב. כיצד הייתה משתנה רמת המובהקות אם (כל סעיף בפני עצמו) ?
 1. סטיית התקן הייתה יותר גדולה.
 2. הסיכוי לטעות מסוג שני גדול יותר.

השאלות שלהלן הן שאלות רב בררתיות. בחר בכל שאלה את התשובה הנכונה ביותר:

6. אם חוקר החליט להגדיל את רמת המובהקות במחקר שלו אזי :

- א. הסיכוי לטעות מסוג ראשון גדל.
 - ב. העוצמה של המבחן גדלה.
 - ג. הסיכוי לטעות מסוג שני גדל.
 - ד. תשובות א ו-ב נכונות.
7. חוקר ביצע מחקר ובו עשה טעות מסוג שני לכן :
- א. השערת האפס נכונה.
 - ב. השערת האפס נדחתה.
 - ג. השערת האפס לא נדחתה.
 - ד. אף אחת מהתשובות לא נכונה בהכרח.

8. מה המצב הרצוי לחוקר המבצע בדיקת השערה :

$1 - \beta$	α
גדולה	א. גדולה
קטנה	ב. גדולה
גדולה	ג. קטנה
קטנה	ד. קטנה

9. נערך שינוי בכלל ההחלטה של בדיקת השערה מסוימת ובעקבותיו אזור דחיית

H_0 קטן. כל שאר הגורמים נשארו ללא שינוי. כתוצאה מכך :

א. הן α , והן $(1 - \beta)$, יקטנו.

ב. α יישאר ללא שינוי ואילו $(1 - \beta)$ יגדל.

ג. α יגדל ואילו $(1 - \beta)$ יקטן.

ד. הן α והן $(1 - \beta)$ יגדלו.

10. ידוע כי לחץ דם תקין באוכלוסייה הוא 120. רופא מניח שלחץ הדם בקרב

עיתונאים גבוה יותר מהממוצע באוכלוסייה. הוא לקח מדגם של 60 עיתונאים

וקיבל ממוצע 137.

על סמך המדגם, הוא בודק טענתו ברמת מובהקות 0.02 ומסיק שלחץ הדם בקרב

העיתונאים אינו גבוה יותר. מה הטעות האפשרית שהרופא עושה ?

א. טעות מסוג ראשון.

ב. טעות מסוג שני.

ג. טעות מסוג שלישי.

ד. אין טעות במסקנתו.

פתרונות :**שאלה 1:**

א. מעל 6.645

ב. 0.3632

שאלה 2:א. נדחה H_0 אם $\bar{X} < 2.24$ ב. נדחה H_0

ג. 1

שאלה 3:א. נדחה H_0 אם $\bar{X} > 203.29$ או $\bar{X} < 196.71$

ב. 0.8051

ג. תקטן.

שאלה 4:א. נדחה H_0 אם $\bar{X} < 48.9$

ב. 0.0885

ג. תקטן.

ד. תקטן.

שאלה 6:

ד

שאלה 7:

ג

שאלה 8:

ג

שאלה 9:

א

שאלה 10:

ב

קביעת גודל מדגם כששונות האוכלוסיה ידועה**רקע:**

$$H_0 : \mu = \mu_0$$

$$H_1 : \mu = \mu_1$$

השערות המחקר הן :

סטיית התקן של האוכלוסייה ידועה σ ומעוניינים לבצע מחקר שרמת המובהקות לא תעלה על α והסיכוי לטעות מסוג שני לא יעלה על β .

הנוסחה הבאה נותנת את גודל המדגם הרצוי :

$$n \geq \left(\frac{(Z_{1-\alpha} + Z_{1-\beta}) \times \sigma}{\mu_0 - \mu_1} \right)^2$$

דוגמה: (פתרון בהקלטה)

משרד החינוך מפעיל בגן חובה שיטת חינוך שפותחה בשנת 1995. לפי שיטת חינוך זו תוחלת הציון במבחן אוצר מילים לגיל הרך הוא 70. אנשי חינוך החליטו לבדוק שיטת חינוך שפותחה בהולנד הנותנת שם תוחלת ציון אוצר מילים של 80.

נניח שציוני מבחן זה מתפלגים נורמאלית עם $\sigma = 17$.

כדי לבדוק האם גם בישראל הפעלת שיטת החינוך ההולנדית תעבוד בגנים, רוצים לבנות מחקר ברמת מובהקות של 5%. כמו כן, מעוניינים שאם בהפעלת השיטה ההולנדית תוחלת הציונים תעלה לכדי 80, המחקר יגלה זאת בסיכוי של 90%. כמה ילדי גן חובה דרושים למחקר?

תרגילים:

1. במבחן אינטליגנציה הציונים מתפלגים נורמאלית עם סטיית תקן 8 וממוצע 100. פסיכולוג מעוניין לבדוק את הטענה שבאוכלוסיות במצב סוציו אקונומי נמוך תוחלת הציונים היא 95. אם מעוניינים לגלות את הטענה בהסתברות של לפחות 99% כשרמת המובהקות היא 5% מהו גודל המדגם הדרוש?

2. משרד התקשורת טוענים שאדם מדבר בממוצע 180 דקות בחודש בטלפון הסלולרי. חברות הטלפון הסלולרי טוענות שאינפורמציה זו אינה נכונה ואדם מדבר בממוצע פחות: כ-160 דקות. לצורך פתרון נניח שסטיית התקן של זמן השיחה החודשי ידוע ושווה ל-60 דקות. כמה אנשים יש לדגום כך שאם טענת משרד התקשורת נכונה נדחה אותה בסיכוי של 5% (איך קוראים להסתברות זאת?) כמו כן אם טענת חברות הטלפון הסלולרית נכונה המחקר יגלה זאת בסיכוי של 90% (איך קוראים להסתברות זאת?)

$$3. \quad \begin{aligned} H_0 : \mu &= \mu_0 \\ H_1 : \mu &= \mu_1 \end{aligned} \quad \text{השערות המחקר הן:}$$

כמו כן נתון שהמשתנה מתפלג נורמלית עם סטיית התקן ידועה σ מעוניינים לבצע מחקר שרמת המובהקות לא תעלה על α והסיכוי לטעות מסוג שני לא יעלה על β .

הוכח שגודל המדגם הרצוי לכך יהיה:

$$n \geq \left(\frac{(Z_{1-\alpha} + Z_{1-\beta}) \times \sigma}{\mu_0 - \mu_1} \right)^2$$

פתרונות :

שאלה 1:

41

שאלה 2 :

78

שאלה 3:

הוכחה

מובהקות התוצאה (p-value) בבדיקת השערות על תוחלת עם שונות ידועה

רקע:

דרך נוספת להגיע להכרעות שלא דרך כלל הכרעה, היא דרך חישוב מובהקות התוצאה: באמצעות תוצאות המדגם מחשבים את מובהקות התוצאה שמסומן ב- p_v . את רמת המובהקות החוקר קובע מראש לעומת זאת, את מובהקות התוצאה החוקר יוכל לחשב רק אחרי שיהיו לו את התוצאות. המסקנה של המחקר תקבע לפי העיקרון הבא:

$$\text{אם } p_v \leq \alpha \text{ דוחים את } H_0$$

מובהקות התוצאה זה הסיכוי לקבלת תוצאות המדגם וקיצוני מתוצאות אלה בהנחת השערת האפס.

$$p_v = P_{H_0} \text{ (לקבל את תוצאות המדגם וקיצוני)}$$

אם ההשערה היא דו צדדית:

$$p_v = 2 P_{H_0} \text{ (לקבל את תוצאות המדגם וקיצוני)}$$

מובהקות התוצאה היא גם האלפא המינימלית לדחיית השערת האפס.

השערת האפס:		השערה אלטרנטיבה:	
$H_0: \mu = \mu_0$	$H_0: \mu = \mu_0$	$H_0: \mu = \mu_0$	$H_1: \mu \neq \mu_0$
$H_1: \mu > \mu_0$	$H_1: \mu < \mu_0$		
5. σ ידועה			
6. $X \sim N$ או מדגם מספיק גדול			
$P_{H_0}(\bar{X} \geq \bar{x})$	$P_{H_0}(\bar{X} \leq \bar{x})$	אם $2 \cdot P_{H_0}(\bar{X} \geq \bar{x}) \leftarrow \bar{x} > \mu_0$	p-value
		אם $2 \cdot P_{H_0}(\bar{X} \leq \bar{x}) \leftarrow \bar{x} < \mu_0$	

$$\bar{X} \sim N\left(\mu_0, \frac{\sigma^2}{n}\right) \text{ כאשר בהנחת השערת האפס}$$

$$Z_{\bar{x}} = \frac{\bar{x} - \mu_0}{\sigma / \sqrt{n}}$$

דוגמה: (פתרון בהקלטה)

המשקל הממוצע של מתגייסים לצבא לפני 20 שנה היה 65 ק"ג. מחקר מעוניין לבדוק האם כיום המשקל הממוצע של מתגייסים גבוה יותר. נניח שמשקל המתגייסים מתפלג נורמאלית עם סטיית תקן של 12 ק"ג. במדגם של 16 מתגייסים התקבל משקל ממוצע של 71 ק"ג.

א. מהי מובהקות התוצאה?

ב. מה המסקנה אם רמת המובהקות היא 5% ואם רמת המובהקות היא 1%?

תרגילים:

1. לפניך השערות של מחקר :

$$H_0 : \mu = 70$$

$$H_1 : \mu > 70$$

המשתנה הנחקר מתפלג נורמלית עם סטיית תקן 20. במדגם מאותה אוכלוסייה התקבלו התוצאות הבאות :

$$n = 100$$

$$\bar{x} = 74$$

מהי מובהקות התוצאה?

2. השכר הממוצע במשק בשנת 2012 היה 8800 ₪ עם סטיית תקן 2000. במדגם שנעשה אתמול על 100 עובדים התקבל שכר ממוצע 9500 ₪. מטרת המחקר היא לבדוק האם כיום חלה עליה בשכר. עבור אילו רמות מובהקות שיבחר החוקר יוחלט שחלה עליה בשכר הממוצע במשק?

3. אדם חושד שחברת ממתקים לא עומדת בהתחייבויותיה, ומשקלו של חטיף מסוים אותו הוא קונה מדי בוקר נמוך מ – 100 גרם. חברת הממתקים טוענת מצידה שהיא אכן עומדת בהתחייבויותיה. ידוע כי סטיית התקן של משקל החטיף היא 12 גרם. האדם מתכוון לשקול 100 חפיסות חטיפים ולאחר מכן להגיע להחלטה. לאחר הבדיקה הוא קיבל משקל הממוצע של 98.5 גרם.

א. רשמו את השערות המחקר.

ב. מהי רמת המובהקות המינימלית עבורה דוחים את השערת האפס?

ג. מהי רמת המובהקות המקסימלית עבורה נקבל את השערת האפס?

ד. מה המסקנה ברמת מובהקות של 5%?

4. מכונה לחיתוך מוטות במפעל חותכת מוטות באורך שמתפלג נורמאלית עם תוחלת אליה כוונה המכונה וסטיית תקן 2 ס"מ. ביום מסוים כוונה המכונה לחתוך מוטות באורך 80 ס"מ. אחראי האיכות מעוניין לבדוק האם המכונה מכוילת. לצורך כך נדגמו מקו הייצור 16 מוטות שנחתכו אורכן הממוצע היה 81.7 ס"מ.

א. מהי רמת המובהקות המינימלית עבורה נכריע שהמכונה לא מכוילת?

ב. אם נוסף עוד תצפית שערכה יהיה 82 ס"מ, כיצד הדבר ישפיע על התשובה של הסעיף הקודם?

ג. הכרע ברמת מובהקות של 5% האם המכונה מכוילת.

5. אם מקבלים בחישובים אלפא מינימלית (P value) קטנה מאוד, סביר להניח כי החוקר ידחה את השערת האפס בקלות. נכון? לא נכון? נמק.

6. בבדיקת השערות התקבל שה- $p\text{-value}=0.02$.
מה תהיה מסקנת חוקר המשתמש ברמת מובהקות 1%? בחר בתשובה הנכונה.
א. יקבל את השערת האפס בכל מקרה.

ב. ידחה את השערת האפס מקרה.

ג. ידחה את השערת האפס רק אם המבחן הנו דו צדדי.

ד. לא ניתן לדעת כי אין מספיק נתונים.

7. מובהקות התוצאה (PV) היא גם : (בחר בתשובה הנכונה)
א. רמת המובהקות המינימלית לדחות השערת האפס.
ב. רמת המובהקות המקסימלית לדחיית השערת האפס.
ג. רמת המובהקות שנקבעת מראש על ידי החוקר טרם קיבל את תוצאות המחקר.
ד. רמת המובהקות המינימלית לאי דחיית השערת האפס.

8. בבדיקת השערות מסוימת התקבל $p\text{ value}=0.0254$ לכן (בחר בתשובה הנכונה):

א. ברמת מובהקות של 0.01 אך לא של 0.05 נדחה את H_0 .

ב. ברמת מובהקות של 0.01 ושל 0.05 לא נדחה את H_0 .

ג. ברמת מובהקות של 0.05 אך לא של 0.01 נדחה את H_0 .

ד. ברמת מובהקות של 0.01 ושל 0.05 נדחה את H_0 .

פתרונות :**שאלה 1:**

0.0228

שאלה 2:

עבור כל רמת מובהקות סבירה.

שאלה 3:

ב. 0.1056

ג. 0.1056

ד. נכריע שיש עמידה בהתחייבות של החברה.

שאלה 4:

א. 0.0006

ב. יקטן.

ג. נכריע שאין כיול.

שאלה 5:

נכון

שאלה 6:

תשובה: א

שאלה 7:


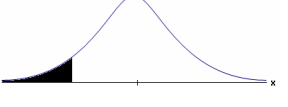
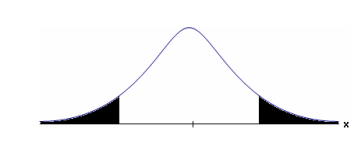
תשובה: א

שאלה 8:

תשובה: ג

בדיקת השערות על תוחלת (ממוצע) כאשר שונות האוכלוסייה אינה ידועה

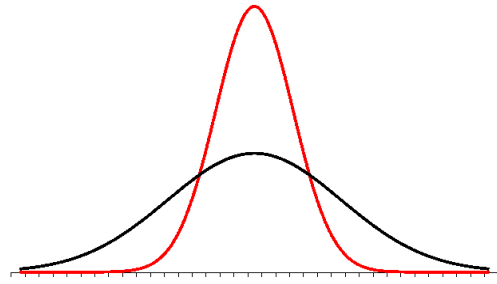
רקע:

$H_0: \mu = \mu_0$ $H_1: \mu > \mu_0$	$H_0: \mu = \mu_0$ $H_1: \mu < \mu_0$	$H_0: \mu = \mu_0$ $H_1: \mu \neq \mu_0$	השערות האפס : השערה אלטרנטיבה :
7. σ אינה ידועה 8. $X \sim N$ או מדגם מספיק גדול			תנאים:
$t_{\bar{x}} > t_{1-\alpha}^{(n-1)}$  $t_{1-\alpha, n-1}$ דוחים את H_0 -	$t_{\bar{x}} < -t_{1-\alpha}^{(n-1)}$  $-t_{1-\alpha, n-1}$ דוחים את H_0 -	$t_{\bar{x}} < -t_{1-\frac{\alpha}{2}}^{(n-1)}$ או $t_{\bar{x}} > t_{1-\frac{\alpha}{2}}^{(n-1)}$  $-t_{1-\frac{\alpha}{2}, n-1}$ $t_{1-\frac{\alpha}{2}, n-1}$ דוחים את H_0 -	כלל ההכרעה: אזור הדחייה של H_0 :
$\bar{X} > \mu_0 + t_{1-\alpha}^{n-1} \cdot \frac{S}{\sqrt{n}}$	$\bar{X} < \mu_0 - t_{1-\alpha}^{n-1} \cdot \frac{S}{\sqrt{n}}$	$\bar{X} > \mu_0 + t_{1-\frac{\alpha}{2}}^{n-1} \cdot \frac{S}{\sqrt{n}}$ או $\bar{X} < \mu_0 - t_{1-\frac{\alpha}{2}}^{n-1} \cdot \frac{S}{\sqrt{n}}$	חלופה לכלל הכרעה : נדחה H_0 אם מתקיים:

סטטיסטי המבחן :

$$t_{\bar{x}} = \frac{\bar{x} - \mu_0}{\frac{S}{\sqrt{n}}}$$

$$S^2 = \frac{\sum_{i=1}^n (X_i - \bar{X})^2}{n-1} = \frac{\sum_{i=1}^n X_i^2 - n\bar{X}^2}{n-1}$$

התפלגות T:

הינה התפלגות סימטרית פעמונית שהתוחלת שלה היא 0. ההתפלגות דומה להתפלגות Z רק שהיא יותר רחבה ולכן הערכים שלה יהיו יותר גבוהים. התפלגות T תלויה במושג שנקרא דרגות חופש. דרגות החופש הן $df=n-1$. ככל שדרגות החופש עולות ההתפלגות הופכת להיות יותר גבוהה וצרה. כשדרגות החופש שואפות לאינסוף התפלגות T שואפת להיות כמו התפלגות Z.

דוגמה: (פתרון בהקלטה)

- מפעל קיבל הזמנה לייצור משטחים בעובי של 0.1 ס"מ.
 כדי לבדוק האם המפעל עומד בדרישה נדגמו 10 משטחים ונמצא שהעובי הממוצע הוא 0.104 עם אומדן לסטיית תקן 0.002 ס"מ.
 א. מהן השערות המחקר?
 ב. מה ההנחה הדרושה לצורך פתרון?
 ג. בדוק ברמת מובהקות של 5%.

תרגילים:

1. משך זמן ההחלמה בלקיחת אנטיביוטיקה מסוימת הוא 120 שעות בממוצע עם סטיית תקן לא ידועה. מעוניינים לבדוק האם אנטיביוטיקה אחרת מקטינה את משך זמן ההחלמה. במדגם של 5 חולים שלקחו את האנטיביוטיקה האחרת התקבלו זמני ההחלמה הבאים: 90, 95, 100, 80, 125 שעות. מה מסקנתכם ברמת מובהקות של 5%. מהי ההנחה הדרושה לצורך הפתרון?

2. משרד הבריאות פרסם שמשקל ממוצע של תינוקות ביום היוולדם בישראל 3300 גר'. משרד הבריאות רוצה לחקור את הטענה שנשים מעשנות בזמן ההיריון יולדות תינוקות במשקל נמוך מהממוצע. במחקר השתתפו 20 נשים מעשנות בהריון. להלן תוצאות המדגם שבדק את המשקל של התינוקות בעת הלידה:

$$n = 20$$

$$\bar{x} = 3120$$

$$S = 280$$

מה מסקנתכם ברמת מובהקות של 5% מה יש להניח לצורך פתרון?

3. ציוני מבחן אינטליגנציה מתפלגים נורמלית. בארה"ב ממוצע הציונים הוא 100. במדגם שנעשה על 23 נבחנים ישראלים, התקבל ממוצע ציונים 104.5 וסטיית התקן המדגמית 16. האם בישראל ממוצע הציונים שונה מבארה"ב? הסיקו ברמת מובהקות של 5%.

4. באוכלוסייה מסוימת נדגמו 10 תצפיות והתקבלו התוצאות הבאות:

$$\sum_{i=1}^{10} X_i = 750$$

$$\sum_{i=1}^{10} (X_i - \bar{X})^2 = 900$$

נתון שההתפלגות היא נורמלית.

בדוק ברמת מובהקות של 5% האם התוחלת של ההתפלגות שונה מ-80.

5. ליאור ורוני העלו את אותן השערות על ממוצע האוכלוסייה. כמו כן הם התבססו על אותן תוצאות של מדגם.

ליאור השתמש בטבלה של התפלגות Z .

רוני השתמשה בטבלה של התפלגות t .

מה נוכל לומר בנוגע להחלטת המחקר שלהם? בחר בתשובה הנכונה.

א. אם ליאור ידחה את השערת האפס אז גם בהכרח רוני.

ב. אם רוני תדחה את השערת האפס אז גם בהכרח ליאור.

ג. שני החוקרים בהכרח יגיעו לאותה מסקנה.

ד. לא ניתן לדעת על היחס בין דחיית השערת האפס של שני החוקרים.

6. נתון $X \sim N(\mu, \sigma^2)$ כמו כן נתונות ההשערות הבאות :

$$H_0 : \mu = \mu_0$$

$$H_1 : \mu < \mu_0$$

חוקר בדק את ההשערות הללו על סמך מדגם שכלל 10 תצפיות. σ^2 לא הייתה ידועה לחוקר. החוקר החליט לדחות את השערת האפס ברמת מובהקות של 5% לאחר מכן כדי לחזק את קביעתו הוא דגם עוד 5 תצפיות ושקלל את תוצאות אלה גם למדגם כך שכלל עכשיו 15 תצפיות.

בחר בתשובה הנכונה :

א. כעת בברור הוא ידחה את השערת האפס.

ב. כעת הוא דווקא יקבל את השערת האפס.

ג. כעת לא ניתן לדעת מה תהיה מסקנתו.

פתרונות:**שאלה 1:** H_0 נדחה**שאלה 2:** H_0 נדחה**שאלה 3:** H_0 נקבל**שאלה 4:** H_0 נקבל**שאלה 5:**

התשובה היא : ב

שאלה 6:

התשובה היא : ג

מובהקות התוצאה (p-value) כאשר שונות האוכלוסייה לא ידועה

רקע:

נזכיר שהמסקנה של המחקר תקבע לפי העיקרון הבא :

אם $p_v \leq \alpha$ דוחים את H_0

מובהקות התוצאה זה הסיכוי לקבלת תוצאות המדגם וקיצוני מתוצאות אלה בהנחת השערת האפס.

$p_v = P_{H_0}$ (לקבל את תוצאות המדגם וקיצוני)

אם ההשערה היא דו צדדית :

$p_v = 2 P_{H_0}$ (לקבל את תוצאות המדגם וקיצוני)

מובהקות התוצאה היא גם האלפא המינימלית לדחיית השערת האפס.

$H_0 : \mu = \mu_0$ $H_1 : \mu > \mu_0$	$H_0 : \mu = \mu_0$ $H_1 : \mu < \mu_0$	$H_0 : \mu = \mu_0$ $H_1 : \mu \neq \mu_0$	השערת האפס : השערה אלטרנטיבה :
9. σ אינה ידועה			תנאים :
10. $X \sim N$ או מדגם מספיק גדול			
$P_{H_0}(\bar{X} \geq \bar{x})$	$P_{H_0}(\bar{X} \leq \bar{x})$	אם $2 \cdot P_{H_0}(\bar{X} \geq \bar{x}) \leftarrow \bar{x} > \mu_0$ אם $2 \cdot P_{H_0}(\bar{X} \leq \bar{x}) \leftarrow \bar{x} < \mu_0$	p-value

$$t_{\bar{x}} = \frac{\bar{x} - \mu_0}{S / \sqrt{n}}$$

$$S^2 = \frac{\sum_{i=1}^n (X_i - \bar{X})^2}{n-1} = \frac{\sum_{i=1}^n X_i^2 - n\bar{X}^2}{n-1}$$

$$d.f = n - 1$$

דוגמה : (פתרון בהקלטה)

ממוצע זמן הנסיעה של אדם לעבודה הינו 40 דקות. הוא מעוניין לבדוק דרך חלופית שאמורה להיות יותר מהירה. לצורך כך הוא דוגם 5 ימים שבהם הוא נוסע בדרך החלופית. זמני הנסיעה שקיבל בדקות הם : 27, 34, 32, 40, 30 . הנח שזמן הנסיעה מתפלג נורמלית.

א. רשום את השערות המחקר.

ב. מצא חסמים למובהקות התוצאה.

ג. מה המסקנה ברמת מובהקות של 5% ?

תרגילים :

1. קו ייצור אריזות סוכר נארזות כך שהמשקל הממוצע של אריזות הסוכר צריך להיות אחד קילוגרם. בכל יום דוגמים מקו הייצור 5 אריזות במטרה לבדוק האם קו הייצור תקין. בבדיקה דגמו 5 אריזות סוכר ולהלן משקלן בגרמים :
- $$1008, 1024, 996, 1005, 997$$
- א. רשמו את השערות המחקר.
 ב. מהי מובהקות התוצאה? הצג חסמים.
 ג. מה המסקנה ברמת מובהקות של 5%?
2. חוקר בדק את הטענה כי פועלים העובדים במשמרת לילה איטיים יותר מפועלים העובדים ביום. ידוע כי משך הזמן הממוצע הדרוש לייצר מוצר מסוים ביום הוא 6 שעות. במדגם מיקרי של 25 פועלים שעבדו במשמרת לילה נמצא כי הזמן הממוצע לייצר אותו מוצר הוא 7 שעות עם סטית תקן של 3 שעות.
 מהי ה- α המינימלית שלפיה ניתן להחליט שאכן העובדים במשמרת לילה איטיים יותר ?
3. הגובה של מתגייסים לצה"ל מתפלג נורמלית . במדגם של 25 מתגייסים מדדו את הגבהים שלהם בס"מ והתקבלו התוצאות הבאות :
- $$\bar{x} = 176.2$$
- $$\sum (x_i - \bar{x})^2 = 2832$$
- מטרת המחקר היא לבדוק האם תוחלת הגבהים של המתגייסים גבוה מ-174 ס"מ באופן מובהק. מהי בקרוב מובהקות התוצאה ועל פיה מה תהיה המסקנה ברמת מובהקות של 6% ?

פתרונות :

שאלה 3:

נקבל H_0

הקשר בין רווח סמך לבדיקת השערות על תוחלת

רקע:

ניתן לבצע בדיקת השערות דו צדדית ברמת מובהקות α על μ :

$$H_0 : \mu = \mu_0$$

$$H_1 : \mu \neq \mu_0$$

על ידי בניית רווח סמך ברמת סמך של $1 - \alpha$ ל μ :

אם μ_0 נופל ברווח \leftarrow נקבל את H_0

אם μ_0 לא נופל ברווח \leftarrow נדחה את H_0

דוגמה: (פתרון בהקלטה)

חוקר ביצע בדיקת השערות לתוחלת. להלן השערותיו:

$$H_0 : \mu = 80$$

$$H_1 : \mu \neq 80$$

$$\alpha = 5\%$$

החוקר בנה רווח סמך ברמה של 90% וקיבל: $79 < \mu < 84$.

האם אפשר לדעת מה מסקנתו, ואם כן מהי?

תרגילים :

1. חוקר רצה לבדוק את ההשערות הבאות :

$$H_0 : \mu = 90$$

$$H_1 : \mu \neq 90$$

החוקר בנה רווח סמך לתוחלת ברמת סמך של 95% וקיבל את רווח הסמך הבא : (87,97).
אם החוקר מעוניין לבצע בדיקת השערות ברמת מובהקות של 1% האם ניתן להגיע למסקנה ע"ס רווח הסמך? נמקו.

2. חוקר מעוניין לבדוק השפעת דיאטה חדשה על רמת הסוכר בדם. ידוע כי מספר מיליגרם הסוכר בסמ"ק דם הוא משתנה מקרי שמתפלג נורמלית עם סטיית תקן 10.4 מ"ג. נלקח מדגם של 60 נבדקים שניזונו מדיאטה זו. נמצא כי ממוצע מספר המיליגרם סוכר היה 115.5 מ"ג לסמ"ק.

א. בנה רווח סמך ברמת סמך 95% לתוחלת רמת הסוכר בדם אצל הניזונים מדיאטה זו.
ב. ידוע שתוחלת רמת הסוכר בדם באוכלוסייה היא 90 מ"ג לסמ"ק. האם לדעתך ניתן להסיק על סמך תוצאת סעיף א שהדיאטה משפיעה על רמת הסוכר בדם? הסבר.

3. יצרן אנטיביוטיקה רושם על גבי התרופות שכמות הפנצלין היא 200 מ"ג לקפסולה. משרד הבריאות ביצע מדגם של 8 קפסולות אקראיות מקו הייצור ומצא שבממוצע יש 196 מ"ג פנצילין לקפסולה עם סטיית תקן מדגמית של 5 מ"ג. בהנחה וכמות הפנצלין בקפסולה מתפלגת נורמלית.

א. בנה רווח סמך ברמת סמך של 95% לממוצע כמות הפנצלין לקפסולה המיוצרת על ידי יצרן האנטיביוטיקה.
ב. בדוק ברמת מובהקות של 5% האם יש אמת באינפורמציה המסופקת על ידי היצרן.

פתרונות :**שאלה 1:**

1. נקבל השערת H_0

שאלה 2:

א. $112.87 \leq \mu \leq 118.13$

ב. נכריע שהדיאטה משפיעה על תוחלת רמת הסוכר בדם.

שאלה 3:




א. $191.8 \leq \mu \leq 200.2$

ב. נכריע שיש אמת בפרסום.

פרק 17 - בדיקת השערות על הפרש תוחלות במדגמים בלתי תלויים

כשהשונות של האוכלוסייה ידועות

רקע:

$H_0 \mu_1 - \mu_2 = c$ $H_1 \mu_1 - \mu_2 > c$	$H_0 \mu_1 - \mu_2 = c$ $H_1 \mu_1 - \mu_2 < c$	$H_0 \mu_1 - \mu_2 = c$ $H_1 \mu_1 - \mu_2 \neq c$	השערת האפס: השערה אלטרנטיבית:
1. מדגמים בלתי תלויים 2. σ_1, σ_2 ידועות 3. $X_1, X_2 \sim N$ או מדגמים מספיק גדולים			תנאים:
$Z_{\bar{x}_1 - \bar{x}_2} > Z_{1-\alpha}$  $Z_{1-\alpha}$ - דוחים את H_0	$Z_{\bar{x}_1 - \bar{x}_2} < -Z_{1-\alpha}$  $-Z_{1-\alpha}$ - דוחים את H_0	$Z_{\bar{x}_1 - \bar{x}_2} > Z_{1-\frac{\alpha}{2}}$ או $Z_{\bar{x}_1 - \bar{x}_2} < -Z_{1-\frac{\alpha}{2}}$  $-Z_{1-\frac{\alpha}{2}}$ $Z_{1-\frac{\alpha}{2}}$ - דוחים את H_0	כלל ההכרעה: אזור הדחייה של H_0 :

סטטיסטי המבחן:

$$Z_{\bar{x}_1 - \bar{x}_2} = \frac{\bar{x}_1 - \bar{x}_2 - c}{\sqrt{\frac{\sigma_1^2}{n_1} + \frac{\sigma_2^2}{n_2}}}$$

חלופה אחרת לכלל הכרעה:

$\bar{x}_1 - \bar{x}_2 > c + Z_{1-\alpha} \cdot \sqrt{\frac{\sigma_1^2}{n_1} + \frac{\sigma_2^2}{n_2}}$	$\bar{x}_1 - \bar{x}_2 < c - Z_{1-\alpha} \cdot \sqrt{\frac{\sigma_1^2}{n_1} + \frac{\sigma_2^2}{n_2}}$	$\bar{x}_1 - \bar{x}_2 > c + Z_{1-\alpha/2} \cdot \sqrt{\frac{\sigma_1^2}{n_1} + \frac{\sigma_2^2}{n_2}}$ או $\bar{x}_1 - \bar{x}_2 < c - Z_{1-\alpha/2} \cdot \sqrt{\frac{\sigma_1^2}{n_1} + \frac{\sigma_2^2}{n_2}}$	נדחה H_0 אם מתקיים:
---	---	--	---

התפלגות הפרש הממוצעים:

$$\bar{x}_1 - \bar{x}_2 \sim N\left(\mu_1 - \mu_2, \frac{\sigma_1^2}{n_1} + \frac{\sigma_2^2}{n_2}\right)$$

התקנון:

$$Z_{\bar{x}_1 - \bar{x}_2} = \frac{\bar{x}_1 - \bar{x}_2 - (\mu_1 - \mu_2)}{\sqrt{\frac{\sigma_1^2}{n_1} + \frac{\sigma_2^2}{n_2}}}$$

דוגמה : (פתרון בהקלטה)

בשנת 2004 הפער בין השכר הממוצע של הגברים לנשים היה 3000 ₪ לטובת הגברים. מעוניינים לבדוק האם כיום הצטמצם הפער בין הגברים לנשים מבחינת השכר הממוצע. נדגמו 100 עובדים גברים. שכרם הממוצע היה 9,072 ₪. נדגמו 80 עובדות, שכרן הממוצע היה 7809 ₪. לצורך פתרון נניח שסטיות התקן של השכר ידועות ושוות ל-2000 ₪ באוכלוסיית הנשים ו-3000 ₪ באוכלוסיית הגברים. מה המסקנה ברמת מבוהקות של 5%?

תרגילים :

1. מחקר טוען שאנשים החיים במרכז הארץ צופים בממוצע בטלוויזיה יותר מאנשים שלא חיים במרכז. נדגמו 100 אנשים מהמרכז ו-107 אנשים לא מהמרכז. אנשים אלו נשאלו כמה שעות ביום הם נוהגים לצפות בטלוויזיה.
במדגם של מרכז הארץ התקבל ממוצע 2.7 שעות.
במדגם של מחוץ למרכז הארץ התקבל ממוצע 1.8 שעות.
לצורך פתרון הניחו שבכל אזור, סטיית התקן היא שעה 1 ביום. בדקו את טענת המחקר ברמת מובהקות של 1%.
2. ציוני פסיכומטרי מתפלגים נורמלית עם סטיית תקן 100. מכון ללימוד פסיכומטרי טוען שהוא יכול לשפר את ממוצע הציונים ביותר מ-30 נקודות. במדגם של 20 נבחנים שניגשו למבחן ללא הכנה במכון התקבל ממוצע 508. במדגם של 25 נבחנים שעברו הכנה במכון התקבל ממוצע ציונים 561. מה מסקנתכם ברמת מובהקות של 5%.
3. במדגם אקראי של 20 ימים נבדקה התפוקה של מפעל ביום. התפוקה הממוצעת הייתה של 340 מוצרים ליום. במדגם אקראי של 20 ימים אחרים נבדקה התפוקה של המפעל בלילה והתפוקה הממוצעת הייתה 295. לצורך פתרון נניח שסטיית התקן של התפוקה ביום היא 40 מוצרים ובלילה 30 מוצרים.
א. מהי מובהקות התוצאה לבדיקה האם התפוקה הממוצעת היומית גבוהה מהתפוקה הממוצעת הלילית.
ב. מה תהיה המסקנה ברמת מובהקות של 8%?
4. במחקר מקיף שנעשה באירופה נקבע שגברים גבוהים מנשים ב-8 ס"מ בממוצע.
מחקר ישראלי מתעניין לבדוק האם בישראל הפער גדול יותר. לצורך המחקר נדגמו 40 גברים ו 40 נשים באקראי. כמו כן, נניח שסטיות התקן של הגברים והנשים ידועות ושוות ל-6 ס"מ אצל הנשים. ו-12 ס"מ אצל הגברים.
א. מהן השערות המחקר ומהו כלל ההכרעה ברמת מובהקות של 10%?
ב. אם בישראל הפער בין גברים לנשים מבחינת הגובה הממוצע הוא 11 ס"מ, מה ההסתברות שהמחקר לא יגלה זאת? איך קוראים להסתברות הזאת?

פתרונות:**שאלה 1:**נדחה H_0 **שאלה 2:**לא נדחה את H_0 **שאלה 3:**

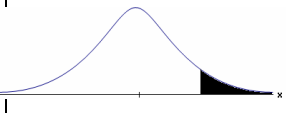
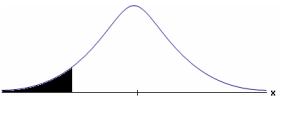
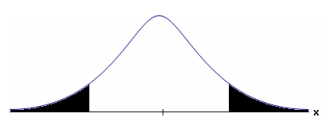
א. 0

ב. נדחה H_0 **שאלה 4:**א. נדחה H_0 אם במדגם הגברים יהיו גבוהים בממוצע מהנשים ביותר מ-10.72 ס"מ.

ב. 0.6331

כששונויות האוכלוסיה לא ידועות ומניחים שהן שוות

רקע:

$H_0 \mu_1 - \mu_2 = c$ $H_1 \mu_1 - \mu_2 > c$	$H_0 \mu_1 - \mu_2 = c$ $H_1 \mu_1 - \mu_2 < c$	$H_0 \mu_1 - \mu_2 = c$ $H_1 \mu_1 - \mu_2 \neq c$	השערת האפס: השערה אלטרנטיבית:
4. מדגמים בלתי תלויים 5. σ_1, σ_2 לא ידועות אך שוות 6. המשתנים בכל אוכלוסייה מתפלגים נורמלית			תנאים:
$t_{\bar{x}_1 - \bar{x}_2} > t_{1-\alpha}^{(n_1+n_2-2)}$  $t_{1-\alpha, n_1+n_2-2}$ - דוחים את H_0	$t_{\bar{x}_1 - \bar{x}_2} < -t_{1-\alpha}^{(n_1+n_2-2)}$  $-t_{1-\alpha, n_1+n_2-2}$ - דוחים את H_0	או $t_{\bar{x}_1 - \bar{x}_2} < -t_{1-\frac{\alpha}{2}}^{(n_1+n_2-2)}$ או $t_{\bar{x}_1 - \bar{x}_2} > t_{1-\frac{\alpha}{2}}^{(n_1+n_2-2)}$  $-t_{1-\frac{\alpha}{2}, n_1+n_2-2}$ $t_{1-\frac{\alpha}{2}, n_1+n_2-2}$ - דוחים את H_0	אזור הדחייה של H_0:

סטטיסטי המבחן :

$S_p^2 = \frac{(n_1 - 1)S_1^2 + (n_2 - 1)S_2^2}{n_1 + n_2 - 2}$: השונות המשוקללת

$t_{\bar{x}_1 - \bar{x}_2} = \frac{(\bar{x}_1 - \bar{x}_2) - c}{\sqrt{\frac{S_p^2}{n_1} + \frac{S_p^2}{n_2}}}$

חלופה אחרת לכלל הכרעה:

$\bar{x}_1 - \bar{x}_2 > c + t_{1-\alpha}^{(n_1+n_2-2)} \cdot \sqrt{\frac{S_p^2}{n_1} + \frac{S_p^2}{n_2}}$	$\bar{x}_1 - \bar{x}_2 < c - t_{1-\alpha}^{(n_1+n_2-2)} \cdot \sqrt{\frac{S_p^2}{n_1} + \frac{S_p^2}{n_2}}$	או $\bar{x}_1 - \bar{x}_2 > c + t_{1-\frac{\alpha}{2}}^{(n_1+n_2-2)} \cdot \sqrt{\frac{S_p^2}{n_1} + \frac{S_p^2}{n_2}}$ או $\bar{x}_1 - \bar{x}_2 < c - t_{1-\frac{\alpha}{2}}^{(n_1+n_2-2)} \cdot \sqrt{\frac{S_p^2}{n_1} + \frac{S_p^2}{n_2}}$	נדחה H_0 אם מתקיים:
---	---	--	---

דוגמה : (פתרון בהקלטה)

חברה המייצרת מוצרי בנייה טוענת שפיתחה סגסוגת (תערובת מתכות) שטמפרטורת ההתכה שלה גבוהה משמעותית מטמפרטורת ההתכה של הסגסוגת לבנייה שמשמשים בה כיום לבניית בניינים.

לצורך בדיקת טענת המחקר נדגמו 10 יחידות של מתכות מהסוג הישן ו-12 יחידות של מתכות מהסוג החדש.

להלן תוצאות המדגם:

טמפרטורת ההתכה הממוצעת במתכת הישנה 1170 מעלות עם אומד חסר הטיה לשונות $S^2 = 200$.

טמפרטורת ההתכה הממוצעת במתכת החדשה 1317 מעלות עם אומד חסר הטיה לשונות $S^2 = 260$.

נניח לצורך פתרון שטמפרטורת ההתכה מתפלגת נורמאלית עם אותה שונות במתכות השונות. בדקו ברמת מובהקות של 5%.

תרגילים:

1. להלן נתונים של שטחי דירות מתוך דירות שנבנו בשנת 2012 ובשנת 2013 (מטרים רבועים):

120	94	90	130	95	112	120	2012
	69	74	105	91	82	100	2013

בדקו שבשנת 2013 הייתה ירידה משמעותית בשטחי הדירות לעומת שנת 2012 עבור רמת מובהקות של 5%. הניחו ששטחי הדירות בכל שנה מתפלגים נורמלית עם אותה שונות.

2. נדגמו 15 ישראלים ו-15 אמריקאים.

הנדגמים נגשו למבחן IQ. להלן תוצאות המדגם:

המדינה	ישראל	ארה"ב
גודל המדגם	15	15
סכום הציונים	1560	1470
סכום ריבועי הציונים	165,390	147,560

בדקו ברמת מובהקות של 5% האם קיים הבדל של נקודה בין ישראלים לאמריקאים מבחינת ממוצע הציונים במבחן ה-IQ לטובת ישראל. רשמו את כל ההנחות הדרושות לצורך פתרון התרגיל.

3. להלן תוצאות מדגם הבדק אורך חיים של נורות מסוג W60 ומסוג W100.

אורך החיים נמדד בשעות.

1-100W	2-60W	הקבוצה
956	1007	\bar{x}
72	80	S
15	13	n

א. בדקו ברמת מובהקות של 5% האם נורות מסוג W60 דולקות במוצע יותר מאשר נורות מסוג W100. רשמו את כל ההנחות הדרושות לפתרון.

ב. עבור איזו רמת מובהקות ניתן לקבוע שנוורות מסוג W60 דולקות במוצע יותר מאשר נורות מסוג W100?

ג. בדקו ברמת מובהקות של 5% האם נורות מסוג W60 דולקות יותר מ-1000 שעות. רשמו את כל ההנחות הדרושות.

פתרונות :**שאלה 1:**

לא נדחה H_0

שאלה 2:**שאלה 3:**

א. נדחה H_0



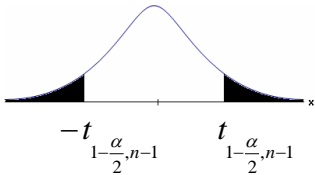
ב. רמות מובהקות של לפחות 5%

ג. לא נדחה H_0

**פרק 18 - בדיקת השערות על תוחלת הפרשים במדגמים מזווגים
(תלויים)**

בדיקת השערות למדגמים מזווגים

רקע:

$H_0: \mu_D = C$ $H_1: \mu_D > C$	$H_0: \mu_D = C$ $H_1: \mu_D < C$	$H_0: \mu_D = C$ $H_1: \mu_D \neq C$	השערת האפס: השערה אלטרנטיבית:
.7 σ_D אינה ידועה			תנאים:
.8 $D \square N$ או מדגם מספיק גדול			
$t_{\bar{D}} > t_{1-\alpha}^{(n-1)}$  $t_{1-\alpha, n-1}$ - דוחים את H_0	$t_{\bar{D}} < -t_{1-\alpha}^{(n-1)}$  $-t_{1-\alpha, n-1}$ - דוחים את H_0	$t_{\bar{D}} < -t_{1-\frac{\alpha}{2}}^{(n-1)}$ או $t_{\bar{D}} > t_{1-\frac{\alpha}{2}}^{(n-1)}$  $-t_{1-\frac{\alpha}{2}, n-1}$ $t_{1-\frac{\alpha}{2}, n-1}$ - דוחים את H_0	כלל ההכרעה: אזור הדחייה של H_0 :
$\bar{D} > C + t_{1-\alpha}^{n-1} \cdot \frac{S_D}{\sqrt{n}}$	$\bar{D} < C - t_{1-\alpha}^{n-1} \cdot \frac{S_D}{\sqrt{n}}$	$\bar{D} > C + t_{1-\frac{\alpha}{2}}^{n-1} \cdot \frac{S_D}{\sqrt{n}}$ ו $\bar{D} < C - t_{1-\frac{\alpha}{2}}^{n-1} \cdot \frac{S_D}{\sqrt{n}}$	חלופה לכלל הכרעה: נדחה H_0 אם מתקיים:

סטטיסטי המבחן:

$$t_{\bar{D}} = \frac{\bar{D} - \mu_D}{S_D / \sqrt{n}}$$

$$S_D^2 = \frac{\sum_{i=1}^n (D_i - \bar{D})^2}{n-1} = \frac{\sum_{i=1}^n D_i^2 - n\bar{D}^2}{n-1}$$

דוגמה : (פתרון בהקלטה)

חברה שיווקית מעוניינת לבדוק את טענת רשת השיווק "מגה בעיר" הטוענת שמחיריה נמוכים מהמחירים מרשת השיווק "שופרסל".

לצורך בדיקה נבחרו באקראי 4 מוצרים שונים. המחירים נבדקו בשתי הרשתות. להלן המחירים :

המוצר	מגה בעיר	שופרסל
שמפו	17	18
גיל כביסה	48	57
עוגת גבינה	35	35
לחם	12	10
קפה נמס	49	47
בקבוק יין	113	142
גבינה בולגרית	20	26

בהנחה והמחירים מתפלגים נורמאלית בדקו ברמת מובהקות של 5% את טענת רשת "מגה בעיר".

תרגילים:

1. במטרה לבדוק האם קיים הבדל בין חברת X לחברת Y מבחינת המחירים לשיחות בינ"ל. נגדמו באקראי 7 מדינות ועבור כל מדינה נבדקה עלות דקת שיחה. להלן התוצאות:

המדינה	X	Y
ארה"ב	1.5	1.4
קנדה	2.1	2
הולנד	2.2	1.9
פולין	3	3.1
מצרים	3.5	3.2
סין	3.2	3.2
יפן	4.2	4.2

- בהנחה והמחירים מתפלגים נורמלית בכל חברה, בדקו ברמת מובהקות של 5% האם קיים הבדל בין החברות מבחינת המחירים בממוצע?

2. מכון המכין לפסיכומטרי טוען שהוא מעלה את ממוצע הציונים ביותר מ-30 נקודות. 8 נבחנים נבדקו לפני ואחרי שהם למדו במכון. להלן התוצאות שהתקבלו:

לפני	590	500	390	670	640	420	470	506
אחרי	580	520	510	680	610	430	540	570

- מה מסקנתכם ברמת מובהקות 5%? הניחו שציוני פסיכומטרי מתפלג נורמלית.

3. נדגמו 5 סטודנטים שסיימו את הקורס סטטיסטיקה ב'. להלן הציונים שלהם בסמסטר א' ו- ב':

סטטיסטיקה א	סטטיסטיקה ב
74	80
68	84
90	87
75	76
82	100

- פורסם שתלמידים שמסיימים את סמסטר ב משפרים בממוצע את הציונים ב-5 נקודות לעומת סמסטר א'. הנח שהציונים מתפלגים נורמלית.
- א. מהי מובהקות התוצאה לבדיקת הטענה שהשיפור הוא יותר מ 5 נקודות?
- ב. על סמך הסעיף הקודם, מהי רמת המובהקות המינימלית להכרעה שהשיפור הוא יותר מ- 5 נקודות?
- ג. לאור זאת, מה המסקנה ברמת מובהקות של 10% ?

4. לצורך בדיקת השפעת היפנוזה על לימוד אנגלית, נבחרו 10 זוגות תאומים זהים. אחד התאומים למד אנגלית בהשפעת היפנוזה, והשני ללא היפנוזה. לאחר מכן נערך לשניהם מבחן באנגלית. נניח שציוני המבחן מתפלגים נורמאלית ללא ידיעת השונות האמתית.
- המבחן שיש לבצע כאן הוא:
- א. מבחן Z למדגם יחיד.
- ב. מבחן T למדגם יחיד.
- ג. מבחן T למדגמים בלתי תלויים.
- ד. מבחן T למדגמים מזווגים.

5. בתחנת טיפת חלב מסוימת יש שני מכשירי שקילה. על מנת להשוות בין שני המשקלים נדגמו 4 תינוקות. כל תינוק בן חודשיים נשקל בכל אחד מהמשקלים. להלן תוצאות השקילה (בק"ג):

משקל במכשיר 1	5.4	6.9	7.0	5.2
משקל במכשיר 2	5.3	6.9	7.1	5.0

נניח שהמשקלים מתפלגים נורמלית.

המבחן שיש לבצע כאן הוא :

א. מבחן Z למדגם יחיד.

ב. מבחן T למדגם יחיד.

ג. מבחן T למדגמים בלתי תלויים.

ד. מבחן T למדגמים מזווגים.

6. כדי להשוות בין שני אצנים נדגמו 5 תוצאות מריצת 100 מטר של כל אצן. זמני הריצה נרשמו ויש להניח שמתפלגים נורמלית. המטרה להשוות בין האצנים.

המבחן שיש לבצע כאן הוא :

א. מבחן Z למדגם יחיד.

ב. מבחן T למדגם יחיד.

ג. מבחן T למדגמים בלתי תלויים.

ד. מבחן T למדגמים מזווגים.

פתרונות:**שאלה 1:**לא נדחה H_0 **שאלה 2:**לא נדחה H_0 **שאלה 3:**א. $0.1 \leq p \leq 0.25$

ב. 0.25

ג. לא נדחה H_0 **שאלה 4:**

התשובה היא ד.

שאלה 5:

התשובה היא ד.

שאלה 6:

התשובה היא ג.

פרק 19 - הקשר בין רווח סמך לבדיקת השערות על הפרש תוחלות

רקע:

ניתן לבצע בדיקת השערות דו צדדית ברמת מובהקות α על $\mu_1 - \mu_2$:

$$H_0 : \mu_1 - \mu_2 = C$$

$$H_1 : \mu_1 - \mu_2 \neq C$$

על ידי בניית רווח סמך ברמת סמך של $1 - \alpha$ ל $\mu_1 - \mu_2$:

אם C נופל ברווח \leftarrow נקבל את H_0

אם C לא נופל ברווח \leftarrow נדחה את H_0

דוגמה: (פתרון בהקלטה)

חוקר ביצע בדיקת השערות לתוחלת ההפרש במדגם מזווג. להלן השערותיו :

$$H_0 : \mu_D = 80$$

$$H_1 : \mu_D \neq 80$$

$$\alpha = 5\%$$

החוקר בנה רווח סמך ברמה של 90%

$$78 < \mu_D < 83$$

האם אפשר לדעת מה מסקנתו, ואם כן מהי?

תרגילים:

1. נדגמו 5 סטודנטים שסיימו את הקורס סטטיסטיקה ב'. להלן ציוניהם בסמסטר א' ו- ב' :

סטטיסטיקה א	סטטיסטיקה ב
74	80
68	84
90	87
75	76
82	100

א. בנו רווח סמך ברמת סמך של 95% לתוחלת פער הציונים בין סמסטר א לבין סמסטר ב.
 ב. פורסם שתלמידים שמסיימים את סמסטר ב משפרים בממוצע את הציונים ב-5 נק' לעומת סמסטר א' האם יש אמת בפרסום?

2. הוחלט להשוות הציונים אצל מרצה X ואצל מרצה Y. נבחרו באקראי 6 סטודנטים, 3 סטודנטים של מרצה X ו- 3 סטודנטים של מרצה Y, עבורם התקבלו הציונים הבאים :

68	90	82	מרצה X
64	81	68	מרצה Y

א. חשבו רווח סמך ברמת סמך 90% להפרש בין התוחלות של הציונים אצל שני המרצים.
 ב. האם ברמת מובהקות של 10% נכריע שיש הבדל בין תוחלות הציונים אצל שני המרצים?

שאלות אמריקאיות:

3. סטטיסטיקאי נתבקש לאמוד את הפרש הממוצעים של שני טיפולים לפי שני מדגמים מקריים בלתי תלויים.

הוא חישב רווח סמך להפרש ברמת סמך 0.98, וקיבל את הרווח $-2 < \mu_1 - \mu_2 < 4.5$.
 אילו יתבקש החוקר לבדוק לפי אותם נתונים את ההשערות :

$H_0 : \mu_1 - \mu_2 = 0$; $H_1 : \mu_1 - \mu_2 \neq 0$, ברמת מובהקות 0.05 מסקנתו תהיה :

א. לדחות את השערת האפס.

ב. לא לדחות את השערת האפס.

ג. שלא ניתן לדעת את המסקנה עבור רמת מובהקות 0.05.

ד. שלא נתונות בשאלה סטיות התקן של האוכלוסיות, ולכן לא ניתן להסיק דבר.

4. במטרה לבדוק האם קיים הבדל בין קווי זהב לבזק מבחינת ממוצע המחירים לשיחות בינ"ל. נגדמו באקראי 7 מדינות ועבור כל מדינה נבדקה עלות דקת שיחה. בהנחה והמחירים מתפלים נורמלית בנו רווח סמך לממוצע ההפרשים וקיבלו :
- $$-0.0293 < \mu_D < 0.2145$$
- רווח הסמך הוא ברמת סמך של 95%.
- לכן מסקנת המחקר היא :
- א. ברמת מובהקות של 5% לא נוכל לקבוע שקיים הבדל בין החברות.
- ב. ברמת מובהקות של 5% נקבע שקיים הבדל מובהק בין החברות.
- ג. לא ניתן לדעת מה המסקנה ברמת מובהקות של 5% כיוון שלא נאמר מה ההגדרה של D.

פתרונות:**שאלה 1:**

א. $-3.8 \leq \mu_D \leq 19$

ב. נכריע שיש אמת בפרסום.

שאלה 2:

א. $-8.5 \leq \mu_X - \mu_Y \leq 26.5$

ב. נכריע שאין הבדל.

שאלה 3:

התשובה היא ג.

שאלה 4:

התשובה היא א.

פרק 20- שאלות מסכמות בבדיקת השערות על פרמטרים

שאלות מסכמות בבדיקת השערות על פרמטרים

1. שני חוקרים נתבקשו לבדוק את ההשערות הבאות :

$$H_0 : \mu = 520$$

$$H_1 : \mu > 520$$

כל חוקר בדק מדגם של 225 נחקרים . ידוע ש- $\sigma = 20$.

חוקר א' קבע את כלל ההכרעה לפי $\alpha = 0.05$.

חוקר ב' מחליט לדחות H_0 אם $\bar{X} > 522$.

א. למי מהחוקרים הסתברות לטעות מסוג ראשון קטנה יותר?

ב. מהי ההסתברות לטעות מסוג שני של חוקר ב' עבור $\mu_1 = 525$.

ג. הסבר ללא חישוב נוסף , האם ההסתברות לטעות מסוג שני עבור $\mu_1 = 525$, של חוקר א' שווה/קטנה/גדולה לזו של חוקר ב'.

ד. חוקר א' קיבל במדגם שלו $\bar{X} = 523$. מהי מסקנתו?

2. ידוע כי תוחלת מספר ה"לייק"ים היומי של דנה היא 12 עם סטיית תקן 5 .

דני טוען שהוא יותר פופולארי מדנה בכך שהוא מקבל יותר "לייק"ים מדנה ביום . על-מנת לבדוק זאת ספר דני כמה "לייק"ים הוא קיבל בכל יום במהלך 7 שבועות (כלומר, ב – 49 ימים) וקיבל סך-הכול 637 "לייק"ים . נניח כי סטיית התקן של מספר ה"לייק"ים שדני מקבל ביום זהה לסטיית התקן של דנה .

א. מהי רמת המובהקות שכדאי לדני לדרוש, כדי שדנה תשתכנע בצדקת טענתו (שדני פופולארי יותר בכך שהוא מקבל יותר "לייק"ים מדנה ביום).

ב. אם דני משער שתוחלת מספר ה"לייק"ים שהוא מקבל ביום היא 14 וקובע רמת מובהקות 2.5% , מהי עוצמת המבחן של דני?

3. ברצוננו להשוות בין רשתות A לבין B. לשם כך בחרנו 4 מוצרים, ובדקנו את מחיריהם בשתי הרשתות. להלן התוצאות:

מוצר	A	B
1	5	5
2	4	5
3	5	3
4	7	4

הניחו כי המחירים מתפלגים נורמלית.
 אם יש הנחות נוספות כדי לבצע את המבחן הפרמטרי רשמו אותן.
 א. בדקו האם קיים הבדל בין הרשתות מבחינת תוחלת המחירים. רמת מובהקות של 5%.
 ב. חזרו על הסעיף הקודם בהנחה ונבחרו בכל רשת מוצרים באקראי ולא בהכרח אותם מוצרים.

4. במטרה לבדוק האם סטודנטים הלומדים במכללות משקיעים יותר זמן ללימודים מאשר סטודנטים באוניברסיטאות נדגמו 12 סטודנטים ובדקו לכל סטודנט את הזמן שהוא משקיע ביום ללימודים. הזמנים נמדדו בדקות:

180	140	171	189	156	176	סטודנטים באוניברסיטאות
150	204	186	191	190	180	סטודנטים במכללות

א. נסח את ההשערות ובדוק אותן ברמת מובהקות של 5%. רשום את כלל ההכרעה ואת ההנחות הדרושות לביצוע המבחן הפרמטרי.
 ב. חשב את P-value.
 ג. ישנה טענה שממוצע זמן ההשקעה בלימודים במכללות הוא 3.5 שעות ביום. בדוק את הטענה כאשר רמת המובהקות הינה 5%.

5. נתון כי:

$$X \sim N(\mu, \sigma^2 = 10^2)$$

מעוניינים לבדוק את ההשערות:

$$H_0 : \mu = 40$$

$$H_1 : \mu > 40$$

דגמו 25 תצפיות מהאוכלוסייה והתקבל $\bar{X} = 45$.

א. חשבו את P-value (מובהקות התוצאה).

ב. חזור על סעיף א אם ההשערה האלטרנטיבית הייתה:

$$H_1 : \mu < 40$$

ג. חזור על סעיף א אם ההשערה האלטרנטיבית הייתה:

$$H_1 : \mu \neq 40$$

פתרונות:**שאלה 1:**

- א. חוקר א
- ב. 0.0122
- ג. גדלה
- ד. נדחה H_0

שאלה 2:

- א. לפחות 0.0808
- ב. 0.7995

שאלה 3:

- א. לא נדחה H_0
- ב. לא נדחה H_0

שאלה 4:

- א. לא נדחה H_0
- ב. בין 5% ל- 10%
- ג. נדחה H_0

שאלה 5:

- א. 0.0062
- ב. 0.9938
- ג. 0.0124

פרק 21 - מבחני חי בריבוע

א. מבחן טיב התאמה

1. במטרה לבדוק האם קובייה הוגנת, מטילים אותה 120 פעמים. התקבל 17 פעמים 1, 23 פעמים 2, 20 פעמים 3, 25 פעמים 4, 18 פעמים 5 ו- 17 פעמים 6. מה מסקנתכם ברמת מובהקות של 5%?

2. מפעל מייצר סוכריות בצבעים כחול, אדום, ירוק וכתום. מעוניינים לבדוק שפרופורציית הסוכריות הכחולות גדולה פי 2 מכל צבע אחר. לצורך כך נדגמו באקראי 200 סוכריות והתקבל: 70 כחולות, 50 אדומות, 40 ירוקות והיתר כתומות. מה מסקנתכם ברמת מובהקות של 5%?

3. משרד החינוך טוען שבקרב השכירים במשק היחס בין השכירים בעלי השכלה נמוכה, תיכונית ואקדמאית הוא 1:2:1 בהתאמה. במדגם של 200 שכירים התקבלו 56 אנשים בעלי השכלה נמוכה, 105 בעלי השכלה תיכונית והיתר בעלי השכלה גבוהה. ע"ס תוצאות המדגם האם התפלגות ההשכלה היא כמו שמשרד החינוך מפרסם? בדוק ברמת מובהקות של 5%.

4. בפנס יש 4 סוללות. בבדיקה שנערכה ב-400 פנסים נמצאו סוללות פגומות לפי השכיחויות הבאות:

מספר הסוללות הפגומות	0	1	2	3 ומעלה
שכיחות	276	104	12	8

מעוניינים לבדוק על סמך תוצאות מדגם אלה האם הסיכוי לסוללה פגומה הוא 20%. בדוק ברמת מובהקות של 5%.

ב. מבחן אי תלות

1. במפעל עובד בשלוש משמרות. להלן מספר המוצרים הפגומים והתקינים בכל אחת מן המשמרות לפי מדגם שנעשה:

	יום	ערב	לילה
פגומים	50	60	70
תקינים	600	700	800

- האם קיים קשר בין טיב המוצר למשמרת שלו? הסיקו עבור רמת מובהקות $\alpha = 0.05$.

2. בקרב מדגם של 200 נשים 120 טענו שהן תצבענה למועמד R לראשות העיר. בקרב מדגם של 200 גברים 80 טענו שהם יצביעו למועמד R האם קיים הבדל בין דפוס ההצבעה של הנשים ושל הגברים? בדוק ברמת מובהקות של 5%.

3. בחנות בגדים A בדקו את התפלגות הצבעים של הבגדים הנמכרים ביום מסוים:

צבע	שחור	לבן	אדום	כחול
מספר הפריטים	15	20	15	50

כמו כן בדקו את התפלגות הצבעים בחנות שכנה B:

צבע	שחור	לבן	אדום	כחול
מספר הכדורים	60	20	10	20

- א. בדוק ברמת מובהקות של 5% האם התפלגות הצבעים בחנות A היא ביחס של 1:1:1:3 לטובת הכחול.
- ב. בדוק ברמת מובהקות של 2.5% האם קיים הבדל בין החניות מבחינת התפלגות הצבעים של הפריטים הנמכרים.

תשובות סופיות - מבחני חי בריבועפרק א' - מבחן טיב התאמה

<u>שאלה 1</u>	<u>שאלה 2</u>
נקבל H_0	נקבל H_0
<u>שאלה 3</u>	<u>שאלה 4</u>
נקבל H_0	נדחה H_0

פרק ב' - מבחן לאי תלות

<u>שאלה 1</u>	<u>שאלה 2</u>
נקבל H_0	נדחה H_0
<u>שאלה 3</u>	
נקבל H_0	
נדחה H_0	